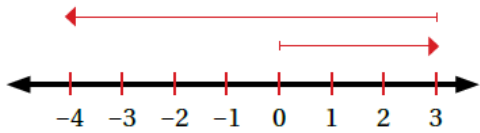


أتحقق من فهمي طرح الأعداد الصحيحة

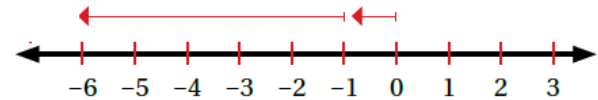
أَتَحَقَّقُ مِنْ فَهْمِي: صفحة 27

2 $3 - 7 = -4$



$3 - 7 = -4$

3 $-1 - 5 = -6$

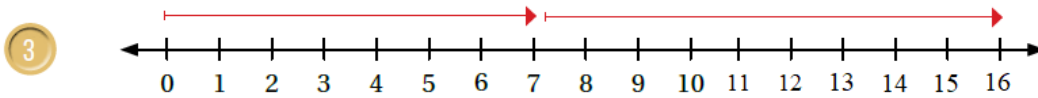


$-1 - 5 = -6$

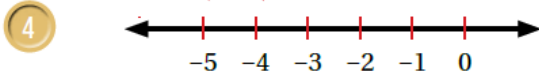
منهاجي

أَتَحَقَّقُ مِنْ فَهْمِي: صفحة 28

3 $7 - (-9) = 16$



$7 - (-9) = 16$



$-4 - 1 = -5$

منهاجي

أَتَحَقَّقُ مِنْ فَهْمِي: صفحة 28

آثارٌ: عثرَ عالمٌ آثاراً على جُمُجُمَةٍ بَشَرِيَّةٍ عَلَى عُمُقٍ 220 cm تَحْتَ سَطْحِ الأَرْضِ. إِذَا وَجَدَ هَذَا العَالِمُ عَظْمَ سَاقِ أَسْفَلِ الجُمُجُمَةِ بِـ 75 cm، فَعِنْدَ أَيِّ عُمُقٍ وَجَدَ عَظْمَ السَاقِ؟

295 cm تحت مستوى الأرض