



امتحان شهادة الدراسة الثانوية العامة لعام ٢٠٢٤ التكميلي

(وثيقة محمية/محمود)

د س

مدة الامتحان: ٣٠ : ١

رقم المبحث: 105

المبحث: الجغرافيا (خطة ٢٠١٩ فما بعد)

اليوم والتاريخ: الأربعاء ٢٠٢٥/١/٨
رقم الجلوس:

رقم النموذج: (١)

الفرع: الأدبي + الفندقي والسياحي (جامعات)

اسم الطالب:

اختر رمز الإجابة الصحيحة في كل فقرة مما يأتي، ثم ظلل بشكل غامق الدائرة التي تشير إلى رمز الإجابة في نموذج الإجابة (ورقة القارئ الضوئي) فهو النموذج المعتمد (فقط) لاحتساب علامتك، علماً أن عدد الفقرات (٥٠)، وعدد الصفحات (٦).

١- حالة الجو بعناصره المختلفة خلال فترة زمنية قصيرة تبدأ بساعات وتنتهي في مدة أقصاها أسبوعان، تعريف لـ:

(أ) المدى الحراري اليومي (ب) الضغط الجوي (ج) المناخ (د) الطقس

٢- إذا كانت درجة الحرارة (٥٠) فهرنهايت، فهي تعادل حسب النظام المئوي (سليسيوس):

(أ) ١٠ م (ب) ٣٢ م (ج) ٤٥ م (د) ٢٢ م

٣- يبلغ الضغط الجوي عند مستوى سطح البحر وزن عامود من الزئبق ارتفاعه:

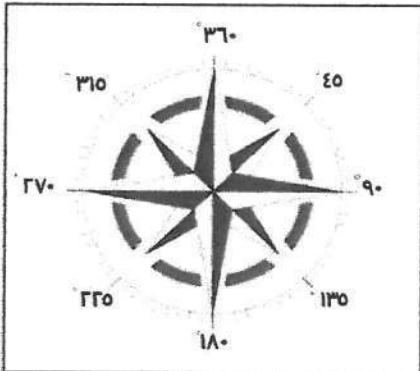
(أ) ٥٦ سم (ب) ٦٦ سم (ج) ٧٦ سم (د) ٨٦ سم

٤- اعتماداً على الشكل المجاور، الدرجة التي تُشير إلى اتجاه

الرياح الشمالية الغربية هي:

(أ) ٤٥ (ب) ٢٢٥

(ج) ٣١٥ (د) ٣٦٠



٥- تعتمد كمية الأمطار الحملية (التصادمية) التي تحدث في المناطق الاستوائية على:

(أ) كمية بخار الماء الذي يحتويه الهواء الصاعد ودرجة الحرارة

(ب) اصطدام الرياح المحملة ببخار الماء بجواز تضاريسية كالجبال

(ج) امتداد الجبال، وارتفاعها، ورطوبة الهواء الصاعد إلى أعلى وسرعته

(د) التقاء كتلتين هوائيتين غير متجانستين، إحداها باردة والأخرى دافئة

٦- تتكون عادةً التيارات البحرية الدافئة على سواحل القارّات:

(أ) الشمالية (ب) الشرقية (ج) الجنوبية (د) الغربية

٧- تُعد طبوغرافية الأرض، وصفاء السماء، وطول ساعات الليل من عوامل تُشكّل:

(أ) السحب (ب) الضباب (ج) الندى (د) الصقيع

٨- من أبرز مسارات منخفضات البحر المتوسط "المسار الشرقي" الذي يتجه نحو:

(أ) وسط بلاد الشام إلى وادي الرافدين (ب) شمال تركيا، وجنوب أوروبا

(ج) ليبيا، والشمال الشرقي لأفريقيا (د) مصر، وشبه الجزيرة العربية

الصفحة الثانية/ نموذج (١)

٩- جميع ما يأتي من خصائص الأعاصير المدارية، ما عدا:

(أ) تتشأ في مناطق معينة من المحيطات

(ب) تغطي مساحات محدودة، يقل قطرها عن (٢٥٠) كم

(ج) تظهر ضمن نطاق الرياح التجارية والرياح الموسمية في المناطق الحارة

(د) أضرارها قليلة جدًا، تقتصر على الفيضانات، وبعض الانهيارات الأرضية

١٠- أحد أنواع الأعاصير، يظهر في المناطق المعتدلة داخل نطاق بعض المنخفضات الجوية التي تعبر أراضي أمريكا الشمالية، هو:

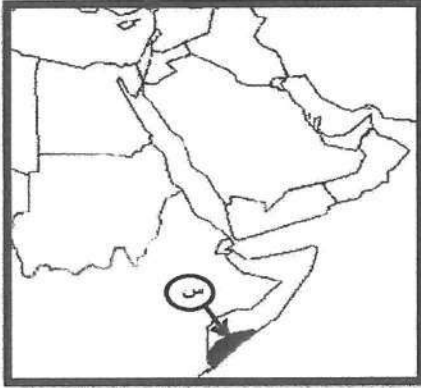
(أ) الهاريكين (ب) التيفون (ج) التورنادو (د) هايان

١١- الإقليم المناخي الذي ينتشر في منطقة الصحراء الكبرى، هو الإقليم:

(أ) الاستوائي (ب) المداري القاري (ج) المعتدل (د) المداري الموسمي

١٢- يصل ارتفاع جبل أم الدامي قرب مدينة العقبة إلى:

(أ) ١٨٥٤ مترًا (ب) ١٨٤٥ مترًا (ج) ١٥٨٤ مترًا (د) ١٥٤٨ مترًا



١٣- الإقليم المناخي الذي يسود في المنطقة المشار إليها بالرمز (س) إقليم:

(أ) البحر المتوسط (ب) المداري الموسمي

(ج) المداري القاري (د) الاستوائي

١٤- من أسباب تذبذب الأمطار في الأردن من سنة إلى أخرى زمنيًا ومكانيًا:

(أ) امتداد مظاهر التضاريسية من الغرب إلى الشرق

(ب) يقع ضمن نطاق تحرك المنخفضات الجوية في العروض العليا

(ج) تأثره بالمنخفض الجوي شبه المداري

(د) وقوعه إلى الجنوب من المسارات الرئيسية للمنخفضات الجوية

١٥- قدرة مكونات البيئة على استمرار الحياة على سطح الأرض دون مخاطر أو مشكلات تؤثر على الحياة البشرية، مصطلح يُشير إلى:

(أ) الإخلال البيئي (ب) التوازن البيئي (ج) النزوح البيئي (د) الحتمية البيئية

١٦- يُعد حفر الآبار الارتوازية وزراعة الأراضي الصحراوية في الأردن، من الأمثلة التي تؤيد أفكار أصحاب النظرية:

(أ) الاحتمالية (ب) الحتمية (ج) التوافقية (د) الإمكانية

١٧- تعمل طبقة الأوزون على حماية الأرض من خلال امتصاص الأشعة:

(أ) تحت الحمراء (ب) فوق البنفسجية (ج) الكهرومغناطيسية (د) الحرارية

الصفحة الثالثة/ نموذج (١)

١٨- تُشير التوقعات أنّ ارتفاع درجة حرارة سطح الأرض بمقدار (٢-٤) درجات مئوية سيرافقه زيادة في كمية التساقط السنوي بمقدار يتراوح ما بين:

- (أ) (١٠ - ٣٠) ملم
(ب) (٢٠ - ٥٠) ملم
(ج) (٣٠ - ١٠٠) ملم
(د) (٤٠ - ١٣٠) ملم

١٩- انتقال نطاق النباتات إلى ارتفاعات أعلى، وهجرة الطيور من قارة أوروبا إلى قارة أفريقيا مع بداية الخريف وعودتها إلى أوروبا في بداية فصل الربيع من الأمثلة على:

- (أ) تدهور الموارد المائية (ب) تدهور التنوع الحيوي (ج) تغيير النمط المطري (د) النزوح البيئي
٢٠- من الفوائد الاجتماعية للتخطيط البيئي:

(أ) استخدام التكنولوجيا الصديقة للبيئة
(ب) التخلص الآمن من المخلفات وإعادة استخدامها
(ج) الموازنة بين النمو السكاني والموارد
(د) إيجاد بيئة صحية تساعد الأفراد على العمل والإنتاج
٢١- العِلْم الذي يستخدم المعايير البيئية في مختلف جوانب الحياة الاقتصادية؛ بهدف المحافظة على توازن البيئة وتحقيق نمو اقتصادي مُستدام:

- (أ) الاقتصاد الأخضر
(ب) التنمية المستدامة
(ج) الاقتصاد الزراعي
(د) عِلْم الاقتصاد

٢٢- مساحات واسعة من الأراضي الطبيعية، تُخصصها الدولة بقانون حماية المصادر المتوفرة، وتشمل الأراضي الطبيعية والمصادر البيئية الحيوية والتاريخية والأثرية والثقافية والترفيهية، تعريف لـ:

- (أ) المواقع الحيوية (ب) المصادر البيئية (ج) المحميّة (د) المواقع الأثرية

٢٣- محمية طبيعية أردنية تُمثّل موطن حيوان المها العربي:

- (أ) ضانا (ب) الشومري (ج) الأزرق المائية (د) وادي رمّ

٢٤- أكثر دولة إنتاجًا للطاقة الكهربائية بالاعتماد على طاقة الرياح:

- (أ) الصين (ب) الهند (ج) الولايات المتحدة الأمريكية (د) كندا

٢٥- أنشأ الأردن أول مشروع لتوليد الطاقة الكهربائية من طاقة الرياح في محافظة:

- (أ) إربد (ب) معان (ج) عمّان (د) الطفيلة

٢٦- للصخور النارية مثل البازلت والجرانيت قدرة أكبر على مقاومة العوامل الجوية؛ بسبب:

- (أ) زيادة نسبة المسامات فيها
(ب) ارتفاع نسبة رطوبتها
(ج) صلابة المعادن المُكوّنة لها
(د) كبير حجم الصخور النارية

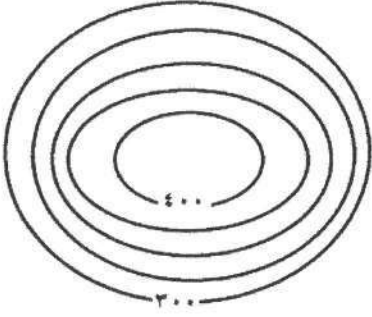
٢٧- من العوامل الجيومورفولوجية التي تعمل على تشكيل معالم سطح الأرض:

- (أ) البراكين (ب) الأنهار (ج) الصدوع (د) الالتواءات

٢٨- تظهر خطوط الكنتور التي تُمثّل منخفضًا أرضيًا على الخرائط الطبوغرافية على شكل:

- (أ) حلقيّ مُغلق، وتتناقص قيم الخطوط نحو الداخل
(ب) حلقيّ مُغلق، وتتزايد قيم الخطوط نحو الداخل
(ج) يُشبه الرقمين (٧، ٨)، وتتناقص قيم الخطوط نحو الداخل
(د) يُشبه الرقمين (٧، ٨)، وتتزايد قيم الخطوط نحو الداخل

الصفحة الرابعة/ نموذج (١)



٢٩- تبلغ قيمة الفاصل الرأسى في الخريطة الكنتورية المجاورة:

- (أ) ٢٠
(ب) ٢٥
(ج) ٥٠
(د) ١٠٠

٣٠- يُعدّ استثمار الصحاري والأراضي الجافة وشبه الجافة، وتنتج العواصف الرملية وأثرها في نشاط الإنسان من الجوانب التطبيقية لعلم:

- (أ) الجيولوجيا (ب) الجيوبولتيك (ج) الجيومورفولوجيا (د) الجيوهيدولوجيا

٣١- من العوامل التي تساعد على حدوث التجوية الميكانيكية:

- (أ) تحلل الحيوانات الميتة (ب) إذابة العناصر المعدنية المكونة للصخور
(ج) ارتفاع نسبة الرطوبة (د) تعاقب الحرارة والبرودة

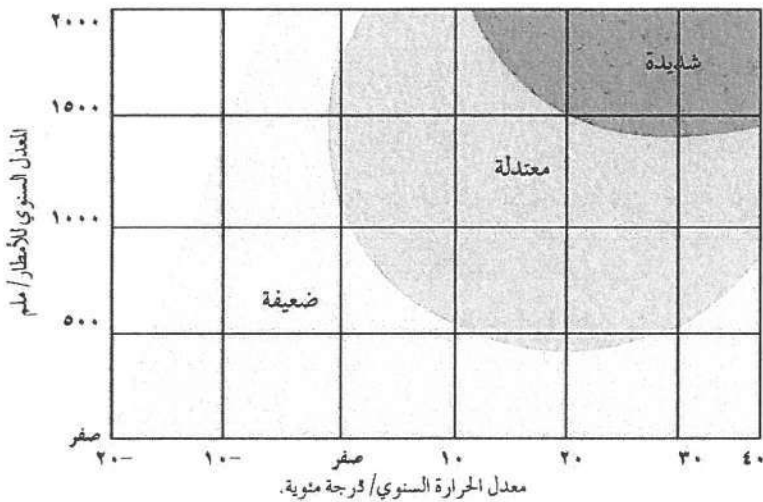
٣٢- العبارة التي تُوضّح العلاقة بين نوع التجوية ودرجة الانحدار من العبارات الآتية، هي:

- (أ) يقلّ نشاط التجوية الميكانيكية على السفوح شديدة الانحدار
(ب) يزداد نشاط التجوية الكيميائية على السفوح شديدة الانحدار
(ج) يزداد نشاط التجوية الميكانيكية على السفوح شديدة الانحدار
(د) لا تؤثر درجة الانحدار في سرعة عملية التجوية ونوعيتها

٣٣- في الشكل المجاور تكون التجوية الكيميائية

شديدة إذا كان معدل الأمطار (١٥٠٠) ملم، ودرجة الحرارة السنوية:

- (أ) ٢٠- (ب) صفراً
(ج) ١٠ (د) ٣٠



٣٤- تُعرف الكتل الصخرية المتجانسة على شكل أغشية رقيقة تتكوّن عند تعرضها لتغيرات متطرفة في درجات الحرارة بـ:

- (أ) حُفر الإذابة (ب) قباب التقشر (ج) الحُطام الصخري (د) الموائد الصخرية

٣٥- تنقل الرياح الرمال الخشنة التي يفوق قطرها (٠,٠٥) ملم بشكل بطيء ولمسافات محدودة عن طريق:

- (أ) الرّحف (ب) التّدرية (ج) القفز (د) التعلّق

يتبع الصفحة الخامسة

الصفحة الخامسة/ نموذج (١)

- ٣٦- يُسمى الشكل الأرضي الذي يحدث نتيجة حت الرياح المحملة بالرمال للطبقات الصخرية اللينة الموجودة عند قاعدة الصخور؛ ما يؤدي إلى تأكلها أكثر من الصخور الموجودة في الأعلى :-
أ) الشواهد الصخرية ب) حفر التذرية ج) الموائد الصخرية د) الحماد
- ٣٧- تُعرف أخفض نقطة في أجزاء الحوض النهري والتي تتجمع فيها المياه :-
أ) سرير النهر ب) القناة النهريّة ج) حوض النهر د) مصب النهر
- ٣٨- تُعرف عملية الحَتّ التي تحدث في منطقة المنابع فقط عندما تعترض طبقة من الصخور الصلبة المياه الجارية؛ ما يؤدي إلى حَتّ الطبقة اللينة التي تليها، فتتآكل الصخور الصلبة بالحتّ:
أ) الرأسي ب) التراجعي ج) العميق د) الجانبي
- ٣٩- جزء من مجرى النهر يتميز بشدة انحدار جوانبه، وعمقه بالنسبة إلى اتساعه هو:
أ) الشلالات ب) الجنادل ج) الخوانق د) البحيرات الكوعية
- ٤٠- فرع الجغرافيا البشرية الذي يهتم بدراسة المقومات الطبيعية والبشرية للدولة وتنظيمها الداخلي وتأثير ذلك في قوتها السياسية وعلاقتها الخارجية، هو:
أ) الجغرافيا السياسية ب) الجغرافيا العسكرية ج) الجيوبولتيك د) الجغرافيا الاقتصادية
- ٤١- من الأمثلة على الدول الموحدة (المركزية):
أ) أستراليا ب) الإمارات العربية ج) سويسرا د) الأردن
- ٤٢- من خصائص الحدود السياسية:
أ) ظاهرة بشرية ثابتة ب) ظاهرة تتعرض للتغير والاختفاء والظهور
ج) ذات مساحات ممتدة د) لا تستند إلى معاهدات أو اتفاقيات بين الدول
- ٤٣- تُشكّل جبال الأنديز حدًا سياسيًا فاصلاً بين:
أ) بوليفيا والبرازيل ب) الإكوادور والبرازيل ج) فنزويلا والبيرو د) تشيلي والأرجنتين
- ٤٤- الوظيفة التي تؤديها الحدود التي أقامتها فرنسا على حدودها الشرقية مع ألمانيا (خط ماجينو)، هي:
أ) الوظيفة الأمنية ب) الفصل بين الدول ج) الوظيفة الاقتصادية د) الوظيفة القانونية
- ٤٥- يُمكن تحديد الحدود النهرية بطرائق عدة، منها رسم خطّ وسط مجرى النهر، ومثال ذلك:
أ) حدود نهر بوج بين بولندا ودولتيّ أوكرانيا وبيلاروسيا ب) الحدود بين فرنسا وألمانيا على نهر الراين
ج) الحدود النهرية بين الأرجنتين وتشيلي د) الحدود الأمريكية المكسيكية على نهر ريوجراند
- ٤٦- رُسمت الحدود بين الهند وباكستان على أساس:
أ) ديني ب) عرقي ج) لغوي د) سياسي

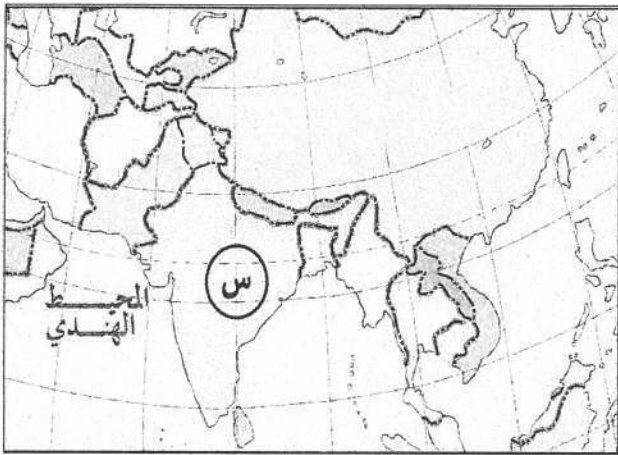
الصفحة السادسة/ نموذج (١)



- ٤٧- الممر المائي المُشار إليه على الخريطة بالرمز (س):
أ) مضيق باب المندب ب) مضيق جبل طارق
ج) قناة السويس د) مضيق هرمز

٤٨- الدولة العربية التي تُمثّل الطرف الثاني لمشكلة شط العرب مع إيران، هي:

- أ) الإمارات ب) الكويت ج) العراق د) عُمان



- ٤٩- الدولة التي يُشير إليها الرمز (س) على الخريطة:
أ) الهند ب) باكستان
ج) أفغانستان د) الصين

٥٠- من الدول التي تمنع الأقليات لديها من استخدام لغتها الخاصة:

- أ) الصين، تمنع الأقليات المنغولية ب) إيطاليا، تمنع الأقلية النمساوية
ج) كندا، تمنع الأقليات العربية د) اليابان، تمنع الأقليات الكورية

﴿ انتهت الأسئلة ﴾