



## امتحان شهادة الدراسة الثانوية العامة لعام ٢٠٢٤ التكميلي

(وثيقة مضمّنة/محدود)

د س

مدة الامتحان: ٤٥ : ٠٠

رقم المبحث: 107

المبحث: الجغرافيا / ف٢

اليوم والتاريخ: الأربعاء ٢٠٢٥/١/٨

الفرع: الأنبي + الفندي والسياحي (جامعات) / خطة ٢٠١٨

رقم الجلوس:

رقم النموذج: (١)

اسم الطالب:

اختر رمز الإجابة الصحيحة في كل فقرة مما يأتي، ثم ظلل بشكل غامق الدائرة التي تشير إلى رمز الإجابة في نموذج الإجابة (ورقة القارئ الضوئي) فهو النموذج المعتمد (فقط) لاحتساب علامتك، علماً أن عدد الفقرات (٢٥)، وعدد الصفحات (٣).

١- للصخور النارية مثل البازلت والجرانيت قدرة أكبر على مقاومة العوامل الجوية؛ بسبب:

(أ) زيادة نسبة المسامات فيها

(ب) ارتفاع نسبة رطوبتها

(ج) صلابة المعادن المكوّنة لها

(د) كبر حجم الصخور النارية

٢- من العوامل الجيومورفولوجية التي تعمل على تشكيل معالم سطح الأرض:

(أ) البراكين

(ب) الأنهار

(ج) الصدوع

(د) الالتواءات

٣- تظهر خطوط الكنتور التي تُمثّل منخفضاً أرضياً على الخرائط الطبوغرافية على شكل:

(أ) حلقيّ مُغلق، وتتناقص قيم الخطوط نحو الداخل

(ب) حلقيّ مُغلق، وتتزايد قيم الخطوط نحو الداخل

(ج) يُشبهه الرقمين (٧، ٨)، وتتناقص قيم الخطوط نحو الداخل

(د) يُشبهه الرقمين (٧، ٨)، وتتزايد قيم الخطوط نحو الداخل

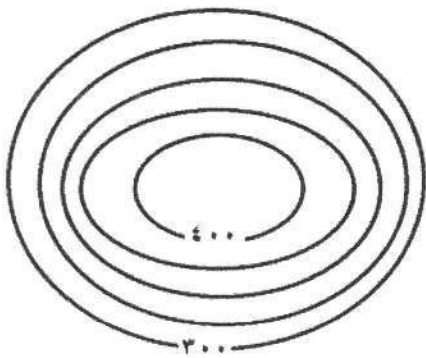
٤- تبلغ قيمة الفاصل الرأسي في الخريطة الكنتورية المجاورة:

(أ) ٢٠

(ب) ٢٥

(ج) ٥٠

(د) ١٠٠



٥- يُعدّ استثمار الصحاري والأراضي الجافة وشبه الجافة، وتنبُّع العواصف الرملية وأثرها في نشاط الإنسان من الجوانب

التطبيقية لِعِلْم:

(أ) الجيولوجيا

(ب) الجيوبولتيك

(ج) الجيومورفولوجيا

(د) الجيوهيدرولوجيا

٦- من العوامل التي تساعد على حدوث التجوية الميكانيكية:

(أ) تحلّل الحيوانات الميتة

(ب) إذابة العناصر المعدنية المكوّنة للصخور

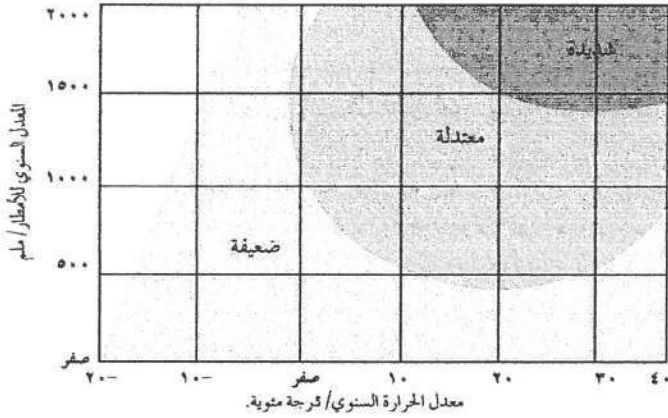
(ج) ارتفاع نسبة الرطوبة

(د) تعاقب الحرارة والبرودة

## الصفحة الثانية

٧- العبارة التي تُوضِّح العلاقة بين نوع التجوية ودرجة الانحدار من العبارات الآتية، هي:

- (أ) يقلّ نشاط التجوية الميكانيكية على السفوح شديدة الانحدار  
 (ب) يزداد نشاط التجوية الكيميائية على السفوح شديدة الانحدار  
 (ج) يزداد نشاط التجوية الميكانيكية على السفوح شديدة الانحدار  
 (د) لا تؤثر درجة الانحدار في سرعة عملية التجوية ونوعيتها



٨- في الشكل المجاور تكون التجوية الكيميائية شديدة إذا

كان معدل الأمطار (١٥٠٠) ملم، ودرجة الحرارة  
 المئوية:

- (أ) ٢٠- (ب) صفراً  
 (ج) ١٠ (د) ٣٠

٩- تُعرف الكُتْل الصخرية المتجانسة على شكل أغشية رقيقة تتكوّن عند تعرضها لتغيرات متطرفة في درجات الحرارة بـ:

- (أ) حُفَر الإذابة (ب) قِباب التَقَشُّر (ج) الحُطَام الصخري (د) الموائد الصخرية

١٠- تتقل الرياح الرمال الخشنة التي يفوق قطرها (٠,٠٥) ملم بشكل بطيء ولمسافات محدودة عن طريق:

- (أ) الزَّحْف (ب) التَّدْرِيَة (ج) القَفْز (د) التَّعَلُّق

١١- يُسمى الشكل الأرضي الذي يحدث نتيجة حت الرياح المحملة بالرمال للطبقات الصخرية اللينة الموجودة عند قاعدة

الصخور؛ ما يؤدي إلى تأكلها أكثر من الصخور الموجودة في الأعلى بـ:

- (أ) الشواهد الصخرية (ب) حفر التذرية (ج) الموائد الصخرية (د) الحماد

١٢- تُعرف أخفض نقطة في أجزاء الحوض النهري والتي تتجمع فيها المياه بـ:

- (أ) سرير النهر (ب) القناة النهريّة (ج) حوض النهر (د) مصب النهر

١٣- تُعرف عملية الحَتّ التي تحدث في منطقة المنابع فقط عندما تعترض طبقة من الصخور الصلبة المياه الجارية؛ ما

يؤدي إلى حَتّ الطبقة اللينة التي تليها، فتتهار الصخور الصلبة بالحَتّ:

- (أ) الرأسي (ب) التراجعي (ج) العميق (د) الجانبي

١٤- جزء من مجرى النهر يتميز بشدة انحدار جوانبه، وعمقه بالنسبة إلى اتساعه هو:

- (أ) الشلالات (ب) الجنادل (ج) الخوانق (د) البحيرات الكوعية

١٥- فرع الجغرافيا البشرية الذي يهتم بدراسة المقومات الطبيعية والبشرية للدولة وتنظيمها الداخلي وتأثير ذلك في قوتها

السياسية وعلاقتها الخارجية، هو:

- (أ) الجغرافيا السياسية (ب) الجغرافيا العسكرية (ج) الجيوبولتيك (د) الجغرافيا الاقتصادية

يتبع الصفحة الثالثة ....

الصفحة الثالثة

١٦- من الأمثلة على الدول الموحدة ( المركزية):

(أ) أستراليا (ب) الإمارات العربية (ج) سويسرا (د) الأردن

١٧- من خصائص الحدود السياسية:

(أ) ظاهرة بشرية ثابتة (ب) ظاهرة تتعرض للتغير والاختفاء والظهور  
(ج) ذات مساحات ممتدة (د) لا تستند إلى معاهدات أو اتفاقيات بين الدول

١٨- تُشكّل جبال الأنديز حدًا سياسيًا فاصلاً بين:

(أ) بوليفيا والبرازيل (ب) الإكوادور والبرازيل (ج) فنزويلا والبيرو (د) تشيلي والأرجنتين

١٩- الوظيفة التي تؤديها الحدود التي أقامتها فرنسا على حدودها الشرقية مع ألمانيا (خط ماجينو)، هي:

(أ) الوظيفة الأمنية (ب) الفصل بين الدول (ج) الوظيفة الاقتصادية (د) الوظيفة القانونية

٢٠- يُمكن تحديد الحدود النهرية بطرائق عدة، منها رسم خطّ وسط مجرى النهر، ومثال ذلك:

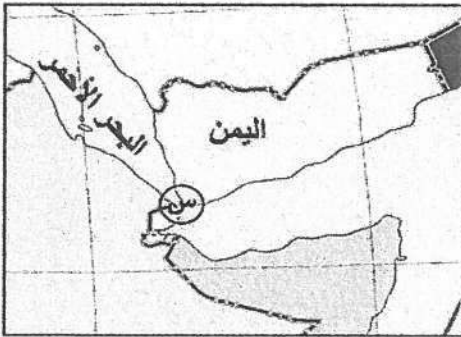
(أ) حدود نهر بوج بين بولندا ودولتيّ أوكرانيا وبيلاروسيا (ب) الحدود بين فرنسا وألمانيا على نهر الراين  
(ج) الحدود النهرية بين الأرجنتين وتشيلي (د) الحدود الأمريكية المكسيكية على نهر ريوجراند

٢١- رُسمت الحدود بين الهند وباكستان على أساس:

(أ) ديني (ب) عرقي (ج) لغوي (د) سياسي

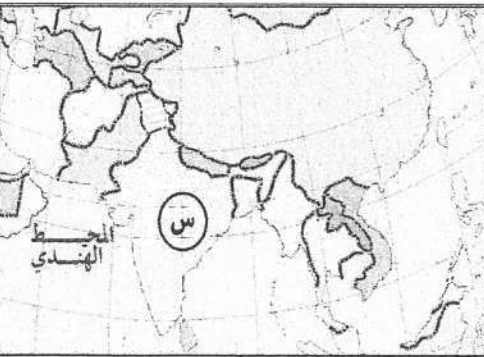
٢٢- الممرّ المائيّ المُشار إليه على الخريطة بالرمز (س):

(أ) مضيق باب المندب (ب) مضيق جبل طارق  
(ج) قناة السويس (د) مضيق هرمز



٢٣- الدولة العربية التي تُمثّل الطرف الثاني لمشكلة شطّ العرب مع إيران، هي:

(أ) الإمارات (ب) الكويت (ج) العراق (د) عُمان



٢٤- الدولة التي يُشير إليها الرمز (س) على الخريطة:

(أ) الهند (ب) باكستان  
(ج) أفغانستان (د) الصين

٢٥- من الدول التي تمنع الأقليات لديها من استخدام لغتها الخاصة:

(أ) الصين، تمنع الأقليات المنغولية (ب) إيطاليا، تمنع الأقلية النمساوية  
(ج) كندا، تمنع الأقليات العربية (د) اليابان، تمنع الأقليات الكورية