



الجمهورية العربية السعودية
وزارة التربية والتعليم
إدارة الامتحانات والاختبارات
قسم الامتحانات العامة



١٢٩١

امتحان شهادة الدراسة الثانوية العامة لعام ٢٠١٢ / الدورة الشتوية

(وثيقة محمية/محمود)

مدة الامتحان : ٣٠ : ١

المبحث : الجغرافيا / المستوى الثالث + الجغرافيا الإضافية

اليوم والتاريخ : الخميس ١٢ / ١ / ٢٠١٢

الفرع : الأدبي والفنّي والسيّاحي (نفس الورقة الامتحانية)

ملحوظة : أجب عن الأسئلة الآتية جميعها وعددها (٥) ، علماً بأن عدد الصفحات (٣) .

السؤال الأول: (١٤ علامة)

عرّف المفاهيم والمصطلحات الآتية:

- | | | |
|---------------------|--------------------|------------------------|
| ١- الارتفاع المطلق | ٢- أشكال النحت | ٣- صحاري العرق الرملية |
| ٤- الإقليمية | ٥- الاكتفاء الذاتي | ٦- الإنتاجية الزراعية |
| ٧- الاحتياطي النفطي | | |

السؤال الثاني: (١٤ علامة)

انكر:

- ١- الطرق التي تعمل الأنهار من خلالها على حث مجاريها. (٣ علامات)
- ٢- العوامل التي تعتمد عليها مساحة الدلتا لأي نهر. (٤ علامات)
- ٣- أنواع النزاعات الحدودية بين الدول المتجاورة كما صنفها الجغرافي الإنجليزي (برسكوت). (٤ علامات)
- ٤- ثلاثة من المقومات الإستراتيجية للوطن العربي التي تحقّق الأمن القومي العربي. (٣ علامات)

السؤال الثالث: (٢٠ علامة)

يتكوّن هذا السؤال من (١٠) فقرات، لكل فقرة أربعة بدائل، واحد منها فقط صحيح، أنقل إلى دفتر إجابتك

رقم الفقرة ورمز الإجابة الصحيحة لها على الترتيب:

- ١) الدولة العربية التي تصدر قائمة الدول المنتجة والمصدرة للنفط في العالم هي:
(أ) الكويت (ب) السعودية (ج) العراق (د) البحرين
- ٢) انخفاض تكاليف الاستخراج مقارنة مع الدول الأخرى هي من مزايا النفط:
(أ) العربي (ب) الإفريقي (ج) الأمريكي (د) الروسي
- ٣) الدولة الأوروبية التي يعيش فيها الوالون والفلمينك كمجموعتين عرقيتين هي :
(أ) لوكسمبورغ (ب) فرنسا (ج) بلجيكا (د) سويسرا

يتبع الصفحة الثانية...

الصفحة الثانية

- ٤) يصب نهر الأردن في :
 (أ) بحيرة طبريا (ب) البحر الميت (ج) خليج العقبة (د) البحر المتوسط
 ٥) يُطلق اسم البرخان على التجمعات الرملية التي تأخذ الشكل :
 (أ) الطولي (ب) الهلالي (ج) النباك (د) السيوف
 ٦) التقاء رافعين يحملان المرتبة الثانية فإن النهر التالي لهما يحمل المرتبة :
 (أ) الأولى (ب) الثانية (ج) الثالثة (د) الرابعة
 ٧) المظهر التضاريسي الذي يُعتبر الأكثر انتشاراً على يابس الكرة الأرضية هو :
 (أ) الوادي النهري (ب) صحاري الرق (ج) المراوح الفيضية (د) السهل الفيضي
 ٨) واحدة من بين الآتية تعود في نشأتها إلى عوامل باطنية بحتة:
 (أ) السهول (ب) للصحاري (ج) الدلتاوات (د) المخاريط البركانية
 ٩) تنظيف المباني الحجرية بتيار هوائي مضغوط ومُحمل بحبيبات رمل يُعتبر مثلاً على الحث:
 (أ) المائي (ب) الريحي (ج) الجليدي (د) التراجعي
 ١٠) الجهاز الذي يُمكن من خلاله رؤية الأبعاد الثلاثة (المجسمة) للأشكال الأرضية هو :
 (أ) التليسكوب (ب) الميكروسكوب (ج) السيزموغراف (د) الستيريوسكوب

السؤال الرابع: (١٧ علامة)

٨) قارن بين هيئة الأمم المتحدة وجامعة الدول العربية كما هو مطلوب في الجدول الآتي : (٨ علامات)

الاهداف (هدفين لكل منهما)	المقر الدائم	سنة التأسيس	
١-	هيئة الأمم المتحدة
٢-	
١-	جامعة الدول العربية
٢-	

ب) فسّر ما يأتي:

- ١- الظاهرة الجيومورفولوجية؛ أي الشكل الأرضي متغيرة منذ النشأة الأولى وتمر في مراحل،
 كما جاء في نظرية وليام ديفز. (٣ علامات)
 ٢- تُعتبر العوامل البشرية من أسباب العجز المائي في الوطن العربي. (٤ علامات)
 ٣- رغم وجود صلة وثيقة بين الجغرافيا السياسية والجغرافيا البشرية إلا أنه يوجد فوارق بينهما.
 (علمان)

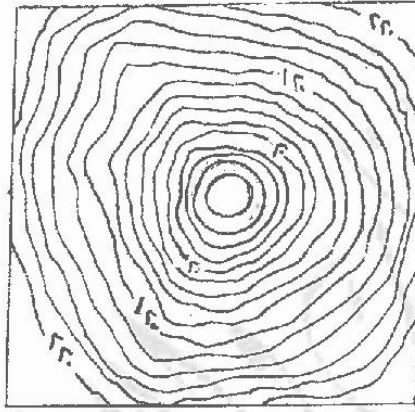
يتبع الصفحة الثالثة...

الصفحة الثالثة

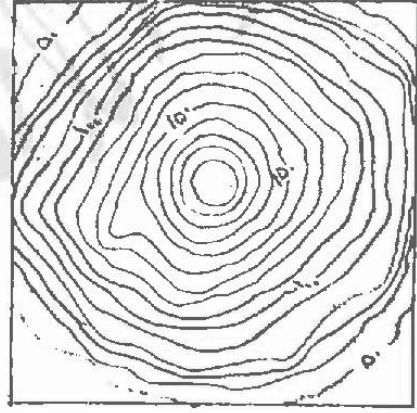
السؤال الخامس: (١٥ علامة)

أ) ادرس الأشكال أدناه، ثم أجب عما يأتي :

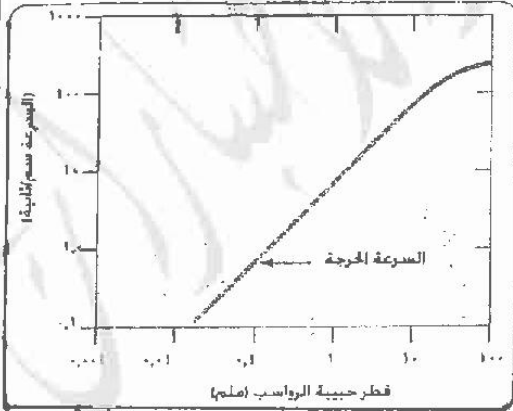
- ماذا يُمثّل الشكل رقم (١) ؟ (علامة واحدة)
 - ما مقدار الفاصل الرأسي لكل من الشكلين رقم (١)، رقم (٢) ؟ (٤ علامات)
 - ما درجة شدة التجوية الكيميائية في الشكل رقم (٣) لمنطقة معدل درجة حرارتها السنوي (-١٠) ومعدل الأمطار فيها (٥٠٠) ملم سنوياً ؟ (علامة واحدة)
 - ما شدة التجوية الكيميائية التي تمثّلها الأرقام (٣، ٢) في الشكل رقم (٣) ؟ (علامتان)
 - ما نوع العملية التي يقوم بها نهر سرعته (١٠٠ سم/ثانية) ويحمل رواسب قطر حبيباتها (٠,٠١ ملم) في الشكل رقم (٤) ؟ (علامتان)
 - ما نوع العملية التي يقوم بها نهر سرعته (١٠ سم/ثانية) ويحمل رواسب قطر حبيباتها (١٠ ملم) في الشكل رقم (٤) ؟ (علامتان)



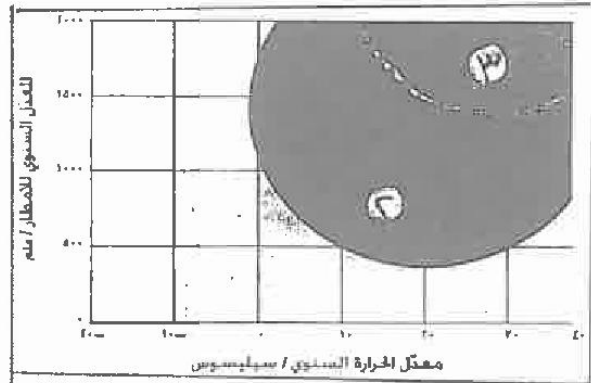
شكل (٢)



شكل (١)



شكل (٤)



شكل (٣)

(علامتان)

ب) ما نوع العلاقة بين سرعة النهر وشدة الانحدار؟

انتهت الأسئلة

بسم الله الرحمن الرحيم
امتحان شهادة الدراسة الثانوية العامة لعام ٢٠١٢ (الدورة الشتوية).



صفحة رقم (١)

وزارة التربية والتعليم
إدارة الامتحانات والاختبارات
قسم الامتحانات العلمية

المبحث: جغرافيا ٢٣ + جغرافيا اضافية
الفرع: الادبي + الصريح والمسطحي

مدة الامتحان : ٦٠ د.
التاريخ : ١٠ / ١٢ / ٢٠١٢

رقم الصفح في الكتاب	الإجابة النموذجية :
	المقالة الأولى : عرف ١٤ علامة ①
١٢	(١) الارتفاع المظهر : ارتفاع قمة الظاهرة أو قاعدتها عبر سطح البحر -
	(٢) أشكال التربة :- أشكال الأرضية الناشئة عن عمليات التربة والتربة سطح الأرض ⑤
٦٤	١٣١ صياغة المرحمة الرملية : تعبير تظهر عادة على الهامى الرملية / هي المناطق الحافة المقطاة بالمال أو الرمل
	①
١١٨	١٤١ الأطلية :- مصطلح يصف الأنتاء لمنطقة أو الأطلية الذي تعبر عليه الجماعات والأفراد ضمن العقول الوحدية ①
١٢٦	(٥) الاكتفاء الذاتي : قدرة الدولة على توفير احتياجاتها بالاعتماد على مواردها الذاتية ⑤
	بطلب المكان لتلك السنة ٥ أهمي الطلب من تلك السنة ٥
٢٩	(٦) الانتاجية الزراعية : مقدار ما تنتجه الوحدة المساحة الواحدة من أي محصول زراعي بالكيلوغرام أو مضافاته ⑤
٤٦	(٧) الاحتياطي النفط : كميات النفط التي ثبتت توافرها فقط من الحقول النفطية ⑤

رقم الصفحة في الكتاب	السؤال الثاني :- اذكر	
٤٤ / ٥١	<p>١- الطرق التي تعمل الأنهار من خلال عملها في مجاريها</p> <p>٢- تأثير الانحدار الطبيعي للماء أو الغسل الهيدرولوجي ①</p> <p>٣- استخدام الحجرة النهرية ①</p> <p>٤- البرذابة ①</p>	٣ علامات
٥٨	<p>٢- العوامل التي تعتمد عليها مساحة وكتلة أي نهر</p> <p>٣- كمية الرواسب التي تنتقل في الوسط المائي ①</p> <p>٤- حدود البحر وخصائص الفيضانات البحرية في منطقة البحر المتوسط ①</p> <p>٥- استقرار قطاع الوسط المائي لهذا النهر تتطور عليه الدولتان ①</p> <p>٦- عدم تغير النهر لنقطة حوضه في الوسط المائي ①</p>	٤ علامات
٨٢ - ٩١	<p>٣- أنواع النزاعات الحدودية بين الدول المتجاورة كما صنفها الجغرافيون الإنجليز (روبرتس)</p> <p>٤- النزاع على ملكية منابع حدودية ①</p> <p>٥- النزاع حول مصادر المياه الطبيعية الحدودية ①</p>	٤ علامات
١١٩	<p>٤- ثلاثة من المقومات الاستراتيجية للدولة العربية والتي تحقق الرشد القومي العربي</p> <p>١- الموقع</p> <p>٢- الحدود</p> <p>٣- السكان</p> <p>٤- الموارد الاقتصادية</p>	٣ علامات

سليم بن محمد بن قنبر

رقم الصفحة
من الكتاب

٢. علامة
البراز الثالث اختصارين مقدر

الرقم	الإجابة	البراز	العلامة	العلامة
١	السعوديه	٥	٢	١٤٥
٢	العراقيه	٢	٢	١٤٨
٣	باجيكا	٢	٢	١١٦
٤	البراطنيه	٥	٢	٨٢
٥	الطراي	٥	٢	٦٥
٦	الثالثة	٢	٢	٤١
٧	الرادى الخبز	٢	٢	٥٢
٨	المخاريط البراشيه	٥	٢	١٧
٩	السويحي	٥	٢	٦٠
١٠	السيد يتحون	٥	٢	٦٥
			٢. علامة	

رقم الصفحة في الكتاب	السؤال الرابع ١٧ ١٤	
١٣٦٩٦	٩- مقارنة بين هيئة الأمم المتحدة وجامعة الدول العربية من حيث (١) المبادئ	
	المعالم	أهم المنظمة
	١٧ نيويورك	١٧ هيئة الأمم المتحدة
	١٧ القاهرة	١٧ جامعة الدول العربية
	الأهداف:	
	١- هيئة الأمم :- حفظ السلام وتيسير المبادىء الدولية بالوسائل السلمية ٢- حفظ استعمال القوة في العلاقات الدولية ٣- دعم التدخل في الشؤون الداخلية للدول الأعضاء ٤- مساعدة الدول العربية :- ا- ايجاد بين الدول العربية ٥- دعم الجهود الدولية لتنفيذ المبادئ بين الدول الأعضاء ٦- تقديم المساعدات المالية اذا كلفت هذه ولا جامعة لزيادة اعتمادها ٧- تعاون الدول العربية في الشؤون الاقتصادية والمالية والاجتماعية والبيئية والثقافية مطلوب تقديمه في الإجابات	
	(ن) من ما يأتي	
١٣	(١) الظاهرة الجيومورفولوجية التي تشكل الأرض نتيجة من النشاط الأرضي وتسمى بالظواهر الجيومورفولوجية وتسمى :- الظاهرة الجيومورفولوجية التي تشكل الأرض وتسمى بالظواهر الجيومورفولوجية مثل حوض البحر الميت والسهول وتسمى في مراحلها الطفولة والسبب (النضج) ثم مرحلة الشيخوخة	

رقم الصفحة
في الكتاب

تابع السؤال الرابع عشر من

١٤. (٤) تعتبر العوامل البشرية من أسباب العجز المالي في الوطن العربي -

- بسبب ارتفاع معدل البطالة والزيادة السكانية ①

- ارتفاع معدل المديونية ①

- زيادة معدل التضخم ①

- زيادة الرقعة الزراعية المروية ①

- زيادة الاستهلاك المنزلي ① ^{بدليل}

عمران

١٧ (٤) رغم وجود صلة وثيقة بين الجغرافيا السياسية و

الجغرافيا البشرية إلا أنه يوجد فوارق بينهما

الجوانب البشرية تهتم بدراسة العلاقة بين الإنسان

والبيئة لفض النقطة من الظروف الطبيعية ①

الجغرافيا السياسية العلاقات بين البيئة والسياسة داخل

أقاليم الدولة سوابقات علاقات داخلية أو خارجية ①

عمران

① بدليل

أهميته وخصه الدراما الجغرافيا البشرية هو الأقليم الجغرافي

في حينه وخصه الدراما الجغرافيا السياسية هو

الدولة السياسية أو الدولة ① ^{بدليل}

رقم الصفحة في الكتاب	السؤال الخامس :-	١٥ علامة
٤٢٥٤	ادرس الأشعاع اذناه ثم اجمع عن الاشعاع لانتشاره	١٥ علامة
٤٢٥٤	عبارداً على فقط الاستدلال على ان الاشعاع ينتشر في جميع الاتجاهات	١٥ علامة
٤٢٥٤	ما مقدار الشدة الضوئية التي تصل الى الارض من الشمس؟	١٥ علامة
٤٢٥٤	كيف يتم انتقال الاشعاع في الفراغ؟	١٥ علامة
٤٢٥٤	ما مقدار الشدة الضوئية التي تصل الى الارض من الشمس؟	١٥ علامة
٤٢٥٤	كيف يتم انتقال الاشعاع في الفراغ؟	١٥ علامة
٤٦	<ul style="list-style-type: none"> * عملية النقل ① علامة * عملية الانعكاس ② علامة 	١٥ علامة
٤٦	علامة طرية ⑤ علامة	١٥ علامة
	<p>بدراسة انوار اشعة الخداع في الزوايا</p> <p>حرف الخداع</p>	