

س د
٣ ..

مدة الامتحان :
التاريخ : ٢٠٠٠ / ٧ / ٣

المبحث : الكيمياء
الفرع : العلمي

ملحوظة : أجب عن جميع الأسئلة الآتية وعددها (٥) علماً بأن عدد الصفحات (٣) .
السؤال الأول : (١٢ علامة)

* انقل إلى دفتر إجابتك الإجابة الصحيحة لكل فقرة من الفقرات الست الآتية:

١- إذا كان قانون سرعة التفاعل $[2NO + 2H_2 \rightarrow N_2 + 2H_2O]$ هو : $k = [NO]^2 [H_2]$ ، وانخفض حجم وعاء التفاعل إلى النصف، فإن سرعة التفاعل تزداد بمقدار:

(أ) مرتين (ب) ٤ مرات (ج) ٨ مرات (د) ١٦ مرة

٢- يكون المصعد في الخلية الغلفانية هو القطب:

(أ) السالب الذي تحدث عنده عملية التأكسد (ب) السالب الذي تحدث عنده عملية الاختزال
(ج) الموجب الذي تحدث عنده عملية التأكسد (د) الموجب الذي تحدث عنده عملية الاختزال .

٣- عند التحليل الكهربائي لمصهور كلوريد الصوديوم (NaCl)، فإن عدد مولات الصوديوم الناتجة إلى عدد مولات غاز الكلور المتصاعدة يساوي:

(أ) ٠.٥ (ب) ١ (ج) ٢ (د) ٤

٤- المادة التي تعد من حموض لويس من المواد الآتية هي:

(أ) H_2O (ب) Zn^{2+} (ج) OH^- (د) NH_3

٥- عند إضافة ميثيل كلوريد المغنيسيوم إلى الإيثانال ثم إضافة HCl بعد ذلك ينتج:

(أ) كحول أولي (ب) كحول ثانوي (ج) كحول ثالثي (د) (أ + ب) معاً

٦- نوع التفاعل الذي يحول البروبانول إلى ٢ - بروبانول يسمى تفاعل:

(أ) تأكسد (ب) إضافة ماء (ج) اختزال (د) استبدال

السؤال الثاني : (٦ علامات)

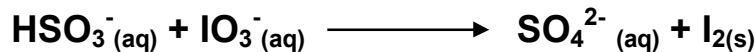
في التفاعل الافتراضي الآتي : $2A + B \rightleftharpoons 2C$ ، إذا علمت أن:

- طاقة الوضع للمواد المتفاعلة = ٢٤٠ كيلو جول.
- طاقة الوضع للمواد الناتجة = ٢٠ كيلو جول.
- طاقة التنشيط للتفاعل الأمامي = ١٠ كيلو جول، أجب عما يأتي:

١. ما قيمة طاقة التنشيط للتفاعل العكسي؟
٢. ما قيمة طاقة الوضع للمعدن المنشط؟
٣. ما أثر زيادة درجة الحرارة على قيمة طاقة التنشيط للتفاعل الأمامي (تزيد، تقل، تبقى ثابتة)؟

السؤال الثالث : (٢٤ علامة)

أ. يتم التفاعل الآتي في وسط حمضي، انقله إلى دفتر إجابتك وأجب عن الأسئلة التي تليه: (١٠ علامات)



١- وازن المعادلة بطريقة نصف التفاعل (أيون - إلكترون) ٢- حدّد العامل المؤكسد.

٣- ما عدد تأكسد اليود في الأيون (IO_3^-) ؟

ب. فسّر السلوك الحمضي لأيون (NH_4^+) وفق مفهوم برونستد - لوري للحمض. (علامتان)

ج. تم استخدام عدد من الأقطاب الفلزية ومحاليتها المائية (١ مول / لتر) لعمل خلايا غلفانية مختلفة في الظروف المعيارية، كما في الجدول (١)، كما يبين الجدول (٢) جهود الاختزال المعيارية لعدد من أنصاف التفاعلات:

(١٢ علامة)

جدول : (٢)

نصف تفاعل الإختزال	E° (فولت)
$Ni^{2+}_{(aq)} + 2e^{-} \rightarrow Ni_{(s)}$	- ٠,٢٣
$Zn^{2+}_{(aq)} + 2e^{-} \rightarrow Zn_{(s)}$	- ٠,٧٦
$Ag^{+}_{(aq)} + e^{-} \rightarrow Ag_{(s)}$	+ ٠,٨٠
$Cu^{2+}_{(aq)} + 2e^{-} \rightarrow Cu_{(s)}$	+ ٠,٣٤
$Al^{3+}_{(aq)} + 3e^{-} \rightarrow Al_{(s)}$	- ١,٦٦

جدول : (١)

رقم الخلية	القطب (A)	القطب (B)
١	Ni	Zn
٢	Cu	Ag
٣	Al	Ni
٤	Zn	Cu

* اعتماداً على المعلومات في الجدولين: (١ ، ٢)، أجب عما يأتي:

١. أي القطبين (A أم B) يُمثل المصعد في الخلية رقم (١)؟
٢. ما رقم الخلية التي لها أقل قيمة جهد (E°)؟
٣. ماذا يحدث لكتلة القطب (B) في الخلية رقم (٣)؟
٤. أي الأيونات (Al^{3+} ، Ni^{2+} ، Ag^{+}) أقوى كعامل مؤكسد؟
٥. باستخدام الجدول (٢) اختر فلزين لعمل خلية لها أعلى جهد (E°)، واكتب معادلة التفاعل الكلي لهذه الخلية.

السؤال الرابع : (٢٠ علامة)

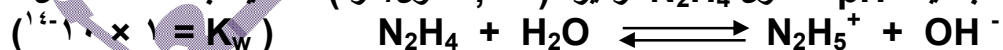
أ. اعتماداً على الجدول المجاور والذي يبين قيم ثابت التآين (K_b) لعدد من القواعد الضعيفة، أجب عما يأتي: (١٢ علامة)

صيغة القاعدة	K_b
NH_2OH	1×10^{-8}
CH_3NH_2	4×10^{-4}
$C_6H_5NH_2$	4×10^{-10}
N_2H_4	1×10^{-6}

- ١- اكتب صيغة الحمض المرافق الأقوى.
- ٢- اكتب معادلة تفاعل NH_2OH مع الماء.
- ٣- حدد الزوجين المرافقين من الحمض والقاعدة في التفاعل السابق.

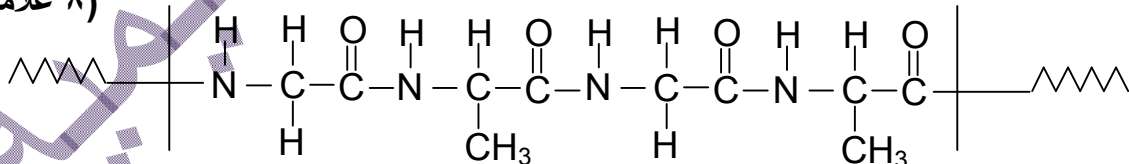
٤- أيهما أكبر: قيمة pH لمحلول CH_3NH_2 أم لمحلول $C_6H_5NH_2$ (التركيز نفسه)؟

٥- احسب قيمة pH لمحلول N_2H_4 تركيزه (٠,٠١ مول/لتر) مستعيناً بمعادلة التفاعل الآتية:



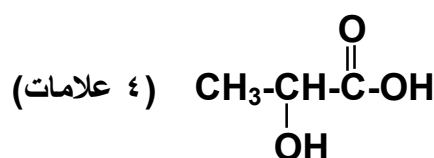
ب. يمثل الشكل الآتي جزءاً من تركيب سلسلة بروتين. معتمداً على هذا الجزء، أجب عن الأسئلة التي تليه:

(٨ علامات)



- ١- ما نوع الروابط التي تربط الحموض الأمينية في هذا الجزء؟
- ٢- ما عدد هذه الروابط؟
- ٣- اكتب صيغة بنائية لحمض أميني واحد يدخل في تركيب هذا الجزء. وما نوع المجموعات الوظيفية فيه؟

السؤال الخامس : (٢٢ علامة)



٢- NaOH

أ. حمض اللاكتيك له الصيغة البنائية المبينة إلى اليسار: يحتوي على مجموعة كاربوكسيل ومجموعة هيدروكسيل.

* اكتب ناتج تفاعل هذا الحمض مع كل من: ١- Na

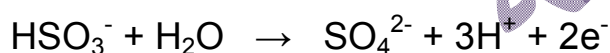
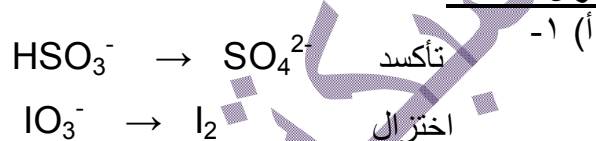
السؤال الأول :

٦	٥	٤	٣	٢	١
ج	ب	ب	ج	أ	ج



السؤال الثاني :

١. طاقة التنشيط للتفاعل العكسي: ٢٣٠ كيلوجول.
٢. قيمة طاقة الوضع للمعدن المنشط: ٢٥٠ كيلوجول.
٣. تبقى ثابتة.

السؤال الثالث :




نساوي عدد الإلكترونات المكتسبة بعدد الإلكترونات المفقودة في النصفين :




٢- عدد تأكسد اليود = +٥ .

(ب) NH_4^+ حمض حسب مفهوم برونستد - لوري لأن له القدرة على منح بروتون H^+ لمادة أخرى .




(ج) ١- B ٢- الخلية رقم (٢) ٣- تزداد ٤- Ag^+

٥- خلية ألمنيوم - فضة :



السؤال الرابع :



٣. $\text{OH}^- / \text{H}_2\text{O}$ ، $\text{NH}_3\text{OH}^+ / \text{NH}_2\text{OH}$
القاعدة / الحمض المرافق الحمض / القاعدة المرافقة

٤. pH لمحلول CH_3NH_2 أعلى .



$$\frac{[N_2H_5^+][OH^-]}{[N_2H_4]} = K_b$$

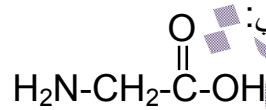
$$\frac{س}{0,01} = 10^{-6} \times 1$$

$$10^{-6} \times 1 = \sqrt{10^{-6} \times 1} = س = [OH^-]$$

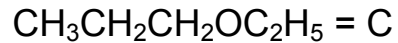
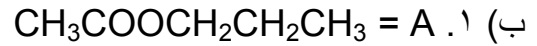
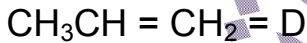
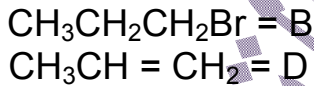
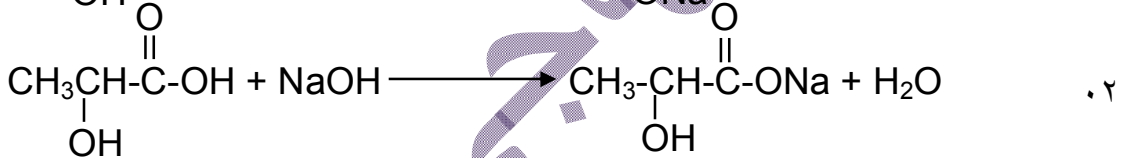
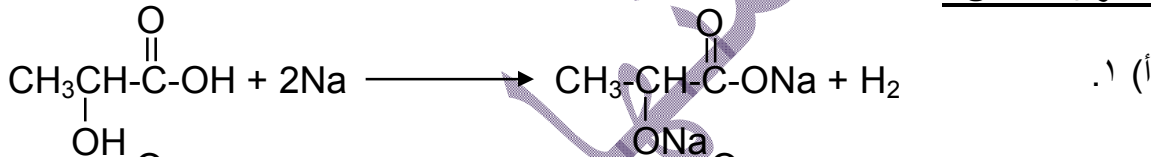
$$10 = pH \rightarrow 10^{-10} \times 1 = \frac{K_w}{[OH^-]} = [H_3O^+]$$

(ب) ١- بيتيدية (أميدية)
٢- مجموعة كاربوكسيل، ومجموعة أمين.

صيغة الحمض الأميني:



السؤال الخامس :



٢. ستظهر ذرة الأكسجين في جزيء الماء H_2O .

(ج) ١. صيغة الأيون المشترك: CH_3COO^-

$$\frac{[H_3O^+] \times 0,05}{0,4} = 10^{-2} \times 2 \leftarrow \frac{[H_3O^+][CH_3COO^-]}{[CH_3COOH]} = K_a \quad ٢$$

$$10^{-10} \times 1,6 = \frac{10^{-10} \times 8}{0} = [H_3O^+]$$

٣. $pH = 5 \leftarrow [H_3O^+] = 10^{-5}$ مول/لتر.

$$[CH_3COOH] = 0,4 - س$$

$$[CH_3COO^-] = 0,5 + س$$

حيث (س) يمثل تركيز NaOH المضاف.

$$\frac{[H_3O^+][CH_3COO^-]}{[CH_3COOH]} = K_a$$

$$\frac{(س + ٠,٥)^{-١٠} \times ١}{(س - ٠,٤)} = ٠^{-١٠} \times ٢$$

$$س + ٠,٥ = ٢ - ٠,٨$$
$$س = ٠,١ \text{ مول/لتر.}$$

عدد مولات NaOH = التركيز \times الحجم (لتر)
عدد مولات NaOH = $١ \times ٠,١ = ٠,١$ مول/لتر.
كتلة NaOH = عدد المولات \times الكتلة المولية
كتلة NaOH = $٤٠ \times ٠,١ = ٤$ غ.

(انتهت الإجابات)



منهاجي للتعليمية