



امتحان شهادة الدراسة الثانوية العامة لعام ٢٠١٣ / الدورة الصيفية

(وثيقة محمية/محمود)

مدة الامتحان : ٠٠ : ٢٠

المبحث : الكيمياء / المستوى الثالث

اليوم والتاريخ : الأحد ٠٧/٠٧/٢٠١٣

الفرع : العلمي

ملحوظة : أجب عن الأسئلة الآتية جميعها وعددها (٥) ، علماً بأن عدد الصفحات (٤) .

السؤال الأول : (١٣ علامة)

أ) في التفاعل الآتي :



تم الحصول على البيانات الواردة في الجدول المجاور، ادرسه جيداً ثم أجب عن الأسئلة الآتية: (٤ علامات)

رقم التجربة	[A] مول/لتر	[B] مول/لتر	سرعة التفاعل مول/لتر.ث
١	٢,١	٠,٢	$٢^{-1} \times ٢$
٢	٤,٢	٠,٤	$٢^{-1} \times ٤$
٣	٢,١	٠,٨	$٢^{-1} \times ٨$

١- ما رتبة التفاعل للمادة (A) ؟

٢- اكتب قانون سرعة التفاعل.

٣- احسب قيمة ثابت السرعة (K).

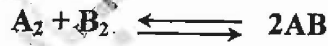
ب) في التفاعل الآتي :



اكتب العلاقة التي تُعبّر عن معدل سرعة استهلاك المادة (N₂O₅) ، ومعدل سرعة إنتاج المادة (NO₂)

(علمان)

بدلالة التغير في تراكيز كل منهما مع الزمن.



ج) يمثل الشكل المجاور سير التفاعل الافتراضي الآتي :

معتمداً عليه، أجب عن الأسئلة الآتية :

١- اكتب ما تشير إليه الأرقام (١ ، ٢ ، ٣) .

٢- لماذا يُعدُّ هذا التفاعل طارداً للطاقة ؟

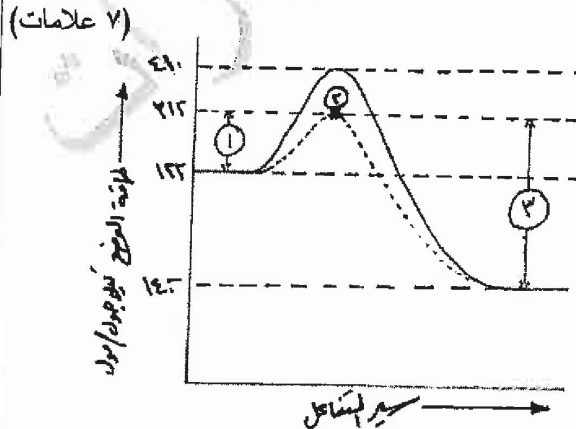
٣- أيهما أسرع: التفاعل الأمامي أم العكسي؟

٤- ما أثر إضافة العامل المساعد في طاقة وضع

المعدّد المنشط؟

٥- ما قيمة طاقة التنشيط للتفاعل العكسي بدون

عامل مساعد؟



يتبع الصفحة الثانية

الصفحة الثانية

السؤال الثاني: (٢١ علامة)

١) اعتماداً على الجدول التالي الذي يمثل عدد من المحاليل الافتراضية وقيم pH لها، أجب عن الأسئلة التي تليه: (١٠ علامات)

المحلول الافتراضي	A	B	C	D	E	F	G
pH	٣	٨	١	٠	٤	١١	١٤

١- اختر من الجدول الرمز الذي يمثل:

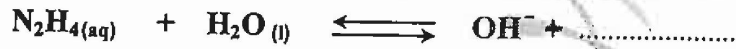
أ- محلول الحمض الأقوى. ب- محلول قاعدة فيها $[OH^-]$ يساوي 10^{-1} مول/لتر.

ج- محلول NaOH د- محلول حمض فيه $[H_3O^+]$ يساوي 10^{-1} مول/لتر.

٢- أي المحلولين (C ، E) له أكبر قيمة K_a ؟

٣- إذا كان تركيز المحلول (F) يساوي (٠,٢) مول/لتر، احسب قيمة K_b لهذا المحلول.

ب) أكمل التفاعل التالي، ثم حدّد الزوجين المترافقين من الحمض والقاعدة. (٣ علامات)



ج) محلول منظّم حجمه (١) لتر مكوّن من الحمض HCN تركيزه (٠,١) مول/لتر، والملح NaCN

تركيزه (٠,٥) مول/لتر. (إذا علمت أن K_a للحمض HCN = 10^{-4})، أجب عما يأتي: (٨ علامات)

١- ما صيغة الأيون المشترك في المحلول؟

٢- احسب $[H_3O^+]$ في المحلول.

٣- احسب $[NaOH]$ اللازم إضافتها للمحلول لتصبح قيمة pH = ٤ (مع إهمال تغير الحجم).

السؤال الثالث: (٢٨ علامة)

يتكون هذا السؤال من (١٤) فقرة من نوع الاختيار من متعدد، يلي كل فقرة أربعة بدائل، واحد منها فقط صحيح. انقل إلى دفتر إجابتك رقم الفقرة وإجابتها الصحيحة كاملة.

١) إضافة العامل المساعد إلى التفاعلات المنعكسة:

■ يؤثر في وضع الاتزان

■ يزيد من سرعة وصول التفاعل إلى وضع الاتزان ■ يزيد من سرعة التفاعل العكسي فقط



إذا علمت أن سرعة التفاعل = $K[B]^2$ ، فعند مضاعفة $[B]$ أربع مرات و $[A]$ مرتين، فلن سرعة التفاعل تتضاعف بمقدار:

- ٨ مرات ■ ١٦ مرة ■ ٤ مرات ■ ٣٢ مرة

٣) إن إضافة الملح HCOONa إلى محلول حمض الميثانويك HCOOH تؤدي إلى:

- زيادة pH ■ خفض pH ■ زيادة $[H_3O^+]$ ■ خفض $[OH^-]$

٤) المحلول الذي يصلح كمحلول منظّم من بين المحاليل الآتية، هو:

- $KClO_4/HClO_4$ ■ $NaNO_3/HNO_3$ ■ $NaCl/HCl$ ■ CH_3NH_2/CH_3NH_3Br

٥) العبارة الصحيحة فيما يتعلّق بسرعة التفاعل الكيميائي:

- تبقى ثابتة منذ بداية التفاعل وحتى نهايته

- لا تتأثر بالتركيز ■ لا تتأثر بالحرارة ■ تتناقص مع الزمن

يتبع الصفحة الثالثة....

الصفحة الثالثة

٦) المادّة التي تزيد من تركيز H^+ عند إذابتها في الماء تسمّى:

- حمض برونستد_ لوري ■ قاعدة لويس ■ قاعدة أرهينيوس ■ حمض أرهينيوس

٧) المادّة التي تسلك سلوك القاعدة وفق مفهوم لويس هي:

- $NaOH$ ■ NH_3 ■ Fe^{3+} ■ BF_3

٨) المركّب الذي يكون عدد تأكسد الأكسجين فيه (-1) هو:

- OF_2 ■ Na_2O_2 ■ O_2F_2 ■ Na_2O


٩) في خلية التحليل الكهربائي لمصهور كلوريد المغنيسيوم ($MgCl_2$) ينتج عند المصعد:

- تصاعد غاز الهيدروجين ■ تصاعد غاز الكلور ■ تصاعد غاز الأكسجين ■ تجمّع نرات المغنيسيوم

١٠) في الخلية الغلفانية يكون:

- التفاعل غير تلقائي ■ التأكسد على المهبط ■ المصعد سالب ■ تتحول الطاقة من كهربائية إلى كيميائية

١١) الصيغة العامة للكحولات التي لا تتأكسد إلى ألدهيد أو كيتون هي:



١٢) المادّة المستخدمة للتمييز مخبرياً بين الهيدروكربونات المشبعة وغير المشبعة هي:

- Br_2/CCl_4 ■ $K_2Cr_2O_7/H^+$ ■ $LiAlH_4$ ■ $Ag(NH_3)_2^+/OH^-$

١٣) الاسم العام للمادّة الدهنية التي تتكوّن من اتحاد جزيئات حمض الستريك مع الغليسرول هو:

- ثلاثي غليسرايد ■ ثلاثي غلايكوسيد ■ ثلاثي سيترويد ■ ثلاثي كوليستيرول

١٤) تحول مركّب بروبانون إلى ٢- بروبانول يُعدّ تفاعل:

- أكسدة ■ حذف ■ اختزال ■ استبدال

السؤال الرابع: (٢٩ علامة)

أ) يمثّل الجدول المجاور جهود الاختزال المعيارية E^0 لبعض المواد، أجب عما يأتي:

نصف تفاعل الاختزال	E^0 فولت
$Fe^{2+} + 2e^- \rightleftharpoons Fe$	٠,٤٤-
$Ag^+ + e^- \rightleftharpoons Ag$	٠,٨٠+
$Cd^{2+} + 2e^- \rightleftharpoons Cd$	٠,٤٠-
$Cu^{2+} + 2e^- \rightleftharpoons Cu$	٠,٣٤+
$Ca^{2+} + 2e^- \rightleftharpoons Ca$	٢,٨٧-
$Cl_2 + 2e^- \rightleftharpoons 2Cl^-$	١,٣٦+
$Zn^{2+} + 2e^- \rightleftharpoons Zn$	٠,٧٦-
$Mn^{2+} + 2e^- \rightleftharpoons Mn$	١,١٨-

١- حدّد العامل المختزل الأقوى.

٢- حدّد الفلزّين اللذين يكوّنان خلية غلفانية لها أكبر فرق جهد.

٣- ما العنصر الذي يستطيع أكسدة Zn واختزال Cd^{2+} ؟

٤- في خلية غلفانية قطباها (Ag, Mn)، أيهما يمثّل المصعد؟

٥- هل يمكن حفظ محلول ($ZnSO_4$) في وعاء من النحاس؟

٦- اكتب تفاعل المصعد عند طلاء ملعقة حديدية بالفضة.

٧- أي القطبين نقل كتلته في الخلية الغلفانية المكوّنة من (Zn, Fe)؟

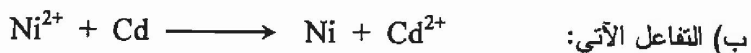
٨- ما قيمة جهد الخلية المعياري للخلية المكوّنة من قطبي (Zn, Ca)؟

٩- ما اتجاه حركة الأيونات السالبة عبر القنطرة الملحية في خلية

غلفانية قطباها (Cu, Cd)؟

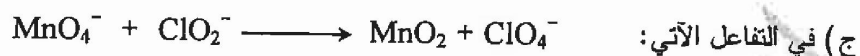
يتبع الصفحة الرابعة....

الصفحة الرابعة



يحدث في خلية غلفانية جهدها المعياري يساوي (٠,١٥) فولت، ودرجة حرارتها (٢٥°س)، احسب جهد الخلية عندما يكون $[Ni^{2+}]$ يساوي (٠,١) مول/لتر، و $[Cd^{2+}]$ يساوي (٠,٠٠١) مول/لتر. (اعتبر قيمة الثابت = ٠,٠٦).

(٣ علامات)



(٩ علامات)

١- ما صيغة العامل المختزل؟

٢- ما عدد تأكسد الكلور في ClO_4^- ؟

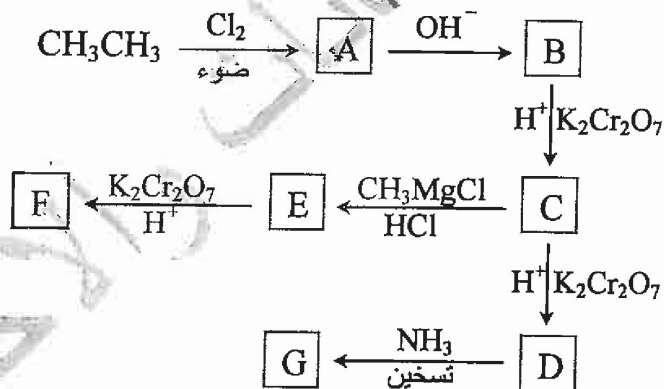
٣- اوازن نصف التفاعل الآتي في وسط قاعدي: $MnO_4^- \longrightarrow MnO_2$

٤- اوازن نصف التفاعل الآتي في وسط حمضي: $ClO_2^- \longrightarrow ClO_4^-$

السؤال الخامس: (١٩ علامة)

أ) ادرس المخطط أدناه ثم اكتب الصيغة البنائية لكل من المركبات العضوية المشار إليها بالرموز: (A, B, C, D, E, F, G)

(٧ علامات)



ب) اكتب معادلات كيميائية لتحضير ٢-ميثيل-٢-بيوتانول $CH_3 - \overset{OH}{\underset{CH_2CH_3}{|}}{C} - CH_3$ مستخدماً ما يلزم من المواد الآتية:

(٦ علامات)

(Mg , $K_2Cr_2O_7/H^+$, OH^- , إيثر , Ni , HCl , CH_3CH_2Cl , $CH_3CH=CH_2$)

(٦ علامات)

ج) قارن بين البروتين والأميلوبكتين من حيث:

١- وحدة البناء الأساسية.

٢- نوع الرابطة بين الوحدات الأساسية في السلسلة الواحدة.

٣- نوع الرابطة بين السلاسل.

﴿ انتهت الأسئلة ﴾



مدة الامتحان : ٢٠
التاريخ : ١٧/٧/٢٠١٣ م

HXI
المبحث : البليساو / ٣٣
الفرع : الهندسة

السؤال الأول

الإجابة النموذجية :

رقم الصفحة في الكتاب	
HXI	
٢١	(علامة)
٢١	(علامة) ١- رتبة A = ٣
٢١	(علامة) ٢- سرعة التفاعل = $k[B]^1$
٢١	(علامة) ٣- $k = \frac{v}{[A]^2} = \frac{1.0 \times 10^{-2}}{(1.0)^2} = 1.0 \times 10^{-2}$
١٣	(علامة) (ك) $\frac{1}{2} \Delta [NO_2] = \frac{1}{2} \Delta [N_2O_5]$
٤٦	(علامة) (ج) ١- تشير إلى طاقة التنشيط للتفاعل الأمامي بوجود عامل مساعد (E_a^*)
٤٦	(علامة) (د) المعقد المنشط بوجود عامل مساعد
	(علامة) (هـ) طاقة التنشيط للتفاعل العكسي بوجود عامل مساعد (E_a^*)
٣٨	(علامة) ٢- لأدنى طاقة وضع المواد الناتجة أقل من طاقة وضع المواد المتفاعلة، أو لأدنى التغير في المحتوى الحراري (ΔH) سالب
٤٠	(علامة) ٣- التفاعل الأمامي
٤٠	(علامة) ٤- تقبل
٤٦	(علامة) ٥- ٥٥٠ كيلوجول/مول

رقم الصفحة في الكتاب	السؤال الثاني
٦٤	(علامة) D : المحمن الأقوى
٦٤	(علامة) B : قاعدة فيها $[OH^-] = 1 \times 10^{-6}$
٧٥	(علامة) G : محلول NaOH
٦٥	(علامة) A : محلول فيه $[H_3O^+] = 1 \times 10^{-5}$
٦٦	(علامة) C
-٦٩	-٢ $pH = -\log [H_3O^+]$
٧٠	$[H_3O^+] = 1 \times 10^{-12}$ حول الزر
	(علامة) $[OH^-] = \frac{1 \times 10^{-14}}{1 \times 10^{-12}} = 1 \times 10^{-2}$
	$F + H_2O \rightleftharpoons FH^+ + OH^-$
	مفرز مفرز
	١٠٠ ١٠٠
	(علامة) $K_b = \frac{1 \times 10^{-10}}{1 \times 10^{-2}} = 1 \times 10^{-8}$
	(علامة) $K_b = 1 \times 10^{-10}$
٥٧	(علامة) $N_2H_4(aq) + H_2O(l) \rightleftharpoons OH^- + N_2H_5^+$
	(علامة)
	(علامة) زوج مترافق $N_2H_5^+ / N_2H_4$
	(علامة) زوج مترافق OH^- / H_2O



رقم الصفحة في الكتاب	تابع السؤال الثاني
١٤	١ - C_N^- (علامة)
١٢	٢ - $[H_3O^+] = K_a \frac{[الملاح]}{[المخمن]}$ (علامة)
	٣ - $[H_3O^+] = \frac{٠.١٠ \times ١٠^{-٤}}{٠.١٠}$ (علامة)
	٤ - $[H_3O^+] = ٠.١٠ \times ١٠^{-٤} = ١٠^{-٥}$ (علامة)
١٢	٥ - $pH = ٤ \Leftrightarrow [H_3O^+] = ١٠^{-٤}$ (علامة)
	$[H_3O^+] = K_a \frac{[الملاح + S]}{[المخمن + S]}$
	$\frac{١ \times ١٠^{-٤}}{١} = \frac{١ \times ١٠^{-٤} \times (٠.١٠ + S)}{١}$ (علامة)
	$(٠.١٠ + S) = (٠.١٠ + S)$ (علامة)
	$S = ٠.١٠ - ٠.١٠$
	$S = ٠.١٠ - ٠.١٠$ (علامة) حول $١٠^{-٤}$

رقم الصفحة في الكتاب	السؤال الرابع
١٠٣	(علامة) Ca -1 (٢)
١٤٦	(علامتان) (Ag, Ca) -٢
١٤٧	(علامتان) Fe ⁺² / Fe -٢
١٤٢	(علامتان) Mn -٤
١٤٩	(علامتان) -٥
١٤٠	(علامتان) Ag → Ag ⁺ + e ⁻ -٦
١٤٠	(علامتان) Zn -٧
١٤٤	(علامتان) -٨
١١٩	-٩ من نموذج خلية Cu باتجاه نصف خلية Cd (علامة) أو باتجاه الكاديوم Cd
١٣١	(علامة) Q = $\frac{[أ.و.١]}{[أ.و.٢]}$ أو (٢×١) (علامة)
	$E_{الخلية}^{\circ} = E_{القطب}^{\circ} - \frac{0.059}{n} \log Q$
	(علامة) $E_{الخلية}^{\circ} = ٠.٥٠ - \frac{0.059}{٢} \log (٢ \times ١)$
	(علامة) = ٠.٢١ فولت
١٠٢	(علامة) ClO ₂ ⁻ -1 (٤)
١١٤	(علامة) -٢ عدد تأكسد Cl = ٧ + ٧
	-٣ MnO ₄ ⁻ → MnO ₂
	4OH ⁻ + 4H ⁺ + MnO ₄ ⁻ → MnO ₂ + 2H ₂ O + 4OH ⁻
	(علامة) (علامة) (علامة)
	3e ⁻ + 2H ₂ O + MnO ₄ ⁻ → MnO ₂ + 4OH ⁻
	(علامة) (علامة) (علامة)
	3e ⁻ + 4H ⁺ + MnO ₄ ⁻ → MnO ₂ + 2H ₂ O

رقم الصفحة
في الكتاب

تابع السؤال الرابع

١٠٣



رقم الصفحة
في الكتاب

السؤال الخامس

١٦٨	(علامة)	$\text{CH}_3\text{CH}_2\text{Cl}$	= A	(٩)
١٦٩	(علامة)	$\text{CH}_3\text{CH}_2\text{OH}$	= B	
١٧٢	(علامة)	$\text{CH}_3\overset{\text{O}}{\parallel}\text{C}-\text{H}$	= C	
١٧٣	(علامة)	$\text{CH}_3\overset{\text{O}}{\parallel}\text{C}-\text{OH}$	= D	
١٧٥	(علامة)	$\text{CH}_3\overset{\text{OH}}{\mid}\text{C}-\text{H}$	= E	
		\mid CH_3		
١٧٢	(علامة)	$\text{CH}_3\overset{\text{O}}{\parallel}\text{C}-\text{CH}_3$	= F	
١٧٦	(علامة)	$\text{CH}_3\overset{\text{O}}{\parallel}\text{C}=\text{NH}_2$	= G	
١٧٤		$\text{CH}_3\text{CH}_2\text{Cl} + \text{Mg} \xrightarrow{\text{إيثير}} \text{CH}_3\text{CH}_2\text{MgCl}$	(علامة)	(٥)
١٥٩		$\text{CH}_3\text{CH}=\text{CH}_2 + \text{HCl} \rightarrow \text{CH}_3\underset{\text{Cl}}{\text{CH}}\text{CH}_3$	(علامة)	
١٧٩		$\text{CH}_3\underset{\text{Cl}}{\text{CH}}\text{CH}_3 + \text{OH}^- \rightarrow \text{CH}_3\underset{\text{OH}}{\text{CH}}\text{CH}_3$	(علامة)	
١٧٢		$\text{CH}_3\underset{\text{OH}}{\text{CH}}\text{CH}_3 \xrightarrow[\text{H}^+]{\text{K}_2\text{Cr}_2\text{O}_7} \text{CH}_3\overset{\text{O}}{\parallel}\text{C}-\text{CH}_3$	(علامة)	
١٦٤		$\text{CH}_3\overset{\text{O}}{\parallel}\text{C}-\text{CH}_3 + \text{CH}_3\text{CH}_2\text{MgCl} \rightarrow \text{CH}_3\overset{\text{O}^-\text{MgCl}}{\mid}\text{C}-\text{CH}_3$	(علامة)	
		\mid CH_2CH_3		
١٧٥		$\text{CH}_3\overset{\text{O}^-\text{MgCl}}{\mid}\text{C}-\text{CH}_3 + \text{HCl} \rightarrow \text{CH}_3\overset{\text{OH}}{\mid}\text{C}-\text{CH}_3 + \text{MgCl}_2$	(علامة)	
		\mid CH_2CH_3		

تابع السؤال الخامس

(٤)

رقم الصفحة في الكتاب	الأصل ويكتبه	الروتين	وهي المقارنة
١٨٤ ١١٨٩	أ - مخلوكوز (علامة)	عفن أمصلي من نوعه (علامة)	١ - وحدة البناء الأساسية
١٩٤ ١١٨٩	ب - ٤٠٢ (علامة)	بيبتيدية (أصفر) (علامة)	٢ - نوع الرابطة بين الوحدات الأساسية هي الرابطة الببتيدية
١٩٤ ١١٨٩	ج - ٦٥١ (علامة)	هيروكسيمي (علامة)	٣ - نوع الرابطة بين السلاسل

(النتيجة الإجمالية)

السؤال الأول

العلامة

١. لا بد أنك
٢. من $[B] K =$
٣. المقربين
 إيجاد قيمة K بينه وبين
 إذا وضع نيترو K بينه وبين
 الاشارة الى الاستهلاك
٢.
$$\frac{[NO_2] \Delta}{\sim \Delta} \cdot \frac{1}{c} = \frac{[N_2O_5] \Delta}{\sim \Delta}$$
٢. أو
$$\frac{[NO_2] \Delta}{\sim \Delta} = \frac{[N_2O_5] \Delta}{\sim \Delta} \cdot c$$
٢. أو
$$\frac{1}{c} \text{ سرعة استهلاك } N_2O_5 = \frac{1}{c} \text{ سرعة إنتاج } NO_2$$
٢. أو
$$\frac{1}{c} \text{ سرعة استهلاك } N_2O_5 = \frac{1}{c} \text{ سرعة إنتاج } NO_2$$
- إذا لم تذكر الاشارة أو كلمة استهلاك
 فغير علامة
٢. إذا كانت E_a^* للبرز
 إذا كانت E_a^*
 علامة وضع المعدل في البرز
 إذا كانت E_a^* للبرز
 إذا كانت E_a^* للبرز
 E_a للبرز الا ما في أقل E_a للبرز
 سرعة البرز = سرعة البرز
 سرعة البرز
 سرعة البرز
 إذا زعم البرز
 إذا ترك البرز

لا بد أنك
 ٢٧٠
 ٥٥٠

العلامة

السؤال الثاني

- ١ (١) A, C, D, E (١) ليداش
- ١ (٢) B, F, G (١) ليداش
- ١ (٣) C أو E
- ١ (٤) ايجاد EOH^- / اذا افطنا حسب EOH^-
- ١ (٥) التخليق من تعبير Kb / وطبقه ضمنياً (٧)
- ١ ايجاد $N_2H_5^+$ من ضرورة
- ١ اذا ربط بين المحن وقتا معدة من العادة
- ١ حوسبه انه تذكر الحق لم يعمد (لكل زوج)
- ١ الذرات المترابطة بدونه اشياء
- ١ - الطاقة ضرورية
- ١ - القاسون علابه، التعريف علابه
- ١ ايجاد CH_3O^+ علابه
- ١ ايجاد CH_3O^+
- ١ [المحن] = ٥ د س
- ١ [المح] = ا د + س

الجواب الثاني سما K به
حتى لو لم تذكر

اذا حل وتوصل الى انه
 $[NaOH] = ٢٠$ - علابه
 وخطب الالهة تصحيح و B لا
 لم تطبق علابه
 سوار كتب عرابه

السؤال الرابع


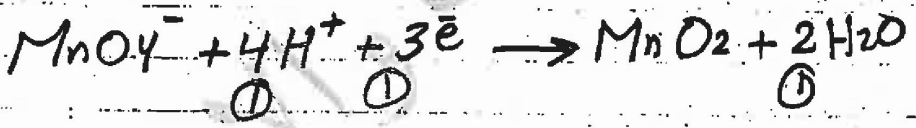
- ١) Ca^{+2}
- ٢) النترات معاً
- ٣) Fe^{+2} أو Fe^{+3}
- ٤) لا بدائين
- ٥) لا بدائين
- ٦) لا بدائين
- ٧) لا بدائين
- ٨) لا بدائين
- ٩) أي اجابة تسري باجابة cd

٢
١
١
١
٢
١

١) مريض
٢) التقويين متى لو استخدم ٥٩٢ د

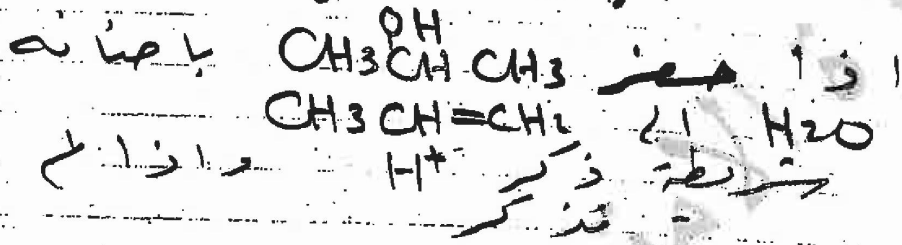
١
٢
١
٢
١

١) الجواب
٢) لا بدائين
٣) لا بدائين
٤) تكتفي بالبرازنه بروسا حينا



السؤال الخامس

تقبل اشعاع بدل H
عند كتابة الصيغة البنائية
ولا تقبل الصيغة بدونه



٢
١
تقبل
تقبل

١- البودات α ضرورية
عند كتابة اربوتية
بنية اربوتية

٣
١
تقبل

٣- البروتين / هيدرومين
اي احيائه

٤- اربوتية
ايزو هيدرومين
هيدرومين
الاسلوبوكية
زارسم صيغة عامة
عفا انما كرمه
لبروتين تقبل