



المادة التعليمية للبرنامج العلاجي المرحلة التحضيرية للعام 2023-2022

مبحث الرياضيات
الصف: السادس الأساسي



المصدر: مادة التعلم المبني على المفاهيم والنتائج
الأساسية لمبحث الرياضيات

العدد الكسري



ماذا سأتعلم؟!

في إحدى التطبيقات الإلكترونية الخاصة بالتسوق عبر الإنترنت يحصل المستخدم على نقطة مقابل كل دينار يتسوق به عبر التطبيق. أحد المستخدمين تسوق بمبلغ $\frac{29}{2}$ دينار؛ فما عدد النقاط التي يحصل عليها؟

- العدد الكسري
- الكسر غير الفعلي

أستخدم القسمة الطويلة لكتابة الكسر غير الفعلي في صورة عدد كسري

أتذكر



مثال (1): أكتب $\frac{17}{6}$ على صورة عدد كسري؟

الحل: أقسم البسط على المقام

ناتج القسمة هو العدد الكلي

$$\begin{array}{r} 2 \\ 6 \overline{) 17} \\ \underline{12} \\ 5 \end{array}$$

المقام

والباقى هو بسط العدد الكسري

$$\frac{17}{6} = 2 \frac{5}{6}$$

الكسر غير الفعلي: كسر

بسطه أكبر من مقامه أو

$$\frac{8}{8}, \frac{13}{7}, \frac{8}{3}$$

يساويه مثل: $\frac{8}{8}, \frac{13}{7}, \frac{8}{3}$

العدد الكسري: يتكون من

جزأين عدد كلي وكسر مثل:

$$8 \frac{9}{13}, 5 \frac{2}{5}$$

أحاول

أكتب الكسور غير الفعلية التالية على صورة عدد كسري:

(1) $\frac{32}{15}$

(2) $\frac{20}{7}$

(3) $\frac{13}{3}$

يمكن كتابة العدد الكسري على صورة كسر غير فعلي كالآتي:

$$\frac{\text{البسط}}{\text{المقام}} = \frac{\text{البسط}}{\text{المقام}} + \frac{(\text{المقام} \times \text{العدد الكلي})}{\text{المقام}}$$

مثال (2): أكتب العدد الكسري $2\frac{5}{7}$ على صورة كسر غير فعلي.

الحل:

$$2\frac{5}{7} = \frac{(2 \times 7) + 5}{7} = \frac{14 + 5}{7} = \frac{19}{7}$$

أضرب العدد الكلي في المقام وأضيف البسط

طريقة أخرى:

أكتب الناتج الكلي
على المقام الأصلي

أكتب العدد الكلي على صورة كسر ثم أجمع الكسور معاً.

$$2\frac{5}{7} = 1 + 1 + \frac{5}{7} = \frac{7}{7} + \frac{7}{7} + \frac{5}{7} = \frac{14 + 5}{7} = \frac{19}{7}$$

أحاول

أكتب العدد الكسري على صورة كسر غير فعلي:

(1) $11\frac{2}{3}$

(2) $1\frac{5}{8}$

(3) $4\frac{2}{9}$

مثال (3): وزعت هديلاً قطعاً من الكيك على طلبة صفها بمناسبة نجاحها؛ فحصل كل طالب على $2\frac{1}{2}$ قطعة من الكيك، أكتب نصيب كل طالب على صورة كسر غير فعلي؟

الحل: أحول $2\frac{1}{2}$ إلى كسر غير فعلي

$$2\frac{1}{2} = \frac{(2 \times 2) + 1}{2} = \frac{5}{2}$$

أضرب العدد الكلي في المقام وأضيف البسط.

أحاول

اشترى يوسف لابنته بنطالاً بقيمة $\frac{19}{2}$ دينار، أكتب ثمن البنطال على صورة عدد كسري.

أختبر تعلمي



- (1) قرأ هيثم $\frac{23}{6}$ كتاباً في أحد الأشهر. كم كتاباً كاملاً أنهى في هذا الشهر؟
(2) تستخدم دينا $1\frac{2}{7}$ كوباً من السكر في إعداد كعكة الكاكو. أكتب كمية السكر على صورة كسر غير فعلي.
(3) أكتشف الخطأ: كتب أحمد و إسراء العدد الكسري $2\frac{1}{3}$ على صورة كسر غير فعلي، أيهما كتبه بصورة صحيحة؟

إسراء

$$2\frac{1}{3} = \frac{7}{3}$$

أحمد

$$2\frac{1}{3} = \frac{6}{3}$$

جمع الكسور والأعداد الكسرية وطرحها



ماذا سَتَعَلِّمُ؟!



أطلقت مدرسة مشروعًا لإعادة تدوير الورق، جمع طلبة الصف الرابع $15\frac{1}{4}$ kg من الورق؛ بينما جمع طلبة الصف الخامس $17\frac{3}{8}$ kg. ما مجموع ما جمعه طلبة الصفين من الورق؟

- جمع الكسور
- طرح الكسور

لجمع الكسور غير المتشابهة وطرحها؛ أكتب الكسور جميعها على شكل كسور متشابهة مستعملًا الكسور المتكافئة.

أَتَذَكَّرُ



مثال (1): أجد ناتج $\frac{3}{10} + \frac{1}{5}$ بأبسط صورة.

الحل:

لجمع كسرين متشابهين؛ أجمع البسط مع البسط ويبقى المقام كما هو.

أجد كسرًا مكافئًا لأحد الكسرين لأحصل على مقامات متشابهة. أكتب $\frac{1}{5}$ على صورة كسر مقامه 10؛ فأضرب البسط والمقام بالعدد 2

$$\frac{3}{10} + \frac{1 \times 2}{5 \times 2} = \frac{3}{10} + \frac{2}{10}$$

أجمع البسطين وأكتب المقام دون تغيير. أكتب الكسر الناتج بأبسط صورة، فأقسم البسط والمقام على العدد 5

$$\frac{5 \div 5}{10 \div 5} = \frac{1}{2}$$

أُحَاوِلُ

أجد ناتج ما يأتي: $\frac{4}{8} + \frac{3}{8}$ بأبسط صورة.

مثال (2): قرأ معن عن أهمية الماء للجسم؛ فقرر أن يكثر من شرب الماء، شرب في اليوم الأول $1\frac{1}{4}$ لترًا، وفي اليوم الثاني $1\frac{1}{2}$ لترًا؛ فكم لترًا شرب خلال اليومين؟

الحل:

لإيجاد كمية الماء التي شربها على مدار اليومين بوحدة اللتر؛ أجد ناتج $1\frac{1}{4} + 2\frac{1}{2}$

أجمعُ الأعداد الكليّة أولاً، ثمّ أجمعُ الكسورَ

$$\begin{array}{r} 1 \frac{1}{4} \\ + 2 \frac{1}{2} \\ \hline 3 \frac{3}{4} \end{array}$$

أجمعُ الأعداد الكليّة

أجمعُ الكسورَ $\frac{1}{4} + \frac{1}{2}$
 أكتبُ $\frac{1}{2}$ على صورة كسرٍ مقامه 4
 أضربُ البسطَ والمقامَ بالعدد 2
 $\frac{1 \times 2}{2 \times 2} = \frac{2}{4}$
 أجمعُ البسطين ويبقى المقام كما هو
 $\frac{1}{4} + \frac{2}{4} = \frac{1+2}{4} = \frac{3}{4}$

إذن، شربَ معنٌ $3 \frac{3}{4}$ لترًا من الماءِ أثناء اليومين

أحاولُ

تقودُ ليلي سيارتها متّجهةً إلى عملها كلّ يومٍ. إذا كانت تقطعُ مسافةً $4 \frac{1}{5}$ كيلو مترٍ ذهابًا ومسافةً $5 \frac{7}{15}$ كيلو مترٍ عند العودَةِ. ما مجموعُ المسافةِ التي تقطعُها ذهابًا وإيابًا؟

مثال (3): أجدُ ناتجَ كلّ ممّا يأتي:

(1) $\frac{3}{4} - \frac{3}{8}$

$$\begin{aligned} \frac{3}{4} - \frac{3}{8} &= \frac{3 \times 2}{4 \times 2} - \frac{3}{8} = \\ &= \frac{6}{8} - \frac{3}{8} = \frac{6-3}{8} = \frac{3}{8} \end{aligned}$$

أكتبُ الكسرَ $\frac{3}{4}$ على صورة كسرٍ مقامه 8

أضربُ البسطَ والمقامَ بالعدد 2

أطرحُ البسطَ من البسطِ

(2) $3 - \frac{3}{4}$

$$\begin{aligned} 3 - \frac{3}{4} &= \frac{3}{1} - \frac{3}{4} \\ &= \frac{3 \times 4}{1 \times 4} - \frac{3}{4} \\ &= \frac{12}{4} - \frac{3}{4} = \frac{9}{4} \\ &= 2 \frac{1}{4} \end{aligned}$$

أكتبُ العددَ الكليّ على صورة كسرٍ بجعلِ المقامِ يساوي 1

أكتبُ الكسرَ $\frac{3}{4}$ على صورة كسرٍ مقامه 4

بضربِ البسطِ والمقامِ بالعدد 4

أطرحُ البسطَ من البسطِ، ويبقى المقامُ كما هو

أكتبُ الكسرَ الناتجَ على صورة عددٍ كسريّ

(3) $3 - 1 \frac{1}{12}$

$$\begin{aligned} 3 - 1 \frac{1}{12} &= 2 \frac{12}{12} - 1 \frac{1}{12} \\ &= 1 \frac{11}{12} \end{aligned}$$

أكتبُ العددَ الصحيحَ على صورة كسرٍ مقامه 12

أطرحُ العددَ الكليّ من العددِ الكليّ والكسرَ من الكسرِ

أجد ناتج ما يأتي:

(1) $\frac{1}{3} - \frac{2}{9}$ (2) $13\frac{1}{4} - 7\frac{2}{12}$ (3) $5 - 2\frac{2}{7}$

أختبر تعلمي




- (1) تقضي سوار $\frac{2}{6}$ من وقتها في الدراسة، و $\frac{7}{18}$ من وقتها في الرسم، ما مجموع ما تقضيه من وقتها في الدراسة والرسم معاً؟
- (2) اشترت شذا قطعة قماش طولها 8 أمتار، استهلكت منها $3\frac{3}{16}$ أمتار لخياطة فستان و $2\frac{1}{8}$ متراً لخياطة بنطال. كم متراً تبقى من القماش؟
- (3) أكتشف الخطأ:
- قال أنس: إن ناتج حل المسألة $\frac{3}{4} + \frac{5}{8}$ هو $\frac{8}{12}$ ، هل إجابته صحيحة؟ أبرر إجابتي.



أجيب وألون

ألون ناتج كل سؤال باللون الآتي:

أحمر: أكتب الكسر $\frac{21}{2}$ على صورة عدد كسري.**أصفر:** أكتب العدد الكسري $8\frac{3}{7}$ على صورة كسر غير فعلي.**بنّي:** لدى عمران 5 لترات من الطلاء، استخدم منها $2\frac{3}{7}$ لتراً؛ فكم يتبقى لديه من الطلاء؟**برتقالي:** ناتج $9 \times \frac{3}{21}$ **وردي:** ناتج $5 \div \frac{2}{7}$ 

المجال الأعداد والعمليات

المحور الكسور العشرية

تقريب الأعداد العشرية

- أقرب الأعداد العشرية إلى أقرب عدد كلي أو إلى أقرب جزء من عشرة أو إلى أقرب جزء من مئة.

أذكر موقفًا حياتيًا قرّبت فيه عددًا عشريًا.

مقارنة الأعداد العشرية وترتيبها

- أقرن الأعداد العشرية وأرتبها.

كيف استخدم القيمة المنزلية لمقارنة الأعداد العشرية؟

العدد العشري

- أتعرف العدد العشري.
- أحوّل من الصورة الكسرية إلى الصورة العشرية.

ما العلاقة بين الكسور العادية والكسور العشرية؟

الضرب في 100, 10، والقسمة عليها

- أجد ناتج ضرب عددٍ عشريّ في 100, 10, 10.
- أجد ناتج قسمة عددٍ عشريّ على 100, 10, 10.

كيف أضرب الأعداد العشرية في 100, 10, 10 وأقسم عليها؟

جمع الأعداد العشرية وطرحها

- أجمع الأعداد العشرية وأطرحها.

كيف أوظف جمع الأعداد العشرية وطرحها في حلّ مسائل حياتية؟





أختبر معلوماتي



(1) أحوّل ما يأتي إلى أعدادٍ كسريّة:

- (أ) 2.7 (ب) 19.04 (ج) 3.56 (د) 0.2

(2) أضع ($>$ أو $<$ أو $=$) في الفراغ بما يعبر عن كلِّ من العبارات الآتية تعبيرًا صحيحًا:

- (أ) 63.50 _____ 63.5 (ب) 15.2 _____ 215 (ج) 12.57 _____ 12.56

(3) يوضّح الجدولُ المجاورُ أسعارَ ألعابٍ اشترتها 4 صديقاتٍ،
أرتّب أسعارَ الألعابِ تنازليًّا.

الاسم	سعرُ اللعبة / دينار
صفاء	9.60
غيداء	8.69
سحر	8.7
كوثر	9.45

(4) (أ) أقربُ العددَ 5.62 إلى أقربِ عددٍ كَلِّيّ.

(ب) أقربُ العددَ 0.24 إلى أقربِ جزءٍ من عشرة.



العدد العشري



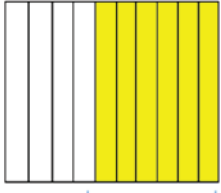
قررت جمعية خيرية توزيع طرود على عائلات محتاجة، فوزعت 568 طردًا من أصل 1000 أكتب ما وزعته الجمعية، على صورة كسر عشري.



ماذا سأتعلم؟!

- الكسر العشري.
- جزء من عشرة.
- جزء من مئة.
- الجزء من الألف
- التحويل

الكسر العشري هو عدد تُستعمل فيه القيمة المنزلية والفاصلة العشرية لتمثيل جزء من كل. مثل: 0.5 ، و 0.17 ، ويسمى العدد 3.8 عددًا عشريًا



$$\frac{6}{10} = 0.6$$

يمكنني استعمال النماذج لكتابة الكسور العادية على صورة كسر عشري.

مثال (1): أكتب الكسر $\frac{6}{10}$ على صورة كسر عشري.

الحل:

أستعمل النماذج.

أظلل 6 أجزاء متساوية من أصل 10 أجزاء، وتعني 6 أعشار.

أحاول

أكتب الكسر $\frac{31}{100}$ على صورة كسر عشري مستعملًا النماذج.

مثال (2): أكتب $\frac{245}{1000}$ على صورة كسرٍ عشريٍّ بالصيغِ القياسيةِ واللفظيةِ والتحليليةِ
الحل:

أستخدمُ لوحةَ المنازلِ

الآحاد	أجزاء العشرة	أجزاء المئة	أجزاء الألف
0	2	4	5

الفاصلة العشرية

الرقم 2 يقع في منزلة أجزاء العشرة، فتكون قيمته المنزلية 0.2

الرقم 4 يقع في منزلة أجزاء المئة؛ فتكون قيمته المنزلية 0.04

الرقم 5 يقع في منزلة أجزاء الألف؛ فتكون قيمته المنزلية 0.005

أكتبُ الكسرَ العشريَّ بالصيغةِ القياسيةِ على الصورةِ 0.245،

وبالصيغةِ اللفظيةِ: مئتان وخمسة وأربعون من ألفٍ،

وبالصيغةِ التحليليةِ $0.2 + 0.04 + 0.005$

$$0.245 = \frac{245}{1000} \quad \text{الأنظ أن}$$

أتذكر

الصيغة القياسية: كتابة الكسر العشري بالأرقام.
الصيغة اللفظية: كتابة الكسر العشري مثلما يُقرأ بالكلمات.
الصيغة التحليلية: كتابة الكسر العشري على صورة قيم منزلية منفصلة بينها رمز (+).

أحاول

أكتبُ $2\frac{45}{1000}$ على صورة عددٍ عشريٍّ بالصيغِ القياسيةِ واللفظيةِ والتحليليةِ.

يمكن تحويل الأعداد العشرية من الصورة العشرية إلى الصورة الكسرية.

مثال (3): قطع أحمدُ بسيارته مسافةً 42.635 كيلومترًا. أكتبُ المسافة التي قطعها أحمدُ على صورة عددٍ كسريٍّ بأبسط صورة.

الحل:

$$42.635 = 42 \frac{635}{1000}$$

أكتبُ 42.635 على صورة عددٍ كسريٍّ مقامه 1000

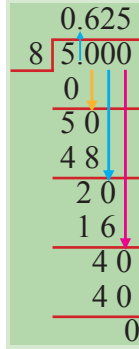
$$42 \frac{635 \div 5}{1000 \div 5} = 42 \frac{127}{200}$$

ثم أكتبُ العددَ الكسريَّ في أبسط صورة

أحاول

استخدمت ريم 16.250 غراماً من المكسرات لتزيين كعكة. أكتب كمية المكسرات التي استخدمتها ريم على صورة عدد كسري في أبسط صورة.

لتحويل الكسور العادية إلى كسور عشرية



الطريقة الثانية:

أستخدم القسمة الطويلة

(1) أقسم البسط على المقام

(2) أكتب المقسوم عليه باستخدام

الفاصلة العشرية $5 = 5.0 = 5.00 = 5.000$

$5 < 8$ ناتج القسمة صفر

(3) أرفع الفاصلة العشرية إلى الناتج

وأنزل صفرًا، ثم أقسم حتى يكون الباقي صفرًا.

الطريقة الأولى:

(1) أكتب الكسر العادي على صورة كسر عادي مقامه 10 أو

100 أو 1000

(2) أكتب الكسر العادي على صورة كسر عشري.

مثال: أحوّل $\frac{5}{8}$ إلى كسر عشري؟

أكتب $\frac{5}{8}$ على صورة كسر مقامه 1000 فأضرب البسط

$$\frac{5 \times 125}{8 \times 125} = \frac{625}{1000}$$

والمقام في 125

أكتب $\frac{625}{1000}$ على صورة كسر عشري $= 0.625$

أحاول 4

أكتب الكسور والأعداد الكسرية الآتية على صورة أعداد عشرية:

(1) $7 \frac{1}{2}$

(2) $3 \frac{1}{4}$

(3) $2 \frac{3}{5}$

(4) $2 \frac{1}{25}$

أقيّم تعلّمي



(1) احتاج طبّاح (سته وثلثين من ألف) من الكيلوغرام من الخميرة لصنع كعكتين. أكتب مقدار

الخميرة التي احتاجها على صورة كسر عشري.

(2) كتلة حبة الفستق حوالي $\frac{6}{1000}$ كيلوغرام. أكتب هذا الكسر على صورة كسر عشري؟

(3) أحوط العدّد المختلف في ما يأتي:

ثلاثون من ألف

0.300

ثلاثة من مئة

0.03

$\frac{30}{1000}$

(4) كتب أوس أن $0.91 = \frac{91}{1000}$ ، هل ما كتبه صحيح؟ أبرر إجابتي.

جمع الأعداد العشرية وطرحها



ماذا سأتعلم؟!



مع رجاء 5 قطع نقدية من فئة ربع الدينار
و 6 قطع نقدية من فئة 10 قروش
وقطعتان من فئة نصف الدينار.
ما مجموع ما معها من نقود؟

جمع الأعداد العشرية
طرح الأعداد العشرية

لجمع الأعداد العشرية وطرحها

أولاً: أرتب الفواصل العشرية فوق بعضها بعضاً.

ثانياً: أكتب أصفاراً حتى يصبح للأعداد عدد المنازل نفسه.

ثالثاً: أجمع أو أطرح من اليمين.

رابعاً: أنزل الفاصلة العشرية في مكانها من الناتج.

مثال (1): أجد ناتج $6.45 + 7.5$

(1)

أرتب الفواصل
العشرية فوق بعضها
 6.45
 $+ 7.5$

(2)

أكتب أصفاراً حتى يصبح
للعددين عدد المنازل نفسه
 6.45
 $+ 7.50$

(3) الحل:

أجمع من اليمين
 6.45
 $+ 7.50$

 13.95

أنزل الفاصلة في مكانها في الناتج

أحاول

أجد ناتج ما يأتي:

(1) $16.5 + 3.254$ (2) $0.361 + 15$ (3) $13.014 + 18.452$

مثال (2): لدى خياطٍ قطعةُ قُماشٍ طولُها 15.67 مترًا، استخدمَ منها 3.5 أمتارٍ لخياطةِ فستانٍ. كم تبقى من قطعةِ القُماشِ؟

الحل:

لإيجادِ المتبقي من القُماشِ أجدُ ناتجَ $15.67 - 3.5$

(1)

أرتبُ الفواصلَ
العشريةَ فوقَ بعضها
15.67
- 3.5

(2)

أكتبُ أصفارًا حتَّى يصبحَ
للعددينِ عددُ المنازلِ نفسهُ
15.67
- 03.50

(3)

أطرحُ من اليمينِ
15.67
- 03.50

12.17

أنزلُ الفاصلةَ في مكانها في الناتجِ

إذن، المتبقي من القُماشِ يساوي 12.17 مترًا.

أحاولُ

لدى فنانةٍ 25.45 مترًا من الخشبِ. إذا قصَّت منها 11.3 مترًا، فكم مترًا بقي لديها؟

أقيّمُ تعلّمي




- (1) في رحلةٍ مدرسيةٍ دفعَ عامرٌ 5.5 دنانيرَ أجرَةَ مواصلاتٍ و 10.75 دنانيرَ للطعامِ. ما مجموعُ ما دفعَهُ عامرٌ؟
- (2) اشترتِ روى جهازَ حاسوبٍ سعرُهُ قبلَ الخصمِ 649.99 دينارًا، إذا كانتِ قيمةُ الخصمِ 52.6 دينارًا، فكم دفعتِ روى ثمنًا للحاسوبِ؟
- (3) طريقٌ طوله 45 كيلومترًا. إذا رصفَ العمالُ في اليومِ الأولِ 11.5 كيلومترًا وفي اليومِ الثاني 13.85 كيلومترًا، فكم كيلومترًا بقي من دونِ رصفٍ؟
- (4) أكتبُ عددًا عشريًا حاصلُ جمعِهِ معَ 2.7 يساوي 4.2 وحاصلُ طرحِهِ منه 1.2
- (5) مسألةٌ مفتوحةٌ: أكتبُ مسألةً أستعملُ فيها عمليةَ الجمعِ بينَ العددينِ 2.5 و 6.99 ثمَّ أجدُ الحلَّ.

الضربُ في 10, 100, 1000 والقسمةُ عليها



ماذا سأتعلّم؟!



تشيرُ إحدى لوائحِ التغذيةِ إلى أنّ قطعةً واحدةً من الشكولاته بالبسكويت والكراميل تحوي 12.5 غراماً من الدهون. كم غراماً من الدهون في 10 قطع؟

ضربُ الأعدادِ العشريةِ في 10, 100, 1000 قسمةُ الأعدادِ العشريةِ على 10, 100, 1000

عند ضرب عددٍ عشريٍّ في 10 أو 100 أو 1000
أحرّك الفاصلةَ العشريةَ إلى اليمينِ بعددِ الأصفارِ.

الضربُ في 1000

أحرّك الفاصلةَ العشريةَ 3 منازلٍ إلى اليمينِ.

مثال:

$$4.527 \times 1000 = 4527.0$$

الضربُ في 100

أحرّك الفاصلةَ العشريةَ منزلتين إلى اليمينِ.

مثال:

$$4.527 \times 100 = 452.7$$

الضربُ في 10

أحرّك الفاصلةَ العشريةَ منزلةً واحدةً إلى اليمينِ.

مثال:

$$4.527 \times 10 = 45.27$$

إذا انتهت المنازلُ العشريةُ في العددِ العشريِّ عند ضربهِ في 10 أو 100 أو 1000 فأضعُ صفرًا أو أكثرَ على يمينِ آخرِ رقمٍ ليتمَّ العددُ المطلوبُ من المنازلِ.

مثال: $12.7 \times 1000 = 12700$

أحاولُ

أجدُ ناتجَ ما يأتي:

(1) 2.9×10

(2) 0.256×100

(3) 55.9×1000

مثال (2): استأجر أوسٌ وعائلتهُ غرفةً في مدينةِ العقبةِ مدّة 10 أيامٍ. إذا كانت تكلفهُ اليوم الواحد 15.50 ديناراً، فكَم المبلغُ الذي سيدفعُهُ؟

الحل: لإيجادِ المبلغِ الذي سيدفعُهُ أوسٌ أجدُ ناتجَ 15.50×10

أحرّكُ الفاصلةَ العشريةَ منزلةً إلى اليمينِ
 $15.50 \times 10 = 155.0$
 إذن، سيدفعُ أوسٌ للفندقِ 155 ديناراً.

أحاولُ

اشترتِ إسرائُ 10 أقلامٍ، سعرُ القلمِ الواحدِ 0.15 ديناراً. كم سعرُ الأقلامِ جميعها؟

**عندَ قسمةِ عددٍ عشريٍّ على 10 أو 100 أو 1000
 أحرّكُ الفاصلةَ العشريةَ إلى اليسارِ بعددِ الأصفارِ.**

القسمةُ على 1000

أحرّكُ الفاصلةَ العشريةَ 3
 منازلٍ إلى اليسارِ.

مثال:

$$938.7 \div 1000 = 0.9387$$

القسمةُ على 100

أحرّكُ الفاصلةَ العشريةَ
 منزلتينِ إلى اليسارِ.

مثال:

$$938.7 \div 100 = 9.387$$

القسمةُ على 10

أحرّكُ الفاصلةَ العشريةَ
 منزلةً واحدةً إلى اليسارِ.

مثال:

$$938.7 \div 10 = 93.87$$

إذا انتهتِ المنازلُ العشريةُ في الكسرِ العشريِّ عندَ قسمتهِ على 10 أو 100 أو 1000 ، فأضعُ صفراً أو أكثرَ على يسارِ آخرِ رقمٍ ليتمَّ العددُ المطلوبِ مِنَ المنازلِ.

مثال: $12.7 \div 1000 = 0.0127$

أحاولُ

أجدُ ناتجَ ما يأتي:

(1) $16 \div 100$

(2) $789.3 \div 1000$

(3) $2.36 \div 100$

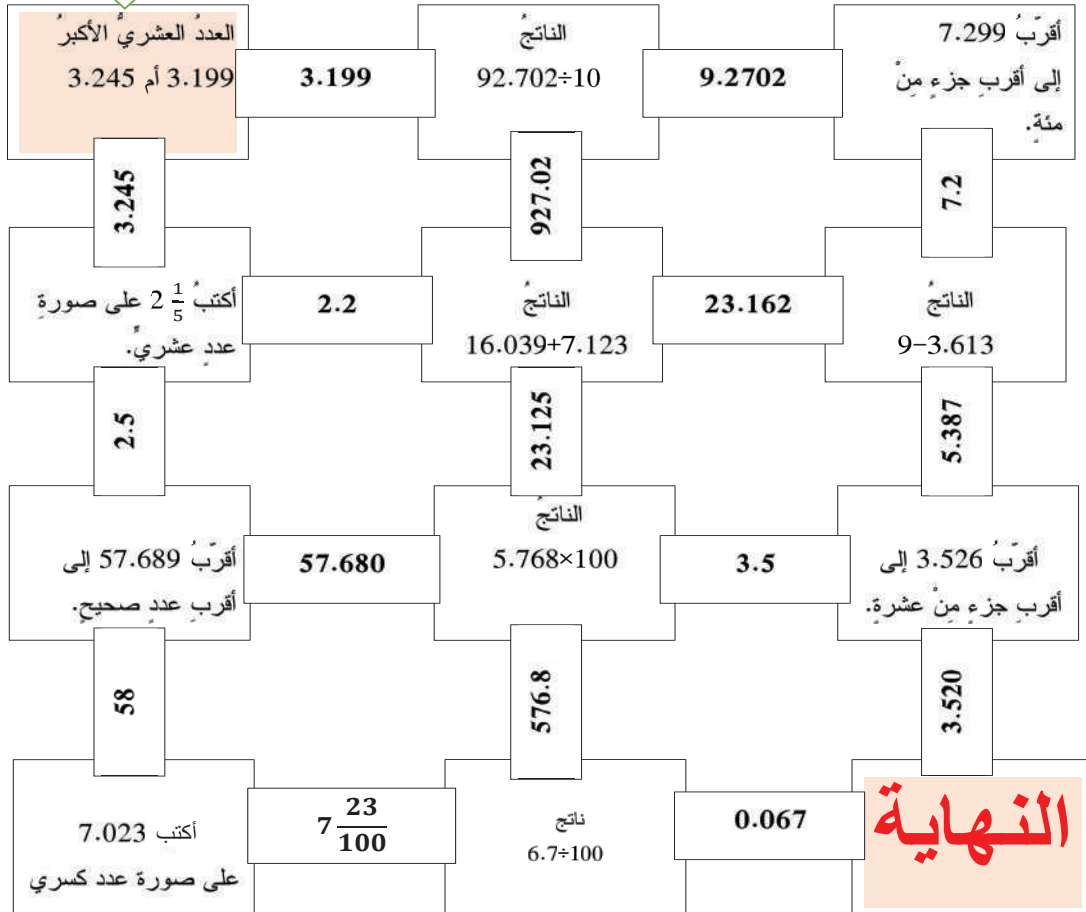


- (1) لدى حسام 105.7 لترات من الزيت يريد توزيعها على 100 عبوة بالتساوي. كم لترًا يضع في كل عبوة؟
- (2) يحتاج دهان إلى 0.76 لترًا من الدهان لطلاء طاولة. كم مقدار الدهان الذي يحتاجه لطلاء 100 طاولة؟
- (3) أعطت إيمان $\frac{1}{10}$ ممّا في حصالتها إلى أختها. إذا كان في الحصالة 52.7 دينارًا، فكم أعطت لأختها؟
- (4) أكتشف الخطأ: وجدت نبراس أن $0.123 = 100 \div 1.23$ أكتشف الخطأ، وأصحّهُ.

البداية

المتاهة

أجيب عن الأسئلة داخل المتاهة لأصل إلى نقطة النهاية:




المعادلة وطُها



ماذا سأتعلم؟!

في صحنٍ بعضُ قطعِ الحلوى، إذا أكلَ سعدٌ 4 قطعٍ منها وبقيَ في الصحنِ 8 قطعٍ، فكَم قطعةً من الحلوى كانت في الصحنِ؟



* المعادلةُ
* حلُّ المعادلةِ

إذا كانت كتلة الأرنب n كيلو غرامًا؛ فيمكن التعبير عن وضع الميزان في الحالة الأولى بالعلاقة $n+3=5$ ، وهذه العلاقة الرياضية تسمى **معادلة**، لأنَّ هناك تعادلًا أو تساويًا بين مقدارين. وإذا كانت كتلة البطيخة y كيلو غرامًا؛ فيمكن التعبير عن وضع الميزان في الحالة الثانية بالعلاقة $y+2=5$ وتسمى أيضًا معادلة.

إذن، المعادلةُ هي جملة رياضية تتكون من طرفين يربط بينهما رمز (=) أما حلُّ المعادلة فهو إيجاد قيمة المجهول (المتغير) الذي يحتويه المعادلة.

مثال (1): أحلّ كلاً من المعادلات الآتية، ثمّ أتحقّق من صحة الحلّ.

الحلّ:

(1) $4 + y = 9$

(2) $2 \times m = 20$

أفكّر:

ما العدد الذي إذا أضيف
إلى 4 أصبح الناتج 9؟

الطريقة (1):

الحساب الذهني

$$4 + y = 9$$

$$4 + 5 =$$

$$y = 5 \text{ إذن}$$

أفكّر:

أكتب جملة طرح مرتبطة
بجملة الجمع.

الطريقة (2):

استعمال العلاقة بين الجمع والطرح

$$y = 9 + 4$$

$$y = 9 - 4$$

إذن $y = 5$ هو حل المعادلة

أتحقّق: أ عوض عن المتغير y بالعدد 5 في

$$\text{المعادلة } 4 + y = 9$$

$$\text{المساواة صحيحة } 4 + 5 = 9$$

(2) $2 \times m = 20$

أفكّر:

ما العدد الذي إذا ضرب في
2 أصبح الناتج 20؟

الطريقة (1):

الحساب الذهني

$$2 \times m = 20$$

$$2 \times 10 = 20$$

$$m = 10 \text{ إذن}$$

أفكّر:

أكتب جملة قسمة مرتبطة
بجملة الضرب

الطريقة (2):

استعمال العلاقة بين الضرب والقسمة

$$2 \times m = 20$$

$$m = 20 \div 2$$

إذن $m = 10$ هو حل المعادلة.

أتحقّق: أ عوض عن المتغير m بالعدد 10 في

$$\text{المعادلة } 2 \times m = 20$$

$$2 \times 10 = 20$$

المساواة صحيحة.

أتعلم
 $5y = 5 \times y$

أحاول

أحلّ المعادلات الآتية، ثمّ أتحقق من حلّي؟

1) $5 \times L = 30$ 2) $14 - x = 8$ 3) $28 \div y = 4$

مثال (2): تبرّع ياسرٌ بأربعة أمثال ما تبرّع به سليمان، إذا تبرّع ياسرٌ بـ 40 ديناراً، فما المبلغ الذي تبرّع به سليمان؟

الحل:

أفرض أنّ ما تبرّع به سليمان y فيكون المبلغ الذي تبرّع به ياسرٌ $4 \times y = 40$

أفكر:

ما العدد الذي إذا ضرب في 4 يكون الناتج 40؟

$$4 \times y = 40$$

$$4 \times 10 = 40$$

$$\text{إذن } y = 10$$

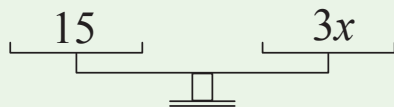
أحاول

لدى أشرف 74 رسالة في بريده الإلكتروني، قرأ منها 35 رسالة. أكتب المعادلة التي تعبّر عن عدد الرسائل التي لم يقرأها أشرف، وأحلّها؟

أقيّم تعلّمي



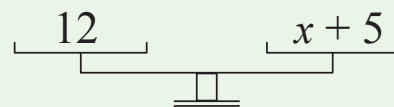
(1) في كلّ من الشكلين الآتيين نجد كفتي الميزان متعادلتين، أكمل البطاقتين اللتين تليان:



المعادلة هي:

حلّ المعادلة:

الشكل (2)




المعادلة هي:

حلّ المعادلة:

الشكل (1)

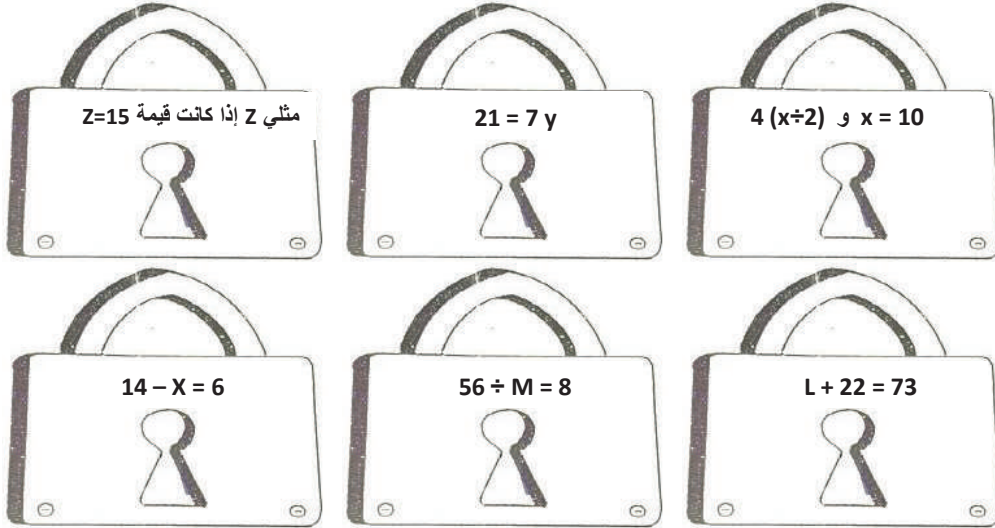
(2) أكتشف الخطأ: عبّر كلٌّ من عبدِ الله وحنان عن (19 مطروحًا من عددٍ يساوي 12) بمعادلةٍ وحلّها. أيُّهما إجابتهُ صحيحةٌ؟



(3) أكتب معادلتَي قسمةٍ يكونُ الحلُّ لكلِّ منهما 8

لعبةُ المفتاحِ والقفلِ

أجدُ ناتجَ ما يأتي، ثمَّ ألصقُ المفتاحَ بجانبِ قفلهِ وألونهُ باللونِ نفسه:



أضعُ مسألةً على القفلِ يكونُ حلُّها العددُ الموجودُ على المفتاحِ الذي ليسَ لهُ قفلٌ:

