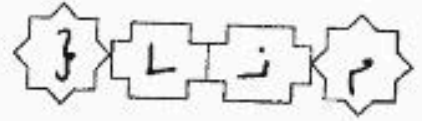


بِسْمِ اللَّهِ الرَّحْمَنِ الرَّحِيمِ



المملكة العربية السعودية
وزارة التربية والتعليم
إدارة الامتحانات والاختبارات
قسم الامتحانات العامة



امتحان شهادة الدراسة الثانوية العامة لعام ٢٠١٥ / الدورة الصيفية

من

مدة الامتحان : ٣٠ : ١

اليوم والتاريخ : الخميس ٢٥ / ٦ / ٢٠١٥

(ولغة عمية/محدود)

المبحث : الجغرافيا / المستوى الثالث + الجغرافيا الإضافية
الفرع : الأبي + الفندق والسياحي (نفس الورقة الامتحانية)

ملحوظة : أجب عن الأسئلة الآتية جميعها وعددها (٥)، علماً بأن عدد الصفحات (٣).

السؤال الأول : (١٦ علامة)

عرف المفاهيم والمصطلحات الآتية:

١- الخرائط الطبوغرافية.

٢- درجة الانحدار.

٣- النهر.

٤- المراوح الفيضية.

٥- الأمن القومي العربي.

٦- مستزعات الإنتاج.

٧- صناعات قادة التوطن.

٨- ارسابات اللوس.

السؤال الثاني : (١٥ علامة)

فسر ما يأتي:

١- تُعد الحدود السياسية ظاهرة بشرية.

٢- تتغير أحجام الصخور بتعاقب الحرارة والبرودة.

٣- اختييار الأنهار كمؤشر على شدة تقطع سطح الأرض.

٤- نشأة الحماد في المناطق الجافة ذات السطح المنبسط.

(٤ علامات)

(٤ علامات)

(٣ علامات)

(٤ علامات)

يتبع الصفحة الثانية/ ١١١

الصفحة الثانية

السؤال الثالث : (٢٠ علامة)

(١٠ علامات)

أ) أعط مثالا لكل مما يأتي:

- ١- منظمة عالمية سياسية.
- ٢- منظمة إقليمية.
- ٣- صناعات تحويلية عربية.
- ٤- دولة تحتوي على توازن عرقي بين مجموعتين عرقيتين.
- ٥- أحواض نفطية عربية.

ب) لنقل إلى دفتر إجابتك الجدول أدناه، ثم صنّف ما يأتي بما يناسبه في الجدول (إقليم الغابات المطيرة، نطف، فحم حجري، أراضي ما بين الأودية، الولايات المتحدة الأمريكية، الحافلات الصدمية الحديثة). (١٠ علامات)

إقليم سياسي	إقليم جغرافي	مصادر طاقة غير متجددة	أشكال أرضية متبقية	أشكال أرضية ناتجة عن عاملين

السؤال الرابع : (١٨ علامة)

أ) انكر:

(٤ علامات)

١- أربعا من سبل تحقيق الأمن المائي العربي.

(٤ علامات)

٢- أشكال الإرساب النهري.

(٣ علامات)

ب) ما أبرز إنجازات ابن سينا في الفكر الجيومورفولوجي ؟

ج) وضّح:

(٤ علامات)

١- أثر انخفاض نسبة الاكتفاء الذاتي من المواد الغذائية الرئيسة على الأمن الخارجي للوطن العربي.

(٣ علامات)

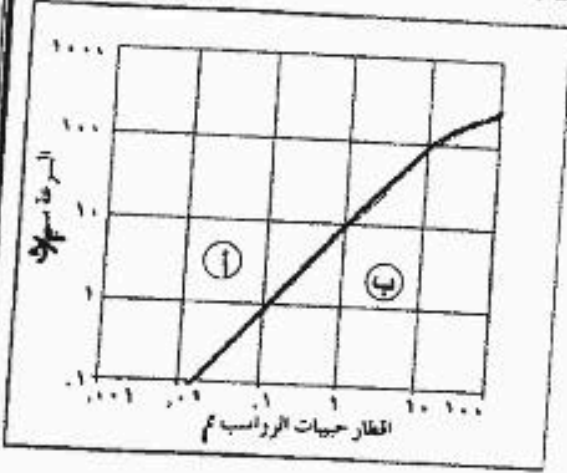
٢- العلاقة بين علم الجيومورفولوجيا والخرائط الطبوغرافية.

يتبع الصفحة الثالثة/،،،،،

الصفحة الثالثة

السؤال الخامس : (١١ علامة)

(٣ علامات)



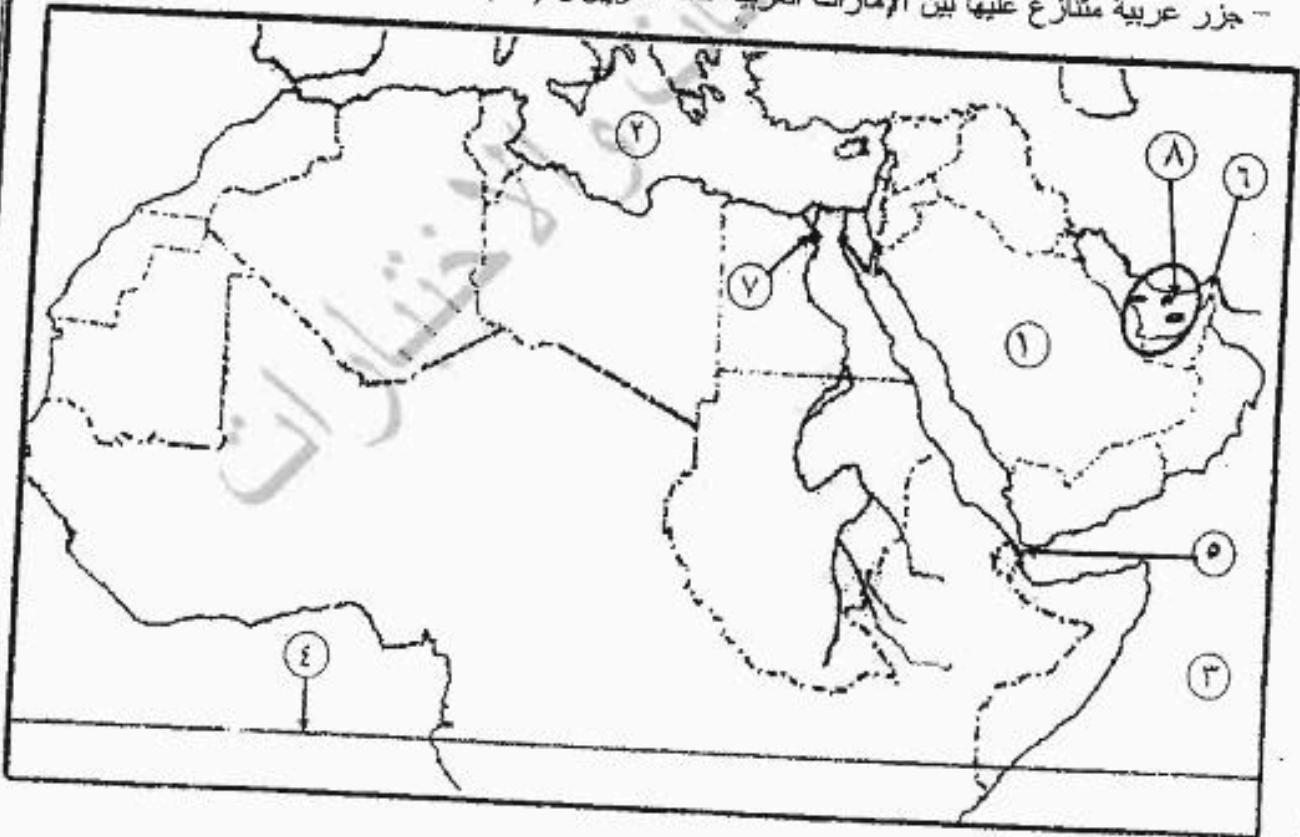
(أ) ادرس الشكل المجاور، ثم أجب عن الأسئلة التي تليه:

- ١- ماذا تسمى العملية المشار إليها بالرمز (أ) .
- ٢- ماذا تسمى العملية المشار إليها بالرمز (ب) .
- ٣- ما مقدار السرعة العرجة لراسب حجمه ١ ملم .

(٨ علامات)

(ب) ادرس خريطة العالم أثناءه، ثم اكتب في دفتر إجابتك ما تشير إليه الأرقام الآتية:

- دولة عدلت حدودها مع الأردن (١) .
- مسطحات مائية (٢ ، ٣) .
- دائرة عرض رئيسية (٤) .
- مضائق وممرات (٥ ، ٦) .
- مدينة عربية فيها مقر جامعة الدول العربية (٧) .
- جزر عربية متنازع عليها بين الإمارات العربية المتحدة وإيران (٨) .



﴿ انتهت الأسئلة ﴾



المبحث: الجغرافيا المستوية الثالث
القرع: الأردن والقدس والسيهبي

مدة الامتحان: ٣٠
التاريخ: ١٦/٥/١٥

الإجابة النموذجية:

١٦. الزراعة (١٦ علامة)

عرف المصطلح والمصطلح الآتية:

١- المزارع الطبيعية: هي مناطق على منحدرات منخفضة من تلالها، سطحها من الطبيعة البنية وفقدت قابليتها كيميائية لتقبل المياه الجوفية التي لا تتسرب منها المياه الجوفية. (١٦ علامة)

٢- دقة الزراعة: الزراعة التي لا تستخدم الآلات الزراعية بل تعتمد على اليد العاملة في حراثة الأرض وريها. (١٦ علامة)

٣- المزارع الطبيعية: هي المزارع التي لا تستخدم الآلات الزراعية بل تعتمد على اليد العاملة في حراثة الأرض وريها. (١٦ علامة)

٤- المزارع الطبيعية: هي المزارع التي لا تستخدم الآلات الزراعية بل تعتمد على اليد العاملة في حراثة الأرض وريها. (١٦ علامة)

٥- المزارع الطبيعية: هي المزارع التي لا تستخدم الآلات الزراعية بل تعتمد على اليد العاملة في حراثة الأرض وريها. (١٦ علامة)

٦- المزارع الطبيعية: هي المزارع التي لا تستخدم الآلات الزراعية بل تعتمد على اليد العاملة في حراثة الأرض وريها. (١٦ علامة)

٧- المزارع الطبيعية: هي المزارع التي لا تستخدم الآلات الزراعية بل تعتمد على اليد العاملة في حراثة الأرض وريها. (١٦ علامة)

رقم الصفحة
في الكتاب

السؤال الثالث : c. علامته

١- اعلط طلاله -
وعلاشان نكل مشان

٩٦ - منجزة طالمية - ياسية - عصبه لائم - هجوة لام
٩٩ - دول ليم الاطمان

١٠٣ - منجزة اقلية -
١٠٨ - صافقه لاول اللبية
- المتجار الوردية

- منجزة الاطمان الحصر والنقار اربيل
- منجزة لقمم الجوار
- حله شان الاطمان لائق

١٢٢ - صناعه كويله عريه -
الصناعات النامية باح الكليه
المسك طاك والملايين المعبدات والباك والنقل

١١٦ - د لولة منق قوايه شري بينه كنده عريه -
٥) بلجيا

١٥٩ - اصراض نفا عريه -
١٥) صنف ما يات - عرض سنين - حقوق اشهاد لادرسه لفرقة

١٧ - قبال ارضيه نالجه عريه -
الحافات لصدية اقلية

١٦ - اقلية اقلية سيقية -
ارضيه ما بينه عريه

١٤٢ - صوره طاقه عريه -
نقطه - اشجيرة

٧٧ - اقلية عريه -
اقلية القاتل اقلية

٧٧ - اقلية عريه -
الدلايات اقلية الاقلية

١٠٥١

رقم الصفحة
في الكتاب

التعاليم الرابع :- (١٨) علائق

٢ اذكري

١٢-١١

١- اجمعوا من سبل قصبة الزئبق لما في العزيب
 ٢- حل بخلقات العزيب هذه تقسم لعماد وحل لخموات
 المصقاة باقتسام مياه البلاغ التوليدية
 ٣- الصلح في مرض استبدال المؤر لما في المراجعة
 ٤- الصلح في مرض عارذ موديع من فلال اوبار اجساد
 واستكشافات في لاجداد فزانات مياه موديع موديع
 ٥- اذكري مسائر وتقنيات للاكتشاف في مياه الارضا من
 فلال الاخطار والكساد المائي
 ٥- الصلح في نقل مياه العزيب الى اراضي المزارع
 الصلح في تقاني به تقص حاد في كور الخبيث الموديع

٤ علائق

٥- اذكري الاسباب الفيزيائية - السبب الفيزيائية الفيزيائية
 ٦- الاسباب الفيزيائية - بطاوع الفيزيائية

٥٨-٥٥

٤ علائق

(ب) ما أثرنا في انبات ابيد سينا في الفكر الجيولوجي
 تقسيم اقسام الارض حسب احوالها في التسمية : من غير فلال
 بالظهور الجيولوجي والاسم في فلالها من فلالها
 كما اورد ابيد سينا أهمية الاسم او الظهور الجيولوجي في فلالها

٣ علائق

(ج) وظن

١٢٨
 اذكري ابيد سينا في فلالها في التسمية ابيد سينا
 الجيولوجية والقائمة بالاسم في التسمية ابيد سينا
 في فلالها في فلالها في فلالها في فلالها
 في فلالها في فلالها في فلالها في فلالها

٤ علائق

٣ علائق

