

الدراسات الاجتماعية

مصر بيناتنا وتاريخنا الحديث

تأليف

أ. د. إسماعيل زين الدين

أستاذ التاريخ - كلية الآداب - جامعة القاهرة

أ. د. أحمد ماهر عبد الله

أستاذ المناهج وطرق تدريس الجغرافيا - جامعة بنها

د. مروة حسين إسماعيل طه

مدرس المناهج وطرق تدريس الجغرافيا -

كلية البنات - جامعة عين شمس

أ. محمد إبراهيم محمد خطاب

مدرس مساعد الجغرافيا - كلية الآداب -

جامعة القاهرة

أ. د. محمد صبرى محسوب

أستاذ الجغرافيا - كلية الآداب - جامعة القاهرة

أ. د. أحمد إبراهيم شلبي

أستاذ المناهج وطرق تدريس الجغرافيا -

جامعة عين شمس

د. السيد محمد منصور

أستاذ مساعد المناهج وطرق تدريس علم النفس

والاجتماع - جامعة بنها

د. محمد أحمد عبد الهادي

خبير البيئة والمناهج والمواد التعليمية

لجنة التعديل والمراجعة

د. شيرين على جاد

خبير بمركز تطوير المناهج والمواد التعليمية

أ. ميرفت عبد النبي سيد

خبير بمركز تطوير المناهج والمواد التعليمية

أ. وليد سيد سالم محمد

اخصائى ثانوى بمكتب المستشار

أ. يحيى على أبو طالب

مستشار الدراسات الاجتماعية

أ. سعيد عبد الحميد عبد القادر

مراجعة لغوية

د. ثناء أحمد جمعة

خبير بمركز تطوير المناهج والمواد التعليمية

د. وصى حكيم لوزير

خبير بمركز تطوير المناهج والمواد التعليمية

أ. سمير محمود الشرقاوى

موجه ثانوى بمديرية التربية والتعليم بالدقهلية

الإشراف التربوى

أ. د. محمد رجب فضل الله

المشرف العام على مركز تطوير المناهج والمواد التعليمية

٢٠١٣/٢٠١٤ م




..... : الاسم

..... : المدرسة

..... : الفصل

..... : العنوان

..... : العام الدراسي



المقدمة

عزيزى التلميذ / عزيزتى التلميذة

يسعدنا أن نقدم لك كتاب الأنشطة والتدريبات لمادة الدراسات الاجتماعية الصف السادس الابتدائى . الفصل الدراسى الثانى ويتضمن أنشطة متنوعة فردية وجماعية. تراعى الفروق الفردية وتؤكد على تنمية مهارات التفكير وتشجع على التعلم الذاتى والتعلم التعاونى. كما يتضمن مجموعة من التدريبات تغطى مضمون الدروس والوحدات . بالإضافة إلى تدريبات عامة فى نهاية الفصل الدراسى الثانى ونماذج متعددة ومتنوعة من الاختبارات.

ويهدف هذا الكتاب إلى مساعدتك على:

- ✿ تطبيق ما تعلمته من معارف ومهارات وقيم.
- ✿ التحقق من مدى فهمك المتعمق لمحتوى الكتاب المدرسى.
- ✿ الاستغناء عن الكتاب الخارجى وعدم اللجوء إلى الدروس الخصوصية.
- ✿ اكتشاف جوانب القوة لديك وتدعيمها.
- ✿ اكتشاف نواحي القصور ومعالجتها.

وأخيراً نأمل أن يجعلك هذا الكتاب محباً لمادة الدراسات الاجتماعية وحريصاً على تعلمها من أجل مزيد من التفوق والتقدم والنجاح .

والله من وراء القصد وهو الهادى إلى سواء السبيل

لجنة التعديل والمراجعة



الصفحة	المقدمة
	الوحدة الأولى البيئة الصحراوية
١	الدرس الأول الخصائص الطبيعية للبيئة الصحراوية
٦	الدرس الثاني الخصائص السكانية للبيئة الصحراوية
١١	الدرس الثالث الأنشطة الاقتصادية في البيئة الصحراوية
١٦	الدرس الرابع تنمية البيئة الصحراوية
٢٠	تدريبات عامة على الوحدة الأولى
	الوحدة الثانية البيئة المحلية الساحلية
٢٣	الدرس الأول الخصائص الطبيعية للبيئة الساحلية
٢٩	الدرس الثاني الخصائص السكانية للبيئة الساحلية
٣٣	الدرس الثالث الموارد والأنشطة الاقتصادية في البيئة الساحلية
٣٧	تدريبات عامة على الوحدة الثانية
	الوحدة الثالثة بناء الدولة الحديثة وأحداث من التاريخ المصري الحديث والمعاصر
٤٠	الدرس الأول محمد علي (١٨٠٥ - ١٨٤٨ م)
٤٧	الدرس الثاني الحركة الوطنية ومقاومة الإحتلال البريطاني
٥٥	الدرس الثالث سعد زغلول باشا (ثورة ١٩١٩ م)
٦١	الدرس الرابع طلعت حرب باشا
٦٦	تدريبات عامة على الوحدة الثالثة
	الوحدة الرابعة التحولات السياسية والاقتصادية والاجتماعية في مصر خلال الفترة من ١٩٥٢ : ٢٥ يناير ٢٠١١ م
٦٨	الدرس الأول ثورة ٢٣ يوليو ١٩٥٢ م
٧٣	الدرس الثاني حرب أكتوبر (ملحمة العبور) ١٩٧٣ م
٧٨	الدرس الثالث ٢٥ يناير (الحرية والكرامة) ٢٠١١ م
٨٣	تدريبات عامة على الوحدة الرابعة
٨٦	تدريبات عامة على الفصل الدراسي الثاني
١٠٢	نماذج امتحانات للفصل الدراسي الثاني



البيئة الصحراوية

الخصائص الطبيعية للبيئة الصحراوية

أولاً : الأنشطة المصاحبة



نشاط (١) لون وسجل

على خريطة مصر الصماء التي أمامك وباستخدام الألوان الخشبية لون المناطق الصحراوية في مصر ثم سجل أسمائها على الخريطة .

نشاط (٢) وزع ولون

على خريطة مصر الصماء التي أمامك وباستخدام الألوان المختلفة لون الظاهرات الجغرافية الآتية مع كتابة اسمها على الخريطة .



١- الواحات الخارجة .

٢- جبل علبة .

٣- وادى قناة .

٤- جبل الشايب .

٥- بحر الرمال العظيم .

٦- هضبة الجلالة البحرية .

نشاط (٣) فكر واستبعد

ضع دائرة حول اسم الظاهرة التي لا تنتمى للمجموعة مع ذكر السبب :

١- مارمريكا - العوينات - الجلف الكبير

٢- الحمامات - العبايده - المعازة

٣- سانت كاترين - أم شومر - التيه

٤- العجمه - الجدى - بحر الرمال العظيم

٥- حماطة - الجلالة البحرية - القطارة

نشاط (٤) اكشف الخطأ

(قام شاب بإقامة مشروع فى مجرى وادى العريش)

على ضوء ذلك حدود

أ- الخطأ الذى قام به

ب- الخطر الذى يمكن أن يواجهه

ج- ما النصيحة التى تقدمها له وكيف يزيل هذا الخطر

نشاط (٥) اكتشف كلمة السر

أمامك مجموعة من الحروف اشطبها لتكون الكلمات الدالة على العبارات الآتية ، ثم يتبقى لديك مجموعة من الحروف رتبها واكتشف كلمة السر .

ل	غ	ا	ب	ا
آ	ب	ز	م	ا
ر	ا	ا	ص	غ
د	ر	ل	ا	ل
د		ر	ة	م

١- حيوان برى سريع الجرى يعيش فى البيئة الصحراوية .

٢- إحدى النباتات الشوكية التى تتحمل الجفاف .

٣- مصدر للمياه الجوفية فى الواحات .

٤- أحد الجبال القبابية قليلة الارتفاع فى شمال سيناء .

كلمة السر :

ثانياً : الأنشطة الإثرائية

نشاط (١) فكر واكتب

أمامك مجموعة من الحروف كون منها أكبر عدد من الكلمات التى تدل على البيئة الصحراوية ثم اكتب فيما لا يقل عن خمسة أسطر عن الخصائص الطبيعية للبيئة الصحراوية مستخدماً الكلمات التى كونتها .

ا	ب	ح	ر	ص	ل	م	د	و	ة
---	---	---	---	---	---	---	---	---	---

نشاط (٢) صمم وتعلم

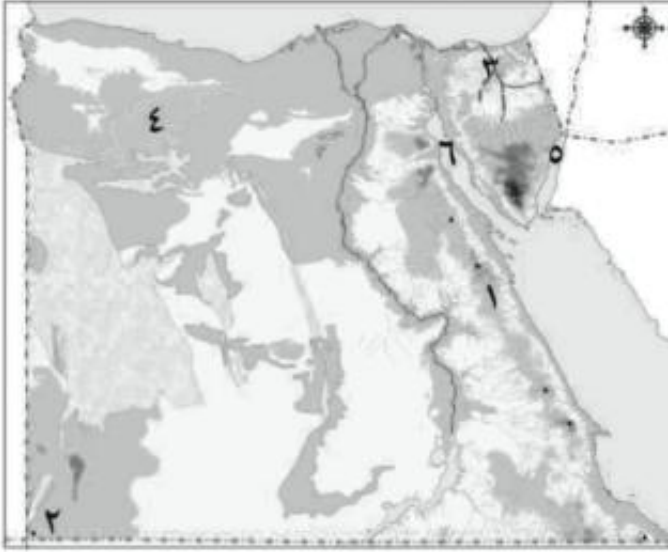
بالاشتراك مع زملائك قم بعمل خريطة مجسمة توضح فيها مظاهر السطح فى كل من الصحراء الشرقية والصحراء الغربية باستخدام الصلصال .

نشاط (٣) العب وصمم

صمم مجسم يوضح عناصر البيئة الصحراوية مستخدماً خامات البيئة من حولك .
الأدوات :

- ١- قطعة كارتون أو فل .
- ٢- رمل أصفر .
- ٣- غراء .
- ٤- نبات بلاستيك (صبار ، نخيل) .
- ٥- أغنام وماعز (بلاستيك) .
- ٦- سيقان كبريت .
- ٧- قطعة قماش أسود لعمل الخيمة .

ثالثاً: التدريبات



خريطة مصر

السؤال الأول:

اكتب مدلول الأرقام التالية

- (١) سلاسل جبال.....
 (٢) جبل.....
 (٣) وادي.....
 (٤) منخفض.....
 (٥) خليج.....
 (٦) خليج.....

السؤال الثاني:

ضع علامة (✓) أمام العبارة الصحيحة وعلامة (✗) أمام العبارة غير الصحيحة فيما يلي:-

- () (١) تقع الصحراء الشرقية ما بين البحر المتوسط شمالاً وخليجي العقبة والسويس جنوباً.
 () (٢) يعتمد سكان الواحات على المياه الجوفية في الزراعة.
 () (٣) من أشهر جبال شبه جزيرة سيناء جبل سانت كاترين وجبل الشايب وجبل علبة.
 () (٤) تتميز الصحراء الغربية بوجود المنخفضات والأشكال الرملية التي لا توجد في الصحراء الشرقية وشبه جزيرة سيناء.
 () (٥) يوجد وادي قنا في الصحراء الشرقية بينما يوجد وادي العريش في الصحراء الغربية.

السؤال الثالث :

أكمل العبارات الآتية بكلمات مناسبة .

- ١ - يهتم البدو بتربية الأغنام والماعز من أجل و.....

- ٢ - تهب الرياح الحارة المحملة بالأتربة على الوادى والدلتا فى فصل وتعرف باسم
- ٣ - التربة فى البيئة الصحراوية قليلة الجودة بسبب
- ٤ - من أكبر محافظات الصحراء الشرقية مساحة محافظة بينما محافظة من أكبر محافظات الصحراء الغربية مساحة .
- ٥ - تنمو فى البيئة الصحراوية بعض النباتات الطبيعية منها و

السؤال الرابع : ما النتائج المترتبة على

١ - قلة الأمطار فى البيئة الصحراوية .

.....

٢ - وجود الآبار والعيون المائية داخل الواحات بالمنخفضات .

.....

٣ - انتشار التربة الرملية الصفراء فى البيئة الصحراوية

.....

السؤال الخامس : قارن بين :

الصحراء الشرقية والصحراء الغربية من حيث

(الموقع والامتداد - المساحة - أهم مظاهر السطح)

وجه المقارنة	الصحراء الغربية	الصحراء الشرقية
الموقع والامتداد
المساحة
أهم مظاهر السطح

الخصائص السكانية للبيئة الصحراوية

أولاً : الأنشطة المصاحبة



نشاط (١) حدد ولون

على خريطة مصر الصماء التي أمامك لون محافظات الحدود ثم حدد مناطق تركيز السكان بها.


نشاط (٢) لاحظ واستنتج

لاحظ الرسم البياني الذي أمامك ثم استنتج ما يلي :

- أكبر واحات الصحراء الغربية سكاناً

- أقل واحات الصحراء الغربية سكاناً

سبب تركيز السكان في واحات الصحراء الغربية



نشاط (٣) فكر وصنف

مستعيناً بالكتاب المدرسي صنف عادات وتقاليد سكان البيئة الصحراوية إلى عادات إيجابية وعادات سلبية في الجدول التالي :

عادات وتقاليد سكان البيئة الصحراوية	
العادات السلبية	العادات الإيجابية

نشاط (٤) فكر و صنف

أمامك مجموعة من خصائص سكان البيئة الصحراوية صنفها فى الجدول التالى :

- انخفاض مستوى المعيشة
- إنشاء المدارس والجامعات
- المهارة فى اقتفاء الأثر
- العمل بالرعى
- الترابط الأسرى

خصائص اقتصادية	خصائص تعليمية	خصائص اجتماعية

نشاط (٥) فكر و سجل :

من واجبي أن	قدمت لي الدولة
<ul style="list-style-type: none"> • أحافظ على نظافة بيئتي. • أتقن العمل المكلف به. 	<ul style="list-style-type: none"> • الخدمات الصحية • التعليم • الخدمات الأمنية

ثانياً : الأنشطة الإثرائية

نشاط (١) اجمع وسجل :

بالاستعانة بمكتبة المدرسة وشبكة المعلومات الدولية اجمع معلومات عن أهم الخدمات التى تقدمها الدولة لسكان البيئة الصحراوية وعزز معلوماتك بالصور .

نشاط (٢) ابحث واكتب :

اكتب مقالاً فيما لا يزيد عن عشرة أسطر عن إحدى الواحات المصرية وما تشتهر به من أنشطة مستعيناً بشبكة المعلومات الدولية .

نشاط (٣) فكر وقارن :

درست فى الفصل الدراسى الأول عادات وتقاليد سكان البيئة الزراعية فى ضوء ما درست حدد أوجه الشبه والاختلاف بين عادات وتقاليد سكان البيئة الزراعية وسكان البيئة الصحراوية .

نشاط (٤) سجل رأيك .

فى الجدول الذى أمامك مجموعة من العبارات التى تعبر عن بعض السلوكيات ، والمطلوب منك إبداء رأيك فيها بوضع علامة (✓) أمام السلوك الذى تختاره مبرراً اختيارك .

السبب	لأوافق	أوافق	السلوكيات
			١ - حصلت على شهادة جامعية وقمت بعمل مشروع فى بيئتى الصحراوية
			٢- تركت العمل بالزراعة بالواحات وذهبت لأزرع فى وادى النيل
			٣- اشترى بعض المنتجات من البيئات الأخرى وأبيعها لسكان البيئة الصحراوية
			٤- أفضل العلاج باستخدام النباتات الطبيعية دون الرجوع إلى الطبيب

ثالثاً : التدريبات

السؤال الأول : أكمل العبارات التالية بكلمات مناسبة .

- ١ - يتركز سكان البيئة الصحراوية فى ومناطق وحيث يتوافر
- ٢ - من الخصائص الاقتصادية لسكان البيئة الصحراوية و
- ٣ - يهاجر بعض سكان البيئة الصحراوية إلى البيئات الأخرى بسبب و
- ٤ - يتميز سكان البيئة الصحراوية بمهارة و

السؤال الثانى : بم تفسر؟

١ - قلة عدد سكان البيئة الصحراوية رغم اتساع مساحتها .

.....

٢ - انخفاض نسبة الأمية فى المحافظات الصحراوية مؤخرًا .

.....

٣ - تركيز سكان البيئة الصحراوية فى الواحات .

.....

٤ - ارتفاع نسبة الوفيات بين أطفال البيئة الصحراوية .

.....

٥ - اعتماد البيئة الصحراوية على البيئات الأخرى .

.....



السؤال الثالث :

على خريطة مصر الصماء وزع البيئة الصحراوية .

السؤال الرابع :

ضع علامة (✓) أمام العبارة الصحيحة وعلامة (X) أمام العبارة غير الصحيحة مع التصويب .

- ١- يعيش سكان البيئة الصحراوية فى محافظات الحدود. ()
- ٢- يعيش بعض سكان البيئة الصحراوية فى بطون الأدوية حيث استخراج البترول. ()
- ٣- يتميز سكان البيئة الصحراوية بإكرام الضيف. ()
- ٤- يعانى سكان البيئة الصحراوية من قلة الموارد. ()

السؤال الخامس : برهن على صحة العبارة الآتية :

تهتم الدولة بنشر التعليم بين أبناء البيئة الصحراوية.


.....
.....

الأنشطة الاقتصادية في البيئة الصحراوية

أولاً : الأنشطة المصاحبة

نشاط (١) تأمل وعبر

أمامك مجموعة صور تعبر عن أهم الأنشطة الاقتصادية لسكان البيئة الصحراوية تأملها جيداً ثم علق على كل صورة بأسلوبك:




.....

.....

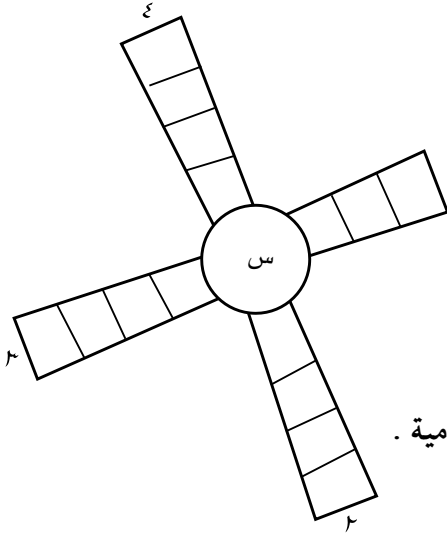
.....

.....

نشاط (٢) فكر وأكمل :



- أمامك مجموعة من العبارات تعرف على مدلولها ثم سجله في المربعات التي أمامك
- ١ - مناطق تنتشر بها الزراعة بالصحراء الغربية.
 - ٢ - أحد القبائل الرعوية في الصحراء الغربية.
 - ٣ - أحد منتجات الثروة الحيوانية.
 - ٤ - أحد المحاصيل الزراعية في البيئة الصحراوية (معكوسة).



نشاط (٣) فكر وسجل

أمامك مجموعة من العبارات ابدأ بالحرف المشترك لتتعرف مدلولها ثم سجله في الشكل الذي أمامك :

- ١- أقل الواحات المصرية سكانا
- ٢- أحد أنشطة سكان البيئة الصحراوية .
- ٣- يقصد بها السياحة داخل الصحراء .
- ٤- منطقة صحراوية يكثر بها الأماكن المقدسة والأديرة والآثار الإسلامية .

نشاط (٤) فكر وحدد

ضع دائرة حول الأنشطة التي يقوم بها سكان البيئة الصحراوية.

- الزراعة بالواحات .
- الصيد .
- التجارة .
- السياحة .
- صناعة تعبئة التمور .
- العمل بالبنوك .
- رعى الحيوانات .
- صناعة السفن .
- العمل بالشحن والتفريغ .
- العمل بالتعدين واستخراج البترول .

ثانياً : الأنشطة الإثرائية

نشاط (١) ابحث واكتب

وجه رسالة إلى سكان العالم بعنوان (هذه بيئتي) تشجعهم فيها على زيارة البيئة الصحراوية والاستمتاع بها مستعينا بشبكة المعلومات الدولية .

نشاط (٢) اجمع واكتب

- أ- اجمع صوراً لحيوانات البيئة الصحراوية مع كتابة معلومات عن أهميتها .
- ب- موارد بيئتنا الصحراوية كثيرة، حددها واكتب كيف نحافظ عليها .



نشاط (٣) فكر واقتراح

(تهتم الدولة بتعمير الصحراء واستصلاح الأراضي

الصحراوية) فى ضوء العبارة :

أ - حدد على خريطة مصر الصماء التى أمامك المشروعات الزراعية التى أقامتها الدولة فى البيئة الصحراوية .

ب- اقترح مشروع لتنمية البيئة الصحراوية
موضحًا:

- اسم المشروع .

- الهدف من إنشائه .

- مكان تنفيذ المشروع .

- سبب اختيار المكان .

الخطوات التى تتبعها لتنفيذ المشروع .

ثالثاً: التدريبات

السؤال الأول :

أكمل العبارات التالية مما بين القوسين:

- ١- تبلغ مساحة البيئة الصحراوية نحو% من جملة مساحة مصر . (٩٣ - ٩٦,٥ - ٩٥ - ٩٩,٥)
- ٢- من جبال شبه جزيرة سيناء جبل..... (الشايب - موسى - علبه - العوينات)
- ٣- من هضاب الصحراء الغربية هضبة (الجلف الكبير - المعازة - التيه - العبايدة)
- ٤- تعرف الرياح التي تهب على مصر محملة بالأتربة خاصة في شهري مارس وإبريل برياح (السيروكو- السموم - الهبوب - الخماسين)
- ٥- من أشهر القبائل التي تعمل بحرفة الرعي في الصحراء الغربية قبيلة أولاد (عامر - علي - عابد- الشهرى)

السؤال الثانى :

بم تفسر: ؟.....

١- نمو النباتات الطبيعية في البيئة الصحراوية.

.....

٢- تنوع الأنشطة الاقتصادية في البيئة الصحراوية.

.....

٣- إقامة مشروع الكثبان الرملية جنوب واحة سيوة.

.....

٤- حفر الآبار العميقة في مناطق استصلاح الأراضي .

.....

السؤال الثالث :

صوب ما تحته خط :

- ١- حرفة الزراعة هي الحرفة الرئيسة لسكان البيئة الصحراوية.
- ٢- يتركز السكان في منطقة أبو طرطور حيث تعدين الحديد.
- ٣- يستخرج الذهب من مناجم أم بجمة بالصحراء الشرقية.
- ٤- تجذب الحيوانات البرية النادرة مثل الغزلان السياح لزيارة الصحارى.
- ٥- من المناظر الطبيعية الخلابة التى تجذب السياح الصحراء البيضاء بواحة الداخلة.

تتمية البيئة الصحراوية

أولاً : الأنشطة المصاحبة

نشاط (١) لاحظ واستنتج

تعانى البيئة الصحراوية من عدة مشكلات على ضوء العبارة:
لاحظ مجموعة الصور التى أمامك ثم استنتج منها ما يلى :



..... المشكلة -
- الأثار المترتبة عليها:
.....

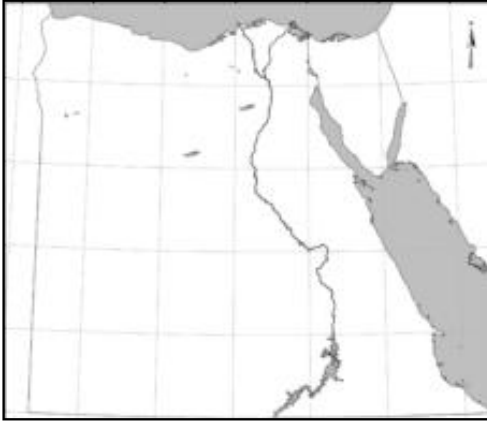


..... المشكلة -
- الأثار المترتبة عليها:
.....



..... المشكلة -
- الأثار المترتبة عليها:
.....

نشاط (٢) لاحظ ووقع



أمامك أسماء مجموعة من المحميات الطبيعية وقعها على خريطة مصر التي أمامك مستعيناً بخريطة كتاب المدرسة :

- ١- محمية رأس محمد.
- ٢- محمية وادي العلاقي.
- ٣- محمية واحة سيوة.
- ٤- محمية وادي الجمال.

نشاط (٣) اكتشف كلمة السر

اشطب من الجدول الحروف التي تكوّن الكلمات التالية ثم يتبقى لديك مجموعة من الحروف رتبها لتتعرف كلمة السر ثم سجل عنها بعض المعلومات في حدود سطرين

ر	ط	ا	ل	ت	م	س
د	ة	ب	ل	ح	م	ا
ب	ر	ع	ص	د	ي	م
و	ي	ل	ل	و	ت	س
ب	ت	ر	ة	ي	ا	ة
ة	ع	ح	ي	و	ح	ف

١- سيول

٢- محمية طبيعية

٣- تصحر

٤- تملح تربة

٥- البدو

كلمة السر :

.....

ثانياً : الأنشطة الإثرائية

نشاط (١) صمم ألبوم

اجمع صوراً للحيوانات والنباتات والطيور النادرة في بيئتنا الصحراوية عن طريق شبكة المعلومات الدولية ثم صمم ألبوماً وضعه في مكتبة الفصل

نشاط (٢) صمم مجسم

تعاون مع زملائك وصمم مجسماً لإحدى المحميات الطبيعية في مصر

نشاط (٣) ابحث واكتب

اكتب بحثاً بعنوان مشروعات التنمية في البيئة الصحراوية

ثالثاً : التدريبات

السؤال الأول : بم تفسر ... ؟

١- الاهتمام بالمشروعات السياحية في البيئة الصحراوية.

.....

٢- إقامة سد الروافعة على وادى العريش .

.....

٣- استزراع الكثبان الرملية في بعض مناطق البيئة الصحراوية.

.....

٤- إنشاء شبكة من الطرق في المناطق الصحراوية.

.....

٥- تعرض بعض المناطق الزراعية في البيئة الصحراوية للتصحّر .

.....

السؤال الثاني :

«تعانى البيئة الصحراوية من عدة مشكلات»

على ضوء العبارة

أ - حدد مشكلات البيئة الصحراوية

.....

.....

.....

ب - جهود الدولة لحل هذه المشكلات

.....

.....

.....

السؤال الثالث :

ضع علامة (✓) أمام العبارة الصحيحة وعلامة (X) أمام العبارة غير الصحيحة مع التصويب :

- (أ) يؤدي تملح التربة إلى انخفاض إنتاجيتها. ()
- (ب) أقيم مشروع استزراع الكتبان الرملية جنوب واحة الفرافرة لتثبيت الرمال. ()
- (ج) يعد حفر الآبار العميقة من المشاريع الهامة لاستصلاح الأراضي كما في الصحراء الشرقية. ()
- (د) تؤدي السيول إلى تدمير الحقول الزراعية والمباني. ()

السؤال الرابع : ما النتائج المترتبة على.....؟

١ - تحرك الرمال فى البيئة الصحراوية .

٢- ندرة الأمطار فى البيئة الصحراوية .

٣- زيادة استهلاك المياه فى البيئة الصحراوية .

تدريبات عامة على الوحدة الأولى

السؤال الأول : تخير الإجابة الصحيحة مما بين القوسين :

١ - تبلغ مساحة البيئة الصحراوية نحو% من جملة مساحة مصر .

(٩٣ - ٩٦,٥ - ٩٥ - ٩٩,٥)

٢ - من جبال شبه جزيرة سيناء جبل

(الشايب - موسى - علبة - العيونات)

٣ - من هضاب الصحراء الغربية هضبة

(الجلف الكبير - الجلالة البحرية - التيه - العباددة)

٤ - تهب على مصر رياح محملة بالأتربة خاصة فى شهرى مارس وإبريل تعرف برياح

(السيروكو - السموم - الهبوب - الخماسين)

٥ - من أشهر القبائل التى تعمل بحرفة الرعى فى الصحراء الغربية قبيلة أولاد

(عامر - على - عابد - الشهرى)

٦ - تنتشر الجبال القبايية قليلة الارتفاع على السهول الساحلية فى شمال سيناء منها جبل

(سانت كاترين - الحلال - مرسى - حماطة)

٧ - تنتشر ظاهرة فى الصحراء الشرقية .

(الكثبان الرملية - المنخفضات - الأودية الجافة - الواحات)

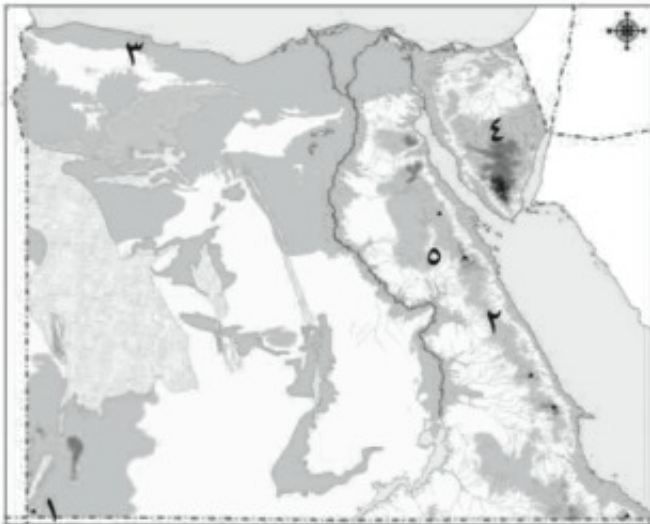
السؤال الثاني : بم تفسر؟

- ١ - نمو النباتات الطبيعية في البيئة الصحراوية.
- ٢ - تنوع الأنشطة الاقتصادية في البيئة الصحراوية.
- ٣ - إقامة مشروع استزراع الكثبان الرملية جنوب واحة سيوة.
- ٤ - حفر الآبار العميقة في مناطق استصلاح الأراضي.
- ٥ - انتشار صناعة التمورر والسجاد اليدوي في البيئة الصحراوية.
- ٦ - عمل بعض سكان البيئة الصحراوية بحرفة التعدين.
- ٧ - عمل بعض سكان البيئة الصحراوية بالنشاط السياحي.

السؤال الثالث : قارن بين :

- أ - العادات الإيجابية والعادات السلبية لسكان البيئة الصحراوية.
- ب - الصحراء الغربية والصحراء الشرقية من حيث الهضاب بكل منهما.

السؤال الرابع :



اكتب مدلول الأرقام الموقعة على الخريطة التي أمامك :

- ١- جبل
- ٢- سلاسل جبال
- ٣- هضبة
- ٤- هضبة
- ٥- وادي



السؤال الخامس :

ضع علامة (✓) أمام العبارة الصحيحة وعلامة (X) أمام العبارة غير الصحيحة مع التصويب :

- ١- تبلغ مساحة الصحراء الشرقية ٢٣ % من جملة مساحة مصر، بينما تبلغ مساحة الصحراء الغربية ٧٦ % من جملة مساحتها . ()
- ٢- تعرف محافظات البيئة الصحراوية بمحافظات الحدود وعددها خمس محافظات. ()
- ٣- يتركز السكان حول الواحات بالصحراء الشرقية. ()
- ٤- من مشكلات البيئة الصحراوية: حركة الرمال . ()
- ٥- يقوم سكان الصحارى ببناء أسوار شجرية حول الحقول لمنع تملح التربة. ()
- ٦ - أنشأت الدولة سد الروافعة على وادى قنا لحجز مياه السيول والاستفادة منها ()
- ٧- يعد جبل موسى ودير سانت كاترين من المزارات السياحية الدينية فى البيئة الصحراوية ()

السؤال السادس :

اكتب المصطلح الجغرافى الذى تدل عليه العبارات الآتية :

- ١- منطقة يقل فيها المطر ويسود الجفاف . (.....)
- ٢- تدهور التربة الزراعية وانخفاض قدرتها على إنتاج النبات . (.....)
- ٣- التمتع بالبيئة الصحراوية خاصة مناطق المحميات . (.....)
- ٤- تراكم الأملاح على سطح التربة وداخل مسامها . (.....)
- ٥- مجارى مائية قديمة كانت مملوءة بالمياه ثم جفت . (.....)

البيئة الساحلية

الخصائص الطبيعية للبيئة الساحلية

أولاً : الأنشطة المصاحبة

نشاط (١) تخيل وسجل :

١- زرت أنا وأسرتي مصيف الذى يقع على ساحل البحر

٢- أثناء زيارة المصيف شاهدت و

٣- تختلف بيئة المصيف عن البيئة التى أقيم بها فى :

..... و

نشاط (٢) فكر واكتب

أمامك مجموعة من الحروف والأرقام استخدمها للتعرف المفاهيم التالية و استبدل التعريف

١١	١٠	٩	٨	٧	٦	٥	٤	٣	٢	١
ة	ي	هـ	ل	ط	س	خ	ح	ب	ئ	ا

١- جزء من اليابسة يطل على البحر والمحيط

١١	١٠	٨	٤	١	٦	٨	١

١١	٢	١٠	٣	٨	١

٢- خط يفصل بين اليابسة والماء


٨	٤	١	٦	٨	١

٧	٥

٣- أرض تمتد من خط الساحل إلى مسافات داخل اليابس :

١٠	٨	٤	١	٦

٨	٩	٦



نشاط (٣) تأمل وأجب

تأمل الصورة التى أمامك جيداً ثم :

أ- صف ما تشاهده فى الصورة ؟

ب- أين تجد ما شاهدته فى الصورة ؟

.....

ج- ولماذا ؟

د- ما الأهمية الاقتصادية لما شاهدته فى الصورة ؟

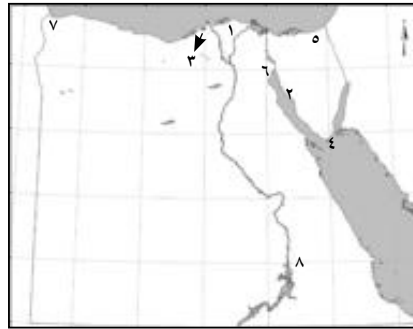
.....

نشاط (٤) اكتشف الخطأ :

أمامك خريبتين لمصر الخريطة (أ) موقع عليها بعض المناطق بشكل خاطئ اكتشفها ثم أعد توقيعها مرة أخرى على الخريطة (ب) بطريقة صحيحة .



خريطة (ب)



خريطة (أ)

١- بحيرة البردويل

٢- خليج العقبة

٣- رأس الحكمة

٤- رأس بناء

٥- مدينة الإسكندرية

٦- مدينة الغردقة

٧- مدينة رفح

٨- مدينة حلايب

نشاط (٥) لاحظ وأكمل :

أمامك صورتين لاحظهما جيداً ثم أجب :



صورة (٢)



صورة (١)

أ- يمكنك مشاهدة الصورة (١) فى البيئة والبيئة وهذا يؤكد على

..... البيئات المصرية

ب- قارن بين الخصائص المناخية للبيئتين

البيئة	البيئة	وجه المقارنة الخصائص المناخية
.....	
.....	
.....	

ج- يمكنك مشاهدة الصورة (٢) على ساحل وتتسم خصائصه المناخية ب.....

ثانياً : الأنشطة الإثرائية

نشاط (١) ابحث وسجل :

قارن بين مدينة الاسكندرية ومدينة القاهرة من حيث

٢- درجة الحرارة في يولييه

متوسط درجات الحرارة لمدينة الإسكندرية

.....
.....

١- درجة الحرارة في يناير

متوسط درجات الحرارة لمدينة القاهرة

.....
.....

نشاط (٢) ابحث وجمع :

باستخدام الأطلس حدد أسماء بعض الجزر في البحر الأحمر ثم استعن بشبكة المعلومات الدولية لجمع بعض الصور والمعلومات عن هذه الجزر وسجلها في كراسة النشاط

نشاط (٣) فكر وقرر

أراد أحد رجال الأعمال إنشاء قرية سياحية فأى المناطق تنصحه أن يقيم بها مشروعك؟ ولماذا؟

نشاط (٤) حدد ولون

أمامك خريطة صماء لمصر باستخدام الألوان الخشبية لون عليها البيئة الساحلية ثم حدد أسماء بعض المدن الساحلية عليها



ثالثاً: التدريبات

السؤال الأول: عرف المصطلحات التالية:

الخليج:

الشعاب المرجانية:

البحيرة:

الشرم:

السؤال الثاني: أكمل الفراغات التالية بكلمات مناسبة:

١. من البحيرات على ساحل البحر المتوسط بحيرة..... وبحيرة.....
٢. تمتد البيئة الساحلية على طول ساحل البحر المتوسط من مدينة..... في أقصى الشرق حتى مدينة..... غرباً.
٣. تمتد البيئة الساحلية على طول ساحل البحر الأحمر من مدينة..... إلى مدينة..... جنوباً.
٤. من عناصر البيئة الساحلية السهل الساحلي و..... و..... و.....
٥. تنتشر البيئة الساحلية في مصر على طول ساحلي البحر..... و..... وخليجي..... و.....
٦. من الجزر الموجودة بالقرب من سواحل البحر الأحمر جزيرة..... وهي أكبرها، وجزيرة.....

السؤال الثالث: ضع المفهوم المناسب لكل من العبارات التالية :-

١. خط يفصل بين اليابسة والماء. (.....)
٢. مياه ضحلة غير عميقة تمتد من خط الساحل لداخل البحر. (.....)
٣. فتحة قد تكون طبيعية أو صناعية تدخل عن طريقها المياه للبحيرات. (.....)
٤. تلك المساحة من اليابسة أو الأرض التي تطل على البحر أو المحيط والتي تتأثر به بشكل كبير في مناخها وأعمال سكانها وعاداتهم. (.....)

السؤال الرابع: بم تفسر:.....؟

١. تفاوت اتساع السهل الساحلي على طول ساحل البحر الأحمر في مصر.
-

٢. الأهمية الاقتصادية للتلال الجيرية على طول الساحل الشمالي للبحر المتوسط.

٣. اتساع السهل الساحلي المطل على البحر المتوسط.

٤. نمو الشعاب المرجانية على ساحل البحر الأحمر.

السؤال الخامس: ما النتائج المترتبة على.....؟

١. سقوط الأمطار الغزيرة على شكل سيول .

٢. سقوط الأمطار بكميات كبيرة على ساحل البحر المتوسط.

٣. انتشار الجزر الساحلية بالبحر الأحمر.

السؤال السادس:

قارن بين البيئة الساحلية على شاطئ كل من البحر المتوسط والبحر الأحمر من حيث: الامتداد، السهول الساحلية، البحيرات، الخلجان والمستنقعات.

وجه المقارنة	البيئة الساحلية على ساحل البحر المتوسط	البيئة الساحلية على ساحل البحر الأحمر
الامتداد
السهول الساحلية
البحيرات
الخلجان
المستنقعات



السؤال السابع :

أمامك خريطة صماء لمصر وقع عليها ما يلي:-

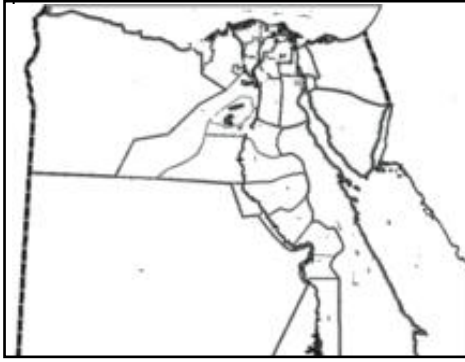
- بحيرة البردويل
- خليج العقبة وخليج السويس.
- رأس الحكمة - رأس بناس.
- مدينة الإسكندرية والغردقة.

الخصائص السكانية للبيئة الساحلية

أولاً : الأنشطة المصاحبة

نشاط (١) فكر ولون

(درست فى الفصل الدراسى الأول أن بيئات مصر متداخلة)



على ضوء ذلك وباستخدام الألوان لون المحافظات الساحلية التى تتبع كل من

- ١- البيئة الزراعية باللون الأخضر
- ٢- البيئة الصحراوية باللون الأصفر

نشاط (٢) فكر وارسم

(المحافظات الساحلية من محافظات الجذب السكانى)

على ضوء ذلك ..

ارسم على خريطة مصر التى أمامك تيارات الهجرة من المحافظات المصرية إلى المدن الساحلية الآتية :

- ١- مرسى مطروح .
- ٢- الإسكندرية .
- ٣- الغردقة .
- ٤- السويس .
- ٥- بورسعيد .



م	ط	ا	هـ	د	ش	ة
ا	و	ر	ة	ج	ر	ب
ل	ا	ا	ر	ل	ع	ر
غ	خ	ي	ج	ر	ي	ج
ا	ل	ع	ر	ب	ص	ل
ا	هـ	ة	ق	ا	ر	غ
ي	أ	ة	ل	ل	د	ا

نشاط (٣) اكتشف كلمة السر

أمامك مجموعة من الحروف اشطبها لتكون الكلمات الدالة على العبارات الآتية يتبقى لديك مجموعة

من الحروف رتبها واكتشف كلمة السر

- ١- إحدى العادات السلبية لسكان البيئة الساحلية .
- ٢- إحدى العادات الإيجابية لسكان البيئة الساحلية .
- ٣- مدينة جديدة أنشأتها الدولة فى البيئة الساحلية .
- ٤- حرفة رئيسة لسكان البيئة الساحلية .

كلمة السر

تتمثل أهميتها السياحية في :

أ-

ب-

ثانياً : الأنشطة الإثرائية

نشاط (١) ابحث و سجل :

بالاستعانة بشبكة المعلومات الدولية اجمع معلومات عن المشاكل المترتبة على الهجرة غير

الشرعية ثم سجلها في كراسة النشاط .



نشاط (٢) سلوكيات في بيتي

أمامك مجموعة من السلوكيات ضع علامة (✓) في المربع الذي تختاره موضحاً السبب :

السبب	لا أوافق	أوافق عليها	السلوكيات
			• أقوم بإلقاء المخلفات في البحر
			• أتعاون مع والدي في العمل أثناء الصيد
			• ألتزم بالعبور في مناطق العبور المحددة
			• أحافظ على نظافة الشاطئ

ثالثاً : التدريبات

السؤال الأول : أكمل العبارات التالية :

١. من الخصائص الإيجابية لسكان البيئة الساحلية ،
٢. تبلغ نسبة السكان في المناطق الساحلية حوالى % من سكان مصر.
٣. من المدن المليونية في البيئة الساحلية مدينة ومدينة
٤. يتجه سكان الواحات للاستقرار في مدينة
٥. من مشكلات السكان في البيئة الساحلية و و

السؤال الثانى : بم تفسر:.....؟

١. تميّز سكان البيئة الساحلية بحبهم للعمل في جماعة.

.....

٢. اعتبار المناطق الساحلية مناطق جذب للمهاجرين.

.....

٣. معظم سكان البيئة الساحلية يعيشون في المدن.

.....

السؤال الثالث :

ما النتائج المترتبة على وفرة الموارد الغذائية و المواد الخام بالمناطق الساحلية ؟

.....

.....

.....

السؤال الرابع : ما جهود الدولة في مواجهة مشكلات السكان في البيئة الساحلية ؟

.....

.....

.....

.....

السؤال الخامس :

ضع علامة (✓) أمام العبارة الصحيحة وعلامة (X) أمام العبارة غير الصحيحة مع التصويب :


- ١- يعيش سكان البيئة الساحلية في إحدى عشرة محافظة. ()
- ٢- من العادات الإيجابية لسكان البيئة الساحلية العمل في جماعة والصيد غير القانوني. ()
- ٣- تعد البيئة الساحلية منطقة جذب لسكان البيئات الأخرى. ()
- ٤- من جهود الدولة في البيئة الساحلية إنشاء مدن جديدة مثل مدينة برج العرب الجديدة. ()

الموارد والأنشطة الاقتصادية في البيئة الساحلية

أولاً : الأنشطة المصاحبة

نشاط (١) لاحظ وأكمل :


أمامك مجموعة من الصور التي تعبر عن بعض موارد البيئة الساحلية لاحظها جيداً ثم أجب :



تعبير الصورة عن
وتستغل في حرفة
وتقوم عليه صناعة ،

تعبير الصورة عن
وتقوم عليه عدة صناعات
منها ،
وأهم حقوله

تعبير الصورة عن
وتستغل في حرفة
وأهم مناطقها
.....



نشاط (٢) فكر وأكمل :

أمامك مجموعة من العبارات تعرف

مدلولها وأكمل الشكل التالي :

أفقياً :

١- أحد المحاصيل الزراعية في البيئة الساحلية.

٢- أحد حقول البترول على ساحل

خليج السويس .

٣- منطقة للرعى على الساحل الشمالي

الغربي للبحر المتوسط

رأسى:

- ١- مدينة ساحلية يوجد بها مصنع للحديد و الصلب.
- ٢- أحد الأنشطة الاقتصادية المرتبطة بالبحر.
- ٣- أحد حقول الغاز الطبيعي فى شمال الدلتا.
- ٤- أكبر بحيرات مصر من حيث إنتاج الأسماك.

نشاط (٣) فكر وأكمل :

أمامك مجموعة من الصور تعبر عن مشكلات البيئة الساحلية تأملها وأكمل الجدول



صورة (٣)



صورة (٢)



صورة (١)

الصورة	المشكلة	مقترحات الحل
(١)		
(٢)		
(٣)		

ثانياً: الأنشطة الإثرائية

نشاط (١) فكر وحدد :

في ضوء هذه الموارد الطبيعية التي تتمتع بها البيئة الساحلية، حدد بعض الأنشطة التي يمكن أن يمارسها سكان هذه البيئة.

نشاط (٢) تخيل واختر :

مستقبلي في بيئتي:

بعد أن درست البيئة الساحلية وما بها من موارد متنوعة، إذا كنت تعيش في بيئة ساحلية، ما النشاط الذي ترغب أن تعمل به في المستقبل؟ حدد النشاط وأسباب اختيارك له.

نشاط (٣) ارسم وعلق :

ارسم لافتات إرشادية لتوعية السكان بأهمية الحفاظ على البيئة الساحلية من التلوث وقم بتعليقها على جدران الفصل بعد عرضها على المعلم .

ثالثاً : التدريبات

السؤال الأول :

امأ الفرفانات التالية بكلمات مناسبة :

١. تبلغ نسبة الإنتاج السنوي للبحار والبحيرات المصرية من الثروة السمكية حوالى % من إنتاج مصر من الأسماك.
٢. من أهم حقول البترول على ساحل البحر الأحمر حقل و
٣. تنتشر المراعي الساحلية شمال مصر على ساحل البحر
٤. تلوث المياه الشاطئية بسبب و و
٥. تعد مشكلة من أكثر المشكلات التي تهدد البيئة الساحلية لجمهورية مصر العربية.

السؤال الثانى :

بم تفسر ؟

١. تلوث المياه الشاطئية بالمناطق الساحلية.

٢. تنوع الأنشطة الاقتصادية في البيئة الساحلية.

السؤال الثالث :

ضع علامة (✓) أمام العبارة الصحيحة وعلامة (×) أمام العبارة غير الصحيحة فيما يلي :

- () (١) تعد بحيرة المنزلة أكبر البحيرات إنتاجاً للأسماك في مصر .
- () (٢) تنتشر مراعى الأغنام والماعز والإبل فى المناطق الساحلية على سواحل البحر الأحمر.
- () (٣) يؤدى تآكل السواحل إلى إزالة الشواطئ الرملية وتدمير الشاليهات.
- () (٤) يعد النشاط الزراعى نشاطاً رئيساً فى البيئة الساحلية.
- () (٥) من الصناعات القائمة فى البيئة الساحلية صناعة الغزل والنسيج وصناعة الحديد والصلب.



السؤال الرابع

وضح دور الدولة في حل مشكلات البيئة الساحلية.

.....

.....

.....

تدريبات عامة على الوحدة الثانية

السؤال الأول :

تخير من العمود (أ) ما يناسبه من العمود (ب) :

(ب)	(أ)
١- ساحل البحر الأحمر	١- مسطحات مائية تمتد عادة موازية للبحر وتتصل به عند طريق بواغيز.
٢- ساحل البحر المتوسط	٢- فتحة قد تكون طبيعية أو صناعية تدخل عن طريقها المياه للبحيرات.
٣- تلال جيرية	٣- تنتشر المستنقعات والكثبان الرملية في منطقة
٤- بحيرات مالحة	٤- أنشئ العديد من الموانئ الهامة مثل شرم الشيخ ونويبع على
٥- خليج	٥- يوجد العديد من الخلجان المتسعة مثل خليج أبو قير وخليج العرب على
٦- شعاب مرجانية	٦- تكوينات من صخور جيرية افرزتها حيوانات بحرية دقيقة
٧- مستنقعات	٧- تداخل مائي في اليابس
٨- بوغاز	
٩- الساحل الشمالي لسيناء	

السؤال الثاني : أكمل الفراغات التالية :

١. قامت الدولة بإنشاء مدن جديدة في البيئة الساحلية مثل مدينة.....، كما قامت بمد

الطرق و.....

٢. المدن المليونية هي المدن التي

٣. من مشكلات السكان في البيئة الساحلية مشكلة..... ومشكلة.....

٤. يتجه سكان الواحات للاستقرار في مدينة..... أما المهاجرين من سكان

الوجه القبلي فقد يتجهون إلى المدن الساحلية كمدينة..... على ساحل البحر المتوسط

٥. من أهم الموارد الطبيعية في البيئة الساحلية الثروة..... والبترو

و..... والموارد الحيوانية والموارد..... والشواطئ.

٦. تنتشر الجزر الساحلية بالقرب من سواحل البحر الأحمر خاصة عند مدخل خليج.....

ويصل عددها إلى..... جزيرة.



٧. تمتد البيئة الساحلية على البحر المتوسط من مدينة في أقصى الشرق حتى مدينة غرباً.

السؤال الثالث :

بم تفسر :

- ١- الأهمية الاقتصادية للجزر الساحلية على البحر الأحمر .
- ٢- ضيق السهل الساحلي على خليج العقبة .
- ٣- اعتبار بحيرة البردويل أقل بحيرات مصر الشمالية تلوثاً.
- ٤- إنشاء عدد من الموانئ المهمة على ساحل البحر الأحمر.
- ٥- قيام النشاط الزراعي في الساحل الشمالي الغربي لمصر.
- ٦- نمو الشعاب المرجانية على سواحل البحر الأحمر .
- ٧- اعتبار المدن الساحلية منطقة جذب سكاني .

السؤال الرابع :

ما النتائج المترتبة على ؟

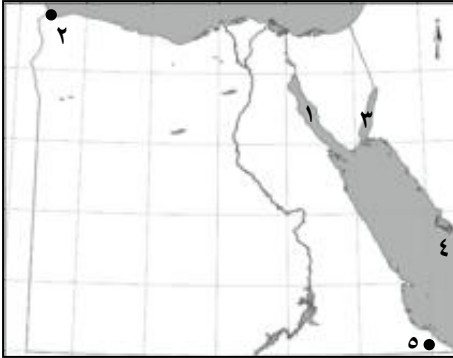
- ١- تآكل السواحل المصرية
- ٢- تلوث المياه الشاطئية
- ٣- سقوط الأمطار الشتوية على سواحل البحر المتوسط
- ٤- اقتراب الجبال من ساحل البحر الأحمر
- ٥- تنوع الأنشطة الاقتصادية في البيئة الساحلية

السؤال الخامس :

أمامك خريطة صماء لمصر وقع عليها مدلول الأرقام التالية

١- خليج

٢- مدينة



- ٣- خليج
- ٤- البحر
- ٥- مدينة

السؤال السادس :

ما المقصود بالمصطلحات الجغرافية الآتية :

- خط الساحل - مستنقع - خليج
- رأس - مدينة مليونية
- هجرة غير شرعية - بوغاز

السؤال السابع

(تواجه البيئة الساحلية عديد من المشكلات البيئية والسكانية)

على ضوء هذه العبارة وضح ما يلى :

أ- المشكلات البيئية فى البيئة الساحلية وجهود الدولة لحلها ؟

ب- مشكلات السكان فى البيئة الساحلية وجهود الدولة لحلها ؟

الوحدة الثالثة

الوحدة الثالثة

بناء الدولة الحديثة

وأحداث من التاريخ المصري الحديث والمعاصر

الوحدة الثالثة

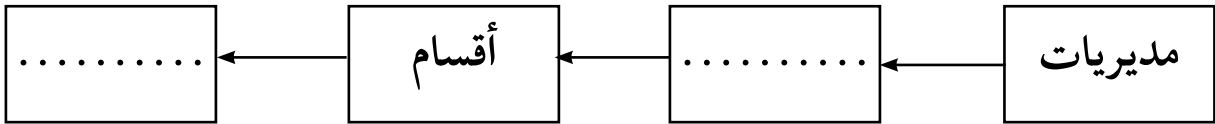
الدرس الأول

محمد علي (١٨٠٥ - ١٨٤٨م)

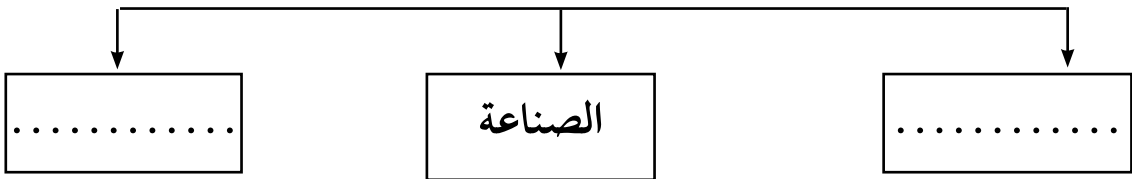
أولاً : الأنشطة المصاحبة

نشاط (١) فكر وأكمل

أ- التنظيم الإداري في عهد محمد علي



ب- السياسة الاقتصادية في عهد محمد علي



- ترتب على التقدم الزراعي
والصناعي والاستقرار الداخلي
.....

.....
.....
.....

- اهتم بتطوير الزراعة
- اهتم ب.....
- اهتم ب.....

ج- لاحظ الصورة التي أمامك ثم استنتج أهمية الصناعة الوطنية.



.....
.....
.....



صورة (٨٨) صورة لقصر الجوهرة وهو من منشآت محمد علي

نشاط (٢) لاحظ واستنتج

لاحظ الصورة التي أمامك ثم استنتج:

- اسم الأثر.....
- تم فى عهد.....
- يدل على.....

نشاط (٣) فكر وعبر:

على ضوء ما درست اكتب خمسة أسطر عن اهتمام «محمد علي» بالتعليم.

.....

.....

.....

.....

.....

.....

نشاط (٤) تذكر وأكمل:

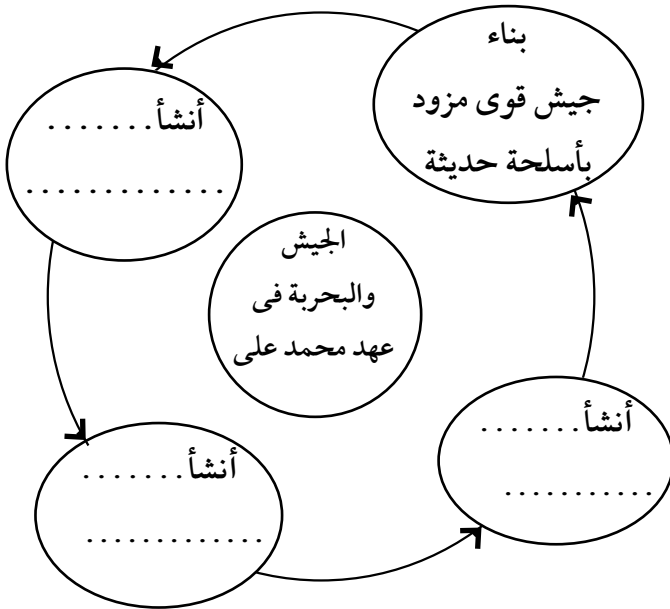
أ- أكمل الشكل التالي:

ب- تتمثل أهداف «محمد علي» من الإنشاءات البحرية فى:

.....

.....

.....





خريطة توضح امتداد نفوذ مصر في عصر (محمد علي)

نشاط (٥) فكر وأجب:

لاحظ الخريطة التي أمامك ثم أجب:

١- حدد أسماء البلاد التي وصل إليها نفوذ «محمد علي».

٢- ما الأهداف التي كان يسعى إليها «محمد علي» وهل نجح فيها؟

٣- ما النتائج التي ترتبت على الصدام بين «محمد علي» والدول الأوروبية الاستعمارية؟

نشاط (٦) فكر وتعرف

أ- مهندس فرنسي أعطاه سعيد باشا امتياز قناة السويس

س				ل				د				د			
---	--	--	--	---	--	--	--	---	--	--	--	---	--	--	--

ب- حاكم مصرى قامت إنجلترا بالضغط على السلطان العثماني فقام بعزله وتولية ابنه توفيق

ل						م				
---	--	--	--	--	--	---	--	--	--	--

ج- سياسة لجأ إليها إسماعيل أدت إلى حدة الأزمة المالية في مصر وزيادة التدخل الأجنبي

				ن				س			
--	--	--	--	---	--	--	--	---	--	--	--

ثانياً : الأنشطة الإثرائية

نشاط (١) ابحث واجمع

اجمع معلومات مصورة عن:

أ- أسباب حرص «محمد علي» على بناء دولة مصر الحديثة على النسق الأوروبي وخاصة الفرنسي

ب- أعمال محمد علي.

ج- أهمية القناطر الخيرية.

د- أهمية شق الترغ والقنوات وإنشاء الجسور على النيل.

نشاط (٢)

أمامك مجموعة من إصلاحات محمد على الداخلية في مصر صل بين الدوائر المتشابهة بأسهم ولونها بلون مميز ثم اكتب على الأسهم نوع الإصلاح الذي تنتمي إليه.

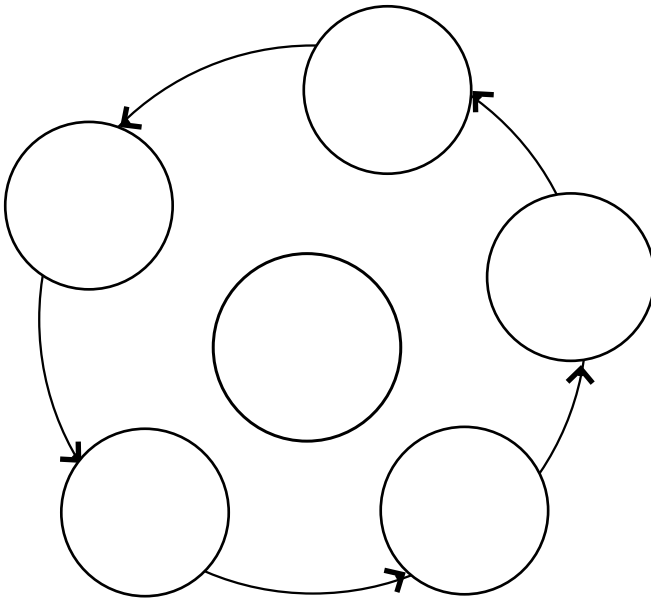


نشاط (٣)

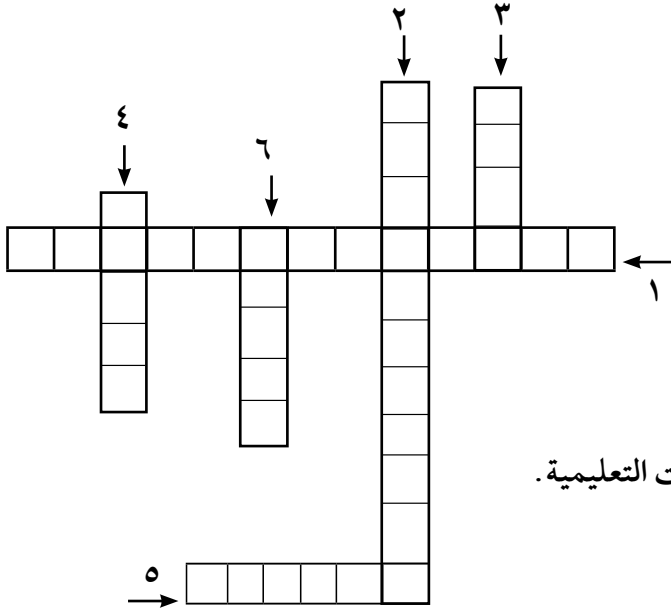
وجه رسالة إلى محمد علي تشكره فيها على سياسته الداخلية في مصر.

نشاط (٤) فكر و لخص

على ضوء ما درست لخص في الشكل الذي أمامك سياسية محمد على الداخلية في مصر.



نشاط (٥) فكر وأكمل



- ١- مكان أنشأه محمد علي لطباعة الكتب.
- ٢- رحلات تعليمية أرسلها محمد علي إلى إحدى الدول الأوروبية المتقدمة للاستفادة من علومها وفنونها وأدابها.
- ٣- مدرسة عليا أنشأها محمد علي لتخريج الأطباء.
- ٤- دولة أوروبية أرسل إليها محمد علي الرحلات التعليمية.
- ٥- مكان لإنشاء السفن.
- ٦- مجموعة سفن بحرية.

ثالثاً : التدريبات

السؤال الأول :

أكمل العبارات التالية بكلمات مناسبة : -

- أ- اهتم (محمد علي) ببناء مصر الحديثة على النسق
- ب- قسم (محمد علي) البلاد إلى مديريات، ويتبع كل مديرية عدد من
- ج- تمثلت الزراعات الجديدة في عصر (محمد علي) في ، ،
- د - أنشأ (محمد علي) عديد من مصانع ، ،

السؤال الثاني :

بم تفسر.....؟

- أ- أهمية التنظيمات الإدارية لمصر في عصر (محمد علي) .
-
-

- ب- السياسة الاقتصادية التي اتبعتها (محمد علي) في مصر .
-
-

- ج- ارتباط النهضة الصناعية في عصر (محمد علي) بالنهوض بالجيش .
-
-

السؤال الثالث :

ضع علامة (✓) أمام العبارة الصحيحة وعلامة (X) أمام العبارة غير الصحيحة فيما يلي مع تصويب:

- أ- أصبحت مدينة الإسكندرية مقر الحكومة المركزية في عصر (محمد علي) . ()
- ب- يعد السد العالي من أهم مشروعات الري التي اهتم بها (محمد علي) . ()
- ج- شهدت التجارة الداخلية والخارجية رواجا حقيقيا في عصر (محمد علي) . ()
- د- أنشأ (محمد علي) قصر الجوهرة بالقلعة . ()

السؤال الرابع :**تخير الإجابة الصحيحة مما بين الأقواس:**

- أ- كان مقر الحكومة المركزية في عهد (محمد علي) في.....
(الإسكندرية - الغربية - القاهرة - الجيزة).
- ب- أقام (محمد علي) معامل للسكر في.....
(الوجه البحرى - الوادى الجديد - الوجه القبلى - شبه جزيرة سيناء).
- ج- تولى الخديو إسماعيل حكم مصر عام م .
(١٨٦٠ - ١٨٦١ - ١٨٦٢ - ١٨٦٣)
- د- أنشا (محمد علي) ترسانه لبناء السفن في.....
(بورسعيد - السويس - الإسكندرية - دمياط)

السؤال الخامس :**ما النتائج التى ترتبت على.....؟**

أ- اهتمام (محمد علي) بمشروعات الري .

.....
.....

ب- اهتمام (محمد علي) بالتعليم والثقافة.

.....
.....

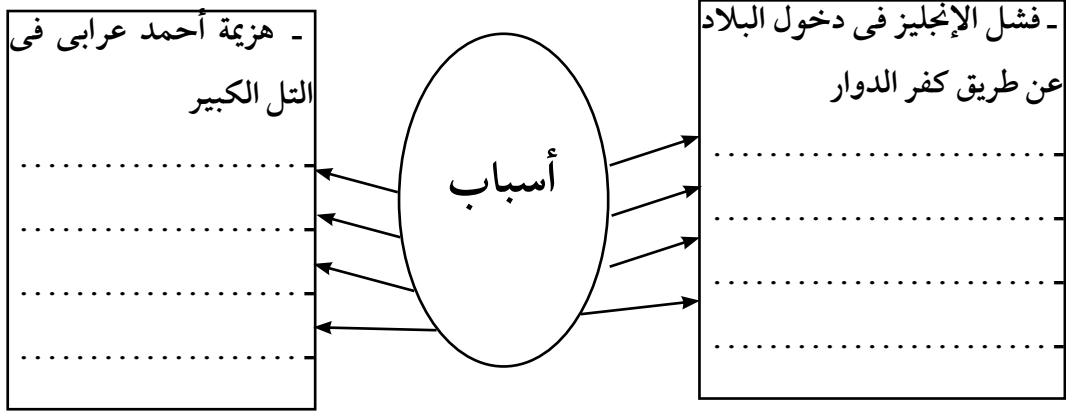
ج- اهتمام (محمد علي) بالجيش والبحرية.

.....
.....

د- سياسة (محمد علي) الخارجية التوسعية .

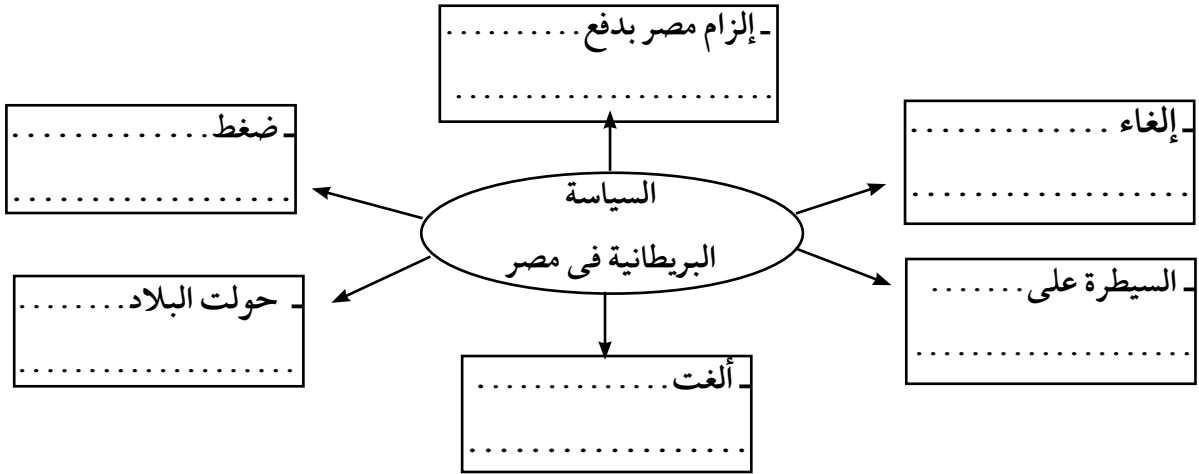
.....
.....

ب - فـكـر و أكـمـل



نشاط (٥) فـكـر و لـخـص

أ- لـاحـظ الشـكـل الـذـى أـمـامـك ثم لـخـص السـيـاسـة الـبرـيـطـانـيـة فى مـصـر .



ب - صـف الشـعـور الـوـطـنـي لـدى المـصـرـيـن تـجـاه السـيـاسـة الـبرـيـطـانـيـة فى مـصـر .

.....

نشاط (٦) فكر واكتب

- صنف فى جدول من إنشائك كفاح كل من محمد فريد ومصطفى كامل داخل وخارج مصر .

.....

.....

.....

.....

.....

ثانيا : الأنشطة الإثرائية

نشاط (١) فكر وصمم

صمم برقية شكر للزعيم أحمد عرابى

نشاط (٢) صمم وتعلم

صمم مجسم يوضح خط سير الجيش البريطانى والمعارك التى دارت بينه وبين العربيين (من الإسكندرية حتى دخولهم القاهرة).

الأدوات المطلوبة

- ١- قطعة خشب مربع أو (كرتون مقوى).
- ٢- ألوان.
- ٣- رمال أو (قص ولصق لون أصفر - أسود - أزرق).
- ٤- جنود بلاستيك.
- ٥ - سفن من الكرتون والبلاستيك عليها علم إنجلترا.



نشاط (٣) لاحظ واستنتج

أ - لاحظ الصورة التى أمامك ثم أجب:

- ١- تعبر الصورة عن..... عام.....
- ٢- اسم الزعيم الذى يمتطى الحصان.....
- ٣- المكان.....

ب - إذا عاد بك الزمن إلى الوراء وكنت أحد زعماء الثورة العرابية الذين شاركوا فى أحداث الثورة بماذا كنت تنصح الزعيم أحمد عرابى؟

.....

.....

ج - عبر عن رأيك فى موقف كل من الجيش والشعب فى الثورة العرابية.

.....

.....

نشاط (٤)

شارك زملائك فى:

- رسم خريطة مصر موضحا عليها خط سير قوات الاحتلال البريطانى إلى مصر.
- إعداد مجلة حائط بعنوان الكفاح الوطنى ضد الاستعمار.
- صمم مطويه إلكترونية مصورة عن زعماء الثورة العرابية.

نشاط (٥) العب واكتشف

أمامك مجموعة من الحروف اشطب الحرف المتكرر منها ما عدا حرف (ا) ثم يتبقى لديك مجموعة من الحروف رتبها لتكتشف كلمة السر ثم سجل عنها بعض المعلومات .

ع	ز	ا	ع	م
ت	ت	س	ق	ل
ة	س	ص	و	ك
ج	و	ا	س	ف
ر	ك	ج	ع	ز

كلمة السر هي

.....

.....

نشاط (٦)

«قدم بعض الضباط المصريين عريضة إلى رياض باشا بعزل عثمان باشا رفقى»
على ضوء ذلك تخيل الحوار الذى دار بينهم ثم تعاون مع زملائك فى تمثيله أمام باقى تلاميذ الفصل .

ثالثاً : التدريبات

السؤال الأول :

أكمل الفراغات فى العبارات التالية بكلمات مناسبة :

- أ - ولد أحمد عرابى بمحافظة
- ب - تولى الإمام محمد عبده رئاسة تحرير صحيفة واتخذها منبراً لتأييد
- ج - ازداد التدخل الأجنبى فى مصر منذ عهد سعيد باشا نتيجة
- د - دعا الزعيم لإنشاء نقابات للعمال .

السؤال الثانى :

- ضع علامة () أمام العبارة الصحيحة وعلامة (×) أمام العبارة غير الصحيحة مع التصويب فى ما يلى : -
- أ - التحق أحمد عرابى بالجيش المصرى فى عهد سعيد باشا . ()
- ب - طالب أحمد عرابى بالمساواة بين أبناء مصر وغيرهم من باقى الأجناس . ()
- ج - وقفت فرنسا إلى جانب الحركة الوطنية المصرية بعد الاتفاق الودى عام ١٩٠٤ م . ()
- د - أدت الامتيازات الأجنبية إلى التدخل الأجنبى فى شئون مصر . ()

السؤال الثالث :

تخير الإجابة الصحيحة مما بين القوسين فيما يلى :

- أ - بدأ تجنيد أولاد عمد البلاد ومشايخها فى عهد
- (سعيد باشا - الخديو إسماعيل - الخديو توفيق - إبراهيم باشا)
- ب - قاد أحمد عرابى مظاهرة عابدين السلمية فى سبتمبر عام
- (١٨٧٠ - ١٨٧٤ - ١٨٧٨ - ١٨٨١)
- ج - قام مصطفى كامل بتأسيس جريدة عام ١٩٠٠ م .
- (الوقائع المصرية - المؤيد - اللواء - الأهرام)

السؤال الرابع :

بم تفسر ... ؟

أ - قيام الثورة العرابية .

ب - ازدياد التدخل الأجنبى فى شئون مصر .

ج - تقديم الضباط المصريين عريضة إلى رياض باشا رئيس مجلس الوزراء .

د - التفاف الجيش والشعب حول أحمد عرابى .

هـ - اتصال مصطفى كامل بالدول الأوروبية .

السؤال الخامس :

أكتب ثلاثة اسطر عن كل من :

أ - أهداف المذكرتين المشتركين اللتين أرسلتهما بريطانيا وفرنسا إلى مصر .

ب - مطالب الجيش والشعب فى ٩ سبتمبر ١٨٨١ (مظاهرة عابدين) .

ج - دور كل من مصطفى كامل ومحمد فريد فى مقاومة الاحتلال البريطانى .

سعد زغلول باشا (ثورة ١٩١٩ م)

أولاً : الأنشطة المصاحبة

نشاط (١) بطاقة تعارف

لاحظ الصورة التي أمامك وأكمل البطاقة التالية لتتعرف معلومات عن زعيم وطني



اسم الشخصية

.....

ولد في

تلقى تعليم الديني في

تلمذ على يد

المناصب التي تقلدها :

عمل محرراً في وانضم إلى

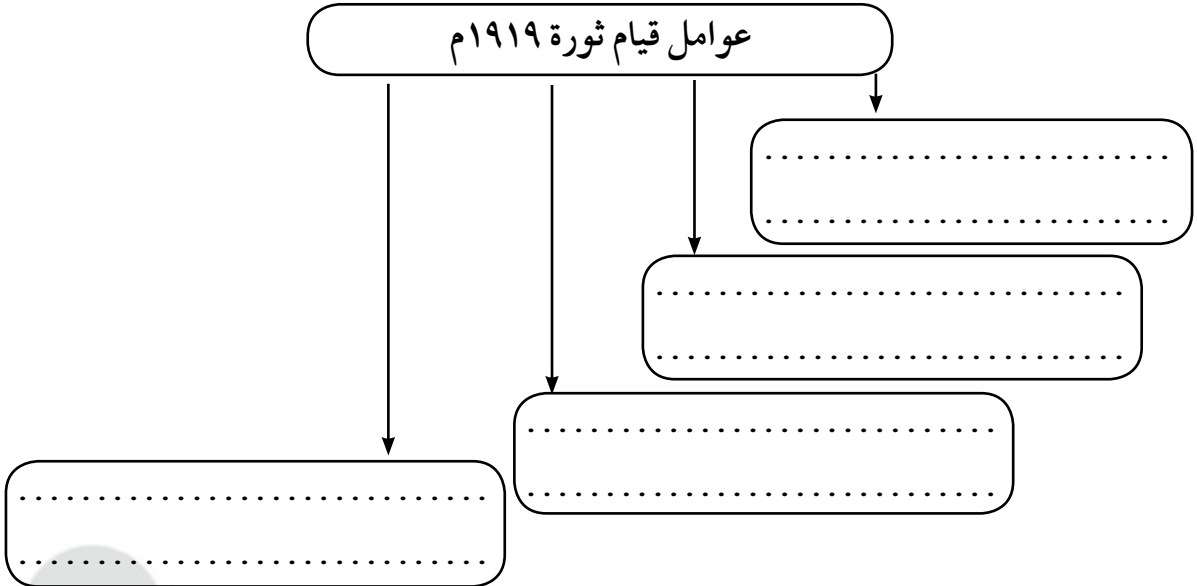
اشتغل بـ ، ثم عمل بـ شارك في الدعوة لإنشاء ، ثم تولى

..... ، وتم اختياره وزيراً

لـ ، وانتخب عضواً بالجمعية

نشاط (٢) فكر وأكمل :

عوامل قيام ثورة ١٩١٩ م



نشاط (٣) شاهد وصف

شاهد الصور التالية ثم صف ما تعبر عنه كل صورة بأسلوبك



تعبّر الصور عن

.....

.....

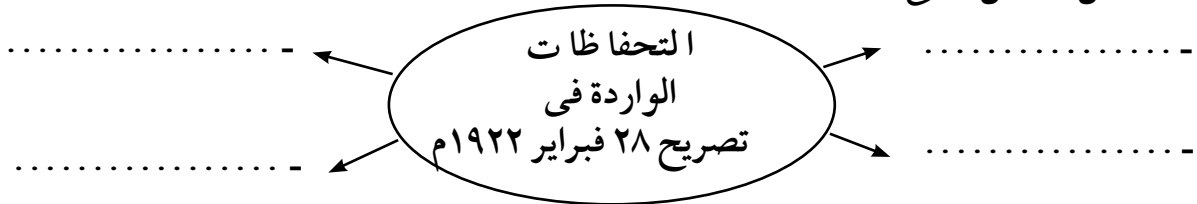
تعبّر الصور عن

.....

.....

نشاط (٤) فكر واستنتج

أ- أكمل الشكل التالي:



ب- عبّر عن رأيك في تصريح ٢٨ فبراير ١٩٢٢ م.

.....

.....

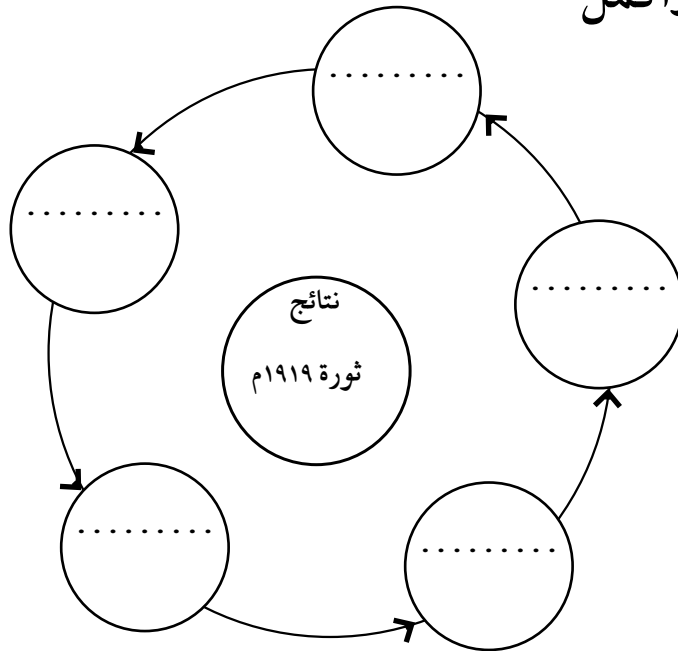
نشاط (٥) فكر ورتب

إليك مجموعة من الأحداث لإحدى الثورات المصرية أعد ترتيبها بوضع رقم داخل الدائرة ثم تعرف اسم الثورة .

.....
تأليف الوفد المصرى	اندلاع الثورة وأحداثها	الصدام بين الوفد المصرى وسلطات الاحتلال البريطانى
.....
تصريح ٢٨ فبراير ١٩٢٢ م	نفى سعد زغلول وزملائه	تجدد الثورة

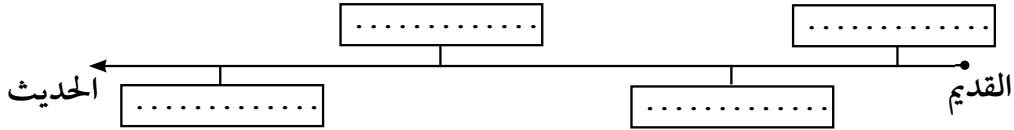
..... - أحداث ثورة

نشاط (٦) فكر وأكمل



نشاط (٧) فكر ورتب

إليك مجموعة من الأحداث التاريخية رتبها على الخط الزمني و التالى من القديم إلى الحديث
تصريح ٢٨ فبراير - الثورة العربية - ثورة ١٩١٩ - الحرب العالمية الأولى .



ثانياً: الأنشطة الإثرائية

نشاط (١) قصة قصيرة

- احكى لاصدقائك أحداث ثورة ١٩١٩ م.

نشاط (٢) العب و تعلم

بالتعاون مع زملائك و مساعدة معلمك اعد نصاً تمثلياً لأحداث ثورة ١٩١٩ ثم قم بأدائه مع زملائك فى وقت النشاط أو الإذاعة المدرسية.

نشاط (٣) ألبوم مصور

- اجمع معلومات مصورة عن ثورة ١٩١٩م و صنفها و ضعها داخل ألبوم، و اعرضه فى المعرض السنوى للدراسات الاجتماعية.

نشاط (٤) فكر و عبر عن رأيك

- شارك زملائك فى كتابة رسالة إلى الزعيم الوطنى سعد زغلول.

نشاط (٥) ابحث و تعلم

- استعن بمكتبة المدرسة أو شبكة الأنترنت و اجمع معلومات عن حادثة دنشواى ثم ارسم لوحة تعبر عنها و احكى قصتها على زملائك موضعاً رأيك فى موقف المصريين منها.

نشاط (٦) مجله حائط

- صمم مجلة حائط بعنوان الكفاح الوطنى ضد الاستعمار.

ثالثاً : التدريبات

السؤال الأول : أكمل العبارات التالية بما يناسبها:

١. ولد سعد زغلول بإحدى قرى مديرية والتحق بـ ليتلقى تعليمه الديني.
٢. تولى سعد زغلول نظارة المعارف عام، ووزارة العدل عام
٣. في ١٨ ديسمبر ١٩١٤ أعلنت إنجلترا على مصر.

السؤال الثاني : :

ضع علامة (✓) أمام العبارة الصحيحة وعلامة (X) أمام العبارة غير الصحيحة فيما يلي :-

- () أ- استولت سلطات الاحتلال البريطاني على المحاصيل الزراعية أثناء الحرب العالمية الأولى
- () ب- أدى ازدياد الوعي القومي لدى المصريين إلى قيام ثورة ١٩١٩م
- () ج- رفضت سلطات الاحتلال سفر أعضاء الوفد المصري إلى إنجلترا
- () د- ألقى القبض على سعد زغلول ومجموعة من أعضاء الوفد المصري في يناير ١٩١٧م

السؤال الثالث : بم تفسر.....؟

أ- قيام ثورة ١٩١٩م.

.....

ب- الصدام بين أعضاء الوفد المصري وسلطات الاحتلال البريطاني.

.....

ج - تعدُّ ثورة ١٩١٩م ثورة شعبية .

.....

السؤال الرابع: اكتب في ثلاثة أسطر عن كل من :

١. دور الطلبة والعمال في ثورة ١٩١٩م.

.....
.....
.....

٢. أهمية تصريح ٢٨ فبراير ١٩٢٢م.

.....
.....
.....

٣. الدور الوطني للزعيم سعد زغلول .

.....
.....
.....

طلعت حرب باشا

أولاً : الأنشطة المصاحبة

نشاط (١) فكر و تعرف

إليك مجموعة من المعلومات لاحدى الشخصيات المصرية التاريخية البارزة حاول تتعرف صاحب الشخصية .

من يكون ؟

– شخصية مصرية ولد بالقاهرة .

– تلقى تعليمة فى مدرسة الحقوق .

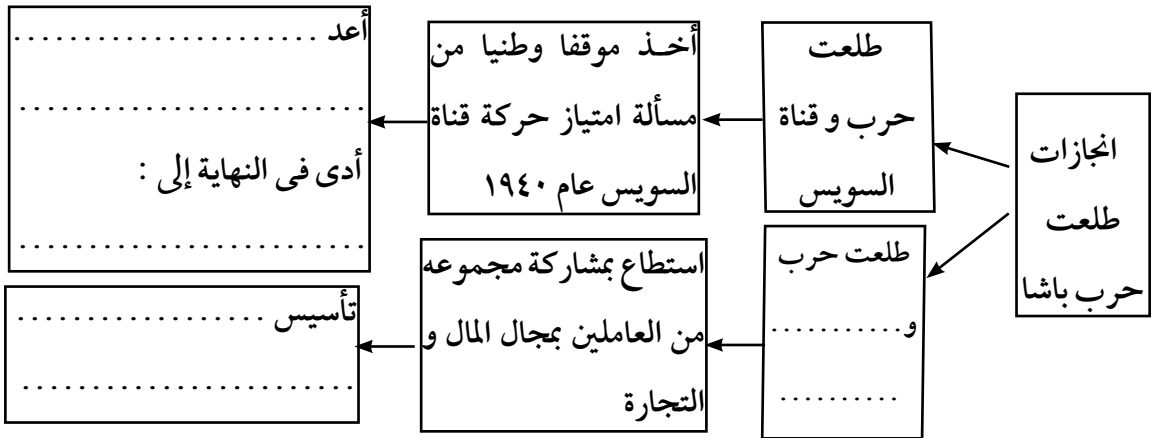
– عمل فى التدريس بالجامعة المصرية .

– عين عضوا بمجلس الشيوخ فى أول برلمان مصرى .

– ارتبط اسمه باستقلال مصر الاقتصادى عن السيطرة الاجنبية .

صاحب الشخصية هو

نشاط (٢) فكر و أكمل



نشاط (٣) لاحظ و عبر

إليك مجموعة صور لشعارات بعض الشركات التي ساهم بنك مصر برئاسة طلعت حرب في تمويلها حاول تعرف اسم الشعار ثم اكتب سطرين عن أهمية بنك مصر في تنمية تلك و الشركات أو المشروعات.



شعار

.....



شعار

.....



شعار

.....

ثانياً : الأنشطة الإثرائية

نشاط (١) ابحث وتعلم

أ - استعن بالمكتبة أو شبكات الأنترنت و اجمع معلومات عن أهمية قناة السويس للاقتصاد المصري .

.....

نشاط (٢) ابحث و اكتب

ب - ارجع إلى الإنترنت ومكتبة المدرسة و اكتب بحثاً قصيراً عن دور طلعت حرب في رفض مد امتياز شركة قناة السويس .

نشاط (٣) ابحث و عبر

- في رأيك أهمية البنوك الوطنية المصرية تتمثل في :

.....

نشاط (٤) اجمع و سجل

بالتعاون مع زملائك اجمع معلومات عن :

ضرورة الاستقلال الاقتصادى فى تدعيم الاستقلال السياسى - نشأة طلعت حرب

نشاط (٥) عبر عن رأيك :

فى رأيك أهمية الرأسمالية الصناعية المصرية تتمثل فى :

١-.....

٢-.....

٣-.....

ثالثاً : التدريبات

السؤال الأول:

ضع علامة (✓) أمام العبارة الصحيحة وعلامة (X) أمام العبارة غير الصحيحة فيما يلي مع التصويب:

- (أ) ساعدت رؤوس الأموال الأجنبية فى التنمية الاقتصادية. ()
- (ب) ساهم طلعت حرب فى رفض مد امتياز شركة قناة السويس. ()
- (ج) أسس طلعت حرب بنك مصر برؤوس أموال مصرية. ()
- (د) اقتصرت مساهمات بنك مصر على المشروعات الصغيرة. ()

السؤال الثانى: بهم تفسر.....؟

أ- ارتباط استقلال مصر السياسى باستقلالها الاقتصادى.

.....

ب- إعداد طلعت حرب تقريراً حول مسألة مد امتياز شركة قناة السويس.

.....

ج- تمويل بنك مصر للصناعات الوطنية.

.....

السؤال الثالث: اكتب فى ثلاثة أسطر عن كل من:

١- دور طلعت حرب فى إنشاء بنك مصر.

.....

.....

.....

٢- أهمية البنوك الوطنية المصرية.

.....

.....

.....

٣- مساندة بنك مصر للرأسمالية الوطنية المصرية.

.....

٤- نشأة طلعت حرب.

.....

السؤال الرابع:

أكمل الفراغات التالية بكلمات مناسبة:

- أ- يرتبط اسم طلعت حرب بالاستقلال الاقتصادي ل.....
 ب- استطاع طلعت حرب تأسيس.....
 ج- يساهم بنك مصر فى تمويل المشروعات.....

تدريبات عامة على الوحدة الثالثة

السؤال الأول:

ضع علامة (✓) أمام العبارة الصحيحة وعلامة (✗) أمام العبارة غير الصحيحة فيما يلي :

- أ- اهتم (محمد علي) بتنظيم الإدارة بما يكفل له السيطرة الكاملة على البلاد. ()
- ب- اهتم (محمد علي) بمشروع حفر قناة السويس. ()
- ج- ولد الزعيم أحمد عرابي في إحدى قرى محافظة الشرقية. ()
- د- دعا مصطفى كامل إلى إنشاء مجلس شورى على النمط الأوروبي. ()
- هـ- بدأت الحرب العالمية الأولى في ٤ أغسطس ١٩١٨م. ()

السؤال الثاني:

أكمل العبارات التالية بما يناسبها من كلمات :

- (أ) أعلنت دولة الحماية على مصر في ديسمبر ١٩١٤م.
- (ب) انتهت الحرب العالمية الأولى في
- (ج) في مارس ١٩١٩ ألقى القبض على
- (د) أصدرت بريطانيا تصريح فبراير عام واعترفت فيه

السؤال الثالث:

بم تفسر.....؟

- (أ) رفض مشروع مد امتياز شركة قناة السويس.

.....

.....

- (ب) قيام ثورة ١٩١٩م.

.....

.....



(ج) مد محمد فريد نشاط الحركة الوطنية إلى أوروبا.

.....

(د) عزل اللورد كرومر من منصبه كمعتمد بريطاني في مصر.

.....

(هـ) مطالبة أحمد عرابي بالمساواة بين أبناء مصر وغيرهم من باقي الأجناس.

.....

السؤال الرابع:

قارن بين الثورة العرابية وثورة ١٩١٩م من حيث الأسباب والنتائج.

وجه المقارنة	الثورة العرابية ١٨٨١م	ثورة ١٩١٩م
الأسباب		
النتائج		

السؤال الخامس:

ما المقصود بالمفاهيم التالية.....؟

١ - حكومة مركزية.

٢ - ثورة.

٣ - جلاء.

٤ - دستور.

ثورة ٢٣ يوليو ١٩٥٢ م

أولاً : الأنشطة المصاحبة

نشاط (١) فكر وعبر

- تخيل أنك تعيش فى مصر قبل ثورة ٢٣ يوليو ١٩٥٢ صف أحوالها آنذاك

.....

.....

نشاط (٢) فكر وصنف

- إليك قائمة ببعض الأسباب التى أدت إلى قيام ثورة يوليو ١٩٥٢ صنفها فى الجدول التالى :

أسباب ثورة ٢٣ يوليو ١٩٥٢

- سوء توزيع الثروات . - ارتفاع الأسعار . - غياب العدالة الاجتماعية . - قلة الدخل .
- فساد الحكام . - الاحتلال البريطانى لمصر . - انتشار الفقر .

أسباب اجتماعية	أسباب اقتصادية	أسباب سياسية
.....
.....
.....
.....

نشاط (٣) لاحظ وعبر

إليك عدد من الصور عن مبادئ ثورة ٣٢ يوليو ١٩٥٢ أكتب المبدأ التي تعبر عنه كل صورة وكيف تحقق؟!!



القضاء.....

تحقق ب.....



القضاء.....

تحقق ب.....



إقامة.....

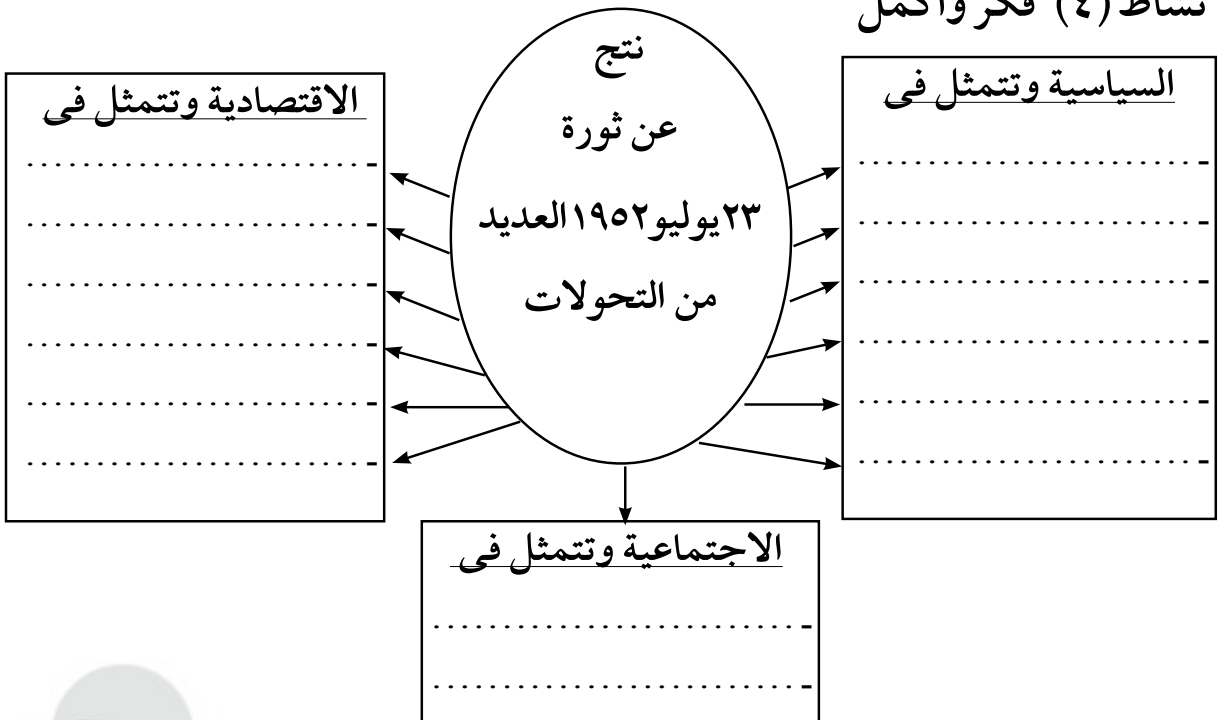
تحقق ب.....



إقامة.....

تحقق ب.....

نشاط (٤) فكر وأكمل





نشاط (٥) لاحظ وأجب:

لاحظ الصورة التالية ثم أجب:

- ١- تعبر الصورة عن عام
- ٢- سبب تسميته بهذا الاسم
- ٣- هل نجح أم فشل؟ ولماذا؟

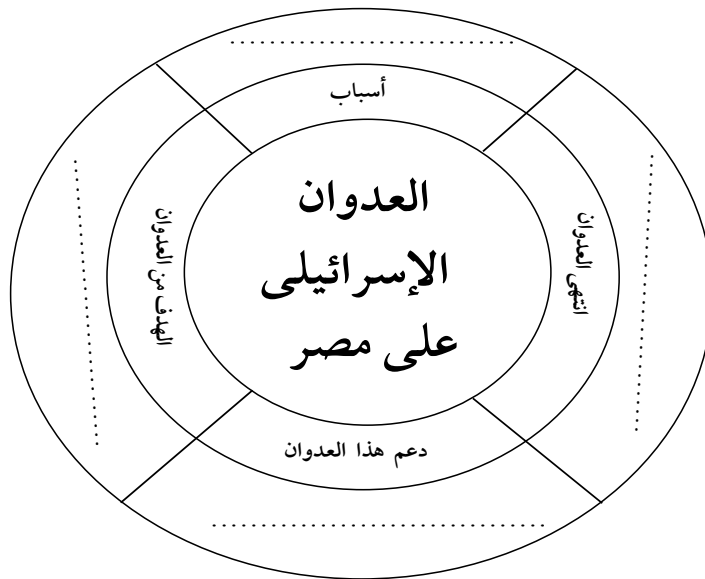
.....

.....

.....

نشاط (٦) فكر وأكمل:

فكر وأكمل بوصلة الأحداث لتتعرف معلومات عن العدوان الإسرائيلي على مصر.





ثانياً: الأنشطة الإثرائية

نشاط (١) ابحث واجمع

- مستعينا بشبكة المعلومات الدولية «الإنترنت»
- اجمع معلومات عن بعض الشخصيات الموجودة في الصورة التي أمامك، وضعها في مطوية إلكترونية.

نشاط (٢) ابحث وتعلم

- ابحث في الإنترنت عن الدروس المستفادة من هزيمة مصر عام ١٩٦٧م

ثالثاً: التدريبات

السؤال الأول : أكمل العبارات الآتية بما يناسبها مما بين الأقواس :

(١٩٥٢ - ١٩٥٦ - ١٩٦٢ - ١٩٧١)

١. قامت إسرائيل ومعها إنجلترا وفرنسا بالعدوان الثلاثي على مصر في عام.....م.
٢. بدأ العمل في بناء السد العالي على نهر النيل في عام.....م.
٣. تم افتتاح السد العالي في عام.....م.

السؤال الثاني: ضع علامة (✓) أمام العبارة الصحيحة وعلامة (x) أمام العبارة غير الصحيحة فيما يلي.

١. ألغيت الأحزاب السياسية في يناير ١٩٥٣م. ()
٢. تم جلاء القوات البريطانية عن مصر في عام ١٩٥٤م. ()
٣. أعلن تأميم قناة السويس في ٢٣ يوليو ١٩٥٢م. ()
٤. أصدرت حكومة ثورة يوليو قانون الإصلاح الزراعي الأول في ٩ سبتمبر ١٩٥٢م. ()

السؤال الثالث : رتب العبارات الآتية في ضوء معرفتك لزمن حدوثها .

- () تأميم قناة السويس .
 () العدوان الإسرائيلي على مصر في ٥ يونيو ١٩٦٧ م .
 () صدور قانون الإصلاح الزراعي الأول .
 () افتتاح السد العالي .

السؤال الرابع : تخير من القائمة (ب) ما يناسبها من القائمة (أ) :

القائمة (ب)	القائمة (أ)
<ul style="list-style-type: none"> • ٢٦ يوليو ١٩٥٦ م . • ١٩ أكتوبر ١٩٥٤ م . • ٢٩ أكتوبر ١٩٥٦ م . • ٥ يونيو ١٩٦٧ م . 	<ol style="list-style-type: none"> ١ . بدأ العدوان الثلاثي على مصر بالهجوم الإسرائيلي في ٢ . أعلن تأميم قناة السويس في ٣ . عقدت اتفاقية الجلاء مع بريطانيا في

حرب أكتوبر «ملحمة العبور ١٩٧٣م»

أولاً : الأنشطة المصاحبة

نشاط (١) فكر وعبر

صف أحوال مصر قبل حرب أكتوبر فيما لا تزيد عن خمسة أسطر، موضحاً موقف أبناءها لاسيما بعد هزيمة ٥ يونيو ١٩٦٧:

.....

.....

.....

.....

.....

نشاط (٢) شاهد وعبر:

أ - من خلال مشاهدتك لبعض الأفلام الوثائقية أو قراءتك عن حرب أكتوبر ١٩٧٣م صف أحداث الحرب وعلق عليها بأسلوبك:

.....

.....

.....

.....

ب - إذا طلب إليك توجه رسالة إلى الجندي المصري الذي شارك في حرب أكتوبر ١٩٧٣ فماذا تقول؟

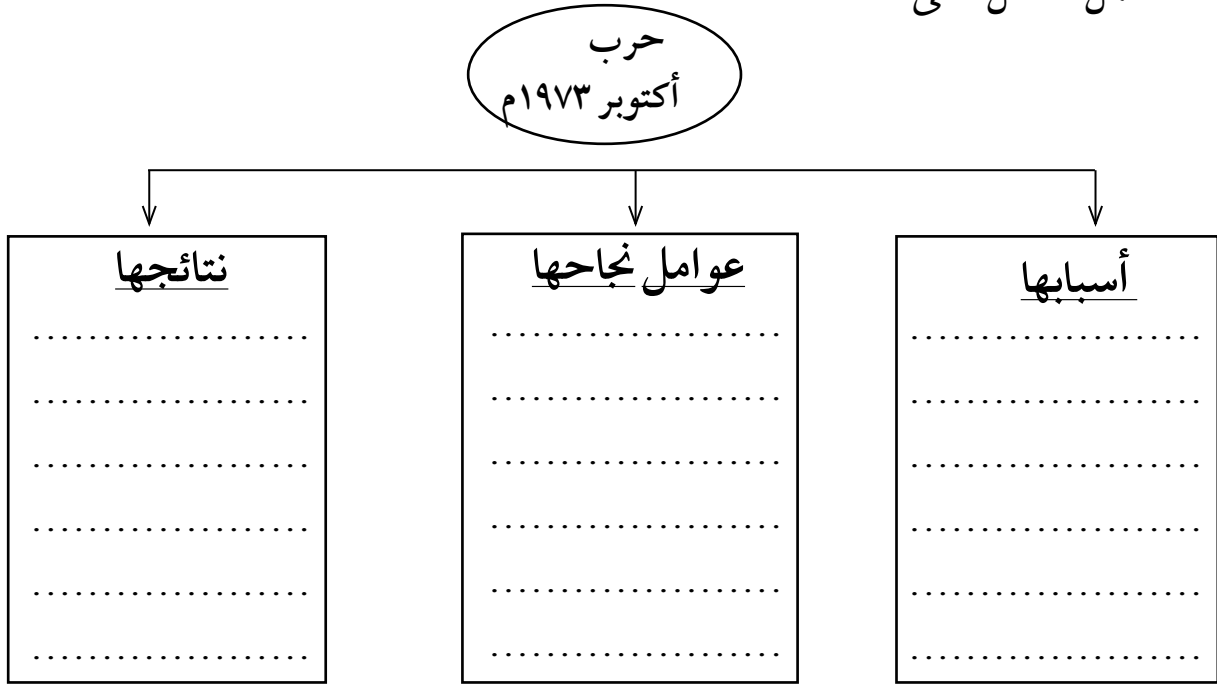
.....

.....

.....

نشاط (٣) فكر وأكمل ثم عبر عن رأيك

أ- أكمل الشكل التالي:



ب- على ضوء ما درست في رأيك هل كان قرار حرب أكتوبر ١٩٧٣ قرارًا صوابًا أم خطأ؟ ولماذا؟

.....

.....

نشاط (٤) عبر عن رأيك:

- وجه رسالة إلى قيادات الجيش المصري في حرب أكتوبر ١٩٧٣ وأخري إلى كل دول العالم توضح لهم من هم الجنود المصريين البواسل.

.....

.....

.....

.....

ثانياً : الأنشطة الإثرائية

نشاط (١) مجلة مصورة

- تعاون مع زملائك فى تصميم وإعداد مجلة مصورة عن أهم أحداث حرب أكتوبر ١٩٧٣ م وأهم نتائجها تحريراً وإخراجاً.

نشاط (٢) شاهد واكتب

- أعد مع معلمك رحلة إلى بانوراما ٦ أكتوبر، واكتب تقريراً عما شاهدته فى أثناء الزيارة.

نشاط (٣) ابحث وتعلم

- استعين بالمكتبة أو شبكة الإنترنت فى جمع معلومات أخرى عن حرب أكتوبر ١٩٧٣ م.

نشاط (٤) تعلم وابتكر

- صمم مجسماً لحرب أكتوبر ١٩٧٣.

نشاط (٥) شاهد وصف

- صف ما تعبر عنه الصورة.



.....

.....

.....

.....

.....

.....

.....

.....

نشاط (٦) فكر واكتب

- وجه رسالة شكر لأبطال حرب أكتوبر ١٩٧٣ . وأخرى لشهدياتها .

نشاط (٧) استنتج العلاقة

أمامك مجموعة من الأحداث التاريخية المهمة حدد العلاقة بينهما .

- الثورة الجزائرية والعدوان الثلاثي على مصر .

- هزيمة الجيش المصري فى ٥ يونيو ١٩٦٧ ، ونصر أكتوبر المجيد ١٩٧٣ م .

نشاط (٨) فكر وحدد

- فى الجدول الذى أمامك حدد أوجه الشبه والاختلاف بين قرارى مجلس الأمن رقمى ٣٣٨ و ٣٤٠ .

وجه المقارنة	قرار مجلس الأمن رقم ٣٣٨	قرار مجلس الأمن رقم ٣٤٠
أوجه الشبه		
أوجه الاختلاف		

ثالثاً : التدريبات

السؤال الأول : اكمل

١. أقامت إسرائيل عدة تحصينات أمام الجيش المصرى منها.....،.....
٢. من أسباب قيام حرب أكتوبر ١٩٧٣ م.....،.....،.....
٣. من نتائج حرب أكتوبر.....،.....،.....

ضع علامة (✓) أمام العبارة الصحيحة وعلامة (X) أمام العبارة غير الصحيحة مع التصويب :

١. احتلت إسرائيل الضفة الغربية لقناة السويس بعد عدوان ١٩٦٧ م ()
٢. ساندت بعض الدول العربية مصر وسوريا فى حرب ١٩٧٣ م. ()
٣. التزمت كل من مصر وإسرائيل بقرار مجلس الأمن رقم ٣٣٨. ()
٤. غيرت حرب أكتوبر ١٩٧٣ م نظرة العالم للجيش المصرى . ()

السؤال الثالث : يم تفسر ؟.

١. فشل إسرائيل فى اقتحام مدينة السويس .

٢. نجاح الجيش المصرى فى عبور قناة السويس فى حرب أكتوبر ١٩٧٣ م .

السؤال الرابع : ما المقصود بالمصطلحات التالية ؟

١. خط بارليف.
٢. حرب الاستنزاف .
٣. الثغرة.

٢٥ يناير (الحرية والكرامة) ٢٠١١ م

أولاً : الأنشطة المصاحبة

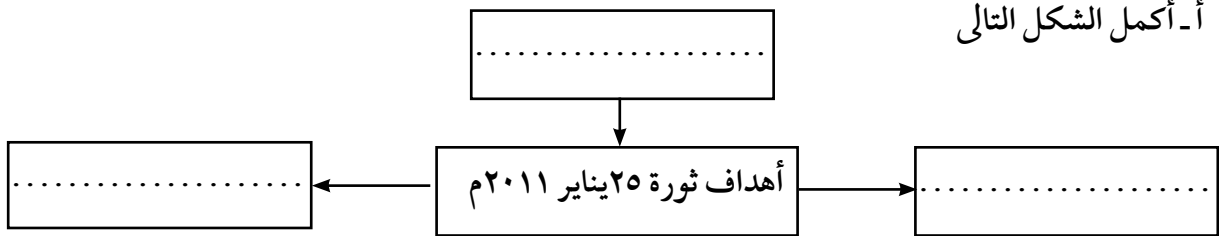
نشاط (١) فكر وصنف

صنف الأسباب التي أدت إلى قيام ثورة ٢٥ يناير ٢٠١١ م فى الجدول التالى :

الصحية	التعليمية	الاجتماعية	الاقتصادية	السياسية

نشاط (٢) فكر وصمم

أ- أكمل الشكل التالى



ب- صمم شعاراً لثورة ٢٥ يناير ٢٠١١ داخل المستطيل التالى :

ج - اكتب رسالة للشباب المصريين الذين شاركوا في ثورة ٢٥ يناير معبراً عن رأيك فيما قاموا به .

.....

.....

.....

نشاط (٣) تذكر واحكى

أ- احكى لزملائك أحداث ثورة ٢٥ يناير ٢٠١١ .

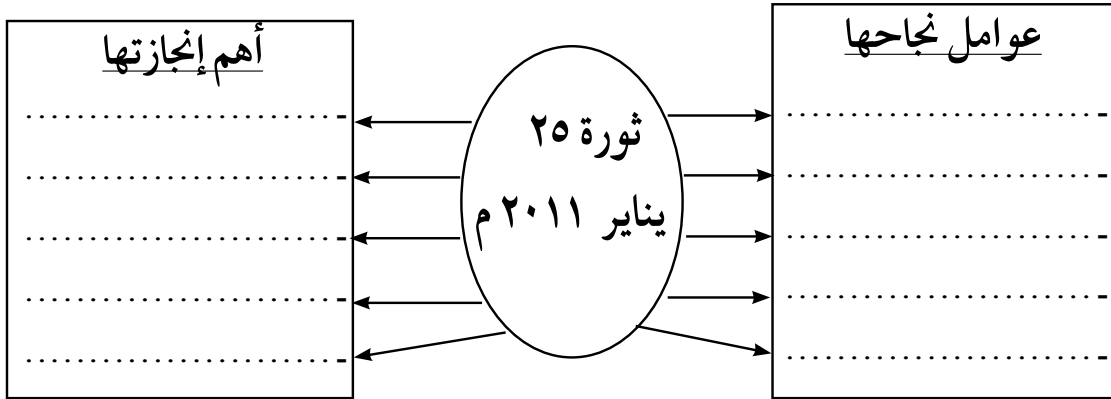
.....

.....

.....

نشاط (٤) فكر وأكمل

أ- أكمل الشكل التالي



ب - وجه رسالة لأرواح شهداء ثورة الخامس والعشرين من يناير ٢٠١١م موضحاً لهم أن دماءهم كانت وقوداً للثورة .

.....

.....

ثانياً : الأنشطة الإثرائية

نشاط (١) ابحث وتعلم

- ابحث في الإنترنت عن موقف مصر تجاه القضايا التالية: «القضية الفلسطينية - انفصال جنوب السودان - تقسيم مياه النيل».

نشاط (٢) فكر وعبر

- عبر في عشرة سطور عن أحوال المجتمع المصرى الاقتصادية والاجتماعية قبل ثورة ٢٥ يناير ٢٠١١م.

نشاط (٣) فكر واكتب

- اكتب مقالاً قصيراً عن دور اللجان الشعبية أثناء الثورة.

نشاط (٤) برقية عزاء

- ابعث برقية عزاء لأمهات شهداء ثورة ٢٥ يناير ٢٠١١م.

نشاط (٥) فكر وعبر

- اكتب خمسة أسطر عن دورك اليوم وغداً نحو وطنك الغالى مصر «تحت شعار ابدأ بنفسك».

نشاط (٦) ألبوم مصور

- صمم ألبوم لشهداء ثورة ٢٥ يناير ٢٠١١م.

نشاط (٧) ابحث واكتب

- استعن بالإنترنت واكتب موضوعاً عن:
أهم التحولات السياسية والاقتصادية والاجتماعية بعد ثورة ٢٥ يناير ٢٠١١م.

ثالثاً: التدريبات

السؤال الأول : أكمل العبارات الآتية بما يناسبها من كلمات

١. من نتائج ثورة ٢٥ يناير إلغاء.....،.....
٢. بدأت الثورة من ميدان.....بوسط القاهرة.
٣. أطلق على ثورة ٢٥ يناير أنها ثورة سلمية.....

السؤال الثاني: بم تفسر.....؟

١. تكوين اللجان الشعبية في جميع أنحاء الجمهورية أثناء الثورة.

.....

.....

٢. سقوط مئات الشهداء من الشباب عقب ٢٥ يناير ٢٠١١م.

.....

.....

٣. تأكيد الثورة المصرية على الوحدة الوطنية.

.....

.....

٤. الاهتمام بالكمبيوتر والإنترنت بعد ثورة ٢٥ يناير ٢٠١١م.

.....

.....

السؤال الثالث : ضع علامة (✓) أمام العبارة الصحيحة وعلامة (×) امام العبارة غير الصحيحة

مع التصويب فيما يلي .

١. قام الشباب المصري بالتظاهر يوم ٢٥ يناير ٢٠١١م. ()
٢. ساهم تدنى الأحوال السياسية والاقتصادية والاجتماعية في قيام الثورة. ()
٣. حقق الجيش المصري تلاحماً وطنياً عظيماً مع الشعب أثناء الثورة. ()
٤. استجاب النظام السياسي لمطالب الشباب يوم ٢٥ يناير. ()

السؤال الرابع : ما النتائج التي ترتبت على.....؟

١. انسحاب الأمن من الشارع المصرى أثناء ثورة ٢٥ يناير.

.....

٢. تلاحم الشباب والشعب فى كل محافظات مصر.

.....

٣. ثورة ٢٥ يناير ٢٠١١م من الناحية السياسية.

.....

تدريبات عامة على الوحدة الرابعة

السؤال الأول: اختر الإجابة الصحيحة مما بين القوسين

١. من أسباب سوء حالة مصر قبل ثورة ١٩٥٢ م.....
(فساد الحكام - تعدد الأحزاب - تأمين البنوك - إلغاء الرتب المدنية)
٢. من نتائج ثورة ٢٣ يوليو ١٩٥٢ م تأسيس.....
(بنك مصر - جمعية مصر الفتاة - حركة عدم الانحياز - شركة مصر للتأمين)
٣. عادت الملاحة بقناة السويس تحت السيادة المصرية الكاملة في.....
(يونيو ١٩٧٥ م - مارس ١٩٧٩ م - مارس ١٩٨٩ م - يوليو ١٩٦٧ م)
٤. سيطر الحزب قبل ثورة ٢٥ يناير ٢٠١١ م على أغلبية مقاعد مجلسي الشعب والشورى
(الوفدى - الديمقراطى - الوطنى - الثورى)

السؤال الثانى: أكمل العبارات التالية بكلمة مناسبة:

١. عقدت اتفاقية..... بين مصر وبريطانيا عام ١٩٥٤ م .
٢. أثناء ثورة ٢٥ يناير ٢٠١١ م تم قطع جميع وسائل.....
٣. صدر قانون الإصلاح الزراعى الأول عام..... م .
٤. يعد مشروع توريث الحكم فى مصر من أبرز أسباب ثورة.....
٥. نجحت ثورة ٢٥ يناير فى إسقاط..... و.....
٦. اتخذ قرار حرب أكتوبر بالتنسيق بين الجيش..... والجيش.....
٧. تمثلت المشكلات الاقتصادية قبل ثورة ٢٣ يوليو فى..... و.....
٨. ساهمت عوامل عدة فى نجاح حرب أكتوبر ومنها..... و.....
٩. سعت حرب أكتوبر ١٩٧٣ م لإنهاء حالة..... و..... التى فرضت فى المنطقة.
١٠. من أبرز التحولات فى ثورة ٢٣ يوليو ١٩٥٢ م القضاء على النظام..... وإعلان.....



السؤال الثالث: ضع علامة (✓) أمام العبارة الصحيحة وعلامة (X) أمام العبارة غير الصحيحة فيما يلي.

١. اتسمت ثورة ٢٥ يناير ٢٠١١م بأنها ثورة سلمية بيضاء. ()
٢. أعادت ثورة يوليو الأحزاب السياسية في يناير ١٩٥٣م. ()
٣. انتشرت التجاوزات والأخطاء والفساد الإداري في مؤسسات الحكم قبل ثورة ٢٥ يناير ()
٤. حُرم الفلاحون من امتلاك الأراضي الزراعية قبل ثورة يوليو ١٩٥٢م ()
٥. من عوامل تحقيق النصر في حرب أكتوبر مشاركة الدول العربية. ()
٦. التزمت مصر وإسرائيل بقرار مجلس الأمن رقم ٣٣٨. ()
٧. انعكس فساد الحكام على أحوال مصر قبل ثورة يوليو ١٩٥٢م ()

السؤال الرابع : بم تفسر ؟

١. فشل العدوان الثلاثي على مصر في ١٩٥٦م

.....

٢. العدوان الاسرائيلي على مصر في يونيو ١٩٦٧م.

.....

٣. اندلاع ثورة ٢٥ يناير ٢٠١١م.

.....

٤. تشكيل لجان شعبية أثناء ثورة ٢٥ يناير ٢٠١١م.

.....

السؤال الخامس: ما النتائج التي ترتبت على

١. تأمين قناة السويس في يوليو ١٩٥٦م.

.....

٢. انتصار السادس من أكتوبر ١٩٧٣م.

.....



٣. مناصرة مصر لحركات التحرر الوطني في آسيا وأفريقيا.

.....

٤. انسحاب الشرطة وتخليها عن أداء مهامها بعد ٢٥ يناير ٢٠١١ م.

.....

السؤال السادس: رتب الأحداث التاريخية التالية من القديم للحديث:

حرب الاستنزاف - العدوان الاسرائيلي على مصر - العدوان الثلاثي على مصر - تأميم قناة السويس - افتتاح السد العالى.

.....

.....

السؤال السابع: قارن بين :

ثورتى ٢٣ يوليو ١٩٥٢ م، ٢٥ يناير ٢٠١١ م فى الجدول التالى :

وجه المقارنة	٢٣ يوليو ١٩٥٢ م	٢٥ يناير ٢٠١١ م
أحوال مصر قبيل الثورة		
أسباب الثورة		
أهداف / مبادئ الثورة		
ما تم تحقيقه من إنجازات		

السؤال الثامن: ماذا كان يحدث إذا.....؟

١. لم يتم تأميم قناة السويس فى يوليو ١٩٥٦ م.

.....

٢. لم يتم صدور قانون الإصلاح الزراعى.

.....

٣. هُزمت مصر فى حرب أكتوبر ١٩٧٣ م.

.....

تدريبات عامة على الفصل الدراسي الثاني للصف السادس الابتدائي

السؤال الأول : -

ضع علامة (√) أمام العبارة الصحيحة وعلامة (×) أمام العبارة غير الصحيحة مع التصويب فيما يلي :

١. تعد الصحراء الغربية أكبر صحارى مصر فى مساحتها . ()
٢. تمتد الصحراء الشرقية من وادى النيل والدلتا شرقا حتى الحدود المصرية الليبية غربا . ()
٣. من أكبر محافظات الصحراء الشرقية مساحة محافظة البحر الأحمر . ()
٤. تقع هضبة مارماريكا فى الشمال من الصحراء الشرقية . ()
٥. تعرف الهضبة الجنوبية فى الصحراء الغربية بهضبة الجلف الكبير . ()
٦. يعد جبل سانت كاترين من أعلى جبال شبه جزيرة سيناء . ()
٧. يتميز مناخ البيئة الصحراوية بالاعتدال صيفا وشتاءا . ()
٨. تربة البيئة الصحراوية تربة طينية لزجة . ()
٩. من العادات الإيجابية فى البيئة الصحراوية الزواج المبكر . ()
١٠. يؤدي تملح التربة إلى رفع كفاءة إنتاجية الأرض . ()
١١. يحدها الصحراء الغربية البحر الأحمر شرقاً و وادى النيل غرباً. ()
- ١٢- تضم البيئة الساحلية فى مصر إحدى عشرة محافظة . ()
- ١٣- تعتبر مدينة مرسى مطروح من المدن المليونية بالبيئة الساحلية. ()
- ١٤- تنتشر الشعاب المرجانية بمناطق متفرقة بسواحل البحر المتوسط. ()

- ١٥- يتسم مناخ البيئة الصحراوية بارتفاع الحرارة صيفاً وانخفاضها شتاءً ()
- ١٦- تتميز السهول الساحلية فى شمال الدلتا بانخفاض منسوبها . ()
- ١٧- تكثر الخلجان على ساحلى خليج السويس و العقبة وتقل على طول ساحل البحر الأحمر ()
- ١٨ . يعمل سكان البيئة الساحلية بالزراعة فى مناطق متعددة . ()
- ١٩ . تعد البيئة الساحلية مناطق طرد لسكانها . ()
- ٢٠ . أصدرت الدولة قوانين تجرم رمى مخلفات الصرف فى مياه البحر . ()
- ٢١ . لم يهتم (محمد على) بتنمية وتطوير الزراعة . ()
- ٢٢ . اعتمد (محمد على) فى قيام صناعاته على المواد الخام فى مصر . ()
- ٢٣ . أنشأ (محمد على) قصر الجوهرة بالقلعة . ()
- ٢٤ . اهتم (محمد على) ببناء مصر الحديثة على النسق الإنجليزى . ()
- ٢٥ . ينقسم الساحل الشمالى إلى خمسة أقسام . ()
- ٢٦ - أعلنت انجلترا حمايتها على مصر فى عام ١٩٠٤ م . ()
- ٢٧ . عقدت فرنسا مع انجلترا ما عرف بالاتفاق الودى عام ١٩٠٤ م . ()
- ٢٨ . ولد الزعيم أحمد عرابى بمحافظة الاسكندرية . ()
- ٢٩ . أدت الامتيازات الأجنبية إلى التدخل فى شئون مصر . ()
- ٣٠ . انضم الزعيم مصطفى كامل إلى صفوف الثورة العربية . ()
- ٣١ . قام محمد فريد بدور كبير فى مقاومة الاحتلال البريطانى . ()

- ٣٢ . تتلمذ سعد زغلول على يد الشيخ محمد عبده . ()
- ٣٣ . بدأت الحرب العالمية الأولى في ١٤ أغسطس ١٩١٤ م . ()
- ٣٤ . وافقت السلطات البريطانية في مصر على سفر الوفد المصرى إلى باريس . ()
- ٣٥ . خيب مؤتمر الصلح آمال المصريين فى الاستقلال . ()
- ٣٦ . نفى الزعيم سعد زغلول ورفاقه فى المرة الأولى إلى جزيرة سيشل . ()
- ٣٧ . شكل سعد زغلول أول حكومة دستورية فى مصر عام ١٩١٩ م . ()
- ٣٨ . تعتبر ثورة ١٩١٩م ثورة شعبية . ()
- ٣٩ . رفض طلعت حرب مشروع مد امتياز شركة قناة السويس عام ١٩١٠ م . ()
- ٤٠ . أسس طلعت حرب بنك مصر عام ١٩٢٢ م . ()
- ٤١ . ساهم بنك مصر فى تمويل الصناعات المصرية الكبيرة . ()
- ٤٢ . عزل اللورد كرومر من منصبه بعد حادثة دنشواى عام ١٩٠٦ م . ()
- ٤٣ . أعلن تأميم شركة قناة السويس فى عام ١٩٥٦ م . ()

السؤال الثانى :-

اكتب المفهوم أو المصطلح الذى تعبر عنه العبارات التالية :-

- ١ . أرض منخفضة تحيط بها أراضى مرتفعة . ()

٢. كومات رملية تأخذ أشكالاً مختلفة وتنتشر فى مناطق الصحارى . ()
٣. قطعة من الأرض مزروعة بالنخيل والمحاصيل الحقلية وسط أرض صحراوية. ()
٤. سياحة تتم داخل الصحراء . ()
٥. سياحة الغرض منها التمتع بالبيئة الطبيعية خاصة مناطق المحميات . ()
٦. تدهور التربة الزراعية وانخفاض القدرة الإنتاجية لها . ()
٧. وجود كميات كبيرة من الرمال المفككة تقوم الرياح بتحريكها من مكان لآخر . ()
٨. أى مساحة من الأرض أو المياه تتميز بما تضمه من كائنات حية نباتية أو حيوانية ذات قيمة ثقافية أو علمية يتم حمايتها . ()
٩. تلال مكونة من الصخور الجيرية ناصعة البياض . ()
١٠. مناطق منخفضة ممتلئة بالمياه والحشائش والأعشاب . ()
١١. تداخل مائى فى اليابس . ()
١٢. مسطحات مائية تمتد عادة موازية للبحر وتتصل به عن طريق بواغيز. ()
١٣. خليج شديد الضيق متعمق فى اليابس نتيجة هبوط الساحل . ()
١٤. المدينة التى يزيد عدد سكانها على مليون نسمة . ()
١٥. هجرة أفراد وجماعات إلى خارج الدولة بطرق غير قانونية . ()
١٦. قيام الأمواج بنحت الصخور التى تشكل ساحل البحر . ()

- ١٧ . خروج القوات المحتلة من أراضي الدول التي احتلتها نهائيا . ()
- ١٨ . تغير أساسى فى الأوضاع السياسية والاجتماعية يقوم به الشعب . ()
- ١٩ . بنك يديره المواطنون بأموال وطنية . ()

السؤال الثالث :

ما النتائج التى ترتبت على؟

- ١ . ارتفاع نسبة مساحة الصحارى المصرية .
- ٢ . حدوث السيول فى البيئة الصحراوية .
- ٣ . هبوب رياح الخماسين على مصر .
- ٤ . توافر الآبار والعيون فى الصحارى المصرية .
- ٥ . ندرة الماء فى الصحارى المصرية .
- ٦ . توافر مناطق التعدين وحقول البترول فى البيئة الصحراوية .
- ٧ . تمتع البيئة الصحراوية بمناظرها الخلابة .
- ٨ . حركة الرمال على البيئة الصحراوية .
- ٩ . إنشاء الدولة للسدود على الأودية .
- ١٠ . انتشار سلاسل التلال الجيرية فى البيئة الساحلية .
- ١١ - حدوث السيول



- ١٢ . انتشار الجزر الساحلية بالبحر الأحمر .
- ١٣ . اهتمام (محمد على) في سياسته الاقتصادية بالاكتفاء الذاتى .
- ١٤ . سياسة (محمد على) الخارجية التوسعية .
- ١٥ . معاهدة لندن عام ١٨٤٠ م .
- ١٦ . الديون التى زادت فى عهد إسماعيل باشا .
- ١٧ . قيام أحمد عرابى وزملائه بتقديم عريضة إلى رياض باشا .
- ١٨ . معركة التل الكبير ١٨٨٢ م .
- ١٩ . نفى سعد زغلول وزملائه إلى جزيرة مالطة ١٩١٩ م .
- ٢٠ . إنشاء طلعت حرب لبنك مصر .
- ٢١ . عقد معاهدة السلام بين مصر وإسرائيل ١٩٧٩ م .
- ٢٢ . انتصار المصريين فى معركة أكتوبر ١٩٧٣ م .

السؤال الرابع :

قارن بين كل من : -

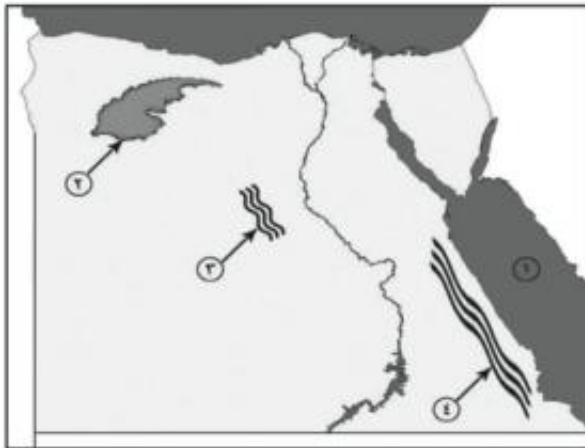
- ١ . البيئة الصحراوية - البيئة الساحلية من حيث مظاهر السطح - المناخ .
- ٢ . سكان البيئة الصحراوية - سكان البيئة الساحلية من حيث الكثافة والتوزيع .



٣. البيئة الصحراوية و البيئة الساحلية من حيث النبات والحيوان .
٤. البيئة الصحراوية والبيئة الساحلية من حيث المشكلات فى كل منهما .
٥. الخليج - الشرم .
٦. البوغاز والمستنقع .
٧. أسباب ثورة ١٨٨١م و ثورة ١٩١٩م .
٨. نتائج كلا من ثورة ١٨٨١م و ثورة ١٩١٩م .
٩. الأسباب السياسية - الأسباب الاقتصادية لثورة يوليو ١٩٥٢م .
١٠. العادات الايجابية والسلبية لسكان البيئة الساحلية .

السؤال الخامس :

(أ) أمامك خريطة صماء لجمهورية مصر العربية .



اكتب مدلول الأرقام الموقعة عليها :-

١. البحر
٢. منخفض
٣. كثبان
٤. جبال



(ب) أمامك خريطة صماء لجمهورية مصر العربية .

اكتب مدلول الأرقام الموقعة عليها : -



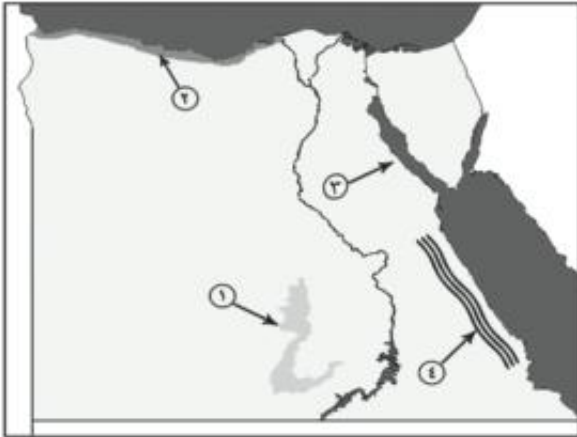
١ . هضبة

٢ . البحر

٣ . الصحراء

٤ . جبل

(ج) أمامك خريطة صماء لجمهورية مصر العربية اكتب مدلول الأرقام الموقعة عليها:



١ . واحة

٢ . الساحل

٣ . خليج

٤ . جبال

(د) أمامك خريطة صماء لمصر - اكتب مدلول الأرقام الموقعة عليها :



١ . الصحراء

٢ . شبه جزيرة

٣ . هضبة

٤ . بحيرة

السؤال السادس :

أكمل العبارات التالية بما يناسبها من كلمات : -

- ١ . تبلغ نسبة مساحة البيئة الصحراوية ...% من جملة مساحة مصر .
- ٢ . الصحراء الغربية تمتد من وادي النيل والدلتا شرقاً إلى دولة.....غرباً .
- ٣ . تبلغ مساحة الصحراء الشرقية نحو% من جملة مساحة مصر .
- ٤ . من أكبر محافظات الصحراء الشرقية مساحة محافظة
- ٥ . تقع هضبة في شمال غرب الصحراء الشرقية .
- ٦ . تربة الواحات تنتج عن اختلاط الرمال ب.....
- ٧ . يعتبر وادي من الأودية الجافة في الصحراء الشرقية .



٨. يتميز مناخ البيئة الصحراوية بـ الحرارة في فصل الصيف .
٩. تتوافر المياه بالبيئة الصحراوية .
١٠. من أهم الحيوانات البرية في البيئة الصحراوية
١١. تعد من مناطق التركيز السكاني في البيئة الصحراوية .
١٢. من أهم العادات السلبية في البيئة الصحراوية عمل الأطفال في
١٣. تعد حرفة من الحرف الأصيلة في البيئة الصحراوية .
١٤. يهتم سكان البيئة الصحراوية بالصناعات
١٥. من أهم مناطق تعدين الحديد بالواحات البحرية منطقة
١٦. السياحة الغرض منها التمتع بالبيئة الطبيعية .
١٧. تعد البيئة مستقبل مصر .
١٨. تؤثر في إتلاف الحقول الزراعية بالبيئة الصحراوية .
١٩. تمتد البيئة على طول ساحل البحر المتوسط والبحر الأحمر .
٢٠. تقوم بدور هام في تخزين مياه الأمطار في البيئة الساحلية .
٢١. من أشهر القبائل الرعوية في الصحراء الشرقية قبائل
٢٢. يصل عدد الجزر الساحلية على البحر الأحمر نحو جزيرة .



٢٣. تنتشر في مناطق متفرقة بالمياه الضحلة لساحل البحر الأحمر .
٢٤. من أهم النباتات الطبيعية في البيئة الساحلية شجيرات
٢٥. المدن هي المدن التي يزيد عدد سكانها عن مليون نسمة .
٢٦. طبع البحر سكان البيئة الساحلية على حب والشجاعة في مواجهة الأخطار .
٢٧. من العادات السلبية لسكان البيئة الساحلية الهجرة غير..... .
٢٨. يبلغ الإنتاج السنوي من الثروة السمكية في البيئة الساحلية ما يزيد على % من إنتاج مصر .
٢٩. تعد حرفة من الحرف الرئيسية في البيئة الساحلية .
٣٠. من أهم اسماك البحر الأحمر والدنيس .
٣١. قسم (محمد على) البلاد إلى مديريات .
٣٢. يرأس النظام الإداري في عهد (محمد على) الحكومة ومقرها القاهرة .
٣٣. اهتم (محمد على) في سياسته الاقتصادية على
٣٤. من أهم مشروعات الري في عهد (محمد على) مشروع
٣٥. أنشأ (محمد على) قصر بالقلعة .
٣٦. أقام (محمد على) معامل للسكر في
٣٧. أصبحت مدينة مقر الحكومة المركزية في عصر محمد على .

- ٣٨ . ولد احمد عربي في محافظة
- ٣٩ . يعد الإمام من زعماء الإصلاح في مصر .
- ٤٠ . عقدت فرنسا مع انجلترا ما يعرف بـ عام ١٩٠٤ م .
- ٤١ . عزل اللورد كرومر من منصبه عقب حادثة
- ٤٢ . تتلمذ سعد زغلول على يد المصلح الديني الشيخ
- ٤٣ . تم اختيار سعد زغلول وزيرا للحقانية عام م .
- ٤٤ . نفى سعد زغلول وزملائه في مارس ١٩١٩م إلى جزيرة
- ٤٥ . أعقب تصريح ٢٨ فبراير ١٩٢٢م إصدار دستور
- ٤٦ . شكل سعد زغلول أول في مصر عام ١٩٢٤م .
- ٤٧ . رفض طلعت حرب مسألة مد امتياز شركة قناة السويس في عام م .
- ٤٨ . أسس طلعت حرب بنك عام ١٩٢٠م .
- ٤٩ . تم افتتاح السد العالي عام م .

السؤال السابع :

بم تفسر ؟

- ١ . حدوث السيول في البيئة الصحراوية .



٢. وجود السكان بالواحات في البيئة الصحراوية .
٣. إنخفاض جودة التربة في المناطق الصحراوية.
٤. معاناة سكان البيئة الصحراوية من المشكلات الاقتصادية.
٥. تعد السياحة من الأنشطة الاقتصادية الهامة في البيئة الصحراوية .
٦. لحركة الرمال آثارها السلبية في البيئة الصحراوية .
٧. إنشاء السدود على الأودية المنتشرة في الصحراء .
٨. أهمية التلال الجيرية الممتدة على الساحل الشمالي للبحر المتوسط .
٩. ضيق السهول الساحلية المطلة على البحر الأحمر .
١٠. اعتدال مناخ البيئة الساحلية .
١١. نمو الشعاب المرجانية على طول ساحل البحر الأحمر .
١٢. تركيز نسبة كبيرة من سكان مصر في المحافظات الساحلية .
١٣. تنوع الأنشطة الاقتصادية في البيئة الساحلية .
١٤. قيام النشاط الزراعي في الساحل الشمالي الغربي لمصر .
١٥. اهتمام(محمد على) بالنهضة الصناعية .
١٦. اهتمام(محمد على) بالجيش والبحرية .



١٧. صدور معاهدة لندن عام ١٨٤٠ م .
١٨. زيادة التدخل الاجنبي في شئون مصر في عهد الخديو توفيق .
١٩. قيام الثورة العربية ٩ سبتمبر ١٨٨١ م .
٢٠. سوء أحوال المصريين الاقتصادية في عهد الخديو توفيق .
٢١. هزيمة أحمد عرابي في معركة التل الكبير .
٢٢. عزل اللورد كرومر من منصبه كمعتمد بريطاني .
٢٣. نفى سعد زغلول وزملائه إلى جزيرة مالطة .
٢٤. العدوان الثلاثي على مصر ١٩٥٦ م .
٢٥. عقد معاهدة السلام بين مصر وإسرائيل مارس ١٩٧٩ م .

السؤال الثامن :

ماذا يحدث إذا ... ؟

١. لم يتنوع المناخ في مصر .
٢. تميز مناخ البيئة الصحراوية بالاعتدال طول العام .
٣. لم تتوافر المياه الجوفية بالبيئة الصحراوية .
٤. تميزت تربة البيئة الصحراوية بالتكوينات الطينية .
٥. لم تتوافر سلاسل التلال الجيرية على طول الساحل الشمالى الغربى للبحر المتوسط .

- ٦. قل النشاط السياحي والترويحى فى البيئة الساحلية .
- ٧. اهتم (محمد على) فى سياسته الاقتصادية على الدعم الأجنبى .
- ٨. لم يرسل (محمد على) البعثات التعليمية إلى الخارج .
- ٩. لم تصدر بريطانيا تصريح ٢٨ فبراير ١٩٢٢ م .
- ١٠. لم تعقد اتفاقية السلام مع إسرائيل عام ١٩٧٩ م .
- ١١. ألقى سكان المدن الساحلية بمياه الصرف الصحى فى البحر .
- ١٢. لم يتم تأميم شركة قناة السويس ١٩٥٦ م .

السؤال التاسع :

(أ) "تتنوع مظاهر السطح فى البيئة الصحراوية تنوعا ملحوظا "

فى ضوء هذه العبارة وضح ٠٠٠

١. أهم الجبال فى الصحراء الشرقية .
٢. أوجه التشابه والاختلاف بين هضاب الصحراء الشرقية والغربية .
٣. كيف يتكيف النبات فى البيئة الصحراوية مع الظروف الطبيعية ؟
٤. ما الفرق بين البحيرة والمستنقع مع إعطاء مثال لكل منها ؟

(ب) " توجد بالبيئة الصحراوية كميات ضخمة من أجود أنواع الصخور التى تستخدم فى مجالات

متعددة "

فى ضوء هذه العبارة وضح

- ١ . أهم أماكن تواجد خامى الحديد والفوسفات فى البيئة الصحراوية .
- ٢ . ما العلاقة بين البيئة الصحراوية والنشاط السياحى؟
- ٣ . تخيل أنك مسئول عن تعمير الصحراء فما أهم القرارات التى سوف تتخذها فى هذا المجال؟
- ٤ - قارن بين البيئة الصحراوية و البيئة الساحلية من حيث العادات الايجابية للسكان؟

(ج) " قاد سعد زغلول الحركة الوطنية من أجل الاستقلال والدستور "

فى ضوء هذه العبارة وضح . . .

- ١ . عوامل قيام ثورة ١٩١٩ م .
- ٢ . رأيك فى تصريح ٢٨ فبراير ١٩٢٢ م .
- ٣ . الدور الذى قام به الطلبة والعمال فى ثورة ١٩١٩ م .

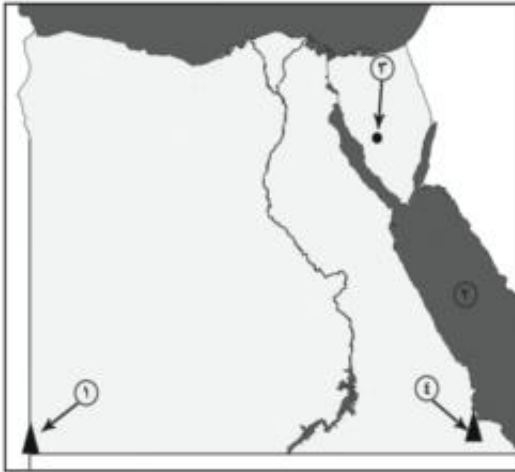


نموذج (١)

أجب عن الاسئلة الآتية

أولاً : الجغرافيا

السؤال الأول:



(١) أمامك خريطة صماء لمصر اكتب في كراسة الاجابة

مدلول الأرقام الموقعة عليها : -

١- جبل ----- ٢- البحر -----

٣ - حقل منجنيز ----- ٤ - محمية جبل -----

(ب) ما النتائج المترتبة على.....؟

١. سقوط الأمطار بغزارة احيانا على الصحراء .

٢. ارتباط سكان البيئة الساحلية بالبحر في معظم أعمالهم .

٣. دفع و صفاء وهدوء حركة المياه في البحر الأحمر .



السؤال الثانى:

ضع علامة (✓) امام العبارة الصحيحة وعلامة (×) امام العبارة غير الصحيحة مع التصويب :

١. تبلغ مساحة الصحراء الشرقية ٣٢% من جملة مساحة مصر . ()
٢. تعد البيئة الساحلية منطقة جذب لسكان البيئات الأخرى . ()
٣. تختفى ظاهرة المنخفضات من سطح الصحراء الغربية . ()
٤. يطلق على تدهور التربة الزراعية مصطلح التصحر . ()
٥. المدينة المليونية هي التي يزيد عدد سكانها عن ١٠٠,٠٠٠ نسمة . ()
- ٦- تتآكل السواحل بفعل الأمطار ()

ب. ماذا يحدث إذا

- ١- زادت مياة الأمطار فى المناطق الصحراوية.
- ٢- تطل مصر على البحر المتوسط و البحر الأحمر.



ثانيا : التاريخ

السؤال الثالث:

(أ) اختر الإجابة الصحيحة مما بين القوسين :

١. اهتم (محمد على) بالتعليم فأرسل إلى الخارج .

(الحملات - البعثات - الصناع - الحامية)

٢. سعى إسماعيل باشا إلى تحقيق نهضة حقيقية في مصر تمثلت في إنشاء

(النوادي الرياضية - المسارح - المدارس - السكك الحديدية)

٣. قامت بين مصر و وحدة عام ١٩٥٨م .

(ليبيا - السودان - فلسطين - سوريا)

٤. ارتبط اسم بالآستقلال الاقصادى لمصر .

(أحمد عرابى - طلعت حرب - ديلاسبس - مصطفى كامل)

(ب) ما الدروس المستفادة من:

١. إقامة جيش قوى فى عهد محمد على .

٢. هزيمة أحمد عرابى فى التل الكبير .

٣. استخدام البترول كسلاح عربى فى حرب أكتوبر ١٩٧٣ .



السؤال الرابع:

(أ) بم تفسر ؟

١. اهتمام (محمد على) بالصناعة .
٢. فشل العدوان الثلاثى على مصر عام ١٩٥٦م .
٣. اندلاع ثورة الشعب المصرى عام ١٩١٩م .

(ب) إلى من تنسب الأعمال الآتية ؟

١. منح امتياز حفر قناة السويس للمهندس الفرنسى فرديناند ديلسبس .
٢. أقام نقابات للعمال ودعا لتأسيس حكومه وطنية .



نموذج (٢)

أجب عن الاسئلة الآتية

أولاً : الجغرافيا

السؤال الأول:



(أ) أمامك خريطة صماء لمصر

- اكتب في كراسة الاجابة مدلول الأرقام الموقعة عليها :-

١- البحر ----- ٢- هضبة -----

٣ - خليج ----- ٤ - منخفض -----

(ب) اكتب المفهوم الجغرافى الذى تدل عليه العبارات التالية؟

- ١- كثبان رملية تأخذ أشكالاً مختلفة وتنتشر فى مناطق الصحارى .
- ٢- فتحة قد تكون طبيعية أو صناعية تدخل عن طريقها المياه للبحريات.
- ٣- قيام الأمواج بنحت الصخور التى تشكل ساحل البحر.

السؤال الثانى:

(أ) بم تفسر ؟

١. معاناة سكان البيئة الصحراوية العديد من المشكلات الاقتصادية

٢. تملح التربة فى بعض المناطق بالبيئة الصحراوية



٣. اعتبار السياحة من الأنشطة الاقتصادية الهامة فى البيئة الصحراوية.

(ب) ماذا يحدث إذا.....؟

١- أهملت الدولة إقامة الفنادق والمحميات والطرق الجديدة.

٢- لم تتواجد الكثبان الرملية والتلال الجيرية على طول الساحل الشمالى الغربى لمصر.

ثانياً: التاريخ

السؤال الثالث:

(أ) أختر الإجابة الصحيحة مما بين القوسين وأكمل الفراغات التالية:

١. اهتم (محمد على) بالتعليم فأرسل البعثات للخارج خاصة.....

(انجلترا - فرنسا - إيطاليا - أمريكا)

٢. تقلصت مشروعات (محمد على) الإصلاحية نتيجة معاهدة لندن عام.....م

(١٨٣٨ - ١٨٣٩ - ١٨٤٠ - ١٨٤١)

٣. التحق أحمد عرابى بالجيش فى عهد الخديو.....

(توفيق - اسماعيل - سعيد - عباس)

٤. كان للرئيس جمال عبد الناصر دور فى تأسيس.....

(الحركة الوطنية - تنظيم الضباط الأحرار - جريدة اللواء - الحزب الوطنى)

(ب) ما النتائج التى ترقبت على.....؟

١. سوء الأحوال السياسية والاقتصادية خلال السنوات الأخيرة من حكم مبارك.

٢. تأميم شركة قناة السويس عام ١٩٥٦م.

٣. نفى سعد زغلول وبعض زعماء الوفد المصرى للمرة الثانية.



السؤال الرابع:

(أ) من الذي قام بالأعمال التالية:

- ١- قسم البلاد إلى سبع مديريات.
- ٢- أقام امبراطورية مصرية إمتدت إلى مديريةية خط الأستواء.
- ٣- أسس جريدة اللواء عام ١٩٠٠.
- ٤- رفض مدامتياز شركة قناة السويس عام ١٩١٠.

(ب) «تميزت ثورة ٢٥ يناير بأنها ثورة ناعمة»

فى ضوء العبارة السابقة - أجب عن الآتى:

- ١- أذكر المميزات الأخرى لثورة ٢٥ يناير.
- ٢- ما الأسباب التى أدت إلى قيام هذه الثورة.
- ٣- عبر بأسلوبك الشخصى عن كيفية تحقيق الثورة للعدالة الاجتماعية.

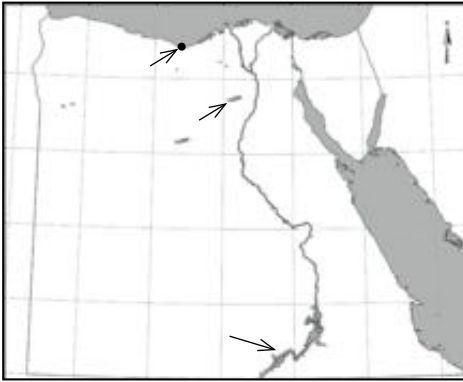
نموذج (٣)

أجب عن الأسئلة التالية

أولاً: الجغرافيا

السؤال الأول:

أ- أمامك خريطة صماء لمصر اكتب مدلول الأرقام الموقعة عليها



١- منخفض

٢- الصحراء

٣- مدينة

٤- بحيرة

ب- ما المقصود بكل من:

١- البيئة الصحراوية

٢- الخليج

ج- بم تفسر

١- السياحة من الأنشطة الاقتصادية الهامة بالبيئة الصحراوية

٢- نمو الشعاب المرجانية على ساحل البحر الأحمر

٣- أهمية التلال الجيرية على طول الساحل الشمالى الغربى لمصر

السؤال الثانى:

أ- ضع علامة (✓) أمام العبارة الصحيحة وعلامة (x) أمام العبارة غير الصحيحة مع

التصويب :

١- يعتمد سكان الواحات على المياه الجوفية فى الزراعة. ()

٢- تملح التربة من المشكلات التى تتعرض لها البيئة الصحراوية. ()

٣- تتميز مناطق البيئة الساحلية بالبحر الأحمر بغزارة الأمطار. ()

٤- النشاط الزراعى لا يعد نشاطاً رئيسياً لسكان فى البيئة الساحلية. ()

ب- ماذا يحدث إذا:

١- لم توجد مناطق التعدين فى البيئة الصحراوية.

٢- لم تتعرض مصر لرياح الخماسين.

٣- أهملت الدولة شواطئ البحر المتوسط والأحمر.



ج- اذكر نتيجة واحدة لكل من:

- ١- إنشاء السدود على الأودية فى البيئة الصحراوية.
- ٢- ارتفاع نسبة البطالة بين الشباب.
- ٣- انتشار حقول البترول على ساحل خليج السويس.

ثانياً: التاريخ

السؤال الثالث: أكمل العبارات التالية:

- ١- إنشاء محمد على الدواوين ومنها ومقره القلعة
- ٢- تم عزل إسماعيل باشا وتولى بعده
- ٣- قدم أحمد عرابى فى ٩ سبتمبر ١٨٨١ م مطالب الأمة ومنها
- ٤- خلف مصطفى كامل فى كفاحه
- ٥- شكل الضباط المصريون تنظيم للقيام بالثورة فى ١٩٥٢م.
- ٦- احتلت مصر فى ١٥ سبتمبر ١٨٨٢م.

ب- بم تفسر:

- ١- قيام ثورة ١٩١٩م
- ٢- خيب مؤتمر الصلح فى باريس آمال المصريين
- ج- ماذا استفدت من دراستك لثورة ٢٥ يناير ٢٠١١م

السؤال الرابع: أ- رتب الأحداث التاريخية الآتية من القديم إلى الحديث:

معركة التل الكبير- معاهدة لندن- الاتفاق الودى- حادثة دنشواى- تولية محمد على حكم مصر

ب- اذكر عملاً واحداً لكل من:

- ١- الفريق أول عبدالمنعم رياض
- ٢- محمد عبده
- ٣- طلعت حرب

ج- وضح دور محمود سامي البارودي فى خدمة القضية المصرية .

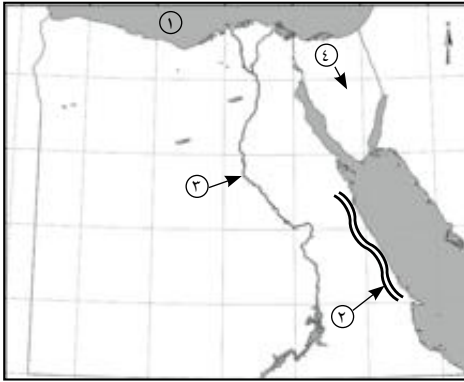
نموذج (٤)

أجب عن الأسئلة التالية

أولاً: الجغرافيا

السؤال الأول:

أ- أمامك خريطة صماء لمصر اكتب مدلول الأرقام الموقعة عليها :



١- البحر

٢- سلاسل جبال

٣- نهر

٤- هضبة

ب- بم تفسر

١- تلوث المناطق الشاطئية فى المناطق الساحلية

٢- ضيق السهل الساحلى على خليج العقبة

٣- انتشار الشعاب المرجانية فى مناطق متفرقة على ساحل البحر الأحمر

السؤال الثانى:

أ- ضع علامة (✓) أمام العبارة الصحيحة وعلامة (x) أمام العبارة غير

الصحيحة مع تصويبها :

١- من مشكلات السكان فى البيئة الساحلية ازدحام المدن فيها ()

٢- البيئة الصحراوية يقل بها المطر ()

٣- حرفة الصيد من الحرف الرئيسة فى المدن الساحلية ()

٤- تتميز السهول الساحلية لساحل الدلتا بارتفاع منسوبها ()

٥- بحيرة المنزلة من أكبر البحيرات إنتاجاً للأسماك فى مصر ()

٦- تعتبر السياحة من الأنشطة الاقتصادية المهمة فى البيئة الزراعية ()

ب- ما النتائج المترتبة على....؟

١- انتشار الجزر الساحلية بالغرب من سواحل البحر الأحمر.

٢- سقوط الأمطار الفجائية فى البيئة الصحراوية.

٣- إنشاء الدولة شبكة من الطرق فى البيئة الصحراوية.



ثانياً : التاريخ

السؤال الثالث: أ- اختر الإجابة الصحيحة مما بين الأقواس

- ١- من أبرز شهداء حرب الاستنزاف ضد إسرائيل
(جمال عبدالناصر- أنور السادات- محمد نجيب- عبدالمنعم رياض)
- ٢- طبق نظام الاحتكار فى الاقتصاد المصرى
(أحمد عربى- سعد زغلول- محمد على- الخديوى توفيق)
- ٣- أسس مصطفى كامل عام ١٩٠٠ جريدة
(الأهرام- اللواء- المؤيد- العروة الوثقى)
- ٤- تم نفي سعد زغلول فى ٨ مارس ١٩١٩م إلى جزيرة
(مالطة- سيشل- قبرص- شوان)
- ٥- تم تأميم قناة السويس ٢٦ يوليو عام م.
(١٩٥٤ - ١٩٥٨ - ١٩٧١ - ١٩٥٦)
- ٦- احتل الإنجليز القاهرة بعد هزيمة عربى عند
(التل الكبير- مرج دابق- عابدين- بورسعيد)

ب- ما المقصود بالمفاهيم الآتية...؟

- ١- الدستور
- ٢- عدالة اجتماعية.

السؤال الرابع: أعد كتابة العبارات الآتية بعد تصويب ما فوق الخط

- ١- كان مقر الحكومة المركزية فى عهد محمد على مدينة الإسكندرية.
 - ٢- التحق أحمد عربى بالجيش فى عهد الخديوى توفيق.
 - ٣- رفض مصطفى كامل مد امتياز شركة قناة السويس.
 - ٤- من نتائج حرب أكتوبر توقيع معاهدة السلام مع إسرائيل عام ١٩٨٩م.
 - ٥- من مميزات ثورة ٢٥ يناير ٢٠١١ تلاحم الجيش مع النظام الحاكم.
 - ٦- تأسيس بنك مصر فى أبريل ١٩٢٠ على يد سعد زغلول.
- ب- أجب عما يأتى:
- ١- ما الأسباب المشتركة التى أدت إلى قيام ثورتى ٢٥ يناير ٢٠١١م و٢٣ يوليو ١٩٥٢م.
 - ٢- ما دورك اليوم فى بناء مصر.



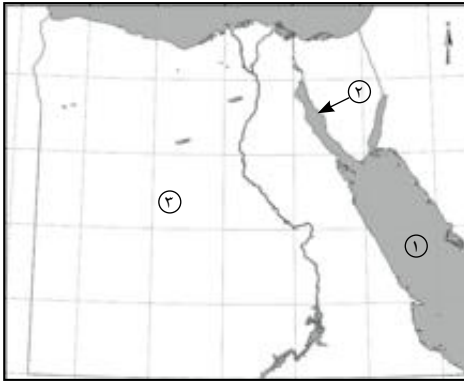
نموذج (٥)

أجب عن الأسئلة التالية

أولاً: الجغرافيا

السؤال الأول:

أ- أمامك خريطة صماء لمصر اكتب مدلول



الأرقام الموقعة عليها :

١- البحر

٢- خليج

٣- الصحراء

٤- بحيرة

ب- بهم تفسر

١- هجرة بعض سكان البيئة الصحراوية إلى البيئات

الأخرى.

٢- بحيرة البردويل أقل البحيرات الشمالية تلوثاً.

٣- تلوث مياه الشواطئ في البيئة الساحلية.

٤- تركز نسبة كبيرة من السكان في المحافظات الساحلية.

السؤال الثاني:

أ- قارن بين البيئة الصحراوية والبيئة الساحلية من حيث: (عادات السكان- مشكلات البيئة)

ب- اكتب كلمة (صح) أو كلمة (خطأ) أما العبارات الآتية مع تصويب الخطأ

١- سكان البيئة الصحراوية هم سكان محافظات الحدود. ()

٢- صناعة السيارات من الصناعات المنتشرة في البيئة الصحراوية. ()

٣- خط الساحل خط يفصل بين اليابسة والماء. ()

٤- الساحل الشمالي لسيناء أطول من ساحل الدلتا. ()

٥- بحيرة المنزلة أقل البحيرات إنتاجاً للإسماك. ()

٦- صدرت قوانين تجرم إلقاء مخلفات الصرف في البحر. ()



ثانياً : التاريخ

السؤال الثالث: أ- بم تفسر

- ١- اهتمام محمد على بزيادة صادرات مصر عن واردتها
- ٢- تقدير المصريين لموقف محمد فريد ١٩١٠م
- ٣- مؤتمر الصلح فى باريس ١٩١٩م لم يحقق آمال المصريين
- ٤- العدوان الثلاثى على مصر ١٩٥٦م

ب- أكمل ما يأتى:

- ١- أصدر الزعيم مصطفى كامل جريدة
- ٢- أعلنت إنجلترا الحماية البريطانية على مصر فى عام
- ٣- تأسس بنك فى ١٩٢٠م.
- ٤- عادت الملاحة بقناة السويس فى يونيو عام..... م

السؤال الرابع:

أ- (كانت ثورة الشعب المصرى فى يناير ٢٠١١م ثورة بيضاء نالت إعجاب العالم)

فى ضوء العبارة اذكر:

- ١- سبباً واحداً لقيامها.
- ٢- إحدى مميزاتها.
- ٣- إنجازاً واحداً لها.
- ٤- ما رأيك فى شعار (الجيش والشعب إيد واحدة)

ب- لمن تنسب الأعمال الآتية...؟

- ١- اهتم بمشروعات الري ومنها ترعة المحمودية.
- ٢- قائد ثورة الجيش ١٨٨١م.
- ٣- زعيم وطنى تم نفيه إلى جزيرة مالطة.
- ٤- تنظيم الضباط الذى قام بثورة ٢٣ يوليو ١٩٥٢م.
- ٥- ضابط برتبة فريق أول استشهد فى حرب الاستنزاف.
- ٦- رئيس مصر الذى قاد حرب أكتوبر ١٩٧٣م.



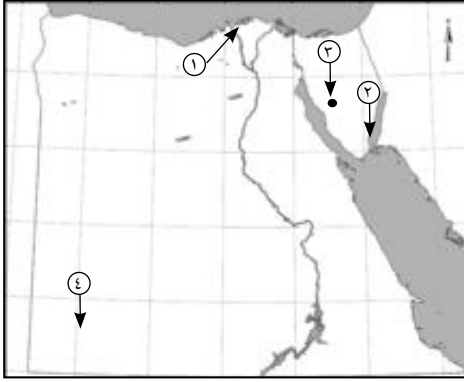
نموذج (٦)

أجب عن الأسئلة التالية

أولاً: الجغرافيا

السؤال الأول:

أ- أمامك خريطة صماء لمصر اكتب مدلول الأرقام الموقعة عليها



١- بحيرة

٢- محمية طبيعية

٣- منطقة لتعدين المنجنيز

٤- جبل

ب- ما النتائج المترتبة على...؟

١- حركة الرمال فى المناطق الصحراوية .

٢- نحت الأمواج للسواحل .

٣- عدم وجود صرف زراعى وصناعى وصحى فى بحيرة البردويل .

السؤال الثانى: أ- صوب ما فوق الخط

١- من أكبر محافظات الصحراء الغربية محافظة البحر الأحمر ومطروح .

٢- تربة البيئة الصحراوية تربة طينية سوداء .

٣- يهتم سكان البيئة الصحراوية بالصناعات الثقيلة .

٤- يعيش سكان البيئة الساحلية فى ١٢ محافظة .

٥- يتميز ساحل البحر المتوسط بوجود خلجان مثل خليج العقبة .

٦- من جهود الدولة فى البيئة الساحلية إنشاء مدن جديدة مثل الإسكندرية .



ب- قارن بين :

العادات الإيجابية لسكان البيئة الصحراوية و لسكان البيئة الساحلية.

ج- ما مقترحاتك لتنمية النشاط السياحي بالبيئة الصحراوية.

ثانياً : التاريخ

السؤال الثالث: اكتب كلمة صح أو خطأ مع تصويب الخطأ :

- ١- أكدت معاهدة لندن ١٨٤٠م أحقية أكبر أبناء محمد على فى وراثة الحكم.
- ٢- طالب أحمد عرابى بإقالة وزارة شريف باشا.
- ٣- أصدرت بريطانيا تصريح ٢٨ فبراير ١٩٢٢م واعترفت فيه باستقلال مصر.
- ٤- ساهم بنك مصر فى تمويل صناعة الغزل والنسيج.
- ٥- وقفت فرنسا إلى جانب الحركة الوطنية المصرية بعد الاتفاق الودى ١٩٠٤م.
- ٦- أعادت ثورة يوليو الأحزاب السياسية للحكم فى يناير ١٩٥٣م.

ب- بم تفسر...؟

- ١- فشل العدوان الثلاثى على مصر ١٩٥٦م.
- ٢- نجاح حرب أكتوبر ١٩٧٣م.

السؤال الرابع: لمن تنسب الأعمال الآتية :

- ١- أنشأ أول ترسانة لبناء السفن فى الإسكندرية.
- ٢- اتخذ صحيفة الوقائع المصرية منبراً لمناصرة أحمد عرابى وتوفى عام ١٩٠٥م.
- ٣- أسس جريدة اللواء ١٩٠٠م.
- ٤- دعا إلى إنشاء نقابات العمال فى مصر.
- ٥- أعد تقرير حدد فيه الخسائر المالية لمصر عند الموافقة على مد امتياز شركة قناة السويس.
- ٦- استشهد وسط جنوده فى حرب الاستنزاف.

ب- أجب عما يأتى :

- ١- كيف حققت ثورة ٢٣ يوليو ١٩٥٢ مبدأ القضاء على الاستعمار وأعدائه.
- ٢- ما أهداف ثورة ٢٥ يناير ٢٠١١م
- ٣- ما رأيك فى ثورة ١٩١٩م

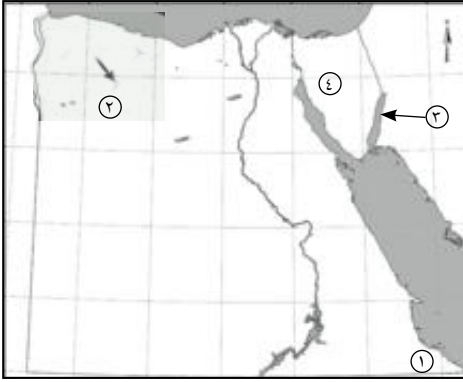
نموذج (٧)

أجب عن الأسئلة التالية

أولاً: الجغرافيا

السؤال الأول:

أ- أمامك خريطة صماء لمصر اكتب مدلول الأرقام الموقعة عليها



١- جبل

٢- خليج

٣- منخفض

٤- شبه الجزيرة

ب- ماذا يحدث إذا...؟

١- لم تسقط الأمطار على الساحل الشمالى لمصر

٢- لم تتواجد الآبار والعيون فى الصحراء المصرية

٣- أهملت الدولة إقامة الفنادق والمحميات والطرق الجديدة

السؤال الثانى: أ- أكتب كلمة (صح) أو كلمة (خطأ) أمام العبارات الآتية مع تصويب الخطأ:

١- تبلغ مساحة الصحراء الشرقية ٢٣٪ من مساحة مصر. ()

٢- ارتبط اسم طلعت حرب باستقلال مصر الاقتصادى. ()

٣- البيئة الساحلية منطقة جذب لسكان البيئات الأخرى. ()

٤- جبل سانت كاترين أحد جبال شبه جزيرة سيناء. ()

٥- المدينة التى يزيد عدد سكانها عن ١٠٠٠٠٠٠٠ نسمة تعرف بالمدينة المليونية. ()

٦- يعمل سكان البيئة الساحلية بالزراعة فى مناطق متعددة. ()

ب- ما المقصود بكل من...؟

١- البوغاز ٢- السياحة البيئية.

ثانياً: التاريخ

السؤال الثالث: أ- أكمل العبارات الآتية:

١- أقام محمد على معامل السكر فى.....



- ٢- ولد أحمد عرابي فى محافظة.....
- ٣- عزل اللورد كرومر من منصبه عقب حادثة.....
- ٤- رفض طلعت حرب مد امتياز شركة قناة السويس عام م
- ٥- عقب تصريح ٢٨ فبراير ١٩٢٢م تم إصدار.....
- ٦- تم نفى..... فى مارس ١٩١٩م إلى جزيرة مالطة.

ب- بم تفسر...؟

- ١- قيام ثورة ٢٥ يناير ٢٠١١م.
- ٢- إقامة وحدة بين مصر وسوريا ١٩٥٨م.
- السؤال الرابع: أ- اختر الإجابة الصحيحة مما بين القوسين:**

- ١- اهتم محمد على بالتعليم فأرسل..... إلى الخارج
(الحمالات- البعثات- الصناع- المحامين)
- ٢- أقام..... نقابات للعمال ودعا لتأسيس حكومة وطنية
(سعد زغلول- محمد على- أحمد عرابي- محمد فريد)
- ٣- أسس مصطفى كامل جريدة..... ١٩٠٠م
(الوقائع- المؤيد- الأهرام- اللواء)
- ٤- من نتائج ثورة ٢٣ يوليو ١٩٥٢م إصدار.....
(قانون الإصلاح الزراعى- بنك مصر- جمعية مصر الفتاة- شركة مصر للتأمين)
- ٥- من أبرز شهداء حرب الاستنزاف الفريق أول.....
(عبد المنعم رياض- عبد الحكيم عامر- جمال عبدالناصر- أنور السادات)
- ٦- أطلق على ثورة ٢٥ يناير ٢٠١١م أنها ثورة.....
(دموية حمراء- غير سلمية- سلمية بيضاء- طبقية)

ب- ما رأيك فى...؟

- ١- معاهدة لندن ١٨٤٠م.
- ٢- اتجاه الخديو إسماعيل للقروض.

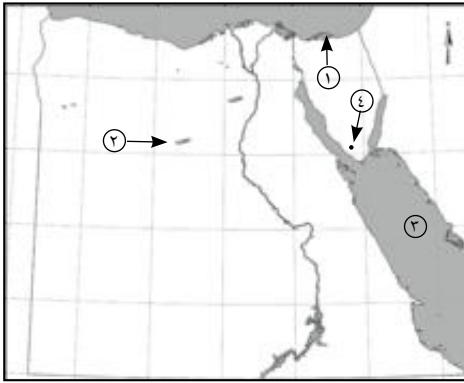
نموذج (٨)

أجب عن الأسئلة التالية

أولاً: الجغرافيا

السؤال الأول:

أ- أمامك خريطة صماء لمصر اكتب مدلول الأرقام الموقعة عليها



١- بحيرة

٢- الواحات

٣- البحر

٤- جبل

ب- بم تفسر...؟

١- نمو النبات الطبيعي في البيئة الصحراوية.

٢- ضيق السهول الساحلية المطلة على خليج العقبة.

٣- مشاركة المرأة للرجال في كثير من الأعمال في البيئة الساحلية.

السؤال الثاني: أ - أكتب كلمة (صح) أو (خطأ) أمام العبارات الآتية مع ذكر السبب:

١- الجاموس والأبقار من حيوانات البيئة الصحراوية. ()

٢- أقيم مشروع استزراع الكثبان الرملية في البيئة الصحراوية لتثبيت الرمال. ()

٣- تمتد البيئة الساحلية على البحر المتوسط من طابا حتى حدود السودان. ()

٤- تنمو شجيرات المانجروف على سواحل البحر المتوسط. ()

٥- بحيرة البردويل أكثر بحيرات مصر الشمالية تلوثاً. ()

٦- البيئة الساحلية منطقة طرد سكان. ()

ب - ماذا يحدث إذا...؟

١- اهتمت الدولة بإنشاء المدارس في البيئة الصحراوية.

٢- لم تحافظ الدولة على حماية السواحل.



ثانياً: التاريخ

السؤال الثالث: أ- اختر الإجابة الصحيحة مما بين القوسين:

- ١- كان أحمد عرابى عضواً بارزاً فى جمعية
(الجامعة المصرية- الوفد المصرى- مصر الفتاة- عابدين)
- ٢- دخل الإنجليز القاهرة فى سبتمبر عام م
(١٨٨٢- ١٢٨٨- ١٨٨٨- ١٩٨٩)
- ٣- أقامت مصر عام ١٩٥٨م وحدة مع
(بريطانيا- الجزائر- سوريا- الأردن)
- ٤- عبرت إسرائيل قناة السويس فى ١٥ أكتوبر ١٩٧٣ عند.....
(سيناء- الدفرسوار- الإسماعيلية- السويس)
- ٥- سبب نجاح حرب أكتوبر ١٩٧٣
(العقيدة القتالية- قوة الإيمان- السرية التامة- كل ما سبق)
- ٦- صدر قانون الإصلاح الزراعى عام م
(١٩٥٢- ١٩٥٥- ١٩٥٩- ١٩٦١)

ب- ما رأيك فى كل مما يأتى...؟

- ١- موقف محمد فريد من مسألة مد امتياز شركة قناة السويس.
- ٢- تشكيل اللجان الشعبية أثناء ثورة ٢٥ يناير ٢٠١١م.

السؤال الرابع: أ- لمن تنسب الأعمال الآتية...؟

- ١- أعطى امتياز حفر قناة السويس لديليسييس.
- ٢- اتخذ من صحيفة الوقائع المصرية منبراً لتأييد الصراعين.
- ٣- رئيس أمريكى أعلن حق كل أمة فى تقرير مصيرها.
- ٤- قام بتوزيع الثروات بين المواطنين توزيعاً عادلاً.

ب- ما النتائج المترتبة على...؟

- ١- خطب ومقالات مصطفى كامل.
- ٢- انتصار السادات من أكتوبر ١٩٧٣.



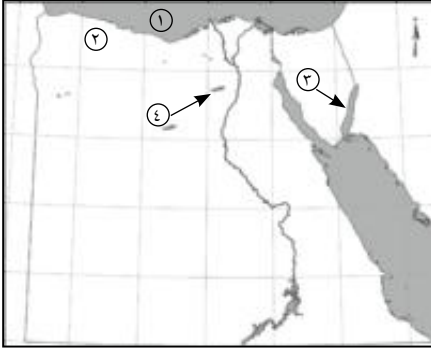
نموذج (٩)

أجب عن الأسئلة التالية

أولاً: الجغرافيا

السؤال الأول:

أ- أمامك خريطة صماء لمصر اكتب مدلول الأرقام الموقعة عليها



١- البحر.....

٢- هضبة.....

٣- خليج.....

٤- منخفض.....

ب- اكتب المفهوم الجغرافى الذى تدل عليه العبارات التالية:

١- كثبان رملية تأخذ أشكالاً مختلفة.

٢- قيام الأمواج بنحت الصخور التى تشكل ساحل البحر

٢- فتحة قد تكون طبيعية أو صناعية تدخل عن طريقها المياه للبحيرات

ج - ما النتائج المترتبة على...؟

١- ارتباط سكان البيئة الساحلية بالبحر.

٢- هدوء وصفاء حركة مياه البحر الأحمر.

السؤال الثانى: أ- بم تفسر...؟

١- معاناة سكان البيئة الصحراوية من المشكلات الاقتصادية.

٢- تملح التربة فى بعض المناطق بالبيئة الصحراوية.

٣- اتساع السهول الساحلية المطلة على البحر المتوسط.



٤- تلوث المياه الشاطئية فى مصر.

ب- ماذا يحدث إذا...؟

- ١- أهملت الدولة إقامة الضادق والمحميات والطرق الجديدة.
- ٢- لم تتواجد الكثبان الرملية والتلال الجيرية على الساحل الشمالى لمصر.

ثانياً: التاريخ

السؤال الثالث: أ- أكمل ما يأتى:

- ١- اهتم محمد على بالتعليم فأرسل للخارج
- ٢- تقلصت مشروعات محمد على الإصلاحية نتيجة معاهدة.....
- ٣- التحق أحمد عرابى بالجيش فى عهد الخديو.....
- ٤- أسقطت ثورة ٢٣ يوليو ١٩٥٢م.....

ب- ما النتائج المترتبة على...؟

- ١- سوء الأحوال السياسية والاقتصادية قبل عام ٢٠١٠.
- ٢- تأميم شركة قناة السويس ١٩٥٦م.
- ٣- نفى سعد زغلول وبعض زعماء الوفد المصرى للمرة الثانية.

السؤال الرابع: أ- من الذى قام بالآتى...؟

- ١- قسم البلاد إلى ٧ مديريات.
- ٢- أسس جريدة اللواء ١٩٠٠م.
- ٣- أقام الامبراطورية المصرية وأمدّها إلى مديريةية خط الاستواء.
- ٣- رفض مدامتياز شركة قناة السويس ١٩١٠م.

ب- أجب عما يأتى:

- ١- مميزات ثورة ٢٥ يناير ٢٠١١م.
- ٢- ما أسباب قيام ثورة ٢٥ يناير ٢٠١١م.

د- ما الدروس المستفادة من...؟

- ١- إقامة جيش قوى فى عهد محمد على.
- ٢- هزيمة أحمد عرابى فى التل الكبير.

نموذج (١٠)

أجب عن الأسئلة التالية

أولاً: الجغرافيا

السؤال الأول:

أ- أمامك خريطة صماء لمصر اكتب مدلول الأرقام الموقعة عليها:



١- منخفض.....

٢- شبه جزيرة.....

٣- مدينة.....

٤- البحر.....

ب- بم تفسر...؟

١- نمو الشعاب المرجانية بسواحل البحر الأحمر.

٢- انخفاض نسبة الأمية فى المحافظات الصحراوية مؤخراً.

٣- تميز سكان البيئة الساحلية بحبهم العمل الجماعى.

السؤال الثانى: أ- اختر الإجابة الصحيحة مما بين الأقواس:

١- توجد هضبة مارماريكا فى الصحراء الغربية وتقع فى الجزء..... منها .

(الأوسط- الشمالى- الجنوبى- الشرقى)

٢- تعد بحيرة..... أقل بحيرات مصر الشمالية تلوثاً .

(البردويل- المنزلة- البرلس- إدكو)

٣- أهم النباتات التى تنمو على ساحل البحر المتوسط أشجار.....

(المطاط- المانجروف- الزيتون- الغرقد)

٤- قامت الدول بمشروع استزراع الكثبان الرملية جنوب واحة.....

(الخارجة- الفرافرة- البحرية- سيوة)

٥- تعد حرفة..... من الحرف الرئيسية فى البيئة الساحلية

(الصيد- الرعى- الزراعة- السياحة)

المواصفات الفنية:

$\frac{1}{8}$ (٥٧ × ٨٢) سم	مقاس الكتاب:
١ لون	طبوع المتن:
٤ لون	طبوع الغلاف:
٧٠ جم أبيض	ورق المتن:
١٨٠ جم كوشيه	ورق الغلاف:
١٢٨ صفحة	عدد الصفحات بالغلاف:

جميع حقوق الطبع محفوظة لوزارة التربية والتعليم داخل جمهورية مصر العربية