



جمهورية مصر العربية
وزارة التربية والتعليم
قطاع الكتب



الدراسات الاجتماعية

للمحكات من جغرافية مصر وتاريخها

تأليف

- أ. د. السعيد إبراهيم البدوي - أ. سمير مصطفى سليمان -
أ. أحمد عصام الدين أحمد عياد - أ. محمد عبد الراضى محمد -
أ. سوزان محمود المسيرى - أ. محمد عزت الزعبلأوى -

لجنة التعديل والمراجعة

- د. ثناء أحمد جمعة
بمركز تطوير المناهج و المواد التعليمية
د. وصفي حكيم لويز
بمركز تطوير المناهج و المواد التعليمية
أ. عبد المنعم مصطفى جودة
موجه أول بإدارة غرب القاهرة
- د. سالم مرزوق الرفاعي
خبير بمركز تطوير المناهج و المواد التعليمية
د. شيرين علي جاد
خبير بمركز تطوير المناهج و المواد التعليمية
أ. ميرفت عبد النبي سيد
خبير بمركز تطوير المناهج و المواد التعليمية

مراجعة لغوية / د. جمعة محمد محمود

الإشراف التربوي

أ. د/ محمد رجب فضل الله

المشرف العام على مركز تطوير المناهج و المواد التعليمية

لجنة التعديل والمراجعة

د. ثناء أحمد جمعة	د. سالم مرزوق الرفاعي
بمركز تطوير المناهج و المواد التعليمية	خبير بمركز تطوير المناهج و المواد التعليمية
د. وصفي حكيم لوزير	د. شيرين علي جاد
بمركز تطوير المناهج و المواد التعليمية	خبير بمركز تطوير المناهج و المواد التعليمية
أ. عبد المنعم مصطفى جودة	أ. ميرفت عبد النبي سيد
موجه أول بإدارة غرب القاهرة	خبير بمركز تطوير المناهج و المواد التعليمية

مراجعة لغوية / د. جمعة محمد محمود

الإشراف التربوي

أ.د/ محمد رجب فضل الله

المشرف العام على مركز تطوير المناهج و المواد التعليمية

عزيزي التلميذ / عزيزتي التلميذة

يسعدنا أن نقدم لك كتاب الأنشطة و التدريبات لمادة الدراسات الاجتماعية الصف الخامس الابتدائي، الفصل الدراسي الأول، والذي يتضمن أنشطة متنوعة فردية وجماعية، تراعي الفروق الفردية و تؤكد على تنمية مهارات التفكير و تشجع على التعلم الذاتي و التعلم التعاوني، كما يتضمن مجموعة من التدريبات تغطي مضمون الدروس و الوحدات، هذا بالإضافة إلى تدريبات عامة في نهاية الفصل الدراسي الأول و نماذج متعددة و متنوعة من الاختبارات.

ويهدف هذا الكتاب إلى مساعدتك على:

تطبيق ما تعلمته من معارف و مهارات و قيم.

التحقق من مدى فهمك المتعمق لمحتوى الكتاب المدرسي.

الاستغناء عن الكتاب الخارجي و عدم اللجوء إلى الدروس الخصوصية.

اكتشاف جوانب القوة لديك و تدعيمها.

اكتشاف نواحي القصور و معالجتها.

وأخيراً نأمل أن يجعلك هذا الكتاب محباً لمادة الدراسات الاجتماعية و حريصاً على

تعلمها من أجل مزيد من التفوق و التقدم و النجاح.

والله من وراء القصد وهو يهdy السبيل

لجنة التعديل و المراجعة

.....	الاسم:
.....	المدرسة:
.....	الفصل:
.....	العنوان:
.....	العام الدراسي:

المحتويات

الوحدة الأولى

الموارد الطبيعية في مصر



- ١ الدرسُ الأولُ : أنواع الموارد.
- ٧ الدرسُ الثاني : الموارد المعدنية.
- ١٣ الدرسُ الثالثُ : الطاقة.
- ١٨ الدرسُ الرابعُ : تنمية الموارد الطبيعية.
- ٢٢ أسئلةٌ وتدريباتٌ على الوحدة الأولى.

الوحدة الثانية

الأنشطة الاقتصادية في مصر



- ٢٤ الدرسُ الأولُ : الإنتاجُ الزراعيُّ والسمكيُّ والرعيُّ.
- ٢٨ الدرسُ الثاني : الصناعة.
- ٣٤ الدرسُ الثالثُ : النقلُ والمواصلاتُ والتجارة.
- ٤٠ أسئلةٌ وتدريباتٌ على الوحدة الثانية.

الوحدة الثالثة

مصر قبل الإسلام



- ٤٣ الدرسُ الأولُ : شخصياتٌ وأحداثٌ من العصرِ البطلميِّ.
- ٤٩ الدرسُ الثاني : شخصياتٌ وأحداثٌ من العصرِ الرومانيِّ في مصر.
- ٥٤ الدرسُ الثالثُ : الحقبةُ القبطيةُ في مصر.
- ٥٩ أسئلةٌ وتدريباتٌ على الوحدة الثالثة.
- ٦١ تدريباتٌ عامةٌ على الفصلِ الدراسي الأول.
- ٧٠ نماذج امتحانات استرشادية على الفصل الدراسي الأول.

الموارد الطبيعية فى مصر

الدرس الأول: أنواع الموارد

أولاً: الأنشطة المصاحبة:

نشاط (١) فكر واستنتج

أ - من الأشياء التى تراها من حولك ومن صنع الله وليست من صنع الإنسان.

.....

٤	٣	٢	١
٨	٧	٦	٥
١٢	١١	١٠	٩
١٦	١٥	١٤	١٣

ب - أمامك مجموعة من العبارات اكتب مدلول كل عبارة بالمستطيل

الذى أمامها ثم اكتشف كلمة السر

١- مورد من صنع الله يستخدم فى رى الأراضى والشرب.

٢- مورد من صنع الله يستخدم فى التنفس.

٣- مورد من صنع الله يمثل قشرة الأرض الصالحة للزراعة وينمو فيها النبات.

٤- مورد من صنع الله ويمثل مساحة شاسعة جدا من المياه المالحة.

كلمة السر هي :

١٢	١٠	٢	١١	١٦	١٠	٣	٦	١
		ع			د			

نشاط (٢) اقرأ ووصف

أمامك مجموعة من الموارد صنفها إلى موارد طبيعية أو موارد بشرية.

إذا كان المورد طبيعى اكتب أمامه (١) وإذا كان المورد بشرى اكتب أمامه (٢)

التعليم () السياحة () الهواء ()
المستشفى () وسائل المواصلات () الزراعة وإنتاج الغذاء ()

نشاط (٣) ميز ووصف

أمامك مجموعة من الموارد المائية فى مصر، ضع علامة (✓) أمام المكان المناسب :

الموارد	الموارد العذبة	الموارد المالحة
نهر النيل		
بحيرة البرلس		
بحيرة إدكو		
بحيرة ناصر		
البحر المتوسط		
فرع دمياط		
البحر الأحمر		
فرع رشيد		



نشاط (٤) حدد ولون

أمامك خريطة صماء لمصر حدد ولون عليها

ما يلي:

- ١- الموارد الطبيعية باللون الأزرق
(البحر الأحمر - البحر المتوسط - بحيرة ناصر - بحيرة البرلس - نهر النيل).
- ٢- الموارد البشرية باللون الأحمر
(السد العالي - قناة السويس)

نشاط (٥) لاحظ وأكمل

- لاحظ الصور بالكتاب المدرسى ص ٣ : ص ٦ وأكمل ما يلي:

- ١- تشمل مصادر المياه العذبة في مصر..... و..... و.....
- ٢- تعتمد الزراعة في الواحات علي.....ومن أمثلة الواحات..... و..... و.....
- ٣- السد العالي يوجد في محافظة..... وله أهمية في..... و.....
- ٤- ترعة السلام توصل مياه النهر إلي..... وذلك بهدف.....
- ٥- تعتمد الزراعة في شمال مصر على مياه.....

نشاط (٦) فكر وأكمل

استنتج الأهمية المشتركة لكل من موارد المياه العذبة وموارد المياه المالحة ثم اكتب أوجه الاختلاف في أهمية كل منها كما هو موضح بالجدول

أهمية موارد المياه العذبة	أهمية موارد المياه المالحة
١-	١-
٢-	٢-
٣-	٣-
٤-	٤-
الأهمية المشتركة	

ثانياً: الأنشطة الإثرائية

نشاط ١ فكر وعبر

- اكتب لافتات لحسن وترشيد استخدام الموارد الطبيعية والبشرية:
- أكتب فقرة تعبر فيها عن أهمية الموارد الطبيعية وخاصة المياه

نشاط ٢ اجمع وصمم

- كون فريق عمل «أنت وزملائك وخططوا لتصميم مجلة بعنوان «مجلة الموارد ببلدى» حيث يقوم الفريق بتقسيم نفسه إلى ثلاث مجموعات
- المجموعة الأولى: تجمع صور عن الموارد الطبيعية والبشرية ببلدى مصر
- المجموعة الثانية: تعلق على الصور التى جمعتها المجموعة الأولى
- المجموعة الثالثة: تقوم بتحرير وإخراج المجلة.

ثالثاً: التدريبات



١ أكمل العبارات التالية:

(أ) مصادر المياه العذبة في مصر تشمل..... و..... و.....

(ب) يقتصر وجود الأمطار الشتوية في مصر على الساحل.....

(ج) المصدر الرئيسي لمياه الشرب في الواحات هو.....

٢ ضع علامة (✓) أمام العبارة الصحيحة، وعلامة (X) أمام العبارة غير الصحيحة

فيما يلي

(أ) تشمل الموارد الطبيعية في مصر الطرق والمواصلات ()

(ب) السد العالي حمى مصر من أخطار الفيضان والجفاف ()

(ج) تمتلك مصر سواحل محدودة على البحرين الأحمر والمتوسط ()

(د) تصل قناة السويس نهر النيل بالبحرين الأحمر والمتوسط ()

٣ بم تفسر.....؟

(أ) تسمية الموارد الطبيعية بهذا الاسم

.....

(ب) عدم توافر غابات طبيعية في مصر

.....

(ج) أهمية الطاقة للصناعة.

.....

٤ للموارد الطبيعية أهمية كبيرة منها:

..... •

..... •

٥. على الخريطة الصماء التالية اكتب رقم كل موقع من المواقع الآتية على المكان المناسب من الخريطة:

- ١- السدُّ العالى. ٢- بحيرة ناصر ٣- منخفض الفيوم.
٤- فرع رشيد. ٥- بحيرة البرلس. ٦- قناة السويس.



٦. ضع دائرة حول الكلمات التي لا تنتمي إلى المجموعة في كل مما يأتي ثم ضع مسمى للمجموعة :

- (أ) إنسان - جبل - حيوان - نبات.
(ب) ذهب - نحاس - غابات - قصدير.
(ج) مياه أنهار - مياه بحار - مياه جوفية - مياه أمطار.
(د) الزراعة - صيد الأسماك - سقوط الأمطار - السياحة.
(هـ) الإسكندرية - السويس - طنطا - بورسعيد.

٧ أكمل العبارات الآتية بالكلمات المناسبة فيما يلي:

(أ) التلوث يعني.....

(ب) الدخان الصادر من مداخن مصانع الأسمنت يعتبر تلوثاً.....

(ج) إلقاء المخلفات فى الترع والمصارف يعتبر تلوثاً.....

(د) الإعلان عن البضائع باستخدام مكبرات الصوت يعتبر تلوثاً.....

(هـ) الموارد... هى التى منحها الله للإنسان دون جهد منه ومن أمثلتها.....

و..... أما الموارد..... فهى من صنع الإنسان ومن أمثلتها.....

٨ ماذا يحدث إذا..... ؟

(أ) قام الإنسان بإلقاء مخلفات المصانع فى نهر النيل.

.....

(ب) قام الإنسان المصرى بتعمير شبه جزيرة سيناء.

.....

٩ اقترح أكبر قدر ممكن لأدوار كل من المواطن والحكومة فى الحفاظ على الموارد المائية:

.....

١٠ (الموارد البشرية تحتاج إلى الموارد الطبيعية) وبناء على هذه الحقيقة أكمل ما يلي:

(أ) الفلاح (مورد بشري) يحتاج إلى..... و..... (موارد طبيعية)

١١ اكتب ما تدل عليه العبارات التالية:

(أ) تغيرات لبعض موارد الطبيعة فتصبح غير نظيفة. (.....)

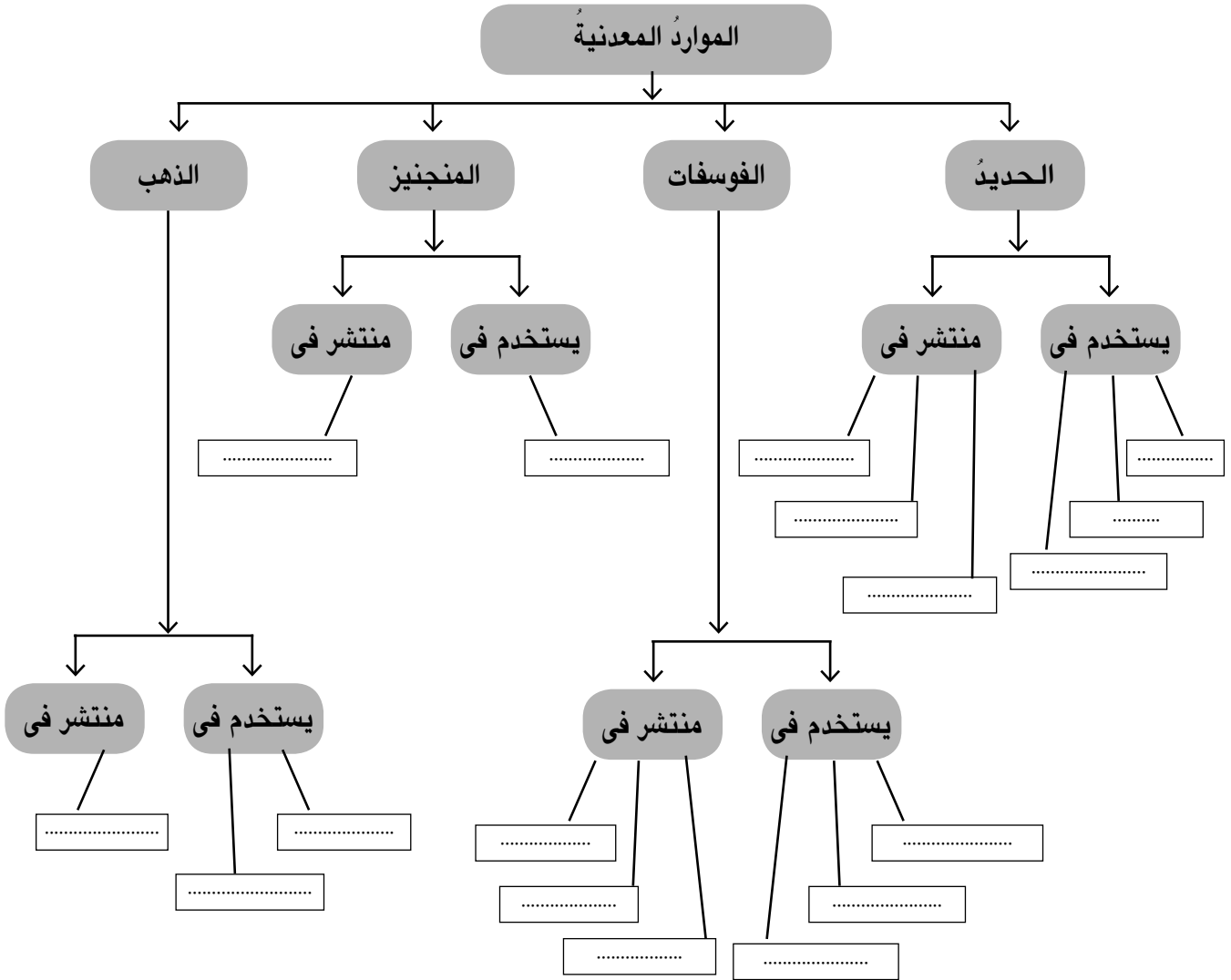
(ب) كل ما يحيط بنا من كائنات حية وظواهر طبيعية ومظاهر حضارية. (.....)

الدرس الثاني: الموارد المعدنية

أولاً: الأنشطة المصاحبة

نشاط (أ) فكر وأكمل

– أكمل الشكل الآتي (شجرة الموارد المعدنية)



نشاط (٢) فكر وحدد

حدد على خريطة مصر الصماء مواقع توزيع كل من الحديد والفوسفات في مصر ثم فكر في الإيجابيات والسلبيات إذا تم استخراج كميات معدني الحديد والفوسفات المتواجد في مصر



Kilometers
0 60 120 180 240

الحديد △

الفوسفات ○

الإيجابيات :

.....



السلبيات :

.....

نشاط (٣) حدد وقارن

(أ) حدد علي الخريطة التالية مناطق استخراج كل من:
معدن المنجنيز ومعدن الذهب ثم قارن بينهما من حيث الأهمية الاقتصادية :



المنجنيز 
الذهب 

(ب) ماذا يحدث إذا تم استخراج كل كميات المنجنيز والذهب من مناجم مصر؟

نشاط (٤) فكر وحدد

حدد المعادن التي يحتاجها زميل لك يريد أن يصنع:

- ١- عربات سكة حديد (.....)
- ٢- مبيد حشري (.....)
- ٣- سماد لزراعة القطن (.....)
- ٤- كوبرى على نهر النيل (.....)
- ٥- حُلَى لوالدته (.....)
- ٦- قضبان السكك الحديدية (حديد وصلب) (.....)

ثالثاً: التدريبات



١ ضع علامة (✓) أمام العبارات الصحيحة، وعلامة (X) أمام العبارات غير الصحيحة فيما يلى:

- (أ) يوجد الحديد فى مصر فى منطقة أم بجمة ()
- (ب) يستخدم الفوسفات فى صناعة الحلي. ()
- (ج) تختلف أهمية المعادن حسب كمية وجودها فى الطبيعة. ()
- (د) يعتمد مصنع الحديد والصلب فى حلوان على حديد شرق أسوان ()

٢ أكمل العبارات التالية:

- (أ) يوجد الحديد فى مصر فى..... مناطق هي..... و..... و.....
- (ب) يعتبر الحديد أساس..... الحديثة.
- (ج) يدخل الفوسفات فى صناعة..... و.....
- (د) المنجنيز عامل أساسى فى صناعة.....
- (هـ) يستخدم الحديد فى صناعة..... و..... و.....
- (و) يوجد الفوسفات فى وادى النيل عند..... وعلى ساحل البحر الأحمر بين..... و..... وفى..... بالصحراء الغربية.

٣ بم تفسر...؟

(أ) الحديد أساس الصناعات الحديثة.

.....

(ب) الفوسفات من أهم المعادن فى مصر.

.....

(ج) اهتمام قدماء المصريين بالذهب.

.....

٤ ما النتائج المترتبة على.....؟

(أ) وجود الفوسفات في مصر بكميات كبيرة.

.....

(ب) تنقيب قداماء المصريين عن الذهب.

.....

٥ اكتب الصناعات التي تستخدم فيها المعادن الآتية:

(أ) الفوسفات:.....

(ب) المنجنيز:.....

(ج) الذهب:.....

٦ ضع دائرة حول الكلمة التي لا تنتمي إلى كل مجموعة من المجموعات الآتية:

(أ) السباعية - أم بجمة - الوادى الجديد - سفاجا.

(ب) فوسفات - صناعة الحلى - صناعة الأسمدة - صناعة المبيدات الحشرية

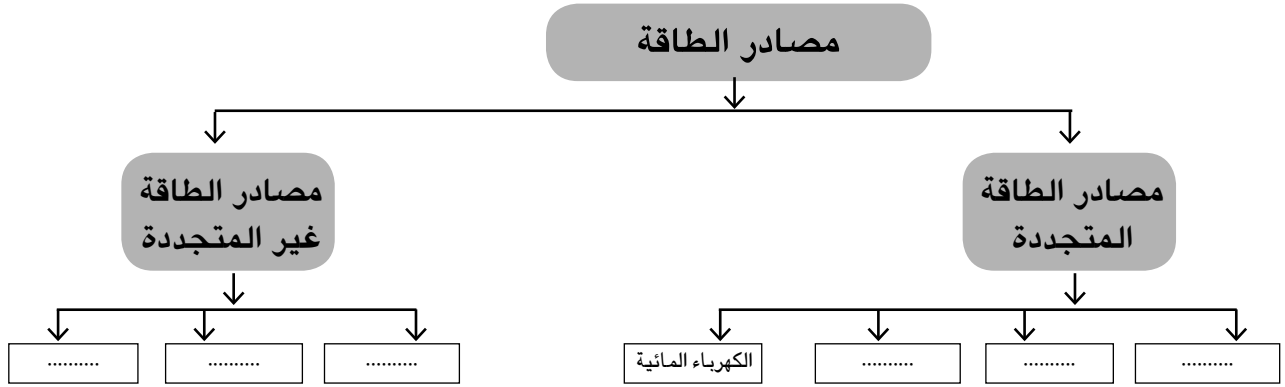
٧ ضع علامة (✓) في المكان الذي ينتشر فيه المعدن بالجدول التالي :

المعدن	الصحراء الشرقية	الصحراء الغربية	شبه جزيرة سيناء	وادي النيل
الحديد				
الفوسفات				
المنجنيز				
الذهب				
مجموع عدد المعادن				

الدرس الثالث: الطاقة

أولاً: الأنشطة المصاحبة

نشاط (١) فكر وأكمل



نشاط (٢) تحاور وعبر

يسكن أمام منزلك صاحب مخبز ودار حوار بينك وبينه جاء فيه ما يلي اقرأ الحوار واملاً الفراغات:

التلميذ: السلام عليكم

صاحب المخبز: وعليكم السلام ورحمة الله وبركاته

التلميذ: بأى طاقة تدار آلات المخبز؟

صاحب المخبز: تدار الآلات باستخدام الغاز الطبيعي وهناك من يستخدم السولار.

التلميذ: هذه مصادر طاقة غير متجددة.

صاحب المخبز: ما أهم مصادر الطاقة غير المتجددة، وهل هناك مصادر طاقة متجددة.

التلميذ:.....

صاحب المخبز: قديماً كان يستخدم الفحم فى تشغيل المخبز فما رأيك فى ذلك؟

التلميذ:.....

صاحب المخبز: أنا أفكر فى استخدام مصدر طاقة متجدد لتشغيل مخبزى فماذا تقترح؟

التلميذ:.....

صاحب المخبز: لماذا؟

التلميذ:.....

صاحب المخبز: شكراً والسلام عليكم ورحمة الله وبركاته.

نشاط (٣) شاهد وأجب

شاهد الرسم البياني ثم أجب عما يأتي:

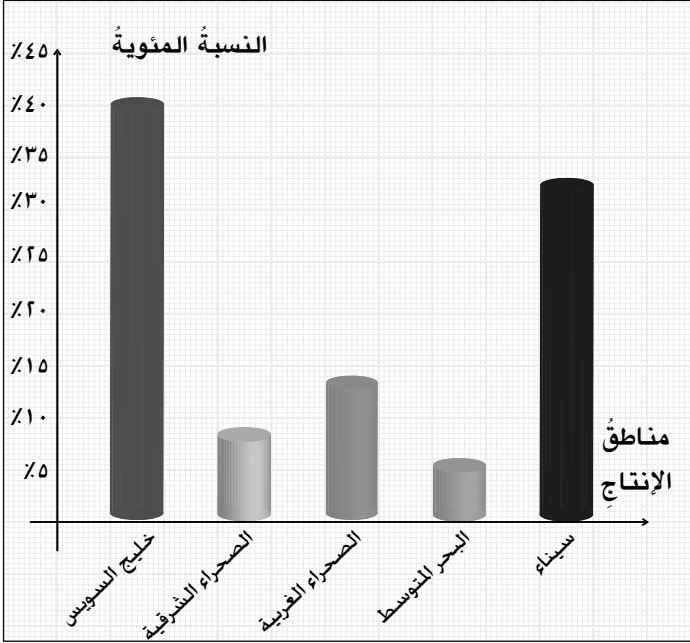
١- حدد أكبر المناطق إنتاجاً للبتروول.....

٢- حدد أقل المناطق إنتاجاً للبتروول.....

٣- كم يبلغ إنتاج البتروول فى البحر المتوسط؟.....

٤- أيهما أكبر إنتاجاً منطقتا الصحراء الشرقية والغربية أم


سيناء؟.....



النسبة المئوية لتوزيع إنتاج البتروول فى مصر عام ٢٠٠٦ م

نشاط (٤) فكر واستنتج

أمامك كلمات متقاطعة فكر واستنتج



١- أهم مشاكل الطاقة المتجددة هى

ارتفاع.....

٢- منطقة تنتج ٥٦% من الغاز الطبيعى فى

مصر هى منطقة.....

٣- إحدى محطات توليد الكهرباء الحرارية

بالإسكندرية هى محطة.....

٤- إحدى محطات توليد الكهرباء المائية تسمى

محطة كهرباء خزان.....

٥- أحد مصادر الطاقة المتجددة ومكون من ستة أحرف.....

٦- إحدى محطات توليد الكهرباء المائية تسمى محطة كهرباء قناطر.....

٧- يبلغ طوله ٣٦٠٠ متر ويمثل أعظم مشروع هندسى فى القرن الماضى.....

ثانياً: الأنشطة الإثرائية

نشاط ١ ابحث وعبر

في مقال لا يقل عن ١٠ أسطر اكتب موضوعاً عن الطاقة مستعيناً بمكتبة المدرسة وشبكة الإنترنت: يتناول

(أ) الفرق بين الطاقة المتجددة والطاقة غير المتجددة.

(ب) مناطق توزيع البترول والغاز الطبيعي.

(ج) أهمية الكهرباء في حياتنا اليومية من خلال استخدامات الكهرباء في الشارع والمدرسة والمنزل.

نشاط ٢ فكر وحدد

(أ) على الخريطة الصماء التالية وضح أكبر ثلاث مناطق في مصر إنتاجاً للبترول وأكبر منطقتين إنتاجاً للغاز الطبيعي

(ب) حدد المواقع الآتية على الخريطة:



١- السد العالي

٢- مدينة القاهرة

٣- البحر الأحمر

٤- مدينة بورسعيد

٥- خزان أسوان

٦- بحيرة ناصر

٧- قناة إسنا

٨- خليج العقبة

٩- الصحراء الشرقية.

ثالثاً: التدريبات



١ أكمل العبارات التالية:

- (أ) أقل مصادر الطاقة غير المتجددة أهمية هو.....
- (ب) مناطق إنتاج البترول فى مصر هي..... و..... و..... و.....
- (ج) أكثر مصادر الطاقة غير المتجددة تلويثاً للبيئة هو..... بسبب انبعاث غاز..... منه بكميات كبيرة أثناء احتراقه.
- (د) من أمثلة الطاقة المتجددة..... و..... ومصادر الطاقة غير المتجددة..... و.....
- (هـ) يوجد الفحم فى مصر فى منطقة.....
- (و) يتركز إنتاج الكهرباء المائية فى مصر بالمناطق الآتية..... و.....
- (ز) يتم توليد الكهرباء الحرارية من حرق.....

٢ ضع علامة (✓) أمام العبارة الصحيحة وعلامة (X) أمام العبارة غير الصحيحة فيما يلي:

- (أ) يحتاج توليد الكهرباء من الرياح انتظام هبوبها ()
- (ب) الطاقة الشمسية طاقة متجددة ()
- (ج) يبلغ إنتاج سيناء من البترول ٣٤٪ من إجمالي إنتاج مصر ()
- (د) الغاز الطبيعي من مشتقات البترول. ()

٣ بم تفسر.....؟

(أ) انخفاض الأهمية الاقتصادية للفحم عن البترول.

.....

.....

(ب) أهمية السدود والقناطر فى إنتاج الطاقة.

.....

.....

(ج) استخدام الطاقة المتجددة فى تسخين المياه والأغراض المنزلية.

.....
.....

٤ ما النتائج المترتبة على...؟

(أ) اكتشاف الغاز الطبيعى بكميات كبيرة فى مصر.

.....
.....

(ب) التوسع فى استخدام الطاقة المتجددة.

.....
.....

(ج) القيام بعمليات تكرير البترول.

.....
.....

٥ ضع دائرة حول الكلمة التى لا تنتمى إلى المجموعة فيما يلي:

(أ) بنزين - سولار - فحم - مازوت.

(ب) غاز طبيعى - فحم - سخانات شمسية - بترول.

(ج) إسنا - الصالحية - نجع حمادى - أسوان.

(د) محطة كهرباء السد العالى - محطة كهرباء قناطر إسنا - محطة كهرباء خزان أسوان -
محطة كهرباء شبرا الخيمة.

(هـ) محطة كهرباء شبرا الخيمة - محطة كهرباء شمال القاهرة - محطة كهرباء أبوقير -
محطة كهرباء قناطر نجع حمادى.

الدرس الرابع: تنمية الموارد الطبيعية

أولاً: الأنشطة المصاحبة

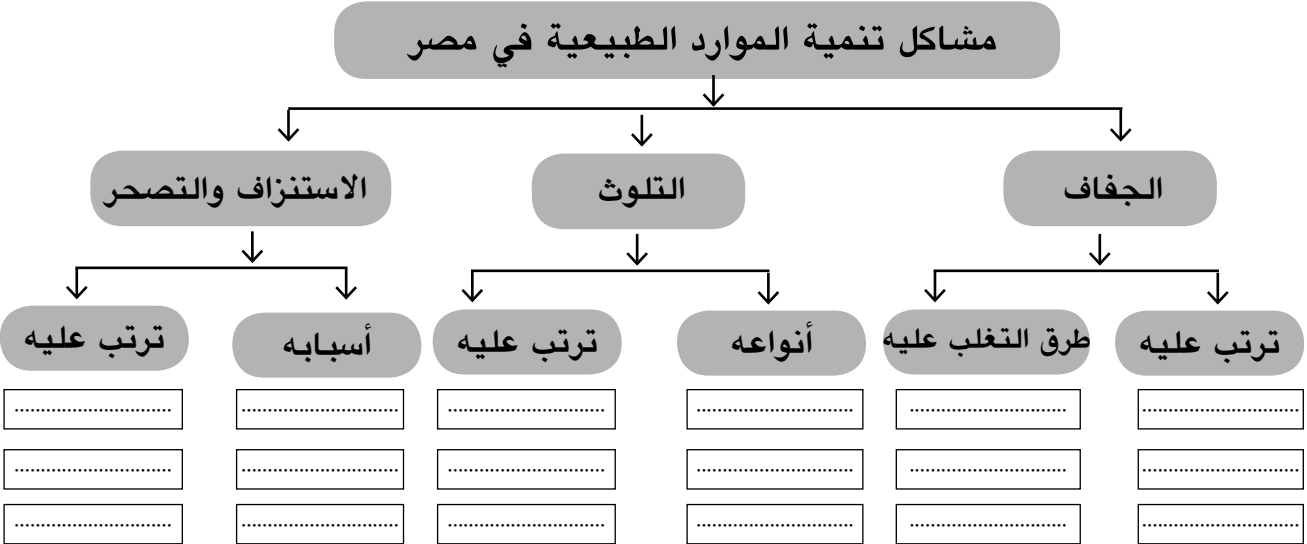
نشاط (١) لاحظ واستنتج

(أ) لاحظ واقراً خريطة الأقاليم المناخية بالكتاب المدرسى ثم استنتج ما يلي:

- ١- الإقليم الصحراوي يقع فى مصر ومن سماته الحرارة..... والأمطار.
- ٢- الإقليم الشبه صحراوي يقع فى..... مصر ومن سماته من حيث الحرارة..... فى الأمطار.
- ٣- إقليم البحر المتوسط يقع فى..... مصر ويتسم بالحرارة..... والأمطار.....
- ٤- الإقليم المناخى الذى يعتمد على الأمطار فى الزراعة هو إقليم.....
- ٥- معظم مساحة مصر تقع فى الإقليم..... مما ترتب عليه.....

نشاط (٢) اقرأ وخلص

اقرأ «مشاكل تنمية الموارد الطبيعية فى مصر» بالكتاب المدرسى ثم لخصها مكملاً الشكل التالى:



نشاط (٣) لاحظ وسجل

لاحظ الصور الخاصة بالتصحر والاستنزاف بالكتاب المدرسى وسجل ما يلى:

١- أسباب التصحر الذى يحدث فى مصر.

.....

٢- اقترح حلولاً لمعالجة الاستنزاف والتصحر.

.....

ثانياً : الأنشطة الإثرائية

نشاط ١ تخيل واستنتج

عمرُ زميلُ لك يعيشُ في إحدى القرى المصرية الجميلةِ تعالَ نقرأ قصته.



أعودُ من المدرسةِ لأساعدَ والدي في الحقلِ

اسمى عمرُ أذهبُ إلى المدرسةِ مبكراً



أصبحَ منظرُ الحقلِ غريباً
وفقدَ شكله الجميلَ



قررَ أبى بناءَ عمارةٍ سكنيةٍ
على جزءٍ من الأرضِ الزراعيةِ

(١) بعدَ قراءتكِ لهذهِ القصةِ:

- ١- اذكرُ نوعَ الخطرِ الذي يواجهُه أرضَ عمر.
 - ٢- ما رأيك في تصرفِ والدِ عمر؟
 - ٣- توقَّعْ لماذا تضاءلتْ مساحةُ الأرضِ الزراعيةِ؟
 - ٤- اقترحْ حلاً لمشكلةِ عمر.
- (ب) اكتبْ مقالاً من خمسةِ أسطرٍ موضحاً فيه الأخطارَ التي تواجهُ نهرَ النيلِ والحلولَ المقترحةَ لعلاجِ هذهِ الأخطارِ مستعيناً بمكتبةِ المدرسةِ وشبكةِ المعلوماتِ الإنترنتِ

نشاط ٢ اجمع وصمم

بالتعاون مع زملائك اجمع معلومات عن دور المدرسة والأسرة للحد من مشكلة التدخين ثم صمم مجلة حائط توضح ذلك. (مستعينا بأراء معلمك ومدير مدرستك ووالدك).

ثالثاً : التدريبات



١ أكمل العبارات التالية:

- (أ) من أسباب تناقص الموارد الطبيعية في مصر
- و و
- (ب) الجفاف حالة مناخية تندر فيها..... مما يضر بالأنشطة البشرية الخاصة
ب..... و.....
- (ج) تقع معظم مساحة مصر في إقليم المناخ ما عدا الأطراف
الشمالية فيسقط عليها المطرُ.....
- (د) يقتصر وجود المراعى في مصر على و
- (هـ) تقل المياه الجوفية في الصحارى المصرية بسبب و
- (و) من أسباب تلوث الهواء في مصر..... و..... و.....
- (ز) تلوث مياه نهر النيل في مصر يؤدى إلى..... و.....

٢ من خلال دراستك أكمل الجدول التالي:

النتائج	الأسباب	الظاهرة
.....	الجفاف
.....	التلوث (تلوث الهواء وتلوث الماء)
.....	الاستنزاف

٣ ما مقترحاتك لعلاج الآثار المترتبة على:

(أ) التلوث الهوائى ؟

١-

٢-

(ب) الاستنزاف ؟

..... ١ -

..... ٢ -

(ج) زراعة الألبان في الصحراء الغربية ؟

..... ١ -

..... ٢ -

٤ بـ تفسر...؟

(١) تلوث مياه نهر النيل.

.....

(ب) قلة المراعي الطبيعية في مصر.

.....

(ج) تدهور الأراضي الزراعية في الدلتا والوادي.

.....

٥ استنتج أوجه التشابه والاختلاف بين التلوث والتصحر.

التلوث	التصحر	
		أوجه التشابه
		أوجه الاختلاف

٦ حدد أوجه التشابه والاختلاف بين تلوث الماء وتلوث الهواء.

تلوث الماء	تلوث الهواء	
		أوجه التشابه
		أوجه الاختلاف

أسئلة وتدريب على الوحدة الأولى



- ١ ضع علامة (✓) أمام العبارة الصحيحة. وعلامة (X) أمام العبارة غير الصحيحة فيما يلي:
- (أ) تمثل المراعى وأسماك نهر النيل موارد طبيعية ()
- (ب) السد العالى حمى مصر من أخطار الجفاف والفيضان ()
- (ج) يستخدم المنجنيز فى صناعة الأسمدة ()
- (د) أكبر مناطق إنتاج البترول فى مصر هى الصحراء الشرقية ()
- (هـ) يمكن تكرير الغاز الطبيعى إلى عدة مشتقات ()
- (و) يمثل البترول أكثر مصادر الطاقة تلويثاً للبيئة ()
- (ح) يسبب حرق قش الأرز التلوث المائى ()

أكمل العبارات التالية:

- (أ) من مصادر المياه العذبة فى مصر..... و..... و.....
- (ب) تنقسم الطاقة إلى نوعين هما طاقة..... وطاقة.....
- (ج) يوجد الحديد فى مصر فى..... و..... و.....
- (د) من أهم استخدامات الفوسفات فى مصر..... و..... و.....
- (هـ) من أمثلة الطاقة المتجددة..... و..... و.....

٣ بم تفسر...؟

(أ) أهمية المياه العذبة فى مصر.

.....

(ب) ضرورة الحفاظ على المياه المالحة فى مصر.

.....

(ج) تعتبر السدود والقناطر أحد مصادر الطاقة فى مصر.

.....

(د) تفضيل الناس استخدام البترول والغاز الطبيعى كمصدر للطاقة بدلا من الفحم.

.....

(هـ) الاستنزاف من الأمور التى تعوق تنمية الموارد الطبيعية فى مصر.

.....

٤ ما النتائج المترتبة علي...؟

(أ) ارتفاع نسبة تلوث المياه فى مصر.

.....

(ب) وجود الفوسفات بكميات كبيرة فى مصر.

.....

(ج) الإسراف فى استخدام المبيدات والأسمدة الكيماوية فى الزراعة.

.....

٥ ماذا يحدث إذا...؟

(أ) نجحت مصر فى تعمير الصحراء الشرقية والصحراء الغربية وسيناء.

.....

(ب) زاد استخدام طاقة الرياح والطاقة الشمسية كبديل للفحم والبتترول.

.....

(ج) قلت نسبة الأمية فى مصر.

.....

٦ ما المقصود بالمفاهيم الجغرافية الآتية...؟

(أ) الموارد الطبيعية :.....

(ب) التلوث :.....

(ج) الطاقة المتجددة :.....

٧ ما مقترحاتك لكل من...؟

(أ) ترشيد الاستهلاك للطاقة.

.....

(ب) تنمية الموارد الطبيعية فى مصر.

.....

الأنشطة الاقتصادية في مصر

الدرس الأول: الإنتاج الزراعي والسمكي والرعي

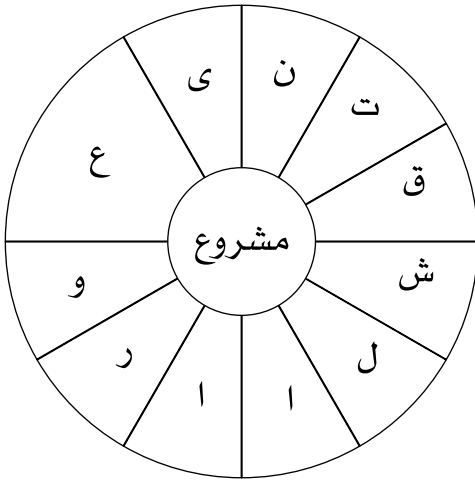
أولاً: الأنشطة المصاحبة:

نشاط (١) تذكر وأكمل

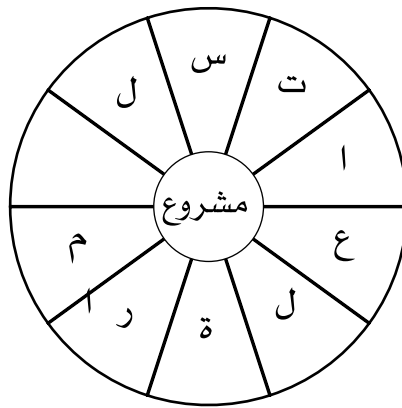
- ١- تبلغ مساحة الأراضي الزراعية في مصر مليون فدان
- ٢- يعتمد الري في مصر علي كمصدر رئيسي للمياه.
- ٣- يعمل في الزراعة في مصر نحو % من قوة العمل في مصر.
- ٤- تساهم الزراعة بنحو % من الصادرات السلعية.
- ٥- يحتل المركز الأول من الصادرات الزراعية لمصر، أما المركز الثاني فهو لمحصول ثم في المركز الثالث وأخيراً في المركز الرابع.

نشاط (٢) فكر وحدد

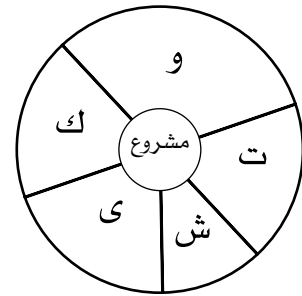
- أمامك ثلاث دوائر كل دائرة تمثل مشروع من مشروعات التنمية الزراعية في مصر رتب الحروف ثم سجل اسم المشروع أسفل كل دائرة.



.....



.....



.....



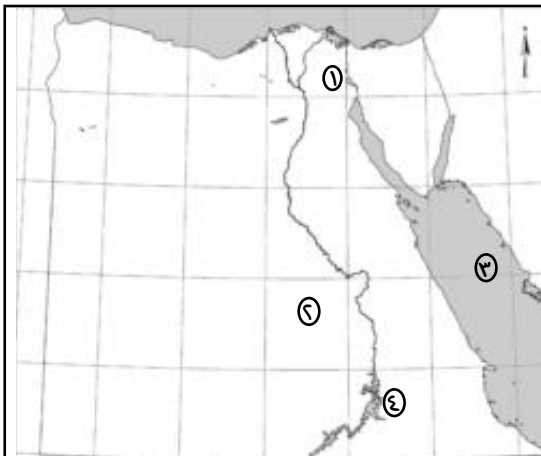
نشاط (٣) حدد وأكمل

- حدد على الخريطة التي أمامك أهم مشروعات التنمية في مصر ثم أكمل العبارات التالية :
- ١- يهدف مشروع ترعة السلام لتوصيل مياه النيل إلي
 - ٢- يعتمد مشروع شرق العوينات على المياه كمصدر رئيسي للرى فيها.
 - ٣- يتم تزويد قناة توشكى بالمياه من

نشاط (٤) فكر واقترح

تعانى مصر من نقص فى الإنتاج الزراعى والسمكي اكتب أكبر عدد من المقترحات لزيادة إنتاج مصر الزراعى والسمكي

-
-
-
-
-



نشاط (٥) لاحظ وحدد

- أ- اكتب مدلول الأرقام الموجودة على الخريطة:
- (١) بحيرة.....
 - (٢) مشروع.....
 - (٣) البحر.....
 - (٤) بحيرة.....
- ب - لون مصائد المياه العذبة بلون ومصائد المياه المالحة بلون آخر

ثانياً: الأنشطة الإثرائية



نشاط ١ صورة وتعليق

أمامك صورة لأحد المنشآت المهمة في مصر
لاحظها ثم أجب ما اسم هذا البناء

.....

أين يقع؟

.....

متى تم إنشائه؟

.....

ما استخداماته؟

.....

نشاط ٢ اكتب رسالة لأحد أصدقائك في إحدى الدول العربية لا تقل عن ١٠ أسطر توضح له:

– أهم مشروعات التنمية الزراعية في مصر

– مصادر الثروة السمكية في مصر

نشاط ٣ ابحث وتعلم

استعن بمكتبة المدرسة وشبكة المعلومات الدولية للبحث عن:

أ– أنواع حيوانات الرعى في مصر

ب– أساليب تنمية الثروة الحيوانية في مصر.

ثم لخص ما توصلت إليه من معلومات في ورقة عمل تحت عنوان:

أنواع حيوانات الرعى في مصر

نشاط ٤ (اجمع معلومات)

بالاستعانة بشبكة الإنترنت أو مكتبة المدرسة (اجمع معلومات عن البحيرات الطبيعية في مصر

وأهم المشكلات التي تعاني منها

ثالثاً: التدريبات



١ ضع علامة (✓) أمام العبارة الصحيحة، وعلامة (X) أمام العبارة غير الصحيحة

فيما يلي:

- () (أ) يعمل بالزراعة فى مصر نحو ٥٠٪ من القوي العاملة
- () (ب) الاتحاد الأوربى أكبر مستورد للمنتجات الزراعية المصرية
- () (ج) الإنتاج الزراعى فى مصر يتركز فى الوادى والدلتا
- () (د) نهر النيل هو المصدر الوحيد للثروة السمكية
- () (هـ) إنتاج اللحوم فى مصر يكفى حاجة السكان

٢ أكمل الفراغات فى العبارات الآتية:

- (أ) تبلغ مساحة الأراضى الزراعية فى مصر نحو..... مليون فدان.
- (ب) يعتمد مشروع شرق العوينات على..... كمصدر رئيسى للمياه.
- (ج) يحتل محصول..... ومحصول..... المركز الأول والثانى فى الصادرات المصرية على الترتيب.
- (د) مصادر الثروة السمكية فى مصر هي..... و..... و..... و.....

الدرس الثانى الصناعة

أولاً: الأنشطة المصاحبة:

نشاط (1) اقرأ و صنف

اقرأ الحوار التالى وحاول أن تساعدهما فى هذا التمييز:

أنا لا أستطيع
التمييز بين المقومات الطبيعية
والبشرية للإنتاج الصناعى فى مصر
محتاج مساعدة



أنا أستطيع
أن أساعدك وأصنفهم
إلى مقومات طبيعية
ومقومات بشرية.



المقومات البشرية للإنتاج الصناعى	المقومات الطبيعية للإنتاج الصناعى

نشاط (٢) فكر ورتب

رتب الحروف فى كل صف من الصفوف التى أمامك ثم سجل اسم الصناعة به
أ - إحدى الصناعات الكيماوية التى تعتمد على الفوسفات المحلى وتساعد الزراعة على توفير
المادة الخام لها.

ا	س	ل	ا	د	ة	م
---	---	---	---	---	---	---

صناعة.....

ب- صناعة بدأت وتطورت على يد طلعت حرب ومركزها المحلة الكبرى وشبرا الخيمة وكفر
الدوار.

ا	غ	ل	ز	و	ل	ا	ل	س	ن	ى	ج
---	---	---	---	---	---	---	---	---	---	---	---

صناعة.....

ج - صناعة تساهم بنصيب كبير فى الصادرات المصرية ولكنها تلوث البيئة.

ا	س	ل	ا	م	د	ن
---	---	---	---	---	---	---

صناعة.....

د. صناعة الأخشاب وأهم مراكزها القاهرة ودمياط.

ا	ث	أ	ل	ث
---	---	---	---	---

صناعة.....

نشاط (٣) أكمل الجدول

ارجع إلى خريطة أهم الصناعات فى مصر بالكتاب المدرسى ثم أكمل الجدول التالي:

أهم الصناعات	المحافظة
	القاهرة
	الإسكندرية
	السويس
	قنا

نشاط (٤) تخيل وأجب

تخيل أنك مستثمر مصرى وتريد إنشاء مصنع للغزل والنسيج.

أ - ما المحافظة التى يمكن إنشاء المصنع بها.

.....

ب- ما المواد الخام التى تحتاجها.

.....

ج - ما أهمية هذه الصناعة.

.....

نشاط (٥) لاحظ وأجب

انظر إلى الصور الثلاث واكتب أسفل كل منهما الأضرار التى تواجه البيئة فى كل صورة:



.....
.....



.....
.....



.....
.....

نشاط (٦) تذكر وأجب:

اكتب نوع التلوث الذي تسببه :

صناعة الحديد والصلب من الصناعات التي تسبب تلوث.....

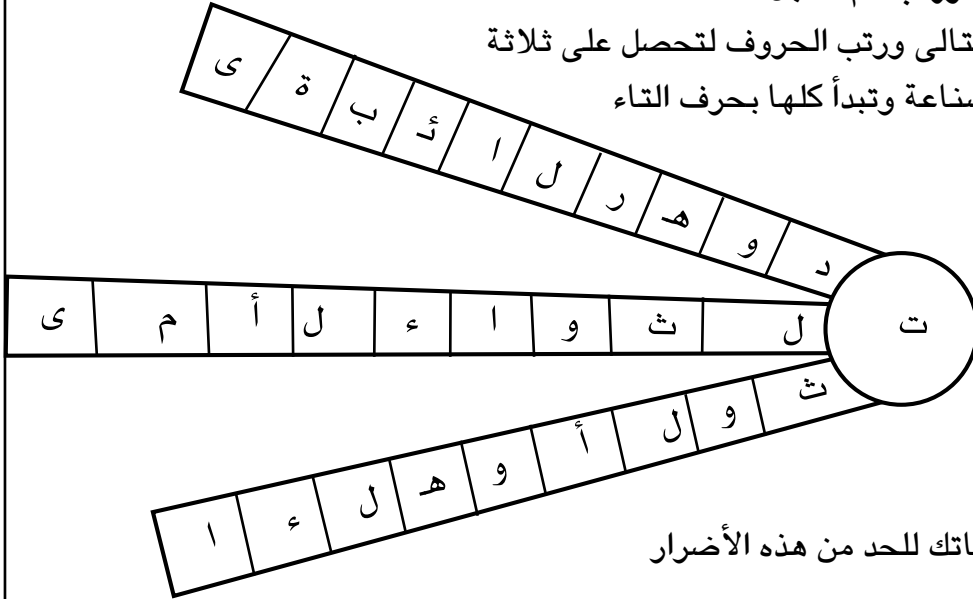
صناعة الأسمنت تسبب تلوث.....

إقامة المصانع وسط المدن السكنية بسبب تلوث.....

ثانياً : الأنشطة الإثرائية

نشاط ١ لاحظ ورتب ثم سجل

أ - لاحظ الشكل التالي ورتب الحروف لتحصل على ثلاثة
أضرار تسببها الصناعة وتبدأ كلها بحرف التاء



ب - سجل مقترحاتك للحد من هذه الأضرار

.....

.....

.....

نشاط ٢ فكر واقترح

طلب منك أحد أصدقائك أن تقترح مكانا لإقامة أحد مصانع الأسمنت

(أ) فما أفضل الأماكن لإقامة هذا المصنع؟

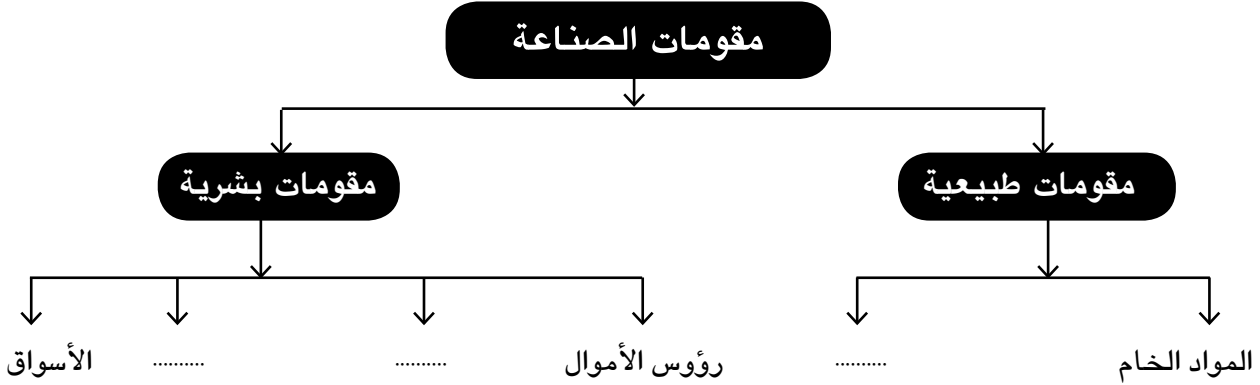
(ب) لماذا اخترت هذا الموقع؟

(ج) ما مدى تأثير هذه الصناعة على البيئة المحيطة.

ثالثاً: التدريبات



١ في ضوء ما درست أكمل التخطيط التالي:



٢ ضع علامة (✓) أمام العبارة الصحيحة، وعلامة (X) أمام العبارات غير الصحيحة

فيما يلي:

- () (أ) صناعة الحديد والصلب من الصناعات الاستخراجية
- () (ب) تتوافر في مصر مصادر الطاقة اللازمة للصناعة
- () (ج) تساهم الصناعة في حل مشكلة البطالة في مصر
- () (د) صناعة الإلكترونيات من الصناعات الملوثة للبيئة

٣ أكمل الفراغات في العبارات الآتية:

- (أ) تنقسم الصناعة إلى صناعة..... وصناعة.....
- (ب) من مقومات الصناعة..... و..... و.....
- (ج) تسبب الصناعة تلوث..... وتلوث..... وتلوث.....
- (د) أهم مراكز صناعة الغزل والنسيج في مصر..... و..... و.....
- (هـ) من مصادر الطاقة المستخدمة في الصناعة..... و.....
- (و) تشمل الخامات اللازمة للصناعة خامات..... وخامات.....

٤ بم تفسر...؟

(أ) إصابة معظم سكان مدينة حلوان بالأمراض الصدرية.

.....
.....

(ب) الأهمية الاقتصادية للنشاط الصناعى فى مصر.

.....
.....

(ج) ارتباط التلوث البيئى بالصناعة

.....
.....

٥ ما النتائج المترتبة علي...؟

(أ) توافر الأسواق الداخلية والخارجية فى الصناعة.

.....
.....

(ب) بناء المصانع وسط المدن السكنية.

.....
.....

٦ ضع دائرة حول الكلمة التى لا تنتمى إلى المجموعة:

(أ) تعدين - بترول - منسوجات - غاز طبيعى.

(ب) غزل ونسيج - أغذية محفوظة - رعى الأغنام - الصناعات الكيماوية.

(ج) رؤوس الأموال - مياه الشرب - مصادر الطاقة - وفرة الخامات.

(د) صناعة الألبان - صناعة الأثاث - صناعة الجبن - صناعة العصائر.

الدرس الثالث: النقل والمواصلات والتجارة

أولاً: الأنشطة المصاحبة:

نشاط (١) استعن وأكمل:

بمساعدة معلمك أكمل الفراغات الآتية:

- ١- مصر دولة أفروآسيوية لأنها تقع فى قارتي:..... و.....
- ٢- تطل مصر على البحر..... والبحر..... وتصل بينهما قناة.....
- ٣- يجرى نهر النيل من.....إلى..... ليصب فى البحر.

نشاط (٢) لاحظ وأكمل



طريق القاهرة الإسكندرية



أسباب امتداد الطرق البرية موازية للوادي هي:

.....

.....

د	ا	ا	ق	س	ا	د	ا
م	ل	ل	ن	و	ل	ر	ل
ى	ب	ا	ا	ى	ا	ي	ن
أ	ح	ح	ة	س	س	ة	ق
ط	ر	م	أ	ح	ك	ا	ل
ى		ر	ل	ر	ن	ل	ب

نشاط (٣) كلمة السر

استخرج من المربع الذى أمامك الحروف التى تعبر عن كل عبارة مما يلي، وسوف يتبقى لك مجموعة من الحروف رتبها لتحصل على كلمة السر.

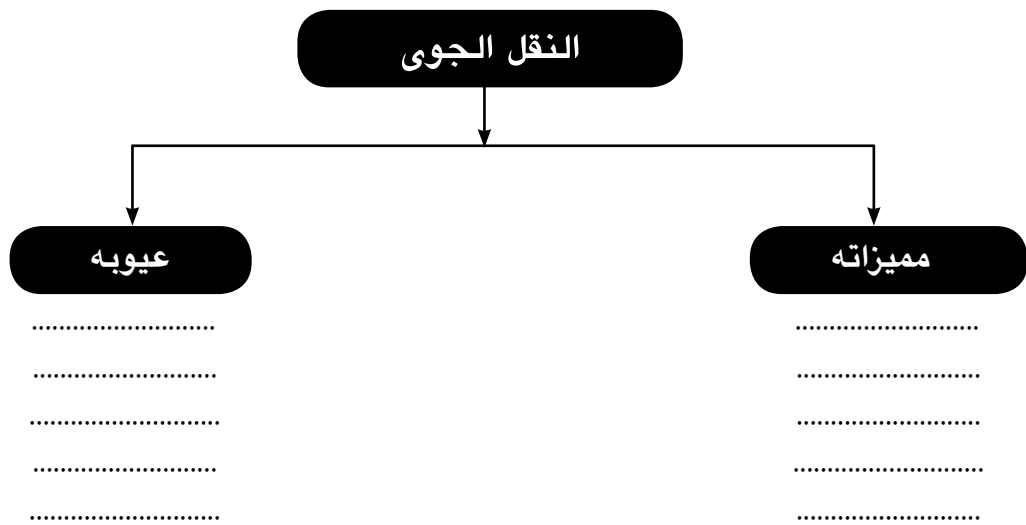
أ - ميناء أنشئ ليخفف الضغط على ميناء الإسكندرية.

ب - بحر يقع شرق مصر وتقل أهميته بسبب اقتراب الجبال منه ووجود الشعب المرجانية.

ج - ممر ملاحى هام يربط البحر الأحمر بالبحر المتوسط.

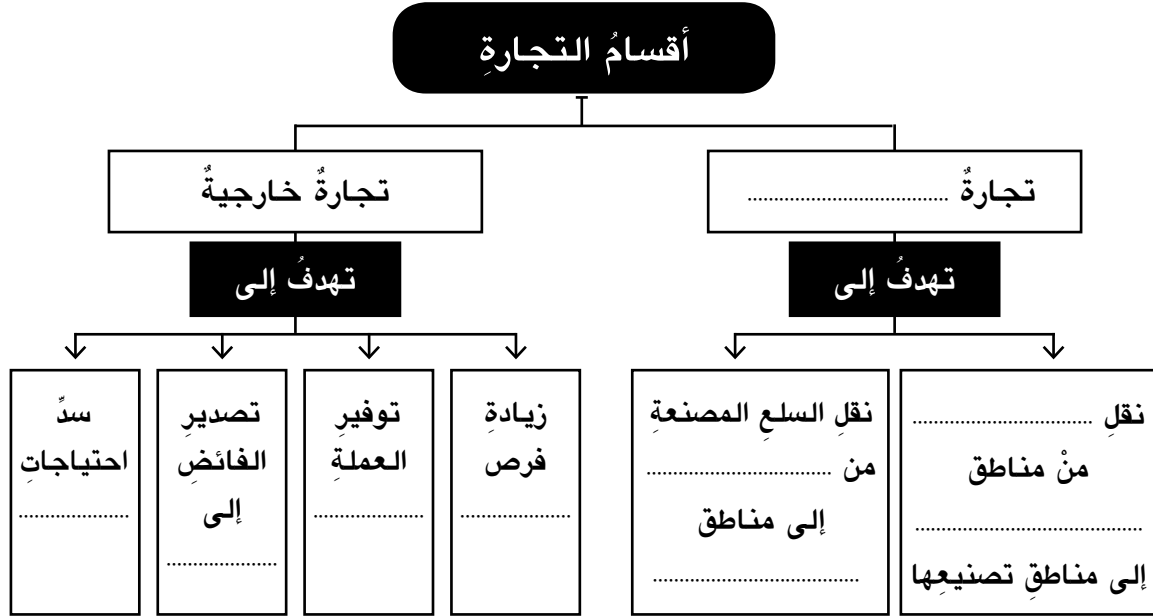
د - أكبر الموانئ المصرية البحرية ويقع فى مواجهة أكثر مناطق العالم تقدما فى أوروبا.
كلمة السر هي

نشاط (٤) فكر وأكمل الشكل التالى



نشاط (٥) تذكر وأكمل

اقرأ وأكمل خريطة المعلومات:



ثانياً : الأنشطة الإثرائية

نشاط ١ ابحث وأجب:

من خلال المكتبة وشبكة المعلومات اكتب عن أسباب اهتمام مصر بتنمية التجارة الخارجية

نشاط ٢ فكر واكتب

ستقوم مدرستك في إجازة نصف العام برحلة من القاهرة لأسوان

اكتب مقالاً من ١٠ أسطر عن أفضل وسائل النقل لهذه الرحلة ثم اذكر أنواع وسائل النقل الأخرى

التي ستشاهدها أثناء رحلتك

نشاط ٣ صورة وتعليق

اقرأ الحوار التالي وحاول أن تساعدتهما في كتابة عنوان لكل صورة مما يلي

من خلال الصور
التالية حاولي كتابة
تعليق على كل صورة



سوف أحاول



ثالثاً : التدريبات



١ ضع علامة (✓) أمام العبارة الصحيحة، وعلامة (X) أمام العبارة غير الصحيحة فيما يلي:

- (١) يعتبر النقل الجوي أرخص وسائل النقل. ()
- (ب) يقتصر النقل البري على الطرق المرصوفة. ()
- (ج) مصر أقدم دولة في إفريقيا استخداماً للسكك الحديدية. ()
- (د) قناة السويس توفر تكاليف الرحلة بين شرق العالم وغربه. ()
- (هـ) تسير خطوط السكك الحديدية عمودية على نهر النيل. ()

٢ أكمل الفراغات في العبارات الآتية:

- (١) يشمل النقل البري و
- (ب) يربط مترو الأنفاق بين محافظات القاهرة الكبرى وهي
و و
- (ج) يعتبر ميناء أهم موانئ مصر على البحر المتوسط.
- (د) تقل أهمية الموانئ الموجودة على البحر لوجود الشعاب المرجانية
و

٣ بم تفسر ...؟

- (١) يعتبر النقل النهري أفضل وسائل نقل البضائع ثقيلة الوزن وضخمة الحجم.
.....
- (ب) ميناء دمياط مكمل لميناء الإسكندرية.
.....
- (ج) أهمية مترو الأنفاق للقاهرة الكبرى.
.....
- (د) تنوع وسائل النقل في مصر.
.....

٤ ما النتائج المترتبة على ...؟

كثرة المطارات في مصر.

.....

٥ ماذا يحدث إذا ...؟

لم يتم حفر قناة السويس.

.....

٦ اختر الإجابة الصحيحة مما بين القوسين:

(أ) يرجع توافر وسائل النقل البري في مصر إلى

(كثرة الموانئ - استواء معظم السطح - كثرة المطارات - ارتفاع الجبال)

(ب) يعوق الملاحة النهرية في مصر

(تجمد النهر - السدود والقناطر - قلة السفن - صيد الأسماك)

(ج) الكوميسا هو اتحاد اقتصادي يضم دول

(أوروبا - شرق وجنوب إفريقيا - أمريكا الجنوبية - شرق آسيا)

٧ ضع دائرة حول الكلمة التي لا تنتمي إلى المجموعة مع التفسير:

(أ) سيارة ملاكي - سيارة نقل - سفينة - مطار.

.....

(ب) قارب - طائرة - سفينة - باخرة.

.....

(ج) ميناء بورسعيد - ميناء دمياط - ميناء السويس - ميناء الإسكندرية.

.....

أسئلة وتدريب على الوحدة الثانية



١ ضع علامة (✓) أمام العبارة الصحيحة، وعلامة (X) أمام العبارة غير الصحيحة فيما يلي:

- (أ) نقل مياه نهر النيل إلى شمال سيناء يعتمد على مشروع توشكى. ()
- (ب) الإنتاج السمكى يكفي حاجة السكان فى مصر. ()
- (ج) تكثر المراعى الطبيعية فى مصر. ()
- (د) نهر النيل هو المصدر الوحيد للثروة السمكية فى مصر. ()
- (هـ) الأرز أهم المحاصيل الزراعية التى تصدرها مصر. ()
- (و) تستخدم مصر الوسائل الحديثة فى الصيد. ()
- (ز) الكوميسا اتحاد اقتصادى يضم دولاً من آسيا. ()
- (ح) صناعة الأسمدة فى مصر من الصناعات الاستخراجية. ()
- (ط) يعتبر ميناء الإسكندرية أهم الموانئ المصرية. ()
- (ي) الولايات المتحدة أكبر شريك تجارى لمصر. ()

٢ أكمل الفراغات فى العبارات الآتية:

- (أ) يعمل فى الزراعة نحو % من القوي العاملة بمصر وتساهم بنحو
- % من الصادرات.
- (ب) تُزرع أراضى شرق العوينات اعتماداً على المياه
- (ج) ينقسم النقل إلى نقل ونقل ونقل
- (د) يبلغ طول الطرق البرية فى مصر نحو
- (هـ) تعتبر دولة أهم شريك تجارى لمصر.

٣ بم تفسر ...؟

- (أ) موازاة خطوط السكك الحديدية لنهر النيل.
-

(ب) خطورة إقامة المصانع داخل المدن السكنية.

.....

(ج) ازدهار الصناعة في مصر.

.....

(د) توقيع الاتفاقيات الدولية مع دول العالم المختلفة.

.....



٤ اكتب على الخريطة الصماء لمصر

المواقع الآتية:

(أ) ميناء الإسكندرية.

(ب) قناة توشكى.

(ج) قناة السويس.

(د) بحيرة ناصر (السدُّ العالى).

٥ ما النتائج المترتبة على...؟

(أ) إقامة مشروع توشكى وشرق العوينات.

.....

(ب) تطوير وسائل النقل البرى.

.....

(ج) وفرة العمالة الرخيصة في مصر.

.....

(د) إقامة المناطق الصناعية في المدن الجديدة.

.....

(هـ) زيادة الصادرات المصرية.

.....

٦ ماذا يحدث إذا...؟

(أ) لم يتوافر الغاز الطبيعي والبتروال في مصر.

.....

(ب) زادت الصادرات المصرية إلى دول العالم.

.....

(ج) لم يتم إقامة مشروع مترو الأنفاق.

.....

٧ قارن بين التجارة الداخلية والتجارة الخارجية من حيث التعريف والنتائج المترتبة على كل منهما وجهود الحكومة لتنشيطهما.

التجارة الخارجية	التجارة الداخلية	وجه المقارنة
.....	التعريف
.....	النتائج
.....	جهود الحكومة لتنشيطها

٨ اكتب سطرين عن كل مما يأتي:

(أ) مشروع توشكى.

.....

(ب) وسائل النقل المائي في مصر.

.....

.....

مصر قبل الإسلام

الدرس الأول: - شخصيات وأحداث من العصر البطلمي

أولاً: الأنشطة المصاحبة:

نشاط (أ) شاهد واجب: -

من مُشاهدتك للخريطةِ المقابلة استنتج:

- أهمّ المعابدِ التي نشأت في عصرِ البطالمةِ.

.....
.....
.....
.....

- أسباب اهتمام البطالمة بإنشاء المعابد للآلهة المصرية:

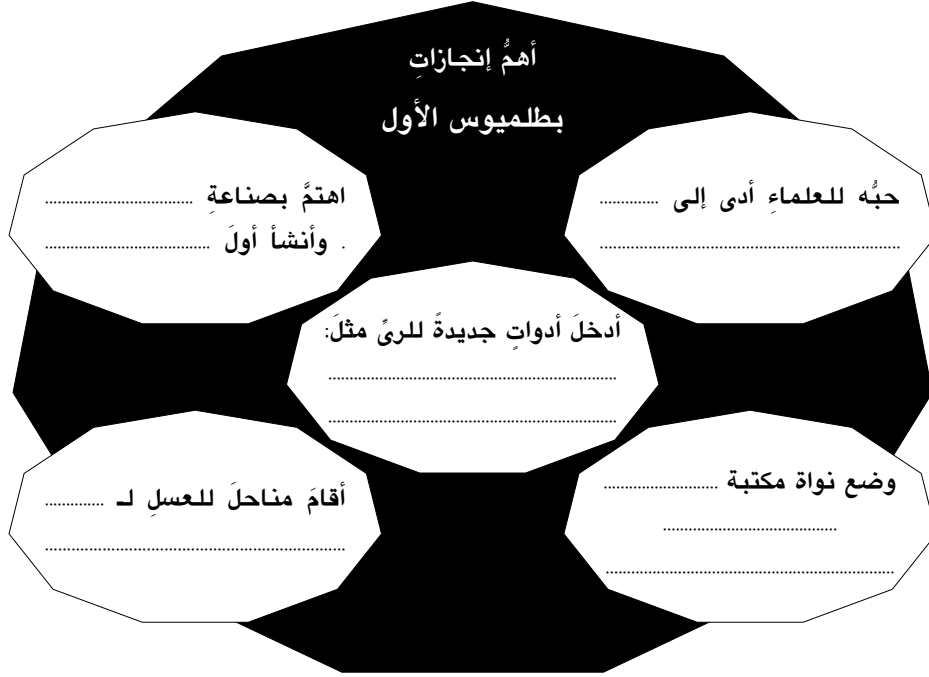
.....
.....
.....
.....



خريطة لموقع بعض الآثار البطلمية بمصر

نشاط (٢) فكر وأكمل :-

أ- فكر وأكمل شجرة المعلومات التالية ::



ب - تدل المنشآت التي أقامها بطلميوس الأول على أنه كان :

.....
.....

نشاط (٣) لاحظ و عبر:



منارة الإسكندرية

أ - شاهد صورة منارة الإسكندرية واكتب وصفًا لها:

.....
.....

ب - استنتج الغرض من إنشائها:

.....
.....

نشاط (٤) اقرأ واستنتج:

اقرأ النصَّ التالي ثم استنتج:

« قسّم أحد المؤرخين الإغريق سكان الإسكندرية إلى ثلاث فئات هي: السكندريون (المواطنون الإغريق) ، والمصريون (أهل البلاد الذين لم يعتبرهم الإغريق مواطنين)، والجنود المرتزقة. ويتعلق هذا التقسيم بالمواطنة من حيث الحقوق والواجبات التي كان يتمتع بها الإغريق ولا يتمتع بهذه الحقوق المصريون من أهل المدينة».

(١) هل حقوق المواطنة كانت منطبقة على جميع السكان في العصر البطلمي؟ ولماذا؟

.....

(أ) ماذا تقول بوصفك مواطناً مصرياً تعيش خلال عصر الإغريق في مدينة الإسكندرية عن مدى تمتع المصريين بحقوق المواطنة؟

.....

نشاط (٥) فكّر وصنّف:

يرجع سبب سقوط دولة البطالمة إلى:

أسباب اقتصادية	أسباب خارجية	أسباب داخلية
.....
.....
.....
.....



ثانياً: الأنشطة الإثرائية

نشاط ١) ابحث واكتب

استعن بمكتبة مدرستك أو أى مكتبة عامة قريبة منك كما يمكنك الاستعانة بشبكة الإنترنت:

- اكتب بحثاً من صفحة واحدة عن مشروع إحياء مكتبة الإسكندرية.
- اجمع صوراً عن آثار مصر البطلمية، واكتب تعليقاً تحت كل صورة من الصور



نشاط ٢) فكر وعبر.

وجه رسالة إلى بطلميوس الأول تقدم له التحية على قدرته فى القضاء على صراعات الوصول للحكم.

نشاط ٣) (عبر برأيك)

عبر برأيك عن موقف كليوباترا فى دخولها الصراع بين حكام روما .

ثالثا التدريبات



- ١ أكمل الفراغات في العبارات الآتية:
- (أ) سُمِّيَ العصرُ البطلميُّ بهذا الاسم نسبةً إلى
- (ب) استمرَّ حكمُ البطالمة في مصرَ ما يقربُ من سنة.
- (ج) تربَّى بطلميوسُ الأولُ في قصرِ الملكِ
- (د) تدلُّ المنشآت التي أنشأها بطلميوسُ الأولُ أنه كان
- (هـ) قُسمتْ إمبراطوريةُ الإسكندرِ الأكبرِ بعدَ وفاته بين و
- ٢ ضع علامة (✓) أمام العبارة الصحيحة، وعلامة (X) أمام العبارة غير الصحيحة فيما يلي:
- (أ) البطالمة هم خلفاء الإسكندر الأكبر في مصر. ()
- (ب) كان الإسكندر الأكبر يكبر بطلميوس الأول بعشر سنوات. ()
- (ج) دخل البطالمة حروباً كثيرة مع الدولة السلوقية في سوريا. ()
- (د) كليوباترا السابعة هي زوجة بطلميوس الثاني عشر. ()
- ٣ بَم تفسر ...؟
- (أ) رغبة بطلميوس الأول في الانفراد بحكم مصر.
-
- (ب) ضعف دولة البطالمة بعد بطلميوس الثالث
-
- (ج) تسمية بطلميوس الأول باسم المنقذ.
-
- (د) انتحار أنطونيوس وكليوباترا.
-
- ٤ ما أهم أعمال بطلميوس الأول في مجال الزراعة؟
-
- ٥ ما أهم أعمال بطلميوس الأول في المجال الثقافي؟
-

٦ لماذا أنشأ بطلميوس الأول العديد من مناحل العسل؟

.....

٧ وضّح أهمّ المعابد التي تركها البطالمة في مصر.

.....

٨ لماذا لم يتمتع المصريون بحقوق المواطنة زمن البطالمة؟

.....

٩ يرجع سقوط دولة البطالمة إلى:

..... (أ) (ب)

..... (ج) (د)

الدرس الثاني: شخصيات وأحداث من العصر الروماني في مصر.

أولاً: الأنشطة المصاحبة:

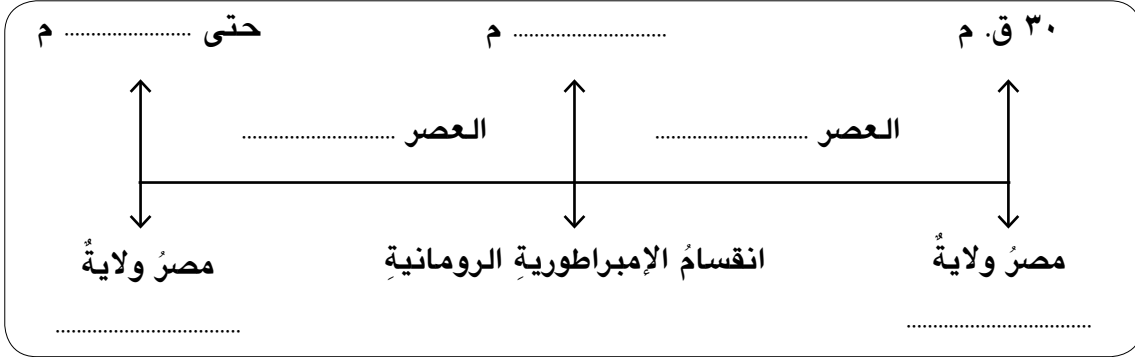
نشاط (١) فكر وأكمل

علي ضوء ما درست أكمل :

- عرفت أن كليوباترا السابعة آخر ملوك دولة قد تحالفت مع القائد الروماني أنطونيوس ضد القائد الروماني الذي نجح في هزيمته في معركة سنة ٣١ ق. م.
- وفي عام ٣٠ ق. م جاء أكتافيوس إلى مصر بجيش كبير واستولى عليها وأصبحت مصر ولاية

نشاط (٢) فكر و استنتج:

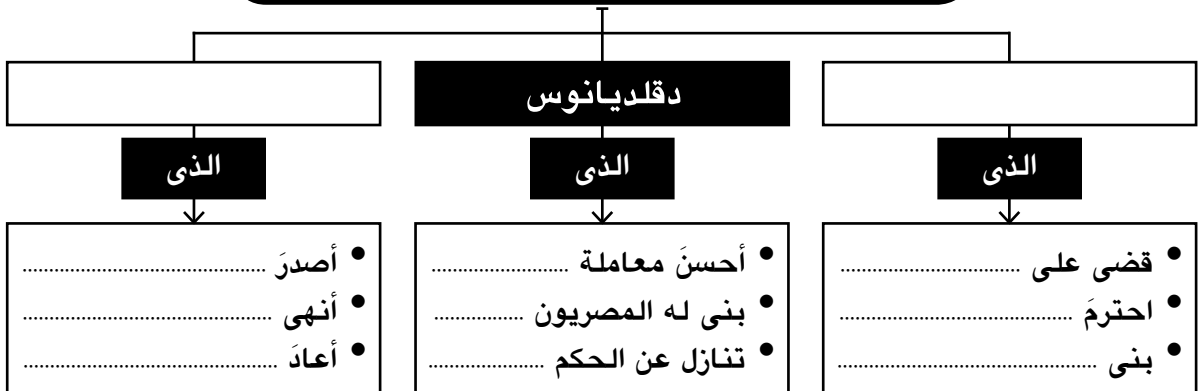
استكمل بيانات الخط الزمني الذي يوضح عصور الحكم الروماني في مصر:



نشاط (٣) تذكّر وأكمل:

أكمل الشكل باستخدام الكلمة المفتاح

من أشهر شخصيات العصر الروماني في مصر



نشاط (٤) تأمل واستنتج:

• صف هذا الحصن:



حصن بابلون

• لماذا بُنى هذا الحصن؟

نشاط (٥) عبر عن رأيك:

اكتب رأيك في مدى تمتع الشعب المصرى بحقوق المواطنة في العصر الرومانى :

نشاط (٦) اقرأ واستنتج:

باستخدام الكلمة المفتاح التالية وبأسلوبك الشخصى ومن خلال دراستك لأحوال مصر تحت الحكم الرومانى فى مصر استنتج أسباب سقوط الحكم الرومانى فى مصر وترحيب المصريين بالفتح الإسلامى.

- سوء
- فرض
- حرمان
- اضطهاد

ثانياً الأنشطة الإثرائية

نشاط ١ (فكر وسجل)

اكتب سطرين عن كل اثر من الآثار المتبقية من العصر الرومانى فى مصر مستعيناً بالصورة التالية.




نشاط ٢ (ابحث واستنتج)

استعن بمكتبة المدرسة او بشبكة المعلومات الدولية و اكتب ثلاثة أسطر عن الفن الرومانى فى مصر.

نشاط ٣ فكر واستنتج

فكر ثم حل الكلمات المتقاطعة التالية:-

- ١ - كانت عاصمة الإمبراطورية التي حكمت مصر بعد القضاء على دولة البطالمة.
- ٢ - يطلق على مكان دفن الموتى ومشتقة من كلمة الجب أى البئر.
- ٣ - فناء واسع به أعمدة.
- ٤ - شراع المركب (جمع سارية).
- ٥ - لقب أكتافيوس وأحد شهور السنة الميلادية.
- ٦ - مرسوم أصدره قسطنطين الأول عام ٣١٣م.
- ٧ - أقامها الرومان للاحتفال بأعيادهم الدينية وأعياد الإمبراطور (مفرد).
- ٨ - قام بها المصريون ضد الرومان وكان سبباً فى انهيار الحكم الرومانى (مفرد).



ثالثا التدريبات



١ أكمل الفراغات في العبارات الآتية:

- (أ) تحالفت الملكة آخر ملوك دولة مع القائد
الروماني ضد
- (ب) أصبحت مصر ولايةً رومانيةً عام ق. م بعد معركة
- (ج) احترم الإمبراطور عقائد المصريين.
- (د) عدد سنوات الحكم الروماني في مصر
- (هـ) اعترف الإمبراطور قسطنطين بـ كديانةٍ.
- (و) جبانة كوم الشقافة مزيجٌ من الفن و
- (ي) أشهر ثورات المصريين عند الرومان ثورةً في الدلتا.

٢ ضع علامة (✓) أمام العبارة الصحيحة، وعلامة (X) أمام العبارة غير الصحيحة فيما يلي:

- (أ) كانت منفُ عاصمةً لمصر زمن الحكم الروماني. ()
- (ب) كانت مصر تابعةً لروما في العصر البيزنطي. ()
- (ج) اضطهد الإمبراطور أغسطس قيصر المسيحيين. ()
- (د) اكتشف معبد الرأس السوداء بطريق الصعيد عام ١٩٣٩ م. ()
- (هـ) احترم الرومان المصريين وأشركوهم في حكم البلاد. ()

٣ حدد ثلاثة من الآثار التي تركها الرومان في مصر:

.....

٤ كيف أصبحت مصر ولايةً رومانيةً؟

.....

٥ قارن بين أحوال المصريين زمن البطالمة وزمن الرومان في الجدول التالي:

وجه المقارنة	أحوال مصر في العصر البطلمي	أحوال مصر في العصر الروماني
سياسياً
اقتصادياً
دينيًا

٦ أعط تفسيرا للمفاهيم الآتية:

- جبانة:
- مواطنة:
- سوارى:

٧ بم تفسر ..؟

(أ) بناء أهل الإسكندرية عمود السوارى للإمبراطور دقلديانوس.

.....

(ب) اهتمام الرومان ببناء المسارح.

.....

(ج) كان حكم قسطنطين نقطة تحول في تاريخ المسيحية.

.....

(د) تسمية عمود السوارى بهذا الاسم.

.....

٨ استخرج من الدرس موقفاً يعبر عن عظمة المصريين تجاه من يحسن معاملتهم.

.....

.....

الدرس الثالث: الحقبة القبطية فى مصر.

أولاً: الأنشطة المصاحبة:

نشاط (١) لاحظ واستنتج.



- لاحظ الصورة التى أمامك جيداً ثم حدد
- اسم صاحب الصورة
- دوره فى نشر تعاليم المسيحية
-
-

نشاط (٢) من يكون ...؟

- عرف عصره بعصر الاضطهاد الأكبر.
- أصدر مرسوماً بهدم الكنائس وحرق الكتب المقدسة.
- قبض على الأساقفة وأغرقهم فى مذابح دامية.
- هو

نشاط (٣) فكر واستنتج

« عانى المصريون القهر والإذلال وعدم المساواة فى الحياة الاجتماعية مما جعلهم يُقبلون على اعتناق المسيحية التى تدعو إلى التسامح وعبادة إله واحد. ولكن هذه التعاليم لم تتفق والديانة الوثنية فى الإمبراطورية الرومانية؛ لأنّ الولاء كان للإمبراطور حيث يقدم له الناس القرابين باعتباره (إلهًا) لذا اضطهد الرومان المسيحيين وسعوا للقضاء عليهم.»

- ما رأيك فى اضطهاد الرومان للمسيحيين؟

- هل هذا الاضطهاد يتفق أو يتعارض مع حقوق المواطنة؟ ولماذا؟

- من وجهة نظرك .. ما أسباب التصادم بين روما والمسيحية؟

نشاط (٤) لاحظ وسجل.

اكتب تعليقًا تحت كل صورة من الصور الآتية:



.....
.....



.....
.....



.....
.....

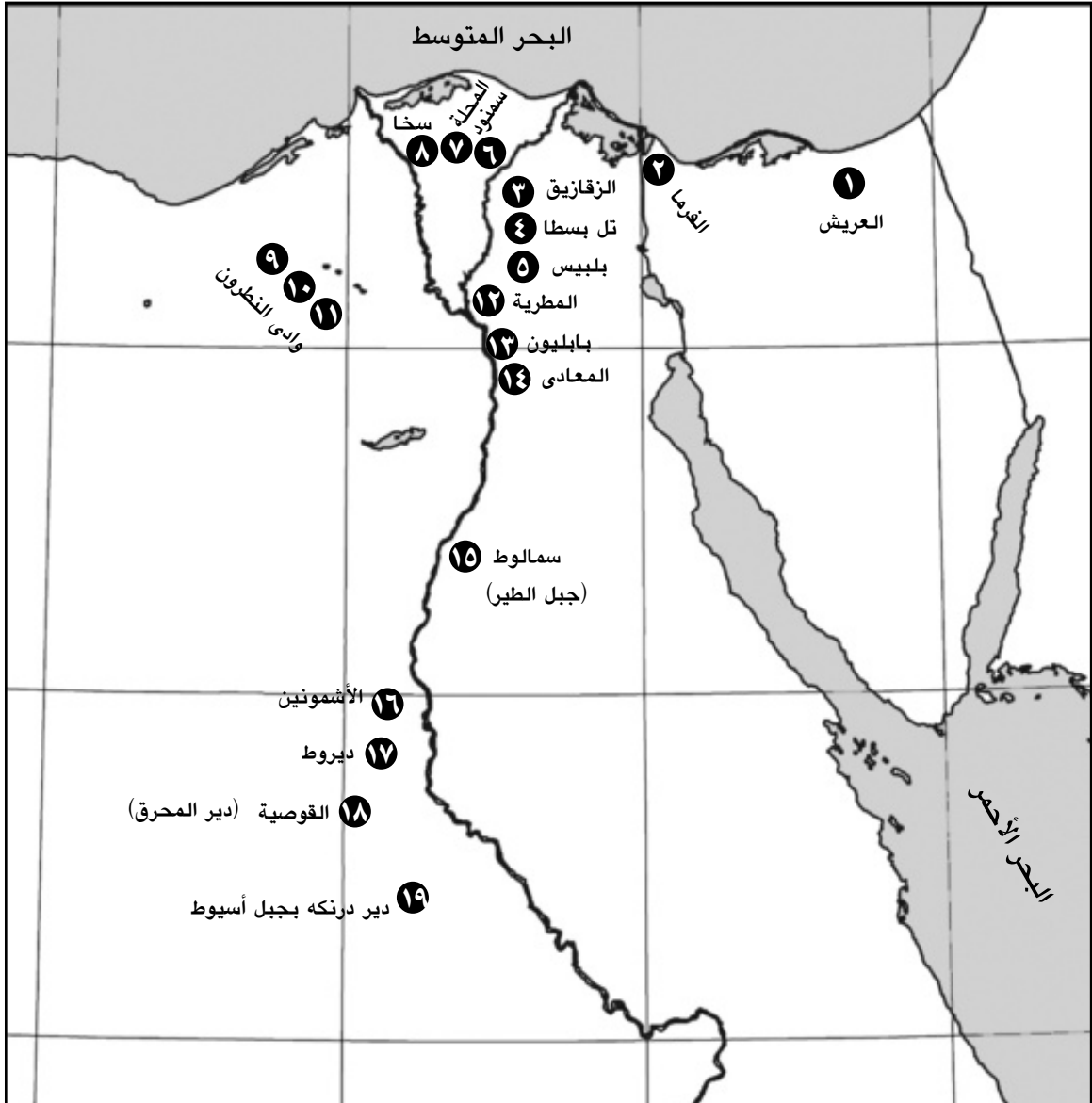


.....
.....

ثانياً: الأنشطة الإثرائية

نشاط ١ (لاحظ وسجل)

صل الأرقام من ١ إلى ١٩ في الخريطة التالية وتعرف أسماء المدن التي مرت عليها العائلة المقدسة خلال رحلتها عبر أراضي مصر



نشاط ٢ فكر وعبر

في رأيك ماذا كان حدث إذا رفض عمر بن الخطاب إرسال جيش لفتح مصر.

نشاط ٣ فكر وأكتب

اكتب تقريراً مختصراً عن أساليب الاضطهاد الروماني ضد المسيحيين في مصر.

نشاط ٤ اكتشف كلمة السر

أشطب الحروف التي تدل على الكلمات التي أمامك لتكتشف كلمة السر ثم أعط تعريفاً لها.

م	د	ى	ر	م	د
ص	ع	ص	ر	س	أ
ر	ت	أ	ح	ه	د
أ	ل	م	ش	أ	ى
ر	ح	أ	ط	د	ط
ن	أ	ق	أ	ض	م
و	ل	ء	أ	د	ر

- مصر.

- دير المحرق.

- وادى النطرون.

- اضطهاد.

- تسامح.

كلمة السر هي

المفهوم

.....

نشاط ٥

اجمع صوراً عن بعض الآثار القبطية في مصر، ثم اكتب تعليقاً بأسلوبك الخاص تحت كل صورة.

ثالثاً : التدريبات



١ تخير الإجابة الصحيحة مما بين القوسين فيما يلي:

- (أ) وُلد السيد المسيح ﷺ ببیت لحم فی (سوريا - العراق - فلسطين - مصر)
 (ب) انتشرت المسيحية في القرن الميلادي (الأول - الثاني - الثالث - الرابع).
 (ج) التقويم القبطي يبدأ بعصر دقلديانوس عام ميلادية.
 (٢٨١ - ٢٨٢ - ٢٨٣ - ٢٨٤)
 (د) استشهد القديس مرقس عام ميلادية. (٦٤ - ٦٥ - ٦٦ - ٦٨)

٢ ضع علامة (✓) أمام العبارة الصحيحة، وعلامة (X) أمام العبارة غير الصحيحة فيما يلي:

- (أ) وُلد السيد المسيح ﷺ خلال عهد الإمبراطور الروماني نيرون. ()
 (ب) دخلت المسيحية مصر على يد القديس باخوم. ()
 (ج) يعدُّ القديس مرقس من أوائل الذين آمنوا بالسيد المسيح. ()
 (د) بدأت الكنيسة القبطية في مصر بالتأريخ للأحداث منذ عام ٢٨٦ م. ()

٣ أكمل الفراغات في العبارات الآتية:

- (أ) دخلت المسيحية إلى مصر في منتصف القرن
 (ب) وُلد السيد المسيح ﷺ في مدينة بفلسطين.
 (ج) أُطلق على عصر دقلديانوس عصر
 (د) تمَّ تشييد أول كنيسة بمدينة

٤ اذكر سبباً واحداً لكل مما يأتي:

- (أ) إقبال المصريين على اعتناق الدين المسيحي.
 (ب) اضطهاد الرومان للمسيحية وأتباعها.
 (ج) تسمية عصر إقلديانوس بعصر الشهداء
 (د) اتخاذ عام ٢٨٤ م بداية التقويم القبطي

أسئلة وتدريبات على الوحدة الثالثة



١ أكمل الفراغات في العبارات الآتية:

- (أ) أحسن دقلديانوس معاملة المصريين فبنوا له
- (ب) دخلت المسيحية في مصر في منتصف القرن
- (ج) أصدر قسطنطين الأول عام ٣١٣ م مرسوم
- (د) احترم أكتافيوس عقائد المصريين وقدم القرابين للآلهة

٢ ضع علامة (✓) أمام العبارة الصحيحة، وعلامة (X) أمام العبارة غير الصحيحة فيما يلي:

- (أ) انتهى الاضطهاد الروماني للديانة المسيحية بمصر بالفتح الإسلامي. ()
- (ب) انتصر أنطونيوس على أكتافيوس في معركة أكتيوم. ()
- (ج) انتعشت تعاليم القديس مرقس في مدينة الإسكندرية. ()
- (د) أرسل الإمبراطور قسطنطين مرسومًا بهدم الكنائس وحرق الكتب المقدسة. ()

٣ اذكر سببًا واحدًا لكل مما يأتي:

(أ) اضطهاد الرومان للديانة المسيحية وأتباعها.

(ب) تحالف كليوباترا مع القائد الروماني أنطونيوس.

(ج) كان حكم قسطنطين نقطة تحول في تاريخ المسيحية.

(د) بناء البطالمة لمعبد دندرة.

٤ ماذا يحدث إذا لم ...؟

(أ) ينتصر أكتافايوس على أنطونيوس في معركة أكتيوم.

.....

(ب) تنتشر المسيحية في مصر.

.....

٥ درست في هذه الوحدة العديد من الشخصيات البطلمية والرومانية والقبطية،

فما الشخصية التي أعجبتك أكثر من غيرها؟ ولماذا؟

.....

.....

تدريبات عامة على الفصل الدراسي الأول

السؤال الأول: ضع علامة (✓) أمام العبارة الصحيحة وعلامة (X) أمام العبارة غير الصحيحة فيما يلي:

- ١- تعتبر صناعة الحديد والصلب من الصناعات الاستخراجية. ()
- ٢- تم توصيل مياه النيل إلى شمال سيناء عبر قناة توشكى . ()
- ٣- مصر من أول الدول العربى التى أقامت مترو الأنفاق. ()
- ٤- تبنى بطلميوس الأول فى قصر الملك فيلب الثانى والد الإسكندر. ()
- ٥- دير الأنبا بيشوى من أشهر أديرة وادى النطرون. ()

السؤال الثانى: تخير الإجابة الصحيحة مما بين القوسين لما يأتي:

- ١- يستخرج الحديد من المناطق الآتية عدا.....
(الواحات البحرية - شرق أسوان - شبه جزيرة سيناء - الصحراء الشرقية)
- ٢- من مصادر الطاقة غير المتجددة.....
(الشمس - الرياح - الكهرباء الحرارية - الأمواج)
- ٣- استخدمت مصر الكهرباء فى الصناعة منذ عام..... م
(١٩١٠ - ١٩٢٠ - ١٩٣٠ - ١٩٤٠)
- ٤- أشهر علماء جامعة الإسكندرية فى الهندسة.....
(إقليدس - مانيتون - أرشميدس - أرسطو)
- ٥- دخلت المسيحية مصر فى منتصف القرن..... الميلادى.
(الأول - الثانى - الثالث - الرابع)

السؤال الثالث: أكمل العبارات الآتية بالكلمات المناسبة فيما يلي:

- ١- البنزين والسولار من مشتقات.....
- ٢- زيادة النشاط الصناعى يؤدى إلى استنزاف.....
- ٣- جبانة كوم الشقافة مزيج من الفن الرومانى والفن.....
- ٤- يستخدم المنجنيز فى صناعة.....

٥- تم مد المياه العذبة من بحيرة..... إلى قناة توشكي

٦- تعتمد صناعة الأسمدة في مصر على معدن.....

٧- لقب الأمبراطور..... بأغسطس المبجل

٨ تعرف الكنيسة التي بدون قباب باسم الكنيسة.....

السؤال الرابع: صوب الكلمات التي تحتها خط في العبارات الآتية:

١- المياه الجوفية المصدر الرئيسي للمياه في الوادي والدلتا.

٢- خليج السويس من أكبر المناطق إنتاجاً للغاز الطبيعي.

٣- تحالف كليوباترا مع أنطونيوس ضد القائد دقلديانوس.

٤- استخدام قدماء المصريين الفوسفات في الزينة.

٥- يسود الجفاف مصر بالكامل عدا الأطراف الجنوبية منها.

٦- يسبب حرق قش الأرز تلوثاً مائياً.

٧- جاءت العائلة المقدسة لمصر هرباً من إضطهاد الإمبراطور قسطنطين.

٨- استمر حكم البطالمة لمصر مدة ١٠٠ عام.

السؤال الخامس: اذكر سبباً واحداً لكل مما يلي:

١- يعد الفوسفات من أهم المعادن في مصر.

٢- إقامة الدولة لمشروع شرق العوينات.

٣- سقوط دولة البطالمة.

٤- يعرف عصر دقلديانوس بعصر الإضطهاد الأكبر.

السؤال السادس: ما النتائج المترتبة على...؟

١- انتشار الجفاف في مصر.

٢- تلوث نهر النيل في مصر.

٣- إصدار قسطنطين الأول مرسوم ميلانو عام ٣١٣ م.

٤- إساءة الرومان معاملة المصريين.

٥- تواجد الفوسفات في مصر بكميات كبيرة.

٦- التلوث المائي بصفة عامة .

٧- التحالف بين أنطونيوس وكليوباترا السابعة .

٨- ازدياد النشاط الصناعي داخل المدن المصرية .

٩- اهتمام البطالمة بالديانة المصرية القديمة .

السؤال السابع: أكتب ما تشير إليه العبارات الآتية:

١- تغيرات لبعض موارد الطبيعة فتصبح غير نظيفة. (.....)

٢- تناقص قدرة الأرض الزراعية على الإنبات نتيجة لعوامل طبيعية وبشرية. (.....)

٣- بناء مكون من طابقين، السفلى للعبادة والعلوى للسكن اكتشف بالمصادفة في عام ١٩٣٦ .

(.....)

٤- اتحاد اقتصادى يضم دول شرق وجنوب أفريقيا وعددهم ٢٠ دولة أفريقية منها مصر. (.....)

السؤال الثامن: ما المقصود بالمفاهيم الآتية...؟

(بيئة، فيضان، طاقة كهرومائية، الجفاف، الصناعة)

السؤال التاسع: قارن فى جدول من تصميمك بين كل من:

١- الموارد الطبيعية (الاقتصادية) - الموارد البشرية .

٢- طاقة متجددة - طاقة غير متجددة .

٣- التجارة الداخلية - التجارة الخارجية، من حيث الأهداف .

٤- الحديد والفوسفات من حيث الأهمية وأماكن تواجد كل منهما .

٥- الاستنزاف والتصحر من حيث التعريف .

٦- الإمبراطور دقلديانوس والإمبراطور قسطنطين من حيث موقف كل منهما من الديانة المسيحية .

السؤال العاشر: ماذا يحدث إذا...؟

١- لم توجد المياه المالحة فى مصر (مياه البحار والبحيرات المالحة).

٢- انتصرت كليوباترا وحليفها أنطونيوس على أكتافوس .

٣- تم الاعتماد على الطاقة الشمسية فى حياتنا اليومية .

٤- لم نسرف فى استخدام المبيدات والأسمدة الزراعية .

٥- لم يصدر قسطنطين الأول مرسوم ميلانو عام ٣١٣ م.

٦- انتصرت كليوباترا وأنطونيوس فى معركة أكتيوم البحرية.

السؤال الحادى عشر: أمامك مجموعة من خرائط صماء لمصر، اكتب مدلول الأرقام الموقعة عليها.

(أ)

١- البحر

٢- منطقة لإستخراج الحديد

٣- بحيرة

٤- منخفض

٥- شبه جزيرة

(ب)

١- منطقة لإنتاج الفحم

٢- إقليم مناخي

٣- الصحراء

٤- فرع

٥- أحد مشروعات التنمية الزراعية

(ج)

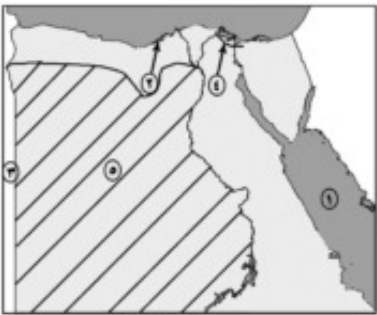
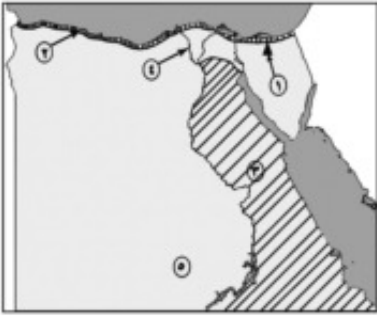
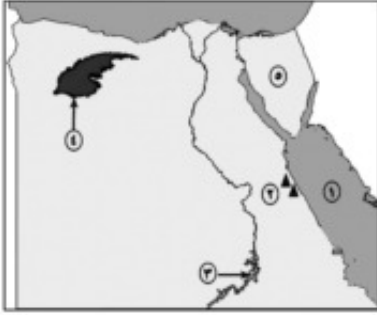
١- مسطح مائي

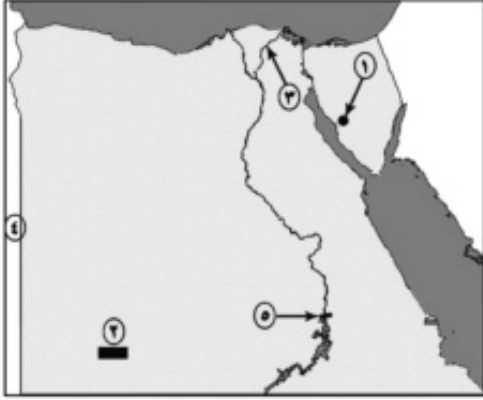
٢- مدينة

٣- دولة

٤- ترعة

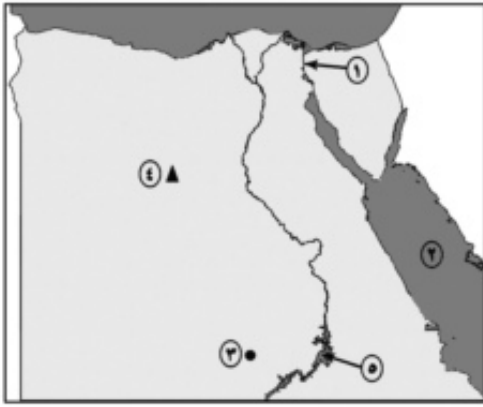
٥- الصحراء





(د)

- ١- منطقة لإنتاج المنجنيز
- ٢- مشروع
- ٣- فرع
- ٤- دولة
- ٥- السد



(هـ)

- ١- قناة
- ٢- البحر
- ٣- مشروع
- ٤- منطقة لاستخراج الحديد
- ٥- بحيرة

السؤال الثاني عشر: اكتب في ثلاثة أسطر عن كل من:

- ١- أهمية المياه العذبة في مصر.
- ٢- اعتبار الفحم أقل أهمية من البترول والغاز الطبيعي.
- ٣- ضرورة توافر العديد من العوامل لقيام الصناعة
- ٤- سقوط دولة البطالمة.

السؤال الثالث عشر: ضع دائرة حول الكلمة التي لا تنتمي للمجموعة في كل مما يلي:

- ١- الحديد - الغاز الطبيعي - النحاس - الفوسفات
- ٢- دقلديانوس - كليوباترا السابعة - اكتافيوس - قسطنطين الأول
- ٣- الكنيسة المعلقة - دير المحرق - الأزهر - دير البراموس

السؤال الرابع عشر: لمن تنسب الأعمال الآتية...؟

- ١- إنشاء المناحل لتصدير العسل إلى الصين. (.....)
- ٢- بناء معبد دير المدينة. (.....)
- ٣- إصدار مرسوم ميلانو عام ٣١٣م. (.....)
- ٤- بناء عمود السواري. (.....)

السؤال الخامس عشر: ما مقترحاتك من أجل...؟

- ١- القضاء على ظاهرة الجفاف.
- ٢- التنمية الزراعية في مصر.
- ٣- زيادة الثروة السمكية في مصر.

السؤال السادس عشر: أذكر دليلاً واحداً على صحة كل من العبارات التالية:

- ١- تعد مصر أولى دول الوطن العربي إنتاجاً للكهرباء المائية.
- ٢- يعتبر الاستنزاف أحد معوقات تنمية الموارد الطبيعية في مصر.
- ٣- عدم تمتع المصريون بحقوق المواطنة في العصر الروماني.

السؤال السابع عشر أكمل الجدول التالي:

المفهوم	معناه
.....	تغيرات لبعض موارد الطبيعة فتصبح غير نظيفة
تكرير البترول
الكوميسا
.....	ممارسة المواطن للحقوق والتزامه بالواجبات

السؤال الثامن عشر: رتب الأحداث التاريخية الآتية من القديم إلى الحديث، مع ذكر صاحب كل حدث:

- بناء معبد أدفو.
- قيام دولة البطالمة فى مصر.
- إصدار مرسوم ميلانو.
- دخول المسيحية فى مصر.

السؤال التاسع عشر: اكتب بأسلوبك كيف يمكنك القيام بما يلي...؟

- ١- القضاء على التلوث فى مصر بكل أنواعه.
- ٢- الحد من هجرة سكان أهل الريف للمدن.
- ٣- زيادة حجم التجارة بين مصر ودول العالم.

السؤال العشرون: بم تفسر...؟

- ١- إهتمام الرومان بالفنون والعمارة.
- ٢- إهتمام بطلميوس الأول بالعلم والعلماء.
- ٣- كراهية المصريين للحكم الروماني.
- ٤- أهمية النقل النهري.

السؤال الحادى والعشرون صنف مصادر الطاقة التالية فى الجدول الآتى:

الرياح - البترول - الغاز الطبيعى - الشمس - الفحم - الأمواج

طاقة غير متجددة	طاقة متجددة

السؤال الثانى والعشرون: تخير الإجابة الصحيحة من بين أ، ب، ج، د

- ١- تعتمد الزراعة فى واحة سيوة على مياه
- أ- نهر النيل
ب- جوفية
ج- الأمطار
د- الري
- ٢- يستخرج من منطقة أم بجمه معدن
- أ- الحديد
ب- الذهب
ج- الفوسفات
د- المنجنيز
- ٣- تروى أراضى شمال سيناء عن طريق ترعة
- أ- المحمودية
ب- الإسماعيلية
ج- السلام
د- المنصورية
- ٤- أشهر مراكز صناعة الغزل والنسيج فى مصر مدينة
- أ- أسيوط
ب- المنيا
ج- قنا
د- المحلة الكبرى
- ٥- يعتبر العصر البطلمى هو عصر خلفاء
- أ- أنطونيوس
ب- الأسكندر الأكبر
ج- يوليوس قيصر
د- اكتافيوس
- ٦- تخرج من جامعة الإسكندرية القديمة المؤرخ المصري
- أ- أرشميدس
ب- أرسطو
ج- مانيتون
د- أقليدس
- ٧- قامت ثورة الرعاه ضد الحكم الرومانى فى
- أ- الإسكندرية
ب- الدلتا
ج- سيناء
د- الصعيد

٨- قام عمرو بن العاص بفتح مصر عام.....م

ب- ٤٦١

أ- ١٤٦

د- ٤٢٦

ج- ٤١٦

السؤال الثالث والعشرون: أذكر عملاً واحداً لكل من الشخصيات الآتية:

٢- بطليموس الرابع

١- بطليموس الأول

٤- القديس مرقس

٣- قسطنطين الأول

السؤال الرابع والعشرون: ما رأيك في كل مما يأتي.....؟

١- إلقاء المصانع مخلفاتها في نهر النيل.

٢- إهتمام الدولة بمشروعات التنمية الزراعية.

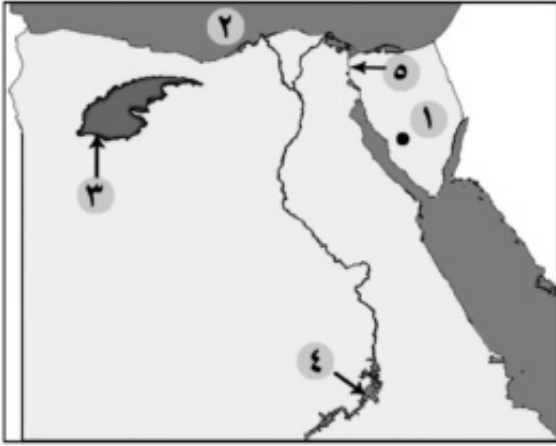
٣- إنتحار كليوباترا بعد هزيمتها أكتيوم البحرية

٤- موقف الإمبراطور دقلديانوس من المسيحيين والديانة المسيحية.

نماذج امتحانات استرشادية على الفصل الدراسي الأول

نموذج (١)

السؤال الأول: أمامك خريطة لمصر وضح مدلول الأرقام الموقعة عليها:



١- منطقة لإنتاج المنجنيز

٢- البحر.....

٣- منخفض.....

٤- بحيرة.....

٥- قناة.....

(ب) ما النتائج المترتبة على ...؟

١- استخراج الفوسفات في مصر.

٢- إنشاء السد العالي.

٣- الفتح العربي لمصر عام ٦٤١ م.

السؤال الثاني: ضع علامة (✓) أمام العبارة الصحيحة وعلامة (X) أمام العبارة غير

الصحيحة فيما يلي:

١- يعتبر نهر النيل أهم مصادر المياه العذبة في مصر ()

٢- تعد الرياح أحد مصادر الطاقة غير المتجددة ()

٣- يصعب الصيد في البحر الأحمر لكثرة الشعاب المرجانية به ()

٤- نجح الإسكندر الأكبر في تأسيس دولة البطالمة في مصر ()

٥- يعرف عصر الإمبراطور قسطنطين الأول بعصر الاضطهاد ()

السؤال الثالث: اذكر سببًا واحدًا لكل مما يأتي:

١- أهمية المياه العذبة فى مصر .

٢- أهمية معدن الفوسفات .

٣- يعد حكم قسطنطين الأول نقطة تحول فى تاريخ المسيحية .

٤- اضطهاد الرومان للمسيحية وأتباعها .

٥- تسمية الكنيسة المعلقة بهذا الاسم .

السؤال الرابع : تخير الإجابة الصحيحة مما بين القوسين لما يلي :

١- يعد حقل (أبو ماضي) أهم حقول مصر فى إنتاج.....

(الحديد- المنجنيز- الفحم- الغاز الطبيعي)

٢- تم مد مياه النيل إلى شمال سيناء لاستصلاحها عن طريق مشروع.....

(توشكى- شرق العوينات- ترعة السلام- السد العالي)

٣- يحتل القطن الخام المركز..... فى صادرات مصر

(الأول- الثانى- الثالث- الرابع)

٤- ولد السيد المسيح فى مدينة بيت لحم ب.....

(مصر- سوريا- فلسطين- لبنان)

٥- انتصر أكتافوس على أنطونيوس وكليوباترا السابعة فى معركة أكتيوم البحرية عام..... ق.م.

(٠٣- ١٣- ٢٣- ٣٣)

نموذج (٢)

السؤال الأول: أمامك خريطة لمصر وضح مدلول الأرقام الموقعة عليها:



١- ميناء.....

٢- البحر.....

٣- أحد فروع النيل.....

٤- منطقة لإنتاج الحديد.....

٥- منخفض.....

(ب) بم تفسر..

١- قله المراعي الطبيعية في مصر .

٢- إصابه معظم سكان حلوان بالأمراض الصدرية

٣- تسميه العصر البطلمي بهذا الأسم .

السؤال الثاني: تخير الإجابة الصحيحة مما بين القوسين فيما يلي :

١- يوجد الفحم فى مصر بمنطقة.....

(الواحات البحرية - أم بجمة- أبو طرطور- جبل مغارة)

٢- يعد أفضل وسائل نقل البضائع ثقيلة الوزن و ضخمة الحجم النقل

(البري- النهري- الجوي- البحري)

٣- أنشأ بطليموس الأول المناحل لتصدير العسل إلي.....

(الصين- روما- سوريا- اليونان)

٤- شيد معبد فيله لعبادة الإله.....

(حتحور- ماعت- إيزيس- سبك)

٥- أحد أكبر أديرة مصر والشرق الأوسط دير.....

(الأنبا بيشوي- المحرق- الأنبا مقار- السريان)

السؤال الثالث:

(أ) ما النتائج المترتبة علي.....؟

- ١- استنزاف الموارد الطبيعية في مصر.
- ٢- وفاة الإسكندر الأكبر.
- ٣- هزيمة كليوباترا السابعة وأنطونيوس في معركة أكتيوم البحرية ١٣ ق.م.

(ب) ماذا يحدث إذا.....؟

- ١- لم تهتم مصر بتنمية تجارتها الخارجية.
- ٢- لم يهتم الرومان بالفنون.

السؤال الرابع:

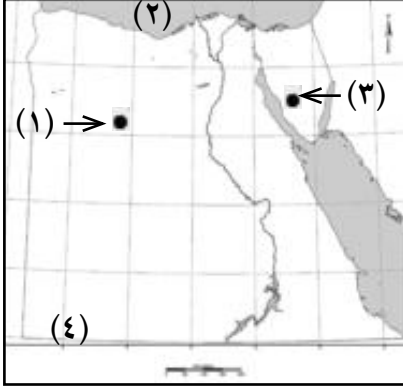
ضع علامة (✓) أمام العبارة الصحيحة وعلامة (X) أمام العبارة غير الصحيحة مع تصويب الخطأ:

- ١- المياه المالحة لا تقل أهمية عن المياه العذبة في مصر ()
- ٢- يعمل بالصناعات أكثر من ٢٠٪ من الأيدي العاملة في مصر ()
- ٣- تشتهر مصر بوفرة المراعى الطبيعية ذات الأهمية الاقتصادية ()
- ٤- يعد مانيتون المؤرخ المصرى من أشهر علماء جامعة الإسكندرية ()
- ٥- تعتبر ثورة الرعاة أهم ثورات المصريين ضد الرومان ()

السؤال الأول: (أ) من خريطة مصر الصماء التالية اكتب مدلول الأرقام الموضحة

نموذج (٢)

عليها:



١- منطقة لاستخراج الحديد

٢- البحر

٣- منطقة لإنتاج المنجنيز

٤- أحد مشروعات التنمية الزراعية

(ب) بم تفسر...؟

١- أهمية الزراعة في مصر.

٢- سقوط دولة البطالمة.

٣- يعرف عصر دقلديانوس بعصر الشهداء أو عصر الاضطهاد الأكبر.

السؤال الثاني : (أ) ضع علامة (✓) أمام العبارات الصحيحة وعلامة (X) أمام العبارات غير الصحيحة:

١- يعتبر التعدين واستخراج البترول من الصناعات الاستراتيجية ()

٢- يتم توليد الكهرباء الحرارية من محطة السد العالي بأسوان. ()

٣- نهر النيل المصدر الوحيد للمياه العذبة في مصر. ()

٤- اتخذ بطلميوس الأول مدينة القاهرة عاصمة ومقرًا لحكم دولته ()

(ب) ماذا يحدث إذا...؟

لم يتم اكتشاف خام الحديد في مصر.

السؤال الثالث : (أ) تخير الإجابة الصحيحة مما بين القوسين فيما يلي:

١- يعتمد مصنع حلوان للحديد والصلب على حديد

(الصحراء الشرقية- سيناء- شرق أسوان- الواحات البحرية)

٢- تبلغ نسبة إنتاج مصر من الأسماك من المياه العذبة..... من جملة الإنتاج.

(١٩٪ - ٢٩٪ - ٧١٪ - ٨١٪)

٣- تعتبر مصر دول العالم استخدامًا للسكك الحديدية.

(أولي - ثاني - ثالث - رابع)

٤- أصدر مرسوم ميلانو الذى أنهى عصر اضطهاد المسيحيين.

(قسطنطين الأول - دقلديانوس - أغسطس قيصر - إقليدس)

(ب) ما النتائج المترتبة علي...؟

١- التلوث المائى فى مصر.

السؤال الرابع: (أ) اكتب المصطلح التى تدل عليه كل عبارة من العبارات الآتية:

١- كل ما ينتج عن احتراق الوقود أو حرارة الشمس أو قوة الرياح أو سقوط المياه.

٢- حالة مناخية تندر فيها الأمطار مما يضر بالزراعة.

٣- إجراء تحويلات على الموارد بما يجعلها أقدر على إشباع حاجات الإنسان.

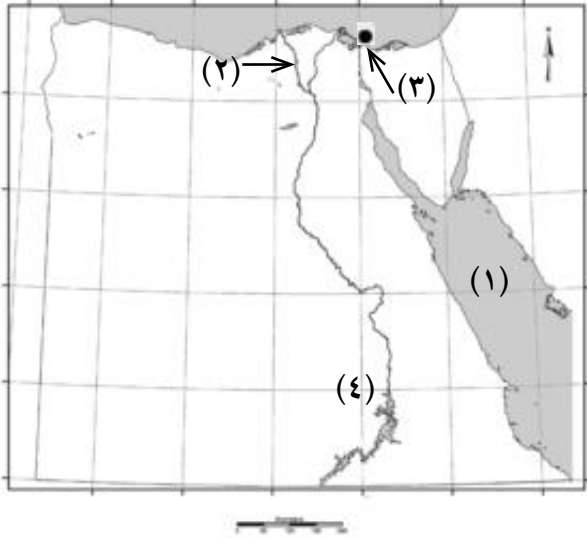
٤- أهم الثورات التى قام بها الشعب المصرى ضد الرومان.

(ب) قارن بين العصر البطلمى والعصر الرومانى من حيث عدد السنوات الحكم ، وإنجاز واحد لما

خلفه كل منهما.

السؤال الأول: (أ) أمامك خريطة لمصر اكتب ما تشير إليه الأرقام الموضحة عليها:

نموذج (٤)



١- البحر

٢- فرع

٣- ميناء

٤- محطة كهرباء

(ب) بم تفسر...؟

١- أهمية الفوسفات بالنسبة لمصر.

٢- الإنتاج السمكى لا يكفي حاجة السكان فى مصر.

٣- انهيار الحكم الرومانى فى مصر

السؤال الثاني : ضع علامة (✓) أمام

العبارة الصحيحة وعلامة (x) أمام العبارات غير الصحيحة مع تصويبها :

(أ) الغاز الطبيعى أحد مصادر الطاقة المتجددة. ()

(ب) حفر قناة السويس أدى إلى اتصال البحر المتوسط بالبحر الأحمر. ()

(ج) دخلت المسيحية مصر على يد القديس باخوم. ()

(د) أول من نقب عن الذهب هم الصينيون. ()

(هـ) استمر حكم البطالمة لمصر لمدة تقترب من ٣٠٠ عام ()

السؤال الثالث : اكتب ما تشير إليه العبارات الآتية :

(أ) إجمالى الأشياء التى تحيط بنا من كائنات حية وظواهر طبيعية ومظاهر حضارية.

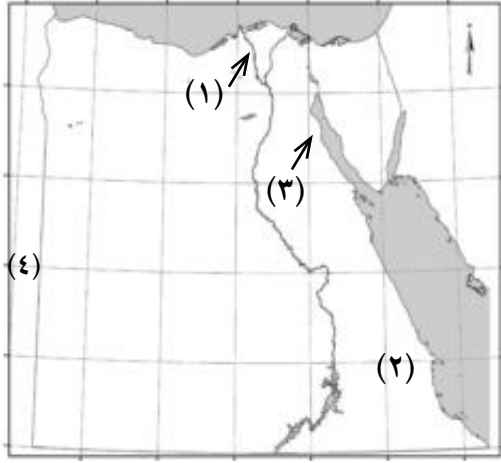
(ب) تناقص قدرة الأرض على الإنبات.

(ج) انتقال السلع والخدمات من مكان لآخر.

(د) زيادة منسوب الماء فى النهر مما يؤدى لغمر الأرض المحيطة به.

- (هـ) التقويم الذى اتخذته الكنيسة القبطية ويبدأ بعام ٢٨٤م .
- (و) معبد إقامة الرومان بالإسكندرية للعبادة والسكن واكتشف فى عام ١٩٣٦م .
- السؤال الرابع: (أ) اختبر الإجابة الصحيحة مما بين القوسين:
- (أ) الكوميسا اتحاد اقتصادى يضم دول شرق وجنوب
(أوروبا- إفريقيا- آسيا- أمريكا)
- (ب) أكثر مصادر الطاقة غير المتجددة تلوثاً للبيئة هو
(الغاز الطبيعي- البترول- الفحم- الكهرباء المائية)
- (ج) أشهر علماء جامعة الإسكندرية فى الجغرافيا الجغرافى .
(اقليدس- مانيتون- بطليموس- أرشميدس)
- (د) دخلت المسيحية مصر فى منتصف القرن الميلادى .
(الأول- الثانى- الثالث- الرابع)
- (ب) ماذا يحدث إذا ... ؟
- ١- تم إهمال اصناعة فى مصر .
- السؤال الأول (أ) أمامك خريطة لمصر اكتب مدلول الأرقام التى عليها:

نموذج (٥)



١- فرع

٢- الصحراء

٣- خليج

٤- دولة

(ب) ما النتائج المترتبة علي...؟

١- تلوث نهر النيل.

٢- اضطهاد دقلديانوس للمسيحيين.

٣- هزيمة كليوباترا و أنطونيوس في موقعة

أكتيوم البحرية.

السؤال الثاني: (أ) اختر من القائمة (ب) ما يناسب القائمة (أ)

(ب)	(أ)
• الإسكندرية	١- أكبر المناطق إنتاجًا للبتروول في مصر
• خليج السويس	٢- من أهم مراكز صناعة الأثاث في مصر
• فلسطين	٣- الكوميسا اتحاد اقتصادي يضم
• القاهرة ودمياط	٤- ولد السيد المسيح عليه السلام في

ب - ماذا يحدث إذا...؟

١- لم يتنازل دقلديانوس عن الحكم للإمبراطور قسطنطين الأول.

السؤال الثالث (أ) اكتب المصطلح الجغرافي الذي تدل عليه العبارات الآتية:

١- جسم يعترض مجرى النهر لرفع مستوى المياه لرى الأراضي الزراعية ويستخدم لتوليد

الكهرباء . (.....)

٢- زيادة إنتاج الفدان باستخدام الوسائل العلمية في الزراعة. (.....)

٣- انتقال السلع والخدمات من مصر إلى الخارج لتوفير النقد الأجنبي. (.....)

٤- بناء مرتفع يتألف من عدة طوابق ويستخدم في إرشاد السفن ليلاً ونهاراً. (.....)

(ب) بم تفسر....؟

١- الفوسفات من أهم المعادن في مصر.

٢- أهمية النقل الجوي.

٣- قيام المصريون بثورات ضد الرومان.

السؤال الرابع (أ) ضع علامة (✓) أمام العبارة الصحيحة وعلامة (X) أمام العبارة غير الصحيحة:

١- من الموارد البشرية الزراعة والصناعة والتعليم والسياحة. ()

٢- مشروع شرق العوينات يعتمد على مياه نهر النيل في الزراعة. ()

٣- أنشأ الإسكندر الأكبر دار البحث العلمي وهو جامعة الإسكندرية قديمًا. ()

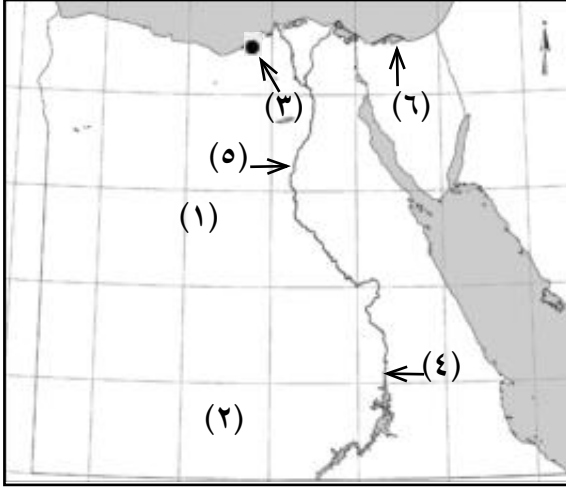
٤- تسمية بطلميوس الأول باسم المنقذ. ()

(ب) دلل على:

- إساءة الرومان معاملة المصريين أثناء الحكم الروماني لمصر.

نموذج (٦)

السؤال الأول: (أ) أمامك خريطة صماء لجمهورية مصر العربية، اكتب مدلول الأرقام الموضحة عليها:



- ١- الصحراء
- ٢- أحد مشروعات التنمية الزراعية
- ٣- ميناء
- ٤- منطقة لإنتاج الحديد
- ٥- نهر
- ٦- بحيرة

(ب) ما المقصود بالمصطلحات الآتية :
الكوميسا- الفيضان.

السؤال الثاني: (أ) اختر الإجابة الصحيحة مما بين القوسين

- ١- تمثل منطقة أولى مناطق إنتاج الغاز الطبيعي في مصر.
(خليج السويس - سيناء - البحر المتوسط - الوادي الجديد)
- ٢- توجد عذبة وأخرى مالحة.
(أنهار - بحار - بحيرات - محيطات)
- ٣- يستخرج المنجنيز من منطقة.
(أم بجمة سفاجا- الواحات البحرية- الوادي الجديد).
- ٤- أسس بطلميوس دولة البطالمة في مصر.
(الأول- الثاني- الثالث- الرابع)

(ب) بما تفسر...؟

- ١- الفحم أقل أهمية اقتصادية من البترول والغاز الطبيعي.
- ٢- الإنتاج السمكي لا يكفي حاجة سكان مصر.
- ٣- انهيار الحكم الروماني في مصر.

السؤال الثالث : (أ) اكتب ما تدل عليه العبارات الآتية :

- ١- معدن يستخدم فى صناعة الحلى وبعض الأدوية والمصريون أول من نقب عنه
- ٢- حالة مناخية تندر فيها الأمطار مما يسبب ضرر بالأنشطة البشرية وخاصة الزراعة .
- ٣- زيادة الإنتاج الزراعى عن طريق التوسع الأفقى والتوسع الرأسى .
- ٤- ممر ملاحى مهم يربط بين البحر الأحمر والبحر المتوسط لنقل البترول والمنتجات الأخرى إلى العالم .

- ٥- تولت حكم مصر بعد بطليموس الثانى عشر وبوفاتها انتهى عصر دولة البطالمة .
- ٦- ولد فى مدينة لحم بفلسطين وأخذ يدعو للإيمان بإله واحد وإلى الحب والسلام والتسامح .

(ب) ماذا يحدث إذا...؟

- لم تتوافر مقومات الإنتاج الصناعى فى مصر .

السؤال الرابع : (أ) ضع علامة (✓) أمام العبارات الصحيحة وعلامة (X) أمام العبارات غير الصحيحة :

- ١- تعد الكهرباء الحرارية من مصادر الطاقة المتجددة والكهرباء المائية من المصادر غير المتجددة . ()
- ٢- تستخدم المياه المالحة والمياه العذبة كطرق نقل ()
- ٣- تعتبر مصر أولى دول العالم استخدامًا للسكك الحديدية ()

(ب) ما النتائج المترتبة علي...؟

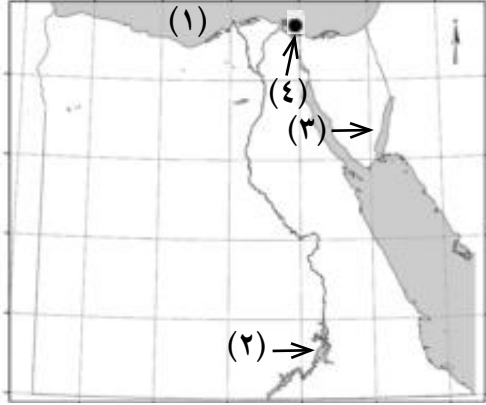
- ١- تلوث الماء .
- ٢- تولى دقلديانوس حكم مصر .

(ج) قارن بين :

- عمود السوارى ومعبد إدفو .

نموذج (٧)

السؤال الأول: (أ) أمامك خريطة لمصر اكتب رقم كل موقع من المواقع الآتية على



المكان المناسب من الخريطة:

- ١- البحر
- ٢- بحيرة
- ٣- خليج
- ٤- ميناء

(ب) ما النتائج المترتبة علي...؟

- ١- زيادة التوسع في استغلال مصادر الطاقة المتجددة.
- ٢- إجهاد التربة وتكرار زراعتها.
- ٣- إصدار مرسوم ميلانو ٣١٣م.

السؤال الثاني: (أ) اكتب الكلمة التي لا تنتمي إلى المجموعات التالية:

- ١- الفحم - البترول - الكهرباء الحرارية - الكهرباء المائية (.....)
- ٢- الحديد - الفوسفات - المنجنيز - نهر النيل (.....)
- ٣- صناعة الأثاث - استخراج البترول - صناعة الأغذية المحفوظة - صناعة الغزل والنسيج (.....)
- ٤- اقليدس - أرشميدس - دقلديانوس - مانيتون (.....)

(ب) بم تفسر...؟

- ١- تقل أهمية موانئ البحر الأحمر.
- ٢- تسمية الموارد الطبيعية بهذا الاسم.
- ٣- تسمية الكنيسة المعلقة بهذا الاسم

السؤال الثالث : (أ) ضع علامة (✓) أمام العبارات الصحيحة وعلامة (X) أمام العبارات غير الصحيحة :

- ١- بحيرة إدكو ومريوط والمنزلة والبرلس من البحيرات الطبيعية العذبة فى مصر . ()
- ٢- تهدف التنمية الزراعية لزيادة مساحة الأراضى الزراعية بنحو ٦,٣ ألف فدان . ()
- ٣- يستخدم معدن المنجنيز فى صناعة الأسمدة والمبيدات الحشرية . ()
- ٤- ميناء الإسكندرية يواجه أكثر مناطق العالم تقدماً فى أوروبا . ()

(ب) اذكر سبباً واحداً لكل من ...؟

- ١- أهمية السد العالى لمصر .
- ٢- ندرة المراعى الطبيعية فى مصر .
- ٣- إنشاء مناحل فى عهد بطلميوس الأول .

السؤال الرابع : (أ) قارن بين :

- ١- مشروع توشكى ومشروع شرق العوينات من حيث الهدف .
- ٢- عوامل سقوط الدولة البطلمية وعوامل سقوط الدولة الرومانية .

(ب) ماذا يحدث إذا ...؟

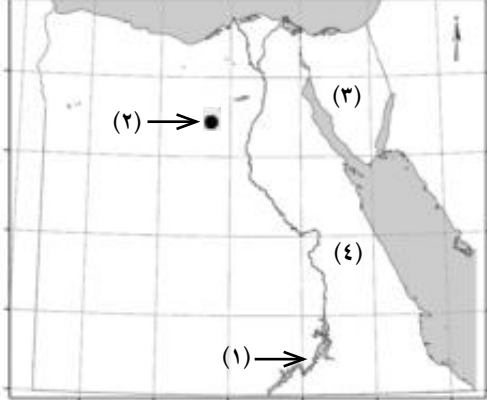
- ١- تم ردم نهر النيل
- ٢- لم يأت القديس مرقس إلى مصر .

(ج) ما المقصود بـ :

- الصناعات التحويلية .
- عصر الشهداء .
- تجمع الكوميسا .

نموذج (٨)

السؤال الأول: (أ) أمامك خريطة لمصر اكتب رقم كل موقع من المواقع الآتية على



المكان المناسب من الخريطة:

١- بحيرة

٢- منطقة لاستخراج الحديد

٣- شبه جزيرة

٤- الصحراء

ماذا يحدث إذا ...؟

- لم ينجح بطلميوس الأول في تأسيس دولة البطالمة في مصر .

السؤال الثاني: (أ) اختر الإجابة الصحيحة مما بين القوسين فيما يلي:

١- قناة تمد مياه النيل إلى شمال سيناء لاستصلاح الأراضي بها.

(السويس - ترعة السلام - بنما - توشكي)

٢- يربط مترو الأنفاق بين محافظات

(الوجه القبلي - القناة - الحدود - القاهرة الكبرى)

٣- الجبانة مزيج من الفن الروماني والفن

(البطلمي - اليوناني - الفرعوني - العراقي)

٤- ولد السيد المسيح في بيت لحم بدولة (سوريا - لبنان - اليمن - فلسطين)

(ب) بم تفسر ...؟

١- تلوث مياه نهر النيل .

٢- اهتم الرومان بإنشاء المسارح .

٣- دور الشعب المصري في سقوط دولتي البطالمة والرومان .

٤- إجراء تحويلات على الموارد بما يجعلها أقدر على إشباع حاجات الإنسان .

٥- مشروع يعتمد على المياه الجوفية لاستصلاح نحو ٥٥٢ فدان .

٦- تناقض قدرة الأرض الزراعية على الإنبات .

(ب) ما النتائج المترتبة علي...؟

١- الاستنزاف والتصحر .

٢- توافر معدن الفوسفات فى مصر .

٣- اكتشاف الغاز الطبيعى بكميات كبيرة فى مصر .

السؤال الرابع: (أ) ضع علامة (✓) أمام العبارات الصحيحة وعلامة (X) أمام العبارة غير الصحيحة :

() (١) يعتبر النقل الجوى أرخص وسائل النقل فى مصر .

() (٢) تم إنشاء ميناء سفاجا لتخفيف الضغط على ميناء الإسكندرية .

() (٣) يعمل فى الزراعة نحو ٢٠٪ من إجمالى قوة العمل فى مصر .

() (٤) يعتبر دير المحرق من أكبر أديرة مصر ويقع بمحافظة أسيوط .

() (٥) حمل بطلميوس الأول لقب أغسطس أى المبجل .

() (٦) يتم استخراج الذهب من الواحات البحرية .

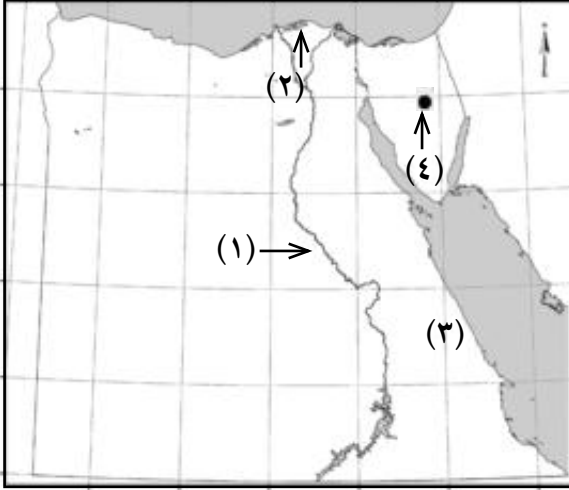
(ب) حدد أوجه التشابه وأوجه الاختلاف بين :

١- موارد المياه العذبة وموارد المياه المالحة .

٢- أهمية الصناعة والزراعة فى مصر .

نموذج (٩)

السؤال الأول: (أ) أمامك خريطة لمصر وضح مدلول الأرقام الموضحة عليها:



- ١- نهر.....
 ٢- بحيرة.....
 ٣- منطقة إنتاج معدن الذهب.....
 ٤- منطقة إنتاج الفحم.....

(ب) ما مقترحاتك...؟

- لتنشيط التجارة الخارجية.

- لتنمية النقل البحري.

(ج) ددل تاريخيا على اهتمام البطالمة بالزراعة.

السؤال الثاني: (أ) اختر من المجموعة (ب) ما يناسبها من المجموعة (أ):

(ب)	(أ)
نجع حمادي	١- يربط مترو الأنفاق بين أربع مدن تعرف بإقليم
شرق العوينات	٢- مجموعة أديرة ترجع للعصور الأولى للمسيحيين يطلق عليها أديرة
القاهرة الكبرى	٣- أعلى المناطق إنتاجاً للغاز الطبيعي في مصر منطقة
البحر المتوسط	٤- يتم توليد الكهرباء المائية من محطة قناطر
وادي النطرون	٥- مشروع يهدف لاستصلاح ٢٥٥ ألف فدان هو مشروع
السويس	٦- أنشأ بطليموس الأول جامعة قديما في مدينة

(ب) ما النتائج المترتبة علي...؟

- الجفاف وندرة الأمطار في مصر.

- صناعة الأسمنت في مصر.

- اهتمام الرومان بزراعة القمح في مصر.

السؤال الثالث : (أ) بم تفسر...؟

١ - تدهور الموارد الطبيعية فى مصر

٢ - نقص الإنتاج السمكى فى مصر

٣ - أهمية التجارة الخارجية

٤ - إنشاء معبد إدفو ومعبد فيلة

(ب) ما المقصود بكل من :

- الجامعة

- المنارة

السؤال الرابع : (أ) ضع علامة (✓) أمام العبارات الصحيحة وعلامة (X) أمام العبارات غير الصحيحة .

١ - يستخدم الفحم والمنجنيز فى صناعة الصلب . ()

٢ - مصر ثان دول الوطن العربى إنتاجًا للكهرباء المائية . ()

٣ - القطن يأتى فى المركز الأول من صادرات مصر ثم الطماطم فى المركز الثانى . ()

٤ - استمر حكم البطالمة لمصر ما يقرب من ثلاثة قرون . ()

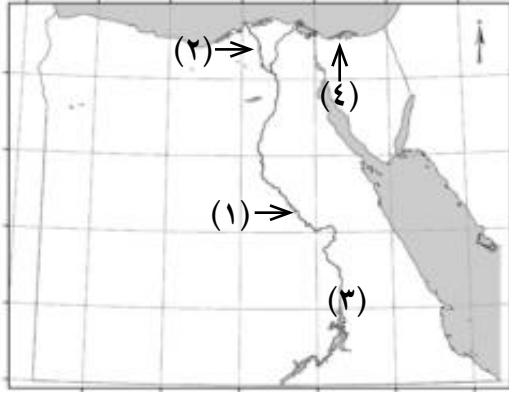
(ب) ماذا يحدث إذا...؟

- لم يتوفر معدن الفوسفات والمنجنيز فى مصر .

- زادت صادرات مصر إلى دول العالم .

نموذج (١٠)

- لم يتولى دقلديانوس عرش الإمبراطورية الرومانية.



السؤال الأول: (أ) أمامك خريطة صماء لجمهورية مصر العربية اكتب مدلول الأرقام التي عليها:

- ١- مورد مياه عذبة.....
- ٢- فرع
- ٣- محطة كهرباء
- ٤- بحيرة

(ب) صوب ما تحته خط في العبارات الآتية:

- ١- الموارد البشرية توفر الخامات الضرورية للصناعة.
- ٢- تبلغ مساحة الأراضي الزراعية في مصر ٣,٥ مليون فدان
- ٣- يوجد معدن الفوسفات في منطقة أم بجمة بسياء
- ٤- تأتي منطقة البحر المتوسط أولى مناطق إنتاج البترول
- ٥- العصر الروماني هو عصر خلفاء الإسكندر الأكبر في مصر.
- ٦- يعد مطار أسيوط هو أكثر مطارات مصر أهمية.

السؤال الثاني: (أ) اكتب ما تدل عليه العبارات الآتية:

- ١- وسيلة مواصلات تربط أربع مدن بإقليم القاهرة الكبرى ومصر أولى الدول العربية استخداماً لها. (.....)
- ٢- تحويل المواد الخام باستخدام الآلات والأدوات إلى صناعات متنوعة. (.....)
- ٣- معبد بناه بطليموس السادس لعبادة الإله سبك والإله حورس الكبير. (.....)
- ٤ - ديانة سماوية دخلت مصر على يد القديس مرقس. (.....)

(ب) ما النتائج المترتبة على ما يلي...؟

- ١- تلوث مياه نهر النيل.

٢- ثورات الشعب المصرى ضد الحكم البطلمي .

٣- انتصار اكتافيوس فى معركة أكتيون البحرية .

السؤال الثالث: (أ) ضع علامة (✓) أمام العبارات الصحيحة وعلامة (X) أمام العبارات غير الصحيحة:

١- ثورة الرعاة أهم ثورات المصريين ضد البطالمة. ()

٢- يهدف مشروع قناة ترعة السلام لتوصيل مياه النيل إلى شمال سيناء. ()

٣- حمل أكتافيوس لقب أغسطس أى المنتصر. ()

(ب) بم تفسر...؟

١- اهتمام المصريين القدماء بالذهب .

٢- قيام الصناعة فى مصر .

٣- تنوع طرق النقل والمواصلات فى مصر .

السؤال الرابع: (أ) اختر الإجابة الصحيحة مما بين القوسين:

١- يقل إنتاج الأسماك فى لوجود الشعاب المرجانية

(البحر المتوسط - البحر الأحمر - بحيرة المنزلة - بحيرة ناصر)

٢- تساهم الصناعة بنحو من الاقتصاد المصرى عام ٢٠٠٧م .

(١٢,٧٪ - ١٦,٢٪ - ١٧,٢٪ - ٧١,٢٪)

٣- سُمى عهد بعصر الاضطهاد الأكبر أو عصر الشهداء

(كليوباترا - قسطنطين - دقلديانوس - أغسطس)

٤- تحرر المصريون من ويلات الحكم البيزنطى والرومانى على يد

(عمر بن الخطاب - عمرو بن العاص - خالد بن الوليد - محمد علي) عام ٦٤١م .

(ب) اكتب دورًا واحدًا قامت به الدولة فى كل مما يلي:

١- التنمية الزراعية .

٢- تنمية التجارة الخارجية .

٣- التغلب على الجفاف .