

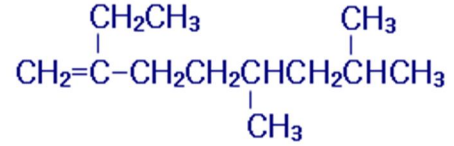
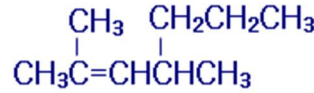
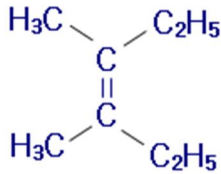


تسمية الألكينات المتفرعة

شبكة منهاجي التعليمية

سؤال:

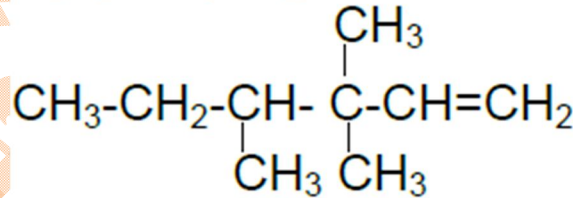
١- سم الألكينات الآتية وفق نظام تسمية الأيوباك:



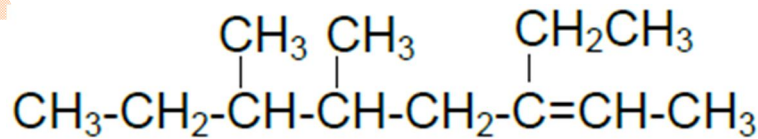
٢- إيثيل-٥،٧-ثنائي ميثيل -١-أوكتين    ٢،٤-ثنائي ميثيل -٢- هبتين    ٣،٤-ثنائي ميثيل-٣-هكسين

٢- اكتب الصيغة البنائية للمركبين الآتيين:

- ٣،٣،٤-ثلاثي ميثيل-١-هكسين.



- ٣-إيثيل-٥،٦-ثنائي ميثيل-٢-أوكتين.



٣- حدد الخطأ في اسم المركب ٣-ميثيل-٢-بيوتين.

الخطأ في الترقيم، والاسم الصحيح هو: ٢-ميثيل-٢-بيوتين.