

إجابات أسئلة الكتاب

الصف السابع
دراسات اجتماعية

اعداد وتدقيق
لجنة المواد الاجتماعية

إشراف المختص التربوي:
فريد إسماعيل احمد

الوحدة الأولى

الدرس الأول : امتداد الدولة الإسلامية في قارة آسيا

السؤال الأول : اختر رمز الإجابة الصحيحة فيما يلي :

- ١- ماذا يحد قارة آسيا من الشمال؟
أ- المحيط الهادي ب- الهندي ج- المحيط المتجمد الشمالي د- المحيط الأطلسي
- ٢- ما المضيق الذي يفصل بين قارتي آسيا وأمريكا الشمالية؟
أ- بيرنج ب- باب المنذب ج- هرمز د- جبل طارق
- ٣- ما أقدم مدينة في التاريخ؟
أ- دمشق ب- أريحا ج- القدس د- الرياض
- ٤- من القائد الذي تولى الفتوحات في المنطقة الشرقية في قارة آسيا؟
أ- المغيرة بن شعبة ب- عقبة بن نافع ج- قتيبة بن مسلم د- طارق بن زياد

السؤال الثاني : أكمل الفراغات بما يناسبها في الجمل الآتية :

- ١- أعلى قمة جبلية في فلسطين هي **الجرمق**
- ٢- يبلغ عدد سكان قارة آسيا عام ٢٠١٦ **٤٣٦ مليار و ٤ مليون نسمة**
- ٣- أقصى اتساع للدولة الإسلامية في شرق آسيا هو **حدود الصين**
- ٤- فتحت مدينة عمورية في العصر **العباسي**

السؤال الثالث : أختار المفهوم المناسب . وأضعه في المكان المخصص له :

(الأعراسير المدارية، خطوط الطول ودوائر العرض، منطقة السند، الموقع الجغرافي، الدولة).

موقع المكان بالنسبة لما يجاوره من يابس ، ومسطحات مائية.	الموقع الجغرافي
رياح نشطة، تتراوح سرعتها بين ١٠٠-٢٠٠ كم/الساعة مصحوبة بأمطار غزيرة	الأعراسير المدارية
مجموعة من الأفراد يمارسون نشاطهم على إقليم جغرافي محدد ، ويخضعون لنظام سياسي معين، يتولى شؤون الدولة.	الدولة
خطوط ودوائر وهمية رسمها العلماء على الخرائط بهدف تحديد المواقع على الأرض.	خطوط الطول ودوائر العرض
المنطقة الواقعة شرقي إيران.	منطقة السند

السؤال الرابع : أحدد الموقع الفلكي لقارة آسيا.

تمتد قارة آسيا بين درجتي عرض ١٠° جنوب خط الاستواء الي ٨٣° شماله وبين خطي طول ٢٥° الي ١٨٠° شرق خط غرينش.

السؤال الخامس: أفسر ما يأتي:

- تنوع مظاهر السطح في قارة آسيا.
- بسبب اتساع مساحتها وامتدادها الكبير .
- المناطق الشمالية في آسيا باردة صيفاً وشتاءً.
- بسبب قربها من المنطقة القطبية الشمالية وبعدها عن خط الاستواء.

السؤال السادس: أبين الخصائص التي تتميز بها قارة آسيا.

- المرتبة الأولى عالمياً من حيث السكان ٤ مليار و٣٦٤ مليون نسمة
- المرتبة الأولى عالمياً من حيث المساحة ٤٤ مليون كم^٢
- فيها أكثر بحار العالم ملوحة وهو البحر الميت حيث تصل نسبة الملوحة فيه الي ٣٤%.
- كثرة تعرجات سواحلها وبالتالي كثرة الموانئ الطبيعية فيها.
- فيها أقدم مدينة في العالم أريحا في فلسطين.
- فيها أقدم عاصمة في العالم دمشق عاصمة سوريا.
- تمتلك ٣٢% من مساحة الأراضي الزراعية في العالم وتنتج العديد من المحاصيل كالأرز والشاي.
- فيها العديد من الثروات الطبيعية مثل البترول والذهب.
- فيها العديد من التناقضات كأبرد منطقة (سهول سيبريا) واشد منطقة حرارة (صحراء الربع الخالي) ، واعلي قمة (قمة افرست) واخفض منطقة (البحر الميت)

السؤال السابع: أوضح ما يأتي:

- النجاحات التي حققها قتيبة بن مسلم في فتوحاته الآسيوية.
- تمكن قتيبة من مسلم خلال خمسة عشر عاماً من فتح معظم المدن الرئيسية في المناطق الشرقية من آسيا مثل بخاري وسمرقند وبلخ (أفغانستان) ومرو(تركمانستان) .
- كما استطاع الوصول إلى حدود الصين.
- الأعمال التي قام بها العباسيون في قارة آسيا.
- الحفاظ على الحدود واسترجاع المناطق التي كان يحتلها البيزنطيون.
- فتح بعض المناطق التي عرفت بالثغور وتحصنها وتسكين المسلمين فيها لحمايتها.
- فتحتوا مدينتا طرطوس (سوريا) و عمورية (تركيا) .
- عناصر(مقومات) الدولة.
- الشعب وهم المواطنين الذين يتمتعون بجنسية الدولة ويربطهم الولاء والانتماء.
- الإقليم (الأرض) ويشمل الإقليم الأرضي والجوي والمائي.
- السلطة السياسية وهي التي تشرف على تنظيم أمور الجماعة وتمارس الحكم على الأرض والسكان.
- الاستقلال / وهو عدم تبعية الدولة لغيرها من الدول سواء تبعية سياسية أو اجتماعية أو اقتصادية.

- السيادة / وهي تمكن الدولة من فرض الأمن والسيطرة على أراضيها.
- الاعتراف الدولي / وهو الحصول على تصويت الدول الأعضاء في الأمم المتحدة بالموافقة على الدولة.

السؤال الثامن : أعين على خريطة آسيا الصماء ما يأتي :

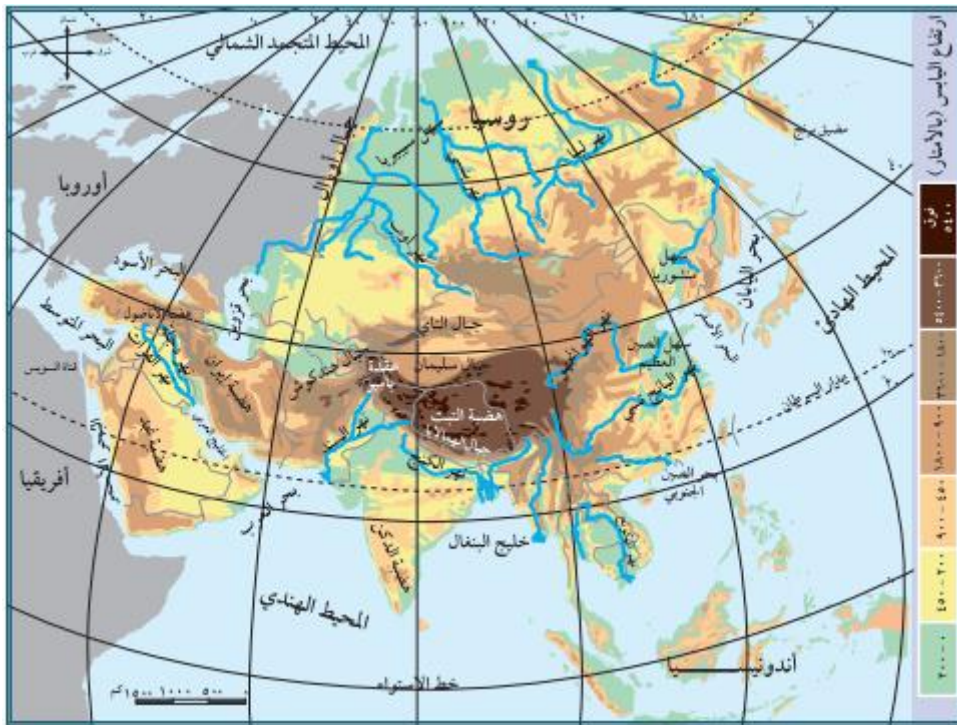
الجبال : الهمالايا.

الهضاب: التبت، والدكن.

الأنهار والمضائق: دجلة، والفرات، ومضيق بيرنج.

الدول: اليابان، والهند، وماليزيا، وكشمير، وأرمينيا، والصين.

المحيطات: الهندي، الهادئ.



الدرس الثاني : امتداد الدولة الإسلامية في قارة إفريقيا

السؤال الأول : أختار رمز الإجابة الصحيحة فيما يأتي:

- ١- ما أعلى جبال قارة إفريقيا؟
أ- اطلس ب- طوبقال ج- كلمنجارو د- الهكار
- ٢- ما دائرة العرض الرئيسية التي تمر من وسط قارة إفريقيا؟
أ- مدار السرطان ب- مدار الجدي ج- خط الاستواء د- خط غرينتش
- ٣- ما المضيق الذي يصل قارة إفريقيا مع قارة أوروبا؟
أ- بيرنج ب- جبل طارق ج- قناة السويس د- باب المندب
- ٤- ما أطول أنهار قارة إفريقيا؟
أ- الكونغو ب- النيجر ج- الزمبيزي د- النيل
- ٥- ما ترتيب قارة إفريقيا من حيث المساحة بين قارات العالم؟
أ- الأولى ب- الثانية ج- الثالثة د- الرابعة
- ٦- أين استشهد عقبة بين نافع؟
أ- القيروان ب- برقة ج- تهودة د- قرطاجة

السؤال الثاني: أفسر ما يأتي:

- قلة الموانئ الطبيعية على سواحل إفريقيا.
بسبب قلة التعرجات فيها وشبه استقامة السواحل.
- تعاكس الفصول في القسم الجنوبي عن القسم الشمالي في قارة إفريقيا.
بسبب مرور خط الاستواء ومداري الجدي والسرطان في القارة.

السؤال الثالث: أوضح اهم خصائص قارة إفريقيا؟

- ثاني قارات العالم من حيث المساحة حيث تبلغ مساحتها ٣٠ مليون كم٢.
- عدد سكانها ما يقارب مليار و٢٠٣ مليون نسمة.
- تأخذ شكل المثلث قاعدته في الشمال ورأسه في الجنوب.
- فيها اكبر هضاب العالم مساحة وهي هضبة الصحراء الإفريقية الكبرى.
- سواحلها شبه مستقيمة وقليلة التعرجات مما أدى لقلة الموانئ الطبيعية فيها.
- تعاني من عدة مشكلات كالصراعات والحروب الأهلية والجفاف والتصحر والأمراض والفقر.

السؤال الرابع: أحسب عدد دوائر العرض وخطوط الطول التي تمتد عليها القارة الإفريقية.

القاعدة الأساسية لحساب خطوط الطول ودوائر العرض :-

- إذا كان الموقع (شرق وغرب) خط جرينتش ، أو (شمال وجنوب) خط الاستواء، نجمع الأرقام .
- إذا كان الموقع (شرق مع شرق) أو (غرب مع غرب) خط جرينتش ، أو (شمال مع شمال) أو (جنوب مع جنوب) خط الاستواء ، نطرح الأرقام.
- تمتد قارة أفريقيا بين دائرتي عرض 37° شمال و 35° جنوب خط الاستواء
- إذن هي تمتد بين جهتين مختلفتين (شمال وجنوب) وعليه نجمع $35+37=72$ دائرة عرض.
- وتمتد قارة أفريقيا بين خطي طول 17° غرب و 51° شرق خط جرينتش
- إذن هي تمتد بين جهتين مختلفتين (غرب وشرق) وعليه نجمع $17+51=68$ خط طول
- إذن عدد دوائر العرض التي تمتد عليها إفريقيا هي 72 دائرة عرض وخطوط الطول التي تمتد عليها إفريقيا هي 68 خط طول.

السؤال الخامس: أوازن بين درجات الحرارة في قارة إفريقيا صيفاً وشتاءً.

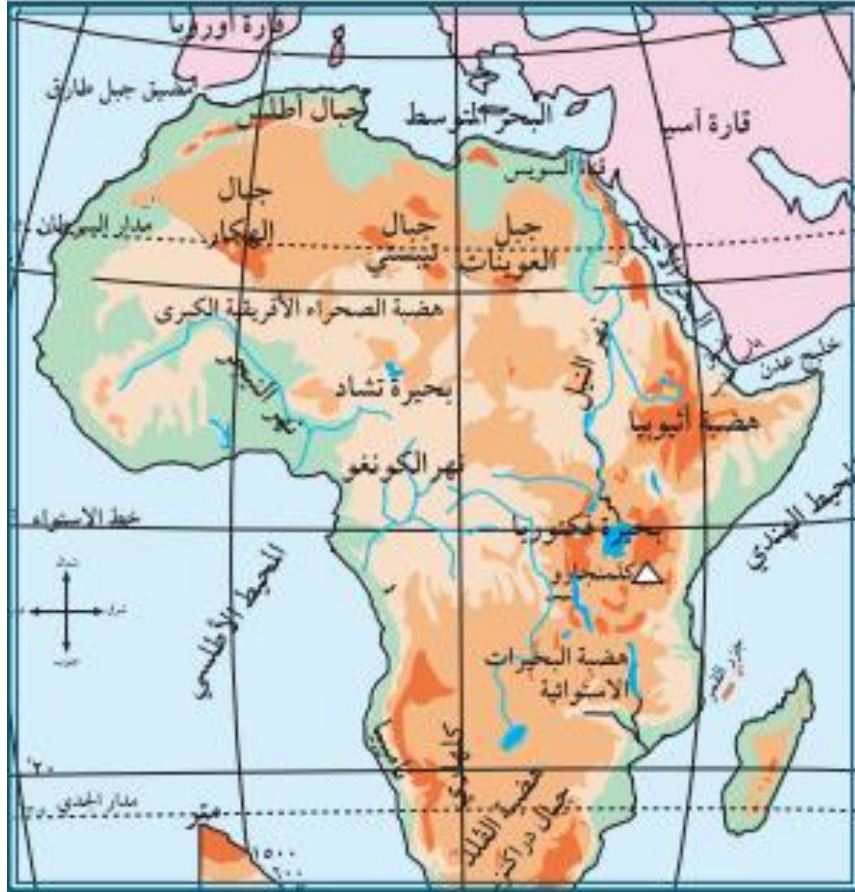
- في القسم الجنوبي من القارة تكون درجات الحرارة مرتفعة صيفاً لتعتمد اشعة الشمس على مدار الجدي وفي الشتاء تنخفض بشكل عام.
- في القسم الشمالي من القارة تكون درجات الحرارة مرتفعة صيفاً لتعتمد اشعة الشمس على مدار السرطان وفي الشتاء تنخفض بشكل عام.

السؤال السادس: أوضح امتداد الدولة الإسلامية في قارة إفريقيا خلال العصرين الأموي والعباسي.

امتدت الدولة الإسلامية حتى المحيط الأطلسي حيث قام عقبة بن نافع بحملة عسكرية الي هناك بعد ان بنى مدينة القيروان لتكون قاعدة عسكرية له ، لكنه استشهد في طريق عودته في منطقة تهودة في الجزائر حالياً على يد البربر ، وخلفه حسان بن النعمان الذي استولى على معظم المغرب بعد أن هزم البربر ثم اكمل موسى بن نصير فتح ما تبقى .

السؤال السابع: أعين على خريطة قارة إفريقيا الصماء ما يلي:

- الأنهار : النيل والكونغو والنيجر
- المحيطات: الأطلسي والهندي.
- الجبال: أطلس وكلمنجارو.
- الهضاب: هضبة الصحراء الإفريقية الكبرى.
- البحار والمضائق: البحر المتوسط، ومضيق جبل طارق.
- المدن: القيروان.



الدرس الثالث: امتداد الدولة الإسلامية في قارة أوروبا

السؤال الأول : أختار رمز الإجابة الصحيحة فيما يأتي:

- ١- ما المرتبة التي تحتلها قارة أوروبا من حيث المساحة؟
أ- الأولى ب- الثانية ج- الثالثة د- الرابعة هـ السادسة
- (هناك خطأ في صياغة السؤال لأن قارة أوروبا تحتل الترتيب السادس على مستوى القارات من حيث المساحة ولذلك فالصياغة الصحيحة للسؤال كالتالي)
- ما المرتبة التي تحتلها قارة أوروبا من حيث عدد السكان ؟
أ- الأولى ب- الثانية ج- الثالثة د-الرابعة
- ٢- ما الصفتان اللتان تغلبان على مناخ قارة أوروبا؟
أ- الحرارة والجفاف ب- الاعتدال والحرارة ج-الجفاف والبرودة د-الاعتدال والبرودة
- ٣- ما أطول أنهار قارة أوروبا؟
أ- النيل ب-الفولغا ج-المسيبي د-الدانوب
- ٤- من مؤسس الدولة الأموية في الأندلس؟
أ- عبد الرحمن الداخل ب- موسى بن نصير ج- الوليد بن عبد الملك د-عبد الرحمن الغافلي

السؤال الثاني: أكمل الفراغات بما يناسبها من الجمل الآتية:

- تقع قارة أوروبا الي الغرب من قارة آسيا.
- يحد قارة أوروبا من الغرب المحيط الأطلسي .
- أعلى جبال قارة أوروبا مونت بلان.
- الجبال التي تفصل اسبانيا عن فرنسا هي جبال البرانس.
- انتصر طارق بن زياد على الأسبان في معركة وادي لكة .

السؤال الثالث: أفسر ما يلي:

- تطور الصناعات في قارة أوروبا.
- توفر مقومات الصناعة فيها ،من (مواد خام و رأس مال وتطور وسائل المواصلات) ومنها انطلقت الثورة الصناعية.
- وأيضاً الاستقرار السياسي والاجتماعي فيها.
- طول سواحل قارة أوروبا.
- كثرة التعاريج.
- تداخل اليابس مع الماء (الفيوردات) .

السؤال الرابع: أبين النتائج التي ترتبت على معركة بلاط الشهداء.

- استشهاد عبد الرحمن الغافقي.
- توقف الفتوحات الإسلامية البرية في قارة أوروبا في العصر الأموي.

السؤال الخامس: أصف التركيب السكاني في المجتمع الإسلامي الأندلسي.

- المسلمون من العرب والبربر.
- المولدين في الأندلس من آباء مسلمين وأمهات إسبانيات.
- الأسباب الذين ظلوا على ديانتهم المسيحية.
- الصقالبة وهم الأوروبيين الذين كانوا يأتوا لأسباب مختلفة.

السؤال السادس: أوازن بين الحقوق والواجبات المترتبة على المواطنة.

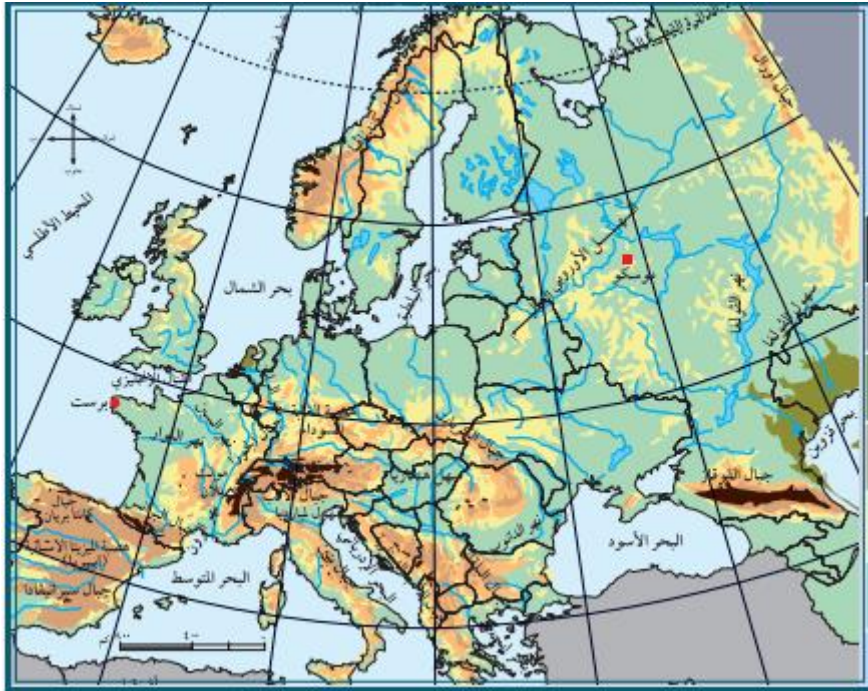
- | | |
|--|----------------------------|
| • الحقوق | * الواجبات |
| - الحقوق المدنية كالحق في الحياة | - احترام القانون |
| - الحقوق السياسية كالحق في حرية التفكير | - دفع الضرائب |
| - الحقوق الاقتصادية والاجتماعية والحق في | - المحافظة على البيئة |
| العمل والغذاء والصحة | المشاركة المجتمعية الفاعلة |
| | الدفاع عن الدولة وحمايتها |

السؤال السابع: أبين امتداد الفتوحات الإسلامية في العصر العباسي.

- فتحوا بعض جزر البحر المتوسط منها تكريت وصقيلة وجزر البليار وجزيرة قبرص وغيرها .

السؤال الثامن: أعيّن على خريطة أوروبا الصماء ما يلي :

- المحيطات: الأطلسي والمتجمد الشمالي.
- البحار: المتوسط والأسود.
- الجبال: الألب والبرانس.
- الهضاب: المزيتا والغابة السوداء.
- السهول: السهل الأوروبي العظيم.
- الدول: فرنسا وصقلية وإسبانيا والبرتغال.



الدرس الرابع : قارة أمريكا الشمالية

السؤال الأول : اختر رمز الإجابة الصحيحة فيما يأتي :

- ١- كم تبلغ مساحة قارة أمريكا الشمالية؟
أ- ٩ مليون كم. ب- ٢ مليون كم. ج- ١٠ مليون كم. د- ٤٤ مليون كم.
(هناك خطأ في الخيارات حيث ولا خيار يشمل المساحة الصحيحة حيث ان الجواب الصحيح هو ٢٠ مليون كم.)
- ٢- ماذا يحد قارة أمريكا الشمالية من الغرب؟
أ- المحيط المتجمد الشمالي ب- المحيط الهادئ
ج- المحيط الأطلسي د- البحر الكاريبي
- ٣- بماذا تعرف المرتفعات الشرقية في قارة أمريكا الشمالية؟
أ- جبال سيراماديرا ب- جبال روكي ج- جبال الانديز د- جبال الأبلش.

السؤال الثاني: أفسر:

هناك عدة تقسيمات فيما يتعلق بأمريكا الشمالية والجنوبية.
بسبب وجود اختلافات ثقافية واجتماعية وجغرافية ولغوية أدى هذا الى وجود تقسيم جغرافي يقسمها الى أمريكا الشمالية والجنوبية ويربط بينهم أرخبيل أمريكا الوسطى.
وهناك تقسيم ثقافي ولغوي حيث قسمهم الى أمريكا الشمالية وأمريكا اللاتينية التي تشمل أمريكا الجنوبية والوسطى.

السؤال الثالث: أحدد الموقع الفلكي لقارة أمريكا الشمالية.

تقع بين دائرتي عرض 10° - 83° شمال خط الاستواء.
وتمتد بين خطي طول 48° - 170° غرب خط غرينتش.

السؤال الرابع: أصف مناخ قارة أمريكا الشمالية صيفاً.

ترتفع درجات الحرارة صيفاً كلما اتجهنا جنوباً ، وتسقط أمطار صيفية وتتعرض للأعاصير.

السؤال الخامس: أذكر اهم الخصائص العامة لقارة أمريكا الشمالية.

- مساحتها ٢٠ مليون كم ٢.
- عدد سكانها ٤٤٨ مليون نسمة.
- اقل قارات العالم من حيث عدد الدول حيث فيها ثلاث دول (الولايات المتحدة الامريكية ، كندا ، المكسيك)
- من قارات العالم المتقدمة.
- تمتاز بالإنتاج الزراعي والصناعي العال.
- فيها بعض الجاليات الفلسطينية .

الدرس الخامس: قارة أمريكا الجنوبية

السؤال الأول: أختار رمز الإجابة الصحيحة فيما يأتي:

- ١- ماذا يحد قارة أمريكا الجنوبية من الشمال؟
أ- البحر الكاريبي
ب- المحيط الهادئ
ج- المحيط المتجمد الشمالي
د- المحيط الأطلسي
- ٢- ما اهم الدول الداعمة للقضية الفلسطينية في أمريكا الجنوبية؟
أ- كوبا
ب- المكسيك
ج- كندا
د- الولايات المتحدة الامريكية
- ٣- كم تبلغ مساحة أمريكا الجنوبية والوسطى؟
أ- ٩ مليون كم ٢
ب- ١٩ مليون كم ٢
ج- ١٨ مليون كم ٢
د- ٤٤ مليون كم ٢

السؤال الثاني: أحدد الموقع الفلكي لقارة أمريكا الجنوبية.

تقع قارة أمريكا الجنوبية فلكياً بين دائرتي عرض ١٥ شمالاً الي ٥٦ جنوباً
وبين خطي طول ٣٥ الي ١٠٥ غرباً.

السؤال الثالث: أبين اهم المظاهر التضاريسية في قارة أمريكا الجنوبية.

- السهول الساحلية والوسطى وتمتد بين الهضاب الشرقية وجبال الأنديز.
- المرتفعات الغربية (الأنديز) وهي امتداد لجبال روكي في أمريكا الشمالية.
- نهر الامازون الذي يعد من اعرض انهار العالم وثاني أطول انهار العالم، وذو أهمية بيئية حيث ان غاباته توفر نسبة عالية من الاوكسجين.
- الهضاب واهمها هضبة جيانا في شمال شرق القارة وهضبة البرازيل في الوسط وبتاجونيا في الجنوب.

السؤال الرابع: أصف مناخ قارة أمريكا الجنوبية.

صيفاً ترتفع درجات الحرارة في القارة صيفاً وتعتدل على السواحل وتسقط الامطار الصيفية
وشتاءً تنخفض درجات الحرارة وتسقط الامطار.

السؤال الخامس: أذكر اهم الخصائص العامة لقارة أمريكا الجنوبية.

- تبلغ مساحتها حوالي ١٨ مليون كم ٢ .
- عدد سكانها ٦٦٠ مليون نسمة يتركز معظمهم على السواحل والسهول الفيضية.
- تتخذ شكل المثلث رأسه في الجنوب (رأس هورن) وقاعدته في الشمال.
- مستقيمة السواحل مما حال دون وجود موانئ طبيعية فيها.
- وجود بعض الدول الداعمة للقضية الفلسطينية ك كوبا وفنزويلا

الدرس الخامس قارة اوقيانوسيا

السؤال الأول: أضع إشارة (√) يمين العبارة الصحيحة، وإشارة (x) يمين العبارة غير الصحيحة:

- ١- (x) يتميز سكان قارة أوقيانوسيا بأنهم شعب واحد.
- ٢- (√) البرودة هي الصفة الغالبة على مناخ قارة اوقيانوسيا.
- ٣- (√) سورينام هي من الدول التي انضمت الي منظمة التعاون الإسلامي.
- ٤- (x) تشمل قارة أوقيانوسيا دولة استراليا فقط.
- ٥- (x) تقع قارة أوقيانوسيا الي الغرب من خط غرينش.

السؤال الثاني : أحدد الموقع الجغرافي لقارة اوقيانوسيا.

يحيط بها المحيطين الهادئ والهندي مناصفةً بحيث يحيطان بكاملها لتصبح كجزيرة كبيرة
المحيط الهادي من الشرق والجنوب والشمال
أما المحيط الهندي يحيط بها من الغرب والجنوب و الشمال .

السؤال الثالث: أعدد المظاهر التضاريسية في قارة أوقيانوسيا.

- السهول الفيضية والساحلية.

- الهضاب.
- المرتفعات.

السؤال الرابع: أبين الخصائص العامة لقارة اوقيانوسيا.

- اصغر قارات العالم مساحة ٨,٥ مليون كم٢ (هناك خطأ في الكتاب حيث ذكر ان المساحة هي ٩,٥ مليون لكن الصحيح ان مساحتها ٨,٥ مليون كم٢)
- عدد سكانها ٤٠ مليون نسمة وهم مزيج من الشعوب.
- قليلة التعرجات.
- اهم الحرف فيها صيد الأسماك وتربية الأغنام
- فيها اكبر حاجز مرجاني في العالم.

السؤال الخامس: أبين طرق انتشار الإسلام في قارات أمريكا الشمالية والجنوبية واوقيانوسيا.

عن طريق المهاجرين والتجار والدعاة وتجارة الرقيق.

الوحدة الثانية

الدرس الأول : الإنجازات الإدارية في الدولة الإسلامية

السؤال الأول: اختار رمز الإجابة الصحيحة فيما يأتي:

- ١- من الخليفة الذي استحدث منصب ولاية العهد؟
أ- عمر بن الخطاب ب- عثمان بن عفان
ج- معاوية بن أبي سفيان د- عبد الملك بن مروان
- ٢- في أي عصر تم تعريب الدواوين؟
أ- الراشدي ب- الأموي ج- العباسي د- الفاطمي
- ٣- كيف كان العرب قبل الإسلام يتحاكمون فيما بينهم للفصل بالخصومات؟
أ- الأجماع ب- المحاكم ج- العادات والتقاليد د- القرآن الكريم
- ٤- من أول من تقلد منصب الوزارة في الدولة الإسلامية؟
أ- أبو سلمة الخلال ب- يحيى البرمكي
ج- معاوية بن أبي سفيان د- الحجاج بن يوسف الثقفي

السؤال الثاني: أختار المفهوم المناسب، وأضعه في المكان المخصص له:

(وزارة التنفيذ، القضاء، الديوان، ولاية العهد، وزارة التفويض، الأسطول)

ولاية العهد	يعهد إليه الخليفة أو الحاكم بتولي الحكم من بعده.
وزارة التفويض	يفوض الخليفة شخصيا ، ينوب عنه في تصريف شؤون الدولة والحكم.
القضاء	الفصل بين الناس في الخصومات، طبقاً لأحكام الشريعة الإسلامية.
وزارة التنفيذ	يخضع لسلطة الخليفة، وتكون مهمته تنفيذ كل ما يأمره به.
الديوان	المكان الذي تحفظ فيه السجلات الرسمية.

السؤال الثالث: استنتج العوامل التي أدت الي ظهور الدواوين .

- اتساع الدولة الإسلامية.
- التحرر من التبعية الاقتصادية الأجنبية
- زيادة الحاجة لاستحداث نظم إدارية جديدة تنظم شؤون الدولة المختلفة.

السؤال الرابع: في ضوء دراستي للنظام القضائي في الدولة الإسلامية، أناقش ما يلي:

- مدى تحقيق العدالة الاجتماعية في الدولة الإسلامية.
حيث كانت الدولة الإسلامية تحكم بعدل كامل ، وقد سنت الدواوين لتضمن شفافية الأحكام والحكام فأنشأت ديوان النظر في المظالم لكي تضمن عدم ظلم الولاية أو القضاة للعبيد والمحكومين ، وسأوت بين اهل الكتاب والمسلمين في الأحكام والقانون.
- أهمية استقلال القضاء في العصر الحديث في تحقيق العدالة الإسلامية.
لأنه يضمن عدم تبعية القاضي للمسؤول في احكامه مهما علا شأن هذا المسؤول او دنى فإن القاضي يعتبر سلطة مستقلة لا يستطيع أي حاكم عزله او سجنه من محض ارادته ، وايضاً يستطيع قاضي القضاة والمحكمة العليا ان تعرض المسؤول نفسه للمحاكمة وبالتالي لن يتعرض أي أحد للظلم بسبب أمر من الحاكم أو لغيره ، وبالتالي كان لإستقلال القضاء أهمية في تحقيق العدالة والمساواة.

السؤال الخامس: أناقش اهتمام المسلمين بإنشاء الأسطول البحري في الدولة الإسلامية.

لأن المدن الإسلامية الساحلية في بلاد الشام ومصر وشمال أفريقيا أصبحت عرضة لهجوم الأسطول البيزنطي

الدرس الثاني : الإنجازات المعمارية في الدولة الإسلامية

السؤال الأول: اختر رمز الإجابة الصحيحة فيما يأتي:

- ١- من بنى مدينة القيروان؟
أ- موسى بن نصير ب- طارق بن زياد
ج- عقبة بن نافع د- موسى بن نصير
- ٢- ما المباني التي بدأت بها العمارة الإسلامية؟
أ- المساجد ب- القلاع ج- القصور د- الأسواق
- ٣- أين يقع قصر عمرة؟
أ- في الأردن ب- في فلسطين ج- في مصر د- في العراق
- ٤- ما الهدف من إقامة الأدوار السفلية في القصور الإسلامية؟
أ- للتدريب على القتال ب- لقضاء وقت الراحة
ج- لإقامة النساء د- للاستقبالات

السؤال الثاني: أضع إشارة (✓) يمين العبارة الصحيحة، وإشارة (x) يمين العبارة غير الصحيحة:

- ١- (x) اشتملت العمارة الإسلامية على التماثيل البشرية.
- ٢- (x) تميزت بيوت السكن الإسلامية بالمداخل الملتوية.
- ٣- (x) خصصت الأدوار السفلية من القصور الإسلامية للنساء.
- ٤- (✓) بدأت العمارة الإسلامية ببناء مسجد قباء في المدينة المنورة.

السؤال الثالث: أعدد أقسام المباني الحربية.

- القلاع.
- الحصون.
- الأبراج.
- الأسوار.

السؤال الرابع: أعلل ما يأتي:

- اهتمام الدولة الإسلامية بإقامة المباني الحربية.
المراقبة والحراسة
تسهيل السيطرة على المناطق المجاورة
قواعد هجومية ومراكز انطلاق للحملات العسكرية والفتوحات
إقامة الجيوش
الدفاع عن المدن والحدود
تأمين البريد وسفر الحجاج والخطوط التجارية .
- قيام الخلفاء المسلمين ببناء القصور خارج المدن.
قضاء وقت الراحة والابتعاد عن الأمراض المعدية إذا ما انتشرت في المدن.
- ابتعاد العمارة الإسلامية عن تجسيد التماثيل البشرية.
لأن تعاليم الإسلام لم تحبذ ذلك .

السؤال الخامس: أبين مميزات العمارة الإسلامية.

- توافقها مع تعاليم الدين الإسلامي ومبادئه.
- النقش على الحجارة والكتابة على الجدران بخطوط جميلة.
- اعتمدت على عناصر معمارية مختلفة مثل الأعمدة والأقواس والمشربيات والمدخل الملتوي والطرق المتعرجة داخل الأسوار.
- وجود الفناء المكشوف في المباني الواسعة كالمساجد.

السؤال السادس: أناقش توافق العمارة الإسلامية مع العادات والتقاليد العربية الإسلامية.

حيث خلت المباني الدينية من ذوات الأرواح وتم استبدالها بالزخرفة بإشكال هندسية أو رسومات نباتية.

السؤال السابع: أبين أسباب قيام الدولة الإسلامية ببناء المدن.

- معسكرات حربية :- مدينة القيروان في تونس.
- أغراض أدراية :- مدينة واسط في العراق.
- كعواصم للدول :- بغداد في العراق.
- كتحصين ، ثم تحولت الي طابع مدني :- الرباط في المغرب.

الدرس الثالث: نماذج من الإنجازات المعمارية الإسلامية في فلسطين

السؤال الأول: أضع إشارة (√) يمين العبارة الصحيحة ، وإشارة (x) يمين العبارة غير الصحيحة:

- ١- (√) يبلغ طول سور القدس حوالي ٤٠٠٠ متر.
- ٢- (x) بنيت قبة الصخرة أيام الدولة العباسية.
- ٣- (√) صدر قرار مجلس الأمن الدولي ٢٥٢ عام ١٩٦٨م.
- ٤- (√) حول الاحتلال الصهيوني اسم حائط البراق الى حائط (المبكى).

السؤال الثاني: اختار رمز الإجابة الصحيحة فيما يأتي:

- ١- ماذا يحد فلسطين من الجهة الشرقية؟
أ- العراق ب- اليمن ج- مصر د- الأردن

- ٢- من السلطان العثماني الذي بنى سور القدس الحالي؟
أ- سليمان القانوني ب- سليم الأول ج- مراد الرابع د- عبد الحميد الأول
- ٣- في أي عصر بنيت مدينة الرملة؟
أ- العباسي ب- الأموي ج- المملوكي د- العثماني
- ٤- أي المواقع الآتية يقع بالقرب منها قصر الصنبرة؟
أ- بحيرة الحولة ب- البحر الميت ج- بحيرة طبريا د- بحيرة ناصر

السؤال الثالث: أعلل ما يأتي:

- اهتمام الدولة الأموية بفلسطين.
- بسبب مكانتها الدينية المقدسة.
- قدسية أرض فلسطين عند المسلمين.
- لوجود المسجد الأقصى فيها ولأنها أولى القبلتين وثالث الحرمين ومسرى الرسول صلى الله عليه وسلم .

السؤال الرابع: أعدد أبواب مدينة القدس.

- باب الخليل.
- باب الحديد.
- باب العامود.
- باب الساهرة.
- باب الانباط.
- باب المغاربة.
- باب النبي داود.

السؤال الخامس: أسمى مدناً فلسطينية تقع في السهل الساحلي الفلسطيني.

- عكا ، حيفا ، يافا ، المجدل ، عسقلان ، غزة

السؤال السادس: أبين بعض الإجراءات الصهيونية الهادفة إلى طمس المعالم العربية الإسلامية في مدينة القدس.

- صادر الاحتلال الصهيوني الأراضي الفلسطينية في القدس وبنى عليها المستوطنات
- هدم الاحتلال الصهيوني المنازل وهجر سكان مدينة القدس
- سحب الاحتلال الصهيوني هوية سكان القدس وفصلها عن محيطها العربي
- حول الاحتلال الصهيوني حائط البراق إلى حائط المبكى
- هدم الاحتلال الصهيوني حي المغاربة وغير طابعه العربي الإسلامي
- افتتح الاحتلال الصهيوني الكنس الصهيونية في البلدة القديمة
- يحاول الاحتلال الصهيوني في هذه الأيام السيطرة على الحرم القدسي الشريف

الدرس الرابع: الإنجازات العلمية في الدولة الإسلامية

السؤال الأول: اختر رمز الإجابة الصحيحة فيما يأتي:

- ١- اين أسس العباسيون بيت الحكمة؟
 أ- **في بغداد** ب-في القاهرة ج-في دمشق د-في الاندلس
- ٢- من ألف كتاب صحيح البخاري؟
 أ- المقدسي ب-مجير الدين الحنبلي العليمي
 ج- أبو الحسن مسلم **د-محمد بن إسماعيل البخاري**
- ٣- من هو مؤسس الكتابة الفنية، وواضع أصولها، وقواعدها؟
 أ- عبد الله بن المقفع ب-الخوارزمي
ج-عبد الحميد الكاتب د-حسان بن ثابت
- ٤- من اول من اهتم بعلم الكيمياء من العرب؟
 أ- **خالد بن يزيد بن معاوية** ب-معاوية بن أبي سفيان
 ج- جابر بن حيان د-ابن سينا
- ٥- ما أسباب اهتمام العرب بعلم الجغرافيا؟
 أ- انحسار رقعة الدولة الإسلامية ب-توسع النشاط الصناعي
ج- أداء مناسك الحج د-تطوير علم الرياضيات

السؤال الثاني: أختار المفهوم المناسب، وأضعه في المكان المخصص له :

(الحديث، النثر، علم الفلك، الإسطرلاب)

النثر	الكلام غير الموزون.
الإسطرلاب	آلة لرصد حركة الكواكب والنجوم.
علم الفلك	يبحث في النجوم والكواكب وحركاتها ومواقعها وأسباب تغير مظاهرها وأمكنتها.

السؤال الثالث: أوفق بين الكتاب في العمود (أ) ومؤلفه في العمود (ب) فيما يأتي :

(أ)	(ب)
صحيح البخاري	الخوارزمي
القانون في الطب	محمد بن إسماعيل البخاري
معجم البلدان	أبو جعفر محمد بن جرير الطبري
تاريخ الأمم والملوك	أبو علي ابن سينا
	ياقوت الحموي

السؤال الرابع: أنظم جدولاً لإنجازات المسلمين في العلوم الآتية:

الانجاز	العلم
اخذوا نظام الترقيم عن الهنود وأوجدوا رقم الصفر	الرياضيات
إجراء العمليات الجراحية والتخدير وخياطة الجروح من أمعاء الحيوانات	الطب
بحثوا في النجوم والكواكب ومواقعها وأسباب تغير مكانها	الفلك
تركيب الأدوية ، تغليف الحبوب	الكيمياء

السؤال الخامس: أبين الطرق التي انتقلت بها الحضارة العربية الإسلامية إلى أوروبا.

- الفتوحات الإسلامية في (الأندلس وصقلية)
- من خلال الحروب الفرنجية.
- التجارة والبعثات العلمية.

السؤال السادس: ناقش أهمية التواصل والانفتاح بين الحضارات.

لإيجاد بيئة دولية سلمية مستقرة قائمة على الاحترام المتبادل والمساواة بين الثقافات والحضارات المختلفة.

الدرس الخامس: الإنجازات الاقتصادية للدولة الإسلامية

السؤال الأول : أكمل الفراغات في الجمل الآتية:

- ١- الأرض التي صالح أهلها المسلمين تعد أرض صلح
- ٢- كانت الأرض تقطع للجند مقابل استصلاحها
- ٣- أوجد ديوان الري في العصر العباسي
- ٤- من نفقات الدولة الرئيسة دفع مرتبات المقاتلين والموظفين

السؤال الثاني: أفسر ما يأتي:

- لجوء الدولة الإسلامية إلى فرض العشور على التجارة.
- لان الدول المجاورة لها (الروم) كانت تأخذ من التجار المسلمين ضرائب ، فوجب العمل بالمثل.
- قيام الدولة الإسلامية بتعريب النقود.
- لما حدث من غش في العملة البيزنطية فعملت على ضبط وزنها وعيارها والنقش على النقود باللغة العربية .

السؤال الثالث: ما المقصود بالمفاهيم والمصطلحات الآتية:

- ١- الفئ: ما يحصل عليه المسلمون من العدو سواء عن طريق القتال او غيره.
- ٢- الزكاز: ضريبة كانت تؤخذ على كل ما يستخرج من باطن الأرض من معادن.
- ٣- الغنيمة: كل ما يحصل عليه المسلمون من غنائم أثناء فتوحاتهم الإسلامية قهراً.

السؤال الرابع : أعتبر بيت مال المسلمين أعظم مؤسسة مالية في الدولة الإسلامية ، في ضوء ذلك:

- أبين ثلاثة من وارداته.
- الفئ.
- الغنائم.
- الزكاة.
- الخمس.
- أعدد اثنين من نفقاته.
- دفع نفقات الموظفين.
- الانفاق على الخدمات العامة.

السؤال الخامس: نفكر فيما تدل عليه العبارات الآتية في الكلمات المتقاطعة:

- الغنيمة كل ما يحصل عليه المسلمون من غنائم أثناء فتوحاتهم الإسلامية.
- الركاز ضريبة كانت تؤخذ على كل ما يستخرج من باطن الأرض من معادن.
- الزكاة مقدار من المال يفرض على المسلمين القادرين ليرد على فقراءهم.
- العشور ضريبة تؤخذ على بضائع التجار الغير مسلمين مقابل مرور تجارتهم داخل حدود الدولة الإسلامية.
- الخراج ضريبة كانت تفرض على ما تنتجها الأرض الزراعية التي فتحها المسلمون او اخذوها صلحاً، وتقدر قيمتها حسب جودة الأرض الزراعية.
- الجزية مبلغ من المال يؤخذ من اهل الذمة (اليهود والنصارى) مقابل حمايتهم ويعفى منها النساء والرهبان والأطفال وغير القادرين.

