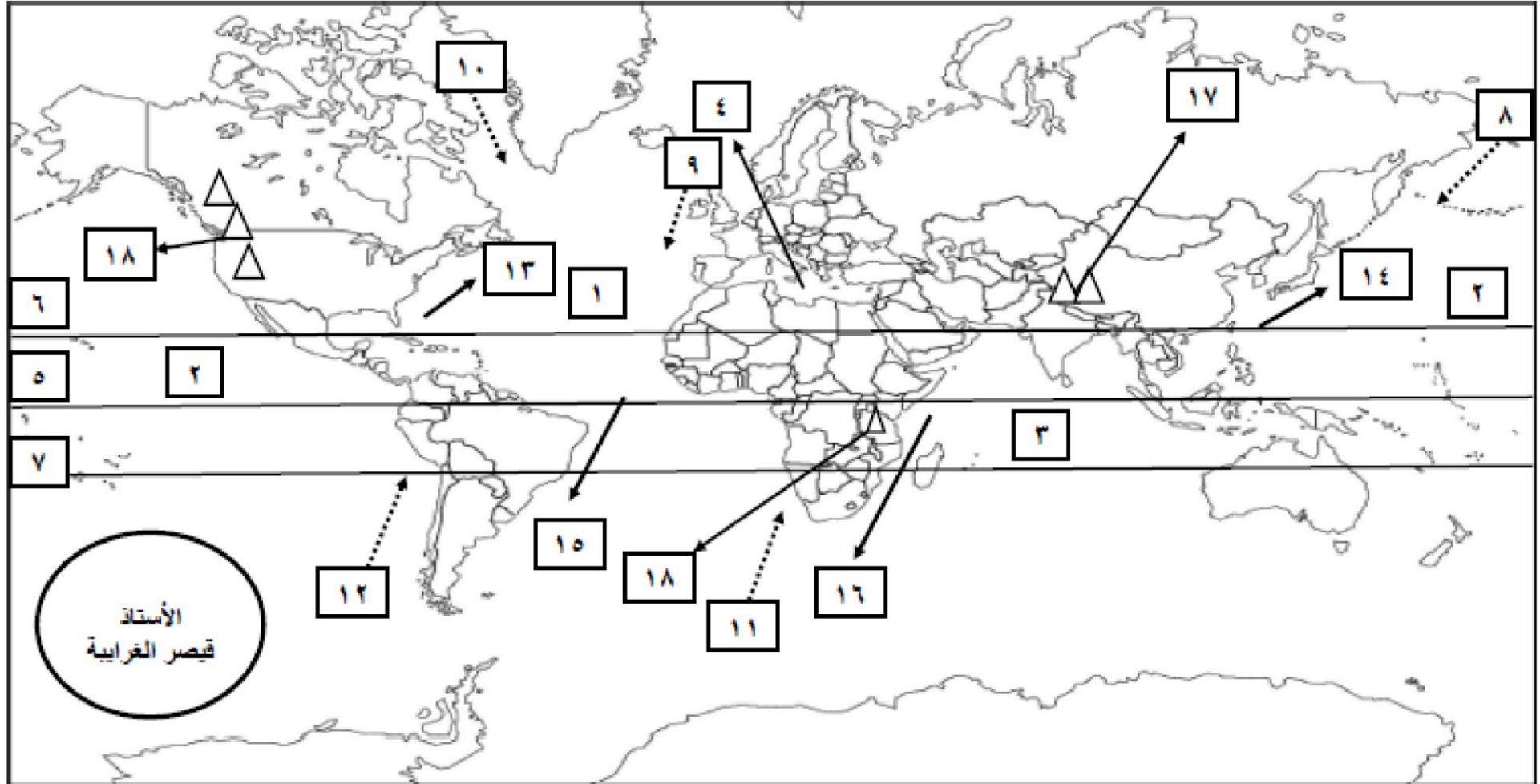


ورقة عمل في مهارات الخريطة / الفصل الدراسي الأول ٢٠١٨ / ٢٠١٩ م

الصف : الثاني الثانوي (الادبي)

المبحث : الجغرافيا (المستوى الثالث) (الفصل الأول)

النشاط الأول : انظر / انظري خريطة العالم الصماء ، ثم اكتب / اکتبي ما تشير إليه الارقام :



أ (مسطحات مائية (بحار ومحيطات) :

١. المحيط الاطلسي ٢. المحيط الهادي ٣. المحبط الهندي ٤. البحر المتوسط

ب (دوائر عرض رئيسة :

٥ . دائرة (خط) الاستواء ٦. مدار السرطان ٧. مدار الجدي

ج (تيارات بحرية باردة :

٨ . كمشتكا ٩ . كناري ١٠ . ليرادور ١١ . بنجويلا ١٢ . البيرو

د (تيارات بحرية دافئة :

١٣ . الخليج ١٤ . اليابان ١٥ . البرازيل ١٦ . موزنبيق

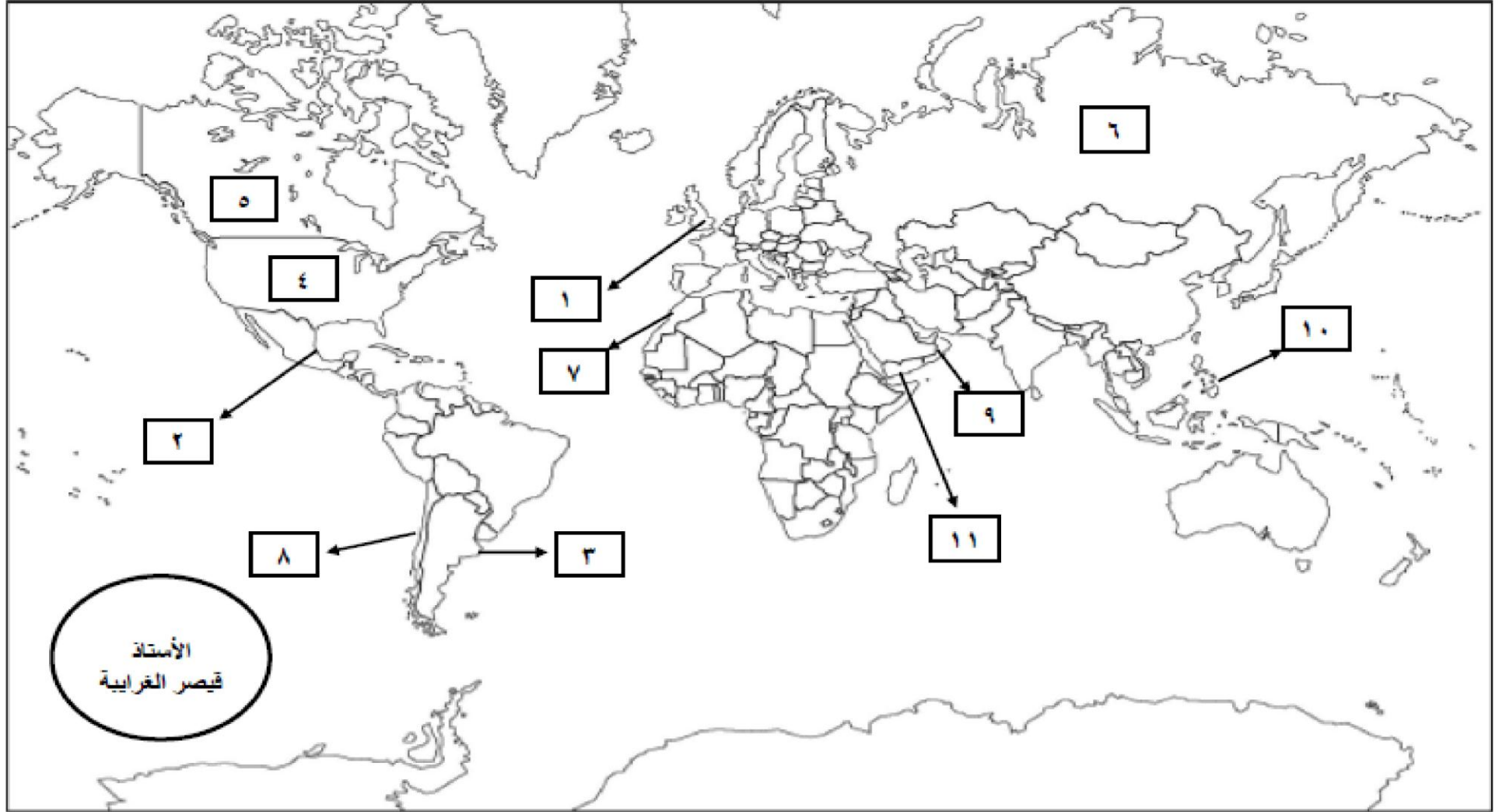
هـ (مرتفعات جبلية (جبل ، سلاسل جبلية) :

١٧ . جبال الهملايا ١٨ . جبال روكي ١٩ . جبل كلمنجارو (تنزانيا)

الأستاذ
قيصر الغرايبة

الأستاذ
قيصر الغرايبة

النشاط الثاني : انظر / انظري خريطة العالم الصماء ، ثم اكتب / اکتبي ما تشير إليه الارقام :



أ (مدن تتعرض لضباب دخاني :

١. لندن (بريطانيا)

٢. مكسيكو سيتي (المكسيك)

٣. بيونس ايرس (الارجنتين)

ب (دول تتعرض لكتل هوائية باردة :

٤ . الولايات المتحدة الامريكية

٥. كندا

٦. روسيا

ج (سواحل دول تتعرض لضباب البحر :

٧. مراكش

٨ . تشيلي

د (دولة عربية تعرضت لاعصار غونو عام ٢٠٠٧ م :

٩ . سلطنة عُمان

هـ (دولة تعرضت لاعصار هايان عام ٢٠١٣ م :

١٠. الفلبين

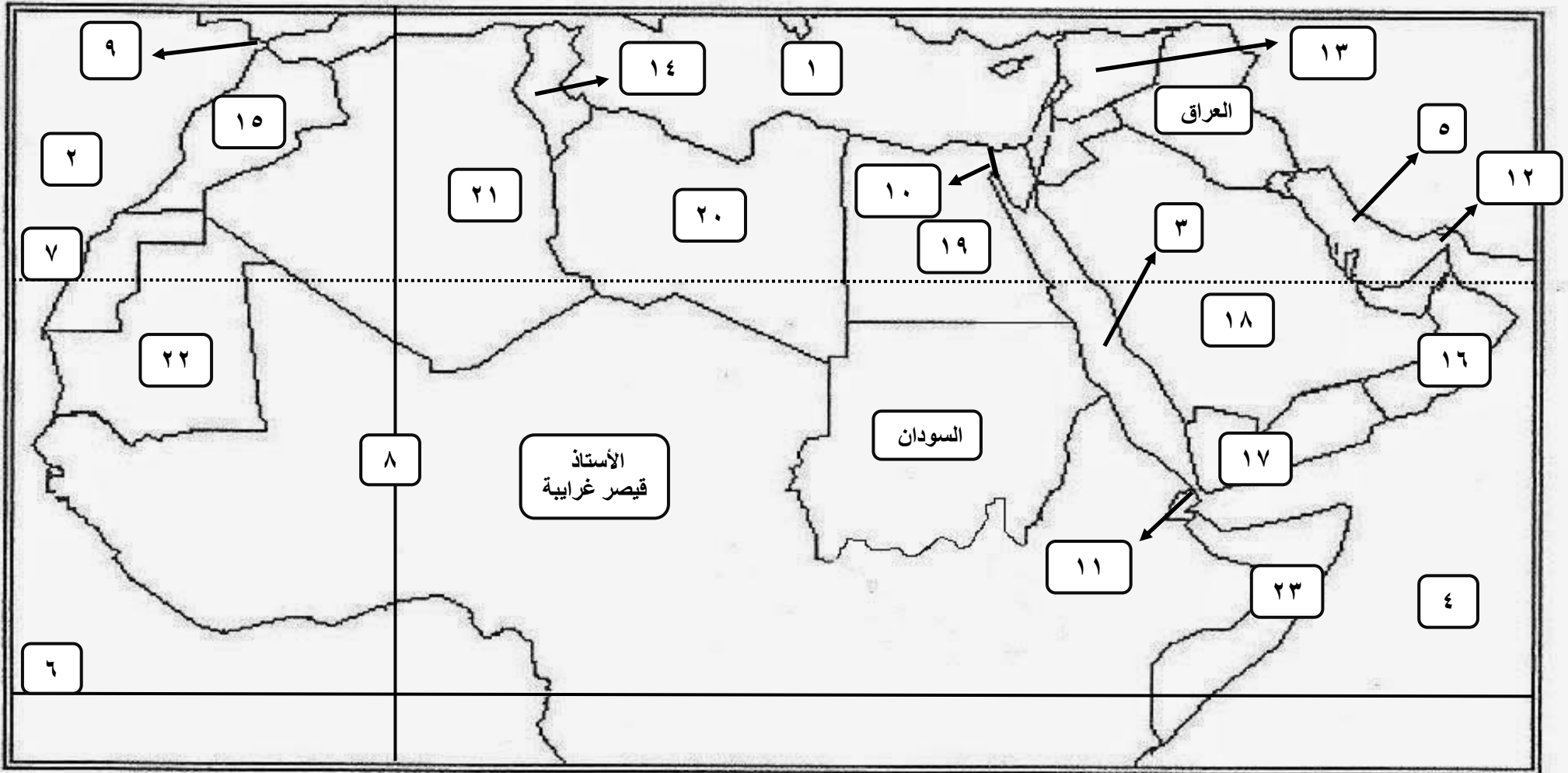
و (دولة عربية يسود فيها المناخ المداري الموسمي :

١١. اليمن

الأستاذ
قيصر الغرايبة

الأستاذ
قيصر الغرايبة

النشاط الثالث : انظر / انظري خريطة الوطن العربي الصماء ، ثم اكتب / اکتبي ما تشير إليه الارقام :



أ (مسطحات مائية (بحار ومحيطات) :

١. البحر المتوسط ٢. المحيط الاطلسي ٣. البحر الأحمر ٤. المحيط الهندي ٥. الخليج العربي

ب (دوائر عرض رئيسة :

٦. دائرة (خط) الاستواء ٧. مدار السرطان

ج (خط طول رئيسي :

٨. خط غرينتش

د (مضائق وممرات مائية :

٩. مضيق جبل طارق ١٠. قناة السويس ١١. مضيق باب المنذب ١٢. مضيق هرمز

هـ (دول يسود فيها مُناخ البحر المتوسط :

١٣. سوريا ١٤. تونس ١٥. المملكة المغربية

و (دول يسود فيها المُناخ المداري (الموسمي) :

١٦. سلطنة عُمان ١٧. اليمن

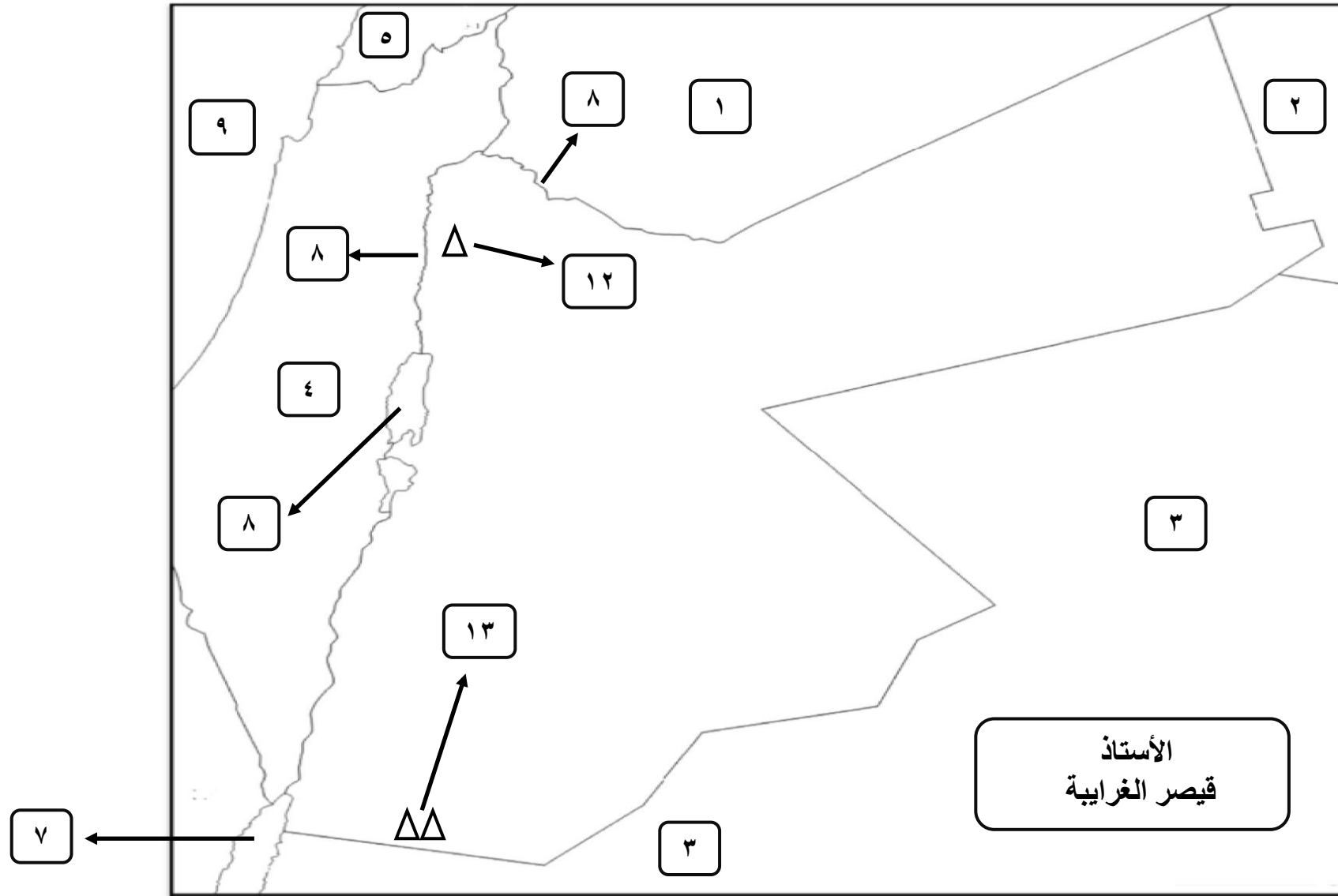
ز (دول يسود فيها المُناخ الصحراوي :

١٨. السعودية ١٩. مصر ٢٠. ليبيا ٢١. الجزائر ٢٢. موريتانيا ٢٣. الصومال

الأستاذ
قيصر الغرايبة

الأستاذ قيصر الغرايبة

النشاط الرابع : انظر / انظري خريطة الأردن الصماء ، ثم اكتب / اکتبي ما تشير إليه الارقام :



أ (دول مجاورة للأردن :

١. سوريا ٢. العراق ٣. المملكة العربية السعودية ٤. فلسطين

ب (دول قريبة من الأردن (ليس لها حدود مباشرة مع الأردن) :

٥. مصر ٦. لبنان

ج (مسطحات مائية :

٧. خليج العقبة (البحر الأحمر) ٨. البحر الميت

د (مسطح مائي تصل تأثيراته للأردن :

٩. البحر المتوسط

هـ (أنهار :

١٠. الأردن ١١. اليرموك

و (مدينة تمتاز بمعدل مطر عالٍ :

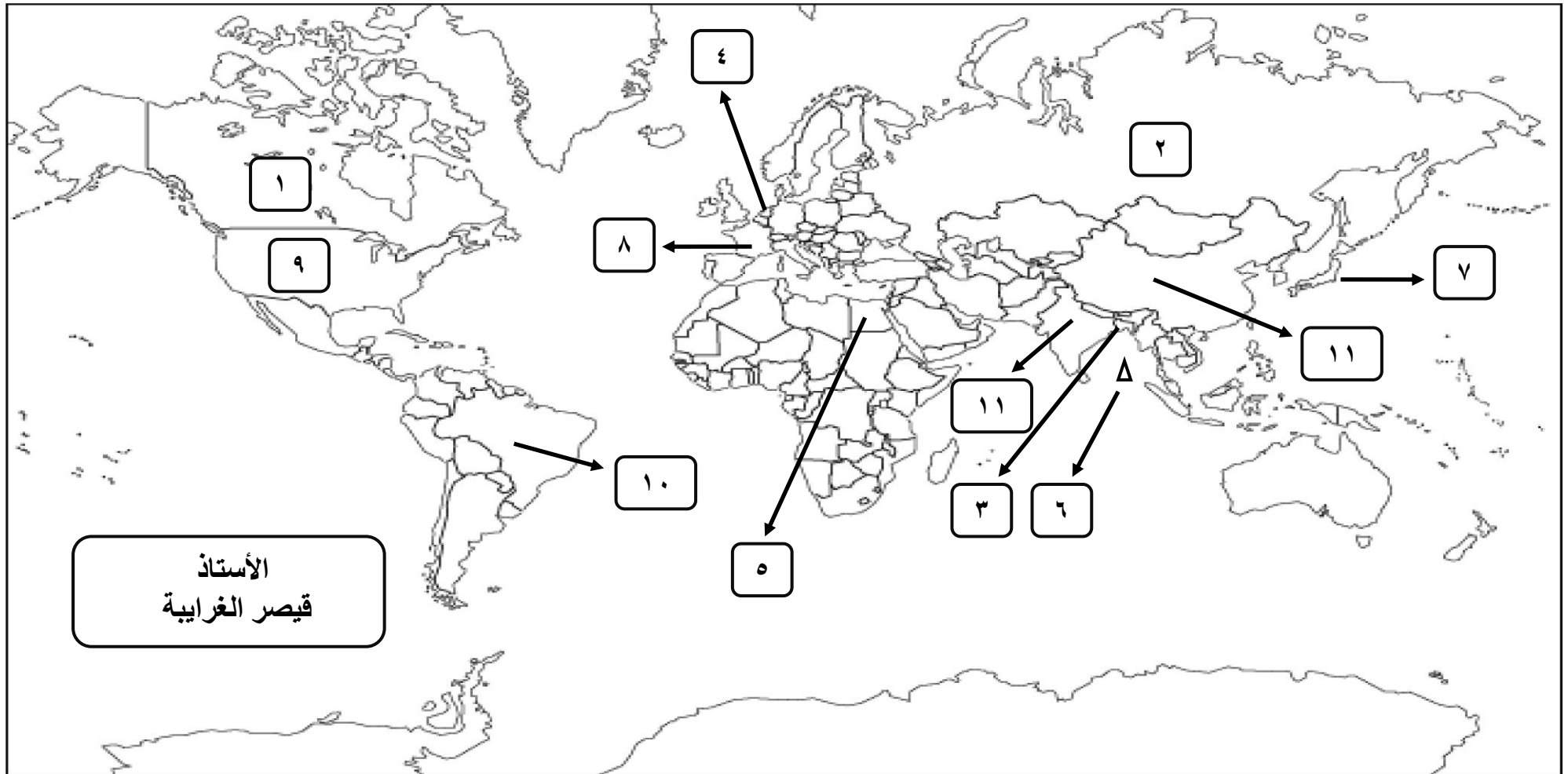
١٢. عجلون

ز (أعلى قمة جبلية في الأردن :

١٣. جبل أم الدامي (اقصى جنوب الأردن / محافظة العقبة)

الأستاذ قيصر الغرايبة

النشاط الخامس : انظر / انظري خريطة العالم الصماء ، ثم اكتب / اکتبي ما تشير إليه الارقام :



أ (دول تغلبت على عامل المناخ وانتجت القمح الربيعي :

١. كندا ٢. روسيا

ب (دول ستغمر مياه المحيطات اجزاء من سواحلها وجزر ستختفي بسبب التغير المناخي في نهاية القرن ٢١ :

٣. بنغلادش ٤. هولندا ٥. مصر ٦. جزر المالديف

ج (دولة تعرضت لهجوم نووي عام ١٩٤٥م (خلال الحرب العالمية الثانية) ، وعقد فيها مؤتمر لمناقشة القضايا البيئية عام ١٩٩٧ م :

٧. اليابان

د (دولة تنتج اكثر من ٥٠% من طاقتها الكهربائية من الطاقة النووية :

٨. فرنسا

هـ (دول منتجة للوقود الحيوي :

٩. الولايات المتحدة الأمريكية ١٠. البرازيل ١١. الصين

و (دولة تعتمد على انتاج الطاقة الكهربائية من طاقة الرياح :

١٢. الهند

الأستاذ
قيصر الغرايبة

ملحق الخرائط



