



الرياضيات

الصف الخامس - دليل المعلم

الفصل الدراسي الأول

5

فريق التأليف

د. عمر محمد أبوغليون (رئيسًا)

فدوى عادل الداودي

شادية صالح غرايبة

أحمد مصطفى سمارة

الناشر: المركز الوطني لتطوير المناهج

يسر المركز الوطني لتطوير المناهج استقبال آرائكم وملحوظاتكم على هذا الدليل عن طريق العناوين الآتية:

☎ 06-5376262 / 237 📠 06-5376266 ✉ P.O.Box: 2088 Amman 11941

📌 @nccdjor 📧 feedback@nccd.gov.jo 🌐 www.nccd.gov.jo

قررت وزارة التربية والتعليم استخدام هذا الدليل في مدارس المملكة الأردنية الهاشمية جميعها، بناء على قرار المجلس الأعلى للمركز الوطني لتطوير المناهج في جلسته رقم (2020/6)، تاريخ 2020/9/24 م، وقرار مجلس التربية والتعليم رقم (2020/130) تاريخ 2020/11/14 م بدءاً من العام الدراسي 2020 / 2021 م.

© HarperCollins Publishers Limited 2020.

- Prepared Originally in English for the National Center for Curriculum Development. Amman - Jordan

- Translated to Arabic, adapted, customised and published by the National Center for Curriculum Development. Amman - Jordan

ISBN: 978 - 9923 - 41 - 097 - 4

المملكة الأردنية الهاشمية
رقم الإيداع لدى دائرة المكتبة الوطنية
(2020/10/4541)

372.7

الأردن. المركز الوطني لتطوير المناهج

دليل المعلم: الرياضيات: الصف الخامس / المركز الوطني لتطوير المناهج - عمان: المركز، 2020

ج 1 (237) ص.

ر.إ.: 2020/10/4541

الواصفات: / تدريس الرياضيات / المقررات الدراسية / التعليم الابتدائي /

يتحمل المؤلف كامل المسؤولية القانونية عن محتوى مصنفه ولا يعتبر هذا المصنف عن رأي دائرة المكتبة الوطنية.



All rights reserved. No part of this publication may be reproduced, sorted in retrieval system, or transmitted in any form by any means, electronic, mechanical, photocopying, recording or otherwise, without the prior written permission of the publisher or a license permitting restricted copying in the United Kingdom issued by the Copyright Licensing Agency Ltd, Barnard's Inn, 86 Fetter Lane, London, EC4A 1EN.

British Library Cataloguing -in- Publication Data

A catalogue record for this publication is available from the Library.

المقدمة

يسرُّ المركز الوطني لتطوير المناهج أن يُقدِّم للمُعَلِّمين والمُعَلِّمات هذه الطبعة من دليل المُعَلِّم للصف الخامس، أملًا أن تكون لهم مُرشدًا وداعمًا في تدريس الطلبة وتقويمهم، بما يُحقِّق الأهداف المنشودة من تدريس كتب الرياضيات المُطوَّرة.

يحتوي دليل المُعَلِّم على جميع المصادر التي تُلزم المُعَلِّم / المُعَلِّمة، بدءًا بالنسخ المُصَغَّرة من كتابي الطالب والتمارين، وانتهاءً بإجابات ما ورد فيهما من تدريبات ومسائل؛ ما يُغني عن حمل هذين الكتابين إلى الغرفة الصفية. وكذلك يحتوي الدليل على جميع أوراق المصادر المشار إليها في الدروس، ويُمكن للمُعَلِّم / المُعَلِّمة تصوير نسخ منها للطلبة؛ ما يُوفِّر عليهما جُهد إعداد هذه الأوراق. استُهِلَّ الدليل بالصفحات التي تحمل عنوان «أهلاً بك في مناهج الرياضيات المُطوَّرة»، وتعرض العناصر الرئيسة في كلِّ من كتابي الطالب والتمارين ودليل المُعَلِّم، وتُبيِّن النهج المُعتمَد في كلِّ منها بطريقة مُبسَّطة؛ لذا يجدر بالمُعَلِّم / المُعَلِّمة قراءة هذه الصفحات بتروٍّ وتدبُّرٍ قبل البدء باستعمال الدليل.

روعي في إعداد الدليل تقديم خطة واضحة لسير الدرس، بدءًا بمرحلة التمهيد، ومرورًا بمراحل الاستكشاف، والتدريس، والتدريب، والإثراء، وانتهاءً بمرحلة الختام، إلى جانب إرشادات تساعد المُعَلِّم / المُعَلِّمة على التخطيط الزمني للمهام في كل مرحلة، وتوظيف مختلف أدوات التدريس والتقويم التي يتضمَّنها المنهاج المُطوَّر، فضلًا عن الأخطاء المفاهيمية الشائعة والإرشادات للمُعَلِّمين / للمُعَلِّمات حول كيفية معالجتها.

يُقدِّم الدليل أيضًا مقترحات لتنويع التعليم تساعد المُعَلِّم / المُعَلِّمة على التعامل مع الطلبة كافةً، على اختلاف مستوياتهم الدراسية وأنماط تعلُّمهم؛ انسجامًا مع الاتجاهات الحديثة في تعلُّم الرياضيات وتعليمها. ولأنَّ الموضوعات الرياضية بعضها مبني على بعض؛ فقد قدِّم الدليل نتائج التعلُّم السابق ونتائج التعلُّم اللاحق في بداية كل وحدة، فضلًا عن أدوات تشخيص ومعالجة مناسبة، تساعد المُعَلِّم / المُعَلِّمة على معالجة الضعف لدى الطلبة، وتهيئتهم للتعلُّم الحالي. يضاف إلى ذلك أنَّ تعرُّف المُعَلِّم / المُعَلِّمة جميع الموضوعات الرياضية التي سوف يدرسها الطلبة في صفوف لاحقة (التعلُّم اللاحق) يُوفِّر له/ لها تصوُّرًا كافيًا عنها، ويجعل تخطيط الدروس أكثر دقَّةً.

ونحن إذ نُقدِّم هذا الدليل، فإنَّا نُؤمِّل أن ينال إعجاب زملائنا وزميلاتنا من المُعَلِّمين والمُعَلِّمات ويكون خير معين لهم/ لهن، ويجعل تعليم الرياضيات أكثر متعةً وسهولةً.

قائمة المحتويات

28A	الوحدة ② الضرب والقسمة
28B	مخطط الوحدة
28	نظرة عامة حول الوحدة
29	مشروع الوحدة: أنا عالم صغير
29A	أستعد لدراسة الوحدة
30	الدرس 1 الضرب الذهني
34	الدرس 2 تقدير نواتج الضرب
38	الدرس 3 الضرب في عدد من منزلة واحدة
42	الدرس 4 الضرب في عدد من منزلتين
46	الدرس 5 تقدير ناتج القسمة
49	الدرس 6 القسمة من دون باق
52	الدرس 7 القسمة مع باق
56	اختبار الوحدة
57A	كتاب التمارين
58A	الوحدة ③ خصائص الأعداد
58B	مخطط الوحدة
58	نظرة عامة حول الوحدة
59	مشروع الوحدة: أنا نجار
59A	أستعد لدراسة الوحدة
60	الدرس 1 قابلية القسمة على 4, 6, 9
63	نشاط مفاهيمي: العوامل المشتركة
64	الدرس 2 تحليل العدد إلى عوامله الأولية
67	الدرس 3 العامل المشترك الأكبر
70	الدرس 4 المضاعف المشترك الأصغر
73	الدرس 5 مربع العدد والجذر التربيعي
76	اختبار الوحدة
77A	كتاب التمارين
77D	ملحق الإجابات

$a-l$	أهلا بك في مناهج الرياضيات المطورة
6A	الوحدة ① الأعداد: جمعها وطرحها
6B	مخطط الوحدة
6	نظرة عامة حول الوحدة
7	مشروع الوحدة: الرياضيات والاجتماعيات
7A	أستعد لدراسة الوحدة
8	الدرس 1 القيمة المنزلية ضمن الملايين
12	الدرس 2 مقارنة الأعداد وترتيبها
16	الدرس 3 جمع الأعداد الكلية وطرحها
20	الدرس 4 الأعداد السالبة
24	الدرس 5 خطة حل المسألة: أنشئ جدولا
26	اختبار الوحدة
27A	كتاب التمارين
27D	ملحق الإجابات



قائمة المحتويات

116A	الوحدة 5 تمثيل البيانات وتفسيرها
116B	مخطط الوحدة
116	نظرة عامة حول الوحدة
117	مشروع الوحدة: صحة ذوي القربى
117A	أستعد لدراسة الوحدة
118	الدرس 1 السؤال الإحصائي
121	الدرس 2 المستوى الإحداثي
125	الدرس 3 التمثيل بالخطوط
129	الدرس 4 التمثيل بالخطوط المزدوجة
133	الدرس 5 التمثيل بالأعمدة المزدوجة
137	اختبار الوحدة
138A	كتاب التمارين
138D	ملحق الإجابات
A1-A20	أوراق المصادر

78A	الوحدة 4 الكسور والعمليات عليها
78B	مخطط الوحدة
78	نظرة عامة حول الوحدة
79	مشروع الوحدة: الكسور والوقت
79A	أستعد لدراسة الوحدة
80	الدرس 1 الأعداد الكسرية
84	نشاط مفاهيمي: جمع الكسور والأعداد الكسرية
86	الدرس 2 جمع الكسور
89	نشاط مفاهيمي: طرح الكسور والأعداد الكسرية
91	الدرس 3 طرح الكسور
	نشاط مفاهيمي: ضرب عدد كلي في كسر أو عدد كسري
95	الدرس 4 ضرب عدد كلي في كسر
100	نشاط مفاهيمي: ضرب كسر في كسر
101	الدرس 5 ضرب الكسور
105	الدرس 6 قسمة عدد كلي على كسر
110	الدرس 6 قسمة كسر على عدد كلي
114	اختبار الوحدة
115A	كتاب التمارين



أهلاً بك

في مناهج الرياضيات المطوّرة .



عزيزي المُعلِّم/ عزيزتي المُعلِّمة، يسرُّنا في هذه المُقدِّمة أن نُبيِّن الأسس العلمية والتربوية التي قامت عليها مناهج الرياضيات المُطوّرة بطريقة مُبسّطة، وذلك بعرض بعض العناصر من كتاب الطالب، وكتاب التمارين، ودليل المُعلِّم، التي تتجلّى فيها تلك الجوانب العلمية والتربوية بوضوح. ونحن إذ نعرض هذه المُقدِّمة فإننا نأمل أن تكون مُعينةً على فهم كيفية استعمال المناهج المُطوّرة، وتوظيفها بصورة صحيحة داخل غرفة الصف، بما يُحقِّق الفائدة المنشودة منها.

تتناول المقدمة الجوانب الآتية:

1. خطة الخطوات الست لتدريس الرياضيات.

2. أنواع التقويم، وأدواته.

3. تعزيز لغة الرياضيات وإثراؤها.

4. بعض استراتيجيات التعلُّم:

• التعلُّم القائم على المشاريع.

• التعلُّم باستعمال التكنولوجيا.

• الخطوات الأربع لحلّ المسألة (خطة حلّ المسألة).

• التعلُّم بالاستكشاف.

5. مهارات التفكير العليا.

6. الوصول إلى الطلبة كافةً.

7. مراجعة التعلُّم القبلي ومعالجة الفاقد التعليمي.

وفي نهاية هذه المقدمة بعض استراتيجيات التدريس الشائعة؛ لتكون مرجعاً، ومُعينةً عند التخطيط لتقديم الدروس.

خطة الخطوات الست لتدريس الرياضيات:

1

يُقدّم هذا الدليل خطة واضحة لسير الدرس، تحوي ست خطوات (مراحل)، هي: التهيئة، والاستكشاف، والتدريس، والإثراء، والختام. وتتضمّن كل خطوة من هذه الخطوات مقترحات وإرشادات تساعد على تقديم الدرس بنجاح.

1 التهيئة

تهدف هذه المرحلة إلى تهيئة الطلبة لموضوع الدرس، ولكن دون ذكر لأيّ من أفكاره، وتوجد في هذا الدليل مقترحات تعين على تقديم التهيئة بنجاح في بند (التهيئة). قد يحوي هذا البند نشاطاً مبنياً على معرفة الطلبة السابقة؛ لذا يمكن في أثناء هذه المرحلة رصد بعض الأخطاء المفاهيمية وتصحيحها قبل بدء الدرس.

2 الاستكشاف

تهدف هذه المرحلة إلى إثارة فضول الطلبة لموضوع الدرس، ولكن دون تقديم معلومات جاهزة لهم؛ إذ يتعيّن عليك في هذه المرحلة أداء دور تيسير التعلّم، وذلك بتوجيه الطلبة إلى قراءة المسألة الواردة في فقرة (أستكشف) من كتاب الطالب، ومنحهم وقتاً كافياً لدراستها والتفكير فيها، ثم الطلب إليهم الإجابة عن الأسئلة المقترحة في بند (الاستكشاف) من هذا الدليل. ليس شرطاً أن يتمكن الطلبة من الإجابة عن هذه الأسئلة بصورة صحيحة؛ لذا عليك تقبّل الإجابات، ثم النظر فيها لاحقاً بعد انتهاء الدرس، والتأكد من صحتها، علماً بأنّ تمارين بعض الدروس تُحيل الطلبة إلى المسألة في فقرة (أستكشف)؛ لحلها في نهاية الدرس.

3 التدريس

من المُتوقَّع أن تؤدي مرحلة (الاستكشاف) إلى حدوث حالة من عدم التوازن في المفاهيم لدى الطلبة، فتبدأ مرحلة (التعلّم) في إعادة التوازن لديهم، للتمكن من تكوين خبرات مشتركة مُحدّدة تساعد على إدراك المفاهيم، وإتقان العمليات والمهارات. تستغرق هذه المرحلة كثيراً من وقت الدرس؛ فهي تشمل تقديم فقرات الشرح، وأمثلة الدرس جميعها؛ لذا يتعيّن الاستعانة بالإرشادات الواردة في بند (التدريس) من هذا الدليل؛ للتمكن من تنفيذ هذه المرحلة المهمة بنجاح.

4 التدريب

في هذه المرحلة يتدرَّب الطلبة على أنواع مختلفة من المسائل المجرَّدة والحياتية في فقرة (أدرَّب وأحلُّ المسائل) وفقرة (مهارات التفكير العليا) داخل غرفة الصف؛ لترسيخ المفاهيم الجديدة، وزيادة الطلاقة الإجرائية لديهم. قد يُكَمِّل الطلبة هذه المرحلة في المنزل. وكذلك التدريبات والمسائل الواردة في الصفحة المقابلة للمدرس في كتاب التمارين.

5 الإثراء

تُعَدُّ توسعة المفاهيم والعمليات والمهارات الهدف الأساس لهذه المرحلة، ويتمثَّل ذلك في إشراك الطلبة في مهام تتضمن مفاهيم وعمليات أوسع وأكثر عمقًا. تُوفَّر مناهج الرياضيات المُطَوَّرَة مصادر عدَّة لإثراء الطلبة ذوي المستوى فوق المُتوسِّط، منها بند الإثراء في هذا الدليل، الذي يحوي مسألة، أو نشاطًا صفيًّا، أو نشاطًا حاسوبيًّا، إضافةً إلى مشروع الوحدة الذي يثري معرفة الطلبة بموضوعات الوحدة.

4 التدريب

أدرَّب وأحلُّ المسائل:

أرَّجِه الطلبة إلى فقرة (أدرَّب وأحلُّ المسائل)، ثم اطلب إليهم حل المسائل (11-1) ضمن مجموعات ثنائية داخل الغرفة الصفية، فهذه المسائل تحلِّياً، ترتبط ارتباطاً مباشراً بأجوبة الدرس، وهي تستعمل خاصةً لتدريب الطلبة على المفاهيم نفسها، بصرف النظر عما إذا كانت الأسئلة فريدة أم زوجية.

إذا واجه الطلبة صعوبة في حل أي مسألة، ولتسَّي اختيار أحد الطلبة بشرحٍ مختصر/ تتكلمت من حل المسألة، لمناقشة استراتيجياتها واستراتيجياتها في حل المسألة على اللوح، مُعَيِّنُ الطلبة على طرح أي تساؤل من خطوات الحل المُتَّمة من التمرين/ الزمينة.

مهارات التفكير العليا:

- أرَّجِه الطلبة إلى فقرة (مهارات التفكير العليا)، ثم اطلب إليهم حل المسائل (17 - 16).
- أرشد إلى افتراض غير تقليدي من الطلبة، ثم اطلب إلى هؤلاء الطلبة كتابة هذه الأفكار على اللوح.
- أقترح سؤال 16 اكتشف الخطأ، لمساعدة الطلبة ذوي المستوى دون المتوسط، بأن أسأل الطلبة عن عدد المنازل في الصيغة القياسية للمعد، ومقارنتها بالصيغة التحليلية لاكتشاف الخطأ.
- في سؤال 17، فبر، أريد أبعاد الطلبة بأن اطلب إليهم كتابة القيمة العددية في المخرجين لتبرير الإجابة.

10

10

أرَّجِه الطلبة إلى فقرة (مهارات التفكير العليا)، ثم اطلب إليهم حل المسائل (17 - 16).

أرشد إلى افتراض غير تقليدي من الطلبة، ثم اطلب إلى هؤلاء الطلبة كتابة هذه الأفكار على اللوح.

أقترح سؤال 16 اكتشف الخطأ، لمساعدة الطلبة ذوي المستوى دون المتوسط، بأن أسأل الطلبة عن عدد المنازل في الصيغة القياسية للمعد، ومقارنتها بالصيغة التحليلية لاكتشاف الخطأ.

في سؤال 17، فبر، أريد أبعاد الطلبة بأن اطلب إليهم كتابة القيمة العددية في المخرجين لتبرير الإجابة.

مهارات التفكير العليا:

- أرَّجِه الطلبة إلى فقرة (مهارات التفكير العليا)، ثم اطلب إليهم حل المسائل (17 - 16).
- أرشد إلى افتراض غير تقليدي من الطلبة، ثم اطلب إلى هؤلاء الطلبة كتابة هذه الأفكار على اللوح.
- أقترح سؤال 16 اكتشف الخطأ، لمساعدة الطلبة ذوي المستوى دون المتوسط، بأن أسأل الطلبة عن عدد المنازل في الصيغة القياسية للمعد، ومقارنتها بالصيغة التحليلية لاكتشاف الخطأ.
- في سؤال 17، فبر، أريد أبعاد الطلبة بأن اطلب إليهم كتابة القيمة العددية في المخرجين لتبرير الإجابة.

10

11

أرَّجِه الطلبة إلى فقرة (مهارات التفكير العليا)، ثم اطلب إليهم حل المسائل (17 - 16).

أرشد إلى افتراض غير تقليدي من الطلبة، ثم اطلب إلى هؤلاء الطلبة كتابة هذه الأفكار على اللوح.

أقترح سؤال 16 اكتشف الخطأ، لمساعدة الطلبة ذوي المستوى دون المتوسط، بأن أسأل الطلبة عن عدد المنازل في الصيغة القياسية للمعد، ومقارنتها بالصيغة التحليلية لاكتشاف الخطأ.

في سؤال 17، فبر، أريد أبعاد الطلبة بأن اطلب إليهم كتابة القيمة العددية في المخرجين لتبرير الإجابة.

مهارات التفكير العليا:

- أرَّجِه الطلبة إلى فقرة (مهارات التفكير العليا)، ثم اطلب إليهم حل المسائل (17 - 16).
- أرشد إلى افتراض غير تقليدي من الطلبة، ثم اطلب إلى هؤلاء الطلبة كتابة هذه الأفكار على اللوح.
- أقترح سؤال 16 اكتشف الخطأ، لمساعدة الطلبة ذوي المستوى دون المتوسط، بأن أسأل الطلبة عن عدد المنازل في الصيغة القياسية للمعد، ومقارنتها بالصيغة التحليلية لاكتشاف الخطأ.
- في سؤال 17، فبر، أريد أبعاد الطلبة بأن اطلب إليهم كتابة القيمة العددية في المخرجين لتبرير الإجابة.

11

6 الختام

هي المرحلة الأخيرة من مراحل تقديم الدرس، وتهدف إلى تجميع الأفكار المختلفة التي تضمَّنها الدرس، ثم عرضها بصورة مترابطة، فضلاً عن اشتغالها على مقترحات تساعد على تقديم هذه المرحلة بنجاح.

أنواع التقويم وأدواته:

2

التقويم جزء لا يتجزأ من عملية التعلُّم؛ فهو يُؤاكَب جميع خطواتها، ويضمن استمرارها وصولاً إلى تحقيق الهدف. يُعرِّف التقويم بأنَّه عملية تُستعمل فيها معلومات من مصادر مُتعدِّدة للوصول إلى حكم عن تحصيل الطلبة الدراسي. وقد أبرزت مناهج الرياضيات المُطوَّرة ثلاثة أنواع مختلفة من التقويم، هي: **التقويم القبلي، والتقويم التكويني، والتقويم الختامي.**

أ التقويم القبلي:

يهدف هذا النوع من التقويم إلى تحديد مدى امتلاك الطلبة المعرفة السابقة اللازمة لدراسة الموضوع الجديد؛ ما يساعد على تحديد ما يلزم الطلبة من معالجات تتمثَّل في مصادر التعلُّم الإضافية. تحتوي مناهج الرياضيات المُطوَّرة على أداة تقويم قبلي في بداية كل وحدة، وهي موجودة في كتاب التمارين بعنوان (أستعد لدراسة الوحدة).

الوحدَة 1
أستعد لدراسة الوحدَة

تحديد القيمة المئويَّة لِرقم في عدد (الدرس 1)
أكتب القيمة المئويَّة لِرقم الذي تحته خطٌّ في كلِّ مما يأتي:

1 991064 2 71612
3 452001 4 202338

مثال: أعدد القيمة المئويَّة لِرقم الذي تحته خطٌّ في العدد 312579

المرتبة	أحاد	عشرات	مئات	أحاد	عشرات	مئات	أحاد	عشرات	مئات
1	9	7	5	2	1	3	1	0	3

أضع أضعافاً بدلاً من الأرقام الواقعة على يساره.

إذًا: القيمة المئويَّة لِرقم 1 هي 10000، ولأنه يقع في مرتبة عشرات الألف.

كتابة عدد بالصفين: القياسي والتحليلي (الدرس 1)
أكتب العدد بالصفين القياسي والتحليلي في كلِّ مما يأتي:

1 يتكون من مئة وثمانون ألفاً وثمانمائة وأربعة وأربعون.
2 يتكون من ألف وثمانمائة وأربعة وأربعون.

6

ب التقويم التكويني:

يحدث هذا النوع من التقويم في أثناء عملية التدريس، ويهدف إلى متابعة تعلُّم الطلبة أوَّلاً بأوَّل، والتأكد أنَّ العملية التعليمية التعلُّمية تسير في اتجاه تحقيق أهدافها المنشودة، وأنَّه لا يوجد انحراف عن مسارها؛ ما يساعد على اتخاذ القرارات الصحيحة، مثل: الاستمرار في عملية التدريس، أو التعديل عليها، أو النظر فيها من جديد. من أدوات التقويم التكويني: الأسئلة الشفوية، والملاحظات غير الرسمية، والاختبارات القصيرة.

تحتوي مناهج الرياضيات المُطوَّرة على أدوات للتقويم التكويني في كل درس، تتمثَّل في مسائل بند (أتحقِّق من فهمي) التي تلي كل مثال.

الوحدَة 1

أتحقِّق من فهمي:
أكتب القيمة المئويَّة لِرقم الذي تحته خطٌّ في العدد 783596015

إنَّ كتابة العدد بالصفين القياسي تعني كتابته باستخدام أرقام، أما كتابته بالصفين اللغوي، فتعني كتابته بالكلمات. وأما الصفين التحليلي، فتعني كتابته بالصفين القياسي والتحليلي في كلِّ رقم في العدد.

مثال 2: من الحياة

الأرض: المسافة بين الأرض والشمس 149598428 km تقريباً. أكتب هذا العدد بالصفين اللغوي والتحليلي. استعين بأدوية المناديل.

دورة الأعداد			دورة الألف			دورة الملايين		
أحاد	عشرات	مئات	أحاد	عشرات	مئات	أحاد	عشرات	مئات
8	2	4	8	9	5	9	4	1

الصفين اللغوي: مئة وستة وأربعون ألفاً وثمانمائة وأربعة وأربعون.
الصفين التحليلي: 80000 + 20000 + 40000 + 8000 + 90000 + 50000 + 90000 + 4000000 + 100000000

أتحقِّق من فهمي:
عطارد: بعد عطارد أصغر كواكب المجموعة الشمسيَّة وأقربها إلى الشمس، إذ تبلغ المسافة بينه وبين الشمس 57909050 km تقريباً. أكتب هذا العدد بالصفين اللغوي والتحليلي.

9

أتحقِّق من فهمي:

عطارد: بعد عطارد أصغر كواكب المجموعة الشمسيَّة وأقربها إلى الشمس، إذ تبلغ المسافة بينه وبين الشمس 57909050 km تقريباً. أكتب هذا العدد بالصفين اللغوي والتحليلي.

ج. التقييم الختامي:

يأتي هذا التقييم في نهاية عملية التدريس، أو في نهاية الوحدة الدراسية. وهو يساعد على تحديد مدى إتقان الطلبة للمفاهيم والمهارات التي تم تقديمها لهم.

تُوفّر المناهج المُطوّرة أداة للتقييم الختامي في كل وحدة، تتمثل في بند (اختبار نهاية الوحدة) الذي يحوي مسائل مُتنوّعة تشمل نتائج الوحدة كلها.

اختبار نهاية الوحدة

أسئلة موضوعية

1. اختار الإجابة الصحيحة في كل مما يأتي:
 العدد الذي يمثل $8000000 + 90000 + 400 + 7$ هو:
 a) 8479 b) 89407
 c) 8090407 d) 8009407

2. القيمة العددية للرقم 7 في العدد 3047002 هي:
 a) 700 b) 7000
 c) 7 d) 70000

3. أقلّ عدد ناتج عن جمع $692312 + 1580044$ هو:
 a) 2000000 b) 1000000
 c) 3000000 d) 2700000

4. العدد 2 مايو + 3 نيسان + 5 أيار + 6 حزيران يساوي:
 a) 6532 b) 65302
 c) 65032 d) 6005302

5. الرقم الذي يقع في منزلة مئات الألف في العدد 2345678 هو:
 a) 2 b) 3
 c) 4 d) 6

6. الصيغة القياسية للعدد الآتي: خمسين مليون وستة آلاف وستة مئة:
 a) 8000010007 b) 81000007
 c) 8100007 d) 8170000

7. الصيغة العددية للعدد 6058000 هي:
 a) $60 + 50 + 8$
 b) $600000 + 50000 + 8000$
 c) $6000000 + 50000 + 8000$
 d) $8000 + 500 + 6$

8. أفرق بين العددين باستخدام الرمز ($>$ أو $<$ أو $=$):
 932157 3402018

9. أكمل العدد في خط الأعداد:
 4263751 4208753

10. اكتب العدد في خط الأعداد:
 6 5 4 3 2 1 0 1 2 3 4 5 6

أسئلة ذات إجابة قصيرة:

11. $3124560 + 2729801$

12. $7320250 - 4270016$

26

3 تعزيز لغة الرياضيات وإثراؤها:

تُعَدُّ المصطلحات إحدى ركائز تعلّم الرياضيات؛ فهي الوعاء الذي يحمل المعاني الرياضية، وينقلها بين المسائل والسياقات المختلفة. ولهذا أبرزت مناهج الرياضيات المطورة المصطلحات الرياضية التي يتعرّفها الطلبة أول مرّة، وميّزتها بلون مختلف داخل نصوص الشرح، وأوردت مرادفات من اللغة الإنجليزية بهدف إثراء معرفة الطلبة.

تحت سابقاً أن كل 3 أرقام تُكوّن دورة الآحاد، والأرقام الثلاثة التي يسبقها تُكوّن دورة الآلاف، والأرقام الثلاثة التي تسبقها تُكوّن دورة الملايين (millions period).

تحتدّد القيمة المنزلية لكل رقم في العدد، وتُستعمل لوصف القيمة المنزلية.

أقرأ أعداءاً يستحقّون: ما القيمة العددية للرقم في العدد 10579747؟
 قسّموا: جوائز الإحصاءات المالية.

الملاحظات: دورة الملايين

تعلم: تجلّست سابقاً أن كل 3 أرقام في العدد تُكوّن دورة الآحاد، والأرقام الثلاثة التي تسبقها تُكوّن دورة الآلاف، والأرقام الثلاثة التي تسبقها تُكوّن دورة الملايين (millions period).

تحتدّد القيمة المنزلية لكل رقم في العدد، وتُستعمل لوصف القيمة المنزلية.

مثال: اكتب القيمة العددية للرقم الذي تحتلّه خطّ في العدد 2051841
 تحتدّد القيمة المنزلية للرقم 5 في العدد 2051841 كالتالي في لوحة المتاريل:

دورة الآحاد	دورة الآلاف	دورة الملايين
1	8	2

4 بعض استراتيجيات التعلّم:

أ التعلّم القائم على المشاريع.

يُعَدُّ التعلّم القائم على المشاريع أحد أساليب التعلّم الحديثة التي تدمج بين المعرفة والتطبيق؛ إذ يمكن للطلبة دراسة معارف المناهج الدراسية الأساسية، ثم تطبيقها في حلّ مشكلات حقيقية وصولاً إلى نتائج قابلة للتطبيق. تساعد هذه الطريقة الطلبة على تنمية قدراتهم ومهاراتهم؛ فهي تراعي الفروق الفردية بينهم، وتُمنّي لديهم الثقة بالنفس، وتُحفّزهم على الإبداع، والتواصل، والابتكار، وتحمل المسؤولية، وتُعدهم للحياة، وتحثهم على العمل والإنتاج.

مشروع الوحدة: الرياضيات والاجتماعيات

استعدّ ووثّق (أرسل) تنفيذ مشروعك الخاص الذي سألتك عليه في حصة الوحدة، لأخبرك بخلواتك عن مساهمة وعدد سكان 4 دول عربية.

خطوات تنفيذ المشروع:

1. اكتب في كتابك الاجتماعيات أو الإنشائية، عن بيانات عدد مساهمة وعدد سكان 4 دول عربية، وأدخل بياناتك في جدول مشابه للجدول أدناه:

الدولة	عدد السكان	المساهمة (km ²)

2. اكتب البيانات التي جمعتها حول مساهمة وعدد سكان الدول الأربع في بطاقتي، كما يأتي:

• استخّر 4 بطاقات على كل منها لوحة قيمة منزلية مختصّ بها عدد سكان كل دولة. أرسم على لوحة الآخر لمطابق علم تلك الدولة.

عروض المتاريل:

- استخّر بطاقة عابسة، وأكتب عليها عدد السكان للدول الأربع كترتيب تصاعدي.
- استخّر بطاقة سادسة، وأكتب عليها تقدير مجموع مساحات الدول الأربع.
- استخّر بطاقة سابعة، وأكتب عليها نتائج طرح المساهمة الأقل من المساهمة الأكبر.

عروض المتاريل:

- استخّر لوحة ذات 4 مجوهر، وأكتب على كل بطاقة القيمة العددية التي تعكس في أحد هذه الجواهر، والبطاقات الثلاث الأخرى في الجيوب البقية. اكتب عنواناً أسفل كل جيب.
- اكتب أسفل الوحدة:
 - المصادر التي حصلتّ منها على المعلومات.
 - الصور التي استخدمتها في أثناء تنفيذ المشروع.
 - معلومات أخرى عرفت في أثناء تنفيذ المشروع.
 - جوائز أخرى منتمية للفرقة في أثناء تنفيذ المشروع.
 - إنجازات أخرى منتمية للفرقة في أثناء تنفيذ المشروع.
- إن أمكن، أعدّ عرض (بود بوينت PowerPoint) يتضمّن تفاصيل تنفيذ المشروع، وطوّر النتائج التي توصلت إليها، وأوصي بنتائج أخرى لها ارتباط بالاجتماعيات.

7

ب التعلّم باستعمال التكنولوجيا.

تُسهّم التكنولوجيا إسهامًا فاعلاً في تعلّم الرياضيات؛ فهي تُوفّر تمثيلات بصرية للمفاهيم الرياضية بصورة تفاعلية تزيد من رغبة الطلبة في التعلّم، وتساعد على استكشاف المفاهيم الجديدة. إنّ توافر الأدوات التكنولوجية يساعد الطلبة على التأمل والتحليل والتفكير بدلاً من إضاعة أوقاتهم في إجراء الحسابات الرتيبة.

تمنح أدلة المُعلّم في مناهج الرياضيات المُطوّرة فرصة توظيف عدد من البرمجيات التعليمية في تدريس الطلبة؛ سواء أكان ذلك في المدرسة، أم في المنزل.

نشاط التكنولوجيا:



- أشجّع الطلبة على تصفّح الموقع الإلكتروني الذي يظهر عند مسح الرمز المجاور في المنزل، والاستمتاع بأنشطة الكسور.

ج الخطوات الأربع لحلّ المسألة (خطة حلّ المسألة).

تمنح مناهج الرياضيات المطورة الطلبة فرصة لتطوير مهاراتهم في حلّ المسألة، عن طريق أفراد دروس خاصة يتدربون فيها على استعمال خطوات ذهنية لحلّ أيّ مسألة رياضية، ثم التحقق من صحة الحلّ. وهذه الخطوات الذهنية هي: **أفهم، أخطّط، أحلّ، أتحقّق.**

ففي كل درس من هذه الدروس، يكون التركيز على إحدى خطط حلّ المسألة، مثل:

- خطة الحلّ العكسي.
- خطة التخمين والتحقّق.
- خطة البحث عن نمط.
- خطة حلّ مسألة أسهل.

الدرس 5 خطة حلّ المسألة: أنشيب جدولاً

يملك مَهْنَد 24 كُرّة زُجاجة ألوانها أخضر وأحمر. كل كُرّة خضراء يُعادلها 3 كُرّات خضراء. كم كُرّة خضراء لدى مَهْنَد؟

مفكرة الدرس

أحلّ مسائل حياتية باستعمال خطة (إنشاء جدول).

1 أفهم

ما مُعطيات المسألة؟

- يملك مَهْنَد 24 كُرّة زُجاجة.
- لكل كُرّة خضراء، يوجد 3 كُرّات خضراء.

ما المطلوب؟

- إيجاد عدد الكُرّات الخضراء مع مَهْنَد.

2 أخطّط

يُمكّني حلّ المسألة باستخدام جدول يُبين عدد الكُرّات الخضراء وما يُعادلها من كُرّات خضراء.

3 أحلّ

عدد الكُرّات الزُجاجة	1	2	3	4	5	6
أخضر	1	6	9	12	15	18
أحمر	3	6	12	16	20	24
المجموع	4	8	12	16	20	24

إذن: عدد الكُرّات الزُجاجة الخضراء مع مَهْنَد 18 كُرّة.

4 أتحقّق

هلّ ناتج ضرب عدد الكُرّات الخضراء في 3 يساوي 18؟ $6 \times 3 = 18$ ✓

1 أفهم

ما مُعطيات المسألة

- يملك مَهْنَد 24 كُرّة زُجاجة.
- لكل كُرّة خضراء، يوجد 3 كُرّات خضراء.

2 أخطّط

يُمكّني حلّ المسألة

3 أحلّ

4 أتحقّق

هلّ ناتج ضرب عدد

د التعلّم بالاستكشاف.

التعلّم بالاستكشاف نموذج تعليمي يعمل فيه الطلبة على معالجة المعلومات، وتركيبها، وتحويلها، وصولاً إلى معلومات جديدة باستعمال نشاط مفاهيمي يتضمّن عمليات الاستقراء، أو الاستنباط، أو أيّ طريقة أخرى. يمتاز هذا النوع من التعلّم بتحفيز الطلبة، وإثارة حماسهم، وزيادة دافعيتهم إلى التعلّم، بما يُوفّر لهم من تشويق في أثناء اكتشافهم المعلومات باستعمال الأدوات التكنولوجية أو المحسوسات أو غيرها.

تمنح مناهج الرياضيات المطوّرة فرصة لتطبيق هذا النموذج؛ فهي تحوي أنشطة مفاهيمية خاصة تسبق بعض الدروس.

نشاط مفاهيمي: العوامل المشتركة

الهدف: التعلّم (في طريقة تنظيم البيانات وتقسيمها إلى مجموعتين أو أكثر) واستعمال دوائر فيكتوريا، بحيث تكون العناصر المشتركة في منطقة التقاطع.

التمثيل: أوجد العوامل المشتركة بين عدديّين أو أكثر.

نشاط: استعمل شكل (أ)، في إيجاد العوامل المشتركة لعدديّين أو أكثر.

استعمل شكل (ب) لإيجاد العوامل المشتركة بين العددين 42، 30.

- أوجد عوامل العدد 30.
- أوجد عوامل العدد 42.

أوجد شكل (ب) المتجاور وكجانب عوامل كلٍّ عدديّين والعوامل المشتركة في منطقة تقاطع الدائرتين.

أيّ إن العوامل المشتركة هي:

التمرين:

1. ألقِ الخطوط السابقة، وأوجد العوامل المشتركة بين العددين 17، 13. واستعمل شكل (أ)، مادة الشطرنج.

2. ما العددين اللذان تمّ تحليتهما باستخدام شكل (ب) المتجاور؟

استعمل شكل (ب)، في إيجاد عوامل العوامل المشتركة بين عدديّين متماثلين:

1. 20، 28

2. 6، 12

63

5 مهارات التفكير العليا:

تهدف **مهارات التفكير العليا** إلى تحديّ قدرات الطلبة في مجال التفسير، والتحليل، ومعالجة المعلومات؛ لذا، فهي تُنمّي قدراتهم على التأمل، والتفكير، والاستقصاء، واكتشاف العلاقات.

تمنح مناهج الرياضيات المطوّرة الطلبة فرصة لتطويع مهارات التفكير العليا في كل درس، بطرحها مسائل مرتبطة بنتائج الدرس؛ إذ يحوي بند (مهارات التفكير العليا) عددًا من المسائل ضمن العناوين الآتية

تبرير: يتطلّب حلّ هذه المسائل تبرير خطوات الحلّ جميعها.

تحدّي: تتضمن هذه المسائل أفكارًا غير مألوفة تُمثّل تحديًا للطلبة.

مسألة مفتوحة: يوجد لهذه المسألة عدد من الحلول الصحيحة، وليس حلًا واحدًا فقط.

اكتشف الخطأ: يجب على الطلبة في هذا النوع من المسائل تحديد الخطأ في إجابة معطاة؛ ما يُحتمّ عليهم إدراك مفاهيم الدرس بصورة عميقة.

اكتشف المختلف: يجب على الطلبة في هذا النوع من المسائل تحليل عدد من الخيارات المعطاة، ثم تحديد خيار واحد فقط مختلف عن البقية.

اطرح مسألة: يُعطى الطلبة في هذا النوع من المسائل إجابة لمسألة ما، ثم يُطلّب إليهم كتابة هذه المسألة.

مهارات التفكير العليا

1. ما الحروف التي تُمثّل عددًا سالبًا؟ أيّ إيجابيّة.

2. ما الحروف التي تُمثّل عددًا موجبًا؟ أيّ إيجابيّة.

3. هل الحرفان (ب، ج) لهما البعْد نفسه عن الصفر؟

4. تبرّر: هل الصفر عددٌ سالبٌ أم موجبٌ؟ أيّ إيجابيّة.

5. **اكتشف الخطأ:** قالت نيفين إنّ درجة الحرارة الأقلّ بعشر درجات من درجة الحرارة على الميزان المتجاور هي -10 ، هل هي على صوابٍ؟ أيّ إيجابيّة.

6. **انحذ:** أعطي مثالًا لثوقف من حياتي اليوميّة، يُمكن التغيير عنه بعددٍ سالب.

7. 1

8. 0

9. ب

10. د

11. 15

12. 10

13. 5

14. 0

15. -5

16. -10

17. -15

تراعي مناهج الرياضيات المُطوّرة تكافؤ الفرص بين الطلبة، وخصوصية كل منهم (التمايز)، وتساعد على تجاوز العثرات، وتعزيز مناحي التفوق. يُمكن تحقيق التمايز عن طريق أربعة عناصر رئيسة، هي:

المحتوى: يُقصد بذلك ما يحتاج كل من الطلبة إلى تعلّمه، وكيفية الحصول على المعلومة. من الأمثلة على تحقيق التمايز في المحتوى: تقديم الأفكار باستعمال الوسائل السمعية والبصرية والمحسوسة.

الأنشطة: كل ما يشارك فيه كل من الطلبة من أنشطة؛ للتمكّن من فهم المحتوى، أو إتقان المهارة. من الأمثلة على تحقيق التمايز في هذا العنصر: استعمال الأنشطة المُتدرّجة التي يشارك فيها جميع الطلبة، ويكون تقدّمهم فيها مُتبايناً من حيث المستوى، ومنح الطلبة ذوي المستوى دون المتوسط وقتاً إضافياً لإنجاز المهام.

المنتجات: مشاريع يتعيّن على الطلبة تنفيذها؛ للتدرّب على ما تعلّموه في الوحدة، وتوظيفه في حياتهم، والتوسّع فيه. من الأمثلة على تحقيق التمايز في المنتجات: السماح للطلبة بالعمل وحدهم، أو في مجموعات صغيرة لابتكار منتجاتهم الخاصة وفق ميولهم.

بيئة التعلّم: يُقصد بها عناصر البيئة الصفية جميعها. من الأمثلة على تحقيق التمايز في بيئة التعلّم: التحقّق من وجود أماكن في غرفة الصف يُمكن للطلبة العمل فيها بهدوء، ومن دون إلهاء. وكذلك وجود أماكن أخرى تُسهّل العمل التعاوني بين الطلبة.

أبيّن للطلبة أنهم سيتعلّمون جمع أعداد من 7 منازل؛ باستعمال القيمة المنزلية.

مثال 1

- أناقش المثال 1 مع الطلبة، وأرسم لوحة القيمة المنزلية على اللوح، ثم أطلب إلى أحد الطلبة تمثيل العدد الأول في لوحة القيمة المنزلية، ثم أطلب إلى آخر تمثيل العدد الثاني.
- أسأل الطلبة:

ملاحظات

2 الاستكشاف

- أوجه الطلبة إلى قراءة المسألة في فقرة استكشاف، وأسألهم:
 - « ما المعطيات؟ أناقش الطلبة في الإجابات.
 - « ما المطلوب؟
 - « كيف نجمع هذين العددين؟
- أعزّز الإجابات الصحيحة.
- أبيّن للطلبة أنهم سيعتقدون في هذا الدرس، من جمع الأعداد المكوّنة من 7 منازل، وأن ذلك سيتم بالطريقة نفسها التي استعمالوها لجمع أعداد بمنازل أقل.

3 التدريس

أبيّن للطلبة أنهم سيتعلّمون جمع أعداد من 7 منازل؛ باستعمال القيمة المنزلية.

مثال 1

- أناقش المثال 1 مع الطلبة، وأرسم لوحة القيمة المنزلية على اللوح، ثم أطلب إلى أحد الطلبة تمثيل العدد الأول في لوحة القيمة المنزلية، ثم أطلب إلى آخر تمثيل العدد الثاني.
- أسأل الطلبة:
 - « ما المنزلة التي نبدأ بجمعها ومن أي اتجاه؟ من اليمين.
- أناقش الطلبة في خطوات الجمع، وأذكر الطلبة بإعادة التجميع وأسأل: متى تعيد التجميع؟
- أطلب إلى أحد الطلبة توضيح خطوات إعادة التجميع بالتفصيل، مثل: 6 مئات + 6 مئات تساوي 12 مئة (1200 = 1000 + 200) لذا، نُضيف 1000 لمنزلة الألوف، وهكذا بالنسبة إلى منزلة عشرات الألوف ومئات الألوف، وأؤكد على استعمال مصطلح إعادة التجميع للتذكير باستعماله.
- أوضح خطوات تقدير ناتج الجمع، وأبيّن للطلبة أن هذه الخطوة تساعد على الحكم على معقولية الإجابة.

التقويم التكويني:

أطلب إلى الطلبة حلّ تدريب (أتحقّق من فهمي) بعد كل مثال. أختار بعض الإجابات التي تحتوي على أخطاء مفاهيمية، وأناقش الطلبة فيها على اللوح. لا أذكر اسم صاحب الحلّ أمام الصفّ تجنّباً لإحراجهم.

الْوَحْدَةُ 2
الضرب والقسمة
أستعدّ لدراسة الوحدة

تقدير ناتج ضرب عدديّ من 3 منازل في عدديّ من منزلة واحدة (الدّرس 2)
أقدر ناتج ضرب كلّ من الأعداد الآتية:

28 521×4 29 627×6
30 782×3 31 270×5

مثال: أقدّر ناتج: 5×378

الخطوة 1: أقرب العدد الأكبر إلى أعلى منزلة:
 5×378
↓
 5×400

الخطوة 2: أضرب ذهنيًا:
 $5 \times 400 = 2000$
إذن: تقدير ناتج 5×378 يساوي 2000 تقريبًا.

تقدير ناتج ضرب عدديّ من منزلتين في عدديّ من منزلتين (الدّرس 2)
أقدر ناتج ضرب كلّ من الأعداد الآتية:

أولاً: مصادر التعلّم الميسّرة لتنفيذ خطة معالجة الفاقد التعليمي

أ صفحات "أستعدّ لدراسة الوحدة" في كتاب التمارين.

تهدف الصفحات التي عنوانها (أستعدّ لدراسة الوحدة) في كتاب التمارين إلى مساعدة الطلبة على تذكّر المعرفة التي درسوها في صفّ سابق أو صفين سابقين، وهي تحتوي فقرات يعالج كلّ منها مفهومًا رياضيًا مختلفًا، وكلّ من هذه المفاهيم مرتبط بدرس محدّد في كتاب الطالب.

ب أوراق العمل الداعمة

تهدف أوراق العمل الداعمة إلى معالجة المفاهيم الرياضية البسيطة التي تُعدّ أساسًا للتعلّم الحالي علمًا بأن الطلبة درسوها في صفوف بعيدة زمنيًا عن صفهم الحالي.

بُنيت أوراق العمل الداعمة بطريقة مشابهة لصفحات (أستعدّ لدراسة الوحدة)؛ تسهيلًا على كل من المعلمين/ المعلمات والطلبة؛ إذ إن هذه البنية مألوفة لهم.

ج دليل المعلم

يقدم دليل المعلم في مبحث الرياضيات إرشادات تفصيلية لإجراءات معالجة الفاقد التعليمي في الحصّة الصفّيّة بطريقة تضمن استمرار تدريس الكتاب المدرسي في كل حصّة؛ بوصفه مصدرًا أساسيًا للتعلّم، مع الحرص على تمكين الطلبة جميعهم وبمختلف مستوياتهم من اللحاق بالتعلّم الحاليّ في أسرع وقت ممكن.



أمسح الرمز المجاور للحصول على نسخة إلكترونية من كتاب أوراق العمل الداعمة.



ثانيًا: إجراءات معالجة الفاقد التعليمي في كل حصة صفية

الوحدة 1
الأعداد جمعها وطرحها

مقارنة الأعداد (الدرس 2)
أكتب < أو > أو = في لتصبح العبارة صحيحة:
19 45 56 20 96 69 21 21 33 22 81 81

أكتب < أو > أو = في لتصبح العبارة صحيحة:
23 145 154 24 734 347 25 629 629
26 289 298 27 1569 1596 28 7110 7101

مثال: أكتب < أو > أو = في لتصبح العبارة صحيحة:
الأعداد بين عددين لهذا العدد نفسه من الأرقام استعمل القيمة المئوية، وذلك بمقارنته ونقمن كل منزله بدءاً من اليسار، واستعمل في المقارنة حتى نختلف الأرقام.

a) 26 35
ب) 26 26
ج) 26 23

أفرد العشرات: 2 6 3 5
أفرد الأحاد: 2 6 3 5
العشرات متساوية، الأحاد متساوية.
26 = 26

العشرات متساوية، أفرد الأحاد: 6 أكبر من 3
26 > 23

6

- يحدد المعلم/ المعلمة من كُتِيب أوراق العمل الداعمة الفقرات المرتبطة بنتائج الدرس التي يُتَوَقَّع تحقيقها في الحصة القادمة، ويطلب إليهم جميعاً حلّها واجباً منزلياً بوصفه اختباراً تشخيصياً؛ لغايات تقييم الطلبة وتحديد مستوياتهم واحتياجاتهم.

- في الدقائق العشر الأولى من الحصة التالية، يتجوّل المعلم/ المعلمة بين الطلبة؛ لتحديد الفقرات التي أظهرت حاجتهم إلى التحسين فيها، ويشاركهم بمناقشة الأمثلة المحلولة في تلك الفقرات على اللوح، ثم يطلب إليهم حل التدريبات المرتبطة بتلك الأمثلة.

الوحدة 1
الأعداد: جمعها وطرحها

أستعدّ لدراسة الوحدة

جمع الأعداد (الدرس 3)
أجد ناتج جمع كل مما يأتي:
17 328179
+ 51850
380029
18 452761
+ 380904
833665

مثال: أجد ناتج: $3269 + 1925$
أقدر ناتج الجمع بتقريب العددين إلى أعلى منزلة مشتركة بينهما:
 $3269 \rightarrow 3000$
 $+ 1925 \rightarrow + 2000$
5000

أبدأ بإيجاد قيمة تجميعية للإجابة، ثم أستخدمها لتجميع عكس متفرقة الإجابة الدقيقة.

1) أجمع الأحاد:
 $9 + 5 = 14$
أعيد تجميع 14 إلى 1 من الأحاد و 4 من العشرات و 4 أحاد.

2) أجمع العشرات:
 3269
 $+ 1925$
94

3) أجمع المئات:
 3269
 $+ 1925$
194

4) أجمع الآلاف:
 3269
 $+ 1925$
5194

إذن: ناتج $3269 + 1925$ يساوي 5194

9

- بعد ذلك يوجّه المعلم/ المعلمة الطلبة جميعهم إلى الفقرات المرتبطة بنتائج الدرس التي يُتَوَقَّع تحقيقها في الحصة الحالية من صفحات (أستعد لدراسة الوحدة) في كتاب التمارين، ثم يطلب إليهم حلّ تدريباتها داخل الغرفة الصفية بصورة فردية، تحت إشرافه وبمتابعتة الحثيثة.

- يتجوّل المعلم/ المعلمة بين الطلبة لمتابعتهم في أثناء الحلّ، وفي حال واجهتهم صعوبة في الحلّ فإنّه يوجّههم إلى الاسترشاد بالمثل المعطى. وإذا أنهى الطلبة ذوو المستويين المتوسط وفوق المتوسط الحلّ، يطلب إليهم المعلم/ المعلمة مساعدة زملائهم/ زميلاتهم من ذوي المستوى دون المتوسط؛ تجسيداً لأسلوب التعلّم بالأقران.

استراتيجيات تدريس إضافية

عزيزي المُعلِّم / عزيزتي المُعلِّمة، تساعد مناهج الرياضيات المُطوَّرة على تطبيق أحدث استراتيجيات التدريس، بما تحويه من عناصر مُنظَّمة في كتاب الطالب، ومقترحات، وإرشادات مناسبة للتدريس في هذا الدليل، علمًا بأنَّ مسألة تطبيقها متروكة لك؛ إذ يُمكن لك اختيار طرائق التدريس المناسبة داخل غرفة الصف؛ فأنت أكثر علمًا بأحوال غرفة الصف، والوسائل والتجهيزات المتوفرة في المدرسة.

في ما يأتي بعض استراتيجيات التدريس الإضافية التي قد تساعد على تقديم الدروس:

التعلُّم المقلوب (Flipped Learning):

يسهم هذا الأسلوب في تعزيز مهارات التعلم الذاتي واستثمار وقت الحصة الصفية استثمارًا كبيرًا والتركيز على المحتوى والمفاهيم العلمية بشكل مكثف. تتيح هذه الاستراتيجية لك إعداد الدروس وإطلاع الطلبة عليها مسبقًا بالاستعانة بالتقنيات الحديثة وشبكة (الإنترنت)، إذ يمكن إرسال مقاطع مرئية (فيديوهات) أو ملفات صوتية أو غيرها من الوسائط إلى الطلبة، والطلب إليهم الاطلاع عليها في المنازل قبل وقت كافٍ من الوقت المخصص لعرض الدرس، عن طريق الوسائل المتاحة لهم (حاسوب، هاتف ذكي، جهاز لوحي). يتعين عليك تجهيز أنشطة متنوعة لتنفيذها في اللقاء الصفّي تهدف إلى تطبيق المفاهيم التي اكتسبها الطلبة ومناقشة المحتوى العام للدرس، وتشمل أنشطة التعلم النشط والاستقصاء، والتجريب، وحلّ المسائل الرياضية، وبما يعزز مهارات العمل بروح الفريق وتقييم التعلم.

بطاقة الخروج (Exit Ticket):

أسلوب يتضمّن مهمة قصيرة يُنفِّذها الطلبة في مرحلة ختام الدرس. وفيه يجيب الطلبة عن أسئلة قصيرة مُحدَّدة مكتوبة في بطاقات صغيرة، بعد ذلك عليك جمع البطاقات لقراءة الإجابات، ثم التعليق عليها في الحصة التالية، في ما يُمثّل تغذية راجعة يُستند إليها في الحصة اللاحقة.

رفع اليد (إشارة الصمت) (Hand Up):

أسلوب يُستعمل لإدارة الصف. وفيه عليك رفع يدك، فيستجيب الطلبة برفع أيديهم، وإنهاء مناقشتهم فورًا. تُعدُّ هذه الاستراتيجية طريقة فاعلة وسريعة للفت انتباه الطلبة، ويُمكن استخدامها في بداية الحصة، أو للإعلان عن انتهاء النشاط. تجدر الإشارة إلى أنّ رفع يدك يجب أن يُقابَل باستجابات ثلاث: رفع جميع الطلبة أيديهم من دون استثناء، والتزامهم الصمت التام، والإصغاء.

الرؤوس المرقّمة (Numbered Heads):

أسلوب يُستعمل لإدارة الصف، وتوزيع المسؤوليات. وهو يهدف إلى إبقاء الطلبة في وضع استعداد دائم، عن طريق الاختيار العشوائي لمشاركاتهم وإجاباتهم عن الأسئلة. ففي العمل الجماعي يكون لكل فرد في المجموعة رقم خاص، وعند طلبك الحصول على إجابة سؤال بصورة عشوائية، يختار الفرد رقمًا من دون أن يعرف زميله/ زميلتها، فيجيب من يقع عليه الاختيار عن السؤال، ويمكن أن يتم ذلك بمساعدة أفراد المجموعة.

أنا أفكر، نحن نفكر (I Think, We Think):

أسلوب يُستعمل لتطوير تفكير الطلبة ضمن مجموعات. وفيه تُعدُّ كل مجموعة ورقة تتضمّن جدولاً من عمودين؛ عنوان الأوّل: (أنا أفكر)، وعنوان الثاني: (نحن نفكر). ثم يمكنك توجيه سؤال يجيب عنه الطلبة بصورة فردية في العمود الأوّل، ثم يُناقش الطلبة إجاباتهم للاتفاق على إجابة واحدة تُكتب في العمود الثاني، ويُمكن تغيير الورقة عند الحاجة. يساعد هذا الأسلوب الطلبة على التفكير في الموضوع، وتأمل التغيير في تفكيرهم نتيجة التحدّث إلى الآخرين.

الألواح الصغيرة (Small Boards):

أسلوب يُستعمل للتقويم. وفيه يُمسك كل طالب/ طالبة بلوح صغير (يُمكن أن يُصنّع من قطعة كرتون مقوّى، أو قطعة خشب صغيرة يُكتب عليها بالطباشير، أو قطعة كرتون عليها لاصق شفاف يُكتب عليها بقلم اللوح الأبيض)، ثم يمكنك توجيه سؤال يجيب عنه الطلبة بالكتابة على اللوح، ثم رفعه إلى أعلى؛ للتمكن من مشاهدة الإجابات بسهولة. يُسهّم هذه الأسلوب في زيادة مشاركة الطلبة؛ لأنّهم يجيبون جميعاً في الوقت نفسه من دون إحداث فوضى، ويُسهّم أيضاً في التقويم التكويني؛ إذ يمكنك ملاحظة نسبة إجابات الطلبة الصحيحة.

الأعداد: جمعها وطرحها



مخطط الوحدة



عدد الحصص	الأدوات والمواد	المصطلحات	الأهداف	المحتوى
2	<ul style="list-style-type: none"> • ألواح صغيرة أو أوراق بيضاء. • أقلام. • ورقة المصادر 2 • ورقة المصادر 4 	دورة الملايين.	<ul style="list-style-type: none"> • تحديد القيمة المنزلية لرقم في عدد ضمن الملايين. • قراءة الأعداد ضمن الملايين، وكتابتها بصور مختلفة. 	الدرس 1: القيمة المنزلية ضمن الملايين.
2	<ul style="list-style-type: none"> • قلم، مسطرة. • ألواح صغيرة • ورقة المصادر 3 		<ul style="list-style-type: none"> • المقارنة بين الأعداد ضمن الملايين وترتيبها. 	الدرس 2: مقارنة الأعداد وترتيبها.
2	<ul style="list-style-type: none"> • أوراق بيضاء، أقلام، قرص دوّار أو حجر نرد. 		<ul style="list-style-type: none"> • جمع أو طرح أعداد ضمن 7 منازل. 	الدرس 3: جمع الأعداد الكلية وطرحها.
2	<ul style="list-style-type: none"> • ورقة المصادر 5 • ورقة المصادر 6 	العدد السالب.	<ul style="list-style-type: none"> • تعرّف العدد السالب، وتعيينه على خط الأعداد. 	الدرس 4: الأعداد السالبة.
2				الدرس 5: خطة حلّ المسألة: أنشئ جدولاً.
1	عرض نتائج مشروع الوحدة.			
1	اختبار نهاية الوحدة.			
12 حصة	المجموع:			

الأعداد: جمعها وطرزها

ما أهمية هذه الوحدة؟

بَلَغَ عَدَدُ الْقَادِمِينَ وَالْمُغَادِرِينَ مِنْ مَطَارِ الْمَلِكَةِ عَلِيَاءِ الدَّوْلِيِّ وَإِلَيْهِ 8924080 مُسَافِرًا مَعَ نِهَآيَةِ عَامِ 2019، وَهَذَا عَدَدٌ كَبِيرٌ لَمْ نَدْرُسْهُ سَابِقًا؛ لَكِنَّا سَتَتَعَلَّمُ الْكَثِيرَ حَوْلَهُ فِي هَذِهِ الْوَحْدَةِ.



نظرة عامة على الوحدة:

في هذه الوحدة، يتعلّم الطلبة قراءة الأعداد ضمن 9 منازل، وكتابتها بصيغ مختلفة، كما يتعلّمون ترتيب الأعداد وتقريبها، ويوظّفون التقريب في تقدير ناتج جمع عددين أو طرحهما، ويستعملون ذلك في التحقق من معقولة ناتج العملية الحسابية بعد إجرائها باستعمال الخوارزمية، بالإضافة إلى تعرّف الأعداد السالبة وتحديد موقعها على خط الأعداد، وتطبيق ما سبق في حلّ المسائل الحياتية.

سأتعلّم في هذه الوحدة:

- قراءة الأعداد ضمن المِلايين، وكتابتها.
- المُقَارَنَةُ بَيْنَ أَعْدَادٍ ضَمَّنَ الْمِلايين، وَتَرْتِيبُهَا.
- جَمْعَ عَدَدَيْنِ ضَمَّنَ 7 مَنَازِلَ، وَطَرَحَهُمَا.
- تَعَرُّفَ الْعَدَدِ السَّالِبِ.

تعلّمت سابقًا:

- ✓ قِرَاءَةُ الْأَعْدَادِ ضَمَّنَ مِثَالِ الْأُلُوفِ، وَكِتَابَتِهَا.
- ✓ الْمُقَارَنَةُ بَيْنَ أَعْدَادٍ ضَمَّنَ مِثَالِ الْأُلُوفِ، وَتَرْتِيبِهَا.
- ✓ تَقْرِيبَ الْأَعْدَادِ الْكُلِّيَّةِ.
- ✓ جَمْعَ عَدَدَيْنِ ضَمَّنَ 6 مَنَازِلَ، وَطَرَحَهُمَا.

الترايب الرأسي بين الصفوف

الصف السادس

- مقارنة الأعداد الصحيحة وترتيبها، وتمثيلها على خط الأعداد، وإيجاد القيمة المطلقة للعدد الصحيح.
- جمع الأعداد الصحيحة، وطرزها وضربها وقسمتها.

الصف الخامس

- قراءة الأعداد ضمن 9 منازل وكتابتها.
- مقارنة الأعداد ضمن 9 منازل وترتيبها.
- جمع عددين ضمن 9 منازل وطرزهما.
- تعرّف العدد السالب، وتعيينه على خط الأعداد.

الصف الرابع

- قراءة الأعداد ضمن 6 منازل وكتابتها.
- مقارنة الأعداد ضمن 6 منازل وترتيبها.
- تقريب الأعداد الكلية لمنزلة محدّدة.
- تقدير ناتج جمع أو طرح عددين من 6 منازل.
- جمع عددين من 6 منازل وطرزهما.

مشروع الوحدة: الرياضيات والاجتماعيات

هدف المشروع:

يهدف مشروع الوحدة، إلى تعزيز ما يتعلمه الطلبة في هذه الوحدة حول الأعداد والقيمة المنزلية ضمن 8 منازل، بالإضافة إلى تنمية مهارات البحث وجمع البيانات وعرضها، والربط والمقارنة والترتيب والتفسير.

خطوات تنفيذ المشروع:

- أوزع الطلبة في مجموعات.
- أعدد مهام كل طالب/ طالبة في المجموعة، بحيث يبحث أحدهم في المكتبة، ويبحث الآخر في الكتب المدرسية أو الإنترنت.
- قبل البدء بالوحدة، أطلب إليهم تعبئة الجدول بالمعلومات التي جمعوها.
- أوزع المهام على الطلبة بصورة تدريجية في أثناء دراستهم للوحدة، بحيث يبدأ كل منهم العمل على المهمة المكلف بها في الوقت المناسب بعد دراسة المفهوم.
- أتابع سير المشروع بشكل مستمر، وأذكر الطلبة بالمهام بعد نهاية كل درس.
- أخبر الطلبة مسبقاً بمعايير تقييم المشروع. أستعمل لغة مبسطة لتشرح لهم معنى كل معيار.
- أعدد وقتاً مناسباً لعرض النتائج التي توصل إليها الطلبة، وأناقشهم فيها.
- أطلب إليهم تنظيم النتائج التي توصلوا إليها في الكرتون البيضاء، أو باستعمال برنامج (بوربوينت - PowerPoint)، وتنسيقها وتزيينها بصورة مناسبة؛ لعرضها في الوقت المناسب.

مشروع الوحدة: الرياضيات والاجتماعيات

- أصنع بطاقة خامسة، وأكتب عليها عدد السكان للدول الأربع مرتبة تصاعدياً.
- أصنع بطاقة سادسة، وأكتب عليها تقدير مجموع مساحات الدول الأربع.
- أصنع بطاقة سابعة، وأكتب عليها ناتج طرح المساحة الأقل من المساحة الأكبر.

أستعد وُزُملائي/ زميلاتي لتنفيذ مشروعي الخاص الذي سأستعمل فيه ما أتعلمه في هذه الوحدة؛ لأجمع معلومات عن مساحة وعدد سكان 4 دول عربية.

خطوات تنفيذ المشروع:

1 أبحث في مكتبة المدرسة، أو في كتاب الاجتماعيات أو الإنترنت، عن بيانات حول مساحة وعدد سكان 4 دول عربية، وأسجل بياناتي في جدول مشابه للجدول أدناه:

الدولة	عدد السكان	المساحة (km ²)

2 أكتب البيانات التي جمعتها حول مساحة وعدد سكان الدول الأربع في بطاقات، كما يأتي:

- أصنع 4 بطاقات على كل منها لوحة قيمة منزلية مكتوب فيها عدد سكان كل دولة. أرسم على الوجه الآخر للبطاقة علم تلك الدولة.

7

أداة تقييم المشروع

الرقم	المعيار	1	2	3
1	إعداد جدول يعرض فيه الدول وعدد السكان والمساحة.			
2	عمل البطاقات السبع بصورة صحيحة.			
3	كتابة الصعوبات التي واجهته والمعلومات التي عرفها.			
4	أنهاء معظم خطوات المشروع بصورة مقبولة.			
5	استعمال توضيحات وتفسيرات في بعض خطوات المشروع.			
6	تنظيم نتائج المشروع وعرضها بصورة مقبولة.			

1 إنجاز المهمة بوجود أكثر من خطأ.

2 إنجاز المهمة بوجود خطأ بسيط.

3 إنجاز المهمة بصورة صحيحة من دون خطأ.

أنشطة التدريب الإضافية

ملاحظاتي

15 دقيقة



نشاط 1

هدف النشاط:

تحديد القيمة المنزلية التي يُمثّلها كل رقم في عدد من 6 منازل.

المصادر والأدوات:

ورقة المصادر 2: مروحة الأعداد (0-9)، ورقة وقلم لكل طالب/ طالبة، ورقة المصادر 4: أسهم القيمة المنزلية.

خطوات العمل:

- أطلب إلى الطلبة تدوير مروحة الأعداد تدوير مروحة الأعداد 6 مرات، للحصول على 6 أرقام بطريقة عشوائية، ثم أطلب إليهم تكوين عدد من هذه الأرقام.
- أطلب إلى الطلبة كتابة العدد الناتج بالصيغة التحليلية.
- أسأل الطلبة عن القيمة المنزلية لبعض الأرقام في العدد.
- أطلب إلى الطلبة تمثيل العدد باستعمال أسهم القيمة المنزلية من ورقة المصادر 4.
- أتابع أعمال الطلبة، وأقدم لهم التغذية الراجعة اللازمة.

10 دقائق



نشاط 2

هدف النشاط:

مقارنة الأعداد ضمن 7 منازل.

المصادر والأدوات:

مجموعتين من بطاقات الأعداد (0 - 9) من ورقة المصادر 3: بطاقات الأعداد (0 - 100).

خطوات العمل:

- أقسم الطلبة إلى مجموعات ثنائية، وأزوّد كل مجموعة بالأدوات اللازمة.
- أطلب إلى المجموعات خلط مجموعتي بطاقات الأعداد، ثم يأخذ كل فرد في المجموعة 7 بطاقات عشوائياً.
- أطلب إلى كل فرد في المجموعة تكوين عدد من 7 منازل باستعمال البطاقات التي اختارها.
- الطالب/ الطالبة الذي يتكوّن لديه/ لديها أكبر عدد يحصل على نقطة.
- الفائز من يكسب أكبر عدد من النقاط بعد 5 جولات.

هدف النشاط:

استعمال التقدير للتحقق من معقولية ناتج الجمع.

المصادر والأدوات:

ألواح صغيرة.

خطوات العمل:

- أقسم الطلبة إلى مجموعات ثنائية.
- أكتب الأعداد الآتية على اللوح: 2373245، 8623415، 3724932، 1235624، 5027341، 2893216.
- أطلب إلى الطلبة استعمال التقدير؛ لإيجاد أي أزواج الأعداد السابقة يُعطي ناتج الجمع الآتية: 4128840، 8752273، 10996660.
- أطلب إلى أحد فردي المجموعة تقريب الأعداد وتقدير ناتج الجمع، ويُقرّر أي أزواج الأعداد يُعطي كل ناتج من النواتج السابقة.
- أطلب إلى الفرد الآخر في المجموعة إجراء عملية الجمع للتأكد من الناتج.
- يحصل من تكون إجابته صحيحة على نقطة.
- يتبادل أفراد المجموعات الأدوار.
- الفائز من يكسب أكبر عدد من النقاط.

الهدف:

تعيين الأعداد السالبة على خط الأعداد.

المصادر والأدوات:

حجري نرد، مكعبين صغيرين بلونين مختلفين، ورقة المصادر 6: خط أعداد (من 20- إلى 20).

خطوات العمل:

- أقسم الطلبة إلى مجموعات ثنائية، ثم أزوّد كل مجموعة بالأدوات اللازمة.
- أخبر الفرد الأول في المجموعة أنه يمثل الأعداد السالبة، وأن هدفه أن يكون قريباً من العدد 20-، وأخبر الفرد الثاني في المجموعة أنه يمثل الأعداد الموجبة، وأن هدفه أن يكون قريباً من العدد 20.
- أطلب إلى فردي المجموعة وضع مكعبيهما عند العدد 0 على خط الأعداد في ورقة المصادر 6.
- أطلب إلى الفرد الأول رمي حجري النرد، وإيجاد ناتج جمع العددين الظاهرين على الوجه العلوي لحجري النرد، ثم تحريك المكعب الخاص به في جهة الأعداد السالبة وفقاً لمجموع العددين.
- (مثال: إذا كان العددين الظاهرين على الوجه العلوي لحجري النرد 5 و 3؛ عندها يضع الفرد الأول مكعبه عند العدد 8- على خط الأعداد؛ لأنه يمثل الأعداد السالبة).
- أطلب إلى الفرد الثاني رمي حجر النرد مرتين، وإيجاد ناتج جمع العددين الظاهرين على الوجه العلوي لحجري النرد، ثم تحريك المكعب الخاص به في جهة الأعداد الموجبة وفقاً لمجموع العددين.
- (مثال: إذا كان العددين الظاهرين على الوجه العلوي لحجري النرد 3 و 2؛ عندها يضع الفرد الثاني مكعبه عند العدد 5 على خط الأعداد؛ لأنه يمثل الأعداد الموجبة).
- يحصل الأقرب إلى هدفه على نقطة.
- تستمر المجموعات في اللعب بتكرار الخطوات السابقة.
- يفوز في اللعبة أول من يفوز في 5 جولات متتالية.

الدَّرْسُ 1 القيمة المُنزِلِيَّةُ ضِمْنَ الْمَلَايِينِ



أَسْتَكْشِفُ

في نهاية عام 2019، بلغ العَدَدُ المُقَدَّرُ لِسُكَّانِ الْمَمْلَكَةِ 10579747 نَسْمَةً. ما القيمة المُنزِلِيَّةُ لِكُلِّ رَقْمٍ فِي الْعَدَدِ 10579747؟
المُصَدَّرُ: دَائِرَةُ الْإِحْصَاءَاتِ الْعَامَّةِ.

فِكْرَةُ الدَّرْسِ

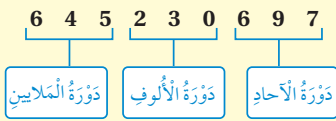
- أَحَدُّ الْقِيَمَةِ الْمُنزِلِيَّةِ لِرَقْمٍ فِي عَدَدٍ ضِمْنَ الْمَلَايِينِ.
 - أَقْرَأُ أَعْدَادًا ضِمْنَ الْمَلَايِينِ، وَأَكْتُبُهَا بِصَيِّغٍ مُخْتَلِفَةٍ.
- المُضْطَلْحَاتُ**
دَوْرَةُ الْمَلَايِينِ

نَتَاجَاتُ الدَّرْسِ:

- تحديد القيمة المنزلية لرقم في عدد ضمن الملايين.
- قراءة الأعداد ضمن الملايين، وكتابتها بصور مختلفة.

أَتَعَلَّمُ

تَعَلَّمْتُ سَابِقًا أَنَّ كُلَّ 3 أَرْقَامٍ فِي الْعَدَدِ تُكُونُ مَعًا مَا يُسَمَّى دَوْرَةً، وَأَنَّ الْأَرْقَامَ الثَّلَاثَةَ الْأُولَى يَمِينِ الْعَدَدِ تُكُونُ دَوْرَةَ الْآحَادِ، وَالْأَرْقَامَ الثَّلَاثَةَ الَّتِي تَلِيهَا تُكُونُ دَوْرَةَ الْأَلُوفِ، وَتُكُونُ الْأَرْقَامَ الثَّلَاثَةَ الَّتِي تَلِي دَوْرَةَ الْأَلُوفِ مَا يُسَمَّى دَوْرَةَ الْمَلَايِينِ (millions period).



لِتَحْدِيدِ الْقِيَمَةِ الْمُنزِلِيَّةِ لِكُلِّ رَقْمٍ فِي الْعَدَدِ، أَسْتَعْمِلُ لَوْحَةَ الْقِيَمَةِ الْمُنزِلِيَّةِ.

مِثَالُ 1

أَكْتُبُ الْقِيَمَةَ الْمُنزِلِيَّةَ لِلرَّقْمِ الَّذِي تَحْتَهُ حَطُّ فِي الْعَدَدِ 2051841

لِتَحْدِيدِ الْقِيَمَةِ الْمُنزِلِيَّةِ لِلرَّقْمِ 5 فِي الْعَدَدِ 2051841 أَكْتُبُهُ فِي لَوْحَةِ الْمَنَازِلِ:

دَوْرَةُ الْمَلَايِينِ			دَوْرَةُ الْأَلُوفِ			دَوْرَةُ الْآحَادِ		
مِثَاثٌ	عَشْرَاتٌ	آحَادٌ	مِثَاثٌ	عَشْرَاتٌ	آحَادٌ	مِثَاثٌ	عَشْرَاتٌ	آحَادٌ
		2	0	5	1	8	4	1
				5	0	0	0	0

أَحَدُهُ الْعَمُودِ الَّذِي يَقَعُ فِيهِ هَذَا الرَّقْمُ، وَأَضَعُ أَصْفَارًا بَدَلَ الْأَرْقَامِ الْوَاقِعَةِ عَلَى يَمِينِهِ.

لِذَا، فَإِنَّ مَنزِلَةَ الرَّقْمِ 5 فِي الْعَدَدِ 2051841 هِيَ عَشْرَاتُ الْأَلُوفِ، وَقِيَمَتُهُ الْمُنزِلِيَّةُ هِيَ 50000.

- أَرَاغِعِ الطَّلِبَةَ بِتَحْدِيدِ الْقِيَمَةِ الْمُنزِلِيَّةِ لِرَقْمٍ فِي عَدَدٍ ضِمْنَ 6 مَنَازِلٍ عَنْ طَرِيقِ نَشَاطٍ 1 مِنْ أَنْشِطَةِ التَّدْرِيبِ الْإِضَافِيَّةِ.

- أوجّه الطلبة إلى قراءة المسألة في فقرة **أستكشف**، التي تتضمن عدد سكان المملكة الأردنية الهاشمية في إحصائية جرت في العام 2019، ثم أسألهم:
 - « كم عدد المنازل في العدد؟ 8 »
 - « ما الرقم الذي يقع في منزلة الألف؟ 1 »
 - « ما القيمة المنزلية للرقم 5؟ 500000 »
 - « ماذا نسمّي المنزلة السابعة في هذا العدد؟ »
- أتقبّل إجابات الطلبة جميعها.
- أبيّن للطلبة أنهم سيتعلمون الطرائق المختلفة لتمثيل العدد التي تعلموها سابقاً، ولكن لأعداد تحتوي على 7 أو 8 منازل.
- أعزز الإجابات الصحيحة.
- لا يقل المجال العاطفي أهمية عن المجال المعرفي، فأحرص على ألا أخطئ أحداً، بل أقول: (اقتربت من الإجابة الصحيحة، من يستطيع إعطاء إجابة أخرى؟)، ثم أشكره على محاولته الإجابة، وأطلب إلى أحد الطلبة غيره الإجابة عن السؤال، حتى نحصل على الإجابة الصحيحة، وأعززه، ثم أعود إلى الطالب نفسه/ الطالبة نفسها وأطلب إليه/ إليها الإجابة عن السؤال، وأعززه/ أعزّزها كما عززت من قديم الإجابة الصحيحة.

- أعرض على الطلبة لوحة منازل كُتب عليها اسم كل منزلة حتى مئات الألف، وأذكرهم بدورة الآحاد ودورة الألف.
- أكتب على اللوح عدداً من 9 منازل، وأطلب إلى أحد الطلبة كتابة العدد في لوحة المنازل.
- أسأل الطلبة الأسئلة الآتية:
 - « هل تكفي المنازل الموجودة على اللوحة، أم نحتاج إلى منازل إضافية؟ »
 - « برأيكم، إلى كم منزلة نحتاج؟ »
 - « من يقترح اسمًا لكل منزلة جديدة على اللوحة؟ ومن يؤيده؟ »
- أستمع لإجابات الطلبة وأقدم التغذية الراجعة لهم، ثم أكتب تسميات المنازل الجديدة على اللوحة.

تعزيز اللغة ودعمها:

أكرّر المصطلح: (دورة الملايين) أمام الطلبة، وأحرص على استعماله من قبلهم.

مثال 1

- أذكر الطلبة بأهمية لوحة المنازل في تحديد القيمة المنزلية لكل رقم في العدد.
- أكتب العدد 2051841 الوارد في المثال 1 في لوحة المنازل، ثم أسأل الطلبة:
 - « ما القيمة المنزلية للرقم 4؟ 40 »
 - « ما القيمة المنزلية للرقم 8؟ 800 »
 - « ما القيمة المنزلية للرقم 50؟ 50000 »

✓ **إرشاد:** أذكر الطلبة أن كل 3 أرقام من اليمين في العدد تُمثّل دورة؛ فالثلاثة الأولى تُمثّل دورة الآحاد، والثلاثة التالية تُمثّل دورة الألف، والثلاثة التالية تُمثّل دورة الملايين.

أَتَحَقَّقُ مِنْ فَهْمِي:

أَكْتُبُ الْقِيَمَةَ الْمُنْرَلِيَّةَ لِلرَّقْمِ الَّذِي تَحْتَهُ حَطُّ فِي الْعَدَدِ 783596015 80000000

إِنَّ كِتَابَةَ الْعَدَدِ بِالصِّيغَةِ الْقِيَاسِيَّةِ تُعْنَى كِتَابَتَهُ بِاسْتِعْمَالِ أَرْقَامِهِ، أَمَا كِتَابَتُهُ بِالصِّيغَةِ اللَّفْظِيَّةِ، فَتُعْنَى كِتَابَتَهُ بِالْكَلِمَاتِ. وَأَمَا الصِّيغَةُ التَّحْلِيلِيَّةُ، فَتُظَهِّرُ فِيهَا الْقِيَمَةَ الْمُنْرَلِيَّةَ لِكُلِّ رَقْمٍ فِي الْعَدَدِ.



مِثَال 2: مِنَ الْحَيَاةِ

الْأَرْضُ: الْمَسَافَةُ بَيْنَ الْأَرْضِ وَالشَّمْسِ 149598428 km تَقْرِيْبًا. أَكْتُبْ هَذَا الْعَدَدَ بِالصِّيغَتَيْنِ اللَّفْظِيَّةِ وَالتَّحْلِيلِيَّةِ.

أَسْتَعِينُ بِلَوْحَةِ الْمَنَازِلِ.

دَوْرَةُ الْمَلَايِينِ			دَوْرَةُ الْأَلُوفِ			دَوْرَةُ الْأَحَادِ		
مِثَاثٌ	عَشْرَاثٌ	أَحَادٌ	مِثَاثٌ	عَشْرَاثٌ	أَحَادٌ	مِثَاثٌ	عَشْرَاثٌ	أَحَادٌ
1	4	9	5	9	8	4	2	8

الصِّيغَةُ اللَّفْظِيَّةُ: مِئَةٌ وَتِسْعَةٌ وَأَرْبَعُونَ مِليُونًا، وَخَمْسُمِئَةٌ وَتِسْعُونَ أَلْفًا، وَأَرْبَعُمِئَةٌ وَتِسْعُونَ عِشْرُونَ.

الصِّيغَةُ التَّحْلِيلِيَّةُ: 8+20+400+8000+90000+900000+4000000+100000000

أَتَحَقَّقُ مِنْ فَهْمِي:

عُطَارِدٌ: يُعَدُّ عُطَارِدٌ أَصْغَرَ كَوَاكِبِ الْمَجْمُوعَةِ الشَّمْسِيَّةِ وَأَقْرَبُهَا إِلَى الشَّمْسِ، إِذْ تَبْلُغُ الْمَسَافَةُ بَيْنَهُ وَبَيْنَ الشَّمْسِ 57909050 km تَقْرِيْبًا. أَكْتُبْ هَذَا الْعَدَدَ بِالصِّيغَتَيْنِ اللَّفْظِيَّةِ وَالتَّحْلِيلِيَّةِ.

الصِّيغَةُ اللَّفْظِيَّةُ: سَبْعَةٌ وَخَمْسُونَ مِليُونًا وَتِسْعَمِئَةٌ وَتِسْعَةَ أَلْفٍ وَخَمْسُونَ.
الصِّيغَةُ التَّحْلِيلِيَّةُ: 50+9000+900000+7000000+50000000

مِثَال 2: مِنَ الْحَيَاةِ

- أَوْضِحْ لِلطَّلِبَةِ طَرِيقَةَ قِرَاءَةِ الْأَعْدَادِ عَنْ طَرِيقِ لَوْحَةِ الْمَنَازِلِ، وَذَلِكَ بِتَقْسِيمِ الْعَدَدِ بِتَجْزِئَةِ أَرْقَامِهِ مِنَ الْيَمِينِ إِلَى الْيَسَارِ، بِحَيْثُ تَكُونُ كُلُّ 3 أَرْقَامٍ دَوْرَةً، وَتُقْرَأُ مِنَ الْيَسَارِ إِلَى الْيَمِينِ.
- أَوْجِهْ أَحَدَ الطَّلِبَةِ إِلَى كِتَابَةِ عَدَدٍ مِنْ 9 مَنَازِلٍ فِي لَوْحَةِ الْمَنَازِلِ.
- أَوْضِحْ لِلطَّلِبَةِ صِيغَةَ كِتَابَةِ الْعَدَدِ: الصِّيغَةُ الْقِيَاسِيَّةُ، وَالصِّيغَةُ اللَّفْظِيَّةُ، وَالصِّيغَةُ التَّحْلِيلِيَّةُ، وَأَبَيِّنْ مَعْنَى كُلِّ مِنْهَا.
- أَطْلُبْ إِلَى أَحَدِ الطَّلِبَةِ قِرَاءَةَ الْعَدَدِ فِي لَوْحَةِ الْمَنَازِلِ، وَمِنْ آخِرِ أَنْ يُعِيدَ قِرَاءَةَ الْعَدَدِ.
- أَكْتُبِ الْعَدَدَ عَلَى اللَّوْحِ؛ بِاسْتِعْمَالِ الصِّيغَةِ اللَّفْظِيَّةِ.
- أُنَاقِشِ الطَّلِبَةَ فِي حَلِّ الْمِثَالِ 2 عَلَى اللَّوْحِ؛ عَنْ طَرِيقِ تَوْجِيهِ الْأَسْئَلَةِ الْآتِيَةِ:

« كَيْفَ أَقْرَأُ هَذَا الْعَدَدَ؟ أَتَقَبَّلُ إِجَابَاتِ الطَّلِبَةِ جَمِيعَهَا.

« أَكْتُبِ الْعَدَدَ بِالصِّيغَةِ التَّحْلِيلِيَّةِ.

« أَكْتُبِ الْعَدَدَ بِالصِّيغَةِ اللَّفْظِيَّةِ.

تنويع التعليم:

قد يجد بعض الطلبة من ذوي المستوى المتوسط ودون المتوسط صعوبة في قراءة الأعداد التي تكون بعض منازلها أصفارًا، وكذلك في كتابتها؛ لذا، أوجههم إلى استعمال لوحة المنازل لمساعدتهم على ذلك.

أُتَدْرَبُ وَأَحْلُ الْمَسَائِلَ:

• أُوجِّهُ الطَّلِبَةَ إِلَى فِقْرَةِ (أُتَدْرَبُ وَأَحْلُ الْمَسَائِلَ)، ثُمَّ أَطْلُبُ إِلَيْهِمْ حُلَّ الْمَسَائِلِ (1-11) فِي مَجْمُوعَاتٍ ثَنَائِيَّةٍ دَاخِلِ الْغُرْفَةِ الصَّفِيَّةِ؛ فَهَذِهِ الْمَسَائِلُ تُحَدِّدُ تَرْتِيبَ رَتَبَاتٍ مُبَاشِرًا بِأَمْثَلَةِ الدَّرْسِ، وَهِيَ تُسْتَعْمَلُ خَاصَّةً لِتَدْرِيبِ الطَّلِبَةِ عَلَى الْمَفَاهِيمِ نَفْسِهَا، بِصَرَفِ النَّظَرِ عَمَّا إِذَا كَانَتِ الْأَسْئَلَةُ فَرْدِيَّةً أَوْ زَوْجِيَّةً.

• إِذَا وَاجَهَ الطَّلِبَةَ صَعُوبَةً فِي حُلِّ أَيْ مَسْأَلَةٍ، فَإِنِّي أُخْتَارُ أَحَدَ الطَّلِبَةِ مِمَّنْ تَمَكَّنَ / تَمَكَّنَتْ مِنْ حُلِّ الْمَسْأَلَةِ؛ لِمُنَاقَشَةِ اسْتِرَاطِيَّاتِهِ / اسْتِرَاطِيَّاتِهَا فِي حُلِّ الْمَسْأَلَةِ عَلَى اللُّوحِ، مُحَفِّزًا الطَّلِبَةَ عَلَى طَرَحِ أَيْ تَسْأُؤِ عَنْ خَطَوَاتِ الْحُلِّ الْمُقَدَّمَةِ مِنَ الزَّمِيلِ / الزَّمِيلَةِ.

مهارات التفكير العليا

- أُوجِّهُ الطَّلِبَةَ إِلَى فِقْرَةِ (مِهَارَاتِ التَّفَكِيرِ الْعَلِيَا)، ثُمَّ أَطْلُبُ إِلَيْهِمْ حُلَّ الْمَسَائِلِ (16 - 17).
- أُرْصِدُ أَيَّ أَفْكَارٍ غَيْرِ تَقْلِيدِيَّةٍ مِنَ الطَّلِبَةِ، ثُمَّ أَطْلُبُ إِلَى هَؤُلَاءِ الطَّلِبَةِ كِتَابَةَ هَذِهِ الْأَفْكَارِ عَلَى اللُّوحِ.
- أُنَاقِشُ سْؤَالَ 16 **أَكْتَشِفُ الْخَطَأَ**، لِمُسَاعَدَةِ الطَّلِبَةِ ذَوِي الْمَسْتَوَى دُونَ الْمَتَوَسِّطِ؛ بِأَنْ أَسْأَلَ الطَّلِبَةَ عَنْ عِدَدِ الْمَنَازِلِ فِي الصِّيغَةِ الْقِيَاسِيَّةِ لِلْعَدَدِ، وَمَقَارِنَتِهَا بِالصِّيغَةِ التَّحْلِيلِيَّةِ لِأَكْتِشَافِ الْخَطَأِ.
- فِي سْؤَالَ 17 **تَبْرِيرُ**، أُسَاعِدُ الطَّلِبَةَ بِأَنْ أَطْلُبُ إِلَيْهِمْ كِتَابَةَ الْقِيَمَةِ الْمُنْزَلِيَّةِ فِي الْحَالَتَيْنِ لِتَبْرِيرِ الْإِجَابَةِ.



أُتَدْرَبُ وَأَحْلُ الْمَسَائِلَ

أَكْتُبُ الْقِيَمَةَ الْمُنْزَلِيَّةَ لِلرَّقْمِ الَّذِي تَحْتَهُ حَطُّ فِي كُلِّ مِمَّا يَأْتِي:

- 1 999964 2 51232038 3 517232038
60 30000 7000000

4 أَصِلْ بِحَطِّ بَيْنَ قِيَمَةِ الرَّقْمِ الَّذِي تَحْتَهُ حَطُّ فِي الْأَعْدَادِ الْوَارِدَةِ إِلَى الْيَمِينِ، وَبَيْنَ الْأَعْدَادِ الْوَارِدَةِ إِلَى الْيَسَارِ:

578681	700
92717	70
367709	70000
675573	7000

أَكْتُبُ كُلَّ عَدَدٍ مِمَّا يَأْتِي بِالصِّيغَتَيْنِ اللَّفْظِيَّةِ وَالتَّحْلِيلِيَّةِ: **أنظر إلى الملحق.**

- 5 6082503 6 57800083 7 4810926

أَكْتُبُ الْعَدَدَ بِالصِّيغَتَيْنِ الْقِيَاسِيَّةِ وَالتَّحْلِيلِيَّةِ: **أنظر إلى الملحق.**

8 مِليُونٌ وَمِئَةٌ وَأَرْبَعَةٌ وَسَبْعُونَ أَلْفًا وَأَرْبَعَمِئَةً وَثَلَاثَةٌ وَسَبْعُونَ.

9 خَمْسَةَ عَشَرَ مِليُونًا وَمِئَةً وَثَمَانِيَةَ أَلْفٍ وَسَبْعَةَ.

10 مِئَتَانِ وَأَرْبَعَةٌ وَثَلَاثُونَ مِليُونًا وَسَبْعَةَ وَثَمَانُونَ.

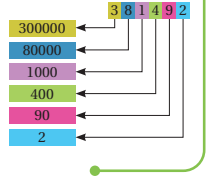
11 يَرْمِشُ الْإِنْسَانُ حَوَالِي 4927500 مَرَّةً فِي السَّنَةِ. أَكْتُبْ هَذَا الْعَدَدَ بِالصِّيغَتَيْنِ اللَّفْظِيَّةِ وَالتَّحْلِيلِيَّةِ.

الصِّيغَةُ اللَّفْظِيَّةُ: أَرْبَعَةٌ مِلايِينٍ وَتِسْعَمِئَةُ وَسَبْعَةُ وَعِشْرُونَ أَلْفًا وَخَمْسَمِئَةً.
الصِّيغَةُ التَّحْلِيلِيَّةُ: 4000000+900000+20000+7000+500

12 مَا الْعَدَدُ الْمَفْقُودُ فِي:

$$1425689 = 1000000 + 400000 + \boxed{} + 5000 + 600 + 80 + 9$$

أُتَذَكَّرُ



مُغْلُومَةٌ

رَمِشَةُ الْعَيْنِ هِيَ أَسْرَعُ حَرَكَةٍ يُمَكِّنُ أَنْ يَفْعَلَ بِهَا جِسْمُ الْإِنْسَانِ. وَكَلِمَاتُهَا بِالْعُمُرِ تَسْرَعُ وَتَبْرَهُ رَمِشَةُ الْعَيْنِ.



أستعين بالجدول الآتي لتحديد الواجب المنزلي للطلبة بحسب مستوياتهم:

المستويات	الأسئلة
دون المتوسط	كتاب الطالب: 13, 16 كتاب التمارين: (1-3)
ضمن المتوسط	كتاب الطالب: 12, 14, 16 كتاب التمارين: 4, 5
فوق المتوسط	كتاب الطالب: 12, (14-17) كتاب التمارين: (6-8)

إرشاد: قد يختلف تصنيف الطلبة من درس إلى آخر تبعاً لأدائهم. فمثلاً، قد يكون أداء أحد الطلبة دون المتوسط في درس، وفوق المتوسط في درس آخر.

5 الإثراء

- أوجّه الأسئلة الآتية لإثراء تعلم الطلبة:
- ما العلاقة بين قيمة الرقم 2 في العدد 6324157، والرقم 8 في العدد 9784157؟ قيمة الرقم 8 في العدد الثاني، أربعة أمثال قيمة الرقم 2 في العدد الأول.
- ما العلاقة بين قيمة الرقم في منزلة العشرات وقيمة الرقم في منزلة الألوف في العدد 3767035؟

مشروع الوحدة:

- أوجّه الطلبة إلى تنفيذ الخطوة 1 من المشروع، وتنفيذ الفقرة الأولى من الخطوة 2 وهي:
- جمع بيانات.
 - صنع البطاقات الأربع.
 - ترتيب الأعداد في لوحة المنازل

6 الختام

- أستعمل فقرة **أتحدّث**، للتأكد من فهم الطلبة لموضوع الدرس، وأطلب إلى بعض الطلبة من ذوي المستوى المتوسط أو دون المتوسط الإجابة عن السؤال.
- أعرض لوحة القيمة المنزلية، وأمثلة العدد 5837462، وأشار إلى الأرقام بصورة عشوائية، وأطلب إلى الطلبة تحديد القيمة المنزلية لتلك الأرقام.

الوحدة 1

13 أملاً لوحدة القيمة المنزلية، تمّ أكتُب العدد بالصيغة التحليلية:

دورة الآحاد			دورة الألوف			دورة الملايين		
آحاد	عشرات	مئات	آحاد	عشرات	مئات	آحاد	عشرات	مئات
7	2	7	4	4	9	3		

7	20	700	4000	40000	900000
---	----	-----	------	-------	--------

$$3944727 = 3000000 + 900000 + 40000 + 4000 + 700 + 20 + 7$$

معلومة

أُنشئ مطار الملكة علياء الدولي عام 1983 وسُمي بهذا الإسم تخليداً لذكرى الملكة علياء الحسين التي تُوفيت في حادث طيران.



14 سَمَر: استقبل مطار الملكة علياء الدولي

خلال شهر آب من عام 2019م، 1053225 مسافراً. أُحدّد منزلة الرقم 3، وأكْتُب قيمته المنزلية.

منزلة آحاد الألوف وقيمته 3000

15 سَكَّان: أعود إلى فقرة (أكتشف)، وأكْتُب عدد سكان المملكة بالصيغة التحليلية.

$$10000000 + 500000 + 70000 + 9000 + 700 + 40 + 7$$

مهارات التفكير العليا

16 أكتشف الخطأ: كتبت سميعة العدد 35003936 بالصيغة التحليلية:

$$30000000 + 50000 + 3000 + 900 + 30 + 6$$

أكتشف خطأ سميعة وأصححهُ. الخطأ: 5000000 بدلاً من 50000 لأنه في منزلة الملايين.

17 تَبَرُّر: هل تختلف القيمة المنزلية للرقم 9 في العدد 9605 عن القيمة المنزلية للرقم 9

في العدد 149605؟ أبرر إجابتي. لا تختلف لأنها تقع في منزلة آحاد الألوف في العددين.

أتحدّث: ممّ تتكوّن دورة المليون؟

تتكوّن دورة الملايين من آحاد الملايين وعشرات الملايين ومئات الملايين.

نتائج الدرس:

- المقارنة بين الأعداد ضمن الملايين وترتيبها.

نتائج التعلم القبلي:

فهم القيمة المنزلية للأرقام ضمن أعداد من 6 منازل.

مراجعة التعلم القبلي ومعالجة الفاقد التعليمي:

أسترشد بالإجراءات المبيّنة في مقدمة دليل المعلم (الصفحتان i و j) المتعلقة بمراجعة التعلم القبلي ومعالجة الفاقد التعليمي لدى الطلبة.

التهيئة

1

أجري النشاط الآتي:

- أضع مجموعة بطاقات الأعداد (99 - 10) من ورقة المصادر 3: بطاقات الأعداد (100 - 0) مقلوبة على الطاولة أمام الطلبة.
- أطلب إلى أحد الطلبة سحب بطاقتين من بطاقات الأعداد لتكوين عدد من 4 منازل؛ بحيث يُمثل الرقمان في البطاقة الأولى الألوف والمئات، ويُمثل الرقمان في البطاقة الثانية العشرات والآحاد.
- أطلب إلى طالب آخر تكرار ما فعله زميله؛ لتكوين عدد ثان من 4 منازل.
- أسأل الطلبة: أي العددين أكبر؟ لماذا؟
- أطلب إلى أحد الطلبة أن يكتب على اللوح عبارة المقارنة بين العددين؛ باستعمال أحد الرمز ($<$ أو $>$).
- أكرّر هذه الخطوات لأعداد أخرى مكونة من 4 منازل.

مُقارَنَةُ الأَعْدَادِ وَتَرْتِيبُهَا

الدَّرْسُ 2

أَسْتَكْشِفُ

يُبيِّنُ الجَدْوَلُ المُجَاوِرُ عَدَدَ حُجَّاجِ بَيْتِ اللَّهِ الحَرَامِ لِخَمْسَةِ أعْوامٍ. ما العَامُ الَّذِي كانَ فِيهِ عَدَدُ الحُجَّاجِ أَكْبَرَ؟

العَامُ	عَدَدُ الحُجَّاجِ
2015	1390666
2016	1325471
2017	1755250
2018	1760513
2019	1855836

المصدر: وزارة الحج والعمرة السعودية.

فِكْرَةُ الدَّرْسِ

أُقارَنُ بَيْنَ الأَعْدَادِ ضَمَنَ المَلايِينِ، وَأُرتَبُها.

أَتَعَلَّمُ

الرمز

بالكلمات	الرمز
أكبر من	$>$
أصغر من	$<$
يساوي	$=$

يُمكِنُني اسْتِعْمالُ القِيَمَةِ المُرْتَبِيةِ وَالرُّمُوزِ $>$ ، $=$ ، $<$ لِلمُقارَنَةِ بَيْنَ عَدَدَيْنِ، وَذَلِكَ بِتَرْتِيبِ العَدَدَيْنِ بِشَكْلِ رَأْسِيٍّ، وَحَاذِةِ المَنازِلِ فَوْقَ بَعْضِها أَوَّلًا، ثُمَّ البَدْءِ بِالمُقارَنَةِ مِنَ الِيسارِ.

مِثال 1

أَضَعُ الرَّمْزَ ($>$ أو $<$ أو $=$) فِي ؛ لِتُصَبِّحَ العِبارَةُ صَحِيحَةً فِي ما يَأْتِي:

$$3456210 \quad \square \quad 3759120$$

أُقارِنُ بَيْنَ رَقَمَي كُلِّ مَنزِلَةٍ بَدْءًا مِنَ الِيسارِ.

$$\begin{array}{r} 3456210 \\ 3759120 \end{array}$$

أَكْتُبُ العَدَدَيْنِ بِشَكْلِ رَأْسِيٍّ.

$$\begin{array}{r} 3456210 \\ 3759120 \end{array}$$

أُقارِنُ بَيْنَ رَقَمَي المَنزِلَةِ التَّالِيَةِ مِنَ الِيسارِ.

$$\begin{array}{r} 3456210 \\ 3759120 \end{array}$$

بِما أَنَّ $7 < 4$ ، إِذْنًا: العَدَدُ 3759120 هُوَ الأَكْبَرُ، وَمِنْهُ:

$$3759120 > 3456210$$

- أوجّه الطلبة إلى قراءة المسألة في فقرة **أستكشف**، وأسألهم:
 - « كم عدد المنازل في كل عدد من أعداد الحجاج في السنوات المختلفة؟ **7 منازل**.
 - « ماذا يُمثّل الرقم الأول من اليسار في كل من هذه الأعداد؟ **مليون**.
 - « ماذا تلاحظ على بقية الأرقام، هل تختلف من عدد إلى آخر؟
اختلاف الأرقام الباقية يدل على اختلاف قيمة العدد.
 - « كيف نقارن بينها؟
- أطلب إلى الطلبة كتابة عبارة المقارنة باستعمال رمز الأكبر على ألواحهم الصغيرة ثم رفعها عاليًا.
- أناقش مع الطلبة مزيدًا من الأمثلة، للتحقق من تمكنهم من فكرة الدرس.
- أعزّز الإجابات الصحيحة.
- أوضّح للطلبة أنهم سيطبقون ما تعلموه سابقًا لمقارنة الأعداد وترتيبها، ولكن ستكون الأعداد ذات منازل أكثر.

مثال 1

- أوضح للطلبة أنه يمكن المقارنة بين عددين لهما العدد نفسه من الأرقام باستعمال القيمة المنزلية، وأذكرهم برموز المقارنة.
- أوجه الطلبة إلى المثال 1 للمقارنة بين العددين 3759120 و 3456210
- أطلب إلى أحد الطلبة كتابة العددين بشكل رأسي على اللوح.
- أذكر الطلبة أنه للمقارنة بين عددين، نبدأ المقارنة بين رقمي كل منزلة بدءًا من اليسار، ثم أسألهم:
 - « ما القيمة المنزلية للرقم 3 في العددين؟ **3000000 (3 ملايين)**.
 - « أتوصّل إلى تساوي منزلة الملايين في العددين.
 - « ما الرقم في المنزلة التي تليها في كل من العددين؟ **4, 7**.
 - « أيهما أكبر؟ **7**.
 - « إذن أي العددين أكبر؟
- أطلب إلى الطلبة كتابة عبارة المقارنة باستعمال رمز الأكبر على ألواحهم الصغيرة، ثم رفعها عاليًا.
- أناقش مع الطلبة مزيدًا من الأمثلة، للتحقق من تمكنهم من فكرة الدرس.

التقويم التكويني: ✓

أطلب إلى الطلبة حلّ تدريب (أتحقّق من فهمي) بعد كلّ مثال. أختار بعض الإجابات التي تحتوي على أخطاء مفاهيمية، وأناقش الطلبة فيها على اللوح. لا أذكر اسم صاحب الحلّ أمام الصفّ تجنبًا لإحراجهم.

مثال 2: من الحياة



- أناقش المثال 2 مع الطلبة، وأوجههم للاطلاع على الجدول الذي يُمثّل ازدياد عدد السياح القادمين للأردن في أعوام متتالية، وأختار 3 من الطلبة لقراءة الأعداد في الجدول.
- أطلب إلى أحد الطلبة كتابة الأعداد الثلاثة بصورة رأسية على اللوح.
- أسأل: كم عدد المنازل في كل من الأعداد الثلاث؟ **7 منازل.**
- أذكر الطلبة أنّ المقارنة تتم بدءاً من المنزلة التي تقع على اليسار.
- أسأل الطلبة: ماذا تلاحظون على المنزلة التي تقع على اليسار في الأعداد جميعها؟ **نلاحظ أنها متساوية.**
- بما أنّ الرقم في منزلة المليون متساوٍ في الأعداد جميعها، تنتقل إلى المنزلة التالية (مئات الألوف) التي على يمينها، ونلاحظ أنّ الرقم الأول 5 أقل من الرقمين الثاني والثالث 9.
- أكتب العدد 4565158 وهو الأصغر.
- أنتقل إلى العددين التاليين، وأطلب إلى الطلبة المقارنة بينهما وتحديد العدد الأكبر، وتبرير ذلك.
- أوجه الطلبة إلى طريقة كتابة الأعداد من الأكبر إلى الأصغر، وأركز على استعمال الطلبة للمصطلحات: أكبر، وأصغر، والترتيب التصاعدي، والتنازلي.

الوَحْدَةُ 1

أتحقق من فهمي: أضع الرمز (> أو < أو =) في □؛ لتُصبح العبارة صحيحة في ما يأتي:

1) 9724511 > 3759120

2) 56109789 > 5678089

يُمكنني أيضاً استعمال القيمة المنزلية لترتيب الأعداد تصاعدياً (من الأصغر إلى الأكبر) أو تنازلياً (من الأكبر إلى الأصغر)؛ وذلك بكتابتها رأسيًا فوق بعضها، ثم مقارنة أرقامها من اليسار إلى اليمين.

مثال 2: من الحياة

سياحة: يبيّن الجدول المُجاور عدد السياح القادمين إلى الأردن خلال 3 أعوام. أرتب هذه الأعداد تنازلياً.

المصدر: موقع وزارة السياحة.

عام	عدد السياح
2017	4565158
2018	4922169
2019	4962144

الخطوة 3

4962144
4922169
4565158

نتنقل إلى المنزلة التالية لمقارنة العددين المُتبقين. بما أنّ $2 > 6$ فإن 4962144 هو العدد الأكبر.

الخطوة 2

4962144
4922169
4565158

بما أنّ $9 > 5$ فإن العدد 4565158 هو الأصغر.

الخطوة 1

4565158
4922169
4962144

بما أنّ أرقام أكبر منزلة متساوية؛ نتنقل إلى المنزلة التالية، ونقارن أرقامها.

إذن، ترتيب الأعداد تنازلياً هو: 4962144, 4922169, 4565158



أتحقق من فهمي:

53241290, 53279243, 53641025 من اليسار إلى اليمين.

أرتب الأعداد 53241290, 53641025, 53279243 تصاعدياً.

تنبيه!

أنبه الطلبة إلى عدد المنازل عند مقارنة عددين، وأنّ العدد الأكبر هو الذي عدد منازل أكبر.

أُتَدْرَب وَأَحْلُ الْمَسَائِلَ:

• أُوَجِّهُ الطَّلِبَةَ إِلَى فِقْرَةِ (أُتَدْرَبُ وَأَحْلُ الْمَسَائِلَ)، ثُمَّ أَطْلُبُ إِلَيْهِمْ حُلَّ الْمَسَائِلِ (1-7)، وَالْمَسْأَلَتَيْنِ (15 وَ 16) ضَمَنَ مَجْمُوعَاتٍ ثَنَائِيَّةٍ دَاخِلِ الْغُرْفَةِ الصَّفِيَّةِ؛ فَهَذِهِ الْمَسَائِلُ تَحْدِيدًا تَرْتِيبًا رَتَبًا مُبَاشَرًا بِأَمثلةِ الدَّرْسِ، وَهِيَ تُسْتَعْمَلُ خَاصَّةً لِتَدْرِيبِ الطَّلِبَةِ عَلَى الْمَفَاهِيمِ نَفْسَهَا، بِصَرَفِ النَّظَرِ عَمَّا إِذَا كَانَتِ الْأَسْئَلَةُ فَرْدِيَّةً أَمْ زَوْجِيَّةً.

• إِذَا وَاجَهَ الطَّلِبَةَ صَعُوبَةً فِي حَلِّ أَيِّ مَسْأَلَةٍ، فَإِنِّي أُخْتَارُ أَحَدَ الطَّلِبَةِ مِمَّنْ تَمَكَّنَ/ تَمَكَّنَتْ مِنْ حَلِّ الْمَسْأَلَةِ؛ لِمُنَاقَشَةِ اسْتِرَاطِيَجِيَّتِهِ/ اسْتِرَاطِيَجِيَّتِهَا فِي حَلِّ الْمَسْأَلَةِ عَلَى اللَّوْحِ، مُحَفِّزًا الطَّلِبَةَ عَلَى طَرَحِ أَيِّ تَسْأُؤَلٍ عَنِ خَطَوَاتِ الْحَلِّ الْمُقَدَّمَةِ مِنَ الزَّمِيلِ/ الزَّمِيلَةِ.

الواجب المنزلي:

أُسْتَعِينُ بِالْجَدُولِ الْآتِي لِتَحْدِيدِ الْوَاجِبِ الْمَنْزَلِيِّ لِلطَّلِبَةِ بِحَسَبِ مَسْتَوِيَاتِهِمْ:

المستويات	الأسئلة
دون المتوسط	كتاب الطالب: 8, 9, 14 كتاب التمارين: 1, 2, 5
ضمن المتوسط	كتاب الطالب: 17, 19, (10-13) كتاب التمارين: 3, 5, 6
فوق المتوسط	كتاب الطالب: (10-13), (17-21) كتاب التمارين: 4, 7, 8

أُتَدْرَبُ وَأَحْلُ الْمَسَائِلَ

أَصْغُ الرَّمْزَ (< أَوْ > أَوْ =) فِي □ لِتُصْبِحَ الْعِبَارَةُ صَحِيحَةً:

- 1 100012001 > 7965412
- 2 124523414 > 98542578
- 3 671984675 > 671984380
- 4 889529749 > 749621848
- 5 461329 = 400000 + 60000 + 1000 + 300 + 20 + 9
- 6 100003 > عَشْرَةَ آلَافٍ وَثَلَاثَةَ

1325471, 1390666, 1755250, 1760513, 1855836 من اليسار إلى اليمين.

7 الْحَيِّجُ: أَعُودُ إِلَى فِقْرَةِ (أُسْتَكْشِفُ)، وَأُرْتَّبُ أَعْدَادَ الْحُجَّاجِ تَصَاعُدِيًّا.

أَكْتُبُ رَقْمًا مُنَاسِبًا فِي □؛ لِتُصْبِحَ الْجُمْلَةُ الْعَدَدِيَّةُ صَحِيحَةً:

- 8 32117 = 3 2 117
- 9 7114899 < 7114 9 99
- 10 9124382 < 91243 9 2
- 11 27039 1 = 2703981 8
- 12 1982 5 888 = 19825888
- 13 3683129 < 36 9 3129

14 أُرْتَّبُ الْأَعْدَادَ الْأَتِيَّةَ مِنَ الْأَصْغَرِ إِلَى الْأَكْبَرِ: (أَكْتُبُ الْإِجَابَةَ بِالصَّبِغَةِ الْقِيَاسِيَّةِ)

(a) 50000 + 200 + 70

(b) اثنان وخمسون ألفًا وسبعة.

(c) 50720

الأصغر الأكبر

..... 50270 , 50720 , 52007

أُتَذَكَّرُ

حَسْبُ بَيْتِ اللَّهِ الْحَرَامِ
رُحْنٌ مِنْ أَرْكَانِ الْإِسْلَامِ
الْخَمْسَةِ، وَتَسْعِيرَةٌ تَهْفُو
إِلَيْهَا الْقُلُوبُ. قَالَ تَعَالَى:
«وَلِلَّهِ عَلَى النَّاسِ حِجُّ الْبَيْتِ
مَنْ اسْتَطَاعَ إِلَيْهِ سَبِيلًا».
(سورة آل عمران:
الآية 97).

مهارات التفكير العليا

- أوجّه الطلبة إلى فقرة (مهارات التفكير العليا)، ثم أطلب إليهم حل المسائل (21 – 19).
- أرصد أية أفكار غير تقليدية من الطلبة، ثم أطلب إلى هؤلاء الطلبة كتابة هذه الأفكار على اللوح.
- أناقش الطلبة في سؤال 19 المسألة المفتوحة، وأبين لهم أنه توجد حلول مختلفة. أطلب إلى الطلبة إعطاء إجابات وأناقشهم في الطرائق المختلفة للحصول على عدد أصغر من عدد معطى، مثل استبدال رقم أو أكثر برقم أصغر في المنزلة نفسها.
- أناقش الطلبة في سؤال 20 أكتشف الخطأ، أوجه الطلبة إلى ضرورة المقارنة بين عدد المنازل أولاً.
- في سؤال 21 تبرير، أطلب إلى الطلبة ذوي المستوى المتوسط ودون المتوسط إعطاء تبرير لماذا نبدأ المقارنة من اليسار.

التطبيق:

- أوجّه الطلبة إلى تنفيذ النشاط 2 من أنشطة التدريب الإضافية.

الإثراء

5

- أستعمل المسألة الآتية لإثراء تعلم الطلبة: « أكتب الأعداد 24515000، 9547120، على اللوح، وأطلب إلى الطلبة كتابة عددين يقعان بينهما.

مشروع الوحدة:

- أوجّه الطلبة إلى تنفيذ الفقرة الثانية من الخطوة الثانية من المشروع:
- صنّع بطاقة خامسة.
- ترتيب عدد السكان على البطاقة تصاعدياً.

الختام

6

- أستعمل فقرة **أتحدّث**، حول استعمال طرائق أخرى للمقارنة بين الأعداد مثل خط الأعداد ولوحة المنازل؛ للتأكد من فهم الطلبة لموضوع الدرس وبخاصة الطلبة ذوي المستوى المتوسط ودون المتوسط.

الوحدّة 1

المُحيطُ	المِساحةُ (km ²)
المُحيطُ الأَطْلَسِيُّ	85133000
المُحيطُ الهِنْدِيُّ	70560000
المُحيطُ الهَادِيّ	168723000

15 يُبَيِّنُ الجَدُولُ المُجاوِرُ المِساحةَ التَّقْرِيبيَّةَ لِثَلَاثَةِ مُحيطاتٍ. ارْتَبِّ هذه المِساحاتِ تصاعدياً.
70560000, 85133000, 168723000

اليوم	الحمولة المُفَرَّغَةُ (kg)
الأوَّلُ	1306500
الثاني	1327250
الثالثُ	1387520

16 رَسَتْ باجِرَةٌ تَحْمِلُ القَمَحَ في ميناءِ العَقَبَةِ، فَتَمَّ تَفْرِيقُ حُمولِها على مَسَدَي 3 أيامٍ كما في الجَدُولِ المُجاوِرِ. ارْتَبِّ الحُمولِاتِ المُفَرَّغَةَ في الأَيامِ الثَلَاثَةِ تَنازُلِيًّا.

1306500 1327250 1387520 من اليسار إلى اليمين.

أجِدْ الأَعْدادَ المُفَقَدَةَ في كُلِّ مِنَ المَمَطِّينِ الآتِيَيْنِ:

17 2390000, 3400000, 4410000, 5420000, 6430000

18 325410, 315410, 305410, 295410, 285410, 275410

19 مَسْأَلَةٌ مُفْتَوْحَةٌ: اكْتُبْ عَدَدًا مِنْ 8 أرقامٍ أصغَرَ مِنَ العَدَدِ 24985487، وأكْبَرَ مِنَ العَدَدِ 24985477. (إجاباتٌ متعدّدة).

20 اكْتُبِ الخَطَأَ: فارَ عَبدُ اللّهِ بَينَ العَدَدَينِ: 3785174، 970508 على خَطِّ الأَعْدادِ فَكَبَبَ: $3785174 > 970508$ ، اكْتُبِ خَطَأً عَبدَ اللّهِ وَأصَحِّحْهُ. $970508 > 3785174$ لأنَّ عددَ المنازلِ أكبر.

21 تَبَرُّرٌ: أبينْ لِمَذا نَبْدَأُ مُقارَنَةَ الأَعْدادِ بِالمَنازِلِ مِنَ اليَسارِ. لأنَّ المَنزلةَ على اليَسارِ ذاتُ قيمةٍ أكبر.

أَتحدّثُ: كَيْفَ يُمكِنُني اسْتِعْمالُ خَطِّ الأَعْدادِ في المُقارَنَةِ بَينَ أيِّ عَدَدَينِ؟

معلومة

المُحيطُ الهَادِيّ هُوَ أكْبَرُ مُسَطِّحِ مائِيٍّ على وَجْهِ كَوْكَبِ الأَرْضِ. يَمْتَدُّ مِنَ القُطْبِ الشَّمالِيِّ شَمالاً إلى المُحيطِ المُتَّجِمِّدِ الجَنوبِيِّ جَنوباً.



مهارات التفكير العليا

19 مَسْأَلَةٌ مُفْتَوْحَةٌ: اكْتُبْ عَدَدًا مِنْ 8 أرقامٍ أصغَرَ مِنَ العَدَدِ 24985487، وأكْبَرَ مِنَ العَدَدِ 24985477. (إجاباتٌ متعدّدة).

20 اكْتُبِ الخَطَأَ: فارَ عَبدُ اللّهِ بَينَ العَدَدَينِ: 3785174، 970508 على خَطِّ الأَعْدادِ فَكَبَبَ: $3785174 > 970508$ ، اكْتُبِ خَطَأً عَبدَ اللّهِ وَأصَحِّحْهُ. $970508 > 3785174$ لأنَّ عددَ المنازلِ أكبر.

21 تَبَرُّرٌ: أبينْ لِمَذا نَبْدَأُ مُقارَنَةَ الأَعْدادِ بِالمَنازِلِ مِنَ اليَسارِ. لأنَّ المَنزلةَ على اليَسارِ ذاتُ قيمةٍ أكبر.

أَتحدّثُ: كَيْفَ يُمكِنُني اسْتِعْمالُ خَطِّ الأَعْدادِ في المُقارَنَةِ بَينَ أيِّ عَدَدَينِ؟

أتحدّث: نمثل كل من العددين على خط الأعداد، ويقع العدد الأكبر على يمين العدد الأصغر، حيث تكبر الأعداد كلما اتجهنا من اليسار إلى اليمين.

15

المفاهيم العابرة للمواد:

أؤكد على المفاهيم العابرة للمواد حيثما وردت في كتاب الطالب أو كتاب التمارين، ففي السؤال 6 من كتاب التمارين، أعزز الوعي بالقضايا ذات العلاقة بالعمل مثل إدارة المشاريع وأهميتها لدى الطلبة عند مناقشة تكاليف المشروعات التي تقوم بها البلديات في مدن المملكة وأهمية هذه المشروعات في تنمية الاقتصاد ودعم السكان وخلق فرص العمل.

الدرس 3 جمع الأعداد الكليّة وطرحها



استكشف

بلّغت أرباح شركة في النصف الأول
سنة العام 1125040 ديناراً، وفي
النصف الثاني 1095400 دينار، ما
مقدار أرباح الشركة في نهاية العام؟

فكرة الدرس

أجمع أو أطرح أعداداً
ضمن 7 منازل.

التعلم

تُمكنني استعمال القيمة المنزلية، لإيجاد ناتج جمع عددين أو ناتج طرحهما، كلٌّ منهما مُكوّن من 7 منازل،
وللحكم على معقولية الإجابة، أقدّر الناتج وأقارنه بالإجابة التي حصلت عليها.

الأعداد الكليّة هي:
0, 1, 2, 3, ...

مثال 1 أجد ناتج: $3421664 + 1897632$

لإيجاد الناتج: أرّب الأعداد في لوحة القيمة المنزلية فوق بعضها:

	دورة الألاف			دورة الآحاد				
	مِائَة	عِشْرَة	وَاحِدَة	مِائَة	عِشْرَة	وَاحِدَة		
		3	4	2	1	6	6	4
+		1	8	9	7	6	3	2
		5	3	1	9	2	9	6

إعادة التجميع

العدد الأول

العدد الثاني

المجموع

أبدأ الجمع بالترتيب من اليمين إلى اليسار؛
بالاستعانة بالقيم المنزلية لأرقام العددين.

أكتب ناتج الجمع: 5319296

نتائج الدرس:

جمع أو طرح أعداد ضمن 7 منازل.

نتائج التعلم القبلي:

- تقدير ناتج جمع أو طرح الأعداد ضمن 6 منازل.
- جمع الأعداد وطرحها ضمن 6 منازل.

مراجعة التعلم القبلي ومعالجة الفاقد التعليمي:

أسترشد بالإجراءات المبيّنة في مقدمة دليل المعلم
(الصفحتان 1 و 2) المتعلقة بمراجعة التعلم القبلي ومعالجة
الفاقد التعليمي لدى الطلبة.

1 التهيئة

أجري النشاط الآتي:

- أكتب على اللوح: $7 + 9 =$
- أطلب إلى الطلبة كتابة الناتج ذهنياً، ثم استنتاج الحقائق المرتبطة: $70 + 90 = 160$
- أطلب إلى الطلبة مناقشة الحقائق التي كتبوها مع بقية الطلبة في الصف.
- أكرّر ذلك لحقائق جمع أخرى ضمن 20:
 $12 + 7 =$, $3 + 15 =$, $8 + 11 =$

- أوجه الطلبة إلى قراءة المسألة في فقرة **أستكشف**، وأسألهم:

« ما المعطيات؟ **أناقش الطلبة في الإجابات.**

« ما المطلوب؟

« كيف نجمع هذين العددين؟

- أعزز الإجابات الصحيحة.

- أبين للطلبة أنهم سيتمكنون في هذا الدرس، من جمع الأعداد المكوّنة من 7 منازل، وأن ذلك سيتم بالطريقة نفسها التي استعملوها لجمع أعداد بمنازل أقل.

أبين للطلبة أنهم سيتعلمون جمع أعداد من 7 منازل؛ باستعمال القيمة المنزلية.

مثال 1

- أناقش المثال 1 مع الطلبة، وأرسم لوحة القيمة المنزلية على اللوح، ثم أطلب إلى أحد الطلبة تمثيل العدد الأول في لوحة القيمة المنزلية، ثم أطلب إلى آخر تمثيل العدد الثاني.

- أسأل الطلبة:

« ما المنزلة التي نبدأ بجمعها ومن أي اتجاه؟ **من اليمين.**

- أناقش الطلبة في خطوات الجمع، وأذكر الطلبة بإعادة التجميع وأسأل: متى نعيد التجميع؟

- أطلب إلى أحد الطلبة توضيح خطوات إعادة التجميع بالتفصيل، **مثل: 6 مئات + 6 مئات تساوي 12 مئة (1200 = 1000 + 200)** لذا، نُضيف 1000 لمنزلة الألوف، وهكذا بالنسبة إلى منزلة عشرات الألوف ومئات الألوف، وأؤكد على استعمال مصطلح إعادة التجميع للتذكير باستعماله.

- أوضّح خطوات تقدير ناتج الجمع، وأبين للطلبة أن هذه الخطوة تساعد على الحكم على معقولية الإجابة.

التقويم التكويني: ✓

أطلب إلى الطلبة حلّ تدريب (أتحقّق من فهمي) بعد كلّ مثال. أختار بعض الإجابات التي تحتوي على أخطاء مفاهيمية، وأناقش الطلبة فيها على اللوح. لا أذكر اسم صاحب الحلّ أمام الصفّ تجنباً لإحراجهم.

أناقش المثال 2 مع الطلبة باتباع الخطوات الآتية:

- أبدأ بتقدير ناتج الطرح، وأبين خطوات التقدير بتقريب الأعداد إلى أعلى منزلة.
- أطلب إلى الطلبة تقريب العددين وإيجاد ناتج الطرح ذهنيًا.
- أرسم لوحة القيمة المنزلية على اللوح.
- أطلب إلى أحد الطلبة تمثيل العدد الأول في اللوحة، ومن آخر تمثيل العدد الثاني بالطريقة نفسها. أسأل عن الخطوة الأولى بعملية الطرح.
- عند طرح المئات، أسأل الطلبة: هل يمكن طرح 4 مئات من مئة واحدة؟ أذكرهم بإعادة التجميع.
- أطلب إلى أحد الطلبة توضيح خطوة إعادة التجميع بكتابتها بالتفصيل.
- أكرر ذلك بالنسبة إلى الخطوات الباقية.
- أطلب إلى أحد الطلبة كتابة جملة الطرح والناتج.
- أطلب إلى الطلبة مقارنة الناتج بالقيمة التقديرية؛ للحكم على معقولية الإجابة.

أخطاء شائعة!

قد يعتقد الطلبة أن إعادة التجميع ضرورية لكل منزلة في المطروح منه؛ لذا، أذكرهم أنهم يحتاجون إلى إعادة التجميع، عندما يكون الرقم في المطروح منه أصغر من الرقم الذي تحته (المطروح).

الوَحْدَةُ 1

التقدير: أقدّر ناتج الجمع بالتقريب إلى أعلى منزلة:

$$3421664 \text{ يُقَرَّبُ إلى أعلى منزلة } \leftarrow 3000000$$

$$1897632 \text{ يُقَرَّبُ إلى أعلى منزلة } \leftarrow 2000000$$

$$2000000 + 3000000 = 5000000$$

بما أن الإجابة الدقيقة 5319296 قريبة من الإجابة المقدّرة فهي معقولة. يُمكنني التّحقُّق من صحّة الحُلِّ باستعمال الآلة الحاسِبَة.

أتحقّق من فهمي: أجد ناتج: $17897632 + 35421664 = 53319296$

مثال 2 أجد ناتج الطرح: $6938179 - 3165478$

$$6938179 \text{ يُقَرَّبُ إلى أعلى منزلة } \leftarrow 7000000$$

$$3165478 \text{ يُقَرَّبُ إلى أعلى منزلة } \leftarrow 3000000$$

$$7000000 - 3000000 = 4000000$$

لإيجاد الناتج: أرَتب الأعداد في لَوْحَة القيمة المنزلية فوق بعضها:

دَوْرَةُ المِلايِين			دَوْرَةُ الألوْف			دَوْرَةُ الأَحَادِ		
مِلايِين	ألوْف	أَحَادِ	مِلايِين	ألوْف	أَحَادِ	مِلايِين	ألوْف	أَحَادِ
			8	13	7	11		
		6	9	3	8	1	7	9
		3	1	6	5	4	7	8
-		3	7	7	2	7	0	1

إعادة التجميع
العدد الأول
العدد الثاني
ناتج الطرح

أطرح المِلايِين
أطرح مِلايِين الألوْف
أعيد التجميع وأطرح الألوْف
أطرح أحاد الألوْف
أعيد التجميع وأطرح المِلايِين
أطرح المِلايِين
أطرح الأحاد

أكتب ناتج الطرح: 3772701

أُتَدْرَب وَأَحْلُ الْمَسَائِل:

- أُوجِّه الطالبة إلى فقرة (أُتَدْرَب وَأَحْلُ الْمَسَائِل)، ثم أطلب إليهم حل المسائل (1-6) ضمن مجموعات ثنائية داخل الغرفة الصفية؛ فهذه المسائل تحديداً ترتبط ارتباطاً مباشراً بأمثلة الدرس، وهي تُستعمل خاصةً لتدريب الطالبة على المفاهيم نفسها، بصرف النظر عما إذا كانت الأسئلة فردية أم زوجية.
- إذا واجه الطالبة صعوبة في حل أيّ مسألة، فإنني أختار أحد الطلبة ممن تمكن/ تمكنت من حل المسألة؛ لمناقشة استراتيجيته/ استراتيجيتها في حل المسألة على اللوح، مُحفِّزاً الطالبة على طرح أيّ تساؤل عن خطوات الحل المُقدَّمة من الزميل/ الزميلة.

الواجب المنزلي:

أستعين بالجدول الآتي لتحديد الواجب المنزلي للطلبة بحسب مستوياتهم:

المستويات	الأسئلة
دون المتوسط	كتاب الطالب: 7, 8, 13 كتاب التمارين: (1-6)
ضمن المتوسط	كتاب الطالب: 7, 9, 13, 14 كتاب التمارين: (7-10)
فوق المتوسط	كتاب الطالب: (9-14), 7 كتاب التمارين: (9-12)

مهارات التفكير العليا

- أُوجِّه الطالبة إلى فقرة (مهارات التفكير العليا)، ثم أطلب إليهم حل المسائل (11 - 14).
- أرصد أية أفكار غير تقليدية من الطالبة، ثم أطلب إلى هؤلاء الطالبة كتابة هذه الأفكار على اللوح.
- أناقش سؤال 11 مسألة متعددة الخطوات، بصورة جماعية، وأوجه أسئلة لاستخلاص المعلومات من التمثيل البياني، وأطلب إلى الطالبة تحديد كتلتَي الطائرتين الصغيرتين والطائرة الكبيرة.
- أستمع لإجابات الطالبة حول سؤال 13 أكتشف الخطأ، وتبريره مع التأكيد على إعادة التجميع.
- أناقش الطالبة في سؤال 14 طرح المسألة، وأوجه الطالبة لوجود حلول متعددة.



بما أن الإجابة الحقيقية 3772701 قريبة من الإجابة المُقدَّرة 4000000 فهي معقولة. يُمكنني التَّحَقُّق من صحَّة الحل باستخدام الآلة الحاسبة.

أُتَدْرَب وَأَحْلُ الْمَسَائِل: أجد ناتج الطرح: 8465987 - 5276514 = 3189473

(1) التقدير: 5,000000، الناتج: 4742672

(2) التقدير: 8,000000، الناتج: 7569443

(3) التقدير: 1,000000، الناتج: 78096

(4) التقدير: 2,000000، الناتج: 2209538

(5) التقدير: 8,000000، الناتج: 8991816

أقدر ناتج ما يأتي، وأجده:

1 2827160 + 1915512

2 2713220 + 4856223

3 7810294 - 7732198

4 4443219 - 2233681

5 5400663 + 2145621 + 1445532

6 ما ناتج طرح 4567000 من 7895000؟ 3328000



7 دُول: تَبْلُغُ مِسَاحَةُ الْجَزَائِرِ 2381741 km² وَمِسَاحَةُ لِيْبِيَا

1759541 km² وَمِسَاحَةُ الْمَغْرِبِ 710850 km².

ما مِسَاحَةُ الدُّوَلِ الثَّلَاثِ مَعًا؟ 4852132 km²

8 تَبْلُغُ قُطْرُ الشَّمْسِ 1392700 km بَيْنَمَا يَبْلُغُ قُطْرُ نَجْمِ سَهَيْلٍ 98789000 km. بِكَمْ

يَزِيدُ قُطْرُ نَجْمِ سَهَيْلٍ عَلَى قُطْرِ الشَّمْسِ؟ 97396300 km

9 صَادِرَات: يَبِينُ الْجَدْوَلُ الْمَجَاوِزُ قِيَمَةَ صَادِرَاتِ

الْمَمْلَكَةِ مِنَ الْأَسْمِدَةِ فِي شَهْرِ كَانُونِ الْأَوَّلِ مِنْ

عَامَيْ 2016 و 2017م. أجد قيمة زيادة الصادرات

في عام 2017 على عام 2016م. 12600000 دينار.

العَام	القيمة بالدينار
2016م	15300000
2017م	27900000

التطبيق:

- أوجه الطلبة إلى تنفيذ النشاط 3 من أنشطة التدريب الإضافية.

5

الإثراء

أستعمل المسألة الآتية لإثراء تعلم الطلبة: أكتب العدد المناسب في الفراغ:

$$8547616 = 7584102 + 963514$$

$$231546 = 1429875 - 1198329$$

مشروع الوحدة:

أوجه الطلبة إلى تنفيذ الفقرتين الأخيرتين من الخطوة الثانية من المشروع:

- صنع البطاقة السادسة وعليها تقدير ناتج الجمع لمساحات الدول الأربع.
- إيجاد ناتج طرح المساحة الصغرى من المساحة الكبرى.

6

الختام

- أستعمل فقرة **أتحدث**، للتأكد من فهم الطلبة لعملية إعادة التجميع ومتى نحتاجها، وبخاصة الطلبة ذوي المستوى المتوسط ودون المتوسط.
- إن لزم الأمر، أتأكد من فهم الطلبة، بطرح سؤال عليهم، مثل:

« أقدر ناتج ما يأتي، وأجده:

1 $12547849 + 20289762 = 32837611$

2 $96108567 - 32056888 = 64051679$

الوَحدة 1

10 أضع الأرقام المناسبة في ؛ لتصبح عملية الجمع صحيحة:

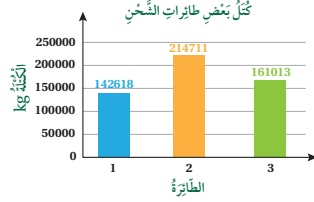
$$\begin{array}{r} 3 \ 9 \ 1 \ 5 \ 2 \ 6 \ 6 \\ + \ 1 \ 2 \ 3 \ 7 \ 1 \ 5 \ 2 \\ \hline 5 \ 1 \ 5 \ 2 \ 4 \ 1 \ 8 \end{array}$$

مهارات التفكير العليا

أتذكر

مسألة أحتاج إلى أكثر من عملية رياضية لحلها، مثل: الجمع والطرح والضرب والقسمة.

11 مسألة متعددة الخطوات: يبين التمثيل البياني أدناه كتل 3 طائرات شحن. كم يزيد مجموع كتلتي الطائرتين الصغيرتين على كتلة الطائرة الكبيرة؟ 88920 kg



12 تبرير: يقول فارس إنه يمكنه أن يتحقق من ناتج عملية الطرح بجمع المطروح والناتج. هل كلامه صحيح؟ أبرر إجابتي. نعم صحيح، حسب العلاقة بين الجمع والطرح.

13 اكتشف الخطأ: جمعت لانا وريم العددين 1748215، 4115783 فكانت إجابتاهما كما يأتي، من منهما كانت إجابتها صحيحة؟ أبرر إجابتي. إجابة ريم هي الصحيحة؛ لأننا أهملنا إعادة التجميع.

ب	لانا
1748215	1748215
+ 4115783	+ 4115783
5863998	5853998

14 أطرح المسألة: أكتب مسألة جمع لعددين، كل منهما مكون من 6 منازل، وناتج مجموعهما من 7 منازل. هل يمكن أن يكون الناتج أكثر من 7 منازل؟

(14) $741524 + 623154 = 1364678$ لا يمكن أن يكون الناتج أكثر من 7 منازل؛ لأن مجموع أي رقمين لا يزيد على منزلتين.

أتحدث: لماذا نستعمل إعادة التجميع أحياناً عند جمع منزلتين؟ لأن مجموع الرقمين في المنزلة الواحدة يصبح من منزلتين أحياناً (10 أو أكثر).

نتائج الدرس:

- تعرّف العدد السالب وتعيينه على خط الأعداد.

نتائج التعلّم القبلي:

- تعيين الأعداد الكلية على خط الأعداد.

مراجعة التعلّم القبلي ومعالجة الفاقد التعليمي:

أسترشد بالإجراءات المبيّنة في مقدمة دليل المعلم (الصفحتان 1 و 2) المتعلقة بمراجعة التعلّم القبلي ومعالجة الفاقد التعليمي لدى الطلبة.

التهيئة

1

أجري النشاط الآتي:

- أرسم على أرض الغرفة الصفية بالطباشير خط أعداد من 0 إلى 20
- أطلب إلى أحد الطلبة الوقوف بجانب عدد على خط الأعداد، ثم أطلب إليه إغلاق عينه.
- أطلب إلى آخر تحريك زميله للأمام أو إلى الخلف عددًا من الخطوات، ثم أطلب إلى الطالب/ الطالبة الذي عينه/ عينها مغلقتين تحديد العدد الذي وقف عنده.
- أكرر النشاط مرة أخرى.

أستكشف



بلّغت درجة الحرارة العظمى في مدينة الشوبك في شهر شباط 5°C ، والصغرى 3°C تحت الصفر. ما العدد المناسب لوصف درجة الحرارة الصغرى؟

فكرة الدرس

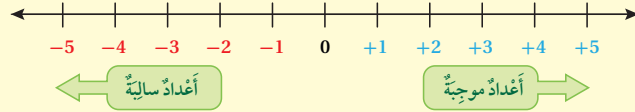
أعرّف العدد السالب، وأعيّنه على خط الأعداد.

المطلحات

العدد السالب

أتعلّم

تُستعمل الأعداد السالبة لتمثيل قيم أقل من الصفر، مثل: رقم الطابق الذي يقع تحت الأرض، ويكتب العدد السالب (negative number) بوضع الإشارة (-)، لتدلّ على أنّ قيمة العدد أقل من الصفر، ويُستعمل خط الأعداد لتمثيل مواقع الأعداد السالبة إلى يسار العدد 0.



مثال 1: من الحياة

أتملّ الشكل المجاور، ثمّ أجب عن كلّ مما يأتي:

1. ماذا يمثّل الصفر في الشكل؟ مستوى سطح البحر.

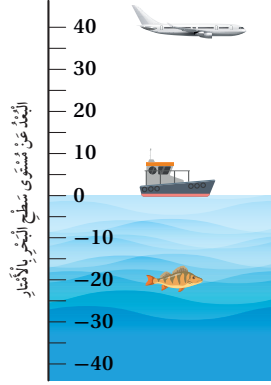
2. كمّ متراً تنخفض السمكة تحت سطح البحر؟

3. ما العدد الذي يمثّل موقع السمكة؟ -20

4. كمّ متراً ترتفع الطائرة فوق سطح البحر؟

5. ترتفع الطائرة 40 m فوق سطح البحر.

6. ما العدد الذي يمثّل موقع الطائرة؟ 40



- أوجّه الطلبة إلى قراءة المسألة في فقرة **أستكشف**، وأناقشهم في موضوع درجات الحرارة، وأي المناطق في الأردن يمكن أن تصل فيها درجات الحرارة إلى دون الصفر في فصل الشتاء، وأسألهم:
« ما درجة الحرارة العظمى في الشوبك في ذلك اليوم؟
« ما درجة الحرارة الصغرى؟
- ألفت انتباه الطلبة إلى طريقة كتابة درجة الحرارة، وألفت انتباههم إلى الحرارة عندما تكون أقل من صفر.
- أوجّه الطلبة إلى وجود أعداد صحيحة غير التي يعرفونها.

- أذكر للطلبة أنّ الأعداد التي تقل عن الصفر تُسمّى الأعداد السالبة، وتوجد أمثلة عليها في الحياة مثل الطوابق التي تقع تحت الأرض، ودرجات الحرارة التي تقل عن الصفر.
- يوجد عدد معاكس لكل عدد على خط الأعداد يقع في الجهة المعاكسة من الصفر، ويبعد المسافة نفسها عن الصفر، وللدلالة على هذه الأعداد تُستعمل إشارة (-)، فمثلاً العدد المعاكس للعدد 2 هو -2.
- أرسم خط الأعداد على اللوح، وأبين عليه بعض الأعداد الموجبة والأعداد السالبة المعاكسة لها.

تعزيز اللغة ودعمها:

أكرّر المصطلح: (العدد السالب) أمام الطلبة، وأحرص على استعماله من قبلهم.

مثال 1

- أوجه الطلبة إلى تأمل الشكل في المثال 1، ثم أناقش معهم الأسئلة الواردة فيه، وأؤكد على ضرورة تحديد الحالة التي تُعبّر عن الصفر، وأوضح لهم أنه بما أنّ ارتفاعات الأجسام الطائرة تقاس من مستوى سطح البحر؛ فإنّ مستوى سطح البحر يُمثّل الصفر.

التقويم التكويني:

- أطلب إلى الطلبة حلّ تدريب (أتحقّق من فهمي) بعد كلّ مثال. أختار بعض الإجابات التي تحتوي على أخطاء مفاهيمية، وأناقش الطلبة فيها على اللوح. لا أذكر اسم صاحب الحلّ أمام الصفّ تجنّباً لإحراجهم.

✓ **إرشاد:** أبين للطلبة أنه يمكن تمثيل الأعداد السالبة بيانياً على خط الأعداد، وتُستعمل الأعداد السالبة لتمثيل الكميات المختلفة في الحياة اليومية، مثل: درجات الحرارة، والمساعد الكهربائي، والمعاملات النقدية، ... وغيرها.

الوَحْدَةُ 1

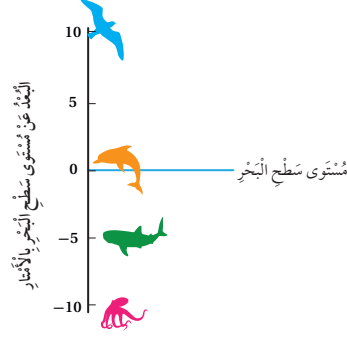
أَتَحَقَّقُ مِنْ فَهْمِي:

أَتَأَمَّلُ الشَّكْلَ الْمُجَاوِزَ، ثُمَّ أُجِيبُ عَنْ كُلِّ مِمَّا يَأْتِي:

1 ما الحَيَوَانَاتُ الَّتِي تَقَعُ عِنْدَ سَطْحِ الْبَحْرِ؟ الدَّلْفِين.

2 ما الحَيَوَانَاتُ الَّتِي تَنْخَفِضُ عَنِ سَطْحِ الْبَحْرِ؟ القِرْشُ وَالْأَخْطَبُوطُ.

3 ما العَدَدُ الَّذِي يُمَثِّلُ مَوْقِعَ الْأَخْطَبُوطِ؟ -10

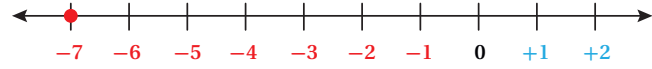


مِثَالٌ 2: مِنَ الْحَيَاةِ

أَبْرَاجٌ: يَتَكَوَّنُ (بُرْجُ فُنْدُقِ رَوَاتانا) فِي مَدِينَةِ عَمَّانَ مِنْ 50 طَابَقًا فَوْقَ الْأَرْضِ، إِضَافَةً إِلَى 7 طَوَابِقٍ تَحْتَ الْأَرْضِ، مَا الْعَدَدُ الْمُنَاسِبُ لِيُوصَفَ الطَّابِقِ السَّابِعِ تَحْتَ سَطْحِ الْأَرْضِ؟


بِمَا أَنَّ الطَّابِقَ يَتَّعُ تَحْتَ مُسْتَوَى الْأَرْضِ؛ فَإِنَّا نَعْبِّرُ عَنْهُ بِعَدَدٍ سَالِبٍ أَيْ -7

-7 هُوَ الْعَدَدُ الْمُنَاسِبُ لِلتَّعْبِيرِ عَنِ الطَّابِقِ السَّابِعِ تَحْتَ سَطْحِ الْأَرْضِ.



أَتَحَقَّقُ مِنْ فَهْمِي:

مُحَافَظَاتٌ: فِي أَحَدِ أَيَّامِ الشِّتَاءِ بَلَّغَتْ دَرَجَةُ الْخَرَارَةِ الدُّنْيَا فِي مُحَافَظَةِ الطَّفِيلَةِ 5 دَرَجَاتٍ تَحْتَ الصُّفْرِ. مَا الْعَدَدُ الْمُنَاسِبُ لِيُوصَفَ دَرَجَةِ الْخَرَارَةِ فِي مَدِينَةِ الطَّفِيلَةِ فِي ذَلِكَ الْيَوْمِ؟ -5



مِثَالٌ 2: مِنَ الْحَيَاةِ

- أُنَاقِشُ حُلَّ الْمِثَالِ 2 مَعَ الطَّلَبَةِ عَلَى اللُّوْحِ، وَأَذْكَرُ لَهُمْ أَنَّ الطَّوَابِقَ الَّتِي تَقَعُ فَوْقَ سَطْحِ الْأَرْضِ هِيَ مِثَالٌ عَلَى الْأَعْدَادِ الْمَوْجِبَةِ.
- أَسْأَلُ الطَّلَبَةَ: كَيْفَ نُعَبِّرُ عَنِ الطَّوَابِقِ الَّتِي تَقَعُ تَحْتَ سَطْحِ الْأَرْضِ؟ وَمَاذَا يُمَثِّلُ الصُّفْرُ؟
- أَسْتَمِعُ لِإِجَابَاتِ الطَّلَبَةِ وَأَقْدِمُ لَهُمُ التَّغْذِيَةَ الرَّاجِعَةَ اللَّازِمَةَ.
- أَرْسِمُ خَطَّ الْأَعْدَادِ عَلَى اللُّوْحِ، وَأُمَثِّلُ عَلَيْهِ بَعْضَ الْأَعْدَادِ وَأَطْلُبُ إِلَى أَحَدِ الطَّلَبَةِ أَنْ يَتَوَقَّعَ أَيْنَ يَقَعُ الْعَدَدُ -7

أُتَدْرَبُ وَأَحْلُ الْمَسَائِلَ:

- أُوَجِّهُ الطَّلِبَةَ إِلَى فِقْرَةِ (أُتَدْرَبُ وَأَحْلُ الْمَسَائِلَ)، ثُمَّ أَطْلُبُ إِلَيْهِمْ حُلَّ الْمَسَائِلِ (3 - 1) ضَمَّنَ مَجْمُوعَاتٍ ثَنَائِيَّةٍ دَاخِلِ الْغُرْفَةِ الصَّفِيَّةِ؛ فَهَذِهِ الْمَسَائِلُ تَحْدِيدًا تَرْتَبِطُ ارْتِبَاطًا مَبَاشِرًا بِأَمْتَلَةِ الدَّرْسِ، وَهِيَ تُسْتَعْمَلُ خَاصَّةً لِتَدْرِيبِ الطَّلِبَةِ عَلَى الْمَفَاهِيمِ نَفْسِهَا، بِصَرَفِ النَّظَرِ عَمَّا إِذَا كَانَتْ الْأَسْئَلَةُ فَرْدِيَّةً أَمْ زَوْجِيَّةً.
- إِذَا وَاجَهَ الطَّلِبَةَ صَعُوبَةً فِي حُلِّ أَيِّ مَسْأَلَةٍ، فَإِنِّي أَخْتَارُ أَحَدَ الطَّلِبَةِ مِمَّنْ تَمَكَّنَ / تَمَكَّنَتْ مِنْ حُلِّ الْمَسْأَلَةِ؛ لِمُنَاقَشَةِ اسْتِرَاطِيَّيْتِهِ/ اسْتِرَاطِيَّيْتِهَا فِي حُلِّ الْمَسْأَلَةِ عَلَى اللُّوْحِ، مُحَفِّزًا الطَّلِبَةَ عَلَى طَرَحِ أَيِّ تَسْأُؤَلٍ عَنِ خَطَوَاتِ الْحُلِّ الْمُقَدَّمَةِ مِنَ الزَمِيلِ / الزَمِيلَةِ.

الواجب المنزلي:

أَسْتَعِينُ بِالْجَدُولِ الْآتِي لِتَحْدِيدِ الْوَاجِبِ الْمَنْزَلِيِّ لِلطَّلِبَةِ بِحَسَبِ مَسْتَوِيَاتِهِمْ:

المستويات	الأسئلة
دون المتوسط	كتاب الطالب: 8, 4 كتاب التمارين: 7, (3-1)
ضمن المتوسط	كتاب الطالب: (8-5) كتاب التمارين: 9, 8, (6-4)
فوق المتوسط	كتاب الطالب: (9-5) كتاب التمارين: (14-10)

✓ **إرشاد:** يمكن تزويد الطلبة بورقة المصادر 5: خط أعداد فارغ؛ لمساعدتهم على تمثيل الأعداد السالبة.

أُتَدْرَبُ وَأَحْلُ الْمَسَائِلَ

1 أَكْتُبُ الْعَدَدَ الَّذِي يُمَثِّلُ الْمَوْقِفَ، مَوْصَحًا مَاذَا يُمَثِّلُ الصَّفْرُ فِي كُلِّ مَوْقِفٍ:

الموقف	العدد الذي يُمثِّلُ الموقفَ	ماذا يُمثِّلُ الصَّفْرُ في الموقف؟
سَحَبَتْ مَهَا 50 دِينَارًا مِنْ رَصِيدِهَا.	-50	عدم السحب من الرصيد.
ارْتِفَاعُ مَدِينَةٍ عَنِ سَطْحِ الْبَحْرِ 100 m.	100	سطح البحر.

مُغْلُوفَةٌ

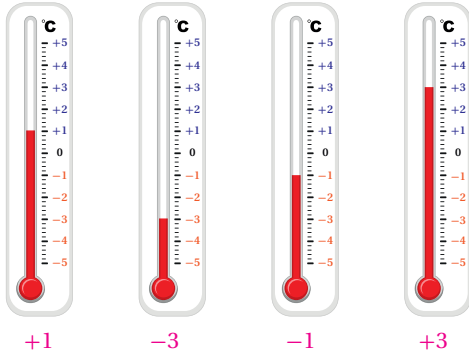
أَبْرَدُ مَوْقِعَ عَلَى سَطْحِ الْأَرْضِ فِي الْقُطْبِ الْجَنُوبِيِّ الْمُتَجَمِّدِ، حَيْثُ تَنْخَفِضُ دَرَجَةُ الْخَرَارَةِ فِيهِ إِلَى أَقَلِّ مِنْ 92°C تَحْتَ الصَّفْرِ، وَلَكِنَّهُ غَيْرُ مَأْهُولٍ بِالْبَيْشَرِ.



2 تُعَدُّ قَرْيَةُ أُمْبَاكُونِ فِي سِيْبِيرِيَا أَكْثَرَ الْمَنَاطِقِ الْمَأْهُولَةِ بِشَكْلِ دَائِمٍ بَرُودَةٍ عَلَى الْأَرْضِ، وَتَنْخَفِضُ دَرَجَةُ الْخَرَارَةِ فِيهَا إِلَى مَادُونَ 60°C

تَحْتَ الصَّفْرِ. مَا الْعَدَدُ الْمُنَاسِبُ لِيُوصَفَ دَرَجَةُ الْخَرَارَةِ هَذِهِ؟ -60

3 أَكْتُبُ دَرَجَةَ الْخَرَارَةِ الَّتِي يُشِيرُ إِلَيْهَا مِيزَانُ الْخَرَارَةِ فِي كُلِّ مِمَّا يَأْتِي:



- أوجّه الطلبة إلى فقرة (مهارات التفكير العليا)، ثم أطلب إليهم حل المسائل (8 - 9).
- أرصد أية أفكار غير تقليدية من الطلبة، ثم أطلب إلى هؤلاء الطلبة كتابة هذه الأفكار على اللوح.
- أناقش الطلبة في سؤال 8 **تبرير**، وأستعمل خط الأعداد لمساعدتهم على تبرير إجاباتهم.
- أناقش سؤال 9 **أكتشف الخطأ**، وأطلب إلى الطلبة التبرير، ثم رسم خط أعداد وحساب الفرق بين العددين 5، -5 عن طريق العد.

الإثراء

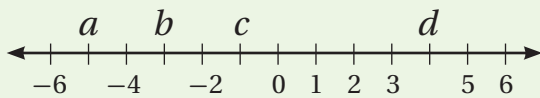
5

- أستعمل السؤالين الآتيين لإثراء تعلم الطلبة:
- أرسم خط الأعداد وأمثّل عليه الأعداد الآتية: 6، -4، 0، 3، 4، -6
 - أيهما أقرب إلى العدد 0: -5، أم 4؟

الختام

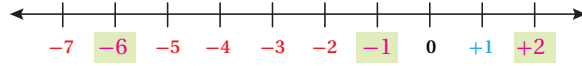
6

- أستعمل فقرة **أتحّدث**، للتأكد من فهم الطلبة للأعداد السالبة، وبخاصة للطلبة ذوي المستوى المتوسط ودون المتوسط.
 - إن لزم الأمر، أتحقق من فهم الطلبة، بطرح سؤال عليهم، مثل:
- « أكتب العدد الذي يُمثّل كل حرف من الأحرف (a, b, c, d) على خط الأعداد الآتي:

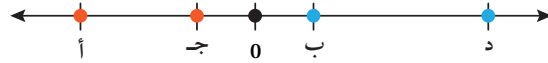


- $a = -5$
 $b = -3$
 $c = -1$
 $d = 4$

4 أكمل خط الأعداد الآتي؛ بوضع العدد المناسب في :



تحليل: إذا كانت الحروف (أ، ب، ج، د) تُمثّل أعدادًا على خط الأعداد أدناه، فأجب عمّا يأتي:

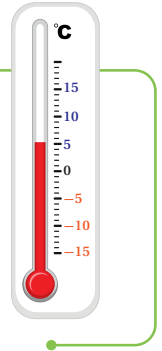


- 5 ما الحروف التي تُمثّل عددًا سالبًا؟ أبرد إجابتي. أ، ج لأنها تقع على يسار الصفر فهي أقل من صفر.
- 6 ما الحروف التي تُمثّل عددًا موجبًا؟ أبرد إجابتي. ب، د (أكبر من صفر).
- 7 هل الحرفان (ب، ج) لهما البعد نفسه عن الصفر؟ نعم.

مهارات التفكير العليا

- 8 تبرير: هل الصفر عدد سالب أم موجب؟ أبرد إجابتي. الصفر ليس سالبًا ولا موجبًا.
- 9 أكتشف الخطأ: قالت نيفين إن درجة الحرارة الأقل بعشر درجات من درجة الحرارة على الميزان المجاور هي -10، هل هي على صواب؟ أبرد إجابتي. ليست على صواب لأنها تصبح -15 عند النزول 10 درجات بدءًا من -5

أتحّدث: أعطني مثالًا لموقف من حياتي اليومية، يُمكن التعبير عنه بعدد سالب. سقطت قطة في حفرة عمقها 3 أمتار، فيكون ارتفاعها عن سطح الأرض -3



الدَّرْسُ 5 خُطَّةُ حَلِّ الْمَسْأَلَةِ: أَنْشِئْ جَدْوَلًا



يَمْلِكُ مُهَنْدٌ 24 كُرَّةً رُجَاجِيَّةً أَلْوَانُهَا أَحْمَرٌ وَأَخْضَرٌ. كُلُّ كُرَّةٍ خَضْرَاءَ يُقَابِلُهَا 3 كُرَاتٍ حُمْرَاءَ. كَمْ كُرَّةً حُمْرَاءَ لَدَى مُهَنْدٍ؟

فِكْرَةُ الدَّرْسِ

أَحْلُ مَسَائِلَ حَيَاتِيَّةً بِاسْتِعْمَالِ خُطَّةِ (إِنْشَاءِ جَدْوَلٍ).

1 أفهم

ما مُعْطَيَاتُ الْمَسْأَلَةِ؟

- يَمْلِكُ مُهَنْدٌ 24 كُرَّةً رُجَاجِيَّةً.
- لِكُلِّ كُرَّةٍ خَضْرَاءَ، يَوْجَدُ 3 كُرَاتٍ حُمْرَاءَ.
- ما الْمَطْلُوبُ؟
- إِيْجَادُ عَدَدِ الْكُرَاتِ الْحُمْرَاءِ مَعَ مُهَنْدٍ.

2 أخطِّط

يُمْكِنُنِي حَلُّ الْمَسْأَلَةِ بِاسْتِعْمَالِ جَدْوَلٍ يُبَيِّنُ عَدَدَ الْكُرَاتِ الْخَضْرَاءِ وَمَا يُقَابِلُهَا مِنْ كُرَاتٍ حُمْرَاءَ.

3 أحل

الْوَنُ	عَدَدُ الْكُرَاتِ الرَّجَاجِيَّةِ					
أَخْضَرُ	1	2	3	4	5	6
أَحْمَرُ	3	6	9	12	15	18
المَجْمُوعُ	4	8	12	16	20	24

إِذْنُ: عَدَدُ الْكُرَاتِ الرَّجَاجِيَّةِ الْحُمْرَاءِ مَعَ مُهَنْدٍ 18 كُرَّةً.

4 أتتحقق

هَلْ نَاتِجُ ضَرْبِ عَدَدِ الْكُرَاتِ الْخَضْرَاءِ فِي 3 يُسَاوِي 18؟ $6 \times 3 = 18$ ✓

نتائج الدرس:

- حَلُّ مَسَائِلَ حَيَاتِيَّةً بِاسْتِعْمَالِ خُطَّةِ إِنْشَاءِ جَدْوَلٍ.

المصادر والأدوات:

أوراق بيضاء، أقلام، قرص دوّار أو حجر نرد.

نتائج التعلّم القبلي:

- حقائق الضرب.
- خطوات حلّ المسألة.

مراجعة التعلّم القبلي ومعالجة الفاقد التعليمي:

أسترشد بالإجراءات المبيّنة في مقدمة دليل المعلم (الصفحتان أ و ج) المتعلقة بمراجعة التعلّم القبلي ومعالجة الفاقد التعليمي لدى الطلبة.

1 التهيئة

أجري النشاط الآتي:

- أوزع على الطلبة أوراق مرسوم عليها عدد من المربعات مثلا (30) مربع.
- أطلب إلى الطلبة تلوين مربعين باللون الأحمر مقابل مربعين باللون الأزرق.
- أطلب إلى الطلبة إيجاد عدد المربعات الزرقاء.

- أوجه الطلبة إلى قراءة المسألة الواردة في مقدمة الدرس، وأذكّرهم أنه لحل أي مسألة حياتية نحتاج أربع خطوات رئيسة وهي: الفهم، والتخطيط، والحل، والتحقق.
- أناقش مع الطلبة حل المسألة باتباع الخطوات الأربع كما يأتي:

1 أفهم

1

أتحقّق من فهم الطلبة بتوجيه السؤالين الآتيين:

- ما المعطيات؟ أنظر إلى إجابة السؤال في فقرة أفهم في كتاب الطالب.
- ما المطلوب؟ أنظر إلى إجابة السؤال في فقرة أفهم في كتاب الطالب.

2 أخطّط

2

أسأل الطلبة: بكم طريقة يمكننا حلّ المسألة؟

- أعزّز الإجابات الصحيحة.
- أوضّح للطلبة أن المسألة يمكن حلّها باستعمال خطة لإنشاء جدول.

3 أحلّ

3

ما الخطوة الأولى لإنشاء جدول؟ أنظر إلى إجابة السؤال في فقرة أحلّ في كتاب

الطالب.

- أناقش الطلبة في بقية خطوات إنشاء جدول على اللوح، وتنفيذ الحلّ كما هو وارد في خطوة حلّ مسألة الجبال.

4 أتحقّق

4

أناقش الطلبة في التحقق من صحة الحل باستعمال الضرب.

أَتَدْرَبُ
وَأُحَلِّ الْمَسَائِلَ



1 زُهْرُورٌ: تُنَسِّقُ لَمِيَاءَ بَاقَاتِ مِنَ الزُّهُورِ، بِحَيْثُ تَضَعُ مُقَابِلَ كُلِّ زَهْرَةٍ صَفْرَاءَ فِي الْبَاقَةِ 8 زَهْرَاتِ حَمْرَاءَ. إِذَا كَانَ عَدَدُ الزُّهُورِ فِي الْبَاقَةِ الْوَاحِدَةِ 36 زَهْرَةً، فَمَا عَدَدُ الزُّهُورَاتِ الْحَمْرَاءِ فِي الْبَاقَةِ؟ أَنْظِرْ إِلَى الْمَلْحَقِ.

2 مَلَابِيسٌ: يَمْلِكُ مَارِزٌ 3 قُمَصَانِ وَ 4 رِبَطَاتِ عُنُقٍ. أَلْوَانُ الْقُمَصَانِ أَرْزُقُ، وَرَمَادِيٌّ، وَأَبْيَضُ، وَأَلْوَانُ رِبَطَاتِ الْعُنُقِ أَحْمَرٌ، وَبَيْضٌ، وَأَخْضَرٌ، وَأَسْوَدٌ. بِكَمْ طَرِيقَةً مُخْتَلِفَةً يُمَكِّنُ لِمَارِزٍ إِزْتِدَاءَ قَمِيصٍ وَرِبَطَةَ عُنُقٍ مَعًا؟ أَنْظِرْ إِلَى الْمَلْحَقِ.



3 قَطْعٌ تَقْدِيئِيٌّ: آلَةٌ لِيَبِّعَ الْقَهْوَةَ تَقْبَلُ الْقَطْعَ مِنْ فَيْتَةٍ 10 فُرُوشٍ وَ 5 فُرُوشٍ. أَنْبِشِي جَدُولًا أُبَيِّنُ مَجْمُوعَاتِ الْقَطْعِ التَّقْدِيئِيَّةِ الْمُخْتَلِفَةِ الَّتِي يُمَكِّنُ اسْتِعْمَالَهَا لِشِرَاءِ كَوْبٍ مِنَ الْقَهْوَةِ ثَمَنُهُ 50 قِرْشًا. أَنْظِرْ إِلَى الْمَلْحَقِ.



4 تَلْعَبُ رِيْمَا وَ لَانَا وَ سَحْرٌ وَ دِيمَةُ لَعْبَةِ الْقَفْزِ بِالْحَبْلِ الْمُرْدُوذِجَةِ، بِحَيْثُ تُمَسِكُ اثْنَتَيْنِ الْحَبْلِ، وَتَقْفِزُ اثْنَتَيْنِ. بِكَمْ طَرِيقَةً مُخْتَلِفَةً يُمَكِّنُ لِلصَّدِيقَاتِ الْأَرْبَعَةِ اللَّعِبِ؟ أَنْظِرْ إِلَى الْمَلْحَقِ.
(إِزْشَادٌ: أَبَدًا بِجَنَابَةِ جَمِيعِ الْبَدَائِلِ الْمُنْكَبَةِ لِلْفَتَاتَيْنِ اللَّتَيْنِ تُمَسِكَانِ طَرْفَيْ الْحَبْلِ).

أَتَدْرَبُ وَأُحَلِّ الْمَسَائِلَ:

- أُوَجِّهُ الطَّلِبَةَ فِقْرَةَ (أَتَدْرَبُ وَأُحَلِّ الْمَسَائِلَ)، ثُمَّ أَطْلُبُ إِلَيْهِمْ حَلَّ الْمَسَائِلِ (1-4) ضَمَّنَ مَجْمُوعَاتٍ ثَنَائِيَّةٍ دَاخِلَ الْغُرْفَةِ الصَّفِيَّةِ؛ فَهَذِهِ الْمَسَائِلُ تَحْدِيدًا تَرْتَبُطُ ارْتِبَاطًا مَبَاشِرًا بِمَثَالِ الدَّرْسِ، وَهِيَ تُسْتَعْمَلُ خَاصَّةً لِتَدْرِيبِ الطَّلِبَةِ عَلَى خِطَّةِ حَلِّ الْمَسْأَلَةِ نَفْسِهَا.
- إِذَا وَاجَهَ الطَّلِبَةَ صَعُوبَةً فِي حَلِّ أَيِّ مَسْأَلَةٍ، فَإِنِّي أَخْتَارُ أَحَدَ الطَّلِبَةِ مِمَّنْ تَمَكَّنَ/ تَمَكَّنَتْ مِنْ حَلِّ الْمَسْأَلَةِ؛ لِمُنَاقَشَةِ اسْتِرَاطِيَجِيَّتِهِ/ اسْتِرَاطِيَجِيَّتِهَا فِي حَلِّ الْمَسْأَلَةِ عَلَى اللُّوْحِ، مُحَفِّزًا الطَّلِبَةَ عَلَى طَرَحِ أَيِّ تَسْأُولٍ عَنِ خِطَوَاتِ الْحَلِّ الْمُقَدَّمَةِ مِنَ الزَّمِيلِ/ الزَّمِيلَةِ.

الواجب المنزلي:

- أَطْلُبُ إِلَى الطَّلِبَةِ حَلَّ مَا وَرَدَ فِي كِتَابِ التَّمَارِينِ مِنْ مَسَائِلِ الدَّرْسِ جَمِيعِهَا وَاجِبًا مَنْزِلِيًّا.
- يُمَكِّنُ أَيْضًا إِضَافَةَ الْمَسَائِلِ الَّتِي لَمْ يَحْلُهَا الطَّلِبَةُ دَاخِلَ الْغُرْفَةِ الصَّفِيَّةِ إِلَى الْوَاجِبِ الْمَنْزَلِيِّ.

- أُوَجِّهُ السُّؤَالَ الْآتِي لِإِثْرَاءِ تَعَلُّمِ الطَّلِبَةِ:
« أَكْتُبْ مَسْأَلَةً عَلَى نَمَطِ مَسْأَلَةِ مَسَابَقَةِ الْكُرَاتِ الزَّجَاجِيَّةِ بِدَايَةِ الدَّرْسِ، ثُمَّ حَلِّهَا بِاسْتِعْمَالِ خِطَّةِ حَلِّ مَسْأَلَةٍ بِأَكْثَرِ مِنْ خِطْوَةٍ (إِنْشَاءً جَدُولٍ).

مشروع الوحدة

أُكَلِّفُ الطَّلِبَةَ عَرْضَ نَتَائِجِ الْمَشْرُوعِ الَّتِي تَوَصَّلُوا إِلَيْهَا، وَأُنَاقِشُهُمْ فِيهَا.

- أَطْلُبُ إِلَى بَعْضِ الطَّلِبَةِ مِنْ ذَوِي الْمَسْتَوَى الْمَتَوَسِّطِ أَوْ دُونَ الْمَتَوَسِّطِ التَّحَدُّثَ عَنِ خِطَوَاتِ حَلِّ الْمَسْأَلَةِ بِاسْتِعْمَالِ إِشْهَادِ جَدُولٍ، لِتَلْتَأَكَّدَ مِنْ فَهْمِ الطَّلِبَةِ لِمَوْضُوعِ الدَّرْسِ

اختبار نهاية الوحدة

اختبار نهاية الوحدة

- يُمكنني التحقق من فهم الطلبة للمهارات الواردة في الوحدة، وقدرتهم على تطبيقها تطبيقًا صحيحًا عن طريق اختبار نهاية الوحدة الذي يتكوّن من:

« أسئلة موضوعية.

« أسئلة ذات إجابة قصيرة.

« أسئلة من الاختبارات الدولية

- أطلب إلى الطلبة حلّ الأسئلة الموضوعية من اختبار نهاية الوحدة (9 - 1) بشكل فردي.

- أتجوّل بين الطلبة وأرصد الأخطاء.

- أناقش الطلبة في حلولهم، وأعالج الأخطاء بتوجيه أسئلة مشابهة.

- أُكرّر مع الأسئلة ذات الإجابة القصيرة (18 - 11)، ثم مع أسئلة التدريب على الاختبارات الدولية (21 - 19).

- أرصد الأخطاء الشائعة وأعالجها.

- أستعين بالطلبة ذوي المستوى العالي لمساعدة الطلبة ذوي المستوى المتوسط ودون المتوسط.

6 الصيغة القياسية للعدد الآتي: ثمانية ملايين ومئة ألف وسبعة، هي: c

- a) 8000010007 b) 81000007
c) 8100007 d) 8170000

7 الصيغة التحليلية للعدد 6058000 هي: c

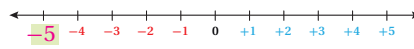
- a) $60 + 50 + 8$
b) $600000 + 50000 + 8000$
c) $6000000 + 50000 + 8000$
d) $8000 + 500 + 6$

أفارد بين العددين باستخدام الرمز (< أو > أو =):

8 $932157 < 3402018$

9 $4263751 > 4208753$

10 أكتب العدد في على خط الأعداد:



أسئلة ذات إجابة قصيرة:

أقدر الناتج في كل مما يأتي:

11 $3124560 + 2729801 = 6000000$

12 $7320250 - 4270016 = 3000000$

أسئلة موضوعية

أختار الإجابة الصحيحة في كل مما يأتي:

1 العدد الذي يمثّل

d $8000000 + 90000 + 400 + 7$

- a) 8479 b) 89407
c) 8090407 d) 8009407

2 القيمة المنزلية للرقم 7 في العدد 3047002، هي: b

- a) 700 b) 7000
c) 7 d) 70000

3 أفضل تقدير لناتج جمع $692312 + 1580044$ هو: a

- a) 2000000 b) 1000000
c) 3000000 d) 2700000

4 العدد 2 آحاد + 3 مئات + 5 آلاف + 6 ملايين،

يساوي: d

- a) 6532 b) 65302
c) 65032 d) 6005302

5 الرقم الذي يقع في منزلة مئات الألوف في العدد

b: 2345678، هو:

- a) 2 b) 3
c) 4 d) 6

الْوَحْدَةُ 1

18 أكتب العدد المناسب في :

$$3365484 = \text{[]} + 3265484$$

100000

تدريب على الاختبارات الدولية

19 العدد الذي يقرب إلى 7000000 عند التقريب إلى

أقرب مليون، هو:

- a) 6231010 b) 1700000
c) 6099931 **d) 6800412**

20 إحدى العبارات الآتية صحيحة:

- a) 5680000 < 6580000**
b) 5680000 > 6850000
c) 8650000 < 6580000
d) 5680000 = 6850000

21 أرادت سلمى استعمال الآلة الحاسبة لجمع

3420000 و 1572001، فأدخلت

1472001 + 3420000، لتصحيح الخطأ فإنها:

- a) تجمع 1
b) تجمع 100000
c) تطرح 1
d) تطرح 100000

أكتب الأعداد بالصيغة القياسية:

13 مليون وستمئة ألف ومئتان وخمسة. **1600250**

14 ثلاثة ملايين ومائتي وواحد. **3000801**

15 ما العلاقة بين رقمي 8 في العدد 6843281؟ أكتبهما

على صورة ضرب أو قسمة. **10 آلاف ضعف**
(10000 × 8 = 80000)

16 سكان: في الجدول الآتي، أعداد سكان 3 محافظات،

هي عمان وإربد والزرقاء:


الْمُحَافَظَةُ	عَدَدُ السُّكَّانِ
عَمَّانُ	4440978
إِرْبِدُ	1957000
الرَّزْقَاءُ	1498722

أرتب هذه المدن حسب عدد السكان تنازلياً.
عمان، إربد، الزرقاء.

17 قدرت دائرة الإحصاءات أعداد الضأن والماعز

والأبقار في شهرين من عام 2017، كما في الجدول:

	صَافٍ	مَاعِزٌ	أَبْقَارٌ
نيسان	3057950	770770	72640
تشرين الثاني	3063120	772670	75500



أفان بين مجموع الثروة الحيوانية في الشهرين.

مجموع الثروة الحيوانية في نيسان 3901360، وفي تشرين الثاني 3911290. أي في تشرين الثاني المجموع أكبر.

27

تدريب على الاختبارات الدولية:

- أعرف الطلبة بالاختبارات الدولية، وأبين لهم أهميتها بالاستعانة بالمعلومة أدناه، ثم أوجههم إلى حل الأسئلة في بند (تدريب على الاختبارات الدولية) بصورة فردية، ثم أناقشهم في إجاباتها على اللوح.
- يتقدم طلبة الصف الثامن في المدارس الأردنية إلى اختبار (TIMSS) كل أربع سنوات، ويهدف هذا الاختبار إلى قياس مستوى تقدم الطلبة في التحصيل الدراسي في مادتي الرياضيات والعلوم، ولهذا الاختبار أهمية في تقييم جودة التعليم في الأردن بالمقارنة مع الدول الأخرى التي يتقدم طلبتها لهذا الاختبار، والمساعدة في رسم السياسة التربوية على المستوى الوطني بما يخدم تطوير النظام التربوي والارتقاء بنوعية مخرجاته.
- أشجع الطلبة على الاهتمام بحل مثل هذه الأسئلة والاهتمام بالمشاركة في الدراسات وبرامج التقييم الدولية بكل جدية، وأحرص على تضمين امتحاناتي المدرسية مثل نوعية هذه الأسئلة.

إرشاد:

في سؤال 21، أناقش الطلبة بتوجيه الأسئلة الآتية:

- ما الخطأ الذي وقعت به سلمى؟
- ما العدد الذي أخطأت بإدخاله في الآلة الحاسبة؟
- ما المنزلة التي أخطأت بها في هذا العدد؟
- ما العملية التي ستقوم بها لتصحيح الخطأ؟

كتاب التمارين

الْوَحْدَةُ 1

الأعداد: جمعها وطرحها

أستعد لإدراسة الوحدة

أملاً القراء بما يتألف من أعداد؛ اعتماداً على الصيغة التحليلية لكل منها في ما يأتي:

7 $451271 = 400000 + 50000 + 1000 + 200 + 70 + 1$

8 $906486 = 900000 + 6000 + 400 + 80 + 6$

مثال: أكتب العدد بنمعة وثمانين ألفاً وثلعمائة وأربعين بالمصغرتين: القياسية، والتحليلية.

الصيغة القياسية: 89342
الصيغة التحليلية: $80000 + 9000 + 300 + 40 + 2$

مقارنة الأعداد (الدرس 2)

أصغ الرمز (> أو < أو =) في لتوضيح العبارة صحيحة:

9 $92650 < 92650$ 10 $83412 > 80766$

11 $195408 < 195480$ 12 $653000 > 65300$

13 $28000 = 28000$ 14 $70045 < 700000 + 40 + 5$

مثال: أفرز بين العددين 864256 و 854721 باستخدام الرمز (< أو > أو =).

الخطوة 1: أكتب العددين بشكل رأسي.

8 5 4 7 2 1	8 5 4 7 2 1
8 6 4 2 5 6	8 6 4 2 5 6

بما أن 8 < 6، إذن: اتجهل إلى المنزلة التالية.

7

الْوَحْدَةُ 1

الأعداد: جمعها وطرحها

أستعد لإدراسة الوحدة

تحديد القيمة المنزلية للرقم في عدد (الدرس 1)

أحدد القيمة المنزلية للرقم الذي تحته خط في كل مما يأتي:

1 991064 2 71612 3 900000 4 70000

5 452001 6 50000 7 202338 8 0

مثال: أحدد القيمة المنزلية للرقم الذي تحته خط في العدد 312579

الخطوة 1		الخطوة 2		الخطوة 3	
أكتب العدد في لوحة القيمة المنزلية.	أحدد العمود الذي يقع فيه الرقم.	أضع أصغراً بدلاً من الأرقام الواقعة على يمينه.			
3	1	2	5	7	9
1	0	0	0	0	0

إذن: القيمة المنزلية للرقم 1 هي 10000، لأنه يقع في منزلة عشرات الألف.

كتابة عدد بالصيغتين: القياسية والتحليلية (الدرس 1)

أكتب العدد بالصيغتين القياسية والتحليلية في كل مما يأتي:

9 $279634 = 200000 + 70000 + 9000 + 600 + 30 + 4$ الصيغة القياسية: 279634، الصيغة التحليلية: 200000 + 70000 + 9000 + 600 + 30 + 4

10 $900010 = 900000 + 10$ الصيغة القياسية: 900010، الصيغة التحليلية: 900000 + 10

6

الْوَحْدَةُ 1

الأعداد: جمعها وطرحها

أستعد لإدراسة الوحدة

جمع الأعداد (الدرس 3)

أجد ناتج جمع كل مما يأتي:

17 $\begin{array}{r} 328179 \\ + 51850 \\ \hline 380029 \end{array}$ 18 $\begin{array}{r} 452761 \\ + 380904 \\ \hline 833665 \end{array}$

مثال: أجد ناتج: $3269 + 1925$

أقدر ناتج الجمع بتقريب العددين إلى أعلى منزلة مشتركة بينهما:

$3269 \rightarrow 3000$
 $+ 1925 \rightarrow + 2000$
 $\hline 5000$

الخطوة 1: أجمع الآحاد.

$\begin{array}{r} 3269 \\ + 1925 \\ \hline 94 \end{array}$ <p>أعيد تخمين 14 آحاداً إلى 1 من العشرات و 4 آحاد.</p>	$\begin{array}{r} 3269 \\ + 1925 \\ \hline 4 \end{array}$ <p>أعيد تخمين 11 من الآحاد إلى 1 من العشرات.</p>
---	--

الخطوة 2: أجمع العشرات.

$1 + 6 + 2 = 9$

الخطوة 3: أجمع المئات.

$3 + 2 + 1 = 6$

الخطوة 4: أجمع آلاف الألف.

$1 + 3 + 1 = 5$

إذن: ناتج $3269 + 1925$ يساوي 5194

9

الْوَحْدَةُ 1

الأعداد: جمعها وطرحها

أستعد لإدراسة الوحدة

أفرز بين رقمي المنزلة التالية:

8 5 4 7 2 1
8 6 4 2 5 6

بما أن 6 < 5، إذن: العدد 864256 هو الأكبر، ومنه: $854721 < 864256$

ترتيب الأعداد (الدرس 2)

أرتب الأعداد الآتية تصاعدياً: 9254, 42586, 54823, 64588, 42586, 64588, 9254, 54823

أرتب الأعداد الآتية تنازلياً: 975348, 869542, 857904, 86421, 857904, 975348, 86421, 869542

مثال: أرتب الأعداد الآتية تصاعدياً: 47137, 54898, 47352

الخطوة 1: أكتب الأعداد بشكل رأسي، وأفرز بين الأرقام بدءاً من اليسار.

$\begin{array}{r} 47137 \\ 47352 \\ 7 = 7 \end{array}$ <p>الرقمان متساويان، إذن: اتجهل إلى المنزلة التالية.</p>	$\begin{array}{r} 47137 \\ 54898 \\ \hline 54898 \end{array}$ <p>العدد 54898 هو الأكبر.</p>
---	---

الخطوة 2: أفرز بين الأرقام في المنزلة التالية من اليسار.

$4 > 3$

إذن: الترتيب التصاعدي للأعداد هو: 47137, 47352, 54898

8

كتاب التمارين

الدرس 1 القيمة المنزلية ضمن الملايين

أكتبُ كلَّ عددٍ مما يأتي بالصيغتين التخليقية واللفظية:

1 2336652 2 9125400

الصيغة التخليقية: $2000000+300000+30000+6000+600+50+2$
 الصيغة اللفظية: مليونان وثلاثمائة وستة وثلاثون ألفاً وستمئة والثنان وخمسون.

3 أكتبُ العددَ الآتي: خمسة ملايين وأربعمئة وسبعون ألفاً وثمانمئة وخمسة، بالصيغتين التخليقية والقياسية.
 التحليلية: $5470805+70000+400000+800+5$
 القياسية: 5470805

4 أصلُ بخطِّ بينَ العددَ وقيمةَ الرُّقمِ الذي تحتهُ خطُّ فيه.

5003267	9630054	3400542	1253468
500	50000	5000000	50

6 هل تختلف القيمة المنزلية للرقم 7 في العدد 2370024 عن القيمة المنزلية للرقم 7 في العدد 6549780 أبرز إجابتني. نعم، في العدد الأول القيمة المنزلية للرقم 7 هي 70000 وفي العدد الثاني 700

أكتبُ العددَ المناسب في:

6 $8407802 = 8000000 + 400000 + 7000 + 800 + 2$

7 $2720695 = 2000000 + 700000 + 20000 + 600 + 90 + 5$

8 استعمل الأرقام من 2 إلى 8 لتكوين أصغر عددٍ ممكن. استعمل كلَّ رقمٍ مرَّةً واحدة فقط. 2345678

11

الوحدَةُ 1 الأعداد: جمعها وطرحها

استعد لإدراة الوحدَة

طرح الأعداد (الدرس 3)

أجدُ ناتجَ طرحِ كلِّ مما يأتي:

19 $820041 - 287980 = 532061$

20 $282704 - 11387 = 271317$

21 $658210 - 192180 = 466030$

مثال: أجدُ ناتجَ: $3269 + 1925$

أقدِّرُ ناتجَ الطرحِ بتقريبِ العددين إلى أعلى منزلة مشتركة بينهما:

$9515 \rightarrow 10000$
 $- 5681 \rightarrow - 6000$
 4000

المنزلة 1: $9515 - 5681 = 3834$

المنزلة 2: $9515 - 5681 = 3834$

المنزلة 3: $9515 - 5681 = 3834$

المنزلة 4: $9515 - 5681 = 3834$

إذن: ناتج $9515 - 5681$ يساوي 3834

10

الدرس 3 جمع الأعداد الكليَّة وطرحها

أقدِّرُ ناتجَ كلِّ مما يأتي، وأجدُه:

1 $3216541 + 5340682 = 8557223$ 2 $7531862 + 1469852 = 9001714$

3 $4561230 - 1357944 = 3203286$ 4 $4178002 - 392580 = 3785422$

أجدُ ناتجَ كلِّ مما يأتي:

5 $7465302 - 2337159 = 5128143$

6 $6439096 + 3278765 = 9717861$

أكتبُ العددَ المناسب في الفراغ لتصبح العبارة صحيحة:

7 $4520000 + \dots = 5620000$ 8 $1114440 + 7770000 = 8884440$

أعملُ النمطَ بكتابة 3 أعدادٍ أبرز إجابتني.

9 1200000, 1300000, 1400000, 1500000, 1600000, 1700000
 لأنَّ الزيادة 100000 في كلِّ مرَّة.

10 4600000, 4500000, 4400000, 4300000, 4200000, 4100000
 تنقص 100000

11 إذا كان عددُ سُكَّانِ محافظةِ إربدَ 1957000 و عددُ سُكَّانِ محافظةِ الرُّفَّاءَ 1498722، فيكُمُ يزيدُ عددُ سُكَّانِ محافظةِ إربدَ على عددِ سُكَّانِ محافظةِ الرُّفَّاءَ؟ 458278

12 مسألةٌ مفتوحةٌ: أكتبُ عددينِ كلَّ منهما مكوَّنٌ من 7 تنازلاً وتجمعهما 7462000. 4000000 3462000

13

الدرس 2 مقارنة الأعداد وترتيبها

أضع الرُّمزَ (> أو < أو =) في لتُصبح العبارة صحيحة:

1 $1240450 > 1204450$ 2 $3691369 = 3691369$

مسألةٌ مفتوحةٌ: أكتبُ رقمًا مناسبًا في لتُصبح الجملةُ المعدَّلةُ صحيحةً:

3 $17 \times 5900 > 1735900$ 4 $240012 < 6240012$
 9 أو 4 أو 3 أو 4 أو 5 5 أو 4 أو 3 أو 4 أو 5

5 بلغت مبيعاتُ شركةٍ بالديار في 3 أعوامٍ كما يأتي: 987654, 2315460, 1236548. أرتبُ مبيعاتَ الشركةِ من الأصغر إلى الأكبر. 987654, 1236548, 2315460

6 الجدولُ المجاورُ يبيِّنُ عددَ الأسمهات التي بيعت في سوقِ عمَّانَ الماليِّ في 3 أيامٍ متتاليةٍ من شهرِ آذارَ 2020 م. أرتبُ أعدادَ الأسمهاتِ المبَّعةِ من الأكبر إلى الأصغر:

التاريخ	عددُ الأسمهاتِ
14	3954963
15	3049785
16	2877096

7 مشاريعُ: بلغت تكليفةُ المشاريعِ الجديَّةِ في بلديةِ إربدِ الكبرى في عام 2016 م، 16125000 دينار، وبلغت تكليفتها في بلديةِ الكركِ الكبرى 5395000 دينار في العامِ نفسه. أفرِّدُ بينَ تكليفةِ المشاريعِ في البلديتين في بلديةِ إربدِ كانت تكلفه المشاريعِ أكبر.

8 مسألةٌ مفتوحةٌ: أكتبُ 3 أعدادٍ أكبرَ من 4500000 وأصغرَ من 4570000. 4510000, 4520000, 4530000

12

كتاب التمارين

الدرس 4 الأعداد السالبة (تابع)

الوحدة 1: الأعداد جمعها وطرحها

أصل كل عدو بما يأتي بمؤقيه المناسيب على خط الأعداد:

8

9

أسئعن بميزان الحرارة المجاور، في الإجابة عن الأسئلة الآتية:

10 إذا كانت درجة الحرارة 2 درجة مئوية، وانخفضت بمقدار 5 درجات، ما درجة الحرارة الآن؟ -3

11 إذا كانت درجة الحرارة 7 درجات مئوية تحت الصفر، وارتفعت بمقدار درجة واحدة، ما درجة الحرارة الآن؟ -6

يُمثل الشكل المجاور نباتة طوابقها مرقمة من -3 إلى 5، والطابق رقم 0 يُمثل الطابق الأرضي.

12 إذا كنت في الطابق رقم 3 وتزلت أربعة طوابق إلى الأسفل، ما رقم الطابق الذي أنا فيه الآن؟ -1

13 إذا كنت في الطابق رقم -2، وصعدت 3 طوابق إلى الأعلى، في أي طابق أنا الآن؟ +1 (الأول).

14 إذا دخلت الطابق الأرضي من البناية، وتزلت طابقين للأسفل، هل رقم الطابق الذي أنا فيه الآن سالب أم موجب؟ سالب.

15

الدرس 4 الأعداد السالبة

الوحدة 1: الأعداد جمعها وطرحها

أكتب درجة الحرارة التي يُشير إليها كل ميزان بما يأتي:

1

2

3

4

5

6

7 أطلل الميزان بدرجة الحرارة المتكوية تحتها في كل مما يأتي:

14

الدرس 5 خطة حل المسألة (أنشئ جدولاً)

الوحدة 1: الأعداد جمعها وطرحها

1 بُدور، يزرع عامر مقابيل كل بذرة لبنة الزحان 4 بدور لنبات الزينة. إذا كان مجموع البذور التي زرعا عامر 45 بذرة، فكم بذرة زينة زرع عامر؟

الرقم	العدد
9	8
36	32
45	40

عدد بدور نبات الزينة 36.

2 كعكة: تزعج ليلي ووالدتها تنظيم حفلة عائلية، وتخططان إعداد كعكة فنية مقابيل كل كعكتي فلاح لكل 14 شخصاً. كم كعكة عليهما إعدادها لـ 112 شخصاً؟

رقم الكعكة	عدد الكعكات
9	8
18	16
112	98

مجموع الكعكات التي تحتاج إليها 27.

3 لؤخة أهداف: زمي لاعب ستهتين على لؤخة الأهداف المجاورة. ما مجموع النقاط التي يُمكنه الحصول عليها؟

الرقم	العدد
9	9
9	8
18	17

يمكن أن يحصل على أحد الأعداد الآتية من النقاط: 14, 15, 16, 17, 18.

4 يرمي ماجسد 3 أحجار ترو، وتجد مجموع الأعداد على الوجه الظاهر. يكتم طريقة مختلفة يُمكنه الحصول على المجموع 12؟

4	3	3	2	2	1	1
4	4	3	4	5	5	2
4	5	6	6	5	6	3
12	12	12	12	12	12	المجموع

16

إجابات الدرس 1:

أدرب: السؤال الخامس - صفحة 10
الصيغة اللفظية: ستة ملايين واثان وثمانون ألفاً وخمسمئة وثلاثة.
الصيغة التحليلية: $6000000+80000+2000+500+3$

أدرب: السؤال السادس - صفحة 10
الصيغة اللفظية: سبعة وخمسون مليوناً وثمانمئة ألف وثلاث وثمانون.
الصيغة التحليلية: $50000000+7000000+800000+80+3$

أدرب: السؤال السابع - صفحة 10
الصيغة اللفظية: أربعة ملايين وثمانمئة وعشرة آلاف وتسعمئة وستة وعشرون.
الصيغة التحليلية: $4000000+800000+10000+900+20+6$

أدرب: السؤال الثامن - صفحة 10
الصيغة القياسية: 1174463
الصيغة التحليلية: $1000000+100000+70000+4000+400+60+3$

أدرب: السؤال التاسع - صفحة 10
الصيغة القياسية: 15108007
الصيغة التحليلية: $10000000+5000000+100000+8000+7$

أدرب: السؤال العاشر - صفحة 10
الصيغة القياسية: 234000087
الصيغة التحليلية: $200000000+30000000+4000000+80+7$



أُتدرب: السؤال الأول - صفحة 25

عدد الكرات				اللون
4	3	2	1	الصفراء
32	24	16	8	الحمراء
36	27	18	9	المجموع

أيّ يكون في الباقية 32 زهرة حمراء.

أُتدرب: السؤال الثاني - صفحة 25

عدد الطرق	ربطة العنق				لون القميص
4	أسود	أخضر	بني	أحمر	أزرق
4	أسود	أخضر	بني	أحمر	رمادي
4	أسود	أخضر	بني	أحمر	أبيض
12					المجموع

أيّ أن عدد الطرق المختلفة للباس قميص وربطة عنق يساوي 12.

أُتدرب: السؤال الثالث - صفحة 25

عدد القطع النقدية						الفتة
0	1	2	3	4	5	10
10	8	6	4	2	0	5
50	50	50	50	50	50	مجموع قيمة القطع

أُتدرب: السؤال الرابع - صفحة 25

القفز	الممسكتان بالجبل
سحر وديما	ريما ولانا
لانا وديمة	ريما وسحر
لانا وسحر	ريما وديمة
ريما وديمة	لانا وسحر
ريما وسحر	لانا وديما
ريما ولانا	سحر وديما
6	المجموع



مخطط الوحدة



عدد الحصص	الأدوات والمواد	المصطلحات	الأهداف	المحتوى
3	<ul style="list-style-type: none"> • بطاقات. • أقلام. • أوراق. • ألواح صغيرة 	<ul style="list-style-type: none"> • المضاعفة. • التنصيف. 	<ul style="list-style-type: none"> • إيجاد ناتج ضرب أعداد كليّة ذهنيًا باستعمال المضاعفة والتنصيف. 	الدرس 1: الضرب الذهني.
2	<ul style="list-style-type: none"> • بطاقات. • أقلام. • أوراق. • حجر نرد. 	الأعداد المتناغمة.	<ul style="list-style-type: none"> • تقدير ناتج الضرب؛ باستعمال التقريب. 	الدرس 2: تقدير ناتج الضرب.
2	<ul style="list-style-type: none"> • أحجار نرد. • ألواح صغيرة. • ورقة المصادر 1 • ورقة المصادر 3 	<ul style="list-style-type: none"> • ناتج الضرب الجزئية. • طريقة الشبكة. 	<ul style="list-style-type: none"> • ضرب عدد من منزلة واحدة. 	الدرس 3: الضرب في عدد من منزلة واحدة.
2	<ul style="list-style-type: none"> • حجر نرد. • قلم. • أوراق. • اللوح. 		<ul style="list-style-type: none"> • إيجاد ناتج ضرب عدد من 3 منازل على الأكثر، في عدد من منزلتين. 	الدرس 4: الضرب في عدد من منزلتين.
2	<ul style="list-style-type: none"> • بطاقات. • أقلام. • أوراق. • حجر نرد. 		<ul style="list-style-type: none"> • تقدير ناتج قسمة الأعداد الكليّة؛ باستعمال أعداد متناغمة. 	الدرس 5: تقدير ناتج القسمة.
2	<ul style="list-style-type: none"> • بطاقات. • أقلام. • أوراق. • ورقة المصادر 3 	المضاعف.	<ul style="list-style-type: none"> • قسمة عدد من 3 منازل على الأكثر، على عدد من منزلتين من دون باق. 	الدرس 6: القسمة من دون باق.
2	<ul style="list-style-type: none"> • أقلام. • أوراق. • ورقة المصادر 3 	باقي القسمة.	<ul style="list-style-type: none"> • إيجاد ناتج قسمة عدد كليّ من 3 منازل، على عدد من منزلتين. • تفسير معنى باقي القسمة في مسائل القسمة. 	الدرس 7: القسمة مع باقٍ.
1				عرض نتائج مشروع الوحدة.
1				اختبار نهاية الوحدة.
17 حصة				المجموع:

الضربُ والقِسْمَةُ

ما أهميَّة هذه الوَحْدَةِ؟

نَسْتَعْمِلُ عَمَلِيَّاتِي الضَّرْبِ والقِسْمَةِ كَثِيرًا فِي حَيَاتِنَا اليَوْمِيَّةِ، فَمَثَلًا نَسْتَعْمِلُ الضَّرْبَ والقِسْمَةَ فِي أَثْنَاءِ التَّسْوِيقِ لِتَحْسُبَ سِعْرَ العُبُودِ الواجِدَةِ مِنَ المَاءِ؛ إِذَا عَلِمْنَا سِعْرَ صُنْدُوقِ كَبِيرٍ يَحْتَوِي عَلَى عَدَدٍ مِنَ العُبُودَاتِ.



سَاتَعْلَمُ فِي هَذِهِ الوَحْدَةِ:

- ضَرْبَ عَدَدٍ مِنْ 4 مَنَازِلَ عَلَى الأَكْثَرِ فِي عَدَدٍ مِنْ مَنَزَلَةٍ وَاحِدَةٍ.
- ضَرْبَ عَدَدٍ مِنْ 3 مَنَازِلَ عَلَى الأَكْثَرِ فِي عَدَدٍ مِنْ مَنَزَلَتَيْنِ.
- قِسْمَةَ عَدَدٍ مِنْ 3 مَنَازِلَ عَلَى عَدَدٍ مِنْ مَنَزَلَتَيْنِ.

تَعْلَمْتُ سَابِقًا:

- ✓ ضَرْبَ الأَعْدَادِ الكَلِّيَّةِ فِي 10، 100، 1000، وَقِسْمَتَهَا عَلَيْهَا.
- ✓ ضَرْبَ عَدَدٍ كَلِّيٍّ مِنْ 3 مَنَازِلَ فِي عَدَدٍ مِنْ مَنَزَلَةٍ وَاحِدَةٍ، وَقِسْمَتَهُ عَلَيْهِ.
- ✓ ضَرْبَ عَدَدٍ مِنْ مَنَزَلَتَيْنِ، فِي عَدَدٍ مِنْ مَنَزَلَتَيْنِ.

نظرة عامة حول الوحدة:

في هذه الوحدة، يتعلّم الطلبة تقدير ناتج الضرب لأعداد مكوّنة من 3 منازل في عدد من منزلة أو عدد من منزلتين، وتقدير ناتج ضرب عدد من 4 منازل في عدد من منزلة واحدة؛ باستخدام التقريب والأعداد المتناغمة، كما يتعلّم الطلبة ضرب عدد من 3 منازل في عدد من منزلة أو منزلتين باستعمال الطرائق المختلفة وهي: ناتج الضرب الجزئية ونموذج المساحة وخوارزمية الضرب العمودي، كما يتعلّمون تقدير ناتج قسمة عدد من 3 منازل على عدد من منزلة أو منزلتين، وإيجاد ناتج القسمة من دون باق باستعمال نموذج المساحة وخوارزمية القسمة الطويلة، وإجراء القسمة بوجود باق وتفسير وجود الباقي حسب الموقف.

الترايط الرأسي بين الصفوف

الصف السادس



- قسمة عدد يحتوي على الأصفار على عدد من منزلتين أو 3.
- ضرب الأعداد الصحيحة وقسمتها.
- تقدير ناتج ضرب الكسور والكسور العشرية وقسمتها.
- ضرب الكسور والكسور العشرية وقسمتها.
- ضرب الكسور العشرية وقسمتها.

الصف الخامس



- تقدير ناتج ضرب عدد كلي من 4 منازل في عدد من منزلة واحدة، وقسمته عليه.
- ضرب عدد كلي من 3 منازل على الأكثر في عدد من منزلة واحدة، وقسمته عليه.
- إيجاد ناتج ضرب عدد كلي من 3 منازل في عدد من منزلتين، وقسمته عليه.

الصف الرابع



- ضرب الأعداد الكليّة في 1000، 100، 10.
- ضرب عدد كلي من 3 منازل في عدد من منزلة واحدة، وقسمته عليه.
- ضرب عدد من منزلتين في عدد من منزلتين.
- قسمة عدد من مضاعفات 1000، 100، 10 على عدد من منزلة واحدة.

مشروع الوحدة: أنا عالم صغير

هدف المشروع:

يهدف هذا المشروع إلى تنمية مهارات الطلبة في البحث والحصول على المعلومات من مصادر متنوعة مثل الإنترنت والكتب، كما يهدف إلى تعزيز ثقتهم بأنفسهم، حيث يمارسون عملية التعلم الذاتي، ويتعلمون طرائق جديدة للضرب ويستعملونها في ضرب عدد من 3 منازل في عدد من منزلتين.

خطوات تنفيذ المشروع:

- أوزع الطلبة في مجموعات.
- ناقش الطلبة في مشروع الوحدة، وأتحقق من وضوح خطوات تنفيذه للجميع.
- أعرف بأهمية المشروع في تنمية مهارات البحث المختلفة ومنها الإنترنت، والربط والمقارنة والترتيب والعمل بروح الفريق.
- أطلب إليهم كتابة تقرير حول مراحل تنفيذ المشروع، وصور النتائج التي توصلوا إليها، وتنظيم ذلك في مطوية، وتنسيقها بصورة مناسبة لعرضها في الوقت المناسب.
- عند انتهاء الوحدة، أحدد وقتاً مناسباً لعرض النتائج التي توصل إليها الطلبة وأناقشهم فيها.
- أطلب إلى طلبة المجموعة جميعهم المشاركة في عرض جزء من نتائج المشروع.
- أناقش الطلبة في معايير تقييم عملهم بالاستعانة بسلم التقدير، وأطلب إليهم تسجيل تقييمهم الذاتي لمشروعهم.

2 أبحثُ في شبكة الإنترنت (تحت إشراف معلّمي أو أحد والدي) عن كيفية استعمال هاتين الطريقتين في إيجاد ناتج ضرب عددين.

3 أجربُ ضرب أعدادٍ مختلفةٍ باستعمال الطريقتين حتى أتقنهما.

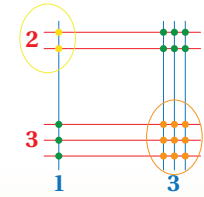
4 أختار مسألةً لضرب عددٍ من 3 منازلٍ في عددٍ من منزلتين، وأمثلها على لوحةٍ كرتونيةٍ باستعمال الطريقتين.

5 أناقشُ ما تعلمته عن طرائق الضرب الجديدة مع طلبة الصف، وأساعِدُ زملائي ممن لم يُتقِنوا استعمال هذه الطرائق في الضرب.

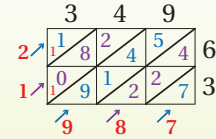
أستعدُّ وُزْمَلائي/زَمِلاتي لتنفيذ مشروعِي الخاص، الذي سأستعمل فيه مهاراتي في البحث؛ لاكتشاف طرائق جديدة تُساعدني على إيجاد ناتج ضرب عددين.

خطوات تنفيذ المشروع:

1 أنظرُ إلى الأشكال أدناه، ماذا لاحظت؟ تمثّل هذه الأشكال طريقتين مختلفتين لضرب الأعداد، الأولى تُسمى الضرب بالخطوط، والثانية تُسمى الطريقة الشبكية.



$$23 \times 13 = 299$$



$$\text{إذن: } 349 \times 63 = 21987$$

عرض النتائج:

أصمُّ مطويةً جميلةً، وأكتبُ فيها:

- خطوات عمل المشروع، والنتائج التي توصلت إليها.
- سرحاً مختصراً عن كل طريقة.
- الطريقة التي أفضلها، وأسباب ذلك.
- معلومة إضافية عرفتُها عن طرائق الضرب والقسمة في أثناء عملي في المشروع.
- بعض الصعوبات التي واجهتني في أثناء عملي في المشروع، وكيف تغلبت عليها.

أداة تقويم المشروع

الرقم	المعيار	1	2	3
1	استعمال الطريقتين في إجراء عملية الضرب بإتقان.			
2	تمثيل عملية الضرب لمسألة على اللوحة الكرتونية.			
3	مناقشة الزملاء في الخطوات، وتقديم المساعدة لمن يحتاج إليها.			
4	إنهاء معظم خطوات المشروع بصورة مقبولة.			
5	استعمال توضيحات وتفسيرات مقبولة في بعض خطوات المشروع.			
6	تنظيم نتائج المشروع التي توصل إليها بصورة مقبولة.			

1 إنجاز المهمة بوجود أكثر من خطأ.

2 إنجاز المهمة بوجود خطأ بسيط.

3 إنجاز المهمة بصورة صحيحة من دون خطأ.

هدف النشاط:

إيجاد ناتج ضرب أعداد كلية ذهنياً باستعمال المضاعفة والتنصيف.

خطوات العمل:

- أقسم الطلبة إلى مجموعات ثنائية.
- أكتب الأعداد الآتية على اللوح:

16, 24, 32, 48, 56, 64

- أطلب إلى كل مجموعة تكوين 5 أزواج من الأعداد المكتوبة على اللوح، وإيجاد ناتج ضرب كل زوج باستعمال المضاعفة والتنصيف، ثم إيجاد الناتج الضرب باستعمال خوارزمية الضرب.
- أتجول بين المجموعات، وأقدم التغذية الراجعة اللازمة.

هدف النشاط:

ضرب عدد من 3 منازل، في عدد من منزلة واحدة.

المواد والأدوات:

مجموعة بطاقات الأعداد (9 - 2) من ورقة المصادر 3: بطاقات الأعداد (100 - 0)، حجري نرد.

خطوات العمل:

- أقسم الطلبة إلى مجموعات ثنائية، ثم أزوّد كل مجموعة بالأدوات اللازمة.
- أطلب إلى المجموعات خلط بطاقات الأعداد، ووضعها مقلوبة أمامهم.
- أطلب إلى كل فرد في المجموعة رمي حجر النرد الخاص به 3 مرّات؛ لتكوين عدد من 3 منازل.
- أطلب إلى كل فرد في المجموعة سحب بطاقة من مجموعة البطاقات المقلوبة.
- أطلب إلى كل فرد في المجموعة اختيار أي طريقة لضرب العدد المكوّن من 3 منازل، بالعدد المكتوب على البطاقة التي اختارها.
- يحصل من يكون ناتج الضرب لديه أكبر على نقطة.
- تستمر المجموعات في اللعب بتكرار الخطوات السابقة.
- يفوز في اللعبة أول من يفوز في 5 جولات متتالية.

تنويع التعلم:

يُمكنني تكوين أعداد من 4 منازل، باختيار بطاقتين من بطاقات الأعداد على كل منهما عدد مكون من منزلتين.

هدف النشاط:

تقدير ناتج القسمة باختيار أعداد متناغمة.

المواد والأدوات:

مجموعة بطاقات الأعداد (9 - 1) من ورقة المصادر 3: بطاقات الأعداد (100 - 0)، حجري نرد.

خطوات العمل:

- أقسم الطلبة إلى مجموعات ثنائية، ثم أزوّد كل مجموعة بالأدوات اللازمة.
- أطلب إلى المجموعات خلط بطاقات الأعداد، ووضعها مقلوبة أمامهم.
- أطلب إلى كل فرد في المجموعة سحب 3 بطاقات؛ لتكوين عدد من 3 منازل.
- أطلب إلى كل فرد في المجموعة رمي حجر النرد الخاص به مرتين؛ لتكوين عدد من منزلتين.
- أطلب إلى كل فرد في المجموعة تقدير ناتج قسمة العدد المكون من 3 منازل على العدد المكون من منزلتين باختيار أعداد متناغمة.
- يحصل من يكون تقدير ناتج القسمة لديه أكبر على نقطة.
- تستمر المجموعات في اللعب بتكرار الخطوات السابقة.
- يفوز في اللعبة أول من يفوز في 5 جولات متتالية.

هدف النشاط:


قسمة عدد مكوّن من 3 منازل، على عدد مكوّن من منزلة بوجود أو من دون باقٍ.

المواد والأدوات:

مجموعة بطاقات الأعداد (9 - 2) من ورقة المصادر 3: بطاقات الأعداد (100 - 0).

خطوات العمل:

- أقسم الطلبة إلى مجموعات ثنائية، ثم أزوّد كل مجموعة بالأدوات اللازمة.
- أطلب إلى المجموعات خلط بطاقات الأعداد، ووضعها مقلوبة أمامهم.
- أطلب إلى أفراد المجموعات التناوب لسحب 3 بطاقات لتكوين عدد من 3 منازل، ثم سحب بطاقة رابعة لتمثل عدد من منزلة واحدة.
- أطلب إلى كل فرد في المجموعة اختيار طريقة لقسمة العدد المكوّن من 3 منازل على العدد المكوّن من منزلة واحدة.
- يحصل من يكون باقي القسمة لديه أكبر على نقطة.
- تستمر المجموعات في اللعب بتكرار الخطوات السابقة.
- يفوز في اللعبة أول من يفوز في 5 جولات متتالية.



أَسْتَكْشِفُ

كَيْفَ أَجِدُ نَاتِجَ ضَرْبِ 8×36 ذَهْنِيًّا؟

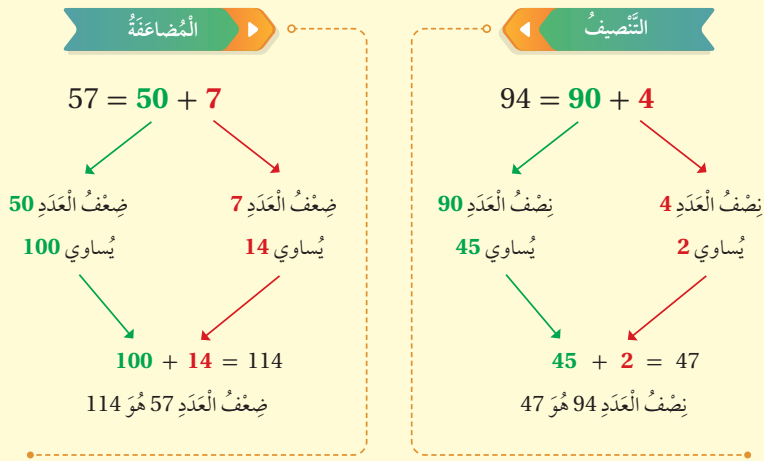
فِكْرَةُ الدَّرْسِ

أَجِدُ نَاتِجَ ضَرْبِ أَعْدَادٍ كَلِّيَّةٍ ذَهْنِيًّا
بِاسْتِعْمَالِ الْمُضَاعَفَةِ وَالتَّنْصِيفِ.

المُضَاعَفَةُ، التَّنْصِيفُ

أَتَعَلَّمُ

المُضَاعَفَةُ (doubling) وَالتَّنْصِيفُ (halving) عَمَلِيَّتَانِ عَكْسِيَّتَانِ، فَمُضَاعَفَةُ عَدَدٍ تَعْنِي ضَرْبَهُ فِي 2، وَتَّنْصِيفُهُ يَعْنِي قِسْمَتَهُ عَلَى 2، وَيُمْكِنُ تَسْهِيلُ مُضَاعَفَةِ الْعَدَدِ أَوْ تَّنْصِيفُهُ مِنْ خِلَالِ تَجَرُّبَتِهِ إِلَى أَعْدَادٍ أَصْغَرَ.



التدريس

3

- أُبَيِّنُ لِلطَّلَبَةِ الْعِلَاقَةَ بَيْنَ الْمُضَاعَفَةِ وَالتَّنْصِيفِ، وَأَنَّهُمَا عَمَلِيَّتَانِ عَكْسِيَّتَانِ، وَلِمُضَاعَفَةِ الْعَدَدِ يُضْرَبُ فِي 2 وَلِتَّنْصِيفِهِ يُقَسَّمُ عَلَى 2.

تعزيز اللغة ودعمها:

أُكْرِّرُ المِصْطَلَحِينَ: (المُضَاعَفَةُ، التَّنْصِيفُ) أَمَامَ الطَّلَبَةِ، وَأَحْرَصُ عَلَى اسْتِعْمَالِهِمَا مِنْ قِبَلِهِمْ.

نتائج الدرس:

- إيجاد ناتج ضرب أعداد كَلِّيَّةٍ ذَهْنِيًّا؛ باستعمال المضاعفة والتنصيف.

نتائج التعلم القبلي:

- حقائق الضرب الأساسية.
- خاصية توزيع الضرب على الجمع.
- ضرب عدد في مضاعفات 10، 100، 1000.

مراجعة التعلُّم القبلي ومعالجة الفاقد التعليمي:

أسترشد بالإجراءات المبيَّنة في مقدمة دليل المعلم (الصفحتان 1 و 2) المتعلقة بمراجعة التعلُّم القبلي ومعالجة الفاقد التعليمي لدى الطلبة.

التهيئة

1

- أذكر للطلبة عشوائياً عدداً (20 - 2)، وأطلب إليهم كتابة ضعفه على ألواحهم الصغيرة، ثم رفعها عالياً.

الاستكشاف

2

- أوجّه الطلبة إلى قراءة المسألة في فقرة **أستكشف**، وأسأل:
 - « ما العلاقة بين 8 و 4، وبين 36 و 72؟
 - « ما العلاقة بين 4 و 2، وبين 72 و 144؟
 - « ما العلاقة بين 1 و 2، وبين 144 و 288؟
- أعزّز الإجابات الصحيحة.

الوَخْدَةُ 2

مثال 1

- أوجه الطلبة إلى المثال 1، وأسأل:
 - « كيف نُضاعف العدد؟ **نضرب في 2.**
 - « كيف نضرب عدد من منزلتين في عدد من منزلة واحدة؟ **نضرب الأحاد ثم نضرب العشرات.**
 - « أيبين لهم أن ذلك يتم عن طريق تجزئة العدد ذي المنزلتين (75) إلى $5 + 70$
 - « أسأل: كيف نضرب $5 + 70$ في العدد 2؟ **نستعمل خاصية التوزيع.**
 - « أكتب العملية على اللوح، وأتوصل إلى أن الناتج هو ضعف العدد 75.
- أنتقل إلى الفرع الثاني من المثال، وأسأل:
 - « كيف يتم تصنيف عدد؟ **نقسم على 2.**
 - « كيف نُجزئ العدد 480 إلى عشرات ومئات؟ **$400 + 80$.**
 - « هل نستطيع استخدام خاصية التوزيع؟
- أطلب إلى أحد الطلبة إجراء عملية القسمة وكتابة الناتج.
- أيبين للطلبة أن الناتج 240 هو نصف العدد 480.

التقويم التكويني: ✓

أطلب إلى الطلبة حلّ تدريب (أتحقّق من فهمي) بعد كلّ مثال. أختار بعض الإجابات التي تحتوي على أخطاء مفاهيمية، وأناقش الطلبة فيها على اللوح. لا أذكر اسم صاحب الحلّ أمام الصفّ تجنباً لإحراجه.

مثال 1

1 أجدُ ضِعْفَ العَدَدِ 75

لِمُضَاعَفَةِ العَدَدِ 75؛ أَضْرِبُهُ فِي 2

أَضْرِبُ العَدَدَ 75 فِي 2

أُجْزِئُ العَدَدَ 75 إِلَى 5 + 70

أَسْتَعْمِدُ خَاصِيَةَ التَّوْزِيعِ

أَجِدُ نَائِجِي الضَّرْبِ

أَجْمَعُ

إِذَنْ: ضِعْفُ العَدَدِ 75 هُوَ 150

2 أجدُ نِصْفَ العَدَدِ 480

لِتَنْصِيفِ العَدَدِ 480؛ أَقْسِمُهُ عَلَى 2

أَقْسِمُ العَدَدَ 480 عَلَى 2

أُجْزِئُ العَدَدَ 480

أَسْتَعْمِدُ خَاصِيَةَ التَّوْزِيعِ

أَجِدُ نَائِجِي القِسْمَةِ

أَجْمَعُ

إِذَنْ: نِصْفُ العَدَدِ 480 هُوَ 240

أَتَحَقَّقُ مِنْ فَهْمِي:

2 أجدُ نِصْفَ العَدَدِ 168 84

1 أجدُ ضِعْفَ العَدَدِ 79 158

التمرين

أَتَدْرِبُ عَلَى مُضَاعَفَةِ الأَعْدَادِ بِاسْتِعْمَالِ الإِجْرَاءَاتِ المُجَاوِزَةِ ذَهْنِيًّا.

$$\begin{aligned} 75 \times 2 &= (70 + 5) \times 2 \\ &= (70 \times 2) + (5 \times 2) \\ &= 140 + 10 \\ &= 150 \end{aligned}$$

التمرين

أَتَدْرِبُ عَلَى تَنْصِيفِ الأَعْدَادِ بِاسْتِعْمَالِ الإِجْرَاءَاتِ المُجَاوِزَةِ ذَهْنِيًّا.

$$\begin{aligned} 480 \div 2 &= (400 + 80) \div 2 \\ &= (400 \div 2) + (80 \div 2) \\ &= 200 + 40 \\ &= 240 \end{aligned}$$

التذكير

مِنَ السَّهْلِ الضَّرْبِ فِي مُضَاعَفَاتِ العَدَدِ 10
 $30 \times 4 = 120$

وَيُمْكِنُنِي اسْتِعْمَالُ المُضَاعَفَةِ وَالتَّصْصِيفِ لِأَجْدِ ذَهْنِيًّا نَائِجِ ضَرْبِ عَدَدَيْنِ أَحَدُهُمَا عَلَى الأَقْلَ رَؤُوسِي، وَذَلِكَ بِتَنْصِيفِ أَحَدِهِمَا وَمُضَاعَفَةِ الأُخْرَى؛ لِلْحُصُولِ عَلَى عَدَدَيْنِ لهُمَا نَائِجُ الضَّرْبِ نَفْسِهِ، لَكِنِ يَسْهَلُ ضَرْبُهُمَا.

• أذكر الطلبة بضرب عدد في 10 و 100 و 1000 ذهنيًا مثلًا:

$$25 \times 10 = 250 \quad 32 \times 100 = 3200$$

• أوضح للطلبة أهمية المضاعفة والتنصيف في إجراء عمليات الضرب ذهنيًا.

• أذكر الطلبة بأنه يمكن استعمال خاصية التجميع عند الضرب في مضاعفات 10، فمثلًا:

$$\begin{aligned} 9 \times 30 &= (9 \times 3) \times 10 \\ &= 27 \times 10 \\ &= 270 \end{aligned}$$

وكذلك بالنسبة إلى الضرب في مضاعفات 100 و 1000

• أكتب جملة الضرب 35×16 على اللوح، وأسأل الطلبة:

« ما العدد الذي يمكنك تنصيفه؟ 16

« ما ضعف العدد 35؟ 70

« كيف نكتب عملية الضرب بصورة أخرى؟ 70×8

• أطلب إلى الطلبة استعمال حقائق الضرب الأساسية لإيجاد الناتج، وبالطريقة نفسها ناقش الفرع الثاني من المثال.

✓ **إرشاد:** أذكر الطلبة بحقائق الضرب، وأبين لهم أنه يمكن ربط حقائق الضرب في 2، مع حقائق الضرب في 4 وكذلك في 8.

مثال 2 أجد ناتج كل مما يأتي باستعمال المضاعف والتنصيف:

1 35×16

$$\begin{aligned} 35 \times 16 &= 70 \times 8 \\ &= 560 \end{aligned}$$

ضعف العدد 35 هو 70،
ونصف العدد 16 هو 8

استعمل حقائق الضرب الأساسية

الإرشاد

إذا كان أحد العددين زوجيًا أنصفه وأضاعف العدد الآخر.

2 15×32

$$\begin{aligned} 15 \times 32 &= 30 \times 16 \\ &= 60 \times 8 \\ &= 480 \end{aligned}$$

ضعف العدد 15 هو 30،
ونصف العدد 32 هو 16

ضعف العدد 30 هو 60،
ونصف العدد 16 هو 8

استعمل حقائق الضرب الأساسية

التذكير

استور بالمضاعفة والتنصيف حتى أحصل على أعداد يسهل ضربها.

اتحقق من فهمي:

أجد ناتج كل مما يأتي باستعمال المضاعف والتنصيف:

3 28×5 140

4 12×15 180

أجد ضعف كل عدد مما يأتي ذهنيًا:

1 34 68

2 45 90

3 58 116

4 330 660

5 250 500

6 490 980

أجد نصف كل عدد مما يأتي ذهنيًا:

7 90 45

8 36 18

9 44 22

10 270 135

11 550 275

12 390 195

أدرب

وأحل المسائل

إرشاد

يُنكس استعمال القيمة المنزلية للمضاعف عدد أو تنصيفه.

4 التدريب

أدرب وأحل المسائل:

- أوجه الطلبة إلى فقرة (أدرب وأحل المسائل)، ثم أطلب إليهم حل المسائل (1 - 12) والمسائل (15 - 18) ضمن مجموعات ثنائية داخل الغرفة الصفية؛ فهذه المسائل تحديدًا ترتبط ارتباطًا مباشرًا بأمثلة الدرس، وهي تُستعمل خاصة لتدريب الطلبة على المفاهيم نفسها، بصرف النظر عما إذا كانت الأسئلة فردية أم زوجية.
- إذا واجه الطلبة صعوبة في حل أي مسألة، فإنني أختار أحد الطلبة ممن تمكن/ تمكنت من حل المسألة؛ لمناقشة استراتيجيته/ استراتيجيتها في حل المسألة على اللوح، مُحفزًا الطلبة على طرح أي تساؤل عن خطوات الحل المُقدَّمة من الزميل/ الزميلة.

أخطاء شائعة:

قد يُخطئ بعض الطلبة بتنصيف أو مضاعفة أحد العددين مع إبقاء العدد الآخر كما هو. أُنبه الطلبة إلى ذلك الخطأ.

تنبيه:

أذكر الطلبة بأنه إذا كان أحد العددين زوجيًا والآخر فرديًا؛ نُصّف العدد الزوجي ونضاعف الفردي.

الواجب المنزلي:

أستعين بالجدول الآتي لتحديد الواجب المنزلي للطلبة بحسب مستوياتهم:

المستويات	الأسئلة
دون المتوسط	كتاب الطالب: 13, 14 كتاب التمارين: 1, 3, 4, 5
ضمن المتوسط	كتاب الطالب: 14, 19 كتاب التمارين: 2, 3, 5, 6
فوق المتوسط	كتاب الطالب: 14, 19, 20 كتاب التمارين: 3, 6, 7

مهارات التفكير العليا

- أوجّه الطلبة إلى فقرة (مهارات التفكير العليا)، ثم أطلب إليهم حل المسائل (20 - 19).
- أرصد أية أفكار غير تقليدية من الطلبة، ثم أطلب إلى هؤلاء الطلبة كتابة هذه الأفكار على اللوح.
- في سؤال 19 أكتشف الخطأ، أطلب إلى الطلبة تحديد أي العمليات تتضمن عددين فرديين، ولا نستطيع تبسيطها بالتنصيف والمضاعفة.
- في سؤال 20 تبرير، أطلب إلى الطلبة كتابة الخطوات بالترتيب.

التطبيق:

- أوجّه الطلبة إلى تنفيذ النشاط 1 من أنشطة التدريب الإضافية.

الإثراء

5

- أستعمل المسألة الآتية لإثراء تعلم الطلبة:
« لإيجاد ناتج 8×120 ، أي العددين أختار تنصيفه؟ أبرر إجابتي.

مشروع الوحدة:

- أوجّه الطلبة لتنفيذ الخطوتين 1 و 2 من خطوات المشروع.

الوَخْذَةُ 2

أملأ الفراغ بما يُناسبه في كلِّ مما يأتي:

13	39	69	615	8350	14	144	5400	1360	12300
	87	680	8400			3200	1450	15400	
	$\times 2$					$\div 2$			
	174	1360	16800			1600	2900	7700	
	78	138	1230	16700		72	2700	680	6150

أجد ناتج كلِّ مما يأتي باستعمال المضاعفة والتنصيف:

15 $25 \times 24 = 600$ 16 $25 \times 16 = 400$

17 $28 \times 45 = 1260$ 18 $28 \times 15 = 420$

19 أكتشف المختلف: أحدد المختلف في ما يأتي، مبرراً إجابتي:

25×24
 29×29
 16×94
 45×64

20 تبرير: قطار على متنه 78 راكباً، نزل في المحطة الأولى نصف عدد الركاب، ثم صعد 218 راكباً. وفي المحطة الثانية صعد المزيد من الركاب إلى القطار، بحيث تضاعف عدد الركاب عليه. كم راكباً في القطار الآن؟ أبرر إجابتي.
514 (أصبح عدد الركاب في المحطة الثانية 257 ثم تضاعف).

20 أنتدش: كيف أجد ناتج ضرب عددين باستعمال المضاعفة والتنصيف؟ أضاعف أحد العددين وأنصف الآخر، ثم أجد ناتج الضرب ذهنياً.

أنتدش

أستور في المضاعفة والتنصيف حتى أحصل على أعداد يشهل ضربها.

مهارات التفكير العليا

إرشاد

أي العمليات داخل البالونات لا يمكن إيجاد ناتجها باستعمال التنصيف والمضاعفة؟

33

الختام

6

- أستعمل فقرة أنتدش، للتأكد من فهم الطلبة لخطوات المضاعفة والتنصيف، وبخاصة الطلبة ذوي المستوى المتوسط ودون المتوسط.
- إن لزم الأمر، أتحقق من فهم الطلبة، بطرح سؤال عليهم، مثل:
« أجد ناتج كلِّ مما يأتي باستعمال المضاعفة والتنصيف:

1 14×25 2 18×15

3 35×16

- أوجّه الطلبة إلى قراءة المسألة في فقرة **أستكشف**، وأسأل:
 - « ما عدد الخزائن في المكتبة؟ 14 »
 - « كم كتابًا في الخزانة الواحدة؟ 625 »
 - « ما المطلوب؟ كم تُقدّر عدد الكتب؟ »
- أبيّن للطلبة أنّهم سيتمكّنون بعد هذا الدرس من تقدير عدد الكتب (أي إيجاد قيمة تقديرية لعدد الكتب قريبة من العدد الفعلي).

- أبيّن للطلبة وجود طرائق مختلفة لتقدير نواتج الضرب، ومنها التقريب إلى أعلى منزلة؛ إذ يمكن الحصول على أعداد من مضاعفات 10 أو 100 أو 1000، وبذلك يسهّل إجراء عملية الضرب ويكون الناتج قريبًا من الإجابة الدقيقة.
- أذكر الطلبة بعملية تقريب الأعداد إلى أقرب 10 أو إلى أقرب 100 أو إلى أعلى منزلة، مثل: 112 تُقرب إلى 100.

تعزيز اللغة ودعمها:

أكرّر المصطلح: (الأعداد المتناغمة) أمام الطلبة، وأحرص على استعماله من قبلهم.

مثال 1

- أوجّه الطلبة إلى الفرع 1 من المثال 1 وأسأل: ما ناتج تقريب العدد 217 إلى أعلى منزلة؟ 200
- أبيّن للطلبة أنّ العدد ذا المنزلة الواحدة لا يُقرب.
- أسأل: ما ناتج ضرب 200×8 ؟ $1600 = 200 \times (2 \times 8) \times 100$
- أدرب الطلبة على حساب مثل هذه العملية ذهنيًا.
- أناقش الطلبة في حل الفرع 2 من المثال 1؛ وأبين لهم أهمية تقريب العددين المضروبين في مثل هذا النوع من المسائل.

التقويم التكويني:

أطلب إلى الطلبة حلّ تدريب (أتحقّق من فهمي) بعد كلّ مثال. أختار بعض الإجابات التي تحتوي على أخطاء مفاهيمية، وأناقش الطلبة فيها على اللوح. لا أذكر اسم صاحب الحلّ أمام الصفّ تجنبًا لإحراجهم.

✓ **إرشاد:** أذكر الطلبة بتقريب الأعداد إلى أقرب 10، 100، 1000 أو إلى أعلى منزلة، وأنّه عند التقريب إلى أقرب 10، ننظر إلى منزلة الآحاد؛ فإذا كانت أكبر أو تساوي 5 فنضيف 1 للرقم في منزلة العشرات ونضع صفرًا في منزلة الآحاد، وإذا كان رقم الآحاد أقل من 5 فيبقى رقم العشرات كما هو ونضع صفرًا في الآحاد، وهكذا بالنسبة إلى المئات والألوف.

الوَخْذَةُ 2

2 683×23

التفكير

مِنَ السَّهْلِ الضَّرْبِ فِي
مُضَاعَفَاتِ الْعَدَدِ 10:

$6 \times 30 = 180$
 $9 \times 400 = 3600$

$$\begin{array}{r} 683 \longrightarrow 700 \\ \times 23 \longrightarrow \times 20 \\ \hline 14000 \end{array}$$

أَقْرَبُ أَوْلًا، ثُمَّ أَضْرِبُ بِاسْتِعْمَالِ حَقَائِقِ الضَّرْبِ الْأَسَاسِيَّةِ.

أَقْرَبُ الْعَدَدِ 683 إِلَى أَقْرَبِ مِئَةٍ
أَقْرَبُ الْعَدَدِ 23 إِلَى أَقْرَبِ عَشْرَةٍ
أَضْرِبُ ذَهْنِيًّا

أَيَّ إِنَّ 683×23 يُسَاوِي 14000 تَقْرِيْبًا.

أَتَحَقَّقُ مِنْ فَهْمِي:

أَقْدُرُ نَاتِجَ كُلِّ مِمَّا يَأْتِي:

1 $492 \times 3 = 1500$

2 $843 \times 38 = 32000$

التفكير

الْعَدَدَانِ 50 و 2 مُتَنَاعِمَانِ لِأَنَّهُ يَسْهُلُ
ضَرْبُهُمَا ذَهْنِيًّا: $50 \times 2 = 100$

يُمْكِنُنِي أَيْضًا أَنْ أَقْدُرَ نَوَاتِجَ الضَّرْبِ بِاسْتِعْمَالِ **الأعداد المتناغمة**
(compatible numbers)، وَهِيَ أَعْدَادٌ يَسْهُلُ ضَرْبُهَا ذَهْنِيًّا.

مِثَالٌ 2: مِنَ الْحَيَاةِ

تَبْلُغُ مَبِيعَاتُ جَمْعِيَّةِ خَيْرِيَّةٍ مِنْ أَعْمَالِ الْحَرْفِ الْبِدَوِيَّةِ 2491 دِينَارًا فِي الشَّهْرِ.
أَقْدُرُ مَبِيعَاتِهَا فِي 4 شُهُورٍ.

لِأَجْدَ مَبِيعَاتِ الْجَمْعِيَّةِ الْخَيْرِيَّةِ، أَقْدُرُ نَاتِجَ 2491×4

الخطوة 1 أجد عددين متناغمين يشبهان أعداد المسألة.

العددين 4، 25 متناغمان؛ لأن $25 \times 4 = 100$

الخطوة 2 أضرب:

إذا كان $25 \times 4 = 100$ ؛ فإن $2500 \times 4 = 10000$

بما أننا قرَّبنا 2491 إلى قيمة أكبر وهي 2500؛ فإن ناتج الضرب يكون أكبر من الناتج الدقيق.

مثال 2: من الحياة

أناقش حل المثال 2 مع الطلبة على اللوح؛ باتباع الخطوات الآتية:

- أوضح للطلبة أن الأعداد المتناغمة في الضرب هي أعداد يسهل ضربها ذهنيًا، مع إعطاء أمثلة عليها مثل:

« 5×2 : 5×20 5×200 5×20 50×20

« 4×25 : 4×250 4×250 40×25 40×25

« 2×15 : 2×150 2×150 20×15 20×150

وهكذا...

- أوضح للطلبة أنه لتقدير ناتج ضرب عددين، يُستبدل العددين بعددين متناغمين قريبين منهما ليسهل ضربهما ذهنيًا، مثل:

$21 \times 143 \rightarrow 20 \times 150 = 3000$

$255 \times 4 \rightarrow 250 \times 4 = 1000$

$22 \times 459 \rightarrow 20 \times 450 = 9000$

- أطلب إلى أحد الطلبة قراءة المثال 2، ثم أكتب مسألة الضرب (2491×4) الواردة في المثال على اللوح.
- أسأل الطلبة عن عددين متناغمين يشبهان أعداد المسألة أحدهما 4. يمكن أن يعطي الطلبة إجابات متعددة، أختار منها 4، و 25.

- أسأل الطلبة: ما ناتج 25×4 ؟ 100

- أكتب على اللوح:

$25 \times 4 = 100 \rightarrow 250 \times 4 = 1000 \rightarrow$

$\rightarrow 2500 \times 4 = 10000$

وبما أن 2491×4 قريبة من 2500×4 إذن: الناتج التقريبي هو 10000.

أُتَدْرَبْ وَأَحْلُ الْمَسَائِلَ:

- أُوَجِّهُ الطَّلِبَةَ إِلَى فِقْرَةٍ (أُتَدْرَبُ وَأَحْلُ الْمَسَائِلَ)، ثُمَّ أُطَلِّبُ إِلَيْهِمْ حُلَّ الْمَسَائِلِ (1-14) ضَمَّنَ مَجْمُوعَاتٍ ثَنَائِيَّةٍ دَاخِلَ الْغُرْفَةِ الصَّفِيَّةِ؛ فَهَذِهِ الْمَسَائِلُ تُحَدِّدُ تَرْتِيبَ اِرْتِبَاطٍ مُبَاشِرًا بِأَمثلةِ الدَّرْسِ، وَهِيَ تُسْتَعْمَلُ خَاصَّةً لِتَدْرِيبِ الطَّلِبَةِ عَلَى الْمَفَاهِيمِ نَفْسِهَا، بِصَرَفِ النَّظَرِ عَمَّا إِذَا كَانَتِ الْأَسْئَلَةُ فَرْدِيَّةً أَمْ زَوْجِيَّةً.
- إِذَا وَاجَهَ الطَّلِبَةَ صَعُوبَةً فِي حَلِّ أَيِّ مَسْأَلَةٍ، فَإِنِّي أَخْتَارُ أَحَدَ الطَّلِبَةِ مِمَّنْ تَمَكَّنَ/ تَمَكَّنَتْ مِنْ حَلِّ الْمَسْأَلَةِ؛ لِمُنَاقَشَةِ اسْتِرَاطِيَّاتِهِ/ اسْتِرَاطِيَّاتِهَا فِي حَلِّ الْمَسْأَلَةِ عَلَى اللُّوْحِ، مُحَفِّزًا الطَّلِبَةَ عَلَى طَرَحِ أَيِّ تَسْأُولٍ عَنِ خَطَوَاتِ الْحَلِّ الْمُقَدَّمَةِ مِنَ الزَّمِيلِ/ الزَّمِيلَةِ.

الواجب المنزلي:

أَسْتَعِينُ بِالْجَدْوَلِ الْآتِي لِتَحْدِيدِ الْوَاجِبِ الْمَنْزَلِيِّ لِلطَّلِبَةِ بِحَسَبِ مَسْتَوِيَاتِهِمْ:

المستويات	الأسئلة
دون المتوسط	كتاب الطالب: 15, 20 كتاب التمارين: (1 - 7)
ضمن المتوسط	كتاب الطالب: 16, 17, 20 كتاب التمارين: (8 - 12)
فوق المتوسط	كتاب الطالب: (16 - 22) كتاب التمارين: (9 - 12)



أَتَحَقَّقُ مِنْ فَهْمِي:

يَقْطَعُ سَعْدٌ مَسَافَةً 2316 m فِي الْيَوْمِ ذَهَابًا وَإِيَابًا إِلَى مَدْرَسَتِهِ. أَقْدِرُ الْمَسَافَةَ الَّتِي يَقْطَعُهَا فِي 5 أَيَّامٍ. 10000 m



أُتَدْرَبُ وَأَحْلُ الْمَسَائِلَ

أَقْدِرُ نَائِجَ كُلِّ مِمَّا يَأْتِي:

- 1 589 × 8 4800 2 514 × 48 25000 3 541 × 39 20000
4 231 × 72 14000 5 888 × 14 9000 6 777 × 13 8000
7 2316 × 9 18000 8 3814 × 9 36000 9 3479 × 7 21000

أَسْتَعْمَلُ الْأَعْدَادَ الْمُتَنَاعِمَةَ لِتَقْدِيرِ نَائِجِ الضَّرْبِ فِي كُلِّ مِمَّا يَأْتِي، ثُمَّ أَحَدِّدُ إِذَا كَانَ التَّقْدِيرُ أَكْبَرَ مِنَ الْإِجَابَةِ الدَّقِيقَةِ أَمْ أَصْغَرَ:

- 10 4321 × 5 11 2328 × 4 12 123 × 9
10000 أقل من الإجابة الدقيقة. 10000 أكبر من الإجابة الدقيقة. 1000 أقل من الإجابة الدقيقة.

13 تجارة: معدّل ربح تاجر خضارٍ 36 دينارًا يوميًا. أقدر أرباحه في العام. 16000 دينار.



14 عمل تطوعي: عمل يوسف متطوعًا مدة أسبوعين في قطف الزيتون، وكان يجمع يوميًا 187 kg. أقدر كم كيلوغرامًا جمع. 2000 kg باستخدام التقريب و3000 باستخدام الأعداد المتناغمة.

15 قدرت هلا ناتج عملية ضرب عددين بتقريبهما إلى أقرب 10؛ فكان الناتج 4000 إذا كان أحد العددين 37، فما العدد الثاني؟ (أعطي 4 حلولٍ ممكنة). 98, 97, 96, 95



16 بطاقات: يرعب متطوعون في بيع 7000 بطاقةٍ لِمَهْرَجَانٍ يُرْصَدُ رُبْعُهُ لِمُسَاعَدَةِ الْفُقَرَاءِ، وَيَتَوَقَّعُونَ بَيْعَ 1925 بطاقةٍ فِي الْيَوْمِ. هَلْ يُمَكِّنُهُمْ تَحْقِيقُ ذَلِكَ فِي 5 أَيَّامٍ؟ أَيْنُ ذَلِكَ. نعم: $5 \times 2000 = 10000$

أَفَكِّرْ

كم يومًا في العام؟

إرشاد

أقرب العدد 37 لأقرب عشرة أولًا، ثم أحدد العدد الثاني بالإستيعان بناتج الضرب.

المفاهيم العابرة للمواد:

أؤكد على المفاهيم العابرة للمواد حيثما وردت في كتاب الطالب أو كتاب التمارين. في السؤال 16، أعزز الوعي بالقضايا ذات العلاقة بالعمل مثل العمل التطوعي؛ عن طريق مناقشة السؤال المتعلق ببيع تذاكر ورصد ريعها لمساعدة الفقراء وعمل الخير، الذي يحث عليه ديننا الحنيف.

مهارات التفكير العليا

17 **تبرير:** قَدَّرْتُ سَوَسُنُ نَاتِجِ الضَّرْبِ: 8×3492 ثُمَّ كَتَبْتُ:

«نَاتِجِ الضَّرْبِ أَقَلُّ مِنْ 30000 وَأَكْبَرُ مِنْ 24000.»

كَيْفَ حَصَلَتْ عَلَى كُلِّ تَقْدِيرٍ؟ اسْتَغْمِلِ الْكَلِمَاتِ وَالْأَعْدَادَ لِتَوْضِيحِ ذَلِكَ.
 3000×8 أَوْ 30000×8

تَحَدَّدْ: أَكْتُبْ عَدَدًا فِي لِتُضَيِّحَ الْجُمْلَةَ صَحِيحَةً:

18 $37 \times \square \rightarrow 40 \times 20 = 800$

19 $381 \times 48 \rightarrow 400 \times 50 = 20000$

20 **اكتشف الخطأ:** قَدَّرْتُ زَيْدٌ نَاتِجَ الضَّرْبِ 13×179 كَمَا يَأْتِي: $100 \times 10 = 1000$. أُبَيِّنُ
الْخَطَأَ الَّذِي وَقَعَ فِيهِ وَأَصْحَحُهُ. 179 تُقَرَّبُ إِلَى 200، الإجابة: $200 \times 10 = 2000$

21 **مسألة مفتوحة:** اسْتَغْمِلِ الْأَرْقَامَ 112|9|8 لِتَكُونِ عَدَدَيْنِ تَقْدِيرِ نَاتِجِ ضَرْبِهِمَا يُسَاوِي
800، ثُمَّ اسْتَغْمِلِ الْأَرْقَامَ نَفْسَهَا لِتَكُونِ عَدَدَيْنِ تَقْدِيرِ نَاتِجِ ضَرْبِهِمَا يُسَاوِي 300.
800 هُوَ تَقْدِيرِ 8×129
 $1 \times 298 = 300$

22 **تبرير:** تَعْتَبِدُ تالاً أَنَّهُ عِنْدَ تَقْدِيرِ نَاتِجِ الضَّرْبِ بِاسْتِغْمَالِ التَّقْرِيبِ إِلَى أَعْلَى مَنْزِلَةٍ، يَكُونُ
النَّاتِجُ أَقْرَبَ إِلَى الإِجَابَةِ الدَّقِيقَةِ. هَلْ أَوْافِقُ عَلَى ذَلِكَ؟ أُبْرِّرُ إِجَابَتِي.
لا أوافق: لِأَنَّ تَقْدِيرِ نَاتِجِ 5×249 لَأَعْلَى مَنْزِلَةٍ هُوَ 1000، وَتَقْدِيرِ النَّاتِجِ لِأَقْرَبَ 10 هُوَ
1250. أَقْرَبَ إِلَى النَّاتِجِ الدَّقِيقِ الَّذِي يُسَاوِي 1245.

أنتحدث: أَسْرَحُ كَيْفَ يُمَكِّنُنِي مَعْرِفَةُ إِذَا كَانَ تَقْدِيرِ نَاتِجِ عَمَلِيَّةِ الضَّرْبِ، أَكْبَرَ أَمْ أَصْغَرَ
مِنَ النَّاتِجِ الدَّقِيقِ.
إذا كان تقدير الأعداد لأعداد أكبر منها، فيكون ناتج التقدير أكبر من الإجابة الدقيقة.

إرشاد

أَتَأَكَّدُ مِنْ صِحَّةِ تَقْرِيْبِ
زَيْدٍ لِلْعَدَدَيْنِ.

إرشاد

أَقْدَمُ أَهْيَلَةَ تَدْعَمُ صِحَّةَ
إِجَابَتِي.

مهارات التفكير العليا

- أوجّه الطلبة إلى فقرة (مهارات التفكير العليا)، ثم أطلب إليهم حل المسائل (17 - 22).
- أرصد أيّة أفكار غير تقليدية من الطلبة، ثم أطلب إلى هؤلاء الطلبة كتابة هذه الأفكار على اللوح.
- في السؤالين 18 و19 تحدّد، أيبّن للطلبة أنه يوجد حلول متعدّدة وذلك بعد أن أتلقّى بعض الإجابات من الطلبة، أي إنّه يوجد أكثر من عدد يقرب إلى 20، ويوجد أكثر من عدد يقرب إلى 50.
- في سؤال 20 أكتشف الخطأ، أطلب إلى الطلبة حلّ المسألة ثم تبرير الخطأ.
- أطلق العنان لخيال الطلبة في سؤال 21 مسألة مفتوحة، وأطلب إليهم حلّ السؤال بصورة فردية، وأتقبّل الإجابات جميعها وأقوم غير الصحيحة منها مع بيان السبب.
- في سؤال 22 تبرير، أطلب إعطاء أمثلة عند التبرير.

5

الإثراء

- أستعمل المسألتين الآتيتين لإثراء تعلّم الطلبة:
 - « قدّر سيف ناتج 2×142 بـ 300، ما الطريقة التي استعملتها؟ $300 = 2 \times 150$ الأعداد المتناغمة.
 - « قدّرت مريم ناتج 39×141 بـ 4000، ما الطريقة التي استعملتها؟ $4000 = 40 \times 100$ التقريب لأعلى منزلة.

6

الختام

- أستعمل فقرة أنتحدث، للتأكد من تمكّن الطلبة من مقارنة الناتج التقديري مع الناتج الدقيق، ومعرفة متى يكون ناتج التقدير أكبر أو أصغر، وبخاصّة الطلبة ذوي المستوى المتوسط ودون المتوسط.
- إن لزم الأمر، أتحدّث من فهم الطلبة، بطرح سؤال عليهم، مثل:
 - « أقدر ناتج كلّ مما يأتي:

1 724×7 4900

2 598×16 12000

3 6847×5 35000

نتائج الدرس:

- الضرب في عدد من منزلة واحدة.

نتائج التعلم القبلي:

- حقائق الضرب الأساسية.
- كتابة العدد بالصورة التحليلية.
- تقدير نواتج الضرب.

مراجعة التعلّم القبلي ومعالجة الفاقد التعليمي:

أسترشد بالإجراءات المبيّنة في مقدمة دليل المعلم (الصفحتان 1 و 2) المتعلقة بمراجعة التعلم القبلي ومعالجة الفاقد التعليمي لدى الطلبة.

1 التهيئة

أجري النشاط الآتي:

- أقسم الطلبة إلى مجموعات ثنائية، وأزود كل مجموعة بورقة المصادر 1: مروحة الأعداد (1 - 6).
- أكتب على اللوح الأعداد: 2, 4, 5, 10, 25, 100.
- أطلب إلى المجموعات رسم شبكة مربعات 3×3 على ألواحهم الصغيرة.
- أوجه كل مجموعة إلى اختيار عدد من الأعداد المكتوبة على اللوح، وكتابة مضاعفات هذا العدد حتى المضاعف التاسع في شبكة المربعات.
- أطلب إلى المجموعات تدوير مروحة الأعداد، ثم ضرب العدد الذي يظهر بعد التدوير بالعدد الذي اختاروه.
- إذا وجدت المجموعات أنّ ناتج الضرب من ضمن الأعداد الموجودة في شبكتهم؛ فيقومون بشطبها.
- تفوز المجموعة التي تتمكن من شطب صف كامل من الشبكة أولاً.

أستكشف

12800



بيعت 2560 بطاقة لإحدى مباريات مُتّخِبنا الوطني لكرة القدم. تَمَنُّ البطاقة الواحدة 5 دنانير. كم تَمَنُّ البطاقات جميعها؟

فكرة الدرس

أضرب عدداً في عدد من منزلة واحدة. **المفطلحات** نواتج الضرب الجزئية، طريقة الشبكة.

أتعلم

لضرب عددٍ كَلِّي في عددٍ من منزلة واحدة؛ يُمكنني استعمال طريقة نواتج الضرب الجزئية (partial-products multiplication)، وذلك بكتابة العددين بالصورة التحليلية، وضرب الأعداد الناتجة، ثم جمع النواتج معاً. ويُمكنني أيضاً استعمال طريقة الشبكة (grid method).

طريقة نواتج الضرب الجزئية

$$\begin{aligned} (58 \times 4) &= (50 + 8) \times 4 \\ &= (50 \times 4) + (8 \times 4) \\ &= 200 + 32 \\ &= 232 \end{aligned}$$

58×4

طريقة الشبكة

×	50	8
4	200	32

$$200 + 32 = 232$$

مثال 1 أجد ناتج: 573×5

$$573 \times 5 \rightarrow 600 \times 5 = 3000$$

الطريقة 1: باستعمال نواتج الضرب الجزئية.

$$\begin{aligned} 573 \times 5 &= (500 + 70 + 3) \times 5 \\ &= (500 \times 5) + (70 \times 5) + (3 \times 5) \\ &= 2500 + 350 + 15 \\ &= 2865 \end{aligned}$$

أكتب العدد 573 بالصيغة التحليلية

أستعمل خاصية التوزيع

أجد نواتج الضرب الجزئية

أجمع النواتج

- أوجّه الطلبة إلى قراءة المسألة في فقرة **أستكشف**، وأسأل:
« ما المعطى في المسألة؟ عدد البطاقات المباعة وثمان البطاقة الواحدة.»
- أطلب إلى أحد الطلبة قراءة عدد البطاقات، وأسأل:
« ما المطلوب؟ ثمن البطاقات جميعاً.»
- « ما العملية الحسابية اللازمة لحلّ المسألة؟ الضرب.»
- أعزز الإجابات الصحيحة.
- أبين للطلبة أنّهم سيتمكّنون من ضرب عدد في عدد من منزلة بطرائق مختلفة.

أبّين للطلبة أنّهم سيتمكّنون من ضرب عدد في عدد من منزلة واحدة؛ باستعمال خاصية التوزيع ونواتج الضرب الجزئية، واستعمال نموذج المساحة، وخوارزمية الضرب عن طريق الأمثلة الواردة في الدرس.

تعزيز اللغة ودعمها:

أكرّر المصطلحين: (نواتج الضرب الجزئية، طريقة الشبكة) أمام الطلبة، وأحرص على استعمالهما من قبلهم.

- أناقش حل المثال 1 مع الطلبة على اللوح، وأبّين لهم ضرورة التقدير أولاً؛ للحكم على معقولة الإجابة.
- أسأل الطلبة: كيف نُقدّر ناتج الضرب؟
- أطلب إليهم إيجاد ناتج الضرب التقديري في دفاترهم.
- أكتب مسألة الضرب الواردة في المثال 1 على اللوح، وأوضح للطلبة أنه يمكن إيجاد ناتج الضرب باستعمال نواتج الضرب الجزئية، ثم أطلب إليهم كتابة العدد المضروب بالصيغة التحليلية. كالآتي: $(500 + 70 + 3) \times 5$.
- أطلب إلى الطلبة إجراء عملية الضرب وإيجاد نواتج الضرب في كل منزلة، ثم جمعها للحصول على الناتج الكلي.
- أوجّه الطلبة إلى مقارنة الناتج بالقيمة التقديرية؛ للتحقق من معقولة الإجابة.
- أبّين للطلبة وجود طريقة أخرى لإيجاد الناتج ستستعمل في هذا المثال، وهي طريقة الشبكة.
- أمثّل عملية الضرب باستعمال الشبكة.
- أطلب إلى الطلبة إجراء عمليات الضرب وكتابة الناتج داخل الشبكة.
- أطلب إليهم التحقق من معقولة الإجابة بمقارنتها بالقيمة التقديرية.

أخطاء شائعة:

قد يخطئ الطلبة في تحليل العدد عند استعمال خاصية التوزيع في الضرب، أعرض أمثلة متعدّدة وأطلب إلى الطلبة تحليل الأعداد، وأسألهم عن القيمة المنزلية لكل رقم.

التقويم التكويني: ✓

أطلب إلى الطلبة حلّ تدريب (أتحقّق من فهمي) بعد كلّ مثال. أختار بعض الإجابات التي تحتوي على أخطاء مفاهيمية، وأناقش الطلبة فيها على اللوح. لا أذكر اسم صاحب الحلّ أمام الصفّ تجنبًا لإحراجه.

مثال 2: من الحياة

- أطلب إلى الطلبة قراءة مثال 2، وأسأل عن العملية الحسابية اللازمة لحلّها.
- أطلب إليهم حساب الناتج التقديري في دفاترهم.
- أمثّل عملية الضرب باستعمال الشبكة على اللوح، وأسأل الطلبة عن ناتج ضرب كل منزلة وإيجاد مجموع النواتج الجزئية.
- أطلب إليهم مقارنة الناتج بالتقدير الذي حصلوا عليه.
- أعرض طريقة الضرب باستعمال خوارزمية الضرب وأوضّح الخطوات (الضرب بالآحاد ثم العشرات ثم المئات ثم الألوف).

الوحدّة 2

الطريقة 2: باستعمال طريقة الشبكة

×	500	70	3	
5	2500	350	15	= 2865

أتحقّق من معقولية الإجابة: بما أنّ ناتج الضرب 2865 قريب من القيمة التقديرية 3000؛ فالإجابة معقولة.

أتحقّق من فهمي:

أجدّ ناتج كلّ مما يأتي:

1 $473 \times 5 = 2365$

2 $729 \times 4 = 2916$

بالإضافة إلى طريقة نواتج الضرب الجزئية وطريقة الشبكة، يُمكنني أيضًا استعمال خوارزمية الضرب لإيجاد ناتج ضرب عددٍ كليّ في أيّ عددٍ من منزلة واحدة.

مثال 2: من الحياة



يُعمل عمّر سابقًا لتوزيع المساعدات. إذا كان يُوزّع 1263 طردًا في الأسبوع، فكَم طردًا يُوزّع في 8 أسابيع؟

لإيجاد عدد الطرود التي يُوزّعها عمّر في 8 أسابيع نجدّ ناتج ضرب: 1263×8

أقدّر: $1263 \times 8 \rightarrow 1000 \times 8 = 8000$

الطريقة 1: باستعمال طريقة الشبكة.

×	1000	200	60	3	
8	8000	1600	480	24	= 10104

أُتدرب وأحلّ المسائل:

- أوجه الطلبة إلى فقرة (أُتدرب وأحلّ المسائل)، ثم أطلب إليهم حل المسائل (1-10) ضمن مجموعات ثنائية داخل الغرفة الصفية؛ فهذه المسائل تحديداً ترتبط ارتباطاً مباشراً بأمثلة الدرس، وهي تُستعمل خاصةً لتدريب الطلبة على المفاهيم نفسها، بصرف النظر عما إذا كانت الأسئلة فردية أم زوجية.
- إذا واجه الطلبة صعوبة في حل أيّ مسألة، فإنني أختار أحد الطلبة ممن تمكن/ تمكنت من حل المسألة؛ لمناقشة استراتيجيته/ استراتيجيتها في حل المسألة على اللوح، مُحفِّزاً الطلبة على طرح أيّ تساؤل عن خطوات الحل المُقدّمة من الزميل/ الزميلة.

الواجب المنزلي:

أستعين بالجدول الآتي لتحديد الواجب المنزلي للطلبة بحسب مستوياتهم:

المستويات	الأسئلة
دون المتوسط	كتاب الطالب: 12, 16 كتاب التمارين: (1-7)
ضمن المتوسط	كتاب الطالب: 11, 16 كتاب التمارين: 1, 3, 5, 7, 8
فوق المتوسط	كتاب الطالب: (11-16) كتاب التمارين: (8-10)

الطريقة 2: استعمل حوارزمية الضرب.

الخطوة 4 أضرب أحاد الألواف. $\begin{array}{r} 252 \\ 1263 \\ \times 8 \\ \hline 10104 \end{array}$	الخطوة 3 أضرب العشرات. $\begin{array}{r} 252 \\ 1263 \\ \times 8 \\ \hline 10104 \end{array}$	الخطوة 2 أضرب المئات. $\begin{array}{r} 52 \\ 1263 \\ \times 8 \\ \hline 04 \end{array}$	الخطوة 1 أضرب الآحاد. $\begin{array}{r} 2 \\ 1263 \\ \times 8 \\ \hline 4 \end{array}$
--	---	--	--

إذن: عدد الطرود التي يوزعها عمر في 8 أسابيع 10104 طرداً.

أتحقق من معقولية الإجابة: ألاحظ أن الإجابة 10104 قريبة من التقدير 8000، إذن، الإجابة معقولة.

أتحقق من فهمي:



سياحة: وصل إلى ميناء العقبة 3 بوارج، تحمّل الباخرة الواحدة على متنها 3751 سائحاً، كم العدد الكلي للسائح؟ 11253 سائحاً.

أُتدرب وأحلّ المسائل

أكمل الفراغات لإيجاد ناتج الضرب في كل مما يأتي:

1 $7 \times 242 = 7 \times (200 + 40 + 2)$
 $= 1400 + 280 + 14$
 $= 1694$

2 $329 \times 4 =$

×	300	20	9	
4	1200	80	36	=1316

أجد ناتج كل مما يأتي:

3 $252 \times 8 = 2016$ 4 $275 \times 9 = 2475$ 5 $3259 \times 8 = 26072$
 6 $4698 \times 6 = 28188$ 7 $2304 \times 9 = 20736$ 8 $9873 \times 4 = 39492$

المفاهيم العابرة للمواد:

أؤكد على المفاهيم العابرة للمواد حيثما وردت في كتاب الطالب أو كتاب التمارين. في فقرة أتحقق من فهمي، أعزز الوعي بموضوع الأعمال المنتجة والداعمة للاقتصاد لدى الطلبة؛ عن طريق مناقشة المردود العائد على الوطن من السياحة وبخاصة السياحة في العقبة، وأبين لهم دور الأفراد في تشجيع السياحة والمحافظة على الأماكن السياحية.

مهارات التفكير العليا

- أوجّه الطلبة إلى فقرة (مهارات التفكير العليا)، ثم أطلب إليهم حل المسائل (16 - 13).
- أرصد آية أفكار غير تقليدية من الطلبة، ثم أطلب إلى هؤلاء الطلبة كتابة هذه الأفكار على اللوح.
- أذكر الطلبة عند حلّ السؤالين 13 و 14 **تحذّر**، بتجميع العشرات (بالعدد المحمول).
- أساعد الطلبة ذوي المستوى المتوسط ودون المتوسط في السؤال 15 **تحذّر**، بتوجيههم إلى أنه في العدد الأكبر تكون الأرقام الأكبر في المنازل الأعلى.
- إذا لم يستطع بعض الطلبة اكتشاف الخطأ في سؤال 16 **اكتشف الخطأ**، فأطلب إليهم حلّ السؤال ومقارنة الحلين.

التطبيق:

- أوجّه الطلبة إلى تنفيذ النشاط 2 من أنشطة التدريب الإضافية.

الإثراء

5

- أستعمل المسألة الآتية لإثراء تعلّم الطلبة:

« حلّت زينة مسألة الضرب 4×642 وحصلت على الناتج 3168، وأرادت أن تتحقّق من معقولية الإجابة التي حصلت عليها، كيف يمكنها ذلك؟ تقدير ناتج العملية هو: $2400 = 4 \times 600$ أي إن إجابتها غير معقولة.

مشروع الوحدة:

- أوجّه الطلبة لتنفيذ الخطوة 3 من خطوات تنفيذ المشروع.

الوَحدة 2

9 **عَصِيرٌ**: اشترت لانا 7 عُبُواتٍ مِنَ الْعَصِيرِ سَعَةً كُلٌّ مِنْهَا 125 ml. كم سَعَةُ الْعُبُواتِ جَمِيعًا؟ $125 \times 7 = 875$

10 **عَمَلٌ**: يتقاضى وليدٌ 290 دينارًا في السَّهْرِ. كم يتقاضى في 9 أشهرٍ؟ $290 \times 9 = 2610$



11 **سَفَرٌ**: المسافة بين عَمَانَ والدُّوْحَةِ 1693 km. إذا كانت الطائرة تطيرُ كُلَّ يَوْمٍ رِحْلَةً ذهابًا وإيابًا بين المدينتين، فما المسافة التي تقطعها في 4 أيام؟ 13544

12 **أحلّ مسألة (أستكشف)** بطريقتي النواتج الجزئية وخوارزمية الضرب. 12800

تحذّر: أكتب الرّقم المفقود؛ لتصبح عمليّة الضرب صحيحة:

13

$$\begin{array}{r} 1 \ 5 \ 9 \\ \times \quad 3 \\ \hline 4 \ 7 \ 7 \end{array}$$

14

$$\begin{array}{r} 2 \ 4 \ 6 \\ \times \quad 4 \\ \hline 9 \ 8 \ 4 \end{array}$$

15 **تحذّر**: أكوّن مسألة ضربٍ لعددٍ من 3 منازل، في عددٍ من منزلةٍ واحدةٍ باستعمال الأرقام 3، 7، 9، 8، بحيث يكون الناتج أكبر ما يمكن. $8 \times 973 = 7784$

16 **اكتشف الخطأ**: أجرت ديمًا عمليّة الضرب الآتية، أئين الخطأ الذي وقعت فيه وأصحّحه. الخطأ أنها أهملت إعادة التجميع مرتين. الإجابة الصحيحة 2976.

$$\begin{array}{r} 3 \ 7 \ 2 \\ \times \quad 8 \\ \hline 2 \ 4 \ 6 \ 6 \end{array}$$

اتحدّث: أوضّح العلاقة بين طريقتي الضرب الجزئية ونموذج المساحة.

إرشادٌ

ليحلّ السؤال 11 أجد المسافة التي تقطعها الطائرة في اليوم الواحد، ثم أجد المسافة التي تقطعها في أربعة أيام.

مهارات التفكير العليا

إرشادٌ

في السؤالين 13 و 14 أستعين بجداول الضرب لتحديد الأعداد المفقودة.

أنحدّث: تستخدم كلاهما كتابة العددين بالصورة التحليلية، وضرب الأعداد الناتجة، ثم جمع النواتج معًا.

41

الختام

6

- أستعمل فقرة **أتحدّث**، للتأكد من فهم الطلبة لطريقتي الضرب الجزئية ونموذج المساحة، وأقدم المساعدة إذا احتاج إليها بعض الطلبة.
- إن لزم الأمر، أتحدّث من فهم الطلبة، بطرح سؤال عليهم، مثل:
« أجد ناتج كل مما يأتي:

1 $472 \times 7 = 3304$

2 $598 \times 16 = 9568$

3 $6847 \times 5 = 34235$

41

الدَّرْسُ 4 الضَّرْبُ فِي عَدَدٍ مِنْ مَنزِلَتَيْنِ



أَسْتَكْشِفُ



يَعْمَلُ مَحْمُودٌ فِي مَدِينَةِ الْعَقْبَةِ،
وَيَزُورُ أَهْلَهُ فِي عَمَانَ مَرَّةً كُلَّ شَهْرٍ. إِذَا كَانَتْ
الْمَسَافَةُ بَيْنَ عَمَانَ وَالْعَقْبَةِ 332 km تَقْرِيْبًا،
فَكَمْ كِيلُومِترًا يَقَطُّعُ فِي الْعَامِ؟

فِكْرَةُ الدَّرْسِ

أَضْرِبْ عَدَدًا مِنْ 3 مَنَازِلَ
عَلَى الْأَكْثَرِ، فِي عَدَدٍ مِنْ
مَنزِلَتَيْنِ.

أَتَعَلَّمُ



تَعَلَّمْتُ طَرِيقَ مُخْتَلَفَةٍ لِلضَّرْبِ فِي عَدَدٍ مِنْ مَنزِلَةٍ وَاحِدَةٍ، مِنْهَا: نَوَاسِجُ الضَّرْبِ الْجُزْئِيَّةِ، وَطَرِيقَةُ الشَّبَكَةِ،
وَالْحَوَازِمِيَّةِ. يُمَكِّنُنِي أَيْضًا اسْتِعْمَالُ أَيِّ مِنْ هَذِهِ الطَّرِيقِ لِلضَّرْبِ فِي عَدَدٍ مِنْ مَنزِلَتَيْنِ.

مِثَالٌ 1

أَجِدْ نَاطِجَ: 28×63

أُقَدِّرُ: $28 \times 63 \rightarrow 30 \times 60 = 1800$

الطَّرِيقَةُ 1: بِاسْتِعْمَالِ طَرِيقَةِ الشَّبَكَةِ.

×	60	3	
20	1200	+	60
8	480	+	24
			= 1260
			= 504

$$\begin{array}{r} 1260 \\ + 504 \\ \hline 1764 \end{array}$$

إِذَنْ: نَاطِجُ 28×63 يُسَاوِي 1764

نَتَاجَاتُ الدَّرْسِ:

- ضَرْبُ عَدَدٍ مِنْ 3 مَنَازِلَ عَلَى الْأَكْثَرِ فِي عَدَدٍ مِنْ مَنزِلَتَيْنِ.

نَتَاجَاتُ التَّعَلُّمِ الْقَبْلِيِّ:

- الضَرْبُ فِي عَدَدٍ مِنْ مَنزِلَةٍ وَاحِدَةٍ.

مَرَاجِعَةُ التَّعَلُّمِ الْقَبْلِيِّ وَمَعَالِجَةُ الْفَاقِدِ التَّعْلِيمِيِّ:

أَسْتَرشِدُ بِالْإِجْرَاءَاتِ الْمَبِينَةِ فِي مَقْدَمَةِ دَلِيلِ الْمَعْلَمِ (الصَّفْحَتَانِ 1 وَ 2) الْمَتَعَلِّقَةِ بِمَرَاجِعَةِ التَّعَلُّمِ الْقَبْلِيِّ وَمَعَالِجَةِ الْفَاقِدِ التَّعْلِيمِيِّ لَدَى الطَّلَبَةِ.

التَّهْيِئَةُ

1

- أَطْرَحُ عَلَى الطَّلَبَةِ أَسْئَلَةً مِثْلَ:
« مَا الْعَدَدُ الَّذِي إِذَا ضَرْبْتَهُ فِي 60، كَانَ النَّاطِجُ 240؟ 4
« مَا الْعَدَدُ الَّذِي إِذَا ضَرْبْتَهُ فِي 80، كَانَ النَّاطِجُ 400؟ 5
« مَا الْعَدَدُ الَّذِي إِذَا ضَرْبْتَهُ فِي 300، كَانَ النَّاطِجُ 1500؟ 5
• أَعَزِّزُ الْإِجَابَاتِ الصَّحِيحَةَ.

- أوجّه الطلبة إلى قراءة المسألة في فقرة **أستكشف**، وأسأل:
 - « ما المسافة بين عمان والعقبة؟ **332 km** »
 - « ما المسافة التي يقطعها محمود في الشهر؟ **664 km** »
 - « كم شهرًا في السنة الواحدة؟ **12** »
 - « كم مرّة يزور أحمد أهله في السنة الواحدة؟ **12** »
 - « ما العملية الحسابية اللازمة لحلّ المسألة؟ **الضرب**. »
- أعزز الإجابات الصحيحة.
- أبيّن للطلبة أنهم سيتمكّنون من إيجاد ناتج ضرب عدد من منزلتين أو 3 منازل في عدد من منزلتين.

أذكر الطلبة بالطرائق التي تعلموها في الدرس السابق، عند ضرب عدد كلي في عدد من منزلة واحدة وهي: نواتج الضرب الجزئية، طريقة الشبكة، الخوارزمية، وأن هذه الطرائق ستُستعمل أيضًا عند الضرب في منزلتين.

- أكتب مسألة الضرب (28×63) الواردة في المثال 1 على اللوح، وأطلب إلى الطلبة تقدير ناتج الضرب في دفاترهم.
- أوضح للطلبة أننا سنجد ناتج ضرب العددين باستعمال طريقة الشبكة، ثم أكتب اسم الطريقة على اللوح.
- أطلب إلى أحد الطلبة كتابة الصيغة التحليلية لأحد العددين، ومن طالب آخر كتابة الصيغة التحليلية للعدد الثاني.
- أمثل العددين باستعمال طريقة الشبكة على اللوح.
- أسأل الطلبة: كيف نجد ناتج الضرب في كل جزء من أجزاء الشبكة؟
- أكتب الناتج وأطلب إلى الطلبة مقارنته بالتقدير الذي حصلوا عليه؛ لتحقق من معقولية الإجابة.
- أوضح للطلبة أنه يمكن إيجاد ناتج الضرب أيضًا باستعمال خوارزمية الضرب، ثم أسأل: ما الخطوة الأولى؟ **نضرب الأحاد بالأحاد**.
- أطلب إلى أحد الطلبة الإجابة، وأكرّر ذلك في الخطوات التالية.

التقويم التكويني:



أطلب إلى الطلبة حلّ تدريب (أتحقّق من فهمي) بعد كلّ مثال. أختار بعض الإجابات التي تحتوي على أخطاء مفاهيمية، وأناقش الطلبة فيها على اللوح. لا أذكر اسم صاحب الحلّ أمام الصفّ تجنبًا لإحراجهم.



الطريقة 2: أضرب عمودياً باستعمال خوارزمية الضرب.

الخطوة 3: أجمع.

$$\begin{array}{r} 28 \\ \times 63 \\ \hline 84 \\ + 1680 \\ \hline 1764 \end{array}$$

الخطوة 2: أضرب العشرات.

$$\begin{array}{r} 4 \\ \times 63 \\ \hline 84 \\ 1680 \\ \hline \end{array}$$

الخطوة 1: أضرب الأحاد.

$$\begin{array}{r} 2 \\ \times 63 \\ \hline 84 \\ 1260 \\ \hline \end{array}$$

أتحقق من معقولية الإجابة: ألاحظ أن الإجابة 1764 قريبة من التقدير 1800، إذن الإجابة معقولة.

أتحقق من فهمي:

أجد ناتج كل مما يأتي:

1 $12 \times 48 = 576$

2 $24 \times 6 = 144$

مثال 2: من الحياة



إعادة تدوير: يجمع طلبة مدرسة 325 kg من المواد القابلة للتدوير أسبوعياً. إذا كان الطلبة يجمعون الكمية نفسها كل أسبوع، فكم كيلوغراماً سيجمعون في 21 أسبوعاً؟

كمية المواد القابلة للتدوير بالكيلوغرامات تساوي 325×21

الطريقة 1: باستعمال طريقة الشبكة:

×	300	20	5			
20	6000	+	400	+	100	= 6500
1	300	+	20	+	5	= 325

$$\begin{array}{r} 6500 \\ + 325 \\ \hline 6825 \end{array}$$

إذن: ناتج 325×21 يساوي 6825

- أوجه الطلبة إلى قراءة المثال 2، وأبين أهمية تعلم الضرب لاستعماله في جوانب متعددة من الحياة.
- أسأل الطلبة: كيف نجد ما يجمعه الطلبة في 21 أسبوعاً؟
- أكتب مسألة الضرب، وأطلب إلى الطلبة تقدير الناتج وكتابته في دفاترهم.
- أبين للطلبة أن الطريقة الأولى التي سنستعملها في إيجاد ناتج الضرب هي طريقة الشبكة.
- أمثل الأعداد في جدول على اللوح، وأطلب إلى الطلبة كتابة العددين بالصورة التحليلية.
- أكتب على اللوح الطريقة الثانية: خوارزمية الضرب.
- أكلف أحد الطلبة بالقيام بالخطوة الأولى بعملية الضرب وشرحها، وأكرر ذلك في الخطوات التالية.
- أكتب الناتج على اللوح، وأطلب إلى الطلبة مقارنة الناتج بالتقدير الذي حصلوا عليه.

أخطاء شائعة:

قد يخطئ الطلبة في الضرب العمودي؛ بإهمال جمع العدد المحمول لناتج الضرب، أو جه أمثلة على ذلك، وأبين الخطأ بمقارنة الضرب الراسي مع طريقة التوزيع.

أُتَدْرَبْ وَأُحَلِّ المسائل:

- أُوجِّه الطلبة إلى فقرة (أُتَدْرَبْ وَأُحَلِّ المسائل)، ثم أُطلب إليهم حل المسائل (1-8) ضمن مجموعات ثنائية داخل الغرفة الصفية؛ فهذه المسائل تحديداً ترتبط ارتباطاً مباشراً بأمثلة الدرس، وهي تُستعمل خاصةً لتدريب الطلبة على المفاهيم نفسها، بصرف النظر عما إذا كانت الأسئلة فردية أم زوجية.
- إذا واجه الطلبة صعوبة في حل أيّ مسألة، فإنني أختار أحد الطلبة ممن تمكن/ تمكنت من حل المسألة؛ لمناقشة استراتيجيته/ استراتيجيتها في حل المسألة على اللوح، مُحفِّزاً الطلبة على طرح أيّ تساؤل عن خطوات الحل المُقدَّمة من زميل/ الزميلة.

الواجب المنزلي:

أُستعين بالجدول الآتي لتحديد الواجب المنزلي للطلبة بحسب مستوياتهم:

المستويات	الأسئلة
دون المتوسط	كتاب الطالب: 9, 15 كتاب التمارين: 7, (3-1)
ضمن المتوسط	كتاب الطالب: 10, 11, 15 كتاب التمارين: (6-4)
فوق المتوسط	كتاب الطالب: (15-11) كتاب التمارين: 6, 8, 9



الطريقة 2: اُستعمالُ حَوَارِثِيَّةِ الضَّرْبِ.

الخطوة 3
أُجمَعُ.

$$\begin{array}{r} 325 \\ \times 21 \\ \hline 325 \\ + 6500 \\ \hline 6825 \end{array}$$

الخطوة 2
أُضْرِبُ العَشْرَاتِ.

$$\begin{array}{r} 1 \\ 325 \\ \times 21 \\ \hline 325 \\ 6500 \\ \hline 6825 \end{array}$$

الخطوة 1
أُضْرِبُ الأَحَادِ.

$$\begin{array}{r} 325 \\ \times 21 \\ \hline 325 \\ 6500 \\ \hline 6825 \end{array}$$

إِذَنْ: ومقدارُ المَوَادِّ الغَابِلَةِ للتَّدْوِيرِ الَّتِي جَمَعَهَا الطَّلَبَةُ فِي 21 أُسْبُوعًا 6825 kg

أُتَدَقَّقُ مِنْ قَهْمِي:

مَسْرَحٌ: عَدَدُ مَقَاعِدِ مَسْرَحِ 325، عُرِضَتْ مَسْرُوحِيَّةٌ مُدَّةُ 12 يَوْمًا، وَكَانَ المَسْرُوحُ مُمْتَلِئًا فِي العُرُوضِ جَمِيعًا. كَمْ مُشَاهِدًا حَضَرَ هَذِهِ العُرُوضُ؟ $325 \times 12 = 3900$

أُتَدْرَبْ وَأُحَلِّ المسائل

أُجِدُ نَاتِجَ مَا يَأْتِي:

1 $27 \times 58 = 1566$ 2 $36 \times 48 = 1728$ 3 $33 \times 99 = 3267$

4 $88 \times 44 = 3872$ 5 $84 \times 207 = 17388$ 6 $74 \times 306 = 22644$



7 بَيْتَةٌ: ضَمَّنَ حَمَلِيَّةٌ لِمُحَارَبَةِ التَّصْحَرِ، زَرَعَ خَالِدٌ 135 صَفًّا مِنْ أَشْجَارِ النَّيْمِ، فِي كُلِّ صَفٍّ 22 شَجَرَةً. كَمْ عَدَدُ الأَشْجَارِ الَّتِي زَرَعَهَا خَالِدٌ؟ 2970

8 عَمَلٌ: تَعْمَلُ نَادِيَّةٌ 36 سَاعَةً فِي الأُسْبُوعِ. كَمْ سَاعَةً تَعْمَلُ فِي العَامِ، عِلْمًا بِأَنَّ العَامَ يَحْتَوِي عَلَى 52 أُسْبُوعًا؟ 1872 ساعة.

9 سَبَاقٌ: تَرَكُّضُ لَاعِبَةٍ بِسُرْعَةٍ 260 مِتْرًا فِي الدَّقِيقَةِ. مَا المَسَافَةُ الَّتِي سَتَقَطُّهَا فِي 11 دَقِيقَةً إِذَا اسْتَمَرَّتْ بِالسَّرْعَةِ نَفْسِهَا؟ 2860 m

مَعْلُومَةٌ

شَجَرَةُ النَّيْمِ مُعَمَّرَةٌ وَدَائِمَةٌ الحُضْرَةُ وَتَحْتَاجُ إِلَى الغَابِلِ مِنَ المَاءِ؛ لِذَلِكَ تُسْتَعْمَلُ لِتَشْجِيرِ المَنَاطِقِ الصَّحْرَاوِيَّةِ.

المفاهيم العابرة للمواد:

أُؤَكِّدُ عَلَى المفاهيم العابرة للمواد حيثما وردت في كتاب الطالب أو كتاب التمارين. في السؤال 7، أُعزِّزُ الوعي بالقضايا البيئية، مثل محاربة التصحر.



10 **معلومة** **دببة:** ينام دُبُّ الكُوَالا 18 ساعةً يوميًا، فكَم ساعةً ينام في العام الواحد؟ 6570 ساعة.

لا يستطيع حيوان الكُوَالا البقاء مُستيقظًا سوى أربع ساعات فقط في اليوم، وذلك لأنه يتغذى على أوراق الأوكالينوس التي تحتاج إلى وقتٍ ومجهودٍ كبيرٍ لهضمها.

11 **كُتِبَ:** تحتوي مكتبة على 124 رُفًا، في كُلِّ رُفٍّ 19 كتابًا، كَم كتابًا في المكتبة؟ 2356 كتابًا.

12 **أفلام:** صندوقٌ يحتوي على 32 عُلبَةً مِنَ الأفلام، في كُلِّ عُلبَةٍ 12 فلمًا. إذا كان كَمُنُ الفلم الواحد 8 قروش، فما كَمُنُ الصندوق؟ 3072 قرشًا.

مهارات التفكير العليا

تحَدِّ: اكتب الرقم المناسب في:

13

$$\begin{array}{r} 421 \\ \times 18 \\ \hline 3368 \\ + 4210 \\ \hline 7578 \end{array}$$

14

$$\begin{array}{r} 245 \\ \times 32 \\ \hline 490 \\ + 7350 \\ \hline 7840 \end{array}$$

15 **اكتشف الخطأ:** حلَّ سعيدٌ ومها مسألة الضرب هذه: 377×17 كما يأتي، أيبين الخطأ الذي وقع فيه كلٌّ منهما وأصحِّحه.

مها

$$\begin{array}{r} 54 \\ 377 \\ \times 17 \\ \hline 111 \\ 2639 \\ + 377 \\ \hline 3016 \end{array}$$

سعيد

$$\begin{array}{r} 377 \\ \times 17 \\ \hline 2199 \\ + 3770 \\ \hline 5969 \end{array}$$

سعيد أخطأ في إعادة تجميع العشرات، ومها أخطأت عند الضرب في العشرات ولم تضع صفرًا في الآحاد. الإجابة الصحيحة: 6409.

أتحدِّث: كيف أضرب عددًا من منزلتين في عددٍ من 3 منازل؟
أضرب العدد من 3 منازل في آحاد العدد من منزلتين، ثم أضربه في العشرات، ثم أجمع النواتج.

- أوَّجَّه الطلبة إلى فقرة (مهارات التفكير العليا)، ثم أطلب إليهم حل المسائل (13 - 15).
- أرصد آية أفكار غير تقليدية من الطلبة، ثم أطلب إلى هؤلاء الطلبة كتابة هذه الأفكار على اللوح.
- أقدِّم المساعدة للطلبة في سؤالَي 13 و14 تحدِّ، بتذكيرهم بحقائق الضرب.
- في سؤال 15 **اكتشف الخطأ**، أطلب إليهم حلَّ السؤال أولاً لاكتشاف الخطأ.

5 **الإثراء**

- أستعمل المسألة الآتية لإثراء تعلُّم الطلبة:
« أكتب مسألة ضرب عدد من 3 منازل في عدد من منزلتين بحيث يكون الناتج أكبر من 4000 وأقل من 4800. 210×21 »

مشروع الوحدة:

- أوَّجَّه الطلبة لتنفيذ الخطوتين 4 و5 من خطوات المشروع.

6 **الختم**

- أستعمل فقرة **أتحدِّث**، للتأكد من فهم الطلبة للطرائق التي تعلمها في الضرب. أوَّجَّه السؤال للطلبة ذوي المستوى المتوسط ودون المتوسط وعالج نقاط الضعف.
- إن لزم الأمر، أتحدِّث من فهم الطلبة، بطرح سؤال عليهم، مثل:
« أجد ناتج كلِّ مما يأتي:

1 24×56 1344

2 85×91 7735

3 44×205 9020

نتائج الدرس:

- تقدير ناتج قسمة الأعداد الكليّة؛ باستعمال أعداد متناغمة.

نتائج التعلم القبلي:

- الضرب في منزلة والضرب في منزلتين.
- التقريب.
- القسمة على مضاعفات 10.

مراجعة التعلّم القبلي ومعالجة الفاقد التعليمي:

أسترشد بالإجراءات المبيّنة في مقدمة دليل المعلم (الصفحتان 1 و 2) المتعلقة بمراجعة التعلم القبلي ومعالجة الفاقد التعليمي لدى الطلبة.

التهيئة

1

- أوجه أسئلة شفوية تتضمن قسمة أعداد من مضاعفات 10 مثل:
 - « ما العدد الذي إذا ضربته في 60، كان الناتج 240؟ 4 »
 - « ما العدد الذي إذا ضربته في 80، كان الناتج 400؟ 5 »
- أكرّر السؤال لأعداد من مضاعفات 100 و 1000 وعدد من 3 أو 4 منازل.
- أعزز الإجابات الصحيحة.



أستكشف

ورّع أحمد مبلغ 745 ديناراً على أولاده وبناته الخمسة بالتساوي. أقدّر كم أخذ كل منهم.

فكرة الدرس

أقدّر ناتج قسمة الأعداد الكليّة؛ باختيار أعداد متناغمة.

التذكير

الأعداد المتناغمة أعداد تسهل قسمتها ذهنياً، فمثلاً 240 و 60 عددان متناغمان.

أتعلّم

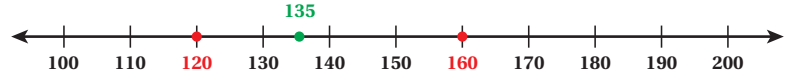
يمكنني استعمال الأعداد المتناغمة لتقدير ناتج القسمة.

مثال 1 أقدّر ناتج: $135 \div 4$

الخطوة 1) أستعمل زوجين من الأعداد المتناغمة لأجد تقديرين مختلفين.

$$135 \div 4 \rightarrow 120 \div 4$$

$$135 \div 4 \rightarrow 160 \div 4$$



وبما أن 120 أقرب إلى 135 فإنني أختار $120 \div 4$

الخطوة 2) أستعمل حقائق القسمة والأنماط.

$$12 \div 4 = 3$$

حقيقة أساسية

$$120 \div 4 = 30$$

قسمة مضاعفات العشرة

أي إن ناتج $135 \div 4$ يساوي 30 تقريباً.

أتحقق من فهمي: أقدّر ناتج: $652 \div 8 = 80$ $640 \div 8 = 80$

• أوجّه الطلبة إلى قراءة المسألة في فقرة **أستكشف**، وأسألهم:

« ما المبلغ الذي ورّعه أحمد؟ **745 ديناراً**.

« ما عدد أولاده؟ **5**

« ما المطلوب في المسألة؟ **تقدير نصيب كل منهم**.

« ماذا نحتاج لتقدير نصيب كل ولد من أولاده؟ **تقدير ناتج القسمة**.

• أعزز الإجابات الصحيحة.

• أبين للطلبة أنهم سيتمكنون في هذا الدرس من تقدير ناتج قسمة عدد من 3 منازل على عدد من منزلة أو منزلتين.

• أبين للطلبة أنهم سيقومون بتقدير ناتج القسمة؛ باستعمال الأعداد المتناغمة أو باستعمال التقريب، وذلك حسب المسألة.

• أذكر الطلبة بالمقصود بالأعداد المتناغمة في عملية القسمة مع ذكر أمثلة، وأبين لهم علاقة الأعداد المتناغمة وارتباطها بحقائق الضرب، فمثلاً: 45 و 5 عددان متناغمان؛ لأنّ من السهل إيجاد ناتج $5 \div 45$ ، وكذلك $5 \div 450$.

• أكتب مسألة القسمة الواردة في المثال 1 على اللوح: $(4 \div 135)$.

• أوضح الخطوة الأولى من خطوات الحل، وهي البحث عن زوجين من الأعداد المتناغمة لاختيار أيهما أقرب إلى الأعداد التي نريد تقدير ناتج قسمتها؛ وذلك للحصول على الناتج الأقرب.

• أسأل الطلبة عن عددين قريبين من 135 ويسهل قسمتهما على 4. أقبّل إجابات الطلبة.

• أتوصّل بالمناقشة إلى أنّ العددين هما 120 و 160، وأطلب إلى الطلبة تبرير ذلك.

• أسأل الطلبة: أيهما أقرب إلى العدد 135؟ وأطلب التبرير (باستعمال خط الأعداد أو الطرح) وأقبّل إجابات الطلبة المختلفة.

• أنتقل إلى الخطوة الثانية، وهي إيجاد الناتج التقديري.

• أسأل الطلبة:

« ما ناتج $4 \div 12$ ؟ **3**

« ما ناتج $4 \div 120$ ؟ **30**

• أكتب على اللوح $4 \div 135$ تساوي 30 تقريباً.

• أقدّم مزيداً من الأمثلة على الأعداد المتناغمة، وأوجّه أمثلة تُستعمل فيها الأعداد المتناغمة والتقريب لبيان أيهما أنسب لإجراء عملية التقدير، مثل:

$$5 \div 25 : 5 \div 250, 5 \div 250, 50 \div 250$$

$$9 \div 36 : 9 \div 360, 90 \div 360, 90 \div 3600$$

التقويم التكويني: ✓

أطلب إلى الطلبة حلّ تدريب (أتحقّق من فهمي) بعد كلّ مثال. أختار بعض الإجابات التي تحتوي على أخطاء مفاهيمية، وأناقش الطلبة فيها على اللوح. لا أذكر اسم صاحب الحلّ أمام الصفّ تجنباً لإحراجهم.

الْوَحْدَةُ 2

وَيُمْكِنُنِي أَيْضًا تَقْرِبُ نَاتِجِ الْقِسْمَةِ بِاسْتِعْمَالِ التَّقْرِبِ إِلَى أَعْلَى مَنزِلَةٍ.

مِثَالٌ 2: مِنَ الْحَيَاةِ

زَرَعَتْ: زَرَعَتْ هِيَ 418 سَتْلَةً مِنَ الرَّهْوْرِ فِي 82 صَفًّا. أَقْدَرُ كَمْ سَتْلَةً وَصَعَتْ فِي كُلِّ صَفٍّ.
أَقْدَرُ نَاتِجَ $418 \div 82$



الخطوة 1) أَقْرَبُ الْمَقْسُومِ عَلَيْهِ.

أَقْرَبُ الْمَقْسُومِ عَلَيْهِ إِلَى أَقْرَبِ عَشْرَةٍ.

$$\begin{array}{r} 418 \div 82 \\ \downarrow \quad \downarrow \\ 418 \div 80 \end{array}$$

أَلَا حِظُّ أَنْ مِنَ السَّهْلِ قِسْمَةَ 40 عَلَى 8.

الخطوة 3) أَقْسِمُ الْعَدَدَيْنِ الْمُتَنَاعِمَيْنِ ذَهَبِيًّا

$$400 \div 80 = 5$$

إِذَنْ: نَاتِجُ $418 \div 82$ يُسَاوِي 5 تَقْرِبًا، أَيَّ إِنَّ هِيَ وَصَعَتْ 5 سَتْلَاتٍ تَقْرِبًا فِي كُلِّ صَفٍّ.

$$270 \div 90 = 3$$

أَتَحَقَّقُ مِنْ فَهْمِي: طَيَّارٌ: عَدَدُ رُكَّابِ طَيَّارٍ 280 رَاكِبًا، يَجْلِسُ 92 رَاكِبًا فِي كُلِّ عَرِيَّةٍ. أَقْدَرُ عَدَدَ عَرِيَّاتِ الطَّيَّارِ.

أَتَدْرَبُ

وَأُحَلِّ الْمَسَائِلَ

أَقْدَرُ نَاتِجَ الْقِسْمَةِ:

- 1) $237 \div 3$ 80 2) $641 \div 5$ 125 3) $299 \div 5$ 60
4) $473 \div 8$ 60 5) $816 \div 19$ 40 6) $235 \div 42$ 6

7) أَصِلْ كُلَّ عَمَلِيَّةٍ قِسْمَةٍ بِالتَّقْدِيرِ الْمُنَاسِبِ لَهَا:

$804 \div 19$	$632 \div 32$	$438 \div 7$	$572 \div 8$
20	40	70	60

مِثَالٌ 2: مِنَ الْحَيَاةِ

- أَوْضِحْ لِلطَّلِبَةِ أَنَّهُ لِلْقِسْمَةِ عَلَى عَدَدٍ مِنْ مَنزِلَتَيْنِ؛ تُقْرَبُ الْمَقْسُومِ عَلَيْهِ إِلَى أَقْرَبِ 10، ثُمَّ نَبْحَثُ عَنْ عَدَدٍ مُتَنَاعِمٍ مَعَهُ، فَمَثَلًا: لِتَقْدِيرِ نَاتِجِ قِسْمَةِ $338 \div 42$ تُقْرَبُ 42 إِلَى 40، وَنَبْحَثُ عَنْ عَدَدٍ مُتَنَاعِمٍ مَعَهُ قَرِيبٍ مِنْ 338: وَنَكْتُبُ $320 \div 40 \rightarrow 338 \div 42$
- أَطْلُبُ إِلَى الطَّلِبَةِ قِرَاءَةَ الْمِثَالِ 2 وَأَسْأَلُهُمْ:

« كَيْفَ تُقَدِّرُ عَدَدَ الشَّتَلَاتِ الَّتِي زَرَعْتَهَا هِيَ؟ بِتَقْدِيرِ نَاتِجِ الْقِسْمَةِ.

« مَاذَا نُلَاحِظُ عَلَى الْمَقْسُومِ عَلَيْهِ فِي هَذِهِ الْمَسْأَلَةِ (أَلْفَتْ انْتِبَاهَ الطَّلِبَةِ إِلَى أَنَّ الْمَقْسُومَ عَلَيْهِ هُنَا مِنْ مَنزِلَتَيْنِ، بَيْنَمَا فِي الْمِثَالِ السَّابِقِ كَانَ الْمَقْسُومُ عَلَيْهِ مِنْ مَنزِلَةٍ وَاحِدَةٍ)؟ مَكُونُ مِنْ مَنزِلَتَيْنِ.

- أَيْبِنُ لِلطَّلِبَةِ أَنَّهُ لِتَسْهِيلِ تَقْدِيرِ نَاتِجِ الْقِسْمَةِ تُقْرَبُ الْمَقْسُومَ عَلَيْهِ إِلَى أَقْرَبِ 10 كَخَطْوَةٍ أُولَى.

أَسْأَلُ الطَّلِبَةَ: مَا الْخَطْوَةُ التَّالِيَةُ لِتَقْدِيرِ نَاتِجِ $418 \div 80$ ؟ الْبَحْثُ عَنْ عَدَدٍ مُتَنَاعِمٍ مَعَ 80 وَقَرِيبٍ مِنْ 418.

- أَسْتَمِعُ لِإِجَابَاتِ الطَّلِبَةِ لِتَتَوَصَّلَ إِلَى أَنَّ الْعَدَدَ هُوَ 400 (أَذْكُرُهُمْ أَنَّ 40 وَ8 مُتَنَاعِمَانِ وَكَذَلِكَ 400 وَ80).

أَسْأَلُ مَا نَاتِجَ $400 \div 80$ ؟ 5. أَطْلُبُ إِلَيْهِمُ التَّبْرِيرَ. (أَتَأَكَّدُ مِنْ اسْتِعْمَالِ الطَّلِبَةِ لِلْمَصْطَلَحِ: حَقِيقَةٌ أَسَاسِيَّةٌ).

- أَكْتُبُ عَلَى اللُّوْحِ: أَيَّ إِنَّ $418 \div 82$ يُسَاوِي تَقْرِبًا 5 (أَيَّ إِنَّ هِيَ وَصَعَتْ 5 شَتَلَاتٍ تَقْرِبًا فِي كُلِّ صَفٍّ).

التدريب

4

أَتَدْرَبُ وَأُحَلِّ الْمَسَائِلَ:

- أَوْجِّهْ الطَّلِبَةَ إِلَى فِقْرَةٍ (أَتَدْرَبُ وَأُحَلِّ الْمَسَائِلَ)، ثُمَّ أَطْلُبُ إِلَيْهِمْ حَلَّ الْمَسَائِلِ (6 - 1)، وَالْمَسَائِلِ (12 وَ 13) ضَمَّنَ مَجْمُوعَاتٍ ثَنَائِيَّةٍ دَاخِلَ الْغُرْفَةِ الصَّفِيَّةِ؛ فَهَذِهِ الْمَسَائِلُ تَحْدِيدًا تَرْتَبِطُ ارْتِبَاطًا مُبَاشَرًا بِأَمثلةِ الدَّرْسِ، وَهِيَ تُسْتَعْمَلُ خَاصَّةً لِتَدْرِبِ الطَّلِبَةَ عَلَى الْمَفَاهِيمِ نَفْسِهَا، بِصَرَفِ النَّظَرِ عَمَّا إِذَا كَانَتْ الْأَسْئَلَةُ فَرْدِيَّةً أَمْ زَوْجِيَّةً.

أَسْتَعْمَلُ الأَعْدَادَ المُتَنَاعِمَةَ لِتَقْدِيرِ نَاتِجِ كُلِّ مِمَّا يَأْتِي، ثُمَّ أَقَارِنُ بِوَضْعِ الرَّمْزِ (> أو < أو =) فِي □ :

8 $143 \div 7 < 125 \div 5$ 9 $367 \div 6 < 735 \div 8$

10 $456 \div 51 < 417 \div 17$ 11 $455 \div 90 = 361 \div 70$



12 **مِنْطَادٌ:** تَحْرُكُ مِنْطَادٌ مَسَافَةً 387 km فِي 12 سَاعَةً، إِذَا كَانَ الْمِنْطَادُ يَقْطَعُ الْمَسَافَةَ نَفْسَهَا كُلَّ سَاعَةٍ، فَأَقْدِرُ الْمَسَافَةَ الَّتِي يَقْطَعُهَا فِي السَّاعَةِ الْوَاحِدَةِ. 30 km

13 **مَاءٌ:** وَزَعُ مِهْنَدٌ 530 فَارَوْرَةً مَاءً عَلَى صِنَادِيْقٍ يَسْعُ الْوَاحِدُ مِنْهَا 6 قَوَارِيرَ. أَقْدِرُ كَمْ صِنْدُوْقًا اسْتَعْمَلْتُ. 90 صِنْدُوْقًا.

14 **أَعْدَتُ الْمُعَلِّمَةِ:** 175 مِهْمَةً لِتَوْزِيْعِهَا عَلَى طَالِبَاتِ الصَّفِّ وَعَدَدُهُنَّ 27. أَقْدِرُ كَمْ سَتَعْطِي كُلَّ طَالِبَةٍ. 6 مِهْمًا.

15 **قِرَاءَةٌ:** أَرَادَتْ لَيْلَى قِرَاءَةَ رِوَايَةٍ مُكَوَّنَةٍ مِنْ 146 صَفْحَةٍ، إِذَا كَانَتْ تَقْرَأُ فِي الْيَوْمِ بِمَعْدَلِ 28 صَفْحَةٍ، فَأَقْدِرُ كَمْ يَوْمًا تَحْتَاجُ لِتُكْمِلَ قِرَاءَةَ الرِّوَايَةِ. 5 أَيَّامًا.

16 **تَحَدُّ:** كَتَبْتُ رُتْدَ 255 مَقَالَةً، وَأَرَادَتْ أَنْ تَضَعَ كُلَّ 12 مَقَالَةً فِي كِتَابٍ. أَقْدِرُ كَمْ كِتَابًا تَحْتَاجُ. 20 كِتَابًا.

17 **تَبْرِيرٌ:** قَدَّرْتُ مَعْتَرِ نَاتِجَ $8 \div 365$ وَقَالَ: «النَّاتِجُ مُكَوَّنٌ مِنْ مَنْرَلَتَيْنِ وَهُوَ أَكْبَرُ مِنْ 40»، هَلْ أَتَّفِقُ مَعَهُ؟ أُبَيِّنُ كَيْفَ قَدَّرْتُ ذَلِكَ. بِمَا أَنَّ 365 تقع بين 320 و 400 إذن: تقديرها يقع بين 40 و 50 لأن $320 \div 8 = 40$ ، $400 \div 8 = 50$

أَتَحَدَّثُ: هَلْ يُمَكِّنُنِي أَنْ أَحْصِلَ عَلَى أَكْثَرِ مِنْ تَقْدِيرٍ لِمَسْأَلَةٍ قِسْمَةٍ؟ أَشْرَحُ وَأَعْطِي مِثَالًا.

مُغْلَوِّمَةٌ

يَرْتَفِعُ الْمِنْطَادُ الشَّمْسِيُّ إِلَى الأَعْلَى عِنْدَ إِزْتِفَاعِ حَرَارَةِ الهَوَاءِ بِدَاخِلِهِ بِغَيْسِلِ حَرَارَةِ الشَّمْسِ، وَيَنْهَبُ عِنْدَ خُرُوجِ الهَوَاءِ مِنْ فَتْحَةِ أَعْلَاهُ.

مِهَارَاتُ التَّفْكِيرِ العَلِيَا

أَتَحَدَّثُ: نَعَمْ، فَمِثَالًا: $4 \div 231$ بالتقريب يكون الناتج 50، وبالأعداد المتناغمة يكون ناتج التقريب 60

الختام

6

• أَسْتَعْمَلُ فِقْرَةَ أَتَحَدَّثُ، لِلتَّأَكُّدِ مِنْ فَهْمِ الطَّلِبَةِ لِمَوْضُوعِ الدَّرْسِ، وَأُوجِّهُ الطَّلِبَةَ ذَوِي الْمَسْتَوَى الْمَتَوَسِّطِ وَذَوِي الْمَتَوَسِّطِ إِلَى الإِجَابَةِ عَنِ السُّؤَالِ.

• إِنْ لَزِمَ الأَمْرَ، أَتَحَقَّقُ مِنْ فَهْمِ الطَّلِبَةِ، بِطَرَحِ سُّؤَالٍ عَلَيْهِمْ، مِثْلُ: « أَقْدِرُ نَاتِجَ كُلِّ مِمَّا يَأْتِي:

1 $215 \div 31$ 7

2 $461 \div 93$ 5

• إِذَا وَاجَهَ الطَّلِبَةُ صَعُوبَةً فِي حَلِّ أَيِّ مَسْأَلَةٍ، فَإِنِّي أَخْتَارُ أَحَدَ الطَّلِبَةِ مِمَّنْ تَمَكَّنَ/ تَمَكَّنَتْ مِنْ حَلِّ الْمَسْأَلَةِ؛ لِمُنَاقَشَةِ اسْتِرَاطِيَجِيَّتِهِ/ اسْتِرَاطِيَجِيَّتِهَا فِي حَلِّ الْمَسْأَلَةِ عَلَى اللُّوْحِ، مُحَفِّزًا الطَّلِبَةَ عَلَى طَرَحِ أَيِّ سَأْوَلٍ عَنِ خُطُوطِ الحَلِّ الْمُقَدَّمَةِ مِنَ الزَمِيلِ/ الزَمِيلَةِ.

الواجب المنزلي:

أَسْتَعِينُ بِالْجَدُولِ الآتِي لِتَحْدِيدِ الْوَاجِبِ الْمَنْزَلِيِّ لِلطَّلِبَةِ بِحَسَبِ مَسْتَوِيَاتِهِمْ:

المستويات	الأسئلة
دون المتوسط	كتاب الطالب: 7, 8, 10, 13 كتاب التمارين: 8, (1-6)
ضمن المتوسط	كتاب الطالب: 7, 9, 11, 14 كتاب التمارين: (7-10)
فوق المتوسط	كتاب الطالب: 7, 9, 11, (15-17) كتاب التمارين: (10-12)

التطبيق:

• أُوَجِّهُ الطَّلِبَةَ إِلَى تَنْفِيْذِ النِّشَاطِ 3 مِنْ أَنْشِطَةِ التَّدْرِيبِ الإِضَافِيَةِ.

مِهَارَاتُ التَّفْكِيرِ العَلِيَا

• أُوَجِّهُ الطَّلِبَةَ إِلَى فِقْرَةِ (مِهَارَاتِ التَّفْكِيرِ العَلِيَا)، ثُمَّ أَطْلُبُ إِلَيْهِمْ حَلَّ الْمَسَائِلِ (16-17).

• أَرْصِدُ أَيَّةَ أَفْكَارٍ غَيْرِ تَقْلِيدِيَّةٍ مِنَ الطَّلِبَةِ، ثُمَّ أَطْلُبُ إِلَى هَؤُلَاءِ الطَّلِبَةِ كِتَابَةَ هَذِهِ الأَفْكَارِ عَلَى اللُّوْحِ.

• فِي سُّؤَالِ 16 تَحَدُّ، سَيَجِدُ الطَّلِبَةُ أَنَّهُ عِنْدَ تَقْرِيْبِ 12 إِلَى أَقْرَبِ 10 وَالبَحْثِ عَنِ عِدَدِ مِتْنَاغَمٍ، يَصْبِحُ النَّاتِجُ غَيْرَ قَرِيْبٍ مِنَ الإِجَابَةِ الدَّقِيْقَةِ؛ لِذَا، أُوَجِّهُهُمْ إِلَى البَحْثِ عَنِ عِدَدِ مِتْنَاغَمٍ مَعَ 12.

• أُوَجِّهُ الطَّلِبَةَ فِي سُّؤَالِ 17 تَبْرِيرِ، إِلَى البَحْثِ عَنِ زَوْجِيْنِ مِنَ الأَعْدَادِ الْمِتْنَاغَمَةِ لِتَبْرِيرِ النَّاتِجِ.

الإثراء

5

• أَسْتَعْمَلُ الْمَسْأَلَةَ الآتِيَةَ لِإِثْرَاءِ تَعَلُّمِ الطَّلِبَةِ:

« قَدَّرْتُ سَيْفَ نَاتِجِ $11 \div 554$ بِطَرِيْقَتَيْنِ، وَكَانَ التَّقْدِيرُ بِالطَّرِيْقَةِ الأُولَى 50 وَالثَّانِيَةَ 55، أُبَيِّنُ كَيْفَ حَصَلَ عَلَى كُلِّ مِنَ التَّقْدِيرِيْنِ.

نتائج الدرس:

- تقسيم عدد من 3 منازل على الأكثر، على عدد من منزلتين دون باق.

نتائج التعلم القبلي:

- الحقائق الأساسية للضرب والقسمة.
- الضرب في عدد من منزلتين.
- تقدير ناتج القسمة.

مراجعة التعلّم القبلي ومعالجة الفاقد التعليمي:

أسترشد بالإجراءات المبيّنة في مقدمة دليل المعلم (الصفحتان 1 و 2) المتعلقة بمراجعة التعلم القبلي ومعالجة الفاقد التعليمي لدى الطلبة.

التهيئة

1

أجري النشاط الآتي:

- أطلب إلى الطلبة رسم شبكة مربعات مكوّنة من 9 مربعات (3 × 3).
- أطلب إليهم كتابة الأعداد من (10-2) في هذه المربعات.
- أوجه سؤالاً مثل: كم 40 يوجد في العدد 320؟ (السؤال يجب أن يكون حول عدد من منزلتين والعدد الثاني من 3 منازل من مضاعفاته).
- يبحث الطلبة عن الإجابة من بين الأعداد التي كتبوها في الشبكة ويشطبونها.
- يفوز أول طالب/ طالبة يتمكن/ تتمكن من شطب صف كامل من الأعداد.



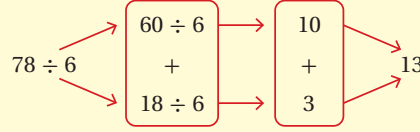
أستكشف

أقامت نالا حفلة ودعت إليها 315 شخصاً، إذا كان قالب الحلوى الواحد يكفي 15 شخصاً، فكَم عدد قوالب الحلوى التي تحتاج إليها؟

فكرة الدرس

أقسم عدداً من 3 منازل على الأكثر، على عدد من منزلتين أو منزلتين.

أتعلم



توجد طرائق عدة لقسمة عدد من 3 منازل على عدد من منزلية واحدة أو من منزلتين، فيمكنني تجزئة المقسوم إلى عددين أو ثلاثة أعداد لتسهيل عملية القسمة.

مثال 1

أجد ناتج $297 \div 9$

$$\begin{aligned} 297 \div 9 &= (270 + 27) \div 9 \\ &= (270 \div 9) + (27 \div 9) \\ &= 30 + 3 \\ &= 33 \end{aligned}$$

أجزئ 270 إلى عددين يقبلان القسمة على 9
أقسم 270 على 9 وأقسم 27 على 9
أجد ناتج كل عملية قسمة
أجمع الناتجين

أتحقق من فهمي:

أجد ناتج كل مما يأتي:

1 $52 \div 4$ 13

2 $98 \div 7$ 14

3 $208 \div 4$ 52

- أوجّه الطلبة إلى قراءة المسألة في فقرة **أستكشف** من كتاب الطالب، وأسألهم:
« ما عدد المدعوين للحفلة؟ **315 شخصًا**. »
- « كم يكفي قالب الحلوى الواحد؟ **15 شخصًا**. »
- « ماذا نحتاج لمعرفة عدد قوالب الحلوى التي تحتاج إليها تالا؟ **قسمة العدد 315 على 15**. »
- أقبّل إجابات الطلبة جميعها.
- أبين لهم أنهم سيتعلمون في هذا الدرس طرائق قسمة عدد من 3 منازل على عدد من منزلتين.

- أوضّح للطلبة وجود طرائق متعدّدة للقسمة يمكن استعمالها، مثل طريقة التجزئة الذي سبق استعمالها في الضرب، وطريقة خوارزمية القسمة.
- أذكرهم بالعلاقة بين القسمة والضرب، وأسأل: ما عملية القسمة المرتبطة بعملية الضرب؟
 $8 \times 9 = 72$

تعزيز اللغة ودعمها:

أكرّر المصطلح: (المضاعف)، أمام الطلبة، وأحرص على استعماله من قبلهم.

مثال 1

- أكتب على اللوح: $297 \div 9$
- أطلب إلى الطلبة تقدير ناتج القسمة وكتابته في دفاترهم، وأوجّههم إلى استعمال الأعداد المتناغمة.
- أطلب إلى أحد الطلبة كتابة ناتج التقدير على اللوح وتوضيح الخطوات.
- أبين للطلبة أنني سأستعمل طريقة التجزئة عن طريق الخطوات الآتية:
« تجزئة العدد 297 إلى عددين يقبلان القسمة على 9. »
- أسأل الطلبة: ما العددان اللذان مجموعهما 297؟
- أقبّل الإجابات جميعها وأختار الإجابة $(270 + 27)$ ، وأطلب إليهم تبرير ذلك.
- أكتب عملية القسمة بالصورة $9 \div (270 + 27)$.
- أوضّح الخطوة الثانية: وأطلب إلى الطلبة كتابة النواتج الجزئية لعملية القسمة.
- أخيرًا، أطلب إلى الطلبة جمع النواتج الجزئية، وأطلب إليهم مقارنة المجموع بالناتج التقديري للحكم على معقولية الإجابة.

التقويم التكويني: ✓

أطلب إلى الطلبة حلّ تدريب (أتحقق من فهمي) بعد كلّ مثال. أختار بعض الإجابات التي تحتوي على أخطاء مفاهيمية، وأناقش الطلبة فيها على اللوح. لا أذكر اسم صاحب الحلّ أمام الصفّ تجنبًا لإحراجهم.

مثال 2: من الحياة

- أوجّه الطلبة إلى قراءة المثال 2، وأبين أهمية استعمال القسمة في بعض الممارسات الحياتية.
- أسأل الطلبة عن المعطيات والمطلوب من المسألة.
- أسأل الطلبة: ما العملية الحسابية التي نحتاج إليها لحل المسألة؟ **القسمة.**
- أطلب إلى أحد الطلبة كتابة العملية على اللوح.
- **$558 \div 18$**
- أطلب إلى الطلبة جميعهم تقدير ناتج القسمة في دفاترهم أو على ورقة.
- أطلب لهم أهمية التقدير لتخمين الرقم الأول في ناتج القسمة وعدد المنازل.
- أكتب عملية القسمة الطويلة على اللوح.
- أسأل الطلبة عن عدد المنازل في الناتج بالرجوع إلى التقدير. **2.**
- أسأل: ما المنزلة الأولى (ناتج قسمة 55 على 18)؟ **3**
- أناقش الطلبة في الخطوات المتبقية.
- أطلب إلى أحد الطلبة كتابة مسألة القسمة والناتج.
- أطلب إليهم مقارنة الناتج بالتقدير للحكم على معقولية الإجابة، ثم التحقق من صحة الإجابة بإجراء عملية الضرب المرتبطة بها.
- أطلب إليهم توضيح ماذا يمثل الناتج بالرجوع للمطلوب من المسألة (عدد غرامات الطحين اللازمة لصنع قطعة واحدة من الحلوى) للتأكد من فهم الطلبة للمسألة.

إرشاد: أطلب للطلبة أنه لتسهيل عملية القسمة عند استعمال خوارزمية القسمة، يجب البحث عن أكبر مضاعف للمقسوم عليه مع إعطاء أمثلة.

التدريب

4

أدرب وأحلّ المسائل:

- أوجّه الطلبة إلى فقرة (أدرب وأحلّ المسائل)، ثم أطلب إليهم حل المسائل (1-6) والمسألة 11 ضمن مجموعات ثنائية داخل الغرفة الصفية؛ فهذه المسائل تحديداً ترتبط ارتباطاً مباشراً بأمثلة الدرس، وهي تُستعمل خاصة لتدريب الطلبة على المفاهيم نفسها، بصرف النظر عما إذا كانت الأسئلة فردية أم زوجية.

مثال 2: من الحياة



حلوى: استعملت هلا 558 g من الطحين لصنع الحلوى، وحصلت على 18 قطعة. كم غراماً من الطحين استعملت لصنع قطعة واحدة من هذه الحلوى؟

لمعرفة كمية الطحين الذي استعملته لصنع قطعة واحدة من الحلوى، أجد: $558 \div 18$
إذن: الرقم الأول في ناتج القسمة قد يكون 3، وهو في منزلة العشرات.
وبما أن المقسوم عليه مكون من منزلتين، فإنني أبدأ بقسمة 55 على 18

$18 \overline{) 558}$	أقسم: $55 \div 18$
$\underline{- 54}$	أضرب: 3×18
18	أطرح: $55 - 54$ ، ثم أنزل الأحاد.
$\underline{- 18}$	أقسم: $18 \div 18$ ، ثم أضرب: 1×18
0	أطرح: $18 - 18$

إذن: ناتج قسمة $558 \div 18$ يساوي 31

أتحقق من صحة الإجابة: أضرب لأتحقق من صحة الإجابة:

$$31 \times 18 = 558$$

أي إن هلا استعملت 31 g من الطحين لصنع القطعة الواحدة من الحلوى.

أتحقق من فهمي:

ساعات العمل: بلغ مجموع ساعات العمل التي عملها أمجد منذ تعيينه مبرمجاً في إحدى الشركات 760 ساعة. فإذا كان يعمل في الأسبوع 38 ساعة، فكم أسبوعاً مضى على تعيينه؟ **20 أسبوعاً.**



- إذا واجه الطلبة صعوبة في حل أي مسألة، فإنني أختار أحد الطلبة ممن تمكن/ تمكنت من حل المسألة؛ لمناقشة استراتيجيته/ استراتيجيتها في حل المسألة على اللوح، مُحفِّزاً الطلبة على طرح أي تساؤل عن خطوات الحل المُقدّمة من الزميل/ الزميلة.

المفاهيم العابرة للمواد:

أؤكد على المفاهيم العابرة للمواد حيثما وردت في كتاب الطالب أو كتاب التمارين. عند مناقشة مثال من الحياة، أعزز الوعي بالمهارات الحياتية ومن ضمنها الوعي الصحي، وأهمية اختيار الطعام الصحي لبناء الأجسام السليمة والوقاية من الأمراض، وتجنب السمّة المفرطة والمحافظة على اللياقة البدنية.

أستعين بالجدول الآتي لتحديد الواجب المنزلي للطلبة بحسب مستوياتهم:

المستويات	الأسئلة
دون المتوسط	كتاب الطالب: 7, 12 كتاب التمارين: 9, 7, (6 - 1)
ضمن المتوسط	كتاب الطالب: 8, 10, 12 كتاب التمارين: 1, 3, 5, 8, 10
فوق المتوسط	كتاب الطالب: 9, 10, (12 - 14) كتاب التمارين: (12 - 10)

مهارات التفكير العليا

- أوجّه الطلبة إلى فقرة (مهارات التفكير العليا)، ثم أطلب إليهم حل المسائل (13 - 14).
- أرصد آية أفكار غير تقليدية من الطلبة، ثم أطلب إلى هؤلاء الطلبة كتابة هذه الأفكار على اللوح.
- في سؤال 13 تحدّ، أبين أنها مسألة مفتوحة ولها إجابات متعدّدة، أوجّه للطلبة أسئلة للكشف عن الإستراتيجية التي اتّبعتها في الحلّ (مثلاً: البحث عن مضاعفات لأعداد أكبر من 30 وأقل من 40).
- في سؤال 14 تبرير، أوجّه الطلبة لحساب: كم عقداً تستطيع نادين صنعه من الخزرات الزرقاء؟ وكم عقداً تستطيع صنعه من الخزرات الفضية؟ وأسألهم: كم عقداً تستطيع صنعه من اللونين؟ إذا لم يستطع الطلبة الحلّ أو التبرير أبسط المسألة بأعداد صغيرة.

5 الإثراء

- أستعمل المسألة الآتية لإثراء تعلّم الطلبة: « أجد ناتج قسمة $12 \div 192$ بطريقتين، بحيث تكون نواتج القسمة الجزئية مختلفة في كل منهما. وأبين أيهما تفضّل ولماذا.

6 الختام

أستعمل فقرة **أتحدّث**، للتأكد من فهم الطلبة لموضوع الدرس بصورة سهلة، أطلب إلى بعض الطلبة ذوي المستوى المتوسط ودون المتوسط للإجابة على السؤال.

الوَخْذَةُ 2

أَتَدْرَبُ وَأُخَلِّ الْمَسَائِلَ

أجد ناتج كلِّ مما يأتي:

1 $425 \div 25$ 17 2 $85 \div 5$ 17 3 $675 \div 27$ 25

4 $384 \div 4$ 96 5 $728 \div 14$ 52 6 $841 \div 29$ 29

أكتب في عدد المنازل في ناتج القسمة، من دون إجراء عمليّة القسمة:

7 $360 \div 30$ 2

8 $180 \div 45$ 1

9 $300 \div 25$ 2

10 $608 \div 76$ 1



11 **صُورَةٌ:** وَصَعَتْ سُوْسُنُ 216 صُورَةً فِي الْيَوْمِ يَحْتَوِي عَلَى 27 صَفْحَةٍ، بِحَيْثُ كَانَ عَدَدُ الصُّورِ مُتَسَاوِيًا فِي كُلِّ الصَّفْحَاتِ. كَمْ صُورَةً وَصَعَتْ فِي الصَّفْحَةِ الْوَاحِدَةِ؟ 8 صور.

12 **زَكَاةٌ:** وَرَعَ عَبْدُ اللَّهِ مَبْلَغَ 994 دِينَارًا زَكَاةً أَمْوَالِهِ عَلَى 71 فَقِيرًا بِالسَّوَاوِي، فَكَمْ كَانَ نَصِيبُ كُلِّ مِنْهُمْ؟ 14

الزَّكَاةُ

الزَّكَاةُ أَحَدُ أَرْكَانِ الْإِسْلَامِ الْحَمْسَةِ؛ وَتُعْنِي إِخْرَاجَ جُزْءٍ مِنَ الْمَالِ الَّذِي يَبْلُغُ النَّصَابَ لِمُسْتَحِقِّيهِ مِنَ الْفُقَرَاءِ وَالْمَسَاكِينِ وَغَيْرِهِمْ، وَهِيَ تُطَهِّرُ مَالَ الْمُسْلِمِ وَتُبَارِكُ فِيهِ وَتُنَمِّيهِ وَتَحْفَظُهُ مِنَ الزَّوَالِ.

مَهَارَاتُ التَّفْكَيرِ الْعُلْيَا

13 **تَحَدِّ:** أَكْتُبْ مَسْأَلَةً قِسْمَةً يَكُونُ النَّاتِجُ فِيهَا أَكْبَرَ مِنْ 30 وَأَقْلَ مِنْ 40. $396 \div 12$



14 **تَبْرِيرٌ:** تَعْمَلُ نَادِينُ عَقُودًا مِنَ الْخَرَزِ الْمُلَوَّنِ بِالْأَزْرَقِ وَالْفِضِّيِّ، بِحَيْثُ تَضَعُ فِي الْعَقْدِ الْوَاحِدِ 18 خَرَزَةً زُرْقَاءَ وَ12 خَرَزَةً فِضِّيَّةً. إِذَا كَانَ لَدَيْهَا 540 خَرَزَةً زُرْقَاءَ وَ300 خَرَزَةً فِضِّيَّةً، فَكَمْ عَقْدًا تَسْتَطِيعُ أَنْ تَضَعَ؟ أُبْرِرُ إِجَابَتِي.

(14) 25 عقداً؛ لأنّه يُمكنها أن تصنع 30 عقداً من 540 خرزة زرقاء، ولكنها تستطيع صنع 25 عقداً من الخزرات الفضية.

14 **أَتَحَدِّثُ:** مَا أَهْمِيَّةُ تَجْرِبَةِ الْمَقْسُومِ إِلَى عَدَدَيْنِ أَوْ ثَلَاثَةِ أَعْدَادٍ فِي عَمَلِيَّةِ الْقِسْمَةِ؟ تُسَهِّلُ عَمَلِيَّةَ الْقِسْمَةِ ذَهَبِيًّا.

نتائج الدرس:

- إيجاد ناتج قسمة عدد كلي من 3 منازل على عدد من منزلتين.
- تفسير معنى الباقي في مسائل القسمة.

نتائج التعلم القبلي:

- ضرب عدد مكون من 3 أو 4 منازل، في عدد من منزلة أو منزلتين.
- قسمة عدد كلي من 3 منازل، على عدد من منزلتين من دون باق.

مراجعة التعلّم القبلي ومعالجة الفاقد التعليمي:

أسترشد بالإجراءات المبيّنة في مقدمة دليل المعلم (الصفحتان 1 و 2) المتعلقة بمراجعة التعلم القبلي ومعالجة الفاقد التعليمي لدى الطلبة.


1 التهيئة

أجري النشاط الآتي:

- أكتب الأعداد الآتية على اللوح بصورة أفقية: 96, 95, 91, 99, 93
- أكتب مجموعة أخرى من الأعداد في سطر تحتها: 3, 4, 5, 7, 9
- أطلب إلى الطلبة كتابة الأعداد على ألواحهم الصغيرة.
- أقول للطلبة: سأقسم عددًا من السطر الأعلى على عدد من السطر تحته وأعطي الناتج، وعليكم تحديد زوج الأعداد التي قسمتها. على سبيل المثال: إذا ذكرت الناتج 13 يُمكنني ربط ذلك بالعدد 91، 7، 91 إذ إن $91 \div 7 = 13$
- أذكر 5 نواتج.
- أطلب إلى الطلبة مناقشة أزواج الأعداد التي وجدوها.

أستكشف

تستغرق دورة القمر الكاملة حول الأرض 27 يومًا تقريبًا. كم مرة يُمكن للقمر أن يدور حول الأرض في 365 يومًا؟



فكرة الدرس

- أجد ناتج قسمة عدد كلي من 3 منازل، على عدد من منزلتين.
- أفسر معنى الباقي في مسائل القسمة.

المفطلحات

باقي القسمة

أنعلم

عند قسمة عدد من 3 منازل على عدد من منزلتين، قد ينتج باقٍ للقسمة (remainder).

مثال 1 أجد ناتج كل مما يأتي:

$$261 \div 17$$

$$\begin{array}{r} 15 \\ 17 \overline{) 261} \\ - 17 \\ \hline 91 \\ - 85 \\ \hline 6 \end{array}$$

أقسم: $26 \div 17$
أضرب: 1×17
أطرح: $26 - 17 = 9$ ، ثم أنزل الأحاد وأقسم: $91 \div 17$
أضرب: 5×17
أطرح: $91 - 85 = 6$
 $6 < 17$

بما أن الباقي أقل من المقسوم عليه، إذن: أتوقف.

إذن: ناتج $261 \div 17$ يساوي 15، والباقي 6

2 الاستكشاف

- أوجه الطلبة إلى قراءة المسألة في فقرة **أستكشف**، وأناقش الطلبة في المعلومة العلمية في هذه الفقرة، وأسألهم عن أشكال القمر والمراحل التي يمر بها وعدد أيام الشهر القمري، وأوجه الأسئلة الآتية:
 - « كم يومًا تستغرق دورة القمر؟ 27 يومًا.
 - « ما عدد أيام السنة؟ 365 يومًا.
 - « كيف يُمكننا حساب عدد المرات التي يدورها القمر حول الأرض في السنة الواحدة؟ نقسم $365 \div 27$
- أعرّز الإجابات الصحيحة.
- أبين للطلبة أنهم سيتعلمون قسمة عدد من 3 منازل على عدد من منزلتين بوجود باقٍ.

أَتَحَقَّقُ مِنْ صِحَّةِ الْإِجَابَةِ:

لِأَتَحَقَّقَ مِنْ صِحَّةِ الْحَلِّ أَضْرِبُ الْمُقْسُومَ عَلَيْهِ فِي النَّاتِجِ، ثُمَّ أَضِيفُ بَاقِيَ الْقِسْمَةِ

$$17 \times 15 = 255 \longrightarrow 255 + 6 = 261 \quad \checkmark$$

$$2 \quad 306 \div 23$$

$$\begin{array}{r} 1 \quad 3 \\ 23 \overline{) 306} \\ - 23 \quad \downarrow \\ \hline 076 \\ - 69 \\ \hline 7 \end{array}$$

أَقْسِمُ: $30 \div 23$ أَضْرِبُ: 1×23 أَطْرَحُ: $30 - 23$ ، أُنزِلُ الْأَحَادَ: أَقْسِمُ: $76 \div 23$ أَضْرِبُ: 3×23 ثُمَّ أَطْرَحُ: $76 - 69$ $7 < 23$

بِمَا أَنَّ الْبَاقِيَ أَقَلُّ مِنَ الْمُقْسُومِ عَلَيْهِ، إِذَنْ: أَتَوَقَّفُ.

إِذَنْ: نَائِجُ $306 \div 23$ يُسَاوِي 13 وَالْبَاقِي 7

أَتَحَقَّقُ مِنْ صِحَّةِ الْإِجَابَةِ:

لِأَتَحَقَّقَ مِنْ صِحَّةِ الْحَلِّ أَضْرِبُ الْمُقْسُومَ عَلَيْهِ فِي النَّاتِجِ، ثُمَّ أَضِيفُ بَاقِيَ الْقِسْمَةِ

$$23 \times 13 = 299 \longrightarrow 299 + 7 = 306 \quad \checkmark$$

أَتَحَقَّقُ مِنْ فَهْمِي:

أَجِدُ نَائِجَ كُلِّ مِمَّا يَأْتِي:

$$1 \quad 544 \div 45 \quad 4 \quad \text{والباقى } 4$$

$$2 \quad 403 \div 21 \quad 4 \quad \text{والباقى } 4$$

أخطاء شائعة:

قد يُخطئ الطلبة في إجراء عملية القسمة؛ فيتوقفون عن إجراء العملية ويكون الباقي أكبر من المقسوم عليه، أُبَيِّنُ لَهُمْ أَنَّ الْبَاقِيَ يَجِبُ أَنْ يَكُونَ أَقَلُّ مِنَ الْمُقْسُومِ عَلَيْهِ، وَأَوْضَحُ ذَلِكَ بِاسْتِعْمَالِ الْمَحْسُوسَاتِ إِذَا لَزِمَ الْأَمْرَ، وَبِخَاصَّةٍ لِلطَّلِبَةِ ذَوِي الْمَسْتَوَى دُونَ الْمَتَوَسِّطِ.

- أَدَّكَرُ الطَّلِبَةَ بِالطَّرَاقِقِ الْمُخْتَلِفَةِ الَّتِي تَعَلَّمُوها لِقِسْمَةِ عِدَدٍ مِنْ 3 مَنَازِلٍ عَلَى عِدَدٍ مِنْ مَنَزَلَتَيْنِ، وَالْعِلَاقَةَ بَيْنِ الْمُقْسُومِ وَالْمُقْسُومِ عَلَيْهِ وَنَائِجِ الْقِسْمَةِ عَلَى صُورَةِ ضَرْبٍ، وَأُبَيِّنُ هَذِهِ الْعِلَاقَةَ إِذَا كَانَ الْمُقْسُومُ لَيْسَ مِنْ مَضَاعِفَاتِ الْمُقْسُومِ عَلَيْهِ (الْمُقْسُومُ عَلَيْهِ \times النَّاتِجُ + الْبَاقِي = الْمُقْسُومُ).

تعزيز اللغة ودعمها:

أَكْرِّرُ الْمِصْطَلَحَاتِ: (بَاقِيَ الْقِسْمَةِ، النَّاتِجِ، الْمُقْسُومِ، الْمُقْسُومُ عَلَيْهِ) أَمَامَ الطَّلِبَةِ، وَأَحْرِصُ عَلَى اسْتِعْمَالِهَا مِنْ قِبَلِهِمْ.

مثال 1

- أكتب على اللوح مسألة القسمة الواردة في الفرع 1 من المثال 1
- أطلب إلى الطلبة تقدير ناتج القسمة وكتابة الناتج في دفاترهم.
- أكلف أحد الطلبة بحل السؤال على اللوح وأطلب إليه تبرير الخطوة الأولى (اختيار الرقم الأول في الناتج).
- أوضِّح بقية الخطوات وأكتبها.
- أطلب إلى الطلبة مقارنة الباقي، وأسأل: متى نتوقف؟
- أطلب إليهم مقارنة الناتج مع التقدير للحكم على معقولية الإجابة.
- أطلب إليهم التحقق من صحة الحل في دفاترهم.
- أوجه الطلبة إلى الفرع 2 من المثال 1.
- أكلف الطلبة بحل هذا المثال في مجموعات ثنائية باتباع الخطوات السابقة، وأذكرهم بإجراء التقدير وأراقب حلولهم وأرصد الأخطاء، وأقدم لهم التغذية الراجعة.
- أكتب السؤال على اللوح وأناقش الطلبة في الخطوات.
- أطلب إليهم التحقق من صحة الإجابة.

التقويم التكويني:

أطلب إلى الطلبة حلّ تدريب (أتحقق من فهمي) بعد كل مثال. أختار بعض الإجابات التي تحتوي على أخطاء مفاهيمية، وأناقش الطلبة فيها على اللوح. لا أذكر اسم صاحب الحلّ أمام الصفّ تجنباً لإحراجهم.

مثال 2: من الحياة



- أوجه الطلبة إلى قراءة المسألة في المثال 2، وأسألهم:
- « ما معطيات المسألة؟ عدد الطلبة وسعة الحافلة.
- « ما المطلوب من المسألة؟ عدد الحافلات التي تحتاج إليها المدرسة لنقل الطلبة.
- « ما العملية الحسابية اللازمة لحل المسألة؟ القسمة.

- أكلف أحد الطلبة بكتابة العملية على اللوح.
- أسأل: ما الخطوة الأولى التي تقوم بها عادة قبل إجراء عملية القسمة؟ التقدير.
- أطلب إليهم القيام بتقدير ناتج القسمة.
- أمثل عملية القسمة الطويلة على اللوح.
- أناقش الطلبة في الخطوات (القسمة، الضرب، الطرح)، وأكتب الطريقة بجانب كل خطوة.
- أكرّر المصطلحات وأؤكد على استعمالها من قبل الطلبة.
- أطلب إلى الطلبة مقارنة الباقي مع المقسوم عليه للتوقف.
- أناقش الطلبة في الإجابة وأسألهم: ماذا تفسرون الباقي؟ (أتوصل إلى أن المدرسة تحتاج إلى 12 حافلة، ولكن يتبقى 25 طالباً؛ وهذا يعني أنها تحتاج إلى حافلة إضافية لنقلهم، أي إن العدد المطلوب هو 13).
- أناقش الطلبة في الباقي، وأبين لهم أن بعض المسائل يُهمل فيها الباقي وبعضها يُضاف 1 للناتج مثل المسألة السابقة، وبعضها يُحسب الباقي ككسر أو جزء من المقسوم عليه.
- أذكر بعض الأمثلة عليها مثل توزيع نقود: مثلاً، تقسيم مبلغ 10 دنانير على 4 أطفال، إذ تستطيع أن تعطي كل واحد منهم دينارين ونصف.

مثال 2: من الحياة



مباراة: أراد مدير مدرسة نقل 445 طالباً في حافلات لحضور مباراة لفرق المدرسة، وكانت سعة الحافلة الواحدة 35 راكباً. كم حافلة يحتاج؟ أفسر معنى الباقي.

لإيجاد عدد الحافلات اللازمة، أجد ناتج $445 \div 35$
أقدر: $445 \div 35 \rightarrow 400 \div 40 = 10$
 إذن: الناتج سيكون من منزلتين، ورّفم العشرات فيه 1

	1	2	
35	4	4	أقسم: $44 \div 35$ ، ثم أضرب: 1×35
	-	3	أطرح: $44 - 35$ ، ثم أنزل الأحاد.
		5	أقسم: $95 \div 35$
		9	أضرب: 2×35
		5	أطرح: $95 - 70$
		2	$25 < 35$

بما أن الباقي أقل من المقسوم عليه، إذن: أتوقف.

أي إن الناتج 12 والباقي 25

أتحقق من معقولية الإجابة:

ألاحظ أن الإجابة 12 قريبة من التقدير 10، إذن: الإجابة معقولة.

أي إن المدرسة تحتاج إلى 12 حافلة. ولكن يتبقى 25 طالباً؛ لذا، لا بد من طلب حافلة بالإضافة إلى 12، وبذلك يصبح عدد الحافلات التي تحتاج إليها المدرسة 13.

أتحقق من فهمي:

قراءة: أرادت مريم قراءة كتاب عدده صفحاته 254، إذا كانت تقرأ في اليوم الواحد 24 صفحة، فكم يوماً تحتاج لنتهي قراءته؟ أفسر إجابتي.

11 يوماً؛ لأنها تنهي قراءة 240 صفحة في 10 أيام، ويتبقى 14 صفحة لتقرأها في اليوم الحادي عشر.

أُتدرب وأحلّ المسائل:

- أُوجّه الطلبة إلى فقرة (أُتدرب وأحلّ المسائل)، ثم أطلب إليهم حل المسائل (1-6) ضمن مجموعات ثنائية داخل الغرفة الصفية؛ فهذه المسائل تحديداً ترتبط ارتباطاً مباشراً بأمثلة الدرس، وهي تُستعمل خاصةً لتدريب الطلبة على المفاهيم نفسها، بصرف النظر عما إذا كانت الأسئلة فردية أم زوجية.
- إذا واجه الطلبة صعوبة في حل أيّ مسألة، فإنني أختار أحد الطلبة ممن تمكّن / تمكّنت من حل المسألة؛ لمناقشة استراتيجيته / استراتيجيتها في حل المسألة على اللوح، مُحفّزاً الطلبة على طرح أيّ تساؤل عن خطوات الحل المُقدّمة من زميل / الزميلة.

الواجب المنزلي:

أستعين بالجدول الآتي لتحديد الواجب المنزلي للطلبة بحسب مستوياتهم:

المستويات	الأسئلة
دون المتوسط	كتاب الطالب: 7, 9 كتاب التمارين: 9, (6 - 1)
ضمن المتوسط	كتاب الطالب: 8, 9 كتاب التمارين: 7, 9, 11
فوق المتوسط	كتاب الطالب: (8 - 10) كتاب التمارين: 8, 10, 12, 13

التطبيق:

- أُوجّه الطلبة إلى تنفيذ النشاط 4 من أنشطة التدريب الإضافية.

مهارات التفكير العليا

- أُوجّه الطلبة إلى فقرة (مهارات التفكير العليا)، ثم أطلب إليهم حل المسائل (9 - 10).
- أُرصد أية أفكار غير تقليدية من الطلبة، ثم أطلب إلى هؤلاء الطلبة كتابة هذه الأفكار على اللوح.
- في سؤال 9 **أكتشف الخطأ**، أُوجّه الطلبة إلى تحديد عدد منازل ناتج القسمة عن طريق إستراتيجيات متعدّدة منها التقدير، أو العلاقة بين أعلى منزلة في المقسوم وأعلى منزلة في المقسوم عليه، وأطلب إليهم تفسير ذلك.
- في سؤال 10 **تحذّر**، أُوجّه الطلبة إلى العلاقة بين المقسوم عليه ومجموع الباقي في الحالتين.

• أستعمل المسألة الآتية لإثراء تعلّم الطلبة:

« يملك سيف 310 صور، يريد وضعها في ألبوم للصور عدد صفحاته 38 صفحة، كم صورة يضع في الصفحة الواحدة؟ أفسّر وجود باقٍ.

مشروع الوحدة

أكلّف الطلبة عرض نتائج المشروع التي توصلوا إليها، وناقشهم فيها.

• أستعمل فقرة **أتحدّث**، للتأكد من فهم الطلبة لموضوع الدرس بصورة سهلة، وأطلب إلى بعض الطلبة ذوي المستوى المتوسط أو دون المتوسط الإجابة عن السؤال.

• إن لزم الأمر، أتحدّق من فهم الطلبة، بطرح سؤال عليهم، مثل:

« أجد ناتج كل مما يأتي:

1 $313 \div 12$ 26 والباقي 1

2 $718 \div 22$ 32 والباقي 14

أجد ناتج كل مما يأتي:

1 $276 \div 15$ 18 والباقي 6
2 $310 \div 22$ 14 والباقي 2
3 $770 \div 24$ 32 والباقي 2
4 $864 \div 26$ 33 والباقي 6
5 $507 \div 25$ 20 والباقي 5
6 $605 \div 30$ 20 والباقي 5
7 $765 \div 25 = 30$ والباقي 15، ويحتاج إلى مغلف إضافي لوضع ما يتبقى.

7 **معلومة** تعمل خميرة الخبز على زيادة حجم العجين في أثناء الخبز، وذلك عن طريق استهلاك السكر في العجين، وإخراج ثاني أكسيد الكربون.

8 **معلومة** **حلوّيات:** يعمل زيان في صنع الحلويات، إذا احتاج إلى 765 g من الخميرة، وكان هذا النوع يُباع في مغلفات سعة كل منها 25 g، فكيف يمكنه أن يفسّر إجابتيه. 31 لأن $30 \times 25 = 765$ والباقي 15، ويحتاج إلى مغلف إضافي لوضع ما يتبقى.

8 **زهور:** تصنع نادين باقات من الزهور كل منها مكونة من 13 زهرة، إذا كان لديها 355 زهرة، فكيف باقة تستطيع أن تصنع؟ 27 باقة، والباقي 4 لا يكفي لعمل باقة.

9 **أكتشف الخطأ:** قام كل من علي وأحمد بإيجاد ناتج قسمة $445 \div 22$ كما يأتي.

أحمد	علي
$445 \div 22 = 20$ والباقي 5	$445 \div 22 = 2$ والباقي 5

من دون إجراء عملية القسمة، أيهما كانت إجابتها صحيحة. أفسّر إجابتيه إجابة أحمد هي الصحيحة؛ لأن الناتج يجب أن يكون من منزلتين.



10 **تحدّ:** في موسم قطف الزيتون جمّع سامر 210 kg وجمّع محمود 170 kg، إذا وضع كل منهما محصوله في عبوات تسع كل منها 20 kg فكيف عدد العبوات التي يحتاجون إليها؟ 19

أتحدّ: كيف أتحدّق من صحّة الحل، عند قسمة عدد على عدد آخر؟ أضرب الناتج في المقسوم عليه، ثم أجمع الباقي لناتج الضرب.

المفاهيم العابرة للمواد:

أؤكد على المفاهيم العابرة للمواد حيثما وردت في كتاب الطالب أو كتاب التمارين. في السؤال 10، أعزز الوعي بالقضايا ذات العلاقة بالعمل ومنها الإنتاجية، وأبين أهمية الأردن ومركزه في إنتاج الزيتون؛ عن طريق المعلومة حول ترتيب الأردن في إنتاج الزيتون عربياً وعالمياً.

اختبار نهاية الوحدة

6 أصل بخطِّ بينَ العمليَّةِ الحسابيةِ وناجيتها في ما يأتي:

34×12	1592
$770 \div 22$	408
199×8	35

أضعُ رمزَ (< أو > أو =) في لتُصبحَ العبارةُ صحيحةً (من دون إجراء العمليَّة):

7 $113 \times 9 > 194 \times 4$

8 $540 \div 79 < 262 \div 29$

أُسئلةٌ ذاتُ إجابةٍ قصيرة:

أفسِّرْ من دون إجراء عمليَّةِ القسمةِ، لماذا نواتجُ العمليَّاتِ الآتيةِ غيرُ صحيحةٍ؟

9 $150 \div 4 = 40$ لأن $160 \div 4 = 40$

10 لأن $415 \div 5 = 800$ مكوّن من منزلتين.

11 إذا كانت الكميَّة اليوميَّة التي يستهلكها الحصان من الطَّعام 12 kg، فكَم كيلو غراماً يستهلك في العام؟
4380 kg

أُسئلةٌ موضوعيةٌ

أختارُ الإجابةَ الصحيحةَ في كلِّ ممَّا يأتي:

1 ناتج 875×4 يساوي: a

- a) 3500 b) 3400
c) 4000 d) 4500

2 ناتج $756 \div 27$ يساوي: b

- a) 27 b) 28
c) 29 d) 30

3 إحدى تقديرات الضرب الآتية، سساعِدني على

إيجاد أقرب ناتج للمسألة: 18×572 b

- a) 500×20 b) 600×20
c) 500×10 d) 600×10

4 باقى عمليَّة القسمة $775 \div 23$ يساوي: c

- a) 33 b) 23
c) 16 d) 14

5 إذا كان ناتج القسمة 15 والمقسوم عليه 23 وباقي

القسمة 2، فإنَّ المقسوم يساوي: d

- a) 345 b) 368
c) 76 d) 347

اختبار نهاية الوحدة

- يُمكنني التحقُّق من فهم الطلبة للمهارات الواردة في الوحدة، وقدرتهم على تطبيقها تطبيقاً صحيحاً عن طريق اختبار نهاية الوحدة المكوّن من 3 أقسام: « أسئلة موضوعية.

« أسئلة ذات إجابة قصيرة.

« أسئلة من الاختبارات الدولية

- أطلب إلى الطلبة حلَّ الأسئلة الموضوعية من اختبار نهاية الوحدة (8 - 1) بصورة فردية.

- أتجوّل بين الطلبة وأرصد الأخطاء.

- أناقش الطلبة في حلولهم، وأعالج الأخطاء بتوجيه أسئلة مشابهة.

- أكرّر الخطوات السابقة مع الأسئلة ذات الإجابة القصيرة (14 - 9)، ثم مع تدريب على الاختبارات الدولية (18 - 15).

- أرصد الأخطاء الشائعة وأعالجها.

- أستعين بالطلبة ذوي المستوى العالي لمساعدة الطلبة ذوي المستوى المتوسط ودون المتوسط.

إجابة:

9 أ) (لأن $40 = 4 \div 160$ أو لأن $40 \times 4 = 160$ وليس 150).

ب) (لأن ناتج $415 \div 5 = 800$ مكوّن من منزلتين أو $4000 = 5 \times 800$).

تدريب على الاختبارات الدولية:

- أُعْرِفُ الطلّبة بالاختبارات الدولية، وأُبَيِّنُ لهم أهميّتها، ثم أوجّههم إلى حل الأسئلة في بند (تدريب على الاختبارات الدولية) فردياً، ثم أناقشهم في إجاباتها على اللوح.
- أحمّز الطلّبة على الاهتمام بحل هذه الأسئلة ومثيلاتها، والمشاركة في الدراسات وبرامج التقييم الدولية بكل جدّية، وأحرص على تضمين اختباراتي المدرسية نماذج مُمَاثِلَة لهذه الأسئلة.

ملاحظاتي

الوَحْدَةُ 2

$$\begin{array}{r} 14 \quad \quad \quad 0 \quad 6 \quad 2 \\ 4 \overline{) 2 \quad 4 \quad 8} \\ - \quad 2 \quad 4 \quad \quad \quad \\ \hline \quad \quad \quad 0 \quad 8 \quad \quad \quad \\ - \quad \quad \quad \quad 8 \quad \quad \quad \\ \hline \quad \quad \quad \quad \quad 0 \end{array}$$

تدريب على الاختبارات الدولية

15 **عصائر:** مُسْتَوْدَعٌ فِيهِ 152 صُنْدُوقًا مِنَ الْعَصِيرِ، كُلُّ صُنْدُوقٍ فِيهِ 6 عُلَبٍ، كَمْ عَدَدُ عُلَبِ الْعَصِيرِ الْمَوْجُودَةِ فِي الْمُسْتَوْدَعِ؟ 912 علبه.

16 يُبَاعُ أَسْبُوعِيًّا 70 نُسخةً مِنْ مَجَلَّةٍ، الْعَدَدُ التَّقْرِيبيُّ لِنُسخِ الْمَجَلَّةِ الْمَبِيعَةِ سَنَوِيًّا، هُوَ:

- a) 8400 **b) 3500**
c) 84000 d) 35000

17 إِحْدَى عَمَلِيَّاتِ الضَّرْبِ الْآتِيَةِ نَاتِجُهَا أَكْبَرُ مِنْ 600: c

- a) 20×25 b) 15×15
c) 28×32 d) 11×34

18 يَزِيدُ نَاتِجُ 18×25 عَلَى 18×24 بِ:

- a) 1 b) 24
c) 18 d) 25

12 **حَيَوَانَات:** الْجَدُولُ أَدْنَاهُ يَبَيِّنُ مُعَدَّلَ سَاعَاتِ النَّوْمِ فِي الْأُسْبُوعِ لِبَعْضِ الْحَيَوَانَاتِ:



الْحَيَوَانُ	عَدَدُ السَّاعَاتِ
السَّلْحَفَاءُ الْعِمْلَاقَةُ	152
الْكُوَالَا	140
الْأَسَدُ	112
الْقَطُّ	77
السَّنَجَابُ	92

- a) أَقْدَرُ عَدَدَ سَاعَاتِ نَوْمِ السَّلْحَفَاءِ الْعِمْلَاقَةِ فِي الْيَوْمِ. 20 ساعة.
- b) أَقْدَرُ عَدَدَ سَاعَاتِ نَوْمِ الْكُوَالَا فِي الشَّهْرِ. 600 ساعة.
- c) أَقْدَرُ كَمْ ضِعْفًا يَزِيدُ عَدَدُ سَاعَاتِ نَوْمِ الْكُوَالَا عَلَى عَدَدِ سَاعَاتِ نَوْمِ الْقَطِّ. ضعفان.

أُجْمَلُ الْفَرَاعَاتِ لِإِتْمَامِ عَمَلِيَّتِي الضَّرْبِ وَالْقِسْمَةِ الْآتِيَتَيْنِ:

$$\begin{array}{r} 13 \quad \quad \quad 4 \quad 7 \quad 4 \\ \times \quad \quad \quad 2 \quad 9 \\ \hline 4 \quad 2 \quad 6 \quad 6 \\ + \quad 9 \quad 4 \quad 8 \quad 0 \\ \hline 1 \quad 3 \quad 7 \quad 4 \quad 6 \end{array}$$

كتاب التمارين

النَّوْحَةُ 2

الضَّرْبُ وَالْقِسْمَةُ

أَسْتَعِدُّ لِإِرْسَابِ النَّوْحَةِ

الضَّرْبُ فِي عَدَدٍ مِنْ مَنزِلَةٍ وَاحِدَةٍ بِاسْتِعْمَالِ خَاصِيَةِ التَّوْزِيعِ (الدَّرْسُ 1)

أُحْمِلُ القَرَابِطِ؛ لِأَجْدُ نَاتِجَ الضَّرْبِ فِي كُلِّ مِمَّا يَأْتِي:

8 $7 \times 242 = 7 \times (200 + 40 + 2)$
 $= 1400 + 280 + 14$
 $= 1694$

9 $5 \times 329 = 5 \times (300 + 20 + 9)$
 $= 1500 + 100 + 45$
 $= 1645$

أَجْدُ نَاتِجَ كُلِّ مِمَّا يَأْتِي:

10 $8 \times 253 = 2024$ 11 $7 \times 481 = 3367$ 12 $4 \times 936 = 3744$

مِثَالٌ: أَجْدُ نَاتِجَ 5×571

أَقْدُرُ: $5 \times 571 \rightarrow 5 \times 600 = 3000$

أَكْتُبُ العَدَدَ 571 بِالصِّيْغَةِ التَّحْلِيلِيَّةِ
 أَسْتَعْمِلُ خَاصِيَةَ التَّوْزِيعِ
 أَجْدُ نَاتِجَ الضَّرْبِ
 أَجْمَعُ

أَبْدَأُ بِإِيجَادِ قِيَمَةِ تَقْدِيرِيَّةٍ لِإِجَابَةِ، ثُمَّ أَسْتَعْمِلُهَا
 لِتَحْكُمِ عَلَى مَعْرُوفِيهِ الإِجَابَةِ الدَّقِيقَةِ.

$5 \times 571 = 5 \times (500 + 70 + 1)$
 $= (5 \times 500) + (5 \times 70) + (5 \times 1)$
 $= 2500 + 350 + 5$
 $= 2855$

$5 \times 571 = 5 \times 600 - 5 \times 29$
 $= 3000 - 145$
 $= 2855$

18

النَّوْحَةُ 2

الضَّرْبُ وَالْقِسْمَةُ

أَسْتَعِدُّ لِإِرْسَابِ النَّوْحَةِ

إِيجَادُ صِغْفِ عَدَدٍ مَعْوَنٍ مِنْ مَنزِلَتَيْنِ ذَهَبِيًّا (الدَّرْسُ 1)

أَجْدُ صِغْفَ العَدَدِ:

1 25 50 2 36 72
 3 15 30 4 14 28

أُحْمِلُ سِلْسِلَةَ المُصَاعَفَاتِ:

5 2 → 4 → 8 6 7 → 14 → 28 7 11 → 22 → 44

مِثَالٌ: أَجْدُ صِغْفَ العَدَدِ 32

أَبْدَأُ بِإِيجَادِ مُصَاعَفَاتِ عَدَدٍ تُعَيِّنُ جَمْعَ العَدَدِ مَع نَفْسِهِ.

32
 30 + 2
 صِغْفُ العَدَدِ 30 هُوَ 60 صِغْفُ العَدَدِ 2 هُوَ 4
 $60 + 4 = 64$
 إِذَنْ، صِغْفُ العَدَدِ 32 هُوَ 64

17

النَّوْحَةُ 2

الضَّرْبُ وَالْقِسْمَةُ

أَسْتَعِدُّ لِإِرْسَابِ النَّوْحَةِ

تَقْدِيرُ نَاتِجِ ضَرْبِ عَدَدٍ مِنْ 3 مَنَزَلَاتٍ فِي عَدَدٍ مِنْ مَنزِلَةٍ وَاحِدَةٍ (الدَّرْسُ 2)

أَقْدُرُ نَاتِجَ ضَرْبِ كُلِّ مِنَ الأَعْدَادِ الآتِيَةِ:

28 $521 \times 4 = 2000$ 29 $627 \times 6 = 3600$
 30 $782 \times 3 = 2400$ 31 $270 \times 5 = 1500$

مِثَالٌ: أَقْدُرُ نَاتِجَ: 5×378

خَطْوَةٌ 1: أَوْرَثُ العَدَدَ الأَكْبَرَ إِلَى أَعْلَى مَنزِلَةٍ.
 5×378
 \downarrow
 5×400

خَطْوَةٌ 2: أَضْرِبُ ذَهَبِيًّا.
 $5 \times 400 = 2000$

إِذَنْ، تَقْدِيرُ نَاتِجِ 5×378 يُسَاوِي 2000 تَقْرِيْبًا.

تَقْدِيرُ نَاتِجِ ضَرْبِ عَدَدٍ مِنْ مَنزِلَتَيْنِ فِي عَدَدٍ مِنْ مَنزِلَتَيْنِ (الدَّرْسُ 2)

أَقْدُرُ نَاتِجَ ضَرْبِ كُلِّ مِنَ الأَعْدَادِ الآتِيَةِ:

32 $34 \times 72 = 2100$ 33 $23 \times 82 = 1600$ 34 $56 \times 31 = 1800$
 35 $77 \times 12 = 800$ 36 $24 \times 47 = 1000$ 37 $91 \times 35 = 3600$

20

النَّوْحَةُ 2

الضَّرْبُ وَالْقِسْمَةُ

أَسْتَعِدُّ لِإِرْسَابِ النَّوْحَةِ

الضَّرْبُ الذَّهَبِيُّ فِي مُصَاعَفَاتِ 100، 100، 1000 (الدَّرْسُ 2)

أَجْدُ نَاتِجَ كُلِّ مِمَّا يَأْتِي ذَهَبِيًّا:

13 $3 \times 9 = 27$ 14 $40 \times 8 = 320$ 15 $200 \times 7 = 1400$
 16 $8 \times 7 = 56$ 17 $60 \times 8 = 480$ 18 $500 \times 9 = 4500$

19 $8 \times 4000 = 32000$ 20 $2 \times 30 = 60$ 21 $8 \times 50 = 400$
 22 $7 \times 8000 = 56000$ 23 $8 \times 300 = 2400$ 24 $4 \times 900 = 3600$
 25 $5 \times 700 = 3500$ 26 $3 \times 2000 = 6000$ 27 $6 \times 8000 = 48000$

مِثَالٌ: أَجْدُ نَاتِجَ 4×6000 ذَهَبِيًّا.

أَسْتَعْمِلُ خَفَائِقَ الضَّرْبِ الأَسَاسِيَّةِ وَالْأَمَامَطَ.
 حَقِيقَةُ ضَرْبِ أَسَاسِيَّةٍ
 أَسْتَعْمِلُ الأَمَامَطَ

$4 \times 6 = 24$
 $4 \times 60 = 240$
 $4 \times 600 = 2400$
 $4 \times 6000 = 24000$

إِذَنْ، نَاتِجُ 4×6000 يُسَاوِي 24000

19

كتاب التمارين

الْوَحْدَةُ 2

الضرب والقسمة

أستعد لإدراة الوحدَة

• ضرب عدد من منزلتين في عدد من منزلتين باستخدام خوارزمية الضرب (الدرس 4)

أجد ناتج كل مما يأتي:

47 $45 \times 45 = 2025$ 48 $13 \times 97 = 1261$ 49 $26 \times 88 = 2288$

50 $34 \times 72 = 2448$ 51 $52 \times 67 = 3484$ 52 $31 \times 54 = 1674$

مثال: أجد ناتج: 42×16

أقرب: $24 \times 16 \rightarrow 40 \times 20 = 800$

الخطوة 1: أضرب الأحاد: $\begin{array}{r} 1 \\ 42 \\ \times 16 \\ \hline 252 \\ 840 \\ \hline \end{array}$

الخطوة 2: أضرب العشرات: $\begin{array}{r} 42 \\ \times 16 \\ \hline 252 \\ 840 \\ \hline \end{array}$

الخطوة 3: أجمع: $\begin{array}{r} 42 \\ \times 16 \\ \hline 252 \\ 840 \\ \hline 672 \end{array}$

إذن: $42 \times 16 = 672$

• تقدير ناتج القسمة على عدد من منزلة واحدة (الدرس 5)

أقرب ناتج كل مما يأتي:

53 $312 \div 6 = 50$ 54 $435 \div 8 = 50$

55 $421 \div 7 = 60$ 56 $543 \div 9 = 60$

57 $281 \div 7 = 40$ 58 $264 \div 6 = 40$

22

الْوَحْدَةُ 2

الضرب والقسمة

أستعد لإدراة الوحدَة

مثال: أقرب ناتج: 17×92

الخطوة 1: أقرب العددين إلى أعلى منزلة: $\begin{array}{r} 17 \times 92 \\ \downarrow \quad \downarrow \\ 20 \times 90 \end{array}$

الخطوة 2: أجد ناتج الضرب باستخدام خصائص الضرب الأساسية والأنماط: $20 \times 90 = 1800$

إذن: تقدير ناتج: 17×92 يساوي 1800 تقريبًا.

• ضرب عدد من 3 منازل في عدد من منزلة واحدة باستخدام خوارزمية الضرب (الدرس 3)

أجد ناتج كل مما يأتي:

38 $8 \times 253 = 2024$ 39 $7 \times 481 = 3367$ 40 $4 \times 936 = 3744$

41 $6 \times 454 = 2724$ 42 $7 \times 408 = 2856$ 43 $5 \times 502 = 2510$

44 $9 \times 275 = 2475$ 45 $8 \times 252 = 2016$ 46 $3 \times 689 = 2067$

مثال: أجد ناتج: 3×785

أقرب: $785 \times 3 \rightarrow 800 \times 3 = 2400$

الخطوة 1: أضرب الأحاد: $\begin{array}{r} 1 \\ 785 \\ \times 3 \\ \hline 2355 \end{array}$

الخطوة 2: أضرب العشرات: $\begin{array}{r} 21 \\ 785 \\ \times 3 \\ \hline 2355 \end{array}$

الخطوة 3: أضرب المئات: $\begin{array}{r} 21 \\ 785 \\ \times 3 \\ \hline 2355 \end{array}$

إذن: $3 \times 785 = 2355$

21

الْوَحْدَةُ 2

الضرب والقسمة

أستعد لإدراة الوحدَة

مثال: أجد ناتج: $294 \div 6$

الخطوة 1: أقيم المئات: $\begin{array}{r} 49 \\ 6 \overline{) 294} \\ \underline{- 24} \\ 54 \\ \underline{- 54} \\ 0 \end{array}$

بما أن $2 < 6$ ، إذن لا يوجد مئات كافية للقسمة على 6

الخطوة 2: أقيم العشرات: $\begin{array}{r} 49 \\ 6 \overline{) 294} \\ \underline{- 24} \\ 54 \\ \underline{- 54} \\ 0 \end{array}$

أقيم: $29 \div 6 = 4$
أضرب: $4 \times 6 = 24$
أطرح: $29 - 24 = 5$
أقرب: $5 < 6$

الخطوة 3: أقيم الأحاد: $\begin{array}{r} 49 \\ 6 \overline{) 294} \\ \underline{- 24} \\ 54 \\ \underline{- 54} \\ 0 \end{array}$

أقول الأحاد: $54 \div 6 = 9$
أضرب: $9 \times 6 = 54$
أطرح: $54 - 54 = 0$
أقرب: $0 < 6$

إذن: ناتج $294 \div 6$ يساوي 49

أتحقق من صحة الإجابة: أستعمل الضرب لأتحقق من صحة الإجابة: $49 \times 6 = 294$ ✓

24

الْوَحْدَةُ 2

الضرب والقسمة

أستعد لإدراة الوحدَة

أصل كل عملية بالتقدير المناسب:

$161 \div 8$ $412 \div 5$ $215 \div 3$ $624 \div 3$

70 200 20 80

مثال: أقرب ناتج: $290 \div 6$

أقرب إلى أعلى منزلة: $290 \rightarrow 300$

أقرب المقسوم إلى أعلى منزلة: $300 \div 6 = 50$

أكتب عملية القسمة: $300 \div 6 = 50$

قسمة مضاعفات 100: $300 \div 6 = 50$

أي إن ناتج: $290 \div 6$ قريب من 50

أتحقق باستخدام الضرب: $6 \times 50 = 300$

• قسمة عدد من 3 منازل على عدد من منزلة واحدة (الدرسان 6 و 7)

أجد ناتج ما يأتي:

59 $954 \div 3 = 318$ 60 $414 \div 3 = 138$ 61 $405 \div 5 = 81$

62 $815 \div 5 = 163$ 63 $628 \div 4 = 157$ 64 $488 \div 4 = 122$

65 $92 \div 7 = 13$ والباقي 1 66 $675 \div 6 = 112$ والباقي 3 67 $597 \div 8 = 74$ والباقي 5

23

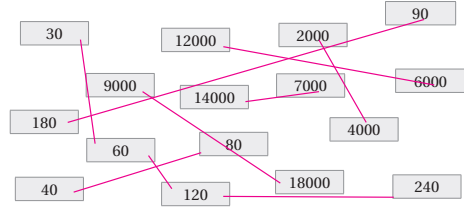
كتاب التمارين

الدرس 1 الضرب الذهني

أصعب وأصعب كل عدد مما يأتي:

الضَّعْف	العدَد	النَّصْف
48	24	12
32	16	8
44	22	11
88	44	22

أصِل العدَدَ بِضِعْفِهِ:



أجِد ناتج كل مما يأتي باستخدام المضاعفة والتصنيف:

- 4 $35 \times 16 = 70 \times 8 = 560$
- 5 $15 \times 80 = 30 \times 40 = 1200$
- 6 $45 \times 12 = 90 \times 6 = 540$
- 7 $25 \times 16 = 50 \times 8 = 400$

26

الوحدة 2

الضرب والقسمة

أستعد لإدراية الوحدة

القسمة مع وجود أضرار في الناتج (الدَّرْسَان 6 و 7)

أجِد ناتج كل مما يأتي:

- 68 $622 \div 3 = 207$ والباقي 1
- 69 $813 \div 2 = 406$ والباقي 1
- 70 $824 \div 4 = 206$
- 71 $654 \div 6 = 109$
- 72 $605 \div 3 = 201$ والباقي 2
- 73 $803 \div 4 = 200$ والباقي 3

مثال: أجِد ناتج $413 \div 4$:

أستعمل القسمة الطويلة:

$$\begin{array}{r} 103 \\ 4 \overline{) 413} \\ \underline{4} \\ 01 \\ \underline{0} \\ 13 \\ \underline{12} \\ 1 \end{array}$$

أقسِم: $4 \div 4 = 1$
أضرب: $1 \times 4 = 4$
أطرح: $4 - 4 = 0$
أقسِم: $1 < 4$ لا يوجد عشرات تكفي لقسمتها على 4، أضع 0 فوق منزلة العشرات.
أضرب: $0 \times 4 = 0$
أقسِم: $13 \div 4 = 3$
أضرب: $3 \times 4 = 12$
بما أن الباقي أقل من المنقسم عليه ($1 < 4$)، إذن، أوقف.

أي إن $413 \div 4 = 103$ والباقي 1

25

الدرس 3 الضرب في عدد من منزلة واحدة

أحلِّق القراع لأجِد ناتج الضرب في كل مما يأتي:

- 1 $7 \times 803 = 5621$
- 2 $9 \times 124 = 1116$

\times	800	3
7	5600	+ 21

\times	100	20	4
9	900	+ 180	+ 36

- 3 $43 \times 8 = (40 + 3) \times 8$
 $= (40 \times 8) + (3 \times 8)$
 $= 320 + 24$
 $= 344$
- 4 $4 \times 742 = 4 \times (700 + 40 + 2)$
 $= (4 \times 700) + (4 \times 40) + (4 \times 2)$
 $= 2800 + 160 + 8$
 $= 2968$

أجِد ناتج كل مما يأتي:

- 5 $3981 \times 6 = 23886$
- 6 $9175 \times 2 = 18350$
- 7 $6392 \times 7 = 44744$

8 أكتب المقدار الآتي بصورة ناتج ضرب عددين:

$$(6000 \times 3) + (70 \times 3) + (4 \times 3) = 6074 \times 3$$

9 تصب خزينة 3 لترات من الماء في الدقاقة الواحدة. ما كمية الماء التي تصبها في 45 دقيقة؟ 135 لترا.

10 أكتب الرقم المنفرد ليصبح عملية الضرب صحيحة:

$$4 \times 2 \times 7 \times 3 = 800 + 280 + 1 \times 2$$

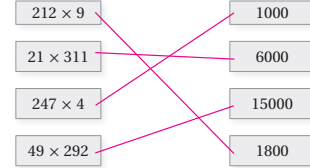
28

الدرس 2 تقدير نواتج الضرب

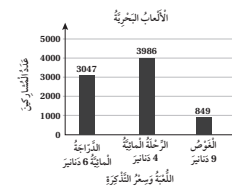
أقدر ناتج كل مما يأتي:

- 1 $4954 \times 4 = 20000$
- 2 $7312 \times 9 = 63000$
- 3 $5198 \times 19 = 100000$
- 4 $59 \times 714 = 42000$
- 5 $2531 \times 14 = 30000$
- 6 $8321 \times 78 = 640000$

7 أصِل بين عملية الضرب والتقدير المناسب لها:



8 أسماك: تصع أثنى سمك البلطي 406 بيضات تقريبا في كل مرة، أقدِّر كم بيضة تصع في 12 مرة، على افتراض أنها تصع في كل مرة العدد نفسه. 4000 بيضة.



الأمهات بحريّة: بيّن التّنبيل بالأعمدة المُجاوِرَ عدداً من الأمهات البحريّة وتمنّ تذكّره كلٌّ منها، وعدد الأسمخاص الذين لعبوا خلالها. أستخدم التّنبيل للإجابة عما يأتي:

- 9 أقدِّر تمنّ التّذاكر المبيّعة في لعبة الدراجة المائية. 18000
- 10 أقدِّر تمنّ التّذاكر المبيّعة في لعبة الغرص. 7200
- 11 أقدِّر تمنّ التّذاكر المبيّعة في الرحلة المائية. 16000
- 12 أقدِّر تمنّ التّذاكر المبيّعة جميعها. 41000

27

كتاب التمارين

الدرس 5 تقدير ناتج القسمة

أوجد ناتج القسمة في كل مما يأتي:

1 $556 \div 6 = 90$ 2 $264 \div 5 = 50$ 3 $809 \div 9 = 90$

4 $312 \div 49 = 6$ 5 $376 \div 39 = 10$ 6 $798 \div 23 = 40$

7 أصل بخط بين عملية القسمة والتقدير المناسب لها:

$883 \div 31$	80
$734 \div 9$	30
$502 \div 49$	50
$327 \div 6$	10

أقترن، ثم أفرز بوضع الرمز (< أو > أو =) في □:

8 $512 \div 52 < 374 \div 9$
التقدير: 10 40

9 $638 \div 8 > 638 \div 80$
التقدير: 8 80

10 $313 \div 30 = 626 \div 60$
التقدير: 10 10

11 إذا كان عدد أيام السنة 365 يوماً، وعدد أيام الأسبوع 7 أيام، فأقدر كم أسبوعاً في السنة. 50

12 تحدد: استعمل الأعداد 3، 4، 6، 8 لتكون مسألة قسمة تقدرها 200. $836 \div 4 = 200$

30

الدرس 4 الضرب في عدد من منزلتين

أجد ناتج الضرب في كل مما يأتي:

1 $66 \times 22 = 1452$ 2 $488 \times 42 = 20496$ 3 $655 \times 32 = 20960$

أكتب رقم المناسب في المربع ليصبح عملية الضرب صحيحة:

4 $\begin{array}{r} 147 \\ \times 17 \\ \hline 2499 \end{array}$ 5 $\begin{array}{r} 65 \\ \times 25 \\ \hline 1625 \end{array}$

6 أملأ الجدول، ثم أكتب مسألة الضرب والناتج:

×	300	40	3
20	6000	800	60
6	1800	240	18

$343 \times 26 = 8918$

7 قياس: فاست حل طول عُزفها بالمتر فوجدت أنها تساوي 25 سم، إذا كان طول شريط خلا 15 cm، فكم طول عُزفها بالسنتيمترات؟ 375

8 مسألة مُتعددة الخطوات: لدى تاجر 5 صناديق تحتوي كل منها على 12 طبقاً من البيض، وفي كل طير 30 بيضة. كم عدد البيض في الصناديق جميعها؟ 1800

9 استعمل الأعداد 2، 4، 6، 8، لا تكتب مسألة ضرب، بحيث أحصل على أكبر ناتج ممكن. $64 \times 82 = 5248$

29

الدرس 7 القسمة مع باقي

أجد الناتج وباقي القسمة:

1 $946 \div 43 = 22$ 2 $638 \div 32 = 30$ والباقي 30 3 $754 \div 16 = 47$ والباقي 2

4 $569 \div 81 = 2$ والباقي 7 5 $523 \div 65 = 3$ والباقي 8 6 $441 \div 23 = 4$ والباقي 19

أعمل عملية القسمة:

7 $\begin{array}{r} 24 \\ 37 \overline{) 921} \\ \underline{- 74} \\ 181 \\ \underline{- 148} \\ 33 \end{array}$ 8 $\begin{array}{r} 26 \\ 24 \overline{) 626} \\ \underline{- 48} \\ 146 \\ \underline{- 120} \\ 26 \end{array}$

9 ترعب قرح في شراء غسالة ثمنها 370 ديناراً، وتنتسطيع أن تدخر في كل شهر 45 ديناراً، فكم شهراً تحتاج لشراء الغسالة؟ أشهر الباقي. 9 أشهر؛ لأن ناتج القسمة 8 والباقي يحتاج إلى شهر إضافي لتوفره.

أقدر ناتج كل عملية قسمة مما يأتي، ثم أجده باستعمال خوارزمية القسمة:

10 $494 \div 19 = 26$ 11 $891 \div 27 = 33$ 12 $851 \div 23 = 37$

التقدير: 25 30 40

13 تحدد: أكتب أصغر عدد مكون من 3 منازل، يمكنني قسمة على 5 ويكون الباقي 6. 106

32

الدرس 6 القسمة من دون باقي

أجد ناتج القسمة في كل مما يأتي، وأتحقق من صحة الإجابة:

1 $621 \div 9 = 69$ 2 $616 \div 4 = 154$ 3 $522 \div 3 = 174$

التحقق: $9 \times 69 = 621$ التحقق: $4 \times 154 = 616$ التحقق: $3 \times 174 = 522$

4 $690 \div 46 = 15$ 5 $575 \div 25 = 23$ 6 $784 \div 14 = 56$

التحقق: $46 \times 15 = 690$ التحقق: $25 \times 23 = 575$ التحقق: $14 \times 56 = 784$

استعمل التجربة لأجد ناتج القسمة في كل مما يأتي:

7 $95 \div 5 = (\frac{50}{5} \div \frac{5}{5}) + (\frac{45}{5} \div \frac{5}{5})$
 $= 10 + 9 = 19$

8 $258 \div 6 = (\frac{240}{6} \div \frac{6}{6}) + (\frac{18}{6} \div \frac{6}{6})$
 $= 40 + 3 = 43$

9 $387 \div 9 = (\frac{360}{9} \div \frac{9}{9}) + (\frac{27}{9} \div \frac{9}{9})$
 $= 40 + 3 = 43$

10 قطعت سيارة مسافة 430 km في 5 ساعات، كم المسافة التي قطعها في الساعة الواحدة على افتراض أن سرعتها ثابتة؟ 86 km

11 تريد وعد أن تقرأ قصة عدد صفحاتها 288 في 9 أيام، كم صفحة ستقرأ في اليوم؟ 32 صفحة.

12 تحدد: استعمل الأعداد 2، 6، 9، لا تكون مسألة قسمة ناتجها 68. $612 \div 9 = 68$

31



مخطط الوحدة



عدد الحصص	الأدوات والمواد	المصطلحات	الأهداف	المحتوى
3	<ul style="list-style-type: none"> بطاقات. أقلام. أوراق. ألواح صغيرة. ورقة المصادر 7 	قابلية القسمة.	<ul style="list-style-type: none"> بحث قابلية القسمة على الأعداد 4 و6 و9. 	الدرس 1: قابلية القسمة على 4، 6، 9.
2	<ul style="list-style-type: none"> بطاقات. أقلام. أوراق. حجر نرد. ألواح صغيرة. 		<ul style="list-style-type: none"> إيجاد العوامل المشتركة بين عددين أو أكثر. 	نشاط مفاهيمي: العوامل المشتركة.
2	<ul style="list-style-type: none"> بطاقات. أقلام. أوراق. حجر نرد. ألواح صغيرة. ورقة المصادر 3 	التحليل إلى العوامل الأولية. شجرة العوامل.	<ul style="list-style-type: none"> تحليل العدد إلى عوامله الأولية. 	الدرس 2: تحليل العدد إلى عوامله الأولية.
2	<ul style="list-style-type: none"> حجر نرد. قلم. أوراق. اللوحة. ألواح صغيرة. 	العوامل المشتركة. العامل المشترك الأكبر.	<ul style="list-style-type: none"> إيجاد العامل المشترك الأكبر لعددين. 	الدرس 3: العامل المشترك الأكبر.
2	<ul style="list-style-type: none"> بطاقات. أقلام. أوراق. حجر نرد. ألواح صغيرة. 	المضاعف. المضاعفات المشتركة. المضاعف المشترك الأصغر.	<ul style="list-style-type: none"> إيجاد المضاعف المشترك الأصغر لعددين. 	الدرس 4: المضاعف المشترك الأصغر.
2	<ul style="list-style-type: none"> ألواح صغيرة. الورقة والقلم. 	مربع العدد. المربع الكامل. الجذر التربيعي.	<ul style="list-style-type: none"> إيجاد مربع العدد، والجذر التربيعي للعدد. 	الدرس 5: مربع العدد والجذر التربيعي.
1				عرض نتائج مشروع الوحدة.
1				اختبار نهاية الوحدة.
15 حصّة				المجموع:

الْوَحْدَةُ

3

خصائص الأعداد

ما أهمية هذه الوحدة؟

ليخصائص الأعداد أهمية كبيرة في حياتنا، ومن ذلك حساب الوقت مثلاً. فإذا كان يجب أن أتساول حبة دواء كل 8 ساعات، وحبة دواء أخرى كل 12 ساعة؛ فإن دراسة بعض خصائص الأعداد في هذه الوحدة، ستمكّنني من معرفة متى يُصادف تناول الدواءين في الوقت نفسه؛ إن أتبعتم النمط بدقة.



نظرة عامة حول الوحدة:

في هذه الوحدة يتعلم الطلبة قواعد القسمة لإيجاد قابلية قسمة عدد على 9, 6, 4. كما يتعلمون طريقة شجرة العوامل وطريقة القسمة المتكررة؛ لإيجاد العوامل الأولية لعدد ما، وتطبيق ما سبق في حلّ مسائل حياتية.

كما سيستعمل الطلبة ما تعلموه من حقائق الضرب الأساسية لمعرفة مربع العدد الكلي، والذي يمكن إيجاد جذره التربيعي.

سأتعلم في هذه الوحدة:

- اختبار قابلية القسمة على الأعداد: 4, 6, 9.
- تحليل عدد إلى عوامله الأولية.
- إيجاد العامل المشترك الأكبر، والمضاعف المشترك الأصغر لعددين مختلفين أو أكثر.
- إيجاد مربع العدد وتحديد الجذر التربيعي للمربع الكامل.

تعلمت سابقاً:

- ✓ اختبار قابلية القسمة على الأعداد: 2, 3, 5, 10.
- ✓ توظيف قابلية القسمة في تحديد عوامل العدد.
- ✓ تمييز الأعداد الأولية من غير الأولية.
- ✓ إيجاد عوامل عدد مكون من منزلتين.

الترابط الراسي بين الصفوف

الصف السادس



- إيجاد المربع الكامل لعدد معطى.
- حساب الجذر التربيعي لمربع كامل ضمن 1000.
- استعمال الجذر التربيعي لمربع كامل في حلّ مسائل.
- إيجاد مكعب عدد معطى.
- حساب الجذر التكعيبي لمكعب كامل ضمن 1000.

الصف الخامس



- اختبار قابلية القسمة على الأعداد 4 و 6 و 9؛ باستعمال حقائق القسمة، مع التبرير.
- تحليل الأعداد إلى عواملها الأولية؛ عن طريق شجرة العوامل، وحلّ مسائل عليها.
- إيجاد القاسم المشترك الأكبر بين عددين، وحلّ مسائل عليه.
- إيجاد المضاعف المشترك الأصغر بين عددين، وحلّ مسائل عليه.
- إيجاد مربع العدد والجذر التربيعي للمربع الكامل.

الصف الرابع



- اختبار قابلية القسمة على الأعداد 2 و 3 و 5 و 10؛ باستعمال حقائق القسمة، مع التبرير.
- إيجاد عوامل عدد ما.
- تمييز الأعداد الأولية من الأعداد غير الأولية (باستعمال قابلية القسمة).
- إيجاد مضاعفات أعداد كلية.

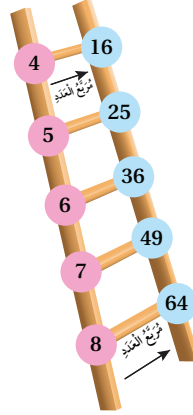

مشروع الوحدة: أنا نجار

هدف المشروع:

يهدف هذا المشروع إلى تعزيز مهارات البحث عند الطلبة، والعمل بروح الفريق لتحقيق النجاح وتنمية الثقة بالنفس ومهارات التواصل، وتطبيق الرياضيات في حياتنا اليومية.

خطوات تنفيذ المشروع:

- أوزع الطلبة في مجموعات.
- ناقش الطلبة في مشروع الوحدة، وأتأكد من وضوح خطوات تنفيذه للجميع.
- أعرف الطلبة بأهمية المشروع في تنمية مهارات الحساب والتفكير والعمل بروح الفريق الواحد.
- عند انتهاء الوحدة، أحدد وقتاً مناسباً لعرض النتائج التي توصل إليها الطلبة وأناقشهم فيها.
- أطلب إلى طلبة المجموعة جميعهم، المشاركة في عرض جزء من نتائج المشروع.
- أناقش الطلبة في معايير تقييم عملهم بالاستعانة بسلم التقدير.



أَسْتَعِدُّ وَزُمَلَائِي/زُمِلَاتِي لِتَنْفِيذِ مَشْرُوعِي الْفِرَاقِ الَّذِي سَأَسْتَعْمِلُ فِيهِ مَا تَعَلَّمْتُهُ فِي هَذِهِ الْوَحْدَةِ لِصُنْعِ سُلَمٍ مُرَبَّعَاتِ الْأَعْدَادِ.

المواد والأدوات اللازمة:

قِطْعٌ مِنَ الْفَلِينِ أَطْوَالُهَا (45 cm, 30 cm, 60 cm, 60 cm)، لاصِقٌ، قِطْعٌ كَرْتُونٍ صَغِيرَةٌ مُلَوَّنَةٌ، أَقْلَامٌ تَلْوِينِ.

خطوات تنفيذ المشروع:

عرض النتائج:

- أَكْتُبُ تَقْرِيراً أُبَيِّنُ فِيهِ:
 - خُطُواتِ عَمَلِ الْمَشْرُوعِ، وَالنَتَائِجَ الَّتِي تَوَصَّلْتُ إِلَيْهَا.
 - الصُّعُوباتِ الَّتِي واجهتني في أثناء تَنْفِيذِ الْمَشْرُوعِ، وَأَنْشِطَتِي.
 - سُرْحاً مُخْتَصِراً لِكُلِّ خُطْوَةٍ فِيهِ.
- أَعْرِضُ السُّلَمَ أَمَامَ الصَّفِّ، وَأُبَيِّنُ النَتَائِجَ الَّتِي تَوَصَّلْتُ إِلَيْهَا حَوْلَ مُرَبَّعَاتِ الْأَعْدَادِ وَالْعَابِلِ الْمَشْتَرَكِ الْأَكْبَرَ.

- 1 أَجْعَلُ قِطْعَتِي الْفَلِينِ الْمُسَاوِيَتَيْنِ فِي الطُّولِ حَافَتِي السُّلَمِ.
- 2 أَسْتَعْمِلُ (العابِلَ الْمُشْتَرَكِ الْأَكْبَرَ) لِأَقْسِمَ الْقِطْعَتَيْنِ اللَّتَيْنِ طُولَاهُمَا 45 cm و 30 cm إِلَى قِطْعِ مُتَسَاوِيَةِ الطُّولِ، وَأَصْنَعُ مِنْهَا دَرَجَاتِ السُّلَمِ.
- 3 أَصْنَعُ نَمُودَ جَا يَزِيْطُ الْعَدَدَ بِمُرَبَّعِهِ بِقِصِّ قِطْعِ الْكَرْتُونِ الْمُلَوَّنِ عَلَى شَكْلِ دَائِرَةٍ، وَكِتَابَةِ الْأَعْدَادِ وَمُرَبَّعَاتِهَا عَلَى الْقِطْعِ، مَعَ صَرُورَةِ تَحْدِيدِ لَوْنٍ لِلْأَعْدَادِ وَلَوْنٍ آخَرَ لِمُرَبَّعَاتِهَا.

أداة تقويم المشروع

الرقم	المعيار	1	2	3
1	إنهاء خطوات المشروع كما هو مطلوب.			
2	تنظيم نتائج المشروع وعرضها بشكل مناسب على الكرتونة البيضاء أو برنامج (بوربوينت - PowerPoint).			
3	تنظيم محتويات المطوية من حيث: الترتيب، الوضوح، الجمال والجاذبية.			
4	مميّزات أسلوب عرض النتائج: الثقة بالنفس، الصوت الواضح، توزيع النظر، وضوح المعلومة وبيانها.			
5	قص الفلين وتلوينه بشكل منتظم ومرتب.			
6	لصق القطع بشكل منتظم ومرتب.			

1 إنجاز المهمة بوجود أكثر من خطأ.

2 إنجاز المهمة بوجود خطأ بسيط.

3 إنجاز المهمة بصورة صحيحة من دون خطأ.

هدف النشاط:

- اختبار إذا كان ناتج جملة ضرب قابلاً للقسمة على الأعداد 4 و6 و9

المواد والأدوات:

ورقة المصادر 7: ناتج الضرب وقابلية القسمة.

خطوات العمل:

- أقسم الطلبة إلى مجموعات ثنائية، وأزود كل مجموعة ببطاقات مسائل الضرب من ورقة المصادر 7
- أطلب إلى المجموعات إيجاد ناتج الضرب للمسائل على كل بطاقة، وتحديد إذا كان ناتج الضرب قابلاً للقسمة على 4, 6, 9.
- أسأل الطلبة: إذا كان أحد العددين المضروبين قابلاً للقسمة على العدد 4 مثلاً، فهل ناتج الضرب للعددين يقبل القسمة على 4؟
- أكرّر السؤال نفسه بعدد من مضروبين آخرين وقابلية القسمة على العدد 6، والعدد 9.
- أوجه الطلبة إلى استنتاج أن ضرب عددين لن يغير من قابلية القسمة.

هدف النشاط:

إيجاد العامل المشترك الأكبر لعددين.

خطوات العمل:

- أقسم الطلبة إلى 4 مجموعات.
- أعطى المجموعة الأولى 5 بطاقات على كل بطاقة عدنان مختلفان، وأطلب إليهم كتابة العامل المشترك الأكبر للعددين المكتوبين على كل بطاقة.
- أعطى المجموعة الثانية 5 بطاقات على كل بطاقة عدنان مختلفان، وأطلب إليهم كتابة العامل المشترك الأكبر للعددين المكتوبين على كل بطاقة.
- أعطى المجموعة الثالثة 5 بطاقات على كل بطاقة عدنان مختلفان، وأطلب إليهم كتابة العامل المشترك الأكبر للعددين المكتوبين على كل بطاقة.
- أعطى المجموعة الرابعة 5 بطاقات على كل بطاقة عدنان مختلفان، وأطلب إليهم كتابة العامل المشترك الأكبر للعددين المكتوبين على كل بطاقة.
- تفوز المجموعة التي تكتب العامل المشترك للبطاقات جميعها بصورة صحيحة وفي الوقت المحدد.

ملحوظة: الأعداد جميعها تكون بين 10 و99

هدف النشاط:

معرفة أنه ليس بالضرورة أن يكون ناتج جمع مربع أي عددين هو مربع كامل.

خطوات العمل:

- أقسم الطلبة إلى مجموعات ثنائية.
- أطلب إلى كل فرد في المجموعة كتابة عدد يختلف عن الآخر على لوحه الصغير، بحيث تكون الأعداد بين (10 - 1).
- أطلب إلى فردي المجموعة تبادل لوحيهما الصغيرين، وإيجاد مربع العدد الذي كتبه زميله/ زميلته، ثم جمع المربعين معاً لمعرفة أن ناتج الجمع هو مربع كامل أم لا.
- أطلب إلى المجموعات تكرار النشاط أكثر من مرة، وأوجههم إلى استنتاج أن ناتج جمع مربع أي عددين ليس بالضرورة أن يكون مربعاً كاملاً.

هدف النشاط:


تصميم بطاقة لمفاهيم ومصطلحات الدروس.

✂️ المواد والأدوات:

بطاقات وأقلام.

خطوات العمل:

- أوزع الطلبة في مجموعات ثنائية.
- أطلب إلى الطلبة تصميم بطاقات لمفاهيم الدروس ومصطلحاتها، بحيث تكون نموذجاً بصرياً لمصطلحات الدروس، يساعدهم على تذكرها.
- تتضمن البطاقة التعريف ورسمًا أو صورة أو شكلاً، ومثالاً على المصطلح، وسؤالاً عليه، كما في البطاقة أدناه:

نموذج		المربع الكامل للعدد	
التعريف	صورة أو رسم	مثال	سؤال
هو ناتج ضرب العدد الكلي في نفسه.		مربع العدد 4 هو 4^2 أو $4 \times 4 = 16$	أي الأعداد الآتية مربع كامل؟
		لذا، 16 مربع كامل	64 27 15

المصطلح		التعريف	صورة أو رسم
مثال	سؤال		



أَسْتَكْشِفُ

أرادت أسماء وأخوها زراعة 612 بذرة؛ فهل تستطيع تقسيم البذور في 4 أوعية بالتساوي؟

فِكْرَةُ الدَّرْسِ

أَبْحَثْ قابليَّةَ القِسْمَةِ على الأعداد 4, 6, 9.

الْمُضْطَلْحَاتُ

قَوَاعِدُ قابليَّةِ القِسْمَةِ

أَتَعَلَّمُ

تَعَلَّمْتُ سابقاً أنَّ العَدَدَّ يَكُونُ قابِلاً لِلْقِسْمَةِ على عَدَدٍ آخَرَ، إِذَا كَانَ باقِي القِسْمَةِ يُساوي صِفْراً. تُسَاعِدُنَا قَوَاعِدُ قابليَّةِ القِسْمَةِ (Divisibility rules) على تحديد ما إذا كان عَدَدٌ يَقْبَلُ القِسْمَةَ على عَدَدٍ آخَرَ دونَ إِجْرَاءِ عَمَلِيَّةِ القِسْمَةِ. لَذا، سَأَتَعَلَّمُ القَوَاعِدَ قابليَّةِ القِسْمَةِ على 4 و 6 و 9.

يَقْبَلُ العَدَدُّ القِسْمَةَ على 9

يَقْبَلُ العَدَدُّ القِسْمَةَ على 6

يَقْبَلُ العَدَدُّ القِسْمَةَ على 4

إِذَا كَانَ مَجْمُوعُ أَرْقَامِ مَنَازِلِهِ يَقْبَلُ القِسْمَةَ على 9.

إِذَا كَانَ العَدَدُّ يَقْبَلُ القِسْمَةَ على 2 و 3 مَعاً فِي الوَقْتِ نَفْسِهِ.

إِذَا كَانَ أَوَّلُ رَقْمَيْنِ (أَحَادُ العَدَدِّ وَعَشْرَاتُهُ) يَقْبَلَانِ القِسْمَةَ على 4.

مِثَالُ 1

2 أَبْحَثْ قابليَّةَ قِسْمَةِ العَدَدِّ 1836 على 9

1836
↑

بِمَا أَنَّ مَجْمُوعَ أَرْقَامِهِ:

$$1 + 8 + 3 + 6 = 18$$

وَالعَدَدُّ 18 يَقْبَلُ القِسْمَةَ على 9

لَذا، فَإِنَّ العَدَدَّ 1836 يَقْبَلُ القِسْمَةَ على 9

1 أَبْحَثْ قابليَّةَ قِسْمَةِ العَدَدِّ 4816 على 4

4816
↑

الْأَحَادُ وَالْعَشْرَاتُ 16

العَدَدُّ 16 يَقْبَلُ القِسْمَةَ على 4

لَذا، فَإِنَّ العَدَدَّ 4816 يَقْبَلُ القِسْمَةَ على 4

نَتَاجَاتُ الدَّرْسِ:

- اختبار قابلية القسمة على الأعداد 4, 6, 9.

نَتَاجَاتُ التَّعَلُّمِ القَبْلِيِّ:

- اختبار قابلية القسمة على الأعداد 2 و 3 و 5 و 10
- إيجاد مضاعفات العدد 9
- إيجاد مضاعفات العدد 6
- إيجاد مضاعفات العدد 4

مَراجِعَةُ التَّعَلُّمِ القَبْلِيِّ ومعالِجَةُ الفَاقِدِ التَّعْلِيمِيِّ:

أَسْتَرشِدُ بالإجْرَاءاتِ المَبِينَةِ في مَقْدَمَةِ دَلِيلِ المَعْلَمِ (الصَّفْحَتانِ 1 و 2) المَتعلِّقَةِ بمَراجِعَةِ التَّعَلُّمِ القَبْلِيِّ ومعالِجَةِ الفَاقِدِ التَّعْلِيمِيِّ لَدَى الطَّلَبَةِ.

التَّهْيِئَةُ

1

- أضع على الطاولة أمام الطلبة 20 مكعباً، ثم أسألهم:
 - « هل نستطيع تقسيم المكعبات إلى 4 مجموعات متساوية؟ نعم.
 - « هل نستطيع تقسيم المكعبات إلى 6 مجموعات متساوية؟ لا.
 - « هل نستطيع تقسيم المكعبات إلى 9 مجموعات متساوية؟ لا.
- أعرِّز الإجابات الصحيحة.

المفاهيم العابرة للمواد:

أؤكد على المفاهيم العابرة للمواد حيثما وردت في كتاب الطالب أو التمارين، في فقرة استكشاف، أعزز الوعي بالتفكير الإبداعي عند الطلبة وأناقشهم في أهمية الزراعة إذ تُعدّ مصدرًا رئيسًا، وتوفير فرص عمل للعاطلين عن العمل وغيرها.

ملاحظات

• أوجّه الطلبة إلى قراءة المسألة في فقرة **استكشاف**، وأسأل:

- « ما أهمية الزراعة في حياتنا؟ **مصدر غذائي مهم للكائنات الحية.**
- « لماذا نهتم بزراعة الأشجار في صفوف متساوية؟ **لتهويتها، ولجمال المنظر.**
- « هل يجب ترك مسافات بين الأشجار عند زراعتها؟ **نعم، لتهويتها ولتنظيم سقي الأشجار.**
- « إذا أردت أسماء زراعة 612 بذرة، فهل تستطيع تقسيم البذور في 4 أوعية متساوية؟ **نعم يمكنها ذلك، ويكون في كل وعاء 153 بذرة.**
- « هل توجد طريقة غير القسمة الطويلة تمكّننا من معرفة قابلية القسمة على العدد 4؟ **نعم توجد طريقة.**

• أوجّه الطلبة إلى وجود طرائق مختلفة للتأكد من وجود باقٍ عند قسمة عدد على عدد آخر، والتي سيتعرفونها عن طريق الدرس.

• أعزز الإجابات الصحيحة.

التدريس

3

- أذكر الطلبة بمفهوم قابلية قسمة عدد على عدد آخر، وعلاقة ذلك بباقي القسمة.
- أذكر الطلبة بوجود مجموعة من القواعد يمكن من خلالها معرفة ما إذا كان العدد يقبل القسمة على بعض الأعداد أم لا، منها قواعد قابلية القسمة على 2 و3 و5 و10 التي درسوها سابقًا في الصف الرابع، ثم أقدم لهم مجموعة من الأمثلة على ذلك.
- أقدم للطلبة قواعد قابلية القسمة على 4 و6 و9، وأعززها بتقديم أمثلة توضيحية.

تعزيز اللغة ودعمها:

أكرّر المصطلح: (قواعد، قابلية القسمة) أمام الطلبة، وأحرص على استعماله من قبلهم.

مثال 1

- أناقش الطلبة في حلّ الفرع 1 من المثال 1 على اللوح عن طريق توجيه السؤالين الآتيين:
 - « هل يقبل العدد 16 القسمة على 4؟ **نعم.**
 - « هل يقبل العدد 4816 القسمة على 4؟ **نعم.**
- أبين للطلبة أنّ العدد 4816 يقبل القسمة على 4؛ لأنّ العدد 16 يقبل القسمة على 4.
- أناقش الطلبة في حلّ الفرع 2 من المثال 1 على اللوح عن طريق توجيه الأسئلة الآتية:
 - « ما مجموع منازل العدد 1836؟ **18**
 - « هل يقبل مجموع منازل العدد 1836 القسمة على 9؟ **نعم.**
 - « هل يقبل العدد 1836 القسمة على 9؟ **نعم.**
- أبين للطلبة أنّ العدد 1836 يقبل القسمة على 9؛ لأنّ مجموع أرقامه يقبل القسمة على 9.

التقويم التكويني:



أطلب إلى الطلبة حلّ تدريب (أتحقّق من فهمي) بعد كلّ مثال. أختار بعض الإجابات التي تحتوي على أخطاء مفاهيمية، وأناقش الطلبة فيها على اللوح. لا أذكر اسم صاحب الحلّ أمام الصفّ تجنبًا لإحراجهم.

أَتَحَقَّقُ مِنْ فَهْمِي:

- 1 أبحثُ قابليَّةَ قِسْمَةِ العَدَدِ 5124 على 4. يقبل العدد 5124 القسمة على 4؛ لأنَّ 24 تقبل القسمة على 4.
- 2 أبحثُ قابليَّةَ قِسْمَةِ العَدَدِ 1233 على 9. مجموع أرقام العدد 1233 يساوي 9؛ أي إنه يقبل القسمة على 9.

لقابليَّةِ القِسْمَةِ الكَثِيرِ مِنَ التَّطبيقاتِ الحَيَاتِيَّةِ، كما في المِثَالِ الآتِي:

مِثَالُ 2: مِنَ الحَيَاةِ

عُلُومٌ: يَزْعَبُ مُعَلِّمُ العُلُومِ فِي تَوَازِيحِ 118 شَرِيحَةَ مِجْهَرِيَّةٍ عَلَى 6 مَجْمُوعَاتٍ مِنَ الطَّلِبَةِ فِي المِخْتَبَرِ. فَهَلْ يُمَكِّنُهُ تَوَازِيحُهَا بِيْنَهَا بِالتَّساوِي؟
لِتَحْدِيدِ مَا إِذَا كَانَ يُمَكِّنُ تَوَازِيحِ 118 شَرِيحَةَ مِجْهَرِيَّةٍ بِالتَّساوِي بِيْنَ 6 مَجْمُوعَاتٍ، أختَبِرُ قابليَّةَ قِسْمَةِ العَدَدِ 118 على 6.
• العَدَدُ 118 يَقْبَلُ القِسْمَةَ على 2 لِأَنَّ أَحَادَهُ عَدَدٌ زَوْجِيٌّ.
• العَدَدُ 118 لَا يَقْبَلُ القِسْمَةَ على 3 لِأَنَّ مَجْمُوعَ أَرْقَامِهِ 10
إِذَنْ: العَدَدُ 118 لَا يَقْبَلُ القِسْمَةَ على 6 لِأَنَّهُ لَا يَقْبَلُ القِسْمَةَ على 3
إِذَنْ: لَا يُمَكِّنُ تَوَازِيحِ 118 شَرِيحَةَ مِجْهَرِيَّةٍ عَلَى 6 مَجْمُوعَاتٍ بِالتَّساوِي.



التفكير

- يَقْبَلُ العَدَدُ القِسْمَةَ على 2: إِذَا كَانَ العَدَدُ زَوْجِيًّا.
- يَقْبَلُ العَدَدُ القِسْمَةَ على 3: إِذَا كَانَ مَجْمُوعُ أَرْقَامِ مَنَازِلِهِ يَقْبَلُ القِسْمَةَ على 3.

144 العدد يقبل القسمة على 2؛ لأنه عدد زوجي، ويقبل القسمة على

أَتَحَقَّقُ مِنْ فَهْمِي: 3؛ لأنَّ مجموع أرقامه 9. إذن: 144 يقبل القسمة على 6.

صُورَةٌ: التَّقَطُّ مَصُورٌ 144 صُورَةً لِسَدِّ وادي العَرَبِ. هَلْ يُمَكِّنُهُ وَضْعُ الصُّورِ فِي 6 لُوحَاتٍ جِدَارِيَّةٍ بِالتَّساوِي؟

أَتَدْرِبُ

وَأَحُلُّ المَسَائِلَ

أبحثُ قابليَّةَ قِسْمَةِ كُلِّ عَدَدٍ مِمَّا يَأْتِي عَلَى 4: أنظر إلى الملحق.

- 1 25484
- 2 58446
- 3 7846770

أبحثُ قابليَّةَ قِسْمَةِ كُلِّ عَدَدٍ مِمَّا يَأْتِي عَلَى 6: أنظر إلى الملحق.

- 4 1452
- 5 11341
- 6 54210

إرشاد: أوجِّه الطلبة إلى لوحة المئة، وأطلب اليهم وضع دائرة حول الأعداد التي تقبل القسمة على 2، وتظليل الأعداد التي تقبل القسمة على 3، ثم استنتاج الأعداد التي تقبل القسمة على 6.

- أتحَدَّث للطلبة عن أهميَّة البحث والرحلات العلمية، ودورها في تنمية مهارة الاستكشاف والتطور عند الإنسان.
- أوجِّه الطلبة إلى قراءة المثال 2، وأطلب إليهم تحديد المطلوب من المسألة.
- أناقش الطلبة في حلّ المثال على اللوح؛ عن طريق توجيه الأسئلة الآتية:
 - « هل يقبل العدد 112 القسمة على 2؟ لماذا؟
 - « هل يقبل العدد 112 القسمة على 3؟ لماذا؟
 - « هل يقبل العدد 112 القسمة على 6؟ لماذا؟

4 التدريب

أَتَدْرِبُ وَأَحُلُّ المَسَائِلَ:

- أوجِّه الطلبة إلى فقرة (أَتَدْرِبُ وَأَحُلُّ المَسَائِلَ)، ثم أطلب إليهم حل المسائل (9-1)، والمسألة (11) ضمن مجموعات ثنائية داخل الغرفة الصفية؛ فهذه المسائل تحديداً ترتبط ارتباطاً مباشراً بأمثلة الدرس، وهي تُستعمل خاصةً لتدريب الطلبة على المفاهيم نفسها، بصرف النظر عمّا إذا كانت الأسئلة فردية أم زوجية.
- إذا واجه الطلبة صعوبة في حل أيِّ مسألة، فإنني أختار أحد الطلبة مِمَّنْ تَمَكَّنَ/ تَمَكَّنَتْ من حل المسألة؛ لمناقشة استراتيجيته/ استراتيجيتها في حل المسألة على اللوح، مُحفِّزاً الطلبة على طرح أيِّ تساؤل عن خطوات الحل المُقدَّمة من الزميل/ الزميلة.

الواجب المنزلي:

أستعين بالجدول الآتي لتحديد الواجب المنزلي للطلبة بحسب مستوياتهم:

المستويات	الأسئلة
دون المتوسط	كتاب الطالب: 10, 12 كتاب التمارين: 11, (6-1)
ضمن المتوسط	كتاب الطالب: 10, 12 كتاب التمارين: (7-11)
فوق المتوسط	كتاب الطالب: (12-17) كتاب التمارين: (10-12)

مهارات التفكير العليا

- أوجّه الطلبة إلى فقرة (مهارات التفكير العليا)، ثم أطلب إليهم حل المسائل (17 - 13).
- أرصد آية أفكار غير تقليدية من الطلبة، ثم أطلب إلى هؤلاء الطلبة كتابة هذه الأفكار على اللوح.
- أناقش الطلبة في الأسئلة (16 - 13) مسألة مفتوحة، وأطلب إلى كل واحد منهم تقديم حلين على الأقل.
- أناقش الطلبة في سؤال 17 تحدّ، وأذكرهم بقاعدة قابلية القسمة على 9.

التطبيق:

- أوجّه الطلبة إلى تنفيذ النشاط 1 من أنشطة التدريب الإضافية.
- أوجّه الطلبة إلى تنفيذ النشاط 4 من أنشطة التدريب الإضافية.

الإثراء

5

أستعمل الأسئلة الآتية لإثراء تعلّم الطلبة:

- أذكر مثالاً لعددین مجموعهما يقبل القسمة على 4، ولكن العددين لا يقبلان القسمة على 4. 5، 15 مجموعهما 20 يقبل القسمة على 4.
- أذكر مثالاً لعددین لا يقبلان القسمة على 2 ولا على 3 ولكن مجموعهما يقبل القسمة على 6؟ 19 + 5
- أذكر مثالاً لعدد يقبل القسمة على 4 وعدد آخر يقبل القسمة على 6، وحاصل طرحهما يقبل القسمة على 6؟ 18 - 6 = 24

مشروع الوحدة:

- أطلب إلى الطلبة تنفيذ الخطوة 1 من خطوات المشروع.

الختام

6

- أستخدم السؤال في فقرة **أتحدّث**، للتأكد من فهم الطلبة لموضوع الدرس، وأوجّه الطلبة ذوي المستوى المتوسط ودون المتوسط إلى الإجابة عن السؤال.



أبحث قابلية قسمة كل عدد مما يأتي على 9: أنظر إلى الملحق.

7 1233

8 49338

9 4512

10 أصح إشارة (✓) عند العدد الذي يقبل القسمة على 2, 3, 4, 6, 9.

	2	3	4	6	9
316	✓		✓		
1854	✓	✓		✓	✓
9126	✓	✓		✓	✓

11 طاقة متجددة: أنتج مصنع 8676 خلية شمسية، فهل يمكنه توزيعها على 9 حاويات سخن بالسواي؟ أبرر إجابتي. نعم؛ لأن العدد 8676 يقبل القسمة على 9، لأن مجموع أرقامه 27 والعدد 27 يقبل القسمة على 9.

12 زراعة: أعود إلى فقرة (أستكشف). هل تستطيع أسماء تقسيم البذور في 4 أوعية بالسواي؟ أفسر إجابتي. نعم تستطيع؛ لأن العدد 612 يقبل القسمة على 4، لأن 12 تقبل القسمة على 4.

مسألة مفتوحة: أستخدم الأرقام من 0 إلى 9 في تعبئة المربعات؛ لتكوين العدد المناسب في كل مما يأتي:

13 يقبل القسمة على 4 و 6. 600, 612, 636, 684, 648

14 يقبل القسمة على 4 و 9. 936

15 يقبل القسمة على 5 و 6. 300, 360, 390

16 يقبل القسمة على 4 و 6 و 9 معاً. 936, 432

17 تحدّ: أجد أصغر عدد أكبر من 77050 يقبل القسمة على 9. 77058

أتحدّث: أشرح كيف يمكنني تحديد قابلية العدد القسمة على 9.

يقبل العدد القسمة على 9؛ إذا كان مجموع أرقام منازله تقبل القسمة على 9.

معلومة

تعدّ الطاقة الشمسية من أوفر مصادر الطاقة وأكثرها جفافاً على البيئة.



مهارات التفكير العليا

أتدكّر

يقبل العدد القسمة على 5؛ إذا كان رقم آحاده 0 أو 5

أفكر

هل أختار رقماً زوجياً أم فردياً ليثبته الأحادي؟ أبرر إجابتي.

- إن لزم الأمر، أتحقق من فهم الطلبة، بطرح سؤال عليهم، مثل:

« أبحث قابلية قسمة كل عدد مما يأتي على 4:

1 2136 يقبل 2 5603 لا يقبل

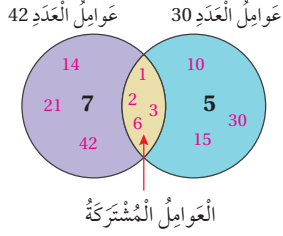
« أبحث قابلية قسمة كل عدد مما يأتي على 6:

3 2136 يقبل 4 5602 لا يقبل

نشاط مفاهيمي: العوامل المشتركة

التفكير

أشكال (فن) طريقة لتنظيم البيانات وعرضها في مجموعتين أو أكثر باستخدام دوائر منداجلية، بحيث تكون العناصر المشتركة في منطقة التقاطع.



الهدف: أجد العوامل المشتركة بين عددين أو أكثر.

يمكنني استعمال شكل (فن)؛ في إيجاد العوامل المشتركة لعددين أو أكثر.

نشاط: استعمال شكل (فن).

استعمل شكل (فن) لإيجاد العوامل المشتركة بين العددين 42، 30.

• أجد عوامل العدد 30.

1, 2, 3, 5, 6, 10, 15, 30

• أجد عوامل العدد 42.

1, 2, 3, 6, 7, 14, 21, 42

• أكمل شكل (فن) المجاور؛ بكتابة عوامل كل عدد وكتابة العوامل المشتركة في منطقة تقاطع الدائرتين.

• أي إن العوامل المشتركة هي 1, 2, 3, 6

أمكّر:

1 أتبع الخطوات السابقة، وأجد العوامل المشتركة بين العددين

13, 17 باستخدام شكل (فن)، ماذا أستنتج؟

العامل المشترك بين العددين 13, 17 هو 1

2 ما العددان اللذان تمّ تخليقهما باستخدام شكل (فن) المجاور؟ 6, 21

استعمل شكل (فن)؛ في إيجاد العوامل المشتركة بين كل عددين مما يأتي:

3 6, 12 1, 2, 3, 6

4 20, 28 1, 2, 4

هدف النشاط:

إيجاد العوامل المشتركة بين عددين أو أكثر.

خطوات العمل:

- أكتب على اللوح العددين 30 و42.
- أوضح للطلبة أن هدف النشاط استعمال أشكال فن لإيجاد العوامل المشتركة بين عددين.
- أوزع الطلبة في مجموعات ثنائية، وأطلب إليهم:

« كتابة عوامل العددين 30 و42.

« كتابة عوامل كل عدد في شكل فن، وكتابة العوامل المشتركة في منطقة تقاطع الدائرتين.

• أوجه الطلبة إلى أن استعمال أشكال فن يساعد على ترتيب الحل.

• أطلب إلى الطلبة حلّ فقرة أفكّر (4 - 1) بالطريقة السابقة نفسها (أشكال فن).

نتائج الدرس:

- تحليل العدد إلى عوامله الأولية.

نتائج التعلم القبلي:

- إيجاد عوامل عدد كلي.
- تمييز العدد الأولي من العدد غير الأولي.
- حقائق الضرب الأساسية.

مراجعة التعلم القبلي ومعالجة الفاقد التعليمي:

أسترشد بالإجراءات المبيّنة في مقدمة دليل المعلم (الصفحتان 1 و 2) المتعلقة بمراجعة التعلم القبلي ومعالجة الفاقد التعليمي لدى الطلبة.

التهيئة

1

أجري النشاط الآتي:

- أضع مجموعة من بطاقات الأعداد (60 - 10) مقلوبة على الطاولة أمام الطلبة.
- أطلب إلى أحد الطلبة سحب بطاقة عشوائياً، ثم أطلب إلى الطلبة كتابة عوامل العدد الظاهر على البطاقة على ألواحهم الصغيرة، ثم رفعها عالياً.
- أقدم التغذية الراجعة اللازمة.
- أكرر النشاط مرة أخرى.

تحليل العدد إلى عوامله الأولية

2 الدرس



أستكشف

ثريدُ سَمِيَّةُ تُسَمِّمُ 36 مُكْعَبًا إلى مجموعات؛ بحيثُ يكونُ عددُ المُكْعَبَاتِ في كُلِّ مَجْمُوعَةٍ عددًا أوليًا، هل يُمكنُ مُساعدتها على إيجاد عددِ المُكْعَبَاتِ في كُلِّ مَجْمُوعَةٍ؟

فكرة الدرس

أحللُ العددَ إلى عوامله الأولية. **المُطلَبَاتُ** التحليلُ إلى العواملِ الأولية، شجرةُ العواملِ.

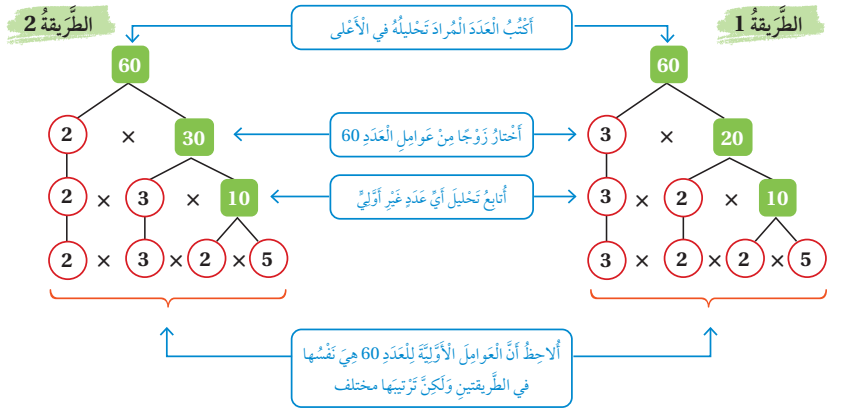
أتعلم

التحليل

العددُ الأوليُّ: هو عددٌ أكبرُ من 1، وله عاملان فقط. **العددُ غيرُ الأوليُّ:** هو عددٌ أكبرُ من 1، وله أكثرُ من عاملين.

يُمكنُ كتابةُ أيِّ عددٍ غيرِ أوليٍّ على صورةٍ حاصلِ ضربِ أعدادٍ أوليّةٍ، وهو ما يُسمّى **تحليلُ العددِ إلى عوامله الأولية** (prime factorization)، ويُمكنني استعمالُ طريقةِ **شجرةِ العوامل** (factor tree) لتحليلِ أيِّ عددٍ إلى عوامله الأولية.

مثال 1 أحللُ العددَ 60 إلى عوامله الأولية؛ باستعمالِ شجرةِ العواملِ.



إذن: تحليلُ العددِ 60 إلى عوامله الأولية هو: $60 = 2 \times 2 \times 3 \times 5$

- أوجّه الطلبة إلى قراءة المسألة في فقرة **أستكشف**، وأسأل:
 - « هل تستطيع سميّة تقسيم 36 مكعباً إلى مجموعات، بحيث يكون عدد المكعبات في كل مجموعة عدداً أولياً؟ نعم.
 - « كم مجموعة يمكن لسميّة أن تُقسّم؟ 18 مجموعة أو 12 مجموعة.
- أعزّز الإجابات الصحيحة.

- أراجع الطلبة في مفهوم الأعداد الأولية، ثم أسأل:
 - « هل العدد 1 عدد أولي؟ لا.
 - « هل العدد 2 عدد أولي؟ نعم.
 - « هل الأعداد الفردية جميعها أعداد أولية؟ لا.
- أعزّز الإجابات الصحيحة.
- أوضح للطلبة أنه يمكن كتابة أي عدد غير أولي على صورة حاصل ضرب أعداد أولية، ثم أقدم لهم مفهوم تحليل العدد إلى عوامله الأولية، وأبيّن لهم إمكانية تحليل العدد إلى عوامله الأولية باستعمال طريقة شجرة العوامل.

تعزيز اللغة ودعمها:

- أكرّر المصطلحين: (التحليل إلى العوامل الأولية، شجرة العوامل) أمام الطلبة، وأحرص على استعمالهما من قبلهم.

مثال 1

- أناقش مع الطلبة تحليل العدد 60 إلى عوامله الأولية باستعمال الطريقة 1 الواردة في المثال 1 باستعمال شجرة العوامل عن طريق توجيه الأسئلة الآتية:
 - « هل العدد 60 عدد زوجي؟ نعم.
 - « هل يقبل العدد 60 القسمة على 2؟ نعم.
 - « هل يقبل العدد 60 القسمة على أعداد أخرى غير العدد 2؟ نعم.
 - « ما عدد العوامل الأولية للعدد 60؟ 3
- أوضح للطلبة أنه يمكن تحليل العدد 60 إلى عوامله الأولية بطريقة أخرى، ثم أناقش معهم الطريقة 2

التقويم التكويني:



- أطلب إلى الطلبة حلّ تدريب (أتحقّق من فهمي) بعد كلّ مثال. أختار بعض الإجابات التي تحتوي على أخطاء مفاهيمية، وأناقش الطلبة فيها على اللوح. لا أذكر اسم صاحب الحلّ أمام الصفّ تجنّباً لإحراجهم.

✓ **إرشاد:** أوجّه الطلبة إلى ضرورة التأكد من أن العوامل التي حلّلوها إليها العدد جميعها عوامل أوليّة، وأنّ ناتج ضربها يعطي العدد الأصلي.

تنويع التعليم:

يُفضّل استعمال الأقلام الملونة أثناء شرح المثال؛ لِمَا لذلك من أثر في تحفيز الطلبة على فهم عملية تحليل العدد إلى عوامله الأولية، وبخاصة أولئك الذين يتمتّعون بذلك بصري.

مثال 2: من الحياة

- أتحدّث عن أنواع الفطر وأسأل الطلبة عن الأنواع التي يعرفونها.
- أطلب إلى الطلبة قراءة المسألة وتحديد المطلوب.
- أكتب العدد 68 على اللوح كما هو موضّح في كتاب الطالب.
- أطلب إلى الطلبة إيجاد ناتج قسمة 68 على 2 ذهنيًا، وأكتب الناتج تحت العدد 68.
- أكرّر ذلك إلى أن يصبح ناتج القسمة 1.
- أطلب إلى الطلبة كتابة التحليل على دفاترهم.

التدريب

4

أدرب وأحلّ المسائل:

- أوجّه الطلبة إلى فقرة (أدرب وأحلّ المسائل)، ثم أطلب إليهم حل المسائل (1-6)، والمسألتيّن (9 و 10) ضمن مجموعات ثنائية داخل الغرفة الصفية؛ فهذه المسائل تحديدًا ترتبط ارتباطًا مباشرًا بأمثلة الدرس، وهي تُستعمل خاصةً لتدريب الطلبة على المفاهيم نفسها، بصرف النظر عمّا إذا كانت الأسئلة فردية أم زوجية.
- إذا واجه الطلبة صعوبة في حل أيّ مسألة، فإنّني أختار أحد الطلبة ممن تمكّن/ تمكّنت من حل المسألة؛ لمناقشة استراتيجيته/ استراتيجيتها في حل المسألة على اللوح، مُحفّزًا الطلبة على طرح أيّ تساؤل عن خطوات الحل المُقدّمة من الزميل/ الزميلة.

الواجب المنزلي:

أسّتعين بالجدول الآتي لتحديد الواجب المنزلي للطلبة بحسب مستوياتهم:

المستويات	الأسئلة
دون المتوسط	كتاب الطالب: 7, 8 كتاب التمارين: (1-5)
ضمن المتوسط	كتاب الطالب: 7, 11, 13 كتاب التمارين: 6, 8, 10
فوق المتوسط	كتاب الطالب: (12-14) كتاب التمارين: 7, 9, 10

الوحدّة 3

أتحقّق من فهمي: أحلّل العدد 40 إلى عوامله الأولى باستخدام شجرة العوامل.

$$40 = 2 \times 20 = 2 \times 2 \times 10 = 2 \times 2 \times 2 \times 5$$

يُمكنني أيضًا تحليل العدد إلى عوامله الأولى باستخدام طريقة القسمة المتكرّرة.



مثال 2: من الحياة

الفطر المُضيء هو نوع من الفطر يُضيء في الظلام باللون الأخضر، ويوجد منه 68 نوعًا في العالم. أحلّل العدد 68 إلى عوامله الأولى باستخدام القسمة المتكرّرة.

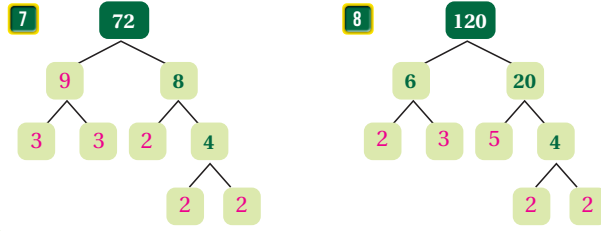
أقسّم العدد 68 على أحد عوامله الأولى	2	68	÷2
أستمرّ بالقسمة على عوامل أوليّة أخرى	2	34	÷2
أوقف عندما يصبح ناتج القسمة 1	17	17	÷17
	1	1	

2	80	إذن: تحليل العدد 68 إلى عوامله الأولى هو: $68 = 2 \times 2 \times 17$ أتحقّق من فهمي: أحلّل العدد 80 إلى عوامله الأولى باستخدام القسمة المتكرّرة.
2	40	
2	20	
2	10	
2	5	

أحلّل كلًّا من الأعداد الآتية إلى عواملها الأولى: أنظر إلى الملحق.

- | | | | | | |
|---|-----|---|-----|---|-----|
| 1 | 126 | 2 | 135 | 3 | 108 |
| 4 | 63 | 5 | 87 | 6 | 92 |

أكمل شجرة التحليل إلى العوامل الأولى في كلّ ممّا يأتي:



65

أدرب وأحلّ المسائل

أتدكّر

العدد 2 أولي؛ لأنّ له عاملين فقط هما 1 و 2

- أوجّه الطلبة إلى فقرة (مهارات التفكير العليا)، ثم أطلب إليهم حل المسائل (14 - 13).
- أرصد أية أفكار غير تقليدية من الطلبة، ثم أطلب إلى هؤلاء الطلبة كتابة هذه الأفكار على اللوح.
- أناقش الطلبة في سؤال 13 **أكتشف الخطأ**، وأسألهم: ما الخطأ الذي ارتكبته ريم؟
- أناقش الطلبة في سؤال 14 **تحّد**، وأبين لهم أنّ السؤال يريد عوامل أولية مختلفة.
- أناقش المجموعات في حلول الأسئلة، وأقدّم لهم التغذية الراجعة.

التطبيق:

- أوجّه الطلبة إلى تنفيذ النشاط 4 من أنشطة التدريب الإضافية.

5 الإثراء

- أوجّه الأسئلة الآتية لإثراء تعلّم الطلبة:
 - « أذكر أصغر عدد يتكوّن من ضرب 3 أعداد أولية متشابهة؟ 8.
 - « أذكر أصغر عدد له 4 عوامل أولية مختلفة. 210.

6 الختام

- أستعمل السؤال في فقرة **أتحدّث**، للتأكد من فهم الطلبة لموضوع الدرس، وأوجّه الطلبة ذوي المستوى المتوسط ودون المتوسط إلى الإجابة عن السؤال.
- إن لزم الأمر، أتحدّث من فهم الطلبة، بطرح سؤال عليهم، مثل:
 - « أحلّ كلاً من الأعداد الآتية إلى عواملها الأولية:

1 208 $2 \times 2 \times 2 \times 2 \times 13$

2 84 $2 \times 2 \times 3 \times 7$

أفكّر

كيف أتحدّث من صحّة تحليل عدد إلى عوامله الأولية؟

إرشاد

في السؤال 12، ليس شرطاً أن يكون عدد المكعبات في المجموعات متساوياً.

مهارات التفكير العليا

أحلّل العدد 56 إلى عوامله الأولية، وأجمل الأعداد المفقودة في كلِّ مما يأتي:

9 $56 = 2 \times 28$
 $= 2 \times 2 \times 14$
 $= 2 \times 2 \times 2 \times 7$

تحليل العدد 56 إلى عوامله الأولية هو:

$$56 = 2 \times 2 \times 2 \times 7$$

10 $88 = 2 \times 44$
 $= 2 \times 2 \times 22$
 $= 2 \times 2 \times 2 \times 11$

تحليل العدد 88 إلى عوامله الأولية هو:

$$88 = 2 \times 2 \times 2 \times 11$$

11 أستعمل قابلية القسمة في تحليل العدد 600 إلى عوامله الأولية.

$$600 = 3 \times 2 \times 2 \times 2 \times 5 \times 5$$

12 أعود إلى فقرة (أستكشف)، وأجد عدد المكعبات في كل مجموعة.

مكعبان في كل مجموعة، فيكون عدد المجموعات 18 أو 3 مكعبات في كل مجموعة، فيكون عدد المجموعات 12.

13 أكتشف الخطأ: قالت ريم إن تحليل العدد 84 إلى عوامله الأولية هو:

$$(84 = 3 \times 4 \times 7)$$

الخطأ أن العدد 4 ليس أولي؛ أي إن التحليل هو: $84 = 3 \times 2 \times 2 \times 7$

14 تحدّ: ما أصغر عدد له 3 عوامل أولية مختلفة.

$$30 = 3 \times 2 \times 5$$

أتحدّث: أشرح الفرق بين عوامل العدد والعوامل الأولية للعدد.

عوامل العدد هي الأعداد التي يقبل العدد القسمة عليها أولية وغير أولية. والعوامل الأولية هي الأعداد الأولية التي حاصل ضربها يعطي العدد نفسه.

نتائج الدرس:

- إيجاد العامل المشترك الأكبر لعددين.

نتائج التعلم القبلي:

- تمييز قواسم الأعداد.
- تمييز عوامل العدد.
- تمييز العوامل الأولية للأعداد.

مراجعة التعلم القبلي ومعالجة الفاقد التعليمي:

أسترشد بالإجراءات المبينة في مقدمة دليل المعلم (الصفحتان i و j) المتعلقة بمراجعة التعلم القبلي ومعالجة الفاقد التعليمي لدى الطلبة.

التهيئة

1

أجري النشاط الآتي:

- أوزع بطاقات على الطلبة (كل طالب/ طالبة بطاقة واحدة)، بحيث يبدأ ترقيم البطاقات من العدد 10 وحتى العدد 40 (حسب عدد طلبة الصف)؛ بصورة عشوائية من دون ترتيب الأعداد، وأطلب إلى كل طالب/ طالبة كتابة جميع عوامل العدد على بطاقته/ بطاقتها.
- أطلب إلى كل طالب/ طالبة تحليل العدد على بطاقته/ بطاقتها إلى عوامله الأولية.
- أعزز الإجابات الصحيحة.

استكشف



أعدّ صالح إبطارًا لعددٍ من الصائمين؛ فوزّع 18 عُلبَةً تَمْرٍ و 24 كوبَ ماءٍ على عددٍ من الصائديقي؛ بحيثُ تحسوي الصائديقي جميعها على عددٍ متساوٍ من عُلبِ التَمْرِ و عددٍ متساوٍ من أكوابِ الماء. ما أكبر عددٍ من الصائديقي يُمكن أن يُجهزها؟

فكرة الدرس

أجد العامل المشترك الأكبر لعددين.

المصطلحات

العوامل المشتركة، العامل المشترك الأكبر (ع.م.أ)

أتعلم

تُسمى العوامل التي يشترك فيها عدداً أو أكثر **العوامل المشتركة** (common factors)، وتُسمى أكبر هذه العوامل **العامل المشترك الأكبر** (greatest common factor) ويُرمز له بالرمز (ع.م.أ).

العوامل المشتركة للعددين 60 و 36 هي:
1, 2, 3, 4, 6, 12
والعامل المشترك الأكبر لهما هو 12

عوامل العدد 60 هي: 1, 2, 3, 4, 5, 6, 10, 12, 15, 20, 30, 60
عوامل العدد 36 هي: 1, 2, 3, 4, 6, 9, 12, 18, 36

مثال 1

أجد العامل المشترك الأكبر للعددين 40 و 24. أكتب عوامل كل عدد، ثم أرسّم دائرة حول العوامل المشتركة، ثم أحدد أكبرها.

40
1 × 40
2 × 20
4 × 10
5 × 8

1. أجد عوامل العددين.
2. أحدد العوامل المشتركة للعددين.
3. أختار أكبر عاملٍ مشتركٍ بينهما.

24
1 × 24
2 × 12
3 × 8
4 × 6

العوامل المشتركة بين العددين، هي: 1, 2, 4, 8، وأكبرها هو العدد 8. إذن: العامل المشترك الأكبر هو 8.

عوامل العدد 56 هي: 1, 2, 4, 7, 8, 14, 28, 56
عوامل العدد 70 هي: 1, 2, 5, 7, 10, 14, 35, 70
العامل المشترك الأكبر هو: 14

أنتحقق من فهمي: أجد العامل المشترك الأكبر للعددين 70، 56 العامل المشترك الأكبر هو: 14

- أتحدّث عن شهر رمضان المبارك، وعن أهمّية الصدقة ومساعدة الآخرين.
- أوّجّه الطلبة إلى قراءة المسألة في فقرة **أستكشف**، وأسألهم: ما أكبر عدد من الصناديق يمكن أن يجهّزها صالح؟ **6 صناديق**.
- أعرّز الإجابات الصحيحة.

المفاهيم العابرة للمواد:

أؤكد على المفاهيم العابرة للمواد حيثما وردت في كتاب الطالب أو التمارين. في فقرة أستكشف، أعرّز الوعي بالقضايا الأخلاقية والدينية لدى الطلبة وأتحدّث عن شهر رمضان بأنه أحد أركان الإسلام الخمسة، وأعرّز عند الطلبة فوائد الصوم الصحيّة.

- أوضح للطلبة أنّ العوامل التي يشترك فيها عدنان أو أكثر تسمى العوامل المشتركة، وأنّ أكبر هذه العوامل يسمى العامل المشترك الأكبر، ثم أقدم لهم أمثلة توضيحية.

تعزيز اللغة ودعمها:

أكرّر المصطلحين: (العوامل المشتركة، العامل المشترك الأكبر) أمام الطلبة، وأحرص على استعمالهما من قبلهم.

- أناقش الطلبة في حلّ المثال 1 على اللوح، باتباع الإجراءات الآتية:
- أطلب إلى أحد الطلبة كتابة عوامل العدد 24 على اللوح.
- أطلب إلى آخر كتابة عوامل العدد 40 على اللوح.
- أطلب إلى الطلبة تحديد العوامل المشتركة بين العددين، ثم أطلب إليهم تحديد العامل الأكبر من بين العوامل المشتركة.
- أناقش مع الطلبة مزيداً من الأمثلة، للتحقق من تمكنهم من فكرة الدرس.

✓ **إرشاد:** إذا واجه الطلبة صعوبة في إيجاد عوامل العدد؛ فأذكرهم بالحقائق الأساسية للضرب.

التقويم التكويني: ✓

أطلب إلى الطلبة حلّ تدريب (أتحقق من فهمي) بعد كلّ مثال. أختار بعض الإجابات التي تحتوي على أخطاء مفاهيمية، وأناقش الطلبة فيها على اللوح. لا أذكر اسم صاحب الحلّ أمام الصفّ تجنّباً لإحراجهم.

مثال 2: من الحياة



- أُبيّن للطلبة وجود طريقة أخرى للإيجاد العامل المشترك الأكبر سيتعرّفونها في المثال 2.
- أكتب العددين 60، 42 على اللوح، وأطلب إلى أحد الطلبة تحليل العدد 60 إلى عوامله الأولية، وأطلب إلى آخر تحليل العدد 42 إلى عوامله الأولية.
- أطلب إلى الطلبة تحويط العوامل الأولية المشتركة بين العددين.
- أطلب إليهم إيجاد حاصل ضرب هذه العوامل؛ لإيجاد العامل المشترك الأكبر للعددين 60 و 42.
- أطلب إلى الطلبة تحليل العددين إلى عواملهما الأولية كما في المثال 1، ومقارنة الإجابة مع التي حصلوا عليها.

التدريب

4

أُتدرب وأحلّ المسائل:

- أوجّه الطلبة إلى فقرة (أُتدرب وأحلّ المسائل)، ثم أطلب إليهم حل المسائل (1-6)، ضمن مجموعات ثنائية داخل الغرفة الصفية؛ فهذه المسائل تحديداً ترتبط ارتباطاً مباشراً بأمثلة الدرس، وهي تُستعمل خاصة لتدريب الطلبة على المفاهيم نفسها، بصرف النظر عما إذا كانت الأسئلة فردية أم زوجية.
- إذا واجه الطلبة صعوبة في حل أيّ مسألة، فإنني أختار أحد الطلبة ممن تمكّن/ تمكّنت من حل المسألة؛ لمناقشة استراتيجيته/ استراتيجيتها في حل المسألة على اللوح، مُحفّزاً الطلبة على طرح أيّ تساؤل عن خطوات الحل المُقدّمة من الزميل/ الزميلة.

الواجب المنزلي:

أستعين بالجدول الآتي لتحديد الواجب المنزلي للطلبة بحسب مستوياتهم:

المستويات	الأسئلة
دون المتوسط	كتاب الطالب: 7 كتاب التمارين: (1-5)
ضمن المتوسط	كتاب الطالب: 7, 8 كتاب التمارين: 1, 3, 5, 7
فوق المتوسط	كتاب الطالب: (8-10) كتاب التمارين: (6-9)

يُمكنني أيضاً أن أجد العامل المشترك الأكبر للعددين 60 و 42 لإيجاد العامل المشترك الأكبر للعددين 60 و 42 أتبع الخطوات الآتية:

مثال 2

أجد العوامل المُشترَك الأكبر للعددين 60 و 42

لإيجاد العامل المشترك الأكبر للعددين 60 و 42 أتبع الخطوات الآتية:

الخطوة 1) أحلّل العددين 60 و 42 إلى عواملهما الأولية.

2	60
2	30
3	15
5	5
	1

$60 = 2 \times 2 \times 3 \times 5$

2	42
3	21
7	7
	1

$42 = 2 \times 3 \times 7$

الخطوة 2) أجد العوامل الأولية المُشتركة.

$$60 = 2 \times 2 \times 3 \times 5$$

$$42 = 2 \times 3 \times 7$$

الخطوة 3) أجد (ع.م.أ) للعددين بضرب العوامل الأولية المُشتركة. (نأخذ عاملاً واحداً من كل عامليين أوليين مُتساويين).

$$2 \times 3 = 6$$

إذن: (ع.م.أ) للعددين 60 و 42 هو 6

أتحقق من فهمي:

$$36 = 2 \times 2 \times 3 \times 3$$

$$56 = 2 \times 2 \times 2 \times 7$$

$$4 = 2 \times 2$$

أجد العامل المُشترَك الأكبر للعددين 36 و 56

أجد العامل المشترك الأكبر لكل مما يأتي:

- 1 28, 36 4 2 72, 48 24 3 96, 84 12
4 15, 25 5 5 10, 15 5 6 18, 30 6

أنتزب وأدخل المسائل

إرشاد

أكثر طول ممكن للقطع هو العامل المشترك الأكبر للعددين: 50 و 75.

7 نجارة وقطعتان من الخشب إحداهما طولها 50 cm، والأخرى طولها 75 cm، أراد نجار تقسيمهما إلى قطع متساوية في الطول؛ فما أكبر طول ممكن لكل قطعة؟
العامل المشترك هو: 25



8 قرطاسية: أراد صاحب محل قرطاسية توزيع 30 قلم رصاص و 42 قلم حبر في علب؛ بحيث تحتوي كل علبة على عدد متساو من أقلام الرصاص وعدد متساو من أقلام الحبر. فما أكبر عدد من العلب يحتاجه صاحب المحل؟ 6 علب.

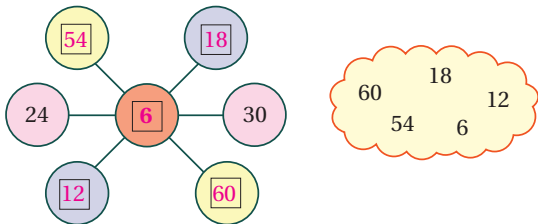
مهارات التفكير العليا

إرشاد

أضع في المربع الذي في الوسط العامل المشترك الأكبر بين جميع الأعداد في المربعات الخارجة.

9 مسألة مفتوحة: إذا كان العامل المشترك الأكبر لعددين هو 5؛ فما هما العددين؟ أكتب 4 حلول ممكنة. (15, 10), (15, 20), (10, 25), (5, 25).

10 تحدد: المربع الذي في الوسط في الشكل أدناه هو العامل المشترك الأكبر لكل مربعين لهما اللون نفسه. أكمّل المربعات بما يناسبها من الأعداد الموجودة في العينة:



11 تبرير: لماذا يكون العامل المشترك الأكبر لأي عددين أوليين دائماً؟ لأن العدد الأولي له عاملان مختلفان هما 1 والعدد نفسه.

أحدث: كيف أجد العامل المشترك الأكبر لعددين؟

أتحدث: أكتب عوامل كل عدد، وأضع دائرة حول العوامل المشتركة، فيكون العامل المشترك الأكبر هو ناتج ضرب الأعداد المشتركة معاً.

- أستعمل السؤال في فقرة **أتحدث**، للتأكد من فهم الطلبة لموضوع الدرس، وأوجه الطلبة ذوي المستوى المتوسط ودون المتوسط إلى الإجابة عن السؤال.
- إن لزم الأمر، أتأكد من فهم الطلبة، بطرح سؤال عليهم، مثل: « أجد العامل المشترك الأكبر لكل مما يأتي:

1 20, 25 5

2 64, 48 16

- أوجه الطلبة إلى فقرة (مهارات التفكير العليا)، ثم أطلب إليهم حل المسائل (9 – 11).
- أرسد آية أفكار غير تقليدية من الطلبة، ثم أطلب إلى هؤلاء الطلبة كتابة هذه الأفكار على اللوح.
- أناقش الطلبة في سؤال 10 **تحدد**، وأنبه الطلبة إلى إيجاد العامل المشترك الأكبر للعددين 24 و 30، ثم اختيار عددين آخرين يكون العامل المشترك الأكبر لهما العامل المشترك للعددين 24 و 30 نفسه، وهكذا...
- أناقش الطلبة في سؤال 9 **مسألة مفتوحة**، وأوجههم لاختيار أعداد أولية وضربها في العدد 5.
- أناقش الطلبة في سؤال 11 **تبرير**، وأستمع لإجابات الطلبة وأقبل تبريراتهم.

التطبيق:

- أوجه الطلبة إلى تنفيذ النشاط 2 من أنشطة التدريب الإضافية.
- أوجه الطلبة إلى تنفيذ النشاط 4 من أنشطة التدريب الإضافية.

أوجه الأسئلة الآتية لإثراء تعلم الطلبة:

- « أجد العامل المشترك الأكبر للأعداد 24، 36، 72 12
- « العامل المشترك الأكبر لعدد فردي وعدد زوجي هو عدد فردي، لماذا؟ لأن حاصل ضرب العوامل الأولية المشتركة لا يتضمن 2.

مشروع الوحدة:

- أطلب إلى الطلبة تنفيذ الخطوة 2 من خطوات المشروع.

نتائج الدرس:

- إيجاد المضاعف المشترك الأصغر لعددتين.

نتائج التعلم القبلي:

- إيجاد مضاعفات عدد كلي.
- تمييز الأعداد الأولية من غير الأولية.
- تحليل العدد إلى عوامله الأولية.

مراجعة التعلّم القبلي ومعالجة الفاقد التعليمي:

أسترشد بالإجراءات المبيّنة في مقدمة دليل المعلم (الصفحتان 1 و 2) المتعلقة بمراجعة التعلم القبلي ومعالجة الفاقد التعليمي لدى الطلبة.


1 التهيئة

- أرمي حجر نرد مرتين؛ لتكوين عدد من منزلتين، ثم أكتبه على اللوح.
- أطلب إلى الطلبة كتابة أول 6 مضاعفات للعدد المكتوب على اللوح على ألواحهم الصغيرة، ثم رفعها عاليًا.
- أعزز الإجابات الصحيحة.

2 الاستكشاف

- أوجه الطلبة إلى قراءة فقرة **استكشف**، وأسأل: ما أقل عدد من الدورات يجب أن تدور كل بكرة كي تلتقيا مرة أخرى؟
- أعزز الإجابات الصحيحة.

أستكشف



تدور بكَرتان إحداهما كبيرة ولها 12 سنًا، والأخرى صغيرة ولها 8 أسنان كما في الشكل. إذا بدأت البكرتان بالدوران عند العلامة الحمراء؛ فما أقل عدد من الدورات يجب أن تدورها كل بكرة كي تلتقيا مرة أخرى عند العلامة الحمراء نفسها.

فكرة الدرس

أجد المضاعف المشترك الأصغر لعددتين.

المفطلحات

المضاعف، المضاعفات المشتركة، المضاعف المشترك الأصغر (م.م.أ)

أتعلم

مضاعف (multiple) العدد هو ناتج ضربه في أي عدد كلي عدا الصفر، وتسمى المضاعفات التي يشترك فيها عدتان أو أكثر **مضاعفات مشتركة** (common multiples)، أما أصغر هذه المضاعفات، فيسمى **المضاعف المشترك الأصغر** (lowest common multiple) ويُرمز له بالرمز (م.م.أ).

مثال 1

أجد المضاعف المشترك الأصغر للعددين 8، 12

أبدأ بكتابة مضاعفات كل عدد، ثم أحدد أول مضاعف مشترك بينهما.

مضاعفات العدد 8 : 8 , 16 , 24 , 32 , ...

مضاعفات العدد 12 : 12 , 24 , 36 , ...

نلاحظ أن 24 هو أول مضاعف مشترك بين العددين، إذن: المضاعف المشترك الأصغر (م.م.أ) للعددين 8، 12 هو العدد 24.

مضاعفات العدد 3

3, 6, 9, 12, 15, 18, 21, 24, 27, 30, 33, 36, 39, 42, 45, ...

مضاعفات العدد 14

14, 28, 42, 56, ...

المضاعف المشترك الأصغر هو: 42

أتحقّق من فهمي:

أجد المضاعف المشترك الأصغر للعددين 3، 14

- أوضح للطلبة أنّ المضاعفات التي يشترك فيها عدداً أو أكثر تسمى المضاعفات المشتركة، وأنّ أصغر هذه المضاعفات يسمى المضاعف المشترك الأصغر، ثم أقدم لهم أمثلة توضيحية.

تعزيز اللغة ودعمها:

- أكرّر المصطلحات: (المضاعف، المضاعفات المشتركة، المضاعف المشترك الأصغر (م.م.أ)) أمام الطلبة، وأحرص على استعمالها من قبلهم.

مثال 1

أناقش الطلبة في حلّ المثال 1 على اللوح، باتباع الإجراءات الآتية:

- أطلب إلى أحد الطلبة كتابة مضاعفات العدد 8 على اللوح.
- أطلب إلى آخر كتابة مضاعفات العدد 12 على اللوح.
- أطلب إلى الطلبة تحديد المضاعفات المشتركة بين العددين، ثم أطلب إليهم تحديد المضاعف الأصغر من بين المضاعفات المشتركة.
- أناقش مع الطلبة مزيداً من الأمثلة، للتحقق من تمكنهم من فكرة الدرس.

التقويم التكويني: ✓

أطلب إلى الطلبة حلّ تدريب (أتحقّق من فهمي) بعد كلّ مثال. أختار بعض الإجابات التي تحتوي على أخطاء مفاهيمية، وأناقش الطلبة فيها على اللوح. لا أذكر اسم صاحب الحلّ أمام الصفّ تجنّباً لإحراجهم.

مثال 2: من الحياة

- أوجّه الطلبة إلى قراءة المثال 2، ثم أناقشهم في الحلّ على اللوح، ثم أسأل الطلبة: « لماذا يكون ارتفاع الصناديق هو المضاعف المشترك الأصغر للعددين 18 و 24؟ **ستختلف إجابات الطلبة.** »
- أكتب العددين 18 و 24 على اللوح، وأطلب إلى أحد الطلبة تحليل العدد 18 إلى عوامله الأولية، وأطلب إلى آخر تحليل العدد 24 إلى عوامله الأولية.
- أطلب إلى الطلبة تحويط أكبر تكرار فقط لكل عامل أولي.
- أطلب إلى الطلبة إيجاد المضاعف المشترك الأصغر للعددين 18 و 24 بضرب جميع العوامل التي تم تحويطها.
- أناقش مع الطلبة مزيداً من الأمثلة، للتحقق من تمكنهم من فكرة الدرس.

أدرب وأحلّ المسائل:

- أوجّه الطلبة إلى فقرة (أدرب وأحلّ المسائل)، ثم أطلب إليهم حل المسائل (8-1)، ضمن مجموعات ثنائية داخل الغرفة الصفية؛ فهذه المسائل تحديداً ترتبط ارتباطاً مباشراً بأمثلة الدرس، وهي تُستعمل خاصةً لتدريب الطلبة على المفاهيم نفسها، بصرف النظر عما إذا كانت الأسئلة فردية أم زوجية.
- إذا واجه الطلبة صعوبة في حل أيّ مسألة، فإنني أختار أحد الطلبة ممن تمكن/ تمكنت من حل المسألة؛ لمناقشة استراتيجيته/ استراتيجيتها في حل المسألة على اللوح، مُحفّزاً الطلبة على طرح أيّ تساؤل عن خطوات الحل المُقدّمة من زميل/ الزميلة.

الواجب المنزلي:

أسّعتين بالجدول الآتي لتحديد الواجب المنزلي للطلبة بحسب مستوياتهم:

المستويات	الأسئلة
دون المتوسط	كتاب الطالب: 10 كتاب التمارين: (7 - 1)
ضمن المتوسط	كتاب الطالب: 9, 10 كتاب التمارين: 2, 4, 6, 7
فوق المتوسط	كتاب الطالب: (12 - 10) كتاب التمارين: (10 - 8)

مهارات التفكير العليا

- أوجّه الطلبة إلى فقرة (مهارات التفكير العليا)، ثم أطلب إليهم حل المسائل (12 - 11).
- أرصد أيّة أفكار غير تقليدية من الطلبة، ثم أطلب إلى هؤلاء الطلبة كتابة هذه الأفكار على اللوح.
- أناقش الطلبة في سؤال 11 مسألة مفتوحة، وأقسّم إجابات الطلبة إلى مجموعتين (إن أمكن)، وأقدم لهم الحلّ الصحيح.
- أناقش الطلبة في سؤال 12 تحدّد، وأعطيهم مثالاً على ذلك، ثم أطلب إليهم مثالاً آخر، وأطلب إليهم استنتاج العلاقة.

الوَحْدَةُ 3

وَيُمْكِنُنِي أَيْضًا أَنْ أَجِدَ الْمُضَاعَفَ الْمُشْتَرَكَ الْأَصْغَرَ بِطَرِيقَةٍ أُخْرَى تَعْتَمِدُ عَلَى التَّحْلِيلِ إِلَى الْعَوَامِلِ الْأَوَّلِيَّةِ.

مثال 2: من الحياة

زراعة: وَضِعَ مُزَارِعٌ مُنتَجَاتِهِ فِي نَوْعَيْنِ مِنَ الصَّنَادِيْقِ، اِرْتِفَاعُ أَحَدِهِمَا 18 cm وَارْتِفَاعُ الْآخَرِ 24 cm، ثُمَّ وَضَعَ الصَّنَادِيْقَ حَسَبَ نَوْعِهَا فَوْقَ بَعْضِهَا فِي عَمُوْدَيْنِ مُتَجَاوِزَيْنِ، وَتَوَقَّفَ عِنْدَمَا أَصْبَحَ لِلْعَمُوْدَيْنِ الِارْتِفَاعُ نَفْسَهُ. كَمْ بَلَغَ ارْتِفَاعُ الصَّنَادِيْقِ فِي الْعَمُوْدَيْنِ؟

ارْتِفَاعُ الصَّنَادِيْقِ هُوَ الْمُضَاعَفُ الْمُشْتَرَكُ الْأَصْغَرُ لِلْعَدَدَيْنِ 18 وَ 24.

الخطوة 1) أحلّل العددين 18 و 24 إلى عوامليهما الأوليّة.

2	18
3	9
3	3
	1

$18 = 2 \times 3 \times 3$

2	24
2	12
2	6
3	3
	1

$24 = 2 \times 2 \times 2 \times 3$

الخطوة 2) أحوط أكبر تكرار فقط لكل عاملٍ أوليّ.

$$18 = 2 \times (3 \times 3)$$

ظَهَرَ الْعَامِلُ 3 أَكْبَرَ عَدَدٍ مِنَ الْمَرَّاتِ هُنَا

$$24 = (2 \times 2 \times 2) \times 3$$

ظَهَرَ الْعَامِلُ 2 أَكْبَرَ عَدَدٍ مِنَ الْمَرَّاتِ هُنَا

الخطوة 3) أجد (م. م. أ) بضرب جميع العوامل التي تم تحويطها في الخطوة السابقة.

$$2 \times 2 \times 2 \times 3 \times 3 = 72$$

إِذَنْ، بَلَغَ ارْتِفَاعُ الصَّنَادِيْقِ فِي الْعَمُوْدَيْنِ 72 cm

أتحقق من فهمي:

أجد المضاعف المشترك الأصغر للعددين 48، 72.

$$72 = 2 \times 2 \times 2 \times 3 \times 3$$

$$48 = 2 \times 2 \times 2 \times 2 \times 3$$

المضاعف المشترك الأصغر هو:

$$144 = 2 \times 2 \times 2 \times 2 \times 3 \times 3$$

إرشاد: أذكر الطلبة بالأعداد الأولية حتى 100، وأطلب إليهم كتابتها على لوحة.

التطبيق:

- أوجّه الطلبة إلى تنفيذ النشاط 4 من أنشطة التدريب الإضافية.

5

الإثراء

أوجّه الأسئلة الآتية لإثراء تعلم الطلبة:

- أذكر المضاعف المشترك الأصغر للأعداد 2، 8، 12، 24
- هل يمكن أن يكون أحد العددين هو المضاعف المشترك الأصغر لهما؟ أعطى مثالاً. 10، 5

المفاهيم العابرة للمواد:

أؤكد على المفاهيم العابرة للمواد حيثما وردت في كتاب الطالب أو التمارين. في السؤال 7، أعزز الوعي بالمهارات الحياتية والوعي الصحي عند الطلبة وثقافة مراجعة الطبيب، وأهمية الرياضة من الناحية الصحية للجسم، وأعطيتهم بعض المعلومات عن مرض السكري، وأطلب إلى الطلبة البحث في الإنترنت عن طرق الوقاية من هذا المرض.

6

الختام

- أوجّه الطلبة إلى فقرة **أتحدث**، للتأكد من فهم الطلبة لموضوع الدرس.
 - أطلب إلى بعض الطلبة ذوي المستوى المتوسط أو دون المتوسط الإجابة عن السؤال.
 - إن لزم الأمر، أتحدث من فهم الطلبة، بطرح سؤال عليهم، مثل:
- « أجد المضاعف المشترك الأصغر لكل مما يأتي:

1 9, 6 18

2 12, 15 30

أَتَدْرَبُ وَأَذَلُّ الْمَسَائِلَ

أجد المضاعف المشترك الأصغر لكل مما يأتي:

- 1 6, 8 24 2 10, 12 60 3 14, 15 210
4 12, 36 36 5 4, 10 20 6 2, 13 26



7 مغلوفة
داء السكري هو مرض مزمن يحدث عندما يعجز البنكرياس عن إنتاج الأنسولين وهو هرمون ينظم مستوى السكر في الدم.

أدوية: تراجع سمر العيادة لصرف دواء مريض السكري كل 3 أسابيع، بينما تراجع علي العيادة كل 5 أسابيع. إذا تراجع كل منهما العيادة في هذا الأسبوع، فبعد كم أسبوعاً سيراجعان العيادة معاً مرة أخرى؟ **15 أسبوعاً.**

8 **طسب:** تعمل ملك وبنى طبيبتين في مستشفى، وخلال مناوبتهما تتفقد ملك قسم الطوارئ كل ساعتين، بينما تتفقد بنى كل 3 ساعات، إذا التقت الطبيبتان في قسم الطوارئ عند بداية دوامهما، فبعد كم ساعة ستلتقيان مرة أخرى في قسم الطوارئ إذا كانت مناوبتهما 12 ساعة؟ **بعد 6 ساعات، وفي نهاية دوامهما.**



9 **مصباح:** يضيء مصباح تحذيري باللون الأخضر مرة كل 8 ثوان، ويضيء مصباح تحذيري آخر باللون الأحمر مرة كل 6 ثوان، إذا أضاء المصباحان في اللحظة نفسها، فبعد كم ثانية سيضيء المصباحان معاً مرة أخرى؟ **بعد 24 ثانية.**

10 أعود إلى فقرة (استكشيف) وأجد أقل عدد من الدورات اللازمة كي تلتقي البكرتان مرة أخرى عند العلامة الحمراء؟ **البكرة الكبيرة دورتان والبكرة الصغيرة 3 دورات.**

مهارات التفكير العليا

11 **مسألة مفتوحة:** إذا علمت أن العدد 20 هو المضاعف المشترك الأصغر لعددين؛ فما هما العددين؟ **(20, 10), (5, 4).**

أحدث: تحلل العددين 24 و 18 إلى عواملهما الأولية.
 $18 = 2 \times 3 \times 3$
 $24 = 2 \times 2 \times 2 \times 3$
نأخذ عدداً واحداً من كل عاملين مشتركين 2، 3. ونأخذ العوامل الباقية ونضرب الأعداد جميعها التي أخذناها:
 $72 = 2 \times 2 \times 3 \times 2 \times 3$

12 **تحذير:** ما المضاعف المشترك الأصغر لعددين أوليين؟ **حاصل ضربهما.**

أتحدث: أشرح كيف أجد (م. م. أ) للعددين 18، 24 باستخدام التحليل إلى العوامل.

نتائج الدرس:

- إيجاد مربع العدد والجذر التربيعي للعدد.

نتائج التعلم القبلي:

- مضاعفات الأعداد.
- إيجاد عوامل العدد.

مراجعة التعلّم القبلي ومعالجة الفاقد التعليمي:

أسترشد بالإجراءات المبيّنة في مقدمة دليل المعلم (الصفحتان I و J) المتعلقة بمراجعة التعلم القبلي ومعالجة الفاقد التعليمي لدى الطلبة.

التهيئة

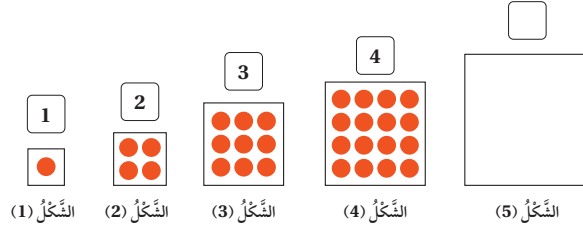
1

أجري النشاط الآتي:

- أوزّع أوراق فارغة على الطلبة، ثم أطلب إلى كل طالب/ طالبة اختيار عدد (2 - 12)، ثم ضرب العدد بنفسه، ثم يعطي الناتج لزميله/ لزميلها ليتأكد من صحة الإجابة.

أستكشف

إذا استمّر رسم الأشكال أدناه بالنمط نفسه، فكَم عدد نقاط الشكل الخامس؟ وما العدد الذي سأكتبه في ؟



مِكرَةُ الدَّرْسِ

أجد مَرَبُّعَ الْعَدَدِ، وَالْجَذْرَ التَّرْبِيعِيَّ لِلْعَدَدِ.

الْمُصْطَلِحَاتُ

مَرَبُّعُ الْعَدَدِ، الْمَرَبُّعُ الْكَامِلُ، الْجَذْرُ التَّرْبِيعِيُّ

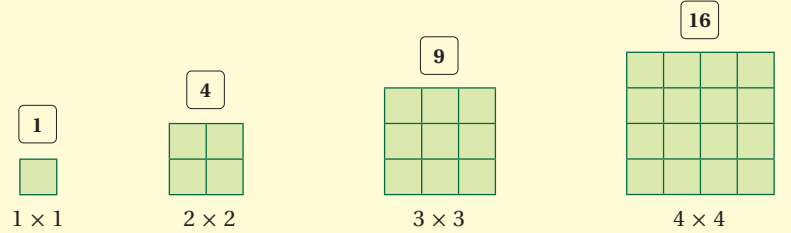
أَتَعَلَّمُ

مَرَبُّعُ الْعَدَدِ (square number) هُوَ نَاتِجُ ضَرْبِ الْعَدَدِ فِي نَفْسِهِ. وَيُرْمَزُ لِمَرَبِّعِ الْعَدَدِ 3 بِالرَّمْزِ 3^2 ، وَيُقْرَأُ (ثَلَاثَةٌ تَرْبِيعٌ)، وَيُسَمَّى مَرَبُّعَ الْعَدَدِ الْكُلِّيِّ مَرَبُّعًا كَامِلًا (perfect square).

$$3^2 = 3 \times 3 = 9$$

عَابِلَيْنِ مُتَسَاوِيَيْنِ

مَرَبُّعٍ كَامِلٍ



مَرَبُّعُ الْعَدَدِ 2 هُوَ (2×2)

أَوْ 4، وَيُرْمَزُ لِمَرَبِّعِ الْعَدَدِ 2 بِالرَّمْزِ 2^2

الْعَدَدُ 9 مَرَبُّعٌ كَامِلٌ؛ لِأَنَّهُ نَاتِجُ ضَرْبِ عَدَدٍ بِنَفْسِهِ، وَهُوَ (3×3) ؛ أَي $3^2 = 3 \times 3 = 9$

مَرَبُّعُ الْعَدَدِ 4 هُوَ (4×4)

أَوْ 16؛ أَي $4^2 = 4 \times 4 = 16$



- أوجّه الطلبة إلى قراءة المسألة في فقرة **أستكشف**، وأسأل:
« كم عدد نقاط الشكل الرابع؟
« ما العدد الذي سنكتبه فوق الشكل الخامس؟
• أعزّز الإجابات الصحيحة.

تعزيز اللغة ودعمها:

أكرّر المصطلحات: (مربع العدد، المربع الكامل، الجذر التربيعي) أمام الطلبة، وأحرص على استعمالها من قبلهم.

- أراجع الطلبة بمفهوم كل من: مضاعفات العدد، وعوامل العدد، والأعداد الأولية.
- أناقش الطلبة في فقرة **أتعلّم**، موضحاً لهم مفهوم مربع العدد ومفهوم المربع الكامل.

- أناقش الطلبة في حلّ المثال 1 على اللوح، وأذكرهم بأن مربع العدد ليس العدد مضروباً في 2

التقويم التكويني: ✓

أطلب إلى الطلبة حلّ تدريب (**أتحقّق من فهمي**) بعد كلّ مثال. أختار بعض الإجابات التي تحتوي على أخطاء مفاهيمية، وأناقش الطلبة فيها على اللوح. لا أذكر اسم صاحب الحلّ أمام الصفّ تجنّباً لإحراجهم.

مثال 2: من الحياة



- أوضح للطلبة مفهوم الجذر التربيعي للمربع الكامل، وأكتب لهم على اللوح رمز الجذر التربيعي المستعمل للدلالة على الجذر التربيعي للمربع الكامل.
- أوجّه الطلبة إلى قراءة المثال 2، ثم أناقشهم في الحلّ على اللوح.

أُتَدْرَبُ وَأَحْلُ الْمَسْأَلَاتِ:

- أُوجِّهُ الطَّلِبَةَ إِلَى فِقْرَةِ (أُتَدْرَبُ وَأَحْلُ الْمَسْأَلَاتِ)، ثُمَّ أَطْلُبُ إِلَيْهِمْ حُلَّ الْمَسْأَلَاتِ (6-1)، وَضَمَّنَ مَجْمُوعَاتٍ ثَنَائِيَّةً دَاخِلَ الْغُرْفَةِ الصَّفِيَّةِ؛ فَهَذِهِ الْمَسْأَلَاتُ تُحَدِّدُ تَرْبِطَ ارْتِبَاطًا مَبَاشِرًا بِأَمَثَلَةِ الدَّرْسِ، وَهِيَ تُسْتَعْمَلُ خَاصَّةً لِتَدْرِيبِ الطَّلِبَةِ عَلَى الْمَفَاهِيمِ نَفْسِهَا، بِصَرَفِ النَّظَرِ عَمَّا إِذَا كَانَتِ الْأَسْئَلَةُ فَرْدِيَّةً أَمْ زَوْجِيَّةً.
- إِذَا وَاجَهَ الطَّلِبَةَ صَعُوبَةً فِي حَلِّ أَيِّ مَسْأَلَةٍ، فَإِنِّي أَخْتَارُ أَحَدَ الطَّلِبَةِ مِمَّنْ تَمَكَّنَ / تَمَكَّنَتْ مِنْ حَلِّ الْمَسْأَلَةِ؛ لِمُنَاقَشَةِ اسْتِرَاطِيَجِيَّتِهِ / اسْتِرَاطِيَجِيَّتِهَا فِي حَلِّ الْمَسْأَلَةِ عَلَى اللَّوْحِ، مُحَفِّزًا الطَّلِبَةَ عَلَى طَرَحِ أَيِّ تَسْأُؤٍ عَنِ خَطَوَاتِ الْحَلِّ الْمُقَدَّمَةِ مِنَ الزَمِيلِ / الزَمِيلَةِ.

الواجب المنزلي:

أَسْتَعِينُ بِالْجَدُولِ الْآتِي لِتَحْدِيدِ الْوَاجِبِ الْمَنْزَلِيِّ لِلطَّلِبَةِ بِحَسَبِ مَسْتَوِيَاتِهِمْ:

المستويات	الأسئلة
دون المتوسط	كتاب الطالب: 11, (7-9) كتاب التمارين: (1-12)
ضمن المتوسط	كتاب الطالب: (7-11) كتاب التمارين: 15, 13, (7-10), (3-6)
فوق المتوسط	كتاب الطالب: (12-14), 10, كتاب التمارين: (13-17)



مثال 1: أجد مربع كل من الأعداد الآتية:

1 8
 $8^2 = 8 \times 8 = 64$

2 9
 $9^2 = 9 \times 9 = 81$

أتحقق من فهمي:

أجد مربع كل من الأعداد الآتية:

1 7 $7^2 = 49$

2 5 $5^2 = 25$

3 10 $10^2 = 100$

الجذر التربيعي (square root) للمربع الكامل هو ذلك العدد الكلي الذي مربعه (العدد ضرب نفسه) يساوي المربع الكامل، فالجذر التربيعي للعدد 16 هو العدد 4 لأن $4 \times 4 = 16$ ويُستعمل الرمز $\sqrt{\quad}$ للدلالة على الجذر التربيعي للمربع الكامل.

أقرأه (الجذر التربيعي للعدد 16) $\rightarrow \sqrt{16} = 4$

مثال 2: من الحياة



حديقة مربعة الشكل مساحتها 81 m^2 ، أجد طول ضلعها.
بما أن الحديقة مربعة الشكل، فإن مساحتها هي ناتج ضرب طول ضلعها في نفسه.
إذن: ناتج ضرب عدد ما في نفسه يساوي 81. وهذا العدد هو الجذر التربيعي للعدد 81

$$\sqrt{81} = 9$$

إذن: طول ضلع الحديقة 9 m

أتحقق من فهمي:

حوض مزروعات مربع الشكل مساحته 36 m^2 ، أجد طول ضلعيه. الجذر التربيعي للعدد 36 هو 6.

أَتَدْرِبُ وَأَدْخُلُ الْمَسَائِلَ

أَجِدُ مَرَبِعَ كُلِّ عَدَدٍ مِمَّا يَأْتِي:

1 4 16

2 6 36

3 11 121


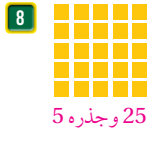
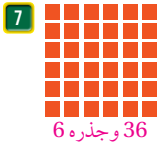
ما العَدَدُ الَّذِي يُعَدُّ مَرَبِعًا كَامِلًا مِمَّا يَأْتِي؟ أفسّر إجابتِي. أنظر إلى الملحق.

4 1

5 45

6 144

أَسْمِي الْمُرَبَّعَ الْكَامِلَ الَّذِي تُمَثِّلُهُ كُلُّ شَبَكَةِ مِمَّا يَأْتِي، ثُمَّ أجدُ جَذْرَهُ.



×	1	2	3	4	5	6	7	8	9	10
1	1	2	3	4	5	6	7	8	9	10
2	2	4	6	8	10	12	14	16	18	20
3	3	6	9	12	15	18	21	24	27	30
4	4	8	12	16	20	24	28	32	36	40
5	5	10	15	20	25	30	35	40	45	50
6	6	12	18	24	30	36	42	48	54	60
7	7	14	21	28	35	42	49	56	63	70
8	8	16	24	32	40	48	56	64	72	80
9	9	18	27	36	45	54	63	72	81	90
10	10	20	30	40	50	60	70	80	90	100

10 عُمُرُ دَلَالِ 4 أَعْوَامٍ، وَعُمُرُ دَانِيَا مَرَبِعُ عُمُرِ دَلَالٍ، فَكَمْ عُمُرُ دَانِيَا؟ عَمْرُ دَانِيَا 16 عَامًا.

11 أَسْتَعْمِلُ لَوْحَةَ الْأَعْدَادِ الْمُجَاوِرَةَ فِي تَحْدِيدِ 5 مَرَبَعَاتٍ كَامِلَةٍ وَالْجَذْرَ التَّرْبِيعِيَّ لِكُلِّ مِنْهَا.

أفسّر إجابتِي. أنظر إلى الملحق.

مَهَارَاتُ التَّفْكِيرِ الْعَلِيَا

12 أكتشف الخطأ: قال عامر إن مربع العدد 7 هو 14، أجد خطأ عامر وأصححهُ.

13 أكتشف المختلف: ما العدد المختلف في الأعداد الآتية؟ أفسّر إجابتِي.

9

99

121

49

العدد المختلف هو 99؛ لأنه ليس مربعًا كاملًا، بينما بقية الأعداد مربعات كاملة.

14 تحدّ: زرعت مريم حوصين بالأزهار، أحدهما مستطيل الشكل طوله 9 m وعرضه 4 m، والآخر مربع الشكل. إذا كان للحوصين المساحة نفسها؛ فكَمْ طول ضلع المربع؟ مساحة المستطيل $9 \times 4 = 36$ ، والحوض الثاني مربع له المساحة نفسها 36، إذن: طول ضلع المربع 6 m

أَتَحَدَّثُ: أشرح كيف أميز بين مربع العدد ومثليه.

مربع العدد هو ناتج ضرب العدد في نفسه، بينما مثله هو ناتج ضرب العدد في 2.

مهارات التفكير العليا

- أوجّه الطلبة إلى فقرة (مهارات التفكير العليا)، ثم أطلب إليهم حل المسائل (12 - 14).
- أرسد آية أفكار غير تقليدية من الطلبة، ثم أطلب إلى هؤلاء الطلبة كتابة هذه الأفكار على اللوح.
- أناقش الطلبة في سؤال 12 أكتشف الخطأ، وأقسّم إجابات الطلبة إلى مجموعتين (إن أمكن)، وأقدم لهم الحلّ الصحيح، وأذكر الطلبة بأنّ الدرس يركّز على مربع العدد وليس على مضاعف العدد.
- أناقش الطلبة في سؤال 13 أكتشف المختلف، وأطلب إليهم تحديد المربع الكامل منها؛ لاكتشاف العدد المختلف منها.
- أناقش الطلبة في سؤال 14 تحدّ، وأرسم مستطيلًا على اللوح، ثم أرسم مربعًا لتكون الصورة أوضح للطلبة.

التطبيق:

- أوجّه الطلبة إلى تنفيذ النشاط 3 من أنشطة التدريب الإضافية.
- أوجّه الطلبة إلى تنفيذ النشاط 4 من أنشطة التدريب الإضافية.

الإثراء

5

- أوجّه الأسئلة الآتية لإثراء تعلّم الطلبة:

- « أذكر مثالاً لمربعين كاملين، حاصل ضربهما يُعطي مربعًا كاملًا. 9, 4
- « أذكر مثالاً لمربعين كاملين، حاصل جمعهما يُعطي مربعًا كاملًا. 16, 9

مشروع الوحدة:

- أطلب إلى الطلبة تنفيذ الخطوة 3 من خطوات المشروع.
- أذكر الطلبة بأنّ موعد عرض نتائج المشروع قريب؛ لذا يتعيّن عليهم وضع اللمسات النهائية على المشروع، والتأكد أنّ جميع عناصر المشروع متوافرة يوم العرض.

الختام

6

- أستعمل فقرة أتحدّث، للتأكد من فهم الطلبة لموضوع الدرس.
- أطلب إلى بعض الطلبة ذوي المستوى المتوسط أو دون المتوسط الإجابة عن السؤال.
- إن لزم الأمر، أتحدّث من فهم الطلبة، بطرح سؤال عليهم، مثل:

« أجد مربع كل مما يأتي:

1 7 49

2 9 81

اختبار نهاية الوحدة

اختبار نهاية الوحدة

- يُمكنني التحقق من فهم الطلبة للمهارات الواردة في الوحدة، وقدرتهم على تطبيقها تطبيقًا صحيحًا عن طريق اختبار نهاية الوحدة الذي يتكوّن من:

« أسئلة موضوعية.

« أسئلة ذات إجابة قصيرة.

« تدريب على الاختبارات الدولية.

- أوجه الطلبة إلى حلّ الأسئلة الموضوعية من اختبار نهاية الوحدة بصورة فردية، وأناقشهم في حلولهم.

- أكرّر مع الأسئلة ذات الإجابة القصيرة، ثم مع الأسئلة الدولية.

6 العايل المُشترَك الأكبر لِأعداد 24, 48, 84 هو: b

- a) 6 b) 12
c) 8 d) 24

7 أصلُ بخطّ بين العددين ومربعيه:

مربع العدد	العدد
225	9
49	15
3	6
81	7
36	

8 أصعُ إشارة (✓) أمام الجُملة الصحيحة، وإشارة (X) أمام الجُملة غير الصحيحة:

- (a) العايل المُشترَك الأكبر لِعددين زوجيين يجب أن يكون عددًا زوجيًا. ✓
(b) المضاعف المُشترَك الأصغر لِعددين أوليين هو عدد أولي. X
(c) العدد 18 هو مربع كامل للعدد 9. X
(d) العدد 2512 يقبل القسمة على 9 من دون باقي. X

أسئلة موضوعية

أختارُ الإجابة الصحيحة في كُلِّ مما يأتي:

1 العايل المُشترَك الأكبر لِعددين 36, 60 هو: b

- a) 4 b) 12
c) 15 d) 18

2 العدد الذي يقبل القسمة على 9 مما يأتي هو: c

- a) 1818271 b) 96541232
c) 27271845 d) 986523

3 المضاعف المُشترَك الأصغر لِعددين 3, 5 هو: a

- a) 15 b) 18
c) 30 d) 1

4 الأعداد الآتية عوايل أولية للعدد 60 ما عدا: d

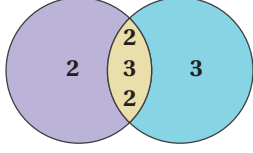
- a) 2 b) 3
c) 5 d) 6

5 أيُّ الأعداد الآتية تحلُّبهُ $5 \times 3 \times 2$ ؟ c

- a) 120 b) 60
c) 30 d) 15

تدريب على الاختبارات الدولية:

14 يُبينُ شكْل (فن) أدناه تحليل عددين إلى عواملهما الأوليّة، ما العبارة الصحيحة مما يأتي؟ c



(a) (م.م) أ. للعددين هو 12.

(b) (م.م) أ. للعددين هو 36.

(c) (م.م) أ. للعددين هو 72.

(d) (م.م) أ. للعددين هو 24.

15 العدد 5562 لا يقبل القسمة على: a

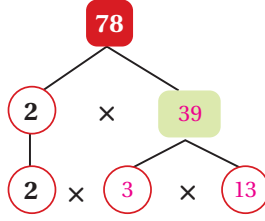
- (a) 4 (b) 6
(c) 9 (d) 2

16 ما قيمة (ع.م) أ. للعددين 14، 18؟ a

- (a) 2 (b) 3
(c) 4 (d) 5

أَسْئَلَةٌ دَائِمَةٌ إِبَاطَةً قَصِيْرَةً:

9 أُمْلِ شَجَرَةَ الْعَوَامِلِ الْآتِيَةِ؛ لِأَحْلَلِ الْعَدَدَ 78 إِلَى عَوَامِلِهِ الْأَوَّلِيَّةِ.



10 أجد عددين أوليين، المضاعف المشترك الأصغر لهما 14، 7، 2.

11 أجد عددين مجموعتهما 11، والمضاعف المشترك الأصغر لهما 24، 3، 8.

12 عددان كل واحد منهما أقل من 40، ويقبلان القسمة على 4، والمضاعف المشترك الأصغر لهما 72، والعامل المشترك الأكبر لهما 12؛ فما العددان؟ 36، 24

13 أكتب عددًا مربعه يساوي العدد نفسه. 1

تدريب على الاختبارات الدولية:

• أعرف الطلبة بالاختبارات الدولية، وأبين لهم أهميتها، ثم أوجههم إلى حل الأسئلة في فقرة (تدريب على الاختبارات الدولية) فريدًا، ثم أناقشهم في إجاباتها على اللوح.

• أحفز الطلبة على الاهتمام بحل هذه الأسئلة ومثيلاتها، والمشاركة في الدراسات وبرامج التقييم الدولية بكل جدية، وأحرص على تضمين اختباراتي المدرسية نماذج مماثلة لهذه الأسئلة.

كتاب التمارين

الْوَحْدَةُ 3

خصائص الأعداد

أستعد لإدراة الوحدَة

قابليَة القسمة على 2, 3, 5, 10 (الدَّرْس 1)

1 أحوط الأعداد التي تقبل القسمة على 2 في ما يأتي:

1235 308 765 560 914 367 241

2 أحوط الأعداد التي تقبل القسمة على 3 في ما يأتي:

4321 752 324 621 587 321 490

3 أحوط الأعداد التي تقبل القسمة على 5 أو على 10 في ما يأتي:

1253 795 680 336 155 70 91

مثال:

(a) أختبر قابليَة قسمة العدَد 2648 على 2
متزلة الأحادي هي 8 وهو عدد زوجي.
لذا، فإن العدَد 2648 يقبل القسمة على 2

(b) أختبر قابليَة قسمة العدَد 3491 على 3
مجموع متازلي العدَد 3491:
 $3 + 4 + 9 + 1 = 17$
17 لا يقبل القسمة على 3
لذا، فإن العدَد 3491 لا يقبل القسمة على 3

(c) أختبر قابليَة قسمة العدَد 225 على 5
متزلة الأحادي في العدَد 225 هي 5
لذا، فإن العدَد 225 يقبل القسمة على 5

(d) أختبر قابليَة قسمة العدَد 475 على 10
متزلة الأحادي في العدَد 475 هي 5
لذا، فإن العدَد 475 لا يقبل القسمة على 10

مثال: أعدد العدَد إذا كان أولي أم غير أولي مما يأتي:

(a) العدَد 76 يقبل القسمة على 1 وعلى نفسه أيضاً، وهو يقبل القسمة على 2 لأن آحاده عدد زوجي؛ لذا، يوجد للعدَد 76 أكثر من عاملين. إذن: هو عدد غير أولي.

(b) العدَد 31 يقبل القسمة على 1 وعلى نفسه أيضاً، لكنه لا يقبل القسمة على أي عدد غيرهما، إذن: هو عدد أولي.

2	3	4	5	6	7	8	9	10	
11	12	13	14	15	16	17	18	19	20
21	22	23	24	25	26	27	28	29	30
31	32	33	34	35	36	37	38	39	40
41	42	43	44	45	46	47	48	49	50

34

الْوَحْدَةُ 3

خصائص الأعداد

أستعد لإدراة الوحدَة

قابليَة القسمة على 2, 3, 5, 10 (الدَّرْس 1)

1 أحوط الأعداد التي تقبل القسمة على 2 في ما يأتي:

1235 308 765 560 914 367 241

2 أحوط الأعداد التي تقبل القسمة على 3 في ما يأتي:

4321 752 324 621 587 321 490

3 أحوط الأعداد التي تقبل القسمة على 5 أو على 10 في ما يأتي:

1253 795 680 336 155 70 91

مثال:

(a) أختبر قابليَة قسمة العدَد 2648 على 2
متزلة الأحادي هي 8 وهو عدد زوجي.
لذا، فإن العدَد 2648 يقبل القسمة على 2

(b) أختبر قابليَة قسمة العدَد 3491 على 3
مجموع متازلي العدَد 3491:
 $3 + 4 + 9 + 1 = 17$
17 لا يقبل القسمة على 3
لذا، فإن العدَد 3491 لا يقبل القسمة على 3

(c) أختبر قابليَة قسمة العدَد 225 على 5
متزلة الأحادي في العدَد 225 هي 5
لذا، فإن العدَد 225 يقبل القسمة على 5

(d) أختبر قابليَة قسمة العدَد 475 على 10
متزلة الأحادي في العدَد 475 هي 5
لذا، فإن العدَد 475 لا يقبل القسمة على 10

مثال: أعدد العدَد إذا كان أولي أم غير أولي مما يأتي:

(a) العدَد 76 يقبل القسمة على 1 وعلى نفسه أيضاً، وهو يقبل القسمة على 2 لأن آحاده عدد زوجي؛ لذا، يوجد للعدَد 76 أكثر من عاملين. إذن: هو عدد غير أولي.

(b) العدَد 31 يقبل القسمة على 1 وعلى نفسه أيضاً، لكنه لا يقبل القسمة على أي عدد غيرهما، إذن: هو عدد أولي.

33

الْوَحْدَةُ 3

خصائص الأعداد

أستعد لإدراة الوحدَة

إيجاد عوامل أعداد كليَة (الدَّرْس 3)

أجد المضاعفات الشبَة الأولى لكل عدَد مما يأتي:

9 4 4, 8, 12, 16, 20, 24 10 5 5, 10, 15, 20, 25, 30 11 7 7, 14, 21, 28, 35, 42

12 أي الأعداد الآتية مضاعف للعدَد 8؟ أتر إجابتي.

13 أي الأعداد الآتية مضاعف للعدَد 2 و 3 معاً؟ أتر إجابتي.

14 أجد المضاعفات العشرة الأولى للعدَد 6

1 × 6 = 6 6 × 6 = 36
2 × 6 = 12 7 × 6 = 42
3 × 6 = 18 8 × 6 = 48
4 × 6 = 24 9 × 6 = 54
5 × 6 = 30 10 × 6 = 60

إذن: المضاعفات العشرة الأولى للعدَد 6، هي:
6, 12, 18, 24, 30, 36, 42, 48, 54, 60

36

الْوَحْدَةُ 3

خصائص الأعداد

أستعد لإدراة الوحدَة

إيجاد عوامل أعداد كليَة (الدَّرْس 3)

أجد في المربعات أزواج عوامل الأعداد الآتية جميعها:

5 22 6 18 7 45 8 81

مثال: أجد عوامل العدَد 70

أستعمل قواعد قابليَة القسمة:

- العدَد 70 يقبل القسمة على 2، ونتيج القسمة هو 35، إذن: العدَدان 2 و 35 عاملان للعدَد 70
- العدَد 70 يقبل القسمة على 5، ونتيج القسمة هو 14، إذن: العدَدان 5 و 14 عاملان للعدَد 70
- العدَد 70 يقبل القسمة على 10 ونتيج القسمة هو 7، إذن: العدَدان 7 و 10 عاملان للعدَد 70
- إذن: عوامل العدَد 70، هي 1، 2، 5، 7، 10، 14، 35، 70.

35

كتاب التمارين

الدرس 1 قابليّة القسمة على 4, 6, 9 (تابع)

10 أحلّ ألهمر بحيث يكون مجموع كل رقمين يساوي الرقم فوقهما مباشرة.

5	4		
5	0	4	
4	0	0	4

يقبل القسمة على 9
يقبل القسمة على 6
يقبل القسمة على 4

11 اعتبر المتاعه:

104	808	613	182	288
يقبل القسمة على 4	يقبل القسمة على 4	يقبل القسمة على 4	يقبل القسمة على 4	يقبل القسمة على 4
لا	نعم	لا	نعم	نعم
نعم	لا	لا	لا	نعم
266	464	126	500	
يقبل القسمة على 4	يقبل القسمة على 4	يقبل القسمة على 4	يقبل القسمة على 4	
نعم	نعم	نعم	نعم	
لا	نعم	لا	لا	
892	200	964	945	
يقبل القسمة على 4	يقبل القسمة على 4	يقبل القسمة على 4	يقبل القسمة على 4	
نعم	نعم	لا	لا	

12 أنا عدد مكون من 4 منازل، أحادي تقبل القسمة على 4 وهي أكثر من 4، وعشري تقبل القسمة على 3 وهي مثلي رقمي، والآلي تقبل القسمة على 5، فمن أنا؟ 5368

38

الدرس 1 قابليّة القسمة على 4, 6, 9

أستخدم الأعداد الموجودة في البطاقات، لملء الفراغات في كل جملة مما يأتي، ثم أحول كلاً منها بترتيب لسبب قابليّة القسمة. أستخدم كل عدد مرّة واحدة فقط.

62	634	2	900	4	995	5	870
----	-----	---	-----	---	-----	---	-----

1 634 يقبل القسمة على 2 لأن العدد زوجي.

2 900 يقبل القسمة على 5 لأن آحاده 0.

3 975 يقبل القسمة على 5 لأن آحاده 5.

4 870 يقبل القسمة على 10 لأن آحاده 0.

5 876 يقبل القسمة على 4 لأن 76 يقبل القسمة على 4.

6 أراد صاحب مكتبة توزيع 104 كتاب على 6 رفوف بالتساوي، فهل يمكنه ذلك؟ أفسر إجابتي.
لا يمكن توزيعها على 6 بالتساوي؛ لأن 104 لا يقبل القسمة على 6.

أبدل أماكن أرقام العدد 4563 بحيث يصبح:

7 قابلاً للقسمة على 6 وتغير قابل للقسمة على 4. العدد 6354 يقبل القسمة على 6 ولا يقبل القسمة على 4.

8 قابلاً للقسمة على 9 وتغير قابل للقسمة على 4. يبقى العدد 4563 يقبل القسمة على 9، ولا يقبل القسمة على 4 أو 6534.

9 قابلاً للقسمة على 9 وتغير قابل للقسمة على 6. 4653 أو كما هو.

37

الدرس 2 تحليل العدد إلى عوامله الأولية

أحلّل كل عدد مما يأتي إلى عوامله الأولية:

1 $100 = 2 \times 2 \times 5 \times 5$

2 $98 = 2 \times 7 \times 7$

3 $144 = 2 \times 2 \times 2 \times 2 \times 3 \times 3$

4 $45 = 3 \times 3 \times 5$

5 أراد عبد الرحمن توزيع 14 كُرسيًا في صفين، بحيث يكون عدد الكراسي في كل صف عددًا أوليًا، فهل يمكنه فعل ذلك؟ نعم، يضع 7 كراسي في كل من الصفين.

أحول سجرة التحليل إلى العوامل الأولية في كل مما يأتي:

6

```

    20
   /  \
  2    10
      /  \
     2    5
  
```

7

```

    36
   /  \
  2    18
      /  \
     2    9
        /  \
       3    3
  
```

8

```

    63
   /  \
  3    21
      /  \
     3    7
  
```

9

```

    45
   /  \
  5    9
      /  \
     3    3
  
```

10 يتلّع عدد طوابق برج الساعة في منكة المكرمة 120 طابقًا. أحلّل العدد 120 إلى عوامله الأولية.
 $120 = 2 \times 2 \times 2 \times 3 \times 5$

39

كتاب التمارين

الدرس 3 العوامل المشتركة الأكبر

أوجد العوامل المشتركة الأكبر لكل عددين مما يأتي:

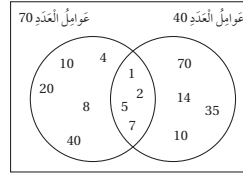
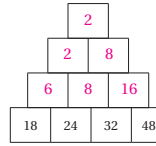
- 1 4, 8 4 2 6, 15 3 3 18, 22 2 4 15, 25 5

5 برعت تاجر تنفيذ مشروع خيري عن طريق توزيع 50 كيسا من الأرز، و 45 كيسا من السكر على عدد من الفقراء، بحيث يأخذ كل فقير العدة نفسه من الألبان من كل نوع، ما أكبر عدد من الفقراء الذين يمكنهم الاستفادة من هذا المشروع؟ 5

أكتب العوامل المشتركة الأكبر في:



8 أوجد العوامل المشتركة الأكبر لكل من مرتين متجاورتين، وأكتب الإجابة في المربع الذي فوقهما مباشرة.



9 أكتشف الخطأ: استعمل سميّر شكل (ف) المجاور لإيجاد العوامل المشتركة الأكبر للعددين 40 و 70، لكيه اكتب بعض الأخطاء. أكتشف الأخطاء التي وقع فيها سميّر وأصححها.

كتب العوامل غير الأولية
تبدل أماكن العددين 70, 40
العدد 7 ليس عاملاً مشتركاً، لأن 40 لا يقبل القسمة على 7.

40

الدرس 4 المضاعف المشترك الأصغر

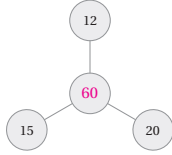
أجد المضاعف المشترك الأصغر لكل عددين مما يأتي:

- 1 5, 8 40 2 12, 15 60 3 10, 20 20
- 4 15, 30 30 5 12, 20 60 6 30, 45 90

7 فتلق: لدى فتى 100 عرقية، مرقمة من 1 إلى 100. تصح إدارة الفندق في العرف ذوات الأرقام من مضاعفات العدد 8 سجادات خمراء، وفي العرف من مضاعفات العدد 10 سجادات صفراء. أجد أرقام العرف التي سيكون فيها سجادات خمراء و صفراء معاً. 80, 40



8 أصغ المضاعف المشترك الأصغر في:



9 تثير: هل يوجد عددين مختلفان لهما العامل المشترك الأكبر والمضاعف المشترك الأصغر نفسهما؟ أبرز إجابتني.



10 يقدم مطعم وجبة سمك مرة واحدة كل 4 أيام، ويقدم مطعم آخر وجبة سمك مرة واحدة كل 5 أيام، إذا قدما وجبة السمك معاً، فبعد كم يوم سيقدّم المطعمان وجبة السمك معاً في المرة القادمة؟ 20 يوماً.

41

الدرس 5 مربع العدد والجذر التربيعي

أختار من المربع العدد المناسب لملء الفراغ في كل مما يأتي:

- 1 3^2 9 2 14^2 196
- 3 8^2 64 4 20^2 400
- 5 5^2 25 6 17^2 289

40	16	28	296	32	400
121	36	64	6	27	289
9	196	389	164	224	25

أختار من المربع العدد المناسب لملء الفراغ في كل مما يأتي:

- 7 $\sqrt{100}$ 10 8 $\sqrt{169}$ 13
- 9 $\sqrt{121}$ 11 10 $\sqrt{144}$ 12
- 11 $\sqrt{16}$ 4 12 $\sqrt{324}$ 18

5	7	12	11
14	128	18	50
8	13	10	4

13 إذا علمت أن عمر رجل 36 عاماً، وعمر ابني 7 أعوام، فهل مربع عمر الابن أكبر من عمر الأب؟ نعم مربع العدد 7 يساوي 49 وعمر الأب 36.

أجد طول ضلع كل مربع مما يأتي:

- 14 9 cm 15 11 cm 16 15 cm
- 81 cm² 121 cm² 225 cm²



17 يبلغ ارتفاع مبنى فندق (لو رويال) في العاصمة عمّان 105 m، فهل العدد 105 مربع كامل؟ أبرز إجابتني.

105 ليس مربعاً كاملاً؛ لأنه لا يوجد عدد كلي عند ضربه بنفسه يعطي 105.

42

إجابات الدرس 1:

أندرب: السؤال الأول - صفحة 61
يقبل القسمة على 4؛ لأن 84 يقبل القسمة على 4.

أندرب: السؤال الثاني - صفحة 61
لا يقبل القسمة على 4؛ لأن 46 لا يقبل القسمة على 4.

أندرب: السؤال الثالث - صفحة 61
لا يقبل القسمة على 4؛ لأن 70 لا يقبل القسمة على 4.

أندرب: السؤال الرابع - صفحة 61
يقبل القسمة على 6؛ لأنه يقبل القسمة على 2 وعلى 3.

أندرب: السؤال الخامس - صفحة 61
لا يقبل القسمة على 6؛ لأنه لا يقبل القسمة على 2.

أندرب: السؤال السادس - صفحة 61
يقبل القسمة على 6؛ لأنه يقبل القسمة على 2 وعلى 3.

أندرب: السؤال السابع - صفحة 62
يقبل القسمة على 9؛ لأن مجموع أرقامه 9.

أندرب: السؤال الثامن - صفحة 62
يقبل القسمة على 9؛ لأن مجموع أرقامه 27، والعدد 27 يقبل القسمة على 9.

أندرب: السؤال التاسع - صفحة 62
لا يقبل القسمة على 9؛ لأن مجموع أرقامه 12، والعدد 12 لا يقبل القسمة على 9.

إجابات الدرس 2:

أندرب: السؤال الرابع - صفحة 65
 $63 = 3 \times 3 \times 7$

أندرب: السؤال الخامس - صفحة 65
 $87 = 3 \times 29$

أندرب: السؤال السادس - صفحة 65
 $92 = 2 \times 2 \times 23$

أندرب: السؤال الأول - صفحة 65
 $126 = 2 \times 3 \times 3 \times 7$

أندرب: السؤال الثاني - صفحة 65
 $135 = 3 \times 3 \times 3 \times 5$

أندرب: السؤال الثالث - صفحة 65
 $108 = 2 \times 2 \times 3 \times 3 \times 3$

أُتدرب: السؤال الرابع - صفحة 75
مربع كامل لأنّه مربع للعدد 1.

أُتدرب: السؤال الخامس - صفحة 75
ليس مربعاً كاملاً؛ لأنّه لا يوجد عدد كَلّي عند ضربه في نفسه يعطي 45.

أُتدرب: السؤال السادس - صفحة 75
144 مربع كامل؛ لأنّه حاصل ضرب 12 في نفسه.

أُتدرب: السؤال الحادي عشر - صفحة 75
العدد 1 هو مربع كامل؛ لأنّه ناتج ضرب 1 مع نفسه، والجذر التربيعي له هو 1.
العدد 4 هو مربع كامل؛ لأنّه ناتج ضرب 2 مع نفسه، والجذر التربيعي له هو 2.
العدد 9 هو مربع كامل؛ لأنّه ناتج ضرب 3 مع نفسه، والجذر التربيعي له هو 3.
العدد 16 هو مربع كامل؛ لأنّه ناتج ضرب 4 مع نفسه، والجذر التربيعي له هو 4.
العدد 25 هو مربع كامل؛ لأنّه ناتج ضرب 5 مع نفسه، والجذر التربيعي له هو 5.



الكسور والعمليات عليها



مخطط الوحدة



عدد الحصص	الأدوات والمواد	المصطلحات	الأهداف	المحتوى
3	<ul style="list-style-type: none"> كرة مطاوية. حجر نرد. ألواح صغيرة. ورقة المصادر 8 	<ul style="list-style-type: none"> العدد الكسري. الكسر غير الفعلي. الكسر الفعلي. 	<ul style="list-style-type: none"> كتابة الكسر غير الفعلي في صورة عدد كسري. كتابة العدد الكسري في صورة كسر غير فعلي. 	الدرس 1: الأعداد الكسرية.
1	<ul style="list-style-type: none"> أقلام. مسطرة. ورقة المصادر 8 		<ul style="list-style-type: none"> إيجاد ناتج جمع الكسور والأعداد الكسرية؛ باستعمال خط الأعداد. 	نشاط مفاهيمي: جمع الكسور والأعداد الكسرية.
2	<ul style="list-style-type: none"> ورقة المصادر 9 		<ul style="list-style-type: none"> جمع كسور غير متشابهة. جمع أعداد كسرية غير متشابهة. 	الدرس 2: جمع الكسور.
1	<ul style="list-style-type: none"> أقلام. مسطرة. ورقة المصادر 8 		<ul style="list-style-type: none"> إيجاد ناتج طرح الكسور والأعداد الكسرية؛ باستعمال خط الأعداد. 	نشاط مفاهيمي: طرح الكسور والأعداد الكسرية.
2	<ul style="list-style-type: none"> ورقة المصادر 9 ورقة المصادر 10 		<ul style="list-style-type: none"> طرح كسر من كسر. طرح كسر من عدد كلي. طرح عدد كسري من عدد كسري. 	الدرس 3: طرح الكسور.
1	<ul style="list-style-type: none"> أقلام. مسطرة. ورقة المصادر 8 		<ul style="list-style-type: none"> استعمال خط الأعداد لإيجاد ناتج ضرب عدد كلي في كسر أو عدد كسري. 	نشاط مفاهيمي: ضرب عدد كلي في كسر، أو في عدد كسري.
2	<ul style="list-style-type: none"> ورقة المصادر 9 		<ul style="list-style-type: none"> إيجاد ناتج ضرب عدد كلي في كسر. إيجاد ناتج ضرب عدد كلي في عدد كسري. 	الدرس 4: ضرب عدد كلي في كسر.
1	<ul style="list-style-type: none"> أقلام مسطرة. ورقة المصادر 9 		<ul style="list-style-type: none"> استعمال النماذج لإيجاد ناتج ضرب كسرين. 	نشاط مفاهيمي: ضرب كسر في كسر.
2			<ul style="list-style-type: none"> إيجاد ناتج ضرب الكسور في أبسط صورة. 	الدرس 5: ضرب الكسور.
2	<ul style="list-style-type: none"> حجر نرد. ورقة المصادر 9 ورقة المصادر 10 	المقلوب.	<ul style="list-style-type: none"> قسمة عدد كلي على كسر. قسمة عدد كلي على عدد كسري. 	الدرس 6: قسمة عدد كلي على كسر.
2	<ul style="list-style-type: none"> ورقة المصادر 11 		<ul style="list-style-type: none"> قسمة كسر على عدد كلي. قسمة عدد كسري على عدد كلي. 	الدرس 7: قسمة كسر على عدد كلي.
1				عرض نتائج مشروع الوحدة.
1				اختبار نهاية الوحدة.
21 حصة				المجموع:

النَّوْحَةُ

4

الكُسُورُ وَالْعَمَلِيَّاتُ عَلَيْهَا

ما أهميَّة هذه النُوحَةِ؟

لِلْكَسُورِ اسْتِعْمَالَاتٌ كَثِيرَةٌ وَمُهَمَّةٌ فِي حَيَاتِنَا، فَلَا يَكَادُ يَمُرُّ يَوْمٌ إِلَّا وَتَسْتَعْمَلُ فِيهِ الْكُسُورَ لِتَعْرِفَ الْوَقْتَ أَوْ تَحْسِبَ الْكَمِّيَّةَ الْمُتَبَقِيَّةَ مِنْ شَيْءٍ مَا، أَوْ تَحْسِبَ الْكَمِّيَّةَ الْإِزْمَانَةَ لِصُنْعِ شَيْءٍ مَا. فِي هَذِهِ الْوَحْدَةِ، سَنَسَنِّمِي مَعْرِفَتَنَا بِالْكَسُورِ كَيْ نَسْتَعْمَلَهَا بِصُورَةٍ أَفْضَلَ فِي حَيَاتِنَا.



نظرة عامة حول الوحدة:

في هذه الوحدة، يوسِّع الطلبة معرفتهم حول الكسور باستعمال خط الأعداد والعد القفزي إلى الأمام أو الخلف، وتحديد الأعداد الكليَّة عند الوصول إليها، ومنه استكشاف الكسور المتكافئة واستنتاج طرائق إيجادها. كما يتعلَّم الطلبة التحويل بين العدد الكسري والكسر غير الفعلي، وجمع الكسور والأعداد الكسرية وطرحها وحلّ المسائل الحياتية عليها، وإيجاد ناتج ضرب عدد كلي في كسر العدد الكلي على كسر وقسمته وبالعكس، والاستفادة من ذلك في حياتهم العملية.

سأتعلَّم في هذه النُوحَةِ:

- جَمْعُ كَسْرَيْنِ مَقَامَ أَحَدِهِمَا مُضَاعَفٌ لِمَقَامِ الْآخَرِ، وَطَرَحُهُمَا.
- ضَرْبُ كَسْرٍ فِي عَدَدٍ كَلِّيٍّ، وَقِسْمَتُهُمَا.
- حَلُّ مَسَائِلٍ حَيَاتِيَّةٍ عَلَى الْكُسُورِ.

تَعَلَّمْتُ سَابِقًا:

- ✓ تَعَرَّفْتُ الْكُسُورَ الْمُتَكَافِئَةَ، وَنَمَدَجْتُهَا.
- ✓ تَبَسَّطْتُ الْكُسُورَ وَالْأَعْدَادَ الْكُسْرِيَّةَ إِلَى أَبْسَطِ صُورَةٍ.
- ✓ مُقَارَنَةُ الْكُسُورِ، وَتَرْتِيبُهَا.
- ✓ جَمْعُ الْكُسُورِ الْمُتَشَابِهَةِ، وَطَرَحُهَا.

الترايب الرأسي بين الصفوف

الصف الرابع

- تعرّف الكسور المتكافئة، ونمذجتها.
- كتابة الكسور والأعداد الكسرية في أبسط صورة.
- مقارنة الكسور وترتيبها.
- جمع الكسور المتشابهة، وطرحها.

الصف الخامس

- تعرّف الكسور المتكافئة وإيجادها، وتمثيلها على خط الأعداد.
- جمع كسرين مقام أحدهما مضاعف لمقام الآخر، وطرحهما.
- ضرب كسر في عدد كلي، وقسمته.
- ضرب كسر في كسر.
- حلّ مسائل حياتية على الكسور والأعداد الكسرية.

الصف السادس

- جمع الكسور غير المتشابهة، وطرحها.
- جمع الأعداد الكسرية غير المتشابهة، وطرحها.
- حلّ مسائل حياتية تتضمن جمع الكسور والأعداد الكسرية، وطرحها.
- ضرب الأعداد الكسرية.
- قسمة الكسور والأعداد الكسرية.
- حلّ مسائل حياتية تتضمن ضرب الكسور وقسمتها.

مشروع الوحدة: الكسور والوقت

هدف المشروع:

المشروعات في بداية الوحدة من المواضيع المهمة؛ لأنها تربط الوحدة بالحياة العملية، وتنمي روح التعاون بين الطلبة. وفي هذا المشروع يجري الطلبة عملاً يدوياً هندسياً يربطون به الوقت وأجزائه بالحياة، وتعمق لديهم أهمية الكسور والعمليات عليها.

خطوات تنفيذ المشروع:

- أوزع الطلبة في مجموعات.
- ناقش التعليمات الموجودة في الكتاب لكيفية عمل الساعة (لرسم الدائرة يُستعمل أي مجسم دائري في البيت كالتطبيق الدائري مثلاً، أو يمكن إحضار لعبة على شكل ساعة دائرية) مع التنبيه إلى أن قص الكرتون قد يحتاج إلى مساعدة أحد الكبار في البيت.
- أطلب إلى أفراد المجموعة تقسيم العمل بينهم كل حسب إمكانيته، إذ يُعد أحد الطلبة القرص أو الساعة ويُعد آخر المطوية، ويتفقون على تدوين الملاحظات يومياً عليها.
- أطلب إلى الطلبة حل الأسئلة على ورقة منفصلة أو على برنامج (بوربوينت - PowerPoint) في نهاية الوحدة. تُحل أول فقرتين بعد حصة التهيئة، والفقرة الثالثة بعد الدرس الرابع، والفقرات الرابعة والخامسة بعد الدرس الثاني، أما الفقرة الأخيرة فتُحل بعد الدرس الثالث.
- أتابع خطوات إعداد المطوية بعد نهاية كل درس مع الطلبة.
- تختلف إجابات الطلبة حسب الحصيللة اللغوية. أراجع الإجابات وأقدم التغذية الراجعة.
- أطلب إلى الطلبة تنظيم النتائج التي توصلوا إليها في الكرتون البيضاء أو على برنامج (بوربوينت - PowerPoint) وتنسيقها وتزيينها بصورة مناسبة لعرضها في الوقت المناسب.
- أحدد وقتاً مناسباً لعرض النتائج التي توصل إليها الطلبة، وأناقشهم فيها.



مَشروعُ الوَحدة: الكسورُ وَالوقتُ

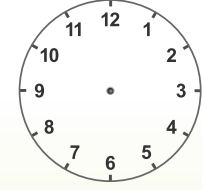


أستعدُّ وُزْمَلائي/زَمِلاتي لِتَنفِيزِ مَشروعِي الْخاصِّ الَّذِي سَأَسْتَعْمِلُ فِيهِ ما أتعَلَّمُهُ فِي هِذِهِ الْوَحْدَةِ؛ لِأَجْمَعُ مَعْلوماتٍ عَن عَلاقَةِ الْوَقْتِ بِالْكَسورِ.

خُطواتُ تَنفِيزِ الْمَشروعِ:

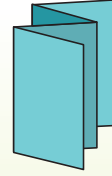
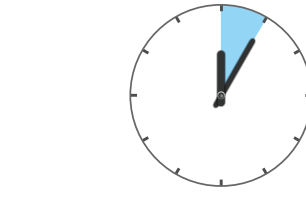
1 أَصْنَعُ نَمودَجَ السَّاعَةِ:

- أُرْسِمُ دائِرَةً عَلى وَرَقٍ مَقْوَى، وَأَكْتُبُ الْأَعْدادَ كَمَا فِي الشُّكْلِ.
- أَصْنَعُ عَقْرَبَيْنِ أَحَدَهُما لِلسَّاعاتِ وَالْآخَرَ لِلدَّقائقِ.
- أُبَيِّتُ عَقْرَبِي السَّاعاتِ وَالدَّقائقِ بِدَبُوسٍ، ثُمَّ أَجْعَلُهُما يُشيرانِ إِلى الرِّقْمِ 12.



عَرضُ النَتائِجِ:

أصمُّمُ مَطوِيَّةً، وَأَكْتُبُ فِيها:



- خُطواتِ الْعَمَلِ، وَالنَتائِجِ الَّتِي تَوَصَّلْتُ إِليها.
- مَعْلومَةٌ إِضافِيَّةٌ عَرَفْتُها عَن الْكُسورِ فِي أَثناءِ عَمَلِي.
- بَعْضُ الصُّعوباتِ الَّتِي واجَهْتُني فِي أَثناءِ عَمَلِي فِي الْمَشروعِ، وَكَيْفَ تَعَلَّيْتُ عَلَيْها.

2 أَسْمِي الْكُسورَ:

- أَسْمِي الْكُسورَ الَّتِي تُمَثِّلُ الْجُزءَ الْمَحْضورَ بَيْنَ الْعَقْرَبَيْنِ بِالنَّسْبَةِ إِلى كُلِّ الدَّائِرَةِ.
- أُحَرِّكُ عَقْرَبَ الدَّقائقِ يَمِيناً حَتَّى الْعَدَدِ 1، ثُمَّ أَكْتُبُ الْكُسورَ.

أداة تقويم المشروع

الرقم	المعيار	1	2	3
1	الاستجابة للتعليمات بدقة، والمشاركة بالأعداد، وإبداء تعاون مع زملاء/الزميلات.			
2	تنفيذ الساعة بشكل مقبول.			
3	حل الأسئلة حلاً صحيحاً.			
4	تنظيم محتويات المطوية بطريقة مقبولة ومفهومة.			
5	استعمال توضيحات وتفسيرات مقبولة في كتابة المطوية.			
6	الاشتراك في عرض نتائج المشروع مع تحقيق السمات المطلوبة: الثقة بالنفس، الصوت الواضح، توزيع النظر، وضوح المعلومة وبيانها.			

1 إنجاز المهمة بوجود أكثر من خطأ.

2 إنجاز المهمة بوجود خطأ بسيط.

3 إنجاز المهمة بصورة صحيحة من دون خطأ.

هدف النشاط:

- كتابة الكسر غير الفعلي في صورة عدد كسري.
- تمثيل الأعداد الكسرية على خط الأعداد.

المواد والأدوات:

ورقة المصادر 8: خط أعداد غير مدرج.

خطوات العمل:

- أقسم الطلبة إلى مجموعات ثنائية، ثم أزوّد كل مجموعة بالأدوات اللازمة.
- أكتب على اللوح الكسور غير الفعلية الآتية:

$$\frac{13}{4}, \frac{12}{5}, \frac{7}{2}, \frac{11}{4}, \frac{33}{10}, \frac{5}{2}, \frac{19}{5}, \frac{27}{10}$$

- أطلب إلى المجموعات تحويل الكسور غير الفعلية المكتوبة على اللوح إلى أعداد كسرية.
- أطلب إلى المجموعات رسم خط أعداد من 2 إلى 4.
- أطلب إلى المجموعات تعيين الكسور على خط الأعداد.
- أعزز المجموعة التي تنهي عملها بشكل صحيح أولاً.

هدف النشاط:

- جمع كسور المتشابهة وغير المتشابهة.
- جمع أعداد كسرية متشابهة وغير متشابهة.

خطوات العمل:

- أقسم الطلبة إلى مجموعات ثنائية.
- أكتب الجدول المجاور على اللوح، ثم أطلب إلى الطلبة أن يُحدّدوا من الجدول:
 - « عددان كسريين مجموعهما 4
 - « عددان كسريين مجموعهما 6
 - « كسرين غير متشابهين مجموعهما $\frac{1}{2}$
 - « كسرين متشابهين مجموعهما $\frac{7}{9}$

$2\frac{1}{3}$	$\frac{13}{8}$	$\frac{1}{3}$	$2\frac{3}{5}$
$\frac{13}{5}$	$\frac{2}{12}$	$1\frac{3}{4}$	2
$1\frac{2}{3}$	1	$\frac{24}{5}$	$2\frac{1}{4}$
$\frac{5}{9}$	$3\frac{2}{5}$	$\frac{21}{8}$	$\frac{2}{9}$

- أتابع عمل المجموعات، وأقدّم لهم التغذية الراجعة اللازمة.



هدف النشاط:

- ضرب كسر في عدد كلي.
- ضرب عدد كلي في كسر
- قسمة كسر على عدد كلي.
- قسمة عدد كسري على عدد كلي.
- قسمة عدد كلي على كسر.

المواد والأدوات:

ورقة المصادر 11: أحجية الكسور.

خطوات العمل:

- أقسم الطلبة إلى مجموعات ثنائية، وأزودهم بورقة المصادر 11.
- في ورقة المصادر 11 مسائل حسابية، كل مسألة ينتقصها إما إشارة \times أو \div لتصبح عبارة رياضية صحيحة.
- أطلب إلى الطلبة تحديد الإشارة المناسبة لكل مسألة، وأحثهم على توضيح سبب اختيارهم
- أوجه الطلبة إلى كتابة مسألة ضرب أو قسمة خاصة بهم في السطر الأخير من الورقة



هدف النشاط:

قسمة عدد كلي على كسر.

المواد والأدوات:

حجر نرد.

خطوات العمل:

- أقسم الطلبة إلى مجموعات ثنائية.
- أكتب الجدول الآتي على اللوح، ثم أطلب إلى الطلبة التوفيق بين كل كسر أو عدد كسري في الجدول ومقلوبه.

$\frac{1}{3}$	3	$\frac{31}{7}$	$\frac{7}{31}$
$3\frac{4}{5}$	$\frac{31}{35}$	$\frac{5}{19}$	$\frac{35}{31}$

- أطلب إلى أحد فردي المجموعة رمي حجر النرد، ثم إيجاد ناتج قسمة العدد الظاهر على الوجه العلوي لحجر النرد على عدد يختاره من الجدول.
- أطلب إلى الفرد الآخر في المجموعة التحقق من صحة إجابة زميله.
- يحصل من تكون إجابته صحيحة على نقطة، ويتم حذف العدد من الجدول.
- يتبادل أفراد المجموعات الأدوار.
- الفائز من يكسب أكبر عدد من النقاط بعد 6 جولات.





أَسْتَكْشِفُ

يَبْلُغُ اِرْتِفَاعُ سَارِيَةِ الْعَلَمِ الْأُرْدُنِيِّ الَّتِي تَقَعُ فِي قَلْبِ الْعَاصِمَةِ عَمَانَ $126\frac{4}{5}$ m هَلْ يُمَكِّنُ التَّعْيِيرُ عَنِ اِرْتِفَاعِ السَّارِيَةِ بِطَرِيقَةٍ أُخْرَى؟

فِكْرَةٌ الدَّرْسِ

- أَكْتُبُ الْكُسْرَ غَيْرَ الْفِعْلِيِّ فِي صُورَةِ عَدَدٍ كُسْرِيٍّ.
 - أَكْتُبُ الْعَدَدَ الْكُسْرِيَّ فِي صُورَةِ كُسْرٍ غَيْرِ فِعْلِيٍّ.
- الْمُفْطَلِحَاتُ**
الْعَدَدُ الْكُسْرِيُّ، الْكُسْرُ الْفِعْلِيُّ، الْكُسْرُ غَيْرُ الْفِعْلِيِّ.

أَتَعَلَّمُ

الْكَسْرُ الْفِعْلِيُّ (proper fraction): كَسْرٌ بَسِطُهُ أَقْلُ مِنْ مَقَامِهِ، وَمِثْلُ $\frac{2}{9}$ ، $\frac{5}{9}$ ، ...

الْكَسْرُ غَيْرُ الْفِعْلِيُّ (improper fraction): كَسْرٌ بَسِطُهُ أَكْبَرُ مِنْ مَقَامِهِ أَوْ يُسَاوِيهِ، وَمِثْلُ $\frac{25}{9}$ ، $\frac{8}{5}$ ، ...

الْعَدَدُ الْكُسْرِيُّ (mixed number): يَتَكَوَّنُ مِنْ جُزْأَيْنِ: عَدَدٍ كَلِّيٍّ وَكُسْرٍ فِعْلِيٍّ، وَمِثْلُ $6\frac{2}{5}$ ، $1\frac{7}{11}$ ، ...

وَيُمْكِنُنِي كِتَابَةُ الْكُسْرِ غَيْرِ الْفِعْلِيِّ فِي صُورَةِ عَدَدٍ كُسْرِيٍّ بِأَكْثَرِ مِنْ طَرِيقَةٍ.

مِثَالٌ 1 أَكْتُبُ الْكُسْرَ غَيْرَ الْفِعْلِيِّ $\frac{7}{3}$ فِي صُورَةِ عَدَدٍ كُسْرِيٍّ.

الطَّرِيقَةُ 1: بِاسْتِعْمَالِ الْقِسْمَةِ الطَّوِيلَةِ.

الخطوة 1: أَقْسِمُ الْبَسِطَ عَلَى الْمَقَامِ.

$$\begin{array}{r} \text{العَدَدُ الْكَلِّيُّ} \rightarrow 2 \\ \text{المَقَامُ} \rightarrow 3 \quad \overline{) 7} \\ - 6 \\ \hline 1 \leftarrow \text{البَسِطُ} \end{array}$$

الخطوة 2: أَكْتُبُ نَاتِجَ الْقِسْمَةِ فِي صُورَةِ عَدَدٍ كَلِّيٍّ،

وَالْبَاقِي فِي صُورَةِ كُسْرٍ مَقَامُهُ الْمَقْسُومُ عَلَيْهِ

$$2\frac{1}{3}$$

نتائج الدرس:

- كتابة الكسر غير الفعلي في صورة عدد كسري .
- كتابة العدد الكسري في صورة كسر غير فعلي .

نتائج التعلم القبلي:

- الكسور المساوية للواحد الصحيح.
- كتابة العدد الكسري على صورة كسر غير فعلي؛ باستعمال النماذج.

مراجعة التعلُّم القبلي ومعالجة الفاقد التعليمي:

أسترشد بالإجراءات المبيَّنة في مقدمة دليل المعلم (الصفحتان 1 و 2) المتعلقة بمراجعة التعلم القبلي ومعالجة الفاقد التعليمي لدى الطلبة.

التهيئة

1

- أوزع الطلبة في مجموعات ثنائية، وأزود كل مجموعة بحجر نرد.
- أوجه المجموعات إلى رسم دائرتين كبيرتين على ألواحهم الصغيرة، وتسمية الدائرة الأولى (كسوراً فعلية)، والثانية (كسوراً غير فعلية). أذكر الطلبة أنَّ الكسر الفعلي بسطه أقل من مقامه، والكسر غير الفعلي بسطه أكبر من مقامه أو يساويه.
- أطلب إلى المجموعات رمي حجر نرد مرتين، الرمية الأولى تُشكِّل البسط والرمية الثانية تُشكِّل المقام، وكتابة الكسر في الدائرة المناسبة، بالاعتماد أنَّه كسر فعلي أو غير فعلي.
- أطلب إلى الطلبة تكرار الخطوة السابقة 10 مرات.
- تتبادل المجموعات أعمالها للتحقق من صحَّة التصنيف.
- أعزز الإجابات الصحيحة.

• أوجّه الطلبة إلى قراءة المسألة في فقرة **أستكشف**، وأسأل:

« كم مترًا ارتفاع سارية العلم الأردني؟ $126 \frac{4}{5}$ »

« ماذا نسمّي العدد الذي يُعبّر عنه طول السارية في المسألة؟ **عدد كسري**. »

« كيف يُمكننا كتابة هذا العدد بطريقة أخرى؟ $\frac{634}{5}$ »

• أذكر الطلبة بالأشكال الثلاثة للكسور: الكسر الفعلي والكسر غير الفعلي والعدد الكسري، والفرق بين كل منها، ثم أبدأ بشرح الأمثلة.

• أوجّه الطلبة إلى وجود طرائق مختلفة للتحويل بين الكسر غير الفعلي والعدد الكسري والعكس، التي يمكن تعرّفها عن طريق الدرس.

تعزيز اللغة ودعمها:

أكرّر المصطلحات: (كسر فعلي، كسر غير فعلي، عدد كسري) أمام الطلبة، وأحرص على استعمالها من قبلهم.

مثال 1

• أوجّه الطلبة إلى المثال 1، وأناقشهم في الطريقة 1 لتحويل الكسر غير الفعلي إلى عدد كسري وهي باستعمال القسمة الطويلة، ثم أسأل:

« ما ناتج عملية القسمة؟ وما باقيها؟ **الناتج 2 والباقي 1**. »

« برأيكم، ماذا يمثّل الباقي وناتج القسمة بالنسبة إلى العدد الكسري؟ **تختلف إجابات الطلبة**. »

• أناقش الطلبة في الطريقة 2 لتحويل الكسر غير الفعلي إلى عدد كسري وهي باستعمال خط الأعداد.

التقويم التكويني:

أطلب إلى الطلبة حلّ تدريب (أنحقق من فهمي) بعد كلّ مثال. أختار بعض الإجابات التي تحتوي على أخطاء مفاهيمية، وأناقش الطلبة فيها على اللوح. لا أذكر اسم صاحب الحلّ أمام الصفّ تجنبًا لإحراجه.

المفاهيم العابرة للمواد:

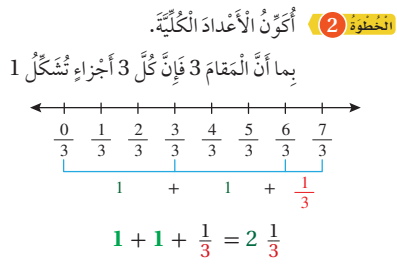
أؤكد على المفاهيم العابرة للمواد حيثما وردت في كتاب الطالب أو كتاب التمارين. في فقرة **أستكشف**، أعزز الوعي بالقضايا الانسانية والسياسية والوطنية لدى الطلبة، وأذكر مواصفات العلم الأردني من حيث الألوان ونسب الطول والعرض والتاريخ، وأنّه مشتق من علم الثورة العربية الكبرى.

ملاحظاتي

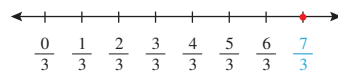
إرشادات:

- أوضّح للطلبة أنّه عند تحويل الكسر غير الفعلي إلى عدد كسري باستعمال القسمة الطويلة فإن ناتج القسمة يمثّل العدد الكلي، والباقي يُكتب في صورة كسر مقامه المقسوم عليه.
- يمكنني تزويد الطلبة بورقة المصادر 8: خط أعداد غير مدرج لاستعمالها؛ أثناء تحويل الكسر غير الفعلي إلى عدد كسري باستعمال خط الأعداد.

الطريقة 2: باستعمال خطّ الأعداد.



الخطوة 1: أمثل الكسر غير الفعليّ $\frac{7}{3}$ على خطّ الأعداد.



أنتحق من فهمي:

أكتب الكسر غير الفعليّ $\frac{17}{5}$ في صورة عدد كسريّ. $3 \frac{2}{5}$

يُمكنني أيضًا كتابة العدد الكسريّ في صورة كسر غير فعليّ باستعمال الضرب والجمع.



مثال 2: من الحياة

مخلوقات بحريّة: يصل طول قرش من فصيلة (الماكو) إلى $2 \frac{3}{4}$ m. أكتب طول هذا القرش في صورة كسر غير فعليّ.

الطريقة 1: أستعمل الضرب والجمع.

الخطوة 1: أضرب العدد الكليّ في المقام.

$$4 \times 2$$

الخطوة 2: أضيف البسط إلى ناتج الضرب.

$$4 \times 2 + 3$$

الخطوة 3: أكتب الناتج الكليّ على المقام الأصليّ.

$$\frac{4 \times 2 + 3}{4} = \frac{11}{4}$$

$$2 \frac{3}{4} = \frac{(4 \times 2) + 3}{4} = \frac{8 + 3}{4} = \frac{11}{4}$$

عدد كسريّ

كسر غير فعليّ

• أوجه الطلبة إلى قراءة المثال 2، وأطلب إليهم تحديد المطلوب من المسألة.

• أناقش الطلبة في الطريقة 1 لتحويل العدد الكسري في المثال إلى كسر غير فعلي باستعمال الضرب والجمع، بالاستعانة بالخطوات الواردة في كتاب الطالب.

• أناقش الطلبة في الطريقة 2 لتحويل العدد الكسري في المثال إلى كسر غير فعلي بكتابة العدد الكلي على صورة كسر؛ عن طريق توجيه الأسئلة الآتية:

« ما العدد الكليّ في هذا العدد الكسريّ؟ 2 »

« هل يمكنك تجزئة العدد الكليّ؟ نعم. »

« عبّر عن العدد 2 بكسر غير فعلي مناسب للمسألة. »

$$\frac{8}{4}$$

• أوضح للطلبة أنه لتحويل العدد الكسري إلى كسر غير فعلي نجزيّ العدد الكليّ، ثم نكتب كل 1 على صورة كسر بسطه ومقامه متساويان وفقًا للمقام في المسألة، ثم نجمع الكسور.

أُتَدْرَبُ وَأَحْلُ الْمَسَائِلَ:

- أُوجِّهُ الطَّلِبَةَ إِلَى فِقْرَةِ (أُتَدْرَبُ وَأَحْلُ الْمَسَائِلَ)، ثُمَّ أُطَلِّبُ إِلَيْهِمْ حُلَّ الْمَسَائِلِ (9-1) فِي مَجْمُوعَاتٍ ثَنَائِيَّةٍ دَاخِلِ الْغُرْفَةِ الصَّفِيَّةِ؛ فَهَذِهِ الْمَسَائِلُ تُحَدِّدُ تَرْتِيبَ ارْتِبَاطٍ مُبَاشِرًا بِأَمثلةِ الدَّرْسِ، وَهِيَ تُسْتَعْمَلُ خَاصَّةً لِتَدْرِيبِ الطَّلِبَةِ عَلَى الْمَفَاهِيمِ نَفْسَهَا، بِصَرَفِ النَّظَرِ عَمَّا إِذَا كَانَتِ الْأَسْئَلَةُ فَرْدِيَّةً أَمْ زَوْجِيَّةً.
- إِذَا وَاجَهَ الطَّلِبَةَ صَعُوبَةً فِي حُلِّ أَيِّ مَسْأَلَةٍ، فَإِنِّي أَخْتَارُ أَحَدَ الطَّلِبَةِ مِمَّنْ تَمَكَّنَ/ تَمَكَّنَتْ مِنْ حُلِّ الْمَسْأَلَةِ؛ لِمُنَاقَشَةِ اسْتِرَاطِيَجِيَّتِهِ/ اسْتِرَاطِيَجِيَّتِهَا فِي حُلِّ الْمَسْأَلَةِ عَلَى اللُّوْحِ، مُحَفِّزًا الطَّلِبَةَ عَلَى طَرَحِ أَيِّ تَسْأُولٍ عَنِ خَطَوَاتِ الْحُلِّ الْمُقَدَّمَةِ مِنَ الزَّمِيلِ/ الزَّمِيلَةِ.

الواجب المنزلي:

أَسْتَعِينُ بِالْجَدُولِ الْآتِي لِتَحْدِيدِ الْوَاجِبِ الْمَنْزَلِيِّ لِلطَّلِبَةِ بِحَسَبِ مَسْتَوِيَاتِهِمْ:

المستويات	الأسئلة
دون المتوسط	كتاب الطالب: (10 - 15) كتاب التمارين: (1 - 4)
ضمن المتوسط	كتاب الطالب: 18, (14 - 16) كتاب التمارين: (3 - 5)
فوق المتوسط	كتاب الطالب: (14 - 18) كتاب التمارين: 5, 6

مهارات التفكير العليا

- أُوجِّهُ الطَّلِبَةَ إِلَى فِقْرَةِ (مِهَارَاتِ التَّفَكِيرِ الْعَلِيَا)، ثُمَّ أُطَلِّبُ إِلَيْهِمْ حُلَّ الْمَسَائِلِ (20 - 17).
- أَرصِدُ آيَّةَ أَفْكَارٍ غَيْرِ تَقْلِيدِيَّةٍ مِنَ الطَّلِبَةِ، ثُمَّ أُطَلِّبُ إِلَى هَؤُلَاءِ الطَّلِبَةِ كِتَابَةَ هَذِهِ الْأَفْكَارِ عَلَى اللُّوْحِ.
- أُبَيِّنُ إِلَى وَجُودِ أَخْطَاءٍ شَائِعَةٍ فِي تَحْوِيلِ الْكُسْرِ غَيْرِ الْفِعْلِيِّ إِلَى عَدَدٍ كُسْرِيٍّ، كَالْخَطَأِ الْوَارِدِ فِي سِوَالِ 17 **أَكْتَشِفِ الْخَطَأَ**، وَمَا مَوْثَّرٌ وَوُجُودِ الْخَطَأِ فِي مِثْلِ هَذِهِ الْحَالَةِ.
- أَذْكَرُ أَنَّهُ فِي أَسْئَلَةِ **أَكْتَشِفِ الْمَخْتَلَفَ**، مِثْلُ سِوَالِ 18؛ يَحْتَاجُ الطَّالِبُ إِلَى الْحَلِّ وَالتَّحْلِيلِ لِكُلِّ فِقْرَةٍ وَالتَّبْرِيرِ.
- أُسَاعِدُ الطَّلِبَةَ عَلَى فَهْمِ الْمَطْلُوبِ فِي أَسْئَلَةِ **تَحَدِّدْ**، بِحَيْثُ يَحْوَلُ الطَّالِبُ الْكُسْرَ إِلَى عَدَدٍ كُسْرِيٍّ، ثُمَّ يَمَلَأُ الْفَرَاغَ.



الطَّرِيقَةُ 2: أَكْتُبُ الْعَدَدَ الْكُلِّيَّ فِي صُورَةِ كُسْرٍ.

$$2\frac{3}{4} = 1 + 1 + \frac{3}{4}$$

$$= \frac{4}{4} + \frac{4}{4} + \frac{3}{4}$$

$$= \frac{4+4+3}{4} = \frac{11}{4}$$

أَجْزِئُ الْعَدَدَ الْكُلِّيَّ الَّذِي فِي الْعَدَدِ الْكُسْرِيِّ

$$1 = \frac{4}{4}$$

أَجْمَعُ الْكُسُورَ الْمُتَشَابِهَةَ.

أَتَحَقَّقُ مِنْ فَهْمِي:

يَبْلُغُ ارْتِفَاعُ بَابِ الْكَعْبَةِ الْمُشْرَفَةِ 3. $\frac{9}{50}$ m. أَكْتُبُ طَوْلَ بَابِ الْكَعْبَةِ الْمُشْرَفَةِ فِي

صُورَةِ كُسْرٍ غَيْرِ فِعْلِيٍّ. $\frac{159}{50}$



أَتَدْرَبُ

وَأَحْلُ الْمَسَائِلَ

أَكْتُبُ مَا يُمَثِّلُهُ كُلُّ نَمُودَجٍ مِمَّا يَأْتِي فِي صُورَةِ عَدَدٍ كُسْرِيٍّ، وَكُسْرٍ غَيْرِ فِعْلِيٍّ:

1 $3\frac{5}{6} = \frac{23}{6}$

2 $2\frac{2}{5} = \frac{12}{5}$

أَكْتُبُ كُلَّ كُسْرٍ غَيْرِ فِعْلِيٍّ فِي صُورَةِ عَدَدٍ كُسْرِيٍّ:

3 $\frac{21}{5}$ $4\frac{1}{5}$

4 $\frac{11}{3}$ $3\frac{2}{3}$

5 $\frac{18}{4}$ $4\frac{2}{4}$

أَكْتُبُ كُلَّ عَدَدٍ كُسْرِيٍّ فِي صُورَةِ كُسْرٍ غَيْرِ فِعْلِيٍّ:

6 $3\frac{2}{3}$ $\frac{11}{3}$

7 $8\frac{1}{4}$ $\frac{33}{4}$

8 $10\frac{2}{7}$ $\frac{72}{7}$

9 **قياس:** الْمَسَافَةُ بَيْنَ بَيْتِ عَامِرٍ وَجَارِهِ 20. $\frac{3}{10}$ m. أَكْتُبُ الْمَسَافَةَ فِي صُورَةِ كُسْرٍ غَيْرِ فِعْلِيٍّ. $\frac{203}{10}$

- أوجه الطلبة إلى تنفيذ النشاط 1 من أنشطة التدريب الإضافية.

5 الإثراء

- أوجه السؤال الآتي لإثراء تعلم الطلبة:

« يستعمل علي $\frac{1}{2}$ علة طلاء في اليوم، ما العدد الكسري الذي يُعبّر عن كمية الطلاء التي يستعملها في 7 أيام؟ $3\frac{1}{2}$ »

مشروع الوحدة:

- أوجه الطلبة إلى تنفيذ الخطوة 1 من المشروع.

6 الختام

- أستعمل السؤال في فقرة **أتحدّث**، للتأكد من فهم الطلبة لموضوع الدرس، وأوجه الطلبة ذوي المستوى المتوسط ودون المتوسط إلى الإجابة عن السؤال.

- إذا لزم الأمر أتحدّث من فهم الطلبة بتوجيه أسئلة مثل:

« أحول الكسر غير الفعلي $\frac{24}{5}$ إلى عدد كسري.

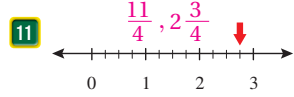
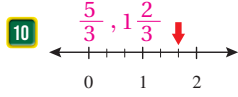
$$4\frac{4}{5}$$

« أحول العدد الكسري $3\frac{3}{8}$ إلى كسر غير فعلي.

$$\frac{27}{8}$$

الوَحدة 4

أعبر عن العدد الذي يُشير إليه السهم بكسر غير فعلي وعدد كسري.



أقارن باستخدام الرمز (< أو > أو =) في □:

12 $1\frac{1}{2} = \frac{3}{2}$

13 $3\frac{3}{12} > \frac{15}{12}$

14 $\frac{21}{6} < 4$

15 $\frac{17}{3} > 5\frac{1}{3}$



16 **كعك:** تحتوي وصفة حلا لصنع الكعك على $4\frac{1}{2}$ أكواب من الطحين. أكتب العدد الكسري $4\frac{1}{2}$ في صورة كسر غير فعلي. $\frac{9}{2}$

معلومة

أبو بكر الحضار عالم رياضيات مُسلم من مدينة فاس المغربية وفتية في الإزيت، وهو أول من أشار إلى استعمال الخط الأفقي للتعبير عن الكسور، وكان ذلك في القرن الثاني عشر الميلادي.

مهارات التفكير العليا

17 **أكتشف الخطأ:** كتبت فادي الكسر غير الفعلي $\frac{19}{3}$ في صورة عدد كسري $5\frac{4}{3}$ ، هل هذا صحيح؟ أبرر إجابتي.

(17 غير صحيح؛ لأن الجزء الكسري من العدد يجب أن تكون قيمته أقل من 1.)

18 **أكتشف المختلف:** أي الأية مختلفة عن البقية؟ $\frac{9}{3} + \frac{3}{3}$ هو المختلف؛ لأن قيمته 4

$$3\frac{2}{3}$$

$$\frac{9}{3} + \frac{3}{3}$$

$$\frac{3}{3} + \frac{3}{3} + \frac{3}{3} + \frac{2}{3}$$

$$\frac{11}{3}$$

تحدّ: أكتب العدد المفقود في □:

19 $4\frac{3}{4} = \frac{19}{4}$

20 $\frac{44}{9} = 4\frac{8}{9}$

أتحدّث: كيف يُمكنني تحويل الكسر غير الفعلي إلى عدد كسري؟ إجابة ممكنة: بقسمة البسط على المقام، والنتيجة هو العدد الكلي والباقي هو بسط الجزء الكسري.

نشاط مفاهيمي: جمع الكسور والأعداد الكسرية

هدف النشاط:

استعمال خط الأعداد في إيجاد ناتج جمع الكسور والأعداد الكسرية.

المصادر والأدوات:

أقلام، مسطرة، ورقة المصادر 8: خط أعداد غير مدرج.

خطوات العمل:

نشاط 1:

- أراجع الطلبة بجمع الكسور المتشابهة، بطرح أسئلة مثل:

$$\llcorner \text{أجد ناتج: } \frac{3}{10} + \frac{4}{10} .$$

- أنبه الطلبة إلى وجوب أن تكون المقامات متشابهة لجمع الكسور.

- أوزع ورقة المصادر 8 على الطلبة.

- أكتب السؤال الآتي على اللوح:

$$\llcorner \text{أجد ناتج: } \frac{1}{4} + \frac{5}{8} .$$

- أسأل الطلبة: لماذا لا نستطيع إجراء عملية الجمع مباشرة؟ **تختلف الإجابات.**

- أوجه الطلبة إلى تنفيذ خطوات نشاط 1، مُقدِّمًا لهم الدعم اللازم.

- أطلب إلى الطلبة حلَّ أسئلة فقرة **أندرب** بصورة فردية، وأتجوّل بينهم وأتابع الحلَّ.

- أختار إجابة غير صحيحة في حال وجودها، وأكتبها على اللوح من دون الإشارة إلى صاحبها تجنبًا لإحراجها، وأسأل: أين الخطأ؟

- إذا وجدت صعوبة لدى الطلبة في إيجاد الحلَّ؛ فأختار طالبًا/ طالبة لمناقشة حلَّ السؤال.

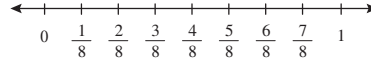
نشاط مفاهيمي: جمع الكسور والأعداد الكسرية

الهدف: أجمع الكسور والأعداد الكسرية باستعمال خط الأعداد.

يُمكِنُ استعمال خط الأعداد في جمع الكسور والأعداد الكسرية.

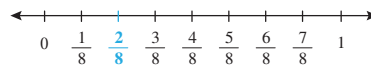
نشاط 1: أجد ناتج $\frac{1}{4} + \frac{5}{8}$ باستعمال خط الأعداد.

الخطوة 1 أرسِّم خط أعداد، وأحدِّد عليه العددين 0 و1، ثم أقسِّم خط الأعداد إلى أجزاء متساوية حسب المقام الأكبر.



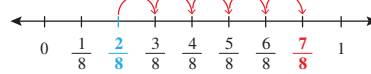
(8 < 4، إذن: أقسِّم خط الأعداد إلى 8 أجزاء متساوية).

الخطوة 2 أحدِّد الكسر $\frac{1}{4}$ على خط الأعداد.



(استعمل الكسور المتكافئة $\frac{2}{8} = \frac{1}{4}$).

الخطوة 3 أعد 5 خطوات إلى الأمام مُبتدئًا من الكسر $\frac{2}{8}$ لأعبر عن إضافة الكسر $\frac{5}{8}$.



الكسر $\frac{7}{8}$ الذي وصلنا إليه على خط الأعداد يُمثِّل ناتج جمع الكسرين.

$$\frac{1}{4} + \frac{5}{8} = \frac{2}{8} + \frac{5}{8} = \frac{7}{8}$$

أندرب: أجد ناتج كلِّ مما يأتي باستعمال خط الأعداد:

1 $\frac{2}{9} + \frac{1}{3} + \frac{5}{9}$

2 $\frac{1}{6} + \frac{5}{12} + \frac{7}{12}$

إرشاد: في الخطوة 1 من النشاط 1، أُنْبِه الطلبة إلى ضرورة تقسيم المنطقة بين كل عددين على خط الأعداد إلى أجزاء متساوية بحسب المقام الأكبر للكسرين المجموعين.

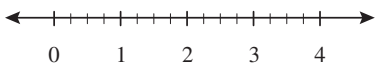
نشاط 2:

- أبدأ بشرح نشاط 2 على اللوح، مُقدِّمًا لهم الدعم اللازم.
- أطلب إلى الطلبة حلَّ أسئلة فقرة **أندرب** بصورة فردية، وأتجوّل بين الطلبة وأتابع الحلَّ.
- أعطي مهلة 5 دقائق، ثم أناقش بعض الطلبة في الحلّ على اللوح.

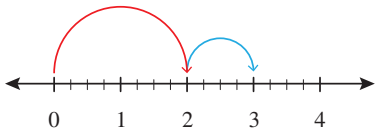
يُمكِنُني أيضًا إستِعمالَ خطِّ الأعدادِ في جَمعِ الأعدادِ الكسريّةِ.

• **نشاط 2:** أجدُ ناتجَ: $2\frac{1}{4} + 1\frac{1}{2}$ بإستِعمالِ خطِّ الأعدادِ.

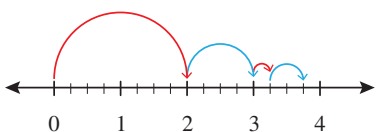
الخطوة 1 أرسُمُ خطَّ أعدادٍ، وأقسِمُ الوَسطَ بينَ كُلِّ عدديّينِ كُليّينِ إلى أجزاءٍ مُتساويةٍ حسبَ المَقامِ الأكبرِ. ($4 < 2$)، إذن: أقسِمُ المَساسَقةَ بينَ كُلِّ عدديّينِ كُليّينِ إلى 4 أجزاءٍ مُتساويةٍ).



الخطوة 2 أرسُمُ فوقَ خطِّ الأعدادِ قوسًا يُمثِّلُ العددَ الكُليّ 2، ثمَّ قوسًا يُمثِّلُ العددَ الكُليّ 1.



الخطوة 3 أرسُمُ فوقَ خطِّ الأعدادِ قوسًا يُمثِّلُ الكسَرَ $\frac{1}{4}$ ، ثمَّ أرسُمُ قوسًا آخَرَ يُمثِّلُ الكسَرَ $\frac{1}{2}$.



ألاحظُ أنَّ العددَ الكسريّ $3\frac{3}{4}$ الذي وَصَلتُ إليه على خطِّ الأعدادِ يُمثِّلُ ناتجَ جَمعِ العدديّينِ الكسريّينِ.

$$2\frac{1}{4} + 1\frac{1}{2} = 2 + 1 + \frac{1}{4} + \frac{2}{4} = 3\frac{3}{4}$$

أندرب: أجدُ ناتجَ كُلِّ ممّا يأتي بإستِعمالِ خطِّ الأعدادِ:

1 $2\frac{1}{9} + 1\frac{1}{3} = 3\frac{4}{9}$

2 $1\frac{1}{2} + 1\frac{1}{6} = 2\frac{4}{6}$

إرشادات:

- في الخطوة 1 من النشاط 2، أنبّه الطلبة إلى تقسيم المنطقة بين كل عددين على خطِّ الأعداد إلى أجزاء متساوية بحسب المَقامِ الأكبرِ للكسرينِ المجموعين.
- في الخطوة 2 من النشاط 2، أوّجّه الطلبة إلى تمثيل جمع الأعداد الكليّة على خطِّ الأعداد أوّلاً.

نتائج الدرس:

- جمع كسور غير متشابهة.
- جمع أعداد كسرية غير متشابهة.

نتائج التعلم القبلي:

- جمع كسرين متشابهين.
- إيجاد كسر مكافئ لكسر معطى باستعمال النماذج.
- إيجاد كسر مكافئ لكسر معطى باستعمال الضرب.

مراجعة التعلّم القبلي ومعالجة الفاقد التعليمي:

أسترشد بالإجراءات المبيّنة في مقدمة دليل المعلم (الصفحتان i و j) المتعلقة بمراجعة التعلم القبلي ومعالجة الفاقد التعليمي لدى الطلبة.

التهيئة

1

- أكتب على اللوح الكسر $\frac{1}{2}$
- أطلب إلى أحد الطلبة كتابة كسر مكافئ للكسر $\frac{1}{2}$ ،
مثلاً: $\frac{1}{2} = \frac{1}{4}$
- أطلب إلى طلبة آخرين إيجاد كسور مكافئة للكسر $\frac{1}{2}$
- أكرر النشاط مع كسور أخرى مثل: $\frac{3}{4}$

أستكشف



إذا كان $\frac{2}{5}$ الجامعات الحكومية الأردنية تقع في إقليم الوسط، و $\frac{3}{10}$ منها تقع في إقليم الجنوب. أكتب الكسر الذي يمثل مجموع الجامعات الحكومية في إقليم الوسط والجنوب.

فكرة الدرس

- أجمع كسوراً غير متشابهة.
- أجمع أعداداً كسرية غير متشابهة.

أتعلم

عند جمع كسرين غير متشابهين مقام أحدهما مضاعف للآخر، أجد كسراً مكافئاً لأحدهما باستعمال الكسور المتكافئة بحيث يصبح كسرين متشابهين، ثم أجمع كما نجمع الكسور المتشابهة.

مثال 1 أجد ناتج: $\frac{1}{4} + \frac{1}{8}$

أجد كسراً مكافئاً للكسر $\frac{1}{4}$ مقامه 8 وذلك بضرب البسط والمقام في 2

$$\frac{1}{4} + \frac{1}{8} = \frac{1 \times 2}{4 \times 2} + \frac{1}{8}$$

$$= \frac{2}{8} + \frac{1}{8} = \frac{2+1}{8} = \frac{3}{8}$$

المقام نفسه

أجمع البسطين، ويبنى المقام نفسه.

أتحقق: يمكنني استعمال النماذج للتحقق.



$$\frac{1}{4} + \frac{1}{8} = \frac{2}{8} + \frac{1}{8} = \frac{3}{8}$$

أتحقق من فهمي: أجد ناتج كل مما يأتي:

1 $\frac{2}{3} + \frac{1}{6} = \frac{5}{6}$

2 $\frac{3}{5} + \frac{1}{10} = \frac{7}{10}$

المفاهيم العابرة للمواد:

أؤكد على المفاهيم العابرة للمواد حيثما وردت في كتاب الطالب أو كتاب التمارين. في فقرة أستكشف، أعزز الوعي ببناء الشخصية والتعلّم المستمر لدى الطلبة، وأذكر أنّ أول جامعة تأسست في الأردن هي الجامعة الأردنية في عام 1962م، وأنّ عدد الجامعات الحكومية هو 10 جامعات، وأذكر نبذة عن أهمية التعليم الجامعي في الحياة، وفي فقرة أتحقق من فهمي، أعزز الوعي بالمهارات الحياتية والوعي الصحي لدى الطلبة، وأذكر أهمية المشي بوصفه أبسط رياضة يمكن أن يمارسها معظم البشر، وأنها غير مكلفة ولها فوائد عظيمة لأعضاء الجسم.

• أوجه الطلبة إلى قراءة المسألة في فقرة **أستكشف**، وأسأل:

« ما الكسر الذي يمثل الجامعات الحكومية في إقليم الوسط؟ $\frac{2}{5}$ »

« ما الكسر الذي يمثل الجامعات الأردنية في إقليم الجنوب؟ $\frac{3}{10}$ »

« كيف يمكن إيجاد الكسر الذي يمثل مجموع الجامعات الحكومية في إقليمي الوسط والجنوب؟»

« هل أستطيع إيجاد الناتج مباشرة والكسور بهذه الصورة؟»

• أعزز الإجابات الصحيحة.

• أراجع الطلبة في جمع الكسور المتشابهة، وأناقشهم في حلّها.

• أوضح للطلبة شرط جمع كسرين مقام أحدهما مضاعف للآخر؛ وذلك بإيجاد كسر مكافئ لأحدهما باستعمال الكسور المتكافئة، بحيث يصبحا كسرين متشابهين، ثم الجمع كما تجمع الكسور المتشابهة.

• أناقش مع الطلبة حل المثال 1 على اللوح، وأطلب إليهم التحقق من صحة الحل باستعمال النماذج.

✓ **إرشاد:** يمكنني تزويد الطلبة بورقة المصادر 9: لوحة كسور بيضاء؛ لاستعمالها عند التحقق من صحة جمع الكسور غير المتشابهة.

التقويم التكويني: ✓

أطلب إلى الطلبة حلّ تدريب (أتحقّق من فهمي) بعد كلّ مثال. أختار بعض الإجابات التي تحتوي على أخطاء مفاهيمية، وأناقش الطلبة فيها على اللوح. لا أذكر اسم صاحب الحلّ أمام الصفّ تجنباً لإحراجهم.

الْوَحْدَةُ 4

عِنْدَ جَمْعِ عَدَدَيْنِ كَسْرِيَيْنِ أَجْمَعُ الْكَسْرَيْنِ أَوَّلًا، ثُمَّ أَجْمَعُ الْعَدَدَيْنِ الْكُلِّيَّيْنِ وَأَكْتُبُ النَّاتِجَ فِي أَيْسَطِ صُورَةٍ.

مِثَالٌ 2: مِنَ الْحَيَاةِ



دَهَبٌ: اشْتَرَتْ سَيِّدَةٌ خَاتَمًا مِنَ الدَّهَبِ كُتِلَتْهُ $2\frac{1}{2}$ g، وَخَاتَمًا آخَرَ كُتِلَتْهُ $3\frac{1}{6}$ g. ما كُتِلَةُ الْخَاتَمَيْنِ مَعًا؟

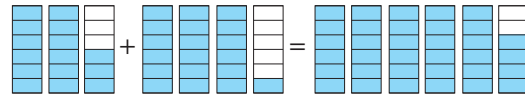
لِإِجَادِ كُتْلَةِ الْخَاتَمَيْنِ مَعًا، أَجِدُ نَاتِجَ $2\frac{1}{2} + 3\frac{1}{6}$

$$\begin{array}{r} 2\frac{1}{2} \\ + 3\frac{1}{6} \\ \hline \end{array} \rightarrow \begin{array}{r} 2\frac{3}{6} \\ + 3\frac{1}{6} \\ \hline 5\frac{4}{6} = 5\frac{2}{3} \end{array}$$

أَكْتُبُ كَسْرًا مُكَافِئًا لِلْكَسْرِ $\frac{1}{2}$ ، بِحَيْثُ يُصْبِحُ مَقَامُهُ 6
أَجْمَعُ الْكُسُورَ مَعَ بَعْضِهَا أَوَّلًا، ثُمَّ أَجْمَعُ الْأَعْدَادَ الْكُلِّيَّةَ مَعَ بَعْضِهَا.
أَكْتُبُ النَّاتِجَ فِي أَيْسَطِ صُورَةٍ بِقِسْمَةِ الْبَسِطِ وَالْمَقَامِ عَلَى 2

إِذَنْ: كُتِلَةُ الْخَاتَمَيْنِ مَعًا $5\frac{2}{3}$ g

أَتَحَقَّقُ: يُمَكِّنُنِي اسْتِعْمَالُ النَّمَاذِجِ لِلتَّحَقُّقِ.



$$2\frac{3}{6} + 3\frac{1}{6} = 5\frac{4}{6} = 5\frac{2}{3}$$

أَتَدَقِّقُ مِنْ فَهْمِي: خَرَجَ طَلَبَةُ الصَّفِّ الْخَامِسِ فِي رِحْلَةٍ عِلْمِيَّةٍ مَشِيًّا عَلَى الْأَقْدَامِ مَسَافَةً $1\frac{1}{8}$ km، وَعِنْدَ الْعُودَةِ سَلَكُوا طَرِيقًا آخَرَ فَمَشَوْا مَسَافَةً $1\frac{1}{2}$ km، كَمْ كِيلُومِتْرًا قَطَعَ الطُّبَّةُ فِي الرِّحْلَةِ؟ $2\frac{5}{8}$

أَتَدْرِبُ

وَأَدُلُّ الْمَسَائِلَ

أُظَلِّلُ نَاتِجَ الْجَمْعِ فِي النَّمُودِجِ، ثُمَّ أَكْتُبُهُ:

$$\begin{array}{|c|c|c|c|c|} \hline 1 & & & & \\ \hline \end{array} + \begin{array}{|c|c|c|c|c|} \hline & & & & \\ \hline \end{array} = \begin{array}{|c|c|c|c|c|} \hline & & & & \\ \hline \end{array} \frac{9}{10}$$

$$\begin{array}{|c|c|} \hline 2 & \\ \hline \end{array} + \begin{array}{|c|c|} \hline & \\ \hline \end{array} = \begin{array}{|c|c|} \hline & \\ \hline \end{array} 2\frac{3}{4}$$

مثال 2: من الحياة

- أطلب إلى أحد الطلبة قراءة المثال 2، وأناقشهم في المطلوب والمعطى في السؤال، وكيف نجد المطلوب.
- أُنَبِّه الطلبة إلى أن السؤال يحتوي على أعداد كسرية وليس على كسور فعلية.
- أشرح على اللوح عملية جمع عددين كسريين كما هو وارد في الكتاب؛ ثم أطلب إلى الطلبة التحقق من صحة الحل باستعمال النماذج.
- أذكر الطلبة بطريقه كتابه الكسر بأبسط صورة.
- أعيد الخطوات بصورة سريعة مرة أخرى.

التدريب

4

أتدرب وأحل المسائل:

- أوجه الطلبة إلى فقرة (أتدرب وأحل المسائل)، ثم أطلب إليهم حل المسائل (8 - 1) ضمن مجموعات ثنائية داخل الغرفة الصفية؛ فهذه المسائل تحديداً ترتبط ارتباطاً مباشراً بأمثلة الدرس، وهي تُستعمل خاصةً لتدريب الطلبة على المفاهيم نفسها، بصرف النظر عما إذا كانت الأسئلة فردية أم زوجية.
- إذا واجه الطلبة صعوبة في حل أي مسألة، فإنني أختار أحد الطلبة ممن تمكن/ تمكنت من حل المسألة؛ لمناقشة استراتيجيته/ استراتيجيتها في حل المسألة على اللوح، مُحفِّزاً الطلبة على طرح أي تساؤل عن خطوات الحل المُقدَّمة من الزميل/ الزميلة.

الواجب المنزلي:

أستعين بالجدول الآتي لتحديد الواجب المنزلي للطلبة بحسب مستوياتهم:

المستويات	الأسئلة
دون المتوسط	كتاب الطالب: 9, 11 كتاب التمارين: (8 - 1)
ضمن المتوسط	كتاب الطالب: 10, 13 كتاب التمارين: (9 - 7)
فوق المتوسط	كتاب الطالب: (14 - 10) كتاب التمارين: (11 - 9)

- أوجّه الطلبة إلى فقرة (مهارات التفكير العليا)، ثم أطلب إليهم حل المسائل (11 - 14).
- أرصد أية أفكار غير تقليدية من الطلبة، ثم أطلب إلى هؤلاء الطلبة كتابة هذه الأفكار على اللوح.
- أنبه إلى أن الأسئلة من نوع **اكتشف المختلف**، قد تحتاج إلى حلّ المسائل ومقارنة الإجابات كما في سؤال 11. أمّا في سؤال 12، فعليهم إجراء تجارب لإيجاد الكسرين المطلوبين.
- أناقش الطلبة في جمع الأعداد الكسرية على خط الأعداد في سؤال 13 **تبرير**، وأدّكرهم بالنشاط المفاهيمي (نشاط 2) المقدم قبل الدرس.
- يوسّع الطلبة تفكيرهم بوجود بعض الأسئلة التي قد تحتمل أكثر من إجابة مثل سؤال 14 **مسألة مفتوحة**، واختلاف إجاباتهم عن إجابات زملائهم لا تعني أنها غير صحيحة.

التطبيق:

- أوجّه الطلبة إلى تنفيذ النشاط 2 من أنشطة التدريب الإضافية.

5 الإثراء

- أوجّه السؤال الآتي لإثراء تعلّم الطلبة:
« أملأ الفراغ بالعدد المناسب:

$$3 \frac{1}{4} + 2 \frac{\square}{8} = 6 \frac{1}{8} \quad 5$$

مشروع الوحدة:

- أوجّه الطلبة إلى الخطوة 2 من خطوات المشروع.

6 الختام

- أستعمل السؤال في فقرة **أتحدّث**، للتأكد من فهم الطلبة لموضوع الدرس، وأوجّه الطلبة ذوي المستوى المتوسط ودون المتوسط إلى الإجابة عن السؤال.
- إن لزم الأمر، أتحدّث من فهم الطلبة، بطرح سؤال عليهم، مثل:

$$1 \quad \frac{2}{3} + \frac{1}{18} = \frac{13}{18}$$

$$2 \quad 5 \frac{1}{7} + 3 \frac{1}{14} = 8 \frac{3}{14}$$

أجد الناتج في كل مما يأتي في أبسط صورة:

$$3 \quad \frac{1}{4} + \frac{1}{2} = \frac{3}{4} \quad 4 \quad \frac{2}{3} + \frac{1}{6} = \frac{5}{6} \quad 5 \quad \frac{7}{12} + \frac{3}{4} = 1 \frac{1}{3}$$

$$6 \quad 3 \frac{1}{4} + 2 \frac{1}{8} = 5 \frac{3}{8} \quad 7 \quad 3 \frac{3}{10} + 3 \frac{2}{5} = 6 \frac{7}{10} \quad 8 \quad \frac{3}{8} + \frac{1}{4} + \frac{1}{2} = 1 \frac{1}{8}$$

9 **أنشطة:** يُشاهد مُعْتَرِ التَّلْفَارَ $2 \frac{2}{3}$ ساعة في الأسبوع، وَيَلْعَبُ كُرَةَ السَّلَّةِ 3 ساعات في الأسبوع، فَكَمْ بِمِقْدَارِ الْوَقْتِ الَّذِي يَقْضِيهِ فِي مُشَاهَدَةِ التَّلْفَارِ وَلَعِبِ كُرَةَ السَّلَّةِ فِي أُسْبُوعٍ وَاحِدٍ؟ $5 \frac{2}{3}$

10 **مخميّة صانا:** في مخميّة صانا الطّبيعيّة، يبلُغ ارتفاع إحدى أشجار السّرو $6 \frac{1}{5}$ m عن الأرض، ويعدّ 10 أعوامٍ ازداد ارتفاعها بمقدار $3 \frac{1}{10}$ m، فَكَمْ أُصْحَحَ ارتفاعها؟ $9 \frac{3}{10}$ m

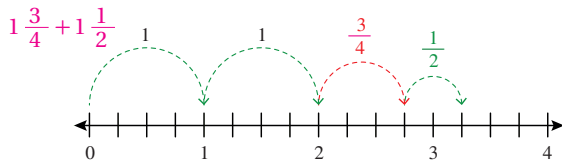
11 **أكتشف المختلف:** أكتشف المختلف وأبرز إجابتي.

$$3 \frac{1}{8} + 2 \frac{1}{4} \quad 3 \frac{1}{2} + 2 \frac{1}{8} \quad 3 \frac{1}{8} + 2 \frac{2}{4} \quad 2 \frac{3}{8} + 3 \frac{1}{4}$$

12 **لأن مجموع الجزء الكسري يختلف عن الثلاثة الباقية** اختار بطاقتين من البطاقات أدناه، بحيث يكون مجموعهما $\frac{7}{12}$

$$\frac{1}{3} \quad \frac{1}{12} \quad \frac{1}{6} \quad \frac{1}{2}$$

13 **تبرير:** أكتب مسألة جمع يكون حلها التمثيل الآتي على خط الأعداد، مبرراً إجابتي.



14 **مسألة مفتوحة:** أضع عدداً مناسباً في \square ، بحيث يكون $4 \frac{1}{3} + 3 \frac{\square}{9} < 8$ أكثر من إجابة ممكنة، ضمن الأعداد من (1 - 5)

أتحدّث: كيف أجمع عددين كسريين مقامهما غير متساويين؟

مغلوفة

تقع مخميّة صانا في محافظة الطفيلة، وتعدّ موطناً للعديد من أنواع الطيور والتديبات المهددة بالانقراض مثل: الثعالب السوري، والثعالب الأفغاني، والماعز الجبلي.

مهارات التفكير العليا

أتحدّث: إجابة ممكنة: بتوحيد المقامات وكتابة الأعداد الكسرية في صورة كسور غير فعلية ثم جمع البسطين على المقام نفسه.

نشاط مفاهيمي: طرح الكسور والأعداد الكسرية

هدف النشاط:

استعمال خط الأعداد لطرح الكسور والأعداد الكسرية.

المصادر والأدوات:

ورقة المصادر 8: خط أعداد غير مدرج، مسطرة، قلم.

خطوات العمل:

نشاط 1:

- أراجع الطلبة بطرح الكسور المتشابهة، بطرح أسئلة مثل:

$$\llcorner \text{أجد ناتج: } \frac{3}{5} - \frac{1}{5}$$

- أنبه الطلبة إلى وجوب أن تكون المقامات متشابهة لطرح الكسور.

- أوزع ورقة المصادر 8.

- أوجه الطلبة إلى تنفيذ خطوات نشاط 1، مُقدِّمًا لهم الدعم اللازم.

- أطلب إلى الطلبة حلَّ أسئلة فقرة **أندرب** بصورة فردية، وأمهلهم 5 دقائق للحلِّ وأتابع حلَّهم، وإذا لم يتمكن عدد من الطلبة من الحلِّ، فأستعين بأحدهم/إحدهنَّ للحلِّ والشرح على اللوح.

نشاط مفاهيمي: طرح الكسور والأعداد الكسرية

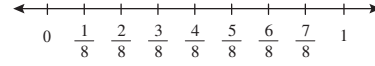
الهدف: أستعمل خط الأعداد لطرح الكسور والأعداد الكسرية.

يُمكنني استعمال خط الأعداد لطرح الكسور.

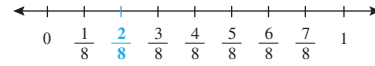
نشاط 1: أجد ناتج: $\frac{5}{8} - \frac{1}{4}$ باستعمال خط الأعداد.

الخطوة 1: أرسم خط أعداد، وأحدّد عليه العددين 0 و1، ثمّ أقسّمه إلى أجزاء متساوية حسب المقام الأكبر.

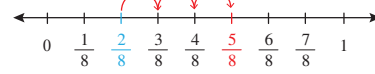
(4 < 8، إذن: أقسّم خط الأعداد إلى 8 أجزاء متساوية).



الخطوة 2: أحدّد الكسر $\frac{1}{4}$ على خط الأعداد. (أتذكّر: أستعمل الكسور المتكافئة $\frac{2}{8} = \frac{1}{4}$).



الخطوة 3: أعد إلى الأمام مُبتدئًا من الكسر $\frac{2}{8}$ لأصل إلى الكسر $\frac{5}{8}$.



ناتج الطرح هو مجموع الأجزاء التي مررت بها حتى وصلت إلى الكسر $\frac{5}{8}$.

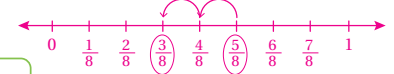
$$\frac{5}{8} - \frac{1}{4} = \frac{5}{8} - \frac{2}{8} = \frac{3}{8}$$

أندرب: أجد ناتج كلِّ مما يأتي باستعمال خط الأعداد:

1 $\frac{3}{4} - \frac{1}{8} = \frac{5}{8}$

2 $\frac{7}{10} - \frac{1}{2} = \frac{2}{10}$

3 أحلّ النشاط السابق بالرجوع إلى الوراء على خط الأعداد مُبتدئًا من الكسر $\frac{5}{8}$ بمقدار $\frac{1}{4}$ ، وأجد الناتج.



نشاط 2:

• أشرح خطوات نشاط 2، مُقدِّمًا لهم الدعم اللازم.

• يُمكنني استبدال طريقة مجموع أطوال الأقواس بعدّ الوحدات بين العددين، ويكون عدد الوحدات هو ناتج الطرح.

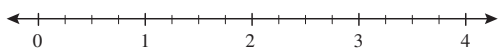
• أطلب إلى الطلبة حلّ سؤال أتدرّب بصورة فردية، وأتجوّل بينهم وأتابع الحلّ.

• أناقش الطلبة في الأخطاء التي وقع فيها بعضهم، من دون ذكر الطالب/الطالبة تجنبًا لإحراجه.

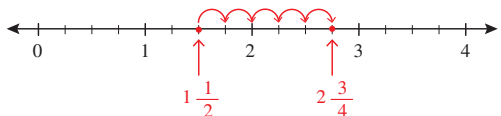
يُمكنني استعمال خطّ الأعداد لطرح الأعداد الكسريّة أيضًا.

• **نشاط 2:** أجد ناتج: $2\frac{3}{4} - 1\frac{1}{2}$ باستعمال خطّ الأعداد.

الخطوة 1 أرسّم خطّ أعداد، وأقسّم المنطقة بين كلّ عدديّين كلّيّين إلى أجزاء متساوية حسب المقام الأكبر. (2 < 4، إذن: أقسّم الخطّ بين كلّ عدديّين كلّيّين إلى 4 أجزاء متساوية).



الخطوة 2 أبدأ بالعدد الكسريّ $1\frac{1}{2}$ ، وأعدّ إلى الأمام حتّى العدد الكسريّ $2\frac{3}{4}$ ، وأخذّ الكسر الذي يمثّله طول كلّ قوس.



ناتج الطرح هو مجموع الأجزاء التي مررت بها حتّى وصلت إلى العدد الكسريّ $2\frac{3}{4}$

$$\frac{5}{4} = 1\frac{1}{4}$$

ويُمكنني كتابته على صورة عدد كسريّ

أتدرّب: أجد ناتج كلّ مما يأتي باستعمال خطّ الأعداد:

1 $2\frac{3}{5} - \frac{3}{10}$ $2\frac{3}{10}$

2 $6 - 3\frac{1}{2}$ $2\frac{1}{2}$

إرشاد: أوجّه الطلبة إلى تقسيم خط الأعداد بحسب المقام الأكبر، والبدء أولاً بالعدد الكسري المطروح، حتّى الوصول إلى العدد الكسري المطروح منه، وأوجههم أن ناتج الطرح يكون مجموع الأجزاء التي مرّ بها حتّى وصل إلى العدد الكسري المطروح منه.

نتائج الدرس:

- طرح كسر من كسر.
- طرح كسر من عدد كلي.
- طرح عدد كسري من عدد كسري.

نتائج التعلم القبلي:

- طرح الكسور المتشابهة.
- إيجاد كسر مكافئ لكسر معطى باستعمال النماذج.
- إيجاد كسر مكافئ لكسر معطى باستعمال الضرب.

مراجعة التعلّم القبلي ومعالجة الفاقد التعليمي:

أسترشد بالإجراءات المبيّنة في مقدمة دليل المعلم (الصفحتان i و j) المتعلقة بمراجعة التعلم القبلي ومعالجة الفاقد التعليمي لدى الطلبة.

1 التهيئة

- أعطي كل طالب بطاقة من بطاقات الكسور من ورقة المصادر 10 : بطاقات الكسور.
- أطلب إلى الطلبة تنظيم أنفسهم في مجموعات، بحيث يحمل أفراد المجموعة الواحدة بطاقات كسور متكافئة.
- أ طرح على الطلبة الأسئلة الآتية:
 - « أيُّ المجموعات أكبر؟
 - « أيُّ المجموعات تحوي فردًا واحدًا؟
 - « أجد كسرًا مكافئًا للكسر الذي يحمله زميلكم.

2 الاستكشاف

- أوجه الطلبة إلى قراءة المسألة في فقرة **أستكشف**، وأطلب إلى أحدهم/ إحداهنّ قراءتها بصوت عالٍ، وأسأل:
 - « ما المعطى في المسألة؟ كتلة ذكر الطاووس وكتلة أنثاه.
 - « ما المطلوب؟ الفرق بين الكتلتين.
 - « ما العملية التي يجب القيام بها لإيجاد المطلوب؟ الطرح.



أستكشف

كُتِلَ أَحَدُ ذُكُورِ الطَّائِوسِ $5 \frac{1}{2}$ kg ،
بَيْنَمَا كُتِلَ إِحْدَى الْإِنَاثِ $3 \frac{1}{8}$ kg .
مَا الْفَرْقُ بَيْنَ هَاتَيْنِ الْكُتْلَتَيْنِ؟

مِكرَة الدَّرْسِ

أَطْرَحُ الْكُسُورَ وَالْأَعْدَادَ الْكُسْرِيَّةَ.

أَتَعَلَّمُ

قَبْلَ طَرَحِ كُسْرَيْنِ عَنِي مَشَابِهَيْنِ، مَقَامَ أَحَدِهِمَا مُضَاعَفٌ لِلاَّخَرِ، أُعِيدُ كِتَابَةَ أَحَدِهِمَا بِاسْتِعْمَالِ الْكُسُورِ الْمُتَكَافِئَةِ، ثُمَّ أَطْرَحُ كَمَا تُطْرَحُ الْكُسُورُ الْمُشَابِهَةُ.

مثال 1

$$1 \quad \frac{3}{5} - \frac{2}{15}$$

$$\begin{aligned} \frac{3}{5} - \frac{2}{15} &= \frac{3 \times 3}{5 \times 3} - \frac{2}{15} \\ &= \frac{9}{15} - \frac{2}{15} \\ &\quad \text{المقام نفسه} \\ &= \frac{9-2}{15} = \frac{7}{15} \end{aligned}$$

أَكْتُبُ كَسْرًا مُكَافِئًا لِلْكَسْرِ $\frac{3}{5}$ مَقَامُهُ 15
وَذَلِكَ بِضَرْبِ الْبَسْطِ وَالْمَقَامِ فِي الْعَدَدِ 3

أَطْرَحُ الْبَسْطَيْنِ، وَيَبْقَى الْمَقَامُ نَفْسَهُ.

أَتَحَقَّقُ: يُمَكِّنِي اسْتِعْمَالُ النَّمَاذِجِ لِلتَّحَقُّقِ.

$$\frac{3}{5} - \frac{2}{15} = \frac{9}{15} - \frac{2}{15} = \frac{7}{15}$$

$$2 \quad 4 - \frac{3}{8}$$


$$\begin{aligned} 4 - \frac{3}{8} &= \frac{4 \times 8}{1 \times 8} - \frac{3}{8} \\ &= \frac{32}{8} - \frac{3}{8} \\ &= \frac{29}{8} \\ &= 3 \frac{5}{8} \end{aligned}$$

أَكْتُبُ الْعَدَدَ 4 فِي صَوْرَةِ $\frac{4}{1}$ ، ثُمَّ أَكْتُبُ كَسْرًا مُكَافِئًا لَهُ
وَذَلِكَ بِضَرْبِ الْبَسْطِ وَالْمَقَامِ فِي الْعَدَدِ 8

أَطْرَحُ الْبَسْطَيْنِ، وَبَيْتِي الْمَقَامِ نَفْسَهُ.

أَكْتُبُ الْكَسْرَ غَيْرَ الْفِعْلِيِّ فِي صَوْرَةِ عَدَدٍ كَسْرِيٍّ.

أَتَحَقَّقُ: يُمَكِّنِي اسْتِعْمَالُ النَّمَاذِجِ لِلتَّحَقُّقِ.



$$4 - \frac{3}{8} = \frac{32}{8} - \frac{3}{8} = \frac{29}{8} = 3 \frac{5}{8}$$

$$1 \quad \frac{2}{3} - \frac{4}{9} \quad \frac{2}{9}$$

$$2 \quad 3 - \frac{1}{4} \quad 2 \frac{3}{4}$$

التَّحْقِيقُ

$$\begin{aligned} 4 &= 3 \frac{1}{1} = 3 \frac{2}{2} \\ &= 3 \frac{3}{3} = 3 \frac{4}{4} = \dots \end{aligned}$$

عِنْدَ طَرَحِ عَدَدٍ كَسْرِيٍّ مِنْ عَدَدٍ كَلِّيٍّ، يَجِبُ إِعَادَةُ كِتَابَةِ الْعَدَدِ الْكَلِّيِّ فِي
صَوْرَةِ عَدَدٍ كَسْرِيٍّ أَوْلَا.

مِثَالُ 2 أَجِدْ نَاتِجَ كُلِّ مِمَّا يَأْتِي:

$$1 \quad 4 - 1 \frac{1}{4}$$

$$\begin{aligned} 4 - 1 \frac{1}{4} &= 3 \frac{4}{4} - 1 \frac{1}{4} \\ &= 2 \frac{3}{4} \end{aligned}$$

أَكْتُبُ الْعَدَدَ الْكَلِّيَّ 4 فِي صَوْرَةِ $3 \frac{4}{4}$

أَطْرَحُ الْعَدَدَ الْكَلِّيَّ مِنَ الْعَدَدِ الْكَلِّيِّ، وَالْكَسْرَ مِنَ الْكَسْرِ.

• أَرَاوَجُ مَعَ الطَّلِبَةِ طَرَحَ الْكُسُورِ الْمُتَشَابِهَةِ، وَأُناقِشُهُمْ فِي حَلِّهَا.

• أُبَيِّنُ لِلطَّلِبَةِ أَنَّ عَمَلِيَةَ طَرَحِ الْكُسُورِ غَيْرِ الْمُتَشَابِهَةِ تَمَثَّلُ عَمَلِيَةَ جَمْعِهَا، وَذَلِكَ بِإِيجَادِ كَسْرٍ مُكَافِئٍ لِأَحَدِهِمَا بِاسْتِعْمَالِ الْكُسُورِ الْمُتَكَافِئَةِ، بِحَيْثُ يَصْبِحَا كَسْرَيْنِ مُتَشَابِهَيْنِ، ثُمَّ الْجَمْعُ كَمَا تَجْمَعُ الْكُسُورَ الْمُتَشَابِهَةَ.

مِثَالُ 1

• أَكْتُبُ الْفَرْعَ 1 مِنَ الْمِثَالِ 1 عَلَى اللُّوْحِ، وَأَسْأَلُ الطَّلِبَةَ:

« هل يمكن إجراء عملية الطرح مباشرة؟ »

« لماذا؟ »

« ماذا يجب أن أفعل قبل إجراء عملية الطرح؟ »

• أَناقِشُ مَعَ الطَّلِبَةِ حَلَّ السُّؤَالِ عَلَى اللُّوْحِ، وَأَطْلُبُ إِلَيْهِمُ التَّحَقُّقَ مِنْ صِحَّةِ الْحَلِّ بِاسْتِعْمَالِ النَّمَاذِجِ.

• أَكْتُبُ الْفَرْعَ 2 مِنَ الْمِثَالِ 1 عَلَى اللُّوْحِ، وَأَسْأَلُ الطَّلِبَةَ:

« ماذا يختلف هذا السؤال عن السابق؟ »

« ما مقام العدد الكلي؟ »

• أَناقِشُ مَعَ الطَّلِبَةِ حَلَّ السُّؤَالِ عَلَى اللُّوْحِ، وَأَطْلُبُ إِلَيْهِمُ التَّحَقُّقَ مِنْ صِحَّةِ الْحَلِّ بِاسْتِعْمَالِ النَّمَاذِجِ.

✓ **إرشاد:** يمكنني تزويد الطلبة بورقة المصادر 9: لوحة كسور بيضاء؛ لاستعمالها عند التحقق من صحة جمع الكسور غير المتشابهة.

التقويم التكويني ✓

أطلب إلى الطلبة حلّ تدريب (أتحقق من فهمي) بعد كلّ مثال. أختار بعض الإجابات التي تحتوي على أخطاء مفاهيمية، وأناقش الطلبة فيها على اللوح. لا أذكر اسم صاحب الحلّ أمام الصفّ تجنباً لإحراجهم.

- ناقش مع الطلبة حل المثال 2 على اللوح، وأنبّه على أهميّة تحويل الكسور إلى كسور متشابهة، وبعدها إجراء عملية طرح الأعداد الكليّة والكسور، ثم أطلب إلى الطلبة التحقق من صحة الحل باستعمال النماذج.

التدريب

4

أتدرب وأحلّ المسائل:

- أوجّه الطلبة إلى فقرة (أتدرب وأحلّ المسائل)، ثم أطلب إليهم حل المسائل (1-11) ضمن مجموعات ثنائية داخل الغرفة الصفية؛ فهذه المسائل تحديداً ترتبط ارتباطاً مباشراً بأمثلة الدرس، وهي تُستعمل خاصةً لتدريب الطلبة على المفاهيم نفسها، بصرف النظر عمّا إذا كانت الأسئلة فردية أم زوجية.
- إذا واجه الطلبة صعوبة في حل أيّ مسألة، فإنني أختار أحد الطلبة ممن تمكّن/ تمكّنت من حل المسألة؛ لمناقشة استراتيجيته/ استراتيجيتها في حل المسألة على اللوح، مُحفّزاً الطلبة على طرح أيّ تساؤل عن خطوات الحل المُقدّمة من الزميل/ الزميلة.

الواجب المنزلي:

أسّتعين بالجدول الآتي لتحديد الواجب المنزلي للطلبة بحسب مستوياتهم:

المستويات	الأسئلة
دون المتوسط	كتاب الطالب: 12, 17 كتاب التمارين: (1-10)
ضمن المتوسط	كتاب الطالب: 13, 15, 17 كتاب التمارين: (8-11)
فوق المتوسط	كتاب الطالب: (16-19), 14 كتاب التمارين: (11-13)

النوذة 4

$$2) 2\frac{3}{4} - 1\frac{1}{2}$$

$$2\frac{3}{4} - 1\frac{1}{2} = 2\frac{3}{4} - 1\frac{1 \times 2}{2 \times 2}$$

$$= 2\frac{3}{4} - 1\frac{2}{4}$$

$$= 1\frac{1}{4}$$

أعيد كتابة الكسور للحصول على الكسور المتكافئة.

أطرح العدد الكليّ من العدد الكليّ، والكسر من الكسر.

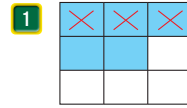
أجد الناتج.

أتحقّق من فهمي: أجد ناتج كلِّ مما يأتي:

$$1) 5 - 3\frac{1}{3} \quad 1\frac{2}{3}$$

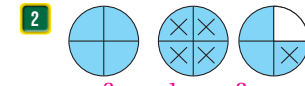
$$2) 3\frac{1}{2} - 2\frac{1}{8} \quad 1\frac{3}{8}$$

$$\frac{5}{9} - \frac{3}{9} = \frac{2}{9}$$



أكتب جملة الطرح، ثم أجد ناتج ما يأتي:

$$2) 2\frac{3}{4} - 1\frac{1}{4} = 1\frac{2}{4}$$



أجد ناتج كلِّ مما يأتي في أبسط صورة:

$$3) \frac{7}{8} - \frac{1}{2} \quad \frac{3}{8}$$

$$4) \frac{11}{12} - \frac{2}{3} \quad \frac{1}{4}$$

$$5) \frac{3}{5} - \frac{7}{15} \quad \frac{2}{15}$$

$$6) 1 - \frac{3}{4} \quad \frac{1}{4}$$

$$7) 2 - \frac{5}{6} \quad 1\frac{1}{6}$$

$$8) 3 - 1\frac{1}{4} \quad 1\frac{3}{4}$$

$$9) 5\frac{3}{4} - 2\frac{1}{2} \quad 3\frac{1}{4}$$

$$10) 8\frac{2}{5} - 3\frac{1}{10} \quad 5\frac{3}{10}$$

$$11) 6\frac{1}{3} - 4\frac{2}{9} \quad 2\frac{1}{9}$$

12) لدى عائلة 3 1/2 kg من البُرّقال، أكلوا منها 1 1/4 kg، فكَم بقيَ لديهم من البُرّقال؟

$$3\frac{1}{2} - 1\frac{1}{4} = 2\frac{1}{4}$$

أتدرب وأحلّ المسائل



مغلوفة

يستخدم المزارعون قشور البُرّقال في أعمال الزراعة كونه طارداً طبيعياً لآفات من خلال رشه على الخضراوات.

• أوجّه الطلبة إلى فقرة (مهارات التفكير العليا)، ثم أطلب إليهم حل المسائل (19 - 17).

• أرصد أية أفكار غير تقليدية من الطلبة، ثم أطلب إلى هؤلاء الطلبة كتابة هذه الأفكار على اللوح.

• أوجّه الطلبة في فقرة **أكتشف الخطأ** إلى سؤال 17، إذ يقع بعض الطلبة في خطأ شائع، وهو طرح البسطين والمقامين من الكسور. أستمع للإجابات وأكرّر ضرورة توحيد المقامات وأن المقام لا يُطرح.

• أعرض السؤالين 19 و18 في فقرة **تحدّد**، في صورة مسابقة بين الطلبة، وأحدّد 5 دقائق فقط للقيام بالحلّ، ثم أخرج طالبين/ طالبتين لشرح الحلّ على اللوح.

معلومة

يُعدُّ بُرْجُ إيفل في مدينة باريس الفرنسيّة إحدى عجائب الدنيا السبع، وقد بقي مُنْذُ بناؤه في عام 1889م إلى عام 1930م، أطول مبنى في العالم.

مهارات التفكير العليا

13

أعمار: عمر سوزان $10\frac{2}{5}$ أعوام، وعمر دينا $8\frac{1}{10}$ أعوام. كم الفرق بين عمريهما؟ $2\frac{3}{10}$

14

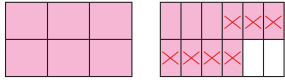
جسري: في سباق للجري قطع ماجد مسافة $12\frac{1}{3}$ km، بينما قطع مازن $9\frac{1}{6}$ km. كم الفرق بين المسافة التي قطعها ماجد و مازن؟ $3\frac{1}{6}$

15

أكتب مسألتي طرح تُعبّران عن النموذج المُجاور.

$$1\frac{5}{6} - \frac{7}{12} = 1\frac{3}{12}$$

$$1\frac{10}{12} - \frac{7}{12} = 1\frac{3}{12}$$



16

أبراج: صمّم فنان نموذجاً لبرج إيفل في باريس بطول $1\frac{1}{3}$ m، ثم صمّم نموذجاً لبرج الساعة في مكة المكرمة بطول $4\frac{5}{9}$ m ما الفرق بين طولي النموذجين؟ $4\frac{5}{9} - 1\frac{1}{3} = 3\frac{2}{9}$



17

أكتشف الخطأ: قالت هبة إن ناتج حلّ المسألة $3\frac{3}{8} - 2\frac{1}{4}$ هو $1\frac{2}{4}$ ، هل إجابتها صحيحة؟ أبرر إجابتي. خطأ، فقد طرح البسطين والمقامين، بينما يجب أن توحد المقامات، ثم تطرح البسطين فقط.

تحدّد: أكتب العدد المناسب في

18 $4\frac{2}{5} - 3\frac{3}{10} = 1\frac{1}{10}$

19 $3\frac{1}{4} - 2\frac{2}{8} = 1$

أنتحدث: كيف أطرح عددين كسريّين مقامهما مختلفان؟
إجابة ممكنة: بتوحيد المقامات وطرح الأعداد الكلية ثم طرح الجزئين الكسريين.

5

الإثراء

أوجّه الأسئلة الآتية لإثراء تعلّم الطلبة:

- أعطى محمد لابنه مبلغ 5 دنانير وطلب إليه شراء لبن وعصير من البقالة، فإذا كان ثمن اللبن $1\frac{1}{2}$ دينار وثمان العصير $2\frac{1}{4}$ ديناران. فما المبلغ المتبقي من الـ 5 دنانير؟ اشترى بـ $3\frac{3}{4}$ ، وبقي $1\frac{1}{4}$

مشروع الوحدة:

أوجّه الطلبة إلى تسجيل ما تعلّموه في المطوية.

6

الختام

- أستعمل السؤال في فقرة أتحدّد، للتأكد من فهم الطلبة لموضوع الدرس، وأوجّه الطلبة ذوي المستوى المتوسط ودون المتوسط إلى الإجابة عن السؤال.
- إن لزم الأمر، أتحدّق من فهم الطلبة، بطرح سؤال عليهم، مثل:

1 $\frac{4}{12} - \frac{1}{3} = 0$

2 $6\frac{1}{2} - 3\frac{1}{4} = 3\frac{1}{4}$

3 $9 - \frac{3}{4} = 8\frac{1}{4}$

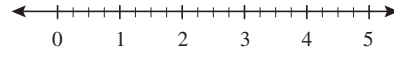
نشاط مفاهيمي: ضرب عدد كلي في كسر أو عدد كسري

نشاط مفاهيمي: ضرب عدد كلي في كسر أو عدد كسري

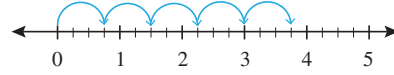
الهدف: استعمل خط الأعداد لإيجاد ناتج ضرب عدد كلي في كسر أو عدد كسري.

نشاط: أجد $5 \times \frac{3}{4}$ باستخدام خط الأعداد.

الخطوة 1: أرسم خط أعداد، وأقسم المنطقة بين كل عددين كليين إلى 4 أجزاء متساوية. (لماذا؟)



الخطوة 2: أفرز على خط الأعداد 5 مرات، في كل منها أعد 3 أجزاء.



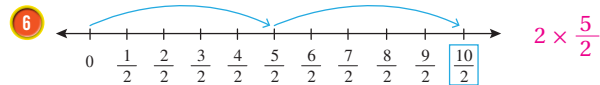
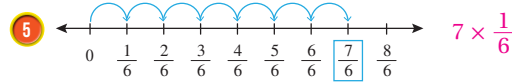
العدد الكسري الذي وصلت إليه على خط الأعداد $\frac{3}{4}$ ، ويمثل ناتج الضرب:

$$5 \times \frac{3}{4} = 3 \frac{3}{4}$$

أترّب: أجد ناتج كل مما يأتي باستخدام خط الأعداد:

1 $3 \times \frac{1}{3} = 1$ 2 $2 \times \frac{5}{6} = \frac{10}{6}$ 3 $4 \times \frac{1}{4} = 1$ 4 $3 \times \frac{2}{7} = \frac{6}{7}$

أكتب جملة الضرب الممنلة على كل خط أعداد مما يأتي:



95

هدف النشاط:

استعمال خط الأعداد في إيجاد ناتج ضرب عدد كلي في كسر أو عدد كسري.

المصادر والأدوات:

ورقة المصادر 8: خط أعداد غير مدرج.

خطوات العمل:

- أوزع على الطلبة ورقة المصادر 8.
- أكتب الكسر $(\frac{3}{4})$ على اللوح، وأسأل الطلبة: ماذا يعني $\frac{3}{4}$ ؟ توجد وحدة قسمت إلى 4 أجزاء أخذ 3 منها.
- أطلب إلى الطلبة تقسيم خط الأعداد في ورقة المصادر إلى أرباع وتحديد الكسر $\frac{3}{4}$ عليها.
- أكتب المسألة الآتية على اللوح: « أجد ناتج: $5 \times \frac{3}{4}$ »
- أذكر الطلبة أن الضرب هو عملية جمع متكرر، مثل: 2×3 هي $3 + 3$
- أطلب إلى الطلبة القفز إلى الأمام 5 قفزات، طول القفزة $\frac{3}{4}$ وتسجيل العدد الذي يقفون عليه.
- أسأل: ما العدد الكسري الذي وصلت إليه؟ $3 \frac{3}{4}$
- أطلب للطلبة أن الناتج يمثل ناتج الضرب.
- أطلب إلى الطلبة حل أسئلة فقرة أترّب بصورة فردية، وأمهلهم 5 دقائق للحل.
- أتجول بين الطلبة وأسجل ملاحظاتي، وأعزز الإجابات الصحيحة وأقدم التغذية الراجعة.

الدَّرْسُ 4 ضَرْبُ عَدَدٍ كَلْبِيٍّ فِي كَسْرٍ



أَسْتَكْشِفُ

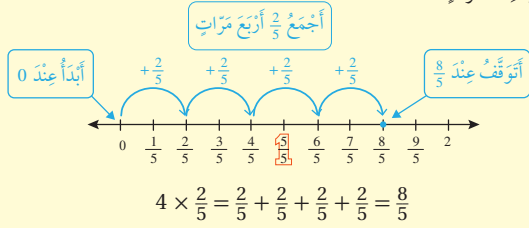
لدى تاجرٍ 12 شاشةً تَلْفَازٍ باعَ ثُلُثَهَا، فَكَمْ شَائِةً باعَ التَّاجِرُ؟

فِكْرَةُ الدَّرْسِ

- أَضْرِبُ عَدَدًا كَلْبِيًّا فِي كَسْرٍ.
- أَضْرِبُ عَدَدًا كَلْبِيًّا فِي عَدَدٍ كَسْرِيٍّ.

أَتَعَلَّمُ

يُمْكِنُ اسْتِعْمَالُ الْجَمْعِ الْمُتَكَرِّرِ لِضَرْبِ عَدَدٍ كَلْبِيٍّ فِي كَسْرٍ، فَمَثَلًا: عِنْدَ إِيجَادِ نَائِجِ $4 \times \frac{2}{5}$ أَكْرُرُ جَمْعَ الكَسْرِ $\frac{2}{5}$ إِلَى نَفْسِهِ 4 مَرَّاتٍ.



مِثَالٌ 1 أجد نائج $3 \times \frac{2}{5}$

أَسْتَعْمِلُ الْجَمْعَ الْمُتَكَرِّرَ.

$$3 \times \frac{2}{5} = \frac{2}{5} + \frac{2}{5} + \frac{2}{5}$$

الضَّرْبُ هُوَ جَمْعٌ مُتَكَرِّرٌ.

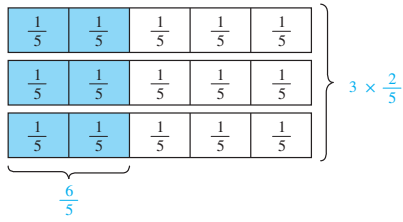
$$= \frac{2+2+2}{5}$$

أَجْمَعُ البُسُوطَ، وَيَبْقَى المَقَامُ نَفْسَهُ.

$$= \frac{6}{5} = 1 \frac{1}{5}$$

أجد النائج.

أَتَحَقَّقُ: يُمْكِنُنِي اسْتِعْمَالُ النَّمَاذِجِ لِلتَّحَقُّقِ.



نتائج الدرس:

- ضرب عدد كَلْبِيٍّ فِي كَسْرٍ.
- ضرب عدد كَلْبِيٍّ فِي عَدَدٍ كَسْرِيٍّ.

نتائج التعلم القبلي:

- كتابة الكسر غير الفعلي في صورة عدد كسري.
- جمع الكسور المتشابهة.

مراجعة التعلُّم القبلي ومعالجة الفاقد التعليمي:

أسترشد بالإجراءات المبيَّنة في مقدمة دليل المعلم (الصفحتان 1 و 2) المتعلقة بمراجعة التعلم القبلي ومعالجة الفاقد التعليمي لدى الطلبة.

1 التهيئة

- أعرِّض المسألة الآتية: صف فيه 24 طالبًا شارك $(\frac{1}{4})$ الطلبة في النشاط المسرحي، فكم طالبًا شارك في هذا النشاط؟
- أطلب إلى الطلبة التفكير ثم أستمع للإجابات وأناقش الطلبة كيف توصلوا إليها، وأناقشهم في معقولية الحل.
- أكتب المسألة: $6 = \frac{1}{4} \times 24$ ، أذكر أن الدرس اليوم سيكون كيف نضرب عددًا كَلْبِيًّا فِي كَسْرٍ أو عدد كسري.
- أسأل الطلبة عشوائيًا بعض أسئلة الضرب، مثال: 5×4 ، 3×6

- أوجّه الطلبة إلى قراءة المسألة في فقرة **أستكشف**، وأطلب إلى أحدهم/ إحداهنّ قراءتها وتحديد المعطيات والمطلوب، وأسأل:
« كيف نجد عدد الشاشات المباعة؟ **إجابة محتملة: باستعمال الضرب.** »
« ماذا لو باع التاجر $\frac{2}{3}$ الشاشات؟ **تختلف الإجابات.** »
- أعزز الإجابات الصحيحة.

- أبين للطلبة أنه يمكن استعمال الجمع المتكرر لضرب عدد كلي في عدد كسري.

مثال 1

- أوجّه الطلبة إلى المثال 1، وأذكرهم أنّ أصل الضرب هو الجمع المتكرر، وأنّ الجزء المظلل في كل وحدة يدل على $(\frac{2}{5})$ ، وأنه لضرب (3) في $(\frac{2}{5})$ فإننا نجمع $(\frac{2}{5})$ ثلاث مرّات فتصبح الإجابة $(\frac{6}{5})$ أي:

$$\frac{2}{5} + \frac{2}{5} + \frac{2}{5} =$$

$$\frac{2+2+2}{5} = \frac{6}{5}$$

- أسأل الطلبة:

« هل $(\frac{6}{5})$ كسر فعلي أم غير فعلي؟ **كسر غير فعلي.** »

« من يحوّل $(\frac{6}{5})$ إلى عدد كسري؟ »

- أطلب إلى الطلبة التحقق من صحة الحل باستعمال النماذج.

✓ **إرشاد:** يمكنني تزويد الطلبة بورقة المصادر 9: لوحة كسور بيضاء؛ لاستعمالها عند التحقق من صحة الحل.

التقويم التكويني: ✓

أطلب إلى الطلبة حلّ تدريب (أتحقّق من فهمي) بعد كلّ مثال. أختار بعض الإجابات التي تحتوي على أخطاء مفاهيمية، وأناقش الطلبة فيها على اللوح. لا أذكر اسم صاحب الحلّ أمام الصفّ تجنباً لإحراجهم.

أَتَحَقَّقُ مِنْ فَهْمِي:

$$4 \times \frac{3}{7} = \frac{12}{7} = 1 \frac{5}{7}$$

عند ضرب عددٍ كَلِّي في عددٍ كَسْرِي، أُجزئُ العددَ الكَسْرِي، ثُمَّ أَسْتَعْمِلُ خَاصِيَةَ التَّوْزِيعِ.

مِثَالٌ 2: مِنَ الْحَيَاةِ

تَبْرَعُ: تَبْرَعَتْ هُدَى لِلْفُقَرَاءِ بِمَبْلَغٍ 3 دَنَانِيرَ، وَتَبْرَعُ وَسِيمٌ بِمَبْلَغٍ $1 \frac{1}{3}$ مِنْ قِيَمَةِ الْمَبْلَغِ الَّذِي تَبْرَعَتْ بِهِ هُدَى. كَمْ الْمَبْلَغُ الَّذِي تَبْرَعُ بِهِ وَسِيمٌ؟

$$3 \times 1 \frac{1}{3} = 3 \times \left(1 + \frac{1}{3}\right)$$

أَسْتَعْمِلُ خَاصِيَةَ التَّوْزِيعِ ثُمَّ أَسْتَعْمِلُ الْجَمْعَ الْمُتَكَرِّرَ.

$$3 \times 1 \frac{1}{3} = 3 \times \left(1 + \frac{1}{3}\right)$$

$$= (3 \times 1) + \left(3 \times \frac{1}{3}\right)$$

$$= (3 \times 1) + \left(\frac{1}{3} + \frac{1}{3} + \frac{1}{3}\right)$$

$$= (3 \times 1) + \frac{3}{3}$$

$$= 3 + 1 = 4$$

أَجزئُ العددَ الكَسْرِي $1 \frac{1}{3}$

أَسْتَعْمِلُ خَاصِيَةَ التَّوْزِيعِ.

أَسْتَعْمِلُ الْجَمْعَ الْمُتَكَرِّرَ.

أَجري العَمَلِيَّاتِ الْجَسَائِيَّةَ حَسَبَ الْأَوَّلِيَّاتِ.

أَبسِّطُ، وَأَجِدُ النَّاتِجَ.

أَتَحَقَّقُ: يُمَكِّنُنِي اسْتِعْمَالُ النَّمَاذِجِ لِلتَّحَقُّقِ.

$$3 \times 1 \frac{1}{3} = 1 \frac{1}{3} + 1 \frac{1}{3} + 1 \frac{1}{3} = 4$$

إِذْنًا: تَبْرَعُ وَسِيمٌ بِمَبْلَغٍ 4 دَنَانِيرَ.

أَتَحَقَّقُ مِنْ فَهْمِي:

$$3 \times 2 \frac{1}{2} = 3 \times \frac{5}{2} = \frac{15}{2} = 7 \frac{1}{2}$$

مَدخُلُ مَنْزِلٍ عَلَى شَكْلِ مُسْتَطِيلٍ عَرْضُهُ $2 \frac{1}{2}$ m وَطَوَلُهُ 3 أمتالٍ عَرْضُهُ. أَحسُبُ طَوَلَ الْمَدخُلِ.

أَوَّلِيَّاتُ الْعَمَلِيَّاتِ الْجَسَائِيَّةِ:

أَوَّلِيَّاتُ الْعَمَلِيَّاتِ الْجَسَائِيَّةِ:

أَوَّلِيَّاتُ الْعَمَلِيَّاتِ الْجَسَائِيَّةِ:

أَوَّلِيَّاتُ الْعَمَلِيَّاتِ الْجَسَائِيَّةِ:

أَوَّلِيَّاتُ الْعَمَلِيَّاتِ الْجَسَائِيَّةِ:

أَوَّلِيَّاتُ الْعَمَلِيَّاتِ الْجَسَائِيَّةِ:

أَتَدْرِبُ وَأَحْلُ الْمَسَائِلَ:

- أوجّه الطلبة إلى فقرة (أَتَدْرِبُ وَأَحْلُ الْمَسَائِلَ)، ثم أطلب إليهم حل المسائل (1-7) ضمن مجموعات ثنائية داخل الغرفة الصفية؛ فهذه المسائل تحديداً ترتبط ارتباطاً مباشراً بأمثلة الدرس، وهي تُستعمل خاصةً لتدريب الطلبة على المفاهيم نفسها، بصرف النظر عما إذا كانت الأسئلة فردية أم زوجية.
- إذا واجه الطلبة صعوبة في حل أيّ مسألة، فإنني أختار أحد الطلبة ممن تمكن/ تمكنت من حل المسألة؛ لمناقشة استراتيجيته/ استراتيجيتها في حل المسألة على اللوح، مُحفِّزاً الطلبة على طرح أيّ تساؤل عن خطوات الحل المُقدَّمة من الزميل/ الزميلة.

المفاهيم العابرة للمواد:

أؤكد على المفاهيم العابرة للمواد حيثما وردت في كتاب الطالب أو كتاب التمارين. في المثال 2، أعزز الوعي بالقضايا الأخلاقية والخير لدى الطلبة، وأركز على أهمية الزكاة بوصفها فريضة إسلامية والصدقات بوصفها أمراً إلهياً لصالح المجتمع وإحقاق العدل المجتمعي.

الواجب المنزلي:

أستعين بالجدول الآتي لتحديد الواجب المنزلي للطلبة بحسب مستوياتهم:

المستويات	الأسئلة
دون المتوسط	كتاب الطالب: 8, 9 كتاب التمارين: (1 - 4)
ضمن المتوسط	كتاب الطالب: 10, 11 كتاب التمارين: (3 - 6)
فوق المتوسط	كتاب الطالب: (8, (10 - 13) كتاب التمارين: (5, (8 - 10)

مهارات التفكير العليا

- أوجه الطلبة إلى فقرة (مهارات التفكير العليا)، ثم أطلب إليهم حل المسائل (12 - 13).
- أرصد أية أفكار غير تقليدية من الطلبة، ثم أطلب إلى هؤلاء الطلبة كتابة هذه الأفكار على اللوح.
- يحتاج الطلبة أحياناً إلى توجيه مسائل مفتوحة كما في السؤالين 13 و 14 تحتل أكثر من إجابة صحيحة. أذكرهم بأنهم يمكن أحياناً أن تختلفوا في طريقة الحل، ولكن لا يعني ذلك أن أحدكم قد أخطأ؛ فقد يوجد للمسألة أكثر من حل.
- في سؤال 12 مسألة متعددة الخطوات، أوجه الطلبة إلى إيجاد المسافة التي يركضها كل من أحمد وعيسى ثم مقارنة المسافتين؛ لذا، فالمسألة متعددة الخطوات.
- في سؤال أكتشف الخطأ، أذكر الطلبة أنه عند جمع الكسور المتشابهة نجمع البسوط فقط، وما أخطأ به عامر أنه جمع البسوط وجمع المقامات.
- في سؤال 16، أنبه الطلبة إلى أن الكسر الممثل لأي لون هو عدد مستطيلات هذا اللون على العدد الكلي للمستطيلات وهي 12 مستطيلاً



أَتَدْرَبُ وَأَحَلُّ الْمَسَائِلَ



مَعْلُومَةٌ

يحتوي الكوب الواحد من الحليب على كمية كالسيوم تُعادل كمية الكالسيوم الموجودة في سبع بُوتقات تقريباً.

أجد ناتج كل مما يأتي في أبسط صورة:

$$1 \quad 2 \times \frac{3}{4} = \frac{6}{4} = \frac{3}{2} \quad 2 \quad 4 \times \frac{11}{16} = \frac{11}{4} \quad 3 \quad 3 \times \frac{3}{2} = \frac{9}{2}$$

$$4 \quad 8 \times 2\frac{5}{6} = 8 \times \frac{17}{6} = \frac{68}{3} \quad 5 \quad 6 \times 1\frac{7}{4} = 6 \times \frac{11}{4} = \frac{33}{2} \quad 6 \quad 2 \times 10\frac{8}{9} = 2 \times \frac{98}{9} = \frac{196}{9}$$

7 حليب: استعملت زنيمة $\frac{2}{3}$ كوب من الحليب لصنع كعكة، ما كمية الحليب التي تحتاج إليها لصنع 3 كعكات؟ $3 \times \frac{2}{3} = \frac{6}{3} = 2$

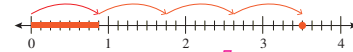


8 قازات: إذا كانت 12 دولة عربية تقع في قارة أفريقيا، وكان $\frac{1}{3}$ هذه الدول تطل على البحر الأحمر، فكم دولة عربية تقع في قارة أفريقيا وتطل على البحر الأحمر؟ 4

أكتب العدد المناسب في

$$9 \quad 5 \times \frac{1}{3} = \frac{5}{3} = 1\frac{2}{3} \quad 10 \quad 8 \times \frac{5}{6} = \frac{20}{3}$$

11 أكتب مسألة ضرب، يكون حلها التمثيل الآتي على خط الأعداد، مبرراً إجابتي.



إجابات متعددة للمسألة، الحل: $4 \times \frac{7}{8}$

12 مسألة متعددة الخطوات: يركض أحمد مسافة $2\frac{2}{3}$ km ثلاث مرات أسبوعياً، ويركض عيسى مسافة $3\frac{3}{4}$ km مرتين أسبوعياً، من بينهما يركض مسافة أطول خلال الأسبوع؟ أبرر إجابتي. $3 \times 2\frac{2}{3} = 3 \times \frac{8}{3} = 8$ يركض أحمد أكثر من عيسى. $2 \times 3\frac{3}{4} = 2 \times \frac{15}{4} = 7\frac{1}{2}$

13 مسألة مفتوحة: أضع عدداً مناسباً في ليكون الناتج عدداً كلياً:

$$\frac{1}{2} \times \text{$$

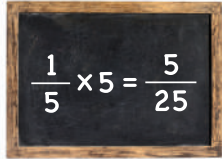
إجابات ممكنة 2, 4, 6, ...

مهارات التفكير العليا

إرشاد

أجد المسافة التي يركضها كل من أحمد وعيسى في الأسبوع أولاً.

14 **اكتشف الخطأ:** أوجد عاير ناتج ضرب $\frac{1}{5} \times 5$ كما في الشكل أدناه، أخطأ الخَطَّاءُ الذي وَفَّعَ فِيهِ وَأَصَحَّحُهُ.



(14) كتب عامر المسألة جمع متكرر أي $\frac{1}{5}$ مجموعاً خمس مرات، لكنه عند الجمع جمع البسوط $1+1+1+1+1$ جمع المقامات $5+5+5+5+5$ ، حيث نتج معه $\frac{5}{25}$ وكان عليه عدم جمع المقامات، والإجابة الصحيحة 1

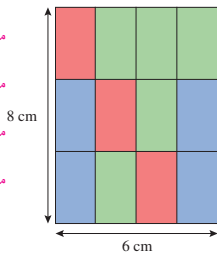
15 **مسألة مفتوحة:** استعمل بطاقات الأرقام أدناه جميعها؛ لأكمل مسألة الضرب، شرط استعمال الرقم مرة واحدة فقط.

1 2 3 4 6

$$2 \times \frac{6}{3} = \frac{4}{1}$$

16 أجد المساحة التي يغطيها كل لون في المستطيل أدناه.

مساحة المستطيل كاملاً: $8 \times 6 = 48 \text{ cm}^2$
 مساحة اللون الأحمر: $48 \times \frac{3}{12} = 12 \text{ cm}^2$
 مساحة اللون الأزرق: $48 \times \frac{4}{12} = 16 \text{ cm}^2$
 مساحة اللون الأخضر: $48 \times \frac{5}{12} = 20 \text{ cm}^2$



أفكر

كيف أوظف ضرب الكسور في إيجاد المساحة التي يغطيها كل لون في المستطيل؟

انتبه: كيف تساعدني العلاقة بين عمليتي الجمع والطرح عمليتان متعاكستان فان الضرب ضرب عدد كلي في كثير؟ مثلما أن الجمع والطرح عمليتان متعاكستان فان الضرب والقسمة متعاكستان والكسر اصله قسمة وبالتالي الضرب في كسر كأنك تقسم على المقام ثم تضرب بالبسط.

• أوجه السؤال الآتي لإثراء تعلم الطلبة:

« أملأ بالعدد المناسب:

$$\square \times 3 \frac{1}{4} = 13 \quad 4$$

مشروع الوحدة

أوجه الطلبة إلى تسجيل ما تعلموه والصعوبات التي واجهتهم أثناء تنفيذ المشروع في المطوية.

• أستعمل السؤال في فقرة **أتحدث**، للتأكد من فهم الطلبة لموضوع الدرس، وأوجه الطلبة ذوي المستوى المتوسط ودون المتوسط إلى الإجابة عن السؤال.

• إن لزم الأمر، أتحدث من فهم الطلبة، بطرح سؤال عليهم، مثل:

« أجد ناتج كل مما يأتي في أبسط صورة:

1 $6 \times \frac{4}{5} = \frac{24}{5}$

2 $10 \times 3 \frac{1}{5} = 32$

نشاط مفاهيمي: ضرب كسر في كسر

نشاط مفاهيمي: ضرب كسر في كسر

الهدف: استعمال النماذج لإيجاد ناتج ضرب كسرين.

تعلمت سابقاً ضرب عددٍ كليٍّ في كسر، وبممكنيتي أيضاً استعمال النماذج لضرب كسرين.

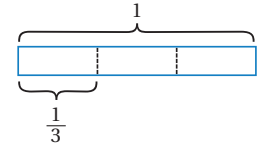
نشاط:

أستعمل النماذج لإيجاد ناتج: $\frac{1}{2} \times \frac{1}{3}$

$\frac{1}{2} \times \frac{1}{3}$ تعني: كم نصف الثلث؟ ولإيجاده، أتبع الخطوات الآتية:

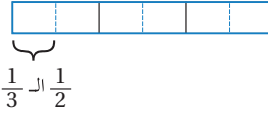
الخطوة 1 أمثل $\frac{1}{3}$

أقسم المُستطيل إلى 3 أجزاء متساوية، ثم أظلل أحدها.



الخطوة 2 أجد نصف الكسر $\frac{1}{3}$

أقسم كلُّ ثلثٍ إلى نصفين، ثم أظلل نصف الثلث.



الشكل كاملاً مقسم إلى 6 أجزاء متساوية، وهذا يعني أنَّ

الجزء الواحد يساوي $\frac{1}{6}$

إذن $\frac{1}{2}$ الـ $\frac{1}{3}$ هو: $\frac{1}{2} \times \frac{1}{3} = \frac{1}{6}$

أندرب: ناتج ضرب بسطيهما يساوي بسط الناتج $\frac{1}{6}$ ، وناتج ضرب مقاميهما يساوي مقام الناتج $\frac{1}{6}$

1 ما علاقة بسطي الكسرين $\frac{1}{2}$ و $\frac{1}{3}$ ومقاميهما بسط الكسر الناتج $(\frac{1}{6})$ ومقاميهما؟

2 كيف يمكن إيجاد ناتج $\frac{1}{2} \times \frac{1}{3}$ من دون استعمال نموذج؟ واضرب مقاميهما وضع الناتج في مقام الناتج، واضرب بسطيهما وضع الناتج في بسط الناتج.

أستعمل النماذج لإيجاد ناتج كلِّ مما يأتي:



3 $\frac{1}{2} \times \frac{1}{4} = \frac{1}{8}$

4 $\frac{1}{3} \times \frac{3}{4}$



5 أكتب جملة الضرب التي يُمثلها النموذج أدناه، ثم أجد ناتجها. $\frac{1}{3} \times \frac{1}{4}$



الهدف:

استعمال النماذج لإيجاد ناتج ضرب كسرين.

المصادر والأدوات:

ورقة المصادر 9: لوحة كسور بيضاء، مسطرة، قلم، ألوان.

خطوات العمل:

- أوزع على الطلبة ورقة المصادر 9.
- أكتب الكسر $\frac{1}{3}$ على اللوح، وأطلب إلى الطلبة تقسيم نموذج الواحد الصحيح في ورقة المصادر 9 إلى 3 أجزاء متساوية، ثم أطلب إليهم تظليل ثلث النموذج.
- أطلب إلى الطلبة استعمال النموذج السابق نفسه وتقسيم كل $\frac{1}{3}$ إلى النصف، وأسألهم إلى كم جزء قسم النموذج الآن؟ 6 أجزاء.
- أطلب إلى الطلبة تظليل نصف الجزء المظلل من النموذج بلون آخر، وأسألهم: كم عدد الأجزاء المظللة بلونين؟ واحد فقط.
- أسأل: ماذا يُمثل الجزء المظلل بلونين من الأجزاء المقسمة كلها؟ $\frac{1}{6}$ ، وماذا يعني ذلك؟ $\frac{1}{2}$ الـ $\frac{1}{3}$
- أبين للطلبة أنَّ الناتج يُمثل ناتج ضرب $\frac{1}{2} \times \frac{1}{3}$
- أستنتج مع الطلبة عملية الضرب جبرياً، باستنتاج علاقة بسط الناتج بناتج ضرب بسطي الكسرين المضروبين، وعلاقة مقام الناتج بمقامي الكسرين المضروبين.
- أطلب إلى الطلبة حلَّ أسئلة فقرة أندرب بصورة فردية، وأمهلهم 5 دقائق للحل.
- أتجول بين الطلبة وأسجل ملاحظاتي، وأعزز الإجابات الصحيحة وأقدم التغذية الراجعة.



أَسْتَكْشِفُ

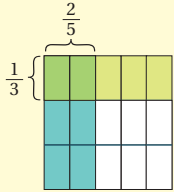
إذا كان $\frac{9}{10}$ مِنْ كُنْتَلَةِ الْبَيْخَةِ مَاءً، فَمَا كُنْتَلَةُ الْمَاءِ فِي بَيْخَةٍ صَغِيرَةٍ كُنْتَلَتُهَا $\frac{6}{7}$ kg ؟ $\frac{27}{35}$

فِكْرَةُ الدَّرْسِ

أَجِدْ نَاتِجَ ضَرْبِ الْكُسُورِ فِي أَيْسَطِ صَوْرَةٍ.

أَتَعَلَّمُ

اسْتَنْجَتْ فِي النِّشَاطِ الْمَفَاهِيمِي السَّابِقِ أَنَّهُ لِيُضْرَبَ كَسْرَيْنِ، أُضْرِبُ الْبُسْطَيْنِ، ثُمَّ أُضْرِبُ الْمَقَامَيْنِ.



$$\frac{1}{3} \times \frac{2}{5} = \frac{1 \times 2}{3 \times 5} = \frac{2}{15}$$

مِثَالُ 1

أَجِدْ نَاتِجَ $\frac{1}{4} \times \frac{2}{3}$ فِي أَيْسَطِ صَوْرَةٍ.

$$\begin{aligned} \frac{1}{4} \times \frac{2}{3} &= \frac{1 \times 2}{4 \times 3} \\ &= \frac{2}{12} \\ &= \frac{1}{6} \end{aligned}$$

أُضْرِبُ الْبُسْطَيْنِ، ثُمَّ أُضْرِبُ الْمَقَامَيْنِ

أَيْسَطُ الْكُسْرِ النَّاتِجِ بِقِسْمَةِ بَسْطِهِ وَقَامِيهِ عَلَى 2

أَيْسَطُ صَوْرَةٍ

التَّفَكُّرُ

يَكُونُ الْكُسْرُ فِي أَيْسَطِ صَوْرَةٍ إِذَا كَانَ الْعَامِلُ الْمَشْرُوكُ الْأَكْبَرُ بَيْنَ بَسْطِهِ وَقَامِيهِ يُسَاوِي 1

أَتَحَقَّقُ مِنْ فَهْمِي: أَجِدْ نَاتِجَ كُلِّ مِمَّا يَأْتِي فِي أَيْسَطِ صَوْرَةٍ:

1 $\frac{7}{10} \times \frac{3}{8} = \frac{21}{80}$

2 $\frac{1}{9} \times \frac{3}{4} = \frac{1}{12}$

3 $\frac{5}{6} \times \frac{2}{11} = \frac{5}{33}$

نَتَاجَاتُ الدَّرْسِ:

- ضرب الكسور في أبسط صورة.

نَتَاجَاتُ التَّعَلُّمِ الْقَبْلِيِّ:

- حقائق الضرب الأساسية.
- ضرب عدد كلي في كسر.
- كتابة الكسر في أبسط صورة.

مَرَاجِعَةُ التَّعَلُّمِ الْقَبْلِيِّ وَمَعَالِجَةُ الْفَاقِدِ التَّعْلِيمِيِّ:

أَسْتَرشِدُ بِالْإِجْرَاءَاتِ الْمَبِينَةِ فِي مَقْدَمَةِ دَلِيلِ الْمَعْلَمِ (الصفحتان 1 و 2) الْمُتَعَلِّقَةِ بِمَرَاجِعَةِ التَّعَلُّمِ الْقَبْلِيِّ وَمَعَالِجَةِ الْفَاقِدِ التَّعْلِيمِيِّ لَدَى الطَّلَبَةِ.

التَّهْيِئَةُ

1

- أَعْرَضِ الْمَسْأَلَةَ الْآتِيَةَ: إِذَا كَانَ $\frac{7}{10}$ سَطْحَ الْكُرَةِ الْأَرْضِيَّةِ مَغْطًى بِالْمَاءِ، وَالْمَحِيطُ الْهَادِي يُمَثِّلُ نِصْفَهَا، فَكَمْ يُغَطِّي هَذَا الْمَحِيطُ مِنْ مَسَاحَةِ سَطْحِ الْكُرَةِ الْأَرْضِيَّةِ؟
- أَطْلُبْ إِلَى الطَّلَبَةِ التَّفَكِيرَ ثُمَّ اسْتَمِعْ لِلْإِجَابَاتِ، وَأُنَاقِشِ الطَّلَبَةَ كَيْفَ تَوْصَلُوا إِلَيْهَا، وَأُنَاقِشْهُمْ فِي مَعْقُولِيَةِ الْحَلِّ.
- أَسْأَلِ الطَّلَبَةَ عَشَوَائِيًّا بَعْضَ أَسْئَلَةِ الضَّرْبِ لِتَذْكَيرِهِمْ بِحَقَائِقِ الضَّرْبِ الْأَسَاسِيَّةِ.

- أوجّه الطلبة إلى قراءة المسألة في فقرة **أستكشف**، ثم أسأل:

« كم يُمثّل الماء من كتلة البطيخة؟ $\frac{9}{10}$ »

« كيف نجد كتلة الماء في البطيخة الصغيرة؟ **باستعمال الضرب**.

- أعزز الإجابات الصحيحة.

- أُبين للطلبة أنّه لضرب كسر في كسر، يجب ضرب البسطين ووضع الإجابة على بسط الناتج، وضرب المقامين ووضع الإجابة على مقام الناتج، أي نضرب البسطين والمقامين.

مثال 1

- أوجّه الطلبة إلى المثال 1، وأذكرهم أنّ ضرب كسرين يعني ضرب بسطيهما وضرب مقاميها، أي نضرب 1×2 ونضعه في بسط الناتج، ونضرب المقامين 4×3 ونضعه في مقام الناتج وأسألهم:

« ما الكسر الناتج عن الضرب؟ $\frac{2}{12}$ »

« هل هذا الكسر في أبسط صورة؟ لا.

« كيف نُبسّط هذا الكسر؟ **بقسمة كل من البسط والمقام على 2.**

« ما ناتج الضرب بعد التبسيط؟ $\frac{1}{6}$ »

- أوضّح عملية الضرب السابقة باستعمال النماذج.

- أنبه الطلبة إلى أنّ الكسر يكون في أبسط صورة إذا كان العامل المشترك الأكبر بين بسطه ومقامه يساوي واحدًا.

✓ **إرشاد:** أنبه الطلبة إلى أننا لا نوحّد المقامات عند ضرب الكسور، وأنّ توحيد المقامات فقط في عمليتي الجمع والطرح.

التقويم التكويني: ✓

- أطلب إلى الطلبة حلّ تدريب (أتحقّق من فهمي) بعد كلّ مثال. أختار بعض الإجابات التي تحتوي على أخطاء مفاهيمية، وأناقش الطلبة فيها على اللوح. لا أذكر اسم صاحب الحلّ أمام الصفّ تجنبًا لإحراجهم.

- أناقش مع الطلبة حل المثال 2 على اللوح، وأذكرهم أن ضرب كسرين يعني ضرب بسطيهما وضرب مقاميهما، أي نضرب 3×8 ونضعه في بسط الناتج، ونضرب المقامين 4×13 ونضعه في مقام الناتج، وأسألهم:

« ما الكسر الناتج عن الضرب؟ $\frac{24}{52}$ »

« هل هذا الكسر في أبسط صورة؟ لا.

« كيف نبسط هذا الكسر؟ بقسمة كل من البسط والمقام على 4

« ما ناتج الضرب بعد التبسيط؟ $\frac{6}{13}$ »

« ما ناتج $\frac{2}{13} \times \frac{1}{3}$ ؟ $\frac{6}{13}$ »

- أوجه الطلبة إلى أنه يمكن تبسيط أي من الكسرين أو كلاهما قبل إجراء عملية الضرب عند وجود عامل مشترك بين البسط والمقام.

- أنبه الطلبة إلى أن العامل المشترك بين عددين هو عدد يقسم كل منهما.

- أوضح عملية الضرب السابقة باستعمال النماذج.

التكسر

العامل المشترك بين عددين هو عدد يقسم كلا منهما.

يُمكن تبسيط أي من الكسرين أو كلاهما قبل إجراء عملية الضرب عند وجود عامل مشترك بين البسط والمقام.

مثال 2

أجد ناتج $\frac{3}{4} \times \frac{8}{13}$ في أبسط صورة.

$$\frac{8}{13} \times \frac{3}{4} = \frac{8}{13} \times \frac{3}{4} = \frac{2 \times 3}{13 \times 1} = \frac{6}{13}$$

أبسط بقسمة البسط والمقام على 4

أضرب البسطين، ثم أضرب المقامين

أتحقق من فهمي: أجد ناتج كل مما يأتي في أبسط صورة:

1 $\frac{2}{9} \times \frac{3}{7} = \frac{2}{21}$

2 $\frac{5}{7} \times \frac{3}{10} = \frac{3}{14}$

3 $\frac{11}{12} \times \frac{3}{8} = \frac{11}{32}$

مثال 3: من الحياة



صناعة الغراء: صنعت عبير غراء لاصقاً في المنزل باستعمال $\frac{2}{5}$ kg من الطحين الأبيض، وكمية من السكر تعادل $\frac{1}{2}$ كمية الطحين، والقليل من الخل الأبيض. كم كيلوغراماً استعملت عبير من السكر لصنع الغراء اللاصق؟
كمية السكر $\frac{1}{2}$ كمية الطحين، إذن، أضرب $\frac{1}{2}$ في $\frac{2}{5}$:

$$\frac{1}{2} \times \frac{2}{5} = \frac{1}{2} \times \frac{2}{5} = \frac{1}{5}$$


أبسط بقسمة البسط والمقام على 2

أكتب ناتج الضرب

إذن، استعملت عبير $\frac{1}{5}$ kg من السكر لصنع الغراء اللاصق.

أتحقق من فهمي:

تحتوي قارورة $\frac{5}{6}$ L من الماء، إذا شرب خالد $\frac{2}{3}$ هذه الكمية، فكم شرب من الماء؟ $\frac{5}{9}$



مثال 3: من الحياة

- أوجه الطلبة إلى المثال 3، وأطلب إلى أحدهم/إحدهن قراءة المسألة وشرحها وتحديد المعطيات والمطلوب، وأسأل عن العملية الواجب إجراؤها لإيجاد الحل.

- أشرح على اللوح عملية ضرب كسرين كما هو وارد في الكتاب.

- أذكر الطلبة بتبسيط الكسور قبل إجراء عملية الضرب.

أُتَدْرَبُ وَأَحْلُ الْمَسَائِلَ:

- أُوجِّهُ الطَّلِبَةَ إِلَى فِقْرَةٍ (أُتَدْرَبُ وَأَحْلُ الْمَسَائِلَ)، ثُمَّ أُطَلِّبُ إِلَيْهِمْ حَلَّ الْمَسَائِلِ (9-1) مِنْ مَجْمُوعَاتٍ ثَنَائِيَّةٍ دَاخِلِ الْغُرْفَةِ الصَّفِيَّةِ؛ فَهَذِهِ الْمَسَائِلُ تُحَدِّدُ تَرْتِيبَ ارْتِبَاطًا مَبَاشِرًا بِأَمَثَلَةِ الدَّرْسِ، وَهِيَ تُسْتَعْمَلُ خَاصَّةً لِتَدْرِيبِ الطَّلِبَةِ عَلَى الْمَفَاهِيمِ نَفْسِهَا، بِصَرَفِ النَّظَرِ عَمَّا إِذَا كَانَتِ الْأَسْئَلَةُ فَرْدِيَّةً أَمْ زَوْجِيَّةً.
- إِذَا وَاجَهَ الطَّلِبَةَ صَعُوبَةً فِي حَلِّ أَيِّ مَسْأَلَةٍ، فَإِنِّي أَخْتَارُ أَحَدَ الطَّلِبَةِ مِمَّنْ تَمَكَّنَ / تَمَكَّنَتْ مِنْ حَلِّ الْمَسْأَلَةِ؛ لِمُنَاقَشَةِ اسْتِرَاطِيَجِيَّتِهِ / اسْتِرَاطِيَجِيَّتِهَا فِي حَلِّ الْمَسْأَلَةِ عَلَى اللَّوْحِ، مُحَفِّزًا الطَّلِبَةَ عَلَى طَرَحِ أَيِّ تَسْأُولٍ عَنِ خَطَوَاتِ الْحَلِّ الْمُقَدَّمَةِ مِنَ الزَّمِيلِ / الزَّمِيلَةِ.

مَهَارَاتُ التَّفَكِيرِ الْعَلِيَا

- أُوجِّهُ الطَّلِبَةَ إِلَى فِقْرَةٍ (مَهَارَاتُ التَّفَكِيرِ الْعَلِيَا)، ثُمَّ أُطَلِّبُ إِلَيْهِمْ حَلَّ الْمَسَائِلِ (20 - 16).
- أَرصِدُ أَيَّةَ أَفْكَارٍ غَيْرِ تَقْلِيدِيَّةٍ مِنَ الطَّلِبَةِ، ثُمَّ أُطَلِّبُ إِلَى هَؤُلَاءِ الطَّلِبَةِ كِتَابَةَ هَذِهِ الْأَفْكَارِ عَلَى اللَّوْحِ.
- أُطَلِّقُ الْعِنَانَ لِخِيَالِ الطَّلِبَةِ فِي سِوَالِ 17 مَسْأَلَةٍ مَفْتُوحَةٍ، وَأَطَلِّبُ إِلَيْهِمْ حَلَّ السِّوَالِ بِصُورَةٍ فَرْدِيَّةٍ، وَاتَّقَبَّلُ الْإِجَابَاتِ الصَّحِيحَةَ وَأَقْوَمُ غَيْرَ الصَّحِيحَةَ مَعَ بَيَانِ السَّبَبِ.
- أُنَاقِشُ سِوَالِ **أَكْتَشِفِ الْخَطَأَ**، لِمُسَاعَدَةِ الطَّلِبَةِ ذَوِي التَّحْصِيلِ دُونَ الْمَتَوَسِّطِ؛ بِأَنْ أَسْأَلَ الطَّلِبَةَ عَنِ كَيْفِيَّةِ تَبْسِيطِ الْكُسْرَيْنِ الْمَضْرُوبَيْنِ، وَمَقَارِنَتِهَا بِالتَّبْسِيطِ بَيْنَ مَقَامٍ وَمَقَامٍ لِاكتشاف الخطأ.

أُتَدْرَبُ وَأَحْلُ الْمَسَائِلَ

أَجِدْ نَاتِجَ كُلِّ مِمَّا يَأْتِي فِي أَبْسِطِ صُورَةٍ:

1 $\frac{6}{7} \times \frac{5}{12} = \frac{5}{14}$

2 $\frac{2}{9} \times \frac{18}{21} = \frac{4}{21}$

3 $\frac{7}{10} \times \frac{5}{14} = \frac{1}{4}$

4 $\frac{11}{30} \times \frac{5}{12} = \frac{11}{72}$

5 $\frac{6}{9} \times \frac{3}{16} = \frac{1}{8}$

6 $\frac{5}{8} \times \frac{7}{15} = \frac{7}{24}$

7 $\frac{21}{36} \times \frac{18}{24} = \frac{7}{16}$

8 $\frac{9}{13} \times \frac{13}{81} = \frac{1}{9}$



9 **طَبِيعَةٌ:** سَخْلِيَّةُ الْعُشْبِ الْأَسْوَدِيَّةِ طَوَّلُ جَسَدِهَا $\frac{1}{3}$ طَوَّلِ ذَيْلِهَا. إِذَا كَانَ طَوَّلُ ذَيْلِهَا $\frac{1}{4}$ م، فَكَمْ يَبْلُغُ طَوَّلُ جَسَدِهَا؟ $\frac{1}{12}$

10 **طَائِرُ قَوْسِ الْقَرْحِ:** طَوَّلُ طَائِرِ قَوْسِ الْقَرْحِ $\frac{1}{2}$ طَوَّلِ بَيْعَاءِ الشَّمْسِ. كَمْ طَوَّلُ طَائِرِ قَوْسِ الْقَرْحِ، إِذَا كَانَ طَوَّلُ طَائِرِ بَيْعَاءِ الشَّمْسِ $\frac{11}{36}$ م؟ $\frac{11}{72}$



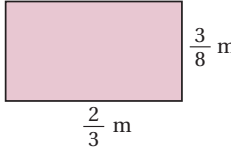
طَائِرُ قَوْسِ الْقَرْحِ



طَائِرُ بَيْعَاءِ الشَّمْسِ



11 **زِرَاعَةٌ:** يَبْلُغُ إِنتَاجُ مَرْزَعَةٍ مِنَ التُّفَاحِ $\frac{2}{30}$ TON، بَاعَ مِنْهَا الْمُرَاعُ $\frac{3}{8}$ الْكَمِّيَّةِ لِمَصَانِعِ إِنتَاجِ خَلِّ التُّفَاحِ. كَمْ طَنًّا مِنَ التُّفَاحِ بَاعَ لِهَذِهِ الْمَصَانِعِ؟ $\frac{1}{40}$

 $\frac{3}{8}$ m $\frac{2}{3}$ m

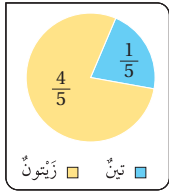
12 **قِيَاسٌ:** أَجْدُ وَسَاحَةُ الْمُسْتَطِيلِ الْمُجَاوِرِ. $\frac{1}{4}$

مَعْلُومَةٌ

يَهْتَلِكُ خَلُّ التُّفَاحِ عُنُصْرًا طَبِيعِيًّا مُضَادًّا لِلْبَكْتِيرِيَا يُسَمَّى الْبُكْسِينُ، وَيَعْمَلُ عَلَى تَقْضِيْفِ أَوْجَاعِ الْأَمْعَاءِ وَالْأَلْيَمَاءِ.

أستعين بالجدول الآتي لتحديد الواجب المنزلي للطلبة بحسب مستوياتهم:

المستويات	الأسئلة
دون المتوسط	كتاب الطالب: 11, 12, 20 كتاب التمارين: (1 - 7)
ضمن المتوسط	كتاب الطالب: 10, 12, 13, 16, 20 كتاب التمارين: (4 - 8)
فوق المتوسط	كتاب الطالب: (12 - 20) كتاب التمارين: (9 - 13)



13 **مغلوفة**
زراعة: قطعة أرض مساحتها $\frac{7}{10}$ من الدونم، وهي مزروعة بصنفيين من الأشجار كما في المخطط المجاور. كم دوّماً يشغل كل صنّف؟
التين: $\frac{7}{50}$ ، الزيتون $\frac{14}{25}$

الدونم: إحدى وحدات قياس المساحة، وتساوي 1000 m^2

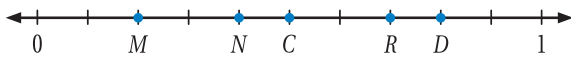
مهارات التفكير العليا

تحدّد: أجد ناتج كل مما يأتي:

14 $(\frac{7}{6} - \frac{5}{6}) \times \frac{2}{3} = \frac{2}{9}$

15 $\frac{9}{10} \times (\frac{4}{9} + \frac{1}{3}) = \frac{7}{10}$

16 تحدّد: أي النقاط على خط الأعداد هي ناتج ضرب C في $D = \frac{2}{5}$ ؟



17 مسألة مفتوحة: أكتب جملة ضرب لكسرين، بحيث أختصر قبل إجراء عملية الضرب، ثم أجد ناتجها. $\frac{1}{3} \times \frac{3}{4} = \frac{1}{4}$

18 تحدّد: أجد ناتج ما يأتي:

$\frac{1}{2} \times \frac{2}{3} \times \frac{3}{4} \times \frac{4}{5} \times \dots \times \frac{99}{100} = \frac{1}{100}$

19 تحدّد: أجد ناتج ما يأتي في أبسط صورة: $\frac{1}{6} \times \frac{7}{15} \times \frac{4}{7} \times \frac{5}{8}$

20 أكتشف الخطأ: قالت مها إن $\frac{3}{4} \times \frac{1}{8} = \frac{3}{2}$ ، أكتشف الخطأ الذي وقعت فيه مها، ثم أجد الحل الصحيح؟ اخطأت مها لأنها اختصرت المقامين 4, 8 والاختصار يكون بين بسط ومقام، والاجابة الصحيحة $\frac{3}{32}$

اتحدّث: كيف ضرب كسرين؟ ل ضرب كسرين، ضرب البسطين، ثم ضرب المقامين.

إرشاد

أختصر الكسور قبل إجراء عملية الضرب.

5

الإثراء

• أوجه السؤال الآتي لإثراء تعلّم الطلبة:

« إذا كانت $A = 4$, $B = \frac{2}{3}$, $C = \frac{1}{4}$ فأجد قيمة كل مما يأتي:

1 $\frac{3}{8} \times B = \frac{1}{4}$

2 $B \times C = \frac{1}{6}$

3 $A \times B \times C = \frac{2}{3}$

نشاط التكنولوجيا:



• أشجع الطلبة على تصفّح الموقع الإلكتروني الذي يظهر عند مسح الرمز المجاور في المنزل، والاستمتاع بأنشطة الكسور.

6 الختام

• أستعمل السؤال في فقرة **اتحدّث**، للتأكد من فهم الطلبة لموضوع الدرس، وأوجه الطلبة ذوي المستوى المتوسط ودون المتوسط إلى الإجابة عن السؤال.

• إن لزم الأمر، أتحدّق من فهم الطلبة، بطرح سؤال عليهم، مثل:

« أجد ناتج كل مما يأتي في أبسط صورة:

1 $\frac{3}{4} \times \frac{2}{3} = \frac{1}{2}$

2 $\frac{2}{5} \times \frac{5}{6} = \frac{1}{3}$

3 $\frac{4}{5} \times \frac{3}{8} = \frac{3}{10}$

نتائج الدرس:

- قسمة عدد كلي على كسر.
- قسمة عدد كلي على عدد كسري.

نتائج التعلم القبلي:

- حقائق الضرب الأساسية.
- ضرب كسر في كسر.

مراجعة التعلم القبلي ومعالجة الفاقد التعليمي:

أسترشد بالإجراءات المبيّنة في مقدمة دليل المعلم (الصفحتان i و j) المتعلقة بمراجعة التعلم القبلي ومعالجة الفاقد التعليمي لدى الطلبة.

التهيئة

1

- أختار عشوائياً بعض الطلبة للإجابة عن الأسئلة الآتية:
 $1 \frac{1}{3} \times \frac{4}{5}$, $2 \times \frac{2}{3}$, 1×8 , 3×9 , 5×6
 $2. \frac{3}{4} \times 4 \frac{1}{5}$,

الاستكشاف

2

- أوجّه الطلبة إلى قراءة المسألة في فقرة **استكشف**، ثم أسألهم:
 « ما طول قطعة القماش التي لدى مها؟ 5 m »
 « أرادت مها قص قطعة القماش التي لديها إلى قطع متساوية في الطول، ما طول كل قطعة؟ $\frac{1}{3} \text{ m}$ »
- كيف يمكن إيجاد عدد القطع التي ستصبح لدى مها بعد القص؟ **باستعمال القسمة.**
- كم قطعة سيصبح لدى مها بعد القص؟
- أخبر الطلبة أنهم سيتعرفون إجابة السؤال السابق في هذا الدرس.



أستكشف

مها مُصَمِّمَةٌ أَزْيَاءٍ، وَلَدَيْهَا قِطْعَةٌ قِمَاشٍ طُولُهَا 5 m ، أَرَادَتْ قَصَّهَا إِلَى قِطْعٍ طَوَّلٍ كُلٌّ مِنْهَا $\frac{1}{3} \text{ m}$. كَمْ قِطْعَةً سَيُصْبِحُ لَدَيْهَا بَعْدَ الْقَصِّ؟

فِكْرَةُ الدَّرْسِ

أَقْسِمُ عَدَدًا كَلِّيًّا عَلَى كَسْرٍ أَوْ عَدَدٍ كَسْرِيٍّ.

المُضْطَلَّحَاتُ

المقلوب

أَتَعَلَّمُ

إذا كان نايخ ضرب عددين يساوي 1 فإن كل منهما يسمى **مقلوبًا** (reciprocals) للآخر.

بما أن:

$$\frac{1}{2} \times \frac{2}{1} = \frac{1}{1} = 1$$

إذن: كل من $\frac{2}{7}$ و $\frac{7}{2}$ مقلوب للآخر.

$$\frac{2}{7} \times \frac{7}{2} = 1$$

مثال 1

1 أجد مقلوب العدد 3

$$\text{بما أن } 3 \times \frac{1}{3} = 1$$

إذن: مقلوب العدد 3 هو $\frac{1}{3}$

2 أجد مقلوب $\frac{5}{3}$

$$\text{بما أن } \frac{5}{3} \times \frac{3}{5} = 1$$

إذن: مقلوب العدد $\frac{5}{3}$ هو $\frac{3}{5}$

أتحقق من فهمي: أجد مقلوب كل عدد مما يأتي:

1 $7 \frac{1}{7}$

2 $\frac{3}{8} \frac{8}{3}$

3 $\frac{1}{4} 4$

المفاهيم العابرة للمواد:

أؤكد على المفاهيم العابرة للمواد حيثما وردت في كتاب الطالب أو كتاب التمارين. في فقرة **أستكشف**، أعزز الوعي بالتفكير والتحليل والإبداع لدى الطلبة، وأذكر الرابط القوي بين الرياضيات وتصميم الأزياء، وأن عملية تصميم الأزياء وتفصيلها تحتاج إلى مهارة كبيرة في الحساب والرسم.

عند قسمة عددٍ كَلِّيٍّ على كسْرٍ، أضرب في مقلوب المَقْسومِ عَلَيْهِ.

$$3 \div \frac{1}{4} = 12 \longrightarrow \frac{3}{1} \times \frac{4}{1} = 12$$

مثال 2

أجد ناتج $4 \div \frac{2}{3}$

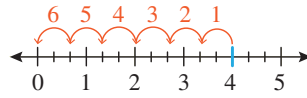
$$\begin{aligned} 4 \div \frac{2}{3} &= 4 \times \frac{3}{2} \\ &= \frac{4}{1} \times \frac{3}{2} \\ &= \frac{4 \times 3}{1 \times 2} \\ &= \frac{6}{1} = 6 \end{aligned}$$

أضرب في مقلوب $\frac{2}{3}$ وهو $\frac{3}{2}$
أكتب العدد الكَلِّيَّ في صورة كسْرٍ.
أضرب البسطين والمقامين.
أكتب الناتج في أبسط صورة.

أتحقق: يُمكنني أن أتأكد من الحل باستخدام خط الأعداد وذلك بتقسيم المسافة بين كل عددين كَلِّيَّين متتاليين إلى 3 أجزاء، والعدِّ قَفْزًا بِمِقْدَارِ $\frac{2}{3}$ ، ألاحظ أن عدَّة القفزات 6، أي إنَّ $4 \div \frac{2}{3} = 6$

التكرار

استعمل الطَّرْحَ الْمُتَكَوِّرَ عند قسمة عددٍ على عددٍ آخر؛ حيثُ تُمثَّلُ عدَّة القفزات ناتج القسمة.



أتحقق من فهمي: أجد ناتج كلِّ مما يأتي:

1 $5 \div \frac{1}{7} = 35$

2 $3 \div \frac{4}{5} = \frac{15}{4}$

- أوضح للطلبة مفهوم المقلوب، وأوضح لهم علاقة العدد بمقلوبه، وأن ناتج ضربهما يساوي 1

مثال 1

- ناقش مع الطلبة حل المثال 1، وأبين لهم طريقة إيجاد المقلوب والتحقق من صحة الحل.

تعزيز اللغة ودعمها:

أكرّر المصطلح: (المقلوب) أمام الطلبة، وأحرص على استعماله من قبلهم.

التقويم التكويني: ✓

أطلب إلى الطلبة حلَّ تدريب (أتحقق من فهمي) بعد كلِّ مثال. أختار بعض الإجابات التي تحتوي على أخطاء مفاهيمية، وأناقش الطلبة فيها على اللوح. لا أذكر اسم صاحب الحلِّ أمام الصف تجنُّباً لإحراجه.

مثال 2

- أكتب على اللوح قاعدة قسمة عدد كَلِّيٍّ على كسْرٍ بتحويل عملية القسمة إلى ضرب وقلب المقسوم عليه؛ أي كتابة مقلوب المقسوم عليه، وإجراء عملية الضرب وكتابة الناتج بأبسط صورة.
- أوجه الطلبة إلى المثال 2 وأشرح خطوات الحل على اللوح.
- أطلب إلى الطلبة التحقق من صحة الحل باستخدام خط الأعداد.

✓ **إرشاد:** يُفضَّل استعمال الأقلام الملونة في أثناء توضيح قسمة عدد كلي على كسْرٍ.

مثال 3: من الحياة



- أوجه الطلبة إلى المثال 3 وأطلب إلى أحدهم/إحدهن قراءة المسألة، وتحديد المعطيات والمطلوب.
- أسأل: ما العملية الواجب إجراؤها لإيجاد الحل؟
- أشرح المثال على اللوح، وأشرح كيفية التحقق من الحل بطريقة النماذج المذكورة في الكتاب.

إرشاد: يمكنني تزويد الطلبة بورقة المصادر 9: لوحة كسور بيضاء؛ لاستعمالها عند التحقق من صحة الحل.

التدريب

4

أتدرب وأحلّ المسائل:

- أوجه الطلبة إلى فقرة (أتدرب وأحلّ المسائل)، ثم أطلب إليهم حل المسائل (9-1) ضمن مجموعات ثنائية داخل الغرفة الصفية؛ فهذه المسائل تحديداً ترتبط ارتباطاً مباشراً بأمثلة الدرس، وهي تُستعمل خاصةً لتدريب الطلبة على المفاهيم نفسها، بصرف النظر عما إذا كانت الأسئلة فردية أم زوجية.
- إذا واجه الطلبة صعوبة في حل أي مسألة، فإنني أختار أحد الطلبة ممن تمكن/تمكنت من حل المسألة؛ لمناقشة استراتيجيته/استراتيجيتها في حل المسألة على اللوح، مُحفِّزاً الطلبة على طرح أي تساؤل عن خطوات الحل المُقدَّمة من زميل/الزميلة.

الوَخْدَةُ 4

عند قسمة عددٍ كليٍّ على عددٍ كسريٍّ، أحوّل العدد الكسريّ إلى كسرٍ غيرٍ فعليٍّ.

مثال 3: من الحياة



نجارة: لدى نجارٍ قطعةٌ خشبٍ طولها 3 m، يُريدُ تقطيعها إلى أجزاء، طول الجزء الواحد 1 ½ m، فكَمَ قطعةٌ تُنتجُ لديه؟

لإيجاد عدد القطع؛ أجدُ ناتجَ $3 \div 1 \frac{1}{2}$

أكتبُ 3 في صورة كسرٍ $\frac{3}{1}$ ، و $1 \frac{1}{2}$ في صورة كسرٍ غيرٍ فعليٍّ $1 \frac{1}{2} = \frac{3}{2}$

أضربُ في مقلوب الكسر $\frac{3}{2}$ وهو $\frac{2}{3}$

أضربُ السطرين والمقامين.

أكتبُ الناتجَ في أبسط صورة.


$$3 \div 1 \frac{1}{2} = \frac{3}{1} \div \frac{3}{2}$$

$$= \frac{3}{1} \times \frac{2}{3}$$


$$= \frac{3 \times 2}{1 \times 3}$$

$$= \frac{6}{3} = 2$$

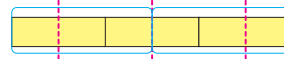
أتحقق: يمكنني أن أتحقق من الحل باستعمال النماذج.



أرسم 3 مستطيلات.



أقسم كل مستطيل إلى جزأين متساويين.



أحوظُ كل $1 \frac{1}{2}$ من الأجزاء؛ فيكون عدد مرات الإحاطة هو الناتج.

إذن: نتج لدى النجار قطعان.

أتحقق من فهمي:

قهوة: في محلّ للقهوة يَضعُ صاحبُ المحلّ كلَّ 1 ⅓ kg في كيسٍ، كم كيساً يحتاج لوضع 8 kg من القهوة؟ 6 أكياس



أستعين بالجدول الآتي لتحديد الواجب المنزلي للطلبة بحسب مستوياتهم:

المستويات	الأسئلة
دون المتوسط	كتاب الطالب: (13 - 15), 17 كتاب التمارين: (1 - 6)
ضمن المتوسط	كتاب الطالب: (11 - 17) كتاب التمارين: (6 - 9)
فوق المتوسط	كتاب الطالب: (11, 14, (16 - 20) كتاب التمارين: (7 - 11)

أَتَدْرِبُ

وَأَحَلُّ الْمَسَائِلَ

أَجِدُ مَقْلُوبَ كُلِّ عَدَدٍ مِمَّا يَأْتِي:

1 $\frac{4}{9} \div \frac{9}{4}$ 2 $12 \div \frac{1}{12}$ 3 $\frac{2}{7} \div \frac{7}{2}$

أَجِدُ نَاتِجَ كُلِّ مِمَّا يَأْتِي فِي أَبْسَطِ صُورَةٍ:

4 $2 \div \frac{1}{8} = 16$ 5 $4 \div \frac{1}{2} = 8$ 6 $5 \div \frac{3}{8} = \frac{40}{3}$

7 $4 \div 1 \frac{1}{3}$ 8 $6 \div 1 \frac{1}{2} = 4$ 9 $5 \div 2 \frac{3}{4} = \frac{20}{11}$
 $4 \div \frac{4}{3} = 4 \times \frac{3}{4} = \frac{12}{4} = 3$



10 **عَصِيرٌ:** أرادَ بَاسِمٌ تَوَازِيْعَ 10 L مِنْ عَصِيرِ الْعِنَبِ بِالتَّسَاوِي على رُجَاجَاتٍ، تَتَسَعُّ كُلُّ مِنْهَا إِلَى $1 \frac{1}{4}$ L. كَمْ رُجَاجَةً سَيَحْتَاجُ؟
 $10 \div 1 \frac{1}{4} = 10 \div \frac{5}{4} = 10 \times \frac{4}{5} = 8$

أَصْعُقُ الرَّقْمَ الْمُنَاسِبَ فِي:

11 $5 \div \frac{1}{4} = \frac{5}{1} \times \frac{4}{1} = 20$ 12 $6 \div \frac{1}{3} = 18$

13 **فُمَاشٌ:** أَعُودُ إِلَى فِقْرَةٍ (أَسْتَكْشِفُ). كَمْ قِطْعَةً سَيُصْبِحُ لَدَى الْمُصَمِّمَةِ بَعْدَ قِصِّ الْقُمَاشِ؟ $5 \div \frac{1}{3} = 15$

أَكْتُبُ مَسْأَلَةً قِسْمَةً تُعَبِّرُ عَن كُلِّ مِمَّا يَأْتِي:

14 $2 \div \frac{1}{3}$

15 $3 \div \frac{1}{3}$

أَتَعَلَّمُ

عِنْدَ قِسْمَةِ عَدَدٍ كَلِّيٍّ عَلَى عَدَدٍ كَسْرِيٍّ، فَسِنَّ النَّاتِجَ يَكُونُ:

- أَقَلُّ مِنْ 1 إِذَا كَانَ الْعَدَدُ الْكَلِّيُّ أَصْغَرَ مِنَ الْعَدَدِ الْكَسْرِيِّ.
- أَكْبَرَ مِنْ 1 إِذَا كَانَ الْعَدَدُ الْكَلِّيُّ أَكْبَرَ مِنَ الْعَدَدِ الْكَسْرِيِّ.

مهارات التفكير العليا

- أُوَجِّهُ الطَّلِبَةَ إِلَى فِقْرَةٍ (مَهَارَاتِ التَّفَكِيرِ الْعَلِيَا)، ثُمَّ أَطْلُبُ إِلَيْهِمْ حَلَّ الْمَسَائِلِ (17 - 20).
- أَرصِدُ آيَةَ أَفْكَارٍ غَيْرِ تَقْلِيدِيَّةٍ مِنَ الطَّلِبَةِ، ثُمَّ أَطْلُبُ إِلَى هَؤُلَاءِ الطَّلِبَةِ كِتَابَةَ هَذِهِ الْأَفْكَارِ عَلَى اللُّوْحِ.
- فِي سِوَالِ 17 **أَكْتَشِفُ الْمَخْتَلَفَ**، قَدْ يَجِبُ أَحَدُ الطَّلِبَةِ أَنْ الْأَوَّلُ هُوَ الْمَخْتَلَفَ، وَقَدْ يَجِبُ الْآخَرُ أَنَّهُ لَا يُوْجَدُ أَيُّ اخْتِلَافٍ وَجَمِيعُهَا قِسْمَةٌ عَدَدٍ كَلِّيٍّ عَلَى كَسْرٍ، وَتُوْجَدُ تَبْرِيْرَاتٌ أُخْرَى. أَسْتَمْعُ لِإِجَابَاتِ الطَّلِبَةِ وَأَتَقَبَّلُهَا جَمِيعُهَا قَبْلَ الْوُصُولِ إِلَى الْإِجَابَةِ الصَّحِيْحَةِ.
- فِي سِوَالِ 18 **مَسْأَلَةٌ مُفْتَوْحَةٌ**، يُوْجَدُ عَدَدٌ غَيْرٌ مُحَدُودٌ لِلْإِجَابَاتِ، أَتَقَبَّلُ الْإِجَابَاتِ جَمِيعُهَا.
- فِي سِوَالِ 19 **تَحَدِّدُ**، أُذَكِّرُ قَبْلَ حَلِّ السِّوَالِ بِقَانُونِ مَسَاحَةِ الْمُسْتَطِيلِ، وَأَسْأَلُ: كَيْفَ تَحْوَلُ مَسْأَلَةٌ ضَرْبٍ إِلَى قِسْمَةٍ؟

التطبيق:

- أُوَجِّهُ الطَّلِبَةَ إِلَى تَنْفِيْذِ النِّشَاطِ 3 مِنْ أَنْشِطَةِ التَّدْرِيبِ الْإِضَافِيَّةِ.

• أوجّه السؤال الآتي لإثراء تعلّم الطلبة:

« قامت أم محمد بعمل 6 kg من الكعك بمناسبة عيد الفطر السعيد، وأرادت توزيع كعك على جيرانها بحيث وضعت $1\frac{1}{2}$ kg في كل علبة ووزعتها. ما عدد العلب التي وزعتها على الجيران؟ 4 علب.

• أستعمل السؤال في فقرة **أتحدّث**، للتأكد من فهم الطلبة لموضوع الدرس، وأوجّه الطلبة ذوي المستوى المتوسط ودون المتوسط إلى الإجابة عن السؤال.

• إن لزم الأمر، اتّحقق من فهم الطلبة، بطرح سؤال عليهم، مثل:

« أجد ناتج كلّ مما يأتي في أبسط صورة:

1 $3 \div \frac{2}{9} = \frac{27}{2}$

2 $5 \div 2\frac{1}{3} = \frac{15}{7}$



16 **مغلوفة**
خزان ماء: لدى عائلة خزان ماء سعته 6 m^3 ، إذا كان استهلاك العائلة 3 m^3 يوميًا، فكيف يومًا سيكفيهم خزان الماء عندما يكون مُمتلئًا؟ $6 \div \frac{3}{8} = 6 \times \frac{8}{3} = 16$

تبلّغ حصّة الفرد المائيّة في الأردن 120 m^3 تقريبًا في الإستخدامات جميعها.

17 **مهارات التفكير العليا**
أكتشف المُختلِف: أجدد المُختلِف، وأبرر إجابتي: إجابته مختلفة عن الباقي = 9

$5 \div \frac{1}{2}$

$6 \div \frac{3}{5}$

$4 \div \frac{4}{9}$

$8 \div \frac{4}{5}$

18 **أتذكّر**
مسألة مفتوحة: أكتب العدد المناسب في ليكون الناتج 1.

$\frac{\square}{\square} \times \frac{\square}{\square} = 1$

عدد لانهاية من الإجابات، أي كسر في مقلوبه مثل: $\frac{2}{3} \times \frac{3}{2}$

19 **تحدّ:** مُستطيل مساحته 18 cm^2 ، إذا كان طوله $2\frac{3}{4}\text{ cm}$ ، فكيف عرضه؟
 $18 \div 2\frac{3}{4} = 18 \div \frac{11}{4} = 18 \times \frac{4}{11} = \frac{72}{11} = 6\frac{6}{11}$

20 **مسألة مُعدّدة الخطوات:** مع شادي 60 دينارًا، أُنفق $\frac{1}{3}$ المبلغ في رحلة، فكيف دينارًا بقي معه؟

أُنفق $60 \times \frac{1}{3} = 20$

إذن: يبقى معه $60 - 20 = 40$

أتحدّث: أوضّح كيف يُمكنني قسمة عددٍ كَلّي على كسر. يبقى العدد الكلي كما هو وأحول القسمة إلى ضرب وأقلب الكسر.

الدَّرْس 7 قِسْمَةُ كَسْرٍ عَلَى عَدَدٍ كَلْبِيٍّ



أَسْتَكْشِفُ

لدى جَمْعِيَّةٍ 19 $\frac{1}{2}$ kg مِنَ الأرزِّ، أرادتْ تُوْزِعُهَا عَلَى 6 عَائِلَاتٍ فَقَبِيرَةٍ بِالسَّوِي، فَكَمْ سَيَكُونُ نَصِيبُ كُلِّ عَائِلَةٍ؟

فِكْرَةُ الدَّرْسِ

أَقِسِّمُ كَسْرًا أَوْ عَدَدًا كَسْرِيًّا عَلَى عَدَدٍ كَلْبِيٍّ.

أَتَعَلَّمُ

يُمْكِنُنِي قِسْمَةُ كَسْرٍ عَلَى عَدَدٍ كَلْبِيٍّ، فَأَكْتُبُ العَدَدَ الكَلْبِيَّ فِي صُورَةِ كَسْرٍ، ثُمَّ أَضْرِبُ الكَسْرَ فِي مَقْلُوبِ العَدَدِ الكَلْبِيِّ.

مِثَال 1

أَجِدْ نَاتِجَ $\frac{1}{4} \div 3$

$$\begin{aligned} \frac{1}{4} \div 3 &= \frac{1}{4} \times \frac{1}{3} \\ &= \frac{1 \times 1}{4 \times 3} \\ &= \frac{1}{12} \end{aligned}$$

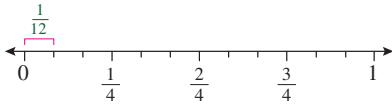
أَكْتُبُ العَدَدَ الكَلْبِيَّ فِي صُورَةِ كَسْرٍ.

أَضْرِبُ فِي مَقْلُوبِ 3 وَهُوَ $\frac{1}{3}$

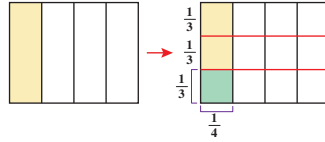
أَضْرِبُ السُّطْرَيْنِ وَالْمَقَامَيْنِ.

أَتَحَقَّقُ: يُمَكِّنُنِي أَنْ أَتَحَقَّقَ مِنَ الحَلِّ بِاسْتِعْمَالِ النَّمَاذِجِ، أَوْ بِاسْتِعْمَالِ حَطِّ الأَعْدَادِ:

بِاسْتِعْمَالِ حَطِّ الأَعْدَادِ



بِاسْتِعْمَالِ النَّمَاذِجِ



$$\frac{1}{4} \div 3 = \frac{1}{12}$$

أَتَحَقَّقُ مِنْ فَهْمِي: أَجِدُ نَاتِجَ كُلِّ مِمَّا يَأْتِي:

1 $\frac{2}{7} \div 3 = \frac{2}{7} \times \frac{1}{3} = \frac{2}{21}$

2 $\frac{1}{5} \div 6 = \frac{1}{5} \times \frac{1}{6} = \frac{1}{30}$

المفاهيم العابرة للمواد:

أؤكد على المفاهيم العابرة للمواد حيثما وردت في كتاب الطالب أو كتاب التمارين. في فقرة أستكشف، أعزز الوعي بالقضايا ذات العلاقة بالعمل والعمل التطوعي لدى الطلبة، وأهميته في المجتمعات وضرورة وجود الجمعيات الخيرية؛ لمساعدة الدولة على الوصول إلى الفئات المحتاجة في الوطن.

نتائج الدرس:

- قسمة كسر على عدد كَلْبِيٍّ.
- قسمة عدد كسري على عدد كَلْبِيٍّ.

نتائج التعلم القبلي:

- حقائق الضرب الأساسية.
- قسمة عدد كَلْبِيٍّ على كسر.

مراجعة التعلم القبلي ومعالجة الفاقد التعليمي:

أسترشد بالإجراءات المبيّنة في مقدمة دليل المعلم (الصفحتان i و j) المتعلقة بمراجعة التعلم القبلي ومعالجة الفاقد التعليمي لدى الطلبة.

1 التهيئة

- أوزّع الطلبة إلى مجموعات ثنائية.
- أكتب على اللوح كسرًا، مثل $\frac{3}{5}$
- أطلب إلى أفراد المجموعات كتابة مسألة عن ضرب كسرين، يكون ناتجهما الكسر الذي كتبه على اللوح.
- أختار بعض الإجابات المتميّزة، ثم أطلب إلى أصحابها أن يكتبوها على اللوح.

2 الاستكشاف

- أوجه الطلبة إلى قراءة المسألة في فقرة أستكشف، وأطلب إلى أحدهم/ إحداهنّ تحديد المعطيات والمطلوب والعملية المناسبة للحلّ.
- أكتب السؤال $(6 \div 19\frac{1}{2})$ وأسأل: كيف يمكن قسمة عدد كسري على عدد كَلْبِيٍّ؟
- أناقش الطلبة في الإجابات وأقبلها جميعها، ثم أذكر أنّ هذا ما سيتعلّمونه في هذا الدرس.

- أذكر قاعدة قسمة كسر على عدد كلي وأكتبها على اللوح، ثم أشرح المثال.

مثال 1

أناقش حل المثال 1 مع الطلبة على اللوح باتباع الإجراءات الآتية:

- أكتب السؤال $(3 \div \frac{1}{4})$ على اللوح، وأذكر للطلبة أن $(\frac{1}{4})$ هو المقسوم وهو كسر، و3 هو المقسوم عليه وهو عدد كلي، وأن درس اليوم هو قسمه كسر على عدد كلي.
- أشرح خطوات الحل كما هو في الكتاب.
- أستعمل النماذج وخط الأعداد للتحقق من صحة الحل.

التقويم التكويني: ✓

أطلب إلى الطلبة حلّ تدريب (أتحقق من فهمي) بعد كل مثال. أختار بعض الإجابات التي تحتوي على أخطاء مفاهيمية، وأناقش الطلبة فيها على اللوح. لا أذكر اسم صاحب الحلّ أمام الصف تجنباً لإحراجه.

الوَحْدَةُ 4

يُمْكِنُنِي قِسْمَةُ عَدَدٍ كَسْرِيٍّ عَلَى عَدَدٍ كَلِّيٍّ، فَأَكْتُبُ الْعَدَدَ الْكَسْرِيَّ فِي صَوْرَةٍ كَسْرٍ غَيْرِ فِعْلِيٍّ، ثُمَّ أَضْرِبُهُ فِي مَقْلُوبِ الْعَدَدِ الْكَلِّيِّ.

مثال 2: مِنَ الْخَبَايَةِ

زِرَاعَةٌ: حَوْضٌ مِسَاحَتُهُ $3\frac{1}{2} \text{ m}^2$ ، يُرَادُ تَقْسِيمُهُ إِلَى 5 أَجْزَاءٍ مُتَسَاوِيَةٍ، وَزِرَاعَةٌ كُلُّ جُزْءٍ يَتَوَعَّ مَعِينٍ مِنَ الْأَزْهَارِ، فَمَا مِسَاحَةُ كُلِّ جُزْءٍ؟

لِإِجَادِ مِسَاحَةِ كُلِّ جُزْءٍ، أَقْسَمُ مِسَاحَةَ الْحَوْضِ عَلَى 5

$$\begin{aligned} 3\frac{1}{2} \div 5 &= \frac{7}{2} \div \frac{5}{1} \\ &= \frac{7}{2} \times \frac{1}{5} \\ &= \frac{7 \times 1}{2 \times 5} \\ &= \frac{7}{10} \end{aligned}$$

$$\begin{aligned} \text{أَكْتُبُ } 3\frac{1}{2} \text{ بِصَوْرَةٍ كَسْرٍ غَيْرِ فِعْلِيٍّ } \frac{7}{2} \text{ وَأَكْتُبُ 5 بِصَوْرَةٍ كَسْرٍ } \frac{5}{1} \\ \text{أَضْرِبُ فِي مَقْلُوبِ الْكَسْرِ } \frac{5}{1} \text{ وَهُوَ } \frac{1}{5} \\ \text{أَضْرِبُ الْكُسُورَ.} \\ \text{أُبَسِّطُ النَّاتِجَ.} \end{aligned}$$

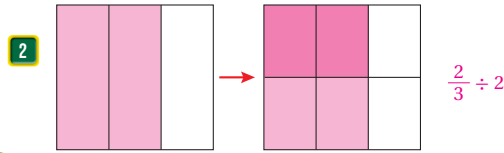
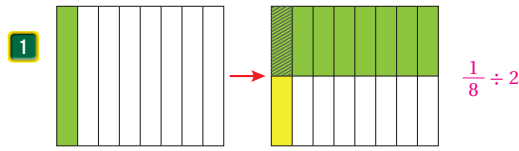
إِذَنْ: مِسَاحَةُ كُلِّ جُزْءٍ $\frac{7}{10} \text{ m}^2$

أَتَحَقَّقُ مِنْ فَهْمِي: يَسْتَهْلِكُ جِهَازٌ خَلَوِيٌّ $\frac{1}{5}$ سَعَةَ الْبَطَّارِيَّةِ كُلَّ سَاعَتَيْنِ عِنْدَ مُشَاهَدَةِ فِيدْيُو،

فَكَمْ سَيَسْتَهْلِكُ مِنْ سَعَةِ الْبَطَّارِيَّةِ فِي سَاعَةٍ وَاحِدَةٍ؟ $\frac{1}{5} \div 2 = \frac{1}{5} \times \frac{1}{2} = \frac{1}{10}$



أَكْتُبُ جُمْلَةَ الْقِسْمَةِ الَّتِي يُمَثِّلُهَا كُلُّ نَمُودَجٍ مِمَّا يَأْتِي:



أَتَدْرِبُ وَأَدُلُّ الْمَسَائِلَ

• أوجه الطلبة إلى قراءة المثال 2 بصورة فردية، ثم أختار أحد الطلبة لقراءة السؤال وأناقشهم في المعطيات والمطلوب وطريقة الحل والعملية اللازمة للحل.

• أكتب السؤال $(5 \div \frac{1}{2} \div 3)$ على اللوح، وأشرح خطوات الحل كما وردت في الكتاب.

4 التدريب

أدرب وأحل المسائل:

• أوجه الطلبة إلى فقرة (أدرب وأحل المسائل)، ثم أطلب إليهم حل المسائل (1-6) ضمن مجموعات ثنائية داخل الغرفة الصفية؛ فهذه المسائل تحديداً ترتبط ارتباطاً مباشراً بأمثلة الدرس، وهي تُستعمل خاصةً لتدريب الطلبة على المفاهيم نفسها، بصرف النظر عما إذا كانت الأسئلة فردية أم زوجية.

• إذا واجه الطلبة صعوبة في حل أيّ مسألة، فإنني أختار أحد الطلبة ممن تمكن/ تمكنت من حل المسألة؛ لمناقشة استراتيجيته/ استراتيجيتها في حل المسألة على اللوح، مُحفِّزاً الطلبة على طرح أيّ تساؤل عن خطوات الحل المُقدّمة من الزميل/ الزميلة.

الواجب المنزلي:

أستعين بالجدول الآتي لتحديد الواجب المنزلي للطلبة بحسب مستوياتهم:

المستويات	الأسئلة
دون المتوسط	كتاب الطالب: 7, 11, 13 كتاب التمارين: 7, 8, (1-5)
ضمن المتوسط	كتاب الطالب: 13, (8-11) كتاب التمارين: (6-8)
فوق المتوسط	كتاب الطالب: (11-15) كتاب التمارين: (9-11)

أجد ناتج القسمة في كل مما يأتي:

3 $\frac{3}{8} \div 2 = \frac{3}{16}$ 4 $\frac{4}{9} \div 3 = \frac{4}{27}$ 5 $2\frac{2}{5} \div 3 = \frac{4}{5}$

6 **قياس:** أراد بائع تقسيم $6\frac{2}{5}$ kg من السكر إلى 4 عبوات بالتساوي، فكَمْ يَضَعُ في العبوة الواحدة؟ $6\frac{2}{5} \div 4 = \frac{32}{5} \times \frac{1}{4} = \frac{32}{20} = \frac{8}{5}$

7 **عصير:** أراد آدم تقسيم $\frac{1}{2}$ زجاجة من العصير إلى 3 أجزاء متساوية، فما الكسر الدال على كل جزء؟ $\frac{1}{2} \div 3 = \frac{1}{6}$


8 **نوافذ:** نافذة زجاجية مُستطيلة الشكل طولها $2\frac{1}{3}$ m، إذا كان عرضها $\frac{1}{2}$ طولها، فأجد عرضها. $2\frac{1}{3} \div 2 = \frac{7}{3} \times \frac{1}{2} = \frac{7}{6}$

أضع العدة المناسبة في:

9 $\frac{2}{3} \div 4 = \frac{2}{12} = \frac{1}{6}$ 10 $\frac{3}{4} \div 5 = \frac{3}{20}$

11 **بيتزا:** تقاسمت مها وأختها وصديقتها $\frac{1}{2}$ طبق بيتزا الخُضار، و $\frac{1}{4}$ طبق بيتزا الدجاج بالتساوي، إذا كان طبقا البيتزا لهما الحجم نفسه، فكَمْ نصيب كل من البنات الثلاث؟ $\frac{1}{2} + \frac{1}{4} = \frac{3}{4}$

$\frac{3}{4} \div 3 = \frac{3}{4} \times \frac{1}{3} = \frac{1}{4}$



- أوجّه الطلبة إلى فقرة (مهارات التفكير العليا)، ثم أطلب إليهم حل المسائل (15 - 12).
- أرصد آية أفكار غير تقليدية من الطلبة، ثم أطلب إلى هؤلاء الطلبة كتابة هذه الأفكار على اللوح.
- في سؤال 12 مسألة متعددة الخطوات، أوجّه الطلبة إلى طرح طولي المستطيل من المحيط ثم قسمة الناتج على 2 لينتج عرض المستطيل؛ لذا، فالمسألة متعددة الخطوات.
- في سؤال 13 أكتشف المختلف، أنبه الطلبة إلى أنه من المسائل الدقيقة التي تتطلب تحليل السؤال والإجابة معاً.
- أطلق العنان لخيال الطلبة في سؤال 14 مسألة مفتوحة، وأطلب إليهم حل السؤال بصورة فردية، وأتقبل الإجابات الصحيحة وأقوم غير الصحيحة مع بيان السبب.

التطبيق:

- أوجّه الطلبة إلى تنفيذ النشاط 4 من أنشطة التدريب الإضافية.

- أوجّه السؤال الآتي لإثراء تعلم الطلبة:

« تحددت زكاة الفطر في أحد الأعوام بقيمة $1\frac{4}{5}$ دينار. أخرج أحمد زكاة الفطر عن عائلته المكونة من 4 أفراد ووزعها على عائلتين، فكم أعطى كل عائلة؟

$$1\frac{1}{4} \times 4 = \frac{36}{5}$$

$$\frac{36}{54} \div 2 = 3\frac{3}{5}$$

مشروع الوحدة

- أذكر الطلبة بأن موعد عرض نتائج المشروع قريب؛ لذا يتعين عليهم وضع اللمسات النهائية على المشروع، والتأكد أن جميع عناصر المشروع متوافرة يوم العرض.

مهارات التفكير العليا

أتذكر

محيط المستطيل = $2 \times \text{الطول} + 2 \times \text{العرض}$

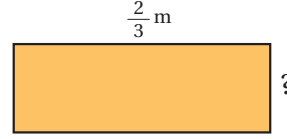
(12) طول المستطيل وعرضه =

$$1\frac{7}{9} \div 2 = \frac{16}{9} \times \frac{1}{2} = \frac{8}{9}$$

طول الضلع المفقود =

$$\frac{8}{9} - \frac{2}{3} = \frac{2}{9}$$

12 مسألة متعددة الخطوات: الشكل أدناه مستطيل محيطه $1\frac{7}{9}$ m. أجد طول الضلع المفقود.



الإجابة $\frac{1}{18}$ تختلف عن إجابة الثلاث

13 أكتشف المختلف: أجد المختلف في ما يأتي: مسائل الأخرى التي إجابتها $\frac{1}{12}$

$$\frac{1}{3} \div 4$$

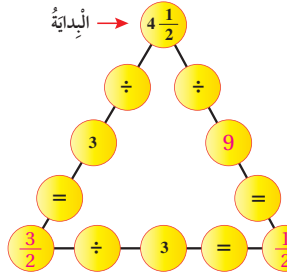
$$\frac{1}{4} \div 3$$

$$\frac{1}{2} \div 6$$

$$\frac{1}{6} \div 3$$

14 مسألة مفتوحة: أصغ العدد المنايب في ليكون ناتج $2\frac{3}{4} \div$ أكبر من 1. 1 أو 2

15 تحدّ: في الشكل أدناه، أجد ناتج القسمة لملء الدوائر الفارغة جميعها.



16 أنتحدث: كيف أقسم عدداً كثيراً على عددٍ كليلي؟ أحول العدد الكسري إلى كسر غير فعلي وأحول القسمة إلى ضرب وأقلب العدد الكليلي.



- أستعمل السؤال في فقرة أتحدث، للتأكد من فهم الطلبة لموضوع الدرس، وأطلب إلى أكثر من طالب/ طالبة الإجابة عنه، أتقبل إجابات الطلبة جميعها وأقدم لهم التغذية الراجعة.
- إن لزم الأمر، أتتحقق من فهم الطلبة، بطرح سؤال عليهم، مثل: « أجد ناتج كل مما يأتي في أبسط صورة:

$$1 \quad 2\frac{1}{10} \div 7 \quad \frac{3}{10}$$

$$2 \quad \frac{5}{7} \div 5 \quad \frac{1}{7}$$

$$3 \quad \frac{3}{4} \div 4 \quad \frac{3}{16}$$

اختبار نهاية الوحدة

5 أصل بخطِّ بين العمليَّة الحسابيَّة ونايجهَا.

$4 \times 2 \frac{1}{2}$	$\frac{8}{3}$
$\frac{2}{5} \div 5$	10
$4 \times \frac{2}{3}$	$\frac{2}{25}$

6 أضع إشارة (✓) أمام الجملة الصحيحة، وإشارة (X) أمام الجملة غير الصحيحة في ما يأتي:

- (a) يُمكنني كتابة أي كسْر غير فعليِّ في صورة عدد كسريِّ. ✓
- (b) نايح جمع $\frac{1}{2} + \frac{1}{4}$ يساوي $\frac{2}{6}$. X
- (c) عند ضرب كسْر بعدد أكبر من 1؛ فإن النايح يكون أكبر من 1. X
- (d) عند قسمة كسْر على عدد كُليِّ؛ فإن النايح يكون أصغر من الكسْر. ✓

7 أملاً القراع في الجمل الآتيَّة بما يُناسبه:

- (a) عند تحويل العدد الكسريِّ $5 \frac{2}{9}$ إلى كسْر غير فعليِّ؛ فإن النايح هو $\frac{47}{9}$.
- (b) نايح جمع $\frac{2}{14} + \frac{3}{7}$ يساوي $\frac{8}{14}$ أو $\frac{4}{7}$.
- (c) نايح طرح $\frac{1}{4}$ من العدد الكُليِّ 5 يساوي $4 \frac{3}{4}$.
- (d) نايح العمليَّة الآتيَّة $8 \frac{1}{2} \div 4$ يساوي $\frac{17}{8}$.

أسئلة موضوعيَّة

أختارُ الإجابة الصَّحيحة في كلِّ ممَّا يأتي:

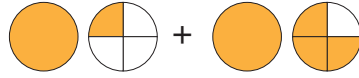
- 1 يُمكنني كتابة الكسْر غير الفعليِّ $\frac{34}{5}$ في صورة عدد كسريِّ كما يأتي: d
- a) $5 \frac{4}{5}$ b) $6 \frac{5}{4}$
- c) $5 \frac{5}{6}$ d) $6 \frac{4}{5}$

2 في الشكل الآتي، الكسْر الذي يُمثل الجزء المُظلل، هو: c



- a) $\frac{2}{5}$ b) $\frac{4}{10}$
- c) $\frac{12}{20}$ d) $\frac{3}{10}$

3 نايح الجمع في ما يأتي، يساوي: a



- a) 3 b) $2 \frac{3}{4}$
- c) $3 \frac{1}{4}$ d) $2 \frac{1}{2}$

4 أضع العدد المُناسب في □:

$$4 \frac{7}{8} - 1 \frac{1}{2} = 3 \frac{3}{8}$$

اختبار نهاية الوحدة

• يُمكنني التحقُّق من فهم الطلبة للمهارات الواردة في الوحدة، وقدرتهم على تطبيقها تطبيقًا صحيحًا عن طريق اختبار نهاية الوحدة الذي يتكوَّن من:

« أسئلة موضوعية.

« أسئلة ذات إجابة قصيرة.

« تدريب على الاختبارات الدولية.

• أوجَّه الطلبة إلى حلِّ الأسئلة الموضوعية من اختبار نهاية الوحدة بصورة فردية، وأناقشهم في حلولهم.

• أكرِّر مع الأسئلة ذات الإجابة القصيرة، ثم مع الأسئلة الدولية.

تدريب على الاختبارات الدولية:

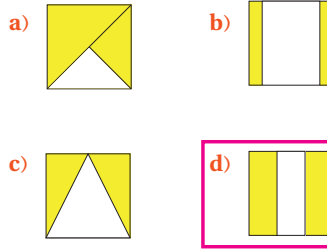
• أعرّف الطلبة بالاختبارات الدولية، وأبين لهم أهميتها، ثم أوجههم إلى حل الأسئلة في بند (تدريب على الاختبارات الدولية) فرديًا، ثم أناقشهم في إجاباتها على اللوح.

• أفضّز الطلبة على الاهتمام بحل هذه الأسئلة ومثيلاتها، والمشاركة في الدراسات وبرامج التقييم الدولية بكل جدية، وأحرص على تضمين اختباراتي المدرسية نماذج مُماثلة لهذه الأسئلة.

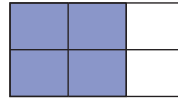
الوَخْدَةُ 4

تدريب على الاختبارات الدولية:

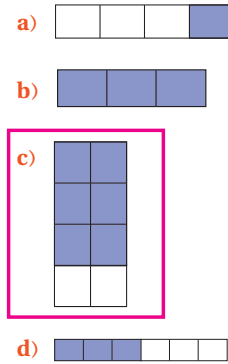
16 أي الأشكال الآتية يُمثّل $\frac{2}{3}$ من مُربّع مُطلّل؟ d



17 في الشكّل الآتي: 2 من 3 مُستطيلات مُطلّلان،



c ما الشكّل الذي فيه 3 مُستطيلات مُطلّلة من أصل 4؟



أَسْئَلَةٌ دَاخِلُهَا إِجَابَةٌ قَصِيرَةٌ:

أجد ناتج كل مما يأتي:

8 $\frac{5}{18} + \frac{1}{2} = \frac{14}{18} = \frac{7}{9}$

9 $\frac{2}{3} - \frac{7}{12} = \frac{1}{12}$

10 $2 + \frac{1}{4} = \frac{9}{4}$

11 $3 - \frac{2}{5} = 2\frac{3}{5}$

12 $4 \div \frac{2}{3} = \frac{12}{2} = 6$

13 $1\frac{1}{6} \div 14 = \frac{1}{12}$

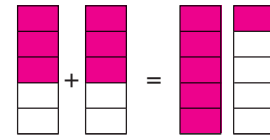
14 **زراعة:** حصّد مُزارع $\frac{1}{2}$ محصوله في اليوم الأول

و $\frac{3}{8}$ محصوله في اليوم التالي. ما الكسْر الذي يمثّل

ما حصّده المُزارع من محصوله في اليومين معاً؟ $\frac{7}{8}$

15 أطلّل النموذج أدناه، بحيثُ أعبّر عن $2 \times \frac{3}{5}$ ، ثم أجد

الناتج.



$2 \times \frac{3}{5} = \frac{6}{5} = 1\frac{1}{5}$

الْوَحْدَةُ 4

الْكَسُورُ وَالْعَمَلِيَّاتُ عَلَيْهَا

أَسْتَعِدُّ لِدِرَاسَةِ الْوَحْدَةِ

كتابة عدد كسري في صورة كسر غير فعلي (الدرس 1)

أكتب الأعداد الكسرية الآتية على صورة كسور غير فعلية:

6 $1\frac{5}{9} = \frac{14}{9}$ 7 $2\frac{2}{3} = \frac{8}{3}$ 8 $5\frac{1}{4} = \frac{21}{4}$

أكتب العدد المناسب في \square :

9 $1\frac{1}{7} = \frac{8}{7}$ 10 $2\frac{3}{4} = \frac{11}{4}$ 11 $3\frac{1}{4} = \frac{13}{4}$

مثال: أكتب $1\frac{1}{6}$ على صورة كسر غير فعلي.

أكتب العدد الكسري على صورة مجموع عددين كلي وكسري

$$1\frac{1}{6} = 1 + \frac{1}{6}$$

$$= \frac{6}{6} + \frac{1}{6}$$

$$= \frac{7}{6}$$

أجمع الكسور

إذن، $1\frac{1}{6} = \frac{7}{6}$

التحقق: يُمكنني التحقق من صحة الحل باستخدام النماذج.

$1\frac{1}{6} = \frac{1}{1} + \frac{1}{6} = \frac{7}{6}$

44

الْوَحْدَةُ 4

الْكَسُورُ وَالْعَمَلِيَّاتُ عَلَيْهَا

أَسْتَعِدُّ لِدِرَاسَةِ الْوَحْدَةِ

كتابة العدد الكسري المُفْتَلَّ بِنَمُوذَج (الدرس 1)

أكتب العدد الكسري الذي يُمَثِّلُ الْجُزْءَ الْمُظَلَّلَ فِي كُلِّ مِمَّا يَأْتِي:

1 $2\frac{1}{2}$ 2 $1\frac{2}{5}$

3 $4\frac{1}{3}$ 4 $2\frac{9}{10}$

5 أصل بخط بين العدد الكسري وتمثيله المناسب في كل مما يأتي:

$2\frac{3}{4}$
 $4\frac{1}{4}$
 $3\frac{1}{2}$
 $2\frac{1}{2}$

مثال: أكتب العدد الكسري الذي يُمَثِّلُ الْجُزْءَ الْمُظَلَّلَ فِي النَمُوذَجِ الْمُجَاوِرِ.

ألاحظ وجود دائرتين مُظَلَّلَتَيْنِ بِالكَامِلِ ودائرة مُظَلَّلٍ مِنْهَا $\frac{1}{4}$ ، ومبته:

$$1 + 1 + \frac{1}{4} = 2\frac{1}{4}$$

إذن، العدد الكسري الذي يُمَثِّلُ النَمُوذَجَ هُوَ $2\frac{1}{4}$

43

الْوَحْدَةُ 4

الْكَسُورُ وَالْعَمَلِيَّاتُ عَلَيْهَا

أَسْتَعِدُّ لِدِرَاسَةِ الْوَحْدَةِ

جمع الكسور المتشابهة (الدرس 2)

أجد ناتج جمع الكسرين في كل مما يأتي:

14 $\frac{3}{10} + \frac{4}{10} = \frac{7}{10}$ 15 $\frac{1}{5} + \frac{2}{5} = \frac{3}{5}$

أجد ناتج كل مما يأتي في أبسط صورة:

16 $\frac{6}{8} + \frac{1}{8} = \frac{7}{8}$ 17 $\frac{3}{9} + \frac{4}{9} = \frac{7}{9}$ 18 $\frac{1}{2} + \frac{1}{2} = \frac{2}{2} = 1$

مثال: أجد ناتج $\frac{2}{7} + \frac{1}{7}$ في أبسط صورة:

الخطوة 1 أجمع البسطين وأبقي المقام كما هو.

$$\frac{2}{7} + \frac{1}{7} = \frac{2+1}{7} = \frac{3}{7}$$

الخطوة 2 أكتب الناتج في أبسط صورة.

بما أن العدد الوحيد الذي يُمكن قسمة كل من البسط والمقام عليه هو العدد 1، إذن الناتج في أبسط صورة.

إذن، $\frac{2}{7} + \frac{1}{7} = \frac{3}{7}$

46

الْوَحْدَةُ 4

الْكَسُورُ وَالْعَمَلِيَّاتُ عَلَيْهَا

أَسْتَعِدُّ لِدِرَاسَةِ الْوَحْدَةِ

كتابة كسر غير فعلي في صورة عدد كسري (الدرس 1)

أمثل الكسور غير الفعلية على النماذج المجاورة، ثم أكتبها على صورة عدد كسري:

12 $\frac{17}{4} = 4\frac{1}{4}$ $\frac{17}{4}$

13 $\frac{7}{5} = 1\frac{2}{5}$ $\frac{7}{5}$

مثال: أكتب $\frac{9}{4}$ على صورة عدد كسري.

أحدد كم واحدًا وكم كسراً في $\frac{9}{4}$

$$\frac{9}{4} = \frac{4}{4} + \frac{4}{4} + \frac{1}{4}$$

$$= 1 + 1 + \frac{1}{4}$$

$$= 2 + \frac{1}{4}$$

$$= 2\frac{1}{4}$$

أجمع

أكتب العدد الكسري

إذن، $\frac{9}{4} = 2\frac{1}{4}$

التحقق: يُمكنني التحقق من صحة الحل باستخدام النماذج.

$\frac{9}{4} = \frac{9}{4}$

45

كتاب التمارين

الوَحْدَةُ 4

الكُسُورُ وَالْعَمَلِيَّاتُ عَلَيْهَا

أَسْتَعِدُّ لِإِرْسَافِ الوَحْدَةِ

• **إِجَادُ كُسْرِ مَكَافِئًا لِكُسْرِ مَعْطِي بِاسْتِعْمَالِ الضَّرْبِ** (الدَّرْسُ 5)

أَجِدْ 3 كُسُورٍ مُكَافِئَةٍ لِكُلِّ كُسْرٍ مِمَّا يَأْتِي بِاسْتِعْمَالِ الضَّرْبِ:

24 $\frac{1}{6} = \frac{2}{12} = \frac{3}{18} = \frac{4}{24}$ 25 $\frac{2}{5} = \frac{4}{10} = \frac{6}{15} = \frac{8}{20}$ 26 $\frac{3}{7} = \frac{6}{14} = \frac{9}{21} = \frac{12}{28}$

مِثَالٌ: أَجِدْ كُسْرَيْنِ مُكَافِئَيْنِ لِلْكُسْرِ $\frac{3}{5}$ بِاسْتِعْمَالِ الضَّرْبِ:

أضرب كلًّا من البسط والمقام في العدد 2

$$\frac{3}{5} = \frac{3 \times 2}{5 \times 2} = \frac{6}{10}$$

أضرب كلًّا من البسط والمقام في العدد 3

$$\frac{3}{5} = \frac{3 \times 3}{5 \times 3} = \frac{9}{15}$$

أي إنَّ $\frac{3}{5} = \frac{6}{10} = \frac{9}{15}$

• **إِجَادُ كُسْرِ مَكَافِئًا لِكُسْرِ مَعْطِي بِاسْتِعْمَالِ القِسْمَةِ فِي أبْسَطِ صُورَةٍ** (الدَّرْسُ 5)

أَكْتُبْ كُسْرَيْنِ مُكَافِئَيْنِ لِكُلِّ كُسْرٍ مُعْطَى بِاسْتِعْمَالِ القِسْمَةِ أَخْذُهُمَا فِي أبْسَطِ صُورَةٍ:

27 $\frac{24}{36} = \frac{6}{9} = \frac{2}{3}$ 28 $\frac{30}{54} = \frac{15}{27} = \frac{5}{9}$ 29 $\frac{21}{63} = \frac{3}{9} = \frac{1}{3}$

مِثَالٌ: أَكْتُبْ كُسْرَيْنِ مُكَافِئَيْنِ لِلْكُسْرِ $\frac{8}{24}$ أَخْذُهُمَا فِي أبْسَطِ صُورَةٍ:

أقسم كلًّا من البسط والمقام على 2

$$\frac{8}{24} = \frac{8 \div 2}{24 \div 2} = \frac{4}{12}$$

أقسم كلًّا من البسط والمقام على 2

$$\frac{4}{12} = \frac{4 \div 2}{12 \div 2} = \frac{2}{6}$$

أقسم كلًّا من البسط والمقام على 2

$$\frac{2}{6} = \frac{2 \div 2}{6 \div 2} = \frac{1}{3}$$

أي إنَّ $\frac{8}{24} = \frac{4}{12} = \frac{1}{3}$


الوَحْدَةُ 4


الكُسُورُ وَالْعَمَلِيَّاتُ عَلَيْهَا

أَسْتَعِدُّ لِإِرْسَافِ الوَحْدَةِ

• **طَرَحُ الكُسُورِ المُتَشَابِهَةِ** (الدَّرْسُ 3)

أَكْتُبِ المَسْأَلَةَ الَّتِي يُمَثِّلُهَا كُلُّ نَمُودَجٍ مِمَّا يَأْتِي، ثُمَّ أَجِدْ نَائِجَهَا:

19  $\frac{5}{6} - \frac{2}{6} = \frac{3}{6} = \frac{1}{2}$

20  $\frac{10}{12} - \frac{7}{12} = \frac{3}{12} = \frac{1}{4}$

أَجِدْ نَائِجَ كُلِّ مِمَّا يَأْتِي فِي أبْسَطِ صُورَةٍ:

21 $\frac{6}{7} - \frac{2}{7} = \frac{4}{7}$ 22 $\frac{4}{7} - \frac{3}{7} = \frac{1}{7}$ 23 $\frac{4}{5} - \frac{2}{5} = \frac{2}{5}$

مِثَالٌ: أَجِدْ نَائِجَ $\frac{4}{6} - \frac{1}{6}$ فِي أبْسَطِ صُورَةٍ:

الخطوة 1: أَمْرَحُ البُسْطَيْنِ وَأَبْقِي المَقَامَ كَمَا هُوَ.

$$\frac{4}{6} - \frac{1}{6} = \frac{4-1}{6} = \frac{3}{6}$$

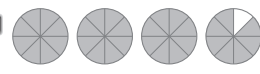
الخطوة 2: أَكْتُبُ النَائِجَ فِي أبْسَطِ صُورَةٍ:

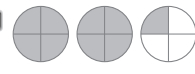
$$\frac{3}{6} = \frac{3 \div 3}{6 \div 3} = \frac{1}{2}$$

إِذَنْ، $\frac{4}{6} - \frac{1}{6} = \frac{1}{2}$


الدَّرْسُ 1 الأَعْدَادُ الكُسْرِيَّةُ

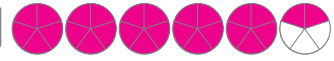
أَكْتُبِ الكُسْرَ غَيْرَ الفِعْلِيِّ وَالْعَدَدَ الكُسْرِيَّ اللَّذَيْنِ يُمَثِّلُهُمَا كُلُّ نَمُودَجٍ مِمَّا يَأْتِي:

1  $\frac{31}{8}$ $3 \frac{7}{8}$

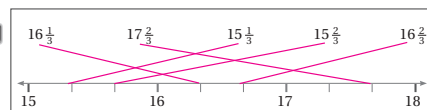
2  $\frac{9}{4}$ $2 \frac{1}{4}$

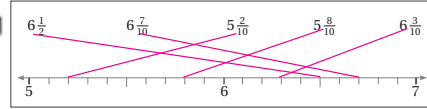
أَطَّلُ مَا أَخْتَارُ إِلَيْهِ مِنَ الدَّوَائِرِ لِتُسَاعِدَنِي فِي تَحْوِيلِ الكُسْرِ غَيْرِ الفِعْلِيِّ إِلَى عَدَدٍ كُسْرِيٍّ:

3 $\frac{13}{4} = 3 \frac{1}{4}$ 

4 $\frac{27}{5} = 5 \frac{2}{5}$ 

أَصِلْ بِنَتْنِهِم بَيْنَ العَدَدِ الكُسْرِيِّ وَتَمَوُّعِيهِ المُنَاسِبِ عَلَى عَطِّ الأَعْدَادِ فِي كُلِّ مِمَّا يَأْتِي:

5 

6 

كتاب التمارين

الدرس 3 طَرَحُ الكُسُورِ

أوجد ناتج طرح الكُسُورِ في كُلِّ مِمَّا يَأْتِي:

1 $\frac{8}{9} - \frac{1}{3} = \frac{5}{9}$

2 $\frac{2}{5} - \frac{1}{2} = \frac{4}{10} - \frac{5}{10} = -\frac{1}{10}$

3 $\frac{3}{10} - \frac{1}{5} = \frac{3}{10} - \frac{2}{10} = \frac{1}{10}$

4 $\frac{1}{8} - \frac{1}{4} = \frac{1}{8} - \frac{2}{8} = -\frac{1}{8}$

أجد ناتج الطرح في كُلِّ مِمَّا يَأْتِي في أبسط صورة:

5 $\frac{8}{9} - \frac{1}{3} = \frac{5}{9}$ 6 $\frac{7}{10} - \frac{2}{5} = \frac{3}{10}$ 7 $4 - \frac{1}{5} = 3\frac{4}{5}$

8 $6 - \frac{1}{7} = 5\frac{6}{7}$ 9 $5\frac{3}{8} - 2\frac{1}{4} = 3\frac{1}{8}$ 10 $7\frac{1}{2} - 3\frac{1}{10} = 4\frac{4}{10} = 4\frac{2}{5}$

11 نجارة: قطعة خشب مستطيلة الشكل، طولها $2\frac{3}{4}$ m، وعرضها $1\frac{1}{2}$ m. أراد نجاراً قصها على شكل مربع، كم سيقطع من طولها؟

$2\frac{3}{4} - 1\frac{1}{2} = 1\frac{1}{4}$ $2\frac{3}{4}$ m $1\frac{1}{2}$ m

12 تحدد: أختار كسرين مما يأتي، يكون الفرق بينهما $\frac{3}{4}$:

13 أحوّل النمط في ما يأتي:

$\frac{6}{8}, 6\frac{3}{4}, 6\frac{5}{8}, 6\frac{1}{2}, 6\frac{3}{8}, 6, \frac{1}{4}$

51

الدرس 2 جَمْعُ الكُسُورِ

أجد ناتج جمع الكُسُورِ في كُلِّ مِمَّا يَأْتِي:

1 $\frac{1}{5} + \frac{1}{5} = \frac{2}{5}$

2 $\frac{1}{4} + \frac{1}{4} = \frac{2}{4} = \frac{1}{2}$

3 $\frac{1}{2} + \frac{1}{2} = 1$

4 $\frac{7}{8} + \frac{1}{8} = 1$

أجد ناتج الجمع في كُلِّ مِمَّا يَأْتِي في أبسط صورة:

5 $\frac{1}{3} + \frac{2}{6} = \frac{2}{3}$ 6 $\frac{7}{14} + \frac{3}{7} = \frac{13}{14}$

7 $4\frac{1}{5} + 2\frac{1}{10} = 6\frac{3}{10}$ 8 $3\frac{1}{9} + 2\frac{2}{3} = 5\frac{7}{9}$

9 أضع كُلَّ كَسْرَيْنِ متكافئتين في دائرة، ثم أجد ناتج جمعهما:

$\frac{1}{4}, \frac{4}{8}, \frac{3}{12}, \frac{1}{2}, \frac{3}{5}, \frac{9}{15}$

10 فسّر أبراء $\frac{1}{4}$ الفسّران الكريم في الصف الثاني، وفسّر $\frac{1}{2}$ الفسّران الكريم في الصف الرابع. أكتب الكسور التي يعبر عن مجموع ما قرأه في الصفين الثاني والرابع، وأمثل الناتج على خط الأعداد.

11 طعام: تحتاج قذو إلى 3 kg من اللحم على الأقل لإعداد وليمة. إذا توافر لديها $\frac{3}{4}$ kg من اللحم، واشترت $2\frac{1}{2}$ kg فهل أصبح لديها ما يكفي من اللحم لإعداد الوليمة؟ أبرّر إجابتي. نعم يعني $2\frac{1}{2} + \frac{3}{4} = 3\frac{1}{4}$

50

الدرس 4 فَرْبُ عَدَدٍ كَلْبِي فِي كُسْرِي

أجد ناتج كُلِّ مِمَّا يَأْتِي في أبسط صورة:

1 $2 \times \frac{5}{6} = \frac{5}{3}$ 2 $3 \times 1\frac{1}{3} = \frac{12}{3} = 4$ 3 $5 \times 2\frac{1}{10} = \frac{21}{2}$

4 مع ضراب 8 دنانير واقترض من صديقه $1\frac{1}{2}$ من المبلغ الذي معه، كم أصبح مع ضراب؟

$8 \times 1\frac{1}{2} = 12 = \frac{24}{2}$
أصبح مع ضراب: $8 + 12 = 20$

5 أضع العدة المناسبة في:

$6 \times \frac{7}{10} = \frac{42}{10} = 4\frac{2}{10}$

6 يدور القمر حول الأرض كل $\frac{3}{10}$ يوماً تقريباً بما يُعرف بالسَّهْوَرِ القَمَرِي. كم يوماً يحتاج القمر لإتمام 10 دورات حول الأرض؟

$27\frac{3}{10} \times 10 = \frac{2730}{10} = 273$

7 لدى هديل عُلبتان من البسكويت. أكلت $\frac{3}{8}$ العلبتين الأولى، وأكلت $\frac{2}{7}$ العلبتين الثاني. كم بسكويتة أكلت هديل من العلبتين معاً؟ 25 قطعة

أضغ الرمز المناسب (<, =, >) في المُضَيِّحِ العبارة صحيحة:

8 $7 \times \frac{2}{4} < 5 \times \frac{3}{4}$ 9 $4 \times \frac{1}{8} < 4 \times \frac{3}{8}$ 10 $\frac{4}{3} \times 9 = 6 \times \frac{6}{3}$

52

كتاب التمارين

الدرس 6 قسمة عددٍ كَلْبِيٍّ على كسِرٍ

أوجد ناتج كلِّ مما يأتي في أبسط صورة: $\frac{7}{1} \div \frac{15}{7} = \frac{49}{15}$

1 $6 \div \frac{1}{3} = 18$ 2 $4 \div \frac{1}{10} = 40$ 3 $7 \div 2\frac{1}{7} = 5\frac{3}{2}$ 4 $5 \div 3\frac{1}{2} = 10\frac{7}{5}$

5 كم ثلثا في العدد 5؟ $5 \div \frac{1}{3} = 15$

6 أصِل بين عمليَّة القسمة وناتجها في كلِّ مما يأتي:

$6 \div \frac{1}{3}$	$2\frac{2}{3}$
$3 \div \frac{2}{7}$	$6\frac{2}{3}$
$4 \div \frac{2}{5}$	10
$2 \div \frac{3}{4}$	$10\frac{1}{2}$
$6 \div \frac{9}{10}$	18

استخدم كلِّ من عاشر ودياسة طريقتين مختلفتين لإيجاد ناتج $10 \div 2\frac{1}{2}$. استعمل الطريقتين لإيجاد ناتج كلِّ مما يأتي:

7 $44 \div 1\frac{3}{28} = 39\frac{23}{31}$ 8 $10 \div 1\frac{3}{4} = 5\frac{5}{7}$

9 $24 \div 2\frac{2}{5} = 10$

تحذّر: استعمل الطاقة الشمسية لأجد العدد التالي في كلِّ نمط:

$\div \frac{1}{2}$ $\div 2\frac{1}{2}$ $\div 1\frac{1}{5}$

10 $4, 8, 16, \div \frac{1}{2}$ 11 $250, 100, 40, \div 2\frac{1}{2}$

54

الدرس 5 ضرب الكُسور

أوجد ناتج كلِّ مما يأتي في أبسط صورة:

1 $\frac{1}{9} \times \frac{3}{5} = \frac{1}{15}$ 2 $\frac{5}{6} \times \frac{9}{10} = \frac{3}{4}$ 3 $\frac{5}{6} \times \frac{2}{12} = \frac{5}{36}$

4 $\frac{2}{5} \times \frac{7}{8} = \frac{7}{20}$ 5 $\frac{2}{12} \times \frac{3}{9} = \frac{1}{18}$ 6 $\frac{3}{4} \times \frac{4}{11} = \frac{3}{11}$

7 أصِل بين جملة الضرب في العمود الأول وناتجها في العمود الثاني:

$\frac{2}{3} \times \frac{1}{3}$	$\frac{3}{10}$
$\frac{2}{5} \times \frac{3}{4}$	$\frac{1}{6}$
$\frac{5}{8} \times \frac{3}{10}$	$\frac{2}{9}$
$\frac{4}{9} \times \frac{3}{8}$	$\frac{3}{16}$

8 خطّار: ما ثمن $\frac{3}{5}$ kg من البندورة إذا كان ثمن الكيلوغرام الواحد منها $\frac{4}{10}$ دينار؟ $\frac{6}{25}$

9 تبادل: سحب ممرّض $\frac{1}{100}$ L من دم فيضلي، ثمَّ خلل $\frac{2}{5}$ من هذه العيّنة. كم لتر دم خلل الممرّض؟ $\frac{1}{250}$

10 بلديات: أتهب البلدية تعيين $\frac{3}{7}$ من شارع. إذا كان طول الشارع $\frac{7}{9}$ km، فكم كيلومترا عبّدت البلدية من الشارع؟ $\frac{5}{9}$

أملاً القراع بما هو مناسب في كلِّ مما يأتي: إجابات ممكنة:

11 $\frac{5}{2} \times \frac{4}{16} = \frac{5}{8}$ 12 $\frac{4}{14} \times \frac{3}{1} = \frac{6}{7}$ 13 $\frac{3}{4} \times \frac{12}{1} = 9$

53

الدرس 7 قسمة كسِرٍ على عددٍ كَلْبِيٍّ

أوجد ناتج القسمة في كلِّ مما يأتي:

1 $\frac{1}{4} \div 6 = \frac{1}{4} \times \frac{1}{6} = \frac{1}{24}$ 2 $\frac{4}{5} \div 10 = \frac{4}{50} = \frac{2}{25}$

3 $3\frac{1}{2} \div 4 = \frac{7}{2} \times \frac{1}{4} = \frac{7}{8}$ 4 $5\frac{2}{7} \div 3 = \frac{37}{7} \times \frac{1}{3} = \frac{37}{21}$

5 أجد طول مستطيل مساحته $12\frac{1}{2} \text{ m}^2$ وعرضه 2 m . $12\frac{1}{2} \div 2 = \frac{25}{2} \times \frac{1}{2} = \frac{25}{4} = 6\frac{1}{4}$

6 قسم رجل $16\frac{4}{10}$ ديناراً على أبنائه الأربعة بالتساوي، فكم أخذ كل واحد منهم؟ $16\frac{4}{10} \div 4 = \frac{164}{10} \times \frac{1}{4} = \frac{164}{40} = 4\frac{1}{10}$

استعمل النماذج أدناه لإكمال جملة القسمة، ثمَّ أجد الناتج:

7 $\frac{1}{2} \div 6 = \frac{1}{12}$

8 $\frac{1}{3} \div 3 = \frac{1}{9}$

أجد ناتج كلِّ مما يأتي:

9 $\frac{1}{3} \div 6 \div 2 = \frac{1}{36}$ 10 $\frac{1}{4} \div 9 \times 6 = \frac{1}{6}$ 11 $\frac{2}{7} \div 2 \times 8 = 1\frac{1}{7}$

55

تمثيل البيانات وتفسيرها



مخطط الوحدة



عدد الحصص	الأدوات والموارد	المصطلحات	الأهداف	المحتوى
2	<ul style="list-style-type: none"> • بعض الصور والمعلومات عن حديقة الطيور. 	<ul style="list-style-type: none"> • سؤال إحصائي. • سؤال غير إحصائي. 	<ul style="list-style-type: none"> • تمييز السؤال الإحصائي. 	<p>الدرس 1: السؤال الإحصائي.</p>
2	<ul style="list-style-type: none"> • ورقة المصادر 12 ألوان. • مسطرة. • نسخة من لعبة السلم والثعبان. 	<ul style="list-style-type: none"> • المستوى الإحداثي. • المحور x. • المحور y. • الزوج المرتب (x, y). • الإحداثي x. • الإحداثي y. • نقطة الأصل $(0, 0)$. 	<ul style="list-style-type: none"> • قراءة النقاط على المستوى الإحداثي، وتمثيلها. 	<p>الدرس 2: المستوى الإحداثي.</p>
2	<ul style="list-style-type: none"> • ورقة المصادر 12 ألوان. • مسطرة. 	<ul style="list-style-type: none"> • التمثيل بالخطوط. 	<ul style="list-style-type: none"> • تمثيل البيانات بالخطوط. • قراءة بيانات ممثلة بالخطوط، وتفسيرها. 	<p>الدرس 3: التمثيل بالخطوط.</p>
2	<ul style="list-style-type: none"> • ورقة المصادر 13 ألوان. • مسطرة. • بعض الصور لبيانات ممثلة بالخطوط المزدوجة من دراسات على مواقع الإنترنت. 	<ul style="list-style-type: none"> • الخطوط المزدوجة. 	<ul style="list-style-type: none"> • تمثيل مجموعتي بيانات بالخطوط المزدوجة. • قراءة بيانات ممثلة بالخطوط المزدوجة، وتفسيرها. 	<p>الدرس 4: التمثيل بالخطوط المزدوجة.</p>
3	<ul style="list-style-type: none"> • ورقة المصادر 13 ألوان. • مسطرة. • بعض الصور لبيانات ممثلة بالأعمدة من دراسات على مواقع الإنترنت. 	<ul style="list-style-type: none"> • الأعمدة المزدوجة. 	<ul style="list-style-type: none"> • تمثيل البيانات بالأعمدة المزدوجة. • قراءة بيانات ممثلة بالأعمدة المزدوجة، وتفسيرها. 	<p>الدرس 5: التمثيل بالأعمدة المزدوجة.</p>
1				عرض نتائج مشروع الوحدة.
1				اختبار نهاية الوحدة.
13 حصّة				المجموع:

تمثيل البيانات وتفسيرها

ما أهمية هذه النوحة؟

يَسْتَعْمِلُ الْعُلَمَاءُ الْإِحْصَاءَ كَثِيرًا فِي الْأَنْحَاءِ الْعِلْمِيَّةِ وَالطَّبِيَّةِ، فَهُمْ يَجْمَعُونَ بَيِّنَاتٍ عَنِ الْحَالَةِ الصَّحِيَّةِ لِعَدَدٍ كَبِيرٍ مِنَ الْمَرْضَى، ثُمَّ يَعْرضُونَهَا بِاسْتِعْمَالِ تَمَثِيلَاتٍ بَيِّنَاتٍ تُسَاعِدُهُمْ عَلَى تَفْسِيرِ هَذِهِ الْبَيِّنَاتِ.



نظرة عامة حول الوحدة:

في هذه الوحدة يتعلّم الطلبة الإجابة عن أسئلة عن طريق جمع المعلومات وتنظيمها، وتقديم استنتاجات من قراءة هذه البيانات سواء التي جمعها الطالب أم بيانات معطاة. كما يرسم الطلبة أشكالاً وتمثيلات بيانية بناءً على معلومات معطاة ويفسّرون هذه الرسوم، ويتمكّنون من حلّ مسائل حياتية بناءً على تمثيلات بيانية، ومن تنمية مهارة الباحث الصغير.

سَنَتَعَلَّمُ فِي هَذِهِ النَّوْحَةِ:

- تَمَيِّزَ السُّؤَالِ الْإِحْصَائِيِّ.
- تَمَثِيلَ بَيِّنَاتٍ بِالْخُطُوطِ وَالْأَعْمَدَةِ وَالْخُطُوطِ الْمُرْدُودَةِ.
- الْمُقَارَنَةَ بَيْنَ مَجْمُوعَتَيْ بَيِّنَاتٍ مُمَثَّلَةٍ بِالْأَعْمَدَةِ أَوْ الْخُطُوطِ الْمُرْدُودَةِ.

تَعَلَّمْتُ سَابِقًا:

- ✓ جَمَعَ بَيِّنَاتٍ بِاسْتِعْمَالِ جَدَاوِلِ إِشَارَاتِ الْعَدِّ التَّكْرَارِيَّةِ، وَتَمَثِيلَهَا.
- ✓ تَمَثِيلَ بَيِّنَاتٍ بِالْأَعْمَدَةِ الْبَيِّنَاتِيَّةِ وَالنَّقَاطِ.
- ✓ قَرَأَةَ بَيِّنَاتٍ مُمَثَّلَةٍ، وَتَفْسِيرَهَا.
- ✓ جَمَعَ بَيِّنَاتٍ كَمِّيَّةً مَقْيَسَةً بِأَعْدَادٍ كَلِّيَّةٍ وَكُسْرِيَّةٍ.

الترايط الرأسي بين الصفوف

الصف السادس



- تنظيم بيانات عديدة في جداول تكرارية بسيطة.
- تمثيل البيانات بالقطاعات الدائرية وحلّ مسائل عليها.
- تمثيل الجداول التكرارية بالأعمدة وحلّ مسائل عليها.
- إيجاد الوسيط والمدى للجداول التكرارية أو التمثيلات البيانية.

الصف الخامس



- تمييز السؤال الإحصائي وغير الإحصائي.
- تصنيف البيانات التي حصل عليها، بعد الإجابة على السؤال الإحصائي.
- تعرّف المستوى الإحداثي ومكوناته، وتحديد نقاط عليه ضمن الربع الأول.
- المقارنة بين مجموعتين من البيانات ممثلة بالأعمدة المزدوجة أو الخطوط المزدوجة.
- تمثيل بيانات مزدوجة بالأعمدة المزدوجة والخطوط المزدوجة.

الصف الرابع



- تمثيل بيانات بالنقاط.
- تفسير بيانات ممثلة بأعمدة بيانية.
- تفسير بيانات ممثلة بنقاط.

مشروع الوحدة: صحة ذوي القربى

هدف المشروع:

يهدف هذا المشروع إلى تنمية مهارة الباحث الصغير، وتعزيز قدرة الطلبة على تنظيم بيانات وتمثيلها بعدة صور.

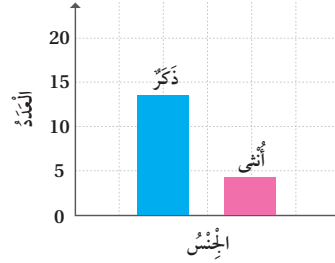
خطوات تنفيذ المشروع:

- أَعْرِفَ الطَّلِبَةَ بِالمَشْرُوعِ وأهميته في تعلُّم موضوعات الوحدة.
- أَوْزِعِ الطَّلِبَةَ إلى مجموعات، مُؤَكِّدًا أهمية تعاون أفراد المجموعة، وتوزيع المهام في ما بينهم.
- أَوْضِحِ للطَّلِبَةَ المواد والأدوات اللازمة لتنفيذ المشروع، وعناصر المُنتَج النهائي المطلوب منهم، مُؤَكِّدًا أهمية توثيق خطوات تنفيذ المشروع أولاً بأول، وتعزيزها بالصور.
- أذْكَرِ الطَّلِبَةَ بالعودة إلى المشروع في نهاية كل درس من دروس الوحدة؛ لاستكمال ما يجب إنجازه من خطوات تنفيذ المشروع.
- أَيْبِنِ للطَّلِبَةَ سلفاً معايير تقييم المشروع.

لعرض نتائج المشروع، أَيْبِنِ للطَّلِبَةَ ما يأتي:

- إمكانية استعمال التكنولوجيا في عرض نتائج المشروع، مثل: المطوية، وبرمجية العروض التقديمية.
- تذكير الطلبة بإضافة معلومة توصلوا إليها في أثناء العمل بالمشروع، حتى لو كانت هذه المعلومة غير رياضية.
- اختيار كل مجموعة واحداً منها؛ للوقوف أمام أفراد المجموعات الأخرى، وعرض البيانات التي جمعها مع أفراد مجموعته (تتمثل أهمية هذه الخطوة في تنمية مهارات التواصل لدى الطلبة).
- الطلب إلى أفراد المجموعات ذكر بعض الصعوبات التي واجهوها في أثناء تنفيذ المشروع، وكيف تمكّنوا من التغلب عليها؛ تعزيزاً لمهاراتهم في حل المشكلات.
- أشجّع الطلبة على البحث في مواضيع أخرى ودراسة النتائج والتوقعات حولها.

3 **أُمَثِّلُ الْبَيَانَاتِ:** أُمَثِّلُ الْبَيَانَاتِ الَّتِي نَطَمَّتْهَا بِاسْتِعْمَالِ 4 تَمَثِيلَاتٍ بَيَانِيَّةٍ مُخْتَلِفَةٍ، وَأَسْتَعِينُ بِالْمَثَالِ الْآتِي:



4 **أُفَسِّرُ النَتَائِجَ:** أَكْتُبُ تَعْلِيْقًا (أَوْ أَكْثَرُ) تَحْتَ كُلِّ جَدْوَلٍ أَوْ تَمَثِيلٍ قُمْتُ بِإِنْشَائِهِ، بِحَيْثُ تَبْدُو النَتَائِجُ أَكْثَرَ وَضُوحًا.

عرض النتائج:

- أَكْتُبُ خُطُوبَاتٍ عَمَلِ الْمَشْرُوعِ، وَالنَتَائِجِ الَّتِي تَوَصَّلْتُ إِلَيْهَا.
- أَكْتُبُ بَعْضَ الصُّعُوبَاتِ الَّتِي وَاجَهْتُهَا، وَكَيْفَ تَغَلَّبْتُ عَلَيْهَا.
- أَعْرِضُ النَتَائِجَ عَلَى لَوْحَةٍ كَرْتُونِيَّةٍ تَتَضَمَّنُ الْبَيَانَاتِ وَالتَّمَثِيلَاتِ وَتُفَسِّرُ النَتَائِجَ.
- إِنْ أَمَكَنْ، أَقَدِّمُ عَرْضَ (بور بونت PowerPoint) يَتَضَمَّنُ مَرَاجِلَ تَنْفِيذِ الْمَشْرُوعِ، وَصُورَ التَّمَثِيلَاتِ وَالنَتَائِجِ الَّتِي تَوَصَّلْتُ إِلَيْهَا.

أَسْتَعِدُّ وَرُمَلَانِي/ رَمِلَاتِي لِتَنْفِيذِ مَشْرُوعِي الْفَرْدِيِّ الَّذِي سَأَسْتَعْمِلُ فِيهِ مَا أَتَعَلَّمُهُ فِي هَذِهِ الْوَحْدَةِ؛ لِأَجْمَعَ وَأَحْلِلَ بَيَانَاتٍ حَوْلَ الْحَالَةِ الصَّحِيَّةِ لِأَقْرَبِيائِي.

خطوات تنفيذ المشروع:

1 **أَجْمَعُ الْبَيَانَاتِ:** أَجْمَعُ بَيَانَاتٍ حَوْلَ 20 شَخْصًا مِنْ أَقْرَبَائِي، تَتَضَمَّنُ الْمَعْلُومَاتِ وَالْجَوَابَ الصَّحِيَّةَ الْمُبَيَّنَةَ فِي الْجَدْوَلِ الْآتِي:

	الجنس	العمر	الكتلة	أمراض مزمنة (نعم / لا)
1				
2				

2 **أُنظِّمُ الْبَيَانَاتِ:** أُنظِّمُ الْبَيَانَاتِ الَّتِي جَمَعْتُهَا حَوْلَ كُلِّ مِنَ الْجِنْسِ وَالْعُمُرِ وَالْكَتْلَةِ وَالْأَمْرَاضِ الْمُزْمِنَةِ، فِي 4 جَدَاوِلٍ إِشَارَاتٍ تُشْبِهُ الْجَدْوَلِ أَدْنَاهُ.

الإشارات	العدد	الجنس
		ذكر
		أنثى

أداة تقويم المشروع

الرقم	المعيار	3	2	1
1	جمع المعلومات بدقة وفي الوقت المحدد.			
2	تنظيم البيانات بصورة دقيقة داخل الجدول التكراري.			
3	تمثيل البيانات بالصورة المطلوبة.			
4	تقديم عرض شائق، وإظهار مقدار من الثقة في عرض النتائج.			
5	تقديم نتائج وتوقعات بناء على البحث.			

1 إنجاز المهمة بوجود أكثر من خطأ.

2 إنجاز المهمة بوجود خطأ بسيط.

3 إنجاز المهمة بصورة صحيحة من دون خطأ.

هدف النشاط:

جمع البيانات وتنظيمها.

المصادر والأدوات:

مسطرة، قلم.

خطوات العمل:

- أكتب السؤال الآتي على اللوح: ما أكثر أنواع الأفلام المفضلة لدى طلبة الصف (مغامرات Action، فكاهي Comedy، موسيقي Musical، خيال علمي Scientific fiction)؟
- أعطي 5 دقائق ليتجول الطالب/ الطالبة بصورة فردية أو ضمن فريق ثنائي بين زملائه/ زملائها (أحد حجم العينة، مثلاً 10 طلبة)، ويوجه السؤال ويجمع الإجابات ويسجلها.
- يُفرغ الطلبة هذه البيانات في جدول تكراري (إشارات)، ويكتبون التكرار أمام كل نوع من الأفلام.
- أطلب إلى الطلبة كتابة سؤال إحصائي وسؤال غير إحصائي على البيانات التي جمعوها.

هدف النشاط:

تمثيل النقاط في المستوى الإحداثي.

المصادر والأدوات:

ورقة المصادر 12: المستوى الإحداثي، مسطرة، قلم.

خطوات العمل:

- أكتب العبارة الآتية على اللوح: «كلما زاد وقت دراستك سيزيد معدل علامتك»، وأسأل: هل هذه العبارة صحيحة دائماً؟
- أختار 6 من طلبة الصف وأسألهم عن عدد دقائق دراستهم المنزلية، وعن معدلهم السنة الماضية.
- أطلب إلى الطلبة تمثيل هذه البيانات بالأزواج المرتبة بحيث يُمثل المحور x الوقت، ويُمثل المحور y المعدل، وأقدم المساعدة للطلبة على تحديد التدرج المناسب.
- أناقش الطلبة في رأيهم حول الجملة المطروحة.

**هدف النشاط:**

تمثيل البيانات بالخطوط.

المصادر والأدوات:

ميزان حرارة، ورقة المصادر 12: المستوى الإحداني، مسطرة، قلم.

خطوات العمل:

- أعطى التعليمات قبل أسبوع من تنفيذ النشاط في الحصّة.
- أعلّق ميزان حرارة عند نافذة الصف.
- أوّز الطلبة في 5 مجموعات، وأطلب إلى رئيس/ رئيسة كل مجموعة اختيار يوم من الأسبوع السابق لهذا النشاط؛ لتسجيل درجة الحرارة مع بداية كل حصّة. يشارك الرئيس/ الرئيسة المعلومات مع مجموعته/ ها.
- أوّز ورقة المصادر 12 على الطلبة، وأكلّف كلّ المجموعة بتمثيل البيانات بالخطوط (رقم الحصّة ودرجة الحرارة)، ومناقشة تغيّر درجة الحرارة.
- أسجّل درجة الحرارة عند آخر حصّة خلال الأسبوع من كل مجموعة على اللوح، ضمن جدول يحتوي على اليوم ودرجة الحرارة، ثم أكلّف الطلبة بتمثيل الجدول بالخطوط.

**هدف النشاط:**

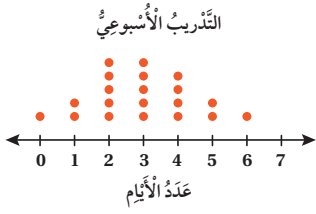
تمثيل البيانات بالأعمدة المزدوجة.

المواد والأدوات:

ورقة المصادر 13: شبكة مربعات، ألوان (لونان)، مسطرة، قلم.

خطوات العمل:

- أوّز الطلبة في مجموعات، وأكتب السؤال الآتي على اللوح: ما عدد إخوانك وأخواتك؟
- أطلب إلى أحد أفراد المجموعة توجيه السؤال إلى زملائه في المجموعة، وتسجيل هذه البيانات في جدول.
- توّز المعلومات على المجموعة، ثم يمثّلونها بأعمدة مزدوجة على ورقة المصادر 13؛ بحيث يدل محور x على اسم الطالب/ الطالبة، ويدل المحور y على عدد الأخوة والأخوات. أنبّه الطلبة إلى استعمال لونين مختلفين لتمثيل الأخوة والأخوات.



أَسْتَكْشِفُ

كَتَبَ المُعَلِّمُ سُؤالاً عَلى اللُّوحِ، ثُمَّ جَمَعَ إجاباتِ الطَّلَبَةِ عَنهُ وَمَثَّلَها بِالنُّقَاطِ. ما السُّؤالُ الَّذي يُمكنُ أن يَكُونُ المُعَلِّمُ قَدَ سألَهُ لِطَلَبَتِهِ؟

فِكْرَةُ الدَّرْسِ

أُمَيِّرُ السُّؤالَ الإحصائيَّ.

المُصْطَلَحَاتُ

السُّؤالُ الإحصائيُّ،
السُّؤالُ غَيْرُ الإحصائيِّ

أَتَعَلَّمُ

عَندَما أَسأَلُ سُؤالاً يُجيبُ عَنهُ النَّاسُ إجاباتٍ مُخْتَلَفَةً؛ فَإِنَّهُ يُسَمَّى **سُؤالاً إحصائيًّا** (statistical question)،
أَما إِذا كانَ لِسُؤالِي إجابَةٌ واحِدَةٌ عَندَ كُلِّ النَّاسِ؛ فَإِنَّهُ يُسَمَّى **سُؤالاً غَيْرَ إحصائيِّ** (non statistical question).

مِثال 1 أَحَدُ إِذا ما كانَ كُلُّ سُؤالٍ مِمَّا يَأْتِي إحصائيًّا أَمْ لا، وَأَبْرُرُ إجابَتِي.

1 سَأَلْتُ مَرِيَمَ رَمِيلاتِها: كَيْفَ تَحضُرُنَ إِلى المَدْرَسَةِ؟

هَذا سُؤالٌ إحصائيٌّ؛ لِأنَّهُ يَسْتَفْهِمُ عَن كَيْفِيَّةِ وُصولِ الطَّالِبَاتِ إِلى المَدْرَسَةِ. رُبَّما بِالسَّيَّارَةِ أَوْ بِالحافِلَةِ المَدْرَسيَّةِ أَوْ سِيراً عَلى الأَقْدامِ.

2 سَأَلْتُ أَحْمَدَ والِدَهُ: هَلْ تَدورُ الأَرْضُ حَولَ الشَّمْسِ؟

هَذا سُؤالٌ غَيْرُ إحصائيٍّ؛ لِأنَّ لَهُ إجابَةً واحِدَةً.

أَتَحَقَّقُ مِن فَهْمِي:

3 سَأَلْتُ فَاطِمَةَ والِدَتِها: كَمْ دَرَجَةُ عَليانِ المَاءِ؟ غيرِ إحصائي.

4 سَأَلْتُ إِبراهيمَ رُفِقاءَهُ: ما الفَاجِئَةُ الَّتِي تُفضِّلونها في الصَّيْفِ؟ إحصائي.

نتائج الدرس:

- التمييز بين السؤال الإحصائي والسؤال غير الإحصائي.
- كتابة سؤال إحصائي عن بيانات معطاة.

نتائج التعلم القبلي:

- تمثيل البيانات بالنقاط.

مراجعة التعلُّم القبلي ومعالجة الفاقد التعليمي:

أسترشد بالإجراءات المبيّنة في مقدمة دليل المعلم (الصفحتان 1 و 2) المتعلقة بمراجعة التعلم القبلي ومعالجة الفاقد التعليمي لدى الطلبة.

1 التهيئة

- أتحدّث حول أهميّة جمع المعلومات وتنظيمها، وأوجّه أمثلة حول ذلك مثل كمّية الأمطار الهاطلة في أوقات محددة من السنة، وأعرض بعض الرسومات من مواقع إلكترونية، وأوضح أنّ الطلبة سيتمكّنون في نهاية الوحدة من فهم محتوى هذه الرسوم والأشكال وتفسيرها.

- أستمع لرأي الطلبة حول هذا الموضوع ورأيهم لماذا نجمع المعلومات.

- أوجّه الطلبة إلى قراءة المسألة في فقرة **أستكشف**، وأسأل:

« ما السؤال الذي يمكن أن يكون المعلم قد سأله لطلبتة؟ **تختلف الإجابات.**

« أعزز الإجابات الصحيحة.

- أوضح للطلبة المقصود بالسؤال الإحصائي، والسؤال غير الإحصائي، ثم أقدم لهم أمثلة على ذلك.

تعزيز اللغة ودعمها:

أكرّر المصطلحين: (سؤال إحصائي، سؤال غير إحصائي) أمام الطلبة، وأحرص على استعمالهما من قبلهم.

مثال 1

- أوجّه الطلبة إلى المثال 1، وأسأل بعض الطلبة السؤال الوارد في الفرع 1 من المثال، ثم أبين أنّ الإجابات اختلفت، ما يدلّ على أنّ هذا السؤال سؤال إحصائي.
- أسأل بعض الطلبة السؤال الوارد في الفرع 2 من المثال وأستمع لبعض الإجابات، وأبين لهم أنّ الإجابة واحدة ولا تتغيّر، ما يدلّ على أنّ هذا السؤال سؤال غير إحصائي.

التقويم التكويني:



أطلب إلى الطلبة حلّ تدريب (أتحقّق من فهمي) بعد كلّ مثال. أختار بعض الإجابات التي تحتوي على أخطاء مفاهيمية، وأناقش الطلبة فيها على اللوح. لا أذكر اسم صاحب الحلّ أمام الصفّ تجنباً لإحراجهم.



- أسأل الطلبة: من منكم زار حديقة الأمير هاشم للطيور؟ ومن منكم زار حديقة الحيوانات؟ وماذا شاهدتم هناك؟
- أطلب إلى أحد الطلبة قراءة المثال 2، ثم أوضح لهم المطلوب في المسألة، ثم أوجه إليهم الأسئلة الآتية، وأطلب إليهم تحديدها إذا كانت إحصائية أم غير إحصائية.

« أين تقع حديقة الأمير هاشم للطيور؟ غير إحصائي.

« كم عدد الطيور المهاجرة فوق الأردن في كل عام؟ إحصائي.

الوَخْذَةُ 5



مثال 2: من الحياة

حدائق: تحوي حديقة الأمير هاشم للطيور عدّة أنواع، وتُستقبل العديد من الزوّار يوميًا. أكتب سؤالًا إحصائيًا لزوّار الحديقة، وسؤالًا آخر غير إحصائي.

السؤال الإحصائي: أي طيور الحديقة تُفضّل؟

السؤال هنا عن الطيور المُفضّلة، وقد تختلف الإجابة من شخصٍ إلى آخر. إذن: فهو سؤال إحصائي.

السؤال غير الإحصائي: كم طيرًا في الحديقة؟

السؤال هنا عن عدد الطيور، وهو ثابت ولا يتغير، لذا، فهو ليس سؤالًا إحصائيًا.

أتحقق من فهمي:

توافد عددٌ من المُشجّعين إلى ملعب كرة القدم لحضور مباراة. أكتب للمُشجّعين سؤالًا إحصائيًا، وسؤالًا آخر غير إحصائي. سؤال إحصائي: كم عدد اللاعبين في الفريق الواحد؟ سؤال غير إحصائي: كم عدد اللاعبين في الفريق الواحد؟ هذه أمثلة عن الإجابات، وقد تختلف من طالب إلى آخر.

أَتَدَرَّبُ

وأحلّ المسائل

أيّ السؤالين يُمثّل سؤالًا إحصائيًا في كلِّ مما يأتي؟ أبرّر إجابتي.

1 (a) كم عدد الأشجار في حديقة المدرسة؟ غير إحصائي

(b) كم عدد الأشجار في حديقة منزلك؟ إحصائي لأن الإجابات مختلفة

2 (a) كم ساعة شاهدت التلفاز هذا اليوم؟ إحصائي

(b) كم ساعة شاهد خالد التلفاز في يوم السبت؟ غير إحصائي

أكتب سؤالًا إحصائيًا عن كلِّ موقفٍ من المواقف الآتية:

3 سجّلت المُعلّمة موعد استيقاظ طالباتها من النوم صباحًا في أي ساعة استيقظت اليوم؟

4 سجّلت مها الرياضة التي تمارسها طالبات صفها. ما الرياضة التي تمارسها؟

5 سجّلت أحمّد عدد الطلّاب في ساحة المدرسة، طوال الأسبوع خلال الاشتراكية.

ما عدد الطلبة داخل ساحة المدرسة خلال الاستراحة طوال الأسبوع؟

4 التدريب

أتدرب وأحلّ المسائل:

- أوجه الطلبة إلى فقرة (أتدرب وأحلّ المسائل)، ثم أطلب إليهم حل المسائل (1-5) ضمن مجموعات ثنائية داخل الغرفة الصفية؛ فهذه المسائل تحديداً ترتبط ارتباطاً مباشراً بأمثلة الدرس، وهي تُستعمل خاصةً لتدريب الطلبة على المفاهيم نفسها، بصرف النظر عما إذا كانت الأسئلة فردية أم زوجية.

- إذا واجه الطلبة صعوبة في حل أيّ مسألة، فإنني أختار أحد الطلبة ممن تمكّن/ تمكّنت من حل المسألة؛ لمناقشة استراتيجيته/ استراتيجيتها في حل المسألة على اللوح، مُحفّزاً الطلبة على طرح أيّ تساؤل عن خطوات الحل المُقدّمة من الزميل/ الزميلة.

الواجب المنزلي:

أستعين بالجدول الآتي لتحديد الواجب المنزلي للطلبة بحسب مستوياتهم:

المستويات	الأسئلة
دون المتوسط	كتاب الطالب: (6 - 9) كتاب التمارين: (1 - 7)
ضمن المتوسط	كتاب الطالب: (6 - 10) كتاب التمارين: (8 - 10)
فوق المتوسط	كتاب الطالب: (6 - 12) كتاب التمارين: (11 - 13)

مهارات التفكير العليا

- أوجّه الطلبة إلى فقرة (مهارات التفكير العليا)، ثم أطلب إليهم حل المسائل (11 - 12).
- أرصد آية أفكار غير تقليدية من الطلبة، ثم أطلب إلى هؤلاء الطلبة كتابة هذه الأفكار على اللوح.
- أناقش سؤال تبرير، لمساعدة الطلبة ذوي المستوى دون المتوسط؛ بأن أسأل الطلبة عن أسئلة إحصائية إجابته عددية، وأخرى إجابته غير عددية، وأتقبل إجابات الطلبة الصحيحة وأعززها.
- في سؤال مسألة مفتوحة، أساعد الطلبة بأن أطلب إليهم كتابة أسئلة إحصائية، وأطلب إليهم ذكر عدد الإجابات وأتوصل معهم إلى سؤال له إجابتان فقط.

التطبيق:

- أوجّه الطلبة إلى تنفيذ النشاط I من أنشطة التدريب الإضافية.

الإثراء

5

- أوجّه السؤال الآتي لإثراء تعلم الطلبة:
« أكتب سؤالين إحصائيين وسؤالين غير إحصائيين. تختلف الإجابات.

مشروع الوحدة:

أطلب إلى الطلبة تنفيذ الخطوة I من خطوات المشروع.

الختام

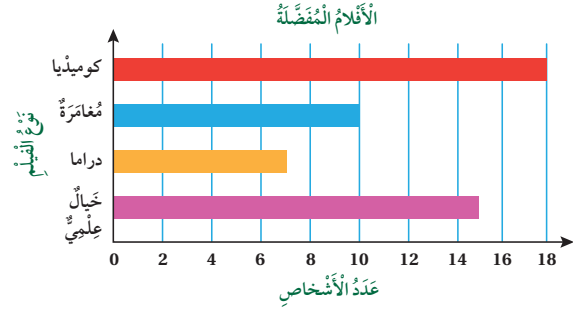
6

- أستعمل السؤال في فقرة **أتحدّث**، للتأكد من فهم الطلبة لموضوع الدرس، وأشجعهم على التعبير عن رأيهم.
- إذا لزم الأمر، أتحدّق من فهم الطلبة بتوجيه أسئلة، مثل:

« أحدد نوع كل من الأسئلة الآتية مع التبرير:

- 1 ما درجة غليان الماء؟ غير إحصائي.
- 2 ما عدد القارات على الكرة الأرضية؟ غير إحصائي.
- 3 كم يبعد منزلك عن المدرسة؟ إحصائي.

أفلام: يوضّح التمثيل بالأعمدة أدناه، نتائج دراسة حول أنواع الأفلام المفضّلة. استعمل التمثيل لحلّ الأسئلة في ما يأتي:



6 أكتب سؤالاً إحصائياً، يُمكن استعماله للسؤال عن البيانات. ما نوع الأفلام المفضّلة لديك؟

7 أجب عن السؤال السابق. تختلف الإجابات.

8 كم يزيد عدد الأشخاص الذين فضّلوا الخيال العلمي على المغامرة؟ $15 - 10 = 5$

9 كم عدد الأشخاص الذين أجريت عليهم الدراسة؟ 50

10 أعود إلى فقرة (استكشف)، وأكتب السؤال الذي يُمكن أن يكون المعلم قد سأله لطلّبي؟ كم ساعة تدرّب خلال الأسبوع؟


11 تبرير: يقول صالح إن السؤال الإحصائي يجب أن تكون له إجابة عددية، هل هو على صواب؟ أبرر إجابتي. ليست بالضرورة، فقد تكون عددية أو غير عددية، مثل: ما نوع الفاكهة المفضّلة لديك؟

12 مسألة مفتوحة: أكتب سؤالاً إحصائياً له إجابتان فقط. إجابة ممكنة: ما الرياضة المفضّلة لديك كرة القدم أم كرة السلة؟

أتحدّث، كيف أحدد إذا كان السؤال إحصائياً أم لا؟

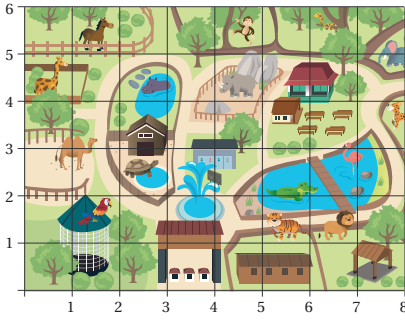
معلومة

الخيال العلمي هو أسلوب أدبي يكون فيه التصوّر (الفنّ) مبنياً على الاكتشافات العلمية التخييلية، مثل الحياة على الكواكب الأخرى، وقد ألهم هذا الأسلوب العلماء وقادهم إلى بعض الاكتشافات.



مهارات التفكير العليا

أتحدّث: يكون السؤال غير إحصائي إن كان له إجابة واحدة باختلاف الزمان أو المكان أو الشخص المجيب، ويكون إحصائي إن اختلفت إجابته باختلاف الأشخاص الموجه لهم السؤال أو باختلاف الزمان أو المكان.



اَسْتَكْشِفْ

يُمَثِّلُ الشَّكْلُ الْمُجَاوِرُ خَرِيْطَةً لِحَدِيْقَةِ حَيَوَانٍ. كَيْفَ أَصْفُ مَوْقِعَ الْجَمَلِ فِي الْحَدِيْقَةِ؟

مَعْرِزَةُ الدَّرْسِ

أَقْرَأُ النَّقَاطَ عَلَى الْمُسْتَوَى الْإِحْدَائِيّ، وَأَمَثِّلُهَا.

الْمُصْطَلَحَاتُ

الْمُسْتَوَى الْإِحْدَائِيّ، الْمَحْوَرُّ x ، الْمَحْوَرُّ y ، نَقْطَةُ الْأَصْلِ، رَوْجٌ مُرْتَبِّ، الْإِحْدَائِيّ x ، الْإِحْدَائِيّ y .

اَتَعَلَّمْ

تُسَمَّى شَبْكَةُ الْخُطُوطِ الْمُتَقَابِلَةِ فِي

الشَّكْلِ الْمُجَاوِرِ الْمُسْتَوَى الْإِحْدَائِيّ

(coordinate plane)، حَيْثُ يُسَمَّى

الْمَحْوَرُّ الْأَفْقِيّ الْمَحْوَرُّ x (x-axis)،

وَالْمَحْوَرُّ الرَّأْسِيّ الْمَحْوَرُّ y (y-axis).

كُلُّ نَقْطَةٍ فِي الْمُسْتَوَى الْإِحْدَائِيّ يُمْكِنُ

تَحْدِيدُهَا بِرَوْجٍ مُرْتَبِّ (order pair) مِنْ

الأَعْدَادِ (x, y) . الْإِحْدَائِيّ x (x-coordinate) هُوَ الْعَدَدُ الْأَوَّلُ فِي الرَّوْجِ الْمُرْتَبِّ، وَيُمَثِّلُ الْبُعْدَ الْأَفْقِيّ

لِلنَّقْطَةِ عَنِ 0 بِاتِّجَاهِ الْمَحْوَرِّ x ، وَالْعَدَدُ الثَّانِي فِي الرَّوْجِ الْمُرْتَبِّ هُوَ الْإِحْدَائِيّ y (y-coordinate)، وَيُمَثِّلُ

الْبُعْدَ الْعَمُودِيّ لِلنَّقْطَةِ عَنِ 0 بِاتِّجَاهِ الْمَحْوَرِّ y .

وَيَتَقَابَعُ الْمَحْوَرُّ x وَالْمَحْوَرُّ y فِي النَّقْطَةِ $(0, 0)$ ،

وَتُسَمَّى نَقْطَةُ الْأَصْلِ (origin).

 (x, y) الْإِحْدَائِيّ x الْإِحْدَائِيّ y

نَتَاجَاتُ الدَّرْسِ:

- تَعْرِفُ الْمُسْتَوَى الْإِحْدَائِيّ وَمَكُونَاتِهِ.
- قَرَأْتَ النِّقَاطَ عَلَى الْمُسْتَوَى الْإِحْدَائِيّ وَتَمَثَّلْتَهَا.

نَتَاجَاتُ التَّعَلُّمِ الْقَبْلِيِّ:

- خَطُّ الْأَعْدَادِ.
- تَمَثِيلُ الْبَيَانَاتِ بِالنِّقَاطِ.

مَرَاجِعَةُ التَّعَلُّمِ الْقَبْلِيِّ وَمَعَالِجَةُ الْفَاقِدِ التَّعْلِيمِيِّ:

أَسْتَرْشِدُ بِالْإِجْرَاءَاتِ الْمَبِينَةِ فِي مَقْدَمَةِ دَلِيلِ الْمَعْلَمِ (الصفحتان 1 و 2) الْمُتَعَلِّقَةِ بِمَرَاجِعَةِ التَّعَلُّمِ الْقَبْلِيِّ وَمَعَالِجَةِ الْفَاقِدِ التَّعْلِيمِيِّ لَدَى الطَّلَبَةِ.

التَّهْيِئَةُ

1

- أَعْرَضُ صُورَةَ لَعْبَةِ السَّلْمِ وَالثَّعْبَانِ أَمَامَ الطَّلَبَةِ، وَأَسْأَلُ: إِذَا وَقَفْتَ عَلَى الْمَرْبَعِ الْأَوَّلِ وَأَرَدْتَ الْوَصُولَ إِلَى رَأْسِ الْأَفْعَى الْكَبِيرَةِ؛ فَمَا الْخُطُوطُ الَّتِي سَتَخْطُوهَا بِشَرَطِ أَنْ تَمْشِيَ إِلَى الْيَمِينِ أَوَّلًا، ثُمَّ إِلَى الْأَعْلَى؟
- أَسْتَمِعُ لِإِجَابَاتِ الطَّلَبَةِ؛ سَيَجِيبُ أَحَدُهُمْ: خُطُوتَانِ إِلَى الْيَمِينِ وَ4 خُطُوطٍ إِلَى الْأَعْلَى.

الِاسْتِكْشَافُ

2

- أُوَجِّهُ الطَّلَبَةَ إِلَى قَرَاءَةِ الْمَسْأَلَةِ فِي فِقْرَةِ اَسْتَكْشِفْ، وَأَسْتَمِعُ إِلَى إِجَابَاتِ الطَّلَبَةِ حَوْلَ مَوْقِعِ الْجَمَلِ، وَأَتَقَبَّلُ إِجَابَاتِ الطَّلَبَةِ إِلَى أَنْ أَتَوَصَّلَ مَعَهُمْ لِلِإِجَابَةِ الَّتِي تَرْتَبِطُ بِالْإِحْدَائِيَّاتِ، وَالْأَزْوَاجِ الْمُرْتَبَةِ.

- أرسم على اللوح الربع الأول من المستوى الإحداثي. وأشرح مكوناته وهي: نقطة الأصل $(0, 0)$ ، الإحداثي x ، الإحداثي y ، وأذكر أن اسم هذه الشبكة هو المستوى الإحداثي، وأي نقطة عليه توصف بإحداثيين x و y ، وتكتب على صورة زوج مرتب (x, y) ؛ لذا، سُميت الزوج المرتب، وأنبه إلى أن الترتيب مهم جداً، وأسجل المصطلحات على اللوح.

تعزيز اللغة ودعمها:

- أكرّر المصطلحات: (المستوى الإحداثي، المحور x ، المحور y ، الزوج المرتب (x, y) ، الإحداثي x ، الإحداثي y ، نقطة الأصل $(0,0)$ أمام الطلبة، وأحرص على استعمالها من قبلهم.

مثال 1

- أرسم المستوى الإحداثي الوارد في المثال 1 على اللوح، وأشرح خطوات تحديد إحداثي كل من النقطتين D و F .

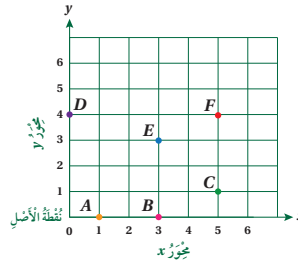
إرشاد: يساعد استعمال لوح متنقل خاص بالمستوى الإحداثي على توفير الوقت المستفاد في رسم المحورين الإحداثيين وتقسيمهما، ويمكن إعداده بسهولة برسم المستوى الإحداثي على طبق من الكرتون المقوى ثم تغطيته بلاصق شفاف.

التقويم التكويني:

- أطلب إلى الطلبة حلّ تدريب (أتحقّق من فهمي) بعد كلّ مثال. أختار بعض الإجابات التي تحتوي على أخطاء مفاهيمية، وأناقش الطلبة فيها على اللوح. لا أذكر اسم صاحب الحلّ أمام الصفّ تجنّباً لإحراجهم.

مثال 2

- أرسم المستوى الإحداثي على اللوح، وأبين خطوات تمثيل النقطتين A و C في المستوى الإحداثي.



مثال 1 أكتبُ إحداثي كلِّ من النّقاط الآتية على المُستوى الإحداثي المُجاور.

1 النّقطة F :

أبدأً من نقطة الأصل وأتحركُ يميناً على المحور x إلى أن أصبح أسفَلَ النّقطة F عند التّدرّج 5، الذي يُمثّل الإحداثي x للنّقطة F . أتحركُ من التّدرّج 5 على المحور x إلى أعلى، حتّى أصل إلى النّقطة F وأقرأ التّدرّج المُقابل على المحور y وهو 4، الذي يُمثّل الإحداثي y للنّقطة F . إذن: النّقطة F يُمثّلها الرّوج المُرتّب $(5, 4)$.

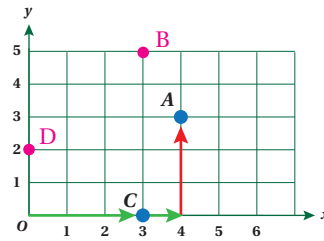
2 النّقطة D :

أبدأً من نقطة الأصل، وأتحركُ إلى أعلى حتّى أصل إلى D لأنّها تقع فوق نقطة الأصل مباشرةً؛ أي إن الإحداثي x للنّقطة D صفر. وأقرأ التّدرّج المُقابل على المحور y وهو 4، الذي يُمثّل الإحداثي y للنّقطة D . إذن: النّقطة D يُمثّلها الرّوج المُرتّب $(0, 4)$.

$A(1, 0)$ $B(3, 0)$ $C(5, 1)$ $E(3, 3)$

أتحقّق من فهمي: أكتبُ إحداثيات النّقاط A, B, C, E على المُستوى الإحداثي في المثال السّابق.

وَيُمْكِنُ تَمَثِيلُ نَقْطَةٍ فِي الْمُسْتَوَى الْإِحْدَائِيِّ بِالْحَرَكَةِ بَدَأً مِنْ نَقْطَةِ الْأَصْلِ $(0, 0)$ أَفْقِيًّا أَوْ رَاسِيًّا، حَسَبَ إِحْدَائِي النِّقْطَةِ الَّتِي أُرِيدُ تَمَثِيلَهَا.



مثال 2 أُمثّل الأزواج المُرتّبة الآتية في المُستوى الإحداثي المُجاور:

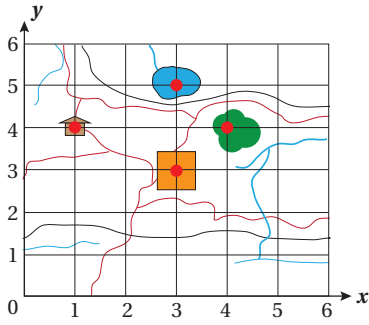
1 $A(4, 3)$

لتمثيل النّقطة $(4, 3)$ في المُستوى الإحداثي؛ نعيّن العدّد 4 على المحور الأفقي، ثم نتجه ثلاث وحدات إلى الأعلى؛ فنصل إلى موقع A .

2 $C(3, 0)$

لتمثيل النّقطة $(3, 0)$ في المُستوى الإحداثي؛ نتجه إلى اليمين 3 وحدات ولا نتحركُ إلى الأعلى؛ لأنّ الإحداثي على المُستوى الرّأسي صفر.

أتحقّق من فهمي: أُمثّل الرّوجين المُرتّبين $B(3, 5)$ ، $D(0, 2)$ في المُستوى الإحداثي في المثال السّابق.



مِثَالٌ 3: مِنَ الْخَبَايَةِ

أَسْتَعْمِلُ الْمُسْتَوَى الْإِحْدَائِيَّ الْمُجَاوِرَ الَّذِي يُمَثِّلُ خَرِيْطَةً لِمَدِيْنَةٍ؛ لِتَسْوِيَةِ الرُّوْجِ الْمُرْتَبِّ الَّذِي يُمَثِّلُ كُلًّا مِمَّا يَأْتِي:

1 البَحِيرَةُ

أَبْدَأُ مِنْ نُقْطَةِ الْأَصْلِ، وَأَتَحَرَّكَ يَمِيْنًا عَلَى الْمَوْحُوْر x حَتَّى أَصِلَ أَسْفَلَ الْبَحِيرَةِ عِنْدَ التَّدْرِيجِ 3 الَّذِي يُمَثِّلُ الْإِحْدَائِيَّ x لِلْبَحِيرَةِ، ثُمَّ أَرْتَفِعُ إِلَى الْأَعْلَى لِأَصِلَ مُتَّصَفَ الْبَحِيرَةِ، وَأَقْرَأُ التَّدْرِيجَ الْمُقَابِلَ عَلَى الْمَوْحُوْر y وَهُوَ 5، الَّذِي يُمَثِّلُ الْإِحْدَائِيَّ y لِلْبَحِيرَةِ.

إِذَنْ: إِحْدَائِيًّا الْبَحِيرَةَ (3, 5)

2 الْغَابِيَةُ

أَبْدَأُ مِنْ نُقْطَةِ الْأَصْلِ، وَأَتَحَرَّكَ يَمِيْنًا عَلَى الْمَوْحُوْر x حَتَّى أَصِلَ أَسْفَلَ الْغَابِيَةِ عِنْدَ التَّدْرِيجِ 4 الَّذِي يُمَثِّلُ الْإِحْدَائِيَّ x لِلْغَابِيَةِ، ثُمَّ أَرْتَفِعُ إِلَى الْأَعْلَى لِأَصِلَ مُتَّصَفَ الْغَابِيَةِ، وَأَقْرَأُ التَّدْرِيجَ الْمُقَابِلَ عَلَى الْمَوْحُوْر y وَهُوَ 4، الَّذِي يُمَثِّلُ الْإِحْدَائِيَّ y لِلْغَابِيَةِ.

إِذَنْ: إِحْدَائِيًّا الْغَابِيَةَ (4, 4)

أَتَحَقَّقُ مِنْ فَهْمِي:

أَسْتَعْمِلُ الْمُسْتَوَى الْإِحْدَائِيَّ أَعْلَاهُ الَّذِي يُمَثِّلُ خَرِيْطَةً لِمَدِيْنَةٍ؛ لِتَسْوِيَةِ الرُّوْجِ الْمُرْتَبِّ الَّذِي يُمَثِّلُ كُلًّا مِمَّا يَأْتِي:

3 الْمُسْتَشْفَى (3, 3)

4 الْمَنْزِلُ (1, 4)

- أستعمل جهاز العرض - إن أمكن - لعرض المثال، وكيفية تحديد نقطة على المستوى.

إرشادات:

- إذا توفر جهاز Data Show يمكن عرض الأشكال في الأمثلة باستعماله.
- يمكنني تزويد الطلبة بورقة المصادر 12: المستوى الإحداثي، لاستعمالها أثناء حل المسائل.

التدريب

4

أدرب وأحلّ المسائل:

- أوجّه الطلبة إلى فقرة (أدرب وأحلّ المسائل)، ثم أطلب إليهم حل المسائل (1-7) ضمن مجموعات ثنائية داخل الغرفة الصفية؛ فهذه المسائل تحديدًا ترتبط ارتباطًا مباشرًا بأمثلة الدرس، وهي تُستعمل خاصةً لتدريب الطلبة على المفاهيم نفسها، بصرف النظر عما إذا كانت الأسئلة فردية أم زوجية.
- إذا واجه الطلبة صعوبة في حل أيّ مسألة، فإنني أختار أحد الطلبة ممن تمكّن/ تمكّنت من حل المسألة؛ لمناقشة استراتيجيته/ استراتيجيتها في حل المسألة على اللوح، مُحفِّزًا الطلبة على طرح أيّ تساؤل عن خطوات الحل المُقدّمة من الزميل/ الزميلة.

الواجب المنزلي:

أستعين بالجدول الآتي لتحديد الواجب المنزلي للطلبة بحسب مستوياتهم:

المستويات	الأسئلة
دون المتوسط	كتاب الطالب: 8 كتاب التمارين: (1 - 8)
ضمن المتوسط	كتاب الطالب: 8, 9 كتاب التمارين: (6 - 10)
فوق المتوسط	كتاب الطالب: 9, 10 كتاب التمارين: (10 - 15)

مهارات التفكير العليا

- أوجّه الطلبة إلى فقرة (مهارات التفكير العليا)، ثم أطلب إليهم حل المسائل (10 - 9).
- أرصد أيّة أفكار غير تقليدية من الطلبة، ثم أطلب إلى هؤلاء الطلبة كتابة هذه الأفكار على اللوح.
- أناقش سؤال 9 تبرير، لمساعدة الطلبة ذوي التحصيل دون المتوسط؛ بأن أسأل الطلبة عن موقع نقطة وكيفية تحديده على المستوى الإحداثي، آخذ النقطة وأعكس إحداثياتها وأطلب إليهم تحديد موقعها على المستوى الإحداثي ثم مقارنة الإحداثيين.
- في سؤال 10 مسألة مفتوحة، أساعد الطلبة بأن أطلب رسم شكل سداسي رؤوسه على نقاط محددة من المستوى الإحداثي، ثم أطلب إليهم تسمية الشكل وتحديد الزوج المرتب لكل نقطة من الرؤوس، وأبين لهم أنّ إجاباتهم تختلف باختلاف رسوماتهم.

التطبيق:

- أوجّه الطلبة إلى تنفيذ النشاط 2 من أنشطة التدريب الإضافية.

الإثراء

5

- أوجّه السؤال الآتي لإثراء تعلّم الطلبة:

« أحدد رؤوس مربع وأرسمه على المستوى، مع ذكر إحداثيات الرؤوس وطول ضلع المربع. تختلف الرسوم ولكن يجب مراعاة الدقة في الرسم.»

مشروع الوحدة:

- أطلب إلى الطلبة تنفيذ الخطوة 2 من خطوات المشروع.

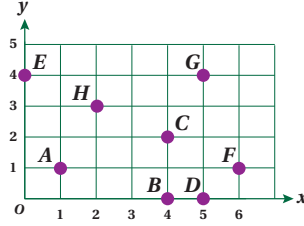
الختام

6

- أستعمل السؤال في فقرة **أتحدّث**، لإعطاء فرصة للطلبة للتعبير عن أهميّة استعمال الإشارات لتكوين الجدول التكراري، والفرق بين لوحة الإشارات والجدول التكراري.



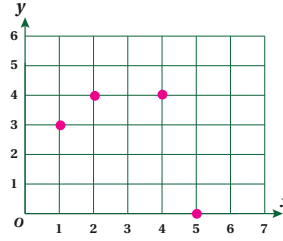
أَتَدْرِبُ وَأَحْلُ الْمَسَائِلِ



أَسْتَعْمِلُ الْمُسْتَوَى الْإِحْدَائِيَّ الْمَجَاوِرَ؛ لِتَسْوِيَةِ النَّقْطَةِ الَّتِي يُمَثِّلُهَا الرَّوْجُ الْمُرْتَّبُ فِي كُلِّ مِمَّا يَأْتِي:

- | | | | |
|---|----------|---|----------|
| 1 | (1, 1) A | 2 | (5, 0) D |
| 3 | (0, 4) E | 4 | (6, 1) F |
| 5 | (5, 4) G | 6 | (4, 0) B |

7 أَسْتَعْمِلُ الْمُسْتَوَى الْإِحْدَائِيَّ أَعْلَاهُ؛ لِتَسْوِيَةِ الرَّوْجِ الْمُرْتَّبِ الَّتِي يُمَثِّلُ كُلًّا مِنْ النَّقْطَتَيْنِ C, B . B (4, 0), C (4, 2)



8 أُمَثِّلُ الْأَزْوَاجَ الْمُرْتَّبَةَ الْآتِيَةَ فِي الْمُسْتَوَى الْإِحْدَائِيَّ الْمَجَاوِرَ:

- (2, 4) (5, 0) (1, 3) (4, 4)

مهارات التفكير العليا

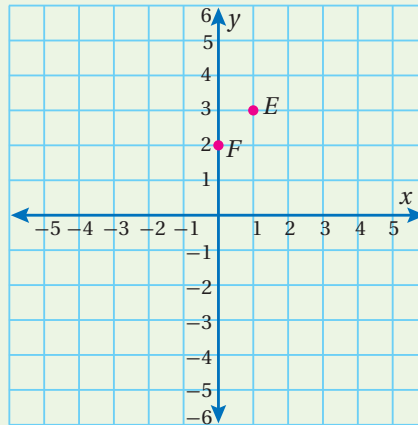
- 9 تَبْرِيرٌ: مَاذَا يَخْتَلِفُ الرَّوْجُ الْمُرْتَّبُ (2, 5) عَنِ الرَّوْجِ الْمُرْتَّبِ (5, 2)؟ أُبْرِّرُ إِجَابَتِي. الزوج المرتب (5,2) فيه الإحداثي x قيمته 5، وقيمة الإحداثي y هي 2، بينما في الزوج المرتب (2,5) فالعكس تمامًا، حيث الإحداثي x قيمته 2، والإحداثي y قيمته 5
- 10 مَسْأَلَةٌ مَفْتُوحَةٌ: أَرَسِّمُ شَكْلًا سُدَائِسِيًّا فِي الْمُسْتَوَى الْإِحْدَائِيَّ، ثُمَّ أُحَدِّدُ إِحْدَائِيَّاتِ رُؤُوسِهِ. أنظر إلى الملحق.

أَتَحَدَّثُ: كَيْفَ أَسْتَعْمِلُ الْإِحْدَائِيَّ x، وَالْإِحْدَائِيَّ y؛ لِيُوصَفَ الْمَسَافَةُ بَيْنَ النَّقْطَةِ (3, 2) وَكُلِّ مِنَ الْمَحْوَرَّيْنِ x, y؟ تَبْعِدُ النَّقْطَةُ وَحَدَاتٍ عَنِ الْمَحْوَرِّ x، وَتَبْعِدُ 3 وَحَدَاتٍ عَنِ الْمَحْوَرِّ y، يُعْبَرُ الطَّالِبُ بِلِغَتِهِ الْخَاصَّةِ.

124

- إذا لزم الأمر، أتحمق من فهم الطلبة بتوجيه أسئلة، مثل:

1 أمثل الأزواج المرتبة الآتية في المستوى الإحداثي: A(2, 4), B(0, 1), C(3, 0)



« أكتب إحداثيي كلٍّ من النقاط الآتية على المستوى الإحداثي المجاور:

- 2 النقطة F (0, 2)
- 3 النقطة E (1, 3)

أَسْتَكْشِفُ



العام	عدد السُّكَّانِ بِالْآلَافِ
2014	293
2015	318
2016	326
2017	334
2018	342

يَبِينُ الْجَدْوَلُ الْمُجَاوِرُ عَدَدَ سُكَّانِ مِحَاظَةِ الْكَرْكِ الْمُقَدَّرِ بِالْآلَافِ. كَيْفَ أُمْتَلَّ عَدَدُ السُّكَّانِ بَيَانِيًّا بِالْخُطُوطِ؟ وَكَيْفَ أَصِفُ التَّغْيِيرَ فِي عَدَدِ السُّكَّانِ مِنْ عَامِ 2014، إِلَى عَامِ 2018؟

فِكْرَةُ الدَّرْسِ

أُمْتَلُّ الْبَيَانَاتِ بِالْخُطُوطِ، ثُمَّ أَقْرُؤُهَا وَأَفْسِّرُهَا.

الْمُضْطَلِحَاتُ

التَّمثِيلُ بِالْخُطُوطِ

أَتَعَلَّمُ



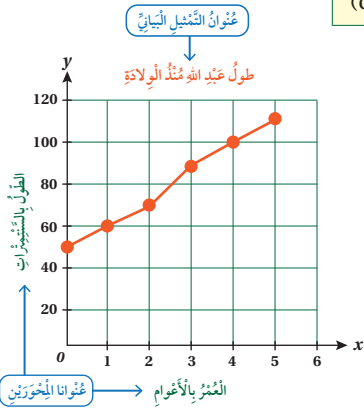
يُسْتَعْمَلُ التَّمثِيلُ بِالْخُطُوطِ (line graph)؛ لِتَوْضِيحِ تَغْيِيرِ مَجْمُوعَةٍ مِنَ الْبَيَانَاتِ مَعَ مُرُورِ الزَّمَنِ، كَتَغْيِيرِ دَرَجَاتِ الْحَرَارَةِ، وَتَغْيِيرِ عَدَدِ السُّكَّانِ. وَيُمَثَّلُ الزَّمَنُ عَادَةً عَلَى الْمِحْوَرِ X، وَتُمَثَّلُ الْبَيَانَاتُ الَّتِي تُرِيدُ دِرَاسَتَهَا عَلَى الْمِحْوَرِ Y.

مِثَالٌ 1: مِنَ الْحَيَاةِ

سَجَلَتْ عَائِلَةُ عَبْدِ اللَّهِ طَوْلَهُ مُنْذُ الْوِلَادَةِ فِي الْجَدْوَلِ أَدْنَاهُ:

العُمُرُ بِالْأَعْوَامِ	0	1	2	3	4	5
الطَّوْلُ (cm)	50	60	70	90	100	110

أُمْتَلُّ الْبَيَانَاتِ بِالْخُطُوطِ.



الخطوة 1 أَرَسُّمُ مِحْوَرَيْنِ مُتَعَامِدَيْنِ مُدْرَجَيْنِ؛ يُمَثَّلُ التَّدْرِيجُ عَلَى الْمِحْوَرِ الْأَفْقِيِّ الْعُمُرَ بِالْأَعْوَامِ، وَيُمَثَّلُ الْمِحْوَرُ الرَّأْسِيُّ الطَّوْلَ بِالسَّنْتِيْمِاتِ.

الخطوة 2 أَكْتُبُ عُنْوَانًا مُنَاسِبًا لِكُلِّ مِحْوَرٍ وَعُنْوَانًا لِتَمثِيلِ الْبَيَانِيِّ.

الخطوة 3 أَسْتَعْمِلُ الْجَدْوَلِ، وَأَحَدُّ عَلَى الشَّكْلِ مَجْمُوعَةً مِنَ النِّقَاطِ كُلِّ مِنْهَا يُمَثَّلُ أَحَدَ الْأَعْوَامِ وَطَوْلَ عَبْدِ اللَّهِ ذَلِكَ الْعَامِ، ثُمَّ أَصِلُ بَيْنَ هَذِهِ النِّقَاطِ بِقِطْعِ مُسْتَقِيمَةٍ؛ لِأَحْضَلِ عَلَى التَّمثِيلِ بِالْخُطُوطِ.

نَتَاجَاتُ الدَّرْسِ:

- تمثيل البيانات بالخطوط.
- قراءة بيانات ممثلة بالخطوط وتفسيرها.

نَتَاجَاتُ التَّعَلُّمِ الْقَبْلِيِّ:

المستوى الإحداثي، تمثيل النقاط على شبكة الإحداثيات.

مَرَاجِعَةُ التَّعَلُّمِ الْقَبْلِيِّ وَمَعَالِجَةُ الْفَاقِدِ التَّعْلِيمِيِّ:

أسترشد بالإجراءات المبيّنة في مقدمة دليل المعلم (الصفحتان 1 و 2) المتعلقة بمراجعة التعلم القبلي ومعالجة الفاقد التعليمي لدى الطلبة.

1 التَّهْيِئَةُ

- أحضر أحد الصحف المحلية أو المجالات أو من مواقع على الإنترنت، وأعرض على الطلبة بعض التمثيلات بالخطوط لإحدى الدراسات، وأسأل: هل يعلم أحدكم ما معنى هذه الرسوم؟ أستمع لإجابات الطلبة.
- أبين أنّ هذه الأشكال لتمثيل بالخطوط لبيانات، وهي عملية تُسهّل قراءة المعلومات وتفسيرها، وأنّ ما ستقوم به في هذا اليوم هو تعليم الطلبة كيف يُمثّلون ويقرؤون هذه البيانات.

2 الاستكشاف

- أوجّه الطلبة إلى قراءة المسألة في فقرة **أستكشف**، وأبين أنّه للإجابة عن هذا السؤال بسهولة، يُفضّل تمثيل البيانات بالخطوط.

- أوضح أسباب استعمال التمثيل بالخطوط وكيفية تمثيل البيانات بالخطوط، وأن المحور الأفقي يُستعمل عادة للتعبير عن الزمن، والمحور الرأسي للتعبير عن المتغير الآخر كعدد السكان أو المدخول وغيره. وأنه ليس بالضرورة أن يكون الترقيم مبتدئاً من الواحد. وفي بعض الحالات، يُمكنني ضغط بداية المحور حسب حاجات الترقيم.

تعزيز اللغة ودعمها :

- أكرّر المصطلح: (التمثيل بالخطوط) أمام الطلبة، وأحرص على استعماله من قبلهم.

مثال 1

- أوجه الطلبة إلى المثال 1، وبعد قراءته أجري التمثيل بالخطوط، إمّا على اللوح باستعمال المسطرة والألوان وإمّا على لوحة رسم بياني مكبرة، خطوة تلو الأخرى، وأطلب إلى الطلبة تنفيذ الخطوات بعدي خطوة بخطوة مع متابعة رسوهم.
- يُمكنني طلب المساعدة إلى الطلبة من ذوي المستوى فوق المتوسط في متابعة زملائهم. يُفضّل استعمال الألوان في رسم النقاط والخط الواصل بينها.

إرشادات:

- إذا توفر جهاز Data Show يُمكن عرض الأشكال في الأمثلة باستعماله.
- يُمكنني تزويد الطلبة بورقة المصادر 12: المستوى الإحصائي، لاستعمالها أثناء حل المسائل.

التقويم التكويني:

- أطلب إلى الطلبة حلّ تدريب (أتحقّق من فهمي) بعد كلّ مثال. أختار بعض الإجابات التي تحتوي على أخطاء مفاهيمية، وأناقش الطلبة فيها على اللوح. لا أذكر اسم صاحب الحلّ أمام الصفّ تجنباً لإحراجهم.



أتحقّق من فهمي: سجّلت سميّة طول نبتة بالمليترات في الجدول الآتي، أمثل البيانات الواردة فيه بالخطوط:



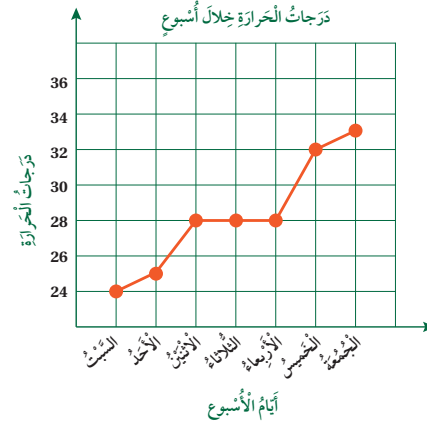
اليوم	السبت	الأحد	الاثنين	الثلاثاء	الأربعاء	الخميس
الطول (mm)	10	15	25	30	35	40

أمثل البيانات بالخطوط. انظر إلى الملحق.

نحتاج في الكثير من المواقف الحيّاتيّة إلى قراءة تمثيلات بالخطوط، واستنتاج بيانات منها.

مثال 2: من الحياة

درجات الحرارة: سجّل عمر درجة الحرارة في مدينتي خلال الأسبوع واملأها بيانياً بالخطوط. أجب عن الأسئلة الآتية؛ باستعمال التمثيل بالخطوط أدناه:



1 ما أعلى درجة سجّلها عمر؟ 33°C .

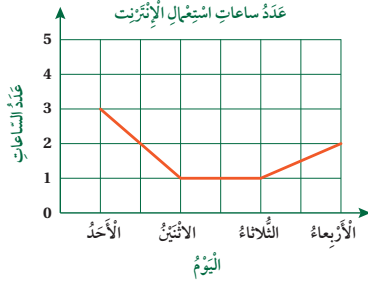
2 في أي يوم كانت درجة الحرارة 25°C ؟ الأحد.

3 ما التغيّر الذي طرأ على درجة الحرارة بين يومي الأربعاء والخميس؟ زيادة في درجة الحرارة بمقدار 4°C .



أَتَحَقَّقُ مِنْ فَهْمِي:

في ما يأتي تمثيل بالخطوط لعدد الساعات التي قضاها عبد الرحمن في استعمال الإنترنت خلال 4 أيام متتالية.



1 في أي الأيام قضى عبد الرحمن أطول وقت في استعمال

الإنترنت؟ الأحد

2 في أي يومين قضى عبد الرحمن الوقت نفسه في استعمال

الإنترنت؟ الإثنين والثلاثاء

3 كم يزيد الوقت الذي قضاها في استعمال الإنترنت يوم

الأحد على الوقت الذي قضاها يوم الأربعاء؟ ساعة واحدة

أَتَدْرِبُ

وأحل المسائل

مزارع: يبين الجدول أدناه إنتاج التفاح في إحدى مزارع الشسبوك في الأعوام 2013-2019:

العام	2013	2014	2015	2016	2017	2018	2019
الإنتاج بالطن	2	4	3	2	4	5	3

1 أمثل الجدول أعلاه بالخطوط. انظر إلى الملحق.

2 في أي عام كان إنتاج التفاح هو الأكبر؟ 2018

3 في أي عام كان إنتاج التفاح هو الأقل؟

2016 و 2013



4 التدريب

أدرب وأحل المسائل:

- أوجه الطلبة إلى فقرة (أدرب وأحل المسائل)، ثم أطلب إليهم حل المسائل (6-1) ضمن مجموعات ثنائية داخل الغرفة الصفية؛ فهذه المسائل تحديداً ترتبط ارتباطاً مباشراً بأمثلة الدرس، وهي تستعمل خاصة لتدريب الطلبة على المفاهيم نفسها، بصرف النظر عما إذا كانت الأسئلة فردية أم زوجية.
- إذا واجه الطلبة صعوبة في حل أي مسألة، فإنني أختار أحد الطلبة ممن تمكن/ تمكنت من حل المسألة؛ لمناقشة استراتيجيته/ استراتيجيتها في حل المسألة على اللوح، محفزاً الطلبة على طرح أي تساؤل عن خطوات الحل المقدمة من الزميل/ الزميلة.

الواجب المنزلي:

أستعين بالجدول الآتي لتحديد الواجب المنزلي للطلبة بحسب مستوياتهم:

المستويات	الأسئلة
دون المتوسط	كتاب الطالب: (7-9) كتاب التمارين: (1-4)
ضمن المتوسط	كتاب الطالب: (7-9) كتاب التمارين: (5-8)
فوق المتوسط	كتاب الطالب: 10, 11 كتاب التمارين: (5-8)

المفاهيم العابرة للمواد:

أؤكد على المفاهيم العابرة للمواد حيثما وردت في كتاب الطالب أو كتاب التمارين. في فقرة أتحقق من فهمي، أعزز الوعي بقضايا المهارات الحياتية والوعي الصحي لدى الطلبة، وأذكر أن الجلوس أمام أجهزة الكمبيوتر ساعات طويلة، قد يؤدي إلى عدة أمراض خطيرة وخصوصاً على الأطفال، منها الضرر اللاحق بالعيون والرقبة والأعصاب.

مهارات التفكير العليا

- أوجّه الطلبة إلى فقرة (مهارات التفكير العليا)، ثم أطلب إليهم حل المسائل (11 - 10).
- أرصد أية أفكار غير تقليدية من الطلبة، ثم أطلب إلى هؤلاء الطلبة كتابة هذه الأفكار على اللوح.
- أناقش سؤال 10 **تبرير**، لمساعدة الطلبة ذوي المستوى دون المتوسط؛ بأن أسأل الطلبة عن تقدير طول النبتة بعد 10 أيام ثم بعد 30 يومًا، وأتقبل إجابات الطلبة الصحيحة مع التبرير لكل إجابة، وأعززها.
- تُعدّ المسألة 11 **مسألة مفتوحة**، من مسائل العصف الذهني التي تُحفّز الطلبة نحو (البحث العلمي)، أستمع لأسئلتهم وأتقبل الإجابات جميعها. أشجّع الطلبة على مبدأ الفرضيات والبحث واستقصاء النتائج.

التطبيق:

- أوجّه الطلبة إلى تنفيذ النشاط 3 من أنشطة التدريب الإضافية.

5 الإثراء

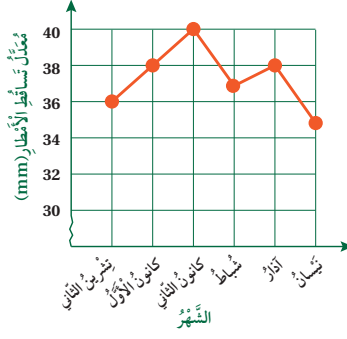
لإثراء تعلّم الطلبة أطلب إليهم كتابة مسألة حياتية لبيانات ممثلة بالخطوط. **إجابات مختلفة.**

مشروع الوحدة:

- أطلب إلى الطلبة تنفيذ الخطوة 3 من خطوات المشروع.

6 الختام

- أستمع السؤال في فقرة **أحدث**، للتأكد من فهم الطلبة لموضوع الدرس. أستمع لإجاباتهم مع تقديم التغذية الراجعة والتعزيز.
- أوزّع على الطلبة مجموعة قصاصات بيانات ممثلة بالخطوط، جمعت من إحدى المجالات أو المواقع تتعلق بإحدى الدراسات أو الحالات، وأوجّه أسئلة تتعلق بهذه البيانات على المجموعة (مثلًا دراسات وزارة الصحة حول فيروس كورونا وعدد الإصابات وحالات الشفاء). **إجابات مختلفة.**



أمطار: يبيّن التمثيل بالخطوط المُجاور، مُعدّل تساقط الأمطار بالمليمتر على مدينة عمّان.

4 أكتب سؤالًا إحصائيًا يمكن استعماله للسؤال عن البيانات.

5 ما المعدل تساقط الأمطار على مدينة عمّان؟ ما الشهر الأكبر مُعدّلًا لتساقط الأمطار؟ كم كان المُعدّل؟

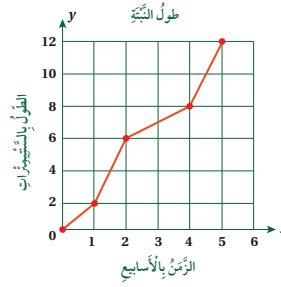
6 ما الشهر الأقل مُعدّلًا لتساقط الأمطار؟ كم كان المُعدّل؟ نيسان، 35

7 ما الشهر الذي كان فيه مُعدّل تساقط الأمطار 36 mm؟ تشرين الثاني

8 كم يزيد مُعدّل تساقط الأمطار في شهر كانون الأول، على مُعدّل تساقط الأمطار في

شهر نيسان؟ $38 - 35 = 3$

9 أكتب عنوانًا مناسبًا للتمثيل؟ معدل تساقط الأمطار على مدينة عمّان.



10 **تبرير:** يبيّن التمثيل بالخطوط المُجاور طول نبتة زرعتها هند. أستمع التمثيل لتقدير طول النبتة بعد 10 أيام، وبعد 30 يومًا. أبرّر إجابتي.

11 **مسألة مفتوحة:** أكتب سؤالًا إحصائيًا يتضمّن الزمن بالأيام، ثم أستمع لإجماع بعض البيانات، ثم أمثلها بالخطوط. تختلف الإجابات

أحدث: أشرح كيف أمثل بيانات مُعطاة باستعمال الخطوط. أرس مستوى إحداثي وأحد أحد المتغيرات على المحور x والمتغير الآخر على المحور y لتحديد النقاط على المستوى ثم توصل بالخطوط.

أتعلّم

عندما تكون البيانات عددًا أكبر من الصفر، فإننا نبدأ التدرج بعدد أكبر من الصفر، ونشير إلى ذلك بخط متعرج.



مهارات التفكير العليا

- 10 إجابة ممكنة: تقدير طول النبتة بعد 10 أيام هو 15 cm لأن العشرة أيام أكثر من الأسبوع قليلًا، وطول النبتة يزداد تقريبًا 2 cm كل أسبوع. ويقدر طول النبتة بعد 30 يومًا أي بعد أكثر من أربعة أسابيع بـ 25 cm وذلك وفقًا للزيادة للطول خلال الأسابيع الخمسة في التمثيل بالخطوط المرسوم.

أَسْتَكْشِفُ

يُبيِّنُ الْجَدْوَلُ الْآتِي، عَدَدَ سُكَّانِ مَدِينَتِي الطَّفِيلَةِ وَمَعَانَ بَيْنَ عَامَيْ 2019 - 2015، أَمْتَلْ هَذِهِ الْبَيِّنَاتِ بِالْخُطُوطِ الْمُرْدَوْجَةِ:

عَدَدُ السُّكَّانِ بِالْآلَافِ					
السَّنَةُ	2015	2016	2017	2018	2019
الطَّفِيلَةُ	97	99	102	104	107
مَعَانَ	125	148	152	171	175

دَائِرَةُ الْإِحْصَاءِ الْعَامَّةِ

فِكْرَةُ الدَّرْسِ

أَمْتَلْ مَجْمُوعَتَيْ بَيِّنَاتِ بِالْخُطُوطِ الْمُرْدَوْجَةِ، وَأَقْرُؤْهَا وَأَفْسَرْهَا.

الْمُصْطَلَحَاتُ

التَّمثِيلُ بِالْخُطُوطِ الْمُرْدَوْجَةِ

أَتَعَلَّمُ

تَعَلَّمْتُ تَمثِيلَ الْبَيِّنَاتِ بِالْخُطُوطِ، وَيُمْكِنُنِي اسْتِعْمَالُ التَّمثِيلِ بِالْخُطُوطِ الْمُرْدَوْجَةِ (double line graph) لِمُقَارَنَةِ مَجْمُوعَتَيْنِ مُخْتَلِفَتَيْنِ مِنَ الْبَيِّنَاتِ، تَشْتَرِكَانِ فِي التَّدرِجِ الرَّمَازِيِّ نَفْسِهِ.

مِثَالُ 1 يُبَيِّنُ الْجَدْوَلُ الْآتِي، مُعَدَّلَ أَغْلَى دَرَجَةِ حَرَارَةٍ وَأَدْنَاهَا عَلَى إِحْدَى الْمُدُنِ خِلَالَ أُسْبُوعٍ مِنْ شَهْرِ نَيْسَانَ:

	السَّبْتُ	الأَحَدُ	الأَثْنَيْنُ	الثَّلَاثَاءُ	الأَرْبَعَاءُ	الْخَمِيسُ	الْجُمُعَةُ
دَرَجَةُ الْحَرَارَةِ الْعُلْيَا (°C)	21	20	18	23	25	26	19
دَرَجَةُ الْحَرَارَةِ الدُّنْيَا (°C)	12	9	12	13	16	14	8

أَمْتَلْ الْبَيِّنَاتِ بِالْخُطُوطِ الْمُرْدَوْجَةِ.

لِتَمثِيلِ هَذِهِ الْبَيِّنَاتِ بِالْخُطُوطِ الْمُرْدَوْجَةِ؛ أَقْرَأُ بِمَا يَأْتِي:

المفاهيم العابرة للمواد:

أُوَكِّدُ عَلَى الْمَفَاهِيمِ الْعَابِرَةِ لِلْمَوَادِّ حَيْثَمَا وَرَدَتْ فِي كِتَابِ الطَّالِبِ أَوْ كِتَابِ التَّمَارِينِ. فِي فِقْرَةِ اسْتَكْشَفُ، أَعَزَّزْتُ الْوَعْيَ بِالْقَضَايَا الْبَيْئِيَّةِ وَالتَّنْمِيَّةِ الْمُسْتَدَامَةِ لَدَى الطَّلَبَةِ، وَأَذَكَّرْتُ أَنَّ مَدِينَةَ الطَّفِيلَةِ تَقَعُ فِي جَنُوبِ الْمَمْلَكَةِ، وَفِيهَا أَهْمُ مَحْمِيَّةٍ طَبِيعِيَّةٍ وَهِيَ مَحْمِيَّةُ ضَانَا.

نتائج الدرس:

- تمثيل مجموعتي بيانات بالخطوط المزدوجة.
- قراءة بيانات ممثلة بالخطوط المزدوجة وتفسيرها.

نتائج التعلم القبلي:

- التمثيل بالخطوط.
- تفسير بيانات ممثلة بالخطوط.
- البيانات الممثلة بالأعمدة.

مراجعة التعلُّم القبلي ومعالجة الفاقد التعليمي:

أسترشد بالإجراءات المبيَّنة في مقدمة دليل المعلم (الصفحتان 1 و 2) المتعلقة بمراجعة التعلُّم القبلي ومعالجة الفاقد التعليمي لدى الطلبة.

1 التهيئة

- أعرض أمام الطلبة بيانات ممثلة بالخطوط المزدوجة (أو قصاصات من مجلات) أو على لوحة كرتونية، وأسأل:

« هل شاهدتم مثل هذه الأشكال؟

« ما معنى هذه الرسومات؟

« بسم تختلف عن التمثيل بالخطوط الذي تعلمته سابقاً؟

- أقبل إجابات الطلبة جميعها.

2 الاستكشاف

- أوجه الطلبة إلى قراءة المسألة في فقرة استكشاف، وأشرح الفرق بين التمثيل بالخطوط والتمثيل بالخطوط المزدوجة، وبأنه في هذا الدرس تكون البيانات مزدوجة لكل فرع. وأبين أنه في المسألة هنا تأتي البيانات مزدوجة.

- أعرض فكرة استعمال التمثيل بالخطوط المزدوجة، والفرق بينها وبين التمثيل بالخطوط، وأعرض نوعين من التمثيلات أحدهما بالخطوط والآخر بالخطوط المزدوجة.

تعزيز اللغة ودعمها:

أكرّر مصطلح: (الخطوط المزدوجة) أمام الطلبة، وأحرص على استعماله من قبلهم.

مثال 1

- أطلب إلى أحد الطلبة قراءة المثال 1
- أشرح طريقة التمثيل يدويًا خطوة تلو الأخرى، وأطلب إلى الطلبة تنفيذ الإجراءات على ورق الرسم البياني من بعدك.
- أتأكد من إتقان الطلبة لعملية التمثيل واستعمالهم لونيّن مختلفين لكل مدينة.

التقويم التكويني: ✓

أطلب إلى الطلبة حلّ تدريب (أتحقق من فهمي) بعد كلّ مثال. أختار بعض الإجابات التي تحتوي على أخطاء مفاهيمية، وأناقش الطلبة فيها على اللوح. لا أذكر اسم صاحب الحلّ أمام الصفّ تجنبًا لإحراجه.

مثال 2: من الحياة



أوجّه الطلبة إلى المثال 2، وأستعمل جهاز العرض - إن أمكن - لعرض التمثيل، وأطلب إلى أحد الطلبة قراءة المثال، وأناقش الطلبة في الأسئلة وكيفية الحصول على الإجابة من التمثيل.



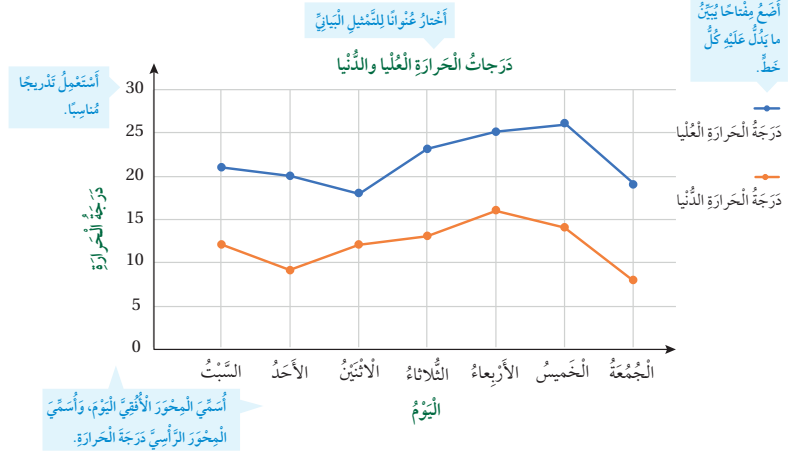
الخطوة 1: أرسم محورًا أفقيًا وآخر رأسيًا وأسَمِّيهما، ثمّ أكتب عنوانًا للتمثيل.

الخطوة 2: أدرّج المحور الأفقيّ بأيّام الأسبوع والمحور الرأسيّ بدرجات الحرارة، بحيث يتضمّن التدرّج أكبر وأصغر قيمة في الجدول.

الخطوة 3: أمثل كلّ يوم بنقطتين لدرجتي الحرارة العليا والدنيا؛ بلونين مختلفين.

الخطوة 4: أصِل النقط المُمثّلة لدرجات الحرارة العليا بقطع مُستقيمة بدءًا من السبب بالترتيب، ثم أصِل النقط المُمثّلة لدرجات الحرارة الدنيا بالطريقة نفسها بلونٍ آخر.

الخطوة 5: أصغ مفتاحًا يبيّن ما يدلّ عليه كلّ خطّ.



أتحقق من فهمي: أنظر إلى الملحق.

يبيّن الجدول الآتي عدّد الأهداف التي سجّلها فريقًا كرة قدم في عددٍ من السنوات. أمثل البيانات بالخطوط المزدوجة.

	2015	2016	2017	2018	2019	2020	2021
الأسود	32	42	39	31	19	27	44
الأبطال	26	30	42	23	52	43	27

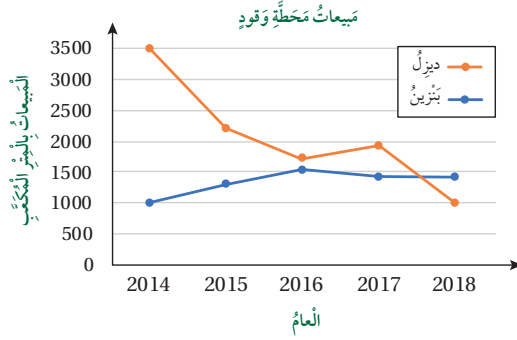
إرشاد: أوجه الطلبة إلى استعمال أوراق المربعات

الموجودة في نهاية كتاب التمارين لحل المسائل.

نحتاج في الكثير من المواقف الحياتية إلى قراءة تمثيلات بالخطوط المزدوجة، واستنتاج بيانات منها.

مثال 2: من الخياطة

وقود: يبين التمثيل بالخطوط المزدوجة، مبيعات محطّة وقود في 4 أعوام متتالية لأقرب متر مكعب. أجب عن الأسئلة الآتية:



1 أيهما أكبر، مبيعات البنزين أم الديزل في عام 2016؟

مبيعات الديزل؛ لأنّ النقطة التي تمثلها تقع أعلى من النقطة التي تمثل البنزين.

2 ما العام الذي كان فيه أكبر فرق بين مبيعات البنزين والديزل؟

أكبر فرق كان في عام 2014م، وبلغ:

$$3500 - 1000 = 2500$$

3 بين أيّ عامين زادت مبيعات الديزل وقلت مبيعات البنزين؟

بين عامي 2016 و2017؛ لأنّ الخطّ الممثل للديزل يُشير إلى ارتفاع، بينما يُشير الخطّ الممثل للبنزين إلى انخفاض خلال هذه الفترة.

أتحقّق من فهمي:

1 في أيّ عام ظهر أقلّ فرق بين مبيعات البنزين والديزل؟ 2016

2 بين أيّ عامين زادت مبيعات البنزين وقلت مبيعات الديزل؟ 2018

أدرب وأحلّ المسائل:

- أوّجّه الطلبة إلى فقرة (أدرب وأحلّ المسائل)، ثم أطلب إليهم حل المسائل (1-4) ضمن مجموعات ثنائية داخل الغرفة الصفية؛ فهذه المسائل تحديداً ترتبط ارتباطاً مباشراً بأمثلة الدرس، وهي تُستعمل خاصةً لتدريب الطلبة على المفاهيم نفسها، بصرف النظر عمّا إذا كانت الأسئلة فردية أم زوجية.
- إذا واجه الطلبة صعوبة في حل أيّ مسألة، فإنني أختار أحد الطلبة ممن تمكّن/ تمكّنت من حل المسألة؛ لمناقشة استراتيجيته/ استراتيجيتها في حل المسألة على اللوح، مُحفّزاً الطلبة على طرح أيّ تساؤل عن خطوات الحل المُقدّمة من الزميل/ الزميلة.

الواجب المنزلي:

أستعين بالجدول الآتي لتحديد الواجب المنزلي للطلبة بحسب مستوياتهم:

المستويات	الأسئلة
دون المتوسط	كتاب الطالب: 5 كتاب التمارين: (1-5)
ضمن المتوسط	كتاب الطالب: 5 كتاب التمارين: (1-5)
فوق المتوسط	كتاب الطالب: 5, 6 كتاب التمارين: (1-5)

مهارات التفكير العليا

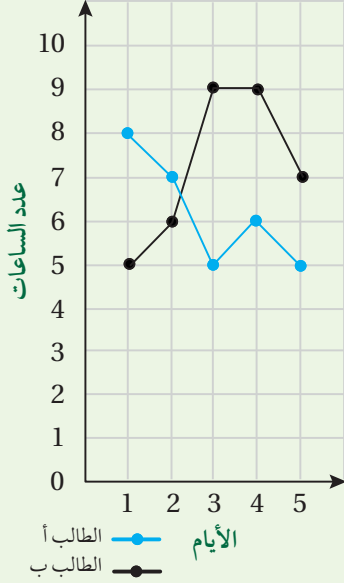
- أوّجّه الطلبة إلى فقرة (مهارات التفكير العليا)، ثم أطلب إليهم حل المسائل (5 - 6).
- أرصد آية أفكار غير تقليدية من الطلبة، ثم أطلب إلى هؤلاء الطلبة كتابة هذه الأفكار على اللوح.
- أوّضح للطلبة أنّ عليهم أن يطلقوا العنان لخيالهم لتحليل البيانات إذا حدث تغيير في المعطيات أو في طريقة التمثيل، أو أنّه يمكن الوصول إلى النتيجة بالتجربة. ففي السؤال 5 تبرير، أوّجّه الأسئلة الآتية:
 - « ماذا لو حصلنا في التدريب الرأسي قفزات قيمتها 50 بدل 20؟ أطلب تجربة تغيير التدريب.
 - « هل سيتغيّر شكل التمثيل؟
 - « هل ستتقاطع الخطوط؟

المفاهيم العابرة للمواد:

في المثال 2، أعزّز الوعي بالقضايا البيئية وترشيد الاستهلاك لدى الطلبة، وأذكر أنّ استهلاك المملكة من الوقود يزداد في فصل الشتاء عن الصيف، بسبب استعمال المنتجات النفطية في التدفئة.

- في سؤال 6 مسألة مفتوحة، أساعد الطلبة بأن أطلب بيانات تتغيّر مع مرور الزمن التي يتمكنوا من تمثيلها بالخطوط والخطوط المزدوجة، مثل درجات الحرارة خلال أسبوع في مدينتين، وأتقبل منهم الإجابات الصحيحة، وأناقشهم في الإجابات التي لا تمثل بالخطوط.

- أوجه السؤال الآتي لإثراء تعلم الطلبة:
« يوضح التمثيل البياني استخدام الإنترنت لطالبي
في 5 أيام. من الطالب الذي استخدم الإنترنت
أكثر؟



مشروع الوحدة

- أوجه الطلبة إلى تنفيذ بقية الخطوة 3، وهي التمثيل بالخطوط المزدوجة يدوياً أو باستعمال برمجية (إكسل - Excel) إن أمكن، وأوجه الطلبة إلى تنفيذ الخطوة 4.

- استعمل السؤال في فقرة **أتحدث**، للتأكد من فهم الطلبة لموضوع الدرس، وأشجعهم على التعبير عن رأيهم.
- إذا لزم الأمر، أتحدث من فهم الطلبة بتوجيه أسئلة، مثل:
« أصاب العالم في نهاية عام 2019 وباء كورونا COVID-19 وانتشر في معظم أنحاء الكرة الأرضية. يُبين الجدول الآتي عدد حالات الإصابة وحالات الشفاء المسجلة في الأردن في شهر إبريل من العام 2020.

الأسبوع	الأول	الثاني	الثالث	الرابع
عدد حالات الإصابة	80	43	34	16
عدد حالات الشفاء	114	100	65	41

- « أمثل البيانات في الجدول السابق بطريقة الخطوط المزدوجة.



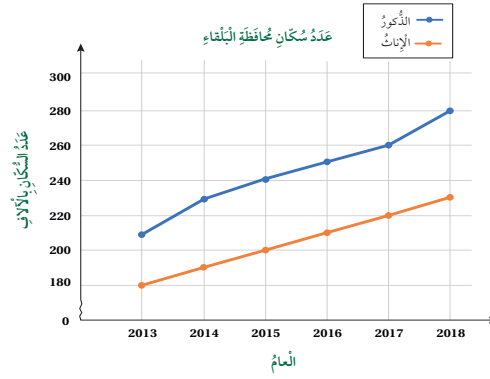
أندرب وأكل المسائل

1

يُبين الجدول الآتي درجات الحرارة (°C) في بعض ساعات يومي الاثنين والثلاثاء. أمثل البيانات بالخطوط المزدوجة. أنظر إلى الملحق.

	5:00 a.m.	6:00 a.m.	7:00 a.m.	8:00 a.m.	9:00 a.m.	10:00 a.m.	11:00 a.m.
الاثنين	0	3	5	5	7	9	12
الثلاثاء	16	20	16	23	12	14	13

سكان: يُبين التمثيل بالخطوط المزدوجة أدناه، تقريباً لعدد سكان محافظة البلقاء المُقدّر بالآلاف. أجب عن الأسئلة الآتية:



- 2 أكتب سؤالاً إحصائياً؛ يُمكن استعماله للسؤال عن البيانات. ما تعداد السكان لمحافظة البلقاء خلال الأعوام من 2013 إلى 2018 مفضلاً ذكورا وإناثا؟
- 3 كم عدد الذكور في عام 2017؟ 260 ألفاً.
- 4 في أي عام كان عدد الإناث 230 ألفاً نسمه؟ 2018

أتذكر

تعني 5:00 a.m. الساعة الخامسة صباحاً.
وتعني 5:00 p.m. الساعة الخامسة مساءً.

مهارات التفكير العليا

- 5 تبرير: هل يؤثر تغيير التدرج الرأسي، في شكل التمثيل بالخطوط المزدوجة؟ أبرر إجابتي. لا لأنه يغير فقط في مقدار التباعد بين الخطين، ولا يغير في الترتيب والشكل.
- 6 مسألة مفتوحة: أنشئ مجموعة بيانات، ثم أمثلها بالخطوط المزدوجة. أنظر إلى الملحق. **أتحدث:** أشرح كيف أمثل بيانات باستخدام الخطوط المزدوجة.

أتحدث: استخدام المستوى الإحداثي ولونين مختلفين وبنفس طريقة تمثيل الخطوط ولكن باعتبار جدولين يمثلان على نفس الرسم أو المستوى.

أَسْتَكْشِفُ



يُبَيِّنُ الْجَدْوَلُ الْمُجَاوِزُ الزَّمَنَ الَّذِي اسْتَعْرَفَهُ 4 طُلَّابٍ، فِي حَلِّ الْوَاجِبِ الْمُنَزَّلِيِّ يَوْمَي الْأَرْبَعَاءِ وَالْخَمِيسِ. كَيْفَ أُمَثِّلُ هَذِهِ الْبَيَانَاتِ بِالْأَعْمَدَةِ؟

الطَّالِبُ	الزَّمَنُ بِالذَّقَاتِقِ	
	الأَرْبَعَاءُ	الْخَمِيسُ
مُحَمَّدٌ	14	16
خَالِدٌ	14	10
رَائِدٌ	16	20
أَيْمَنُ	8	18

فِكْرَةُ الدَّرْسِ

أُمَثِّلُ مَجْمُوعَتِي بَيَانَاتٍ بِالْأَعْمَدَةِ الْمَزْدُوجَةِ، وَأَقْرَأُهَا وَأَفْسَرُهَا.

الْمُضْطَلِحَاتُ

التَّمثِيلُ بِالْأَعْمَدَةِ الْمَزْدُوجَةِ

أَتَعَلَّمُ



تَعَلَّمْتُ سَابِقًا تَمثِيلَ الْبَيَانَاتِ بِالْأَعْمَدَةِ، وَبِمُكْنِي اسْتِعْمَالَ التَّمثِيلِ بِالْأَعْمَدَةِ الْمَزْدُوجَةِ (double bar graph) لِتَمثِيلِ مَجْمُوعَتَيْنِ مِنَ الْبَيَانَاتِ عَلَى شَكْلِ أَزْوَاجٍ مِنَ الْأَعْمَدَةِ، مَا يَسَهِّلُ مَقَارَنَتَهَا.

مِثَالُ 1

يُبَيِّنُ الْجَدْوَلُ أَذْنَاءَ الْهَوَايَاتِ الْمُفَضَّلَةَ لَدَى طَلَبَةِ الصَّفِّ الرَّابِعِ وَالْخَامِسِ. أُمَثِّلُ هَذِهِ الْبَيَانَاتِ بِالْأَعْمَدَةِ الْمَزْدُوجَةِ.

الرَّسْمُ	الْهَوَايَةُ الْمُفَضَّلَةُ				
	التَّصْوِيرُ	التَّمثِيلُ	الْقِرَاءَةُ	الْكِتَابَةُ	الْهَوَايَةُ
الرَّابِعُ	4	11	8	7	9
الْخَامِسُ	9	8	5	8	13

نَتَاجَاتُ الدَّرْسِ:



- تمثيل مجموعة بيانات بالأعمدة المزدوجة.
- قراءة بيانات ممثلة بالأعمدة المزدوجة وتفسيرها.

نَتَاجَاتُ التَّعَلُّمِ الْقَبْلِيِّ:

- تمثيل البيانات بالأعمدة.
- تفسير بيانات ممثلة بالأعمدة.

مَرَاجَعَةُ التَّعَلُّمِ الْقَبْلِيِّ وَمَعَالِجَةُ الْفَاقِدِ التَّعْلِيمِيِّ:

أَسْتَرْشِدُ بِالْإِجْرَاءَاتِ الْمَبِينَةِ فِي مَقْدَمَةِ دَلِيلِ الْمَعْلَمِ (الصفحتان 1 و 2) الْمُتَعَلِّقَةَ بِمَرَاجَعَةِ التَّعَلُّمِ الْقَبْلِيِّ وَمَعَالِجَةِ الْفَاقِدِ التَّعْلِيمِيِّ لَدَى الطَّلَبَةِ.

1 التَّهْيِئَةُ

- أَعْرَضُ أَمَامَ الطَّلَبَةِ بَيَانَاتٍ مُمَثَّلَةً بِالْأَعْمَدَةِ الْمَزْدُوجَةِ (أَوْ قِصَاصَاتٍ مِنْ مَجَالَاتٍ)، وَأَسْأَلُ:
 - « هل شاهدتم مثل هذه الأشكال؟ »
 - « ما معنى هذه الرسومات؟ »
 - « بِمَ تَخْتَلِفُ عَنِ التَّمثِيلِ بِالْأَعْمَدَةِ الَّذِي تَعَلَّمْتَهُ سَابِقًا؟ »
- أَتَقَبَّلُ إِجَابَاتِ الطَّلَبَةِ جَمِيعَهَا.

2 الْاِسْتِكْشَافُ

أُوجِّهُ الطَّلَبَةَ إِلَى قِرَاءَةِ الْمَسْأَلَةِ فِي فِئْرَةِ أَسْتَكْشِفُ، وَأُشْرِحُ الْفَرْقَ بَيْنَ التَّمثِيلِ بِالْأَعْمَدَةِ وَالتَّمثِيلِ بِالْأَعْمَدَةِ الْمَزْدُوجَةِ وَبِأَنَّهُ فِي هَذَا الدَّرْسِ تَكُونُ الْبَيَانَاتُ مَزْدُوجَةً لِكُلِّ فَرْعٍ.

أعرض فكرة استعمال التمثيل بالأعمدة المزدوجة، والفرق بينها وبين التمثيل بالأعمدة، وأعرض نوعين من التمثيلات أحدهما بالأعمدة والآخر بالأعمدة المزدوجة.

تعزيز اللغة ودعمها :

أكرر مصطلح: (الأعمدة المزدوجة) أمام الطلبة، وأحرص على استعماله من قبلهم.

مثال 1

- أطلب إلى أحد الطلبة قراءة المثال 1
- أشرح طريقة التمثيل يدويًا خطوة تلو الأخرى، وأطلب إلى الطلبة تنفيذ الإجراءات على ورق الرسم البياني من بعدي.
- أتأكد من إتقان الطلبة لعملية التمثيل واستعمالهم لونيّن مختلفين لبيانات كل صف. فمثلاً، استعمال اللون الأزرق للصف الرابع والأحمر للصف الخامس .


التقويم التكويني: ✓

أطلب إلى الطلبة حلّ تدريب (أتحقّق من فهمي) بعد كلّ مثال. أختار بعض الإجابات التي تحتوي على أخطاء مفاهيمية، وأناقش الطلبة فيها على اللوح. لا أذكر اسم صاحب الحلّ أمام الصفّ تجنباً لإحراجه.

مثال 2: من الحياة

أوجّه الطلبة إلى المثال 2، وأطلب إلى أحد الطلبة قراءة المثال، وأناقش الطلبة في أسئلة المثال وكيفية الحصول على الإجابة من التمثيل.

لتمثيل البيانات، أفرم بما يأتي:



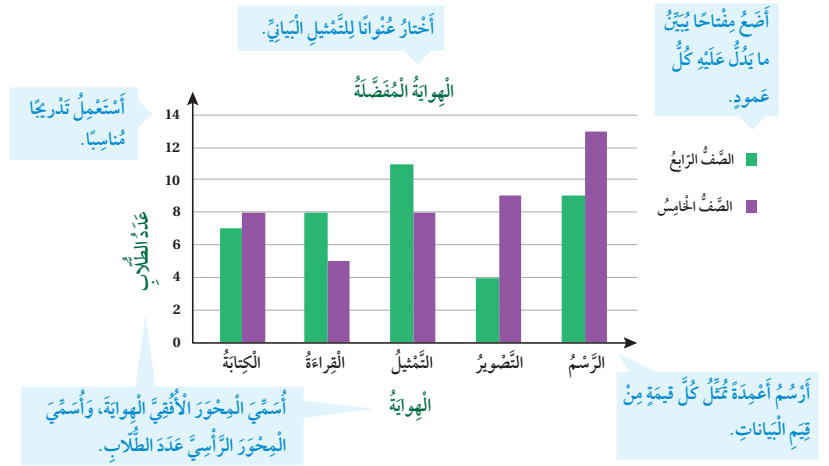
الخطوة 1) أرسمُ محورًا أفقيًا وآخر رأسيًا وأسميهما، ثم أكتب عنوانًا للتمثيل.

الخطوة 2) أجعلُ التدرّيجَ على المحور الرأسي يتضمّن أصغر تكرار وهو (4)، وأكبر تكرار وهو (13).

الخطوة 3) أمثلُ هوابات الصفّ الرابع بالأعمدة، وألونها بلون واحد (بالأخضر مثلاً).

الخطوة 4) أمثلُ هوابات الصفّ الخامس بالأعمدة، بجانب اللون الأخضر، وألونها بلون واحد (بالبنفسجي مثلاً).

الخطوة 5) أصغ مفتاحًا يبيّن ما يدلّ عليه كلّ عمود.



أصغ مفتاحًا يبيّن ما يدلّ عليه كلّ عمود.

أختارُ عنوانًا للتمثيل البياني.

أستعملُ تدريجيًا مناسبًا.

أرسمُ أعمدةً تمثل كلّ قيمة من قيم البيانات.

أسمي المحور الأفقي الهوائية، وأسمي المحور الرأسي عدّة الطلاب.

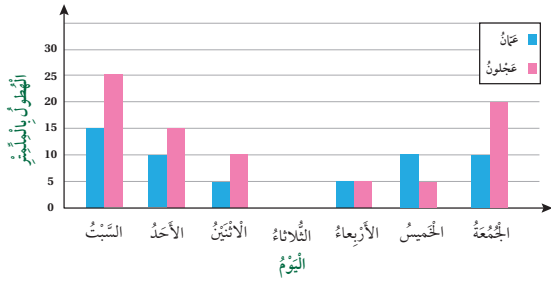
أَتَحَقَّقُ مِنْ فَهْمِي:

يَبِينُ الْجَدُولُ أَدْنَاءَ عَدَدِ أَقْلَامِ الرَّصَاصِ، وَأَقْلَامِ الْجَبْرِ فِي حَقَائِبِ عَدَدٍ مِنْ طَلَبَةِ الصَّفِّ الْخَامِسِ. أُمَثِّلُ هَذِهِ الْبَيِّنَاتِ بِالْأَعْمِدَةِ الْمُزْدَوَّجَةِ. أَنْظِرْ إِلَى الْمَلْحَقِ.

	مُرَادٌ	يُوسُفُ	حَدْرَةَ	مَالِكُ	خَضِرُ
أَقْلَامُ الرَّصَاصِ	6	3	7	4	5
أَقْلَامُ الْجَبْرِ	2	0	3	4	4

مِثَالٌ 2: مِنْ الْخَبَايَا

يَبِينُ التَّمَثِيلُ بِالْأَعْمِدَةِ الْمُزْدَوَّجَةِ أَدْنَاءَ، كَمِّيَّاتِ الْأَمْطَارِ الْهَاطِلَةِ بِالْمَلْمُتْرَاتِ فِي الْأُسْبُوعِ الْأَوَّلِ مِنْ شَهْرِ كَانُونِ الثَّانِي عَلَى مَدِينَتَيْ عَمَانَ وَعَجَلُونِ. أُجِيبُ عَنِ الْأَسْئَلَةِ الْآتِيَةِ:



1 ما أكبر كمية هطول للأمطار في هذا الأسبوع؟ على أي مدينة؟
أكبر كمية أمطار يُمثّلها أطول عمود، ويُمثّل 25 mm على عجلون.

2 ما اليوم الذي لم تهطل فيه الأمطار؟
يوم الثلاثاء؛ لأن طول العمود صفر.

3 كم مجموع كميات الأمطار الهاطلة على عمان، في هذا الأسبوع؟
نجمع أطوال الأعمدة التي تُمثّل عمان:

$$15 + 10 + 5 + 0 + 5 + 10 + 10 = 55$$

أَتَحَقَّقُ مِنْ فَهْمِي: كم مجموع كميات الأمطار الهاطلة على عجلون، في هذا الأسبوع؟ 80 mm

أَتَدْرِبُ وَأَحْلُ الْمَسَائِلَ:

- أوجّه الطلبة إلى فقرة (أَتَدْرِبُ وَأَحْلُ الْمَسَائِلَ)، ثم أطلب إليهم حل المسائل (1-6) ضمن مجموعات ثنائية داخل الغرفة الصفية؛ فهذه المسائل تحديداً ترتبط ارتباطاً مباشراً بأمثلة الدرس، وهي تُستعمل خاصةً لتدريب الطلبة على المفاهيم نفسها، بصرف النظر عما إذا كانت الأسئلة فردية أم زوجية.
- إذا واجه الطلبة صعوبة في حل أي مسألة، فإنني أختار أحد الطلبة ممن تمكن/تمكنت من حل المسألة؛ لمناقشة استراتيجيته/استراتيجيتها في حل المسألة على اللوح، مُحفِّزاً الطلبة على طرح أيّ تساؤل عن خطوات الحل المُقدّمة من الزميل/الزميلة.

الواجب المنزلي:

أستعين بالجدول الآتي لتحديد الواجب المنزلي للطلبة بحسب مستوياتهم:

المستويات	الأسئلة
دون المتوسط	كتاب الطالب: 7 كتاب التمارين: (1-5)
ضمن المتوسط	كتاب الطالب: 7 كتاب التمارين: (1-5)
فوق المتوسط	كتاب الطالب: 8, 9 كتاب التمارين: (1-5)

مهارات التفكير العليا

- أوجّه الطلبة إلى فقرة (مهارات التفكير العليا)، ثم أطلب إليهم حل المسائل (8 - 9).
- أرصد آية أفكار غير تقليدية من الطلبة، ثم أطلب إليهم هؤلاء الطلبة كتابة هذه الأفكار على اللوح.
- في سؤال 8 مسألة مفتوحة، أساعد الطلبة بأن أطلب بيانات يمكن تمثيلها بالأعمدة المزدوجة وأتقبل منهم الإجابات الصحيحة، وأناقشهم في إجاباتهم.
- أناقش سؤال 9 تبرير، لمساعدة الطلبة ذوي التحصيل دون المتوسط؛ وأبين لهم ما البيانات التي تكون على المحور الأفقي وما يكون على المحور الرأسي، وأبين لهم أن طول العمود يمثل عدد مرّات تكرار المفردة، وأتقبل إجابات الطلبة الصحيحة وأعززها.

✓ **إرشاد:** أوجه الطلبة إلى استعمال أوراق المربعات الموجودة في نهاية كتاب التمارين أثناء حل المسائل.

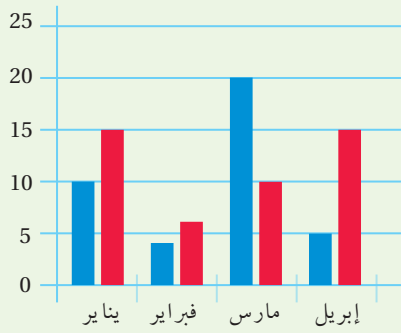
التطبيق:

- أوجّه الطلبة إلى تنفيذ النشاط 4 من أنشطة التدريب الإضافية.

• أوجّه السؤال الآتي لإثراء تعلّم الطلبة:
أستعمل التمثيل البياني أدناه الذي يُبيّن ما وفّره محمد وإبراهيم خلال 4 أشهر من المصروف الشهري، في الإجابة عن الأسئلة الآتية:

- « ما المبلغ الذي وفّره إبراهيم في شهر فبراير؟ 6
« ما المبلغ الذي وفّره محمد في شهر يناير؟ 10
« ما المبلغ الذي وفّره محمد خلال 4 أشهر؟ 39
« عن طريق التمثيل، أيهما وفّر مبلغاً أكثر خلال 4 أشهر؟

■ إبراهيم ■ محمد



مشروع الوحدة

- أوجّه الطلبة إلى تنفيذ جزء من الخطوة 3، وهي التمثيل بالأعمدة المزدوجة يدوياً أو باستعمال برمجية (إكسل - Excel) إن أمكن.
• أذكر الطلبة بأنّ موعد عرض نتائج المشروع قريب، لذا يتعيّن عليهم وضع اللمسات النهائية على المشروع، والتأكد أنّ جميع عناصر المشروع متوافرة يوم العرض.

- أستخدم السؤال في فقرة **أتحدّث**، للتأكد من فهم الطلبة لموضوع الدرس، وأشجّعهم على التعبير عن رأيهم.
• إذا لزم الأمر، أتحدّق من فهم الطلبة بتوجيه السؤال الآتي: حسب دائرة الإحصاء كان عدد سكان المملكة حسب الجنس (بالألف نسمة) كما يأتي:

السنة	الذكور	الإناث
2010	3448	3250
2015	4664	4140
2019	5588	4366

أندزب وأخذ المسائل

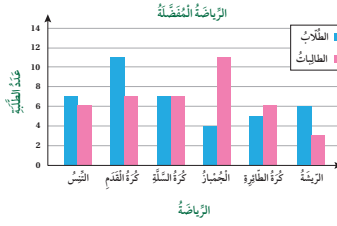
مغلوفة

سُمّي خطّ الرُقعة بهذا الاسم نسبةً للرّقع، وهو اسم يُطلق على جلد الغزلان، ويكتب هذا الخطّ بطريقة سهلة وسريعة ما يجعل الناس يستخدّمونه في حياتهم اليومية.

خطّ الرقعة

مُسَابَقَةُ الْخَطِّ الْعَرَبِيِّ		
نوع الخطّ	مدارس الإناث	مدارس الذكور
الرُقعة	75	60
النسخ	60	85
الكوفي	30	30
الديواني	45	55

1 **مُسَابَقَةُ:** يبيّن الجدول المجاور، عدد الطلّبة المُشاركين بلوحات في مُسَابَقَةُ الْخَطِّ الْعَرَبِيِّ مِنْ مَدَارِسِ الْإِنَاثِ وَالذُّكُورِ فِي إِحْدَى الْمُحَافَظَاتِ. أَمْتَلُ الْبَيَانَاتِ الْمُوضَّحَةَ فِي الْجَدُولِ بِالْأَعْمِدَةِ الْمُزْدَوِجَةِ. **أنظر إلى الملحق.**



2 **رِيَاضَةٌ:** يبيّن التمثيل بالأعمدة المزدوجة المُدرّستين في مدرّستين مُتجاورتين. أجب عن الأسئلة الآتية:

- 3 **أكتب** سؤالاً إحصائياً، يُمكن استعماله للسؤال عن البيانات. ما الرياضة المفضّلة لدى طلاب وطالبات الصف الخامس في المدرستين؟
4 **ما** الرياضة الأكثر تفضيلاً لدى الطالبات؟ الجبّار
5 **ما** الرياضة الأقل تفضيلاً لدى الطالبات؟ الجبّار
6 **كم** عدد الطالبات؟ 40
7 **أعود** إلى فقرة (أنتكثف)، وأمّثل البيانات بالأعمدة المزدوجة. **أنظر إلى الملحق.**

8 **مسألة مفتوحة:** أكتب مسألة تتضمّن بيانات، يُمكن تمثيلها بالأعمدة المزدوجة. **أنظر إلى الملحق.**

9 **تبرير:** كيف يُمكن تمثيل درجات الحرارة في أيام أسبوعين متتاليين بالأعمدة المزدوجة؟ أبرّر إجابتني. **إجابة ممكنة:** أمثل درجات الحرارة في أيام الأسبوع الأول بالأعمدة بلون، وأمّثل درجات الحرارة للأيام المقابلة من الأسبوع الثاني على التمثيل نفسه بالأعمدة بلون آخر.
أتحدّث: كيف أختار تدريجاً مناسباً للخطّ الذي يُمثّل التكرار، عند التمثيل بالاعتماد على البيانات الموجودة فإذا كانت الأرقام صغيرة اعتمد الواحدات أو الثينات أما إن كانت أكبر فاعتمد فئة البيانات ومضاعفاتها.

- « إذا أردنا تمثيل هذه البيانات بالأعمدة المزدوجة، فما التدريج المناسب للمحور الذي يمثّل التكرار؟ **بالآلاف.**
« بشكل عام، أيهما أكثر في الأردن، عدد الذكور أم عدد الإناث؟ **الذكور.**

المفاهيم العابرة للمواد:

أؤكد على المفاهيم العابرة للمواد حيثما وردت في كتاب الطالب أو كتاب التمارين. في المثال 2، أعزز الوعي بالقضايا الإنسانية والسياسية والوطنية والمواطنة لدى الطلبة، وأذكر أنّ مدينة عجلون تقع في شمال غرب المملكة وفيها قلعة عجلون، التي بناها عز الدين أسامة بأمر من القائد المسلم صلاح الدين الأيوبي.

اختبار نهاية الوحدة

3 أحد الأسئلة الآتية، يُمثل سؤالاً إحصائياً: d

- (a) كم المسافة من إربد إلى العقبة؟
 (b) من الطابئ الذي حصل على أعلى الأصوات في انتخابات البرلمان الطلابي؟
 (c) في أي عام ولد جلاله الملك عبد الله الثاني ابن الحسين؟
 (d) ما الرياضة المفضلة لدى طلبة صفك؟

الاستيعاب المفاهيمي: أكمل الفراغ بالمصطلح المناسب من الصندوق أدناه:

السؤال	الخطوط	التمثيل
التكراري	إحصائي	المزدوج
الخطوط	المزدوج	بالخطوط

4 يتوقع وجود إجابات مختلفة، لأي سؤال إحصائي. عند جمع المعلومات.

5 التمثيل البياني الذي يستعمل الخطوط لعرض كيف يتغير شيء ما عبر الزمن، هو: التمثيل بالخطوط.

6 الجدول التكراري جدولٌ يحوي المعلومات مع تكرارها.

7 الخطوط المزدوجة: تمثيلٌ يستعمل لتوضيح تغير مجموعتين مختلفتين من البيانات، تستركان معاً في التدرج نفسه في مدة زمنية معينة.

أسئلة موضوعية

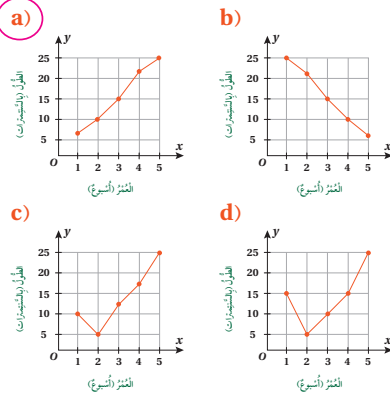
أختر الإجابة الصحيحة في كل مما يأتي:

- 1 أحد الأسئلة الآتية، ليس سؤالاً إحصائياً: b
 (a) في أي مدينة ولدت؟
 (b) ما عاصمة الأردن؟
 (c) كم حيواناً ألباً لديك؟
 (d) هل تحب الحليب المنكه؟

2 بيانات: الجدول الآتي، يُمثل طول نبتة بالسنتيمتر خلال (5) أسابيع.

عمر النبتة بالأسبوع	1	2	3	4	5
طول النبتة	6	10	15	22	25

ما التمثيل الذي يمكن أن يعبر عن البيانات أعلاه؟ a



اختبار نهاية الوحدة

- يمكنني التحقق من فهم الطلبة للمهارات الواردة في الوحدة، وقدرتهم على تطبيقها تطبيقاً صحيحاً عن طريق اختبار نهاية الوحدة الذي يتكوّن من:
 - « أسئلة موضوعية.
 - « أسئلة ذات إجابة قصيرة.
 - « أسئلة من الاختبارات الدولية.

- أوجه الطلبة إلى حلّ الأسئلة الموضوعية من اختبار نهاية الوحدة بشكل فردي، وأناقشهم في حلولهم.
- عند ضيق الوقت، أختار بعض الأسئلة التي أعتقد أنّ الطلبة سيواجهون فيها تحدّ وأناقشهم فيها.

تدريب على الاختبارات الدولية:

- أعرّف الطلبة بالاختبارات الدولية، وأبين لهم أهميتها، ثم أوجههم إلى حل الأسئلة في بند (تدريب على الاختبارات الدولية) فريدياً، ثم ناقشهم في إجاباتها على اللوح.
- أحفز الطلبة على الاهتمام بحل هذه الأسئلة ومثيلاتها، والمشاركة في الدراسات وبرامج التقييم الدولية بكل جدية، وأحرص على تضمين اختباراتي المدرسية نماذج مماثلة لهذه الأسئلة.

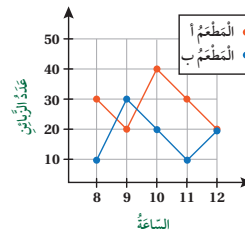
تدريب على الاختبارات الدولية:

أستعمل الجدول المجاور؛ للإجابة عن الأسئلة:

إناث	ذكور	الرياضة المفضلة
5	20	كرة القدم
10	15	كرة السلة
20	10	كرة الطائرة
15	5	كرة التنس

- 13 كم عدد الإناث اللواتي يفضلون كرة الطائرة؟ 20
- 14 كم يزيد عدد الذكور الذين يفضلون كرة القدم، على عدد الذين يفضلون كرة التنس؟ 15
- 15 أمثل هذه البيانات بالأعمدة المزدوجة. انظر إلى الملحق.

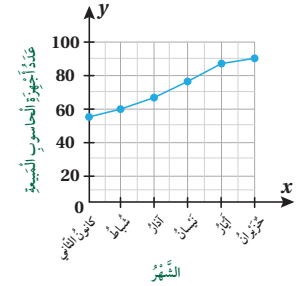
يظهر أدناه عدد زبائن مطعمين خلال (5) ساعات في مساء أحد الأيام. أجب عن السؤالين الآتيين:



- 16 في أي ساعة كان عدد زبائن المطعم (ب)، أكثر من عدد زبائن المطعم (أ)؟ الساعة 9
- 17 كم عدد زبائن المطعم (أ)، خلال الساعات الخمس؟ 140

أسئلة ذات إجابة قصيرة:

يُبين التمثيل بالخطوط أدناه عدد أجهزة الحاسوب المبيعة في أحد المحلات من شهر كانون الثاني إلى شهر حزيران:



- 8 كم جهاز حاسوب باع المحل في شهر شباط؟ 60
- 9 أيهما أكثر، مبيعات المحل في شهر أيار، أم في شهر كانون الثاني؟ شهر أيار
- 10 في أي شهر كان عدد الأجهزة المبيعة 90 جهازاً؟ حزيران
- 11 هل تزايدت مبيعات المحل، أم تناقصت في الفترة الرمسية؟ أبرد إجابتي تزايد؛ لأنه في كل شهر تكون المبيعات أكثر من الشهر الذي يسبقه.
- 12 قرّر صاحب متجر أن يعرف عدد أقلام الجبر وأقلام الرصاص والمساطر، التي تُباع في اليوم المفتوح في المدرسة؛ فوضع هذا الجدول الإحصائي أدناه.

المساطر	أقلام الرصاص	أقلام الجبر
### ### ###	### ### ###	### ### ###
### ### ###	/ ### ###	// ###

بكم يزيد عدد أقلام الرصاص التي بيعت، على عدد المساطر؟ 2

كتاب التمارين

5 الوَحْدَةُ

تمثيل البيانات وتفسيرها

أستعد لإدراة الوَحْدَة

تفنين البيانات بالنقاط (الدرسان 3 و 4)

أنتل البيانات الآتية بالنقاط:

3 الدخّل اليومي لبيع حلوى منتقل خلال أسبوعين بالذبات:

10, 5, 5, 10, 15, 15, 10, 5, 5, 10, 5, 5, 10, 5, 5, 10

4 عدّد ساعات الدراسة ليغني طلبية الصف الرابع:

2, 2, 3, 1.5, 1.5, 1, 2, 1, 3, 1.5, 2, 1.5, 2, 2, 1.5, 1.5, 1, 1, 3, 2, 2, 1.5, 2, 3

مثال: سجّل فريق لكرة القدم عدّد الأهداف التي حقّقها في مبارياته، فكانت كما يأتي. أنتل البيانات بالنقاط.

2, 1, 3, 5, 2, 5, 1, 1, 1, 2, 4, 1, 2, 3, 1, 1

المطلوب:

1 أرسم خطّ أعداد وأضع عدّد الأهداف، وأجعل بينها مسافات متساوية.

2 أضغ نقاشاً (•) فوق خطّ الأعداد بعدد تكرار كلّ عدّد من الأهداف، ثمّ أكتب عنواناً مناسباً للتشكيل.

عدّد الأهداف في المباريات.

5 الوَحْدَةُ

تمثيل البيانات وتفسيرها

أستعد لإدراة الوَحْدَة

جمع البيانات وتنظيمها (الدرسان 1)

1 بيّن الجدول المجاور الرياضة المفضّلة لدى مجموعة من الأشخاص. أنتظم البيانات في جدول إشارات.

الرياضة المفضّلة	الإشارات
كرة القدم	###
السباحة	###
كرة السلة	###
كرة التنس	###

2 أنتظم في جدول إشارات البيانات الآتية التي تمثّل هواية المفضّلة لعشرة طلبية:

الهواية	الإشارات
الرسم	///
القراءة	//
الرياضة	///

مثال: سبيل 10 طلبية عن نوع الفاكهة التي يفضّلونها، فكانت الإجابات كالآتي:

الفاكهة	الإشارات
موز	###
فراخ	///
تفاح	//

5 الوَحْدَةُ

تمثيل البيانات وتفسيرها

أستعد لإدراة الوَحْدَة

التفنين بالأعمدة (الدرسان 3 و 4)

3 بيّن الجدول المجاور المسافة التي قطعها فريق كرة يد في مبارياته الخمس الأولى. أنتل البيانات بالأعمدة الأفقية.

اليوم	المسافة km
الخميس	10
الجمعة	20
السبت	15
الأحد	5

مثال: أنتل بالأعمدة الأفقية البيانات المعروضة في الجدول المجاور، التي توضح عدّد الأبقار في 3 مزارع متباعدة.

المزرعة	عدّد الأبقار
أ	6
ب	7
ج	4

المطلوب:

1 أرسم شعاعين متعامدين، الشعاع الأفقي يبيّن تدريجاً مناسباً لعدّد الأبقار، والشعاع العمودي يبيّن المزرعة.

2 أكتب عدّد الأبقار على الشعاع الأفقي والمزرعة على الشعاع العمودي، ثمّ أكتب عنواناً مناسباً للتشكيل.

3 أرسم عموداً أفقياً عند كلّ مزرعة طولها يقابل العدّد الذي يساوي عدّد الأبقار في المزرعة، وأترك مسافات بين الأعمدة.

5 الوَحْدَةُ

تمثيل البيانات وتفسيرها

أستعد لإدراة الوَحْدَة

قراءة البيانات الممثلة بالنقاط وتفسيرها (الدرسان 3 و 4)

فحص: أنتشغل بتشكيل النطاق المجاور؛ للإجابة عما يأتي:

3 ما عدّد الطلبية الذين قرؤوا 4 قصص؟

6 ما عدّد الطلبية الذين قرؤوا 7 قصص فأكثر؟

7 كم مجموع الطلبية الذين أجريت عليهم الدراسة؟

مثال: سباحتة، يتدرب رامي على سباحة 200 m يومياً، ويسجّل الزمن بال دقائق، فإذا كان التمثيل بالنقاط المجاور يوضح أربعة هذبه المحاولات وعددها، فأجيب عن الأسئلة الآتية:

(a) كم مرّة قطع فيها 200 m في 3 دقائق؟

(b) ما أقلّ زمن قطع فيه مسافة 200 m، وما أكثر زمن؟

(c) ما أكثر زمن تكرر قطع مسافة 200 m فيه؟

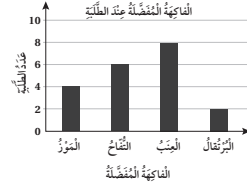
كتاب التمارين

الوَحْدَةُ 5

تمثيل البيانات وتفسيرها

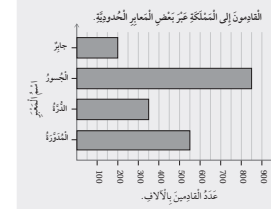
أستعد لإدراة الوَحْدَة

قراءة البيانات الممثلة بالأعمدة وتفسيرها (الدرس 5)
 فإجابة: يبين التمثيل بالأعمدة المجاور، الفأجئة المفضلة عند بعض
 طلبة الصف الخامس. أستعمل التمثيل لإجابة عن الأسئلة الآتية:



- 9 ما الفأجئة الأكثر تفضيلاً لدى الطلبة؟ العنب
- 10 ما الفأجئة الأقل تفضيلاً لدى الطلبة؟ البرتقال
- 11 ما عدد طلبة الصف جميعهم؟ 20

مثال: ضع يدك على التمثيل الآتي عدد القادوس
 إلى الممثلة عبر بعض المعايير الحدودية في
 عام 2014 بالآلاف:



- a ما عدد القادوس إلى الممثلة عبر متغير حدود جابر؟
 النموذج الأتقي الذي يمثل عدد القادوس عبر حدود
 جابر يُعادل العدد 200، إذن: عدد القادوس 200
 ألف مسافر.
- b ما المتغير الذي قيمه عبره 550 ألف مسافر؟
 النموذج الأتقي الذي يُعادل العدد 550 ألف هو نموذج حدود المدوّرة.
- c يكتم تزيده عدد القادوس إلى الممثلة عبر الجسور على القادوس عبر حدود الدوّرة؟
 عدد القادوس عبر الجسور 850 ألف مسافر، بينما عدد القادوس عبر حدود الدوّرة 350 ألف مسافر.
 $850000 - 350000 = 500000$
 إذن: الفرق بينهما 500000 مسافر أو 500 ألف مسافر.

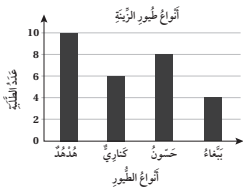
الدرس 1 السؤال الإحصائي

ما السؤال الذي يُعدّ سؤالاً إحصائياً في ما يأتي؟

- 1 كم قرأنا في الدبارة؟ غير إحصائي
- 2 ما ألوان علم المملكة الأردنية الهاشمية؟ غير إحصائي
- 3 كم طولك؟ إحصائي
- 4 كم عدد مُحافظات المملكة؟ غير إحصائي
- 5 ما الشهر الذي ولدت فيه؟ إحصائي
- 6 من شُيخ جائزة نوبل (نوبل) لآداب في عام 1988م؟ غير إحصائي
- 7 ما اللون المفضل لديك؟ إحصائي

أكتب سؤالاً إحصائياً يمكن طرحه، حول كل من المواقف الآتية:

- 8 سجّل رأيد أنواع القيصي المفضلة لدى طلاب الصف الخامس. ما نوع القيصي المفضلة لدى طلبة الصف الخامس؟
- 9 سجّلت هاء عدد أفراد أسرة كل زميلة من زميلاتك. ما عدد أفراد أسرتك؟
- 10 سألت المعلمة طاليها عن عدد الساعات التي يقضيها في مشاهدة التلفاز. ما عدد الساعات التي يقضيها الطلبة في مشاهدة التلفاز؟



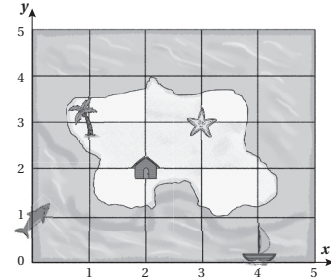
- 11 أكتب السؤال الإحصائي المُستعمل في جمع البيانات.
 ما نوع الطيور المفضلة لدى طلبة الصف الخامس؟
- 12 كم تزيده عدد الأشخاص الذين يُفضلون الهدهد على الذين يُفضلون الببغاء؟ 6
- 13 كم عدد الطلبة الذين أُجريت عليهم الدراسة؟ 28

61

الدرس 2 المستوى الإحداثي

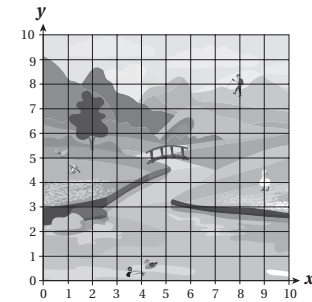
أستعمل المستوى الإحداثي الآتي، لتسمية الرّوج المُرْتَب الذي يُمثّل كل ما يأتي:

- 1 (1, 3)
- 2 (3, 3)
- 3 (0, 1)
- 4 (2, 2)
- 5 (4, 0)



أستعمل المستوى الإحداثي المجاور، لتسمية الرّوج
 المُرْتَب الذي يُمثّل كل ما يأتي:

- 6 مُتساق الجبل. (8, 8)
- 7 البطة البيضاء. (9, 4)
- 8 مُتصف الجسر. (5, 5)



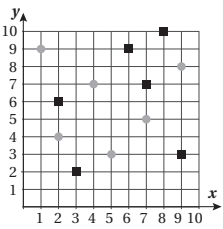
الدرس 2 المستوى الإحداثي (تابع)

أناقل المستوى الإحداثي المجاور، لأجيب عن كل ما يأتي:

- 9 أكتب الأزواج المرتبة التي تُمثّل إحداثيات الدوائر.

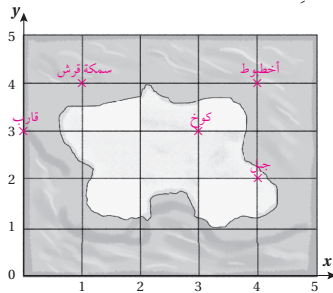
(1, 9)	(2, 4)
(4, 7)	(5, 3)
(7, 5)	(9, 8)
- 10 أكتب الأزواج المرتبة التي تُمثّل إحداثيات المربعات.

(2, 6)	(3, 2)
(6, 9)	(7, 7)
(8, 10)	(9, 3)



أرسم الآتية على الخريطة المجاورة وفقاً لإحداثيات المُنمطة:

- 11 سكة قري عند (1, 4)
- 12 قارب عند (0, 3)
- 13 كوخ عند (3, 3)
- 14 جبل عند (4, 2)
- 15 أخطبوط عند (4, 4)



63

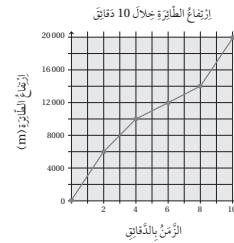
62

كتاب التمارين

الدرس 3 التمثيل بالخطوط

1 يبيّن الجدول أدناه، التغيّر في طول إحدى الأشجار. أمثل هذه البيانات بالخطوط. **انظر إلى الملحق.**

الشهر	1	2	3	4	5	6
الارتفاع (cm)	90	100	115	125	130	140



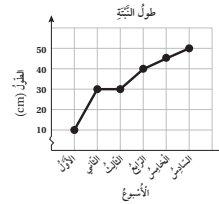
يبيّن التمثيل بالخطوط المجاور ارتفاع طائرة خلال 10 دقائق.

2 أجد ارتفاع الطائرة بعد 4 دقائق. **10000**

3 كم تزيد ارتفاع الطائرة بعد 8 دقائق على ارتفاعها بعد 4 دقائق؟ **8000**

4 أجد الارتفاع التقريبي للطائرة بعد 9 دقائق. **17000**

فانتست تجرى طول بئير في نهاية كل أسبوع لمدة 6 أسابيع، وتمتلك النتائج بالخطوط كما في الشكل أدناه. أتاقل الشكل، ثم أجب عما يأتي:



5 كم ستبقيت إذا كان طول البئير، في نهاية الأسبوع الثاني؟ **30**

6 كم ستبقيت (تقريباً) كم البئير في 6 أسابيع؟ **50**

7 كم أسبوعاً استغرقت البئير حتى أصبح طولها 40 cm؟ **4**

8 متى كان نمو البئير أسرع؛ في نهاية الأسبوع الثاني أم السادس؟ **الثاني**

الدرس 4 التمثيل بالخطوط المزدوجة

يبيّن التمثيل المجاور معدّل ضربات القلب الطبيعي لدى الذكور والإناث حسب العمر. أتمثل التمثيل بالإجابة عن الأسئلة الآتية:



1 كم معدّل عدد ضربات القلب في الدقيقة، في عمر (30) عاماً لدى الإناث؟ **67**

2 كم معدّل عدد ضربات القلب في الدقيقة، في عمر (40) عاماً لدى الذكور؟ **65**

3 كم يزيد معدّل عدد ضربات القلب في الدقيقة لدى الإناث في عمر (60) عاماً، على معدلها لدى الذكور في العمر نفسه؟ **3**

4 في أي عمر، يظهر أكبر فرق في معدّل عدد ضربات القلب لدى الذكور والإناث؟ **في عمر 20**

5 يبيّن الجدول أدناه، درجات الحرارة في أحد الأيام في مدينتي حترش والمفرق:

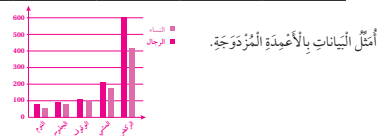
الساعة	3 عصراً	1 ظهراً	11 صباحاً	9 صباحاً	7 صباحاً
حترش	24	20	16	13	10
المفرق	31	26	21	17	12

أمثل البيانات بالخطوط المزدوجة. **انظر إلى الملحق.**

الدرس 5 التمثيل بالأعمدة المزدوجة

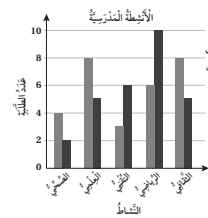
1 تشير الدراسات إلى أنّ معدّل استهلاك الرجال والنساء للشعرات الحرارية (بالسعر / ساعة) في أثناء ممارستهم الأنشطة اليومية هي:

النشاط	الوقوف	الجلوس	التنم	النشاط
الرجال	110	80	70	600
النساء	100	70	45	420



أمثل البيانات بالأعمدة المزدوجة.

تدريس: يبيّن التمثيل بالأعمدة المزدوجة المجاور بعض الأنشطة المعتدلة، وأعداد المشاركين فيها من طلبة الصفين الخامس والسادس. أجب عن الأسئلة الآتية:

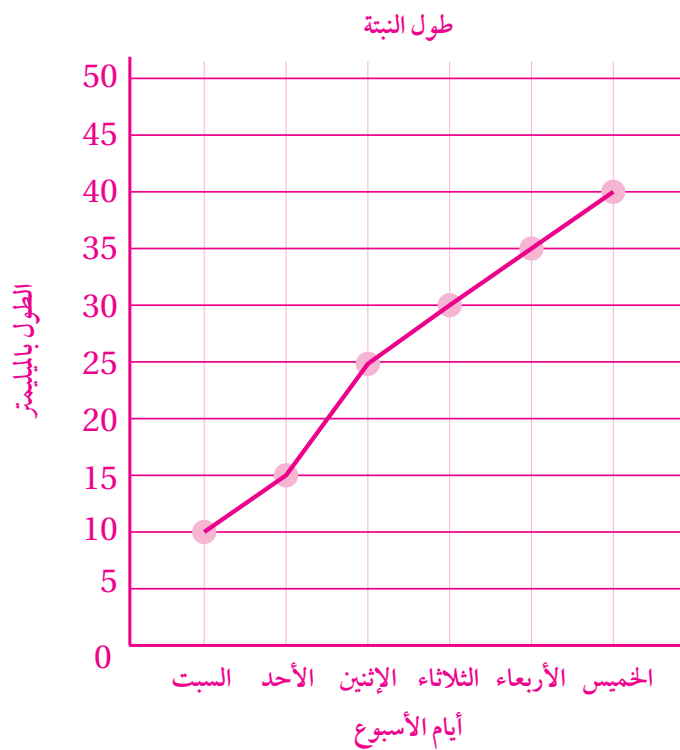
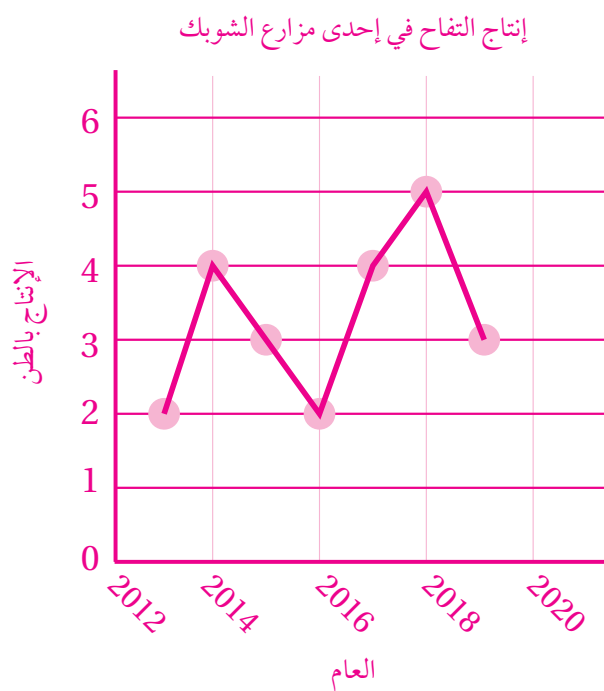
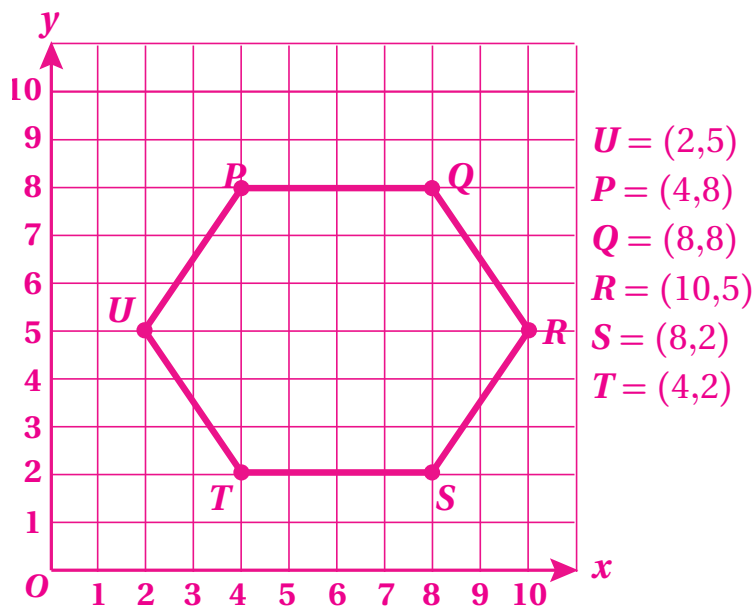


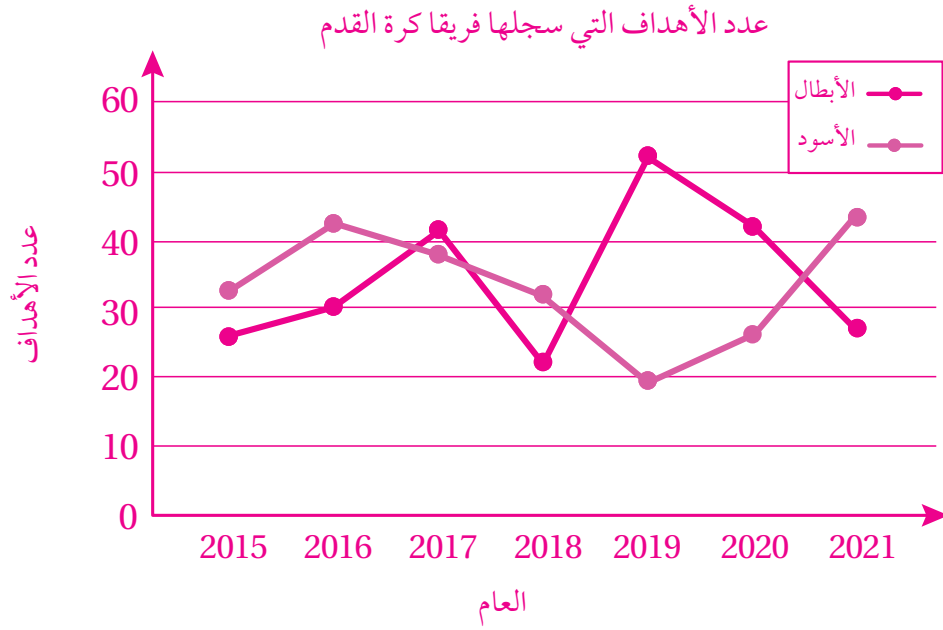
2 ما النشاط الأكثر تفضيلاً لدى طلبة الصف السادس؟ **الرياضي**

3 في أي نشاط يظهر أكبر فرق بين طلبة الصفين؟ ما مقدار الفرق؟ **الرياضي والفرق 4**

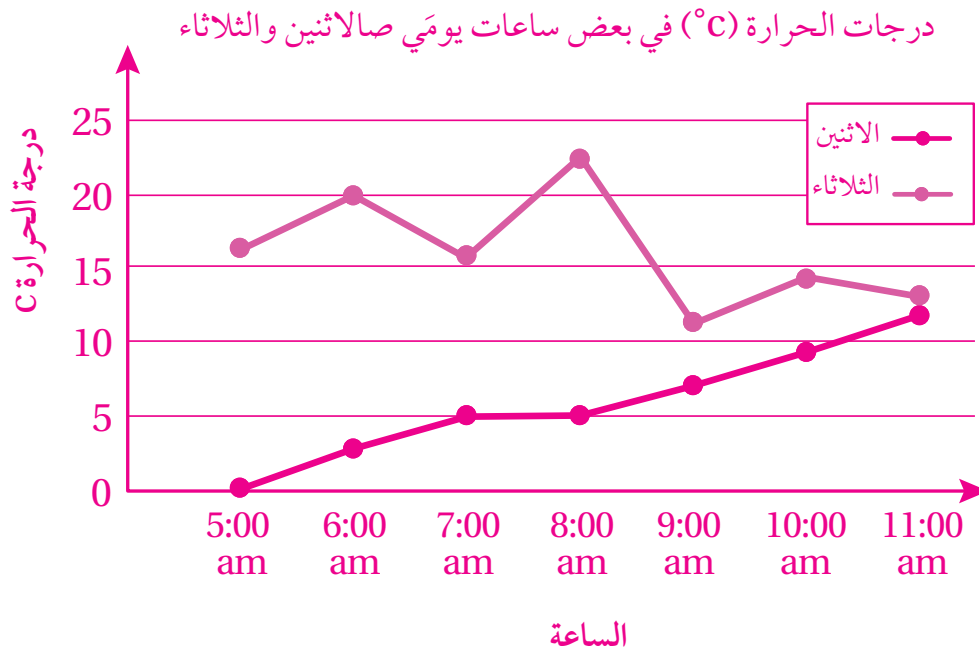
4 أجد عدد طلبة الصف الخامس، المشاركين في الأنشطة جميعها. **29**

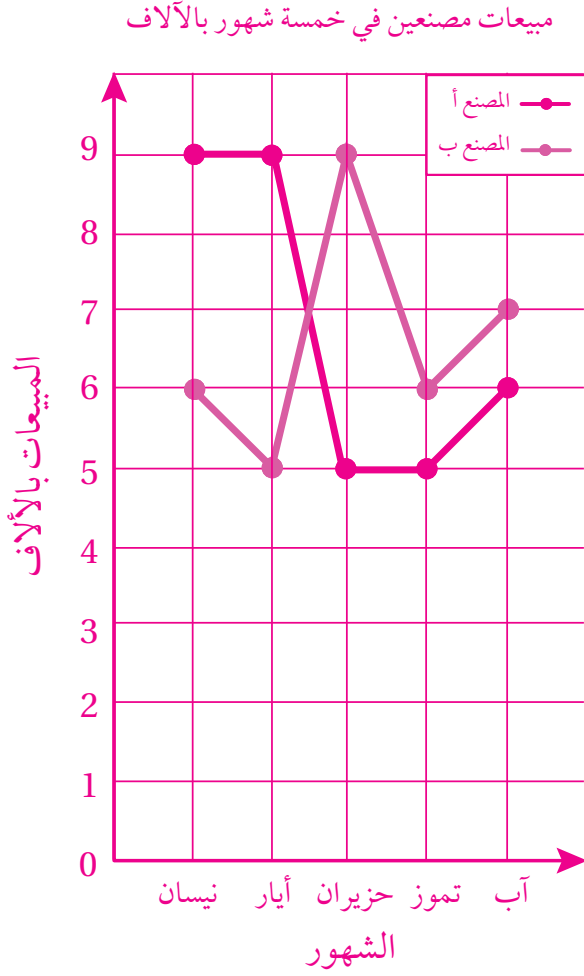
5 ما الأنشطة التي زاد فيها عدد المشاركين من الصف الخامس، على عدد المشاركين من الصف السادس؟ **الصحي، العلمي، الثقافي**





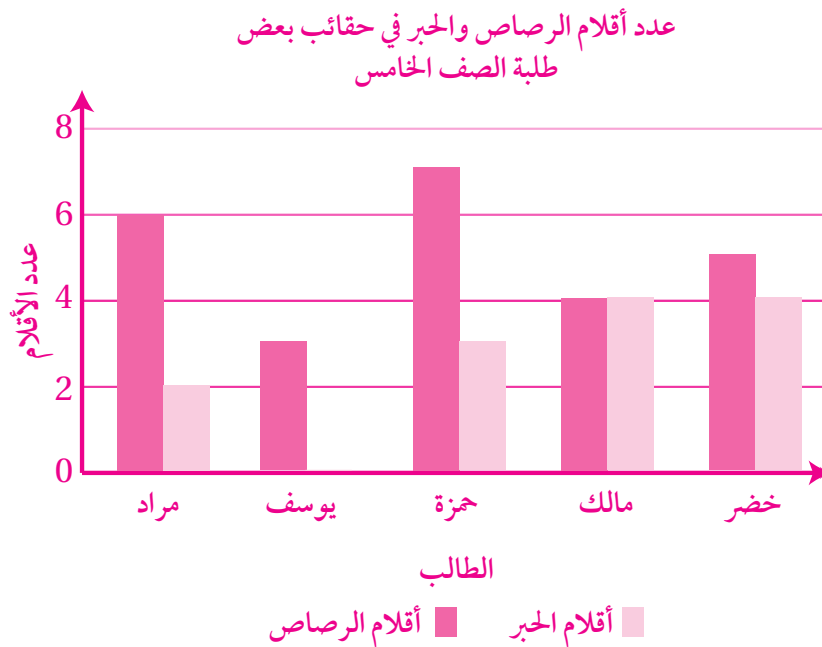
أندرب: السؤال الأول - صفحة 132



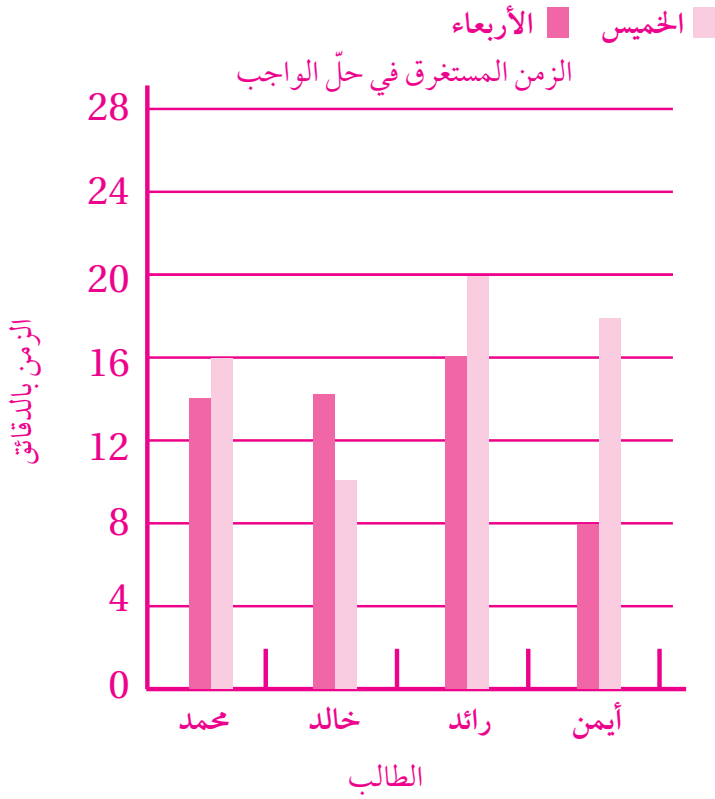


مبيعات مصنعين في خمسة شهور بالآلاف

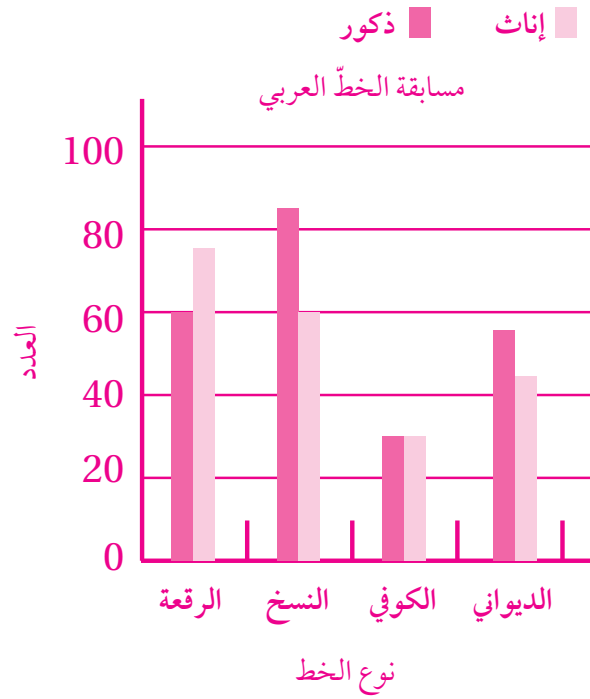
	نيسان	أيار	حزيران	تموز	آب
المصنع أ	9	9	5	5	6
المصنع ب	6	5	9	6	7



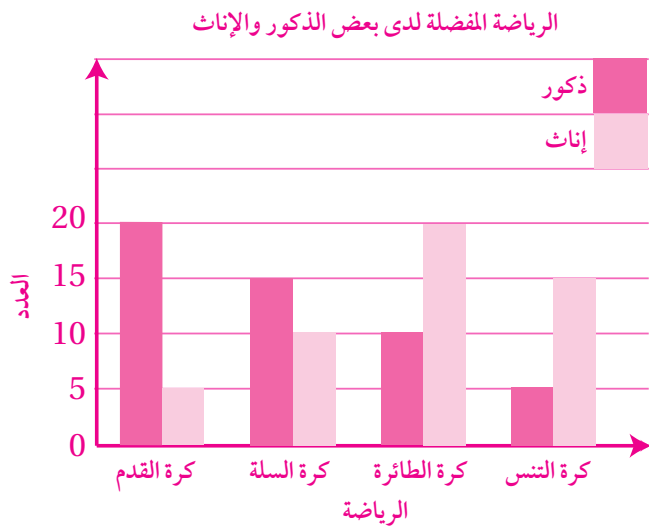
أدرب: السؤال السابع - صفحة 136



أدرب: السؤال الأول - صفحة 136

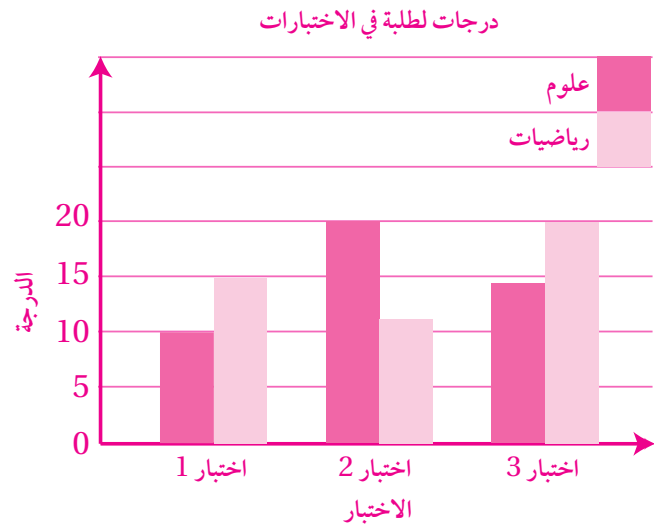


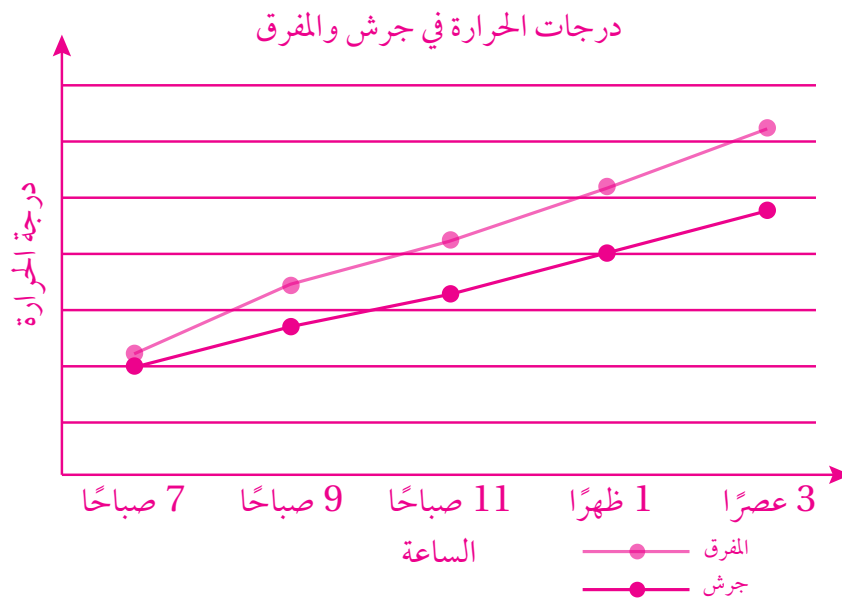
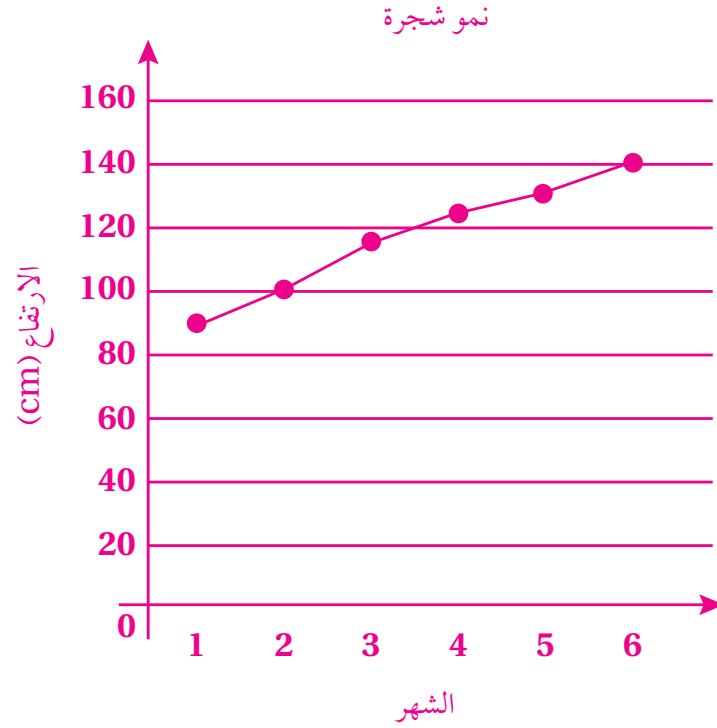
اختبار الوحدة : السؤال الخامس عشر - صفحة 138



أدرب : السؤال الثامن - صفحة 136

	اختبار 1	اختبار 2	اختبار 3
علوم	10	20	14
رياضيات	15	12	20

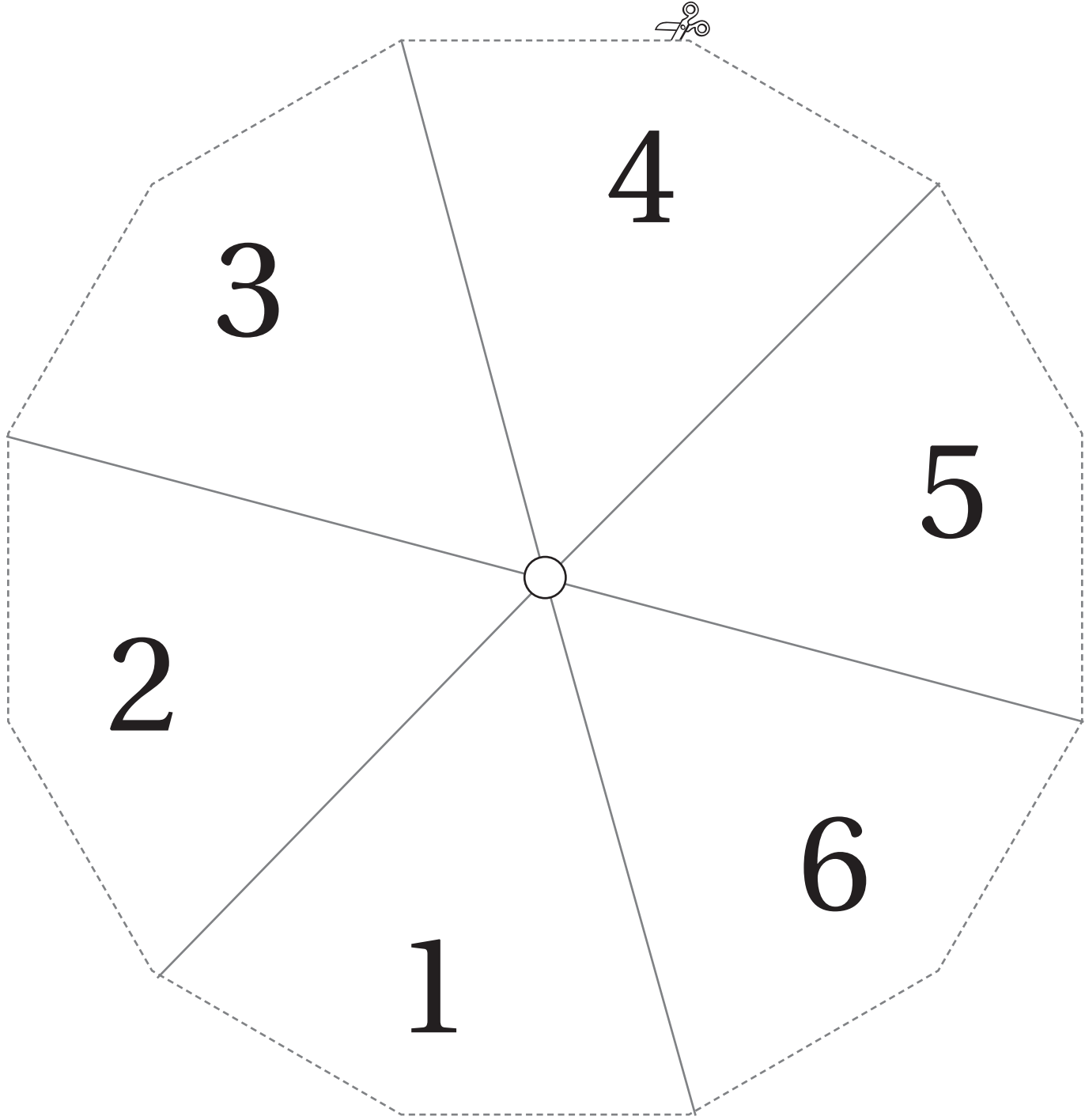
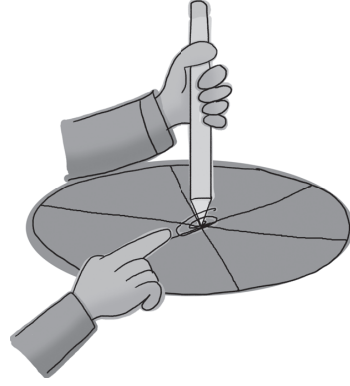




أوراق المصادر

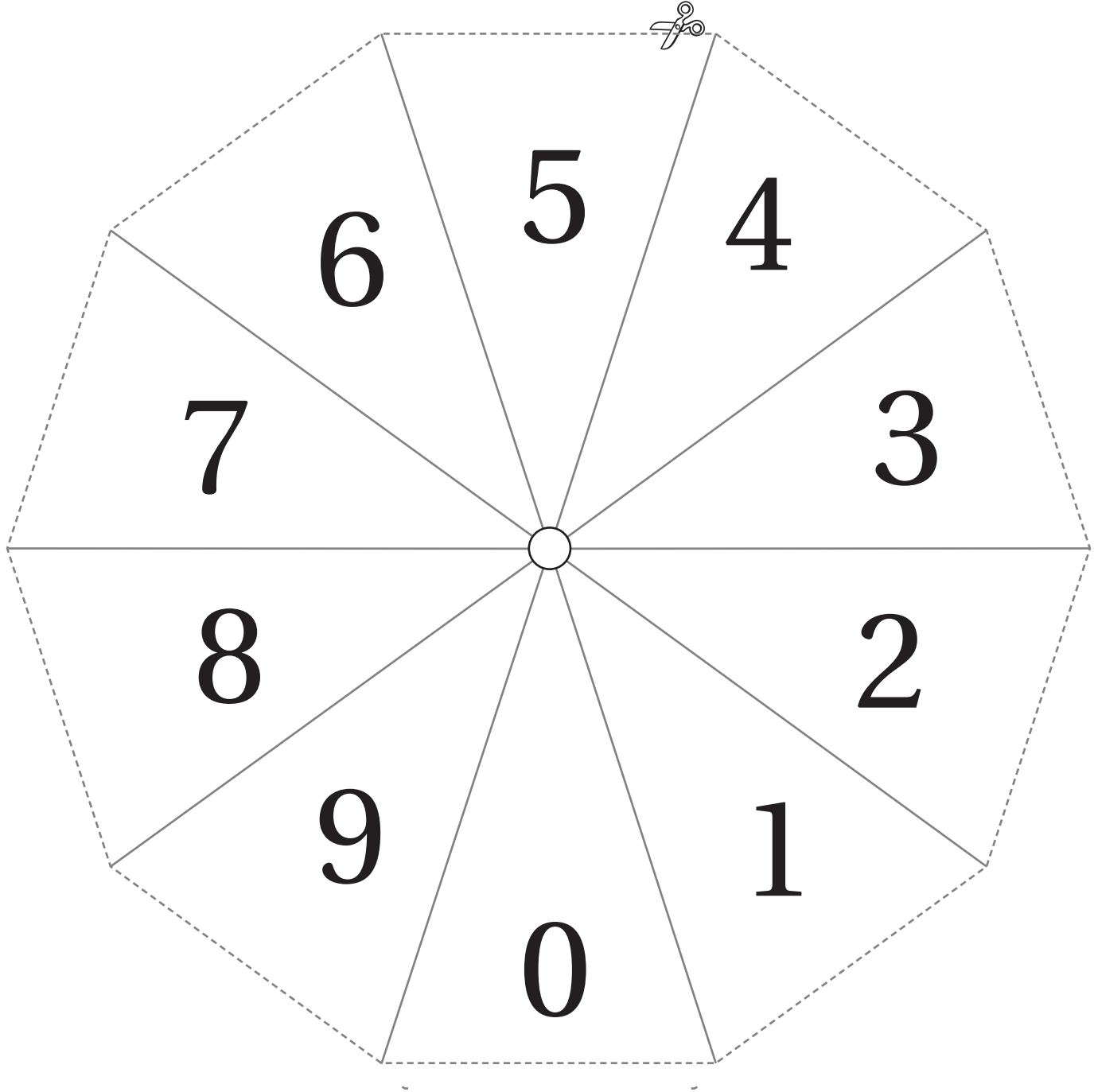
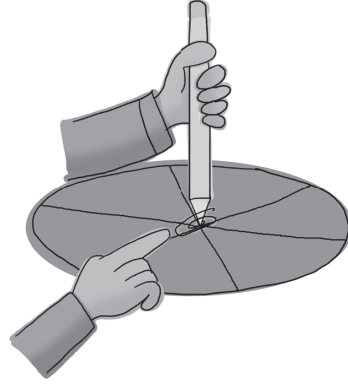
ورقة المصادر 1 : مروحة الأعداد (1 – 6)

أثبت مشبك ورق في منتصف مروحة الأعداد، ثم باستخدام قلم رصاص، وأدور المروحة بلطف.



ورقة المصادر 2 : مروحة الأعداد (0 – 9)

أثبت مشبك ورق في منتصف مروحة الأعداد، ثم باستخدام قلم رصاص، وأدور المروحة بلطف.






0	1	2	3	4	5
6	7	8	9	10	11
12	13	14	15	16	17
18	19	20	21	22	23
24	25	26	27	28	29



30	31	32	33	34	35
36	37	38	39	40	41
42	43	44	45	46	47
48	49	50	51	52	53
54	55	56	57	58	59



60	61	62	63	64	65
66	67	68	69	70	71
72	73	74	75	76	77
78	79	80	81	82	83
84	85	86	87	88	89




90	91	92	93	94	95
96	97	98	99	100	



1 0 0	0 0 0	
2 0 0	0 0 6	
3 0 0	0 0 8	
4 0 0	0 0 2	
5 0 0	0 0 9	
1 0	0 0	1 0
2 0	0 6	2 6
3 0	0 8	3 8
4 0	0 2	4 2
5 0	0 9	5 9



1000 0000
2000 0006
3000 0008
4000 0002
5000 0009






100000 000000 000000 000000 000000

200000 000000 000000 000000 000000

300000 000000 000000 000000 000000

400000 000000 000000 000000 000000

500000 000000 000000 000000 000000






1000000 0000000 0000000 0000000 0000000 0000000

2000000 0000000 0000000 0000000 0000000 0000000

3000000 0000000 0000000 0000000 0000000 0000000

4000000 0000000 0000000 0000000 0000000 0000000

5000000 0000000 0000000 0000000 0000000 0000000

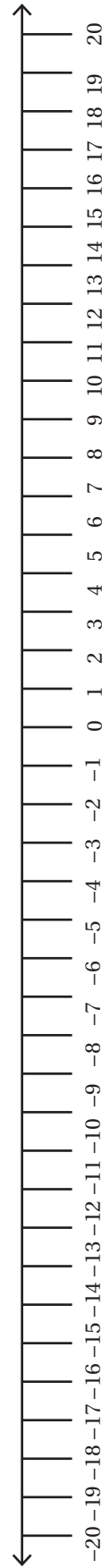
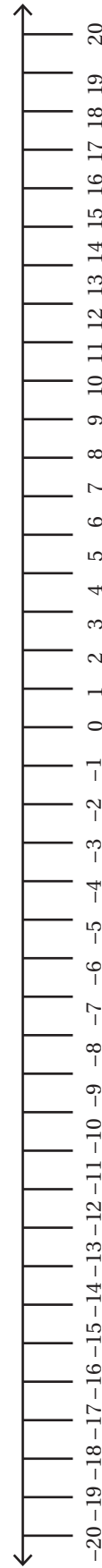
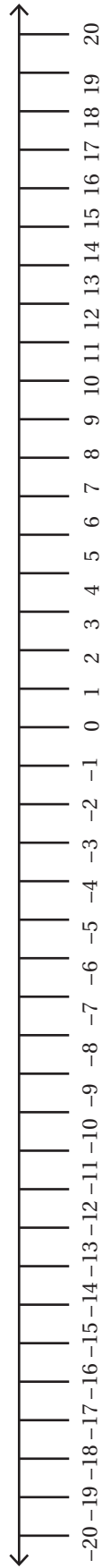
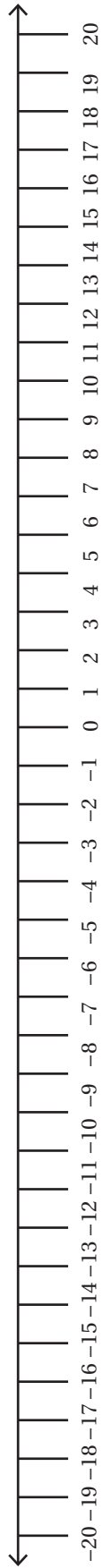


ورقة المصادر 5 : خط أعداد فارغ



--	--	--	--

ورقة المصادر 6: خط أعداد (من 20 - إلى 20)



ورقة المصادر 7: ناتج الضرب وقابلية القسمة 

$$20 \times 11$$

$$50 \times 30$$

$$700 \times 60$$

$$24 \times 18$$

$$29 \times 53$$

$$80 \times 70$$

$$28 \times 63$$

$$72 \times 32$$

$$34 \times 32$$

ورقة المصادر 8: خط أعداد غير مدرج



--	--	--	--

ورقة المصادر 9: لوحة كسور بيضاء



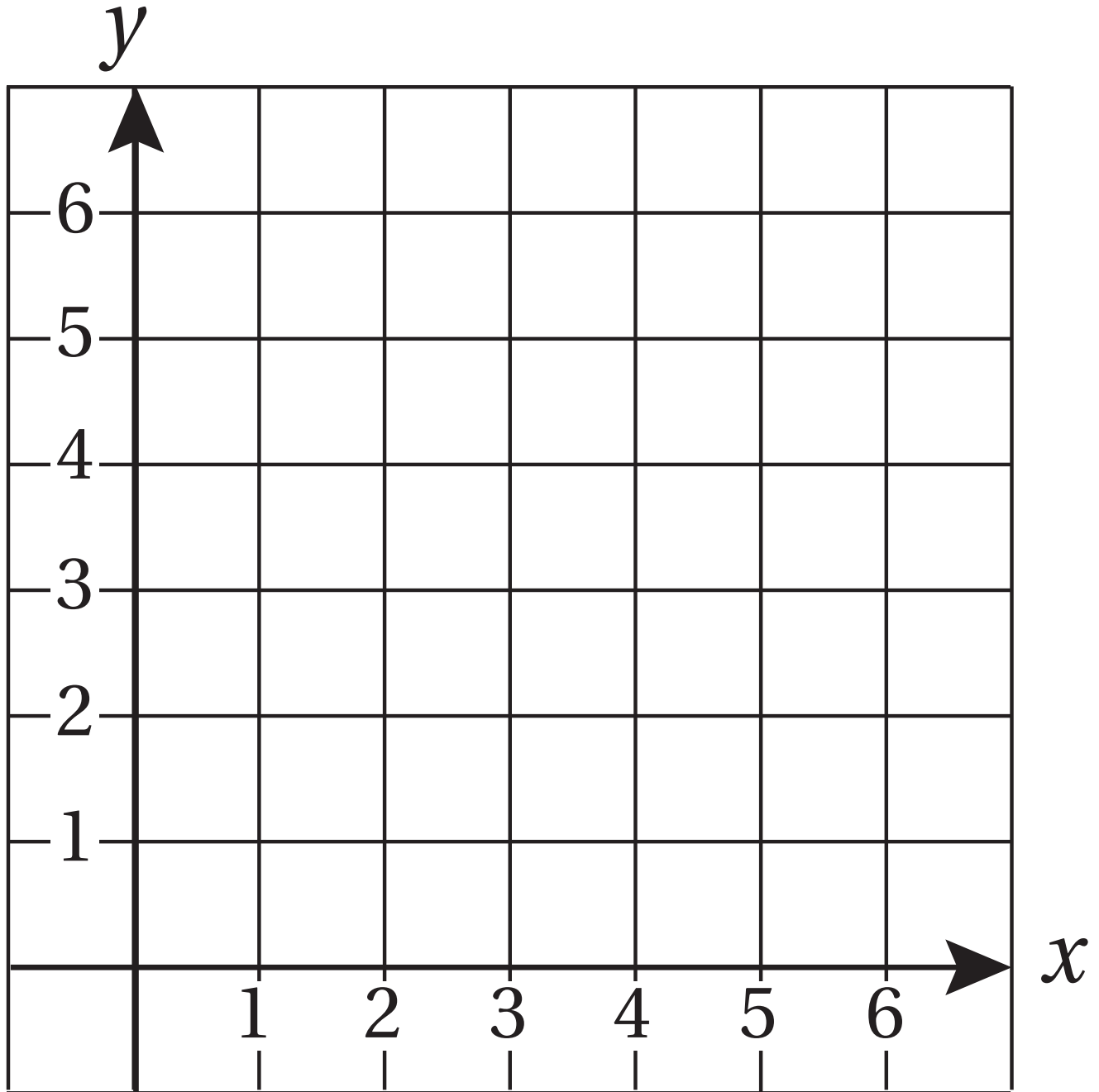
1											
$\frac{1}{2}$						$\frac{1}{2}$					
$\frac{1}{3}$				$\frac{1}{3}$				$\frac{1}{3}$			
$\frac{1}{4}$			$\frac{1}{4}$			$\frac{1}{4}$			$\frac{1}{4}$		
$\frac{1}{5}$		$\frac{1}{5}$		$\frac{1}{5}$		$\frac{1}{5}$		$\frac{1}{5}$		$\frac{1}{5}$	
$\frac{1}{6}$		$\frac{1}{6}$		$\frac{1}{6}$		$\frac{1}{6}$		$\frac{1}{6}$		$\frac{1}{6}$	
$\frac{1}{7}$	$\frac{1}{7}$	$\frac{1}{7}$	$\frac{1}{7}$	$\frac{1}{7}$	$\frac{1}{7}$	$\frac{1}{7}$	$\frac{1}{7}$	$\frac{1}{7}$	$\frac{1}{7}$	$\frac{1}{7}$	$\frac{1}{7}$
$\frac{1}{8}$	$\frac{1}{8}$	$\frac{1}{8}$	$\frac{1}{8}$	$\frac{1}{8}$	$\frac{1}{8}$	$\frac{1}{8}$	$\frac{1}{8}$	$\frac{1}{8}$	$\frac{1}{8}$	$\frac{1}{8}$	$\frac{1}{8}$
$\frac{1}{9}$	$\frac{1}{9}$	$\frac{1}{9}$	$\frac{1}{9}$	$\frac{1}{9}$	$\frac{1}{9}$	$\frac{1}{9}$	$\frac{1}{9}$	$\frac{1}{9}$	$\frac{1}{9}$	$\frac{1}{9}$	$\frac{1}{9}$
$\frac{1}{10}$	$\frac{1}{10}$	$\frac{1}{10}$	$\frac{1}{10}$	$\frac{1}{10}$	$\frac{1}{10}$	$\frac{1}{10}$	$\frac{1}{10}$	$\frac{1}{10}$	$\frac{1}{10}$	$\frac{1}{10}$	$\frac{1}{10}$
$\frac{1}{11}$	$\frac{1}{11}$	$\frac{1}{11}$	$\frac{1}{11}$	$\frac{1}{11}$	$\frac{1}{11}$	$\frac{1}{11}$	$\frac{1}{11}$	$\frac{1}{11}$	$\frac{1}{11}$	$\frac{1}{11}$	$\frac{1}{11}$
$\frac{1}{12}$	$\frac{1}{12}$	$\frac{1}{12}$	$\frac{1}{12}$	$\frac{1}{12}$	$\frac{1}{12}$	$\frac{1}{12}$	$\frac{1}{12}$	$\frac{1}{12}$	$\frac{1}{12}$	$\frac{1}{12}$	$\frac{1}{12}$

ورقة المصادر 10: بطاقات الكسور

$\frac{1}{2}$	$\frac{2}{4}$	$\frac{3}{6}$	$\frac{4}{8}$
$\frac{5}{10}$	$\frac{6}{12}$	$\frac{1}{3}$	$\frac{2}{6}$
$\frac{3}{9}$	$\frac{4}{12}$	$\frac{2}{3}$	$\frac{4}{6}$
$\frac{6}{9}$	$\frac{8}{12}$	$\frac{1}{4}$	$\frac{2}{8}$
$\frac{3}{12}$	$\frac{3}{4}$	$\frac{6}{8}$	$\frac{9}{12}$
$\frac{1}{5}$	$\frac{2}{10}$	$\frac{4}{5}$	$\frac{8}{10}$
$\frac{2}{5}$	$\frac{4}{10}$	$\frac{3}{5}$	$\frac{6}{10}$
$\frac{1}{6}$	$\frac{2}{12}$	$\frac{5}{6}$	$\frac{10}{12}$
$\frac{1}{7}$	$\frac{2}{7}$	$\frac{5}{7}$	$\frac{6}{7}$
$\frac{1}{8}$	$\frac{7}{8}$	$\frac{2}{9}$	$\frac{7}{9}$

ورقة المصادر 11: أحجية الكسور

$2\frac{2}{5} \square 30 = 2$	$2\frac{1}{3} \square 5 = 11\frac{2}{3}$	$4 \square 1\frac{5}{6} = 7\frac{2}{3}$
$3 \square \frac{2}{5} = 7\frac{1}{2}$	$2 \square 2\frac{2}{5} = 4\frac{4}{5}$	$1\frac{3}{8} \square 3 = 4\frac{1}{8}$
$8 \square \frac{1}{3} = 24$	$\frac{2}{7} \square 3 = \frac{6}{7}$	$4 \square \frac{3}{7} = 9\frac{1}{3}$
$\square \square \square = \square$	$\square \square \square = \square$	$\square \square \square = \square$



ورقة المصادر 13: شبكة مربعات

