

# الكيمياء

الصف الخامس العلمي

الفرع الاحيائي

## تأليف

أ.د. سرمد بهجت ديكران  
د. سعدي محمد ظاهر  
أكرم حنسا ايليكا  
ماجد حسين خلف الجصاني  
باسل ابراهيم الشوك  
كاسم رشيد موسى

أ.د. عمار هاني سهيل الدجيلي  
د. سمير حكيم كريم  
خلود مهدي سالم الدليمي  
خليصل رحيم علي  
كريم عبد الحسين الكناني

المشرف العلمي على الطبع  
محمد عبد الخالق حسين

المشرف الفني على الطبع  
علي غازي جواد

الموقع والصفحة الرسمية للمديرية العامة للمناهج

[www.manahj.edu.iq](http://www.manahj.edu.iq)

[manahjb@yahoo.com](mailto:manahjb@yahoo.com)

[Info@manahj.edu.iq](mailto:Info@manahj.edu.iq)



f manahjb

manahj



استناداً الى القانون يوزع مجاناً يمنع بيعه وتداوله في الاسواق

## مقدمة

إن الكيمياء علم نظري عملي تطبيقي . وقد نمت هذه الركائز الرئيسة نمواً سريعاً شملت محصلتها معظم نواحي حياتنا اليومية ، تلبية - في الغالب - لحاجات المجتمع المتزايدة وتحسيناً للبيئة وظروف العيش . وبالتنسيق المستمر مع بقية العلوم الحيوية الأخرى خاصة الفيزياء والرياضيات وعلوم الحياة .

وقد وضعت لجنة تأليف كتاب الكيمياء للصف الخامس العلمي ؛ هذه المبادئ نصب اهتمامها في إثراء محتوى مفردات المنهج الجديد في الكيمياء بما يشجع الطالب ويشوقه لمتابعة الاستزادة من هذا العلم الحيوي ، اخذة بنظر الاعتبار المرحلة العمرية الحساسة للطلاب ومادرسه في السنوات السابقة من هذا العلم بدءاً من الصف الأول المتوسط : وتود اللجنة التأكيد على ضرورة دعم المادة النظرية - في الكتاب - بمقومين رئيسين هما اجراء التجارب العملية (بما يتوافر للمدرس من مستلزمات الجانب العملي) وربط الكيمياء - ما أمكن- بالحياة اليومية وما لها من اثر يتنامى في الصناعة والزراعة والتغذية والادوية ومستحضرات التجميل وغيرها.

وقد تضمنت فصول الكتاب توسعاً افقياً وعمودياً اتسم بالحدائثة والبساطة في الوقت نفسه. مع مراعاة استخدام نفس الرموز والصيغ والاشارات المستخدمة في كتب الكيمياء للسنوات السابقة تيسيراً للطلاب والمدرس ولكي يكون منهج الكيمياء في المرحلة الثانوية متدرجاً متماسكاً (مع اضافة ماتطلبه التحديث من رموز وحدات القياس المتنوعة).

وتؤكد اللجنة لمدرسي الكيمياء عدم ارقام أي رموز أو صيغ أو مصطلحات ، والتي من شأنها تشويش اذهان الطلبة والتقيد -قدر الامكان- بنوعية الأسئلة والنشاطات المذكورة في نهاية كل فصل - التطبيقية المباشرة منها والاستنتاجية فضلاً على التمرينات المذكورة في الهوامش وما رافقتها من معلومات تثقيفية تنير أفكار الطلبة ولا تكون جزءاً ضاعطاً في أسئلة الامتحان وإتماماً للفائدة ترى اللجنة ان تنظم زيارات للمعارض النوعية والسنوية، واقامة سفرات- علمية وترفيهية في الوقت نفسه- لأحد المصانع القريبة من المدرسة واطلاع الطلبة -ميدانياً- على المراحل التصنيعية المتتابعة التي تمر بها المواد الاولية، وصولاً إلى المنتج النهائي ، لأنه هدف ذو أهمية كبرى ، لا بد من الاهتمام به من

قبل المدرسين والادارات.. وتكليف الطلبة باعداد تقارير علمية عن كل زيارة أو سفرة هادفة يكافؤون عليها كنشاط لاصفي مع التأكيد على استثمار موارد البيئة المحلية تعويضاً مناسباً عن بعض المواد غير المتوافرة في حينها. ولا بد لنا أن نشير الى ان هذا العمل هو ثمرة جهد لجنة تأليف الكيمياء المؤلفة من السادة المذكورة اسمائهم على الصفحة الأولى بالاضافة الى الست هدى صلاح كريم. كما تثنى اللجنة جهود الخبيرين العلميين أ.د. عبد المحسن عبد الحميد الحيدري و د.فاضل سليم متي على مساهمتهم في تقييم هذا الكتاب. وبما ان هذا الكتاب مؤلف جديد يحتاج الى تعضيد من خلال التغذية الراجعة من الإخوة المدرسين والاختصاصيين التربويين وأولياء أمور الطلبة وكل من له صلة بتنفيذ هذا المنهج بالصيغة المثلى موافاة المديرية العامة للمناهج / مديرية المناهج والكتب بالاراء والمقترحات التي يفرزها الميدان التعليمي للافادة منها في تنقيح الطبقات اللاحقة.

ومن الله التوفيق

**الؤلفون**

|    |  |
|----|--|
| 10 | 1-1 مقدمة                              |
| 10 | 2-1 اكتشاف الالكترن                    |
| 11 | 3-1 اكتشاف البروتون                    |
| 12 | 4-1 ايجاد نسبة شحنة الالكترن الى كتلته |
| 12 | 5-1 تعيين شحنة الالكترن                |
| 13 | 6-1 اكتشاف النواة                      |
| 14 | 7-1 اكتشاف العدد الذري                 |
| 14 | 8-1 اكتشاف النيوترون                   |
| 14 | 9-1 ترتيب الالكترونات في الذرة         |
| 15 | 10-1 الاشعاع الكهرومغناطيسي            |
| 15 | 11-1 نظرية الكم                        |
| 16 | 12-1 الاطياف الذرية                    |
| 17 | 13-1 طيف الانبعاث الخطي للهيدروجين     |
| 19 | 14-1 الطبيعة الموجية للالكترن          |
| 20 | 15-1 الميكانيكية الموجية               |
| 21 | 16-1 اعداد الكم                        |
| 25 | 17-1 كيفية كتابة الترتيب الالكتروني    |
| 30 | مفاهيم اساسية                          |
| 31 | اسئلة الفصل                            |

## الفصل الثاني

### قوى الترابط والاشكال الهندسية للجزيئات

35

36

40


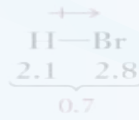
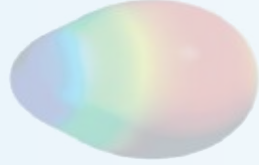

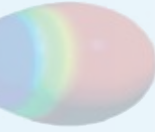
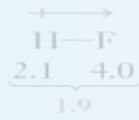
44

45

49

59

60



1-2 مقدمة

2-2 انواع الاواصر الكيميائية

3-2 الرنين

4-2 الشكل الهندسي للجزيئات

5-2 التهجين الاوربيتالي

مفاهيم اساسية

اسئلة الفصل

## الفصل الثالث

### الجدول الدوري وكيمياء العناصر الانتقالية

61

62

77

90

95

96



1-3 الجدول الدوري

2-3 العناصر الانتقالية

3-3 الحديد

مفاهيم اساسية

اسئلة الفصل

## الفصل الرابع

### المحاليل

97

98

99

100

110

112

119

120



1-4 مقدمة

2-4 عملية الذوبان

3-4 انواع وخواص المحاليل

4-4 قانون راؤولت

5-4 تأثير المذاب غير المتطاير على بعض صفات المذيب

مفاهيم اساسية

اسئلة الفصل

## الفصل الخامس

### الدركيات الكيمائية

121

|     |                                     |
|-----|-------------------------------------|
| 122 | 1-5 المقدمة                         |
| 122 | 2-5 سرعة التفاعل الكيمائي           |
| 129 | 3-5 قانون سرعة التفاعل              |
| 135 | 4-5 نظريات سرعة التفاعل             |
| 138 | 5-5 حرارة التفاعل                   |
| 139 | 6-5 طاقة التنشيط                    |
| 141 | 7-5 العوامل المؤثرة في سرعة التفاعل |
| 143 | 8-5 ميكانيكية التفاعل               |
| 148 | مفاهيم اساسية                       |
| 149 | اسئلة الفصل                         |

## الفصل السادس

### الدوامض والقواعد والاملاح

153

|     |  |
|-----|--|
| 154 | 1-6 المقدمة                                      |
| 154 | 2-6 خواص المحاليل المائية للدوامض والقواعد       |
| 156 | 3-6 المفاهيم الجزئية للدوامض والقواعد            |
| 161 | 4-6 المواد الامفوتيرية                           |
| 162 | 5-6 تفاعلات الدوامض والقواعد في المحاليل المائية |
| 163 | 6-6 انواع الاملاح                                |
| 166 | 7-6 دلائل الدوامض والقواعد                       |
| 166 | 8-6 محاليل الدوامض والقواعد                      |
| 168 | 9-6 التسحيح                                      |
| 171 | مفاهيم اساسية                                    |
| 172 | اسئلة الفصل                                      |

## الفصل السابع

### كيمياء البوليمرات

173

174

174

175

187

188

189

1-7 البوليمرات (اللدائن )

2-7 انواع البوليمرات

3-7 البوليمرات المصنعة

4-7 عالم اللدائن (البلاستيك)

مفاهيم اساسية

اسئلة الفصل

## الفصل الثامن

### الهيدروكربونات الاروماتية

191

192

192

201

202

205

205

205

208

209

1-8 مقدمة

2-8 تركيب البنزين

3-8 ميكانيكية تفاعلات الاستبدال الالكتروفيلية

4-8 الفينولات

5-8 تحضير الاسبرين

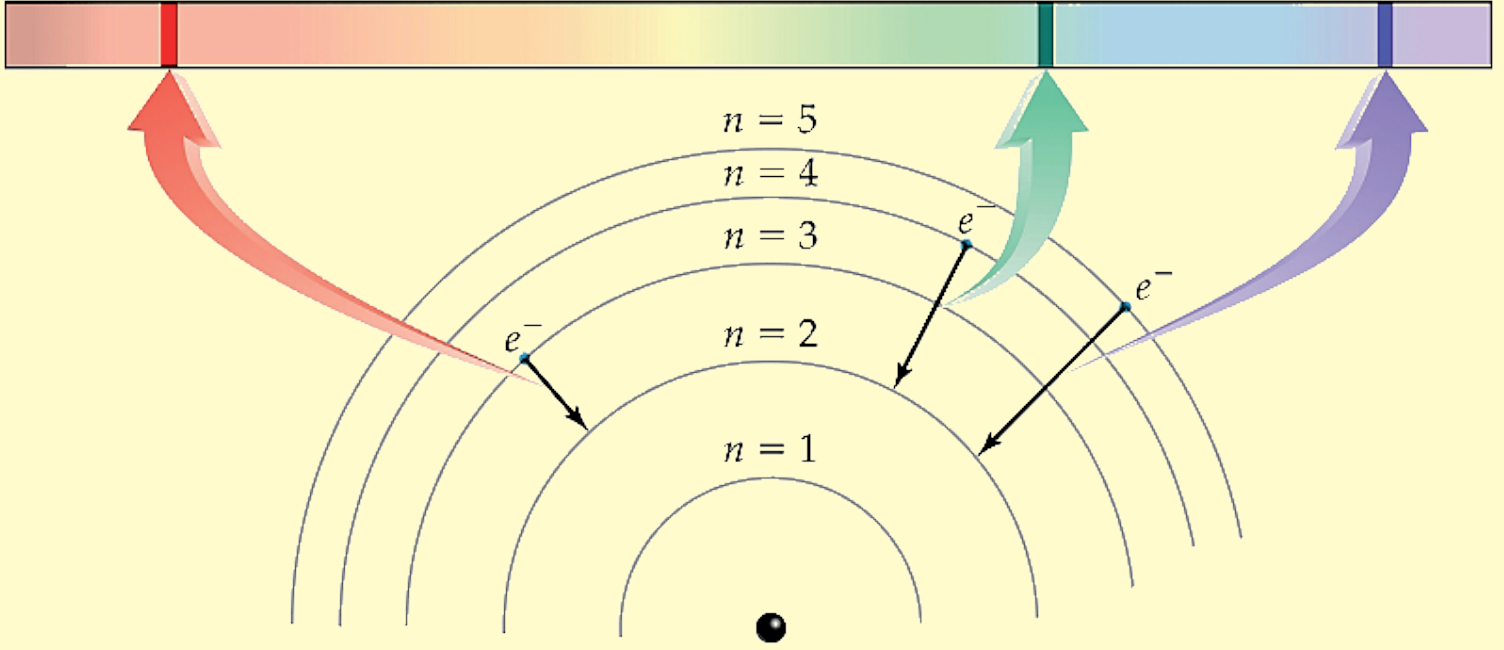
6-8 الكشف عن الفينولات

7-8 المركبات الحلقية غير المتجانسة

مفاهيم اساسية

اسئلة الفصل





## الفصل الأول

# 1

### تطور المفهوم الذري

بعد الانتهاء من دراسة هذا الفصل يتوقع من الطالب ان :-

- يفهم اهمية تجارب انابيب التفريغ الكهربائي في اكتشاف الالكترتون والبروتون
- يميز خواص الاشعة الكاثودية واشعة القناة .
- يتعرف على قيمة شحنة الالكترتون الواحد وكتلته وكيف تم ايجادها .
- يبين اهمية اكتشاف النواة في تطور البناء الذري .
- يعرف ظاهرة الاشعاع الكهرومغناطيسي .
- يفهم معنى الكم من الطاقة واهمية النظرية الكمية .
- يميز الفرق بين الطيف الخطي والمستمر .
- يبين الطبيعة المزدوجة للالكترتون .
- يفرق بين تصور المستوى الرئيسي للطاقة حسب نظرية بور وحسب الميكانيكا الموجية .
- يتعرف على اعداد الكم الاربعة واهميتها .
- يحدد اعداد الكم الاربعة لاي الكترتون في الذرة .
- يعرف مبدأ الاستثناء لباولي .

## 1-1 مقدمة

جاء في نظرية دالتون (Dalton) الذرية التي جاء في احد بنودها ان الذرات غير قابلة للانقسام او التجزئة، الا ان تجارب التفريغ الكهربائي خلال الغازات وظاهرة النشاط الاشعاعي، اثبتت ان الذرات تتكون من دقائق اصغر اي ان الذرة قابلة للتجزئة.

### هل تعلم

مادة كبريتيد الخارصين مادة متفلورة تطلق ومضات ضوئية عند سقوط الضوء عليها.

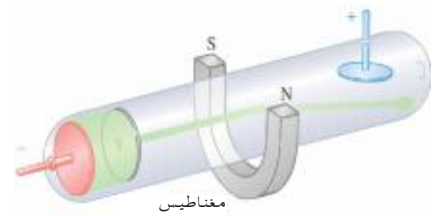
## 2-1 اكتشاف الالكترن

عند تزويد انبوب تفريغ كهربائي، تحتوي على غاز الهيدروجين تحت ضغط منخفض [الشكل (1-1)]، بحاجز كاشف مغطى بكبريتيد الخارصين وكذلك بلوح معدني قرب الكاثود، به شق ضيق مستطيل، وعند امرار التيار الكهربائي نرى خطأً مضيئاً عبر الحاجز، ويمكن تفسير ذلك ان حزماً او اشعة كهربائية تنبثق من الكاثود، وتتجه ناحية الانود، ويوقف اللوح المعدني اغلبها، ولكن يسمح الشق المستطيل بسريان هذه الحزمة الضيقة من خلاله، وترطم بالحاجز فتنتج خطأً مضيئاً، ونظراً لان الحزم تبدو قادمة من الكاثود فانها تعرف بالاشعة الكاثودية وعند تقريب قطب باحث عن الشمال لمغناطيس من ناحية جانب الانبوب فان الخط المضيء يتقوس الى اسفل، اما اذا قرب قطب باحث عن الجنوب فان الخط المضيء يتقوس الى اعلى. ويدل اتجاه الانحراف على ان اشعة الكاثود مشحونة بكهربائية سالبة. [الشكل (2-1)]. ويمكن الوصول الى نفس الاستنتاج عند وضع صفائح مشحونة كهربائياً فوق الحاجز وتحتته فان الخط المضيء يتقوس ناحية الصفيحة الموجبة لان الشحنات المتضادة يجذب بعضها بعضاً [الشكل (3-1)]. وعند دراسة غازات مختلفة وجد ان هذه الجسيمات التي تؤلف الخط المضيء ذات شحنة سالبة قيمتها واحدة وكذلك كتلتها وسميت هذه الجسيمات بالالكترونات. ان من اهم خواص الاشعة الكاثودية الاتي:

- 1 - تسير بخطوط مستقيمة منبعثة من القطب السالب باتجاه القطب الموجب.
- 2 - تتكون من دقائق مادية ذات كتلة متناهية في الصغر وتسير بسرعة كبيرة.
- 3 - تتأثر بالمجال الكهربائي وتتجذب نحو القطب الموجب مما يدل على انها ذات شحنة سالبة.
- 4 - تتأثر بالمجال المغناطيسي.
- 5 - تؤين الوسط الذي تمر فيه.



نموذج لانبوبة التفريغ الكهربائي.



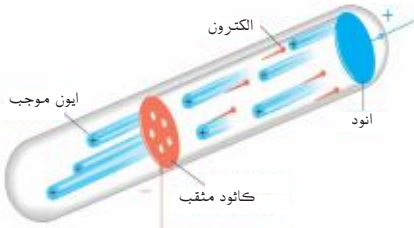
الشكل 2-1

تأثر الاشعة الكاثودية بالاقطاب المغناطيسية.



الشكل 3-1

تأثر الاشعة الكاثودية بالصفائح الكهربائية.



الشكل 4-1

انبوبة جولدشتاين

ادت التجارب التي اجراها اولاً العالم جولدشتاين عام 1886، الى اقتراح ان الجسيمات الموجبة ، تتكون ايضاً في انابيب التفريغ الكهربائي، وفي انبوبة جولدشتاين [الشكل (4-1)] يوجد القطب الموجب (الانود) نحو اليمين والقطب السالب (الكاثود) نحو اليسار ، وهو يتكون من قطعة من المعدن محفور به ثقب، ويمكن وضع حاجز كاشف على الانبوبة ، على يسار الكاثود، وعند امرار تيار كهربائي يتكون خط مضيء يمكن تفسير مصدره كما يلي، تنجذب الالكترونات المنبعثة من الكاثود نحو الانود وحيث انه يوجد غاز الهيدروجين في الانبوبة تصطدم الالكترونات بالذرات المتعادلة للغاز ، واذا كان للالكترونات طاقة كافية ، فانه يمكنها طرد الالكترونات الاخرى بعيدا عن الذرات المتعادلة ، فيتخلف عن هذا الطرد للالكترونات السالبة جسيمات موجبة متبقية في هذا المكان يلتقط اغلبها الالكترونات وتصبح متعادلة وقسم قليل من هذه الجسيمات الموجبة تنزلق من خلال الثقب الى منطقة خلف الكاثود "لذا تسمى باشعة القناة" مكونة حزمة من الجسيمات تتأثر بالمجال الكهربائي حيث انها تنحرف باتجاه الصفيحة ذات الشحنات السالبة وكذلك تتأثر بالمجال المغناطيسي ايضاً، حيث تنحرف باتجاه القطب الباحث عن الشمال نحو الاعلى والقطب الباحث عن الجنوب يتقوس الخط نحو الاسفل . ووجد ايضاً ان هذه الجسيمات تكون عادة اثقل من الالكترونات حيث تعتمد الكتلة على نوع الغاز الموجود في الانبوبة . سميت هذه الجسيمات فيما بعد بالبروتون. ومن دراسة خواص هذه الاشعة وجد الاتي :

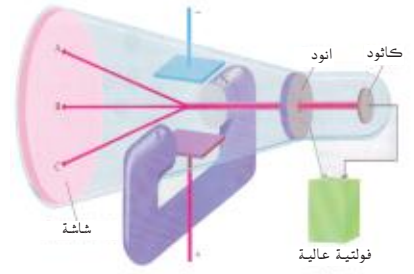
### تمرين 1-1

ما هي خواص الاشعة الكاثودية ؟

- 1 - تنجذب نحو القطب السالب مما يؤكد انها موجبة الشحنة.
- 2 - لها كتلة وسرعة مما يدل على انها دقائق مادية وتكون عادة اثقل من الالكترونات وكتلتها تعتمد على نوع الغاز الموجود في انبوب التفريغ الكهربائي.
- 3 - تتأثر بالمجالين الكهربائي والمغناطيسي.

## 1 - 4 إيجاد نسبة شحنة الإلكترون الى كتلته

اجريت اول دراسة كمية عن انحراف حزم الكترونية بواسطة مجالات كهربائية ومغناطيسية من قبل العالم ثومسون (Thomson) عام 1897 ويوضح الشكل (5-1) نموذجاً لذلك، حيث استخدم انبوبة الاشعة الكاثودية ومستعيناً بخواص هذه الاشعة، وجد ان هذه الاشعة تنحرف عن مسارها المستقيم تحت تأثير المجال المغناطيسي ولكنها تعود الى مسارها الاصلي عند تسليط مجال كهربائي مساوي في شدته للمجال المغناطيسي باتجاه عمودي على اتجاه المجال المغناطيسي ومن معرفة شدة المجالين الكهربائي والمغناطيسي، امكن حساب نسبة الشحنة الى الكتلة الخاصة بالجسيمات وتبين ثومسون ان هذه النسب ثابتة لا تتغير بغض النظر عن الفلز الذي استخدم لصنع الكاثود او طبيعة الغاز المستخدم داخل انبوبة الاشعة الكاثودية وقد وجد ان قيمة هذه النسبة تساوي  $1.76 \times 10^{11} \text{ C/kg}$  (كولوم \ كيلو غرام) .

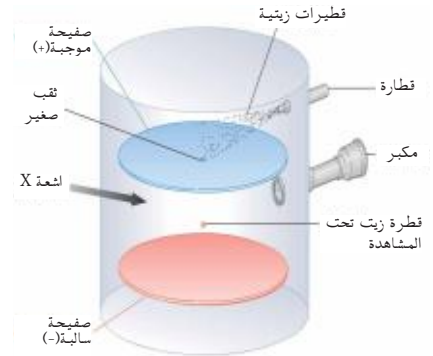


الشكل 5-1

نموذج لانبوبة ثومسون.

## 1-5 تعيين شحنة الإلكترون

عام 1909 قام ميليكان (Millikan) بتعيين شحنة الإلكترون وذلك بوضع قطيرات صغيرة مشحونة بشحنة سالبة بين قطبين كهربائيين كما في الشكل (6-1) القطب الموجب في الاعلى يحاول ان يجذب القطيرات الزيتية المشحونة بالشحنة السالبة وفي نفس الوقت تميل القطيرات الى النزول الى الاسفل بفعل قوة الجذب الارضي . وعند استقرار القطيرات في حالة السكون بين القطبين ومن معرفة نصف قطرها وكثافتها وشدة المجال الكهربائي تمكن ميليكان من حساب الشحنة المحمولة على هذه القطيرات ووجدتها تساوي  $1.6 \times 10^{-19} \text{ C}$  كولوم او احدى مضاعفاتها البسيطة وذلك لان القطيرات يمكن ان تشحن باكثر من شحنة سالبة واحدة . وعليه فان شحنة الإلكترون الواحد يجب ان تساوي قيمة اصغر شحنة تحملها القطيرة  $1.6 \times 10^{-19} \text{ C}$  وباستعمال هذه القيمة لشحنة الإلكترون وقيمة نسبة شحنة الإلكترون الى كتلته التي اوجدها ثومسون ( الفقرة 1 - 4 اعلاه ) امكن حساب كتلة الإلكترون من شحنة الإلكترون التي تم ايجادها بواسطة ميليكان:



الشكل 6-1

نموذج لتجربة ميليكان.

كتلة الالكترتون =  $\frac{\text{شحنة الالكترتون التي اوجدها ميليكان}}{\text{نسبة شحنة الالكترتون الى كتلته التي اوجدها ثومسون}}$

### هل تعلم

كان تعبير رذرفورد عندما شاهد نتائج تجربته حرفياً كالآتي «لقد كان شيئاً عظيماً لم يكن تصديقه تقريباً ، فقد كان كما لو اطلقت قذيفة لمدى 15 بوصة على قطعة ورق رقيق شبه شفاف ثم ارتدت ثانية وضربتك»

$$1.6 \times 10^{-19} \text{ C}$$

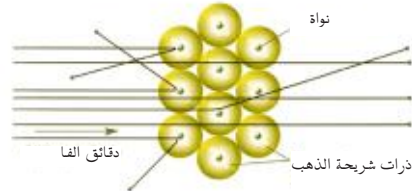
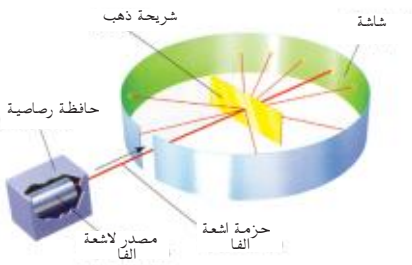
كتلة الالكترتون =

$$1.76 \times 10^{11} \text{ C/kg}$$

$$9.1 \times 10^{-31} \text{ kg} = \text{كتلة الالكترتون}$$

## 1- 6 اكتشاف النوات

اقترح ثومسون انه يمكن اعتبار الذرة منطقة كروية موجبة الشحنة مطمور فيها الالكترونات السالبة (مثل قطعة من الكيك مملوءة بالزبيب ) ولا بد ان يكون الجزء الاكبر من كتلة الذرة مرتبطاً بالمنطقة الكروية الموجبة الشحنة . وهو استنتاج نشأ من ملاحظة ان الاجزاء الموجبة في الذرة اكثر ثقلاً من الالكترونات عام 1910 اجرى رذرفورد (Rutherford) التجربة التقليدية التي اختبرت نموذج ثومسون ، فقد كان يتفحص تشتت دقائق الفا بواسطة شرائح رقيقة من المعدن ، وطبقاً لنموذج ثومسون يتكون المعدن من ذرات على هيئة كرات موجبة الشحنة تحتوي على الكترونات سالبة وحيث ان دقائق الفا على درجة عالية جداً من الطاقة ، فانها سوف تنفذ من خلال شرائح المعدن على هيئة خط مستقيم لان الشحنة الموجبة والكتلة موزعتين بالتساوي في كل مكان من المعدن (حسب نموذج ثومسون ) وانه هناك فرصة ضئيلة للانحراف عن مسارها الاصلي . وكما هو متوقع فان 99% من دقائق الفا اخترقت الشريحة ، وبعضها انحرف بحددة وانعكس عدد قليل منها على طول مسارها [الشكل (7-1)].



الشكل 7-1

نموذج لتجربة رذرفورد

### تمرين 2-1

لمن ينسب اكتشاف نواة الذرة ؟

### هل تعلم

اذا كبرت الذرة بحيث اصحت النواة في حجم نقطة (•) لكانت الذرة كُلهما اكبر من منزل .

ولم يكن ذلك مصداقاً على الاطلاق لرذرفورد لان نموذج ثومسون لا يستطيع تفسير هذه الانحرافات وكنتيجة لذلك فسر رذرفورد هذه الانحرافات بان الشحنة الموجبة والكتلة في شريحة الفلز ممركزه في منطقة صغيرة جداً . وعليه رأى رذرفورد ان الذرة لها نواة او مركز، تتمركز فيها شحنتها الموجبة وكتلتها. وتوضح النتائج الكمية لتجارب التشتت ، مثل التي قام بها رذرفورد، ان لنواة الذرة قطراً يساوي  $10^{-13} \text{ cm}$  وللذرات اقطار تعادل تقريباً 100000 مرة قطر النواة ( $10^{-8} \text{ cm}$ ). وبعبارة اخرى تشغل النواة حيزاً صغيراً جداً من الحجم الكلي للذرة ومعظم حجمها فراغ تشغله الالكترونات.

## 7-1 اكتشاف العدد الذري

إذا كانت النواة تتكون من بروتونات، فما هو عدد هذه البروتونات الموجودة في نواة معينة؟ ظل هذا السؤال يتردد حتى جاءت الإجابة من الملاحظات العملية، التي أبدأها العالم موزلي (Mossile) عام 1913 والتي أدت إلى اكتشاف العدد الذري .

## 8-1 اكتشاف النيوترون

كان السؤال القائم وقتها كيف يمكن تفسير النظائر؟ وكيف يمكن الحصول على كتل مختلفة من نفس العنصر، إذا كانت كلها تشتمل على نفس العدد من البروتونات، وكان الرد على ذلك السؤال، هو أنه يجب أن يكون هناك شيء آخر في النواة. في عام 1932 قام العالم شادويك (Chadwick) بقذف شريحة رقيقة من البريليوم بدقائق الفا فظهرت اشعة تشبه اشعة كاما ذات طاقة عالية جداً من شريحة المعدن، أظهرت التجارب اللاحقة، أن هذه الأشعة تمثل النموذج الثالث لمكونات الذرة، أطلق عليها شادويك بالنيوترون لأن شحنته متعادلة وكتلته تقريباً مساوية لكتلة البروتون . تعتبر النواة في الوقت الحالي، مكونة من نيوترونات وبروتونات وللنيوترون كتلة مقدارها (وحدة كتل ذرية)  $1.00866 \text{ amu}$  وشحنة مقدارها صفر (0) كما أن للبروتون كتلة مقدارها  $1.00727 \text{ amu}$  وشحنة  $(1+)$  والرمز (Z) للعدد الذري والذي يمثل عدد البروتونات في نواة ذرة أي عنصر و الرمز (A) يمثل عدد الكتلة والذي يساوي مجموع عدد البروتونات والنيوترونات في نواة أي عنصر.

## 9-1 ترتيب الإلكترونات في الذرة

لقد مرت عملية ترتيب المكونات في الذرة بعدة نظريات، وكانت هذه النظريات تتلاشى أو تتطور حسب قدرتها على تفسير الظواهر الفيزيائية والكيميائية. ،فإن النموذج الذي يعتبر أن الذرة مكونة من نواة موجبة تدور حولها الإلكترونات السالبة وأن حركة الإلكترونات تضاد قوة الجذب الناتج عن النواة، تهمل تفسير لماذا لا تشع هذه الإلكترونات طاقة حيث لوحظ في جميع الحالات الأخرى أن الشحنات الكهربائية المتحركة تحت تأثير قوى الجاذبية أنها تفقد طاقة وفي حالة الإلكترونات سوف ينتج عن فقدان طاقة بطء في

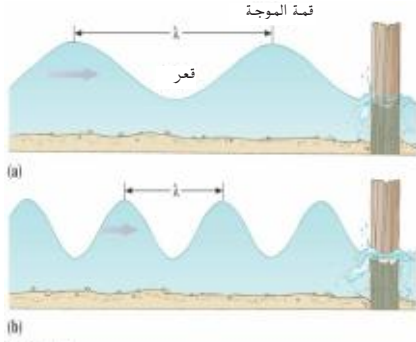
### هل تعلم

أن العدد الذري (Z) هاماً بصفة خاصة في الكيمياء، نظراً لأنه يعطي عدد البروتونات الموجبة الشحنة في النواة والذي يساوي عدد الإلكترونات خارج النواة لذلك تكون الذرة متعادلة. وبما أن (Z) يمثل عدد البروتونات في نواة الذرة فهو يعتبر خاصية نووية تمدنا بمعلومات مهمة عن باقي الذرة.

حركة الإلكترون مما يؤدي الى انجذابه نحو النواة تدريجيا في مسار حلزوني مقتربا منها الى ان يسقط داخلها وفي مساره الحلزوني هذا يعطي طاقة باستمرار بشكل طيف مستمر اشبه مايكون بطيف الاشعة الشمسية الا ان هذا لا يحدث حيث ان الذرات مستقرة في بنائها الذري فقاد هذا الاستقرار العلماء الى تقديم نظريات اخرى حول البناء الذري .

## 10-1 الاشعاع الكهرومغناطيسي

يشمل هذا التعبير ضرباً مختلفة من الاشعاع ، كالدفع الذي ينتقل الينا من المدفأة او الضوء المنعكس على السطوح اللامعة ، او الاشعة المستخدمة في المستشفيات. فهي على اختلافها تشترك في بعض الصفات الجوهرية ، فكل هذه الانواع من الاشعاع تنتقل في الفراغ بسرعة واحدة مقدارها  $3 \times 10^8$  m/s وهي ما تعرف بسرعة الضوء ، وكل هذه الانواع ذات طبيعة موجية وامواجها تشبه تلك التي تتشكل فوق سطح الماء الذي القى فيه حجر [الشكل (8-1)] ونلاحظ التكرار في هذه الامواج ، اي ان الموجة تتكرر على فترات منتظمة وعدد هذه الامواج هو ما يعرف بتردد الموجة التي تحدث في الثانية عندما يمر الاشعاع بنقطة محددة [الشكل (9-1)] وإذا كانت الامواج صغيرة كان ترددها عالياً كما ان العكس صحيح ويرتبط طول الموجة بتردها بالعلاقة :



الشكل 8-1

نموذج لتشكيل الامواج فوق سطح الماء.



الشكل 9-1

نموذج للطبيعة الموجية للضوء.

حيث C: سرعة الضوء بوحدة (m/s)

U (نيو) التردد بوحدة (1/s)

λ (لامدا) طول الموجة بوحدة (m)

$$v = \frac{c}{\lambda}$$

## 11-1 نظرية الكم

لقد مهد ماكس بلانك (Plank) للثورة العلمية التي ظهرت في بداية القرن العشرين، وذلك بفرضيته التي تعتبر الاشعة الكهرومغناطيسية كأنها حزمة من مجموعات الطاقة الصغيرة والتي سماها بالكمات، عندما كان يدرس ظاهرة انبعاث الضوء من الاجسام الساخنة، اقترح بلانك ان الاجسام الساخنة تبعث طاقة بكميات محددة صغيرة تدعى كمات او الكم (quantum) (وحدة الطاقة) وهو الكمية الادنى من الطاقة التي يمكن ان يفقدها او يكتسبها الجسم

لوفرضنا سيارة تسير بسرعة محددة، فإذا شئنا ان نزيد من سرعتها لتصل الى سرعة اعلى فلا بد للسيارة ان تمر عبر جميع السرعات التي تقع بين السرعة الدنيا والسرعة الاعلى ولا يمكن لها ان تقفز من سرعة الى سرعة اعلى ، كما تتطلب فكرة قفزات الكم .

## تمرين 3-1

ما هو الفوتون

ولا تتم عملية فقد الطاقة او اكتسابها على نحو مستمر وانما بشكل دفعات او دفقات من الطاقة بحيث ان الطاقة التي فقدت او اكتسبت هي مضاعف صحيح لهذا الكم او المقدار ويتوقف مقدار الكم على تردد الاشعاع ويرتبط به ثابت (سمي بثابت بلانك  $h$ ) وقيمه  $6.63 \times 10^{-34} \text{ J.s}$  وطاقة بلانك تعرف بالعلاقة الاتية :

$$E = h \nu$$

حيث  $E$  الطاقة بوحدات الجول ( J )

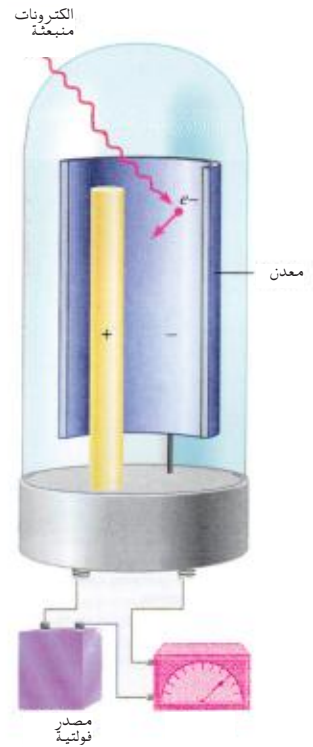
$h$  ثابت بلانك بوحدات ( J.s )

ثم جاء العالم اينشتاين بعد ذلك ليوسع نظرية بلانك في تفسيره لظاهرة التأثير الكهروضوئي ، وهي ظاهرة انبعاث الالكترونات من فلز عندما يوجه اليه الضوء ، [الشكل (1-10)] حيث ان انبعاث الالكترونات يعتمد على تردد الضوء اي على طاقته فاذا كان تردد الاشعاع الذري يرتطم بسطح المعدن منخفضاً لنانلاحظ انبعاث الالكترونات وعند استخدام ترددات متزايدة يصل الحال فجأة الى تردد تبدأ عنده الالكترونات بالانبعاث ، اما قبل ذلك فمهما زادت شدة الاشعاع للتردد المنخفض فان المعدن لا يتأثر . واذا تجاوز تردد الاشعاع تلك القيمة الدنيا للانبعاث لا يزداد عدد الالكترونات المنبعثة ولكن تزداد الطاقة التي يحملها الالكترونون . وقد استخدم اينشتاين معادلة بلانك لحساب طاقة الكم الضوئية التي سماها بالفوتونات (photons) والفوتون جسيم من الاشعاع الكهرومغناطيسي له كتلة تساوي صفر لكنه يحمل كمّاً من الطاقة تعتمد على تردد الموجة الكهرومغناطيسية وتمتاز طاقة الفوتون بالتردد الادنى اللازم لانبعاث الالكترونات بالتغلب على طاقة ارتباطها في الذرة . وكان تفسير اينشتاين لهذه الظاهرة اول تطبيق هام لنظرية الكم . كذلك فان هذا التفسير اضى على الضوء صفة الدقائقية الى جانب الصفة الموجية .

## 12-1 الاطياف الذرية

مرر العالم نيوتن (Newton) ضوء الشمس العادي خلال موشر زجاجي ووجد انه يتحلل الى مجموعة الوان بدءاً من البنفسجي وانتهاءً بالاحمر [الشكل (1-11)] ولعدم وجود مناطق منفصلة بين لون واخر سمي هذا الطيف بالطيف المستمر .

لكن لوحظ انه اذا تعرضت ذرات عنصر نقي في الحالة الغازية للحرارة او في انبوب التفريغ الكهربائي في حالة منخفضة الضغط ينبعث اشعاع (طيف) من ذرات العنصر المتوهج لا يكون متصلاً او مستمراً وانما يتكون من عدد قليل من خطوط الضوء تفصلها مسافات معتمة كبيرة نسبياً،



الشكل 10-1

ظاهرة التأثير الكهروضوئي.



## هل تعلم

ان لكل عنصر طيف انبعاث خاص به. وتستعمل اطراف الانبعاث لتعيين هويات عينات مجهولة وتحديد نسبة مكونات النجوم.

### الشكل 11-1

ظاهرة الطيف المستمر.



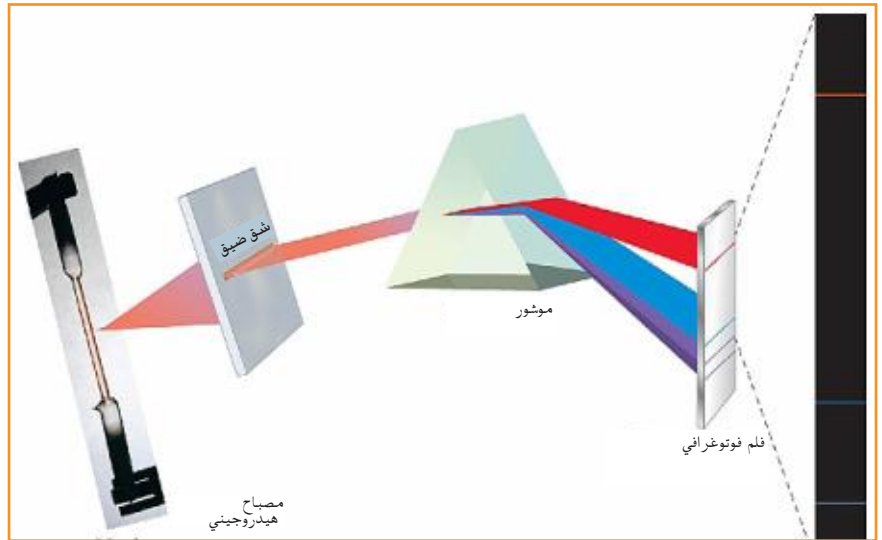
اطلق عليه طيف الانبعاث الخطي (Line emission spectrum) لوجود مسافات فاصلة بين لون واخر. وقد اكتشف فيما بعد ان لكل عنصر طيفاً خطياً يميزه عن غيره من العناصر [الشكل (1-12)] ويتبين لنا من طيف الانبعاث الخطي ان الاشعة المنبعثة من الذرة تنبعث بطاقات محددة فقط اي انها تنبعث على وفق اسلوب الكم وليس على نحو متصل.

### تمرين 4-1

ان قوس قزح هو سلسلة من الالوان؟ ناقش هل تعتبر هذه السلسلة من طيف الانبعاث المستمر ام الخطي .

### الشكل 12-1

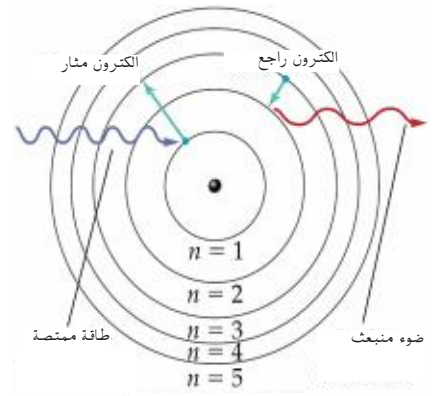
ظاهرة الطيف الخطي.



## 13-1 طيف الانبعاث الخطي للهيدروجين

تدعي النظرية الكلاسيكية أن ذرة الهيدروجين يمكن ان تستثار باي كمية من الطاقة تتلقاها. لذلك توقع العلماء انبعاث سلسلة من طيف مستمر. لكن ذرة الهيدروجين لا تبعث الا ترددات محدودة من الضوء، لماذا، فعند مرور التيار في غاز الهيدروجين تحت ضغط منخفض تزداد الطاقة الكامنة لبعض ذراته ويسمى ادنى مستوى في طاقة الذرة بالمستوى المستقر (Ground state) وعندما يصبح مستوى الطاقة الكامنة في الذرة أعلى من المستوى المستقر فتكون الذرة في حالة

استثارة (Excited state) وعندما تعود الذرة من حالة الاستثارة الى المستوى المستقر تفقد ما اكتسبته من طاقة في شكل اشعة كهرومغناطيسية (فوتون) وتكون طاقة الفوتون مساوية للفرق بين مستوى الطاقة الاول والثاني [الشكل (13-1)] واطهرت الدراسات حقيقة ان ذرات الهيدروجين تطلق فقط ترددات محددة من الضوء وان فرق الطاقة بين مستويات طاقة الذرة هو فرق محدد وهذا يعني ان الكترون ذرة الهيدروجين الوحيد موجود في مستويات ذات طاقة محدودة جداً .


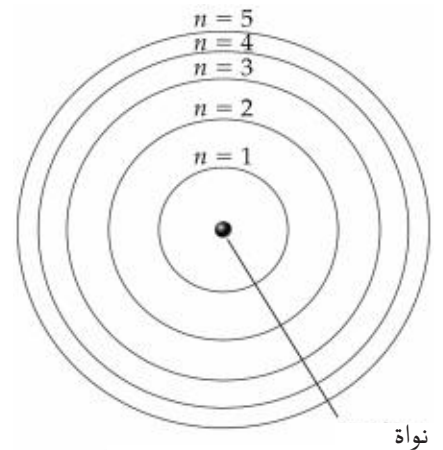


الشكل 13-1

انتقال الكترون من مستوى اقل طاقة الى مستوى اعلى طاقة وبالعكس.

### 1-13-1 نظرية بور لذرة الهيدروجين

بعد اكتشاف اطيف العناصر حاول العلماء تفسيرها بالاعتماد على حركة الالكترون في الذرة لكن المحاولة باءت بالفشل. فقد افترض ان الالكترون يتحرك حول النواة بسرعة ثابتة، في مسار منحنى فان قوانين الفيزياء تتطلب أن اي دقيقة مشحونة كالالكترون تخضع لعملية تسارع فانها سوف تفقد طاقة على صورة اشعة كهرومغناطيسية وهذا مايؤدي الى تباطؤ سرعة الالكترون وبالتالي سوف يصطدم الالكترون بالنواة وتنتهي الذرة. ولان الذرات لاتنتهار كان على العلماء تحدياً للتفسير كيفية دوران الالكترونات. استخدم العالم بور (Bohr) افكار العالمين بلانك واينشتاين السابق ذكرها في نظريته التي تمكن بها من حساب طاقة الالكترون في ذرة الهيدروجين. وقد اعتمد بور في وضع نظريته على حقيقتين اولهما ان الذرات لاتنتهار وثانيهما ان انبعاث الضوء من الذرة يتم بتردد معين، مما يعني ان تغيرات الطاقة في الذرة هي تغيرات معينة ومحددة. وهذا يدل على ان الالكترون يوجد في مناطق ذات طاقة محددة ولايمكن ان يوجد بينهما لانه مجبر على مستويات طاقة محددة في الذرة .



الشكل 14-1

مستويات رئيسة من الطاقة ذات حجم ثابت وطاقة ثابتة.

لقد افترض بور في نظريته ان الالكترونات تدور في مدارات ذات حجم ثابت وطاقة ثابتة [الشكل (14-1)] ويمكن تلخيص فرضيات نظرية بور مما يأتي :-

1. يدور الالكترون في مدار ثابت (ذي قطر محدد) وطاقة محددة ولايشع طاقة نتيجة لدورانه هذا.
2. تنبعث الطاقة عن الذرة في حالة واحدة وهي انتقال الالكترون من مدار محدد الى مدار اخر ذي طاقة اقل من طاقته في مداره الاول.

لقد اثبتت نظرية بور جدواها على بنية ذرة الهيدروجين ولكن حين حاول العلماء تطبيق الافكار الواردة في نظرية بور على ذرات العناصر الاخرى فشلت بسبب ان باقي الذرات تحتوي على عدد من الالكترونات اكثر لذلك فان الاطياف الذرية لهذه العناصر اكثر تعقيداً من الطيف الذري للهيدروجين وهذا يعني ان مستويات الطاقة لها اكثر تعقيداً وان هناك مستويات فرعية من الطاقة تبدأ من المستوى الثاني لذلك بدء التفكير في الامر من جديد ونشط البحث عن نظرية اكثر شمولية.

## 14-1 الطبيعة الموجية للالكترون

ذكرنا ان الالكترون عبارة عن دقيقة ذات كتلة محددة وشحنة كهربائية سالبة وان للضوء طبيعة المادة، اضافة الى طبيعته الموجية، اقترح دي برولي (De Broley) عام 1924 احتمال وجود الطبيعة الثنائية (الموجية والدقائقية) في حالة الدقائق ايضاً وقد اعتمد على ما وصل اليه اينشتاين وبلانك

$$E = mc^2 \quad \dots\dots\dots (1) \quad \text{معادلة اينشتاين}$$

$$E = h \nu \quad \dots\dots\dots (2) \quad \text{معادلة بلانك}$$

بما ان معادلة 1 و 2 متساويتان

$$h \nu = mc^2 \quad \dots\dots\dots (3)$$

وحيث ان  $\nu = \frac{c}{\lambda}$  وبتعويضها في معادلة (3) نحصل على:

$$mc^2 = h \frac{c}{\lambda} \quad \dots\dots\dots (4)$$

وبحذف قيمة c واحدة من الطرفين في المعادلة (4) تصبح المعادلة:

$$mc = \frac{h}{\lambda} \quad \dots\dots\dots (5)$$

وبترتيب معادلة (5) نحصل على:

$$\lambda = \frac{h}{mc} \quad \dots\dots\dots (6)$$

وبما ان الزخم يعرف بالعلاقة  $mc = p$

تصبح المعادلة النهائية كالآتي :

$$\lambda = \frac{h}{p} \quad \dots\dots\dots (7)$$

استنادا الى هذا الاشتقاق يمكن لسيل من الالكترونات المتحركة أن يؤدي الى نمط تداخلي، اي ان السيل الالكتروني المتحرك يشبه الفوتونات المكونة للاشعة.

### تمرين 5-1

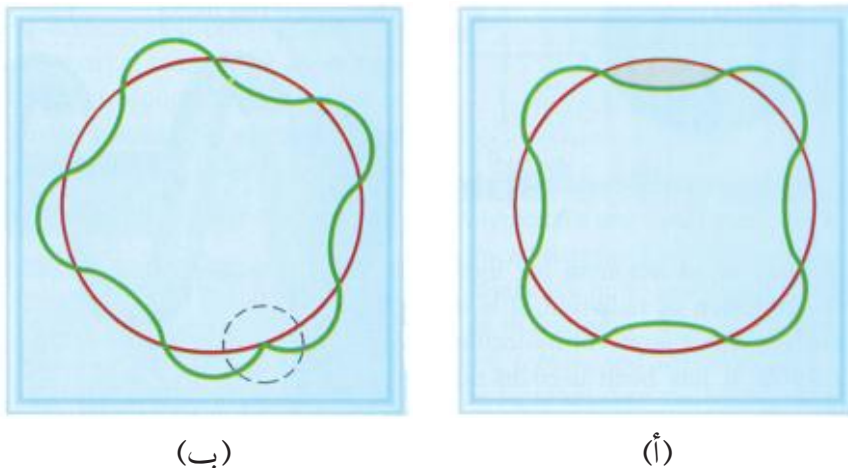
لماذا فشلت نظرية بور؟

## 1 - 15 الميكانيكا الموجية

رغم نجاح نظرية بور في تفسير الطيف الذري للهيدروجين وكذلك في تفسير الاطياف الذرية للانظمة التي فيها الكترون واحد مثل ( $He^+$  و  $Li^{2+}$ ) إلا انها لم تعطِ نتائج جيدة عند محاولة تفسير طيف الذرات التي فيها اكثر من الكترون واحد. عام 1936 استخدم العالم شرودنكر ( $Shrodenger$ ) الرياضيات لدراسة ذرة الهيدروجين. وبدأ بذلك علم يسمى الميكانيكا الموجية او ميكانيك الكم وقد توصل شرودنكر الى حل معادلة رياضية سميت بأسمه و سميت أيضاً بمعادلة الموجة تستند فكرة شرودنكر إلى انه بدلاً من ان نفكر في وجود الكترون يتحرك دائرياً في مدار ثابت، علينا ان نفترض سلسلة من الامواج تتحرك ضمن هذا المدار المستقر وأن محيط المدار يجب ان يساوي عدداً مضاعفاً بسيطاً لطول موجة الالكترون. وحسب افتراض شرودنكر فان السلوك الموجي للالكترون يعطي تقديراً لاحتمال وجود الالكترون ضمن حدود موجية. وهذا المفهوم الجديد هو بديل لنظام المدارات الثابتة الذي افترضه بور في نظريته وبدلاً من ان ننظر للالكترون وكأنه جسيم يدور في مدار ذي نصف قطر محدد فان علم الميكانيكا الموجية يصف حركة الالكترون بدلالة الدالة الموجية [الشكل (1-15)] والتي نطلق عليها اسم الاوربيتال وهي تعتمد على الطاقة الكلية وعلى طاقته الكامنة واحداثيات موقعه ( $z, y, x$ ) وطبيعة سلوك الالكترون الموجية هذه تجعل قدرتنا غير ممكنة على تحديد موقع الالكترون وزخمه (كمية تحركه) في الوقت نفسه. وقد صاغ هايزنبرغ المبدأ المعروف باسمه (مبدأ عدم الدقة) الذي ينص على انه لا يمكن تحديد موقع جسيم وزخمه بدقة في الوقت ذاته فاذا تمكن من قياس احدهما بدقة زاد عدم اليقين في دقة قياس الاخر.

### تمرين 1-6

ماذا يقصد بالحالة المثارة للذرة ؟ وماذا يحدث للالكترون خلالها ؟



الشكل 15-1

الحركة الموجية للالكترون.

وحيث انه لا يمكن رسم مسار للالكترونات فإن افضل ما نفعله هو التحدث عن الاحتمال لايجاد الالكترون في موقع معين داخل الذرة ويعتبر احتمال ايجاد الالكترون في نقط متعددة داخل ذرة معضلة رياضية في غاية التعقيد. وتحل ميكانيكا الكم هذه المعضلة بوصفها الالكترون بانها كما لو كان موجة. وفي الحقيقة فإن الالكترونات تظهر خواصاً موجية عند بعض الظروف، اذا ان حزمة الالكترون المتحركة بسرعة مثلاً، تظهر حيود وهي خاصية مميزة للحركة الموجية.

وللتعرف على اي الكترون في ذرته فان حل المعادلة الموجية ومعرفة قيم الدالة الموجية فانه يتطلب تقديم ثلاثة اعداد كم وهذه اعداد حقيقية تتعلق بطاقة وموضع الالكترون المحتمل وشكل السحابة الالكترونية ويجب تعيين عدد كم رابع اخر للالكترون لان اعداد الكم الثلاثة الناتجة نظرياً من حل معادلة شرودنكر لا تكفي لتفسير جميع الخواص المشاهدة للالكترونات في الذرات. لذا تم ادخال عدد الكم الرابع ليسد هذا النقص وسمي بعدد الكم المغزلي لان الالكترون يمكن تصويره كما لو كان يغزل حول محوره في اثناء تحركه حول النواة ويوضح عدد الكم الرابع اتجاه الغزل .

## 1 - 16 اعداد الكم

### تمرين 1-7

كيف استطاعت ميكانيكية الكم من تفسير وجود الالكترون في موقع معين في الذرة .

لمعرفة الطريقة التي سيتم ترتيب الالكترونات بها يجب علينا أن نتفحص مستويات الطاقة في الذرة بدراسة اعداد الكم الاتية :

### 1-16-1 عدد الكم الرئيسي $n$

تترتب مستويات الطاقة في الذرة على شكل مستويات رئيسية يحددها عدد الكم الرئيسي وكلما زادت قيمة  $n$  ازدادت طاقة المستوى ومعدل المسافة التي تفصله عن النواة، وتحدد قيمة  $n$  حجم المستوى وتأخذ قيم  $n$  الاعداد الصحيحة 1 و 2 و 3..... الخ .

### 1-16-2 عدد الكم الثانوي (الزخم الزاوي) $l$

يحدد شكل السحابة الالكترونية التي يحتمل وجود الالكترون فيها والناتجة من حركة الالكترون حول النواة. ان كل مستوى رئيسي  $n$  يتكون من واحد أو اكثر من المستويات الفرعية (الثانوية) ويكون عدد المستويات الثانوية في اي مستوى رئيسي مساو الى عدد الكم الرئيسي  $n$  وبذلك فان  $n = 1$  يتكون من مستوى ثانوي واحد من

### هل تعلم

اختبرت الحروف f, d, p, s من الحروف الاولى للمتواليات sharp الحادة و principal الرئيسية و diffuse المنتشرة و fundamental الاساسية وهذه الكلمات تمثل اشكال الخطوط الخاصة بالاطياف الخطية التي ترتبط بانتقالات الطاقة.

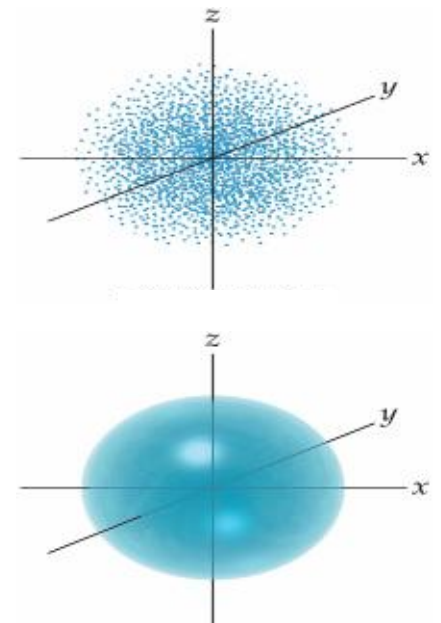
الطاقة هو s. أما المستوى الرئيسي الثاني  $n = 2$  يحتوي على مستويين ثانويين من الطاقة هما s و p والمستوى الرئيسي الثالث  $n = 3$  يحتوي ثلاثة مستويات طاقة ثانوية هي s و p و d وكذلك المستوى الرئيسي من الطاقة الرابع  $n = 4$  يحتوي اربعة مستويات ثانوية من اعداد الكم هما s و p و d و f. وتقابل كل قيمة من قيم n قيمة محددة لعدد الكم الثانوي  $l$  وهي الاعداد الصحيحة المبتدئة بالصفير والمنتهية بـ  $(n-1)$  فاذا كانت  $n = 1$  فان  $l$  سوف تبدأ بالصفير وتنتهي  $(1-1)$  اي بصفير. لذلك فان هناك قيمة واحدة  $l = 0$  صفر اما اذا كانت قيمة  $n = 2$  فانها سوف تبدأ بالصفير وتنتهي  $(2-1)$  اي بواحد لذلك هناك قيمتان لـ  $l$  هما صفر وواحد وهكذا عندما  $n = 3$  فهناك ثلاث قيم هي 0، 1، 2 وعندما  $n = 4$  فهناك اربع قيم هي 0، 1، 2، 3 وهكذا (الجدول 1-1).

| الجدول (1-1) قيم $l$ ورموز المستويات الثانوية الدالة عليها |   |   |   |   |   |   |
|--|---|---|---|---|---|---|
| قيمة $l$   | 0 | 1 | 2 | 3 | 4 | 5 |
| الحرف الدال عليها  | s | p | d | f | g | h |

وفي دراستنا سوف نهتم فقط بالمستويات الثانوية s، p، d، f لانها الوحيدة التي تكون مشغولة بالالكترونات في الذرات في وضعها الطبيعي (في مستواها المستقر Ground state) ولتحديد المستوى الثانوي من اي مستوى رئيسي بطريقة رمزية تكتب قيمة n للمستوى الرئيسي ثم الحرف المخصص للمستوى الثانوي فمثلاً المستوى الثانوي s من المستوى الرئيسي الثاني يوضع له الرمز 2s وتكون له قيم  $(l = 0, n = 2)$  والمستوى الثانوي d من المستوى الرئيسي الثالث هو 3d وتكون له قيم الكم  $(l = 2, n = 3)$  وهكذا.

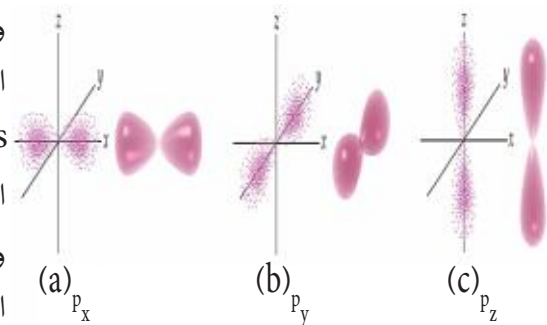
### 3-16-1 عدد الكم المغناطيسي $m_l$

يمكن للاوربيتالات الذرية ان تتخذ الشكل نفسه حول النواة لكن باتجاهات مختلفة ويشير عدد الكم المغناطيسي الى اتجاه الاوربيتال حول النواة حيث يتكون كل مستوى ثانوي من اوربيتال او اكثر. وقد استخدم هذا العدد في تفسير ظهور خطوط اضافية في طيف الذرة عندما توضع في مجال مغناطيسي. فالتوزيع الفراغي لالكترون s كروياً متماثلاً اي ان احتمال وجوده يكون متماثلاً في جميع الاتجاهات من النواة [الشكل (16-1)] ومن ناحية اخرى فان احتمال وجود الكترون p في بعض اتجاهات من النواة، يكون اكثر منه في الاخرى وفي الحقيقة يكون احتمال التوزيع بالنسبة لالكترون p على هيئة فصين منتشرين (diffuse) الى حد ما، واحد على كل جانب من النواة [الشكل (17-1)] ويتكون مستوى p من ثلاثة اوربيتالات



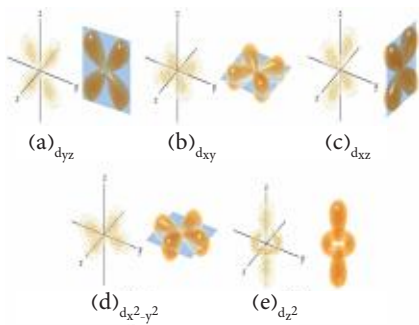
الشكل 16-1

مستوى ثانوي من s



الشكل 17-1

مستويات ثانوية من p



الشكل 18-1

مستويات ثانوية من d.

اما المستوى الثانوي d فيتكون من خمسة اوربيتالات والمستوى الثانوي f من سبعة اوربيتالات ويكون توزيعها الفراغي اكثر تعقيداً الى حد كبير [الشكل (18-1)] ويقابل كل قيمة من قيم  $l$  عدد من قيم عدد الكم المغناطيسي هي الاعداد الصحيحة الموجبة والسالبة فعندما  $l = 0$  فان هناك قيمة لـ  $ml$  واحدة وهي صفر اما عندما تكون  $l = 1$  فان قيم  $ml$  هي  $(1+, 0, 1-)$  واذا كانت قيمة  $l = 2$  فان قيم  $ml$  هي  $(2+, 1+, 0, -1, -2)$  واذا كانت قيمة  $l = 3$  فان قيم  $ml$  هي  $(3+, 2+, 1+, 0, -1, -2, -3)$  ويلخص الجدول (1 - 2) قيم اعداد الكم الرئيسية والثانوية والمغناطيسية .

| الجدول (2-1) قيم اعداد الكم الرئيسية والثانوية والمغناطيسية |                                 |      |                          |                      |  |
|---|---------------------------------|------|--------------------------|----------------------|--|
| عدد الاوربيتالات في المستوى الثانوي                         | عدد الكم المغناطيسي $ml$        | رمزه | عدد الكم الثانوي ( $l$ ) | عدد الكم الرئيسي $n$ |  |
| 1   | 0                               | 1s   | 0                        | 1                    |  |
| 1   | 0                               | 2s   | 0                        | 2                    |  |
| 3   | +1 ، 0 ، -1                     | 2p   | 1                        | 2                    |  |
| 1   | 0                               | 3s   | 0                        | 3                    |  |
| 3   | +1 ، 0 ، -1                     | 3p   | 1                        | 3                    |  |
| 5   | +2 ، +1 ، 0 ، -1 ، -2           | 3d   | 2                        | 3                    |  |
| 1   | 0                               | 4s   | 0                        | 4                    |  |
| 3   | +1 ، 0 ، -1                     | 4p   | 1                        | 4                    |  |
| 5   | +2 ، +1 ، 0 ، -1 ، -2           | 4d   | 2                        | 4                    |  |
| 7   | +3 ، +2 ، +1 ، 0 ، -1 ، -2 ، -3 | 4f   | 3                        | 4                    |  |

### 4-16-1 عدد الكم المغزلي

اوضحنا سابقاً انه هناك اوربيتال واحد للمستوى الثانوي s وثلاثة اوربيتالات للمستوى الثانوي p وخمسة للمستوى الثانوي d وسبعة للمستوى الثانوي f وحيث ان هذه المستويات الثانوية يمكنها ان تستوعب 2 و 6 و 10 و 14 الكتلون على التوالي فانه يتبع ذلك ان أي اوربيتال يمكن له ان يستوعب الكتلونين ولكن تختلف الالكترونات في نفس الاوربيتال بأمر واحد مهم وهو ان لها دوراناً مغزلياً متضاداً . ويأتي السبب في الحديث عن الدوران المغزلي للالكترون من مشاهدات السلوك المغناطيسي للمواد ويمكن الحصول على معلومات عن السلوك المغناطيسي للذرات المنفردة، عن طريق تجربة أوتوسترون ottostron

وفي هذه التجربة [الشكل (19-1)] امررت حزمة من ذرات الفضة المتعادلة (الناتجة من تبخير الفضة) بين قطبين مغناطيسيين وقد وجد ان الحزمة تنفلق الى حزمتين منفصلتين اي ان نصف الذرات تنحرف في اتجاه معين وينحرف الباقي بالاتجاه المقابل ولتفسير هذه المشاهدة يعتبر ان كل الكترولون يسلك مثل مغناطيس دقيق ويمكن التفسير بأن هذه المغناطيسية تنتج من الدوران المغزلي للشحنة السالبة وذلك لانه من المعروف أن الدوران المغزلي لأي شحنة يولد مجال مغناطيسي وانه يوجد اتجاهان للدوران المغزلي متضادين لذا نتوقع ان يجذب كل الكترولون الاخر ولكن الذي يبطل عمل هذا التجاذب بين الكترولوني الاوربيتال التنافر في شحنتيهما. وبما ان حركة دوران الالكترولونين محصورة في اتجاهين فقط فان هناك قيمتين لعدد الكم المغزلي  $ms$  وهما  $+1/2$  و  $-1/2$ .



الشكل 19-1

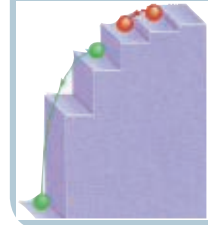
تجربة اوتوسترون

ونستطيع ان نلخص الصفات المميزة لوصف الالكترولون في الذرة بالاتي :-

1. عدد الكم الرئيسي  $n$  تدل هذه الصفة على نظام ترتيب الالكترولونات بزيادة المسافة عن النواة.
2. عدد الكم الثانوي  $l$  وتصف نوع الاوربيتال الذي يشغله الالكترولون من حيث تماثل توزيعه الفراغي (فمثلاً يكون للاكترون  $s$  توزيعات كروية متماثلة ويكون للاكترونات  $p$  توزيعات متماثلة على طول اتجاهات منفصلة في الفراغ).
3. عدد الكم المغناطيسي  $ml$  وتحدد هذه الصفة اي اوربيتال من اوربيتالات المستوى الثانوي الذي يحتمل وجود الالكترولون فيه.
4. عدد الكم المغزلي  $ms$  وتحدد هذه الصفة اي من الاتجاهين الممكنين للدوران المغزلي الذي يقوم به الالكترولون.
5. وحينما تحدد الصفات الاربع المميزة بالنسبة للاكترون في ذرة معينة فاننا سوف نكتشف انه لايمكن ان يوجد في نفس الذرة الواحدة الكترولون اخر له مجموعة مماثلة لتلك الخواص المميزة الاربع ويعرف هذا التحديد الجوهري بمبدأ الاستثناء لباولي (Puli exclusion principle) والذي ينص على انه لايمكن لالكترولونين في نفس الذرة ان يكون لهما القيم نفسها لكل اعداد الكم الاربعة.

#### هل تعلم

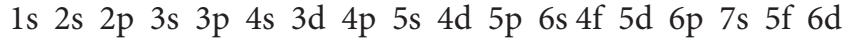
لوشبهنا مستويات الطاقة الرئيسية حول الذرة بدرج فانه لا يكون درج منتظم الابعاد ، بل ان المسافات تكون جداً بعيدة في بداية الامر ثم تقل تدريجياً كلما ابتعدت هذه المستويات عن النواة.





## 1 - 17 كيفية كتابة الترتيب الالكتروني

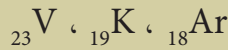
لغرض كتابة الترتيب الالكتروني لأية ذرة يجب معرفة العدد الذري لتلك الذرة حيث ان عدد الكترونات الذرة يساوي عددها الذري (عدد البروتونات) في حالة تعادلها كهربائياً. كذلك ينبغي ان نعرف ان العملية الاساسية في كتابة البنية الالكترونية للذرة هو ان نبدأ بملء الاوربيبتالات بالالكترونات من الاقل طاقة ثم الاكثر طاقة وهكذا حيث تكون مرتبة كما يأتي :



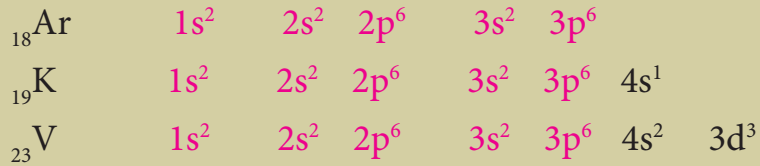
وفي حالة المستويات الثانوية التي تحتوي اكثر من اوربيبتال واحد مثل المستويات (p و d و f) تدخل الالكترونات بصورة منفردة في هذه الاوربيبتالات تجنباً للتناظر الكهربائي بين شحناتها وذلك حسب قاعدة هُند (Hund's) التي تنص على انه لا يحدث ازدواج بين الكترونيين في مستوى الطاقة الثانوي إلا بعد ان تشغل اوربيبتالاته فراداً أولاً. حتى اذا اصبحت جميع الاوربيبتالات للمستوى الثانوي محتوية على الكترون واحد في كل منها كما في المستوى الثانوي  $p^3$  عندها  $1 \ 1 \ 1$  يدخل الالكترون الرابع ليزدوج مع احد الالكترونات التي سبقته في اشغاله احد الاوربيبتالات ليصبح ذلك الاوربيبتال مملوئاً كما في المستوى الثانوي  $p^4$  وللتغلب على التناظر بين شحنتي الالكترونيين ضمن الاوربيبتال الواحد يرمز للالكترونيين بسهمين متعاكسين.

### مثال 1 - 1 :

اكتب الترتيب الالكتروني للعناصر الاتية:

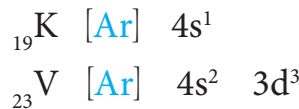


### الـحـل :



لو لاحظنا في المثال السابق للعناصر ان  ${}_{23}V, {}_{19}K$

ان ترتيب الالكترونات الثمانية عشر الاولى لهما ( $1s^2 \ 2s^2 \ 2p^6 \ 3s^2 \ 3p^6$ ) وهذا الترتيب الالكتروني للاركون لذا بإمكاننا تبسيط هذا الترتيب والترتيب المماثلة بكتابة الرمز [Ar] ولذلك سنكتب ترتيب الثمانية عشر الكترون الاولى من البوتاسيوم  ${}_{19}K$  والفناديوم  ${}_{23}V$  وكذلك للعناصر التي بعدها ولغاية [Kr] كالآتي:



### تمرين 8-1

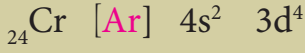
اكتب الترتيب الالكتروني للعناصر

الاتية :  ${}_{30}Zn, {}_{20}Ca$

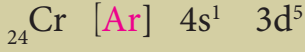
### مثال 1 - 2 :

اكتب الترتيب الالكتروني للعناصر  ${}_{29}\text{Cu}$  ،  ${}_{24}\text{Cr}$

**الحل :**



نلاحظ هنا ان المستوى d يحتاج الى الكترون كي يصبح نصف مشبع وان الذرات عندما تكون مستوياتها الثانوية نصف ممتلئة او ممتلئة تكون اكثر استقراراً لذلك نكتب الترتيب لها كالآتي:



اما  ${}_{29}\text{Cu}$



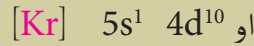
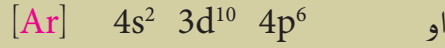
لذلك نكتبها كالآتي :



### مثال 1 - 3 :

اكتب الترتيب الالكتروني :  ${}_{47}\text{Ag}$  ،  ${}_{36}\text{Kr}$

**الحل :**

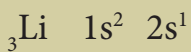


### مثال 1 - 4 :

عين قيم اعداد الكم الاربعة للالكترون الاخير لكل من الذرات الآتية:



**الحل :**



$n = 2$  لان الترتيب الالكتروني انتهى بالمستوى الرئيس الثاني 2

$\ell = 0$  لان الترتيب الالكتروني انتهى بالمستوى الثاني s

$m\ell = 0$  لان الالكترون الاخير يقع في المستوى الثاني s

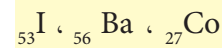
$ms = +1/2$  لان الالكترون الاخير يدور باتجاه عقرب الساعة (الالكترون

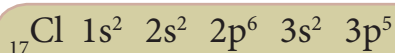
الاول من الاوربيتال).

### تمرين 9-1

عين قيم اعداد الكم الاربعة للالكترون

الاخير لكل من الذرات الآتية :





لان الترتيب انتهى بالمستوى الرئيسي الثالث  $n = 3$

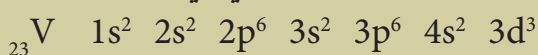
لان الترتيب انتهى بالمستوى الثانوي p  $\ell = 1$

لان الالكترون الاخير يقع في الاوربيتال الذي قيمة  $\ell = 0$  = صفر

+1 0 -1



لان الالكترون الاخير هو الالكترون الثاني في الاوربيتال .  $ms = -1/2$



لان اعلى مستوى رئيسي يحتوي على الكترونات هو الثالث  $n = 3$

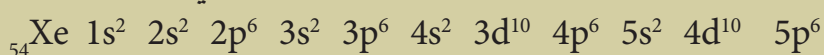
لان الترتيب الالكتروني انتهى بالمستوى الثانوي d  $\ell = 2$

لان الالكترون الاخير يقع في الاوربيتال الذي فيه  $m\ell = 0$

+2 +1 0 -1 -2



لان الالكترون الاخير هو الالكترون الاول في الاوربيتال .  $ms = +1/2$



لان اعلى مستوى رئيسي يحتوي على الكترونات هو الخامس  $n = 5$

لان الترتيب الالكتروني انتهى بالمستوى الثانوي p  $\ell = 1$

لان الالكترون الاخير يقع في الاوربيتال الذي قيمة  $m\ell = -1$

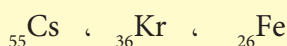
+1 0 -1



لان الالكترون الاخير هو الالكترون الثاني في الاوربيتال .  $ms = -1/2$

### تمرين 10-1

اكتب اعداد الكم الاربعة للاكترون ما قبل الاخير لكل من الذرات الاتية :

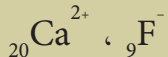


### تمرين 11-1

اكتب الترتيب الالكتروني للايونات الاتية :  ${}_{3}\text{Li}^{+1}$  ،  ${}_{8}\text{O}^{-}$

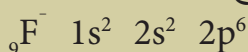
### مثال 1 - 5 :

اكتب اعداد الكم الاربعة للاكترون الاخير لكل من الايونات الاتية :



### الحل :

$\text{F}^{-}$  ايون الفلوريد هو ذرة فلور اكتسبت الكتروناتاً اذا اصبح عدد الكتروناته 10



لان اعلى مستوى رئيسي يحتوي على الكترونات هو الثاني  $n = 2$

لان الترتيب الالكتروني انتهى بالمستوى الثانوي p  $\ell = 1$

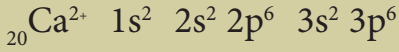
لان الالكترون الاخير يقع في الاوربيتال الذي قيمة له  $m\ell = -1$

+1 0 -1



لان الالكترون الاخير هو الالكترون الثاني في الاوربيتال .  $ms = -1/2$

اما  $Ca^{2+}$  ايون الكالسيوم هو ذرة كالسيوم فقدت الكترونين اذا اصبح عدد الالكترونات 18



لان اعلى مستوى رئيسي يحتوي على الكترونات هو الثاني  $n = 3$

لان الترتيب الالكتروني انتهى بالمستوى الثاني p  $\ell = 1$

لان الالكترون الاخير يقع في الاوربيتال الذي قيمة له  $m\ell = -1$

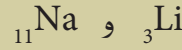
+1 0 -1



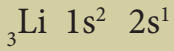
لان  $ms = -1/2$  الالكترون الاخير هو الالكترون الثاني في الاوربيتال الاخير

### مثال 1 - 6 :

قارن بين اعداد الكم الاربعة للالكترون الاخير لكل من ذرتي عنصر



### الحل :

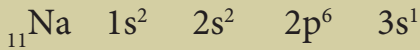


$$n = 2$$

$$\ell = 0$$

$$m\ell = 0$$

$$ms = +1/2$$



$$n = 3$$

$$\ell = 0$$

$$m\ell = 0$$

$$ms = +1/2$$

الفرق فقط بالمستوى الرئيسي .

### مثال 1 - 7 :

اذا كانت للالكترون الاخير لذرة عنصر ما اعداد الكم الاربعة الاتية

$$n = 3 , \ell = 2 , m\ell = +1 , ms = -1/2$$

فما العدد الذري لهذا العنصر ؟

### الحل :

المستوى الرئيسي سيكون الثالث  $n = 3$

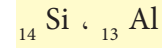
$\ell = 2$  المستوى الثاني هو المستوى d ويحتوي على خمس

اوربيتالات

### تمرين 12-1

قارن بين اعداد الكم الاربعة للالكترون

الاخير لكل من ذرتي عنصر



### تمرين 13-1

اذا كانت للالكترون الاخير لذرة

عنصر ما اعداد الكم الاربعة الاتية :

$$-1/2 = ms , 0 = m\ell , \ell = 1 , n=4$$

اكتب الترتيب الالكتروني لهذه الذرة

وما العدد الذري لها .

تمرين 14-1

اكتب الترتيب الالكتروني لذرة  ${}^5\text{B}$   
ثم اكتب اعداد الكم لجميع الالكترونات  
فيها .

$$m\ell = +1$$

+2 +1 0 -1 -2

|  |   |  |  |  |
|--|---|--|--|--|
|  | X |  |  |  |
|--|---|--|--|--|

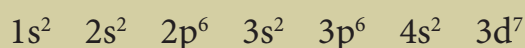
يقع في الاوربيتال المؤشر بحرف X

+2 +1 0 -1 -2

|    |    |   |   |   |
|----|----|---|---|---|
| ↑↓ | ↑↓ | ↑ | ↑ | ↑ |
|----|----|---|---|---|

هو الالكترون الثاني  $ms = -1/2$

اذن من المعلومات السابقة المستوى الثانوي الاخير في الترتيب الالكتروني سوف ينتهي بالمستوى الثانوي  $3d$  والذي يحتوي على سبعة الالكترونات فاذن يصبح الترتيب الالكتروني للمستويات الثانوية في ذرة العنصر هذه هي :



وبجمع عدد الالكترونات فوق المستويات الثانوية في الترتيب الالكتروني فان قيمة المجموع تمثل العدد الذري لهذا العنصر

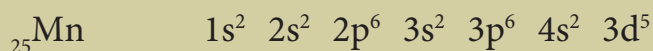
اذن

العدد الذري = 27

مثال 1 - 8 :

اكتب الترتيب الالكتروني لذرة  ${}^{25}\text{Mn}$  ثم اكتب اعداد الكم لالكترونات المستوى الثانوي الاخير لها .

الحل :



+2 +1 0 -1 -2

|   |   |   |   |   |
|---|---|---|---|---|
| ↑ | ↑ | ↑ | ↑ | ↑ |
|---|---|---|---|---|

| اعداد الكم |    |   |   | الالكترون |
|------------|----|---|---|-----------|
| ms         | mℓ | ℓ | n |           |
| +1/2       | +2 | 2 | 3 | الأول     |
| +1/2       | +1 | 2 | 3 | الثاني    |
| +1/2       | 0  | 2 | 3 | الثالث    |
| +1/2       | -1 | 2 | 3 | الرابع    |
| +1/2       | -2 | 2 | 3 | الخامس    |

Bohr theory

نظرية بور

- 1- يدور الإلكترون في مدار ثابت وطاقة محددة.
- 2- تنبعث الطاقة عن الذرة عند انتقال الكترون من مدار ذي طاقة اعلى الى مدار اقل طاقة.

Uncertainty Principle

مبدأ اللادقة

لا يمكن تحديد موقع الكترون وزخمه بدقة في الوقت ذاته فإذا تمكن من قياس احدهما زاد عدم اليقين في دقة قياس الاخر.

عدد الكم الرئيسي

Principal quantum number

عدد يحدد مقدار بعد الإلكترون عن النواة ومقدار الطاقة للإلكترون بمستويات الطاقة وتكون قيم اعداده صحيحة موجبة.

عدد الكم الثانوي (الزخم الزاوي)

Momemtum quantum number

عدد يحدد شكل السحابة الإلكترونية التي يحتمل وجود الإلكترون فيها والنتيجة من حركة الإلكترون حول النواة ولكل مستوى رئيسي واحد او اكثر من المستويات الثانوي وهي s ، p ، d ، f . . . . . الخ.

عدد الكم المغناطيسي

Magnetic quantum number

عدد يحدد اتجاه الاوربيتال حول النواة ويبين الاحتمال الاكثر لموقع الإلكترون في اي اوربيتال موجود ولكل مستوى ثانوي اوربيتال واحد او اكثر.

عدد الكم المغزلي

Spin quantum number

عدد يحدد الزخم الزاوي لدوران الإلكترون حول نفسه وتكون هذه الحركة اما باتجاه عقرب الساعة او بعكس اتجاه عقرب الساعة .

مبدأ الاستثناء لباولي

Pauli – excluded principle

لا يمكن للإلكترونين في نفس الذرة ان يكون لهما قيم واحدة لكل اعداد الكم الاربعة.

Cathod ray

الاشعة الكاثودية

حزمة من الجسيمات تنبثق من الكاثود وتتجه ناحية الانود وذلك عند امرار تيار كهربائي في انبوبة التفريغ الكهربائي يحتوي على غاز الهيدروجين تحت ضغط منخفض وتتأثر بالمجالين الكهربائي والمغناطيسي ولها شحنة سالبة وكتلة.

Canal ray

اشعة القناة

حزمة من الجسيمات تنبثق عندما تنزلق الجسيمات الناتجة عن طرد الإلكترونات من ذرات الغاز المتعادلة من خلال الثقب في المعدن الى منطقة خلف الكاثود، وتتأثر بالمجالين الكهربائي والمغناطيسي ولها شحنة موجبة وكتلتها تعتمد على نوع الغاز المستخدم في انبوبة التفريغ الكهربائي.

الاشعاع الكهرومغناطيسي

Electro magnetic radition

تعبير يستخدم للتعرف على الانواع المختلفة من الاشعاع ويشترك بصفات متشابه كأنتقاله في الفراغ بسرعة واحدة ولكل نوع من الاشعاع له صفة موجية او تردد خاص به وايضاً له صفة دقائقية.

Quantum

الكوانتم

الكمية الادنى من الطاقة التي يمكن ان يفقدتها أو يكتسبها الجسم وتتم عملية فقد الطاقة أو اكتسابها على شكل دفعات او دفعات من الطاقة ومقدار الطاقة المفقودة أو المكتسبة هي مضاعف صحيح لهذا الكم .

طيف الانبعاث المستمر

Continue emission spectrum

مجموعة الالوان المتحللة لضوء الشمس والتي تبدأ من اللون البنفسجي وتنتهي باللون الأحمر وتكون مستمرة اي متصلة مع بعضها.

طيف الانبعاث الخطي

Line emission spectrum

مجموعة الالوان المتحللة لذرات عنصر نقي في الحالة الغازية مثار وتكون الوانه منفصلة اي يفصل كل لون عن لون مسافات معتمة كبيرة نسبياً ويكون لكل عنصر طيف خطي يميزه عن غيره من العناصر.

- 1-1 صف نموذج لانبوبة التفريغ الكهربائي مع الرسم، وشرح اكتشاف الالكترتون.
- 2-1 ما خواص اشعة القناة .
- 3-1 ماذا تعني الرموز (A و Z)
- 4-1 اشرح ظاهرة التأثير الكهروضوئي . وبين تفسير اينشتاين لهذه الظاهرة . وماذا اضى هذا التفسير على طبيعة الضوء .
- 5-1 ماذا يحدث للالكترتون عند اكتسابه طاقة .
- 6-1 ما اهمية تعريض انبوبة التفريغ الكهربائي للمجالين المغناطيس والكهربائي عند دراسة خواص الالكترونات والبروتونات .
- 7-1 تكلم عن تجربة ميليكان وما اهمية ما توصل اليه .
- 8-1 كيف اكتشف رذرفورد نواة الذرة . وما العلاقة بين حجم الذرة ونواتها .
- 9-1 بين الاختلاف بين أ- نموذج رذرفورد واثومسون حول البناء الذري .  
ب- نموذج رذرفورد وبور حول البناء الذري .  
ج- اشكال المستويات الرئيسية عند بور ونظرية الكم .  
د- طيف الانبعاث الخطي والمستمر .
- 10-1 اشتق العلاقة الرياضية  $\lambda = \frac{h}{p}$  بالاستناد الى معادلتى بلانك واينشتاين .
- 11-1 ما الفرق بين المستوى الثانوي والاوربيتال؟ وما عدد الاوربيتالات في المستويات الرئيسية الاربعة الاولى.
- 12-1 ما المقصود بتردد الموجة ؟ ما وحدات التردد ، ثم اذكر العلاقة الرياضية بين التردد والطول الموجي .
- 13-1 اشرح تجربة اوتسترون ، وبين اهميتها .
- 14-1 ماذا تفترض نظرية الكم .
- 15-1 علل الاتي  
أ- عدم تناظر الالكترونين الموجودين في نفس الاوربيتال .  
ب- تعتبر تجربة ميليكان مكتملة لتجربة ثومسون .  
ج- يتسع الغلاف الثانوي s لالكترونين فقط اما المستوى الثانوي p فيتسع لسته الكترونات فقط .  
د- لا يمكن تعيين موقع وزخم الالكترتون في الذرة بدقة عالية في ان واحد .  
هـ- امتلاء المستوى الثانوي 3p بالالكترونات بعد المستوى الثانوي 3s .  
و- جذب النواة على الالكترتون الاقرب اليها اشد .
- 16-1 عرف اعداد الكم الاربعة (n ، l ، ml ، ms) وماذا تستفيد من كل منها .
- 17-1 ارسم شكل الاوربيتال عندما تكون قيمة  $l = 0$  وعندما تكون قيمة  $l = 1$  .
- 18-1 ماذا نعني بكل مما يأتي .  
أ- الفوتون .  
ب- طول الموجة .  
ج- الصفة المزدوجة للالكترتون .
- 19-1 بماذا يستفاد من قاعدة هوند في الترتيب الالكتروني .
- 20-1 بين :  
أ- مبدأ هايزنبرغ .  
ب- مبدأ الاستثناء لباولي .  
ج- كيف يمكن للذرة ان تصدر فوتوناً .  
د- كيف استطاع شرودنكر من تفسير طيف الذرات التي لها عدد ذري اعلى من الهيدروجين .
- 21-1 ما قيم اعداد الكم الرئيسية والثانوية والمغناطيسية في المستويات الرئيسية الاتية (الثالث و الرابع) .

22-1 اذا علمت ان قيم اعداد الكم الاربعة للالكترون الاخير لكل من الذرات (أ و ب و ج) على التوالي .

أ-

$$n = 4 \quad \ell = 2 \quad m\ell = +1 \quad m_s = -1/2$$

ب-

$$n = 2 \quad \ell = 0 \quad m\ell = 0 \quad m_s = + 1/2$$

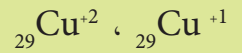
ج-

$$n = 3 \quad \ell = 1 \quad m\ell = -1 \quad m_s = -1/2$$

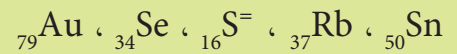
اكتب الترتيب الالكتروني للذرات ( أ و ب و ج ) وما العدد الذري لكل منها .

23-1 اذكر عنصرين على الاقل ينتهي توزيعها الالكتروني الاخير بالمستويات  $s^2 d^6$  .

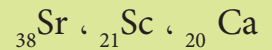
24-1 اكتب الترتيب الالكتروني للايونات الاتية



25-1 اكتب الترتيب الالكتروني للذرات والايونات الاتية

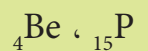


26-1 قارن بين اعداد الكم الاربعة للالكترون الاخير لكل من ذرات العناصر الاتية



27-1 اكتب الترتيب الالكتروني لذرة (F) ثم اكتب اعداد الكم لجميع الالكترونات فيها وبين المبدأ الذي يتوافق من خلال ملاحظتك لقيم اعداد الكم للاكترونات .

28-1 عين قيم اعداد الكم الاربعة للاكترونات الموجودة في المستوى الرئيسي الاخير لكل من الذرات الاتية



29-1 عين قيم اعداد الكم الاربعة للالكترون الاخير فقط لكل من الذرات الاتية



30.1 اختر الاجابة الصحيحة مما يأتي :

1 - عند تقريب قطب باحث عن الشمال لمغناطيس على الاشعة الكاثودية فإن الخط المضيء تنقوس الى :

أ - الاسفل

ب - الاعلى

ج - لا تتأثر

2 - كتلة الكترون واحد تساوي :

$$\text{أ - } 1.76 \times 10^{11} \text{ C/kg}$$

$$\text{ب - } 1.6 \times 10^{-19} \text{ e}$$

$$\text{ج - } 9.1 \times 10^{-31} \text{ kg}$$

3. ينسب اكتشاف النيترون الى العالم :

أ - ثومسون

ب - هنري موزلي

ج - جيمس شادويك

4. يتناسب طول الموجة الضوئية مع ترددها تناسباً

أ - طردياً

ب - عكسياً

ج - متساوياً

5. في ظاهرة التأثير الكهروضوئي اذا تجاوز الاشعاع

القيمة الدنيا للانبعاش :

أ - يزداد عدد الالكترونات المنبعثة

ب - يقل عدد الالكترونات المنبعثة

ج - تزداد الطاقة التي يحملها الالكترون

6. عدد الكم الذي يحدد شكل السحابة الالكترونية

هو :

أ - الرئيسي.

ب - الثانوي.

ج - المغناطيسي.

7. قطر الذرة اكبر من قطر نواتها بمقدار

أ - 1000 مرة.

ب - 10000 مرة.

ج - 100000 مرة.



8. إذا كانت قيمة  $n=2$  فإنه هناك :

أ - قيمة واحدة محددة لعدد الكم الثانوي = صفر.

ب - قيمتان محددة لعدد الكم الثانوي = صفر و 1

ج - ثلاث قيم محددة لعدد الكم الثانوي = صفر و 1 و 2.

9. المبدأ الذي ينص على أنه لا يمكن للإلكترونين

في نفس الذرة أن يكون لهما قيم واحدة لكل أعداد

الكم الأربعة هو:

أ - مبدأ عدم الدقة لهايزنبرغ.

ب - مبدأ الاستثناء لباولي.

ج - مبدأ قاعدة هند.

10. إذا انتهى التوزيع الإلكتروني بالمستوى الثانوي

$2p^6$  فهناك احتمال:

أ - أن تكون ذرة عنصر واحد فقط وهو عنصر

${}_{10}\text{Ne}$ .

ب - أن تكون هناك ذرتي عنصر وهما  ${}_{9}\text{F}$  و  ${}_{10}\text{Ne}$

ج - أن يكون هناك أكثر من ذرة عنصر بالإضافة

إلى  ${}_{10}\text{Ne}$  وهي العناصر التي فقدت أو اكتسبت

الالكترونات ليصبح ترتيبها مثل ذرة عنصر

${}_{10}\text{Ne}$ .

11. إذا انتهى التوزيع الإلكتروني لذرة عنصر ما

$4s^2 3d^5$  فإن أعداد الكم الأربعة للإلكترون الأخير

تكون:-

أ -  $n = 3 \quad \ell = 2 \quad m\ell = -2 \quad ms = +\frac{1}{2}$

ب -  $n = 4 \quad \ell = 2 \quad m\ell = +2 \quad ms = +\frac{1}{2}$

ج -  $n = 4 \quad \ell = 2 \quad m\ell = -2 \quad ms = +\frac{1}{2}$

12. إذا كانت قيم أعداد الكم الأربعة للإلكترون

الأخير في ذرة عنصر ماهي

$n = 3 \quad \ell = +1 \quad m\ell = 0 \quad ms = +\frac{1}{2}$

فإن العدد الذري للعنصر يكون :-

أ - 12.

ب - 13.

ج - 14.

13. إذا كانت قيم أعداد الكم الأربعة للإلكترون

ما قبل الأخير في ذرة عنصر ما هي

$n = 2 \quad \ell = 1 \quad m\ell = 0 \quad ms = -\frac{1}{2}$

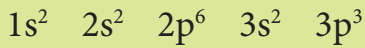
فإن العدد الذري للعنصر يكون:

أ - 9.

ب - 10.

ج - 11.

14. الترتيب الإلكتروني لذرة عنصر كانت



فإن أعداد الكم الأربعة للإلكترونات الموجودة في

المستوى الثانوي  $3p^3$  سوف تختلف فقط

أ - عدد الكم الثانوي.

ب - عدد الكم المغناطيسي.

ج - عدد الكم المغزلي.

15. أعداد الكم الأربعة للإلكترونات الموجودة في

المستوى الثانوي  $4s^2$  سوف تختلف فقط في:

أ - عدد الكم الثانوي.

ب - عدد الكم المغناطيسي.

ج - عدد الكم المغزلي.

16. أعداد الكم الأربعة للإلكترونات الموجودة في


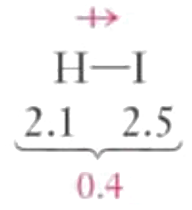
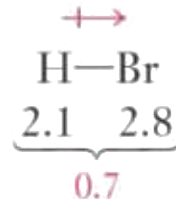
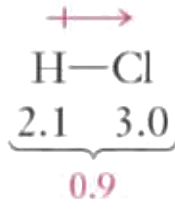
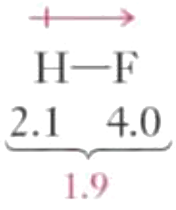
المستوى الثانوي  $5p^6$  سوف تختلف فقط في:

أ - عدد الكم الثانوي والمغزلي.

ب - عدد الكم الثانوي والمغناطيسي.

ج - عدد الكم المغناطيسي والمغزلي.

17. افترض بور في نظريته أن الالكترونات تدور في :  
 أ - مدارات ذات حجم ثابت وطاقة ثابتة.  
 ب - مدارات ذات حجم ثابت وطاقة متغيرة.  
 ج - مدارات ذات حجم متغير وطاقة ثابتة.
18. في انبوبة التفريغ الكهربائي تسمى الجسيمات الموجبة التي تنزلق من خلال الثقب الى منطقة خلف الكاثود.  
 أ - بالاشعة الكاثودية.  
 ب - باشعة القناة.  
 ج - باشعة X
19. اذا فرضنا ان الذرة تشمل نواتها بروتونات فقط فهذا يعني :  
 أ - لا يوجد اختلاف في العدد الذري لجميع ذرات العناصر.  
 ب - لا يوجد اختلاف في عدد الكتلة لجميع ذرات العناصر.  
 ج - لا يوجد اختلاف في عدد الكتلة لجميع ذرات العنصر الواحد.
20. افترض بلانك عندما كان يدرس ظاهرة انبعاث الضوء من الاجسام الساخنة:  
 أ- ان الاجسام الساخنة تطلق الطاقة الكهرومغناطيسية على شكل موجات.  
 ب- ان الاجسام الساخنة تطلق الطاقة الكهرومغناطيسية على شكل كميات صغيرة محددة.  
 ج- ان الاجسام الساخنة تطلق الطاقة الكهرومغناطيسية على شكل كميات صغيرة مستمر.
21. تكون الذرة في حالة استثارة:  
 أ - عندما تكون طاقة الذرة بالمستوى المستقر  
 ب - عندما يصبح مستوى الطاقة الكامنة في الذرة اعلى من المستوى المستقر.  
 ج- عندما تفقد الطاقة في شكل اشعة كهرومغناطيسية (فوتون).
22. عدد الكم الذي يشير الى اتجاه الاوربيتال حول النواة هو :  
 أ - عدد الكم الثانوي.  
 ب - عدد الكم المغناطيسي.  
 ج - عدد الكم المغزلي.
23. عدد الكم الرئيسي تكون قيمته مساوية دائماً لعدد :  
 أ - المستويات الثانوية.  
 ب - الاوربيتالات.  
 ج - الالكترونات.
24. يدور الالكترون في مدار ثابت اي ذي قطر محدد وطاقة محددة (حسب فرض بور) ونتيجة دورانه هذا :  
 أ - يبعث طاقة  
 ب - يمتص طاقة  
 ج - لا يبعث طاقة.



## الفصل الثاني

# 2

### قوى الترابط والاشكال الهندسية للجزيئات

#### بعد الانتهاء من دراسة هذا الفصل يتوقع من الطالب ان :-

- يفهم لماذا تتحد الذرات فيما بينها ويدرك معنى الآصرة الكيميائية وأنواعها.
- يستوعب العوامل التي تحدد نوع الآصرة ويعرف كيف تتحد الذرات فيما بينها.
- يحدد خواص المركبات الأيونية ويميز بين صفاتها وصفات المركبات التساهمية.
- يدرك انعدام وجود الجزيئات في المركبات الأيونية.
- يستوعب مفهوم التهجين الأوربيتالي وأنواعه.
- يدرك مبدأ ظاهرة الرنين وتأثيره على فاعلية بعض المركبات التساهمية.
- يرسم الأشكال الهندسية المجسمة لبعض الجزيئات.
- يفرق بين أوامر سيكما و أوامر باي.

قبل أن ندخل في تفاصيل كيفية حصول التفاعلات الكيميائية بين ذرات العناصر الموجودة في الطبيعة من حولنا، لابد أن نستعرض الخواص الكيميائية لزمرة العناصر النبيلة أو الخاملة. إن هذه الزمرة التي سبق ان تطرقنا إليها في المراحل الدراسية السابقة والتي تشمل عناصر الهليوم He والنيون Ne والآركون Ar والكريبتون Kr والزينون Xe تمتلك صفة خاصة ومهمة تميزها عن باقي العناصر الموجودة في الطبيعة. أن جميع عناصر هذه الزمرة تكون خاملة كيميائياً وعلى الاغلب غير فعالة في الظروف الاعتيادية. ان سبب ذلك لأن مستوى الطاقة الخارجي لها مشبع بالإلكترونات، وخلافاً لبقية العناصر الموجودة في الطبيعة. وعليه فإن تكوين أوربيتالات مشبعة بالالكترونات سيكون غاية أي ذرة لبلوغ حالة الاستقرار الكيميائي.

ومن الجدير بالذكر أن هنالك عدداً من العناصر توجد في الطبيعة بالهيئة الجزيئية مثل عناصر الأوكسجين  $O_2$  والنيتروجين  $N_2$  والكبريت  $S_8$ ، حيث ترتبط الذرات مع بعضها بأواصر نتيجة لإعادة نمط ارتباط الإلكترونات الموجودة في الأوربيتالات الخارجية فيما بين الذرات. وبهذا تكون ذرات العناصر في هذه الجزيئات قد وصلت أوربيتالاتها الخارجية إلى الاشباع ( وهو ما يشابه الغازات النبيلة).

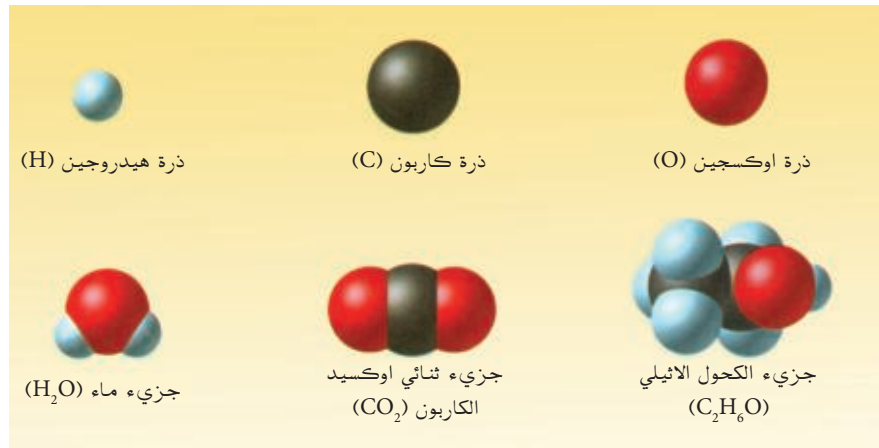
أن جميع ذرات العناصر ما عدا ذرات الغازات النبيلة تمتلك نشاطاً كيميائياً متفاوتاً في الظروف العادية ويمكنها أن تدخل في تفاعلات كيميائية لتسبب مستوى الطاقة الأخير من خلال فقدان أو اكتساب أو مشاركة بالإلكترونات للوصول إلى الترتيب الإلكتروني لأقرب غاز نبيل (خامل).

يُعدُّ التآصر الكيميائي (Chemical bonding) **كيفية ارتباط الذرات أو الأيونات مع بعضها لتكوين الجزيئات التساهمية أو المركبات الأيونية أو غيرها** أساساً في فهم ومتابعة سير التفاعلات الكيميائية المتنوعة والتي تؤدي إلى استحداث مركبات كيميائية جديدة تتزايد مع تقدم الأيام كهدف لتحسين حياة المجتمع الإنساني [الشكل (1-2)]. من أجل ذلك ولتيسير استذكار المفاهيم التي جرى التطرق إليها مسبقاً في الصف الرابع العلمي، دعنا نستعرض أهمها توأصلاً مع تقدمنا في دراسة الكيمياء. وهنا لابد أن نمر في مخيلتنا بعض التساؤلات العلمية المنطقية التي نحتاج إلى الإجابة عنها، لكي نستكمل الصورة العامة لكيفية حصول هذه الأواصر أو الارتباطات:

### هل تعلم

ان عدد العناصر الموجودة فعلاً في الطبيعة هي 94 عنصراً أما العناصر المحضرة صناعياً فعددها ليومنا هذا 26 عنصراً بفعل جهود الكيميائيين في العالم، اي ان عدد العناصر هي لحد الان 120 عنصراً. لكن المركبات الناتجة عنها ضمن فروع الكيمياء المتنوعة بالملايين وهي تتزايد مع الايام والسبب الرئيسي والاساس في ذلك هو طبيعة ارتباط الذرات مع بعضها لتكوين جزيئات مستقلة أو هياكل بلورية. اي ان الأواصر الكيميائية هي السلم الذي إذا أهدى إليه الكيميائي في مختبره يستطيع تخليق مواد جديدة كما نشهد ذلك في حياتنا اليومية.

- \* كيف؟ ولماذا؟ ترتبط الذرات مع بعضها لتكوين الجزيئات المتعددة الذرات بسيطة كانت أم معقدة؟
- \* لماذا تمتلك المواد الكيميائية المختلفة صفات فيزيائية مختلفة عن بعضها مثل اللون ودرجة الانصهار والغليان والحامضية والتوصيل الحراري والتوصيل الكهربائي والذوبانية في السوائل المختلفة . . . . . الخ؟
- \* لماذا تمتلك المواد الكيميائية صفات كيميائية متفاوتة من حيث مقاومتها لتأثير الحوامض والقواعد أو الكواشف الكيميائية المختلفة وتأثرها بدرجات الحرارة؟



الشكل 1-2

التأصر الكيميائي

وأسئلة كثيرة غيرها تحتاج إلى إجابات علمية مناسبة لها لتعليل أسبابها، وبالتالي استقراء الحالات الأخرى التي يكون استقرارها تحقيقاً لرغبة الإنسان وفضوله في كشف أسرار المعرفة العلمية. ولغرض تذكير الطلبة ببعض المفاهيم التي جرى التطرق إليها في السنة السابقة سنعيد استعراض بعض منها في البنود الآتية:-

## 1-1-2 التفاعل الكيميائي Chemical Reaction

أن التفاعل الكيميائي بين عنصرين هو تفاعل يحصل بين ذرات عنصرين لتشكيل جزيء مركب جديد يمتلك صفات كيميائية وفيزيائية تختلف تماماً عن صفات العناصر الداخلة في التفاعل وغايته تكوين أوربيتالات مشبعة بالالكترونات لبلوغ حالة الاستقرار الكيميائي. وهناك عدد من الحقائق العلمية والملاحظات التي يجب أن تبقى في ذهن الطلبة عند النظر في موضوع التفاعل الكيميائي وكما يأتي :

1. لا تدخل نوى ذرات العناصر كطرف في التفاعل الكيميائي، وكذلك الحال للأغلفة الإلكترونية الداخلية وأوربيتالاتها المشبعة والمستقرة.

2. يقتصر التفاعل الكيميائي على مشاركة الكترونات التكافؤ (Valence Electrons) الموجودة في أوربيتالات الغلاف الخارجي غير المشبع فقط.

3. ترتبط ذرات العناصر الداخلة في تكوين المركب بقوة ارتباط تتباين باختلاف العناصر المشاركة. ويتوقف ثبات أو ضعف الاواصر في المركب الناتج على طبيعة القوة الرابطة بين الذرات (الآصرة) وأهمها الكهروسلبية (Electronegativity) للذرات المشاركة.

4. عند تجزئة المركب إلى عناصره الأولية، أي فصل العنصرين عن بعضهما بأساليب كيميائية أو فيزيائية متنوعة وأعادتهما إلى هيئتي العنصرين يتطلب الأمر تفكيك القوة الرابطة (أي كسر الآصرة). وأن كسر الآصرة يحتاج إلى طاقة مساوية للطاقة التي انبعثت عند تكوينها.

5. عندما تتحد ذرات العناصر يتم إعادة الترتيب الالكتروني للأوربيتالات الذرية الخارجية غير المشبعة المشاركة وصولاً إلى حالة أكثر استقراراً، حيث تمتلك هذه الذرات عندئذ أوربيتالات جزيئية مشبعة.

## 2-1-2 رمز لويس وقاعدة الثمانية

عرفت من دراستك السابقة في الثالث متوسط ان الالكترونات في الغلاف الخارجي لذرة العنصر تترتب على وفق ترتيب ( رمز) لويس بطريقة صورية بحيث يكتب رمز العنصر الكيميائي محاطاً بنقاط تمثل كل نقطة الكتروناً واحداً وكل نقطتين متجاورتين زوجاً الكترونياً . ويتم توزيع هذه النقاط على الجهات الاربعة المحيطة بالرمز بحيث لاتزيد على نقطتين في كل جهة .

### تمرين 1-2

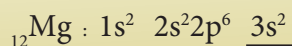
اكتب رمز لويس للذرات :  
S و Na و Ne

### مثال 2 - 1 :

اكتب رمز لويس لذرتي عنصري المغنيسيوم ( $_{12}\text{Mg}$ ) والكلور ( $_{17}\text{Cl}$ ) .

### الحل :

الترتيب الالكتروني لذرة المغنيسيوم :



لذا فرمز لويس لذرة المغنيسيوم هو :  $\cdot\text{Mg}\cdot$

الترتيب الالكتروني لذرة الكلور :



لذا فرمز لويس لذرة الكلور هو :

ان هذه الالكترونات تحدد طبيعة الأواصر بين الذرات وتحدد كذلك الصيغ الكيميائية للمركبات الناتجة عن اتحاد الذرات مع بعضها.

ان الذرات عند تكوين الأصرة التساهمية تتشارك بعدد من الالكترونات ليصبح ترتيبها مشابهاً لترتيب الغاز النبيل الأقرب اليها والذي يمتلك ثمانية الكترونات في غلافه الخارجي ( باستثناء الهليوم الذي يمتلك الكترونين فقط ) ويمكن توضيح ذلك بكتابة لويس لعدد من الجزيئات وكالاتي :

جزيئة الماء (H<sub>2</sub>O) الترتيب الالكتروني لذرة (H) هو  $1s^1$  H<sub>1</sub>

رمز لويس لذرة (H) هو H.

ولذرة (O) هو  $1s^2 2s^2 2p^4$  O<sub>8</sub>

ورمز لويس لذرة (O) هو  $\ddot{O}$ .

وجزيء الماء تكون  $\begin{array}{c} H \\ | \\ H:\ddot{O}: \end{array}$

جزيء الامونيا (NH<sub>3</sub>) الترتيب الالكتروني لذرة (N) هو  $1s^2 2s^2 2p^3$  N<sub>7</sub>


ولذرة الهيدروجين كما ورد اعلاه.

رمز لويس لجزيء الامونيا هو  $\begin{array}{c} H \\ | \\ H:\ddot{N}: \\ | \\ H \end{array}$

لعلك تلاحظ ان كل ذرة من الذرات O و N في هذه المركبات تحاط بثمانية الكترونات وينطبق ذلك على الذرات في كثير من المركبات وقد سميت هذه القاعدة (قاعدة الثمانية Octet rule) حيث تحاط الذرة المركزية في الجزيء بثمانية الكترونات . ولاتنطبق هذه القاعدة على جميع الذرات في الجزيئات كما في جزيء خماسي كلوريد الفسفور PCl<sub>5</sub> وجزيء ثلاثي فلوريد البورون BF<sub>3</sub>.

## تمرين 2-2

اي من هذه الجزيئات تنطبق على ذرته المركزية قاعدة الثمانية CH<sub>4</sub> او BeF<sub>2</sub> . علماً بأن العدد الذري لـ F=9 و Be=4 و H=1 و C=6 .



حيث تلاحظ ان ذرة الفسفور المركزية قد أحيطت بعشرة الكترونات أما ذرة البورون فأنها أحيطت بستة الكترونات ، لذلك لاتتفق مع قاعدة الثمانية . أذن قاعدة الثمانية ليست عامة في جميع الحالات ان هناك العديد من الذرات لاتتفق مع هذه القاعدة .


## 2-2 أنواع الأواصر الكيميائية

الأواصر الكيميائية هي ظاهرة تواجد الذرات متماسكة معا في جزيء أو بلورة. فذرات المواد مرتبطة ببعضها بواسطة الأواصر الكيميائية، ويعتمد نوع الاصرة الكيميائية وقوتها على الترتيب الالكتروني للذرات المكونة للاصرة. هنالك عدة أنواع من الأواصر الكيميائية يمكن أن تتكون بين ذرات العناصر المختلفة وهي:

### 1-2-2 الأصرة الأيونية Ionic Bond

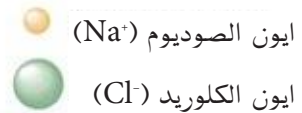
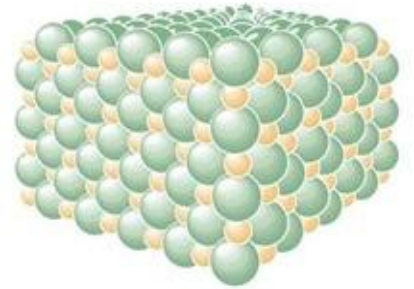
تنشأ الأصرة الأيونية بين عنصر فلزي وآخر لا فلزي من خلال فقد واكتساب إلكترونات. اي انها تنتج عن تفاعل ذرتين، أحدهما تمتلك كهرسلبية عالية (مثل ذرات عناصر مجموعة الهالوجينات) والأخرى تمتلك كهرسلبية واطئة (مثل عناصر مجموعة الفلزات القلوية وفلزات الأتربة القلوية). في هذه الحالة سينتقل إلكترون التكافؤ انتقالاً كاملاً من ذرة العنصر ذي الكهرسلبية الواطئة إلى ذرة العنصر ذي الكهرسلبية العالية، وعندئذ سيتكون أيونان الأول أيون موجب الشحنة نتيجة فقدان إلكترون التكافؤ، والثاني أيون سالب الشحنة نتيجة استقبال هذا الإلكترون [الشكل (2-2)]. وعندئذ ترتبط هذه الأيونات المختلفة الشحنة نتيجة التجاذب الإلكترونيستاتيكي مكونة شبكية بلورية (Crystal lattice) معقدة ومتعادلة الشحنة [الشكل (3-2)] مثل : الأصرة في كلوريد الصوديوم NaCl وكلوريد البوتاسيوم KCl وكلوريد المغنسيوم MgCl<sub>2</sub> وفلوريد البوتاسيوم KF وكلوريد الكالسيوم CaCl<sub>2</sub>، كذلك جميع هيدريدات عناصر زمرة الفلزات القلوية وفلزات الأتربة القلوية، مثل هيدريد الصوديوم NaH .

1. توجد على شكل شبكية بلورية وهي ترتيب هندسي منتظم للأيونات السالبة والأيونات الموجبة.
2. تمتلك درجات انصهار وغليان مرتفعة جداً، لتغلب على قوى التجاذب بين الأيونات السالبة والأيونات الموجبة ولتكسير الشبكية البلورية.
3. عدم قدرتها على التوصيل الكهربائي في الحالة الصلبة نظراً لارتباط الأيونات وعدم قدرتها على الحركة داخل الشبكية البلورية بينما تصبح موصلة للكهرباء عند صهرها أو إذابتها في الماء (ستكون الأيونات عندئذ حرة الحركة في المنصهر وفي المحلول المائي).
- 4- تذوب في المذيبات القطبية كالماء ولا تذوب في المذيبات العضوية اللاقطبية كالبنزين أو الإيثر.



الشكل 2-2

الأصرة الأيونية



الشكل 3-2

الشبكية البلورية لكلوريد الصوديوم.



## 2-2-2 الأصرة التساهمية Covalent Bond


تتكون الأصرة التساهمية عندما يصعب انتقال إلكترون التكافؤ انتقالاً كاملاً من ذرة إلى أخرى، وفي هذه الحالة يتكون المزدوج الإلكتروني من مساهمة أو مشاركة كلتا الذرتين. ولا تظهر شحنات على الذرات، وغالباً ما تحدث الأصرة التساهمية بين اللافلزات. أن الفرق في قيمة الكهرسلبية (انظر قيم الكهرسلبية لبعض العناصر المبينة في الجدول 1-2). يلعب دوراً مهماً في تشكيل الأصرة التساهمية، ويمكن أن يؤدي إلى إعطاء نوعين من الأواصر التساهمية هما:

### أ - الأصرة التساهمية النقية:

هي أصرة تنشأ بين ذرتي عنصر لا فلزي حيث تكونان متشابهتين في الكهرسلبية، أو بين ذرتي عنصرين متشابهين في الكهرسلبية، والتي يكون الفرق في الكهرسلبية بينها يساوي صفراً في الحالتين. أن زوج الإلكترونات سيقضي وقتاً متساوياً في حيازة كلتا الذرتين [الشكل (2-4)]. من الأمثلة على هذا النوع من الأواصر التساهمية هي الأصرة في جزيء النتروجين  $N_2$  وجزيء الكلور  $Cl_2$  وجزيء الأوكسجين  $O_2$  وفي جزيء الفلور  $F_2$ .

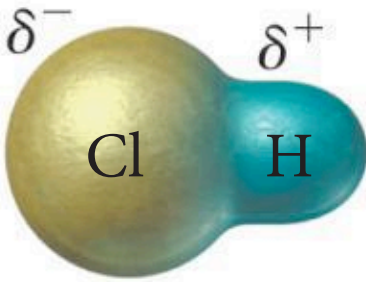
### ب - الأصرة التساهمية القطبية:

وهي أصرة تنشأ بين ذرتي عنصرين متقاربين في الكهرسلبية على أن يكون الفرق أكبر من صفر وأقل من 1.7 بالمشاركة بمزدوج واحد أو أكثر من الإلكترونات [الشكل (2-5)]. من الأمثلة على هذا النوع من الأواصر التساهمية هي الأصرة في جزيئات الماء  $H_2O$  والأمونيا  $NH_3$  وكلوريد الهيدروجين  $HCl$  وفلوريد الهيدروجين  $HF$  وكلوريد الألمنيوم  $AlCl_3$  وبروميد الهيدروجين  $HBr$ . وفي هذه الحالة تحمل إحدى الذرتين شحنة جزئية سالبة (دلتا سالب  $\delta^-$ ) والذرة الثانية شحنة جزئية موجبة (دلتا موجب  $\delta^+$ ).



الشكل 2 - 4

الأصرة التساهمية النقية



الشكل 2 - 5

الأصرة التساهمية القطبية

| الجدول (1-2) قيم الكهرسلبية لبعض عناصر الجدول الدوري |       |            |          |       |                     |
|--|-------|------------|----------|-------|---------------------|
| العنصر   | الرمز | الكهرسلبية | العنصر   | الرمز | السالبية الكهربائية |
| فلور   | F     | 4.0        | فضة      | Ag    | 1.9                 |
| اوكسجين  | O     | 3.5        | حديد     | Fe    | 1.8                 |
| نتروجين  | N     | 3.0        | زنك      | Zn    | 1.6                 |
| كلور   | Cl    | 3.0        | منغنيز   | Mn    | 1.5                 |
| كبريت  | S     | 2.5        | الومنيوم | Al    | 1.5                 |
| هيدروجين   | H     | 2.1        | مغنيسيوم | Mg    | 1.2                 |
| نيكل   | Ni    | 1.9        | ليثيوم   | Li    | 1.0                 |
| نحاس   | Cu    | 1.9        | صوديوم   | Na    | 0.9                 |
| كاربون   | C     | 2.5        | بوتاسيوم | K     | 0.8                 |

وهناك انواع من الاواصر التساهمية التي تختلف عن بعضها بعدد المزدوجات الالكترونية الرابطة بين الذرات. أن أكثر أنواع الأواصر التساهمية شيوعاً هو الأصرة الأحادية (المنفردة) (Single bond)، والتي يتم فيها المشاركة بمزدوج الكتروني واحد فقط مثل جزيء  $F_2$ . وعند المشاركة بمزدوجين الكترونيين تسمى أصرة تساهمية مزدوجة (Double bond). أما في حالة المشاركة بثلاثة مزدوجات الكترونية يجعلها أصرة تساهمية ثلاثية (Triple bond). ومثال على الأصرة الثنائية هي ما نجده في جزيئة الاوكسجين  $O_2$ . ومثال الأصرة الثلاثية هو ما نجده في جزيء النيتروجين  $N_2$ .



أصرة تساهمية أحادية



أصرة تساهمية مزدوجة



أصرة تساهمية ثلاثية

تتميز المركبات التي تمتلك أواصر تساهمية بالصفات الآتية:

1. درجة الانصهار والغليان منخفضة فلا تحتاج إلى طاقة حرارية عالية، لأن قوى التجاذب بين جزيئاتها ضعيفة.
2. لا توصل التيار الكهربائي لأنها لا تكون أيونات سالبة أو موجبة في منصهراتها أو محاليلها.
3. لا تذوب معظمها في المذيبات القطبية كالماء بينما تذوب في المذيبات العضوية كالإيثر والبنزين.

### 3-2-2 الأصرة التناسقية Coordinate Bond

تتكون الأصرة التناسقية عندما تقدم إحدى الذرتين زوجاً من الإلكترونات إلى ذرة أخرى لها القدرة على استقبال هذا الزوج الإلكتروني لتكوين الأصرة، وعندئذ سيكون هذا الزوج مشتركاً بين الذرتين. أن الذرة المانحة للإلكترونات هي قاعدة لويس وتحتوي زوج الكتروني حر مثل ذرة الأوكسجين في جزيء الماء أو ذرة النتروجين في جزيء الامونيا. أما الذرة المستقبلية فغالباً ما تكون من الفلزات الانتقالية (حامض لويس) لأن لها أوربيتالات فارغة من نوع d مثل النيكل أو أيون ذرة الهيدروجين. ويمكننا القول أن الأصرة التناسقية هي نوع خاص من الأصرة التساهمية إلا إن مصدر زوج الإلكترونات هو من ذرة واحدة فقط، وتكون الأصرة التناسقية أطول وأضعف من الأصرة التساهمية.

#### تمرين 3-2

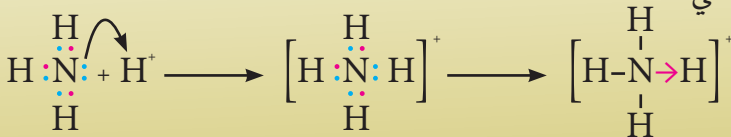
استخدم رمز لويس للذرات F و O و N لتوضيح تكون الأواصر التساهمية المنفردة والمزدوجة والثلاثية.

#### مثال 2 - 2 :

وضح بالرسم نشوء الأصرة التناسقية في أيون الامونيوم  $NH_4^+$

#### الحل :

يتكون هذا الايون من ارتباط الامونيا  $NH_3$  بأيون الهيدروجين  $H^+$  في المحلول المائي:



يلاحظ من المثال السابق ان ذرة النتروجين تمتلك مزدوجاً من الالكترونات غير المشاركة في جزيء  $NH_3$  يمكن ان تشارك به ، وان ايون الهيدروجين يمتلك أوربيتالاً فارغاً يمكنه استقبال هذا الزوج. وعند اقتراب جزيء الامونيا من الهيدروجين الى حد كاف يحدث التجاذب بينهما ويصبح المزدوج هذا مشتركاً بين الذرتين كما في الاصرة التساهمية تماماً ويتكون ايون  $NH_4^+$  . ويطلق على هذا النوع من الاواصر بالاصرة التناسقية ويشار اليها في ترتيب رمز لويس بسهم صغير بدلاً من الخط الذي يمثل الاصرة التساهمية.

#### تمرين 4-2

مثل ايوني  $H_3O^+$ ،  $BF_4^-$  باستخدام ترتيب رمز لويس وفسر تكوين الاصرة التناسقية فيهما.

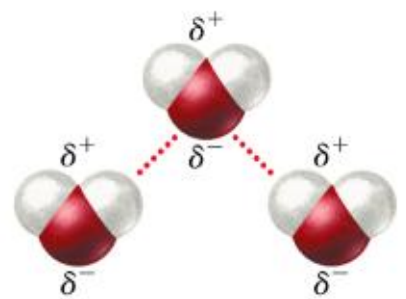
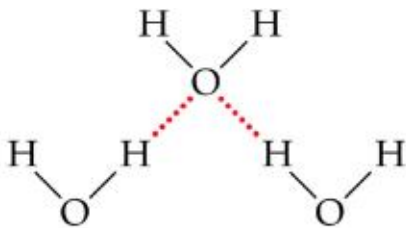
#### 4-2-2 الأصرة الفلزية (Metallic Bond)

وهي أصرة كيميائية تحصل بين ذرات عنصر من الفلزات، وتعزى هذه الأصرة إلى امتلاك الذرات الفلزية الكتلونات في أغلفتها الخارجية تسهم في تكوين بلورة من الذرات مع امتلاك الإلكترونات حرة في الحركة ضمن هذه البلورة. عندما ترتبط ذرات الفلزات مع بعضها فانها لا تصل الترتيب الالكتروني للغازات النبيلة، فمن السهل أن تفقد ذرات الفلزات مثل الصوديوم والبوتاسيوم الكتلونات تكافؤها لتصبح ايونات موجبة لأن كهرسليبيتها منخفضة.

تتأثر قوة الأصرة الفلزية بعدة عوامل اهمها كثافة الشحنة والتي تساوي شحنة الايون/حجم الايون(الذي يتناسب مع عدد المدارات)، حيث إن شحنة الايون هي الشحنة التي يكتسبها الفلز بعد ان يخسر الالكترونات الموجودة في المدار الاخير.  $(3+,2+,1+)$  ، وعليه تعتمد قوة الاصرة الفلزية على عدد إلكترولونات حزمة التكافؤ في ذرات الفلز، فكلما زادت إلكترولونات حزمة التكافؤ زاد تماسك الفلز ويصبح الفلز أكثر صلابة وأعلى في درجة الغليان. وكلما كانت كثافة الشحنة على الايون أعلى زادت قوة الاصرة الفلزية ونتيجة لذلك تكون درجة الانصهار أعلى. وترجع الكثير من خصائص الفلزات الطبيعية إلى طبيعة هذه الاصرة، فالتوصيل الكهربائي والتوصيل الحراري للفلزات سببه حركة الالكترونات الحرة بين الذرات.

#### 5-2-2 الأصرة الهيدروجينية

تنشأ الأصرة الهيدروجينية بسبب التجاذب الذي يحصل بين الطرف الموجب (ويكون ذرة هيدروجين) والطرف السالب ذرة تمتلك مزدوجاً الكترونياً أو أكثر. وتنحصر هذه الصفات الثلاثة في ثلاثة عناصر فقط هي ذرات الأوكسجين والفلور والنتروجين. ولذلك نجد جزيئات الماء والامونيا وفلوريد الهيدروجين وغيرها متكتلة بتأثير الأواصر الهيدروجينية. أن الأصرة الهيدروجينية هي السبب في ارتفاع

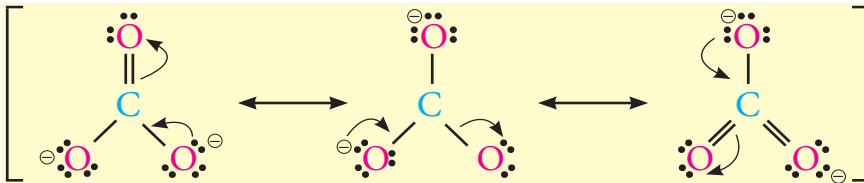


أصرة هيدروجينية في جزيء الماء

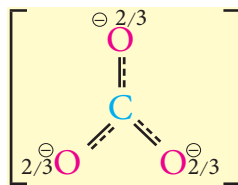
درجة غليان الماء ودرجة انصهار الجليد وتمدد حجم الماء عند الانجماد ولهذا يطفو الثلج في الماء. ان الاصرة الهيدروجينية هي قوة ارتباط فيزيائية ضعيفة تنشأ بين الجزيئات وليست آصرة كيميائية حقيقية ; لذا تكون قوتها اقل بكثير من الاواصر الاخرى.

### 3-2 الرنين Resonans

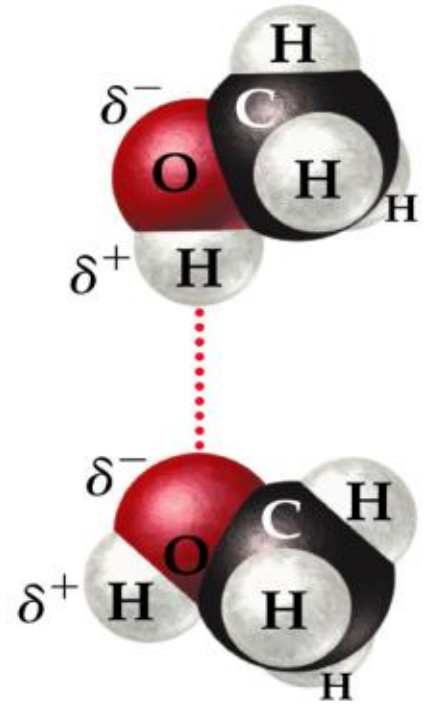
يمكن لبعض أنواع الاواصر أن يكون لها أكثر من شكل نقطي مثل: الأوزون  $O_3$  (تركيب I, II) وفيه تكون الذرة المركزية لها اصرة أحادية مع إحدى الذرات واصرة ثنائية مع الأخرى. ولا يمكن للشكل النقطي إخبارنا أي من الذرات لها اصرة ثنائية، فكل من الذرتين لها نفس الفرصة لحدوث الاصرة الثنائية. وهذان التركيبان المحتملان يسميان البناء الرنيني او الرنين. وفي الحقيقة، فإن تركيب الأوزون هو تركيب رنيني مهجن بين تركيبه الرنينين (تركيب III). وبدلاً من وجود اصرة ثنائية وأخرى أحادية فإنه في الواقع تكون الاصرتان متساويتين وهي حالة وسط بين الاصرة الاحادية والاصرة الثنائية، حيث تكون ثلاثة الكترولونات في كل منهما في كل الاوقات. وكذلك يمكن رسم ايون الكربونات ( $CO_3^{2-}$ ) باي من الصيغ التركيبية الاتية:



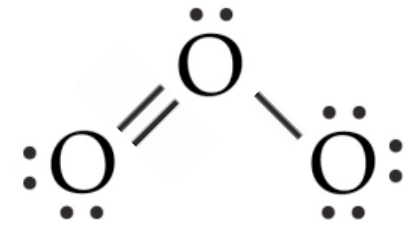
يتضح من التراكيب اعلاه ان الذرة المركزية (ذرة C) تتصل مع الذرات الاخرى ( ذرات O) باصرتين احادية وواحدة ثنائية يتناوب موقعها على الذرات الثلاث، وتسمى هذه التراكيب المحتملة بالرنين. وفي الحقيقة ان تركيب ايون  $CO_3^{2-}$  هو تركيب رنيني مهجن بين التراكيب الثلاثة اعلاه وكالاتي:



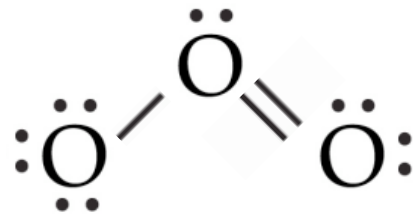
وتمثل  $2/3$  حركة شحنتين سالبتين على ثلاث ذرات اوكسجين. وتوجد حالة خاصة من الرنين تحدث في الحلقات الأروماتية للذرات (مثلا البنزين) التي سنقوم بدراستها لاحقاً.



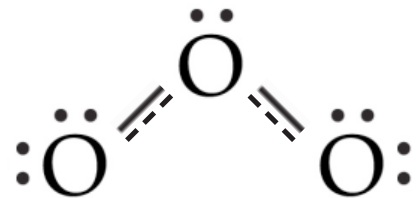
آصرة هيدروجينية



تركيب I



تركيب II



تركيب III

التركيب الرنيني للأوزون

#### تمرين 5-2

ارسم الاشكال الرنينية لايون الكبريتات  $SO_4^{2-}$  و ايون الفوسفات  $PO_4^{3-}$ .

## 4-2 الشكل الهندسي للجزيئات

تتخذ جزيئات المركبات الكيميائية أشكالاً هندسية معينة يتحكم في تكوينها عدد من العوامل، وهي نفسها التي تتحكم في نوعية الآصرة الكيميائية (أن كانت أيونية أو تساهمية أو فلزية) وهي:

1. عدد ونوع الذرات المرتبطة في الجزيء.
  2. الترتيب الإلكتروني لذرات العناصر المشاركة في تكوين الجزيء.
  3. قابلية الذرات على اكتساب أو فقدان أو مشاركة الكترونات التكافؤ.
  4. وجود أو عدم وجود أغلفة ثانوية خارجية فارغة في الذرة .
- حيث تصل الذرة من خلال ذلك الى حالة اكثر من الاستقرار والثبات وتصل الى حالة الطاقة الدنيا بحيث يكون التنافر بين الكترونات في حدوده الدنيا بينما تتجاذب الذرات بأقصى ما يمكن . وقد حاولت بعض النظريات تفسير تكوين الآصرة وأشكال الجزيئات ونذكر الآن أهم هذه النظريات :

### 1-4-2 نظرية تنافر أزواج الكترونات غلاف التكافؤ

#### Valence Shell Electron-pair Repulsion Theory (VSEPR)

تفسر هذه النظرية ترتيب الذرات حول ذرة مركزية بالاعتماد على التنافر بين أزواج الالكترونات المشاركة او غير المشاركة الموجودة في غلاف التكافؤ للذرة المركزية ، ويكون التنافر بين هذه الأزواج في حده الأدنى عندما تكون أبعد مايمكن عن بعضها بحيث يحقق ذلك اكبر تجاذب بين الذرات المكونة للآصرة مما يجعلها اكثر استقراراً وأقل طاقة. ولتوضيح ذلك يمكن دراسة الشكل الهندسي لبعض الجزيئات:

جزيء  $\text{BeF}_2$  :

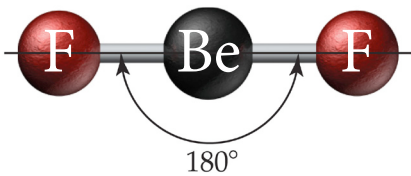
عند كتابة رمز لويس لكل من ذرة البريليوم  $\text{Be}$  وذرة الفلور  $\text{F}$  على النحو الآتي :



يتضح من رمز لويس ان ذرة البريليوم تشارك ذرتي الفلور بزواج من الالكترونات ليصبح لدينا زوجان من الالكترونات المشتركة حول ذرة البريليوم . وحتى يكون زوجا الالكترونات في ادنى حالة من التنافر فإنهما يتوزعان على جانبي ذرة البريليوم وتتوزع ذرتا الفلور على وفق الآتي :-



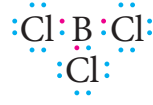
لذلك تلاحظ ان الذرات الثلاث ترتبت على خط مستقيم بحيث تقع ذرة  $\text{Be}$  في وسطه ويكون الشكل الفراغي للجزيء خطياً والزاوية بين الآصرتين  $180^\circ$  [الشكل (6-2)].



الشكل الخطي لجزيء فلوريد البريليوم.

### جزيء $BCl_3$ :

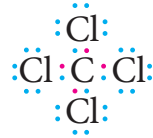
يكتب رمز لويس لجزيء كلوريد البورون  $BCl_3$  كالآتي :



يتضح من هذا الرمز ان هناك ثلاثة أزواج من الالكترونات تحيط بذرة البورون . ولكي يكون التنافر بين أزواج الالكترونات أقل مايمكن فإن ذرات الكلور تتوزع حول ذرة البورون على شكل مثلث مستوي تكون الزوايا بين أواصره  $120^\circ$  [الشكل (7-2)].

### جزيء $CCl_4$ :

يكون رمز لويس لجزيء رباعي كلوريد الكربون  $CCl_4$  كالآتي :



ويلاحظ ان هناك اربع مجموعات من ازواج الالكترونات تحيط بذرة الكربون، ويكون التنافر بينها في ادنى حالاته عندما تتوزع ذرات الكلور باتجاه رؤوس شكل رباعي الالوجه منتظم (Tetrahedral) بحيث تكون الزاوية بين كل زوجين منها  $109.5^\circ$  [الشكل (8-2)].

### جزيء الماء $H_2O$ :

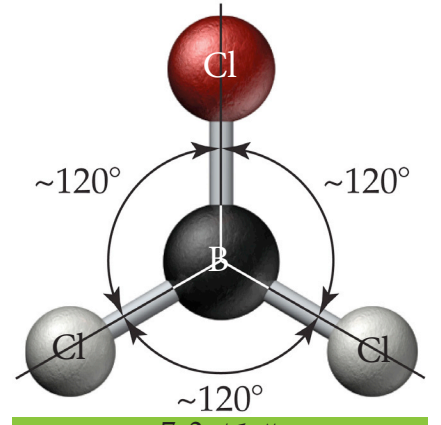


يتضح من رمز لويس لجزيء الماء ان هناك أربعة أزواج من الالكترونات تحيط بذرة الاوكسجين ، ويلاحظ كذلك ان تركيب ذرة الاوكسجين في جزيء الماء يشبه تركيب ذرة الكربون في جزيء  $CCl_4$  ويتوقع ان تتوزع ازواج الالكترونات باتجاه شكل رباعي الالوجه منتظم . الا ان وجود الازواج الالكترونية غير المشاركة يدفع بذرتي الهيدروجين لان تتوزعا على رأسي ضلعين متخذتين الشكل المنحني بزاوية مقدارها  $(104.5^\circ)$  تقريباً [الشكل (9-2)].

### جزيء الامونيا $NH_3$ :

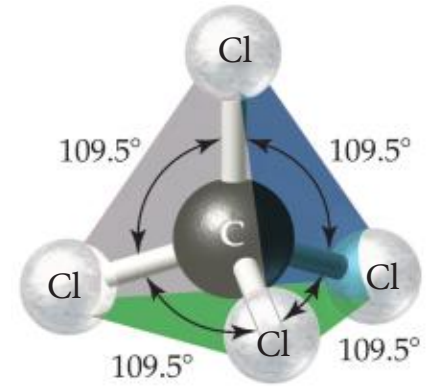


يتضح من رمز لويس ان هناك اربع مجموعات من ازواج الالكترونات تحيط بذرة النتروجين ويتوقع ان تتوزع كما في حالة جزيء  $CCl_4$  باتجاه شكل رباعي الالوجه منتظم الا ان وجود الزوج الالكتروني غير المشارك يدفع بذرات الهيدروجين الثلاث لان تتوزع على رؤوس الهرم ثلاثي القاعدة وتكون الزاوية بين الأواصر الثلاث نحو  $(107.3^\circ)$  [الشكل (10-2)].



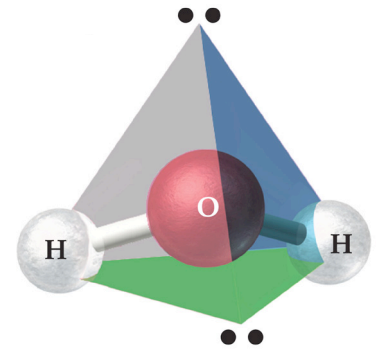
الشكل 7-2

مثلث مستوي



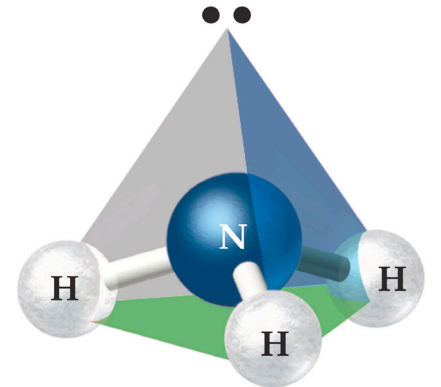
الشكل 8-2

رباعي الالوجه منتظم



الشكل 9-2

الشكل الهندسي للماء.



الشكل 10-2

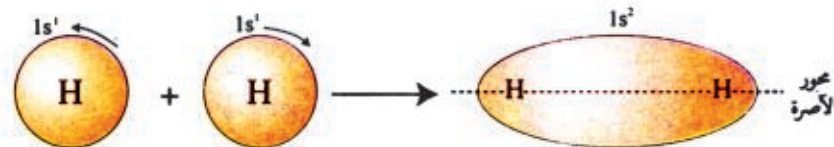
الشكل الهندسي للامونيا

## 2-4-2 نظرية آصرة التكافؤ Valence Bond Theory

استطاعت نظرية تنافر أزواج الكترونات غلاف التكافؤ من تفسير اشكال الجزيئات المختلفة لكنها لم تستطع ان توضح كيفية توزيع الكترونات الآصرة بين اغلفة التكافؤ للذرتين المكونتين للآصرة . ومن النظريات التي اسهمت في توضيح ذلك نظرية آصرة التكافؤ التي اعتمدت في تفسيرها لتكوين الآصرة التساهمية على تداخل الاوربيتالات الذرية لغلافي تكافؤ الذرتين حيث تتحرك الالكترونات حول النواتين وتزداد الكثافة الالكترونية في منطقة التداخل بين الذرتين مما يؤدي الى اقتراب النواتين من بعضهما وانخفاض طاقتيهما ويزداد انجذابهما نحو منطقة تداخل الاوربيتالات وبذلك تتكون الآصرة التساهمية بينهما. ويمكن توضيح ذلك في تكوين الاواصر التساهمية لبعض الجزيئات البسيطة مثل  $H_2$  و  $HF$  و  $Cl_2$  و  $O_2$  و  $N_2$  . وتتداخل الاوربيتالات الذرية كما يأتي:

### أ - تداخل اوربيتالي s لذرتي الهيدروجين في جزيئة الهيدروجين

عند كتابة الترتيب الالكتروني لذرة الهيدروجين نلاحظ انها تمتلك الكتروناً واحداً في المستوى الثانوي (1s) :  $1s^1$  :  $1$   
تتكون الآصرة في جزيء الهيدروجين من تداخل اوربيتال 1s في الذرة الاولى مع اوربيتال 1s من الذرة الثانية كما موضح في الشكل (11-2) :-



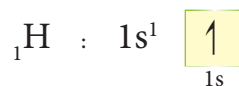
الشكل 11-2

التداخل الرأسي لاوربيتالي s.

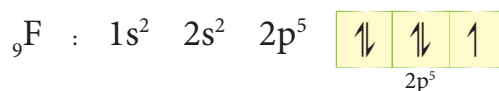
ويلاحظ من الشكل ان الكترونات الآصرة تتركز بين نواتي الذرتين حيث تزداد الكثافة الالكترونية في منطقة التداخل حول المحور الواصل بين النواتين ، وتسمى هذه الآصرة سيكما ( $\sigma$ ).

### ب - تداخل اوربيتال s مع اوربيتال p من ذرة اخرى كما في جزيئة HF

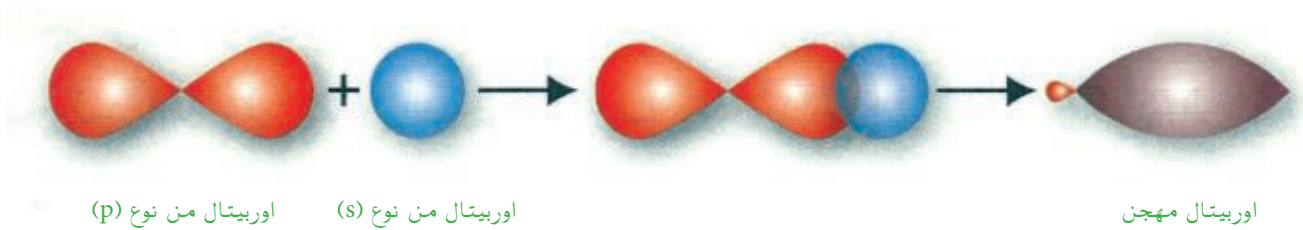
عند كتابة الترتيب الالكتروني لذرة الهيدروجين سوف نلاحظ انها تحتوي على الكترون واحد في المستوى الثانوي 1s



وعند كتابة الترتيب الالكتروني لذرة الفلور تكون على النحو الاتي :



نلاحظ ان هناك الكتروناً منفرداً في اوربيتال p في ذرة الفلور لذا تنشأ آصرة سيكما عند تداخل اوربيتال s القادم من ذرة الهيدروجين مع اوربيتال p (الواقعين على المحور الرأسي)، حيث تتوزع الكثافة الالكترونية حول المحور الواصل بين النواتين. وتسمى هذه الآصرة ايضاً آصرة سيكما ( $\sigma$ ) [الشكل (12-2)].



الشكل 12-2

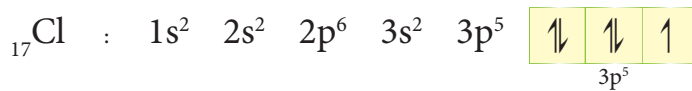
التداخل الرأسي لاوربیتالي s و p.

ج - تداخل اوربیتال p من الذرة الاولى مع اوربیتال p من الذرة الثانية

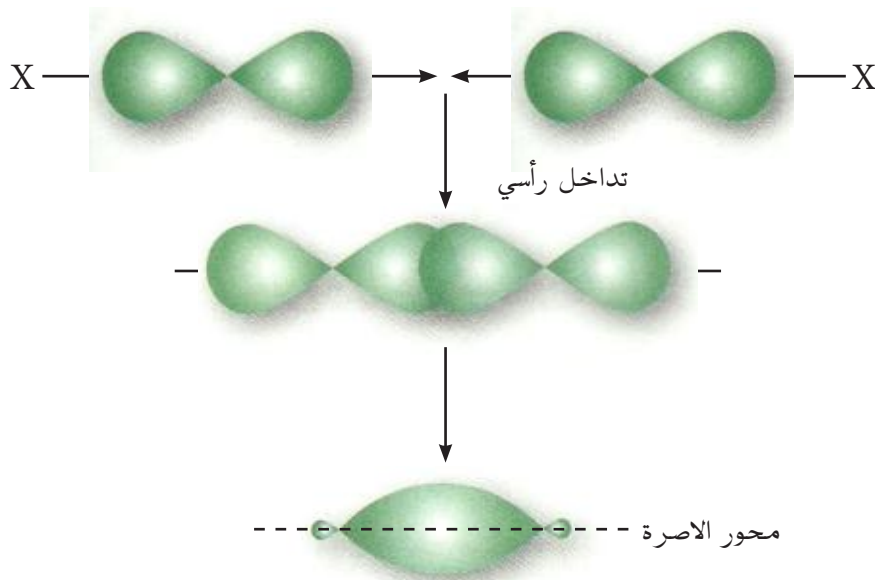
تتداخل اوربیتالات p بطريقتين مختلفتين على النحو الاتي :-

1. تداخل اوربیتال p مع اوربیتال p على نفس المحور

عند تداخل اوربیتال من نوع p لذرة مع اوربیتال p لذرة اخرى تداخلاً رأسياً (عند نفس المحور) تتوزع الكثافة الالكترونية بين نواتي الذرتين بشكل متماثل على طول المحور الواصل بينهما. وتسمى هذه الاصرة سيكما ايضاً كما في جزيئة  $Cl_2$ .



يقترب الاوربیتال الذري  $3p$  الذي يحتوي على الكترون واحد في كلا الذرتين ويحدث تداخل بينهما وتنشأ نتيجة ذلك سحابة من الكثافة الالكترونية تمثل آصرة سيكما بين ذرتي الكلور [الشكل (2-13)].



الشكل 13-2

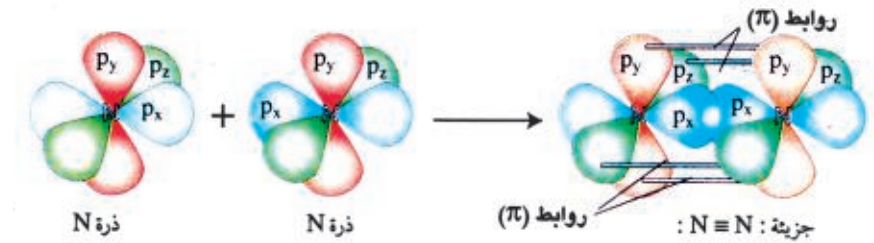
التداخل الرأسي لاوربیتالي p.

2. تداخل اوربیتال p مع اوربیتال p على المحاور الجانبية

عند تداخل اوربیتال p لذرة مع اوربیتال p لذرة اخرى تداخلاً جانبياً وبشكل عمودي فإن السحابة الالكترونية سوف تتوزع فوق محور الاصرة الرابطة للذرتين وتحتها، وتكون اصرة تساهمية من نوع باي ( $\pi$ )، كما في جزيئة الاوكسجين.



اما عندما يحصل التداخل الجانبي بشكل افقي فإن السحابة الالكترونية تتوزع يمين ويسار محور الاصرة الرابطة بين الذرتين المساهمتين وينتج عنه ايضاً اصرة من نوع باي . ويمكن ان توجد الحالات الثلاثة من التداخل (رأسي ، جانبي عمودي ، جانبي افقي ) كما مبين بين ذرتي جزيئة النيتروجين في [الشكل (2-14)].



الشكل 2-14

تكون اواصر باي واواصر سيكما في جزيء النتروجين

## 5-2 التهجين الاوربييتالي Orbital hybridization

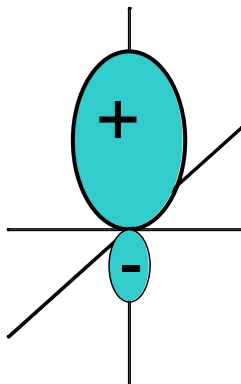
يمكن أن تحصل عملية التداخل بين أوربييتالات الذرة الواحدة المتقاربة مع بعضها في الطاقة لينتج عنه عدد من الأوربييتالات الذرية المهجنة مساوية لعدد الأوربييتالات التي شاركت في عملية التداخل. يطلق على هذه الحالة التهجين الأوربييتالي، وتدعى الأوربييتالات الناتجة بالأوربييتالات المهجنة. وهكذا فإن عملية التهجين تمثل تداخل الأوربييتالات الذرية لها لتنتج أوربييتالات مهجنة متشابهة بالشكل والحجم ومتكافئة في الطاقة وأكثر استقراراً وتؤدي إلى الحصول على أواصر تساهمية أقوى بين الذرات المشاركة في تكوين الجزيء. وفيما يلي بعض الملاحظات المتعلقة بعملية التهجين ونواتجها:

1. تحدث عملية التهجين في أوربييتالات نفس الذرة بعد إثارة الإلكترونات التي تقع ضمن المستوي الخارجي الرئيسي ومحصلتها التقليل من حدة التنافر الذي حصل بين الكثرونات الجزيء الناتج.

2. يتم التهجين بين الأوربييتالات الذرية المتقاربة في الطاقة مع بعضها مثل (2s و 2p) ، (3s و 3p) ، (4s و 4p) .

3. يختلف الشكل الهندسي المجسم للأوربييتال الذري المهجن عن الشكل الهندسي المجسم للأوربييتال الذري المشارك قبل التهجين. أن شكل الأوربييتال الذري المهجن يتكون من فصين أحدهما كبير نسبياً تتركز فيه السحابة الإلكترونية والآخر صغير وغالباً ما يهمل أثناء الرسم [الشكل (2-15)].

4. يشتق أسم الأوربييتال المهجن من أسماء وعدد الأوربييتالات النقية الداخلة في عملية التهجين مثال ذلك الاوربييتال المهجن ( $sp^3$ ) والذي يعني مشاركة ثلاثة من الأوربييتالات الذرية من نوع (p) مع أوربييتال ذري واحد من نوع (s) ضمن نفس الغلاف الإلكتروني الرئيسي.



الشكل 2-15

اوربييتال  $sp$  مهجن.

5. يكون عدد الأوربيتالات الذرية المهجنة المتكونة مساوياً لعدد الأوربيتالات الذرية المشاركة في عملية التهجين. وبناء على ذلك عندما تتم عملية تهجين ثلاثة أوربيتالات ذرية من نوع (p) مع أوربيتال ذري واحد من نوع (s) لتكوين أربعة أوربيتالات من نوع ( $sp^3$ ).

6. تكون طاقة الأوربيتالات الذرية المهجنة المتكونة متكافئة أو متساوية.


7. أن قابلية الأوربيتالات المهجنة على التداخل مع الأوربيتالات الذرية لذرة أخرى أكبر من قابلية الأوربيتالات الذرية المهجنة المشاركة في عملية التهجين، لأن الأوربيتالات الذرية المهجنة أكثر امتداداً في الفراغ من الأوربيتالات الذرية غير المهجنة المشاركة.

## 2-5-1 أنواع الأوربيتالات المهجنة

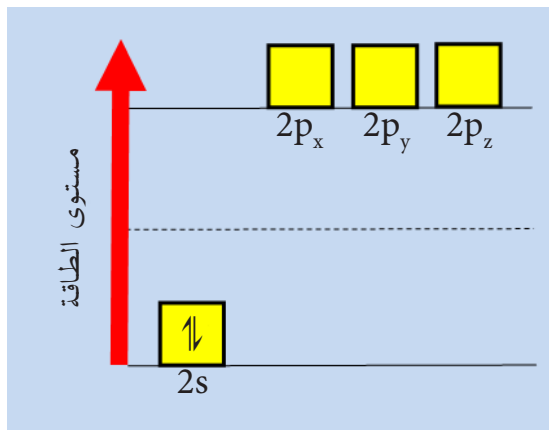
يمكن أن نحصل على أنواع من الأوربيتالات الذرية المهجنة حسب عدد ونوع الأوربيتالات الذرية المشاركة. وسيجري التطرق إلى أهمها في المرحلة الدراسية الراهنة.

أ- الأوربيتالات المهجنة من نوع ( $sp$ ): على ضوء الملاحظات المذكورة في اعلاه نعرف أن هذا النوع من الأوربيتالات الذرية المهجنة قد تكون من جراء مشاركة أوربيتالين ذريين أحدهما من نوع (s) والآخر من نوع (p). أن تداخل هذين الأوربيتالين الذريين سيؤدي إلى تكوين أوربيتالين ذريين مهجنين من نوع ( $sp$ ) يقعان على خط مستقيم بزاوية مقدارها  $180^\circ$  لكي يحصل أقل تنافر بين الأوربيتالين كما يحصل في جزيئة هيدريد البريليوم  $BeH_2$ . ولغرض توضيح كيفية حصول ذلك يتم اتباع الخطوات الآتية:

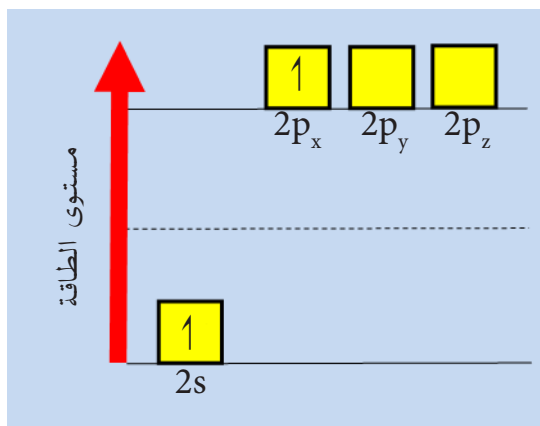
1. أن الترتيب الإلكتروني لذرة البريليوم :



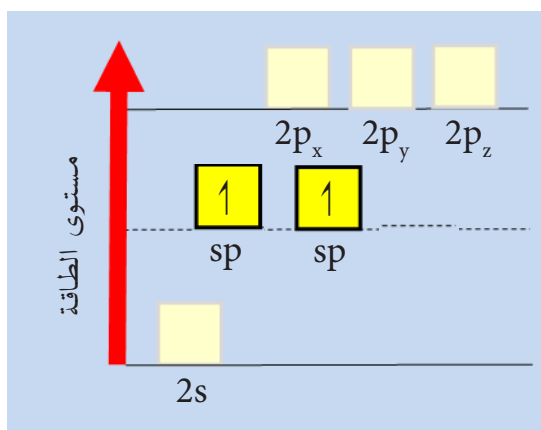
ويعبر عن الأوربيتالات للاغلفة في الحالة المستقرة كالآتي :



2. سيرتقي أحد الإلكترونين من الاوربيتال 2s إلى الأوربيتال ( $2p_x$ ):



3. عندئذ يحصل التداخل لتوليد اوربيتالين ذريين مهجنين من نوع sp بطاقة متكافئة أقل من طاقة الأوربيتالات الذرية ،  $2p_x$  ،  $2p_y$  ،  $2p_z$  وأعلى من طاقة الأوربيتال الذري  $2s^2$  وعلى الصورة الآتية.



4. أن لهذين الأوربيتالين القابلية على تكوين أوربيتالات جزيئية مع أوربيتالي ذرتي هيدروجين ( $1s^1$ ) لتكوين اصرتين تساهميتين بين H و Be لتكوين جزيء هيدريد البريليوم.

ويمكن توضيح الخطوات الأربعة أعلاه من تمثيل الأشكال الهندسية المجسمة للأوربيتالات الذرية قبل عملية التهجين وبعدها. في هذه الحالة لدينا ذرتي هيدروجين كل واحدة تمتلك الأوربيتال ( $1s^1$ ) يتداخلان مع الأوربيتالين المهجنين sp لذرة البريليوم. يتم هذا التداخل على احد الإحداثيات لإعطاء الشكل الخطي للجزيئة الناتجة كما هو مبين في الشكل (2-16).

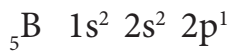
الشكل 2-16

تكوين الأوربيتالات المهجنة من نوع sp من تداخل الأوربيتال الذري من نوع s مع اوربيتالين من نوع  $P_x$  و  $P_y$ .

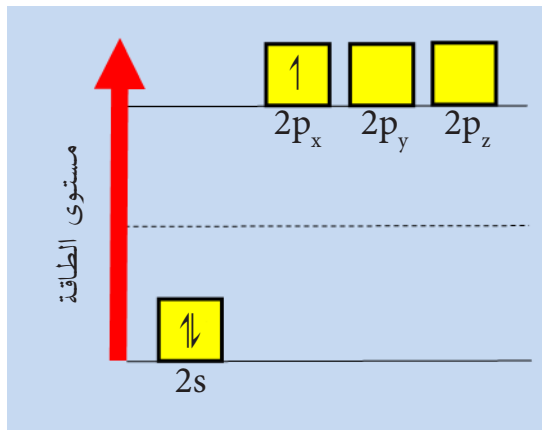


ب - الأوربيتالات المهجنة من نوع ( $sp^2$ ) : يحصل هذا النوع من الأوربيتالات الذرية المهجنة من جراء مشاركة أوربيتال ذري واحد من نوع (s) مع أوربيتالين ذريين من نوع (p) ضمن نفس الغلاف الرئيس. أن تداخل هذه الأوربيتالات الذرية الثلاثة سيؤدي إلى تكوين ثلاث أوربيتالات ذرية مهجنة من نوع ( $sp^2$ ) تقع في نفس المستوي وبينهما زاوية مركزها نواة الذرة المركزية مقدارها  $120^\circ$  لكي يحصل أقل تنافر بين الأوربيتالات كما يحصل في جزيء ثلاثي فلوريد البورون  $BF_3$ . وأدناه توضيح كيفية حصول ذلك التهجين على وفق الخطوات الآتية:

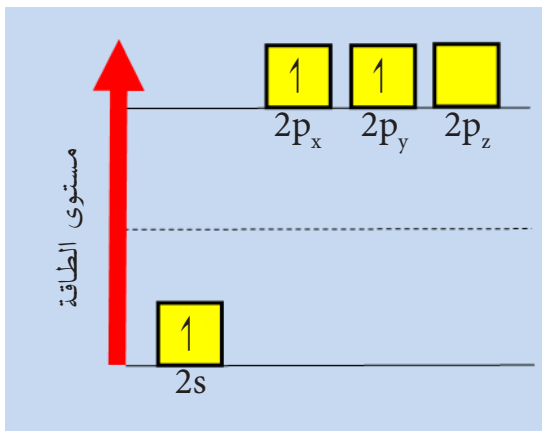
1. أن الترتيب الإلكتروني لذرة البورون هو



ويعتبر الأوربيتال ( $1s^2$ ) داخلياً ولن يشارك في التهجين. وعليه يمكن تمثيل الترتيب الإلكتروني للغلاف الخارجي لهذه الذرة كما يأتي:

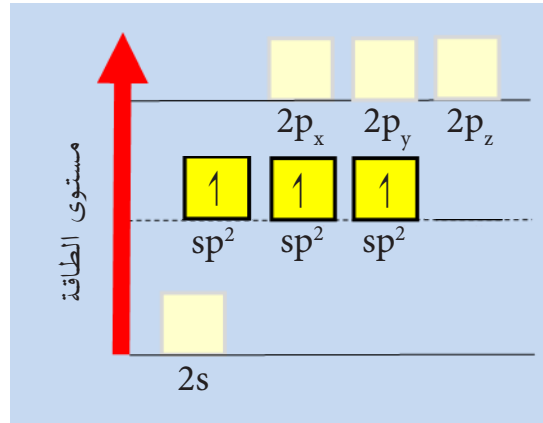


2. يرتقي احد الإلكترونين الموجودين في الأوربيتال ( $2s^2$ ) إلى الأوربيتال  $p_y$  ذي الطاقة المقاربة :



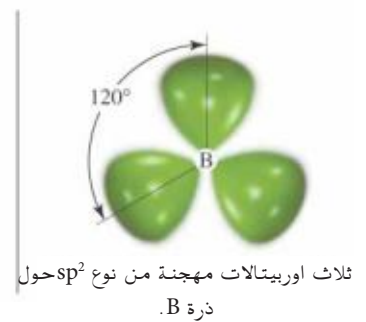
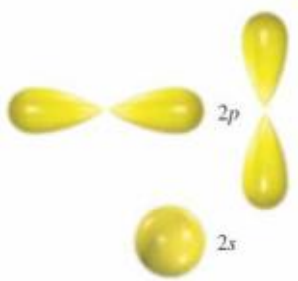
3. عندئذ يحصل التداخل لتوليد ثلاثة أوربيتالات ذرية مهجنة من نوع  $sp^2$  بطاقة متكافئة أقل من الأوربيتالات الذرية غير المهجنة

$2p_x$  ،  $2p_y$  ،  $2p_z$  وأعلى من الأوربيتال الذري غير المهجن  $2s^2$ . وتكون هذه الأوربيتالات متوزعة حول النواة في مستوى يشترك بأحداثيين وبينهما زوايا متساوية.



4. أن لهذه الأوربيتالات الثلاثة القابلة على تكوين ثلاثة أوربيتالات جزيئية مع ثلاثة أوربيتالات لثلاث ذرات فلور لتكوين جزيء ثلاثي فلوريد البورون.

ويمكن توضيح الخطوات الأربع أعلاه من تمثيل الأشكال الهندسية المجسمة للأوربيتالات الذرية قبل عملية التهجين وبعدها. في هذه الحالة لدينا ثلاث ذرات فلور تتداخل مع الأوربيتالات المهجنة  $sp^2$  لذرة البورون. يتم هذا التداخل في مستوى واحد كما هو مبين في الشكل (17-2).

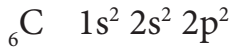


الشكل 17-2

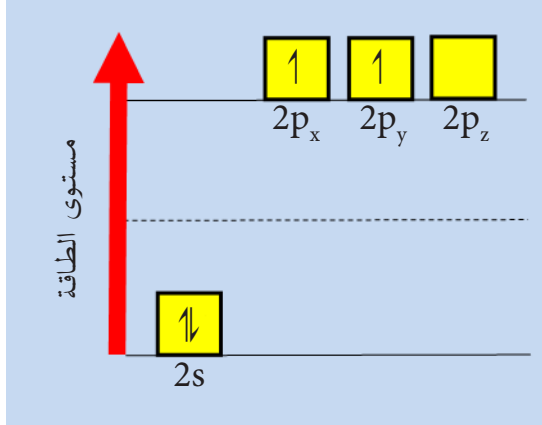
تكوين الأوربيتالات المهجنة من نوع  $sp^2$  من تداخل الأوربيتال الذري من نوع  $2s$  مع أوربيتالين من نوع  $P_x$  و  $P_y$ .

ج - الأوربيتالات المهجنة من نوع  $(sp^3)$  : يحصل هذا النوع من الأوربيتالات الذرية المهجنة من جراء تداخل أوربيتال ذري واحد من نوع (s) مع ثلاثة أوربيتالات ذرية من نوع (p). إن تداخل هذه الأوربيتالات الذرية الأربعة سيؤدي إلى تكوين أربعة أوربيتالات ذرية مهجنة من نوع  $(sp^3)$ ، وتشكل هذه الأوربيتالات شكلاً رباعي الأوجه منتظماً حول نواة الذرة المركزية وبزوايا رأسية مقدارها  $109.5^\circ$  لكي يحصل أقل تنافر بين الأوربيتالات كما يحصل في جزيء الميثان  $CH_4$ . وأدناه توضيح كيفية حصول ذلك التهجين على وفق الخطوات الآتية:

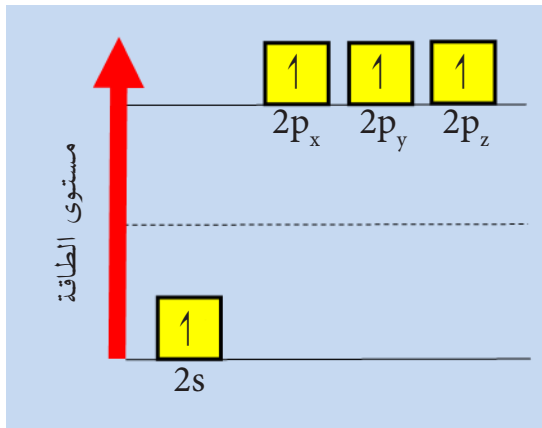
1. أن الترتيب الإلكتروني لذرة الكربون:



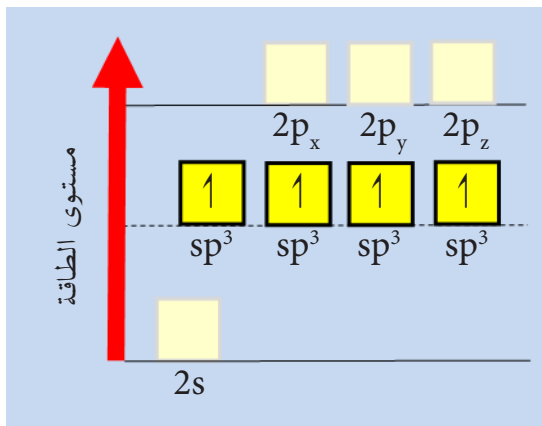
ويعتبر الأوربيتال ( $1s^2$ ) داخلياً ولن يشارك في التهجين. وعليه يمكن تمثيل الترتيب الإلكتروني لهذه الذرة كما يأتي:



2. يرتقي إلكترون واحد من الأوربيتال ( $2s^2$ ) إلى الأوربيتال ( $2p_z$ ):



3. عندئذ يحصل التداخل لتوليد أربعة أوربيتالات ذرية مهجنة من نوع  $sp^3$  بطاقة متكافئة تكون أقل من طاقة الأوربيتالات الذرية غير المهجنة  $2p_x$ ،  $2p_y$ ،  $2p_z$  وأعلى من طاقة الأوربيتال الذري  $2s$ . وتتوزع هذه الأوربيتالات المهجنة على شكل رباعي الاوجه منتظم Tetrahedral حول ذرة الكربون المركزية وبينها زوايا متساوية.

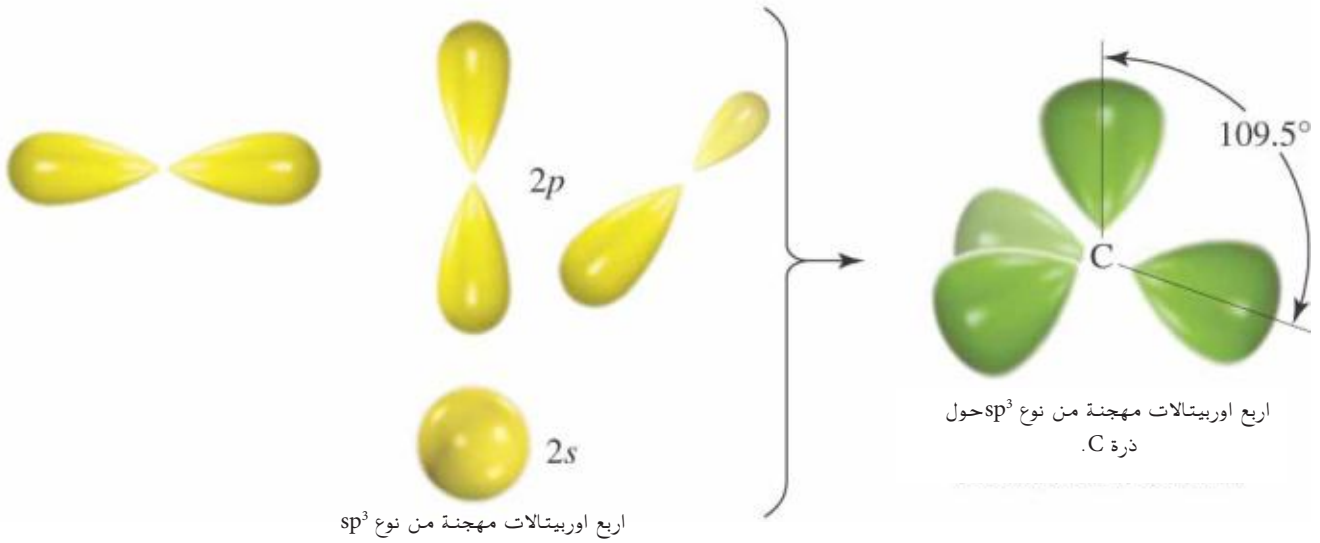


## تمرين 2-6

وضح كيفية حصول التهجين في جزيء على  $\text{SiCl}_4$  وفق الخطوات الاربع التي اتبعناها في عملية التهجين (الاعداد الذرية  $\text{Si}=14$  و  $\text{Cl}=17$ ).

4. أن لهذه الأوربيتالات الأربعة القابلة على تكوين أربعة أوربيتالات جزيئية مع أربعة أوربيتالات ذرية لأربع ذرات هيدروجين ( $1s^1$ ) لتكوين جزيء الميثان.

ويمكن توضيح الخطوات الأربع أعلاه من تمثيل الأشكال الهندسية المجسمة للأوربيتالات الذرية قبل عملية التهجين وبعدها [الشكل (2-18)]. في هذه الحالة لدينا أربع ذرات هيدروجين كل واحدة تمتلك الأوربيتال ( $1s^1$ ) تتداخل مع الأوربيتالات المهجنة  $sp^3$  لذرة الكربون كما هو مبين في الشكل (2-18).



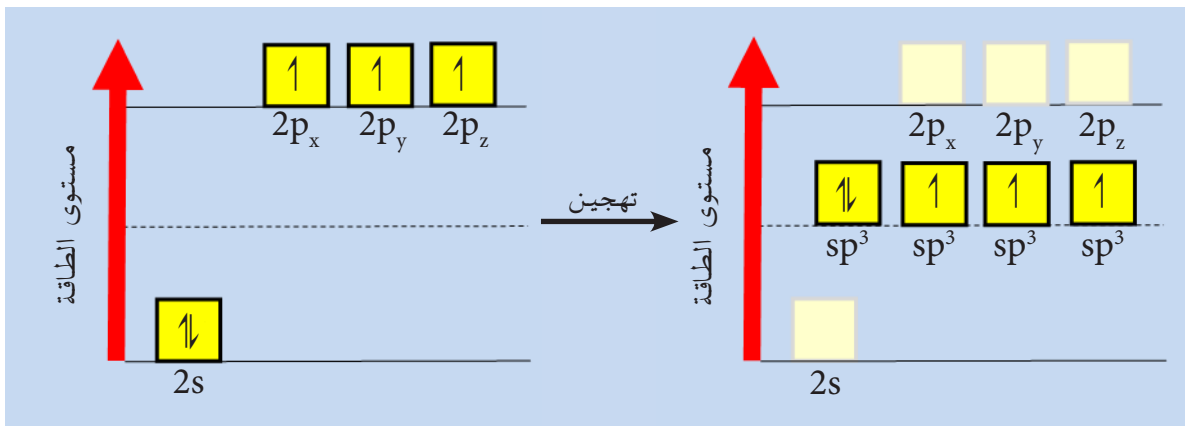
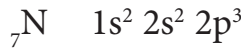
الشكل 2-18

تكوين الأوربيتالات المهجنة من نوع  $sp^3$  من تداخل الأوربيتال الذري من نوع  $2s$  مع ثلاثة أوربيتالات من نوع  $p_x$  و  $p_y$  و  $p_z$ .

## 2-5-2 أمثلة على التهجين والشكل الهندسي

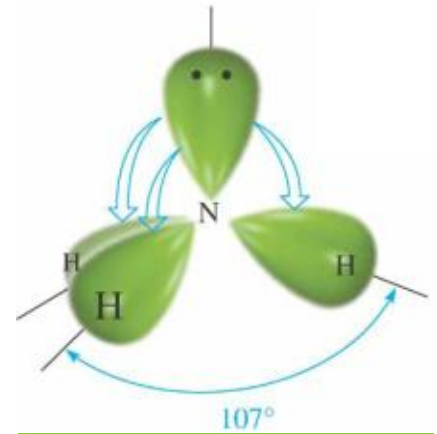
### 1. جزيء الامونيا :

أن لانتظام الاوربيتالات المهجنة تأثيراً كبيراً على الشكل الهندسي للجزيء أي على ترتيب نوى الذرات المتحدة. ومن الأمثلة المهمة على ذلك ما نراه يحصل في أوربيتالات بعض الذرات وتشكيلها لجزيئات ذات أشكال هندسية معروفة كما نجده في حالة جزيئة الامونيا  $\text{NH}_3$ . حيث تمتلك ذرة النتروجين الترتيب الإلكتروني التالي:



## تمرين 7-2

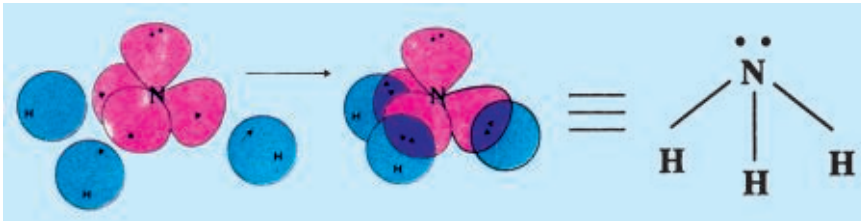
اكتب خطوات تهجين اوربيتالات ذرة الاوكسجين في جزيء الماء ما هو الشكل الهندسي لها ولماذا؟



الشكل 19-2

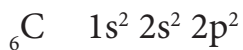
الشكل الهندسي لجزيء الامونيا.

عندما تقترب من ذرة النتروجين ثلاث ذرات من الهيدروجين تمتلك كل واحدة منها أوربيتال ذري من نوع ( $1s^1$ )، عندئذ يمكن للأوربيتالات الذرية الخارجية لذرة النتروجين أن تتجهن مع بعضها. يحصل هذا التجهين بعد أن يتداخل الأوربيتال ( $2s$ ) مع أوربيتالات الغلاف ( $2p$ )، لكي تعطي أربعة أوربيتالات مهجنة من نوع ( $sp^3$ ) متكافئة من حيث الشكل والطاقة وتمتلك الشكل الهندسي رباعي الاوجه غير منتظم. تتداخل الأوربيتالات الذرية الثلاثة نوع ( $1s^1$ ) العائدة لذرات الهيدروجين الثلاث مع الأوربيتالات الذرية المهجنة من نوع ( $sp^3$ ) والتي تحتوي على إلكترون واحد في كل أوربيتال لتكوين ثلاث أوامر تساهمية من نوع  $\sigma$ . ولا يشترك الأوربيتال المهجن الذي يحتوي على زوج الكتروني في هذا التداخل. أن الشكل الهندسي الذي سيأخذه هذا الجزيء سيكون هرم رباعي الاوجه غير منتظم، يتكون من ذرة النتروجين المركزية تحيط بها ثلاث ذرات هيدروجين ومزدوج الكتروني حر غير مرتبط [الشكل (2-19)].

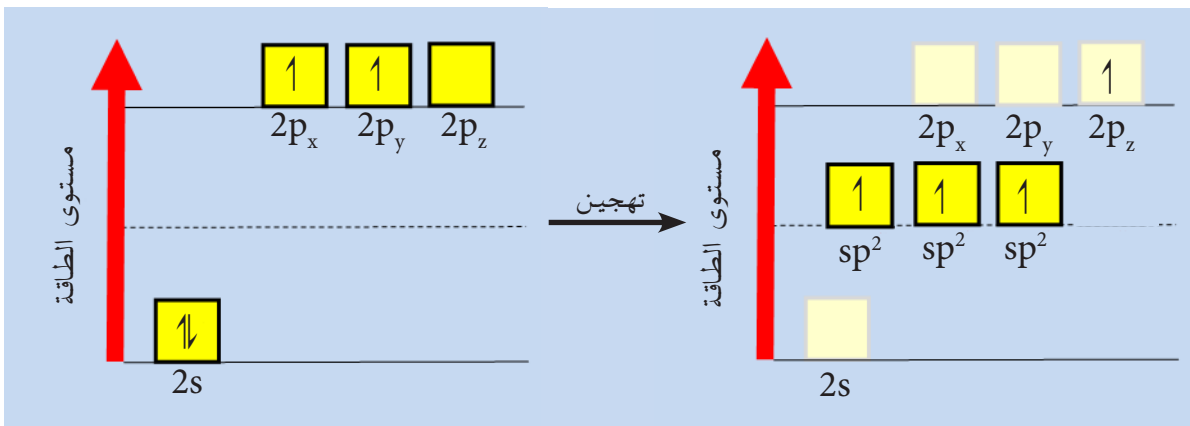


## 2. جزيء الاثيلين $C_2H_4$

تمتلك ذرة الكربون الترتيب الالكتروني :



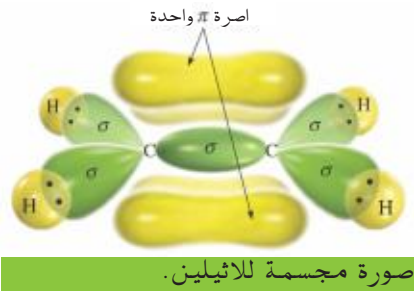
وعندما يرتقي أحد الكترونات  $2s^2$  الى أوربتال  $p_z$  وحدث التداخل بين الاوربيتالات الذرية نحصل على ثلاثة أوربيتالات مهجنة من نوع  $sp^2$  تاركاً الاوربيتال الرابع  $p_z$  غير مهجن.



والآن اذا اقتربت ذرتا كربون مهجنتي الاوربيتالات من نوع  $sp^2$  من بعضها وفي نفس الوقت تقترب أربع ذرات هيدروجين لكل منها الكترون



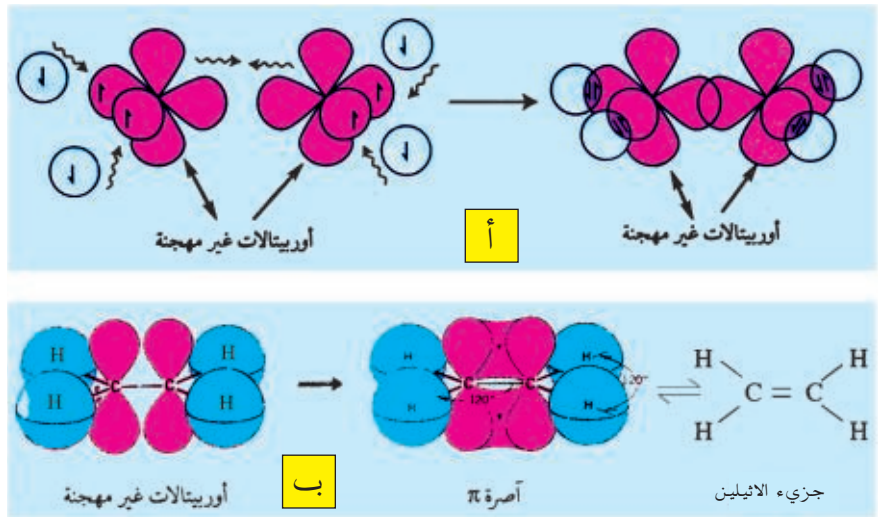
واحد في اوربيتال s [الشكل (20-2 أ)] تتداخل هذه الاوربيتالات وتزدوج الالكترونات التي تشغلها وتتكون خمسة اواصر تساهمية سيكما واحدة (C-C) والاربعة (C-H). يلي ذلك تداخل الاوربيتالين غير المهجنين  $p_z$  في ذرتي C تداخلا جانبياً وتزدوج الالكترونات فيها لتشكل آصرة من نوع باي بين ذرتي الكربون والتي تشكل مع الآصرة سيكما آصرة مزدوجة بين ذرتي الكربون [الشكل (20-2 ب)]. وهذا يعني ان الآصرة من نوع سكما نتجت من تداخل الاوربيتالات المهجنة  $sp^2$  لذرتي كاربون متجاورتين أما الآصرة من نوع باي فنتجت من تداخل اوربيتالات  $p_z$  النقية (غير المهجنة) لذرتي الكربون المتجاورتين ، وبذلك ينشأ جزيء الاثيلين.



الشكل 20-2

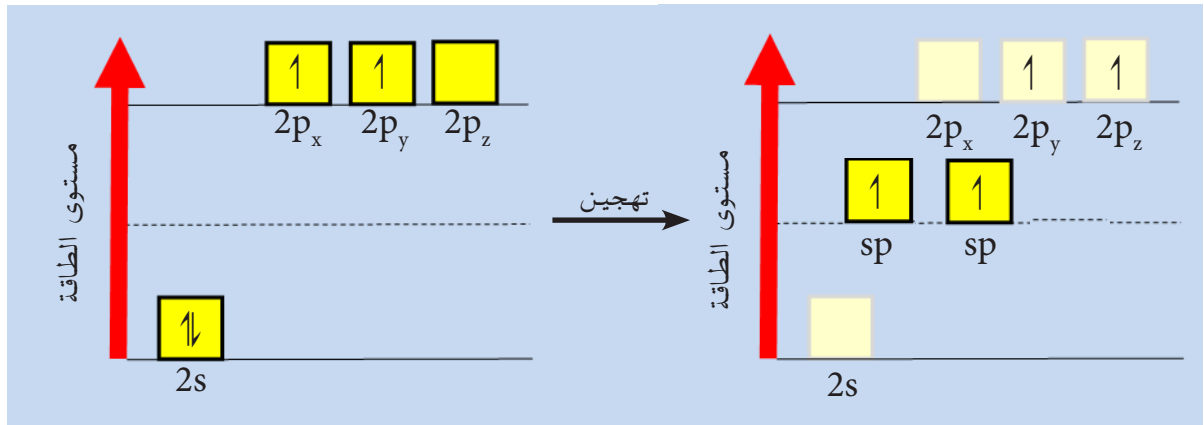
أ - تداخل الاوربيتالات لتكوين اواصر سيكما في جزيء الاثيلين.

ب - تداخل اوربيتالات لتكوين اواصر باي في جزيء الاثيلين.



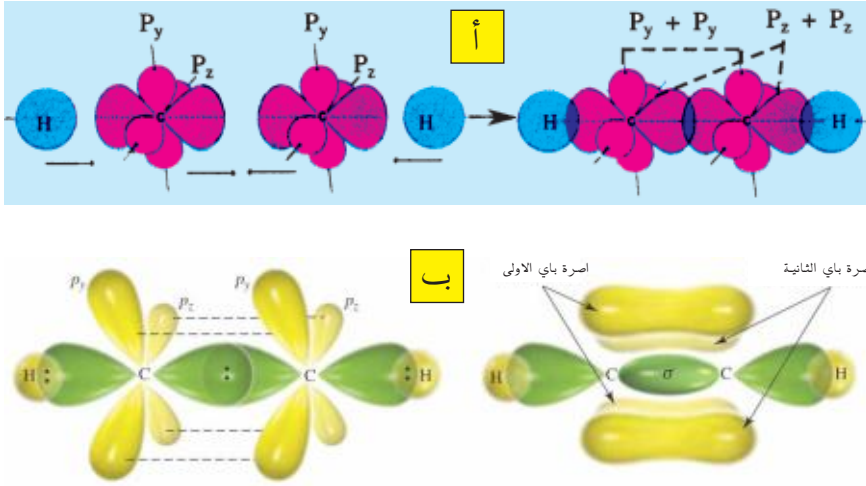
### 3. جزيء الاستيلين ( $C_2H_2$ )

في حالة جزيء الاستيلين فأن الاوربيتالين  $2s$  و  $2p_x$  فقط يعانيان التهجين ويبقى الاوربيتالان  $p_y$  و  $p_z$  غير مهجنين اي ان التهجين سيكون من نوع  $sp$ .



وعند اقتراب ذرتي كاربون بهذا النوع من التهجين واقتراب ذرتي هيدروجين في نفس الوقت تتداخل الاوربيتالات الذرية فنحصل على ثلاثة آواصر تساهمية من نوع سكما واحدة C-C واثنان C-H وتكون مرتبطة على أستقامة واحدة .

كما يحدث تداخل جانبي للأوربيتالين غير المهجنين  $p_z$ ,  $p_y$  من كل ذرة C وتنشأ آصرتان من نوع باي لتكونا مع الاصرة سكما الآصرة الثلاثية، وبذلك تنشأ جزيئة الأستيلين المستقيمة ذات الآصرة الثلاثية كما هو موضح في الشكل (21-2).



الشكل 21-2

- أ - تداخل الأوربيتالات لتكوين اواصر سيكما في جزيء الأستيلين.  
 ب - تداخل أوربيتالات لتكوين اواصر باي في جزيء الأستيلين.

Ionic Bond

الآصرة الأيونية

هي قوة التجاذب الكهربائية بين أيونين مختلفي الشحنة أحدهما فلز يحمل شحنة موجبة لفقده الكترونًا أو أكثر والآخر لافلز يحمل شحنة سالبة لأكتسابه الكترونًا أو أكثر .

Covalent Bond

الآصرة التساهمية

وهي القوة الرابطة بين ذرتين متساويتين في الكهرسلبية او بينهما اختلاف طفيف فيها، بحيث تشارك كل ذرة بالكترون من غلافها الخارجي وتشارك الذرتان بهذا الزوج الالكتروني بقوة ارتباط تسمى الآصرة التساهمية .

Polar Covalent Bond

الآصرة التساهمية المستقطبة

وهي الآصرة التساهمية المتكونة من ذرتين يكون الفرق بينهما في الكهرسلبية محسوساً نسبياً، بحيث ينجذب المزدوج الالكتروني الرابط بينها نحو الذرة ذات الكهرسلبية الاعلى مكسباً أياها شحنة سالبة جزئية وتكون الذرة الثانية ذات شحنة موجبة جزئية .

Hydrogen Bond

الآصرة الهيدروجينية

وهي قوة التجاذب الكهربائية بين النهايات مختلفة الشحنة للجزيئات ذات الأواصر التساهمية المستقطبة شريطة أن يكون احد الطرفين هيدروجيناً .

Coordinate Bond

الآصرة التناسقية

وهي آصرة تساهمية خاصة بين ذرتين تمنح أحدهما المزدوج الالكتروني من غلافها الخارجي الى الذرة الثانية المحتويه على أوربيتال فارغ في غلافها الخارجي .

Metalic Bond

الآصرة الفلزية

وهي القوة التي تربط ذرات الفلز مع بعضها وتنتج عن مشاركة كل ذرة فلزية بالكترونات تكافؤها واليها ترجع الخواص الفلزية .

Chemical reaction

التفاعل الكيميائي

هو تفاعل يحصل بين ذرات عنصرين لتشكيل جزيئة مركب جديد يمتلك صفات كيميائية وفيزيائية تختلف تماماً عن صفات العناصر الداخلة في التفاعل وغايته تكوين أوربتالات مشبعة بالالكترونات من خلال فقدان أو أكتساب أو المشاركة بالالكترونات لبلوغ حالة الاستقرار الكيميائي .

Chemical Bonding

التآصر الكيميائي

وهي ظاهرة تواجد الذرات متماسكة معاً في جزيء أو بلورة ضمن عنصر او مركب وتدعى القوة التي تربطهما بالآصرة الكيميائية .

نظرية تنافر ازواج الالكترونات غلاف التكافؤ ( VSEPR )

وتفسر هذه النظرية ترتيب الذرات حول ذرة مركزية بالاعتماد على التنافر بين أزواج الالكترونات المشاركة وغير المشاركة الموجودة في غلاف التكافؤ للذرة المركزية، بحيث يكون التنافر بين هذه الازواج في حده الادنى عندما تكون أبعد مايمكن عن بعضها .

نظرية آصرة التكافؤ valance Bond theory

أعتمدت نظرية آصرة التكافؤ في تفسيرها على نظرية التهجين الاوربيتالي حيث تترتب الاوربتالات المهجنة للذرة المركزية بحيث يكون التنافر بين هذه الاوربتالات في حده الادنى عندما تكون أبعد مايمكن عن بعضها .

Orbital hybridization

التهجين الاوربيتالي

وهو عملية تداخل الاوربيتالات الذرية لتنتج أوربيتالات مهجنة مساوية لعدد الاوربيتالات الذرية المشاركة في عملية التهجين ومتشابهة بالشكل والحجم ومتكافئة في الطاقة واكثر استقراراً من الاوربيتالات الذرية غير المهجنة وتؤدي الى الحصول على أواصر تساهمية أقوى بين الذرات المشاركة في تكوين الجزيئة .

8-2 لماذا تتحد ذرات العناصر مع بعضها؟ هل ان اتحاد ذرات العناصر يكون مركبات دائماً؟ ناقش اجابتك علمياً مع مثالين في الاقل.

9-2 أ - ما الآصرة الكيميائية؟ عرفها بدقة.  
ب - عدد فقط انواع الاواصر التي تعرفها.

10-2 أ - ما الآصرة الايونية؟ وما شروط تكوينها؟  
ب - لماذا لا تتكون الجزيئات في المركبات الايونية؟

ج - ما اهم صفات المركبات الايونية؟  
11-2 ماذا نقصد بالآصرة الهيدروجينية؟ وض ذلك بمثال ثم ارسم الاواصر الهيدروجينية بين جزيئات الميثانول (CH<sub>3</sub>OH).

12-2 الآصرة التساهمية قد تكون مستقطبة (قطبية) متى يكون ذلك؟

13-2 ما العوامل التي تحدد كون الآصرة بين ذرتين تساهمية او تساهمية مستقطبة؟ او ايونية؟

14-2 ما الآصرة الفلزية؟ وما تأثيرها على خواص الفلزات النقية؟

15-2 اعد كتابة العبارات الاتية مصححاً ما (قد) تجده فيها من اخطاء علمية:

أ - كل المركبات ذات الاواصر التساهمية لا تذوب في الماء.

ب - الآصرة الثلاثية في (C<sub>2</sub>H<sub>2</sub>) تحتوي على ثلاث اواصر من نوع باي π.

ج - البروتونات والنيوترونات تشارك في تكوين الآصرة الايونية.

د - نوع تهجين اوربيتالات ال C في الميثان مشابه لمثيله بذرة ال N في الامونيا وهو (sp<sup>3</sup>)

هـ - الآصرة (π) اقل طاقة من الآصرة (σ) للجزيء نفسه.

1-2 علل كلاً مما يأتي:

1. درجة غليان الماء (100°C) أعلى من درجة غليان غاز كبريتيد الهيدروجين ( -60°C).

2. جزئ كلوريد الأمونيوم NH<sub>4</sub>Cl يحتوي على ثلاث اواصر تساهمية قطبية وتناسقية وأيونية

3. الزاوية بين الأوربيتالين المهجنين sp<sup>2</sup> في جزيء C<sub>2</sub>H<sub>4</sub> تساوي 120°C.

4. المركبات الايونية لا توصل الكهربائية في حالتها الصلبة لكن منصهراتها او محاليلها في الماء جيدة التوصيل.

5. عند وضع قطعة من الثلج في الماء، تطفو لكن عند وضع قطعة متجمدة من البنزين في البنزين السائل تغطس .

2-2 قارن بين كل مما يأتي :

1. الآصرة التساهمية والآصرة التناسقية.

2. الآصرة سيكما والآصرة باي.

3. الاوربيتال المهجن وغير المهجن.

3-2 أرسم شكلاً يوضح ذرة كربون مثارة و ذرة كربون مهجنة sp<sup>3</sup>.

4-2 ارسم وقارن بين اشكال جزيئي الاثيلين والاسثيلين بدلالة الاوربيتالات المهجنة. اي من الآصرة بين ذرتي الكربون هي الاقوى؟

5-2 ما هي حالة التهجين في كل مما يأتي ذاكراً اشكال المركبات الناتجة:

1. النتروجين في الامونيا.

2. الاوكسجين في الماء.


3. النتروجين في HN = NH.

6-2 ارسم الصيغ الرنينية لكل من :

7-2 ارسم الشكل الهندسي للجزيئات باستخدام التهجين مرة وباستخدام نظرية (VESPR) مرة اخرى: BeCl<sub>2</sub> و CH<sub>4</sub> و BF<sub>3</sub>

CO<sub>3</sub><sup>2-</sup> و O<sub>3</sub> و CH<sub>3</sub>COO<sup>-</sup>

8-2 ارسم الشكل الهندسي للجزيئات باستخدام التهجين مرة وباستخدام نظرية (VESPR) مرة اخرى: BeCl<sub>2</sub> و CH<sub>4</sub> و BF<sub>3</sub>



## الفصل الثالث

### 3

### الجدول الدوري وكيمياء العناصر الانتقالية

بعد الانتهاء من دراسة هذا الفصل يتوقع من الطالب ان :-

- يتعرف على التسلسل التاريخي لنشوء الجدول الدوري والمحاولات التي جرت لتقسيم العناصر.
- يستطيع ترتيب العناصر بجدول دوري حديث مبني على الاعداد الذرية بدلاً من كتلتها الذرية.
- يتمكن من تحديد عدد الدورات التي يتضمنها الجدول الدوري وعلى عدد الزمر.
- يتعرف على الجدول الدوري ويستطيع معرفة اجزائه.
- يفهم الخواص الدورية للعناصر في الجدول الدوري.
- يفهم متى يكون للعنصر طيف ذري وان الطيف الذري صفة مميزة للعنصر.
- يستطيع ان يميز بين عنصر انتقالي واخر غير انتقالي كما يتعرف على العناصر الانتقالية الداخلية.
- يفرق بين العناصر التي تنجذب نحو المجال المغناطيسي والتي لاتنجذب.

## 1-1-3 المقدمة

ان نشوء الجدول الدوري ونضوجه مر بسلسلة من التطورات متزامنة مع تطور المفاهيم العلمية في كل فترة من الفترات حيث بدأت من افكار بسيطة الى ان اصبح نموذجا علميا يفتخر به كل من اسهم في ترتيب هذة الافكار، وكانت تلك المحاولات قد بدأت بفكرة بسيطة لاحد الكيميائيين في ترتيب العناصر في جدول معين ثم تطور هذا الترتيب الى ما وصل الى ما هو عليه الان. ويبدو انه لا توجد حاجة في القديم لتصنيف العناصر في جدول خاص بسبب ان عدد العناصر في ذلك الوقت لم يتجاوز اصابع اليدين ولكن بعد تطور الكيمياء واكتشاف المزيد من العناصر بدأت الحاجة الى تصنيف العناصر وجدولتها لتيسير دراستها وتسهيل التعامل معها وكانت اولى المحاولات التي تمت لتصنيف العناصر وترتيبها في جدول هي تقسيم العناصر الى مجموعتين هما:

## أ- مجموعة الفلزات

## ب- مجموعة اللافلزات

ولانه ليس هناك حد فاصل يقسم العناصر الى فلزات ولافلزات حيث تشترك كثير من الخواص بين عناصر هاتين المجموعتين لذلك بذلت محاولات اخرى لتصنيف العناصر على اسس اخرى واهمها تلك التي بنيت على العلاقة بين خواص العناصر وكتلها الذرية وفيما يلي ملخص لتلك المحاولات :

1. ثلاثيات دوبرينر لاحظ دوبرينر (Doeberiner) عام 1817 ان الفروق بين الكتل الذرية للعناصر مثل الكالسيوم (Ca) والستراتيوم (Sr) والباريوم (Ba) هي فروق ثابتة حيث ان الفرق في الكتلة الذرية في هذة الثلاثيات لاي عنصر ثابتا تقريبا مع العنصر الذي يسبقه ويلحقه اي ان الخواص الفيزيائية والكيميائية للعنصر في هذة الثلاثيات هي متوسط خواص العنصرين السابق واللاحق له. وفي حالات اخرى مثل الحديد والكوبلت والنيكل يكون للعناصر كتل ذرية متساوية تقريبا وكما في الجدول (1-3).

## هل تعلم

ان كلمة دوري (Periodic) تعني ان خواص العناصر تتغير دورياً تبعاً لزيادة اعدادها الذرية.

| الجدول (1-3) الكتل الذرية لبعض العناصر والفرق بينها |              |       |
|---|--------------|-------|
| العنصر  | الكتل الذرية | الفرق |
| 1. الكالسيوم (Ca)                                   | 40.07        | 47.56 |
| 2. السترانتيوم (Sr)                                 | 87.63        |       |
| 3. الباريوم (Ba)                                    | 137.37       |       |
| 4. الحديد (Fe)                                      | 55.84        | 3.10  |
| 5. الكوبلت (Co)                                     | 58.94        |       |
| 6. النيكل (Ni)                                      | 58.69        |       |

وتسمى المجموعات السابقة والتي يتكون كل منها من ثلاثة عناصر تشابه في كثير من خواصها الكيميائية والفيزيائية بثلاثيات دوبرينر.

2. المحاولة الثانية التي قام بها العالم الانكليزي نيولاندس (NewLands) عام 1864 حيث رتب العناصر التي كانت معروفة لديه والتي عددها 63 عنصرا حسب زيادة كتلتها الذرية على شكل مجموعات تتكون كل مجموعة من ثمانية عناصر حيث وجد أنه اذا بدأ بعنصر ما فان العنصر الثامن يشبه في خواصه الكيميائية العنصر الذي بدأ فيه، نظرا للتشابه بين هذه الملاحظة وبين السلم الموسيقي فقد اطلق على ملاحظاته هذه (قانون الثمانيات). وقد كان القانون صحيحاً في حالة السبعة عشر عنصرا الاولي اما العناصر التالية فقد ظهرت بعض المتناقضات ويرجع السبب في ذلك الى عدم دقة الكتل الذرية من جهة ومن جهة اخرى الى انه لم يترك مكانا خاليا في جدول له لكثير من العناصر التي لم تكن معروفة في ذلك الوقت كما هو مبين في الجدول (2-3).

| الجدول (2-3) ثمانيات العالم لانديس |    |    |       |       |    |      |       |
|------------------------------------|----|----|-------|-------|----|------|-------|
| H                                  | F  | Cl | Co/Ni | Br    | Pd | I    | Pt/Ir |
| Li                                 | Na | K  | Cu    | Rb    | Ag | Cs   | Ti    |
| Ga                                 | Mg | Ca | Zn    | Sr    | Cd | Ba/V | Pb    |
| Bo                                 | Al | Cr | Y     | Ce/La | U  | Ta   | Th    |
| C                                  | Si | Ti | In    | Zn    | Sn | W    | Hg    |
| N                                  | P  | Mn | As    | Di/Mo | Sb | Nb   | Bi    |
| O                                  | S  | Fe | Se    | Ro/Ru | Te | Au   | Os    |

3. لقد انتهت محاولات كل من دوبرينر ولانديس عندما وضع العالم الروسي مندليف (Mandeleeff) عام 1869 جدولته المعروف بالجدول الدوري ومن الجدير بالذكر ان مندليف و ماير (Meyer) كانا يعملان كل مستقل عن الاخر وتوصلا الى نفس النتيجة حيث رتبا العناصر تصاعديا حسب كتلتها الذرية وقد لخص كل منهما نتائج بحوثه في هذا الموضوع في العبارة التالية (تعتمد خواص العناصر اعتمادا دوريا على كتلتها الذرية) وقد عرفت هذه العبارة (بالقانون الدوري) وقد اتخذها مندليف اساسا لتصنيف العناصر. وقد قضى مندليف عدة اعوام في جمع النتائج العلمية المتعلقة بالعناصر قبل ان ينشر قانونه الدوري الذي يعتمد اساساً على حقائق

عملية وليس على اسس نظرية، ومن الجدير بالذكر ان عدد العناصر المكتشفة انذاك محدودا ولذلك تركا اماكن فارغة لتلك العناصر لاحتمال اكتشافها مستقبلا وكانت امكانية مندليف عالية في تخمين اماكن تلك العناصر التي لم تكتشف وقد ارتبط اسم الجدول الدوري بالعالم مندليف لانه استطاع تحديد خواص بعض العناصر غير المكتشفة في عصره ومنها عنصر الجرمانيوم وسماه شبيهه السليكون. كما قام مندليف بتغيير مكان بعض العناصر نظرا لان مكانها الجديد يتماشى بصورة افضل مع العناصر الجديدة المجاورة لها وقد تم تصحيح بعض الاخطاء في وضع بعض العناصر تبعاً لقيم الكتل الذرية . اما بالنسبة الى نقاط الضعف في جدول مندليف فهي:-



في عام 1869 قام الروسي ديمتري إيفانوفيتش مندليف بتطوير اول جدول دوري عن طريق ترتيب العناصر المكتشفة في عصره في عرض جدولي حسب ازدياد كتلتها الذرية النسبية ( الوزن الذري ) .

#### أ - موضع الهيدروجين:

لا يزال موضع الهيدروجين في الجدول مثار جدل ونقاش اذ يوضع احياناً في المجموعة الاولى فوق الفلزات القلوية و احياناً فوق المجموعة السابعة ( الهالوجينات ) وذلك لوجود بعض اوجه التشابه بينه وبين هذه العناصر في المجموعتين المذكورتين.

#### ب - موضع العناصر الانتقالية الداخلية (اللانثينيدات):

تشابه هذه العناصر الاربعة عشر في كثير من الخواص وخاصة في التكافؤ (غالباً 3) ومكانها جميعاً في جدول مندليف يقع في الزمرة الثالثة مكان عنصر واحد وتوضع عادة في اسفل الجدول وكذلك الحال في الاكتينيدات.

#### ج - الترتيب المتباين لبعض العناصر :

من المعلوم ان العناصر تترتب في جدول مندليف تصاعدياً حسب كتلتها الذرية ولو اتبعت هذه القاعده في كل الاحوال اتباعاً صارماً وقعت بعض العناصر في امكنة لا تتفق فيها خواصها مع خواص العناصر الاخرى في الزمرة وكان لابد من التغلب على هذه الصعوبة من تغير وضع هذه العناصر بصرف النظر عن قيمة كتلتها الذرية ، فمثلاً الكتلة الذرية للكوبلت Co هي 58,94 وللنيكل 58,69 ومع ذلك يوضع الكوبلت Co قبل النيكل وكذلك الحال في الازواج الاتية من العناصر:

| الكتلة الذرية | العنصر        |
|---------------|---------------|
| 39.94         | 1. الاركون    |
| 39.09         | 2. البوتاسيوم |
| 127.61        | 3. التيلريوم  |
| 126.93        | 4. اليود      |



رتب مندليف العناصر تصاعدياً حسب كتلتها الذرية بحيث تقع العناصر المتشابهة في الخواص تحت بعضها وبذلك اشتمل جدول مندليف [الجدول (3-3)] على صفوف افقية سميت بالدورات وعلى صفوف رأسية سميت بالزمر (المجموعات).

| جدول (3-3) جدول العالم مندليف |        |        |         |         |        |          |         |                          |
|-------------------------------|--------|--------|---------|---------|--------|----------|---------|--------------------------|
|                               | I      | II     | III     | IV      | V      | VI       | VII     | VIII                     |
| 1                             | H=1    |        |         |         |        |          |         |                          |
| 2                             | Li=7   | Be=9.4 | B=11    | C=12    | N=14   | O=16     | F=19    |                          |
| 3                             | Na=23  | Mg=24  | Al=27.3 | Si=28   | P=31   | S=32     | Cl=35.5 |                          |
| 4                             | K=39   | Ca=40  | ?=44    | Ti=48   | V=51   | Cr=52    | Mn=55   | Fe=56, Co=59<br>Ni=59    |
| 5                             | Cu=63  | Zn=65  | ?=68    | ?=72    | As=75  | Se=78    | Br=80   |                          |
| 6                             | Rb=85  | Sr=87  | ?Yt=88  | Zr=90   | Nb=94  | Mo=96    | ?=100   | Ru=104, Rh=104<br>Pd=106 |
| 7                             | Ag=108 | Cd=112 | In=133  | Sn=118  | Sb=122 | Te=127.6 | J=127   |                          |
| 8                             | Cs=133 | Ba=137 | ?Di=138 | ?Ce=140 |        |          |         |                          |
| 9                             |        |        |         |         |        |          |         |                          |
| 10                            |        |        | ?Er=178 | ?La=180 | Ta=182 | W=184    |         | Os=195, Ir=197<br>Pt=198 |
| 11                            | Au=199 | Hg=200 | Tl=204  | Pb=207  | Bi=208 |          |         |                          |
| 12                            |        |        |         | Th=231  |        | U=240    |         |                          |

### 2-1-3 الجدول الدوري الحديث للعناصر

بعد اكتشاف الالكترن وظهور مفهوم العدد الذري على يد موزلي (Moseley) سنة 1914 تم ترتيب العناصر تصاعدياً حسب زيادة اعدادها الذرية بدلاً من ترتيبها حسب كتلتها الذرية كما رتبها مندليف اي ان كل عنصر في الجدول الدوري الحديث يزيد عن العنصر الذي يسبقه بالكترون واحد يعرف بالالكترن المميز وهذا الترتيب حسب زيادة الاعداد الذرية يتوافق مع ترتيب العناصر حسب زيادة مستويات الطاقة من الاقل ثم الى الاكثر طاقة وبذلك اصبحت صورة الجدول الدوري الحديث [الشكل (3-1)] بشكل دورات افقية عددها (7) وعلى شكل زمر مرتبة بشكل اعمدة وعددها (18) زمرة وهي:

1. الدورة القصيرة الاولى وتضم عنصر الهيدروجين والهليوم.

|   |   |
|---|---|
| 1 | 1 |
|   | H |

|   |    |
|---|----|
| 2 | He |
|---|----|

2. الدورة القصيرة الثانية والثالثة وتتكون كل منهما من 8 عناصر وترتيبها في الجدول الدوري كما يأتي:

|   |    |    |
|---|----|----|
| 2 | 3  | 4  |
|   | Li | Be |
| 3 | 11 | 12 |
|   | Na | Mg |

|    |    |    |    |    |    |
|----|----|----|----|----|----|
| 5  | 6  | 7  | 8  | 9  | 10 |
| B  | C  | N  | O  | F  | Ne |
| 13 | 14 | 15 | 16 | 17 | 18 |
| Al | Si | P  | S  | Cl | Ar |

3. الدورة الطويلة الرابعة وتتكون من 18 عنصر وترتيبها في الجدول الدوري كما يأتي:

|                |    |    |    |    |    |    |    |    |    |    |    |    |    |    |    |    |    |    |
|----------------|----|----|----|----|----|----|----|----|----|----|----|----|----|----|----|----|----|----|
| عناصر انتقالية |    |    |    |    |    |    |    |    |    |    |    |    |    |    |    |    |    |    |
| 4              | 19 | 20 | 21 | 22 | 23 | 24 | 25 | 26 | 27 | 28 | 29 | 30 | 31 | 32 | 33 | 34 | 35 | 36 |
|                | K  | Ca | Sc | Ti | V  | Cr | Mn | Fe | Co | Ni | Cu | Zn | Ga | Ge | As | Se | Br | Kr |

4. الدورة الطويلة الخامسة وتتكون من 18 عنصر وترتيبها في الجدول الدوري كما يأتي:

|                |    |    |    |    |    |    |    |    |    |    |    |    |    |    |    |    |    |    |
|----------------|----|----|----|----|----|----|----|----|----|----|----|----|----|----|----|----|----|----|
| عناصر انتقالية |    |    |    |    |    |    |    |    |    |    |    |    |    |    |    |    |    |    |
| 5              | 37 | 38 | 39 | 40 | 41 | 42 | 43 | 44 | 45 | 46 | 47 | 48 | 49 | 50 | 51 | 52 | 53 | 54 |
|                | Rb | Sr | Y  | Zr | Nb | Mo | Tc | Ru | Rh | Pd | Ag | Cd | In | Sn | Sb | Te | I  | Xe |

5. الدورة الطويلة جداً هي السادسة وتتكون من 32 عنصر وترتيبها في الجدول الدوري كما يأتي :

|                |           |    |    |    |    |    |    |    |    |    |    |    |    |    |    |    |    |    |
|----------------|-----------|----|----|----|----|----|----|----|----|----|----|----|----|----|----|----|----|----|
| عناصر انتقالية |           |    |    |    |    |    |    |    |    |    |    |    |    |    |    |    |    |    |
| 6              | 55        | 56 | 57 | 72 | 73 | 74 | 75 | 76 | 77 | 78 | 79 | 80 | 81 | 82 | 83 | 84 | 85 | 86 |
|                | Cs        | Ba | La | Hf | Ta | W  | Re | Os | Ir | Pt | Au | Hg | Tl | Pb | Bi | Po | At | Rn |
|                | لاكتنيدات |    |    |    |    |    |    |    |    |    |    |    |    |    |    |    |    |    |
|                | 58        | 59 | 60 | 61 | 62 | 63 | 64 | 65 | 66 | 67 | 68 | 69 | 70 | 71 |    |    |    |    |
|                | Ce        | Pr | Nd | Pm | Sm | Eu | Gd | Tb | Dy | Ho | Er | Tm | Yb | Lu |    |    |    |    |

6. الدورة السابعة وتتكون من 24 عنصر وترتيبها في الجدول الدوري كما يأتي :

|                |           |    |    |     |     |     |     |     |     |     |     |     |     |     |     |     |     |     |
|----------------|-----------|----|----|-----|-----|-----|-----|-----|-----|-----|-----|-----|-----|-----|-----|-----|-----|-----|
| عناصر انتقالية |           |    |    |     |     |     |     |     |     |     |     |     |     |     |     |     |     |     |
| 7              | 87        | 88 | 89 | 104 | 105 | 106 | 107 | 108 | 109 | 110 | 111 | 112 | 113 | 114 | 115 | 116 | 117 | 118 |
|                | Fr        | Ra | Ac | Rf  | Db  | Sg  | Bh  | Hs  | Mt  | Ds  |     |     |     |     |     |     |     |     |
|                | لاكتنيدات |    |    |     |     |     |     |     |     |     |     |     |     |     |     |     |     |     |
|                | 90        | 91 | 92 | 93  | 94  | 95  | 96  | 97  | 98  | 99  | 100 | 101 | 102 | 103 |     |     |     |     |
|                | Th        | Pa | U  | Np  | Pu  | Am  | Cm  | Bk  | Cf  | Es  | Fm  | Md  | No  | Lr  |     |     |     |     |

### هل تعلم

نظراً لصعوبة وضع اللانثيدات مع اللانثانوم في الزمرة الثالثة فإنها توضع في صف مستقل أسفل الجدول الدوري ونفس الحال بالنسبة للاكتنيدات التي هي نسبة الى عنصر الاكتينيوم فإنها توضع كذلك في صف اخر أسفل الجدول الدوري .

عناصر المجموعة الرئيسية

العدد الذري  
الرمز  
الكتلة الذرية

فلزات (المجموعة الرئيسية)  
فلزات (العناصر الانتقالية)  
فلزات (العناصر الانتقالية الداخلية)  
اشباه فلزات  
لافلزات

عناصر المجموعة الرئيسية

|   |                   |                   |                    |                    |                    |                    |                    |                     |                    |                    |                   |                   |                   |                   |                   |                   |                   |                   |
|---|-------------------|-------------------|--------------------|--------------------|--------------------|--------------------|--------------------|---------------------|--------------------|--------------------|-------------------|-------------------|-------------------|-------------------|-------------------|-------------------|-------------------|-------------------|
| 1 | IA (1)            | 1<br>H<br>1,008   | IIA (2)            | 2<br>He<br>4,003   |                    |                    |                    |                     |                    |                    |                   |                   |                   |                   |                   |                   |                   |                   |
| 2 | 3<br>Li<br>6,941  | 4<br>Be<br>9,012  | العناصر الانتقالية |                    |                    |                    |                    |                     |                    |                    |                   |                   | 5<br>B<br>10,81   | 6<br>C<br>12,01   | 7<br>N<br>14,01   | 8<br>O<br>16,00   | 9<br>F<br>19,00   | 10<br>Ne<br>20,18 |
| 3 | 11<br>Na<br>22,99 | 12<br>Mg<br>24,31 | III B (3)          | IV B (4)           | VB (5)             | VIB (6)            | VII B (7)          | VIII B (8) (9) (10) |                    |                    | IB (11)           | II B (12)         | 13<br>Al<br>26,98 | 14<br>Si<br>28,09 | 15<br>P<br>30,97  | 16<br>S<br>32,07  | 17<br>Cl<br>35,45 | 18<br>Ar<br>39,95 |
| 4 | 19<br>K<br>39,10  | 20<br>Ca<br>40,08 | 21<br>Sc<br>44,96  | 22<br>Ti<br>47,88  | 23<br>V<br>50,94   | 24<br>Cr<br>52,00  | 25<br>Mn<br>54,94  | 26<br>Fe<br>55,85   | 27<br>Co<br>58,93  | 28<br>Ni<br>58,69  | 29<br>Cu<br>63,55 | 30<br>Zn<br>65,39 | 31<br>Ga<br>69,72 | 32<br>Ge<br>72,61 | 33<br>As<br>74,92 | 34<br>Se<br>78,96 | 35<br>Br<br>79,90 | 36<br>Kr<br>83,80 |
| 5 | 37<br>Rb<br>85,47 | 38<br>Sr<br>87,62 | 39<br>Y<br>88,91   | 40<br>Zr<br>91,22  | 41<br>Nb<br>92,91  | 42<br>Mo<br>95,94  | 43<br>Tc<br>(98)   | 44<br>Ru<br>101,1   | 45<br>Rh<br>102,9  | 46<br>Pd<br>106,4  | 47<br>Ag<br>107,9 | 48<br>Cd<br>112,4 | 49<br>In<br>114,8 | 50<br>Sn<br>118,7 | 51<br>Sb<br>121,8 | 52<br>Te<br>127,6 | 53<br>I<br>126,9  | 54<br>Xe<br>131,3 |
| 6 | 55<br>Cs<br>132,9 | 56<br>Ba<br>137,3 | 57<br>La<br>138,9  | 72<br>Hf<br>178,5  | 73<br>Ta<br>180,9  | 74<br>W<br>183,9   | 75<br>Re<br>186,2  | 76<br>Os<br>190,2   | 77<br>Ir<br>192,2  | 78<br>Pt<br>195,1  | 79<br>Au<br>197,0 | 80<br>Hg<br>200,6 | 81<br>Tl<br>204,4 | 82<br>Pb<br>207,2 | 83<br>Bi<br>209,0 | 84<br>Po<br>(209) | 85<br>At<br>(210) | 86<br>Rn<br>(222) |
| 7 | 87<br>Fr<br>(223) | 88<br>Ra<br>(226) | 89<br>Ac<br>(227)  | 104<br>Rf<br>(261) | 105<br>Db<br>(262) | 106<br>Sg<br>(266) | 107<br>Bh<br>(262) | 108<br>Hs<br>(265)  | 109<br>Mt<br>(266) | 110<br>Ds<br>(269) | 111<br>(272)      | 112<br>(277)      | 113<br>(285)      | 114<br>(285)      | 115<br>(289)      | 116<br>(289)      | 117<br>(289)      | 118<br>(289)      |

العناصر الانتقالية الداخلية

|   |          |                   |                   |                   |                   |                   |                   |                   |                   |                   |                   |                    |                    |                    |                    |
|---|----------|-------------------|-------------------|-------------------|-------------------|-------------------|-------------------|-------------------|-------------------|-------------------|-------------------|--------------------|--------------------|--------------------|--------------------|
| 6 | لاثنيدات | 58<br>Ce<br>140,1 | 59<br>Pr<br>140,9 | 60<br>Nd<br>144,2 | 61<br>Pm<br>(145) | 62<br>Sm<br>150,4 | 63<br>Eu<br>152,0 | 64<br>Gd<br>157,3 | 65<br>Tb<br>157,3 | 66<br>Dy<br>162,5 | 67<br>Ho<br>164,9 | 68<br>Er<br>167,3  | 69<br>Tm<br>168,9  | 70<br>Yb<br>173,0  | 71<br>Lu<br>175,0  |
| 7 | اكتنيدات | 90<br>Th<br>232,0 | 91<br>Pa<br>(231) | 92<br>U<br>238,0  | 93<br>Np<br>(237) | 94<br>Pu<br>(242) | 95<br>Am<br>(243) | 96<br>Cm<br>(247) | 97<br>Bk<br>(247) | 98<br>Cf<br>(251) | 99<br>Es<br>(252) | 100<br>Fm<br>(257) | 101<br>Md<br>(258) | 102<br>No<br>(259) | 103<br>Lr<br>(260) |

ب

العصور القديمة 1735-1843 1894-1918

العصور الوسطى 1700 1843-1886 1923-1961 1965-

|    |    |    |    |    |    |    |    |    |    |    |    |    |    |    |    |    |    |
|----|----|----|----|----|----|----|----|----|----|----|----|----|----|----|----|----|----|
| H  |    |    |    |    |    |    |    |    |    |    |    |    |    |    |    |    | He |
| Li | Be |    |    |    |    |    |    |    |    |    |    | B  | C  | N  | O  | F  | Ne |
| Na | Mg |    |    |    |    |    |    |    |    |    |    | Al | Si | P  | S  | Cl | Ar |
| K  | Ca | Sc | Ti | V  | Cr | Mn | Fe | Co | Ni | Cu | Zn | Ga | Ge | As | Se | Br | Kr |
| Rb | Sr | Y  | Zr | Nb | Mo | Tc | Ru | Rh | Pd | Ag | Cd | In | Sn | Sb | Te | I  | Xe |
| Cs | Ba | La | Hf | Ta | W  | Re | Os | Ir | Pt | Au | Hg | Tl | Pb | Bi | Po | At | Rn |
| Fr | Ra | Ac | Rf | Db | Sg | Bh | Hs | Mt | Ds |    |    |    |    |    |    |    |    |

الشكل 1-3

أ - الجدول الدوري الحديث.  
ب - تواريخ اكتشاف العناصر.

|    |    |    |    |    |    |    |    |    |    |    |    |    |    |
|----|----|----|----|----|----|----|----|----|----|----|----|----|----|
| Ce | Pr | Nd | Pm | Sm | Eu | Gd | Tb | Dy | Ho | Er | Tm | Yb | Lu |
| Th | Pa | U  | Np | Pu | Am | Cm | Bk | Cf | Es | Fm | Md | No | Lr |

اما الزمر في الجدول الدوري وعددها (18 زمرة) مقسمة الى مجموعة A وعددها (8 زمرة) ومجموعة B وعددها (10 زمرة) كما موضح في الشكل (3-1). وقد رتبت تلك الزمر بشكل أعمدة شاقولية على اساس تساوي عدد الالكترونات في الغلاف الخارجي ( الكترونات التكافؤ الخارجية).

وبذلك فان عناصر الزمرة الواحدة تتشابه في خواصها الكيميائية بالرغم من الاختلاف الكبير في كتلتها الذرية وذلك لتساوي عدد الالكترونات التي تستطيع الذرة فقدها واوكتسابها او المساهمة بها اثناء الدخول في التفاعل الكيميائي بينما في الدورة الواحدة التي رتبت فيها العناصر على اساس زيادة العدد الذري فان للعناصر كتل ذرية متقاربة ومع ذلك تختلف في خواصها الفيزيائية. فيوجد مثلاً عنصر النتروجين بقرب عنصر الكربون والاكسجين في الدورة الثانية وبغض النظر عن تقاربهم في الكتلة الذرية الا أن لهم خواص فيزيائية مختلفة تماماً ومن الجدير بالذكر ان كل غلاف من اغلفة الطاقة في ذرات العناصر يحتوي على اغلفة طاقة ثانوية (فرعية) عددها بقدر رقم الغلاف الرئيسي ويتم ملء هذه الاغلفة بالالكترونات حسب الازدياد في الطاقة حيث يملأ مستوى الطاقة الاقل (s) ثم المستوى الطاقة الاعلى (p) وهذا الترتيب في ملء الاغلفة يماثل ترتيب العناصر في الجدول الدوري حسب ازدياد العدد الذري .

### 3-1-3 اجزاء الجدول الدوري

يتضمن الجدول الدوري أربعة اجزاء مرتبة كما يلي [الشكل (3-2)]:  
**الجزء الاول:** ويشمل الزمرة الاولى IA والزمرة الثانية IIA وكلاهما تنتهي بغلاف من نوع (ns) والمعروفة باسم الفلزات القلوية والاتربة القلوية على التوالي.

**الجزء الثاني :** ويشمل العناصر الموجودة في الزمر :

III A, IV A, V A, VI A, VII A, VIII A (والاخيرة تسمى الزمرة 0).

وتتميز عناصر هذه المنطقة (الجزء الاول والجزء الثاني) بملء الالكترونات في مستويات الطاقة الفرعية (s و p) وتسمى عناصر الجزء الاول والجزء الثاني بالعناصر الممثلة.

**الجزء الثالث:** ويضم جميع العناصر في المجموعات الفرعية B وهي:

IB, IIB, IIIB, IVB, VB, VIB, VIIB, VIIIB (أو الزمرة 0) التي تشمل

(8B, 9B, 10B) ويكون الغلاف الخارجي لهذه العناصر من نوع s و d وان

d غير ممتلىء بالالكترونات وسميت بالعناصر الانتقالية لانها تنتقل

بالخواص بين العناصر ذات الغلاف الخارجي s (زمرة IIA، IA) والعناصر ذات الغلاف الخارجي p (زمرة VIIIA، VIIA، VIA، VA، IVA، IIIA) وهي تتوسط الجدول الدوري.

**الجزء الرابع:** يضم سلسلتين من العناصر الانتقالية الداخلية هي: اللانثينيدات والاكثينيدات

| الجزء الأول  |    |    |    |    |    |    |    |    |    | الجزء الثاني |    |    |    |    |    |    |    |    |    |    |    |    |    |
|--------------|----|----|----|----|----|----|----|----|----|--------------|----|----|----|----|----|----|----|----|----|----|----|----|----|
| H            |    |    |    |    |    |    |    |    |    |              |    |    |    |    |    |    |    | He |    |    |    |    |    |
| Li           | Be |    |    |    |    |    |    |    |    |              |    | B  | C  | N  | O  | F  | Ne |    |    |    |    |    |    |
| Na           | Mg |    |    |    |    |    |    |    |    |              |    | Al | Si | P  | S  | Cl | Ar |    |    |    |    |    |    |
| K            | Ca | Sc | Ti | V  | Cr | Mn | Fe | Co | Ni | Cu           | Zn | Ga | Ge | As | Se | Br | Kr |    |    |    |    |    |    |
| Rb           | Sr | Y  | Zr | Nb | Mo | Tc | Ru | Rh | Pd | Ag           | Cd | In | Sn | Sb | Te | I  | Xe |    |    |    |    |    |    |
| Cs           | Ba | La | Hf | Ta | W  | Re | Os | Ir | Pt | Au           | Hg | Tl | Pb | Bi | Po | At | Rn |    |    |    |    |    |    |
| Fr           | Ra | Ac | Rf | Db | Sg | Bh | Hs | Mt |    |              |    |    |    |    |    |    |    |    |    |    |    |    |    |
| الجزء الثالث |    |    |    |    |    |    |    |    |    | الجزء الرابع |    |    |    |    |    |    |    |    |    |    |    |    |    |
| اللانثينيدات |    |    |    |    |    |    |    |    |    | Ce           | Pr | Nd | Pm | Sm | Eu | Gd | Tb | Dy | Ho | Er | Tm | Yb | Lu |
| الاكثينيدات  |    |    |    |    |    |    |    |    |    | Th           | Pa | U  | Np | Pu | Am | Cm | Bk | Cf | Es | Fm | Md | No | Lr |

الشكل 2-3

اجزاء الجدول الدوري .

### 3-1-4 دورية الخواص في الجدول الدوري

تتغير الكثير من الخواص الفيزيائية للعناصر تغيراً دورياً تبعاً لوضع هذه العناصر في الجدول الدوري من حيث الزمرة والدورة وسنتكلم فيما يلي عن بعض هذه الخواص:

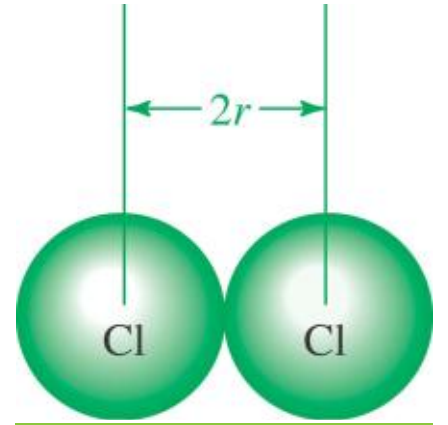
#### أ - الحجم الذري :

يعتبر حجم الذرة خاصية صعبة التحديد وذلك لعدة اسباب ومن بين اهم تلك الاسباب هو ان احتمال التوزيع الالكتروني يتأثر بالذرات المجاورة في المركب الكيميائي وبذلك فان حجم الذرة يتغير الى حد ما عند الانتقال من حالة الى اخرى كما هو الحال مثلاً عند الانتقال من مركب الى اخر. ولذلك فانه عند تفحص اي جدول لانصاف الاقطار الذرية يجب ان نتذكر ان القيم المجدولة قد تكون ذات معنى فقط عند اعتبارها مقارنة نسبية للحجوم ويوضح الشكل (3-3)

طريقة قياس انصاف الاقطار الذرية للعناصر والمشتقة من مسافات قيست من بين مراكز الذرات المتجاورة في العناصر النقية وعلى هذا الاساس يعرف الحجم الذري بانه نصف المسافة بين مركزي ذرتين متماثلتين في البلورة ويقاس باستخدام الاشعة السينية. وعلى وجه العموم تقل انصاف الاقطار الذرية في الدورة الواحدة عند الانتقال من اليسار الى اليمين (اي كلما زاد العدد الذري) في الجدول الدوري ويمكن تعليل هذا السلوك من خلال الجدول الذي يبين تغير انصاف الاقطار الذرية على طول الدورة الثانية. اما في حالة الزمرة فان نصف القطر يزداد في الزمرة الواحدة من الاعلى الى الاسفل كلما زاد العدد الذري والسبب في ذلك هو اضافة اغلفة الكترونية ذات اعداد كم متزايدة ابعد عن النواة كما موضح في جدول انصاف الاقطار الذرية [الشكل (3-4)].

وفي العناصر الانتقالية :

1. يقل الحجم تدريجياً في كل سلسلة انتقالية حتى العنصر الخامس اي الى نصف الدورة ثم يزداد تدريجياً حتى نهاية السلسلة حيث يقل الحجم نتيجة لزيادة قوة الجذب اذ ان الالكترون الذي يضاف بزيادة العدد الذري من عنصر لآخر يدخل اوربيتالات الغلاف الثانوي (d) وقد دلت المشاهدات ان اضافة نصف هذا العدد اي 5 الكترونات يكون مصحوباً بحالة استقرار ويعمل هذا النظام الالكتروني على حجب تأثير النواة فتقل قوة جذبها للالكترونات التي تضاف بعد ذلك وهذا ما يفسر زيادة الحجم قليلاً بعد العنصر الخامس.



الشكل 3-3

طريقة قياس انصاف الاقطار الذرية للعناصر.

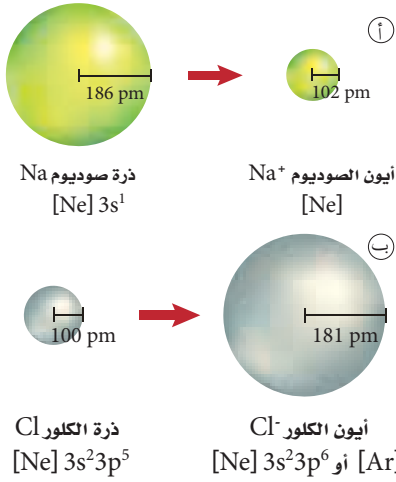
|    |    |    |    |    |    |    |    |    |    |    |    |    |    |    |    |    |
|----|----|----|----|----|----|----|----|----|----|----|----|----|----|----|----|----|
| Li | Be |    |    |    |    |    |    |    |    |    |    | B  | C  | N  | O  | F  |
| Na | Mg |    |    |    |    |    |    |    |    |    |    | Al | Si | P  | S  | Cl |
| K  | Ca | Sc | Ti | V  | Cr | Mn | Fe | Co | Ni | Cu | Zn | Ga | Ge | As | Se | Br |
| Rb | Sr | Y  | Zr | Nb | Mo | Tc | Ru | Rh | Pd | Ag | Cd | In | Sn | Sb | Te | I  |
| Cs | Ba | Lu | Hf | Ta | W  | Re | Os | Ir | Pt | Au | Hg | Tl | Pb | Bi | Po |    |

الشكل 4-3

2. في العناصر الانتقالية الداخلية يقل الحجم ايضاً تدريجياً بزيادة العدد الذري حتى العنصر السابع (اي الى نصف السلسلة) ثم يزداد تدريجياً مرة اخرى وعلى نفس قاعدة التفسير في النقطة 3.

تغير انصاف الاقطار الذرية (اي حجوم الذرات) لبعض العناصر في الدورة والزمرة.

وبالنسبة لانصاف اقطار ايونات الذرات فمن المعروف ان الذرات تستطيع فقدان او اكتساب الكترون او اكثر لتكوين الايونات. ولان الالكترونات سالبة الشحنة فإن الذرات تكتسب شحنة اضافية عندما تكتسب الكترونات او تفقدها. لذا فالايون ذرة او مجموعة ذرية لها شحنة موجبة او سالبة.



الشكل 3-5

- أ - الايونات الموجبة اصغر حجماً من ذراتها المتعادلة.
- ب - الايونات السالبة اكبر حجماً من ذراتها المتعادلة.

فعندما تفقد الذرة الالكترونات وتكون ايوناً موجباً يصغر حجمها، ويُعزى ذلك الى عاملين : أولهما ان الالكترون الذي تفقده الذرة غالباً ما يكون الكترون تكافؤ . وينتج عن فقدانه مدار خارجي فارغ، مما يسبب نقصان نصف القطر . ثانياً : يقلل التنافر الكهروستاتيكي بين ما تبقى من الالكترونات بالاضافة الى زيادة التجاذب بينها وبين النواة ذات الشحنة الموجبة ، مما يسمح للالكترونات بالاقتراب اكثر من النواة والشكل (3-5) يبين النقصان في نصف القطر الايوني لذرة الصوديوم عندما تكون ايوناً موجباً.

وعلى العكس عندما تكتسب الذرة الكترونات وتكون ايونات سالبة يزداد حجمها لان اضافة الكترون الى الذرة يولد تنافراً كهروستاتيكياً اكبر مع الكترونات المستويات الخارجية، ويدفعها بقوة نحو الخارج، وينتج عن زيادة المسافة بين الالكترونات الخارجية زيادة في مقدار نصف القطر، فالشكل (3-5) يوضح كيف يزيد نصف قطر ذرة الكلور عندما تكون ايوناً سالباً. يوضح الشكل (3-6) نصف القطر الايوني لبعض العناصر.

|   | 1              | 2                | 13            | 14            | 15             | 16             | 17             |
|---|----------------|------------------|---------------|---------------|----------------|----------------|----------------|
| 2 | Li 76<br>1. •  | Be 31<br>2. •    | B 20<br>3. •  | C 15<br>4. •  | N 146<br>3. •  | O 140<br>2. •  | F 133<br>1. •  |
| 3 | Na 102<br>1. • | Mg 72<br>2. •    | Al 54<br>3. • | Si 41<br>4. • | P 212<br>3. •  | S 184<br>2. •  | Cl 181<br>1. • |
| 4 | K 138<br>1. •  | Ca 100<br>2. •   | Ga 62<br>3. • | Ge 53<br>4. • | As 222<br>3. • | Se 198<br>2. • | Br 195<br>1. • |
| 5 | Rb 152<br>1. • | Sr 118<br>2. •   | In 81<br>3. • | Sn 71<br>4. • | Sb 62<br>5. •  | Te 221<br>2. • | I 220<br>1. •  |
| 6 | Cs 167<br>1. • | Ba 135<br>+ 2. • | Tl 95<br>3. • | Pb 84<br>4. • | Bi 74<br>5. •  |                |                |

الشكل 3-6

نصف القطر الايوني للعناصر المثالية مقاساً بوحدة بيكومتر ( $1 \text{ pm} = 10^{-12} \text{ m}$ ).

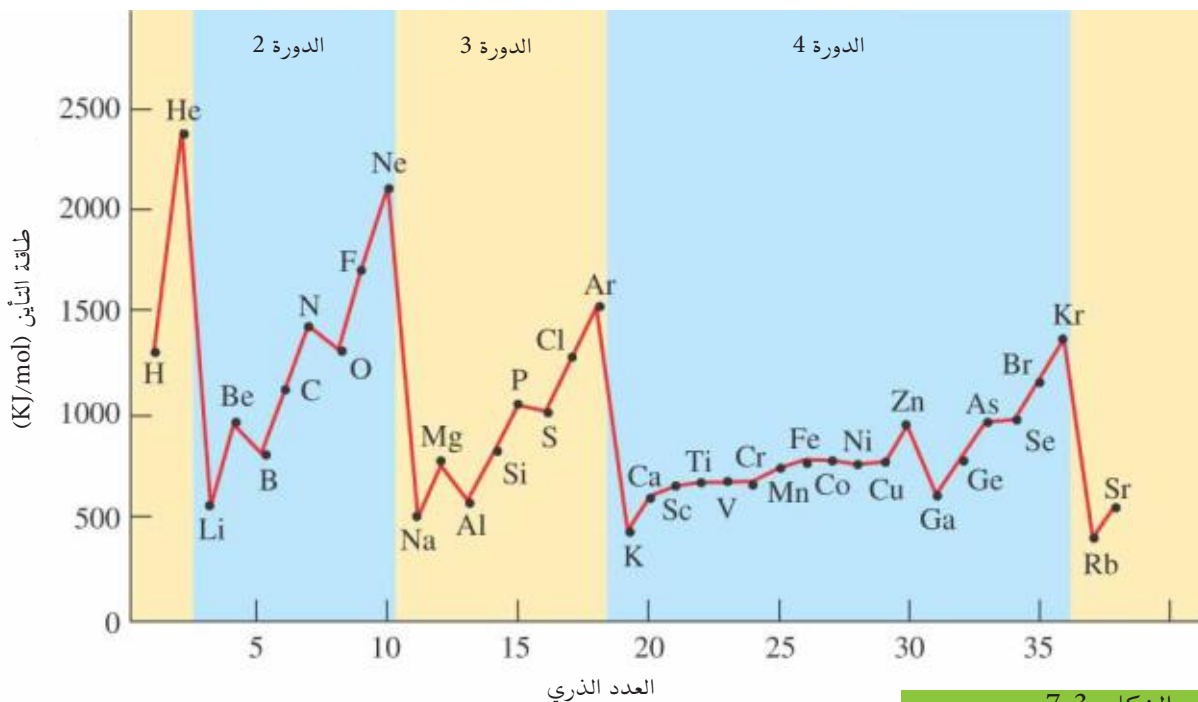
### ب- طاقة التأين Ionization energy:

هي الطاقة اللازمة لانتزاع الكترون من ذرة متعادلة في حالتها الغازية وتكوين أيون موجب كما في المعادلة الآتية:



وتستنفذ هذه الطاقة في انتزاع الكترون من الكترونات التكافؤ الخارجية وتُقاس طاقة التأين بوحدة الالكترون فولت (ev) والالكترون فولت طاقة صغيرة تساوي  $1.6 \times 10^{-19} \text{ J}$  تسمى الطاقة اللازمة لنزع الالكترون الاول بطاقة التأين الاولى وينتج عن ذلك ايون ذو شحنة موجبة واحدة

كما تسمى الطاقة اللازمة لانتزاع الالكترون الثاني بطاقة التأين الثانية وهكذا ويلاحظ ان طاقة التأين الثانية يكون دائماً اكبر من طاقة التأين الاولى وذلك لان شحنة النواة الموجبة تجذب الالكترونات الثانية بقوة اكبر. واذا رسمت العلاقة بين طاقة التأين والعدد الذري للعناصر المختلفة لوحظ ان التغير يحدث بصفة دورية [الشكل (3-7)] ويلاحظ ان العناصر النبيلة تقع على النهايات العظمى فيه وذلك لاستقرار نظامها الالكتروني كما ان العناصر القلوية تقع على النهايات الصغرى ويرجع ذلك الى كبر حجمها الذرية والى ان طبقة الكم قبل الاخيرة تحتوي على (8) الكترونات وتتميز هذه بدرجة كبيرة من الاستقرار فتعمل كحاجز يحجب تاثير شحنة النواة على الكترون التكافؤ فيسهل انتزاعه.

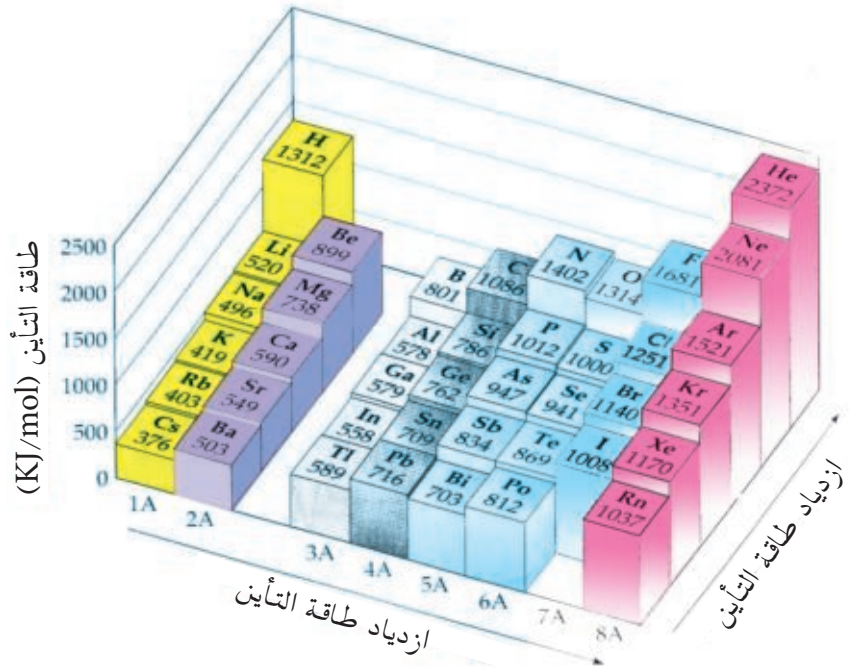


الشكل 7-3

علاقة طاقة التأين مع العدد الذري .

ومن هذا يتضح ان طاقة التأين تزداد في الدورة الواحدة بزيادة العدد الذري وذلك بسبب صغر حجمها الذرية (انصاف الاقطار) ماعدا الذرات التي يكون غلافها الاخير مشبع او نصف مشبع فان طاقة تأينها يكون اكبر من طاقة تأين الذرة التي تليها فقط. فمثلاً ان طاقة تأين  ${}^7_7\text{N}$  اكبر من طاقة تأين  ${}^8_8\text{O}$  والسبب في ذلك لان الغلاف الاخير للنتروجين نصف مشبع فيه ثلاث الكترونات فيكون اكثر استقرار من الاوكسجين بالرغم من كونه اكبر عدد ذري وكذلك الحال في المنغنيز  ${}^{25}_{25}\text{Mn}$  والحديد  ${}^{26}_{26}\text{Fe}$  فان طاقة تأين Mn اكبر من طاقة تأين Fe لنفس السبب السابق. اما في الزمرة الواحدة تقل طاقة التأين بزيادة العدد الذري بسبب كبر الحجم الذري مما يسهل انتزاع الالكترونات الخارجية من الذرة فتقل مثلاً طاقة التأين من الليثيوم الى السيزيوم ومن البريليوم الى الراديوم وكما موضح في الشكل (3-8).





الشكل 8-3

تغير طاقة التأين في الدورة والزمرة  
الواحدة .

### ج- اللفة الالكترونية Electron affinity

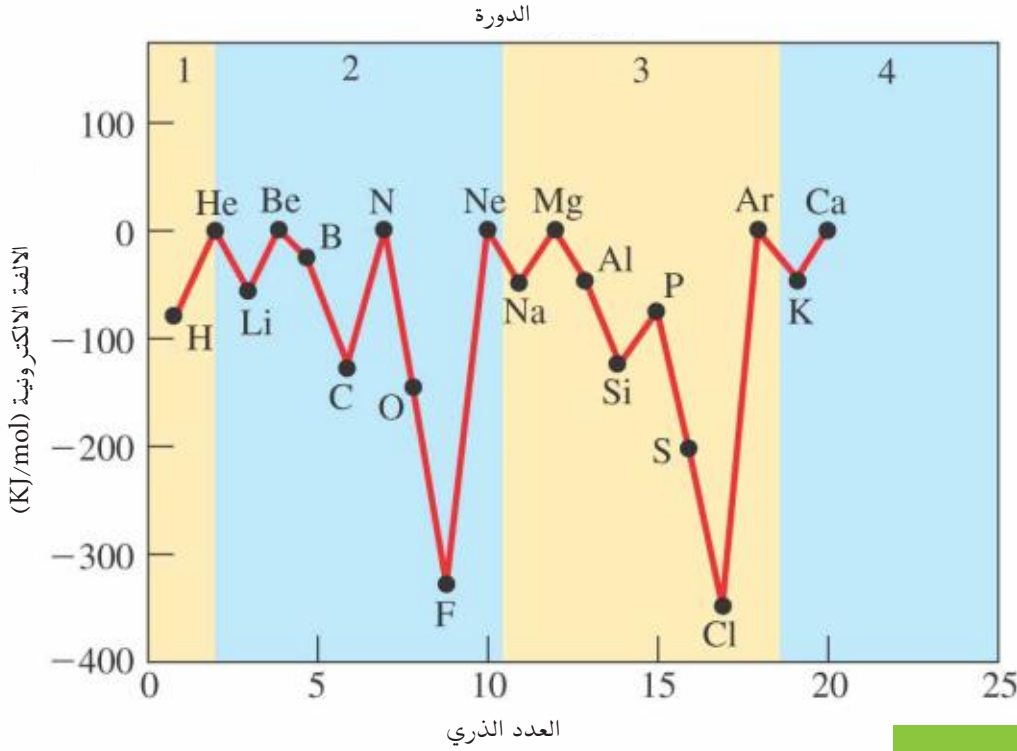
تعرف اللفة الالكترونية بمقدار الطاقة التي تنطلق من الذرة المتعادلة في الحالة الغازية عندما تكتسب الكتروناً مكوناً ايونات سالبة وحسب المعادلة الآتية:



حيث تزداد اللفة الالكترونية في الدورات بزيادة العدد الذري وذلك لصغر الحجم الذرية مما يسهل على النواة جذب الالكترون، وتقل اللفة الالكترونية في عناصر الزمرة الواحدة كلما زاد العدد الذري بسبب زيادة الحجم الذري. وكما توجد طاقة تأين اولى وثانية كذلك يوجد جذب الكتروني اول وثاني وبينما تنطلق بعض الطاقة عند اكتساب الالكترون الاول فكثير ماتمتص بعض الطاقة عند اكتساب الالكترون الثاني وذلك لوجود قوة تنافر بين الأيون السالب والالكترون المكتسب. أن انبعاث طاقة عند اضافة الكترون الى الذرة يؤدي الى الانتقال الى وضع ادنى من الطاقة اي الى حالة اكثر استقراراً وهذا يفسر ميل بعض الذرات الى اكتساب الالكترونات كما في عناصر المجموعة VII في التفاعلات الكيميائية للوصول الى حالة اكثر استقراراً وادنى مستوى من الطاقة. ان القيم المنخفضة في اللفة الالكترونية للغازات النبيلة والعناصر الموجودة في اقصى يسار الجدول الدوري يعزى الى عدم قدرتها على تكوين ايونات سالبة مقارنةً بالفلور (F) والكلور (Cl) والبروم (Br) التي تشكل ايونات سالبة بسهولة كما موضح في الشكل (9-3) .

#### هل تعلم

ان اللفة الالكترونية تقيس مدى شدة ارتباط الكترون اضافي بالذرة



الشكل 9-3

علاقة الالفة الالكترونية مع العدد الذري .

### د-الكهرسلبية Electronegativity :

هي قدرة الذرات في الجزيئات على جذب الالكترونات نحوها من ذرات اخرى مرتبطة معها باصرة كيميائية. توجد قيم عديدة للعناصر كما مبين في الشكل (3-10) وتصف هذه الارقام القدرة النسبية لذرة على تكوين اصرة اي تتحول الى حالة سالبة ويمكن حينئذ جذب الكترون مشارك ويمتلك عنصر الفلور اعلى كهرسلبية بالنسبة الى اي عنصر في الجدول الدوري لانه يقع في نهاية دورته وعلى راس زمرة.

اما عناصر الغازات النبيلة فلا تكون اواصر كيميائية كثيرة ولم يتفق على قيمها بعد وبوجه عام تزداد الكهرسلبية في الدورة الواحدة من اليسار الى اليمين كلما زاد العدد الذري. فالعناصر الموجودة في اقصى يسار الجدول الدوري (زمرة IA ، IIA) لها كهرسلبية منخفضة والعناصر الموجودة على اقصى اليمين ماعدا المجموعة (0) لها كهرسلبية عالية وينسب إلى عناصر المجموعة (VII) قيم السالبة الكهرسلبية الاتية :

$$F=4.0 \text{ و } Cl = 3.0 \text{ و } Br = 2.8 \text{ و } I = 2.5$$

ويكون ترتيب التناقص في الكهرسلبية منتظماً بخلاف الترتيب للالفة الالكترونية اما في الزمرة الواحدة فان الكهرسلبية تقل بزيادة العدد الذري اي كلما اتجهنا من اعلى الزمرة الى الاسفل.

#### هل تعلم

والان نتساءل مافائدة قيمة الكهرسلبية وتكون الاجابة على هذا السؤال بان احد هذه الفوائد هو بالتنبؤ بأي الروابط أيونياً وايها تساهمي كما يمكن الاستفادة من الكهرسلبية في التنبؤ في القطبية حيث كلما بعد عنصران عن بعضهما بالنسبة لقيم الكهرسلبية كلما وجب تكون اواصر اكثر قطبية وبذلك تكون اصرة بين H و Cl اكثر قطبية من تلك الموجودة بين (Br و Cl) .



اما في الدورات فعناصر الدورة الاولى وهما (He وH) لافلزات اما في الدورات الاربعة التي تليها يكون هنالك انتقال تدريجي من الخواص الفلزية الى الخواص اللافلزية اما في الدورة السادسة فجميع عناصرها من الفلزات عدا العنصرين الاخيرين فهما من العناصر اللافلزية اما عناصر الدورة السابعة فجميعها فلزات وتظهر العناصر الانتقالية وعناصر اللانثيدات والاكتنيدات الخواص الفلزية. وكما في الشكل (3-11).

تقصان الخواص الفلزية

| الخواص الفلزية              |            |    |                    |      |     |     |       |                     |     |     |     |      |     |     |     |     |       |     |   |   |   |    |
|-----------------------------|------------|----|--------------------|------|-----|-----|-------|---------------------|-----|-----|-----|------|-----|-----|-----|-----|-------|-----|---|---|---|----|
| زيادة الخواص الفلزية        |            |    |                    |      |     |     |       |                     |     |     |     |      |     |     |     |     |       |     |   |   |   |    |
| IA                          |            |    |                    |      |     |     |       |                     |     |     |     |      |     |     |     |     | VIIIA |     |   |   |   |    |
| 1                           | 1          |    |                    |      |     |     |       |                     |     |     |     |      |     |     |     |     |       | 2   |   |   |   |    |
|                             | H          |    |                    |      |     |     |       |                     |     |     |     |      |     |     |     |     |       | He  |   |   |   |    |
| 2                           | 3          | 4  |                    |      |     |     |       |                     |     |     |     |      |     |     |     |     | 5     | 6   | 7 | 8 | 9 | 10 |
|                             | Li         | Be |                    |      |     |     |       |                     |     |     |     |      |     |     |     |     | B     | C   | N | O | F | Ne |
| 3                           | 11         | 12 | العناصر الانتقالية |      |     |     |       |                     |     |     |     |      | 13  | 14  | 15  | 16  | 17    | 18  |   |   |   |    |
|                             | Na         | Mg | III B              | IV B | V B | VIB | VII B | VIII B (8) (9) (10) |     |     | IB  | II B | Al  | Si  | P   | S   | Cl    | Ar  |   |   |   |    |
| 4                           | 19         | 20 | 21                 | 22   | 23  | 24  | 25    | 26                  | 27  | 28  | 29  | 30   | 31  | 32  | 33  | 34  | 35    | 36  |   |   |   |    |
|                             | K          | Ca | Sc                 | Ti   | V   | Cr  | Mn    | Fe                  | Co  | Ni  | Cu  | Zn   | Ga  | Ge  | As  | Se  | Br    | Kr  |   |   |   |    |
| 5                           | 37         | 38 | 39                 | 40   | 41  | 42  | 43    | 44                  | 45  | 46  | 47  | 48   | 49  | 50  | 51  | 52  | 53    | 54  |   |   |   |    |
|                             | Rb         | Sr | Y                  | Zr   | Nb  | Mo  | Tc    | Ru                  | Rh  | Pd  | Ag  | Cd   | In  | Sn  | Sb  | Te  | I     | Xe  |   |   |   |    |
| 6                           | 55         | 56 | 57                 | 72   | 73  | 74  | 75    | 76                  | 77  | 78  | 79  | 80   | 81  | 82  | 83  | 84  | 85    | 86  |   |   |   |    |
|                             | Cs         | Ba | La                 | Hf   | Ta  | W   | Re    | Os                  | Ir  | Pt  | Au  | Hg   | Ti  | Pb  | Bi  | Po  | At    | Rn  |   |   |   |    |
| 7                           | 87         | 88 | 89                 | 104  | 105 | 106 | 107   | 108                 | 109 | 110 | 111 | 112  | 113 | 114 | 115 | 116 | 117   | 118 |   |   |   |    |
|                             | Fr         | Ra | Ac                 | Rf   | Db  | Sg  | Bh    | Hs                  | Mt  | Ds  |     |      |     |     |     |     |       |     |   |   |   |    |
| العناصر الانتقالية الداخلية |            |    |                    |      |     |     |       |                     |     |     |     |      |     |     |     |     |       |     |   |   |   |    |
| 6                           | اللانثيدات | 58 | 59                 | 60   | 61  | 62  | 63    | 64                  | 65  | 66  | 67  | 68   | 69  | 70  | 71  |     |       |     |   |   |   |    |
|                             |            | Ce | Pr                 | Nd   | Pm  | Sm  | Eu    | Gd                  | Tb  | Dy  | Ho  | Er   | Tm  | Yb  | Lu  |     |       |     |   |   |   |    |
| 7                           | الأكتنيدات | 90 | 91                 | 92   | 93  | 94  | 95    | 96                  | 97  | 98  | 99  | 100  | 101 | 102 | 103 |     |       |     |   |   |   |    |
|                             |            | Th | Pa                 | U    | Np  | Pu  | Am    | Cm                  | Bk  | Cf  | Es  | Fm   | Md  | No  | Lr  |     |       |     |   |   |   |    |

الشكل 11-3

تغير الخواص الفلزية واللافلزية في الدورة والزمرة الواحدة.

### و - طيف اللهب :

يمكن الحصول على طيف للعنصر وذلك بوضع العنصر او بخاره في انبوب تفريغ كهربائي تحت ضغط منخفض وجهد عال فتتهيج ذراته وتنبعث منه اطياف خطية ولكل عنصر طيف خطي مميز له لذلك توجد علاقة بين الطيف الخطي والتركيب الذري للعنصر وعلى ذلك يسمى الطيف الذري وعلى سبيل المثال تكون ذرة الهيدروجين في حالة استقرار اذا وجد الالكتران في مستوى الطاقة الاول وعند زيادة طاقة الالكتران فانه ينتقل الى مستوى طاقة اعلى ويقال ان الذرة مثارة او متهيجة وعند هبوط الالكتران من مستوى طاقة اعلى الى مستوى طاقة اقل فانه يفقد طاقة تساوي الفرق بين طاقة المستويين وتظهر تلك الطاقة على هيئة اشعاع كهرومغناطيسي (طيف) مصحوب بلون وله طول موجي وتردد محدد ولكل عنصر طيف خطي مميز له لذلك عند تسخين فلز الكالسيوم على لهب والباريوم بلون اخضر مصفر والصوديوم بلون اصفر والبوتاسيوم بلون بنفسجي والسيزيوم بلون ازرق والرابيديوم بلون احمر غامق.



## 1-2-3 مقدمة

تظهر العناصر الانتقالية في الدورات الرابعة والخامسة والسادسة والسابعة من الجدول الدوري وتمتلك ترتيباً الكترونياً تلعب الكترونات أوربيتالات d و f دوراً مهماً فيه.

ويمكن تقسيم هذه العناصر تقليدياً الى مجموعتين :-  
مجموعة عناصر d ومجموعة عناصر f

تتألف مجموعة عناصر d من ثلاث سلاسل مكتملة وسلسلة رابعة غير مكتملة وفي كل سلسلة من السلاسل الثلاث عشرة عناصر وهذه السلاسل هي :-

1. **السلسلة الانتقالية الاولى:** وتبدأ من عنصر السكنديووم ( $_{21}\text{Sc}$ ) الى عنصر الخارصين ( $_{30}\text{Zn}$ ).

2. **السلسلة الانتقالية الثانية:** وتبدأ من عنصر الايتريوم ( $_{39}\text{Y}$ ) الى عنصر الكادميوم ( $_{48}\text{Cd}$ ).

3. **السلسلة الانتقالية الثالثة:** وتبدأ من عنصر اللانثانيوم ( $_{57}\text{La}$ ) الى عنصر الذهب ( $_{79}\text{Au}$ ).

أما السلسلة الانتقالية الرابعة تبدأ بعنصر الاكتينيوم  $_{89}\text{Ac}$  وتنتهي بعنصر دارامستادتيوم  $_{110}\text{Ds}$  اي انها مؤلفة من (8) عناصر ويمكن ملاحظة هذه السلاسل من النظر الى الجدول الدوري [الشكل (3-1 أ)].

اما مجموعة f فتتألف من سلسلتين وفي كل سلسلة 14 عنصراً تسمى العناصر الانتقالية الداخلية، ويطلق على السلسلة الاولى اللانثانيدات وعلى السلسلة الثانية الاكتينيدات، وهاتان السلسلتان هما :

1. سلسلة اللانثانيدات وتبدأ من عنصر السيريوم Ce عدده الذري 58 الى عنصر الويتيتيوم Lu عدده الذري 71.

2. سلسلة الاكتينيدات وتبدأ من عنصر الثوريوم Th عدده الذري 90 الى عنصر لورنسيوم Lr عدده الذري 103.

وفي كل سلسلة يبقى الترتيب الالكتروني لمستويات الطاقة الممتلئة ذات عدد الكم الرئيسي الاعلى ثابتاً بينما تمتليء تدريجياً مستويات الطاقة الداخلية d (n-1) و f (n-2) بازدياد العدد الذري [الجدول (3-4)].

ففي سلاسل العناصر الانتقالية تمتليء تدريجياً اوربيتالات 3d و 4d و 5d اما السلسلتان الانتقالتان الداخليتان فتمتليء فيها اوربيتالات 4f و 5f بالالكترونات تدريجياً. وبهذا يمكن تعريف العنصر الانتقالي بانه العنصر الذي يمتلك توزيعاً الكترونياً تكون فيه اوربيتالات d او f ممتلئة جزئياً في حالة الذرة المتعادلة او المتحددة كيميائياً في مركباتها .



ايونات املاح العناصر الانتقالية ومحاليلها

من اليسار الى اليمين.

$\text{Mn}^{2+}$ ,  $\text{Fe}^{2+}$ ,  $\text{Co}^{2+}$ ,  $\text{Ni}^{2+}$ ,  $\text{Cu}^{2+}$ ,  $\text{Zn}^{2+}$

الجدول (3-4) الترتيب الالكتروني للعناصر الانتقالية

السلسلة الانتقالية الأولى

| العدد الذري | الرمز | الاسم     | الترتيب الالكتروني              |
|-------------|-------|-----------|---------------------------------|
| 21          | Sc    | Scandium  | $[\text{Ar}]_{18} 3d^1 4s^2$    |
| 22          | Ti    | Titanium  | $[\text{Ar}]_{18} 3d^2 4s^2$    |
| 23          | V     | Vanadium  | $[\text{Ar}]_{18} 3d^3 4s^2$    |
| 24          | Cr    | Chromium  | $[\text{Ar}]_{18} 3d^5 4s^1$    |
| 25          | Mn    | Manganese | $[\text{Ar}]_{18} 3d^5 4s^2$    |
| 26          | Fe    | Iron      | $[\text{Ar}]_{18} 3d^6 4s^2$    |
| 27          | Co    | Cobalt    | $[\text{Ar}]_{18} 3d^7 4s^2$    |
| 28          | Ni    | Nickel    | $[\text{Ar}]_{18} 3d^8 4s^2$    |
| 29          | Cu    | Copper    | $[\text{Ar}]_{18} 3d^{10} 4s^1$ |
| 30          | Zn    | Zinc      | $[\text{Ar}]_{18} 3d^{10} 4s^2$ |

السلسلة الانتقالية الثانية

|    |    |            |                                 |
|----|----|------------|---------------------------------|
| 39 | Y  | Yttrium    | $[\text{Kr}]_{36} 4d^1 5s^2$    |
| 40 | Zr | Zirconium  | $[\text{Kr}]_{36} 4d^2 5s^2$    |
| 41 | Nb | Niobium    | $[\text{Kr}]_{36} 4d^3 5s^2$    |
| 42 | Mo | Molybdenum | $[\text{Kr}]_{36} 4d^5 5s^1$    |
| 43 | Tc | Technetium | $[\text{Kr}]_{36} 4d^5 5s^2$    |
| 44 | Ru | Ruthenium  | $[\text{Kr}]_{36} 4d^7 5s^1$    |
| 45 | Rh | Rhodium    | $[\text{Kr}]_{36} 4d^8 5s^1$    |
| 46 | Pd | Palladium  | $[\text{Kr}]_{36} 4d^{10}$      |
| 47 | Ag | Silver     | $[\text{Kr}]_{36} 4d^{10} 5s^1$ |
| 48 | Cd | Cadmium    | $[\text{Kr}]_{36} 4d^{10} 5s^2$ |

السلسلة الانتقالية الثالثة

|    |    |           |   |
|----|----|-----------|---|
| 57 | La | Lanthanum | $[\text{Xe}]_{54} 5d^1 6s^2$            |
| 72 | Hf | Hafnium   | $[\text{Xe}]_{54} 4f^{14} 5d^2 6s^2$    |
| 73 | Ta | Tantalum  | $[\text{Xe}]_{54} 4f^{14} 5d^3 6s^2$    |
| 74 | W  | Tungsten  | $[\text{Xe}]_{54} 4f^{14} 5d^4 6s^2$    |
| 75 | Re | Rhenium   | $[\text{Xe}]_{54} 4f^{14} 5d^5 6s^2$    |
| 76 | Os | Osmium    | $[\text{Xe}]_{54} 4f^{14} 5d^6 6s^2$    |
| 77 | Ir | Iridium   | $[\text{Xe}]_{54} 4f^{14} 5d^7 6s^2$    |
| 78 | Pt | Platinum  | $[\text{Xe}]_{54} 4f^{14} 5d^9 6s^1$    |
| 79 | Au | Gold      | $[\text{Xe}]_{54} 4f^{14} 5d^{10} 6s^1$ |
| 80 | Hg | Mercury   | $[\text{Xe}]_{54} 4f^{14} 5d^{10} 6s^2$ |

| السلسلة الانتقالية الداخلية الأولى  |       |              |                                 |
|-------------------------------------|-------|--------------|---------------------------------|
| العدد الذري                         | الرمز | الاسم        | الترتيب الإلكتروني              |
| 58                                  | Ce    | Cerium       | $[\text{Xe}] 4f^1 5d^1 6s^2$    |
| 59                                  | Pr    | Praseodymium | $[\text{Xe}] 4f^3 6s^2$         |
| 60                                  | Nd    | Neodymium    | $[\text{Xe}] 4f^4 6s^2$         |
| 61                                  | Pm    | Promethium   | $[\text{Xe}] 4f^5 6s^2$         |
| 62                                  | Sm    | Samarium     | $[\text{Xe}] 4f^6 6s^2$         |
| 63                                  | Eu    | Europium     | $[\text{Xe}] 4f^7 6s^2$         |
| 64                                  | Gd    | Gadolinium   | $[\text{Xe}] 4f^7 5d^1 6s^2$    |
| 65                                  | Tb    | Terbium      | $[\text{Xe}] 4f^9 6s^2$         |
| 66                                  | Dy    | Dysprosium   | $[\text{Xe}] 4f^{10} 6s^2$      |
| 67                                  | Ho    | Holmium      | $[\text{Xe}] 4f^{11} 6s^2$      |
| 68                                  | Er    | Erbium       | $[\text{Xe}] 4f^{12} 6s^2$      |
| 69                                  | Tm    | Thulium      | $[\text{Xe}] 4f^{13} 6s^2$      |
| 70                                  | Yb    | Ytterbium    | $[\text{Xe}] 4f^{14} 6s^2$      |
| 71                                  | Lu    | Lutetium     | $[\text{Xe}] 4f^{14} 5d^1 6s^2$ |
| السلسلة الانتقالية الداخلية الثانية |       |              |                                 |
| 90                                  | Th    | Thorium      | $[\text{Rn}] 6d^2 7s^2$         |
| 91                                  | Pa    | Protactinium | $[\text{Rn}] 5f^2 6d^1 7s^2$    |
| 92                                  | U     | Uranium      | $[\text{Rn}] 5f^3 6d^1 7s^2$    |
| 93                                  | Np    | Neptunium    | $[\text{Rn}] 5f^4 6d^1 7s^2$    |
| 94                                  | Pu    | Plutonium    | $[\text{Rn}] 5f^6 7s^2$         |
| 95                                  | Am    | Americium    | $[\text{Rn}] 5f^7 7s^2$         |
| 96                                  | Cm    | Curium       | $[\text{Rn}] 5f^7 6d^1 7s^2$    |
| 97                                  | Bk    | Berkelium    | $[\text{Rn}] 5f^9 7s^2$         |
| 98                                  | Cf    | Californium  | $[\text{Rn}] 5f^{10} 7s^2$      |
| 99                                  | Es    | Einsteinium  | $[\text{Rn}] 5f^{11} 7s^2$      |
| 100                                 | Fm    | Fermium      | $[\text{Rn}] 5f^{12} 7s^2$      |
| 101                                 | Md    | Mendelevium  | $[\text{Rn}] 5f^{13} 7s^2$      |
| 102                                 | No    | Nobelium     | $[\text{Rn}] 5f^{14} 7s^2$      |
| 103                                 | Lr    | Lawrencium   | $[\text{Rn}] 5f^{14} 6d^1 7s^2$ |

ان تحديد تعريف العنصر الانتقالي بالتوزيع الالكتروني للذرة المتعادلة يستثني النحاس والفضة والذهب التي تكون ترتيباتها الالكترونية في حالة الاستقرار  $ns^1 (n - 1)d^{10}$  وكذلك الخارصين والكاديوم والزرنيق،  $ns^2 (n - 1)d^{10}$  ومن ناحية اخرى اذا كان وجود الكترونات في الذرات المتحدة كيميائيا هي الخاصة الوحيدة تستثنى عناصر Y و La و Ac.

### 2-2-3 الخواص العامة

#### 1 - الخواص الفيزيائية

إن جميع عناصر d الانتقالية فلزات لها كثافة عالية على العموم وحجم ذري واطيء ودرجات انصهار وغليان عالية . وتنصهر وتغلي العناصر الاخيرة من الزمرة في درجات حرارة اوطأ بشكل متميز مقارنة بالعناصر الاخرى من الزمرة، والزرنيق وهو العنصر الاخير من السلسلة الانتقالية يمثل الاستثناء الملاحظ من الفلزات لكونه سائلا تحت الظروف الاعتيادية. تمتلك عناصر سلسلة اللانثينيدات خواصا فلزية حيث تظهر بريقا فلزيا وموصلة جيدا للكهربائية والحرارة وكذلك ان درجات انصهارها وغليانها عالية كما هو متوقع. يتضمن الجدول (3-5) درجات انصهار وغليان عناصر سلاسل d الانتقالية الثلاث ويتضمن ايضا انصاف اقطارها الذرية.

الجدول (3-5) درجات انصهار وغليان وانصاف اقطار عناصر سلاسل d الانتقالية

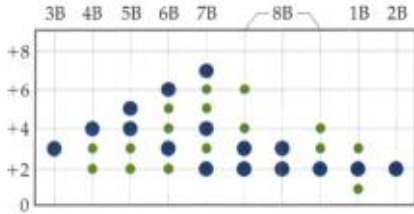
| السلسلة الانتقالية الأولى  |       |      |      |      |      |      |      |      |      |      |
|----------------------------|-------|------|------|------|------|------|------|------|------|------|
|                            | Sc    | Ti   | V    | Cr   | Mn   | Fe   | Co   | Ni   | Cu   | Zn   |
| درجة الانصهار /K           | 1539  | 1998 | 1988 | 2103 | 1520 | 1801 | 1763 | 1725 | 1356 | 693  |
| درجة الغليان /K            | 2727  | 3533 | 3773 | 2573 | 2363 | 3008 | 3313 | 3113 | 2853 | 1180 |
| نصف القطر الذري / pm       | 162   | 132  | 122  | 117  | 117  | 116  | 116  | 115  | 117  | 125  |
| السلسلة الانتقالية الثانية |       |      |      |      |      |      |      |      |      |      |
|                            | Y     | Zr   | Nb   | Mo   | Tc   | Ru   | Rh   | Pd   | Ag   | Cd   |
| درجة الانصهار /K           | 1509  | 2373 | 2223 | 2870 | 2140 | 2670 | 2240 | 1828 | 1233 | 594  |
| درجة الغليان /K            | 2927  | 3870 | 5370 | 5070 |      | 4470 | 4170 | 3443 | 2453 | 1040 |
| نصف القطر الذري / pm       | 182   | 145  | 134  | 129  | 135  | 124  | 125  | 128  | 134  | 141  |
| السلسلة الانتقالية الثالثة |       |      |      |      |      |      |      |      |      |      |
|                            | La    | Hf   | Ta   | W    | Re   | Os   | Ir   | Pt   | Au   | Hg   |
| درجة الانصهار /K           | 920   | 2570 | 3289 | 3670 | 3420 | 2970 | 2727 | 2047 | 1336 | 234  |
| درجة الغليان /K            | 3469  | 5470 | 6270 | 6070 |      | 4870 | 4770 | 4070 | 2970 | 630  |
| نصف القطر الذري / pm       | 187.7 | 159  | 147  | 141  | 137  | 135  | 136  | 139  | 144  | 155  |



## 2. الخواص الكيميائية

### أ - عناصر مجموعة d :

بشكل عام ان عناصر المجموعة d غير فعالة نسبياً مع الاوكسجين والهالوجينات والكبريت والنتروجين والهيدروجين وبخار الماء في الظروف الاعتيادية ولكن في درجات حرارية عالية يتم التفاعل مع هذه الكواشف بشكل اكثر سهولة.



لا توجد حالات تأكسد صفر في سلسلة العناصر الانتقالية الاولى كما هو موضح في الدوائر الاكبر حجماً في الرسم البياني.

تتفاعل مجموعة العناصر الانتقالية مع الهيدروجين تحت ظروف معينة لتكوين مواد ذات تراكيب سميت بالهيدريدات البينية. وقد تضمن هذا الاسم في الاصل ان ترتيب ذرات الفلز هو تقريبا نفس الترتيب من بلورة الفلز بينما تدخل ذرات الهيدروجين المسافات البينية. وبالرغم من ان هذا ليس هو الواقع فان المصطلح لا يزال متداولاً. وهذه الهيدريدات تشغل حجماً يفوق حجم الفلز الذي تكونت منه ولها مظهر فلزي. وتحضر بالاتحاد المباشر بين الفلز والهيدروجين عند درجات حرارة مرتفعة، فنجد مثلاً ان البلاتين والبلاديوم والحديد فلزات نفاذة للهيدروجين عند درجات الحرارة المرتفعة، كما يمتص التنتالوم الهيدروجين مكوناً ناتج سهل الكسر. وتتفاعل عناصر مجموعة d تفاعلاً مباشراً عند تسخين مخلوط الكربون والعنصر عند درجات تفوق حوالي  $2200^{\circ}\text{C}$  منتجة الكاربيدات. وتتميز الكاربيدات بدرجات الانصهار عالية كما انها صلبة جداً وهي على مجموعتين مجموعة ذات صيغة عامة  $\text{MC}$  و  $\text{M}_2\text{C}$  مثل كاربيدات التيتانيوم والزركونيوم والهافنيوم والفناديوم وغيرها. وتتميز هذه الكاربيدات بخمول كيميائي فكاربيد التيتانيوم  $\text{TiC}$  مثلاً لا يتأثر بالماء أو بالمحاليل المائية لحامض الهيدروكلوريك حتى عند درجة  $600^{\circ}\text{C}$ .

### ب- عناصر المجموعة f اللانثيدات:

ان فلزات اللانثيدات لينة واكثر فاعلية مع الكواشف المعروفة من عناصر المجموعة d ، لذا فان اللانثيدات تتفاعل ببطء مع الهالوجينات مكونا مركبات  $\text{MX}_3$  ومع الاوكسجين مكونا  $\text{M}_2\text{O}_3$  في درجة حرارة الغرفة ولكنها تشتعل بسهولة مع هذه الكواشف في درجة حرارة اعلى من  $200^{\circ}\text{C}$  وتتفاعل مع الكبريت في درجة غليانه مكونة المركب  $\text{M}_2\text{S}_3$  ومع النتروجين في درجة حرارة اعلى من  $1000^{\circ}\text{C}$  مكونة المركب  $\text{MN}$ .

وفي درجة حرارة اعلى من  $300^{\circ}\text{C}$  تتفاعل اللانثيدات سريعاً مع الهيدروجين مكونة نوعاً من الهيدريدات ويعطى التفاعل مع البورون والكربون في درجات حرارة عالية البوريدات والكاربيدات على التوالي.

### 3-2-3 السلسلة الانتقالية الاولى

تقع عناصر هذه السلسلة (اعتباراً من السكندريوم الى الخارصين) (الزنك) في الدورة الرابعة من الجدول الدوري بين الكالسيوم Ca في الزمرة (IIA) والكالسيوم Ga في الزمرة (IIIA) والجدول (3-4) يبين الترتيب الالكتروني لهذه العناصر. وتدعى هذه العناصر بالانسان الانتقالية أو مجموعة عناصر d بسبب امتلاكها مستوى الطاقة الداخلي 3d. والمقترح ان العناصر الانتقالية للدورة الرابعة او السلسلة الانتقالية الاولى يجب ان تنتهي بعنصر النيكل لان مستوى طاقة 3d للعنصرين التاليين (النحاس والخارصين) مملوء، والحقيقة ان النحاس يظهر صفات متعددة مميزة للعناصر الانتقالية واما الزنك فيظهر صفات وسطية بين العناصر الانتقالية وعناصر الزمرة الرئيسية. لهذا من المناسب ان يعد كلاً من النحاس والخارصين ضمن السلسلة الاولى من العناصر الانتقالية. ان اختلافات الترتيب الالكتروني التي تميز العناصر الانتقالية من بقية العناصر الاخرى، تقود الى بروز صفات فيزيائية وكيميائية مميزة للعناصر الانتقالية ان هذه الصفات ليست بالضرورة صفات تنفرد بها العناصر الانتقالية الا انها مجمعة تعطي للعناصر الانتقالية سلوكاً مميزاً عن سلوك اي نوع اخر من العناصر. ويمكن حصر هذه المميزات بالنسبة إلى عناصر السلسلة الانتقالية الاولى:

#### أ- الصفات الفلزية :

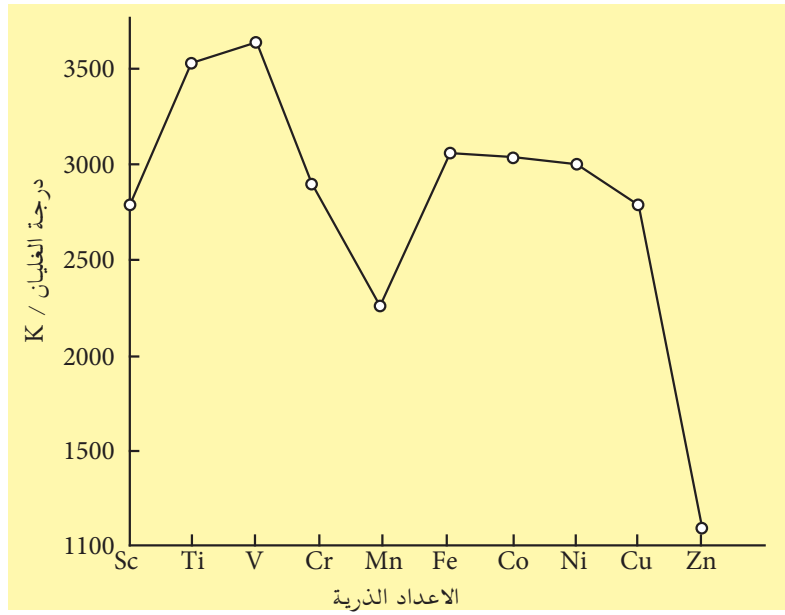
من ابرز صفات عناصر السلسلة الانتقالية الاولى هي انها جميعاً من الفلزات وذات درجات انصهار وغليان عالية وموصلات جيدة للحرارة والكهربائية وهي عموماً مواد صلبة وقوية وتكون السبائك مع بعضها وان امتلاك هذه الصفات يعطيها اهمية تكنولوجية فريدة من نوعها. وبالرغم من أن العناصر الانتقالية اكثر كثافة وصلابة ولها درجات غليان اعلى من الزمر الرئيسية الا انه ليس هناك زيادة منتظمة في درجة هذه الصفات كلما زادت الاعداد الذرية. ان فلزات عناصر هذه السلسلة تقسم على مجموعتين الاولى من Sc الى Mn والثانية من Mn الى Zn مع وجود ذرات عند Ti و V وعند Co و Ni وهذه موضحة في الشكل (3-12) الذي يمثل العلاقة بين درجة الغليان والاعداد الذرية.

أن تقسيم السلسلة الى مجموعتين له علاقة بامتلاء اوربيتالات d، فمستوى طاقة 3d للمغنيز هو نصف ممتلئ وبعدئذ تصبح اوربيتالات d المشغولة بالالكترونات منفردة ممتلئة بالكترونات زوجية الى ان يصبح الامتلاء كاملاً عند النحاس والخارصين .

|    |    |
|----|----|
| 21 | Sc |
| 22 | Ti |
| 23 | V  |
| 24 | Cr |
| 25 | Mn |
| 26 | Fe |
| 27 | Co |
| 28 | Ni |
| 29 | Cu |
| 30 | Zn |

عناصر انتقالية

سلسلة العناصر الانتقالية الاولى



الشكل 3-12

العلاقة بين درجات الغليان والاعداد الذرية لعناصر السلسلة الانتقالية الاولى.

أن الترتيب الالكتروني  $3d^5$  في الكروم و  $3d^{10}$  في النحاس يحصل على حساب أزالة الكترون من مستوى  $4s$  لغرض الحصول على الترتيب الاكثر استقراراً. مما يشير الى ان هذه العناصر مهيأة لتحرير اكبر عدد من الكترونات التكافؤ الخارجي من اجل الارتباط الفلزي مما يعطي اعلى طاقات ارتباط ويتم بلوغها في منتصف السلسلة.

#### ب- حالات الاكسدة:

توجد اكثر من حالة تأكسد في جميع العناصر الانتقالية فمثلاً يوجد للحديد حالتا تأكسد هما  $+2$  و  $+3$  كذلك توجد لذرة عنصر الكوبلت حالتا تأكسد  $+2$  و  $+3$  كذلك لعنصر الكروم Cr توجد حالات تأكسد عديدة هي  $+2$  و  $+3$  و  $+4$  و  $+5$  و  $+6$  في مركباتها الايونية والتساهمية وتصل حالة التأكسد في العناصر الانتقالية الى  $+7$  في حالة المنغنيز كما في مركب برمنكنات البوتاسيوم  $KMnO_4$ ، الجدول (3-6)، والسبب في حالة التأكسد المتعددة للذرة الواحدة في العناصر الانتقالية يعود الى عدد الالكترونات في الغلاف الخارجي  $ns$  و  $(n-1)d$  لذرة ذلك العنصر حيث تبدأ فقد الالكترونات من  $ns$  اولاً ثم من  $(n-1)d$  حيث يتم فقد هذه الالكترونات واحداً بعد الاخر على ان لايزيد عدد الالكترونات في  $d$  على خمسة الكترونات. ولكل الكترون يفقد تظهر حالة تأكسد فنجد أن للمنغنيز حالة تأكسد  $+1$  و  $+2$  و  $+3$  و  $+4$  و  $+5$  و  $+6$  و  $+7$  ونظراً لصعوبة فقدان جميع الالكترونات في  $(n-1)d$  بسبب حاجتها الى طاقة تأين عالية لذلك تفضل تكوين الاواصر التعاضدية (تناسقية) والايون الناتج يكون عامل مؤكسد قوي يسحب الالكترونات من الذرات المجاورة. ان اعلى حالة تأكسد تبلغها ذرات العناصر الانتقالية في السلسلة الاولى يعتمد على :

1. قوة العامل المؤكسد .
2. طبيعة المركب الناتج .

| الجدول (6-3) حالات التأكسد التي تبلغها سلسلة العناصر الانتقالية الاولى |   |                             |                                  |
|--|---|-----------------------------|----------------------------------|
| رمز العنصر   | الترتيب الالكتروني لاوربิทัลين الخارجيين ns و (n- 1) 3d | حالات التأكسد المتعددة      | اعلى حالة تأكسد الاكثر استقراراً |
| Sc   | $4s^2 3d^1$   | +3                          | +3                               |
| Ti   | $4s^2 3d^2$   | +3 و +4                     | +4                               |
| V  | $4s^2 3d^3$   | +2 و +3 و +4 و +5           | +4                               |
| Cr   | $4s^2 3d^5$   | +2 و +3 و +6                | +3                               |
| Mn   | $4s^2 3d^5$   | +2 و +3 و +4 و +5 و +6 و +7 | +2                               |
| Fe   | $4s^2 3d^6$   | +2 و +3                     | +3                               |
| Co   | $4s^2 3d^7$   | +2 و +3                     | +2                               |
| Ni   | $4s^2 3d^8$   | +2 و +3                     | +2                               |
| Cu   | $4s^1 3d^{10}$  | +1 و +2                     | +2                               |
| Zn   | $4s^2 3d^{10}$  | +2                          | +2                               |

من الجدول (6-3) يمكن ملاحظة الاتي :-

- 1 - وجود حالات التأكسد (+2) المألوفة عند فقدان الكتروني  $4s^2$  .
- 2 - الزيادة في عدد حالات التأكسد من السكانديوم (Sc) الى (Mn) وفي العنصر الاخير تتفق حالة التأكسد مع فقدان الكترونات  $3d^5$  و  $4s^2$  .
- 3 - النقصان الحاد في عدد حالات التأكسد بعد المنغنيز بسبب صعوبة ازالة الالكترونات بعد ازدواجها.


### ج - الخواص الحامضية والقاعدية :

تعتمد الخواص القاعدية والحامضية للعناصر الانتقالية حسب مفهوم لويس على حالة التأكسد . اذ كلما زاد عدد تأكسد العنصر قلت الصفات القاعدية وازدادت الصفات الحامضية وكما هو موضح في الجدول (7-3) بالنسبة إلى عنصر المنغنيز في اكاسيده .

| الجدول (7-3) الخواص الحامضية والقاعدية للعنصر الانتقالي المنغنيز في اكاسيده |                                |            |             |
|---|--------------------------------|------------|-------------|
| اسم الاوكسيد  | صيغته                          | الصفة      | عدد التأكسد |
| اوكسيد المنغنيز   | MnO                            | قاعدي      | +2          |
| ثلاثي اوكسيد ثنائي المنغنيز   | Mn <sub>2</sub> O <sub>3</sub> | قاعدي ضعيف | +3          |
| ثنائي اوكسيد المنغنيز   | MnO <sub>2</sub>               | امفوتيري   | +4          |
| ثلاثي اوكسيد المنغنيز   | MnO <sub>3</sub>               | حامضي      | +6          |
| سباعي اوكسيد ثنائي المنغنيز   | Mn <sub>2</sub> O <sub>7</sub> | حامضي اقوى | +7          |

#### د- تكوين المعقدات التناسقية :

تسلط الايونات الموجبة للعناصر الانتقالية تجاذباً كهروستاتيكياً قوياً على الجزيئات أو الايونات التي تحتوي على زوج أو اكثر من الالكترونات غير المتأصرة وتعرف مثل هذه الجزيئات أو الايونات بالليكيندات (ligands) وينتج من هذا التجاذب ما يسمى بالمعقد التناسقي. وبهذا يمكننا القول أن المعقد التناسقي عبارة عن ذرة مركزية غالباً ما تكون لعنصر انتقالي تحيط بها مجموعة من الذرات أو الجزيئات أو الايونات تسمى الليكيندات. فالذرة المركزية غالباً ماتكون من الفلزات الانتقالية اما الليكند فقد يكون ايوناً سالباً احادي الذرة مثل ايون الهاليد او قد تكون جزيئة متعددة الذرات أو ايوناً يحتوي على ذرة واهبة تنتمي الى ذرة مجموعة الاوكسجين او النتروجين مثل  $H_2O$  أو  $NH_3$  أو  $CN$  أو  $NO_2$  وغيرها. ويستعمل اصطلاح العدد التناسقي للاشارة الى عدد الذرات الواهبة للالكترونات المتصلة بالذرة المركزية. فالعدد التناسقي لذرة الحديد في الايون التناسقي  $[Fe(CN)_6]^{4-}$  يساوي 6، وحالة التأكسد للحديد يساوي +2. اما العدد -4 فيمثل شحنة الايون المعقد والتي تساوي (المجموع الجبري لشحنات العدد التناسقي وشحنة الذرة المركزية) حيث مجموع شحنة العدد التناسقي يساوي (-6) وشحنة الايون المركزي تساوي (+2) لذلك يكون الفرق بينهما هو (-4) التي تمثل شحنة الايون المعقد. ويتغير العدد التناسقي من عنصر لآخر ولكن في المركبات المعقدة للعناصر الانتقالية في حالتي التأكسد +2 و+3 يكون العدد التناسقي عادةً يساوي 4 أو 6 ومن امثلة هذه المعقدات هي  $[Co(NH_3)_6]^{3+}$  و  $[Ni(CO)_4]^{2+}$  والاشكال الشائعة لمثل هذه المعقدات هي اشكال ثمانية السطوح للعدد التناسقي 6 ورباعية السطوح للاعداد التناسقية 4 وهناك اشكال اخرى مثل الخطية وثنائي الهرم المثلي وغيرها وهذه الاشكال معقدة سوف يطالع الطالب عليها في دراسته الجامعية .



أ - معقدات رباعية السطوح.



ب- معقدات ثمانية السطوح.


#### هـ - اللون:

تتميز جميع المعقدات للعناصر الانتقالية بالوانها المتميزة الزاهية فمثلاً كبريتات النحاس المائية  $CuSO_4 \cdot 5H_2O$  لها لون ازرق فاتح بينما  $Ni(OH)_2$  ذو لون اخضر فاتح ورابع امونيا النحاس (II)  $[Cu(NH_3)_4]^{2+}$  ذات لون ازرق غامق وغيرها.

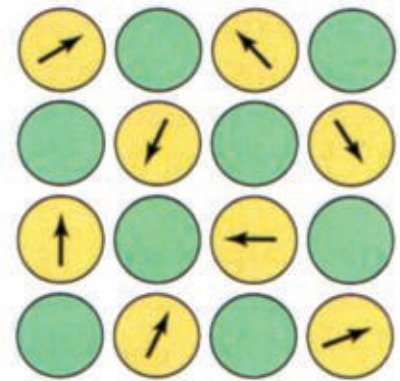
#### و - الصفات المغناطيسية

تمتلك الالكترونات شحنة وينشأ عن حركتها تأثيران مغناطيسيان احدهما يصاحب العدد الكمي L والاخر يصاحب العدد الكمي s وهذان التأثيران معاً يمنحان كل الكترون صفات قطب مغناطيسي صغير

## انواع السلوك المغناطيسي



دايا مغناطيسية



بارا مغناطيسية

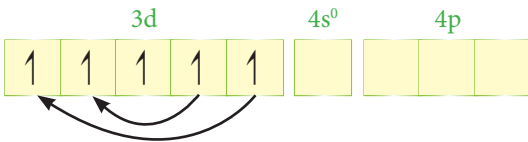
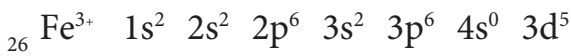
ذي عزم مغناطيسي في الاغلفة الممتلئة بالالكترونات يعادل العزم المغناطيسي لكل منهما الاخر والذرة ككل ستمتلك محصلة عزم مغناطيسي فقط في حالة وجود الكترونات منفردة في مدار التكافؤ وعندما يحصل ذلك سيجعل المجال المغناطيسي الخارجي المسلط الى توجيه العزوم المغناطيسية للذرات باتجاه ذلك المجال ويسمى مثل هذا السلوك بالبارامغناطيسية (Paramagnetism) وعندما تكون جميع الالكترونات مزدوجة في الاوربيتالات الخارجية ففي هذه الحالة تتولد بالحث مجالات مغناطيسية تعاكس المجال المغناطيسي المولد لها وهذا يجعل المادة تتنافر مع المجال المغناطيسي الخارجي ويعرف هذا السلوك بالدايا مغناطيسية (Diamagnetism) فمثلاً نجد ان الحديد كعنصر يجذب نحو المجال المغناطيس وذلك لوجود الكترونات منفردة في غلافه الخارجي حيث يكون الغلاف الخارجي لذرة الحديد (3d).

3d

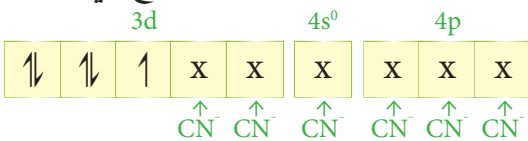


ولكن اذا كان الحديد ضمن ايون تناسقي كما في  $[Fe(CN)_6]^{4-}$  (سادس سيانو حديدات II) فإنه لا يجذب نحو المجال المغناطيسي لان اوربيتالات الغلاف الخارجي لايون الحديد (II) قد تشبعت بالالكترونات الممنوحة من قبل الليكنندات  $(CN^-)$ .

اما في المركب  $[Fe(CN)_6]^{3-}$  سداسي سيانو حديدات (III) حيث يكون فيه ايون الحديد الثلاثي يجذب نحو المجال المغناطيسي (بارا مغناطيسي) بسبب وجود الكترون منفرد في اوربيتالات الغلاف الخارجي 3d لايون الحديد الثلاثي كما هو موضح في الشكل الاتي:



وعند اقتراب الليكند (مجموعة تناسقية) مثل  $(CN^-)$  والتي لها مجال لكندي عالٍ من اوربيتالات 3d لايون الحديد الثلاثي تعمل على ازدواج الالكترونات في اوربيتالات 3d لايون الحديد وكما هو موضح في الشكل الاتي :

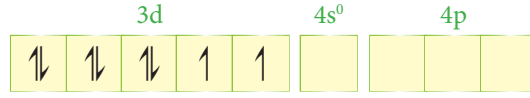
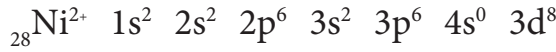


ان الالكترونات الممنوحة من قبل المجاميع التناسقية وضعت بشكل (X) تمييزاً لها من الالكترونات غير الممنوحة من المجاميع التناسقية (↑↓).

## معلومة

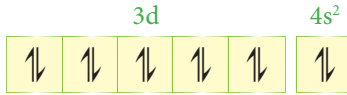
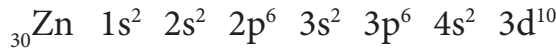
اللون الاخضر يمثل المزدوجات  
الالكترونوية  
واللون الاصفر يمثل الالكترونات  
المفردة

ومن الايونات المعقدة التي لها صفة بارامغناطيسية هي  $[\text{NiCl}_4]^{2-}$  حيث يكون الغلاف الخارجي (3d) لايون  $\text{Ni}^{2+}$  يحتوي على الكترونين منفردين لذلك يظهر صفة منفردة بارامغناطيسية.



وبدلالة الاوربيتالات

ولو اخذنا عنصر الخارصين ( ${}_{30}\text{Zn}$ ) نلاحظ من ترتيبه الالكتروني ان جميع الالكترونات في غلافه الخارجي تكون بشكل ازواج وبذلك فانه لاينجذب نحو المجال المغناطيسي



وثمة نوع ثالث من السلوك المغناطيسي وهو الفيرومغناطيسية (Ferromagnetism) التي هي في الواقع نادرة جداً لكنها ذات اهمية بالغة، وهي حالة خاصة من البارامغناطيسية وتحصل في المركبات التي تحتوي على جزء كبير من الذرات او الايونات المحتوية على الكترونات منفردة . ولهذا النوع من المركبات وفي الظروف الملائمة تتفاعل الالكترونات المنفردة لكل ذرة وتنظم انفسها مع الالكترونات المنفردة للذرات المجاورة وتعاد هذه العملية خلال كل الذرات في المركب . وعليه فإن التأثير يؤدي الى تشييد مغناط دائمية ، ويمكن ملاحظة السلوك الفيرومغناطيسي بصورة رئيسة بين الفلزات والسبائك واوكسيدات العناصر الانتقالية وبتأثير اقل في اوكسيدات العناصر الانتقالية الداخلية.



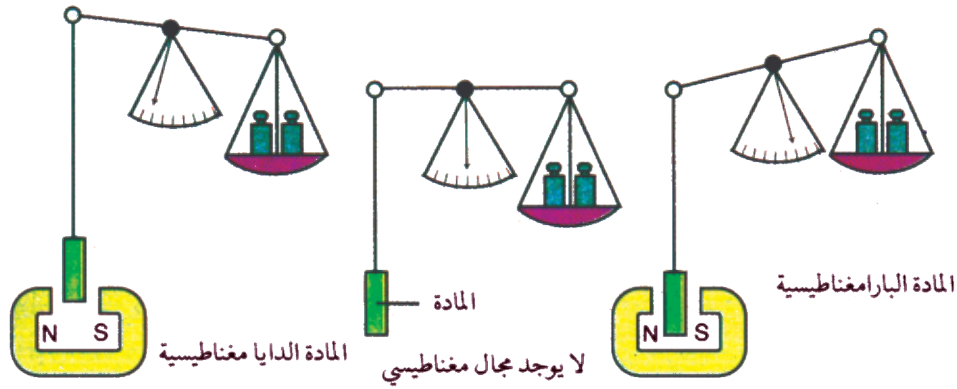
فيرو مغناطيسية



مغناطيسيات دائمة مصنوعة من مواد فيرومغناطيسية

## ميزان كوي Gouy balans

يمكن معرفة المادة ذات صفات دايا او بارامغناطيسية باستعمال جهاز حساس يعرف باسم ميزان كوي (Gouy balance) حيث يحتوي هذا الجهاز على ميزان حساس جداً تعلق في احدى كفتيه المادة المراد معرفة خواصها المغناطيسية وتوضع الاوزان المكافئة لوزن المادة في الكفة الثانية وكما هو موضح في الشكل (3-13).



شكل 3-13

ميزان كوي

حيث توضع المادة في مجال مغناطيسي قوي فاذا كانت ذات صفات بارامغناطيسية فانها سوف تنجذب نحو المجال المغناطيسي وتزداد قراءة الميزان اما اذا كانت المادة دايا مغناطيسية فانها سوف تتنافر مع المجال وتقل قراءة الميزان.

### - والفعالية كعوامل مساعدة:-

ان العوامل المساعدة المشتقة من العناصر الانتقالية ذات اهمية كبيرة في كثير من العمليات والانظمة البيولوجية ولاغنى عنها في الصناعات الكيميائية أيضاً. حيث أن لجميع العناصر الانتقالية تقريباً قدرة في السلوك كعوامل مساعدة أما في حالاتها الحرة أو بهيئة مركبات . ويحتمل ان تأتي هذه القدرة أما من أستعمال أوربياتلات d أو من تكوين مركبات تستطيع أن تمتص وتنشط المواد المتفاعلة. وقدرة مركبات هذه العناصر في السلوك كعوامل مساعدة ناتجة من قابليتها على تهيئة مسالك ذات طاقة منخفضة للتفاعلات وذلك أما بأحداث تبدل في حالة التأكسد أو بواسطة تكوين مركبات وسطية مناسبة.

## 3-2-4 اللانثينيدات والاكثينيدات

### Lanthanides and Actinides

#### 1. اللانثينيدات :

اللانثانيوم (La) (عدده الذري 57) ويظهر كأول عنصر في سلسلة العناصر الانتقالية الثالثة وله الترتيب الالكتروني  $6s^2 5d^1 5p^6 5s^2 4d^{10} [Kr]$ . والعنصر الذي يليه هو السيريوم (Ce) (وعدده الذري 58) وله ترتيب الالكتروني  $6s^2 5d^1 4f^1 5p^6 5s^2 4d^{10} [Kr]$ . حيث تبدأ الالكترونات بأشغال مستوى الطاقة (مستوى القمة) 4f إلى أن نصل إلى عنصر اللوتيتيوم (Lu) عدده الذري (71) وبعده يعود مستوى 4d إلى الامتلاء.

والعناصر من اللانثانيوم إلى اللوتيتيوم تسمى باللانثانيدات وهي السلسلة الانتقالية الداخلية الاولى وتتكون من 14 عنصر.

|    |    |
|----|----|
| 71 | Lu |
| 70 | Yb |
| 69 | Tm |
| 68 | Er |
| 67 | Ho |
| 66 | Dy |
| 65 | Tb |
| 64 | Gd |
| 63 | Eu |
| 62 | Sm |
| 61 | Pm |
| 60 | Nd |
| 59 | Pr |
| 58 | Ce |

سلسلة اللانثينيدات



وقد سميت هذه العناصر بالأترربة النادرة (Rear earth) لأنها توجد في مخاليط غير مألوفة كما كان يعتقد بأنها عناصر (أترربة) أو أكاسيد.

تشابه عناصر اللانثينيدات بعضها البعض الآخر لدرجة كبيرة بحيث أن الفصل بينها يشكل مشكلة رئيسة لأن جميع مركباتها متشابهة جداً، حيث تظهر حالة التأكسد (+3) وتبين هذه الحالة الصفات الأيونية السائدة وهي في ذلك تشابه أيونات فلزات الأترربة القلوية عدا انها ثلاثية موجبة وليس ثنائية موجبة .

لا يوجد ايروبيوم (Eu) ( وهو احد عناصر هذه السلسلة ) بصورة حرة في الطبيعة ولم يتسنى اكتشافه إلا عند الحصول عليه ضمن ناتج الانشطار النووي.

## 2. الاكتنيدات :

وبطريقة مشابهة لسلسلة اللانثينيدات تبدأ الاكتنيدات بعنصر الاكتينيوم (Ac) عدده الذري 89 وله الترتيب الالكتروني  $[_{54}\text{Xe}] 4f^{14} 5d^{10} 6s^2 6p^6 6d^1 7s^2$  . وقبل ان يعرف عن امكانية وجود عناصر بعد اليورانيوم فقد وضعت العناصر الطبيعية الاثقل مثل الثوريوم واليروتكتينيوم واليورانيوم في الدورة السادسة من التصنيف الدوري بصورة ترادف عناصر الهافنيوم والتانتاليوم والتنكستن. ولهذا فقد أستدل أن هذه العناصر كانت بداية لسلسلة جديدة من أربعة عشر عنصراً التي يمتلئ فيها مستوى الكم السادس تماماً بنفس طريقة امتلاء مستوى الكم الخامس لعناصر الهافنيوم والتانتاليوم والتنكستن. ان اكتشاف عدة عناصر مابعد اليورانيوم ودراسة صفاتها تبين في الحقيقة نشوء سلسلة أنتقالية داخلية جديدة تبدأ بعد الاكتينيوم. لذا فالعناصر مابعد الاكتينيوم تدعى الان بالاكتنيدات. ومهما كان مدى حالات التأكسد التي تمتلكها الاكتنيدات فلها دائماً حالة تأكسد +3 ضمن حالات التأكسد.

وفي الاكتنيدات يكون عنصر الكيوريوم (Cm) ضمن العناصر الذي يحتمل أن يكون غلافه الثانوي الداخلي نصف مملوء، والغالبية العظمى لمركباته يكون الكيوريوم ثلاثياً موجباً، بينما العناصر فوق الاميريسيوم تسلك حالات تأكسدية عديدة مثال ذلك +2،+3،+4،+5،+6. وعنصر البيركيليوم (Bk) بعد الكيوريوم يسلك حالات تأكسدية +3،+4. ان هذا التعدد في حالات الاكسدة لعناصر الاكتنيدات الى حد عنصر الاميريسيوم تجعل كيمياء عناصر هذه السلسلة معقداً جداً.

|    |    |
|----|----|
| 71 | Lu |
| 70 | Yb |
| 69 | Tm |
| 68 | Er |
| 67 | Ho |
| 66 | Dy |
| 65 | Tb |
| 64 | Gd |
| 63 | Eu |
| 62 | Sm |
| 61 | Pm |
| 60 | Nd |
| 59 | Pr |
| 58 | Ce |

سلسلة الاكتنيدات

بالإضافة الى هذا ففي عنصر الكادولينيوم (Gd) يكون المستوى الثانوي مملوءً الى نصفه بالالكترونات . وكما هو معروف فإن هذا يمثل بصورة خاصة الترتيب الالكتروني والتأين. لذا يكون الكادولينيوم أيونات  $Gd^{3+}$  فقط ، (بفقدان ثلاثة الكترونات خارجية) ولا يظهر ميلاً الى إضافة أو فقدان الالكترونات في المستوى الداخلي النصف مملوء . وهذا السلوك يمكن مقارنته مع العنصر الذي يأتي قبل الكادولينيوم وهو ايروبيوم (Eu) ، وهذا العنصر يسلك حالة تأكسد +2 وكذلك +3 ، والعنصر الذي يليه وهو التيربيوم (Tb) يسلك الحالات التأكسدية +3 و +4 .

وستناول الحديد كمثال على العناصر الانتقالية.

### 3-3 الحديد Iron

#### 1-3-3 المقدمة

يعتبر الحديد الفلز الثاني بعد الالمنيوم والعنصر الرابع بعد الاوكسجين والسليكون والالمنيوم من حيث نسبته في القشرة الارضية ، ويعتقد ان مركز الارض يتكون بصورة رئيسية من الحديد والنيكل . وينتشر الحديد في القشرة الارضية متحداً مع عناصر اخرى مكوناً خاماته المتعددة وهي الهيماتايت (hematite) الذي يحتوي على  $Fe_2O_3$  والمغنيتايت (magnetite) الذي يحتوي على  $Fe_3O_4$  والليمونيت (limonite) الذي يحتوي على  $FeOOH$  وسدرايت الذي يحتوي على  $FeCO_3$  كما يعتبر الحديد العنصر الانتقالي الاكثر اهمية وانتشاراً في الانظمة الحياتية ، فهو احد العناصر الداخلة في تركيب هيموكلوبين الدم ويوجد كذلك مع المولبيدينيوم في تركيب الانزيم الخاص بتثبيت النتروجين ، وهو احد العناصر الضرورية التي تكون مادة الكلوروفيل الخاص بصناعة الغذاء في النبات .



مغنيتايت




ليمونيت



هيماتايت

#### 2-3-3 موقع الحديد في الجدول الدوري

يقع الحديد في الجدول الدوري وفي الدورة الرابعة الزمرة الثامنة B، ويمتلك الترتيب الالكتروني الآتي :



ولكون الحديد عنصراً انتقالياً فان الكترونات التكافؤ تقع ضمن الغلافين الخارجيين  $[ns, (n-1)d]$  الا انه لا يظهر حالة التأكسد مساويه لهذا العدد (8). ان اكثر حالات التاكسد المعروفة في الحديد هي +2 و +3 وان عملية فقدان الكترونين من ذرة الحديد لتكوين ايون الحديد (II) او فقدان ثلاثة الكترونات لتكوين ايون الحديد (III) تعتمد على طبيعة المواد المتفاعلة . كما ان العلاقة بين حالتي التاكسد يمكن تمثيلها بالمعادلة ادناه :



تبين المعادلة اعلاه ان ايون الحديد (II) يمكن ان يتأكسد (يفقد الكترون) ليتحول الى ايون الحديد (III) او ان ايون الحديد (III) يختزل (يكتسب الكترون) ليتحول الى ايون الحديد (II).

### 3-3-3 خواص الحديد

الحديد فلز ابيض لامع عندما يكون نقياً ويتصف بجميع الصفات الخاصة بالفلزات كالصلادة والتوصيل الحراري والكهربائي الجيدين وقابلية الطرق والسحب وغيرها من الصفات. وهو من الفلزات القابلة للتمغنط درجة انصهاره  $1528^{\circ}\text{C}$  ودرجة غليانه  $2861^{\circ}\text{C}$  وكثافته  $7.86 \text{ g/cm}^3$  بدرجة  $25^{\circ}\text{C}$ .

### 4-3-3 تفاعلات الحديد

1. لا يتفاعل الحديد في درجات الحرارة الاعتيادية مع الهواء الجاف ولا يتفاعل مع الماء الخالي من الهواء المذاب ولكنه يتفاعل باوكسجين الهواء الرطب مكوناً طبقة بنية اللون مائلة الى الاحمرار تدعى الصدأ. تنفصل هذه الطبقة من سطح الحديد على شكل قشور، وهي عبارة عن اوكسيد الحديد المائي (III) ولا يتوقف تكون الصدأ عند السطح الخارجي لقطعة الحديد (وذلك بسبب نفاذية وعدم تماسك طبقة الاوكسيد المتكونة).




2. يتأكسد الحديد عند تسخينه الى درجات الحرارة العالية (درجة الاحمرار) وبوجود الهواء مكوناً اوكسيد الحديد المغناطيسي  $\text{Fe}_3\text{O}_4$  كما في المعادلة الاتية :



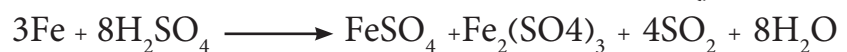
3. يتفاعل مع بخار الماء مكوناً اوكسيد الحديد المغناطيسي ومحرراً غاز الهيدروجين كما في المعلومات الاتية:



4. يتفاعل الحديد مع الحوامض المخففة مثل حامض الهيدروكلويك وحامض الكبريتيك بسهولة مكوناً ملح الحديد (II) ومحرراً غاز الهيدروجين كما في المعادلات الاتية :



ويتفاعل مع الحوامض المركزة مثل حامض الكبريتيك المركز الساخن وحامض النتريك مكوناً املاح الحديد والماء ويتصاعد غاز  $\text{SO}_2$  كما في المعادلة الاتية :



كبريتات الحديد (III) كبريتات الحديد (II)



#### هل تعلم

ان اشهر كبريتيدات الحديد هو بيريت الحديد  $\text{FeS}_2$  الذي يعرف باسم الذهب الكاذب بسبب لونه المشابه الى لون الذهب والذي يستخدم في غش الذهب من دون اكتشافه بسهولة .

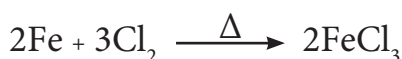
5 . عند تسخين خليط من برادة الحديد ومسحوق الكبريت بتكون كبريتيد الحديد (II) كما في المعادلة الآتية :



6 . يتفاعل الحديد مع الهالوجينات مثل (الفلور والكلور والبروم) لينتج هاليدات الحديد (III) وفق المعادلة:




وكمثال ذلك كلوريد الحديد (III) الذي ينتج من امرار غاز الكلور على برادة الحديد المسخنة الى درجة حرارة الاحمرار كما في المعادلة الآتية :



### 5-3-3 إستخلاص الحديد

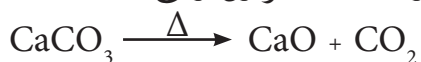
ينتج الحديد صناعياً في الفرن النفاخ عن طريق إختزال خامات الحديد وخاصة الهيماتايت والماغنيتايت بالكاربون عند  $2000^\circ\text{C}$ . وتتضمن الطريقة خلط خام الحديد مع فحم الكوك وحجر الكلس (الذي معظمه كاربونات الكالسيوم) وإضافة الخليط من الفتحة العلوية للفرن النفاخ [الشكل (3-14)]. ثم ينفخ الهواء الحار من فتحات توجد في الجوانب السفلية في الفرن ونتيجة لإرتفاع درجة حرارة الخليط فأن تفاعلات كثيرة تحدث داخل الفرن يمكن إيجازها: إحتراق الفحم أولاً لتسخين الفرن وتكوين أحادي أوكسيد الكاربون:



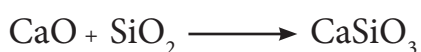
يقوم أحادي أوكسيد الكاربون بإختزال خام الحديد لينتج حديد منصهر وثنائي أوكسيد الكاربون :



وتسبب حرارة الفرن كذلك في تحلل كاربونات الكالسيوم الى أوكسيد الكالسيوم وثنائي أوكسيد الكاربون وفق المعادلة:



ثم يتحد أوكسيد الكالسيوم مع الرمل ليكون منصهر سليكات الكالسيوم وفق المعادلة:



يطفو منصهر سليكات الكالسيوم فوق منصهر الحديد، لأن كثافته أقل من كثافة الحديد، مشكلاً طبقة تدعى الخبث تمنع إختلاط منصهر الحديد مع المواد التي فوقه. أما الحديد المنصهر فيُسحب بين فترة وأخرى من أسفل الفرن، حيث يصب في قوالب خاصة ويدعى حينئذ بحديد الزهر والذي يستخدم كخام للحديد في مراحل تصنيع الحديد التالية.

#### هل تعلم

ان الحديد يدخل في الكثير من مركبات السيانيد ومن اشهرها  $\text{Fe}_4[\text{Fe}(\text{CN})_6]$  والمسماة صبغة ازرق بروسيا والتي تستعمل لازالة اصفرار الماء نتيجة وجود رواسب من املاح الحديد ، وتسمى محلياً (الجويت)

كما أن الخبث المتكون يُسحب أيضاً من فتحات خاصة أسفل الفرن، ويُستفاد منه في صناعة الإسمنت أو الكونكريت أو لرصف الطرق وغيرها من الأعمال الإنشائية.

بسبب المخاوف البيئية من استخدام فحم الكوك ظهرت أساليب بديلة لمعالجة الحديد أحدها هو إختزال الحديد باستخدام الغاز الطبيعي. وينتج فيه الحديد على شكل مسحوق يسمى الحديد الإسفنجي الذي يستخدم في صناعة الحديد الصلب. تتكون العملية من تفاعلين رئيسيين هما: أكسدة الغاز الطبيعي بمساعدة عامل مساعد وحرارة.



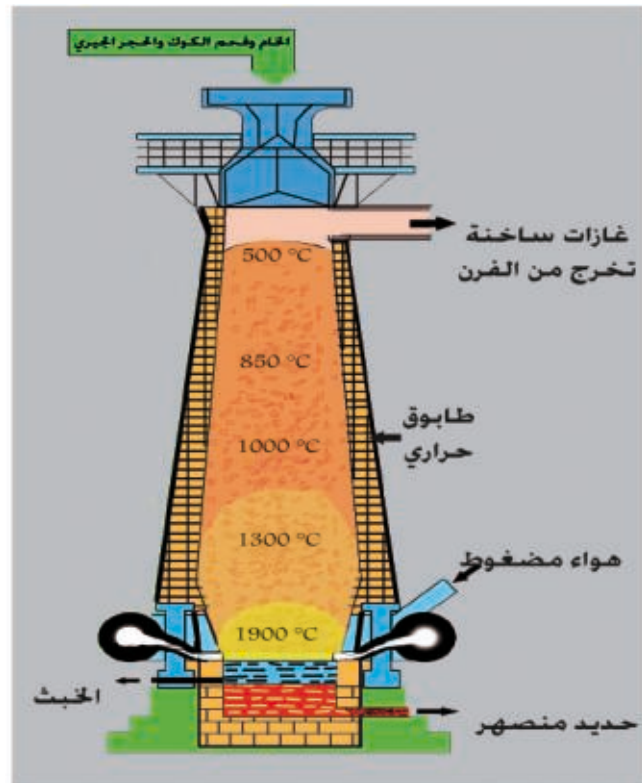
ثم تقوم غازات  $\text{CO}$  و  $\text{H}_2$  الناتجة عند درجة حرارة  $800-900^\circ\text{C}$  بإختزال خام الحديد لينتج الحديد الإسفنجي.



ثم يزال الرمل بإضافة كاربونات الكالسيوم في خطوة تالية لتكوين الخبث كما في الطريقة السابقة.

وتتميز هذه الطريقة في إنتاج الحديد بأنها:

1. لا تحتاج الى فحم الكوك غالي الثمن وغير متوفر.
2. تكلفة إنشائها أقل بكثير من تكلفة إنشاء الفرن النفاخ.
3. تقنية بسيطة ويسهل إستخدامها.
4. الحديد الناتج خالي من الكاربون بينما الحديد الزهر الناتج من الفرن النفاخ يحتوي على تقريباً 4% كاربون.



الشكل 14-3

الفرن النفاخ

### 3-3-6 أنواع الحديد

علمنا ان الحديد الناتج من الفرن النفاخ يدعى حديد الزهر يحتوي على شوائب تتراوح نسبتها بين (6% الى 8%) معظمها كاربون وسليكون. وبتغير نسب هذه الشوائب يمكن الحصول على انواع مختلفة من الحديد منها :

#### أ - حديد الصب :

عند اعادة صهر حديد الزهر وصبه في قوالب لصنع الادوات المطلوبة حينئذ يدعى بحديد الصب ويكون على نوعين اعتماداً على طريقة الصب والتبريد . فاذا استخدمت قوالب معدنية للصب تكون عملية الصب سريعة ويدعى الناتج بحديد الصب الابيض. اما اذا استخدمت قوالب رملية عندئذ تكون عملية التصلب بطيئة ويدعى الناتج بحديد الصب الرمادي .

وبصورة عامة يتصف حديد الصب المعروف محلياً بـ(الآهين) بانه صلب جداً لكنه هش لايتحمل الصدمات القوية ويستخدم غالباً في صناعة بعض اجزاء المدافع وانايب واغطية المجاري .

#### ب -الصلب (الفولاذ) :

ينتج الحديد الفولاذ من حديد الزهر بعد اكسدة الشوائب الموجودة فيه في فرن خاص ، ثم يضاف اليه الكمية المطلوبة من الكاربون بنسبة (0.2% الى 1.5% ) وعناصر اخرى بحسب الصفات المرغوبة في نوعية الفولاذ المطلوب . وتتوقف خواص الحديد الفولاذ على نسبة مايتحتوية من عنصر الكاربون والعناصر المضافة الاخرى .

Electronegativity

الكهرسلبية

وهي قدرة الذرات في الجزيئات على جذب الالكترونات نحوها من ذرات أخرى مرتبطة معها بآصرة كيميائية . وتزداد بزيادة العدد الذري في الدورة الواحدة وتقل في الزمرة الواحدة بزيادة العدد الذري .

Transtion element

العنصر الانتقالي

وهو العنصر الذي يمتلك ترتيباً الكترونياً تكون أوربتالات d أو f ممتلئة جزئياً في حالة الذرة المتعادلة أو المتحددة كيميائياً في مركباتها .

Coordinated Complexes

المعقد التناسقي

وهو عبارة عن ذرة مركزية وغالباً ما تكون لعنصر أنتقالي تحيط بها مجموعة من الذرات أو الجزيئات أو الايونات تسمى الليكنندات . والليكند قد يكون أيوناً سالباً أحادي الذرة مثل أيون الهاليد أو قد تكون جزيئة متعددة الذرات أو أيوناً يحتوي على ذرة واهبة تنتمي الى ذرة من مجموعة الاوكسجين أو النتروجين مثل  $\text{H}_2\text{O}$  و  $\text{NH}_3$  و  $\text{NO}_2$  وغيرها .

Coordinated number

العدد التناسقي

وهو عدد الذرات أو الجزيئات أو الايونات الواهبة للألكترونات (الليكينندات) المتصلة بالذرة المركزية . ويتغير العدد التناسقي من عنصر الى آخر ولكن في العناصر الانتقالية يساوي على العموم 4 أو 6 .

Magnetic Properties

الصفات المغناطيسية

يملك الالكترون نتيجة حركة صفات قضيب مغناطيسي صغير ذي عزم مغناطيسي ، وفي حالة المواد الحاوية على أوربيتالات ممتلئة بالالكترونات فإن العزم المغناطيسي لأحد الالكترونات يعادل العزم المغناطيسي للالكترون الاخر وبذلك لا تنجذب نحو المجال المغناطيسي الخارجي ويقال انها مواد دايا مغناطيسية .

Periodic Table Parts

أقسام الجدول الدوري

يتكون الجدول الدوري الحديث من أربعة أجزاء، يشمل الجزء الاول العناصر التي ينتهي غلافها الخارجي بأوربتالات من نوع s . أما الجزء الثاني فيشمل العناصر التي ينتهي غلافها الخارجي بأوربيتالات من نوع s و p بينما تكون العناصر التي ينتهي غلافها الخارجي بأوربيتالات من نوع s أو d الجزء الثالث من الجدول الدوري . وتكون سلسلتي العناصر الانتقالية الداخلية (اللانثينيدات والاكتنيدات) الجزء الرابع من الجدول الدوري والتي ينتهي غلافها الخارجي بأوربتالات من نوع s و f .

Atomic Volume

الحجم الذري

وهو نصف المسافة بين مركزي ذرتين متتاليتين في البلورة ويقاس بأستخدام الاشعة السينية . وتقل انصاف الاقطار الذرية في الدورة الواحدة عند الانتقال من اليسار الى اليمين ولكنها تزداد عند الانتقال من الاعلى الى الاسفل في الزمرة الواحدة.

Ionization Energy

طاقة التأين

هي الطاقة اللازمة لأنتزاع الكترون من ذرة متعادلة في حالتها الغازية وتكوين أيون موجب . وتسمى الطاقة اللازمة لأنتزاع الالكترون الاول بطاقة التأين الاولى وتسمى الطاقة اللازمة لأنتزاع الالكترون الثاني بطاقة التأين الثانية وهكذا .

Electron Affinity

الألفة الالكترونية

وهي مقدار الطاقة التي تنطلق من الذرة المتعادلة في الحالة الغازية عندما تكتسب الكترونأً مكوناً أيونات سالبة . وتزداد هذه الصفة في الدورة الواحدة بزيادة العدد الذري بينما تقل في الزمرة الواحدة بزيادة العدد الذري .

- 1-3 بعد محاولة تقسيم العناصر الى فلزات ولا فلزات جرت محاولات اخرى لتصنيفها اذكر تلك المحاولات وعلى اي اساس بنيت تلك المحاولات.
- 2-3 اذكر القانون الدوري الذي توصل اليه كل من لاندس ومنديليف .
- 3-3 ما هي نقاط الضعف في جدول العالم منديليف .
- 4-3 ما الفرق بين جدول مندليف والجدول الدوري الحديث .
- 5-3 كيف يتغير الحجم الذري لعناصر الدورة الواحدة والزمرة الواحدة بزيادة العدد الذري ولماذا.
- 6-3 اي الذرات في كل من الازواج الاتية اكبر حجم ذري  $(Li, Be)$   $(S, O)$   $(Cl, Br)$   $(Al, Al^{2+}, Al^{3+})$
- 7-3 رتب الاتي حسب ازدياد طاقة التاين ذاكراً السبب .
- 8-3 اذا كان لديك العناصر الاتية :  $(Cl, P, Na)$  اجب عن الاسئلة الاتية :
- أ- اي من العناصر يكون له اكبر حجم ذري واي منها اصغر حجم ذري .
- ب- رتب هذه العناصر حسب ازدياد الكهرسلبية ذاكراً السبب لهذا الترتيب .
- ج- رتبهم بعناصر حسب ازدياد الجذب الالفة الالكترونية ذاكراً السبب .
- د- اي من هذه العناصر تتوقع فيه الخواص الفلزية.
- 9-3 لديك الذرات الاتية  $O, S, Se$  رتبها حسب ما يلي مع ذكر السبب .
- أ- الالفة الالكترونية .
- ب- ازدياد الكهرسلبية .
- ج- ازدياد انصاف الاقطار الذرية .
- د- ازدياد طاقة التاين .
- 10-3 علل
- أ- لا توجد حاجة في القديم لتصنيف العناصر في جدول دوري .
- ب- لم يستمر طويلاً تقسيم العناصر الى فلزات ولا فلزات .
- ج- ارتفاع طاقة تاين  $Cl_{17}$  مقارنة بجهد تاين  $Mg_{12}$  .
- د- تنطلق طاقة عند اكتساب الالكترين الاول لكن كثير ما تمتص بعض الطاقة عند اكتساب الالكترين الثاني .
- هـ- طاقة تاين الفلور اكبر من طاقة تاين الاوكسجين .
- 11-3 كيف يمكن الحصول على طيف للعنصر وهل يظهر طيف العنصر عندما تمتص طاقة او عندما يبعث طاقة .
- 12-3 ماهو العدد التناسقي للذرة المركزية وشحنة الايون المعقد لكل مما يأتي:
- أ - سداسي سيانو حديدات  $[Fe(CN)_6]^{4-}$  (III) .
- ب - رباعي امونيا النحاس  $[Cu(NH_3)_4]^{2+}$  (II) .
- ج - رباعي كلورو النيكل  $[NiCl_4]^{2-}$  (II) .
- 13-3 اذكر طرق استخلاص الحديد صناعياً؟ ايهما افضل ولماذا؟
- 14-3 عرف كلاً مما يأتي :
- 1 - العنصر الانتقالي
- 2 - مجموعة عناصر d
- 3 - العدد التناسقي
- 4 - الليكند





## الفصل الرابع

# 4

## Solutions

## المحاليل

بعد الانتهاء من دراسة هذا الفصل يتوقع من الطالب أن :-

- يتعرف على المحاليل ويفهم معنى الذوبان والعوامل المؤثرة فيه.
- يتعرف على انواع المحاليل وبعض طرائق تصنيفها ويميز بين المحاليل المشبعة والمحاليل غير المشبعة والمحاليل فوق المشبعة.
- يتعرف على بعض طرائق التعبير عن تراكيز المحاليل.
- يميز بين المحاليل الحقيقية والعوالق و الأنظمة الغروية .
- يميز بين المحاليل المثالية وغير المثالية(الحقيقية) ويعرف قانون راؤولت.
- يدرك سبب تأثير وجود المذاب على بعض صفات المذيب .
- يستوعب مفهوم الصفات الجمعية للمحلول والعلاقات الكمية لتراكيز المذاب وهذه الصفات.

يعرف المحلول بشكل عام على انه مزيج متجانس للمواد يتألف من مذيب (Solvent) ومذاب (Solute) واحد أو أكثر تكون نسب المزج بينها مختلفة من محلول إلى آخر. وتعتبر المادة الأكبر كمية في المزيج هي المذيب و الأقل كمية هي المذاب.

يشمل مصطلح المحاليل أنواع مختلفة من المخاليط والتي فيها تسلك مواد صلبة أو سائلة أو غازية أما سلوك مذيب أو سلوك مذاب. ولكن عادة ما يكون المذيب سائلا مثل الماء والكحول والبنزين و الايثر و الكلوروفورم و رابع كلوريد الكربون والاسيتون و... الخ. فعلى سبيل المثال يحتوي ماء البحر على عدد من المواد الذائبة اضافة لمواد اخرى عالقة فيه. أما الماء المشبع بغاز ثنائي اوكسيد الكربون فهو مثال لمحلول غاز مذاب في سائل. كما يحتوي الدم على محلول (البلازما) مع مواد عالقة هي خلايا الدم. ومن ناحية أخرى هناك محاليل لا تشكل السوائل فيها المذيب، فحشوة الأسنان التي يحضرها الطبيب هي مثال لملمغ صلب أو بمعنى آخر لمحلول يشكل فيه الزئبق السائل مادة مذابة في الطور الصلب الفلزي مثل الخارصين، بينما تعتبر السبائك المعدنية مثالا للمحاليل الصلبة. يعتبر الهواء الجوي احد المحاليل للغازات الموجودة في الطبيعة يشكل فيه غاز الاوكسجين (إضافة الى الغازات الأخرى) مذابا بينما يكون المذيب هو غار النتروجين ويوضح الجدول (1-4) انواعا مختلفة من المحاليل وبعض الامثلة لكل نوع منها.

## هل تعلم

ان التغير في تراكيز سوائل الجسم خصوصاً الدم والادرار يساعد الاطباء في تحديد صحة الانسان.

| الجدول (1-4) انواع المحاليل وبعض الامثلة لكل نوع منها |             |             |                          |
|---|-------------|-------------|--------------------------|
| حالة المحلول  | حالة المذاب | حالة المذيب | امثلة                    |
| سائل  | غاز         | سائل        | الاوكسجين في الماء       |
|   | سائل        | سائل        | الايثانول في الماء       |
|   | صلب         | سائل        | السكر في الماء           |
| غاز   | غاز         | غاز         | الاوكسجين في الهواء      |
|   | سائل        | غاز         | قطيرات الماء في الجو     |
|   | صلب         | غاز         | حببيبات الغبار في الهواء |
| صلب   | غاز         | صلب         | الهيدروجين في البلاطين   |
|   | سائل        | صلب         | الزئبق في الخارصين       |
|   | صلب         | صلب         | السبائك                  |

تعتمد سرعة وسهولة عملية ذوبان أي مذاب في مذيب معين على عاملين مهمين: اولهما التغير الحاصل في درجة حرارة المزيج الناتج (المحلول) و ثانيهما مدى انتشار المذاب (على شكل ايونات اوجزيئات) بين جزيئات المذيب، المصاحبة لعملية الذوبان. ولذلك يمكن القول من ان عملية الذوبان تتم بسهولة اكبر:

1. اذا صاحب عملية الذوبان زيادة في درجة حرارة المحلول الناتج (سخونة المحلول).

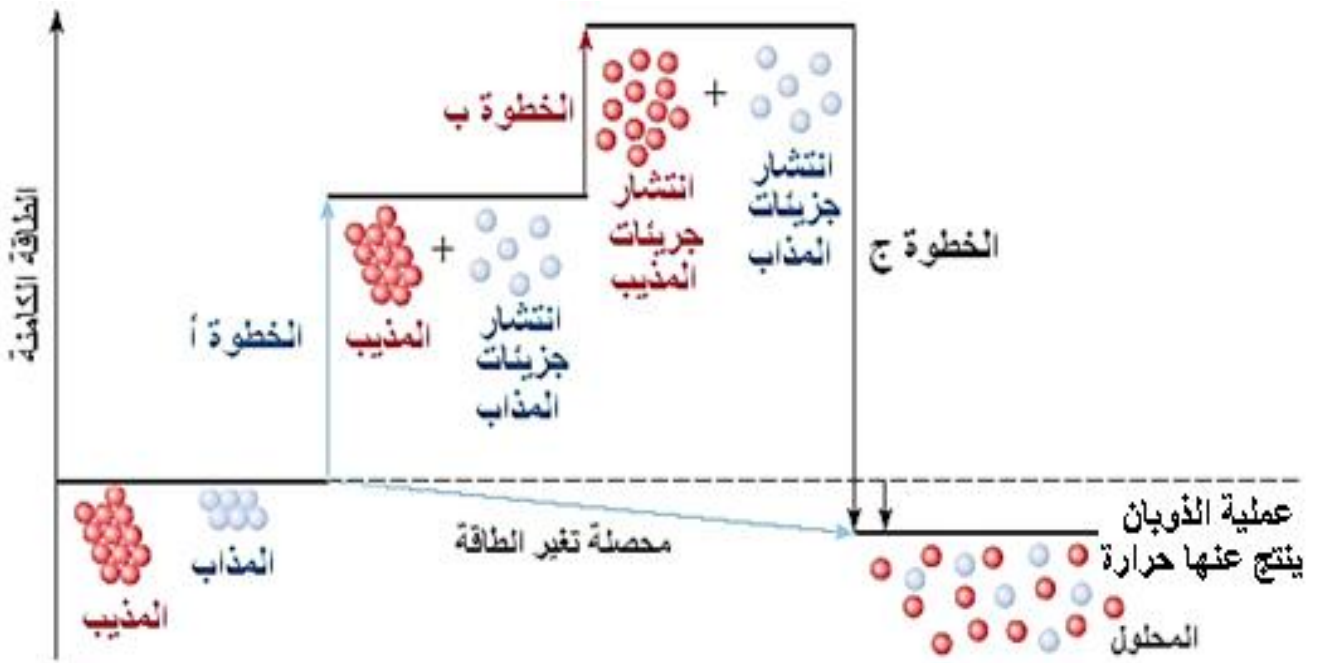
2. اذا كان انتشار مكونات المذاب في المذيب بشكل واسع وتام. يدعى التغير في الطاقة المصاحبة لعملية الذوبان بحرارة المحلول، حيث تعتمد الزيادة الحاصلة (أو النقصان الحاصل) في درجة حرارة المحلول في اثناء عملية الذوبان بشكل أساس على قوى التآثر (تجاذب أو تنافر) بين جزيئات المذاب وجزيئات المذيب. فعند مزج مذيب مع مذاب لتحضير محلول، فان كل جزيئة من جزيئات المذيب سوف تتاثر مع جزيئات المذيب الاخرى المحيطة بها، إضافة لتاثرها بجزيئات المذاب ويمكن قول الشيء نفسه بالنسبة لجزيئات المذاب. ومقدار قوة التاثرات هذه هي التي تحدد مقدار الذوبانية والسهولة التي تتم بها عملية الذوبان، ويمكن القول ان سهولة عملية الذوبان تحدد بالشروط الاتية:

1. تأثر ضعيف بين جزيئات المذاب فيما بينها،

2. تأثر ضعيف بين جزيئات المذيب فيما بينها،

3. تأثر كبير بين جزيئات المذاب مع جزيئات المذيب.

يظهر الشكل (1-4) التغير في الطاقة الذي يصاحب كل خطوة في عملية الذوبان. فلكي تحصل عملية الذوبان يجب التغلب على قوى التجاذب بين جزيئات المذاب (الخطوة أ) ويصاحب هذه الخطوة امتصاص حرارة. أما (الخطوة ب) فتمثل عملية فصل وإبعاد جزيئات المذيب بعضها عن البعض الآخر لتكون جاهزة لاستقبال جزيئات المذاب وهي خطوة تحتاج أيضا إلى امتصاص حرارة، ولكن تنبعث طاقة حرارية نتيجة للتأثر بين جزيئات المذاب وجزيئات المذيب (الخطوة ج) وبذلك ينتج عن عملية الذوبان في هذه الحالة حرارة ويكون المحلول بعد تحضيره ساخنا. ومن ناحية أخرى يصاحب ذوبان عدد من المواد الصلبة في مذيبات سائلة امتصاص حرارة (برودة المحلول الناتج) ويمكن تفسير ذلك بسبب حصول انتشار واسع وتام لمكونات المذاب بين جزيئات المذيب أثناء عملية الذوبان وتصبح حرة



الشكل 1-4

التغير في محتوى طاقة النظام المصاحب للخطوات التي تتضمنها عملية الذوبان.

الحركة وبشكل عشوائي في المحلول بعد ان كانت مقيدة الحركة وهي في حالتها الصلبة. وكذلك تزداد حرية حركة جزيئات المذيب لأنها تصبح في بيئة تحوي مكونات المذاب والتي تحيط بكل جزيئة منها مزيج من جزيئات المذاب والمذيب [الشكل (2-4)].

### 3-4 انواع وخواص المحاليل

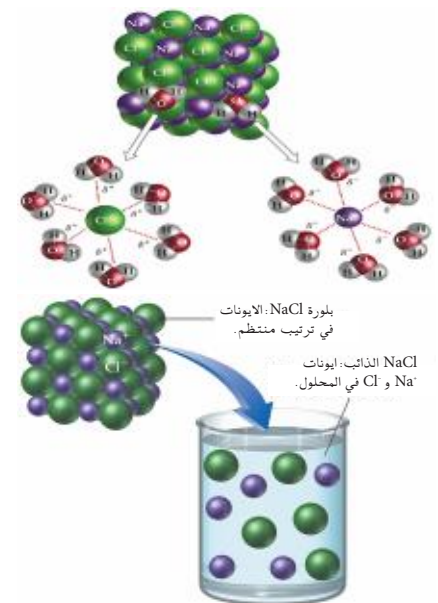
يمكن تصنيف المحاليل التي يكون المذيب فيها سائلا بعدة طرائق اعتمادا على التركيز أو نوع المذيب أو نوع المذيب الذي يشكل المحلول وكما يأتي:

#### 1-3-4 المحاليل المخففة والمحاليل المركزة

يعتمد هذا التصنيف فقط على الاختلاف في كمية المذاب الموجودة في المحلول أي على الكتل النسبية من المذاب والمذيب، لذا يعتبر تعبيرا وصفيا لكميات المذاب والمذيب، فالمحلول الذي يحوي كمية اكبر من المذاب يدعى او يوصف بأنه محلول مركز بينما يدعى ذلك المحلول الذي يحتوي على كمية قليلة من المذاب بالمحلول المخفف.

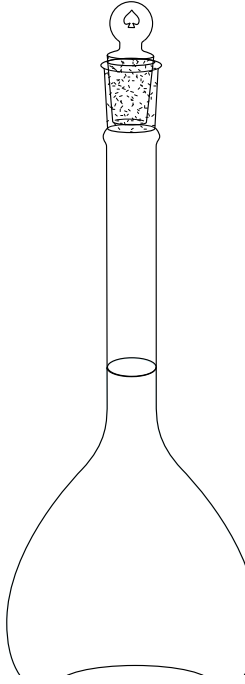
#### 2-3-4 التعبير عن التركيز

يستخدم الكيميائيون مصطلح التركيز للإشارة الى كمية المذاب في كمية من المذيب، ويعبر عن تركيز المحلول كما هو معلوم بكمية المذاب في وزن او حجم معين من المذيب، وهناك طرائق كثيرة للتعبير عن تراكيز المحاليل وهذه تكون بطريقتين:



الشكل 2-4

محلول كلوريد الصوديوم (مذاب) في الماء (مذيب).



الشكل 3-4

النسبة المئوية الكتلية للتعبير عن تركيز المحلول .

#### تمرين 1-4

ماكتلة كلوريد البوتاسيوم اللازمة لتحضير 250 g من محلول تركيزه 5% بالكتلة؟

#### تمرين 2-4

كم غراما من حامض الكبريتيك ( $H_2SO_4$ ) يحويها لتر واحد من المحلول المائي لهذا الحامض اذا كانت النسبة المئوية للحامض فيه هي 34% وكثافة المحلول تساوي 1.24 g/mL ؟ ( ملاحظة: تعرف كثافة المحلول بأنها النسبة بين الكتلة الى الحجم).

أولاً. التعبير عن التركيز بدلالة كتلة المذاب في كتلة المذيب (الكتلة في الكتلة) او كمية المذاب في كمية المذيب (الكمية في الكمية)، واهم هذه التعبيرات هي:

#### 1. النسبة المئوية الكتلية للمذاب

انظر الشكل (3-4)، ماذا تعني النسبة المئوية المكتوبة على الزجاج؟

تشير النسبة المئوية (20%) الى تركيز محلول هيدروكسيد الصوديوم، إذ يحتوي كل 100 g من المحلول على 20 g من هيدروكسيد الصوديوم والباقي 80 g ماء. ويمكن تحضير محلول بالتركيز نفسه إذا أذنا 2 g من هيدروكسيد الصوديوم في 18 g ماء. ويمكن تعريف النسبة المئوية الكتلية للمذاب على انها عدد غرامات المذاب في 100 g من المحلول ، والعلاقة الرياضية لحساب النسبة المئوية الكتلية للمذاب في محلول هي:

$$\text{النسبة المئوية (\%)} = \frac{\text{كتلة المذاب (g)}}{\text{كتلة المذيب (g) + كتلة المذاب (g)}} \times 100\%$$

$$\% = \frac{m_2 (g)}{(m_1 + m_2) (g)} \times 100\%$$

حيث ان  $m_1$  تمثل كتلة المذيب وان  $m_2$  هي كتلة المذاب.

#### مثال 4 - 1 :

احسب النسبة المئوية الكتلية لهيدروكسيد الصوديوم في محلول تم تحضيره بإذابة 8 g من NaOH في 50 g ماء.

#### الحل :

$$\% \text{ NaOH} = \frac{m_{\text{NaOH}}}{m_{\text{NaOH}} + m_{\text{H}_2\text{O}}} \times 100\%$$

$$\% \text{ NaOH} = \frac{8 \text{ g}}{8 \text{ g} + 50 \text{ g}} \times 100\%$$

$$\% \text{ NaOH} = 13.8 \%$$

## 2. التركيز المولالي \*m (Molality):

المولالية هي عدد مولات المذاب التي يحتويها كيلوغرام واحد من المذيب. فاذا اذيب مول واحد من السكر في كغم واحد من الماء المقطر تحصل على محلول تركيزه (1mol/kg) أو واحد مولالي 1m وتعرف المولالية بالعلاقة الرياضية الآتية :

$$\text{المولالية (m) (مول \text{كغم})} = \frac{\text{عدد مولات المذاب (مول)}}{\text{كتلة المذيب (كغم)}}$$
$$m \text{ (mol/kg)} = \frac{n \text{ (mol)}}{m \text{ (kg)}}$$

وهذه الطريقة للتعبير عن التركيز مفيدة إذ يشير هذا التعبير الى النسبة بين عدد دقائق المذاب (أي عدد مولاته) الى دقائق المذيب (أي كتلته) في المحلول، وبذلك لا يتأثر تركيز المحلول المعبر عنه بالمولالية بتغير درجة الحرارة. ويعبر عن عدد المولات، كما تعلمنا سابقاً، بالصورة الآتية:

$$n \text{ (mol)} = \frac{m \text{ (g)}}{M \text{ (g/mol)}}$$

حيث m هي الكتلة المذاب بالغمات و M هي الكتلة المولية للمذاب.

### مثال 4 - 2 :

احسب مولالية المحلول المحضر بإذابة 36 g من سكر الكلوكوز الكتلة المولية = 180 g/mol في 360 g من الماء المقطر.

### الحل :

نحسب عدد مولات المذاب (سكر الكلوكوز)

$$n \text{ (mol)} = \frac{m \text{ (g)}}{M \text{ (g/mol)}} = \frac{36 \text{ (g)}}{180 \text{ (g/mol)}} = 0.2 \text{ mol}$$

نغير كتلة المذيب الى وحدة (kg)

$$m = m \text{ (g)} \times \frac{1 \text{ (kg)}}{1000 \text{ (g)}} = 360 \text{ g} \times \frac{1 \text{ (kg)}}{1000 \text{ (g)}} = 0.36 \text{ kg}$$

نحسب مولالية المحلول من العلاقة

$$m \text{ (mol/kg)} = \frac{n \text{ (mol)}}{m \text{ (kg)}} = \frac{0.2 \text{ mol}}{0.36 \text{ kg}} = 0.556 \text{ mol/kg} = 0.556 \text{ m}$$

\* على الطالب التمييز بين رمز الكتلة (m) والرمز المستخدم للتعبير عن التركيز المولالي (m).

### تمرين 3-4

أذيب  $6.2 \times 10^2 \text{g}$  من الاثيلين كلايكلول ( $\text{C}_2\text{H}_6\text{O}_2$ ) يستعمل كمانع انجماد في راديتور السيارات في 4 kg من الماء المقطر. احسب تركيز محلول الاثيلين كلايكلول معبرا عنه بالتركيز المولالي.

### 3. الكسر المولي x ( Mole Fraction ) :

تعتمد بعض خواص المحاليل على الكميات النسبية لجميع مكونات المحلول معبرا عنها بدلالة عدد المولات ( الكسر المولي )، وهي بالتالي طريقة للتعبير عن مكونات المحلول. ولمحلول مكون من مكونين اثنين مذاب ( A ) و مذيب (B)، يعرف الكسر المولي للمكون (A)، بأنه النسبة بين عدد مولات هذا المكون  $n_A$  الى عدد المولات الكلية لجميع مكونات المحلول  $(n_A + n_B)$  وهو بذلك يكون عديم الوحدات، ويمكن التعبير عنه كما يأتي:

$$X_A = \frac{n_A}{n_A + n_B}$$

وعليه فالكسر المولي للمذيب  $(X_B)$  هو النسبة بين عدد مولات المذيب  $n_B$  الى عدد المولات الكلية للمحلول  $(n_A + n_B)$ .

$$X_B = \frac{n_B}{n_A + n_B}$$

ويكون دائما مجموع الكسور المولية لمكونات المحلول مساوياً الواحد الصحيح كما هو موضح في ادناه:

$$\frac{n_A}{n_A + n_B} + \frac{n_B}{n_A + n_B} = 1 \quad \Rightarrow \quad (X_A + X_B = 1)$$

#### مثال 4 - 3 :

حضر محلول السكر  $C_{12}H_{22}O_{11}$  ( الكتلة المولية = 342 g/mol ) وذلك بإذابة 34.2 g منه في 180 g من الماء المقطر (الكتلة المولية للماء = 18 g/mol). عبر عن تركيز السكر و الماء في المحلول بدلالة الكسر المولي لكل منهما.

#### الحل :

نحسب عدد مولات كل من السكر و الماء من العلاقة :

$$n \text{ (mol)} = \frac{m \text{ (g)}}{M \text{ (g/mol)}}$$

$$n_{C_{12}H_{22}O_{11}} = \frac{34.2 \text{ (g)}}{342 \text{ (g/mol)}} = 0.1 \text{ mol}$$

$$n_{H_2O} = \frac{180 \text{ (g)}}{18 \text{ (g/mol)}} = 10 \text{ mol}$$

$$X_{C_{12}H_{22}O_{11}} = \frac{n_{C_{12}H_{22}O_{11}}}{n_{C_{12}H_{22}O_{11}} + n_{H_2O}} = \frac{0.1 \text{ mol}}{0.1 \text{ mol} + 10 \text{ mol}} = 0.01$$

$$X_{H_2O} = \frac{10 \text{ mol}}{0.1 \text{ mol} + 10 \text{ mol}} = 0.99$$

وبنفس الطريقة

#### تمرين 4-4

حضر محلول من هيدروكسيد الصوديوم بإذابة 4 g من القاعدة الصلبة في 16.2 g من الماء المقطر. احسب الكسر المولي لمكونات المحلول.

#### تمرين 5-4

احسب الكسر المولي للماء في مزيج مكون من 9.0 g من ماء و 120 g من حامض الخليك  $(CH_3COOH)$ .

**ثانياً.** التعبير عن التركيز بدلالة كتلة المذاب في حجم المذيب (الكتلة في الحجم) او كمية المذاب في حجم المذيب (الكمية في الحجم)، واهم هذه التعابير هي :

**التركيز المولاري \*M (Molarity):**

يدل المول على كمية المادة، وفي كثير من الاحيان تكون هناك حاجة للتعامل مع المادة وهي مذابة بصورة محلول، لذا يكون من المناسب استعمال التركيز المولاري (المولارية) لمعرفة عدد المولات المذابة من المادة في حجم معين من المحلول. والمولارية هي عدد مولات المذاب التي يحتويها لتر واحد من المحلول، اي

$$\text{المولارية (M)} = \frac{\text{عدد مولات المذاب (مول)}}{\text{حجم المحلول (لتر)}}$$

$$M = \frac{n \text{ (mol)}}{V \text{ (L)}}$$

وعليه فإن وحدة المولارية هي (مول\لتر) (mol/L). فمثلاً إذا اذيب مول واحد (62 g) من الايثيلين كليكول (C<sub>2</sub>H<sub>6</sub>O<sub>2</sub>) في كمية كافية من الماء المقطر للحصول على لتر واحد من المحلول، فان تركيز المحلول الناتج يساوي 1mol/L أو يكتب بشكل ابسط 1M.

#### مثال 4 - 4 :

احسب التركيز المولاري لمحلول تم تحضيره بإذابة 2.3 g من الايثانول (C<sub>2</sub>H<sub>6</sub>O) (الكتلة المولية = 46 g/mol) في 3.5 L من الماء المقطر .

#### الحل :

نحسب عدد مولات الايثانول

$$n_{\text{C}_2\text{H}_6\text{O}} = \frac{m \text{ (g)}}{m \text{ (g/mol)}} = \frac{2.3 \text{ (g)}}{46 \text{ (g/mol)}} = 0.05 \text{ mol}$$

وعليه يمكن حساب مولاريتته على الصورة الآتية:

$$M = \frac{n \text{ (mol)}}{V \text{ (L)}} = \frac{0.05 \text{ mol}}{3.5 \text{ L}} = 0.015 \text{ mole/L} = 0.015 \text{ M}$$

وبشكل عام يمكن تحضير محول لأية مادة بطريقتين، الاولى هي كما سبق وان وضحت في الامثلة السابقة وذلك باذابة وزن معلوم من المادة المذابة الصلبة او السائلة في وزن معلوم من المذيب او الثانية باذابة وزن معلوم من المذاب في حجم معين من المحلول.

\*على الطالب التمييز بين رمز الكتلة المولية M والرمز المستخدم للتعبير عن التركيز المولاري M.

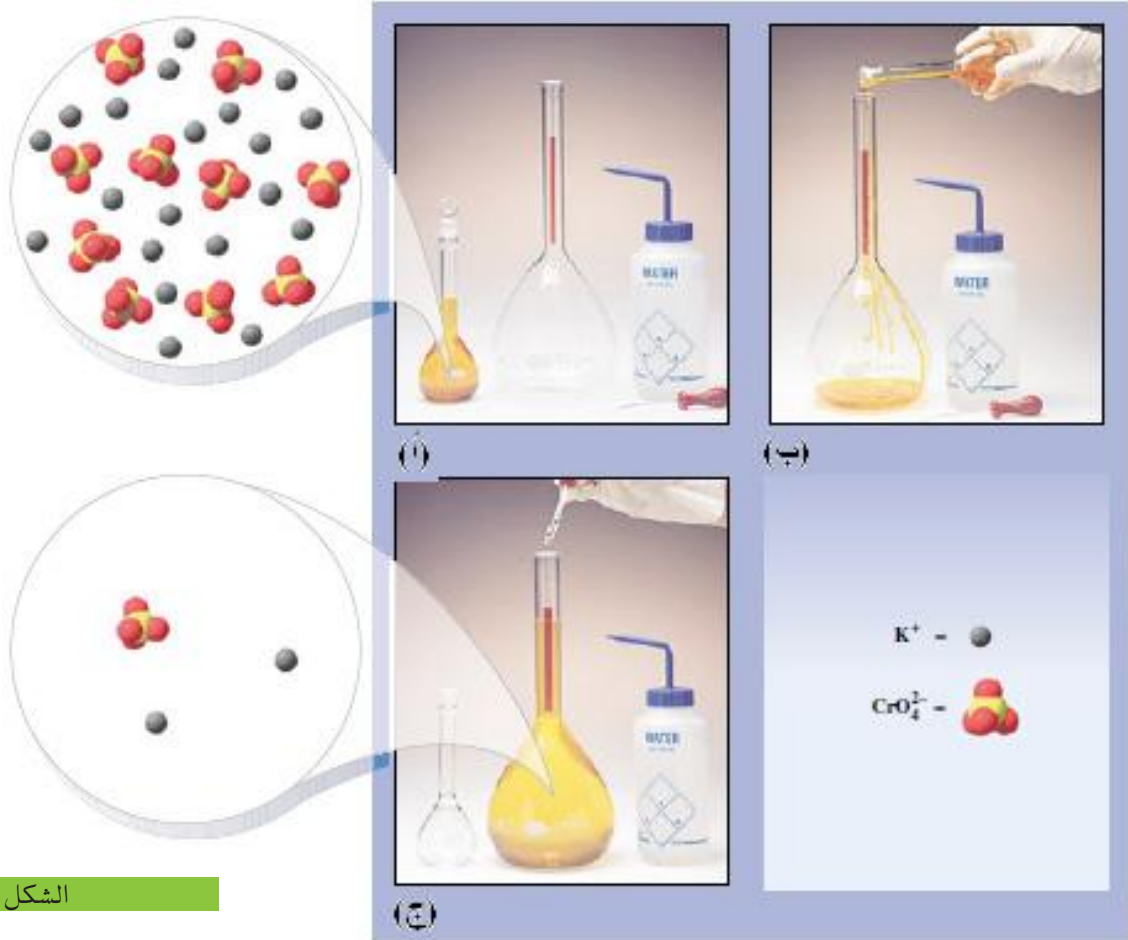
#### تمرين 6-4

ما التركيز المولاري لمحلول كلوريد الصوديوم NaCl حضر بإذابة 4.39 g من الملح في الماء المقطر للحصول على محلول بحجم مقداره 250 mL ؟



محلول حجمه 2 L وتركيزه 1.5 M من  $\text{Na}_2\text{CO}_3$ ، فكم غراماً من كربونات الصوديوم يلزمك لتحضير هذا المحلول؟

نحتاج في احيان كثيرة تحضير محلول مخفف (واطئ التركيز) من محلول مركز (عالي التركيز)، فعند تخفيف المحلول ( وذلك بإضافة كمية من المذيب اليه) يزداد حجمه ويقل تركيز المادة المذابة فيه (يقل تركيزه)، ولكن تبقى كمية المادة المذابة فيه ثابتة أي ان عدد مولات المذاب لا يتغير [الشكل (4-4)] وهذا يعني :



الشكل 4-4

تخفيف محلول :

(أ) دورق حجمي سعة 100 mL ممتلئ بمحلول 0.10 M كرومات البوتاسيوم،  
 (ب) تم تحويل المحلول بشكل تام إلى دورق حجمي سعة 1L .  
 (ج) تم إضافة ماء مقطر لحين بلوغ الحجم النهائي للدورق (1L). أصبح تركيز المحلول الجديد 0.01 M وحجمه 1L ويحتوي على نفس كمية  $\text{K}_2\text{CrO}_4$  التي كان يحتويها المحلول الاصلي قبل التخفيف.

عدد مولات المذاب قبل التخفيف = عدد مولات المذاب بعد التخفيف

و بالرجوع الى العلاقة العامة للتعبير عن التركيز المولاري يمكن القول ان :

عدد مولات المذاب (n) = حجم المحلول (V) (لتر) × التركيز (M) (مول/لتر)

فإذا رمزنا لحجم المحلول وتركيزه قبل التخفيف بـ  $(V_1)$  و  $(M_1)$  على التوالي، ولحجمه وتركيزه بعد التخفيف بـ  $(V_2)$  و  $(M_2)$  فان:

$$V_1 \times M_1 = V_2 \times M_2$$

#### مثال 4 - 5 :

احسب التركيز المولاري لهيدروكسيد الصوديوم في محلول تم تحضيره بإضافة 150 mL من الماء المقطر إلى 100 mL من محلول NaOH ذي تركيز 0.2 M.

#### الحل :

$$V_1 = 100 \text{ mL} \text{ و } M_1 = 0.2 \text{ M}$$

$$V_2 = 100 \text{ mL} + 150 \text{ mL} = 250 \text{ mL}$$

$$M_2 = ?$$

$$V_1 \times M_1 = V_2 \times M_2$$

$$M_2 = \frac{V_1 \times M_1}{V_2} = \frac{100 \text{ mL} \times 0.2 \text{ mol/L}}{250 \text{ mL}} = 0.08 \text{ mol/L} = 0.08 \text{ M}$$

#### 4-3-4 المحاليل المائية والمحاليل غير المائية

يدعى المحلول الذي يكون الماء فيه مذيباً بالمحلول المائي (Aqueous solution)، مثل محلول السكر في الماء ومحلول كلوريد الصوديوم في الماء بينما يدعى المحلول الذي يكون فيه سائلاً آخر عدا الماء مذيباً بالمحلول غير المائي (Non aqueous solution)، مثل محلول الكبريت في ثنائي كبريتيد الكربون و محلول النفتالين في البنزين.

#### 4-3-5 المحاليل المشبعة والمحاليل غير المشبعة

يدعى المحلول الذي لا يمكن إذابة كمية إضافية من المذاب فيه، عند درجة حرارة معينة، بالمحلول المشبع، [الشكل (4-5 أ)] أما المحلول الذي يمكن إذابة كمية أكبر من المذاب فيه، عند درجة حرارة معينة، فيدعى بالمحلول غير المشبع [الشكل (4-5 ب)]. و يجب هنا ملاحظة أن المحلول المشبع عند درجة حرارة معينة يمكن أن يصبح محلولاً غير مشبع إذا ازدادت درجة الحرارة (على اعتبار أن ذوبانية معظم المواد تزداد بزيادة درجة الحرارة) والعكس صحيح.



الشكل 4-5

- أ - المحلول المشبع.
- ب - المحلول غير المشبع.
- ج - المحلول فوق الاشباع.

#### تمرين 4-8

ما حجم الماء المقطر اللازم اضافته الى 250 mL من 0.5 M محلول كلوريد الباريوم للحصول على محلول هذا الملح بتركيز 0.25 M ؟

#### تمرين 4-9

احسب حجم محلول حامض الكبريتيك المركز 18 M اللازم لتحضير محلول مخفف للحامض حجمه 250 mL وتركيزه 1.8 M .

وهناك حالة يمكن أن يصل إليها المحلول تدعى حالة فوق الإشباع ويدعى المحلول لذلك بالمحلول فوق المشبع [الشكل (4-5 ج)] والذي يمكن أن يعرف على أنه ذلك المحلول الذي يحتوي على كمية إضافية من المذاب عن تلك المحسوبة عند حالة الاتزان (حالة الإشباع) في درجة حرارية معينة. وحالة فوق الإشباع التي قد يصل إليها المحلول هي حالة غير مستقرة يحاول المحلول فيها الوصول إلى حالة الاستقرار (الإشباع) ويمكن المساعدة في ذلك عن طريق إضافة بلورة من المذاب أو أي مادة صلبة أخرى أو عن طريق تحريك المحلول.

#### 6-3-4 الذوبانية Solubility

تعرف قابلية الذوبان (الذوبانية) للمادة على أنها أكبر كمية من المادة ( عدد غرامات او عدد مولات ... الخ ) التي يمكن أن تذوب في كمية معينة (حجم أو كتلة) من المذيب أو المحلول عند درجة حرارة وضغط محددين . ولذلك غالبا ما تعرف ذوبانية مادة مذابة في مذيب معين عند أي درجة حرارة على أنها عدد غرامات المذاب التي يمكن أن تذوب للوصول إلى حالة الإشباع في 100 g من المذيب.

#### 7-3-4 العوامل التي تؤثر على الذوبانية

هناك عدد من العوامل المؤثرة في الذوبانية وهي:

##### 1. درجة الحرارة

غالبا ما يؤدي زيادة درجة الحرارة إلى زيادة الذوبانية والعكس صحيح، ولكن ليس من الضروري أن تنطبق هذه القاعدة بشكل عام. ولهذا السبب يجب إتباع ما يأتي: إذا ادت عملية ذوبان المذاب في مذيب معين الى انخفاض درجة حرارة المحلول الناتج (برودة المحلول الناتج)، فإن معدل سرعة ذوبان المذاب تزداد بزيادة درجة الحرارة ومثال ذلك هو أن ذوبانية ملح نترات البوتاسيوم تزداد بزيادة درجة الحرارة، أما إذا ادت عملية ذوبان المذاب في مذيب معين الى ارتفاع درجة حرارة المحلول الناتج (سخونة المحلول الناتج) فالذوبانية سوف تقل بزيادة درجة الحرارة مثل عملية ذوبان اوكسيد الكالسيوم في الماء. وبشكل عام تكون ذوبانية الغازات اكبر في المذيبات الباردة من ذوبانيتها في المذيبات الساخنة.

##### 2. طبيعة المذاب وطبيعة المذيب

تعتمد قابلية الذوبان بشكل رئيسي على طبيعة كل من المذاب والمذيب وهناك قاعدة عامة للإذابة هي (الشبيه يذيب الشبيه: like dissolves like) فالمذاب المستقطب يذوب في مذيب مستقطب (مثل ذوبان كلوريد البوتاسيوم في الماء)، بينما المذاب غير المستقطب يذوب في مذيب غير مستقطب (مثل ذوبان اليود في رباعي كلوريد الكربون).

### 3. الضغط:

ليس لتغير الضغط تأثير ملحوظ على ذوبانية المواد الصلبة أو السائلة ولكن من ناحية أخرى تؤدي زيادة الضغط إلى زيادة ذوبانية الغازات.

#### 8-3-4 العوامل التي تزيد من سرعة عملية الذوبان

هناك عدد من العوامل المؤثرة في سرعة ذوبان المادة (ولكنها لا تؤثر في الذوبانية) وهي:

##### 1. حجم دقائق المذاب

عند ذوبان المذاب فإن عملية الذوبان تحصل للسطح الخارجي لكل دقيقة من دقائق المذاب والتي هي بحالة تماس مع المحلول. لذلك فإن زيادة المساحة السطحية الكلية لدقائق الراسب (مساحة التماس مع المحلول) سوف تؤدي إلى زيادة سرعة الذوبان. إن طحن دقائق المذاب وجعلها بحجم أصغر يزيد من المساحة السطحية الكلية لهذه الدقائق مما يؤدي إلى زيادة معدل سرعة الذوبان.

##### 2. التحريك والرج

تؤدي عملية التحريك أو الرج إلى تعريض سطح دقائق المذاب إلى دفعات جديدة من المذيب بشكل مستمر وهذا يؤدي إلى زيادة معدل سرعة الذوبان.

##### 3. درجة الحرارة

يؤدي ارتفاع درجة الحرارة بالإضافة إلى زيادة قابلية ذوبان المواد الصلبة و السائلة، التي سبق شرحها، إلى زيادة سرعة الذوبان لأنها تؤدي إلى زيادة في حركة مكونات المحلول من خلال زيادة طاقتها الحركية وإحداث تيارات الحمل الحراري فيها وبذلك يكون لها نفس تأثير عملية التحريك الميكانيكية. ومن ناحية أخرى يكون تأثير زيادة درجة الحرارة معاكساً على قابلية وسرعة ذوبان الغازات. فزيادة درجة الحرارة تزيد من الطاقة الحركية لجزيئات الغاز مما يؤدي إلى التغلب على قوى الترابط البينية التي تربط جزيئات الغاز بمكونات المحلول وبذلك تستطيع الهروب من المحلول.

#### 9-3-4 المحاليل الحقيقية والعوالق و الأنظمة الغروية


##### 1. المحلول الحقيقي:

هو محلول متجانس يكون فيه لدقائق المذاب حجوم تتراوح بين (0.1 - 1.0 nm) ( $1.0 \text{ nm} = 10^{-9} \text{ m}$ ) وهذا يعني بحجوم جزيئية، لذلك فذوبانها في المحلول يكون نظاماً متجانساً ولا تنفصل عن المحلول ولا يمكن رؤيتها حتى بأقوى أنواع المجاهر أو فصلها عن المحلول بالترشيح مثل محلول كلوريد الصوديوم في الماء أو محلول السكر في الماء.

#### هل تعلم

إن زيادة درجة حرارة المياه تقلل من ذوبانية الغازات مثل  $\text{CO}_2$  و  $\text{O}_2$  ويؤدي نقصان ذوبان  $\text{O}_2$  ومن ثم استنزافه في الماء إلى موت الكائنات الحية، وهذا يسمى بالتلوث الحراري (Thermal Pollution).

## 2. الأنظمة الغروية



الشكل 4-6

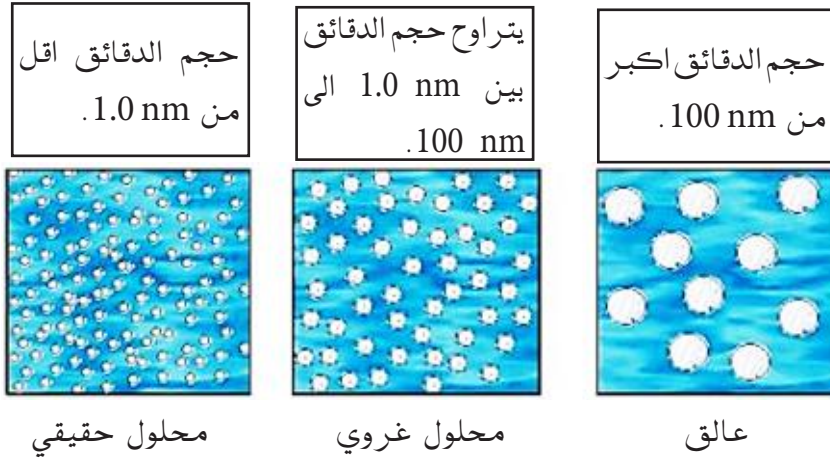
يُمكننا رؤية حزمة الضوء الساقط على المحلول الغروي من زاوية عمودية نسبة لاتجاه سير الأشعة بسبب انعكاسها من على سطح الدقائق العالقة في المحلول.

وتدعى أيضا بالمحاليل الغروية أو الحالة الغروية أو الانتشار الغروي وهي حالة بين المحاليل الحقيقية و العوالق يتراوح حجم دقائق المذاب فيها بين (100 nm - 1.0) ولذلك فهي تشكل نظام غير متجانس ذو طورين (صلب و سائل) لا تنفصل فيه دقائق المذاب بالتركيد ولكن يبدو للعين المجردة أو باستعمال المجهر العادي كالمحلول الحقيقي ولا يمكن فصل المذاب بالترشيح وامثلة هذا النوع هي الحليب والدم. ومع ذلك فإذا سلطت حزمة ضوئية شديدة الإضاءة على المحلول ثم تم النظر إليه من زاوية عامودية نسبة لاتجاه الضوء الساقط، أمكن رؤية الضوء المشتت من قبل المحلول وتدعى هذه الظاهرة بـ "تأثير تندل" وهي مميزة للمحاليل الغروية [الشكل (4-6)].

## 3. العوالق

هي عبارة عن جسيمات صلبة عالقة في وسط سائل ولذلك فهي أنظمة مكونة من طورين مميزين (صلب و سائل) يكون حجم دقائق المذاب فيها اكبر من (100 nm). وقد تكون دقائق المذاب في هذه الأنظمة غير مرئية للعيان ولكن رؤيتها بالمجهر وهي لذلك تشكل نظاما غير متجانس وغير مستقر (أي انها حالة وقتية) وذلك لقابلية دقائق المذاب لان تركد بفعل الجاذبية ويمكن فصلها بسهولة بالترشيح، مثل عالق كلوريد الصوديوم في البنزين وعالق الرمل في الماء. والشكل (4-7) والجدول (4-2) يبينان العلاقة بين خواص المحاليل وقطر حبيبات المذاب فيها.

| الجدول (4-2) العلاقة بين المحاليل وقطر دقائق المذاب   |                       |                   |
|---|-----------------------|-------------------|
| الخصائص   | قطر الدقيقة (الحبيبة) | الخليط            |
| تمر دقائق المذاب من خلال المرشح الدقيق، ولا يمكن تمييزها بالمجهر ولها قدرة عالية على الانتشار.  | اصغر من 1.0 nm        | المحاليل الحقيقية |
| تمر دقائق المذاب من خلال اوراق الترشيح الاعتيادية ولكنها لاتمر من خلال المرشحات الدقيقة ويمكن التعرف عليها بواسطة المجهر الدقيق ولها قدرة ضعيفة على الانتشار. | يتراوح بين 1.0-100 nm | الغرويات          |
| لا تمر حبيبات العوالق من خلال مسامات اوراق الترشيح الاعتيادية وليس لها قدرة على الانتشار ويمكن رؤيتها بالمجهر الاعتيادي واحيانا بالعين المجردة.               | اكبر من 100 nm        | العوالق           |



الشكل 7-4

مقارنة حجم دقائق المذاب في المحاليل المختلفة.

#### 4-4 قانون راؤولت Raoult's law

لمحلول يحتوي على مكونين متشابهين في الخواص مثل مزيج التولوين والبنزين او مزيج الهبتان و الاوكتان، يسلك كل مكون سلوكا كما لو كان نقياً. يقترب هذا النوع من المحاليل الى السلوك المثالي ويسمى محلولاً مثالياً. وفي حالة كون المحلول المثالي يحتوي على مكونين A و B متطايرين ، ينص قانون راؤولت على الآتي:

” يتناسب الضغط البخاري لأي مكون في محلول مثالي تناسباً طردياً مع الكسر المولي لذلك المكون في المحلول“ ويمكن التعبير عن هذا التناسب على الصورة الآتية :

$$P_A \propto X_A$$

أولعلاقة المساواة

$$P_A = X_A P_A^\circ$$

حيث ان  $P_A$  يمثل الضغط البخاري للمكون A في المحلول و  $X_A$  الكسر المولي لهذا المكون ويمثل ثابت التناسب  $P_A^\circ$  الضغط البخاري للمكون A النقي. وينطبق الشيء نفسه على المكون الاخر في المحلول B:

$$P_B \propto X_B$$

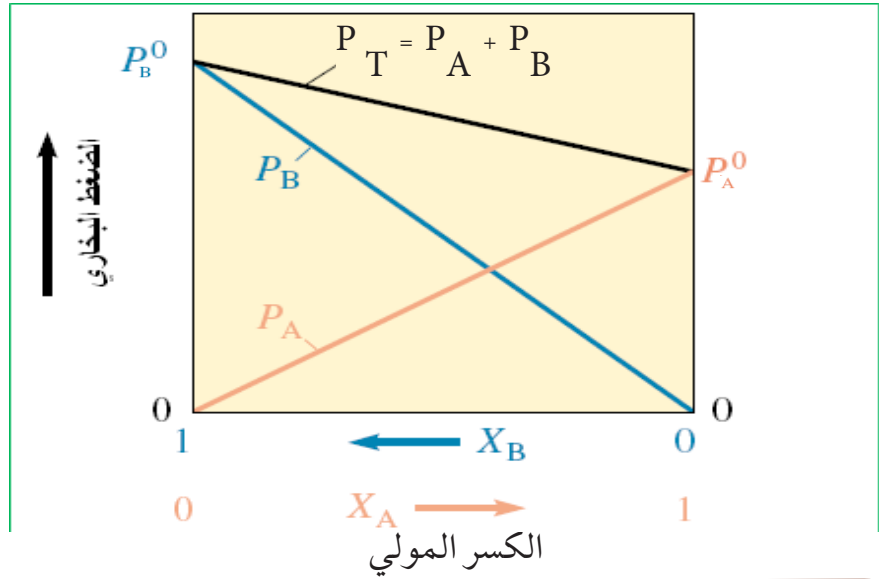
$$P_B = X_B P_B^\circ$$

ويساوي الضغط البخاري الكلي للمحلول ( $P_T$ ) مجموع الضغوط البخارية الجزئية للمكونين حسب قانون راؤولت :

$$P_T = P_A + P_B$$

ويمكن تمثيل هذه العلاقة بالرسم البياني المبين في الشكل (4-8). تسمى جميع المحاليل التي تطاوع قانون راؤولت بالمحاليل المثالية، ولكن في حقيقة الامر لا تسلك اغلب المحاليل سلوكاً مثالياً. بينما تسمى

المحاليل التي لا ينطبق عليها قانون راؤولت بالمحاليل غير المثالية والتي تسمى بالمحاليل الحقيقية .



الشكل 8-4

قانون راؤولت لمحلول مثالي مكون من مكونين متطايرين.

#### مثال 4 - 6 :

عند درجة حرارة  $40^\circ\text{C}$ ، يكون الضغط البخاري لكل من الهبتان النقي والاوكتان النقي هو 92 Torr و 31 Torr على التوالي. احسب الضغط البخاري لكل مكون في المحلول والضغط البخاري الكلي لمحلول مكون من مزج 1 mole من الهبتان و 4 mole من الاوكتان.

#### الحل :

نكتب قانون راؤولت :

$$P_A = x_A P_A^\circ$$

نرمز للهبتان بالحرف H و للاوكتان بالحرف O. يحسب اولا الكسر المولي للهبتان ( $x_H$ ) و الاوكتان ( $x_O$ ) في المحلول

$$x_H = \frac{n_H}{n_H + n_O} = \frac{1 \text{ mol}}{1 \text{ mol} + 4 \text{ mol}} = 0.2$$

وبما ان مجموع الكسور المولية لمكونات المحلول يساوي الواحد الصحيح، فعليه يساوي  $x_O$  الى :

$$x_O = 1 - x_H = 1 - 0.2 = 0.8$$

وبتطبيق قانون راؤولت للمكونات المتطايرة نحصل

$$P_H = x_H P_H^\circ = (0.2)(92 \text{ Torr}) = 18.4 \text{ Torr}$$

$$P_O = x_O P_O^\circ = (0.8)(31 \text{ Torr}) = 24.8 \text{ Torr}$$

$$P_T = P_H + P_O = 18.4 \text{ Torr} + 24.8 \text{ Torr} = 43.2 \text{ Torr}$$

#### تمرين 10-4

الضغوط البخارية للبنزين ( $\text{C}_6\text{H}_6$ ) والتولوين ( $\text{C}_7\text{H}_8$ ) النقيتين هي 44.5 Torr و 88.7 Torr في درجة حرارة معينة. تم تحضير محلول مثالي عند نفس درجة الحرارة بمزج 60 g من البنزين مع 40 g من التولوين. احسب الضغط البخاري الجزئي للبنزين والتولوين في المحلول والضغط البخاري الكلي (الكتل الذرية (C=12 و H=1).

#### 5-4 تأثير المذاب غير المتطاير على بعض صفات المذيب

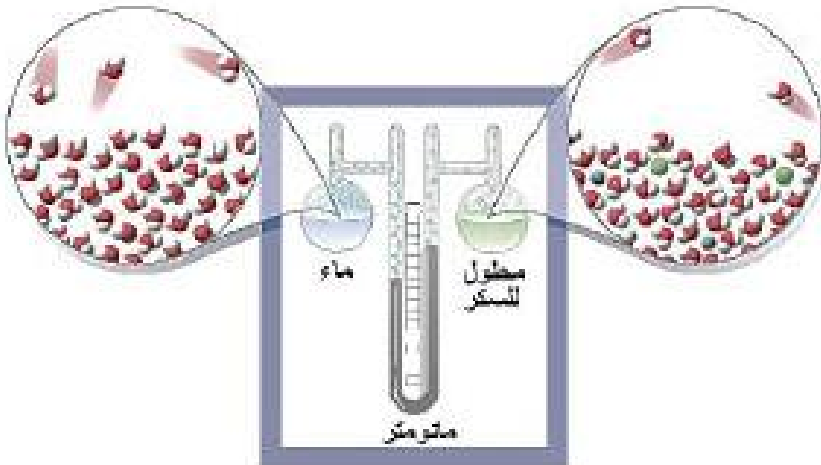
تدعى الصفات الفيزيائية للمحلول التي تعتمد على عدد دقائق المذاب فقط ( جزيئات او ايونات)، وليس على نوع تلك الدقائق، في كمية معينة من المذيب بالصفات الجمعية (Colligative properties) ، وهناك أربع صفات مهمة من هذا النوع للمحاليل والتي تتناسب قيمتها طرديا مع عدد دقائق المذاب الموجودة، وهي:

1. انخفاض الضغط البخاري للمحلول،
2. ارتفاع درجة غليان المذيب،
3. انخفاض درجة انجماد المذيب،
4. الضغط الاوزموزي.

حيث تعتمد هذه الصفات جميعها على التركيز الكلي لدقائق المذاب بغض النظر عن الطبيعة الأيونية أو الجزيئية أو الشحنة أو الحجم. وسوف تتم مناقشة تأثير ذوبانية المواد غير الالكتروليتية غير المتطايرة (التي عند ذوبانها تنتج مول واحد من الأصناف الذائبة لكل مول من المذاب) وكما يأتي:

##### 1. انخفاض الضغط البخاري للمحلول

أظهرت التجارب أن المحلول الحاوي على مذاب (سائل غير متطاير أو صلب) يكون له دائما ضغطا بخاريا اقل من الضغط البخاري للمذيب النقي [الشكل (4-9)]. يعتمد الضغط البخاري للسائل على مدى السهولة التي بها يمكن لجزيئاته أن تهرب (تفلت) من سطح السائل، فعند ذوبان مذاب ما في سائل فان قسم من حجم المحلول سوف يشغل من قبل جزيئات المذاب وبذلك تصبح عدد جزيئات المذيب اقل عند سطح السائل، فيقل عدد الجزيئات التي تهرب من سطح السائل فينخفض الضغط البخاري للمحلول.



الشكل 9-4

انخفاض الضغط البخاري، عند عدم وجود الهواء في الجهاز فان الضغط المقاس فوق كل سائل يمثل الضغط البخاري له. يلاحظ أن الضغط المقاس فوق محلول السكر هو الأقل.



## 2. ارتفاع درجة غليان المذيب

تعرف درجة الغليان لسائل ما على أنها درجة الحرارة التي يتساوى عندها الضغط البخاري للسائل مع الضغط المسلط على سطحه، وإذا سخن السائل في وعاء مفتوح فعند ذلك يصبح الضغط الجوي هو الضغط المسلط على سطح السائل . وكما سبق وان عرفنا إن الضغط البخاري لمذيب، عند درجة حرارية معينة، يقل بوجود مذاب غير متطاير، لذلك فان المحلول يجب أن يسخن إلى درجة حرارية أعلى من تلك التي تكون لازمة للمذيب النقي للوصول بالضغط البخاري إلى قيمة مساوية للضغط الجوي ( درجة الغليان) [الشكل (4-10)]. وحسب قانون راؤولت فان الارتفاع في درجة غليان مذيب ما، بسبب احتوائه على مذاب غير متطاير، يتناسب طرديا مع عدد مولات المذاب المذابة في كيلوغرام واحد من المذيب (المولالية). ويمكن التعبير عن هذه العلاقة كما يأتي :

$$\Delta T_b \propto m$$

$$\Delta T_b = K_b m$$

حيث  $\Delta T_b$  تمثل الارتفاع في درجة غليان المذيب (درجة غليان المحلول - درجة غليان المذيب النقي) و ان  $m$  هي التركيز المولالي للمذاب، اما  $K_b$  فانه ثابت التناسب (ويسمى ثابت ارتفاع درجة الغليان المولالي)، وتكون قيمة هذا الثابت متغيرة مع تغير نوع المذيب ولا تعتمد قيمته على نوع المذاب، وبشكل عام يمكن تعريف  $K_b$  على انه **يمثل التغير الحاصل في درجة غليان محلول مثالي يحتوي على مذاب غير متطاير وغير متأين، وتكون وحدته هي (°C/m). يبين الجدول (3-4) خواص بعض المذيبات الشائعة.**

| الجدول (3-4) خواص بعض المذيبات الشائعة |                   |  |                    |   |
|--|-------------------|--|--------------------|---|
| المذيب                                 | درجة الغليان (°C) | ثابت ارتفاع درجة الغليان المولالي $K_b$ °C/m | درجة الانجماد (°C) | ثابت انخفاض درجة الانجماد المولالي $K_f$ °C/m |
| ماء                                    | 100               | 0.512  | 0.00               | 1.86  |
| بنزين                                  | 80                | 2.530  | 5.48               | 5.12  |
| حامض الخليك                            | 118               | 3.070  | 16.60              | 3.90  |
| نتروبنزين                              | 210               | 5.240  | 5.70               | 7.00  |
| فينول                                  | 182               | 3.560  | 43.00              | 7.40  |
| كافور                                  | 207               | 5.601  | 178.40             | 40.00   |

لقد سبق وان تعرفنا على المولالية والمعرفة بالعلاقة التالية مع الرمز للمذيب بالرقم 1 و للمذاب بالرقم 2

$$m \text{ (mol/kg)} = \frac{n_2 \text{ (mol)}}{m_1 \text{ (kg)}}$$

وكما هو معلوم ، فإن عدد مولات المذاب مساوية الى

$$n_2 = \frac{m_2 \text{ (g)}}{M_2 \text{ (g/mol)}}$$

حيث  $m_2$  كتلة المذاب بوحدة (g) و  $M_2$  الكتلة المولية للمذاب بوحدة (g/mol). ويتم تحويل كتلة المذيب ( $m_1$ ) من وحدة (g) الى وحدة (kg)

$$m_1 \text{ (kg)} = m_1 \text{ (g)} \times \frac{1 \text{ (kg)}}{1000 \text{ (g)}} = \frac{m_1 \text{ (g)}}{1000 \text{ (g/kg)}}$$

و بالتعويض في قانون المولالية نحصل على :

$$m \text{ (mol/kg)} = \frac{\frac{m_2 \text{ (g)}}{M_2 \text{ (g/mol)}}}{\frac{m_1 \text{ (g)}}{1000 \text{ (g/kg)}}} = \frac{1000 \text{ (g/kg)} \times m_2 \text{ (g)}}{m_1 \text{ (g)} \times M_2 \text{ (g/mol)}}$$

و عليه يكون الارتفاع في درجة الغليان مساوي الى :

$$\Delta T_b \text{ (}^\circ\text{C)} = K_b \text{ (}^\circ\text{C/ m)} \times \frac{1000 \text{ (g/kg)} \times m_2 \text{ (g)}}{m_1 \text{ (g)} \times M_2 \text{ (g/mol)}}$$

#### مثال 4 - 7 :

ما هي درجة غليان محلول مائي للسكروز تركيزه  $1.25 \text{ m}$  ؟ علما ان درجة غليان الماء النقي  $100^\circ\text{C}$  و ثابت ارتفاع درجة الغليان المولالي للماء  $0.512 \text{ }^\circ\text{C/m}$ .

#### الحل :

يستفاد من العلاقة  $\Delta T_b = K_b m$  لإيجاد مقدار الزيادة اولا ثم تضاف هذه الزيادة الى درجة غليان الماء النقي :

$$\Delta T_b = (0.512 \text{ }^\circ\text{C/m}) (1.25 \text{ m}) = 0.640 \text{ }^\circ\text{C}$$

وهذا يعني أن المحلول سوف يغلي بدرجة حرارة أعلى من درجة غليان الماء النقي بمقدار  $0.640^\circ\text{C}$ ، ولذلك فإن درجة غليان المحلول سوف تكون :

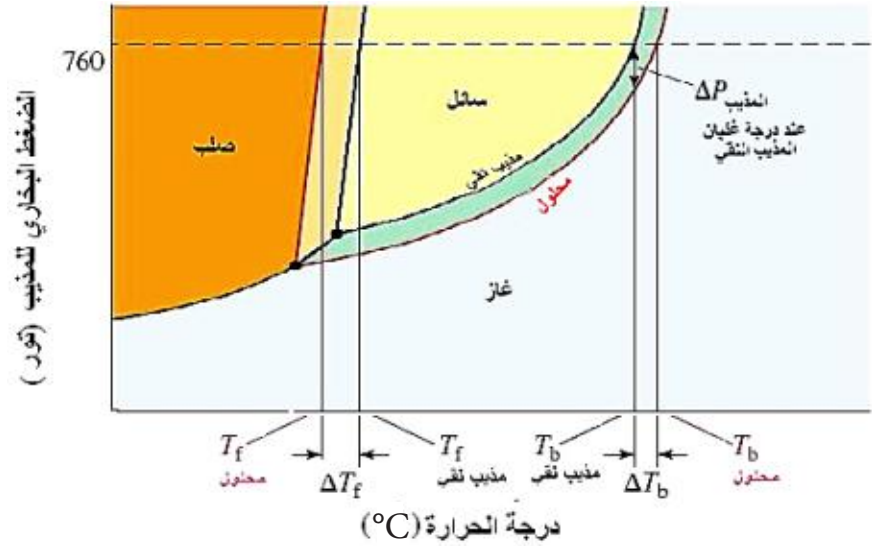
$$100 \text{ }^\circ\text{C} + 0.640 \text{ }^\circ\text{C} = 100.640 \text{ }^\circ\text{C}$$

#### تمرين 11-4

عند إذابة  $0.15 \text{ g}$  من مادة في  $15 \text{ g}$  من مذيب، ترتفع درجة غليان المذيب بمقدار  $0.216^\circ\text{C}$  عن درجة غليان المذيب النقي. ما الكتلة المولية للمذاب اذا علمت ان ثابت ارتفاع درجة الغليان المولالي للمذيب تساوي  $2.16 \text{ }^\circ\text{C/m}$  ؟

#### الشكل 10-4

ارتفاع درجة الغليان (بمقدار  $\Delta T_b$ ) وانخفاض درجة الانجماد (بمقدار  $\Delta T_f$ ) وذلك لان المذاب غير المتطاير يعمل على خفض الضغط البخاري للمذيب.



### 3. انخفاض درجة إنجماد المذيب

تقل سرعة حركة جزيئات السائل وتقترب بعضها من البعض الآخر عند نقصان درجة الحرارة. ونقطة انجماد أي سائل هي درجة الحرارة التي عندها تصبح قوى التجاذب بين الجزيئات أكبر بقليل من القوى اللازمة للتغلب على طاقتها الحركية وتحدث تغير في الطور من السائل إلى الطور الصلب. ولذلك فنقطة الانجماد (الذوبان) لمادة هي درجة الحرارة التي عندها يصبح طوراً المادة الصلب والسائل في حالة اتزان. وعند تجمد محلول مخفف، فالمذيب هو الذي يتصلب أولاً تاركاً المذاب في محلول أكثر تركيزاً. تكون جزيئات المذيب في المحلول أبعد بعض الشيء بعضها عن البعض الآخر (بسبب وجود المذاب) مما هو الحال في حالة المذيب النقي، ونتيجة لذلك يجب أن تكون درجة الحرارة اللازمة لانجماده أدنى من تلك اللازمة للمذيب النقي.

وقد وجد أن مقدار الانخفاض في درجة الانجماد ( $\Delta T_f$ ) لمحلول مادة غير الكتروليتية هو حاصل ضرب مولالية (m) المحلول في كمية ثابتة ( $K_f$ ) تدعى ثابت انخفاض درجة الانجماد المولالي (لاحظ الجدول (3-4) لقيم  $K_f$  لبعض المذيبات الشائعة الاستخدام) والذي يعرف على أنه **انخفاض الحاصل في درجة انجماد المذيب في محلول مثالي لمادة غير الكتروليتية تركيزه واحد مولالي**. وتكون العلاقة الرياضية على الصورة التالية وبشكل مشابه لعلاقة الارتفاع في درجة الغليان:

$$\Delta T_f (^\circ\text{C}) = K_f (^\circ\text{C}/m) \times \frac{1000 \text{ (g/kg)} \times m_2 \text{ (g)}}{m_1 \text{ (g)} \times M_2 \text{ (g/mol)}}$$

حيث  $\Delta T_f$  تمثل الانخفاض في درجة الانجماد (درجة الانجماد النقي - درجة انجماد المحلول).

#### مثال 4 - 8 :

عند إذابة 15 g من الكحول الايثيلي (الكتلة المولية = 46 g/mole) في 750 g من حامض الفورميك ، أصبحت درجة انجماد المحلول  $7.21^{\circ}\text{C}$  ، فإذا علمت إن درجة انجماد حامض الفورميك النقي هي  $8.4^{\circ}\text{C}$  ، احسب قيمة  $K_f$  لهذا الحامض .

#### الحل :

نجد قيمة  $\Delta T_f$  وذلك من الفرق بين درجة انجماد المذيب النقي ودرجة انجماد المحلول:

$$\Delta T_f = 8.4^{\circ}\text{C} - 7.21^{\circ}\text{C} = 1.19^{\circ}\text{C}$$

ومن ثم نطبق العلاقة

$$\Delta T_f (^{\circ}\text{C}) = K_f (^{\circ}\text{C}/\text{m}) \times \frac{1000 (\text{g}/\text{kg}) \times m_2 (\text{g})}{m_1 (\text{g}) \times M_2 (\text{g}/\text{mol})}$$

لذا فقيمة  $K_f$  تساوي

$$K_f = \frac{\Delta T_f (^{\circ}\text{C}) \times m_1 (\text{g}) \times M_2 (\text{g}/\text{mol})}{1000 (\text{g}/\text{kg}) \times m_2 (\text{g})}$$

$$K_f = \frac{1.19 (^{\circ}\text{C}) \times 750 (\text{g}) \times 46 (\text{g}/\text{mol})}{1000 (\text{g}/\text{kg}) \times 15 (\text{g})} = 2.74 ^{\circ}\text{C}/\text{m}$$

#### مثال 4 - 9 :

اذيب 1.2 g من مركب تساهمي مجهول في 50 g من البنزين، ووجد ان درجة انجماد المحلول أصبحت  $4.92^{\circ}\text{C}$  . احسب الكتلة المولية للمركب المجهول، اذا علمت ان درجة انجماد البنزين النقي تساوي  $5.48^{\circ}\text{C}$  وقيمة  $K_f$  له تساوي  $5.12^{\circ}\text{C}/\text{m}$  .

#### الحل :

نجد اولاً مقدار  $\Delta T_f$  والتي تساوي درجة انجماد المذيب النقي - درجة انجماد المحلول :

$$\Delta T_f = 5.48^{\circ}\text{C} - 4.92^{\circ}\text{C} = 0.56^{\circ}\text{C}$$

وباستخدام العلاقة

$$\Delta T_f (^{\circ}\text{C}) = K_f (^{\circ}\text{C}/\text{m}) \times \frac{1000 (\text{g}/\text{kg}) \times m_2 (\text{g})}{m_1 (\text{g}) \times M_2 (\text{g}/\text{mol})}$$

ومنها نجد قيمة  $M_2$

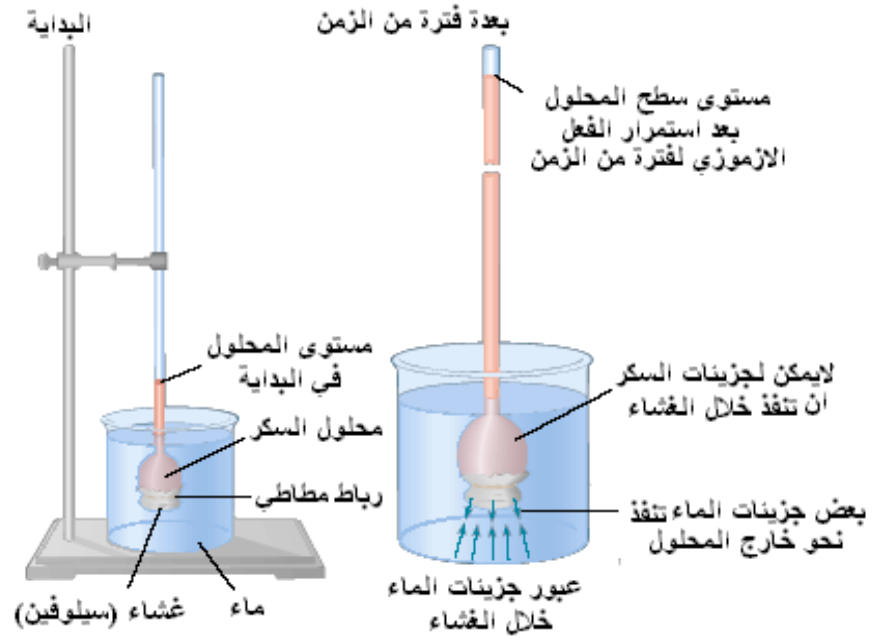
$$M_2 (\text{g}/\text{mol}) = \frac{5.12 (^{\circ}\text{C}/\text{m}) \times 1000 (\text{g}/\text{kg}) \times 1.2 (\text{g})}{50 (\text{g}) \times 0.56^{\circ}\text{C}} = 219.4 \text{g}/\text{mol}$$

#### تمرين 12-4

ما درجة انجماد محلول مائي ذي تركيز 0.05 m لمذاب غير الكتروليتي؟  
علماً ان ثابت انخفاض درجة الانجماد المولالي للماء  $1.86^{\circ}\text{C}/\text{m}$  .

#### 4. الضغط الازموزي

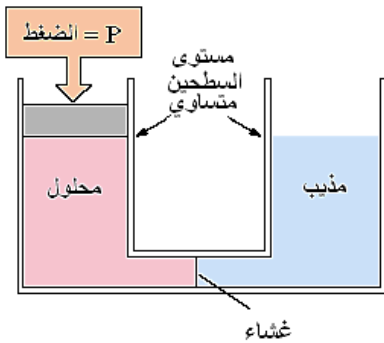
الازموزية هي عملية تلقائية والتي فيها تمر جزيئات المذيب خلال غشاء شبه ناضح (شبه نافذ يسمح بمرور جزيئات المذيب ولايسمح بمرور جزيئات المذاب)، يفصل بين محلولين، من المحلول ذي التركيز الواطئ إلى المحلول ذي التركيز العالي من المذاب. وقد تمر جزيئات المذيب من خلال الغشاء بكل الاتجاهين، ولكن معدل سرعة مرورها باتجاه المحلول المركز تكون اكبر من معدل سرعة مرورها بالاتجاه المعاكس حيث يتناسب الفرق في معدل السرعتين (في بداية العملية) تناسباً طردياً مع الفرق بين تركيزي المحلولين.



الشكل 11-4

أدوات مختبريه لعرض الخاصية الازموزية، لايمكن لجزيئات المذاب النافذ من خلال الغشاء شبه النافذ.

يبين الشكل (11-4) تجربة لوصف هذه الظاهرة والتي بسببها تستمر جزيئات المذيب في العبور من خلال الغشاء ، حيث يلاحظ استمرار ارتفاع مستوى سطح السائل لحين بلوغ قيمة الضغط الهيدروستاتيكي (المتولد بسبب وزن المحلول في العمود) مقدارا كافي لدفع جزيئات المذيب وجعلها تمر من خلال الغشاء بعكس الاتجاه وبمعدل سرعة مساو لمعدل سرعة دخولها من جهة المحلول المخفف ( ايقاف عملية التنافذ) . ويدعى الضغط المسلط تحت هذه الظروف بالضغط الازموزي.



الشكل 12-4

ان تسليط ضغط صغير جداً يكفي لمنع نفوذ جزيئات المذيب خلال الغشاء شبه النافذ الى جهة المحلول هو مقياس للضغط الازموزي للمحلول.

يعتمد الضغط الازموزي على عدد (وليس نوع) جزيئات المذاب الموجودة في المحلول ولذلك يعتبر من الصفات الجمعية. ويمكن قياس مقدار الضغط الازموزي وذلك بتسليط ضغط خارجي مساوي له ( ضغط يكون كافي لمنع عملية التنافذ) كما هو موضح في الشكل (12-4). فالضغط الخارجي المطلوب تسليطه يكون مساو للضغط الازموزي للمحلول.

ويمكن حساب الضغط الازموزي باستخدام علاقة رياضية تشبه القانون

$$P = \frac{nRT}{V} \quad \text{العام للغازات}$$

مع ابدال رمز الضغط P بالرمز  $\pi$  والذي يشير الى الضغط الازموزي

$$\pi = \frac{nRT}{V} \quad \text{وبالصورة الاتية:}$$

في هذه المعادلة، تمثل n عدد مولات المذاب الموجودة في حجم من المحلول مقداره V (L) و R هو ثابت الغازات (0.0821 L.atm/mol.K) وان T هي درجة حرارة كلفن. أن الحد (n/V) في المعادلة أعلاه يمثل تركيز المحلول بدلالة المولارية (M)، لذلك يمكن إعادة صياغة العلاقة اعلاه كما يأتي:

$$\pi = MRT$$

ويلاحظ من العلاقة أعلاه أن الضغط الازموزي يزداد بزيادة درجة الحرارة (T) والتي تزيد من تصادم جزيئات المذيب بالغشاء في وحدة الزمن، ويزداد كذلك بزيادة مولارية (M) المحلول والتي تؤثر على عدد جزيئات المذيب التي تصدم الغشاء من كلتا الجهتين، فزيادة M تؤدي إلى زيادة القوة الدافعة لحركة جزيئات المذيب بالاتجاه الذي يقلل من الفرق في التركيز ويؤدي الى تخفيف المحلول وزيادة عشوائيته .

Raoult's law

قانون راؤولت

يتناسب الضغط البخاري لأي مكون في محلول مثالي تناسباً طردياً مع الكسر المولي لذلك المكون في المحلول

$$P_A \propto x_A \Rightarrow P_A = x_A P_A^\circ$$

$$P_B \propto x_B \Rightarrow P_B = x_B P_B^\circ$$

Osmotic Pressure

الضغط الأزموزي

الأزموزية هي عملية تلقائية والتي فيها تمر جزيئات المذيب خلال غشاء نافذ يفصل بين محلولين من المحلول ذي التركيز الواطئ إلى المحلول ذي التركيز العالي من المذاب. وقد تمر جزيئات المذيب من خلال الغشاء بكل الاتجاهين ويدعى الضغط المسلط تحت هذه الظروف بالضغط الأزموزي.

Solution

المحلول

يعرف المحلول بشكل عام على أنه مزيج متجانس للمواد يتألف من مذيب (Solvent) ومذاب (Solute) واحد أو أكثر تكون نسب المزج بينها مختلفة من محلول إلى آخر. وتعتبر المادة الأكبر كمية في المزيج هي المذيب والأقل كمية هي المذاب.

Molality m

التركيز المولي

المولالية هي عدد مولات المذاب التي يحتويها كيلوغرام واحد من المذيب

$$m \text{ (mol/kg)} = \frac{n \text{ (mol)}}{m \text{ (kg)}}$$

Mole Fraction x

الكسر المولي

يعرف بأنه النسبة بين عدد مولات أحد المكونات ( $n_A$ ) إلى عدد المولات الكلية لجميع المكونات ( $n_A + n_B$ ) وهو بذلك يكون عديم الوحدات ويمكن التعبير عنها كما يأتي :

$$x_A = \frac{n_A}{n_A + n_B} \quad \text{أو} \quad x_B = \frac{n_B}{n_A + n_B}$$

Molarity M

التركيز المولاري

المولارية هي عدد مولات المذاب التي يحتويها لتر واحد من المحلول

$$M = \frac{n \text{ (mol)}}{V \text{ (L)}}$$

Solubility

الذوبانية

تعرف قابلية الذوبان (الذوبانية) للمادة على أنها أكبر كمية من المادة (عدد غرامات أو عدد المولات ... الخ) التي يمكن أن تذوب في كمية معينة (حجم أو وزن) من المذيب أو المحلول عند درجة حرارة وضغط محددين.

1-4 أعط أمثلة لمحاليل مكونة مما يأتي:

- أ) مذاب صلب في مذيب سائل.
- ب) مذاب غاز في مذيب سائل.
- ج) مذاب غاز في مذيب غاز.
- د) مذاب سائل في مذيب سائل.
- هـ) مذاب صلب في مذيب صلب.

2-4 ناقش العبارة التالية: أن الحرارة التي تنتج أو التي تستهلك خلال عملية الإذابة هي عامل مهم في تحديد ذوبان اوعدم ذوبان المذاب، ماهو

العامل المهم الاخر؟ وكيف يؤثر في العملية؟

3-4 عرف كل مما يأتي: الكسر المولي لمكون ما في محلول، قانون راؤولت، الضغط الازموزي، المحلول المشبع.

4-4 كم هي عدد غرامات ملح الطعام اللازم اذابتها في 40 mL من الماء للحصول على محلول ملحي تكون فيه النسبة المئوية بالكتلة للملح 15%؟ (كثافة الماء = 1 kg/L).

5-4 كيف يحضر 250 mL من محلول حامض الهيدروكلوريك المخفف بتركيز 0.5 M من محلول الحامض المركز ذو التركيز 12 M؟ اشرح ذلك مستعينا بالحسابات المطلوبة.

6-4 أذيب 60 mL من ثنائي اثيل ايثر  $(C_2H_5)_2O$  في كمية كافية من الميثانول  $(CH_3OH)$  لتحضير محلول حجمه 300 mL، فإذا علمت ان كثافة الايثر هي 0.714 g/mL، ماهي مولارية (M) المحلول الناتج؟

7-4 اشرح، مستعينا بالحسابات اللازمة، كيف يمكنك تحضير لتر واحد من محلول كلوريد الصوديوم (NaCl) تركيزه 0.215 m، اذا علمت ان كثافة المحلول الناتج هي 1.01 g/mL.

8-4 تم تحضير محلول لهيدروكسيد البوتاسيوم (KOH) وذلك بإذابة 1 g منها في 100 mL من الكحول الايثيلي  $(C_2H_5OH)$  (كثافة الكحول = 0.789 g/mL)، عبر عن تركيز المحلول الناتج بدلالة:

1. التركيز المولاري.

2. التركيز المولالي.

3. الكسر المولي لهيدروكسيد البوتاسيوم.

4. النسبة المئوية بالكتلة لهيدروكسيد البوتاسيوم.

9-4 احسب درجة غليان المحلول المائي لمركب

اثيلين كلايكول ( مادة غير متطايرة) تركيزه

2.5 m. (درجة غليان الماء النقي هي  $100^\circ C$ ).

علماً ان ثابت ارتفاع درجة الغليان المولالي للماء

$(K_b = 0.512^\circ C/m)$ .

10-4 اذيب 3.75 g من مادة غير متطايرة في

95 g من الاسيتون، فازدادت درجة الغليان واصبحت

$(56.50^\circ C)$ ، بالمقارنة مع درجة غليان الاسيتون

النقي  $(55.95^\circ C)$ . اذا علمت ان ثابت ارتفاع درجة

الغليان المولالي للاسيتون  $(K_b = 1.71^\circ C/m)$ ، ماهي

الكتلة المولية للمذاب؟

11-4 عند طحن 0.154 g من الكبريت بشكل ناعم

واذابته في 4.38 g من الكافور، انخفضت درجة

انجماد الكافور بمقدار  $5.47^\circ C$ . ما الكتلة المولية

للكبريت؟ وما صيغته الجزيئية؟ اذا علمت ان

ثابت الانخفاض في درجة الانجماد المولالي للكافور

$(K_f = 40^\circ C/m)$ .

12-4 مستعينا بالجدول (3-4)، ما هي المادة التي

تسبب اعظم انخفاض في درجة الانجماد؟

أ. بنزين.

ب. الكافور.

ج. حامض الخليك.

د. الفينول.

13-4 مستعينا بالجدول (3-4)، جد درجة انجماد

محلول محضر باذابة 1.5 g من مادة كتلتها المولية

تساوي 125 g/mol في 30 g من النتروبنزين.





## الفصل الخامس

# 5

## Chemical Kinetics

## الحركيات الكيميائية

بعد الانتهاء من دراسة هذا الفصل يتوقع من الطالب أن :-

- يحسب سرعة التفاعل بدلالة التغير في تركيز المادة مع الزمن.
- يحدد مراتب التفاعل ويستنتج قانون سرعة التفاعل.
- يفسر حصول التفاعل الكيميائي بحسب نظرية التصادم، ونظرية الحالة الانتقالية.
- يحدد العوامل المؤثرة في سرعة التفاعل وكيفية التحكم بها لزيادة سرعة التفاعل.
- يميز بين التفاعلات الباعثة للحرارة والماصة للحرارة.
- يقترح ميكانيكية التفاعل بشكل مقبول يتفق مع الشروط المحددة.

## 5 - 1 المقدمة

تعلمنا من دراستنا السابقة للتغيرات الكيميائية وبشكل مبسط بأنها تحصل بين المواد المتفاعلة لتكوين المواد الناتجة، ويعبر عنها بالمعادلة الكيميائية الموزونة والتي تفيدنا في حساب عدد مولات المواد وكتلها وحجوم الغازات المتفاعلة والناتجة، ولكن المعادلة الكيميائية لم تخبرنا عن تفاصيل اخرى تتعلق بالسرعة التي يتم فيها تحول المتفاعلات الى نواتج وكذلك عدد الخطوات التي يمر بها التفاعل لتكوين النواتج. ان كل هذه التغيرات يتم دراستها عن طريق الحركيات الكيميائية (Chemical kinetics) والتي تختص بدراسة النقاط الآتية :

1. سرعة التفاعل الكيميائي وكيفية قياسها والعوامل المؤثرة عليها.
2. ميكانيكية التفاعل، اي التفاعلات الاولية التي تمر بها المواد المتفاعلة للوصول الى الناتج النهائي وكيفية التعبير عنها بالمعادلات الكيميائية الموزونة.

تعتبر الحركيات الكيميائية علماً مهماً وذلك لأن معرفة سرعة التفاعل والعوامل التي تؤثر عليه، مثل التركيز والضغط ودرجة الحرارة وطبيعة المواد المتفاعلة، تتيح للدارسين التنبؤ عن السرعة التي سيصل اليها التفاعل في حالة التوازن. كما وان دراسة ميكانيكية التفاعل ( الخطوات الاولية التي يمر بها التفاعل لتتحول المواد المتفاعلة الى النواتج )، تمكنهم عند معرفتها من ضبط جريان التفاعل للحصول على المواد الناتجة التي يريدونها وبالكميات المطلوبة وبالطرق الاقتصادية المناسبة.

## 5 - 2 سرعة التفاعل الكيميائي

ان تعريف السرعة شيء مألوف في حياتنا اليومية. فإذا قطعت سيارة مسافة 70 كيلومتر في ساعة واحدة نقول ان سرعتها هي 70 كيلومتر/ ساعة، او ان يقرأ طالب عشرين صفحة من كتاب في 30 دقيقة، او ان يستهلك اهل بغداد مليون متر مكعب من الماء الصالح للشرب في اليوم الواحد. تشترك هذه العبارات التي تبين السرعة في توضيح ان تغيراً ما يحصل خلال فترة زمنية معينة. فسرعة السيارة تعبر عن التغير في المكان مقاساً بالكيلومترات في الساعة. وبالنسبة للطالب الذي يقرأ كتاباً فان عدد الصفحات المقرؤة **يزداد** بمقدار عشرون صفحة في كل 30 دقيقة. وكذلك بالنسبة لأهالي بغداد الذين يستهلكوا مليون متر مكعب من الماء الصالح للشرب في اليوم الواحد، فان خزانات الماء **ستنقص** بمقدار مليون متر مكعب خلال هذه الفترة الزمنية.



وكذلك الحال للتفاعلات الكيميائية فانها تجري بسرعه متباينة وفقاً لتغير كميات المواد الداخلة في التفاعل او الخارجة عنه في وحدة الزمن. تختلف التفاعلات الكيميائية في سرعتها فبعضها سريعة جدا وتحصل مباشرة عند خلط المواد المتفاعلة مع بعضها وفي جزء من الثانية مثل تفاعلات التعادل بين الحوامض والقواعد وتفاعلات الاحتراق. والبعض الاخر معتدلة السرعة تستغرق عدة دقائق الى عدة اشهر مثل صدأ الحديد والتفاعلات التي تؤدي الى نضج الفواكه والخضراوات، وهناك تفاعلات بطيئة جدا تحتاج الى عدة سنوات او ملايين السنين لكي تحصل مثل التفاعلات التي تؤدي الى نمو الأنسان وتقدمه في السن وتحول النباتات الميتة الى فحم، لاحظ الشكل (1-5).

### 1-2-5 قياس سرعة التفاعل الكيميائي

تقاس سرعة التفاعل الكيميائي من معرفة التغير في تركيز مادة متفاعلة او ناتجة في وحدة الزمن ( وحدة الزمن قد تكون ثانية (s)، او دقيقة (min) او ساعة (hr)، او يوم (day) او اي وحدة زمنية اخرى). سنستخدم في هذا الفصل التركيز المولاري حصرا والذي يعرف بانه عدد المولات من المذاب في لتر واحد من المحلول (mole/L) ويعبر عنه بقوس مربع [ ] حيث ان اي رمز داخل القوس يعني التركيز المولاري. فمثلا [X] يعني التركيز المولاري للمادة X. لذا سنعتبر عن السرعة (Rate) بالعلاقة الرياضية الآتية :

الشكل 1-5

اختلاف سرعة التفاعل، من الاعلى الى الاسفل : الاحتراق تفاعل سريع جدا، ونضج الفواكه والخضراوات تفاعل معتدل السرعة، وصدأ الحديد تفاعل معتدل السرعة واقل سرعة من نضج الفواكه، ونمو الانسان تفاعل بطيء جدا.

معدل سرعة التفاعل =  $\frac{\text{التغير في تركيز احد المواد المتفاعلة او الناتجة}}{\text{التغير في الزمن}}$

$$\text{Rate} = \frac{\Delta [ ]}{\Delta t}$$

حيث الرمز  $\Delta$  يعني التغير و [ ] يعني التركيز المولاري بوحدة (mole/L). وعليه ستكون وحدة سرعة التفاعل الكيميائي هي : (mole/L.t) او (mole L<sup>-1</sup> t<sup>-1</sup>).

للتفاعل العام الاتي:



حيث R تمثل اي مادة متفاعلة (Reactants) و P تمثل اي مادة ناتجة (Products). تحسب سرعة التفاعل العام هذا باستخدام

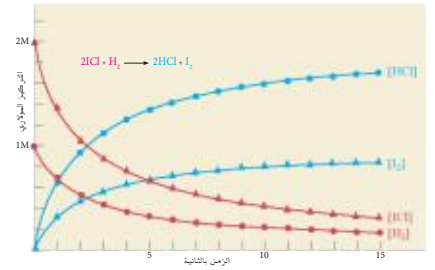
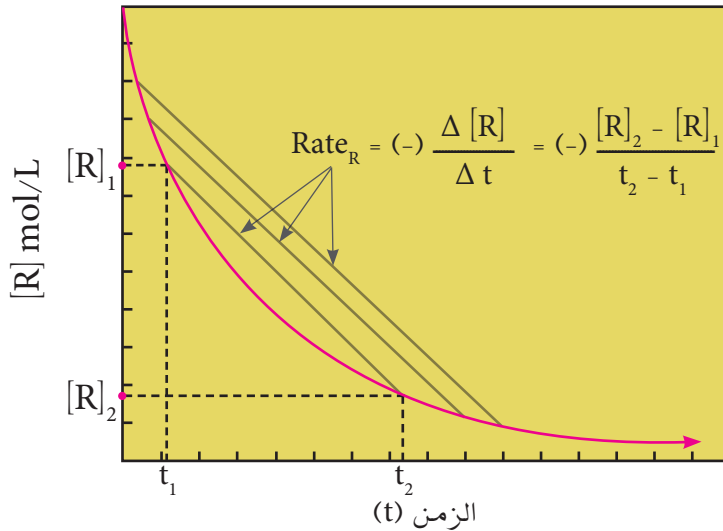
العلاقة اعلاه وبدلالة المواد المتفاعلة R وعلى الصورة الاتية :

التغير في تركيز R  
معدل سرعة التفاعل بدلالة R = (-)  $\frac{\Delta [R]}{\Delta t}$   
التغير في الزمن

$$\text{Rate}_R = (-) \frac{\Delta [R]}{\Delta t}$$

فاذا ابتدا التفاعل بتركيز معين من المادة المتفاعلة وليكن  $[R]_1$  في زمن  $(t_1)$  وبتقدم التفاعل يقل تركيز المادة المتفاعلة بينما يزداد تركيز المادة الناتجة، وفي زمن  $(t_2)$  يصبح تركيز المادة المتفاعلة  $[R]_2$  ، لاحظ الشكل (2-5)، ستكون السرعة بدلالة R على الشكل الآتي :

$$\text{Rate}_R = (-) \frac{\Delta [R]}{\Delta t} = (-) \frac{[R]_2 - [R]_1}{t_2 - t_1}$$



يقل تركيز المواد المتفاعلة  $H_2$  و  $HCl$  بينما يزداد تركيز المواد الناتجة  $HCl$  و  $I_2$  بمرور الزمن .

### الشكل 2-5

يقل تركيز المادة المتفاعلة R بمرور الزمن .

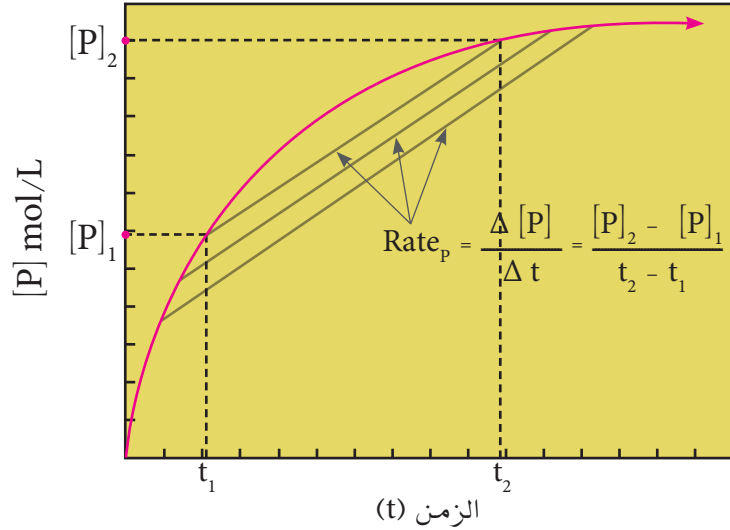
تضاف الاشارة السالبة في القانون عند التعبير عن سرعة التفاعل بدلالة التغير في تركيز مادة متفاعلة، وذلك لأن المادة المتفاعلة تستهلك خلال التفاعل ويقل تركيزها فيكون تركيزها الثاني اقل من تركيزها الاول والتغير في التركيز سالب فتضاف الاشارة السالبة لجعل السرعة موجبة (لاحظ الشكل 2-5).

وعند قياس سرعة التفاعل بدلالة التغير في تركيز المادة الناتجة من التفاعل P تكون العلاقة كالآتي :

التغير في تركيز P  
معدل سرعة التفاعل بدلالة P =  $\frac{\Delta [P]}{\Delta t}$   
التغير في الزمن

$$\text{Rate}_P = \frac{\Delta [P]}{\Delta t} = \frac{[P]_2 - [P]_1}{t_2 - t_1}$$

يكون التغيير في تركيز المادة الناتجة  $\Delta [P]$  موجب وذلك لأن تركيزها يزداد بمرور الزمن فيكون التركيز الثاني  $[P]_2$  اكبر من التركيز الاول  $[P]_1$  لذلك لا تضاف اشارة سالبة في القانون ، كما موضح في الشكل (3-5).



الشكل 3-5

يزداد تركيز المادة الناتجة P بمرور الزمن .

### مثال 5 - 1 :

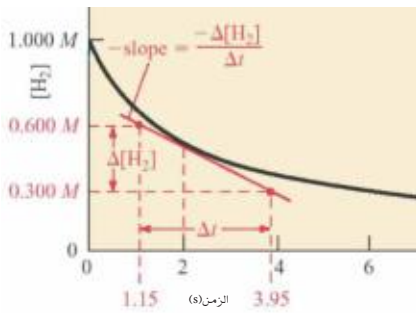
يتغير تركيز المادة R من 1.2 mole/L الى 0.75 mole/L خلال 125 s حسب التفاعل الاتي :  $R \rightarrow P$   
احسب سرعة التفاعل بدلالة R .

### الحل :

أ -

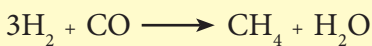
$$\text{Rate}_R = (-) \frac{\Delta [R]}{\Delta t} = (-) \frac{[R]_2 - [R]_1}{t_2 - t_1}$$

$$\text{Rate}_R = \frac{(-) ( 0.75 - 1.20 ) \text{ mol/L}}{( 125 - 0 ) \text{ s}} = 0.0036 \text{ mol/L.s}$$



### تمرين 5-1

افترض التفاعل الاتي:



يتغير تركيز  $\text{H}_2$  حسب المخطط اعلاه.  
جد سرعة هذا التفاعل والزمن اللازم لانخفاض تركيز  $\text{H}_2$  الى 0.300 mol/L.

## 2-2-5 علاقة سرعة التفاعل مع عدد المولات

تختلف سرعة التفاعل بدلالة التغير في تركيز المادة باختلاف عدد مولات المادة في معادلة التفاعل الموزونة، فمثلا التفاعل بين الهيدروجين واليود لتكوين يوديد الهيدروجين كما في المعادلة الآتية:



فعند استهلاك جزيء واحدة من الهيدروجين (مول واحد) فإن جزيء واحد من اليود يستهلك أيضا (مول واحد)، بينما تتكون جزيئين (مولين) من يوديد الهيدروجين. أي ان سرعة استهلاك كل من  $\text{H}_2$  او  $\text{I}_2$  تعادل نصف سرعة تكوين HI

$$\text{Rate} = - \frac{\Delta [\text{H}_2]}{\Delta t} = - \frac{\Delta [\text{I}_2]}{\Delta t} = \frac{1}{2} \frac{\Delta [\text{HI}]}{\Delta t}$$

او سرعة تكوين HI تساوي ضعف سرعة استهلاك  $\text{H}_2$  او  $\text{I}_2$

$$\frac{\Delta [\text{HI}]}{\Delta t} = -2 \frac{\Delta [\text{H}_2]}{\Delta t} = -2 \frac{\Delta [\text{I}_2]}{\Delta t}$$

ويمكن كتابة المعادلة على الصورة الآتية :

$$\text{Rate}_{(\text{HI})} = 2\text{Rate}_{(\text{H}_2)} = 2\text{Rate}_{(\text{I}_2)}$$

وتعني  $\text{Rate}_{(\text{HI})}$  السرعة بدلالة تركيز المادة الناتجة HI، وهكذا بالنسبة للسرعة بدلالة المواد المتفاعلة  $\text{H}_2$  و  $\text{I}_2$ ، ونلاحظ اننا لانضع اشارات عند استخدام السرعة (Rate) وذلك لان السرعة موجبة دائما بينما يكون التغير في التركيز سالبا للمواد المتفاعلة وموجباً للمواد الناتجة.

وللتفاعل العام



حيث ( a و b و g و h ) عدد مولات المواد في معادلة التفاعل الموزونة ، ويعبر عن سرعة هذا التفاعل بدلالة المواد المتفاعلة والناتجة حسب الآتي:


$$\text{Rate} = - \frac{1}{a} \times \frac{\Delta [\text{A}]}{\Delta t} = - \frac{1}{b} \times \frac{\Delta [\text{B}]}{\Delta t} = \frac{1}{g} \times \frac{\Delta [\text{G}]}{\Delta t} = \frac{1}{h} \times \frac{\Delta [\text{H}]}{\Delta t}$$

او

$$\frac{1}{a} \text{Rate}_{(\text{A})} = \frac{1}{b} \text{Rate}_{(\text{B})} = \frac{1}{g} \text{Rate}_{(\text{G})} = \frac{1}{h} \text{Rate}_{(\text{H})}$$

### تمرين 2-5

ان سرعة تكوين  $\text{NH}_3$  في التفاعل التالي تساوي  $0.15 \text{ mol/L} \cdot \text{min}$ .



لذا فالسرعة بدلالة استهلاك  $\text{N}_2$  تساوي بوحدة  $\text{mol/L} \cdot \text{min}$ .

أ - 0.150

ب - 0.075

ج - 0.175

د - 0.200


هـ - 0.300

وعندما يراد التعبير عن السرعة بدلالة مول واحد من اي مادة داخله في التفاعل يستخدم تعبير سرعة التفاعل (السرعة العامة للتفاعل) (Overall rate of reaction) وهي السرعة بدلالة مول واحد من اي من المواد المتفاعلة او الناتجة وعلى الصورة الاتية :

$$\text{Rate} = \frac{1}{n_j} \frac{\Delta[J]}{\Delta t}$$

### تمرين 3-5

اي من التعابير ادناه لا تمثل التعبير المناسب للسرعة العامة للتفاعل الاتي:



أ -  $\frac{-\Delta [A]}{\Delta t}$

ب -  $\frac{-\Delta [B]}{3\Delta t}$

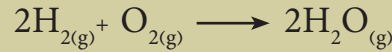
ج -  $\frac{-\Delta [F]}{\Delta t}$

د -  $\frac{-\Delta [G]}{2\Delta t}$

هـ -  $\frac{-\Delta [A]}{2\Delta t}$

### مثال 5 - 2 :

للتفاعل الآتي :



- عبر عن السرعة بدلالة التغيير في تركيز  $H_2$  و  $O_2$  و  $H_2O$
- احسب سرعة تكوين  $H_2O$  اذا كانت سرعة استهلاك  $O_2$  تساوي  $0.023 \text{ mol/L.s}$
- احسب مقدار  $H_2O$  المتكون بعد مرور  $18 \text{ s}$

### الحل :

$$\text{Rate}_{(H_2)} = (-) \frac{\Delta [H_2]}{\Delta t} \quad .1$$

$$\text{Rate}_{(O_2)} = (-) \frac{\Delta [O_2]}{\Delta t}$$

$$\text{Rate}_{(H_2O)} = \frac{\Delta [H_2O]}{\Delta t}$$

$$\frac{1}{2} \frac{\Delta [H_2O]}{\Delta t} = (-) \frac{\Delta [O_2]}{\Delta t} \quad .2$$

او

$$\text{Rate}_{(H_2O)} = 2 \text{ Rate}_{(O_2)}$$

$$\text{Rate}_{(H_2O)} = 2 \times 0.023 \text{ mol/L.s} = 0.046 \text{ mol/L.s} \quad .3$$


$$\text{Rate}_{(H_2O)} = \frac{\Delta [H_2O]}{\Delta t} = \frac{[H_2O]_2 - [H_2O]_1}{t_2 - t_1} = \frac{([H_2O]_2 - 0) \text{ mol/L}}{(18 - 0) \text{ s}}$$

$$[H_2O]_2 = \text{Rate}_{(H_2O)} \text{ mol/L.s} \times 18 \text{ s} = 0.046 \text{ mol/L.s} \times 18 \text{ s}$$

$$[H_2O]_2 = 0.828 \text{ mol/L}$$

### مثال 5 - 3 :

التفاعل بين غاز الاثيلين وغاز الاوزون يعبر عنه بالمعادلة الاتية :



وقد وجد بأن تركيز  $\text{O}_3$  تغير مع تقدم التفاعل كما في الجدول ادناه

| t/(s)                                   | 0    | 10   | 20   | 30   | 40   | 50   | 60   |
|---|------|------|------|------|------|------|------|
| $[\text{O}_3] / 10^{-5}/(\text{mol/L})$ | 3.20 | 2.42 | 1.95 | 1.63 | 1.40 | 1.23 | 1.10 |

- أ - احسب سرعة التفاعل خلال 10 s الاولى من التفاعل .  
 ب - احسب سرعة التفاعل خلال 10 s الاخيرة من التفاعل .  
 ج - ما سبب اختلاف سرعة التفاعل في الحالتين ؟

### الحل :

أ - سرعة التفاعل خلال 10 s الاولى من التفاعل .

$$\text{Rate}_{(\text{O}_3)} = - \frac{\Delta [\text{O}_3]}{\Delta t} = - \frac{[\text{O}_3]_2 - [\text{O}_3]_1}{t_2 - t_1}$$

$$= - \frac{(2.42 \times 10^{-5} - 3.20 \times 10^{-5}) \text{ mol/L}}{(10 - 0) \text{ s}} = 7.8 \times 10^{-7} \text{ mol/L} \cdot \text{s}$$

ب - سرعة التفاعل خلال 10 s الاخيرة من التفاعل .

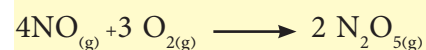
$$\text{Rate}_{(\text{O}_3)} = - \frac{\Delta [\text{O}_3]}{\Delta t} = - \frac{[\text{O}_3]_2 - [\text{O}_3]_1}{t_2 - t_1}$$

$$= - \frac{(1.10 \times 10^{-5} - 1.23 \times 10^{-5}) \text{ mol/L}}{(60 - 50) \text{ s}} = 1.3 \times 10^{-7} \text{ mol/L} \cdot \text{s}$$

ج- سرعة التفاعل خلال 10 s الاولى تساوي ست مرات بقدر سرعة التفاعل خلال 10 s الاخيرة، مما يدل على ان سرعة التفاعل غير ثابتة وتقل مع الزمن بدلالة تركيز المادة المتفاعلة نتيجة استهلاكها.

### تمرين 4-5

للتفاعل الاتي :



- أ- عبر عن سرعة التفاعل بدلالة التغير في تركيز كل مادة مع الزمن.  
 ب- احسب سرعة استهلاك  $\text{O}_2$  اذا كانت سرعة استهلاك NO تساوي  $1.60 \times 10^{-4} \text{ mol/L} \cdot \text{s}$



بشكل عام تتناسب سرعة التفاعل تناسباً طردياً مع حاصل ضرب تراكيز المواد المتفاعلة وكل تركيز مرفوع إلى أس معين .  
فللتفاعل العام الآتي :



تتناسب سرعة التفاعل مع تراكيز المواد المتفاعلة على النحو الآتي :

$$\text{Rate} \propto [A]^a [G]^g [H]^h$$

او على شكل مساواة

$$\text{Rate} = K [A]^a [G]^g [H]^h$$

يجب على الطالب ملاحظة ان عدد مولات المواد المتفاعلة  $a$  و  $g$  و  $h$  ليس لها علاقة مع مراتب المتفاعلات  $\alpha$  و  $\beta$  و  $\gamma$  وإنما تستنتج من التجارب العملية فقط. وتمثل  $\text{Rate}$  السرعة العامة للتفاعل بدلالة أي من المواد المتفاعلة او الناتجة أي:

$$\text{Rate} = - \frac{1}{a} \frac{\Delta[A]}{\Delta t}$$

$$\text{Rate} = - \frac{1}{g} \frac{\Delta[G]}{\Delta t}$$

$$\text{Rate} = - \frac{1}{h} \frac{\Delta[H]}{\Delta t}$$

$$\text{Rate} = \frac{1}{p} \frac{\Delta[P]}{\Delta t}$$

حيث  $[A]$  و  $[G]$  و  $[H]$  هي التراكيز المولارية لكل من  $A$  و  $G$  و  $H$  على التوالي.


تسمى  $\alpha$  بمرتبة المتفاعل  $A$  و  $\beta$  بمرتبة المتفاعل  $G$  و  $\gamma$  بمرتبة المتفاعل  $H$ . وتعرف المرتبة العامة للتفاعل  $n$  بأنها تساوي مجموع مراتب المتفاعلات وعلى الشكل الآتي:

$$n = \alpha + \beta + \gamma$$

وتأخذ  $n$  القيم صفرًا أو 1 أو 2 أو 3 كما وقد تكون قيمة كسرية. ويسمى  $K$  بثابت سرعة التفاعل ( Rate constant ) وتسمى العلاقة اعلاه المؤطرة بقانون سرعة التفاعل.

### تمرين 5-5

للتفاعل الغازي الآتي :



وجد بالتجربة ان قانون سرعته

$$\text{Rate} = K [A]^2 [B]$$

لذا فمرتبة هذا التفاعل

أ - مرتبة اولى

ب - مرتبة ثانية

ج - مرتبة ثالثة

د - مرتبة صفرية

هـ - مرتبة نصفية

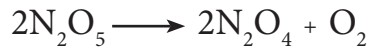
فاذا كان التفاعل من المرتبة الصفرية فمعنى هذا ان قيم  $\alpha$  و  $\beta$  و  $\gamma$  تساوي صفراً اي ان تغير تركيز المواد المتفاعلة لا يؤثر على سرعة التفاعل وبالتالي يكون قانون السرعة لتفاعلات المرتبة الصفرية على الصورة الآتية:

$$\text{Rate} = K$$

اما اذا كان التفاعل من المرتبة الأولى فمعنى ذلك ان قيمة  $\alpha = 1$  وقيمة  $\beta$  و  $\gamma$  تساوي صفراً، يكتب قانون السرعة على الشكل الآتي:

$$\text{Rate} = K [A]$$

وعلى سبيل المثال فالتفاعل التالي من المرتبة الأولى \*



قانون سرعة التفاعل له:

$$\text{Rate} = K [\text{N}_2\text{O}_5]$$

فالمرتبة العامة للتفاعل هي الأولى ( $n = 1$ )

اما اذا كان التفاعل من المرتبة الثانية فممكن كتابة قانون السرعة له على الاشكال الآتية:

$$\text{Rate} = K [A] [G]$$

او

$$\text{Rate} = K [A]^2$$

وهكذا بالنسبة للمراتب الأخرى. والأمثلة التالية توضح قانون السرعة ومراتب بعض التفاعلات.

فقانون سرعة التفاعل الآتي:



هو:

$$\text{Rate} = K [\text{NO}]^2 [\text{H}_2]$$

\* التفاعل من المرتبة الأولى بالنسبة للمتفاعل  $\text{H}_2$  والثانية بالنسبة للمتفاعل  $\text{NO}$ ، لهذا فالمرتبة العامة للتفاعل هي الثالثة اي  $n = 3$ . وللتفاعل الآتي :



قانون سرعة التفاعل له:

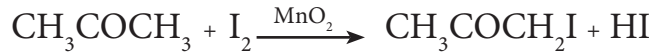
$$\text{Rate} = K [(\text{CH}_3)_3\text{CBr}]$$

التفاعل من المرتبة الأولى بالنسبة للمتفاعل  $(\text{CH}_3)_3\text{CBr}$  ومن المرتبة الصفرية بالنسبة للمتفاعل  $\text{H}_2\text{O}$  والمرتبة العامة للتفاعل هي الأولى اي ان  $n = 1$ .

\* يلاحظ الطالب ان مرتبة المتفاعل في قانون سرعة التفاعل قد لا تتوافق مع عدد مولات ذلك المتفاعل في المعادلة الموزونة ، لذا من الضروري استحداث مصطلح جزيئية التفاعل ومقارنته مع مرتبة التفاعل .

تعرف جزيئية التفاعل بانها عدد جزيئات او أيونات المواد المتفاعلة في المعادلة الموزونة والتي يمكن ايجادها نظرياً من عدد المولات . اما مرتبة التفاعل فهي قيمة لا يمكن معرفتها الا عن طريق التجربة ، وهناك فرق اخر ان مرتبة التفاعل قد تكون صفراً بينما لا يمكن لجزيئية التفاعل ان تكون هكذا .

وللتفاعل بين الأستون واليود بوجود  $MnO_2$  كعامل مساعد.



لوحظ ان سرعته لا تعتمد على تراكيز المواد المتفاعلة وقانون السرعة لهذا التفاعل هو

$$Rate = K$$

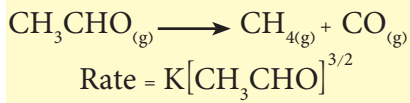
وبهذا يكون هذا التفاعل من المرتبة الصفرية

من الأمثلة اعلاه يتضح بان قانون سرعة التفاعل ومرتبته لا يمكن استنتاجها بمجرد النظر للمعادلة الكيميائية الموزونة للتفاعل، بل يجب تحديد ذلك عن طريق التجربة فقط، اي ان قيم  $\alpha$  و  $\beta$  و  $\gamma$  لا تتحدد بعدد مولات المواد المتفاعلة  $a$  و  $g$  و  $h$  كما في التفاعل

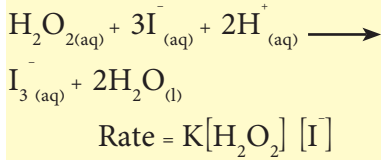


### تمرين 5-6

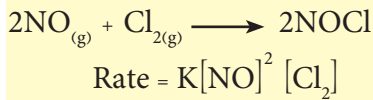
حدد مراتب المتفاعلات والمرتبة العامة لكل من التفاعلات الآتية :



ب -



ج -

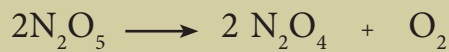


### 5-3-1 تحديد مراتب التفاعل

لتوضيح كيفية تعيين قيم  $\alpha$  و  $\beta$  و  $\gamma$  عمليا تستخدم عدة طرق تجريبية، سنتطرق هنا الى احداها. تتضمن هذه الطريقة اجراء عدد من التجارب يتم فيها تغيير تركيز احد المواد المتفاعلة وابقاء تراكيز المواد المتفاعلة الأخرى ثابتة، وبذلك نجد مرتبة المتفاعل المتغير تركيزه، وهكذا بالنسبة للمواد المتفاعلة الأخرى. ويمكن شرح هذه الطريقة بالأمثلة الآتية:

### مثال 5 - 4 :

التفاعل الآتي يجري عند درجة حرارة معينة :



تم قياس سرعة التفاعل عند تراكيز مختلفة من المادة المتفاعلة  $N_2O_5$  وتم الحصول على البيانات الواردة في الجدول ادناه.

| Exp.No. | $[N_2O_5] / \text{mole/L}$ | Rate / mole / L.s    |
|---------|----------------------------|----------------------|
| 1       | 0.0113                     | $6.7 \times 10^{-6}$ |
| 2       | 0.0084                     | $5.0 \times 10^{-6}$ |
| 3       | 0.0042                     | $2.5 \times 10^{-6}$ |

حدد مرتبة المتفاعل واستنتج قانون سرعة التفاعل والمرتبة العامة له .

## الحل :

1 - نكتب قانون سرعة التفاعل

$$\text{Rate} = K [\text{N}_2\text{O}_5]^\alpha$$

2 - لتحديد قيمة  $(\alpha)$  نختار اي تجربتين مثل 1 و 2 ونعوض نتائج كل تجربة في قانون السرعة ونقسم احدى المعادلتين على الاخرى ونبسط الكسر فنحصل على قيمة  $(\alpha)$  :

$$\frac{\text{Rate}_1}{\text{Rate}_2} = \frac{K [\text{N}_2\text{O}_5]_1^\alpha}{K [\text{N}_2\text{O}_5]_2^\alpha}$$

$$\frac{6.7 \times 10^{-6}}{5.0 \times 10^{-6}} = \frac{K (0.0113)^\alpha}{K (0.0084)^\alpha}$$

$$(1.34)^1 = (1.34)^\alpha \Rightarrow \alpha = 1$$

لذلك تكون قيمة  $\alpha$  تساوي الواحد الصحيح، لذا يكون التفاعل من المرتبة الأولى وقانون سرعته يكتب على النحو الآتي :

$$\text{Rate} = K [\text{N}_2\text{O}_5]$$

## 2-3-5 ايجاد قيمة ثابت سرعة التفاعل

ثابت سرعة التفاعل مقدار ثابت لا يتغير الا بتغير درجة الحرارة، وتُحسب قيمته من تعويض نتائج احدى التجارب في قانون سرعة التفاعل، وكما في المثال الاتي :

## مثال 5 - 5 :

احسب قيمة ثابت السرعة للتفاعل في المثال 4-5 .

## الحل :

لأيجاد قيمة ثابت السرعة نعوض نتائج احدى التجارب في قانون سرعة التفاعل الذي حصلنا عليه في المثال السابق وكما الآتي :

$$\text{Rate} = K [\text{N}_2\text{O}_5]$$


لنفترض اننا اخترنا التجربة رقم (1) ونعوض قيمها في العلاقة اعلاه

$$6.7 \times 10^{-6} \text{ mol/L.s} = K (0.0113) \text{ mol/L}$$

$$K = \frac{6.7 \times 10^{-6} \text{ mol/L.s}}{(0.0113) \text{ mol/L}} = 5.95 \times 10^{-4} \text{ s}^{-1}$$

## تمرين 7-5

للتفاعل الغازي الاتي :



وجد بالتجربة ان قانون سرعته


$$\text{Rate} = K [\text{A}]^2 [\text{B}]$$

فاذا ما جعل تركيز A ثلاثة امثاله وتركيز B ضعفه فستزداد سرعة التفاعل بمقدار :

- أ - 6    ب - 9    ج - 12    د - 18  
هـ - 36

## تمرين 8-5

التفاعل الغازي الاتي



له قانون السرعة الاتي :

$$\text{Rate} = K [\text{NO}]^2 [\text{H}_2]$$

فاذا ما قلل تركيز NO الى النصف وزيد تركيز  $\text{H}_2$  الى ثلاثة اضعافه فالتغير في سرعة التفاعل بالنسبة

للسرعة الاولى سيكون :

أ - يقل بمقدار 4/3

ب - يزداد بمقدار 4/3

ج - يزداد بمقدار 2/3

د - يقل بمقدار 2/3

هـ - يبقى نفسه

### 3-3-5 وحدات ثابت السرعة

تختلف وحدات ثابت السرعة باختلاف المرتبة العامة للتفاعل ووحدة الزمن المستخدمة للتعبير عن سرعة التفاعل ، ويمكن استنتاجها رياضياً من التعويض في قانون سرعة التفاعل ، او من تطبيق القانون الاتي :

$$\text{وحدة ثابت السرعة} = \frac{[M]^{1-n}}{t} = \frac{\left[\frac{\text{mol}}{L}\right]^{1-n}}{t}$$

حيث n تمثل مرتبة التفاعل العامة و M المولارية ويبين الجدول (5 - 1) وحدات ثابت السرعة للمراتب المختلفة اذا كان الزمن معبراً عنه بالثانية (s).

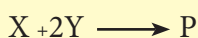
| الجدول (5 - 1) وحدات ثابت السرعة المقابلة للمرتبة العامة للتفاعل |   |
|--|---|
| المرتبة (n)  | وحدات ثابت السرعة المقابلة للمرتبة العامة للتفاعل   |
| 0  | M. s <sup>-1</sup> او mol L <sup>-1</sup> s <sup>-1</sup> او mol/L. s   |
| 1  | s <sup>-1</sup> او 1/s  |
| 2  | M <sup>-1</sup> . s <sup>-1</sup> او L.mol <sup>-1</sup> s <sup>-1</sup> او L/mol. s  |
| 3  | M <sup>-2</sup> . s <sup>-1</sup> او L. <sup>2</sup> mol <sup>-2</sup> s <sup>-1</sup> او L <sup>2</sup> /mol <sup>2</sup> .s |

#### تمرين 5-9

استخدم قيمة ثابت السرعة المحسوبة في المثال 5-5 لحساب سرعة استهلاك N<sub>2</sub>O<sub>5</sub> عندما يكون تركيزه مساوياً 0.1 mol/L عند نفس درجة الحرارة المعينة .

#### تمرين 5-10

للتفاعل الاتي :



وجد انه من المرتبة الاولى بالنسبة ل X ومن المرتبة الثانية بالنسبة ل Y وحدات ثابت سرعة هذا التفاعل اذا كان الزمن بالثانية هو :

أ - M.s<sup>-1</sup>

ب - M<sup>-2</sup>.s<sup>-1</sup>

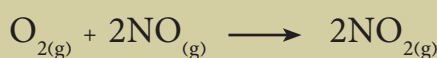
ج - M<sup>-3</sup>.s

د - M<sup>2</sup>.s<sup>-1</sup>

هـ - M<sup>-1</sup>.s<sup>-1</sup>

#### مثال 5 - 6 :

للتفاعل الاتي :



حدد مراتب المتفاعلات واستنتج قانون سرعة التفاعل والمرتبة العامة له وثابت السرعة من نتائج التجارب في الجدول ادناه :

| Exp.No. | [O <sub>2</sub> ] / mole/ L | [NO] / mole/ L        | Rate / mole / L.s     |
|---------|-----------------------------|-----------------------|-----------------------|
| 1       | 1.10×10 <sup>-2</sup>       | 1.30×10 <sup>-2</sup> | 3.20×10 <sup>-3</sup> |
| 2       | 2.20×10 <sup>-2</sup>       | 1.30×10 <sup>-2</sup> | 6.40×10 <sup>-3</sup> |
| 3       | 1.10×10 <sup>-2</sup>       | 2.60×10 <sup>-2</sup> | 12.8×10 <sup>-3</sup> |
| 4       | 3.30×10 <sup>-2</sup>       | 1.30×10 <sup>-2</sup> | 9.60×10 <sup>-3</sup> |
| 5       | 1.10×10 <sup>-2</sup>       | 3.90×10 <sup>-2</sup> | 28.8×10 <sup>-3</sup> |

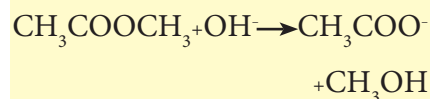
#### الحل :

نكتب قانون سرعة التفاعل  $\text{Rate} = K [O_2]^{\alpha} [NO]^{\beta}$

لتحديد قيمة (α) نختار تجربتين مثل 1 و 2 حيث [NO] ثابت في التجربتين بينما [O<sub>2</sub>] متغير ونعوض نتائج كل تجربة في قانون السرعة ونقسم احدى المعادلتين على الاخرى ونبسط الكسر فنحصل على قيمة (α) .

### تمرين 11-5

للتفاعل الآتي :



ومن نتائج التجارب الثلاثة في الجدول أدناه:

| $[\text{C}_3\text{H}_6\text{O}_2]$ | $[\text{OH}^-]$ | Rate/ mol/L. s |
|------------------------------------|-----------------|----------------|
| 0.040                              | 0.040           | 0.000225       |
| 0.040                              | 0.080           | 0.00045        |
| 0.080                              | 0.080           | 0.00090        |

أ - حدد مراتب المتفاعلات .

ب - استنتج قانون سرعة التفاعل .

ج - جد قيمة ثابت السرعة .

$$\frac{\text{Rate}_2}{\text{Rate}_1} = \frac{K [\text{O}_2]_2^\alpha [\text{NO}]_2^\beta}{K [\text{O}_2]_1^\alpha [\text{NO}]_1^\beta}$$

$$\frac{6.40 \times 10^{-3}}{3.20 \times 10^{-3}} = \frac{K (2.20 \times 10^{-2})^\alpha (1.30 \times 10^{-2})^\beta}{K (1.10 \times 10^{-2})^\alpha (1.30 \times 10^{-2})^\beta}$$

$$(2)^1 = (2)^\alpha \Rightarrow \alpha = 1$$

لذا فالتفاعل من المرتبة الأولى بالنسبة لـ  $\text{O}_2$  .

لتحديد قيمة  $(\beta)$  نختار التجريبتين 1 و 3 حيث  $[\text{O}_2]$  ثابت في التجريبتين بينما  $[\text{NO}]$  متغير ونعوض نتائج كل تجربة في قانون السرعة ونقسم إحدى المعادلتين على الأخرى ونبسط الكسر فنحصل على قيمة  $(\beta)$  .

$$\frac{\text{Rate}_3}{\text{Rate}_1} = \frac{K [\text{O}_2]_3^\alpha [\text{NO}]_3^\beta}{K [\text{O}_2]_1^\alpha [\text{NO}]_1^\beta}$$

$$\frac{12.80 \times 10^{-3}}{3.20 \times 10^{-3}} = \frac{K (1.10 \times 10^{-2})^\alpha (2.60 \times 10^{-2})^\beta}{K (1.10 \times 10^{-2})^\alpha (1.30 \times 10^{-2})^\beta}$$

$$(4) = (2)^\beta \Rightarrow (2)^2 = (2)^\beta \Rightarrow \beta = 2$$

لذا فالتفاعل من المرتبة الثانية بالنسبة لـ  $\text{NO}$  .

المرتبة العامة للتفاعل تساوي

$$n = \alpha + \beta = 1 + 2 = 3$$

وعليه قانون سرعة التفاعل هو  $\text{Rate} = K [\text{O}_2] [\text{NO}]^2$

نستخدم المعلومات في واحدة من التجارب في الجدول أعلاه ونعوضها في قانون سرعة التفاعل للحصول على قيمة ثابت السرعة، فلو استخدمنا المعلومات من التجربة 2

$$\text{Rate} = K [\text{O}_2] [\text{NO}]^2$$

$$6.4 \times 10^{-3} \text{ mol/L.s} = K (2.20 \times 10^{-2}) \text{ mol/L} (1.30 \times 10^{-2})^2 \text{ mol}^2 / \text{L}^2$$

$$K = \frac{6.4 \times 10^{-3} \text{ mol/L.s}}{(2.20 \times 10^{-2}) \text{ mol/L} (1.30 \times 10^{-2})^2 \text{ mol}^2 / \text{L}^2} = 1721.4 \text{ L}^2 / \text{mol}^2 . \text{s}$$

نلاحظ ان وحدة ثابت السرعة لتفاعلات المرتبة الثالثة هي  $\text{L}^2 / \text{mol}^2 . \text{s}$

لقد تم وضع عدد من النظريات لتفسير كيفية حدوث التفاعل الكيميائي واهم هذه النظريات نظريتان هما نظرية التصادم ونظرية الحالة الانتقالية او تسمى نظرية المعقد المنشط حيث فسرت الأولى كيفية حدوث التفاعل على الاساس الظاهري للعيان اما الثانية فسرت حدوث التفاعل بطريقة ما يحدث داخل الجزيئات عند خضوعها لتفاعل وسنشرح باختصار كلا النظريتين.

## تمرين 5-12

ما هي النصوص ادناه الخاطئة بالنسبة لفرضيات نظرية التصادم :  
أ - حدوث التصادم بين الجزيئات المتفاعلة شرط اساسي لحدوث التفاعل.  
ب - جميع التصادمات بين الجزيئات تؤدي لتكوين النواتج.  
ج - لتتكون النواتج يجب ان تكون الجزيئات المتصادمة في الوضع الفراغي المناسب.

## 1-4-5 نظرية التصادم Collision Theory

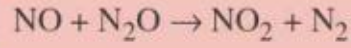
تختلف سرعة التفاعلات الكيميائية باختلاف خواص الدقائق المتفاعلة ( الذرات او الجزيئات او الأيونات ) وبأختلاف ظروف التفاعل، ولتوضيح كيف تحصل التفاعلات الكيميائية وسبب اختلاف سرعتها وضعت نظرية التصادم والتي تنص فرضياتها على ما يأتي :  
1 . يحصل التفاعل الكيميائي نتيجة تصادم دقائق المواد المتفاعلة مع بعضها، وافترضت النظرية بان شكل الدقائق المتصادمة كرويا.

2 . سرعة التفاعل تتناسب طرديا مع عدد التصادمات الحاصلة بين دقائق المواد المتفاعلة في وحدة الزمن . حيث يمكن القول انه كلما زاد عدد الاصطدامات بين دقائق المواد المتفاعلة زادت احتمالية حدوث التفاعل.

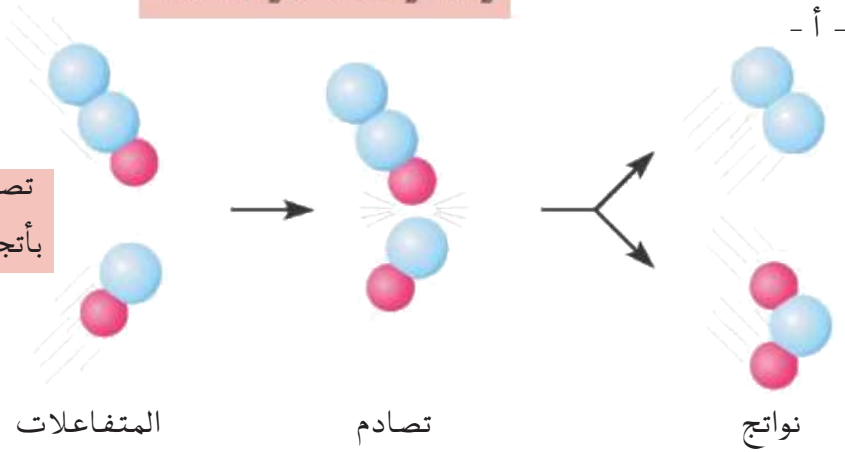
3 . لا تكون جميع التصادمات فعالة وتقود الى تكوين نواتج، وذلك بدلالة ان عدد الاصطدامات الحاصلة بين الدقائق عدد هائل ويبلغ حوالي  $1 \times 10^{27}$  اصطدام في الثانية الواحدة بين جزيئات غاز حجمه واحد لتر في الظروف الاعتيادية. فلماذا اذا كان مثل هذا العدد الهائل من الاصطدامات يؤدي الى تكوين نواتج لأكتملت جميع التفاعلات في لحظة خلط المواد المتفاعلة. لذلك فان معظم الاصطدامات هي غير فعالة ولا تؤدي الى نواتج. وحتى يكون الاصطدام فعالاً يجب ان يتوافر فيه الشرطان الآتيان:

1 . أن تمتلك الجزيئات المتصادمة حد أدنى من الطاقة الكامنة فيها للتغلب على قوة التنافر فيما بينها عند الاصطدام وتكسر روابط المواد المتفاعلة وتحويلها إلى النواتج. يسمى هذا الحد الأدنى من الطاقة اللازمة للتفاعل بطاقة التنشيط ( Activation energy ) .

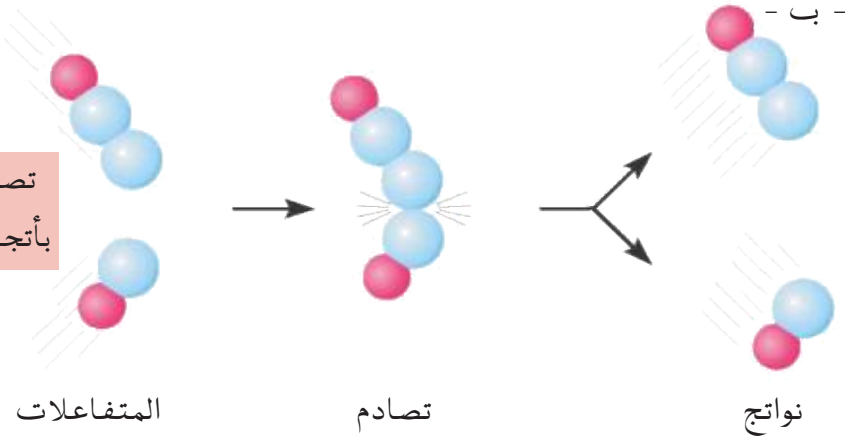
2 . أن يكون اتجاه الجزيئات المتصادمة مناسباً ، أي ان تكون الجزيئات بوضع فراغي ( هندسي ) مناسب وبالاتجاه الصحيح عند التصادم والذي يؤدي إلى تكوين النواتج المطلوبة . لتوضيح ذلك لندرس الشكل ( 5 - 4 ) .



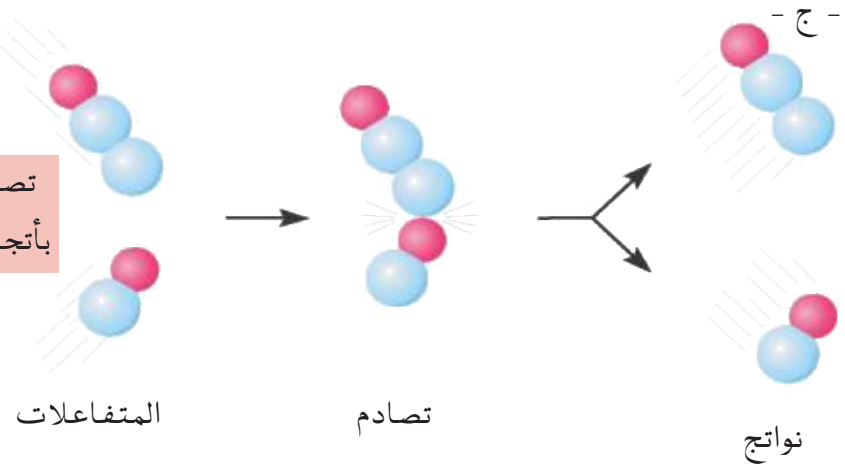
تصادم فعال  
بأتجاه صحيح



تصادم غير فعال  
بأتجاه غير صحيح



تصادم غير فعال  
بأتجاه غير صحيح



مما تقدم نجد أنه ولكي يحدث التفاعل حسب هذه النظرية لا بد من امتلاك الجزيئات الحد الأدنى من طاقة التنشيط وأن يكون تصادمها موجهاً فراغياً بالاتجاه الصحيح. ان من المعلوم أن الطاقة الداخلية ( الكلية ) لأية دقيقة متحركة تساوي مجموع الطاقة الحركية والطاقة الكامنة التي تمتلكها، والجزيئات المتحركة بسرعة كبيرة تمتلك طاقة حركية عالية وطاقة كامنة واطئة فعند اقتراب جزيئتين متحركتين بسرعة كبيرة من بعضهما فإن جزء

#### الشكل 4-5

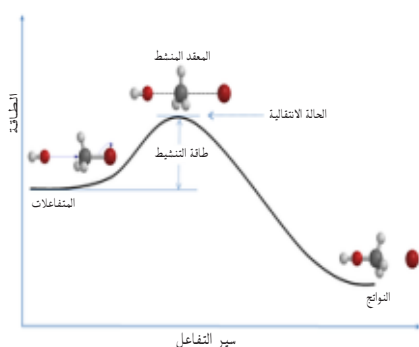
بعض انواع التصادمات بين جزيئات  $\text{NO}$  و  $\text{N}_2\text{O}$  في الحالة الغازية.  
(أ) اصطدام فعال يؤدي الى تكوين نواتج.  
(ب و ج) تصادمات غير فعالة وذلك لأن اتجاه الجزيئات المتصادمة غير صحيح.



من الطاقة الحركية لكل منهما سوف يتحول الى طاقة كامنة وذلك بسبب حصول التنافر بينهما والنتائج عن وجود الالكترونات في اغلفتها الخارجية، وفي لحظة التصادم تتوقف الجزيئتان عن الحركة وتتحول الطاقة الحركية لكل منهما الى طاقة كامنة للتصادم، فإذا كانت هذه الطاقة اقل من طاقة التنشيط للتفاعل فأنهما سوف ترتدان عن بعضهما دون ان يحصل تفاعل بينهما (اصطدام غير فعال Noneffective Collision) [الشكل (4-5) (ب) و(ج)]، وفي حالة امتلاكهما لطاقة حركية كافية فسوف تندفعان بقوة كبيرة وبسرعة عالية تمكنهما من التغلب على قوة التنافر والدخول في التفاعل (اصطدام فعال Effective Collision) [الشكل (4-5) (أ)].

في الحقيقة والواقع ان نظرية التصادم فشلت في إعطاء القيم الحقيقية لسرع التفاعلات عند اختبارها ويعود سبب الفشل لهذه النظرية بالأساس على افتراضها بأن الجزيئات جميعها كروية الشكل وهذا في واقع الحال لا ينطبق إلا على عدد ضئيل من الجزيئات التي هي أحادية الذرة. لذلك اقترح علماء آخرون نظرية جديدة لتفسير كيفية حدوث التفاعل وهي نظرية الحالة الانتقالية أو تسمى نظرية المعقد المنشط .

### 2-4-5 نظرية الحالة الانتقالية



الشكل 5-5

سير التفاعل وفق نظرية الحالة الانتقالية.

بينت هذه النظرية أنه في جميع التفاعلات الكيميائية لا يمكن أن تتكون المواد الناتجة مباشرة ، بل لا بد أن تمر بما يسمى بالحالة الانتقالية النشطة ، وهي التي يتكون عندها ما يسمى بالمعقد المنشط (Activated complex) وهو مركب نشط غير ثابت اقترح بأن تركيبه وسطا بين المواد المتفاعلة والمواد الناتجة ، (لذلك تسمى هذه النظرية بنظرية المعقد المنشط (Activated complex theory) أيضاً ويكون في حالة توازن مع المواد المتفاعلة [الشكل (5-5)]. أن طاقة هذا المركب أكبر دوماً من طاقة المواد المتفاعلة والناتجة. والجدير بالذكر أنه لا يمكن فصل المعقد المنشط في الغالب ولكنه يمكن أن يتفكك أما لإعطاء النواتج أو لإعطاء المواد المتفاعلة حسب ظروف التفاعل .

ومن الامثلة المهمة لتوضيح فكرة نظرية التصادم ونظرية الحالة الانتقالية هي التفاعل الحاصل بين ايون اليوديد  $I^-$  وكلوريد الميثيل  $CH_3Cl$ .



ويحدث هذا التفاعل حسب الطريقة الموضحة في الشكل (5-6). يبدأ التفاعل بإصطدام أيون اليوديد  $I^-$  مع جزيء كلوريد الميثيل  $CH_3Cl$

من خلف الاصرة C-Cl من خلال وسط ذرات الهيدروجين الثلاث، حيث يبدأ نشوء الاصرة بين الكربون واليود بينما تستطيل وتضعف الاصرة بين الكربون والكلور وتتكون الحالة الانتقالية للتفاعل (المعقد المنشط) والذي يحتوي على ثلاث اواصر اعتيادية C-H وارتباطين ضعيفين (اواصر جزئية) بين الكربون واليود C-I والكربون والكلور C-Cl. وبزيادة قوة الارتباط بين الكربون واليود تنشأ الاصرة بينهما، بينما تنكسر الاصرة بين الكربون والكلور فينصل ايون الكلوريد ويتم التفاعل [الشكل (5-6 أ)].

اما اذا كان التصادم بين ايون اليوديد وجزئ كلوريد الميثيل في الاتجاه غير الصحيح فعندها تبقى المواد المتفاعلة على ما هي عليه ولا يحدث التفاعل، لاحظ الشكل (5-6 ب).

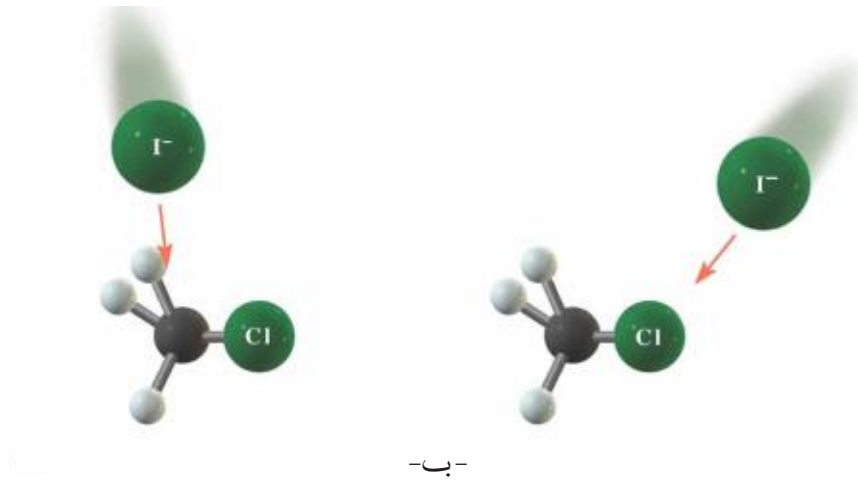


الشكل 6-5

بعض انواع التصادمات بين الجزيئات في الحالة الغازية.

أ- اصطدام فعال يودي الى تكوين نواتج.

ب- تصادمات غير فعالة وذلك لان اتجاه الجزيئات المتصادمة غير صحيح اضافة لعدم امتلاكها الطاقة الكافية لحصول اصطدام فعال



## 5-5 حرارة التفاعل

ترتبط سرعة التفاعل الكيميائي بطاقة التنشيط، فكلما كانت قيمة طاقة التنشيط كبيرة كان التفاعل بطيئاً، ويكون التفاعل سريعاً كلما كانت طاقة التنشيط صغيرة. يصاحب التفاعل الكيميائي تغير في الطاقة وذلك نتيجة امتصاص او انبعاث كمية من الحرارة وهذه الكمية تمثل الفرق بين طاقة المواد الناتجة وطاقة المواد المتفاعلة وتسمى بحرارة التفاعل وتحسب على النحو الآتي:

$$\text{حرارة التفاعل} = \text{طاقة المواد الناتجة} - \text{طاقة المواد المتفاعلة}$$

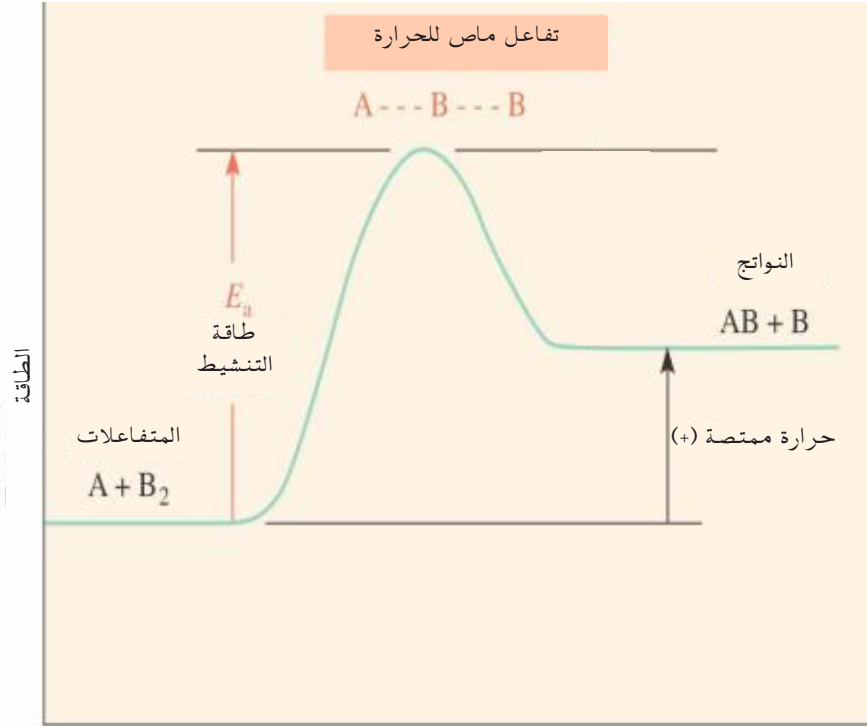
يكون التفاعل ماص للحرارة عندما تكون حرارة التفاعل قيمة موجبة، اي ان طاقة المواد الناتجة اكبر من طاقة المواد المتفاعلة وحسب ما موضح في الشكل (7-5).

### الشكل 7-5

مخطط حدوث التفاعل الاتي



عندما تكون طاقة المواد الناتجة اكبر من طاقة المواد المتفاعلة يكون التفاعل ماص للحرارة اي اشارة قيمة الحرارة (+).




سير التفاعل

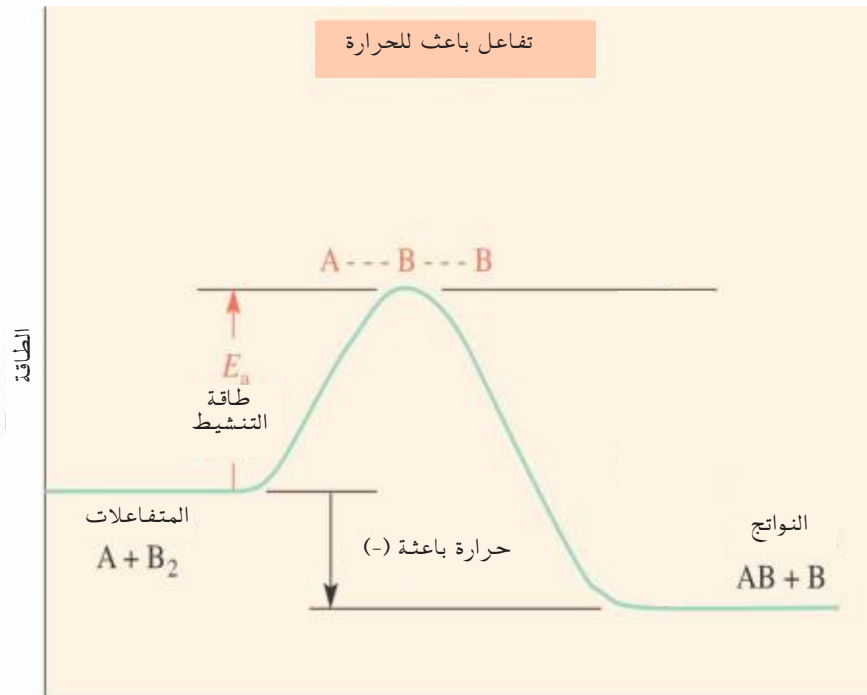
اما اذا كانت كمية حرارة التفاعل قيمة سالبة، اي ان طاقة المواد الناتجة > طاقة المواد المتفاعلة، يكون التفاعل باعث للحرارة وكما يبينه الشكل (8-5).

### الشكل 8-5

مخطط حدوث التفاعل الاتي



عندما تكون طاقة المواد الناتجة اصغر من طاقة المواد المتفاعلة يكون التفاعل باعث للحرارة اي اشارة قيمة الحرارة (-).



سير التفاعل

## طاقة التنشيط Activation Energy

تعرف طاقة التنشيط بانها الحد الادنى من الطاقة اللازمة التي يجب ان تمتلكها المواد المتفاعلة كي يكون التصادم فعالاً.

### 7-5 العوامل المؤثرة في سرعة التفاعل

تختلف التفاعلات في سرعتها فبعضها بطيئة والبعض الاخر سريعة وتحت نفس الظروف، ويمكن تغيير سرعة التفاعل عن طريق التحكم بالعوامل المؤثرة في سرعة التفاعل وهي :

#### 1-7-5 التركيز Concentration

لقد لاحظنا من دراستنا لقانون سرعة التفاعل بان زيادة تركيز احد المواد المتفاعلة يؤدي غالبا الى زيادة سرعة التفاعل، ويوضح الشكل (5-9) اثر زيادة تركيز الاوكسجين في سرعة التفاعل حيث تضيء الشظية المشتعلة في الهواء والذي يحتوي على غاز الاوكسجين بنسبة 20%، لكنها تتوهج بشكل لهب عند ادخالها في قنينة مملوءة بغاز الاوكسجين والسبب هو ازدياد تركيز الاوكسجين والذي يؤدي الى ازدياد سرعة الاشتعال.



الشكل 5-9

ازدياد سرعة اشتعال الشظية بازدياد تركيز الاوكسجين (يمين) اشتعال الشظية في الهواء (يسار) توهج الشظية المشتعلة داخل قنينة مملوءة بغاز الاوكسجين

وكما ان للتركيز اثره في زيادة سرعة التفاعلات التي تشتمل على مواد متفاعلة في الحالة السائلة، فان للضغط تأثيرا مشابها على التفاعلات التي تشتمل على مواد متفاعلة في الحالة الغازية. ان زيادة الضغط يعمل على تقليل حجم الغاز وبالتالي زيادة تركيزه مما يزيد من سرعة التفاعل الكيميائي.

### 2-7-5 الطبيعة الفيزيائية وطبيعة المواد المتفاعلة

تعتمد سرعة التفاعلات الكيميائية على الحالة الفيزيائية للمواد المتفاعلة، فلو كان لنا على سبيل المثال ثلاث قطع من الفلزات الصوديوم والخاصين والقصدير لها نفس الحجم ووضعنا كل قطعة في محلول حامض الهيدروكلوريك له نفس التركيز فإننا نجد أن قطعة الصوديوم تتفاعل بشدة، أما قطعة الخاصين فسوف يكون تفاعلها بمعدل أقل وبالنسبة لقطعة القصدير فانها ستتفاعل ببطء شديد. لذا تعتبر الحالة الفيزيائية للمواد المتفاعلة مهمة جدا لتحديد فعاليتها وسرعة تفاعلها وكما هو الحال بالنسبة لفعالية الفسفور الابيض والاحمر [الشكل (5-10)].



الشكل 10-5

#### الشكل 10-5

يمتلك الفسفور صورتين . فالفسفور الابيض (فوق) يشتعل ويحترق بسرعة عند تعرضه لأكسجين الهواء لذلك يجب تخزينه تحت الماء . بينما الفسفور الاحمر (تحت) يتفاعل ببطء شديد جداً مع الهواء لذلك يمكن تخزينه بقناني مفتوحة .

تزداد المساحة السطحية لكتلة معينة من المادة كلما صغر حجم الدقائق المكونة لها، وبأزدياد المساحة السطحية تزداد المساحة المعرضة للتفاعل فيزداد عدد التصادمات وتزداد سرعة التفاعل، [الشكل (11-5)] ويمكن زيادة المساحة السطحية للمادة الصلبة ، اما بأذابتها في مذيب فيعمل المذيب على فصل الدقائق عن بعضها او بطحنها وتحويلها الى مسحوق ناعم .

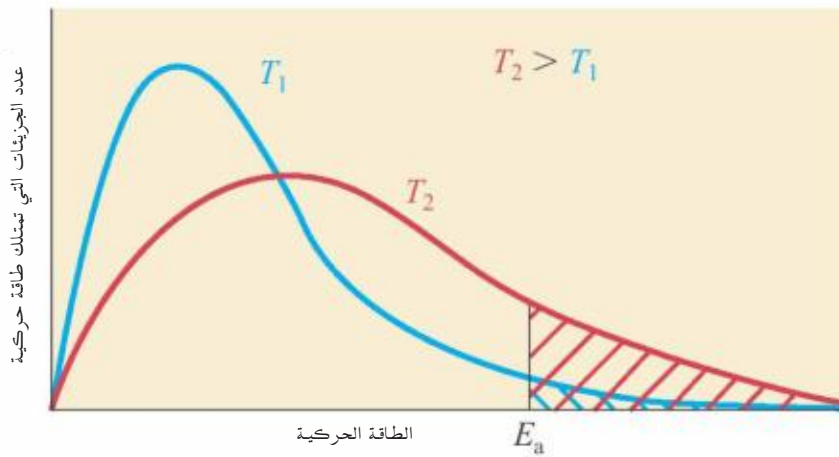


الشكل 11-5

يتفاعل مسحوق الطباشير (عبارة عن كربونات الكالسيوم  $\text{CaCO}_3$  غير النقية) بسرعة مع حامض الهيدروكلوريك المخفف لانه يمتلك مساحة سطحية كبيرة، بينما اصعب الطباشير الذي يمتلك مساحة سطحية صغيرة يكون تفاعله ابطأ بكثير.

### 3-7-5 درجة الحرارة Temperature

تزداد سرعة التفاعل بأرتفاع درجة الحرارة وتنخفض بأنخفاضها، وذلك لأن ارتفاع درجة الحرارة يؤدي الى زيادة سرعة الجزيئات المتفاعلة فيزداد عدد تصادماتها وكذلك يزداد عدد الجزيئات التي تمتلك طاقة حركية تساوي او تفوق طاقة التنشيط للتفاعل والتي تستطيع ان تتفاعل لتكوين الناتج ، وكما موضح في الشكل (12-5).



معظم التفاعلات تتضاعف سرعتها بأرتفاع درجة الحرارة عشرة درجات ( $10^\circ\text{C}$ ) وذلك بسبب ازدياد نسبة الجزيئات الداخلة في التفاعل وكما موضح في الجدول (2-5).

| الجدول 2-5 تتضاعف سرعة التفاعل بأرتفاع درجة حرارة التفاعل ( $10^\circ\text{C}$ ) |                                 |
|--|---------------------------------|
| درجة الحرارة   | عدد الجزيئات الداخلة في التفاعل |
| $25^\circ\text{C}$ ( $298\text{ K}$ )  | $1.70 \times 10^{-9}$           |
| $35^\circ\text{C}$ ( $308\text{ K}$ )  | $3.29 \times 10^{-9}$           |
| $45^\circ\text{C}$ ( $318\text{ K}$ )  | $6.12 \times 10^{-9}$           |

الشكل 12-5


إن ارتفاع درجة الحرارة يؤدي إلى زيادة ملحوظة في عدد الجزيئات التي لها طاقات عالية تساوي أو تفوق طاقة التنشيط مما سيزيد من عدد اصطداماتها وبالتالي سرعة التفاعل .

#### هل تعلم

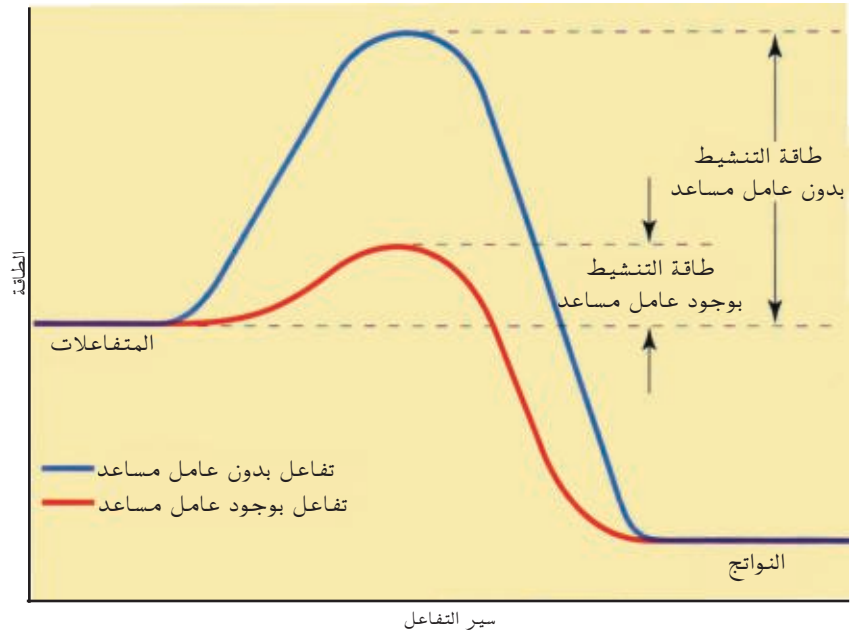
الخليط المكون من غبار الفحم والهواء خليط قابل للانفجار عند ارتفاع درجة الحرارة وقد يسبب انفجار مناجم الفحم ، وكذلك الخليط المكون من غبار الطحين والهواء قد يسبب انفجار معامل الطحين وللسبب نفسه .

العامل المساعد هو المادة التي تزيد من سرعة التفاعل دون ان تستهلك خلاله، وفي اغلب التفاعلات يكون تأثير اضافة العامل المساعد اقوى من تأثير ارتفاع درجة الحرارة على سرعة التفاعل، اذ يعمل العامل المساعد على خفض مستوى طاقة التنشيط للتفاعل فيزداد عدد الدقائق المتصادمة التي تمتلك طاقة حركية تساوي او تفوق طاقة التنشيط فتستطيع ان تتفاعل مكونة المادة الناتجة، كما موضح في الشكل (5-13) يلاحظ من الشكل أن خفض طاقة التنشيط للتفاعل يؤدي أيضا إلى فتح مسلك جديد يختلف عن سير المسلك الأول قبل إضافة العامل المساعد وذلك بتكون معقد منشط جديد بطاقة اوطى.

يمكن توضيح تأثير العامل المساعد على زيادة سرعة تفاعل الهيدروجين مع الاوكسجين :



اذ ان التفاعل يكاد لا يحصل بدرجة الحرارة الاعتيادية ، ولكن يجرى بشكل سريع عند اضافة قليل من مسحوق البلاتين كعامل مساعد .

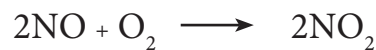


الشكل 5-13

العامل المساعد يخفض طاقة التنشيط ويزيد سرعة التفاعل .

## 8-5 ميكانيكية التفاعل

تحدث معظم التفاعلات الكيميائية عبر عدد من الخطوات المتتابعة التي تمثل بما يسمى بميكانيكية التفاعل. والتفاعلات التي تحدث بأكثر من خطوة واحدة تسمى بالتفاعلات المعقدة ، بينما تسمى التفاعلات التي تحدث خلال خطوة واحدة بالتفاعلات الأولية. وعليه فالتفاعل المعقد يشتمل على أكثر من تفاعل أولي . فعلى سبيل المثال يحدث التفاعل بين  $\text{NO}$  و  $\text{O}_2$  حسب الآتي:



ولقد وجد عمليا أن هذا التفاعل يحدث بخطوتين


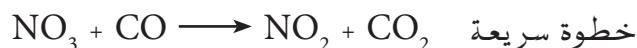


وكل خطوة من هاتين الخطوتين عبارة عن تفاعل أولي. ولو جمعنا المعادلتين (1) و (2) لحصلنا على التفاعل العام أعلاه. يدعى المركب  $\text{N}_2\text{O}_2$  بالمركب الوسيط والذي يعرف بأنه مركب ينتج في أحد خطوات التفاعل الأولي ويستهلك في خطوة أخرى من هذه التفاعلات. لذا فالمركب الوسيط لا يظهر في المعادلة العامة للتفاعل لكنه يظهر في خطوات ميكانيكية التفاعل أو ما يسمى بخطوات التفاعلات الأولية وذلك لأنه مركب غير مستقر ولكنه أكثر استقرارا من المعقد المنشط إذ أن ذراته ترتبط مع بعضها بأواصر اعتيادية وفي بعض الحالات يمكن فصله من التفاعل. وتتضمن خطوات ميكانيكية التفاعل على الخطوة المحددة لسرعة التفاعل (Rate-determining step). والتي تعرف بأنها أبطأ خطوة من خطوات ميكانيكية التفاعل. فعندما يحدث أحد التفاعلات الأولية في الميكانيكية بسرعة أبطأ من أي تفاعل أولي آخر يكون هذا التفاعل هو الخطوة المحددة لسرعة التفاعل. وسرعة هذا التفاعل هي التي تحدد سرعة التفاعل العامة سواء أكانت هذه الخطوة في أول التفاعل أو آخره أو في وسطه.

فعلى سبيل المثال وجد تجريبيا أن تفاعل ثنائي أكسيد النيتروجين  $\text{NO}_2$  وأحادي أكسيد الكربون  $\text{CO}$  هو تفاعل من المرتبة الثانية بالنسبة للمركب  $\text{NO}_2$  ومن المرتبة صفر بالنسبة للمركب  $\text{CO}$ .



وهذا بخلاف ما يمكن استنتاجه لأول وهلة من المعادلة الكيميائية أعلاه بأنه تفاعل من المرتبة الأولى لكل من  $\text{NO}_2$  و  $\text{CO}$  وعلى هذا الأساس تم اقتراح بأن هذا التفاعل يتبع الميكانيكية الآتية:



#### هل تعلم

عام 1998 تم استحداث علم جديد يدعى بعلم الفيمتوثانية، من قبل مجموعة من العلماء بضمنهم العالم العربي الدكتور احمد زويل. يدخل هذا العلم في العديد من المجالات منها الطب والالكترونيات وعلوم الفضاء والكيمياء والفيزياء وغيرها، وبأستخدام هذا العلم تمكن العلماء ولأول مرة من ملاحظة ما يحدث خلال التفاعل الكيميائي وبالتصوير البطيء ورؤية تحرك الذرات وذلك بأستخدام كاميرا فائقة السرعة مما ساعد على اقتراح ميكانيكية التفاعل.



وحيث أن سرعة التفاعل هي سرعة الخطوة البطيئة فإن قانون سرعة التفاعل يكون:

$$\text{Rate} = K [\text{NO}_2] [\text{NO}_2]$$

او

$$\text{Rate} = K [\text{NO}_2]^2$$

ويتفق هذا مع قانون سرعة التفاعل المستنتج تجريبيا. ويلاحظ من ميكانيكية التفاعل تشكل مركب وسطي هو  $\text{NO}_3$ . نستنتج مما سبق أن أي ميكانيكية مقترحة لأي تفاعل كيميائي يجب أن تتفق مع المعادلة الكيميائية العامة للتفاعل. لأقتراح ميكانيكية التفاعل يجب تطبيق الشروط الآتية:

1. عند جمع معادلات التفاعلات الأولية في ميكانيكية التفاعل المقترحة نحصل على المعادلة العامة للتفاعل.  
2. مرتبة التفاعل لأي تفاعل أولي تكون إما من المرتبة الأولى أو الثانية، وتستبعد التفاعلات الأولية من المرتبة الثالثة وذلك لصعوبة حصول تصادم فعال بين ثلاث جزيئات في آن واحد.

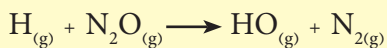
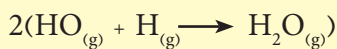
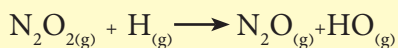
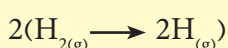
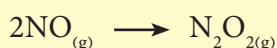
3. قانون سرعة التفاعل للخطوة المحددة للسرعة يجب أن يكون مطابقا لقانون سرعة التفاعل العام، وذلك لأن سرعة التفاعل تتحدد بسرعة الخطوة المحددة للسرعة.

والأمثلة التالية توضح اقتراح ميكانيكية للتفاعلات وحسب النقاط

اعلاه:

### تمرين 5-13

تم اقتراح ميكانيكية لتفاعل ما مكونة من خمس خطوات هي الآتية:



1. اكتب معادلة التفاعل الموزونة.
2. اكتب قانون سرعة التفاعل لكل خطوة.
3. عين مرتبة التفاعل لكل خطوة.
4. عين المواد الوسيطة.

### مثال 5 - 8 :

قانون سرعة التفاعل لتفاعل ما :  $\text{Rate} = K[\text{NO}_2]^2$

ميكانيكية التفاعل المقترحة:




أ - اكتب المعادلة العامة الموزونة للتفاعل وما هي المادة الوسيطة.

ب - اكتب قانون السرعة لكل خطوة.

ج - عين الخطوة المحددة للسرعة.

## الحل :

أ - نجمع الخطوتين 1 و 2 ونختصر المواد المتشابهة فنحصل على معادلة التفاعل



والمادة الوسيطة هي  $\text{NO}_3$  لانها لم تظهر في المعادلة العامة للتفاعل .

ب - قانون سرعة التفاعل للخطوة الاولى :  $\text{Rate} = K [\text{NO}_2]^2$

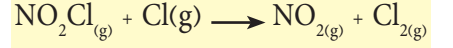
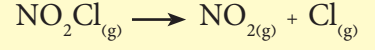
قانون سرعة التفاعل للخطوة الثانية :  $\text{Rate} = K [\text{NO}_3] [\text{CO}]$

الخطوتان الاولى والثانية من المرتبة الثانية .

ج - الخطوة الاولى هي الخطوة المحددة للسرعة، لان قانون السرعة لها يتطابق مع قانون سرعة التفاعل.

## تمرين 14-5

ميكانيكية التفاعل المقترحة لتفاعل ما هي :



قانون سرعة التفاعل :

$$\text{Rate} = K [\text{NO}_2\text{Cl}]$$

1 . اكتب معادلة التفاعل العامة الموزونة .

2 . اكتب قانون السرعة لكل خطوة .

3 . ما مرتبة التفاعل العامة .

4 . اي الخطوتين محددة للسرعة ولماذا .

## مثال 5 - 9 :

للتفاعل الاتي :



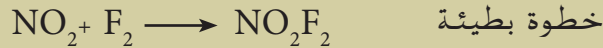
قانون سرعة التفاعل هو :  $\text{Rate} = K [\text{NO}_2] [\text{F}_2]$

تم اقتراح ميكانيكية التفاعل بربع طرق مختلفة ، بين مع ذكر السبب ميكانيكية التفاعل الصحيحة ، والخطأ .

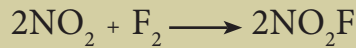
(1)



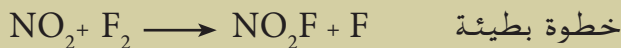
(2)



(3)



(4)



## الحل :

(1) خطأ ، لأن قانون السرعة للخطوة البطيئة  $\text{Rate} = K [\text{NO}_2]^2$  لا يتطابق مع قانون السرعة للتفاعل.

(2) خطأ وذلك لأن حاصل جمع الخطوات لا ينتج معادلة التفاعل



(3) خطأ وذلك لأن ميكانيكية التفاعل من خطوة واحدة ومن المرتبة الثالثة .

(4) صحيحة وذلك لأنها تحقق الشروط الثلاثة الآتية .

أ - عند جمع الخطوات نحصل على معادلة التفاعل .


ب - مرتبة التفاعل لكل خطوة من المرتبة العامة الثانية وهي مقبولة .

ج - قانون السرعة للخطوة البطيئة مطابق لقانون السرعة للتفاعل العام :

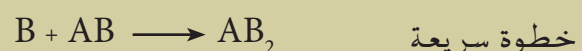
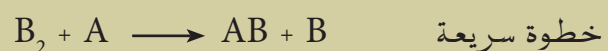
$$\text{Rate} = K [\text{NO}_2] [\text{F}_2]$$

### مثال 5 - 10 :

افترض التفاعل الآتي :



وتم اقتراح الميكانيكية الآتية له :



أ - ما هو قانون سرعة هذا التفاعل .

ب - هل تحقق هذه الميكانيكية هذا التفاعل .

ج - ما هي المرتبة العامة للتفاعل .

د - ما هي المركبات الوسيطة في هذا التفاعل .

### الحل :

أ - نعم تحقق هذه الميكانيكية هذا التفاعل وذلك لان جمع التفاعلات الاولى تؤدي الى المعادلة العامة للتفاعل .


ب - قانون السرعة هو  $\text{Rate} = K [\text{B}] [\text{B}]$  او  $\text{Rate} = K [\text{B}]^2$

ج - التفاعل من المرتبة الثانية .

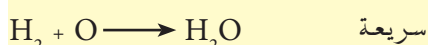

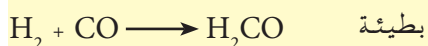
د - المواد الوسيطة هي  $\text{B}_2$  و  $\text{AB}$  .

### تمرين 5-15

افترض التفاعل الآتي :



يتبع الميكانيكية الآتية:



فقانون السرعة لهذا التفاعل هو :

$$\text{Rate} = K [\text{H}_2]^2 [\text{CO}]^2 \quad \text{أ -}$$

$$\text{Rate} = K [\text{H}_2]^2 [\text{CO}] \quad \text{ب -}$$

$$\text{Rate} = K [\text{H}_2] [\text{CO}]^2 \quad \text{ج -}$$

$$\text{Rate} = K [\text{H}_2] [\text{CO}] \quad \text{د -}$$

$$\text{Rate} = K [\text{H}_2]^2 [\text{CO}]^3 \quad \text{هـ -}$$

### Rate Theories نظريات سرع التفاعل

نظريات وضعت لتفسير كيفية حدوث التفاعل وهما نظريتان، نظرية التصادم ونظرية المعقد المنشط او الحالة الانتقالية.

### Activation Energy طاقة التنشيط

هي اقل طاقة لازمة يجب ان تمتلكها الجزيئات المتفاعلة لتكوين النواتج.

### Effective Collision التصادمات الفعالة

تلك الاصطدامات التي يتحقق فيها الشرطان الاساسيان وهما امتلاك الجزيئات للحد الأدنى من طاقة التنشيط وان يكون الوضع الفراغي الهندسي للجزيئات المتصادمة في الاتجاه المناسب.

### Heat of Reaction حرارة التفاعل

هي الحرارة الممتصة (قيمتها موجبة) او المنبعثة (قيمتها سالبة) خلال التفاعل الكيميائي وتعتمد قيمها على الفرق بين طاقة المواد المتفاعلة وطاقة المواد الناتجة.

### Reaction Mechanism ميكانيكية التفاعل

عدد الخطوات (التفاعلات) الاولى التي يمر بها التفاعل لتتحول فيه المواد المتفاعلة الى نواتج.

### الخطوة المحددة للسرع

#### Rate Determining Step

ابطأ خطوة من خطوات ميكانيكية التفاعل (التفاعلات الاولى) وسرع هذه الخطوة هي التي تحدد قانون سرع التفاعل اي ان عدد مولات المواد المتفاعلة في الخطوة المحددة للسرع هي مراتب المتفاعلات نفسها.

### سرع التفاعل الكيميائي

#### The Rate of Chemical Reaction

مقدار النقصان في التركيز المولاري للمواد المتفاعلة او الزيادة في التركيز المولاري للمواد الناتجة في التغير في وحدة الزمن .

### السرع العامة للتفاعل

#### The Overall Rate of Chemical Reaction

السرع بدلالة مول واحد من اي من المواد المتفاعلة او الناتجة.

### The Rate Law قانون سرع التفاعل

علاقة تربط سرع التفاعل (Rate) مع تراكيز المواد المتفاعلة A و G و H مرفوعة لأس مراتبها على التوالي ومع ثابت سرع التفاعل K. فللتفاعل العام



قانون السرع يكتب على الصورة الاتية:

$$\text{Rate} = K [A]^{\alpha} [G]^{\beta} [H]^{\gamma}$$

### The Rate constant ثابت سرع التفاعل

هو ثابت علاقة التناسب بين سرع التفاعل العامة وتراكيز المواد المتفاعلة في قانون سرع التفاعل وهو مقدار ثابت لا يتغير الا بتغير درجة الحرارة .

### المرتبة العامة للتفاعل Reaction Order

وتساوي المرتبة العامة للتفاعل مجموع مراتب المتفاعلات في قانون السرع:

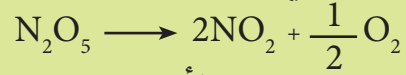
$$n = \alpha + \beta + \gamma$$

### وحدا ثابت السرع Rate Constant Units

تعتمد وحدة سرع التفاعل على مرتبة التفاعل ويمكن اشتقاقها من خلال العلاقة الاتية:

$$\frac{\left[\frac{\text{mol}}{\text{L}}\right]^{1-n}}{t} = \frac{[M]^{1-n}}{t} = \text{وحدة ثابت السرع}$$

1-5 للتفاعل الآتي:



ومن النتائج في الجدول الآتي:

| t / hr | [N <sub>2</sub> O <sub>5</sub> ] / mol/L |
|--------|--|
| 0.00   | 0.849                                    |
| 0.50   | 0.733                                    |
| 1.00   | 0.633                                    |
| 2.00   | 0.472                                    |

احسب معدل سرعة التفاعل لكل فترة من الفترات التالية بوحدة الساعة.

أ - من 0.00 الى 0.50

ب - من 0.50 الى 1.00

ج - من 1.00 الى 2.00

2-5 التفاعل الآتي من المرتبة الثانية بالنسبة

للتفاعل NO<sub>2</sub> ومن المرتبة صفر بالنسبة للتفاعل CO .



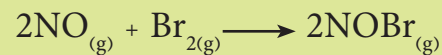
أ - اكتب قانون السرعة للتفاعل .

ب - كيف تتغير سرعة التفاعل عند خفض تركيز NO<sub>2</sub> الى النصف .

ج - كيف تتغير سرعة التفاعل عند مضاعفة تركيز CO .

3-5 التفاعل الآتي من المرتبة الاولى بالنسبة

للتفاعل Br<sub>2</sub> ومن المرتبة الثانية بالنسبة للتفاعل NO



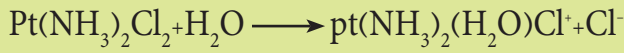
أ - اكتب قانون سرعة التفاعل .

ب - كيف تتغير سرعة التفاعل عند جعل تركيز Br<sub>2</sub> ثلاثة امثال التركيز الاولي فقط .

ج - كيف تتغير سرعة التفاعل عند مضاعفة تركيز NO فقط .

د - كيف تتغير سرعة التفاعل عند مضاعفة تركيز كل من Br<sub>2</sub> و NO معا .

4-5 للتفاعل الآتي

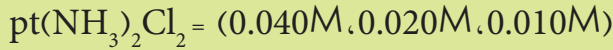


قانون سرعة التفاعل:

$$\text{Rate} = K [\text{Pt}(\text{NH}_3)_2\text{Cl}_2]$$

$$K = 0.090 \text{ hr}^{-1} \quad \text{وقيمة}$$

أ - احسب سرعة التفاعل عندما يكون تركيز

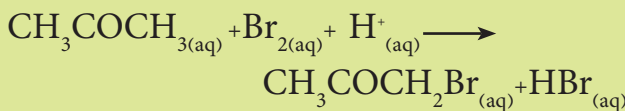


ب - كيف تتغير سرعة استهلاك Pt(NH<sub>3</sub>)<sub>2</sub>Cl<sub>2</sub> مع تغير تركيزه .

ج - ما تأثير تغير تركيز Pt(NH<sub>3</sub>)<sub>2</sub>Cl<sub>2</sub> على سرعة تكوين Cl<sup>-</sup> .

5-5 للتفاعل التالي ومن نتائج التجارب في الجدول

ادناه:

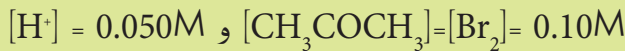


| Exp. No. | [CH <sub>3</sub> COCH <sub>3</sub> ] | [Br <sub>2</sub> ] | [H <sup>+</sup> ] | Rate mol/L.s          |
|----------|--------------------------------------|--------------------|-------------------|-----------------------|
| 1        | 0.30                                 | 0.05               | 0.05              | 5.7×10 <sup>-5</sup>  |
| 2        | 0.30                                 | 0.10               | 0.05              | 5.7×10 <sup>-5</sup>  |
| 3        | 0.30                                 | 0.05               | 0.10              | 12.0×10 <sup>-5</sup> |
| 4        | 0.40                                 | 0.05               | 0.05              | 7.6×10 <sup>-5</sup>  |

أ- استنتج قانون سرعة التفاعل .

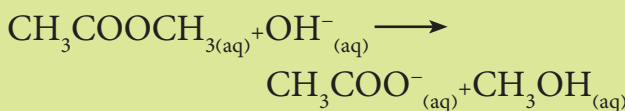
ب- احسب قيمة ثابت سرعة التفاعل .

ج- احسب سرعة التفاعل عندما



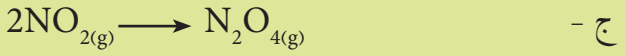
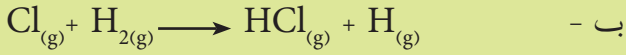
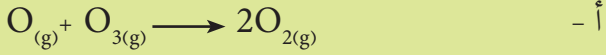
6-5 تتحلل خلات الميثيل في وسط قاعدي مكونة

ايون الخلات وكحول الميثيل ، بحسب المعادلة الآتية:

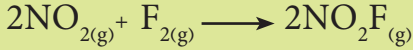


9-5 اكتب قانون سرعة التفاعل للتفاعلات

الأولية الآتية :



10-5 للتفاعل الآتي :



ومن نتائج التجارب في الجدول الآتي :

| Exp. No. | [NO <sub>2</sub> ] | [F <sub>2</sub> ] | Rate mol/L.s         |
|----------|--------------------|-------------------|----------------------|
| 1        | 0.001              | 0.005             | 2.0×10 <sup>-4</sup> |
| 2        | 0.002              | 0.005             | 4.0×10 <sup>-4</sup> |
| 3        | 0.002              | 0.002             | 1.6×10 <sup>-4</sup> |

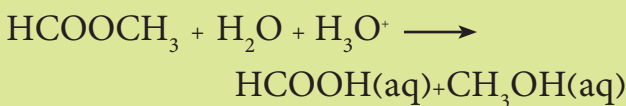
أ- استنتج قانون سرعة التفاعل .

ب- ما مرتبة المتفاعلات لكل مادة في قانون السرعة ؟

ج- احسب قيمة ثابت سرعة التفاعل .

11-5 تتحلل فورمات المثيل في محلول حامضي

مكونة كحول المثيل وحامض الفورميك بحسب المعادلة الآتية :



قانون سرعة التفاعل

$Rate = K [HCOOCH_3]$

ما سبب عدم ظهور الأيون H<sub>3</sub>O<sup>+</sup> في قانون سرعة التفاعل على الرغم من وجوده في معادلة التفاعل ؟

قانون سرعة التفاعل :


$Rate = K [CH_3COOCH_3] [OH^-]$

$K = 0.14 \text{ L/mol.s}$  وقيمة

أ- ما سرعة تحلل خلاص المثيل عندما يكون تركيز كل من CH<sub>3</sub>COOCH<sub>3</sub> و OH<sup>-</sup> يساوي 0.025 M .

ب- ما سرعة ظهور CH<sub>3</sub>OH في المحلول ؟

7-5 للتفاعل الآتي :



ومن نتائج التجارب في الجدول الآتي :

| Exp. No. | [H <sub>2</sub> ]     | [NO]                  | Rate mol/L.s          |
|----------|-----------------------|-----------------------|-----------------------|
| 1        | 2.5×10 <sup>-3</sup>  | 5.0×10 <sup>-3</sup>  | 3.0×10 <sup>-3</sup>  |
| 2        | 2.5×10 <sup>-3</sup>  | 15.0×10 <sup>-3</sup> | 9.0×10 <sup>-3</sup>  |
| 3        | 10.0×10 <sup>-3</sup> | 15.0×10 <sup>-3</sup> | 36.0×10 <sup>-3</sup> |

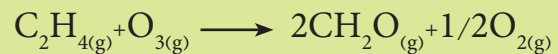
أ- استنتج قانون سرعة التفاعل .

ب- احسب قيمة ثابت السرعة .

ج- احسب سرعة التفاعل عندما يكون تركيز

كل من NO و H<sub>2</sub> يساوي 8.0×10<sup>-3</sup> M .

8-5 للتفاعل الآتي ومن نتائج التجارب في الجدول ادناه :



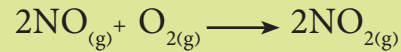
| Exp. No. | [C <sub>2</sub> H <sub>4</sub> ] | [O <sub>3</sub> ]    | Rate mol/L.s          |
|----------|----------------------------------|----------------------|-----------------------|
| 1        | 1.0×10 <sup>-8</sup>             | 0.5×10 <sup>-7</sup> | 1.0×10 <sup>-12</sup> |
| 2        | 1.0×10 <sup>-8</sup>             | 1.5×10 <sup>-7</sup> | 3.0×10 <sup>-12</sup> |
| 3        | 2.0×10 <sup>-8</sup>             | 1.0×10 <sup>-7</sup> | 4.0×10 <sup>-12</sup> |

أ - استنتج قانون سرعة التفاعل ، ثم احسب قيمة (K)

ب - احسب سرعة التفاعل عندما يكون تركيز

كل من O<sub>3</sub> و C<sub>2</sub>H<sub>4</sub> يساوي 2.0×10<sup>-7</sup> M .

12-5 اجري التفاعل الاتي بدرجة 600 K :



ومن نتائج التجارب في الجدول الاتي :

| Exp. No. | [O <sub>2</sub> ] | [NO] | Rate mol/L.s         |
|----------|-------------------|------|----------------------|
| 1        | 0.01              | 0.01 | 1.2×10 <sup>-5</sup> |
| 2        | 0.01              | 0.02 | 4.8×10 <sup>-5</sup> |
| 3        | 0.02              | 0.01 | 2.4×10 <sup>-5</sup> |

أ- استنتج قانون سرعة التفاعل .

ب - احسب سرعة التفاعل عندما يكون تركيز كل من NO و O<sub>2</sub> يساوي 0.025 M و 0.05M على التوالي.

ج- احسب سرعة استهلاك NO، وسرعة تكوين NO<sub>2</sub> اذا كانت سرعة استهلاك O<sub>2</sub> تساوي 1.0×10<sup>-4</sup> mol/L s

13-5 حدد العبارة الصحيحة والعبارة الخطأ ،

وصحح الخطأ في كل مما يأتي :

أ - تتغير قيمة ثابت سرعة التفاعل بتغير درجة حرارة التفاعل وبمرور الزمن .

ب - يتغير ثابت سرعة التفاعل بتغير تراكيز المواد المتفاعلة .

ج - سرعة التفاعل تبقى ثابتة بمرور الزمن لتفاعل من المرتبة الاولى عند ثبوت درجة الحرارة .

د- تتضاعف سرعة التفاعل لتفاعل من المرتبة (صفر) عند مضاعفة تركيز المادة المتفاعلة .

14-5 لقد وجد للتفاعل ادناه ان سرعة تكون C

عند وقت معين تساوي 0.036M.s<sup>-1</sup> فالسرعة بدلالة التغير في A و B و D والسرعة العامة للتفاعل عند هذا الوقت تساوي (جميعها بوحدة M.s<sup>-1</sup>)



أ - 0.018 و 0.027 و 0.018 و 0.009


ب - 0.018 - و 0.027 - و 0.018 و 0.009

ج - 0.072 - و 0.048 - و 0.072 و 0.144

د - 0.036 - و 0.036 - و 0.036 و 0.009

هـ - 0.018 - و 0.012 - و 0.018 - و 0.018 -

15-5 للتفاعل الاتي :



ومن نتائج التجارب في الجدول ادناه حدد مراتب المتفاعلات واستنتج قانون سرعة التفاعل والمرتبة العامة للتفاعل.

| Exp. No. | [NO <sub>2</sub> ] | [CO] | Rate mol/L.s |
|----------|--------------------|------|--------------|
| 1        | 0.10               | 0.10 | 0.005        |
| 2        | 0.40               | 0.10 | 0.080        |
| 3        | 0.10               | 0.20 | 0.005        |

16-5 ما التأثير الذي يحدثه العامل المساعد على

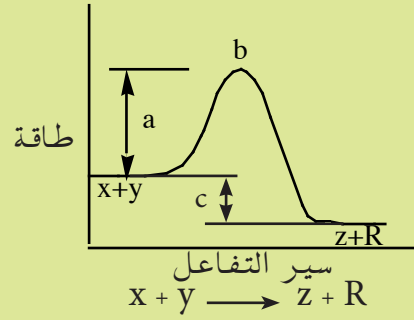
كل من:

أ - حرارة التفاعل.

ب - طاقة التنشيط.

ج - طاقة المواد المتفاعلة وطاقة المواد الناتجة.

17-5 في المخطط ادناه المرسوم بين الطاقة (المحور y) وسير التفاعل (المحور x) للتفاعل الآتي:



بين ماذا تعني الحروف a و b و c وهل التفاعل ماص ام باعث للحرارة ولماذا؟

18-5 وضح كيف تؤثر العوامل الآتية على سرعة التفاعل الكيميائي

- درجة الحرارة .
- المساحة السطحية للمواد المتفاعلة.
- طبيعة المواد المتفاعلة.
- تركيز المواد المتفاعلة.





## الفصل السادس

# 6

## Acids, Bases and Salts الحوامض والقواعد والاملاح

بعد الانتهاء من دراسة هذا الفصل يتوقع من الطالب أن :-

- يتعرف على خواص المحاليل المائية للحوامض والقواعد.
- يتعرف على المفاهيم الجزيئية المختلفة للحوامض والقواعد حسب نظريات ارينيوس و برونشتد- لوري و لويس.
- يميز التآين التلقائي للماء والخواص الامفوتيرية لبعض المواد.
- يتعرف على تفاعلات الحوامض والقواعد في المحاليل المائية.
- يميز بين انواع الاملاح وطريقة تكوين كل منها وخواص محاليلها المائية .
- يتعرف على الدلائل المستخدمة في تفاعلات التعادل .
- يتعرف على عملية التسحيح ويستوعب اهميتها.

## 1-6 المقدمة

توجد في الطبيعة العديد من الحوامض و القواعد و الأملاح التي يستفاد منها في مجالات مختلفة، فعلى سبيل المثال تحوي العصارة الهضمية في جسم الإنسان محلول حامض الهيدروكلوريك بتركيز 0.1 مولاري تقريبا و يكون دم الإنسان و كذلك المكونات المائية في خلايا الجسم ذات فعل حامضي معتدل، أما المحلول الموجود في بطارية السيارة فمكون من 40% بالكتلة محلول حامض الكبريتيك. ومن ناحية أخرى، تستعمل هيدروكسيد الصوديوم في صناعة الصابون و صناعة الورق وعدد آخر من الصناعات الكيميائية.

للأملاح استعمالها الواسعة أيضا، فالصودا المستعملة في عملية الخبز (Baking soda) هي احد أملاح حامض الكربونيك، وملح الطعام (كلوريد الصوديوم) المستعمل لإعطاء المذاق المالح للطعام من ناحية ومن ناحية أخرى فإنه يستعمل لحفظ أنواع كثيرة من الأطعمة. ومن الأمثلة الأخرى لاستعمالات هذه المواد هي رش ملح كلوريد الكالسيوم لإذابة الثلوج المتراكمة على الطرقات العامة ويستعمل هذا الملح أيضا في علاج المصابين في النوبات القلبية. كما وتستعمل أملاح الامونيوم كأسمدة نتروجينية لزيادة خصوبة التربة.


أما اغلب الحوامض العضوية و مشتقاتها فتوجد بشكل طبيعي، ففي الخل الذي نستعمله يشكل حامض الخليك حوالي 4% منه، أما الألم الذي نشعر به عند لسعة النمل فمسببه هو حامض الفورميك الذي تفرزه هذه الحشرات إلى داخل الجسم. وتشكل الحوامض الامينية (Amino acids) وحدات بناء البروتينات في أجسام الكائنات الحية، وهناك أمثلة كثيرة أخرى تبين أهمية واستعمالات هذه المواد في مناحي الحياة اليومية.

## 2-6 خواص المحاليل المائية للحوامض والقواعد

تظهر المحاليل المائية لمعظم الحوامض صفات مميزة والتي تعزى إلى وجود ايون الهيدروجين الموجب ( $H^+$ ) (البروتون) او يعبر عنه بايون الهيدرونيوم ( $H_3O^+$ ) في محلولها المائي والصفات هي:

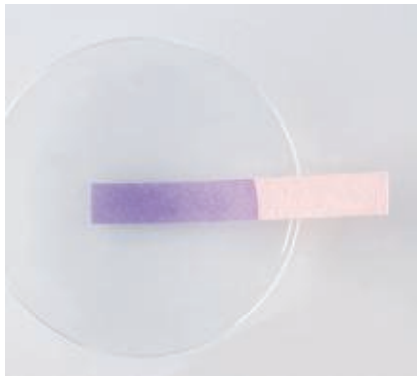
1. لها مذاق حامضي.
2. تغير لون عدد من الدلائل (صبغات)، فمثلا تغير لون صبغة زهرة الشمس من اللون الازرق إلى اللون الأحمر.
3. تتفاعل الحوامض مع معظم الفلزات وتحرر غاز الهيدروجين ( $H_2$ ).





المحلول الحامضي يغير لون صبغة

زهرة الشمس للون الاحمر.



المحلول القاعدي يغير لون صبغة زهرة

الشمس للون الازرق.

4. تتفاعل مع اكاسيد الفلزات ومع هيدروكسيدات الفلزات لتكون أملاحاً وماء.

5. محاليلها المائية لها القابلية على توصيل التيار الكهربائي وذلك لقابليتها على التأين بشكل تام أو بشكل جزئي. ويبين الجدول (1-6) بعض الحوامض الشائعة.

أما المحاليل المائية لمعظم القواعد فأن لها صفات مميزة أيضاً، تعزى إلى وجود ايون الهيدروكسيد ( $\text{OH}^-$ ) في محلولها المائي والصفات هي:

1. لها مذاق لاذع.
2. لها ملمس لزج صابوني كما في حالة المحلول المائي لهيدروكسيد الصوديوم.
3. تغير لون عدد من الدلائل، فمثلا تغير لون صبغة زهرة الشمس من اللون الاحمر إلى اللون الأزرق .
4. تتفاعل مع الحوامض (تتعاادل) لتكون أملاحاً وماء.
5. يكون لمحاليلها المائية القابلية على توصيل التيار الكهربائي لقابليتها على التاين.

#### الجدول (1-6) بعض الحوامض الشائعة واستخداماتها.

| الاسم الحامض                           | الاستخدامات   |
|--|---|
| حامض الهيدروكلوريك $\text{HCl}$        | تنقية المعادن و تنقية الخامات المعدنية و تحضير بعض المواد الغذائية وهو المكون الرئيس لحوامض المعدة. |
| حامض الكبريتيك $\text{H}_2\text{SO}_4$ | صناعة الاسمدة والمتفجرات والاصماغ والسائل المستخدم في بطاريات السيارات.                             |
| حامض النتريك $\text{HNO}_3$            | صناعة الاسمدة والمتفجرات واللواصق.  |
| حامض الخليك $\text{CH}_3\text{COOH}$   | صناعة البلاستيك و المطاط وفي حفظ الاطعمة وهو المكون الرئيسي للخل.                                   |
| حامض الكربونيك $\text{H}_2\text{CO}_3$ | موجود في جميع المشروبات الغازية بسبب تفاعل ثنائي اوكسيد الكربون مع الماء.                           |
| حامض الهيدروفلوريك $\text{HF}$         | تنظيف المعادن وصقل الزجاج والنقش عليه.  |

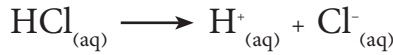
## 3-6 المفاهيم الجزيئية للحوامض و القواعد

سنتطرق في هذه الفقرة الى المفاهيم الجزيئية للحوامض و القواعد حسب نظريات رئيسية هي:

### 1-3-6 نظرية ارينيوس The Arrhenius Theory

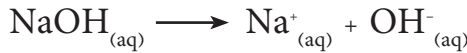
عام 1884 قدم العالم ارينيوس نظريته الخاصة بالتفكك الالكتروليوني والتي نتج عنها لاحقا نظرية لتسمية الحوامض والقواعد والتي تنص على ما يأتي:

الحامض هو المادة التي تحتوي على الهيدروجين والتي تتأين معطية ايونات الهيدروجين ( $H^+$ ) في المحلول المائي. وحسب تعريف ارينيوس، يعتبر HCl حامض ارينيوس لانه ينتج ايونات  $H^+$  في المحلول المائي:

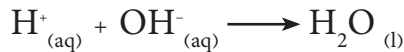


والقاعدة هي المادة التي تحتوي على مجموعة هيدروكسيد ( $OH^-$ ) والتي تتأين معطية ايونات الهيدروكسيد السالبة في المحلول المائي.

وحسب تعريف ارينيوس للقاعدة، تعتبر NaOH قاعدة ارينيوس لانها تنتج ايونات الهيدروكسيد  $OH^-$  في المحلول المائي:



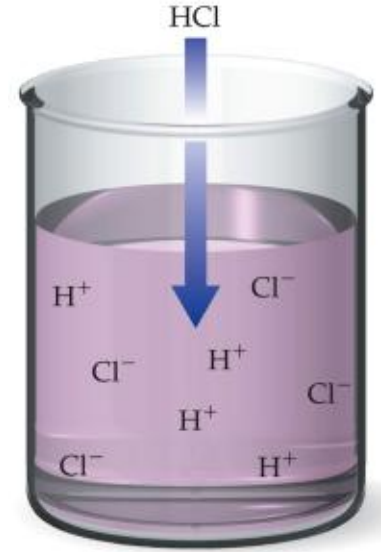
أما عملية التعادل حسب هذه النظرية فهي تعرف على أنها اتحاد ايونات  $H^+$  و ايونات  $OH^-$  لتكوين جزيئات الماء:



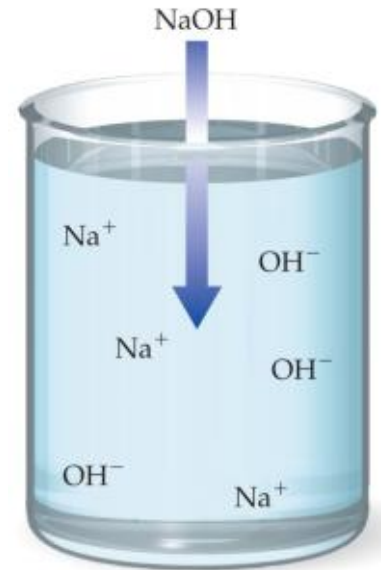
لقد استطاعت نظرية ارينيوس أن تشرح بنجاح تفاعلات الحوامض التي تمتلك بروتونات مع هيدروكسيدات الفلزات (القواعد الهيدروكسيدية)، وعلى الرغم من محدودية تطبيقات هذه النظرية إلا أنها أدت إلى تطوير نظريات أكثر شمولية لوصف خواص الحوامض و القواعد.

### ايون الهيدرونيوم (ايون الهيدروجين المتمييء)

لقد وصف ارينيوس ايونات الهيدروجين في الماء بأنها توجد على هيئة  $H^+(H_2O)_n$  (حيث أن n تمثل عددا صحيحا) وهذا بسبب التجاذب بين ايونات  $H^+$  و ذرة الأوكسجين (الحاملة لشحنة سالبة جزئية، دلتا سالب  $\delta^-$ ) في جزيئة الماء المستقطبة. فعلى الرغم من عدم معرفتنا الدقيقة لمدى تميؤ ايونات الهيدروجين في معظم المحاليل المائية إلا أننا عادة ما نمثل ايون الهيدروجين المتمييء كايون هيدرونيوم  $H_3O^+$ . وعلى ذلك نستطيع القول أن أيون الهيدروجين

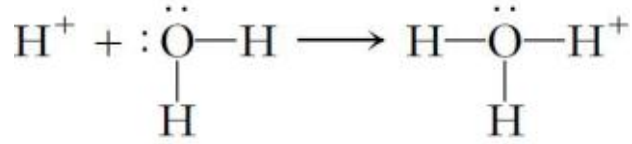


تأين حامض الهيدروكلوريك في الماء.



تأين هيدروكسيد الصوديوم في الماء.

المتمييء هو الذي يكسب محلول الحامض المائي صفاته الحامضية المميزة. ويمكن التعبير عن ايون الهيدروجين  $H^+$  أو المتمييء  $H_3O^+$  على الصورة الاتية :



ايون الهيدروجين

الماء

ايون الهيدرونيوم




تأين حامض الهيدروكلوريك في الماء.

## 2-3-6 نظرية برونشتد - لوري

### The Bronsted - Lowry Theory

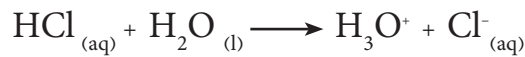
عام 1923، قدم كل من العالم برونشتد (Bronsted) و العالم لوري (Lowry) بشكل منفرد تطوير لنظرية ارينيوس وظهرت بذلك نظرية جديدة عرفت بنظرية برونشتد - لوري. وحسب هذه النظرية يعرف الحامض على أنه المادة الواهبة للبروتون أما القاعدة فأنها المادة المستقبلية للبروتون.

تعتبر هذه التعاريف للحامض والقاعدة عامة بشكل كبير حيث أن أي جزيئة أو ايون يحوي على الهيدروجين وله القابلية على إطلاق البروتون هو حامض بينما أي جزيئة أو ايون يستطيع استقبال البروتون هو قاعدة، ولذلك يمكن تعريف تفاعل حامض مع قاعدة على أنه ذلك التفاعل الذي يتضمن انتقال بروتون من الحامض إلى القاعدة. ولهذا السبب، فعملية تأين حامض الهيدروكلوريك (حامض قوي) في الماء هي عبارة عن تفاعل حامض-قاعدة تسلك فيها جزيئة الماء سلوك قاعدة لأنها تكتسب بروتون، ويمكن التعبير عن ذلك كما يأتي:

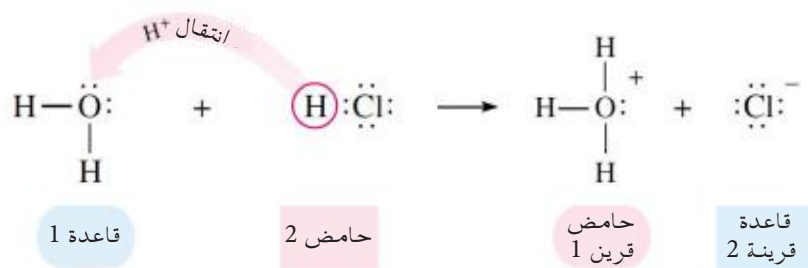


الخطوة الثانية

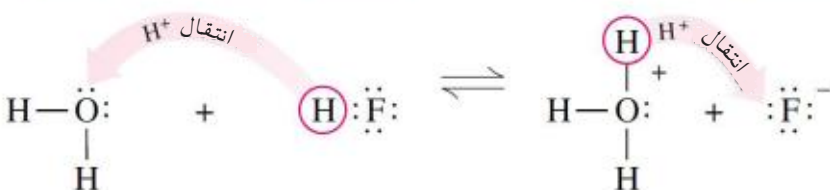

التفاعل الكلي (وصف برونشتد-لوري)



ويمكن وصف تفاعلات الحوامض والقواعد حسب مفهوم برونشتد - لوري بدلالة ازواج (حامض - قاعدة قرينة) وكل زوج عبارة عن صنفين مختلفين فقط في البروتون. ففي المعادلة السابقة، يكون HCl (حامض) مع  $Cl^-$  (قاعدة قرينة) بمعنى زوج من (حامض - قاعدة قرينة)، بينما يمثل  $H_2O$  (قاعدة) مع  $H_3O^+$  (حامض قرين) اي بمعنى زوج آخر من (قاعدة - حامض قرين) كما في الشكل الاتي:



ومن ناحية أخرى فإن تأين فلوريد الهيدروجين (حامض ضعيف) يحدث بشكل متشابه ولكن لمدى اقل ولذلك يمثل بالشكل الاتي:

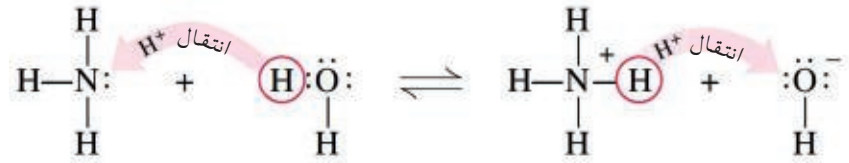
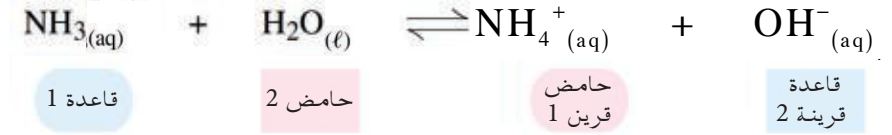
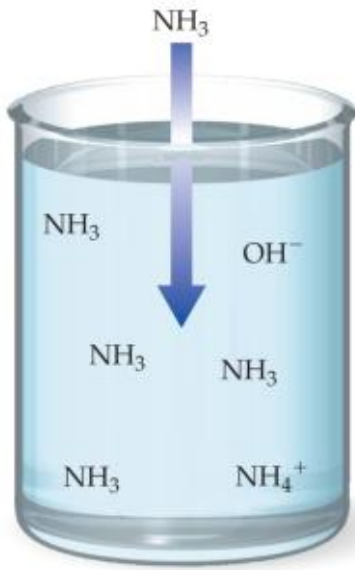


ففي هذه المعادلة يكون HF حامض مع  $\text{F}^-$  قاعدة قرينة بينما يمثل  $\text{H}_2\text{O}$  قاعدة مع  $\text{H}_3\text{O}^+$  حامض قرين. وفي التفاعل الامامي ( $\rightarrow$ ) يسلك كل من HF و  $\text{H}_2\text{O}$  سلوك حامض وقاعدة على التوالي، بينما في التفاعل العكسي ( $\leftarrow$ ) يسلك  $\text{H}_3\text{O}^+$  سلوك حامض (أي واهب للبروتون) بينما يسلك ايون الفلوريد  $\text{F}^-$  سلوك قاعدة (أي مستقبل للبروتون).

نلاحظ من الامثلة اعلاه انه عند ذوبان حامض ضعيف (HF) في الماء فإن جزيئات HF سوف تعطي كمية قليلة من ايونات  $\text{H}^+$  والتي يمكن أن تكتسب من قبل احد الصنفين القاعديين في المحلول  $\text{F}^-$  أو  $\text{H}_2\text{O}$ ، وفي الحقيقة فإن HF يتفكك بشكل قليل مما يدل على أن  $\text{F}^-$  هي قاعدة أقوى من  $\text{H}_2\text{O}$ . أما عند ذوبان حامض قوي (HCl) في الماء، فإن جزيئات HCl سوف تنتج ايونات  $\text{H}^+$  والتي يمكن أن تكتسب من قبل احد الصنفين القاعديين في المحلول  $\text{Cl}^-$  أو  $\text{H}_2\text{O}$ . وبما أن HCl يتفكك بشكل تام في محلوله المائي المخفف، فإن ذلك يعني أن  $\text{Cl}^-$  هي قاعدة أضعف من  $\text{H}_2\text{O}$ . **إن كل ذلك يعني أن للحامض الضعيف قاعدة قرينة قوية وللحامض القوي قاعدة قرينة ضعيفة.** ويمكن تعميم ذلك بالقول: كلما زادت قوة الحامض، كلما ضعفت قوة القاعدة القرينة له والعكس صحيح. ويجب هنا استعمال هذه المفاهيم بشكل صحيح، فالحامض القوي أو الحامض الضعيف ( وكذلك القاعدة) هي صفات نستعملها لوصف حالة بشكل نسبي. فعند القول (في المثال السابق) أن  $\text{F}^-$  هي قاعدة قوية فإن ذلك لايعني أنها كذلك بمقارنتها مع  $\text{OH}^-$  مثلا،

ولكننا نعني أنها قاعدة اقوى نسبة إلى القاعدة القرينة للحامض القوي في المثال (H<sub>2</sub>O).

وفي المحلول المائي للامونيا، تسلك جزيئات الامونيا سلوك قاعدة برونشيد ضعيفة بينما تسلك جزيئات الماء سلوك حامض ويمكن التعبير عن ذلك كما يأتي:



وكما هو واضح ففي التفاعل العكسي، يسلك ايون NH<sub>4</sub><sup>+</sup> سلوك حامض قرين للامونيا بينما يسلك ايون OH<sup>-</sup> سلوك قاعدة قرينة للماء.

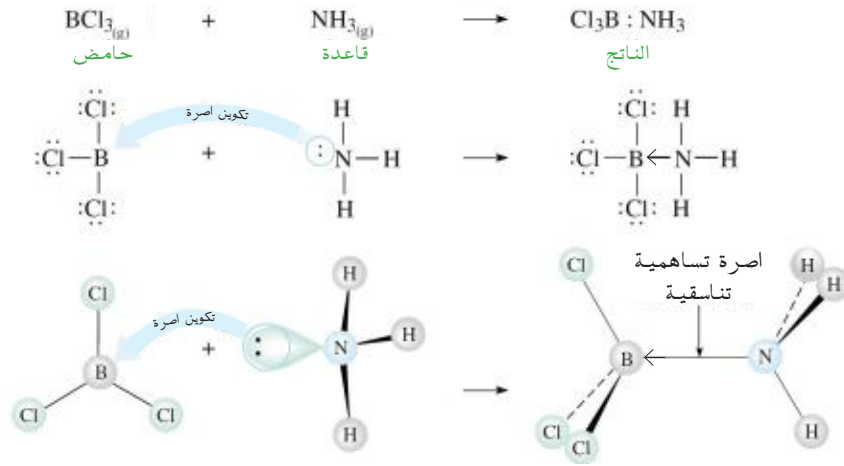
يلاحظ مما تقدم أن الماء يسلك سلوك حامض (واهب للبروتون) في تفاعله مع NH<sub>3</sub> بينما يكون سلوكه قاعدياً (مستقبل للبروتون) عند تفاعله مع HCl و HF، ولذلك فإن سلوك الماء كحامض أو كقاعدة يعتمد على الصنف الأخر الموجود في المحلول، ويمكن وصف ذلك بان للماء سلوكاً امفوتيرياً وسوف يوضح ذلك لاحقاً.

### 3-3-6 نظرية لويس للحامض والقاعدة

#### Lewis Theory

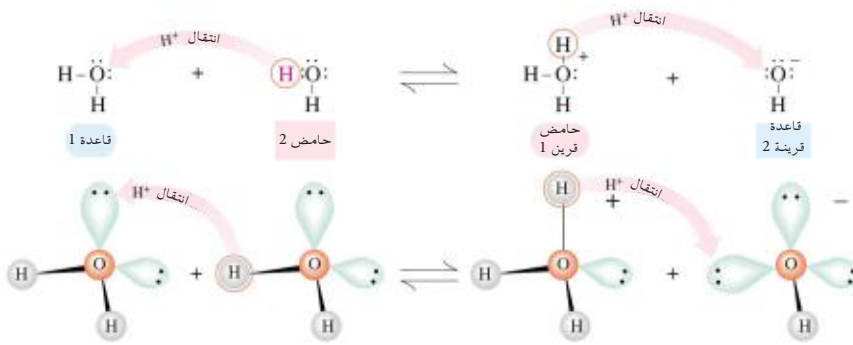
عام 1939 اقترح العالم لويس (Lewis) النظرية الأكثر شمولية من بين النظريات الأخرى لتعريف الحامض و القاعدة. فالقاعدة، حسب مفهوم لويس، هي أية مادة تستطيع أن تهب زوج من الالكترونات غير المتاصرة في تفاعلاتها الكيميائية، أما الحامض فهو أي مادة تمتلك اوربيتالاً فارغاً ويمكنها تقبل الزوج الالكتروني من صنف اخر. ولا تنص هذه النظرية على وجوب انتقال الزوج الالكتروني بشكل تام من ذرة إلى أخرى ولكن تفترض بدلا عن ذلك أن الزوج الالكتروني الذي تمتلكه ذرة واحدة يصبح مشتركا بين ذرتين، ولذلك تعرف عملية التعادل (تفاعل حامض مع قاعدة) على أنها عملية تكوين أصرة تناسقية، و يعتبر التفاعل بين ثلاثي كلوريد البورون مع الامونيا مثلاً نموذجياً للتفاعل بين حامض - قاعدة لويس.

تفكك الامونيا في محلولها المائي

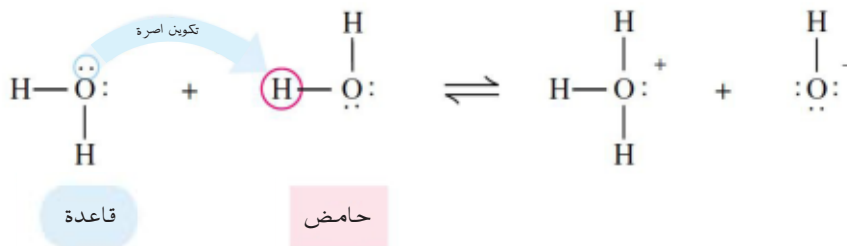


## التأين الذاتي للماء

أظهرت القياسات الدقيقة أن الماء النقي يتأين بشكل ضئيل جداً ليكون أعداداً متساوية من أيونات الهيدرونيوم و أيونات الهيدروكسيد حيث تهب جزيئة ماء واحدة بروتون إلى جزيئة ماء أخرى، ويمكن التعبير عن ذلك حسب مفهوم برونشترند :



أو حسب مفهوم لويس:



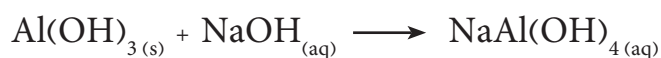
حيث يتضمن انتقال البروتون إلى القاعدة تكوين اصرة تناسقية. ويتضح من ذلك أنه في عملية التأين الذاتي تسلك إحدى جزيئات الماء سلوك حامض وتسلك جزيئة أخرى سلوك قاعدة ولذلك يقال أن سلوك الماء هو سلوك امفوتيري .



كما سبق وأن عرفنا أنه يمكن لمادة معينة أن تسلك سلوك حامض أو سلوك قاعدة اعتماداً على الوسط الذي هي فيه، والامفوتيرية هو المصطلح العام الذي يصف قابلية المادة للتفاعل إما كحامض أو كقاعدة. فالسلوك الامفوتيري يصف الحالة التي بها يكون للمادة صفة الامفوتيرية باكتسابها أو فقدانها بروتون ( $H^+$ ). لعدد من هيدروكسيدات الفلزات شحيحة الذوبان في الماء صفة امفوتيرية حيث أنها تتفاعل مع الحوامض لتكون أملاح ذائبة في الماء ولكن في نفس الوقت يمكنها أن تذوب من خلال تفاعلها مع زيادة من قاعدة قوية. فعلى سبيل المثال، يعتبر هيدروكسيد الألمنيوم مثلاً نموذجياً لهيدروكسيد فلزي امفوتيري حيث أنه يسلك سلوكاً قاعدياً بتفاعله مع حامض النتريك لتكوين ملح كما في المعادلة الآتية:



أما عند إضافة زيادة من محلول لأي قاعدة قوية (مثل  $NaOH$ ) إلى مسحوق هيدروكسيد الألمنيوم الصلب، فعند ذلك يسلك  $Al(OH)_3$  سلوكاً حامضياً ويبدأ بالذوبان مكوناً المينات الصوديوم الذائبة كما في المعادلة الآتية:



وهناك عدداً آخر من هيدروكسيدات الفلزات التي لها نفس السلوك كما مبين في الجدول (2-6).

الجدول (2-6) بعض الهيدروكسيدات الامفوتيرية.

| الايون المعقد المتكون مع زيادة من قاعدة قوية | الهيدروكسيد الامفوتيري غير الذائب | الايون الفلزي أو شبه الفلزي    |
|--|-----------------------------------|--------------------------------|
| $[Be(OH)_4]^{2-}$                            | $Be(OH)_2$                        | $Be^{2+}$ ايون البريليوم       |
| $[Al(OH)_4]^-$                               | $Al(OH)_3$                        | $Al^{3+}$ ايون الألمنيوم       |
| $[Cr(OH)_4]^-$                               | $Cr(OH)_3$                        | $Cr^{3+}$ ايون الكروم          |
| $[Zn(OH)_4]^{2-}$                            | $Zn(OH)_2$                        | $Zn^{2+}$ ايون الخارصين        |
| $[Sn(OH)_3]^-$                               | $Sn(OH)_2$                        | $Sn^{2+}$ ايون القصدير (II)    |
| $[Sn(OH)_6]^{2-}$                            | $Sn(OH)_4$                        | $Sn^{4+}$ ايون القصدير (IV)    |
| $[Pb(OH)_4]^{2-}$                            | $Pb(OH)_2$                        | $Pb^{2+}$ ايون الرصاص          |
| $[As(OH)_4]^-$                               | $As(OH)_3$                        | $As^{3+}$ ايون الزرنيخ (III)   |
| $[Sb(OH)_4]^-$                               | $Sb(OH)_3$                        | $Sb^{3+}$ ايون الانتيمون (III) |
| $SiO_4^{4-}$ و $SiO_3^{2-}$                  | $Si(OH)_4$                        | $Si^{4+}$ ايون السليكون        |
| $[Co(OH)_4]^{2-}$                            | $Co(OH)_2$                        | $Co^{2+}$ ايون الكوبلت         |
| $[Cu(OH)_4]^{2-}$                            | $Cu(OH)_2$                        | $Cu^{2+}$ ايون النحاس          |

## 5-6 تفاعلات الحوامض والقواعد في المدايل المائية

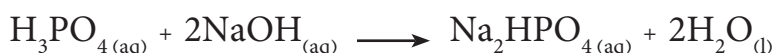
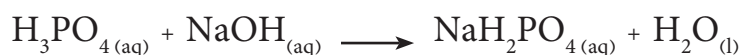
يدعى التفاعل بين حامض مع قاعدة والذي ينتج عنه ملح وماء بتفاعل التعادل، ومعظم الأملاح هي مركبات أيونية ويبين الجدول (3-6) الحوامض والقواعد القوية الشائعة.

| الجدول (3-6) الحوامض والقواعد القوية الشائعة                |   |
|---|---|
| الحوامض   | القواعد                                   |
| حامض الهيدروكلوريك HCl                                      | هيدروكسيد الليثيوم LiOH                   |
| حامض الهيدروبروميك HBr                                      | هيدروكسيد الصوديوم NaOH                   |
| حامض الهيدروايدريك HI                                       | هيدروكسيد البوتاسيوم KOH                  |
| حامض البيركلوريك HClO <sub>4</sub>                          | هيدروكسيد الربيدوم RbOH                   |
| حامض الكلوريك HClO <sub>3</sub>                             | هيدروكسيد السيزيوم CsOH                   |
| حامض النتريك HNO <sub>3</sub>                               | هيدروكسيد الكالسيوم Ca(OH) <sub>2</sub>   |
| حامض الكبريتيك H <sub>2</sub> SO <sub>4</sub>               | هيدروكسيد السترونتيوم Sr(OH) <sub>2</sub> |
| حامض الكروميك H <sub>2</sub> Cr <sub>2</sub> O <sub>7</sub> | هيدروكسيد الباريوم Ba(OH) <sub>2</sub>    |

وعند تفاعل أي حامض مع قاعدة بشكل كمي متكافئ (Stoichiometric) فسوف ينتج عن ذلك ملح عادي (متكافئ)، بمعنى انه لا يحوي ذرات هيدروجين أو مجاميع هيدروكسيد قابلة للتأين. فعلى سبيل المثال تُنتج عملية التعادل التامة لحامض الفوسفوريك (H<sub>3</sub>PO<sub>4</sub>) مع هيدروكسيد الصوديوم (NaOH) ملح عادي هو فوسفات الصوديوم (Na<sub>3</sub>PO<sub>4</sub>) حسب المعادلة الآتية:

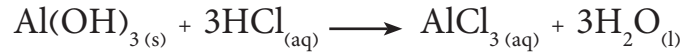


أما إذا أضيفت كمية من القاعدة اقل من الكمية المكافئة واللازمة لمعادلة الحامض بشكل تام، فسوف ينتج عن ذلك أملاحاً حامضية بسبب قابلية هذه الأملاح على التفاعل مع القاعدة، وكما هو مبين في المعادلتين الآتيتين:



وهناك امثلة كثيرة لهذا النوع من الأملاح منها كربونات الصوديوم الهيدروجينية (الحامضية) والتي تسمى أيضا بيكربونات الصوديوم (NaHCO<sub>3</sub>).

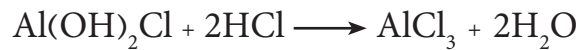
وعند تفاعل قاعدة متعددة الهيدروكسد ( قاعدة تحوي على أكثر من مجموعة هيدروكسيد واحدة في صيغتها الكيميائية) مع كمية مكافئة لها من الحامض يتكون ملح عادي كما موضح في المعادلة الآتية:



أما عند تفاعل هذا النوع من القواعد مع كمية من الحامض اقل من تلك اللازمة لمكافئتها، فعند ذاك تتكون أملاح قاعدية (بمعنى أملاح تحوي مجاميع OH<sup>-</sup> غير متفاعلة) كما هو موضح في المعادلتين الآتيتين:



ويجب ملاحظة أنه ليس من الضروري أن تكون للأملاح القاعدية صفة قاعدية، ولكنها تستطيع أن تتفاعل وتعادل الحوامض كما هو موضح في المعادلة الآتية:



## 6-6 أنواع الأملاح

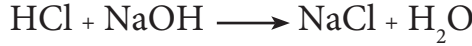
كما تعلمنا سابقا، عند تعادل محلول لحامض بشكل دقيق وتام مع قاعدة فإن المحلول الناتج عن ذلك هو ملح مشتق عن زوج الحامض-القاعدة، وأن مثل هذه الحالة غالبا ما تحصل في التفاعلات الكيميائية المستعملة في عمليات التحليل الكيميائي والتي يكون من الضروري فيها حساب الدالة الحامضية (pH) أو بمعنى آخر تركيز ايون الهيدروجين في المحلول، أن الأملاح هي الكتروليتات قوية و لذلك فالمحلول سوف يتفكك بشكل تام في المحلول .

فإذا كان الحامض والقاعدة قويين تبقى قيمة الدالة الحامضية لمحلول الملح المائي ثابتة لا تتغير. أما إذا كان احد الزوجين أو كليهما (الحامض و القاعدة المكونين للمحلول) ضعيف فعند ذاك تصبح مسألة حساب الدالة الحامضية للمحلول أكثر تعقيدا، ولذلك يكون من الملائم أن تعالج هذه المسألة بتقسيم الأملاح إلى أربعة أقسام رئيسية هي:

## 1-6-6 أملاح مشتقة من تفاعلات لحوامض قوية

### مع قواعد قوية

مثال تفاعل حامض الهيدرو كلوريك HCl مع هيدروكسيد الصوديوم NaOH



أن ذوبان هذه المجموعة من الأملاح لا يؤثر على عملية الاتزان بين ايونات الهيدروجين والهيدروكسيد في الماء:

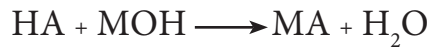


لذلك يبقى المحلول متعادلاً.

## 2-6-6 أملاح مشتقة من حوامض ضعيفة (HA)

### وقواعد قوية (MOH)

يتفاعل الحامض الضعيف HA مع القاعدة القوية MOH حسب الاتي:



يتفكك الملح (MA) من هذا النوع بشكل تام في محلوله المائي:



وكما هو معلوم، يحتوي المحلول المائي أيضا على كميات صغيرة جدا من ايونات الهيدروجين وايونات الهيدروكسيد الناتجة من تفكك جزيئات الماء. ولكون الحامض HA هو حامض ضعيف فإنه بتأين جزئياً، ولذلك فإن كمية ايونات  $\text{A}^-$  التي يمكنها أن تتواجد في المحلول مع ايونات  $\text{H}^+$  تكون قليلة أيضا، وللمحافظة على حالة الاتزان في المحلول قائمة، تتحد ايونات  $\text{A}^-$  مع ايونات  $\text{H}^+$  لتكوين الحامض الضعيف HA .



والمصدر الوحيد لايونات الهيدروجين في المحلول هو من تفكك مزيدا من جزيئات الماء. أن استمرار تفكك جزيئات الماء سوف تنتج كميات من ايون الهيدروكسيد وايون الهيدروجين والذي يستهلك من المحلول لتكوين الحامض الضعيف HA، وأن كل ذلك يؤدي في النهاية إلى زيادة تركيز ايونات الهيدروكسيد في المحلول على حساب تركيز ايونات الهيدروجين ويصبح المحلول بذلك قاعديا. تدعى هذه الحالة والتي بها يحدث تفاعل بين ايون (أو ايونات) الملح مع ايونات الماء بعملية التحلل المائي. ويمكن التعبير عن عملية التحلل المائي لملاح مشتق من حامض ضعيف وقاعدة قوية بالمعادلة التالية:



وتعتمد صفة المحلول على القوة النسبية للحامض و القاعدة الناتجة من عملية التحلل المائي، ومن الأمثلة لهذا النوع من الأملاح هي خلات الصوديوم (CH<sub>3</sub>COONa) و فورمات البوتاسيوم (HCOOK).

### 3-6-6 أملاح مشتقة من حوامض قوية (HA)

#### و قواعد ضعيفة (B)

يتكون هذا النوع من الاملاح حسب المعادلة الآتية:



وهذا الملح يتأين بشكل تام في المحلول المائي:



في المحلول المائي للملح (BH) A، ينخفض تركيز ايون BH<sup>+</sup> (المتكون من التفكك التام للملح) نتيجة لاتحاده مع ايون الهيدروكسيد (الناتج من تفكك جزيئات الماء) لتكوين القاعدة الضعيفة B و الوصول إلى حالة الاتزان، كما في المعادلة الآتية:



ولذلك سوف يزداد تركيز ايون الهيدروجين في المحلول على حساب ايون الهيدروكسيد (المستهلك لتكوين القاعدة الضعيفة) ويصبح المحلول حامضيا.

ومن الأمثلة لهذا النوع من الأملاح هي ملح كلوريد الامونيوم NH<sub>4</sub>Cl و ملح كبريتات الامونيوم (NH<sub>4</sub>)<sub>2</sub>SO<sub>4</sub>.

### 4-6-6 أملاح مشتقة من حوامض ضعيفة (HA)

#### و قواعد ضعيفة (B)

في المحلول المائي لهذا النوع من الأملاح، يحدث التفاعلان التاليان بشكل آني :



وتعتمد صفة المحلول الحامضية أو القاعدية بشكل أساسي في هذه الحالة على قوة الحامض والقاعدة النسبية (أيهما أقوى من الثاني). فإذا كانا بنفس القوة ( ثابت تفكك الحامض = ثابت تفكك القاعدة) يكون المحلول المائي للملح عند ذاك متعادلا، أما إذا كان ثابت تفكك الحامض اكبر من ثابت تفكك القاعدة يكون المحلول المائي للملح الناتج منهما حامضي والعكس صحيح.

معلومة


ثابت التفكك للحامض والقاعدة الضعيفين يعني (قابلية تفكك الحامض الضعيف والقاعدة الضعيفة لانتاج ايوناتهما في المحلول).

## 7-6 دلائل الحوامض والقواعد


دلائل الحوامض والقواعد هي عبارة عن صبغات عضوية ( مركبات عضوية)، يعتمد لونها على تركيز أيونات  $H_3O^+$  في المحلول، و بوساطة لونها تظهر الدلائل مقدار حموضة أو قاعدية المحلول [الشكل (1-6)]. إن أول الدلائل المستخدمة لهذا الغرض كانت صبغات نباتية مثل صبغة زهرة الشمس (اللتموس)، ولكن اغلب الدلائل المستخدمة الآن هي مواد مصنعة مختبرياً، ومعظم الدلائل الخاصة بتفاعلات حامض-قاعدة هي حوامض عضوية ضعيفة (يرمز لها HIn) يكون لصيغتها غير المتفككة HIn لون يختلف عن صيغتها المتفككة  $In^-$ . فعلى سبيل المثال فلصبغة دليل البروموفينول الأزرق (عبارة عن حامض عضوي ضعيف جداً) غير المتفككة لون اصفر، أما صيغته المتفككة فلونها أزرق كما هو مبين في المعادلة التالية لدليل HIn :



ويتحدد لون المحلول من خلال نسبة وجود كميات كلا الصنفين المتفكك  $In^-$  وغير المتفكك HIn الموجودة فيه. وهناك نوع من الدلائل المستعملة في تفاعلات التعادل تدعى الدلائل العامة أو الشاملة (مكونة من مزيج لعدد من دلائل حامض-قاعدة) تظهر تدرج في اللون لمدى واسع من الدالة الحامضية.



(a)



(b)



(c)

الشكل 1-6

ألوان محاليل ثلاثة من الدلائل الشائعة عند قيم الدالة الحامضية للمحلول (pH) تتراوح بين 3-11 (أ) المثل الأحمر، (ب) البروموثايمول الأزرق، (ج) الفينولفثالين.

## 8-6 محاليل الحوامض والقواعد

تعتبر المحاليل المائية للحوامض والقواعد من أهم المحاليل لكونها محاليل ذات أهمية حيوية بالغة، فالتفاعلات الحيوية التي تحدث داخل أجسامنا تتم في وسط مائي حامضي أو قاعدي، وأي اختلاف ولو كان بسيطاً في تركيز هذه المحاليل قد يحدث تغييراً في هذه التفاعلات وقد ينتج عنه اختلالاً في وظائف الأعضاء.

تحضر محاليل الحوامض والقواعد في المختبر بتراكيز مختلفة على وفق ما سبق وان تعلمناه عن تحضير المحاليل سابقاً. فعلى سبيل المثال، يمكن تحضير محلول لحامض الهيدروكلوريك (HCl) بإذابة غاز كلوريد الهيدروجين HCl في الماء، ويمكن أيضاً تحضير محاليل لهيدروكسيد الصوديوم بإذابة مادة NaOH الصلبة في الماء وتجرى عملية التحضير في كل مرة بإذابة كمية معلومة ( كتلة او عدد مولات) من المادة المذابة، و بشكل دقيق، في كمية محددة (كتلة او حجم) من المذيب وفقاً لحسابات تجرى لهذا الغرض.

### مثال 6 - 1 :

احسب مولارية محلول يحوي على 3.65 g من HCl في 2 L من المحلول (الكتلة المولية 36.5 g/mol).

### الحل :

بالرجوع الى قانون المولارية

$$M = \frac{n \text{ (mol)}}{V \text{ (L)}}$$

نحسب عدد مولات HCl من العلاقة الاتية:

$$n_{\text{HCl}} = \frac{m \text{ (g)}}{M \text{ (g/mol)}} = \frac{3.65 \text{ (g)}}{36.5 \text{ (g/mol)}} = 0.1 \text{ mol}$$

ولهذا تكون المولارية مساويةً الى:

$$M = \frac{n \text{ (mol)}}{V \text{ (L)}} = \frac{0.1 \text{ (mol)}}{2.0 \text{ (L)}} = 0.05 \text{ mole/L} = 0.05 \text{ M}$$

### مثال 6 - 2 :

احسب كتلة  $\text{Ba(OH)}_2$  (الكتلة المولية = 171 g/mol) اللازمة لتحضير 2.5 L من محلول هيدروكسيد الباريوم بتركيز 0.06 M.

### الحل :

بالاعتماد على قانون المولارية:

$$M \text{ (mol/L)} = \frac{n \text{ (mol)}}{V \text{ (L)}}$$

ومن تعريف عدد المولات:

$$n_{\text{HCl}} = \frac{m \text{ (g)}}{M \text{ (g/mol)}}$$

وبدمج العلاقتين اعلاه نحصل على:

$$M \text{ (mol/L)} = \frac{m \text{ (g)}}{M \text{ (g/mol)} \times V \text{ (L)}}$$

ومنه نحصل على كتلة  $\text{Ba(OH)}_2$

$$m \text{ (g)} = M \text{ (mol/L)} \times V \text{ (L)} \times M \text{ (g/mol)}$$

$$m \text{ (g)} = 0.06 \text{ (mol/L)} \times 2.5 \text{ (L)} \times 171.3 \text{ (g/mol)}$$

$$m \text{ (g)} = 25.695 \text{ g}$$

### تمرين 1-6

احسب مولارية محلول حامض الكبريتيك في لتر منه (الكتلة المولية = 98 g/mol) المركز إذا علمت أن النسبة المئوية الكتلية للحامض في المحلول هي 96.4% وأن كتلة المحلول تساوي 1.96 kg/L.

## 9-6 التسحيح Titration

عادة ما يستفاد من تفاعلات التعادل (حامض - قاعدة) مختبرياً، في قياس الحجم اللازم من محلول (معلوم التركيز) للتفاعل مع حجم معين من محلول آخر ذو تركيز مجهول ومن ثم يستعمل الحجم المقاس في حساب تركيز المحلول الأول، وتدعى هذه العملية بالتسحيح. فعملية التسحيح هي تلك العملية التي يتم فيها إضافة محلول إحدى المادتين المتفاعلتين، بشكل تدريجي من اداة زجاجية اسطوانية الشكل مدرجة بشكل يمكن من قياس حجم المحلول بدقة تدعى السحاحة (burette)، إلى محلول المادة المتفاعلة الأخرى الموجود عادة في دورق مخروطي (conical flask) يسمى دورق ايرلنماير (Erlenmeyer flask)، لحين اكتمال التفاعل بين المادتين ومن ثم يتم قياس حجم المحلول اللازم إضافته لإكمال التفاعل. ولتحديد النقطة التي يتم فيها إيقاف عملية التسحيح (النقطة التي ينتهي فيها التفاعل بين الحامض والقاعدة) وتسمى بنقطة الانتهاء (End point) او نقطة التكافؤ الفعلية حيث يتم اضافة مادة يتغير لونها عند هذه النقطة تسمى الدليل (Indicator). فعلى سبيل المثال، يمكن تسحيح محلول لحامض ذي تركيز مجهول الموجود في دورق مخروطي، وذلك بالإضافة التدريجية لمحلول هيدروكسيد الصوديوم القياسي (ذو تركيز معلوم) من السحاحة [الشكل (6-2)] وبأستخدام دليل الفينو لفتالين.



الشكل 2-6

عملية تسحيح محلول لحامض مجهول التركيز مقابل محلول قياسي لقاعدة، حيث يتم تحديد نقطة نهاية التفاعل عند تغير لون الدليل المضاف إلى المحلول المسحح.



### مثال 6 - 3 :

ما هو التركيز المولاري لمحلول حامض الهيدروكلوريك إذا علمت أن 36.5 mL منه كان لازماً للتفاعل مع 43.2 mL من 0.236 M من محلول هيدروكسيد الصوديوم؟

### الحل :



يتضح من معادلة التفاعل أن مول واحد من الحامض يكافئ مول واحد من القاعدة، أو مللي مول واحد من الحامض يكافئ مللي مول واحد من القاعدة، لذلك تحسب عدد مللي مولات هيدروكسيد الصوديوم المشتركة في التفاعل أولاً والتي سوف تساوي عدد مللي مولات حامض الهيدروكلوريك. ثم بعد ذلك يمكن حساب التركيز المولاري لحامض الهيدروكلوريك لأن حجم محلول الحامض معلوم. المعلومات

$$V_{\text{HCl}} = 36.5 \text{ mL}$$

$$M_{\text{HCl}} = ?$$

$$V_{\text{NaOH}} = 43.2 \text{ mL}$$

$$M_{\text{NaOH}} = 0.236 \text{ M}$$

بأستخدام قانون التخفيف للمحلول

$$M_{\text{HCl}} \times V_{\text{HCl}} = M_{\text{NaOH}} \times V_{\text{NaOH}}$$


$$M_{\text{HCl}} \times 36.5 \text{ mL} = 0.236 \text{ M} \times 43.2 \text{ mL}$$

$$M_{\text{HCl}} = \frac{0.236 \text{ M} \times 43.2 \text{ mL}}{36.5 \text{ mL}} = 0.278 \text{ M}$$

### مثال 6 - 4 :

في عملية تسحيح محلول حامض الكبريتيك مع محلول هيدروكسيد الصوديوم القياسي، وجد أن 43.2 mL من محلول 0.236 M هيدروكسيد الصوديوم يستهلك 36.5 mL من محلول الحامض للوصول إلى نقطة نهاية التفاعل ( تغير لون دليل بروموفينول الأزرق من اللون الأزرق إلى اللون الأصفر). ما هي مولارية محلول  $H_2SO_4$ .

### الحل :



تظهر المعادلة الكيميائية الموزونة للتفاعل أن نسبة التفاعل هي 1 mol من  $H_2SO_4$  لكل 2 mol من NaOH ، لذلك تكون عدد مللي مولات حامض الكبريتيك مساوية لنصف عدد مللي مولات هيدروكسيد الصوديوم لذا نكتب قانون التخفيف على الصورة الآتية:

$$M_{H_2SO_4} \times V_{H_2SO_4} = \frac{1}{2} \times (M_{NaOH} \times V_{NaOH})$$

### المعلومات

$$V_{H_2SO_4} = 36.5 \text{ mL}$$

$$M_{H_2SO_4} = ?$$

$$V_{NaOH} = 43.2 \text{ mL}$$

$$M_{NaOH} = 0.236 \text{ M}$$

وبالتعويض في العلاقة اعلاه:

$$M_{H_2SO_4} \times 36.5 \text{ mL} = \frac{1}{2} \times (0.236 \text{ M} \times 43.2 \text{ mL})$$

$$M_{H_2SO_4} = \frac{0.236 \text{ M} \times 43.2 \text{ mL}}{2 \times 36.5 \text{ mL}} = 0.139 \text{ M}$$

### تمرين 2-6

تم معايرة (ايجاد التركيز المضبوط) محلول هيدروكسيد البوتاسيوم وذلك بتسحيح 25 mL منه مع محلول حامض الهيدروكلوريك القياسي (0.08 M). فاذا علمت ان 42 mL من الحامض قد استهلكت في عملية التسحيح لحين تغير لون دليل المثيل الاحمر المستخدم من اللون الاصفر الى اللون الاحمر، ما التركيز المولاري لمحلول هيدروكسيد البوتاسيوم؟

قاعدة (ارينيوس) Arrhenius base

مادة تنتج ايونات  $\text{OH}^-_{(aq)}$  في المحاليل المائية. القواعد القوية تكون ذائبة في الماء وتكون متفككة بشكل تام فيه، بينما تكون القواعد الضعيفة متينة بشكل جزئي.

قاعدة برونشتد- لوري Base Bronshted Laurie

صنف مكتسب للبروتون.

قاعدة لويس Lewis Base

اي صنف يمكنه المساهمة بتوفير (بمنح) زوج من الالكترونات لتكوين اصرة تناسقية.

المادة الامفوتيرية Amphoteric substance

المادة التي تظهر الصفة الامفوتيرية وذلك من خلال قابليتها على اكتساب اوفقدان بروتونات، اي المادة التي لها القابلية على ان تسلك اما سلوك حامض او سلوك قاعدة.

نقطة التكافؤ Equivalence

النقطة التي تكون عندها كميات كيميائية متكافئة من المواد المتفاعلة، قد تفاعلت.

نقطة نهاية التفاعل End point Interaction

النقطة التي يتغير عندها لون الدليل في عملية التسحيح.

المحلول القياسي Standard solution

محلول يكون تركيزه معلوم بشكل دقيق.

المعايرة Calibration

عملية يتم بواسطتها تعيين تركيز المحلول بشكل دقيق، وتتم عادة بتسحيحه مقابل كمية معلومة ومضبوطة من مادة قياسية.

التحلل المائي Hydrolysis

تأين او تفكك المادة في الماء.

أيون الهيدرونيوم  $\text{H}_3\text{O}^+$  Hydronium ion

هو تعبير شائع عن ايون الهيدروجين المتميء.

التأين الذاتي Self - Ionization

تفاعل تأين يحدث بين جزيئات متشابهة (لنفس المادة).

التأين في المحاليل المائية

Ionization in aqueous solution

هي عملية تتضمن تفاعل جزيئة مركب مع الماء لتكوين ايونات.

التسحيح Titration

عملية يتم بواسطتها تعيين حجم المحلول القياسي (ذو تركيز معلوم) اللازم للتفاعل مع كمية محددة من المادة المراد تقديرها.

التعادل Nutrlization

تفاعل حامض مع قاعدة لتكوين ملح و ماء (عادة ما تتفاعل ايونات الهيدروجين مع ايونات الهيدروكسيد لتكوين جزيئات ماء).

حامض ( ارينيوس ) Arrhenius acid

مادة تنتج ايونات  $\text{H}^+_{(aq)}$  في المحاليل المائية. الحوامض القوية تتأين بشكل تام او شبه تام في المحاليل المائية المخففة، اما الحوامض الضعيفة فتتأين بشكل جزئي.

حامض برونشتد- لوري Acid Bronshted Laurie

صنف واهب للبروتون.

حامض لويس Lewis acid

اي صنف يمكنه المساهمة باستلام زوج من الالكترونات لتكوين اصرة تناسقية.

الدليل Indicator

مادة عضوية يمكنها ان تظهر الوان مختلفة عند وجودها في محاليل مختلفة الحامضية، لذلك فهي تستعمل لتعيين النقطة التي ينتهي عندها التفاعل بين مادتين (تسلك احداها سلوك حامض والاخرى سلوك قاعدة في التفاعل).

7-6 كم هو حجم حامض HCl المركز ( النسبة المئوية الكتلية له = 36% وكثافته = 1.18 g/mL) اللازم لتحضير 500 mL من محلول مخفف للحامض نفسه بتركيز 2 M؟

8-6 احسب كتلة HNO<sub>3</sub> التي تحتويها 5 mL من محلول الحامض المركز ( النسبة المئوية الكتلية له = 69.8% و كثافته = 1.42 g/mL).

9-6 ما كمية ملح كبريتات الامونيوم (NH<sub>4</sub>)<sub>2</sub>SO<sub>4</sub> (الكتلة المولية = 132.8 g/mol) اللازمة لتحضير 400 mL من محلول بتركيز 0.25 M؟

10-6 كم هو حجم حامض الكبريتيك المركز ( النسبة المئوية الكتلية له = 98% و كثافته = 1.84 g/mL) اللازم لتحضير 100 mL من محلول الحامض المخفف ( النسبة المئوية الكتلية له = 20% و كثافته = 1.14 g/mL)؟

11-6 ضع علامة (✓) أمام العبارة الصحيحة و علامة (×) أمام العبارة غير الصحيحة فيما يلي:

1. جميع حوامض و قواعد برونشترد- لوري تعتبر حوامض و قواعد أرينيوس .
2. تتفاعل الأمونيا مع الماء كقاعدة برونشترد .
3. يعتبر كلوريد الالمنيوم (AlCl<sub>3</sub>) من حوامض لويس.
4. تسلك القاعدة القرينة للحامض القوي سلوك قاعدة قوية.
5. يعتبر ثلاثي فلوريد البورون حامض لويس.
6. اي من العبارات التالية المتعلقة بنظرية ارينيوس صحيحة؟
7. يتضمن تفاعل حامض-قاعدة حسب نظرية برونشترد - لوري انتقال بروتونات.
8. احدى المتطلبات الضرورية لقاعدة برونشترد لوري وجود ايون الهيدروكسيد في صيغتها الكيميائية.

1-6 كيف عرف ارينيوس الحامض والقاعدة وعملية التعادل؟ وضح ذلك بالأمثلة.

2-6 مستعينا بنظرية برونشترد ولوري وضح المقصود بكل مما يأتي مع الأمثلة:

أ - حامض


ب - قاعدة قرينة

ج - قاعدة

د - حامض قرين

هـ - زوج لحامض-قاعدة قرينة.

3-6 ميز بين الحوامض و القواعد في كل مما يأتي مستعينا بنظرية لويس، مبينا الذرة الواهبة والذرة المستقبلية للمزدوج الالكتروني:



4-6 ما المقصود بالملح الحامضي؟ اكتب معادلات كيميائية موزونة تبين فيها كيفية الحصول على الأملاح الحامضية التالية من الحوامض و القواعد المناسبة:

أ - NaHSO<sub>3</sub>

ب - KHCO<sub>3</sub>

ج - NaH<sub>2</sub>PO<sub>4</sub>

د - NaHS

5-6 علل ما يأتي:

أ - محاليل الأملاح المشتقة من الحوامض القوية والقواعد القوية تكون متعادلة.

ب - محاليل الأملاح المشتقة من الحوامض القوية والقواعد الضعيفة تكون حامضية.

ج - محاليل الأملاح المشتقة من الحوامض الضعيفة والقواعد القوية تكون قاعدية.

6-6 احسب مولارية محلول حامض النتريك إذا علمت أن 35.7 mL منه يعادل، في عملية التسحيح، 0.302 g من Na<sub>2</sub>CO<sub>3</sub>.



# 7

## Polymer Chemistry

## الفصل السابع

## كيمياء البوليمرات

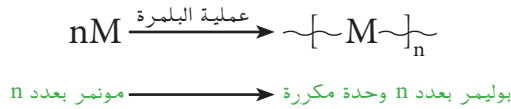
### بعد الانتهاء من دراسة هذا الفصل يتوقع من الطالب أن :-

- يتعرف على الجزيئات العملاقة (البوليمرات) كجزيئات كبيرة تبنى من وحدات صغيرة تسمى مونمرات.
- يفهم عملية بلمرة المونمرات لتكوين البوليمرات.
- يتعرف على بعض انواع البوليمرات الطبيعية والمصنعة.
- يفسر اثر اختلاف البناء التركيبي العام للبوليمرات على خصائصها.
- يحدد نوعي البوليمرات (بوليمرات الاضافة وبوليمرات التكاثف) وكيفية تحضيرها مخبريا.
- يصف تكوين البوليمرات بطريقة البلمرة بالاضافة وطريقة البلمرة بالتكاثف.
- يتعرف على المطاط (كنوع من البوليمرات) ويميز بين المطاط الطبيعي والمصنع.
- يعرف بعض الاستخدامات الشائعة للبوليمرات الصناعية مثل البلاستيك (اللدائن) والالياف المصنعة.

## 7 - 1 البوليمرات (اللذائن)

البلاستيكات والالياف الصناعية والمطاط والسيليلوز والبروتينات والملابس التي نرتديها جميع هذه المواد هي بوليمرات والنشا والدهنيات هي امثلة اخرى على البوليمرات.

تتكون كلمة بوليمر (polymer) من مقطعين ، بولي (poly) كلمة اغريقية تعني متعدد وكلمة مير (mer) تعني جزيء ، وهكذا فالبوليمر تعني متعدد الجزيئات . **والبوليمرات** جزيئات عملاقة مؤلفة من عدد كبير من الجزيئات الصغيرة تسمى مونمرات (monomers) ارتبطت ببعضها باواصر على الاغلب تساهمية على شكل سلاسل طويلة من خلال تفاعلات كيميائية عضوية. ويحتوي الواحد من البوليمرات على ما يقارب من 1000 الى 200000 ذرة معظمها كاربون وهيدروجين. اما **المونمرات** فهي جزيئات صغيرة قد تكون مركبات عضوية او غير عضوية تتحد مع بعضها بتفاعل كيميائي لتكون سلاسل عملاقة هي البوليمر الذي يتكون من وحدات هذه الجزيئات مكررة تسمى بالوحدة المكررة، وتسمى عملية تفاعل هذه المونمرات لتكوين البوليمرات بعملية البلمرة (Polymerization). اذن البلمرة هي **عملية ربط الجزيئات الصغيرة والمسماة مونمرات معاً لتكون جزيئات عملاقة تسمى بوليمرات**. فاذا رمزنا للمونمر بالحرف M ولعدد المونمرات n (تتراوح قيم n ما بين 5 و 50000) ، فيمكن تمثيل عملية البلمرة لتكوين البوليمر  $(M)_n$  بالمعادلة الاتية :



## 7 - 2 انواع البوليمرات

لقد صنفت البوليمرات مبدئياً الى نوعين هما :

### 7-2-1 البوليمرات الطبيعية Natural Polymers

وهي الموجودة في الطبيعة كالنشا والسيليلوز والبروتينات والمطاط الطبيعي.

### 7-2-2 البوليمرات المصنعة Synthetic Polymers

والتي تم تحضيرها مختبرياً او صناعياً بوساطة الانسان كالبولي اثيلين والبولي امايد (النايلون) والبولي كلوريد الفاينيل وغيرها من الاف البوليمرات المعروفة في وقتنا الحاضر. وقد تصنف البوليمرات بحسب تأثير درجة الحرارة عليها الى:

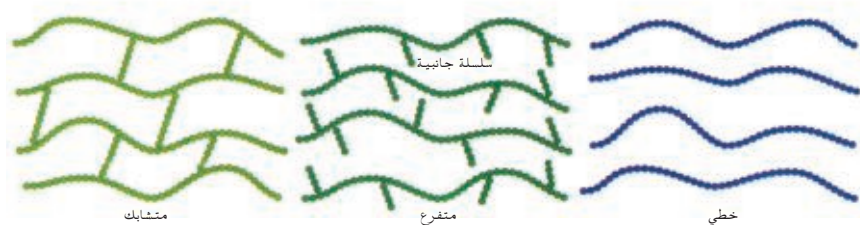
## أ - بوليمرات مطاوعة للحرارة Thermoplastic polymers

يتلين هذا النوع من البوليمرات عند تسخينها حيث يمكن إعادة تشكيلها عدة مرات ثم تتصلب عند انخفاض درجة حرارتها وهذه البوليمرات يطلق عليها اسم البلاستيكات. ومن أشهر الأمثلة عليها: البولي اثيلين و البولي بروبيلين و بولي كلوريد الفايثيل و البولي ستايرين .

## ب - بوليمرات غير مطاوعة للحرارة Thermosetting polymers

لا تتلين عند تسخينها، بل تحافظ على شكلها الأصلي. ومن أشهر الأمثلة عليها الميلامين، والمطاط المصنع.

وقد تصنف البوليمرات أيضا بحسب تركيبها البنائي وتأثير التسخين عليها فتكون إما خطية (Linear) او متفرعة (Branched) او متشابكة (Cross - linked) كما مبين في الشكل (7 - 1). فعند تسخين البوليمر الخطي تكون الجزيئات حرة الحركة فتزلق بسهولة اماماً وخلفاً بعضها فوق بعض اذ انها تكون غير ثابتة حرارياً. اما تسخين البوليمر المتفرع فتحتوي جزيئاته على سلاسل جانبية تمنع الجزيئات من الانزلاق بعضها فوق بعض بسهولة ولكن يرجح انها لا تزال غير ثابتة حرارياً. اما البوليمر المتشابك فتكون فيه الجزيئات المتجاورة مترابطة فيما بينها فلا تتمكن من الانزلاق بعضها فوق بعض عند التسخين فتبقى في هذه الحالة محافظة على شكلها فتكون ثابتة حرارياً.



الشكل 7 - 1

انواع البوليمرات حسب تركيبها البنائي

## 7 - 3 البوليمرات المصنعة

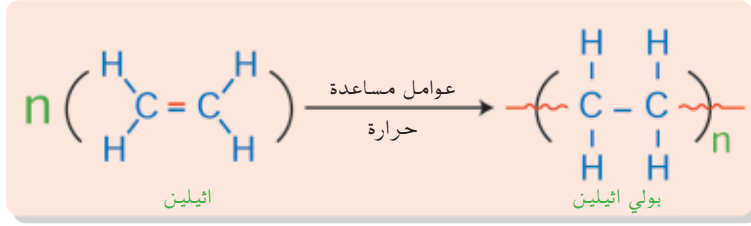
يمكن الحصول على البوليمرات المصنعة (والتي هي من صنع الانسان) بنوعين من البلمرة وهي:

### 1-3-7 البلمرة بالاضافة Addition Polymerisation

تفاعل كيميائي يتم فيه اضافة عدد كبير جداً من جزيئات صغيرة غير مشبعة (مونمر يحوي اصرة مزدوجة) لتكون جزيء واحد عملاق، وهو البوليمر بدون اي ناتج عرضي (تلك البوليمرات قد تصنع من نوع واحد من المونمر). ومن امثلة بوليمرات الاضافة هي البولي اثيلين (PE) و البولي كلوريد الفايثيل (PVC) و البولي ستايرين (PS) و البولي بروبيلين (PP)، وسنتطرق لطرق تحضيرها وتراكيبها ادناه بشكل مختصر.

## 1 . البولي اثيلين (PE) polyethylene

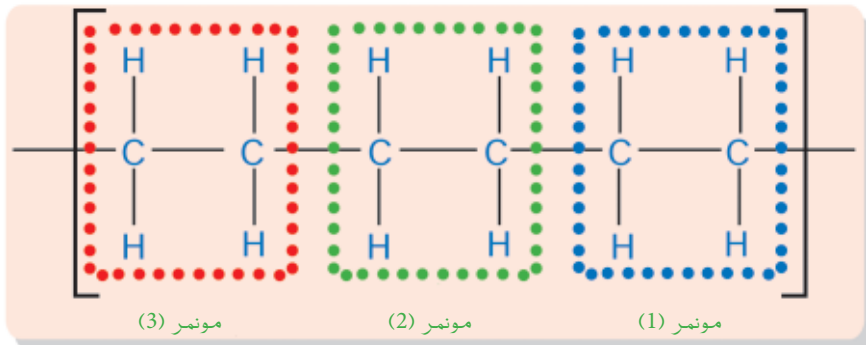
يحضر البولي اثيلين من اضافة جزيئات الاثيلين (  $\text{CH}_2 = \text{CH}_2$  ) لبعضها لتكون جزيء البولي اثيلين. كما موضح في المعادلة الاتية :



يمثل الحرف (n) عدد جزيئات الاثيلين المتبلمرة والتي قد يكون عدد وحداتها المكررة بما يقارب 50000 او اكثر. ان تفاعل الاضافة يتكرر مرات كثيرة لتكوين بوليمر طوله n من المونمرات (سلسلة جزيئية طويلة جداً) ويمكن لهذا التفاعل ان يتكرر مئات بل الاف المرات وتسمى وحدة الاثيلين في السلسلة البوليمرية بالوحدة المكررة حيث تنكسر احدى الاصرتين بين ذرتي الكربون في جزيئة الاثيلين (الاصرة باي  $\pi$ ) وترتبط كل ذرة منهما بذرة كاربون من جزيئة اخرى وتكرر هذه العملية حتى تترايط الالاف من جزيئات الاثيلين مكونة البولي اثيلين وكما يأتي:

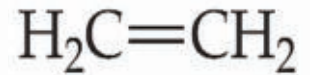



ويمكن كتابة هذه المعادلة بصورة مختصرة كما في المعادلة السابقة والشكل (2-7) يبين طريقة معرفة عدد الوحدات المكونة لجزيء البوليمر (بولي اثيلين)، المتكون من ثلاث وحدات مكررة.



### اشكال البولي اثيلين

يحضر البولي اثيلين باشكال متعددة عادة حسب شروط تفاعل البلمرة. فنلاحظ هناك ثلاث اشكال للبولي اثيلين بحسب درجة الحرارة والضغط والعوامل المساعدة المستخدمة في التحضير:



التركيب الجزيئي للاثيلين

الشكل 2-7

عدد الوحدات المكونة لجزيء البوليمر (بولي اثيلين)



### أ - بولي اثيلين عالي الكثافة (High-Density polyethylene (HDPE)

يتكون عندما يسخن الاثيلين الى  $100^{\circ}\text{C}$  في مذيب هيدروكاربوني وعند ضغط جوي عادي فيتكون بوليمر خطي ذو كثافة عالية. لان الجزيئات الخطية متراسة بشكل متقارب جداً فيكون حجمها صغيراً مما يجعل كثافتها عالية لذلك يبقى البوليمر قوياً وصلباً فتصنع منه الاوعية البلاستيكية كعبوات الحليب والعصائر.

### ب - بولي اثيلين منخفض الكثافة (Low-Density polyethylene (LDPE)

يتكون عندما يسخن الاثيلين الى  $200^{\circ}\text{C}$  عند ضغوط عالية (تقريباً  $1000\text{ atm}$ ) مع قليل من الاوكسجين كبادئ للفاعل فيتكون بوليمر متفرع اذ يحدث التفرع عند ازالة ذرات هيدروجين من الجزيئة واطافة جزيئات اثيلين بدلاً منها في هذه المواقع على عكس الجزيئات الخطية لان جزيئاتها لا تتمكن من التجمع متقاربة. لذلك تكون كثافة السلسلة المتفرعة اقل من كثافة السلسلة الخطية. فيكون البوليمر اقل صلابة من البولي اثيلين عالي الكثافة ولذلك يستخدم في صنع الاكياس البلاستيكية العادية.

### ج - بولي اثيلين متشابك (Cross-linked polyethylene (CPE)

يمكن الحصول على هذا النوع من البولي اثيلين عندما تزال ذرات الهيدروجين من جزيئات البولي اثيلين، حيث يترابط جزيئان متجاوران من السلسلة ويكونان ارتباط متشابكا بين جزيئتين والمعروف عن النوع المتشابك انه اكثر صلابة وقوة من البولي اثيلين عالي الكثافة فتصنع منه الاشياء التي تتطلب صلابة شديدة. والشكل (3-7) يبين الاشكال المختلفة للبولي اثيلين مع استخداماتها المختلفة.



#### هل تعلم

ان سلسلة البوليمر في الاشرطة اللاصقة هي بولي اثيلين منخفض الكثافة له قيمة  $n$  حوالي (10000) وحدة مونمر لكل سلسلة، وله متوسط كتلة مولية حوالي (300000).



#### الشكل 3-7

خصائص الاشكال المختلفة للبولي اثيلين وبعض الاستخدامات المميزة لها.

ويوضح الشكل (4-7) بعض الاستخدامات المختلفة للبولي اثيلين.

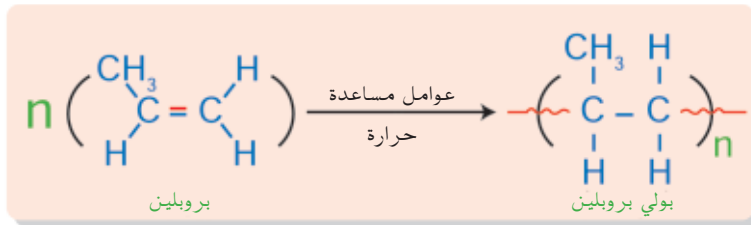


الشكل 4-7

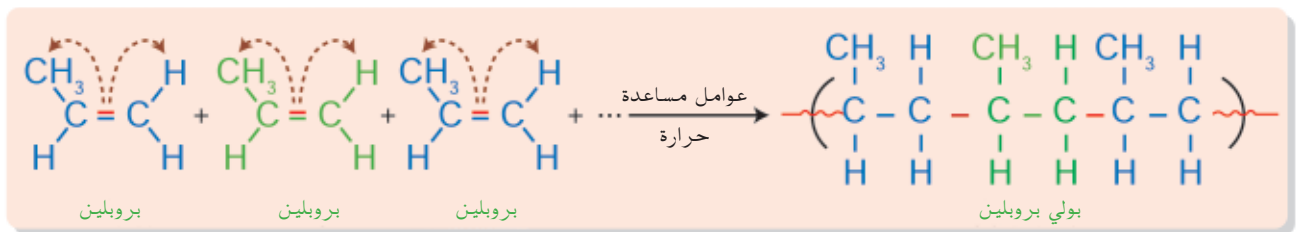
الاستخدامات المختلفة للبولي اثيلين

## 2. البولي برويلين (polypropylene (PP)

يتكون من اتحاد عدد كبير من جزيئات البروبيلين ( $\text{CH}_2 = \text{CH} - \text{CH}_3$ ) مع وجود عوامل مساعدة كما في المعادلة التالية التي تكتب بصورة مختصرة على النحو الاتي:



ويمكن ان تتكرر هذه العملية حتى تترايط الالاف من جزيئات البروبيلين مكونة البولي برويلين وكما يأتي :



ويمتاز البولي برويلين بالصفات الاتية:

- 1 . سهولة تشكيله وصبه ومقاومته للحرارة والمواد الكيميائية.
  - 2 . عدم قابليته للكسر
  - 3 . شفاف وعديم الرائحة
  - 4 . يستخدم في صناعة الادوات الطبية والالعب والانايب والشكل (5-7)
- يبين بعض الاستخدامات المختلفة للبولي برويلين .

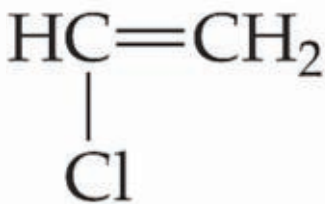


الشكل 5-7

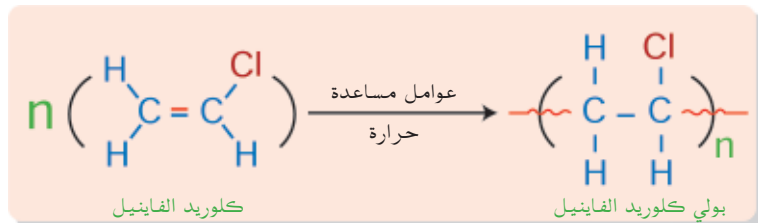
بعض الاستخدامات المختلفة للبولي بروبيلين

### 3 . بولي كلوريد الفايينيل (PVC) (poly(Vinyl Chloride))

يتكون من ارتباط عدد كبير من جزيئات كلوريد الفايينيل  $(CH_2 = CH - Cl)$  مع وجود عوامل مساعدة مناسبة وحسب التفاعل المبسط الاتي:



التركيب الجزيئي لكلوريد الفايينيل



يمتاز بولي كلوريد الفايينيل بالصفات الاتية:

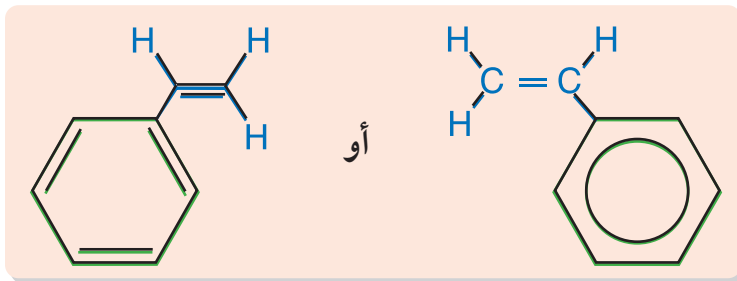
- 1 . اكثر متانة ومقاومة للحرارة والمواد الكيميائية من بولي الاثيلين والبروبيلين.
- 2 . رخص ثمنه
- 3 . يستخدم بدلاً من الانابيب المعدنية في صناعة انابيب المياه.
- 4 . مقاومة للماء وعازل لذلك يدخل في صناعة فرش السيارات والمعاطف المطرية والشكل (6-7) يبين بعض استخدامات بولي كلوريد الفايينيل.



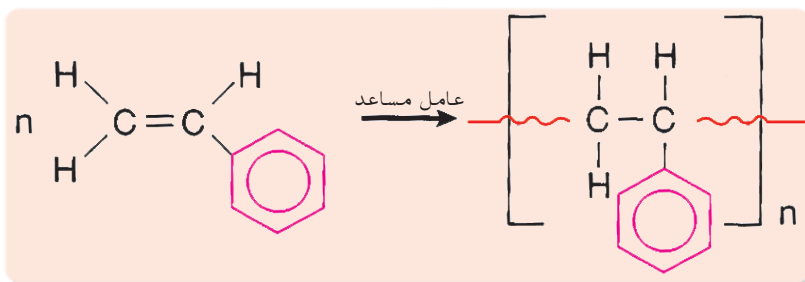
الشكل 6-7  
الاستخدامات المختلفة لبولي كلوريد  
الفاينيل

#### 4 . البولي ستايرين (PS) polystyrene

يتكون البولي ستايرين من بلمرة احد الجزيئات الاروماتية (يسمى ستايرين) بوجود عوامل مساعدة مناسبة والصيغة البنائية للستايرين هي كالآتي:



ويبلمر الستايرين لتكوين البولي ستايرين حسب المعادلة الآتية:



والبولي ستايرين مادة صلبة بيضاء تتميز بسهولة تشكيلها ومقاومتها للأحماض والقلويات، وتستخدم في صناعة الاسفنج الصناعي (الفلين) والعوازل والانابيب وبعض الاواني المنزلية وحاويات الخضار. يوضح الشكل (7-7) بعض استخدامات البولي ستايرين.



الشكل 7-7

الاستخدامات المختلفة للبولي ستايرين

ويصنع الفلين من البولي ستايرين وهو عبارة عن كرات صغيرة كما مبين في الشكل (7-8) يختلف حجمها بحسب نوع الفلين وتوجد متراسة مع بعضها، ومادة الفلين لا تشتعل في الهواء الجوي، وعند تعريضها للهب في جو مشبع بالأوكسجين (30% على الأقل) فإنه يشتعل وبسبب هذه الخاصية أصبح الفلين يستخدم في صناعة المواد المقاومة للحرارة العالية لاحظ الشكل (7-9) مما جعل البولي ستايرين منافس الى الكثير من البوليمرات الاخرى المحضرة .



الشكل 8-7

الفلين ( كرات صغيرة ).

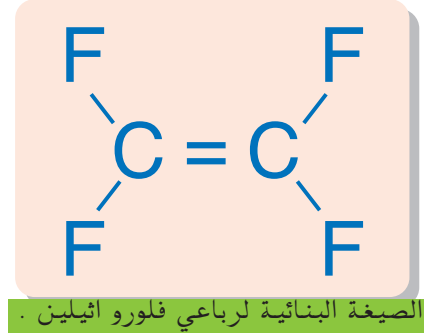


الشكل 9-7

مقاومة الفلين للحرارة في الجو الاعتيادي .

## 5 . بولي رباعي فلورو اثيلين (التفلون) (Teflon) (poly(Tetrafluoroethylene))

يحضر هذا البوليمر من المونمر رباعي فلورو اثيلين ( $CF_2 = CF_2$ ) لاحظ الصيغة البنائية المجاورة للبوليمر. حيث تترايط جزيئات هذا المونمر على شكل سلسلة طويلة لتكوين مادة تعرف بالتفلون وتحتوي هذه المادة على رابطة كاربون فلور غير قابلة للتفاعل ومستقر عند درجة حرارة  $325^\circ C$  ويتصف بمعامل احتكاك منخفض جداً وهذا يعني ان المواد تنزلق بسهولة عن سطحه مما جعلت منه مادة مهمة في تصنيع ادوات المطبخ التي لا يلتصق فيها الطعام (التيفال) لاحظ الشكل (7-10) .



ويمتاز التفلون بالصفات الاتية:

- 1 . مقاومته الشديدة للحرارة والمواد الكيميائية .
- 2 . اثبت من اي مادة مبلمرة سواء كانت طبيعية ام مصنعة .
- 3 . لا يحترق ولا يتأكل بفعل العوامل الجوية .

ومن اهم استخداماته هي استعماله :

- 1 . في صناعة الادوات المعرضة للحرارة .
- 2 . في طلاء اواني الطبخ لتمنع التصاق الطعام عليها .
- 3 . في صناعة الملابس المقاومة للحرارة .

نلاحظ من الامثلة اعلاه ان بوليمرات الاضافة جميعها من الهيدروكربونات وأنها تتشابه كثيراً من حيث الشكل والسلسلة وطريقة التكوين، وتختلف من حيث المجموعات التي تتصل بذرة الكاربون فمثلاً ذرة الهيدروجين في الأثيلين تستبدل بمجموعة المثل  $CH_3$  - كما في البروبلين، وبذرة الكلور  $Cl$  - كما في كلوريد الفايثيل، وبحلقة الفينيل  $C_6H_5$  - كما في الستايرين كما وقد تستبدل الذرات الاربعة للهيدروجين بذرات الفلور  $F$  - كما في رباعي فلورو اثيلين وهذا يسبب اختلاف في صفات المواد البلاستيكية المنتجة منها. والجدول (7-1) يوضح تراكيب المونمرات والوحدات المكررة من بوليمرات الاضافة وبعض استخداماتها .



مقلاة مطلية بمادة التفلون .



استخدامات التفلون

الجدول (1-7) تراكييب المونمرات والوحدات المكررة لبوليمرات الاضافة واسماؤها

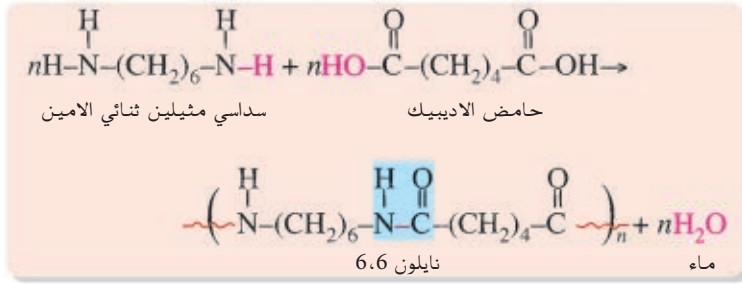
| اسم المونمر                           | صيغة المونمر                                | اسم البوليمر                  | صيغة الوحدة المكررة في البوليمر   | الاستخدامات                                    |
|---------------------------------------|---|-------------------------------|---|--|
| اثيلين                                | $\text{H}_2\text{C}=\text{CH}_2$            | بولي اثيلين                   | $\left( \begin{array}{c} \text{H} \quad \text{H} \\   \quad   \\ \text{---} \text{C} - \text{C} \text{---} \\   \quad   \\ \text{H} \quad \text{H} \end{array} \right)_n$             | اكياس بلاستيك ،<br>شرايح ، شرائط ،<br>.. الخ . |
| بروبيلين                              | $\text{CH}_2=\text{CHCH}_3$                 | بولي بروبلين                  | $\left( \begin{array}{c} \text{CH}_3 \quad \text{H} \\   \quad   \\ \text{---} \text{C} - \text{C} \text{---} \\   \quad   \\ \text{H} \quad \text{H} \end{array} \right)_n$          | زجاجات وقناني<br>بلاستيكية ، .. الخ .          |
| كلورو اثيلين<br>(كلوريد<br>الفاينيل ) | $\text{ClCH}=\text{CH}_2$                   | بولي (PVC)<br>كلوريد الفاينيل | $\left( \begin{array}{c} \text{Cl} \quad \text{H} \\   \quad   \\ \text{---} \text{C} - \text{C} \text{---} \\   \quad   \\ \text{H} \quad \text{H} \end{array} \right)_n$            | مواد مقاومة للماء<br>وعازلة ، اسطوانات .       |
| ستايرين                               | $\text{C}_6\text{H}_5\text{CH}=\text{CH}_2$ | بولي ستايرين                  | $\left( \begin{array}{c} \text{C}_6\text{H}_5 \quad \text{H} \\   \quad   \\ \text{---} \text{C} - \text{C} \text{---} \\   \quad   \\ \text{H} \quad \text{H} \end{array} \right)_n$ | التعليب ، وتسقيف<br>المباني .                  |
| رباعي فلورو<br>اثيلين                 | $\text{F}_2\text{C}=\text{CF}_2$            | تفلون (PTFE)                  | $\left( \begin{array}{c} \text{F} \quad \text{F} \\   \quad   \\ \text{---} \text{C} - \text{C} \text{---} \\   \quad   \\ \text{F} \quad \text{F} \end{array} \right)_n$             | الواناي غير اللاصقة .                          |

7-3-2 البلمرة بالتكاثف Condensation Polymerization

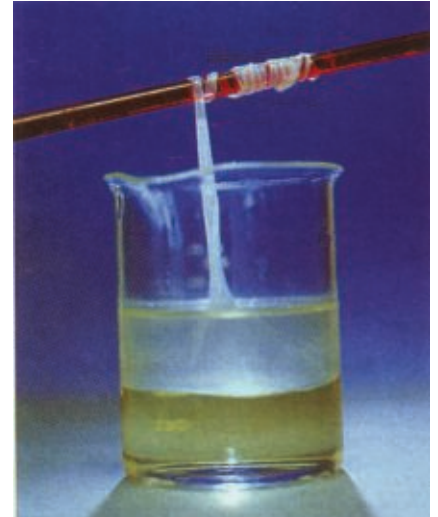
هي ترابط المونمرات معاً مع نزع جزيئة بسيطة (نتاج عرضي) كالماء وقد يحتوي كل بوليمر على نوعين من جزيئات المونمر التي تحتوي على مجموعتين وظيفيتين مما يجعل كل مونمر يرتبط بالآخر مع لفظ جزيئة كنتاج عرضي. ومن اهم امثلة هذا النوع من البوليمرات هي بوليمر البولي امايد (النايلون) وبوليمر البولي استر (التيرلين) وسنبين تحضير وخواص هذين البوليمرين باختصار.

1 . البولي امايد (النايلون) Polyamide

النايلون (Nylone) هو أول بوليمر تكاثف مصنع شائع وقد اشتق اسمه من نيويورك ولندن وقد صنع من مونمرين أحدهما به مجموعة امين ( $-\text{NH}_2$ ) عند طرفيه، والمونمر الآخر له مجموعة الكاربوكسيل ( $-\text{COOH}$ ) عند طرفيه، يرتبط هذان المونمران معاً بسهولة مع نزع جزيئة ماء ويكونا بولي امايد وتكون المجموعة الرابطة بين المونمرين في سلسلة النايلون هي  $-\text{C}-\overset{\text{O}}{\parallel}{\text{N}}-\text{H}$  وتسمى مجموعة الأمايد. والمعادلة التالية توضح صناعة النايلون:



والشكل (11-7) يبين النايلون 6,6 وهو يلف حول الساق الزجاجية. نستنتج من المعادلة ان التفاعل يشتمل على نوعين من المونمرات هما مونمر حامض الاديبيك (HOOC(CH<sub>2</sub>)<sub>4</sub>COOH)، والمونمر الثاني هو سداسي المثيلين ثنائي الامين (H<sub>2</sub>N(CH<sub>2</sub>)<sub>6</sub>NH<sub>2</sub>) ويسمى البوليمر الناتج (نايلون 6,6) لإحتواء كل مونمر محضر منه على (6) ذرات كاربون، ويعد هذا البوليمر من أكثر البوليمرات المصنعة استخداماً. ويتميز النايلون بقلّة قابليته لإمتصاص الماء مما يجعل استخدامه في الأقمشة الملامسة للجسم محدودة إلاّ إنه يستخدم في صناعة الأقمشة المقاومة للبلل مثل المعاطف والمظلات. والشكل (12-7) يبين أهم الاستخدامات المتعددة للنايلون .



الشكل 11-7

النايلون عند تحضيره من سداسي المثيلين ثنائي الامين وحامض الاديبيك وسحب على شكل خيوط.



الشكل 12-7

استخدامات النايلون

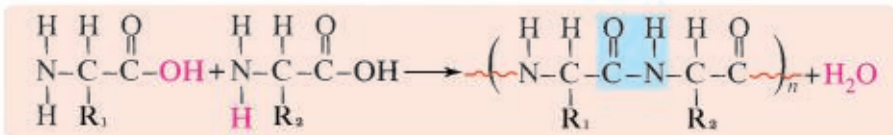
### هل تعلم

ان احد انواع البولي امايد يسمى باللياف الكيفلر (Kevlar) ويستخدم في الدروع الواقية من الرصاص التي يرتديها العسكريون.



## 2. البروتينات

عند ذكر البولي اميدات لابد ان نتطرق الى البروتينات وهي بوليمرات تحوي على آلاف من جزيئات الحامض الاميني (H<sub>2</sub>N-X-COOH) المترابطة معاً ولها نفس المجاميع الرابطة في النايلون وهي مجموعة الامايد. حيث ينزع الماء من الاحماض الامينية عند بلمرتها، لذا فهو يعتبر من تفاعلات بلمرة التكاثف. ويمكن تمثيل البلمرة لهذه الحوامض على الصورة الاتية :



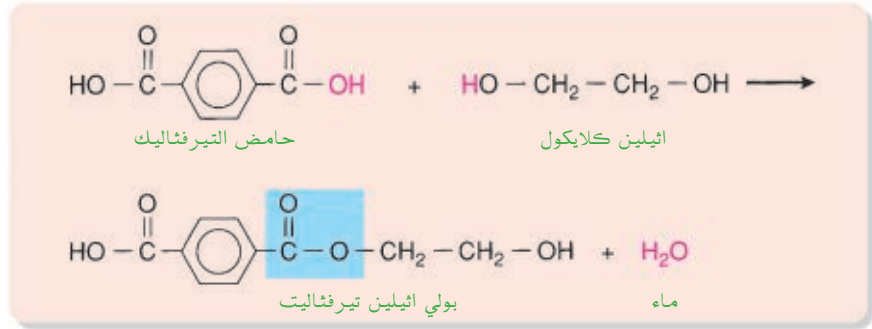


### 3. البولي استرات Polyesters

#### هل تعلم

ان الكارتات التي يسحب بها النقد وتلك المستخدمة لتعبئة الهواتف النقالة بالرصيد وبطاقات الائتمان في البنوك وغيرها جميعها مصنوعة من البلاستيك وهي خفيفة تدوم طويلاً، وقوية، ورخيصة الصنع ويسهل الطباعة وحفظ المعلومات المغناطيسية (CD) عليها .

ومن امثلة البولي استرات هو البولي اثيلين تير فثاليت (PET) [Poly (ethyleneteraphatlate)] وهو بولي استر من اشهر بوليمرات التكاثف حيث يحضر من تفاعل الاثيلين كلايكول (HOCH<sub>2</sub>CH<sub>2</sub>OH) مع حامض التيرفثاليك (COOH-C<sub>6</sub>H<sub>4</sub>-COOH) بوجود عوامل مساعدة حسب التفاعل الاتي:



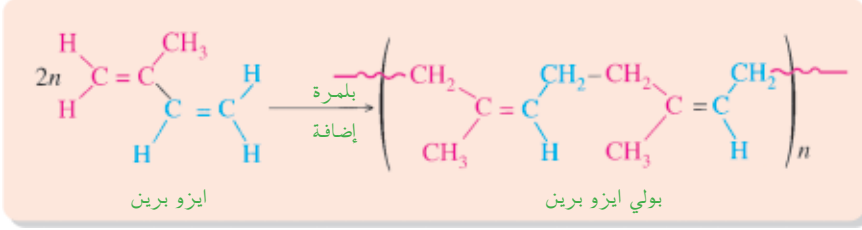
حيث ينزع جزيء ماء خلال عملية البلمرة والمجموعة الرابطة بين الوحدات المكررة في البولي استرات هي المجموعة الاسترية -C(=O)-O-. ويستخدم البولي اثيلين تير فثاليت في صنع معظم قناني المشروبات الغازية والمياه وذلك لانه بوليمر ثابت تركيبياً ولا يلوث هذه المشروبات.

الجدول (2-7) تراكييب بوليمرات التكاثف ووحداتها المكررة وبعض استخداماتها

| اسم البوليمر                      | صيغة الوحدة المكررة في البوليمر   | الاستخدامات   |
|-----------------------------------|---|---|
| بولي يوريثان                      | $\left[ \begin{array}{c} \text{C}-\text{NH}-\text{R}-\text{NH}-\text{C}-\text{O}-\text{R}'-\text{O} \\ \parallel \quad \quad \quad \parallel \\ \text{O} \quad \quad \quad \text{O} \end{array} \right]_n$<br>R, R' = -CH <sub>2</sub> -CH <sub>2</sub> - (كمثال) | رغوة حشو لفرش الاسرة والمقاعد و تكوين عوازل بالرش و قطع غيار للسيارات و صناعة الاحذية و تغليف المواد ضد الماء |
| بولي اثيلين تيرفثاليت (بولي استر) | $\left[ \text{O}-\text{CH}_2-\text{CH}_2-\text{O}-\text{C}(=\text{O})-\text{C}_6\text{H}_4-\text{C}(=\text{O}) \right]_n$   | الاطارات و اشربة التسجيل والملابس وقناني المشروبات الخفيفة  |
| نايلون 6,6 (بولي اميد)            | $\left[ \text{NH}-(\text{CH}_2)_6-\text{NH}-\text{C}(=\text{O})-(\text{CH}_2)_4-\text{C}(=\text{O}) \right]_n$  | اثاث منزلي وملابس والياف السجاد وشباك صيد الاسماك   |

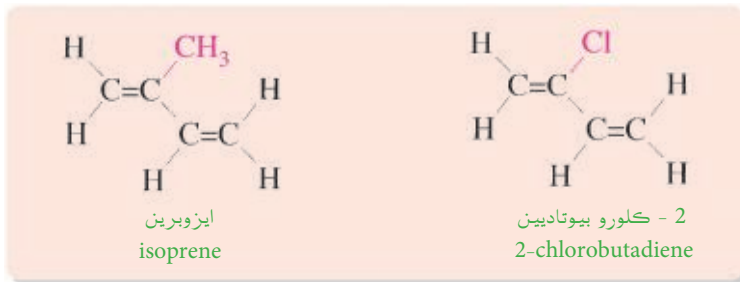
#### 4. المطاط الطبيعي والمطاط المصنع

يستخرج المطاط الطبيعي من شجرة المطاط (اكثرها يتواجد في ماليزيا والبرازيل) ويتركب المطاط الطبيعي من وحدة مكررة تدعى الايزوبرين بشكلها السس (cis - isoprene) وهو 2- مثل 1-3- بيوتاديين الذي يبلمر على الصورة الاتية:



بينما يحضر المطاط المصنع من مونمرات اخرى اضافة الى الايزوبرين كالبيوتاديين والستايرين.

نلاحظ ان تطبيقات المطاط النقي الطبيعي والمصنع قليلة نسبياً لأنه عند تسخينه تنزلق جزيئات منفردة منه بسهولة الى الامام والخلف وبعضها فوق بعض فيصبح المطاط ناعماً ولزجاً، لا يمكن استخدامه لصنع الحاجات لذا يضاف الكبريت الى المطاط في عمليات تصنيعه يتحول فيها الى مادة صلبة وقوية. تسمى عملية اضافة الكبريت الى المطاط بالفلكنة (vulcanization) وهي عملية تؤدي الى تشابك بين جزيئات المطاط المتجاورة من خلال ذرات الكبريت. وبذلك تعمل الفلكنة على جعل المطاط قابل للاستخدام في مجال واسع كصناعة الانابيب المطاطية، واطارات السيارات... الخ لاحظ الشكل (7-13) ومن الامثلة الاخرى على المطاط المصنع هو المطاط المحضر من بلمرة النيوبرين (neoprene) الذي هو 2- كلورو بيوتاديين ذو التركيب الهيكلي التالي المشابه للايزوبرين. لاحظ ان 2- كلورو بيوتاديين يشبه الايزوبرين مونمر المطاط الطبيعي، باستثناء احلال ذرة كلور محل مجموعة ميثيل في ذرة الكربون رقم (2). كما موضح كالآتي :



بعض استخدامات المطاط الصناعي

#### هل تعلم

ان مادة الباكلات (Bakelite) وهي اول مادة بلاستيكية عرفت وكان مكتشفها باكلاند (Bakeland) عام 1908 م لذا نسبت اليه ويستخدم الباكلات في صنع الادوات الصلبة مثل اجهزة المذياع والتلفاز والهاتف.



النفايات البلاستيكية تتسبب بقتل احياء كثيرة



نفايات بلاستيكية

#### هل تعلم

ان الابحاث لاتزال مستمرة للحصول على بلاستيك قابل للتحلل الحيوي (الطبيعي) لذا يمكن التخلص منه وبذلك نقضي على مشكلة تلوث النفايات البلاستيكية. وتجري البحوث على تطوير بلاستيك قابل للتحلل يسمى (البوليمر البيولوجي المتحطم) (Degradable biopolymer) يصنع من تخمر السكر بفعل البكتريا وهو بلاستيك نموذجي ويمكن تشكيله في قوالب او شرائح ويمكن نسجه وهو يشبه بلاستيك البولي بروبيلين ولكنه يكلف 15 ضعف تكلفة تصنيعه واسمه الكيميائي بولي هيدروكسي بيوتيرات (PHB).

منذ الحرب العالمية الثانية ازدادت اهمية اللدائن، ولدخول هذه المواد في معظم مفرداتنا اليومية من مأكّل وملبس فنحن نعيش في عصر البلاستيك. وللبلاستيكات مميزات عديدة مقارنة بغيرها من المواد فهي نظيفة ورخيصة وشفافة ويسهل تكوينها ولا تتآكل وعازلة جيدة وخفيفة الوزن وسهلة التشكيل وتبقى طويلاً ويمكن ان تكون قوية للغاية. ولكن لها عيباً واحداً خطيراً فهي لا تتحلل وتسبب مشكلة تلوث بيئيه لانها يمكن ان تبقى في الارض الى ما لانهاية.

#### النفايات البلاستيكية

من المعروف ان النفايات على نوعين هما :

**أ- نفايات عضوية** ناتجة عن المنتجات الطبيعية من حولنا وهي قابلة للتحلل البيولوجي (تحلل طبيعي يحدث بوجود الشمس) مثل الورق والكرتون، اي يمكن ان تحللها البكتريا الى مكوناتها الاساسية خلال ايام وشهور او سنين .

**ب- نفايات البلاستيك** وهي لا تتحلل طبيعياً حتى في الظروف الطبيعية (الشمس ودرجة الحرارة) الا خلال عشرات السنين عكس النفايات العضوية التي تتحلل سريعاً وتذوب في الماء. فاكياس البلاستيك مثلاً تؤثر على الاحياء البحرية والبرية لانها غير منفذة للهواء، فتسبب في اختناق كثير من تلك الاحياء عند دخولها في تلك الاكياس. هناك امور ايجابية يجب اتباعها للحد من تلوث نفايات البلاستيك وهي كالآتي:

1. تقليل استخدام اكياس البلاستيك للمشتريات اليومية
2. اعادة استخدام الاكياس لاكثر من مرة بدلاً من رميها مباشرةً
3. رمي الاكياس البلاستيكية في الاماكن المخصصة لها.
4. جمع المنتجات البلاستيكية التي تم الاستغناء عنها وتسليمها الى الشركات التي تعيد تدويرها فتتحول من نفايات الى مواد خام جديدة يمكن معرفة المنتجات التي اعيد تدويرها بوجود علامة اعادة التدوير عليها (Recycling)

تتحلل معظم المواد الطبيعية كالكرتون والورق بكائنات عضوية دقيقة كالبكتريا في التربة. اما العبوات البلاستيكية (اللدائن) لا تتحلل طبيعياً فيقال انها غير قابلة للتحلل العضوي لذلك تشكل النفايات البلاستيكية مشكلة بيئية، حتى اذا تم التخلص منها بالحرق فإنها تنتج ادخنة سامة مثل كلوريد الهيدروجين الناتج من حرق بولي كلوريد الفايثيل وكذلك غاز السيانوجين السام الناتج من حرق البولي يورثان.

Catalyst

عامل مساعد

مادة تسرع من معدل التفاعل الكيميائي ولا يتغير تركيبها عند نهاية التفاعل.

Dehydration

نزع الماء

انتزاع الماء من المادة.

thermoplastic polymer البوليمر غير الثابت حرارياً

هو البوليمر الذي ينصهر اكثر من مرة لذا يمكن اعادة تشكيله مرات عديدة.

( plastics )

اللدائن

بوليمرات سهلة التشكيل لانخفاض درجة انصهارها نسبياً ولكنها تتفاوت في صفاتها كثيراً بحيث تستعمل في اغراض كثيرة في الحياة المعاصرة وتسمى احياناً مواد بلاستيكية .

Plastic

بلاستيك

جزئ ضخم غالباً بوليمر يمكن صبه وتشكيله مثل البولي اثيلين PE وبولي كلوريد الفايثيل PVC . . . . . الخ.

Vulcanization

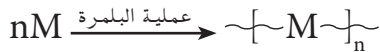
الفلكنة

هي عملية تداخل بين جزيئات البولي ايزوبرين polyisoprene المتجاورة التي تحدث لدى تسخين هذه الجزيئات مع ذرات الكبريت.

Polymerization

عملية البلمرة

هي عملية اتحاد عدد n من المونيمرات مع بعضها لتكوين جزيء البوليمر .



addition polymerisation بلمرة بالاضافة

تفاعل كيميائي يتم فيه اضافة عدد كبير جداً من جزيئات صغيرة غير مشبعة (مونمر) لتكون جزيء واحد ضخم وعملاق، وهو البوليمر مثل اضافة جزيئات الاثيلين لبعضها لتكون جزيء البولي اثيلين.

Condensation Polymerisation بلمرة بالتكاثف

ارتباط المونمرات لتكوين بوليمر مع انتزاع جزيء صغير مثل الماء. مثل تكوين بوليمرات النايلون والتريلين.

Polymer

بوليمر

جزيء ضخم يتكون من ارتباط عدد كبير من الجزيئات الصغيرة (المونمر) مثل البولي اثيلين.

monomer

مونمر

جزيء صغير يمكن ان يرتبط عدد كبير منه (يتبلمر) فالاثيلين هو المونمر للبولي اثيلين .

thermosetting polymer البوليمر الثابت حرارياً

هو البوليمر الذي لا ينصهر بعد تكونه ولا يمكن اعادة تشكيله.

Natural Polymer

بوليمر طبيعي

جزيء ضخم طبيعي مثل الكاربوهيدرات والبروتينات والدهون.

Synthetic Polymer

بوليمر مصنع

بوليمر من صنع الانسان مثل البلاستيك، الالياف الاصطناعية . . . الخ.

Biodegradable

تحلل بايولوجي

التحلل الطبيعي للمواد بوساطة البكتريا وضوء الشمس.

Pollution

تلوث

الحاق الضرر بالبيئة نتيجة استخدام المواد الكيميائية الخطرة والتي تسمى ملوثات.

- 1-7-7 ضع دائرة حول رمز الاجابة الصحيحة في كل مما يأتي:
- اي من المواد التالية يستخدم للسطوح غير اللاصقة.
    - ثنائي كلورو ثنائي فلورو ميثان
    - بولي رباعي فلورو اثيلين (التفلون).
    - رباعي كلورو ميثان
    - بولي كلوريد الفاينيل
  - خلال تفاعل بلمرة التكاثف.
    - يصبح الناتج مشبعاً
    - يتكون في الغالب ماء
    - لا يتكون ناتج عرضي
  - اي الجزيئات التالية يسخن مع ذرات الكبريت خلال عملية الفلكنة.
    - ايزوبرين
    - بيوتاديين
    - مثيل-1،3-بيوتايين
    - بيوتاديين
  - في عملية الفلكنة ، ماذا يحدث للجزيئات المتجاورة عندما تسخن مع ذرات الكبريت.
    - تتفرع
    - تترابط بشكل متداخل
    - تنزلق فوق بعضها
    - تتصادم
  - اي البوليمرات التالية بوليمر اضافة .
    - نايلون
    - بولي ستايرين
    - بروتين
    - تيرلين
  - اي جزيئات الهيدروكربونات التالية يمكن بلمرته.
    - $CH_4$
    - $C_2H_6$
    - $C_3H_6$
    - $C_4H_{10}$
  - البلاستيك الذي يتحلل حيويًا.
    - يحترق بسهولة وينتج ادخنة سامة
    - يمكن ان يمتص خلال جذور النباتات
    - يتكسر بفعل التحلل البكتيري
  - للبلاستيك مشكلة تلوث لان العديد من لدائن البلاستيك.
    - قابل جداً للاشتعال
    - يحترق مكوناً ادخنة سامة
    - يتحلل مكوناً نواتج سامة
  - البوليمر الذي لا ينصهر لدى تسخينه بل يحتفظ بشكله الاصلي هو.
    - غير الثابت حرارياً
    - الثابت حرارياً
    - الخطي
    - المتفرع
  - جزيئات كبيرة تتألف من عدد من الوحدات الصغيرة ترتبط بعضها ببعض في التفاعلات العضوية هي.
    - مونمرات
    - بوليمرات
    - مجموعات وظيفية
    - الاحماض الكربوكسيلية
  - اي من التالي وحدات صغيرة ترتبط بعضها ببعض في بوليمر خلال تفاعلات عضوية.
    - مونمرات
    - ميكروبوليمرات
    - بوليمرات متفرعة
    - بوليمرات خطية
  - الوحدات الصغيرة التي ترتبط بعضها ببعض خلال تفاعلات عضوية لتكون جزيئات كبيرة.
    - يجب ان تكون متشابهة
    - يجب ان تكون مختلفة
    - يمكن ان تكون متشابهة او مختلفة
  - البوليمرات الخطية
    - لها جزيئات تتحرك بحرية
    - لها جزيئات تنزلق بسهولة عند تسخينها
    - (أ) و (ب) معاً
  - البوليمرات المرتبطة بشكل تشابكي
    - غير ثابتة حرارياً
    - تحتفظ بشكلها عند تسخينها
    - لها سلاسل جانبية

15. في بوليمر مترابط بشكل تشابكي ، الجزيئات المتجاورة.

أ - ترتبط ببعضها بسلاسل

ب - تنزلق الى الامام والخلف فوق بعضها عند تسخينها

ج - منتظمة في طبقات يمكنها ان تنزلق عن بعضها جانباً عند تسخينها

16. اي مما يلي يشكل النوعين الرئيسين للبوليمرات؟

أ - البلاستيكية غير الثابتة حرارياً والثابتة حرارياً

ب - البوليمرات الخطية والبوليمرات المتفرعة

ج - بوليمرات الاضافة وبوليمرات التكاثف

17. اي بوليمر يتكون خلال تفاعل اضافة تسلسلي بين المونمرات التي لها رابطة ثنائية؟

أ - بوليمر اضافة ب - بوليمر تكاثف

ج - بوليمر متفرع د - بوليمر مترابط بشكل تشابكي

18. في تفاعل اضافة ، ترابط المونمرات خلال تفاعلات تشترك فيها

أ - مجموعات وظيفية متماثلة

ب - مجموعات وظيفية مختلفة

ج - روابط ثنائية

19. اي بوليمرات تتألف عادة من مونمرين متناوبين

أ - بوليمرات الاضافة

ب - بوليمرات التكاثف

ج - البوليمرات المتفرعة

20. تكون الجزيئات الخطية المتراص بعضها الى بعض

أ - بولي اثيلين مترابط بشكل متشابك

ب - بولي اثيلين عالي الكثافة

ج - بولي اثيلين منخفض الكثافة

د - نيوبرين

2-7 علل ما يلي:

1. المطاط الطبيعي بوليمر غير ثابت حرارياً.

2. لا يصلح الالكان كمونمر لبوليمر الاضافة.

3. تصنع مقابض ادوات الطهو من بوليمر ثابت حرارياً.

4. لا يخضع جزئ ذو مجموعة وظيفية واحدة لتفاعل تكاثف لتكوين بوليمر.

5. يحتاج البوليمر المتفرع كي ينصهر الى كمية من الحرارة اكبر من الكمية التي يحتاج اليها البوليمر الخطي.

6. تحمل المطاط المفلكن درجات حرارة اعلى من المطاط الصناعي.

3-7 صنف البوليمرات التالية الى بوليمرات طبيعية او صناعية.

1. السليلوز 2. نايلون 3. بروتينات

4. بولي ايزوبرين 5. بولي بروبيلين

4-7 أرسم التركيب البنائي لكلوريد الفايثيل.

5-7 أكتب تفاعل البلمرة لكلوريد الفايثيل لتكوين بولي كلوريد الفايثيل.

6-7 التفلون أثبت من أي مادة مبلمرة أخرى سواء أكانت مصنعة او طبيعية.

7-7 عرف ما يلي: الفلكنة ، اللدائن ، البوليمرات، المونمر ، بوليمرات الاضافة.

8-7 في تفاعل كيميائي ، ارتبط جزيئان صغيران، ونتج جزئ ماء ما نوع التفاعل الذي حدث.

9-7 هل يزيد تفاعل الاضافة من تشبع جزئ او يقلل منه.

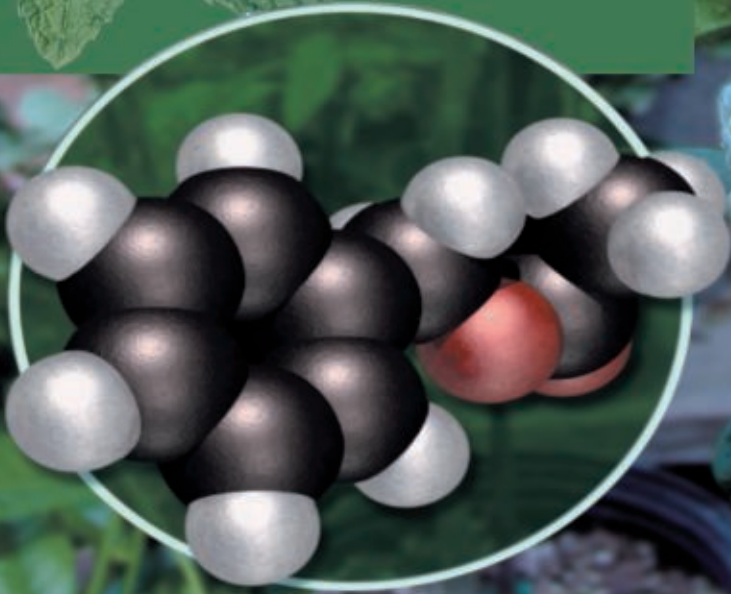
10-7 ما التفاعل اللذان يمكن ان ينتجا بوليمرات.

11-7 بين الفروق في التركيبات البنائية بين الانواع الثلاثة للبولي اثيلين

HDPE ، LDPE ، CPE

12-7 بماذا يختلف التركيب الجزيئي للنيوبرين عن التركيب الجزيئي للمطاط الطبيعي.

13-7 هل يمكن ان يستخدم حامض الايثانويك كمونمر في بوليمر تكاثف برر اجابتك.



## الفصل الثامن

# 8

## الهيدروكربونات الاروماتية Aromatic Hydrocarbons

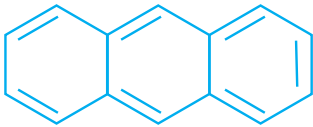
بعد الانتهاء من دراسة هذا الفصل يتوقع من الطالب أن :-

- يفهم ماهي المركبات الاروماتية وصفاتها ويتعرف على البنزين وتركيبه ويرسم شكله ويستوعب الصفات الخاصة به .
- يدرك معنى الرنين في المركبات الكيميائية ويرسم الاشكال الرنينية لبعض المركبات الاروماتية .
- يسمي مشتقات البنزين الاروماتية .
- يميز بين تفاعلات الاضافة وتفاعلات الاستبدال في المركبات الاوروماتية .
- يتعرف على تفاعلات الاستبدال الالكتروفيلية في البنزين وبعض مشتقاته .
- يتعرف على الفينولات وصفاتها وبعض استخداماتها .
- يفهم ماهي المركبات الحلقية غير المتجانسة وبعض الامثلة عليها .

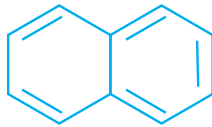
## 1-8 مقدمة

لقد تم اكتشاف مجموعة من المركبات العضوية على قدر كبير من عدم التشبع الا انها فريدة في ثباتها ولما كان لمشتقات هذه المركبات روائح عطرية أطلق عليها اسم المركبات العطرية او الاورماتية ، وقد فقدت هذه التسمية معناها الفعلي واكتسبت معنى ذا اهمية نظرية لكي تصف لنا خواص ذلك النوع من المركبات غير المشبعة .

وأول مركب في هذه المجموعة هو البنزين الذي تمكن العالم فاراداي (Faraday) من الحصول عليه لأول مرة عام 1825م من غاز الاضاءة . ويعتبر قطران الفحم مصدراً هاماً للبنزين ، كما ان كميات كبيرة يتم انتاجها من الهيدروكربونات البترولية . يشمل هذا النوع من المركبات العضوية البنزين ومشتقاته والمركبات الشبيهة به من ناحية التركيب والفعالية الكيميائية، مثل النفثالين و الانثراسين .



الانثراسين



النفثالين



البنزين

## 2-8 تركيب البنزين

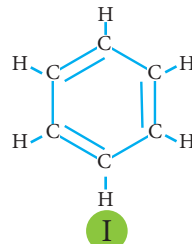
يعتبر البنزين اول المركبات الاروماتية وتتكون جزيئته من ست ذرات كاربون مرتبطة مع بعضها على شكل حلقة سداسية منتظمة وتتصل كل ذرة كاربون فيها بذرة هيدروجين وفيها تتناوب الاواصر المزدوجة والمنفردة بين ذرات الكاربون التركيب (I) . أو تكون بشكل ترمز فيه كل زاوية في الشكل السداسي الى ذرة كاربون مع آصرة واحدة مع الهيدروجين وتتناوب فيها الأواصر المزدوجة والمنفردة التركيب (II)، ويمكن ان يعوض عن تناوب الأواصر المزدوجة والمنفردة بدائرة داخل الحلقة التركيب (III) .



III



II



I



رسم تخطيطي لجزيء البنزين

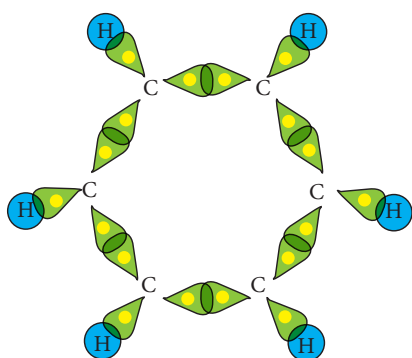
### هل تعلم

أن اسم المركبات الاروماتية مشتق من الكلمة اللاتينية (أروما) والتي تعني عطر أو رائحة لان هذه المركبات لها روائح مميزة. ورغم ذلك فأن الكثير من هذه المركبات سامة ومنها ما يعتبر من المواد المسببة للسرطان كبعض المركبات التي تنتج من تدخين التبغ. ولبعض هذه المركبات أيضاً أهمية كبيرة في صناعة الأدوية مثل عقار الاسبرين وعقار التتراسايكلين .

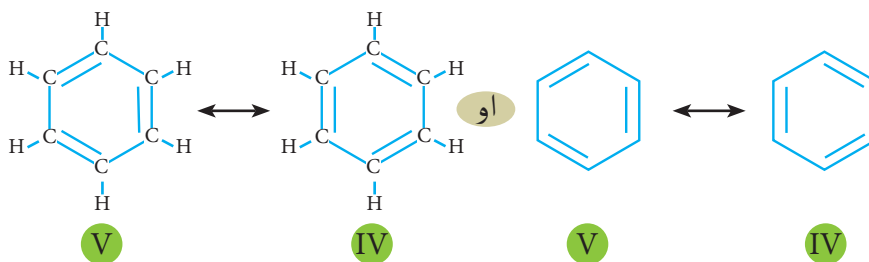


## 1-2-8 الرنين او الرزونانس في البنزين

اقترح العالم كيكولي (Kekule) عام 1865م الصيغتين (IV) او (V) للبنزين على الصورة الاتية .




رسم تخطيطي لكيفية ارتباط ذرات الكربون في جزيء البنزين.



وواضح ان ذرات الكربون في الصيغتين (IV و V) تشغل اماكن متماثلة ولكنها تختلف في الاماكن المخصصة للأواصر المزدوجة وسميت حالات تبادل مواقع الاواصر هذه بالخاصية الرنينية او الرزونانس (الرنين). أن البنزين في الواقع ليس حالة متبادلة بين حالتي الرزونانس IV و V ولا يكون جزء من الجزيئات بشكل رزونانسي وجزء اخر من الجزيئات بالشكل الرزونانسي الاخر ، وأما شكل البنزين الحقيقي هو معدل للشكلين يدعى الهجين الرزونانسي، حيث نلاحظ انه في المكان الذي توجد أصرة مزدوجة في احد الاشكال تكون منفردة في الشكل الآخر وعند اخذ المعدل نحصل على شكل رزونانسي مهجن يحتوي على ست أواصر كربون - كربون متماثلة ومتساوية في الطول كحالة وسط بين طول الأصرة المنفردة وطول الأصرة المزدوجة .

لذلك فإن شكل البنزين يرسم عادةً على شكل حلقة سداسية تحتوي على حلقة داخلية (تركيب VI و VII) اكثر مما يكون على شكل أواصر مزدوجة ومنفردة متعاقبة (تركيب IV و V) لأنه يصف الحالة بدقة اكثر . الا ان الرسم على شكل أواصر مزدوجة ومنفردة متعاقبة يكون افضل في حالة متابعة حركة الالكترونات كما في حالة ميكانيكية التفاعل .



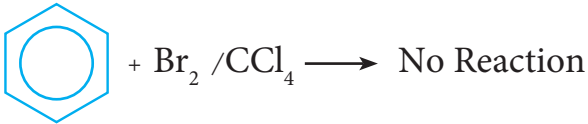
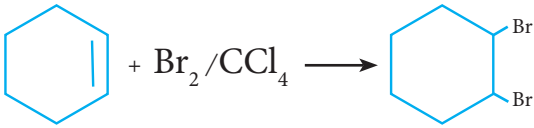
ولهذا كله يمكن القول بأختصار ان البنزين هو ذو صيغة جزيئية  $C_6H_6$  يحتوي على ست ذرات كربون متماثلة وست ذرات هيدروجين متماثلة ايضاً ، وأن أطوال أواصر C-C فيه متساوية وهي حالة وسط بين طول الأصرة المنفردة وطول الأصرة المزدوجة .

### هل تعلم

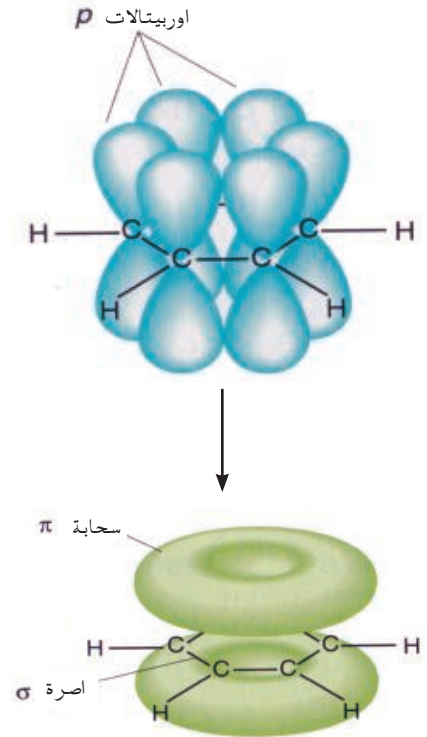
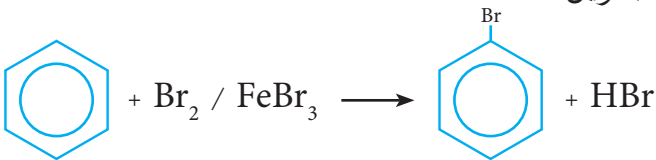
ان البنزين  $C_6H_6$  الذي نحن بصدده دراسة يختلف كلياً عن البنزين (الكازولين) المستخدم في مكائن الاحتراق الداخلي (محرك السيارات) وهذا الاخير عبارة عن مزيج من هيدروكربونات ذات 5 الى 10 ذرات كربون .

## 2-2-8 الصفات الخاصة للبنزين

1. **الاستقرارية** : وهو من المركبات المستقرة كما تشير اليه صفاته التفاعلية ومقاومته النسبية للتغيرات الكيميائية . ان معظم المركبات غير المشبعة تميل للدخول في تفاعلات إضافة وفيها تتشبع الأواصر الثنائية او الثلاثية مكونةً أواصر منفردة ، حيث نلاحظ ان الهكسين الحلقي يتفاعل تفاعل إضافة بسهولة مع البروم المذاب في رباعي كلوريد الكربون مكوناً 1، 2 - ثنائي بروموهكسان الحلقي ، بينما لايتفاعل البنزين كلياً تحت نفس الظروف .



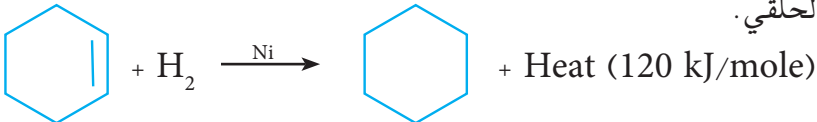
ولكي يتفاعل البنزين مع البروم فأنه لابد من استخدام عامل مساعد ( $\text{FeBr}_3$ ) للدخول في تفاعل تعويض (استبدال) وليس تفاعل إضافة حيث تبقى الحلقة محافظة على شكلها وهذا دليل على استقرار البنزين .



السحابة الالكترونية لأواصر باي في جزيء البنزين.

## 2. طاقة الرزونانس Resonance Energy :

لفهم طاقة الرزونانس نقوم بالشرح الآتي :  
عندما يحدث التفاعل الكيميائي فإنه لابد ان يحدث تغير في الطاقة الحرارية . فمثلاً هدرجة الهكسين الحلقي هو تفاعل باعث للحرارة محرراً طاقة مقدارها 120 kJ لكل مول من الهكسين الحلقي .



هكسين حلقي

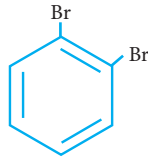
هكسان حلقي

وعند درجة 1، 3- هكساداين الحلقي (هكسان حلقي يحتوي على صرتين من نوع باي) فأنا نتوقع أن تكون مقدار الطاقة المتحررة 240 kJ لكل مول اي ضعف الطاقة المتحررة عند هدرجة الهكسين الحلقي وذلك لوجود ضعف عدد الاواصر المزدوجة في الهكسين الحلقي . وكانت الطاقة الحقيقية المقاسة لهذا التفاعل 232 kJ لكل مول وهي قريبة جداً من المتوقع .



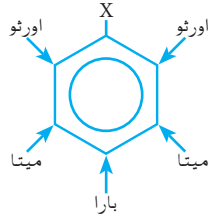
## 2. المركبات ثنائية التعويض : عند وجود مجموعتين على حلقة

البنزين فلا يكفي ذكر أسماء المجموعتين فقط وإنما يجب تحديد موقعهما على حلقة البنزين ، حيث يتم ترقيم ذرات الكربون لحلقة البنزين وتأخذ المجموعتين اصغر الأرقام فمثلاً 1، 2 - ثنائي برومو بنزين هو :



2،1 - ثنائي برومو بنزين

وقد تستعمل المصطلحات ( أورثو ) ( ortho ) للدلالة على موقع 2 و ( ميتا ) ( meta ) للدلالة على الموقع 3 او ( بارا ) ( para ) للدلالة على الموقع 4 بالنسبة للمعوض الرئيسي ( X )

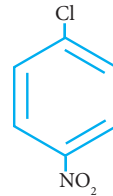


وإذا كانت المجموعتان مختلفتين فأنها تذكر في التسمية حسب الحروف الهجائية الواحدة بعد الأخرى وتتبع بكلمة بنزين مع ذكر موقعها في بداية الاسم أو يسمى المركب على أنه مشتق للبنزين أحادي التعويض .

4،1 - كلورو نيترو بنزين

بارا نيترو كلورو بنزين

بارا كلورو نيترو بنزين

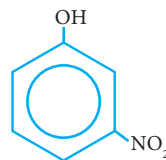


حيث يلاحظ في التسمية الثانية اعتبرنا ان جزيئة كلوروبنزين هي البنزين احادي التعويض بالكلور ، اما في التسمية الثالثة فقد اعتبرنا ان البنزين احادي التعويض بمجموعة نيترو اي هو الاساس في التسمية . وتجري تسمية مركبات البنزين ثنائية التعويض بهذه الطريقة وكما في الامثلة الاتية :

3،1 نيترو هيدروكسي بنزين

ميتا - نيترو فينول

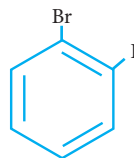
ميتا هيدروكسي نيترو بنزين



2،1 - برومو يودو بنزين

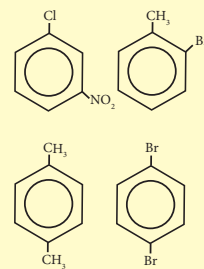
أورثو يودو برومو بنزين

أورثو برومو يودو بنزين



### تمرين 2-8

أكتب أسماء المركبات التالية

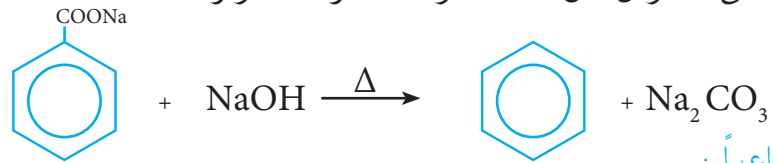


3. المركبات متعددة التعويض : عندما تكون هناك اكثر من مجموعتين على حلقة البنزين ففي هذه الحالة يجب ترقيم مواقع هذه المجموع ، حيث تكون تسمية أورثو وبارا وميتا غير مقبولة، وتسمى المجموع مع ارقامها كمشتق للبنزين أو كمشتق لأحد الاسماء الشائعة ان وجدت . واذا كانت المجموع المرتبطة كبيرة فإنه يسمى المركب بالتسمية العامة للهيدروكربونات حيث تأخذ أطول سلسلة هيدروكربونية كقاعدة للأسم ويسمى البنزين كمجموعة معوضه حيث يسمى فنيل (Phenyl) واذا كان البنزين معوض بأحد المجموع فيسمى أريل (Aryl) وسنكتفي بهذه المرحلة بتسمية المركبات احادية وثنائية التعويض ونؤجل تسمية المركبات متعددة التعويض الى المراحل الدراسية المتقدمة .

### 4-2-8 تحضير البنزين

أ- مختبرياً :

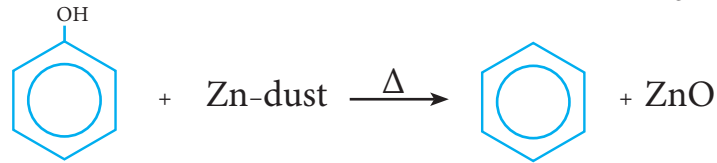
يحضر البنزين مختبرياً من خلال تسخين بنزوات الصوديوم مع هيدروكسيد الصوديوم ( NaOH ) في جهاز تقطير زجاجي حيث يتم الحصول على البنزين من المتقطر عند درجة حرارة  $80^{\circ}\text{C}$  .



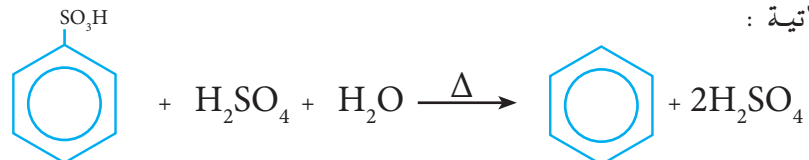
ب - صناعياً :

اما صناعياً فيحضر بطرق متعددة اهمها :

1 . من الفينول : ويتم من خلال تسخين الفينول مع غبار الزنك Zn-dust في جهاز تقطير ومن ثم الحصول على البنزين من المتقطر بدرجة  $80^{\circ}\text{C}$  .



2 . من حامض البنزين سلفونيك : ويتم بتسخين حامض البنزين سلفونيك مع حامض الهيدروكلوريك او حامض الكبريتيك المخففين حتى درجة الغليان وتحت ضغط عالي ووفق المعادلة الاتية :



1. الخواص الفيزيائية

أ - سائل عديم اللون ، سريع الاشتعال ، له رائحة عطرية مميزة وهو سام .

ب - درجة غليانه  $80^{\circ}\text{C}$  ودرجة انجماده  $5^{\circ}\text{C}$  .

ج - كثافته اقل من كثافة الماء ولايمتزج معه .

د - وهو مذيب جيد للمواد العضوية غير القطبية كالشحوم والزيوت والراتنجات وغيرها.

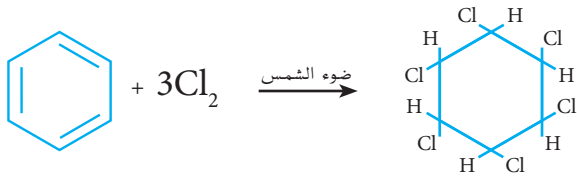
2. الخواص الكيميائية

البنزين مركب كيميائي مستقر نسبياً بالمقارنة مع المركبات غير المشبعة لوجود ظاهرة الرنين. فهو لا يتأثر بالقواعد المركزة أو حامض الهيدروكلوريك المركز ولا بالعوامل المؤكسدة القوية مثل برمنكنات البوتاسيوم ولكنه يعاني عدد من التفاعلات نذكر منها ، الاحتراق والاضافة والاستبدال .

أ - الاحتراق : يحترق البنزين بلهب ساطع وداخن بسبب النسبة العالية للكربون فيه  $92.3\%$  ويعطي ثنائي اوكسيد الكربون والماء وتحرر طاقة .



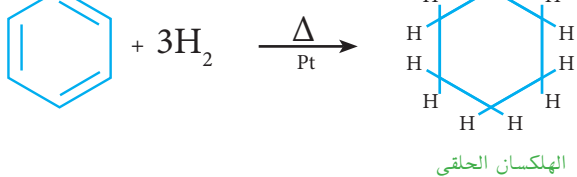
ب -تفاعلات الاضافة : يضاف الكلور الى البنزين بوجود الضوء فيحصل تفاعل مصحوب بفرقة المواد المتفاعلة مؤدياً الى تكوين سداسي كلوريد الهكسان الحلقي كما موضح في المعادله الأتية :



سداسي كلوريد الهكسان الحلقي

ويختزل البنزين ايضاً بالهيدروجين في درجات حرارة عالية وتحت ضغط عالي بوجود عامل مساعد مثل البلاتين الى الهكسان الحلقي

كما في المعادلة الأتية :



الهكسان الحلقي

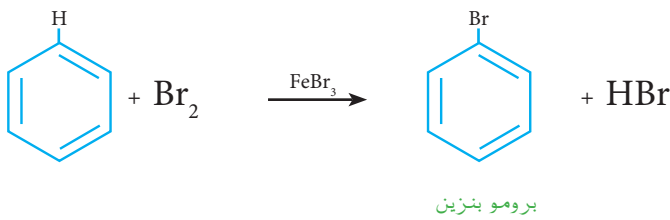
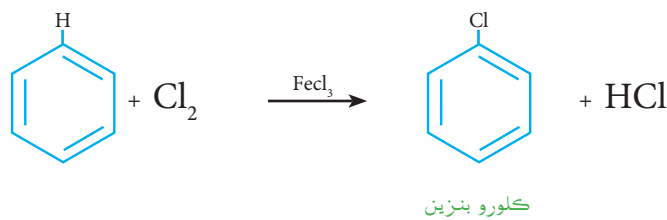


احتراق البنزين بلهب ساطع وداخن

ج - تفاعلات الاستبدال ( التعويض ) : من أهم تفاعلات البنزين ومشتقاته هو امكانية أستبدال (تعويض) إحدى ذرات الهيدروجين بذرة أو مجموعة مختلفة مثل (مجموعة الكيل R أو مجموعة نايترو NO<sub>2</sub> أو مجموعة سلفونيك SO<sub>3</sub>H أو هاليد X أو مجموعة أستيل -C(=O)-CH<sub>3</sub> بوجود عامل مناسب يساعد على التفاعل . ومن امثلة تفاعلات الاستبدال هي :-

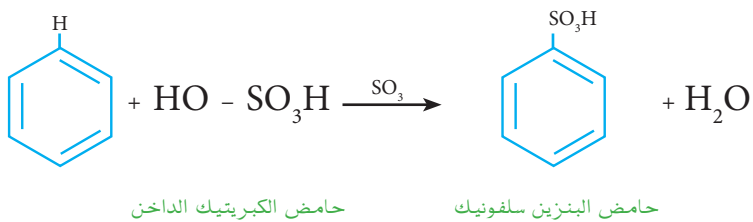
#### أ - الهلجنة ( Halogenation )

وهي عملية إستبدال إحدى ذرات الهيدروجين بذرة هالوجين (مثل الكلور Cl<sub>2</sub> أو البروم Br<sub>2</sub>) بوجود عامل مساعد مثل كلوريد الحديدك FeCl<sub>3</sub> او بروميد الحديدك FeBr<sub>3</sub> .



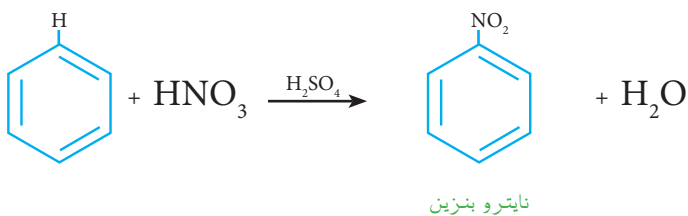
#### ب - السلفنة ( Sulfonation )

وهي عملية استبدال إحدى ذرات الهيدروجين بمجموعة السلفونيك SO<sub>3</sub>H ، فمثلاً يتفاعل البنزين مع حامض الكبريتيك المركز الداخن في درجة حرارة الغرفة يتكون حامض البنزين سلفونيك .



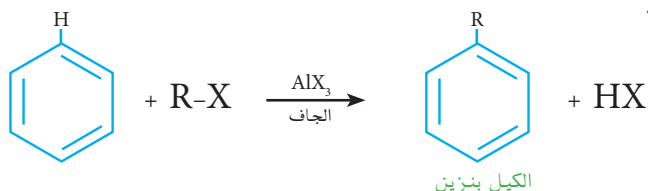
#### ج- النيترة ( Nitration )

هي عملية إستبدال إحدى ذرات الهيدروجين بمجموعة النايترو NO<sub>2</sub> حيث يتفاعل البنزين مع خليط حامض النتريك والكبريتيك المركزين في درجة حرارة 45°C يتكون النايتروبنزين .



## د - تفاعلات فريدل- كرافت Friedle- Crafts reactions

1. الكلة فريدل - كرافت : هي عملية إستبدال إحدى ذرات الهيدروجين بمجموعة الكيل (R) بوجود عامل مساعد مناسب . فعند تفاعل البنزين مع هاليد الالكيل (R- X) بوجود عامل مساعد مثل كلوريد الالمنيوم الجاف ( AlCl<sub>3</sub> ) يتكون المركب ( الكيل بنزين ( alkylbenzene ) .

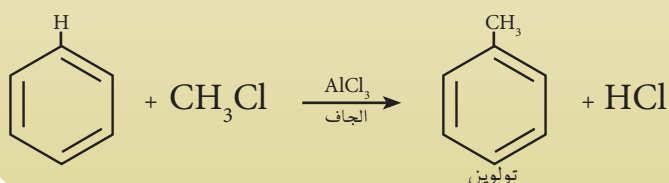


### مثال 8 - 1 :

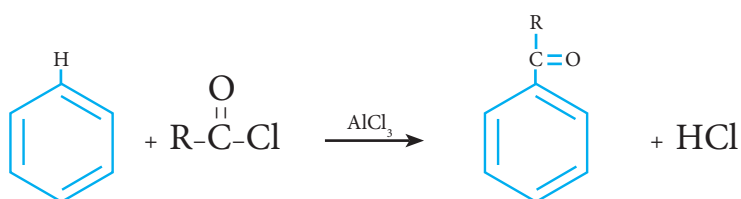
اكتب الكلة فريدل - كرافت للبنزين باستخدام كلوريد المثيل (CH<sub>3</sub>Cl) بوجود كلوريد الالمنيوم الجاف كعامل مساعد وسمي المركب الناتج.

### الحل :

يتفاعل البنزين مع CH<sub>3</sub>Cl بوجود AlCl<sub>3</sub> الجاف حسب التفاعل الآتي:



2. أستلة فريدل - كرافت : هي عملية إستبدال إحدى ذرات الهيدروجين بمجموعة أستيل (R-C(=O)-). فعند تفاعل البنزين مع كلوريد الاستيل (R-C(=O)-Cl) بوجود كلوريد الالمنيوم الجاف يتكون أستيل بنزين.

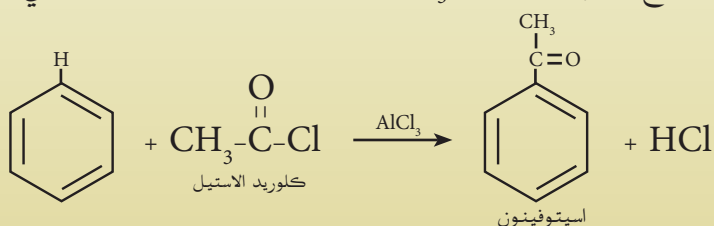


### مثال 8 - 2 :

اكتب استلة فريدل كرافت للبنزين وسمي المركب الناتج.

### الحل :

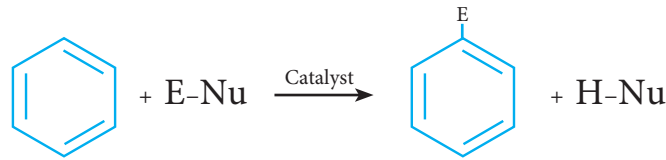
يتفاعل البنزين مع CH<sub>3</sub>COCl بوجود AlCl<sub>3</sub> الجاف حسب التفاعل الآتي:






### 3-8 ميكانيكية تفاعلات الاستبدال الالكتروفيلية

تدعى تفاعلات الاستبدال اعلاه بتفاعلات الاستبدال الالكتروفيلية، حيث تتم بوجود كواشف باحثة عن الالكترونات وتسمى كذلك كواشف الكتروفيلية (E)(Electrophilic reagent). والكاشف الباحث عن الالكترونات هو الكاشف الذي يحتاج الى الالكترونات ويمكن ان يكون على شكل شحنة موجبة قابلة لتكوين آواصر تساهمية مع ذرات الكربون ، مثل  $X^+$  و  $NO_2^+$  و  $R^+$  و  $RC^+O$ . والآصرة المزدوجة تكون غنية بالالكترونات ولذلك فهي تعتبر مصدراً للالكترونات بالنسبة للكواشف التي تحتاج اليها كالكواشف الالكتروفيلية ، وتدعى الكواشف الغنية بالالكترونات بالكواشف الباحث عن النواة (Nu) (Neophilic reagent) (راجع كتاب الكيمياء للمرحلة الرابعة). ومن خلال مراجعة تلك التفاعلات نستطيع ان نرسم لهذه التفاعلات جميعاً بالتفاعل العام الآتي :-

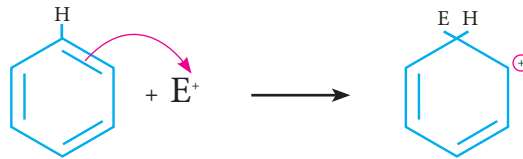


وهذه تتضمن ثلاث خطوات هي :

أ - في الخطوة الاولى يقوم العامل المساعد بتحويل المادة المتفاعلة الى كاشف باحث عن الالكترونات ( $E^+$ ) وفق المعادلة :-

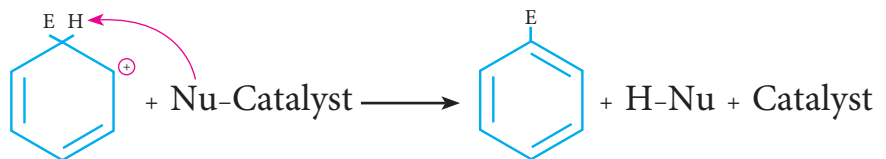


ب - في الخطوة الثانية تهاجم احدى الآواصر المزدوجة من حلقة البنزين الكاشف الباحث عن الالكترونات مكوناً ايون الكربونيوم الموجب :-



ايون كربونيوم

ج - في الخطوة الثالثة يتم سحب بروتون (ذرة هيدروجين موجبة  $H^+$ ) بواسطة Nu-Catalyst الناتج من الخطوة الاولى مكوناً الناتج الآخر H-Nu بينما تعود حلقة البنزين الى حالة الاروماتية .

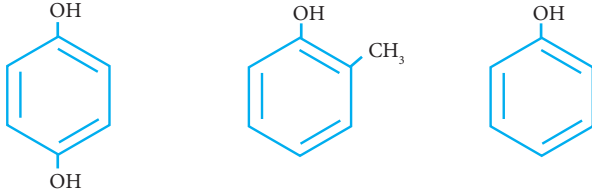


ان هذه الميكانيكية والتي تعرف بميكانيكية التعويض (الاستبدال) الالكتروفيلية تعتبر من المواضيع المعقدة والتي نعتقد بأنها فوق

مستوى فهم الطالب في هذه المرحلة . لذلك اقتصرنا على طرح الميكانيكية العامة فقط لتفسير كيفية حصول التفاعل بصورة مختصرة على ان يتم دراسة هذه الميكانيكية بالتفصيل في المراحل الدراسية المتقدمة .

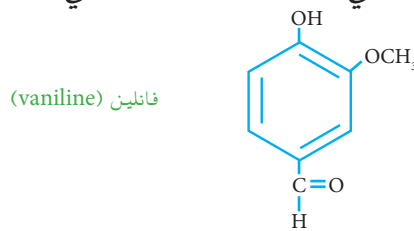
## 4-8 الفينولات

هي مركبات عضوية أروماتية مشتقة من البنزين والذي تتكون من ارتباط مجموعة الهيدروكسيل (OH) بحلقة البنزين مباشرةً مثل :-



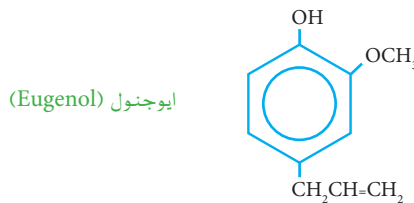
4.1 - ثنائي هيدرو كسيد بنزين      أورثو ميثيل فينول      فينول

وهي من المواد ذات التطبيقات الواسعة فهي ذات صفات دوائية واسعة مثل مقدرتها للعمل كمضاد للعفن ومطهر للجراثيم ومخدر او مسكن موضعي . لهذا فهي تستخدم في منتجات سبري (Spray) ومراهم المطهرات والصوابين وفي مواد الاسعافات الاولية ومحاليل الغرغرة. وتستعمل كذلك كمواد مضادة للأكسدة فهي تضاف الى معظم الاطعمة ومواد التجميل، وبسبب سهولة أكسدة الفينولات فأنها تستخدم في المحلول المظهر (Developer) في التصوير الفوتوغرافي من نوع اسود وابيض. توجد بعض الفينولات في المصادر الطبيعية مثل النباتات نذكر بعضها للاطلاع فقط فمثلاً الفانيلين vaniline الذي يعطي الفانيليا (vanila) التي تستعمل كمطيبات للمواد الغذائية.



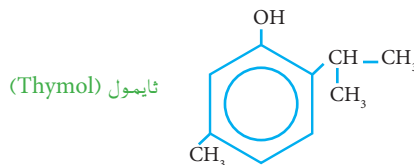
فانيلين (vaniline)

ومركب الايوجنول Eugenol الذي يستخرج من زيت القرنفل .



ايوجنول (Eugenol)

والثايمول Thymol الذي يستخرج من نبات النعناع .



ثايمول (Thymol)

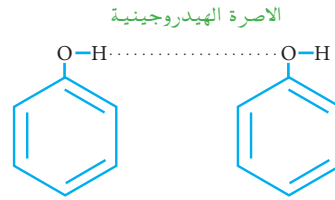
### هل تعلم

ان التصوير الفوتوغرافي الاسود والابيض يعتمد اساساً على اكسدة احد الفينولات وهو الهيدروكويونون بواسطة بروميد الفضة بتفاعل حساس للضوء. حيث ان الفلم يحتوي على حبيبات صغيرة من بروميد الفضة، والحبيبات التي يسقط عليها الضوء تنشط ثم بعد ذلك يعامل الفلم بمحلول الهيدروكويونون الذي يسمى المحلول المظهر حيث يتم اختزال الحبيبات المنشطة من بروميد الفضة تاركةً ترسبات الفضة السوداء في الاماكن المعرضة للضوء. وفي النتيجة نحصل على الصورة السالبة (Negativ image) مع مناطق داكنة في الاماكن التي ضربها الضوء.

وهناك بعض النباتات تحوي على فينولات تتكون من ثلاث حلقات وتدعى هذه المركبات (فلافونيدات Flavanoid) وهذه المركبات تمتاز بفعاليتها المضادة للأكسدة (Antioxident) ويتم استخلاصها من الشاي الاخضر .

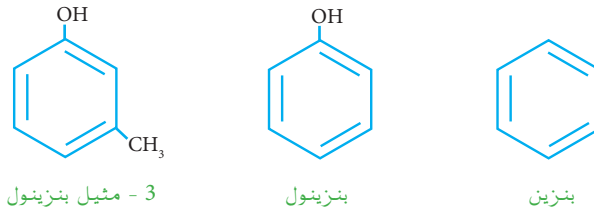
### 1-4-8 خواص الفينولات

**الخواص الفيزيائية :-** إن مجموعة الهيدروكسيل OH الموجودة في الفينولات لها تأثير كبير في تحديد الخواص الفيزيائية ، وذلك بسبب تكوين الأواصر الهيدروجينية بين جزيئاتها مما تسبب في ارتفاع درجة إنصهار ودرجة غليان هذه الجزيئات والتي تعتبر أعلى من درجة إنصهار ودرجة غليان الكحولات (ROH) ولهذا تذوب الفينولات بسهولة في الماء بسبب تكوين الاواصر الهيدروجينية مع جزيئات الماء .



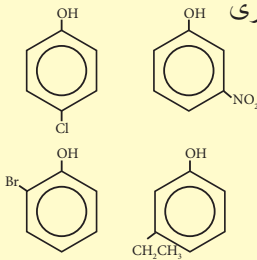
### 2-4-8 تسمية المركبات الفينولية

طبقاً لنظام الاتحاد الدولي للكيمياء الصرفة والتطبيقية والتي يكتب مختصرها (IUPAC) وتلفظ ايوباك ، تسمى الفينولات بأضافة المقطع (ول) الى اسم الهيدروكاربون الام مثل :-

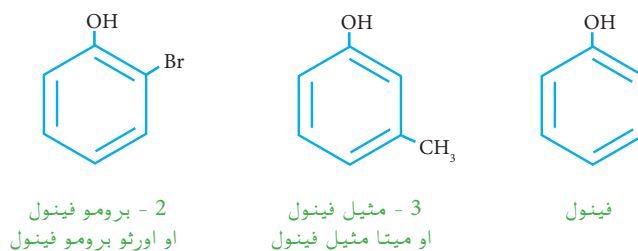


### تمرين 3-8

اكتب اسماء المركبات ادناه حسب نظام تسمية آيوباك مرة وبالاسماء الشائعة مرة اخرى



الا ان الفينولات نادراً ما تسمى بهذه الطريقة وانما تسمى بأسماء شائعة وهي مقبولة من الآيو باك . حيث جاءت تسميتها من الاسم القديم للبنزين وهو (فين phen) حيث يضاف المقطع ( أول ol ) فيصبح الاسم الاساسي فيها هو (فينول Phenol) . ثم تسمى بقية المركبات كمشتقات للفينول مثل :-

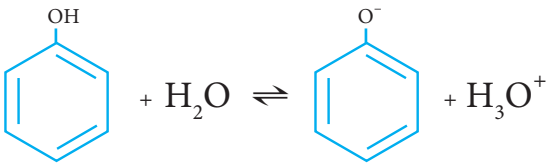


### 3-4-8 حامضية الفينولات

تعتبر الفينولات من الحوامض العضوية وان قوة حامضيتها تقارن من خلال قياس درجة تأينها في الماء ، فالحوامض التي تتأين كلياً بالماء مثل HCl وHNO<sub>3</sub> تسمى حوامض قوية . أما الحوامض الضعيفة فهي تلك التي تتأين جزئياً في المحلول المائي حيث يكون هناك توازن بين الحالة المؤينة والحالة غير المؤينة كما في المعادلة الاتية ( راجع الفصل الرابع من هذا الكتاب ):-



إن معظم الحوامض العضوية هي حوامض ضعيفة قليلة التأين في الماء، ويعتبر الفينول أحدها ويتأين في الماء حسب المعادلة الاتية:-

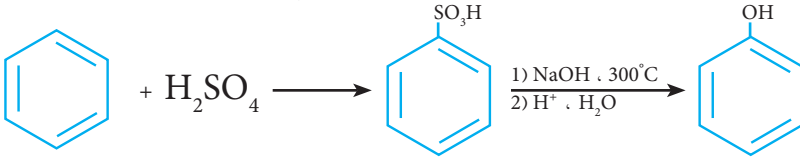


### 4-4-8 الفينول

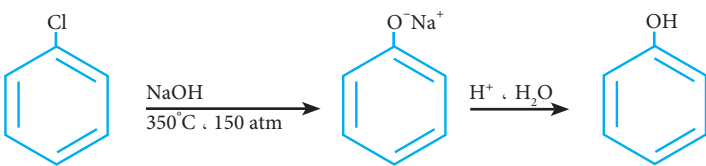
تم عزل الفينول في القرن التاسع عشر من قطران الفحم (coal tar) واستخدم الفينول في معظم دول العالم كمادة أولية لتحضير الأسبرين والاصباغ وحبر الكتابة والصمغ والصناعات البلاستيكية ومعظم الفينولات التجارية يمكن تحضيرها في المختبر او في الصناعة .

#### 1. تحضير الفينول

أ - من حامض البنزين سلفونيك (Benzene sulfonic acid): تعتبر هذه الطريقة من الطرق القديمة المستخدمة في الصناعة لتحضير الفينول حيث يمكن سلفنة البنزين أولاً للحصول على البنزين سلفونيك الذي يعامل بمحلول هيدروكسيد الصوديوم (NaOH) و ثم جعل المحلول حامضياً نحصل على الفينول كما في المعادلة الاتية:-



ب) من تسخين كلوروبنزين مع محلول هيدروكسيد الصوديوم تحت ضغط عالي ثم جعل المحلول حامضياً نحصل على الفينول .

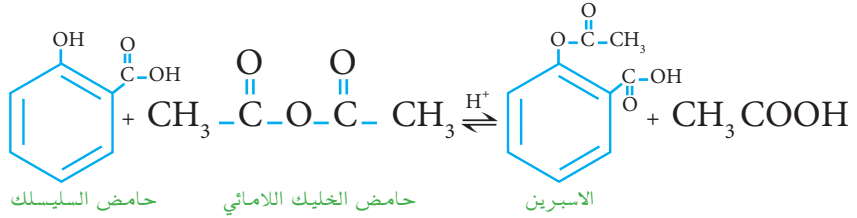


#### هل تعلم

ان الفينول اسم شائع هو حامض الكاربوليك (carbolic acid) والفينول اكثر حامضية من الماء ويسبب التهيج او اثاره للجلد بقوة .

## 5-8 تضير الاسبرين

يحضر الاسبرين في المختبر صناعياً بتفاعل حامض السليسلك salicylic acid (أحد الفينولات) مع الحامض العضوي حامض الخليك اللامائي ليعطي الاستر المقابل ، وهو أستيل حامض السليسلك وهو ما يعرف تجارياً بالاسبرين .



## 6-8 الكشف عن الفينولات

للكشف عن الفينولات تضاف أملاح الحديد (III) الى محاليلها فالمحلول يتلون باللون الازرق الغامق أو الاخضر الداكن وحسب التركيب الكيميائي للفينول . أما عند اضافة محلول سيانيد البوتاسيوم الحديدي (III) الى محاليلها فالمحلول يتلون باللون الاحمر .

## 7-8 المركبات الحلقية غير المتجانسة

### 1-7-8 مقدمة

المركب الحلقية غير المتجانس هو المركب الذي تكون فيه أحد ذرات الحلقة أو أكثر غير الكربون ، وغالبية الانواع الشائعة تحتوي على ذرات النتروجين أو الاوكسجين أو الكبريت بالإضافة الى الكربون الذي يشكل النسبة العالية فيه . والمركبات الحلقية غير المتجانسة يمكن ان تكون اليقاتية أو أروماتية من حيث طبيعتها اعتماداً على تركيبها الالكتروني . فالمركبات الحلقية غير المتجانسة الالفاتية تشابه كيميائياً الى درجة كبيرة مع مناظراتها من المركبات الالفاتية المفتوحة السلسلة ، كما ان المركبات الحلقية غير المتجانسة الاروماتية تشابه مع مناظراتها من المركبات الاروماتية الكربونية الحلقة .

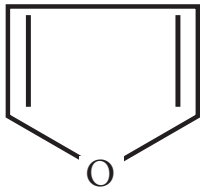
والمركبات الحلقية غير المتجانسة واسعة الانتشار في الطبيعة وهي ضرورية للحياة في صور متعددة . فمعظم السكريات ومشتقاتها بما في ذلك فيتامين C (على سبيل المثال) توجد غالباً في صورة مركبات حلقية غير متجانسة أما خماسية مثل الفيوران (التركيب VIII) أو سداسية مثل البيران (التركيب IX) حيث تحتوي الحلقة فيها على ذرة واحدة من الاوكسجين. كما ان معظم القلويدات وهي قواعد نتروجينية توجد في النباتات



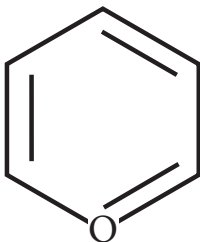
الخنفساء القاذف

### هل تعلم

ان هناك نوع من الخنفساء يسمى الخنفساء القاذف عند تعرض هذه الحشرة للتهديد فتدافع عن نفسها برش محلول حار مهيج من الكوينون (وهو احد الفينولات) على اعدائها. تقوم الخنفساء بخلط الهيدروكوينون مع بيروكسيد الهيدروجين مع انزيم خاص ويتأكسد خلالها الهيدروكوينون الى الكوينون وهذا التفاعل يبعث حرارة عالية تؤدي الى غليان المحلول وأبعائه بقوة من بطن الحشرة .

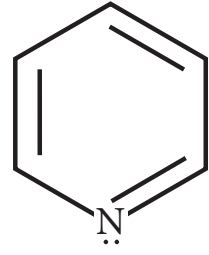


VIII الفيوران

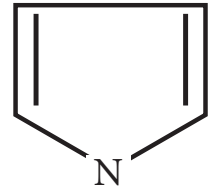


IX البيران

وعديد من المضادات الحياتية بما في ذلك البنسلين تحتوي على انظمة حلقية غير متجانسة . كما وجد ان البريدين (التركيب X) وهو مركب حلقي سداسي غير متجانس يحتوي على ذرة واحدة من النتروجين يكون جزء من تركيب النيكوتين . ووجد البايرول (التركيب XI) وهو مركب حلقي خماسي يحوي ذرة واحدة من النتروجين يكون احد وحدات الهيموغلوبين والكلوروفيل . كما ان هناك عدد كبير من المركبات الحلقية غير المتجانسة التي يمكن الحصول عليها من خلال التحضيرات المختبرية لها صفات قيمة كمركبات كيميائية علاجية وكعقاقير وأصباغ وبوليمرات مشتركة .



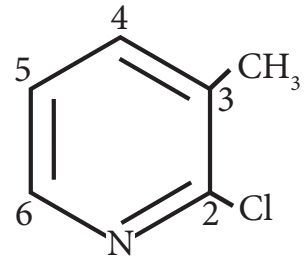
X البريدين



XI البايرول

### 2-7-8 تسمية المركبات الحلقية غير المتجانسة

هناك العديد من الطرق لترقيم الذرات والمجموعات المعوضة في المركبات الحلقية غير المتجانسة . ففي المركبات احادية الحلقة يتم ترقيم الذرات ابتداءً من الذرة غير المتجانسة والتي تحمل عندئذ الرقم -1- ثم يدور حول الحلقة بحيث تعطي المجموعات المعوضة في هذه الحلقة أقل الارقام الممكنة وبعدئذ يتم ترتيبها طبقاً لترتيب الحروف الابجدية . فمثلاً المركب رقم (XII) يسمى 2 -كلورو - 3 - ميثيل بريدين .



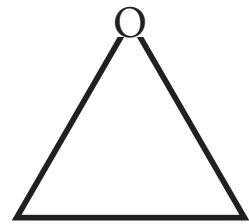
XII 2 -كلورو - 3 ميثيل بريدين

### 3-7-8 انواع المركبات الحلقية غير المتجانسة

لتسهيل دراسة هذا النوع من المركبات قسمت الى ما يأتي :

#### 1. المركبات ذات الحلقة الثلاثية غير المتجانسة :

وهي المركبات الحلقية المناظرة للبروبان الحلقي إلا انها تحتوي على ذرة مغايرة واحدة. ومن الامثلة على هذه المركبات هي الايبوكسيدات مثل ايبوكسيد الاثيلين ذات الصيغة التركيبية (XIII).



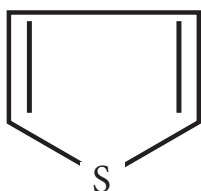
XIII ايبوكسيد الاثيلين

#### 2. المركبات ذات الحلقة الرباعية غير المتجانسة :

وهي المركبات الحلقية غير المتجانسة المناظرة للبيوتان الحلقي، وتكون هذه المركبات اكثر استقراراً من المركبات ذات الحلقة الثلاثية ومن امثلتها الاوكسيتان (Oxctane) ذي الصيغة التركيبية (XIV).



XIV اوكسيتان

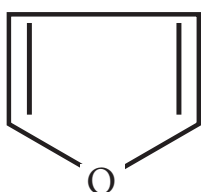


XV ثايوفين

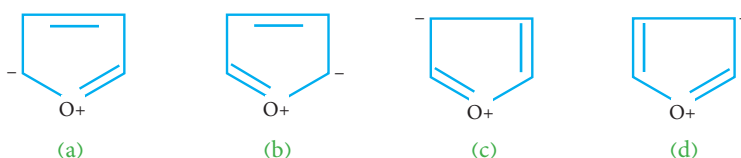
### 3. المركبات ذات الحلقة الخماسية غير المتجانسة :

وهي المركبات الحلقية غير المتجانسة المناظرة للبنتادين الحلقية. ومن أشهر الامثلة على هذه المركبات هي الثايوفين (XV) والفيوران الذي مر ذكره سابقاً (VIII).

والفيوران سائل عديم اللون ، درجة غليانه  $31^{\circ}\text{C}$  ذو رائحة تشابه رائحة الكلورفورم ويذوب بشحة في الماء ، الا انه يمتزج مع معظم المذيبات العضوية . وقد اثبت باير (Bayer) سنة 1877 بنيته وتركيبه. ومن الافضل ان ينظر الى جزيئة الفيوران كهجين روزونانسي بسبب لاموقعية زوج الكترونات ذرة الاوكسجين حيث تشكل فيه التراكيب من a الى d هذه الصيغ الافتراضية ، حيث تعتبر الصيغتان a و b اكثرها اهمية .



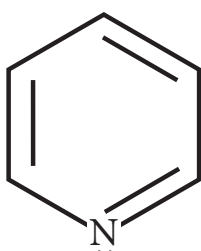
VIII فيوران



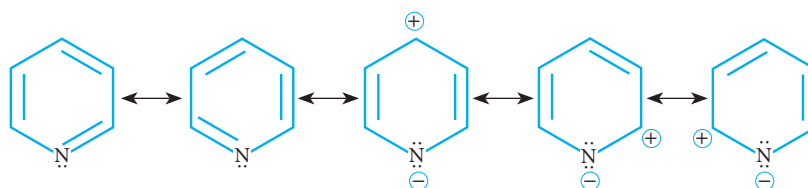
### 4. المركبات ذات الحلقة السداسية غير المتجانسة :

وهي المركبات الحلقية غير المتجانسة المناظرة للبنزين، ومن امثلتها البريدين ذات الصيغة التركيبية (X) التي تم ذكرها سابقاً. وتمتلك هذه المركبات أيضاً الصفة الاروماتية مما يكسبها صفة الاستقرار العالية.

والبريدين نظام غير متجانس سداسي الحلقة يشبه البنزين في ثباته وتركيبه ، فهو كالبنزين يقاوم الأكسدة وهو غالباً ما يستعمل كمذيب للكثير من التفاعلات الكيميائية . أن ثبات تركيب البريدين ناتج من الهجينات الرزونانسية الاتية :



X البريدين



وهو قاعدة ضعيفة بسبب احتواء النتروجين على الكترولين غير مشتركين تؤثر في خواصه الكيميائية بشكل كبير ، حيث يدخل تفاعلات تعويض اكثر من تفاعلات الاضافة .

### تفاعلات الاستبدال الكهروفيلية

#### Electrophilic Substitution

وهي عملية أستبدال إحدى ذرات هيدروجين الحلقة بذرة أو مجموعة مختلفة مثل الهلجنة والسلفنة والنيترة والالكة والاسيلة ، وتتم بوجود كواشف باحثة عن الالكترونات (كواشف الكهروفيلية) خاصة في كل عملية .

#### الفينولات Phenols

مركبات عضوية أروماتية مشتقة من البنزين وتتكون من ارتباط مجموعة الهيدروكسيل بحلقة البنزين مباشرة. أن وجود مجموعة الهيدروكسيل لها تأثير كبير في تحديد خواصها الفيزيائية وذلك بسبب تكوين الأواصر الهيدروجينية بين جزيئاتها مما يسبب في ارتفاع درجة غليانها وأنصهارها .

### المركبات الحلقية غير المتجانسة

#### Heterocyclic Compounds

المركب الحلقية غير المتجانس هو المركب الذي تكون فيه أحد ذرات الحلقة أو أكثر غير الكربون وقد تكون ذرة النتروجين أو الاوكسجين أو الكبريت . ويمكن ان تكون الحلقة غير المتجانسة ثلاثية أو رباعية أو خماسية أو سداسية .

#### البنزين Benzene

ان البنزين مركب ذو صيغة جزيئية  $C_6H_6$  يحتوي على ست ذرات كربون متماثلة وست ذرات هيدروجين متماثلة ايضاً ، وأن أطوال أواصر C-C فيه متساوية وهي حالة وسط بين طول الأصرة المنفردة وطول الأصرة المزدوجة .

### المركبات الأروماتية (العطرية)

#### Aromatic Hydrocarbons

وهي مجموعة من المركبات العضوية على قدر من عدم التشبع إلا انها فريدة في ثباتها ، لذلك تميل هذه المركبات الى الدخول في تفاعلات استبدال (تعويض) حيث تبقى الحلقة الأروماتية محافظة على شكلها وليس تفاعلات إضافة كما في معظم المركبات غير المشبعة . ويشمل هذا النوع من المركبات العضوية البنزين ومشتقاته والمركبات الشبيهة به من ناحية التركيب والتفاعلية الكيميائية .

#### الرنين (الرزونانس) Resonance

وهو ظاهرة عدم تمركز الالكترونات حول نوى ذرات محددة في الجزيء أو الايون مما يجعلها أكثر استقراراً . وفي حالة البنزين ولكي نصف بدقة حقيقة الصيغة التركيبية لجزيء البنزين بحيث تظهر فيه الكترونات أواصر باي في الأصرة المزدوجة بين ذرات الكربون وكأنها في حركة مستمرة نرسم الشكل السداسي للبنزين وبداخله الالكترونات المتحركة على شكل نقاط متتابعة أو حلقة مغلقة عوضاً عن الأواصر المزدوجة . اي ان نجعل الكترونات هذه الأواصر ملكاً لجميع ذرات الكربون الستة ، هذا النوع من الحركة الالكترونية ما يدعى بالرنين .

### تسمية مشتقات البنزين

#### Benzene Derivatives Names

تسمى مركبات البنزين أحادية التعويض على أنها مشتقات للبنزين أو تسمى بأسمائها الشائعة. اما في حالة مشتقاته ثنائية التعويض فيجب ان يحدد موقعها على الحلقة أما بالترقيم حيث تأخذ المجموعتين أصغر الأرقام ثم نذكر اسماء المجموعتين حسب الحروف الهجائية أورثو وميتا وبارا للدلالة على موقع المجاميع . وفي حالة المركبات متعددة التعويض فيجب استخدام طريقة الترقيم حيث يكون مصطلح أورثو وميتا وبارا غير مقبولة .



11-8 ارسم الصيغ التركيبية للمركبات الاتية :

1. بارا- ثنائي كلوروبنزين

2. بارا نيتروفينول

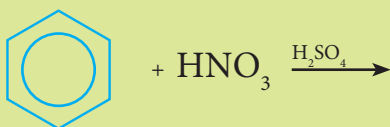
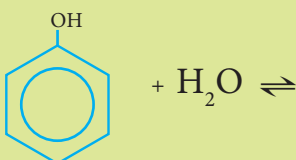
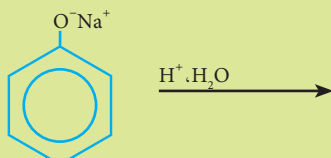
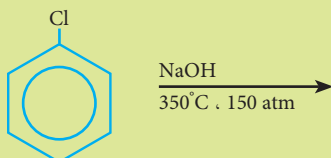
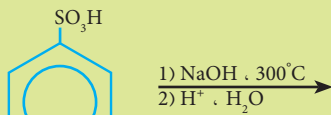
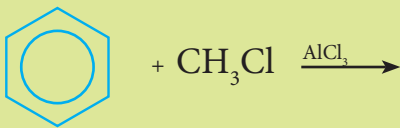
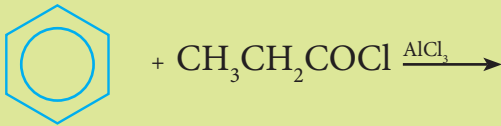
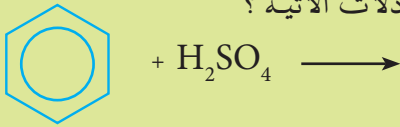
3. 1، 3 - ثنائي فلوروبنزين

4. 1، 2 - يودوكلوروبنزين

5. بارا بروموكلوروبنزين

6. ميتا برومو حامض السلفونيك

12-8 اكمل المعادلات الاتية ؟



1-8 كيف تغير مفهوم المصطلح الاروماتي ؟

2-8 ماهو مصدر الهيدروكربونات الاروماتية ؟

3-8 لماذا يعتبر تركيب البنزين هجيناً رزونانسياً ؟

4-8 متى يسلك البنزين كهيدروكربون غير

مشبع ؟

5-8 كيف تميز البنزين في تفاعلاته عن

الالكينات والالكينات ؟ ما سبب استقرار جزيئته

النسبي ؟

6-8 ماهي الايزومرات الممكنة للنيتروكلوروبنزين؟

7-8 كيف تميز بين الهكسين الحلقي والبنزين ؟

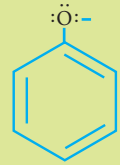
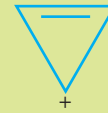
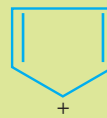
8-8 اكتب المعادلات الكيميائية لتفاعل البنزين

مع :

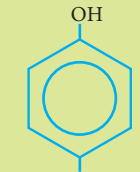
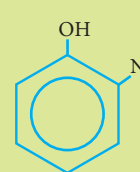
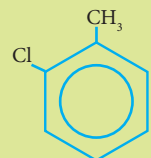
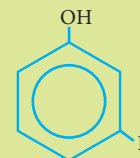
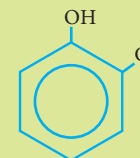
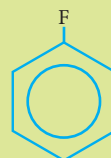
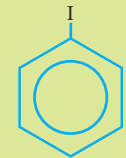
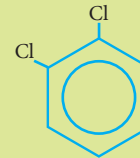
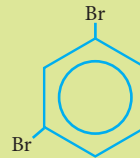
أ-  $Cl_2/FeCl_3$  ب-  $CH_3CH_2Cl/AlCl_3$

ج-  $CH_3COCl/AlCl_3$

9-8 ارسم الاشكال الرزونانسية لكل مما يأتي :



10-8 سم المركبات الاتية :



3. ان البنزين ذو صيغة جزيئية  $C_6H_6$  يحتوي على ستة آواصر ثلاثة منها منفردة والثلاثة الاخرى مزدوجة
4. ان تفاعلات التعويض التي يدخلها البنزين دليل على أستقراريته العالية .
5. تستعمل المصطلحات أورثو وميتا وبارا في تسمية مشتقات البنزين الثنائية والمتعددة .
6. يحترق البنزين بلهب ساطع وداخن بسبب النسبة العالية للكربون فيه .
7. يختزل البنزين بسهولة بواسطة الهيدروجين الى الهكسان الحلقي .
8. الهلجنة هي عملية استبدال إحدى ذرات الهيدروجين في البنزين بمجموعة سلفونيك  $SO_3H$ .
9. تدعى الكواشف الغنية بالالكترونات بالكواشف الباحثة عن الالكترونات .
10. يدعى الاستر الناتج من تفاعل حامض السلسليك وحامض الخليك تجارياً بالاسبرين .
11. يتم الكشف عن الفينولات بواسطة محاليل أملاح الزئبق .
12. البريدين مركب حلقي غير متجانس يحتوي على ذرة واحدة من الاوكسجين .
13. يبدأ الترقيم في المركبات الحلقية غير المتجانسة أحادية الحلقة ابتداءً من الذرة غير المتجانسة والتي تعطى الرقم (1).
14. المركبات ذات الحلقة الثلاثية غير المتجانسة هي المركبات الحلقية المناظرة للبيوتان الحلقي.

- 8-13 ماهي المركبات الحلقية غير المتجانسة وكيف تقسم انواعها ؟
- 8-14 ماهي الخواص الفيزيائية للفيوران ، وماهي الاشكال الرزونانسية له ؟
- 8-15 ماهو البريدين وماهي اشكاله الرزونانسية ؟
- 8-16 متى عزل الفينول لأول مرة ، وماهي استخداماته ؟
- 8-17 اكتب تفاعل الاستبدال الالكتروفيلي العام وماهي الخطوات الثلاثة الخاصة به ؟
- 8-18 ماهي الطرائق الصناعية لتحضير البنزين اكتبها بالتفصيل ؟
- 8-19 اكتب الصيغ التركيبية للمركبات التالية .
  1. 1 ، 3 ، 5 ثلاثي برومو بنزين .
  2. ميتا - كلورو تولوين .
  3. أثيل - بنزين .
  4. بارا - ثنائي كلورو بنزين .
- 8-20 عبر بصيغ تركيبية عن تفاعل البنزين مع كلوريد الاثيل ؟
- 8-21 بمعادلة كيميائية وبصيغ تركيبية اكتب ناتج عملية الاختزال للبنزين بواسطة الهيدروجين وبوجود البلاتين ؟
- 8-22 اكتب تفاعل إضافة الكلور الى البنزين بوجود الضوء ؟
- 8-23 ارسم المركبات الاتية :
  - أ - ميتا فلورو كلورو بنزين
  - ب - أورثو أثيل فينول
  - ج - 2 - برومو - 4 - كلوروبريدين
- 8-24 ضع علامة ( ✓ ) أمام العبارة الصحيحة وعلامة ( × ) أمام العبارة الخاطئة :
  1. تعتبر المركبات الاروماتية من المركبات العضوية الحاوية على نسبة عالية من عدم التشيع.
  2. تتكون جزيئة الفيوران من خمس ذرات كربون مرتبطة مع بعضها على شكل حلقة خماسية .

## المصطلحات

| المصطلح بالانكليزية      | المصطلح بالالفظة العربية |
|--------------------------|--------------------------|
| Cathod ray               | اشعة الكاثود             |
| Electromaganetic ray     | اشعة كهرومغناطيسية       |
| Metalloids               | اشباه الفلزات            |
| Ionic bond               | آصرة ايونية              |
| Covalent bond            | آصرة تساهمية             |
| Polar covalent bond      | آصرة تساهمية مستقطبة     |
| Single bond              | آصرة منفردة (احادية)     |
| Double bond              | آصرة مزدوجة              |
| Triple bond              | آصرة ثلاثية              |
| Coordinate bond          | آصرة تناسقية             |
| Metalic bond             | آصرة فلزية               |
| Hydrogen bond            | آصرة هيدروجينية          |
| Quntaum numbers          | اعداد الكم               |
| Electron                 | الالكترون                |
| Valence electrons        | الالكترونات التكافؤ      |
| Resonance                | الرنين (ظاهرة الروزنانس) |
| Electron affimty         | الفة الكترونية           |
| Nonmetal                 | اللافلزات                |
| Soulblity                | الذوبانية                |
| Overall rate of reaction | السرعة العامة للتفاعل    |
| s - Orbital              | اوربيتال s               |
| p - Orbital              | اوربيتال p               |
| d - Orbital              | اوربيتال d               |
| f - Orbital              | اوربيتال f               |
| Ion                      | ايون                     |
| Hydronium ion            | آيون الهيدرونيوم         |
| Paramagnatic             | بارا مغناطيسية           |
| Proton                   | بروتون                   |
| Polymer                  | بوليمر                   |

## المصطلحات

| المصطلح بالإنجليزية    | المصطلح باللفظة العربية     |
|------------------------|-----------------------------|
| Plastics               | بلاستيكات (لدائن)           |
| Addition Polymers      | بوليمرات الأضافة            |
| Condensation polymers  | بوليمرات التكاثف            |
| Thermoplastic polymers | بوليمرات مطاوعة للحرارة     |
| Thermoset polymers     | بوليمرات غير مطاوعة للحرارة |
| Synthetic polymers     | بوليمرات مصنعة              |
| Chemical bonding       | تأصر كيميائي                |
| Hydrolysis             | تحلل مائي                   |
| Concentration          | تركيز                       |
| Molar concentration    | تركيز مولاري M              |
| Molal concentration    | تركيز مولالي m              |
| Effective collision    | تصادم فعال                  |
| Noneffective collision | تصادم غير فعال              |
| Nutrlization           | تعادل                       |
| Hyperdiazation         | تهجين                       |
| Orbital hyperdiazation | تهجين اوربتالي              |
| Frequency              | تردد                        |
| Electron configuration | ترتيب الكتروني              |
| Titration              | تسحيح                       |
| Chemical reaction      | تفاعل كيميائي               |
| Pollution              | تلوث                        |
| Rate constant          | ثابت سرعة التفاعل           |
| Plank constant         | ثابت بلانك                  |
| Perodic Table          | جدول دوري                   |
| Acid                   | حامض                        |
| Conjugated acid        | حامض قرين                   |
| Excited state          | حالة مستثارة                |
| oxidiation state       | حالة التأكسد                |
| Atomic volume          | حجم ذري                     |

## المصطلحات

| المصطلح باللفظة الانكليزية | المصطلح باللفظة العربية  |
|----------------------------|--------------------------|
| Heat of solution           | حرارة المحلول            |
| Chemical kinetics          | حركيات كيميائية          |
| Linear                     | خطي                      |
| Golligative properties     | خواص جمعية               |
| Diamagnetic                | دايا مغناطيسية           |
| Temperature                | درجة الحرارة             |
| Boiling point              | درجة حراة الغليان        |
| Freezing point             | درجة حرارة الانجماد      |
| Indicators                 | دلائل                    |
| Lewis symbol               | رمز لويس                 |
| Burret                     | سحاحة                    |
| Rate of reaction           | سرعة التفاعل             |
| Light speed                | سرعة الضوء               |
| Crystal lattice            | شبكة بلورية              |
| Tetrahedral                | شكل رباعي الاوجه منتظم   |
| Trigonal                   | شكل مثلثي منتظم          |
| Pressure                   | ضغط                      |
| Partial pressure           | ضغط جزئي                 |
| Total pressure             | ضغط كلي                  |
| Vapour pressure            | ضغط بخاري                |
| Osmotis pressure           | ضغط ازموزي               |
| Activation energy          | طاقة التنشيط             |
| Resonance energy           | طاقة الرنين              |
| Ionization energy          | طاقة التاين              |
| Wave length                | طول الموجة               |
| Flame spectrum             | طيف اللهب                |
| Line emisson spectrum      | طيف الانبعاث الخطي       |
| Nucleuphilic reagent       | عامل باحث عن النواة      |
| Electrolphilic reagent     | عامل باحث عن الألكترونات |

## المصطلحات

| المصطلح بالإنجليزية       | المصطلح بالفرنسية         |
|---------------------------|---------------------------|
| Catalyst                  | عامل مساعد                |
| Atomic number             | عدد ذري                   |
| Atomic mass               | عدد الكتلة                |
| Principal quantum number  | عدد الكم الرئيس           |
| Magnetic quantum number   | عدد الكم المغناطيسي       |
| Spin quantum number       | عدد الكم المغزلي          |
| Momentum quantum number   | عدد الكم الثانوي (الزخمي) |
| Polymerization            | عملية البلمرة             |
| Element                   | عنصر                      |
| Transition element        | عناصر انتقالية            |
| Inner Transition element  | عناصر انتقالية داخلية     |
| Rare -earth elements      | عناصر الارثه النادرة      |
| Coordinated number        | عدد تناسقي                |
| Alkaline -earth elements  | عناصر الارثه القلوية      |
| Metal                     | فلز                       |
| Vulcanization             | فلكنة                     |
| Photon                    | فوتون                     |
| Ferromagnetic             | فيرومغناطيسية             |
| Base                      | قاعدة                     |
| Hund's rule               | قاعدة هوند                |
| Pauli- excluded principle | قاعدة الاستثناء الباوي    |
| Octate rule               | قاعدة الثمان              |
| Congugated base           | قاعدة قرينة               |
| Rate law                  | قانون سرعة التفاعل        |
| Raoult's law              | قانون راؤولت              |
| Electron mass             | كتلة الالكترون            |
| Atomic mass               | كتلة ذرية                 |
| Mole fraction             | كسر مولي X                |
| Electronegativity         | كهرسلبية                  |

## المصطلحات

| المصطلح بالالفظة الانكليزية | المصطلح بالالفظة العربية  |
|-----------------------------|---------------------------|
| d - Block                   | مجموعة d                  |
| s - Block                   | مجموعة s                  |
| f -Block                    | مجموعة f                  |
| Solutions                   | محاليل                    |
| Aqueous solution            | محاليل مائية              |
| Nonaqueous solution         | محاليل غير مائية          |
| Colloidal solution          | محاليل غروية              |
| Saturated solution          | محلول مشبع                |
| Unsaturated solution        | محلول غير مشبع            |
| Supesaturated solution      | محلول فوق المشبع          |
| Ideal solution              | محلول مثالي               |
| Standard solution           | محلول قياسي               |
| Solute                      | مذاب                      |
| Solvent                     | مذيب                      |
| Reaction order              | مرتبة التفاعل             |
| Intermediate                | مركب وسطي                 |
| Hetrocyclic compouds        | مركبات حلقيية غير متجانسة |
| Ground state                | مستوى ارضي (مستقر)        |
| Rubber                      | مطاط                      |
| Coordination complexes      | معقدات تناسقية            |
| Activated-Complex           | معقد منشط                 |
| Salt                        | ملح                       |
| Amphoteric substances       | مواد أمفوتيرية            |
| Molarity                    | مولارية M                 |
| Molality                    | مولالية m                 |
| Monomer                     | مونمر                     |
| Quntaum mechanics           | ميكانيكا كمية             |
| Reaction Mechanism          | ميكانيكية التفاعل         |
| Ionic radius                | نصف قطر الايون            |

## المصطلحات

| المصطلح بالالفظة الانكليزية                  | المصطلح بالالفظة العربية                     |
|--|--|
| Collision Theory                             | نظرية التصادم                                |
| Transitsition- state theory                  | نظرية الحالة الانتقالية                      |
| Activated- complex theory                    | نظرية المعقد المنشط                          |
| Arrhenius Theory                             | نظرية ارينوس                                 |
| Bronsted lowry theory                        | نظرية برونشتد - لوري                         |
| Lewis theory                                 | نظرية لويس                                   |
| Quantum theory                               | نظرية الكم                                   |
| Valence - bond theory                        | نظرية اصرة التكافؤ                           |
| Valence shell electron pair repulsion theory | نظرية تنافر وازدواج الكترولونات غلاف التكافؤ |
| Equivalent point                             | نقطة التكافؤ                                 |
| End point                                    | نقطة الأنتهاء                                |
| Neutron                                      | نيوترون                                      |
| Armatic hydrocarbon                          | هيدروكاربونات اروماتية                       |
| Rate-determing step                          | الخطوة المحددة للسرعة                        |
| Electron charge                              | شحنة الالكترولون                             |
| Dilution Law                                 | $V_1 M_1 = V_2 M_2$ ( قانون التخفيف )        |



الترتيب الالكتروني للعناصر

| Elements      | sublevels |    |    |    |    |    |    |    |    |    |    |    |    |    |    |    |    |    |    |  |
|---------------|-----------|----|----|----|----|----|----|----|----|----|----|----|----|----|----|----|----|----|----|--|
|               | 1s        | 2s | 2p | 3s | 3p | 3d | 4s | 4p | 4d | 4f | 5s | 5p | 5d | 5f | 6s | 6p | 6d | 7s | 7p |  |
| 1-Hydrogen    | 1         |    |    |    |    |    |    |    |    |    |    |    |    |    |    |    |    |    |    |  |
| 2-Helium      | 2         |    |    |    |    |    |    |    |    |    |    |    |    |    |    |    |    |    |    |  |
| 3-Lithium     | 2         | 1  |    |    |    |    |    |    |    |    |    |    |    |    |    |    |    |    |    |  |
| 4-Beryllium   | 2         | 2  |    |    |    |    |    |    |    |    |    |    |    |    |    |    |    |    |    |  |
| 5-Boron       | 2         | 2  | 1  |    |    |    |    |    |    |    |    |    |    |    |    |    |    |    |    |  |
| 6-Carbon      | 2         | 2  | 2  |    |    |    |    |    |    |    |    |    |    |    |    |    |    |    |    |  |
| 7-Nitrogen    | 2         | 2  | 3  |    |    |    |    |    |    |    |    |    |    |    |    |    |    |    |    |  |
| 8-Oxygen      | 2         | 2  | 4  |    |    |    |    |    |    |    |    |    |    |    |    |    |    |    |    |  |
| 9-Fluorine    | 2         | 2  | 5  |    |    |    |    |    |    |    |    |    |    |    |    |    |    |    |    |  |
| 10-Neon       | 2         | 2  | 6  |    |    |    |    |    |    |    |    |    |    |    |    |    |    |    |    |  |
| 11-Sodium     | 2         | 2  | 6  | 1  |    |    |    |    |    |    |    |    |    |    |    |    |    |    |    |  |
| 12-Magnesium  | 2         | 2  | 6  | 2  |    |    |    |    |    |    |    |    |    |    |    |    |    |    |    |  |
| 13-Aluminum   | 2         | 2  | 6  | 2  | 1  |    |    |    |    |    |    |    |    |    |    |    |    |    |    |  |
| 14-Silicon    | 2         | 2  | 6  | 2  | 2  |    |    |    |    |    |    |    |    |    |    |    |    |    |    |  |
| 15-Phosphorus | 2         | 2  | 6  | 2  | 3  |    |    |    |    |    |    |    |    |    |    |    |    |    |    |  |
| 16-Sulfur     | 2         | 2  | 6  | 2  | 4  |    |    |    |    |    |    |    |    |    |    |    |    |    |    |  |
| 17-Chlorine   | 2         | 2  | 6  | 2  | 5  |    |    |    |    |    |    |    |    |    |    |    |    |    |    |  |
| 18-Argon      | 2         | 2  | 6  | 2  | 6  |    |    |    |    |    |    |    |    |    |    |    |    |    |    |  |
| 19-Potassium  | 2         | 2  | 6  | 2  | 6  |    | 1  |    |    |    |    |    |    |    |    |    |    |    |    |  |
| 20-Calcium    | 2         | 2  | 6  | 2  | 6  |    | 2  |    |    |    |    |    |    |    |    |    |    |    |    |  |
| 21-Scandium   | 2         | 2  | 6  | 2  | 6  | 1  | 2  |    |    |    |    |    |    |    |    |    |    |    |    |  |
| 22-Titanium   | 2         | 2  | 6  | 2  | 6  | 2  | 2  |    |    |    |    |    |    |    |    |    |    |    |    |  |
| 23-Vanadium   | 2         | 2  | 6  | 2  | 6  | 3  | 2  |    |    |    |    |    |    |    |    |    |    |    |    |  |
| 24-Chromium   | 2         | 2  | 6  | 2  | 6  | 5  | 1  |    |    |    |    |    |    |    |    |    |    |    |    |  |
| 25-Manganese  | 2         | 2  | 6  | 2  | 6  | 5  | 2  |    |    |    |    |    |    |    |    |    |    |    |    |  |
| 26-Iron       | 2         | 2  | 6  | 2  | 6  | 6  | 2  |    |    |    |    |    |    |    |    |    |    |    |    |  |
| 27-Cobalt     | 2         | 2  | 6  | 2  | 6  | 7  | 2  |    |    |    |    |    |    |    |    |    |    |    |    |  |
| 28-Nickle     | 2         | 2  | 6  | 2  | 6  | 8  | 2  |    |    |    |    |    |    |    |    |    |    |    |    |  |
| 29-Copper     | 2         | 2  | 6  | 2  | 6  | 10 | 1  |    |    |    |    |    |    |    |    |    |    |    |    |  |
| 30-Zinc       | 2         | 2  | 6  | 2  | 6  | 10 | 2  |    |    |    |    |    |    |    |    |    |    |    |    |  |
| 31-Gallium    | 2         | 2  | 6  | 2  | 6  | 10 | 2  | 1  |    |    |    |    |    |    |    |    |    |    |    |  |
| 32-Germanium  | 2         | 2  | 6  | 2  | 6  | 10 | 2  | 2  |    |    |    |    |    |    |    |    |    |    |    |  |
| 33-Arsenic    | 2         | 2  | 6  | 2  | 6  | 10 | 2  | 3  |    |    |    |    |    |    |    |    |    |    |    |  |
| 34-Selenium   | 2         | 2  | 6  | 2  | 6  | 10 | 2  | 4  |    |    |    |    |    |    |    |    |    |    |    |  |
| 35-Bromium    | 2         | 2  | 6  | 2  | 6  | 10 | 2  | 5  |    |    |    |    |    |    |    |    |    |    |    |  |
| 36-Krypton    | 2         | 2  | 6  | 2  | 6  | 10 | 2  | 6  |    |    |    |    |    |    |    |    |    |    |    |  |
| 37-Rubidium   | 2         | 2  | 6  | 2  | 6  | 10 | 2  | 6  |    |    | 1  |    |    |    |    |    |    |    |    |  |
| 38-Strontium  | 2         | 2  | 6  | 2  | 6  | 10 | 2  | 6  |    |    | 2  |    |    |    |    |    |    |    |    |  |
| 39-Yttrium    | 2         | 2  | 6  | 2  | 6  | 10 | 2  | 6  | 1  |    | 2  |    |    |    |    |    |    |    |    |  |
| 40-Zirconium  | 2         | 2  | 6  | 2  | 6  | 10 | 2  | 6  | 2  |    | 2  |    |    |    |    |    |    |    |    |  |

الترتيب الالكتروني للمناصر

| Elements        | sublevels |    |    |    |    |    |    |    |    |    |    |    |    |    |    |    |    |    |    |
|-----------------|-----------|----|----|----|----|----|----|----|----|----|----|----|----|----|----|----|----|----|----|
|                 | 1s        | 2s | 2p | 3s | 3p | 3d | 4s | 4p | 4d | 4f | 5s | 5p | 5d | 5f | 6s | 6p | 6d | 7s | 7p |
| 41-Niobium      | 2         | 2  | 6  | 2  | 6  | 10 | 2  | 6  | 4  |    | 1  |    |    |    |    |    |    |    |    |
| 42-Molybdenum   | 2         | 2  | 6  | 2  | 6  | 10 | 2  | 6  | 5  |    | 1  |    |    |    |    |    |    |    |    |
| 43-Technetium   | 2         | 2  | 6  | 2  | 6  | 10 | 2  | 6  | 5  |    | 2  |    |    |    |    |    |    |    |    |
| 44-Ruthenium    | 2         | 2  | 6  | 2  | 6  | 10 | 2  | 6  | 7  |    | 1  |    |    |    |    |    |    |    |    |
| 45-Rhodium      | 2         | 2  | 6  | 2  | 6  | 10 | 2  | 6  | 8  |    | 1  |    |    |    |    |    |    |    |    |
| 46-Palladium    | 2         | 2  | 6  | 2  | 6  | 10 | 2  | 6  | 10 |    |    |    |    |    |    |    |    |    |    |
| 47-Silver       | 2         | 2  | 6  | 2  | 6  | 10 | 2  | 6  | 10 |    | 1  |    |    |    |    |    |    |    |    |
| 48-Cadmium      | 2         | 2  | 6  | 2  | 6  | 10 | 2  | 6  | 10 |    | 2  |    |    |    |    |    |    |    |    |
| 49-Indium       | 2         | 2  | 6  | 2  | 6  | 10 | 2  | 6  | 10 |    | 2  | 1  |    |    |    |    |    |    |    |
| 50-Tin          | 2         | 2  | 6  | 2  | 6  | 10 | 2  | 6  | 10 |    | 2  | 2  |    |    |    |    |    |    |    |
| 51-Antimony     | 2         | 2  | 6  | 2  | 6  | 10 | 2  | 6  | 10 |    | 2  | 3  |    |    |    |    |    |    |    |
| 52-Tellurium    | 2         | 2  | 6  | 2  | 6  | 10 | 2  | 6  | 10 |    | 2  | 4  |    |    |    |    |    |    |    |
| 53-Iodine       | 2         | 2  | 6  | 2  | 6  | 10 | 2  | 6  | 10 |    | 2  | 5  |    |    |    |    |    |    |    |
| 54-Xenon        | 2         | 2  | 6  | 2  | 6  | 10 | 2  | 6  | 10 |    | 2  | 6  |    |    |    |    |    |    |    |
| 55-Cesium       | 2         | 2  | 6  | 2  | 6  | 10 | 2  | 6  | 10 |    | 2  | 6  |    |    | 1  |    |    |    |    |
| 56-Barium       | 2         | 2  | 6  | 2  | 6  | 10 | 2  | 6  | 10 |    | 2  | 6  |    |    | 2  |    |    |    |    |
| 57-Lanthanum    | 2         | 2  | 6  | 2  | 6  | 10 | 2  | 6  | 10 |    | 2  | 6  | 1  |    | 2  |    |    |    |    |
| 58-Cerium       | 2         | 2  | 6  | 2  | 6  | 10 | 2  | 6  | 10 | 1  | 2  | 6  | 1  |    | 2  |    |    |    |    |
| 59-Prasedoymium | 2         | 2  | 6  | 2  | 6  | 10 | 2  | 6  | 10 | 3  | 2  | 6  |    |    | 2  |    |    |    |    |
| 60-Neodymium    | 2         | 2  | 6  | 2  | 6  | 10 | 2  | 6  | 10 | 4  | 2  | 6  |    |    | 2  |    |    |    |    |
| 61-Promethium   | 2         | 2  | 6  | 2  | 6  | 10 | 2  | 6  | 10 | 5  | 2  | 6  |    |    | 2  |    |    |    |    |
| 62-Samarium     | 2         | 2  | 6  | 2  | 6  | 10 | 2  | 6  | 10 | 6  | 2  | 6  |    |    | 2  |    |    |    |    |
| 63-Europium     | 2         | 2  | 6  | 2  | 6  | 10 | 2  | 6  | 10 | 7  | 2  | 6  |    |    | 2  |    |    |    |    |
| 64-Gadolinum    | 2         | 2  | 6  | 2  | 6  | 10 | 2  | 6  | 10 | 7  | 2  | 6  | 1  |    | 2  |    |    |    |    |
| 65-Terbium      | 2         | 2  | 6  | 2  | 6  | 10 | 2  | 6  | 10 | 9  | 2  | 6  |    |    | 2  |    |    |    |    |
| 66-Dysprosium   | 2         | 2  | 6  | 2  | 6  | 10 | 2  | 6  | 10 | 10 | 2  | 6  |    |    | 2  |    |    |    |    |
| 67-Holmium      | 2         | 2  | 6  | 2  | 6  | 10 | 2  | 6  | 10 | 11 | 2  | 6  |    |    | 2  |    |    |    |    |
| 68-Erbium       | 2         | 2  | 6  | 2  | 6  | 10 | 2  | 6  | 10 | 12 | 2  | 6  |    |    | 2  |    |    |    |    |
| 69-Thulium      | 2         | 2  | 6  | 2  | 6  | 10 | 2  | 6  | 10 | 13 | 2  | 6  |    |    | 2  |    |    |    |    |
| 70-Yetterbium   | 2         | 2  | 6  | 2  | 6  | 10 | 2  | 6  | 10 | 14 | 2  | 6  |    |    | 2  |    |    |    |    |
| 71-Luteium      | 2         | 2  | 6  | 2  | 6  | 10 | 2  | 6  | 10 | 14 | 2  | 6  | 1  |    | 2  |    |    |    |    |
| 72-Hafanium     | 2         | 2  | 6  | 2  | 6  | 10 | 2  | 6  | 10 | 14 | 2  | 6  | 2  |    | 2  |    |    |    |    |
| 73-Tantalium    | 2         | 2  | 6  | 2  | 6  | 10 | 2  | 6  | 10 | 14 | 2  | 6  | 3  |    | 2  |    |    |    |    |
| 74-Tungesten    | 2         | 2  | 6  | 2  | 6  | 10 | 2  | 6  | 10 | 14 | 2  | 6  | 4  |    | 2  |    |    |    |    |
| 75-Rhenium      | 2         | 2  | 6  | 2  | 6  | 10 | 2  | 6  | 10 | 14 | 2  | 6  | 5  |    | 2  |    |    |    |    |
| 76-Osmium       | 2         | 2  | 6  | 2  | 6  | 10 | 2  | 6  | 10 | 14 | 2  | 6  | 6  |    | 2  |    |    |    |    |
| 77-Iridium      | 2         | 2  | 6  | 2  | 6  | 10 | 2  | 6  | 10 | 14 | 2  | 6  | 7  |    | 2  |    |    |    |    |
| 78-Platinum     | 2         | 2  | 6  | 2  | 6  | 10 | 2  | 6  | 10 | 14 | 2  | 6  | 9  |    | 1  |    |    |    |    |
| 79-Gold         | 2         | 2  | 6  | 2  | 6  | 10 | 2  | 6  | 10 | 14 | 2  | 6  | 10 |    | 1  |    |    |    |    |
| 80-Mercury      | 2         | 2  | 6  | 2  | 6  | 10 | 2  | 6  | 10 | 14 | 2  | 6  | 10 |    | 2  |    |    |    |    |

الترتيب الالكتروني للاتناصر

| Elements          | sublevels |    |    |    |    |    |    |    |    |    |    |    |    |    |    |    |    |    |    |
|-------------------|-----------|----|----|----|----|----|----|----|----|----|----|----|----|----|----|----|----|----|----|
|                   | 1s        | 2s | 2p | 3s | 3p | 3d | 4s | 4p | 4d | 4f | 5s | 5p | 5d | 5f | 6s | 6p | 6d | 7s | 7p |
| 81-Thalium        | 2         | 2  | 6  | 2  | 6  | 10 | 2  | 6  | 10 | 14 | 2  | 6  | 10 |    | 2  | 1  |    |    |    |
| 82-Lead           | 2         | 2  | 6  | 2  | 6  | 10 | 2  | 6  | 10 | 14 | 2  | 6  | 10 |    | 2  | 2  |    |    |    |
| 83-Bismuth        | 2         | 2  | 6  | 2  | 6  | 10 | 2  | 6  | 10 | 14 | 2  | 6  | 10 |    | 2  | 3  |    |    |    |
| 84-Polonium       | 2         | 2  | 6  | 2  | 6  | 10 | 2  | 6  | 10 | 14 | 2  | 6  | 10 |    | 2  | 4  |    |    |    |
| 85-Astatine       | 2         | 2  | 6  | 2  | 6  | 10 | 2  | 6  | 10 | 14 | 2  | 6  | 10 |    | 2  | 5  |    |    |    |
| 86-Radon          | 2         | 2  | 6  | 2  | 6  | 10 | 2  | 6  | 10 | 14 | 2  | 6  | 10 |    | 2  | 6  |    |    |    |
| 87-Francium       | 2         | 2  | 6  | 2  | 6  | 10 | 2  | 6  | 10 | 14 | 2  | 6  | 10 |    | 2  | 6  |    | 1  |    |
| 88-Radium         | 2         | 2  | 6  | 2  | 6  | 10 | 2  | 6  | 10 | 14 | 2  | 6  | 10 |    | 2  | 6  |    | 2  |    |
| 89-Actinium       | 2         | 2  | 6  | 2  | 6  | 10 | 2  | 6  | 10 | 14 | 2  | 6  | 10 |    | 2  | 6  | 1  | 2  |    |
| 90-Thorium        | 2         | 2  | 6  | 2  | 6  | 10 | 2  | 6  | 10 | 14 | 2  | 6  | 10 |    | 2  | 6  | 2  | 2  |    |
| 91-Protactinium   | 2         | 2  | 6  | 2  | 6  | 10 | 2  | 6  | 10 | 14 | 2  | 6  | 10 | 2  | 2  | 6  | 1  | 2  |    |
| 92-Uranium        | 2         | 2  | 6  | 2  | 6  | 10 | 2  | 6  | 10 | 14 | 2  | 6  | 10 | 3  | 2  | 6  | 1  | 2  |    |
| 93-Neptunium      | 2         | 2  | 6  | 2  | 6  | 10 | 2  | 6  | 10 | 14 | 2  | 6  | 10 | 4  | 2  | 6  | 1  | 2  |    |
| 94-Plutonium      | 2         | 2  | 6  | 2  | 6  | 10 | 2  | 6  | 10 | 14 | 2  | 6  | 10 | 6  | 2  | 6  |    | 2  |    |
| 95-Amerecium      | 2         | 2  | 6  | 2  | 6  | 10 | 2  | 6  | 10 | 14 | 2  | 6  | 10 | 7  | 2  | 6  |    | 2  |    |
| 96-Curium         | 2         | 2  | 6  | 2  | 6  | 10 | 2  | 6  | 10 | 14 | 2  | 6  | 10 | 7  | 2  | 6  | 1  | 2  |    |
| 97-Berkelium      | 2         | 2  | 6  | 2  | 6  | 10 | 2  | 6  | 10 | 14 | 2  | 6  | 10 | 9  | 2  | 6  |    | 2  |    |
| 98-Californium    | 2         | 2  | 6  | 2  | 6  | 10 | 2  | 6  | 10 | 14 | 2  | 6  | 10 | 10 | 2  | 6  |    | 2  |    |
| 99-Einestanium    | 2         | 2  | 6  | 2  | 6  | 10 | 2  | 6  | 10 | 14 | 2  | 6  | 10 | 11 | 2  | 6  |    | 2  |    |
| 100-Fermium       | 2         | 2  | 6  | 2  | 6  | 10 | 2  | 6  | 10 | 14 | 2  | 6  | 10 | 12 | 2  | 6  |    | 2  |    |
| 101-Mendelevium   | 2         | 2  | 6  | 2  | 6  | 10 | 2  | 6  | 10 | 14 | 2  | 6  | 10 | 13 | 2  | 6  |    | 2  |    |
| 102-Nobelium      | 2         | 2  | 6  | 2  | 6  | 10 | 2  | 6  | 10 | 14 | 2  | 6  | 10 | 14 | 2  | 6  |    | 2  |    |
| 103-Lawrencium    | 2         | 2  | 6  | 2  | 6  | 10 | 2  | 6  | 10 | 14 | 2  | 6  | 10 | 14 | 2  | 6  | 1  | 2  |    |
| 104-Rutherfordium | 2         | 2  | 6  | 2  | 6  | 10 | 2  | 6  | 10 | 14 | 2  | 6  | 10 | 14 | 2  | 6  | 2  | 2  |    |
| 105-Dubnium       | 2         | 2  | 6  | 2  | 6  | 10 | 2  | 6  | 10 | 14 | 2  | 6  | 10 | 14 | 2  | 6  | 3  | 2  |    |
| 106-Seaborgium    | 2         | 2  | 6  | 2  | 6  | 10 | 2  | 6  | 10 | 14 | 2  | 6  | 10 | 14 | 2  | 6  | 4  | 2  |    |
| 107-Bohrium       | 2         | 2  | 6  | 2  | 6  | 10 | 2  | 6  | 10 | 14 | 2  | 6  | 10 | 14 | 2  | 6  | 5  | 2  |    |
| 108-Hassium       | 2         | 2  | 6  | 2  | 6  | 10 | 2  | 6  | 10 | 14 | 2  | 6  | 10 | 14 | 2  | 6  | 6  | 2  |    |
| 109-Meitnerium    | 2         | 2  | 6  | 2  | 6  | 10 | 2  | 6  | 10 | 14 | 2  | 6  | 10 | 14 | 2  | 6  | 7  | 2  |    |
| 110-Darmstadtium  | 2         | 2  | 6  | 2  | 6  | 10 | 2  | 6  | 10 | 14 | 2  | 6  | 10 | 14 | 2  | 6  | 9  | 1  |    |
| 111-Unununium     | 2         | 2  | 6  | 2  | 6  | 10 | 2  | 6  | 10 | 14 | 2  | 6  | 10 | 14 | 2  | 6  | 10 | 1  |    |
| 112-Unubium       | 2         | 2  | 6  | 2  | 6  | 10 | 2  | 6  | 10 | 14 | 2  | 6  | 10 | 14 | 2  | 6  | 10 | 2  |    |
| 113-Ununquadium   | 2         | 2  | 6  | 2  | 6  | 10 | 2  | 6  | 10 | 14 | 2  | 6  | 10 | 14 | 2  | 6  | 10 | 2  | 2  |

## المصادر باللغة الانكليزية

- 1- A.T. Schwartz, D. M. Bunce, R. G. Silberman , C. L. Stanitski, W. J. Statton and A. P. Zipp, "Chemistry in Context" American Chemical society, New York (1997).
- 2- R. Duran , L. P. Gold, C. G. Hass, and A. D. Norman "Chemistry" McGraw-Hill, New York (2003).
- 3- N. J. Tro , "Introductory Chemistry" 3rd ed., Pearson Prentice Hall , New Jersey (2009).
- 4- A. C. Wilbraham , D. D. Staley, M. S. Matta , and E. L. Waterman , "Chemistry", Pearson Prentice Hall (2008).
- 5- R. Chang , and B. C. Shank , " Chemistry", Mc Graw - Hill , New York (2005).
- 6-K. J. Denniston , J. J. Topping , and R. L. Caret, "General Organic and Biochemistry", Mc-Graw- Hill, New York (2004).
- 7-S.S Zumdahle and S.A Zumdahle "Chemistry" Houjhton Mifflin con. Bosten (2003).
- 8 - M.S. Silberberg , "Chemistry , the Molechlar Nature of Matter and change" Mc Graw Hill, London (2003) .
- 9- K.W. Whitten, R.E. Davis and L. M. Peck, "General Chemistry" 7th. ed. Holt Rinehart and Winston, New York (2010).

## المصادر باللغة العربية

- 1 - الكيمياء للصف الثالث الثانوي ، نور المعرفة ، البرادعي للنشر التربوي ، القاهرة (2007).
- 2 - الكيمياء الصف العاشر ، وزارة التربية والتعليم ، إدارة المناهج والكتب المدرسية ، الاردن (2006).
- 3 - الكيمياء للصف الثاني عشر - جزء ثاني ، شركة جيوبروجكتس ، شركة المطبوعات للتوزيع والنشر، لبنان (2008-2009) .
- 4 - الكيمياء للمرحلة الثانوية للمستويان الاول والثاني ، ادارة المناهج والكتب المدرسية، الاردن (2006).