



طريق التفوق



في

الرياضيات

تكلم الرياضيات بطلاقة

مع

د. خالد جلال

٠٧٩٩٩٤٨١٩٨

شرح تفصيلي للوحدة

الثالثة تطبيقات التفاضل

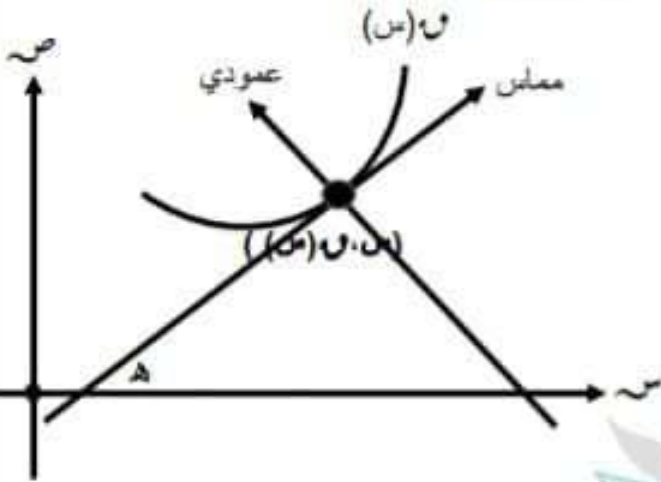
لطلاب وطالبات الفرع العلمي والصناعي

بدون دموع

التطبيقات الهندسية

د. خالد جلال

٠٧٩٩٩٤٨١٩٨



تفسر المشتقة الأولى هندسيا بأنها ميل المماس

لمعنى الاقتران $م(س)$ ويرمز للميل بالرمز $م$

حيث $م = م(س) = \text{ظل هـ}$ حيث هـ زاوية

ميل المماس مع الاتجاه الموجب لمحور السينات

المطلوب بالدرس



(١) إيجاد ميل المماس $م$ ، ميل العمودي على المماس

(٢) إيجاد قياس زاوية ميل المماس هـ

(٣) إيجاد معادلة المماس ، معادلة العمودي على المماس

(٤) إيجاد إحداثيات نقطة او نقط التماس

(٥) حساب الثوابت

أولاً : إيجاد ميل المماس $م$ ، ميل العمودي على المماس

١. نشتق بالقواعد العشرين السابقة

٢. نعوض بإحداثيات نقطة التماس بنتج الميل $م$

٣. ميل العمودي = - مقلوب ميل المماس $م$

ثانياً : إيجاد قياس زاوية ميل المماس

١. نجد الميل $م$

٢. نضع $م = \text{ظل هـ}$

٣. نقوم بحل المعادلة السابقة ان امكن ، والحالات يمكن فيها حل المعادلة هي

$$\text{ظل هـ} = ٠$$

$$\text{ظل هـ} = \pm ١$$

$$\text{ظل هـ} = \pm \sqrt[٣]{\quad}$$

$$\text{ظل هـ} = \pm \sqrt[٣]{\frac{1}{\quad}}$$

ثالثاً : إيجاد معادلة المماس ، معادلة العمودي على المماس

معادلة المماس

$$ص - ص_1 = م (س - س_1)$$

معادلة العمودي

$$ص - ص_1 = -\frac{1}{م} (س - س_1)$$

لإيجاد المعادلات السابقة لا بد من وجود ما يلي وبالترتيب

(٢) الميل	(١) إحداثيات نقطة التماس
تم نعوض بالمعادلات	إذا أعطى س نعوض بالافتراض ١ لإيجاد ص
	إذا أعطى ص نعوض بالافتراض ١ لإيجاد س
	إذا أعطى (س ، ص) نتأكد هل هي نقطة تماس أم لا
	لإيجاد نقطة التقاطع مع محور السينات نضع ص = صفر ثم نجد س
	لإيجاد نقطة التقاطع مع محور الصادات نضع س = صفر ثم نجد ص
	لإيجاد نقطة تقاطع منحنيين ١(س) ، ٢(س) نضع ١(س) = ٢(س)

طريقة عرض السؤال

يوجد نوعان من الأسئلة

- (١) نص مباشر : (جد معادلة المماس ومعادلة العمودي على المماس لمنحنى الافتراض ١)
 (٢) نص غير مباشر : (جد مساحة مثلث) أو (جد مساحة شكل رباعي)

الشكل رباعي	حالات المثلث
يتكون الشكل الرباعي	(١) يتكون المثلث من المماس ومحوري الإحداثيات
من المماس والعمودي	(٢) يتكون المثلث من العمودي ومحوري الإحداثيات
على المماس ومحور	(٣) يتكون المثلث من المماس والعمودي على المماس ومحور السينات
السينات و محور الصادات	(٤) يتكون المثلث من المماس والعمودي على المماس ومستقيم بوازي محور السينات ص = ح
	(٥) يتكون المثلث من المماس والعمودي على المماس ومحور الصادات
	(٦) يتكون المثلث من المماس والعمودي على المماس ومستقيم بوازي محور الصادات س = ح

د. خالد جلال

٠٧٩٩٩٤٨١٩٨

رابعاً : إيجاد إحداثيات نقطة أو نقط التماس



- (١) لإيجاد إحداثيات نقطة أو نقط التماس لا بد من وجود الميل α
- (٢) نضع $\alpha = \alpha(\text{س})$
- (٣) نقوم بحل المعادلة السابقة
- (٤) ينتج الإحداثي السيني لنقطة التماس
- (٥) نعوض بالاقتران α نجد ص فنحصل على إحداثيات نقطة أو نقط التماس (س ، ص)
- (٦) ثم نجد معادلة التماس أو العمودي إذا طلبت المعادلات

الجدول التالي يبين حالات الميل المختلفة وما نستفيد في كل حالة

ما نستفيد	حالات الميل المختلفة
$\alpha(\text{س}) = \text{ق}$	(١) التماس لمنحنى $\alpha(\text{س})$ يصنع زاوية مقدارها α مع الاتجاه الموجب لمحور السينات
$\alpha(\text{س}) = \text{صفر}$	(٢) التماس أفقي أو التماس يوازي محور السينات أو العمودي على التماس يوازي محور الصادات أو التماس عمودي على محور الصادات
$\alpha(\text{س}) = \text{ميل}$ المستقيم المعلوم	(٣) التماس لمنحنى $\alpha(\text{س})$ يوازي مستقيم ميله أو معادلته معلومة
$\alpha(\text{س}) =$ - مطلوب ميل المستقيم المعلوم	(٤) العمودي على التماس لمنحنى $\alpha(\text{س})$ يوازي مستقيم ميله معلوم أو معادلته معلومة
$\alpha(\text{س}) = \frac{\text{ص} - \text{ب}}{\text{س} - \text{ب}}$	(٥) التماس لمنحنى $\alpha(\text{س})$ يمر بالنقطة الخارجية (ب ، ب) أو التماس لمنحنى $\alpha(\text{س})$ مرسوم من النقطة الخارجية (ب ، ب)
$\alpha(\text{س}) = \frac{\text{س} - \text{ب}}{\text{ص} - \text{ب}}$	(٦) العمودي على التماس لمنحنى $\alpha(\text{س})$ يمر بالنقطة الخارجية (ب ، ب) أو العمودي على التماس لمنحنى $\alpha(\text{س})$ مرسوم من النقطة الخارجية (ب ، ب)

ملاحظات

- (١) إذا كان المماس والعمودي على المماس المنحني $(س)$ يصنعان مع محور السينات مثلث متساوي الساقين فإن $(س) = ظا٥٤$ ، $(س) = ظا٥٣$
- (٢) إذا كان المنحني $(س)$ مماس أفقي عند $(ب, پ)$ فإن $(پ) = ب$ ، $(پ) = صفر$
- (٣) لإثبات تعامد منحنيين نثبت ان حاصل ضرب ميلهما يساوي -١
- (٤) لإيجاد نقطة تعامد $(س)$ و $(هـ)$ فإننا نجد ميل الأول $(س)$ و ميل الثاني $(هـ)$ ثم نقوم بحل المعادلة $(س) \times (هـ) = -١$

خامسا : حساب الثوابت (المجاهيل)

الجدول التالي يبين حالات الميل المختلفة وما نستفيد في كل حالة

(١) إذا علمت قاعدة المماس $(س)$ وقاعدة المنحني $(س)$ فإننا نستطيع حساب مجهول (ثابت) واحد كما يلي : عند نقطة التماس فإن $(س) = (س)$ ، $(س) = (س) = (س)$
(٢) إذا علمت قاعدة المماس $(س)$ وقاعدة المنحني $(س)$ والأحداثي السيني لنقطة التماس $(پ, پ)$ فإننا نستطيع حساب مجهولين (ثابتين) كما يلي : عند نقطة التماس فإن $(پ) = (پ)$ ، $(پ) = (پ)$
(٣) إذا كان $(س)$ و $(هـ)$ متماسين عند النقطة $(ب, پ)$ أو لهما مماس مشترك عند النقطة $(ب, پ)$ فإننا نستطيع حساب ٤ مجاهيل (٤ ثوابت) كما يلي : عند نقطة التماس فإن $(پ) = (پ)$ ، $(پ) = (پ)$ ، $(پ) = (پ)$ ، $(پ) = (پ)$ ، $ب = ب$
(٤) إذا علمت مساحة مثلث أو إذا علمت مساحة شكل رباعي
(٥) إذا كان ميل المماس (علمت معادلة المماس) (قياس زاوية ميل المماس) عند النقطة $(ب, پ)$ يساوي $چ$ فإن $(پ) = ب$ ، $(پ) = (پ)$ ، $چ = چ$ أو $(پ) = (پ)$ = مشتقة معادلة المماس أو $(پ) =$ ظا قياس زاوية ميل المماس
(٦) إذا كان ميل العمودي على المماس (علمت معادلة العمودي) عند النقطة $(ب, پ)$ يساوي $چ$ فإن $(پ) = ب$ ، $(پ) = (پ)$ ، $چ = -\frac{1}{چ}$ أو $(پ) = (پ)$ = مشتقة معادلة العمودي

التطبيقات الفيزيائية

د. خالد جلال

٠٧٩٩٩٤٨١٩٨

- (١) إذا قطع جسم مسافة f خلال زمن قدرة t فإن المسافة f تكون اقتران في الزمن أي أن $f = v(t)$.
- (٢) السرعة المتوسطة $= \frac{f_2 - f_1}{t_2 - t_1}$ حيث $f_1 = v(t_1)$ ، $f_2 = v(t_2)$.
- (٣) السرعة اللحظية (سرعة الجسم عند أي لحظة) هي : $E = f = \frac{df}{dt}$.
- (٤) التسارع المتوسط $= \frac{E_2 - E_1}{t_2 - t_1}$.
- (٥) التسارع اللحظي (تسارع الجسم عند أي لحظة) هو : $T = E = \frac{dE}{dt} = f^{(2)}$.
- (٦) المتغيرات f ، E ، T جميعها اقترانات بالزمن t لذا غالبا لابد من معرفة قيمة t لإيجاد أي منها.
- (٧) القيم f ، E ، T تكون موجبة أو سالبة أو صفر ولكن $t \geq \text{صفر}$ دائما



الحركة الانفية

- (١) السرعة الابتدائية (السرعة انطلق بها الجسم أو السرعة تحرك بها الجسم) تعني $E = 0$.
- (٢) انعدام السرعة أو سكون الجسم يعني أن $E = 0$.
- (٣) انعدام التسارع يعني أن $T = 0$.
- (٤) عدد حلول المعادلة $E = 0$ يمثل عدد مرات توقف الجسم.
- (٥) لإثبات أن الجسم لا يتوقف أثناء حركته نبرهن أن المعادلة $E = 0$ ليس لها حل.
- (٦) مجموعة قيم الزمن t التي عندها السرعة سالبة تعني أن المطلوب $t > E$.
- (٧) مجموعة قيم الزمن t التي عندها السرعة موجبة تعني أن المطلوب $t < E$.
- (٨) متى يتحرك الجسم بعكس اتجاه الحركة يعني أن المطلوب $t > E$.
- (٩) لإثبات أن الجسم لا يغير من اتجاه حركته نبرهن أن $E < 0$ دائما.
- (١٠) معادلة الحركة تكون علاقة ضمنية إذا كانت f مرفوعة لقوة لا تساوي ١ أو تحتوي على f ، E

الحركة الرأسية

د. خالد جلال

٠٧٩٩٩٤٨١٩٨

(١) الجسم متدوف من سطح الأرض

كما بالشكل المجاور:

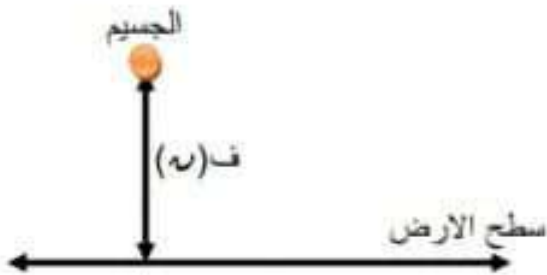
(أ) عند أقصى ارتفاع فإن $v = 0$

(ب) زمن أقصى ارتفاع h نجده من حل المعادلة $v = 0$

(ج) أقصى ارتفاع يعني $v = 0$ عند $h = 0$

(د) الزمن الذي بعده يعود لسطح الأرض (زمن التطبيق) $= 2 \times$ زمن أقصى ارتفاع

(هـ) عند وصول الجسم سطح الأرض (ارتظام الجسم بسطح الأرض) فإن $v = 0$ ، $v > 0$



(٢) الجسم متدوف من سطح بناية لأعلى

كما بالشكل المجاور:

(أ) لإيجاد أي مطلوب بالنسبة لسطح البناية نستخدم معادلة الحركة $v_1(h)$

(ب) لإيجاد أي مطلوب بالنسبة لسطح الأرض نستخدم معادلة الحركة $v_2(h)$

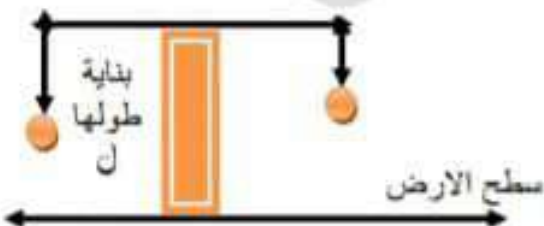
حيث $v(h) =$ ارتفاع البناية + معادلة الحركة المعطاة

$$v_1(h) + L = v_2(h)$$



(٣) الجسم متدوف من سطح بناية للأسفل

سقوط حر او سقوط تحت تأثير قوة



النقط الحرجة ، التزايد والتناقص ، نقط القيم القصوى المحلية ، نقط القيم القصوى المطلقة ، التقعر للأعلى وللأسفل ونقط الانعطاف

إذا علمت قاعدة الاقتران \cup

قيم s الحرجة للاقتران \cup (س)

تعريف : نسمى النقطة $s = \mu$ نقطة **حرجة** للاقتران \cup (س) إذا كان $\mu \in (P) = \text{صفر أو } \mu \in (P)$ غير موجودة بشرط $s = \mu$ تقع ضمن مجال \cup (س).

لايجاد قيم s الحرجة لمنحنى \cup (س) نتبع الخطوات التالية :

نوع المعادلة \cup (س) = صفر	قيم s التي عندها \cup (س) غير موجودة هي
خطية	نقطة عندها \cup غير متصل
تربيعية	نقطة عندها \cup متصل ولكن \cup (س) $\neq \cup$ (س)
تكعيبية	اصفار مقام المشتقة
كسرية	اطراف الفترة المغلقة
مثلثية	الرؤوس المدببة

(١) نبحث في اتصال على مجاله \cup (س)

(٢) نجد \cup (س)

(٣) نجد قيم s التي عندها \cup (س) = صفر

(٤) نجد قيم s التي عندها \cup (س) غير موجودة

(٥) نختار من الخطوتين (٣) ، (٤) القيم التي تقع

ضمن مجال \cup (س) فتكون هي قيم s الحرجة

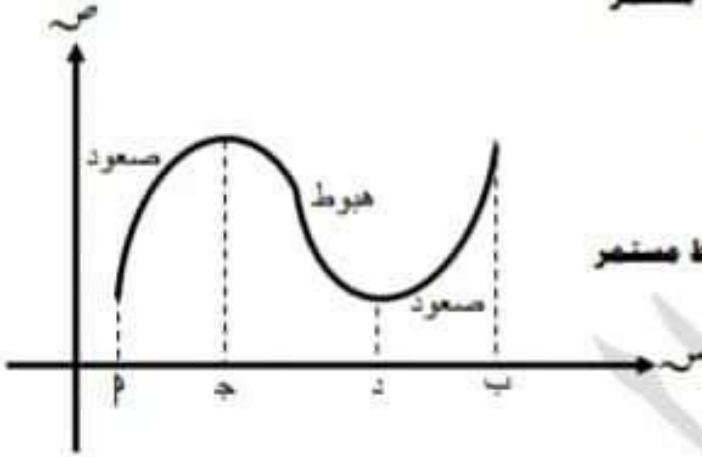
ملاحظات

قيم s الحرجة للاقتران الثابت المعرف على الفترة $[a, b]$ هي الفترة $[a, b]$.

قيم s الحرجة لاقتران أكبر عدد تصحيح على الفترة $[a, b]$ هي الفترة $[a, b]$.

اطراف الفترة المغلقة $[a, b]$ تعتبر نقطة حرجة .

التزايد و التناقص لمنحنى الاقتران $f(x)$



- (١) معنى التزايد هندسياً : أن منحنى $f(x)$ في صعود مستمر
- (٢) معنى التزايد جبرياً : أنه كلما زادت قيمة x ازدادت قيمة $f(x)$ ونعبر عن ذلك رياضياً كالتالي
لكل $x_1 < x_2$ فإن $f(x_1) < f(x_2)$
- (٣) معنى التناقص هندسياً : أن منحنى $f(x)$ في هبوط مستمر
- (٤) معنى التناقص جبرياً : أنه كلما زادت قيمة x قلت قيمة $f(x)$ ونعبر عن ذلك رياضياً كالتالي
لكل $x_1 < x_2$ فإن $f(x_1) > f(x_2)$

إيجاد فترات التزايد والتناقص لمنحنى $f(x)$ نضع الخطوات التالية :

- (١) نبحث في اتصال على مجاله $f(x)$
- (٢) نجد $f'(x)$
- (٣) نجد قيم x التي عندها $f'(x) = 0$
- (٤) نجد قيم x التي عندها $f'(x)$ غير موجودة
- (٥) نرسم خط $f'(x)$ ونعين عليه قيم x السابقة ثم نحدد الإشارة داخل كل فترة
- (٦) مراعاة النظرية التالية :

$$f'(x) < 0 \Leftrightarrow f(x) \text{ متزايد} \quad \text{ب) } f'(x) > 0 \Leftrightarrow f(x) \text{ متناقص}$$

$$f'(x) = 0 \Leftrightarrow f(x) \text{ ثابت}$$

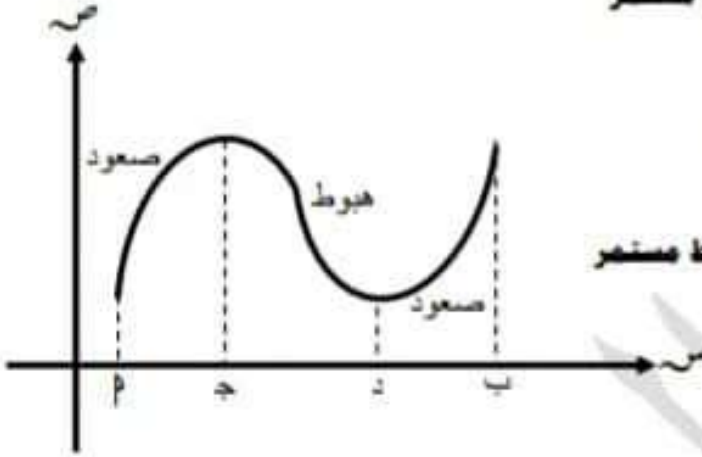
- (٧) نكتب فترات التزايد والتناقص بدءاً من جهة اليسار



د. خالد جلال

٠٧٩٩٩٤٨١٩٨

التزايد و التناقص لمنحنى الاقتران $f(x)$



- (١) معنى التزايد هندسياً : أن منحنى $f(x)$ في صعود مستمر
- (٢) معنى التزايد جبرياً : أنه كلما زادت قيمة x ازدادت قيمة $f(x)$ ونعبر عن ذلك رياضياً كالتالي
لكل $x_1 < x_2$ فإن $f(x_1) < f(x_2)$
- (٣) معنى التناقص هندسياً : أن منحنى $f(x)$ في هبوط مستمر
- (٤) معنى التناقص جبرياً : أنه كلما زادت قيمة x قلت قيمة $f(x)$ ونعبر عن ذلك رياضياً كالتالي
لكل $x_1 < x_2$ فإن $f(x_1) > f(x_2)$

إيجاد فترات التزايد والتناقص لمنحنى $f(x)$ نضع الخطوات التالية :

- (١) نبحث في اتصال على مجاله $f(x)$
- (٢) نجد $f'(x)$
- (٣) نجد قيم x التي عندها $f'(x) = 0$
- (٤) نجد قيم x التي عندها $f'(x)$ غير موجودة
- (٥) نرسم خط $f'(x)$ ونعين عليه قيم x السابقة ثم نحدد الإشارة داخل كل فترة
- (٦) مراعاة النظرية التالية :

$$\begin{aligned}
 (أ) \quad f'(x) < 0 &\Leftrightarrow f(x) \text{ متزايد} & (ب) \quad f'(x) > 0 &\Leftrightarrow f(x) \text{ متناقص} \\
 (ج) \quad f'(x) = 0 &\Leftrightarrow f(x) \text{ ثابت}
 \end{aligned}$$

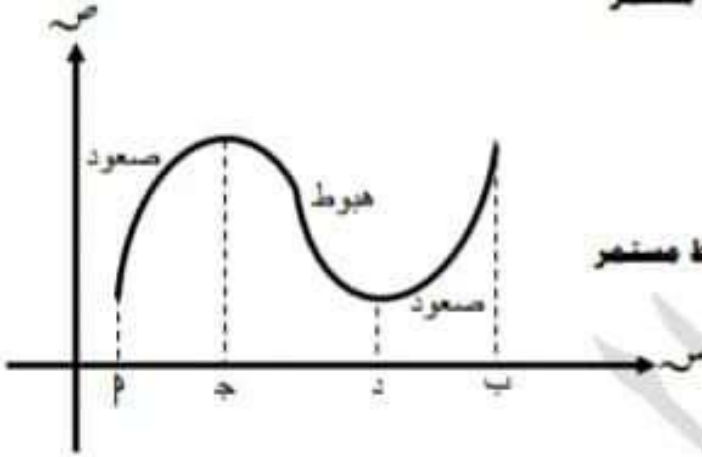
- (٧) نكتب فترات التزايد والتناقص بدءاً من جهة اليسار



د. خالد جلال

٠٧٩٩٩٤٨١٩٨

التزايد و التناقص لمنحنى الاقتران $f(x)$



- (١) معنى التزايد هندسياً : أن منحنى $f(x)$ في صعود مستمر
- (٢) معنى التزايد جبرياً : أنه كلما زادت قيمة x ازدادت قيمة $f(x)$ ونعبر عن ذلك رياضياً كالتالي
لكل $x_1 < x_2$ فإن $f(x_1) < f(x_2)$
- (٣) معنى التناقص هندسياً : أن منحنى $f(x)$ في هبوط مستمر
- (٤) معنى التناقص جبرياً : أنه كلما زادت قيمة x قلت قيمة $f(x)$ ونعبر عن ذلك رياضياً كالتالي
لكل $x_1 < x_2$ فإن $f(x_1) > f(x_2)$

إيجاد فترات التزايد والتناقص لمنحنى $f(x)$ نضع الخطوات التالية :

- (١) نبحث في اتصال على مجاله $f(x)$
- (٢) نجد $f'(x)$
- (٣) نجد قيم x التي عندها $f'(x) = 0$
- (٤) نجد قيم x التي عندها $f'(x)$ غير موجودة
- (٥) نرسم خط $f'(x)$ ونعين عليه قيم x السابقة ثم نحدد الإشارة داخل كل فترة
- (٦) مراعاة النظرية التالية :

$$f'(x) < 0 \Leftrightarrow f(x) \text{ متزايد} \quad \text{ب) } f'(x) > 0 \Leftrightarrow f(x) \text{ متناقص}$$

$$f'(x) = 0 \Leftrightarrow f(x) \text{ ثابت}$$

- (٧) نكتب فترات التزايد والتناقص بدءاً من جهة اليسار



د. خالد جلال

٠٧٩٩٩٤٨١٩٨

إذا علمت رسمه (منحنى) الاقتران ٢

منحنى الاقتران ٢ (س)	
<p>١) المساطة المسببية لنقط القمة والفاغ ٢) نقط عدم الاتصال (الفترة ، الخلفة) ٣) فترة يكون فيها منحنى ٢ (س) خط مستقيم يوازي محور السينات ٤) اطراف الفترة الخلفة المعرف عليها الاقتران ٢ (س) ٥) الرأس المدبب</p>	قيم من الدرجة
<p>نبدأ الحركة على منحنى ٢ (س) من جهة اليسار ١) اذا طالع على منحنى ٢ (س) فانه متزايد في هذه الفترة ٢) اذا نازل على منحنى ٢ (س) فانه متناقص في هذه الفترة</p>	فترات التزايد والتناقص
<p>من شكل المنحنى فإن ١) القمة هي نقطة عظمى محلية ٢) الفاع هي نقطة صغرى محلية</p>	نقط القيم القصوى المحلية
<p>من شكل المنحنى فإن ١) فتحة المنحنى للأسفل فإن ٢ (س) مقعر للأسفل ٢) فتحة المنحنى للأعلى فإن ٢ (س) مقعر للأعلى</p>	فترات التفرع
<p>هي النقطة المشتركة بين فترتي التفرع</p>	نقطة الانعطاف

منحنى الاقتران ٢ (س)

نحول رسمه ٢ (س) الى خط ٢ (س) ومنه نستطيع ايجاد ما يلي :

- ١) فترات التفرع للأعلى وللأسفل لمنحنى الاقتران ٢ (س)
- ٢) نقط الانعطاف لمنحنى الاقتران ٢ (س)
- ٣) نقط القيم القصوى لمنحنى الاقتران ٢ (س) اذا علمت قيم من الدرجة للاقتران ٢ (س)
- ٤) فترات التزايد والتناقص لمنحنى الاقتران ٢ (س) اذا علمت قيم من الدرجة للاقتران ٢ (س)

منحنى الاقتران \curvearrowright (س)

<p>(١) المسانط المصنعية لنقط تقاطع منحنى \curvearrowright (س) مع محور السينات (٢) نقط عدم الاتصال (الفقرة ، الطلقة) (٣) اطراف الفترة المغلقة المعرف عليها الاقتران \curvearrowright (س)</p>	<p>قيم س الدرجة</p>
<p>تحول رسمه \curvearrowright (س) الى خط \curvearrowright (س)</p>	<p>فترات التزايد والتناقص</p>
<p>بجدها من خط \curvearrowright (س)</p>	<p>نقط القيم القصوى المحلية</p>
<p>نبدأ الحركة على منحنى \curvearrowright (س) من جهة اليسار (١) طالع على منحنى \curvearrowright (س) فإن \curvearrowright (س) مقعر للأعلى (٢) نازل على منحنى \curvearrowright (س) فإن \curvearrowright (س) مقعر للأسفل</p>	<p>فترات التغير</p>
<p>هي النقطة المشتركة بين فترتي التغير</p>	<p>نقطة الانعطاف</p>

حساب الثوابت (المجاهيل)

إيجاد الثوابت (المجاهيل) نستفيد مما يلي :

<p>(١) منحنى يمر بالنقطة (ب، ٠) \Leftrightarrow \curvearrowright (ب) = ٠</p>	<p>(٢) (ب، ٠) نقطة درجة للاقتران \curvearrowright (س) نقطة عظمى للاقتران \curvearrowright (س) نقطة صغرى للاقتران \curvearrowright (س) نقطة قصوى للاقتران \curvearrowright (س)</p>
<p>\curvearrowright (ب) = ٠ ، صفر ، \curvearrowright (ب) = ٠ . ب .</p>	<p>(٣) (ب، ٠) نقطة انعطاف للاقتران \curvearrowright (س) \Leftrightarrow \curvearrowright (ب) = ٠ ، صفر ، \curvearrowright (ب) = ٠ . ب .</p>



د. خالد جلال

٠٧٩٩٩٤٨١٩٨



تطبيقات القيم القصوى

د. خالد جلال

٠٧٩٩٩٤٨١٩٨

يتميز هذا النوع من الاسئلة **بالكلمات الآتية** :

(١) **أكبر ما يمكن** وتعني قيمة عظمى مطلقة .

(٢) **اصغر ما يمكن** وتعني قيمة صغرى مطلقة .

و **أي كلمة** على وزن **افعل** (اقرب ، ادنى ، اقل ،)

لحل هذا النوع من الاسئلة نتبع الخطوات الآتية :

(١) تحديد على من تعود كلمة أكبر او اصغر والذي تعود عليه هو الاقتران المطلوب .

(٢) نكتب الاقتران \cup بالعربي (قانون من قوانين المساحات والحجوم او)

مثال : \cup = مساحة المستطيل أكبر ما يمكن

$$= \text{الطول} \times \text{العرض}$$

(٣) رسم شكل يوضح معطيات السؤال ان امكن .

(٤) فرض الرموز على الرسم {س ، ص} ثم نعوض بالاقتران فيصبح بمتغيرين .

(٥) نجعل الاقتران **بمتغير واحد** س او ص (وذلك بالبحث عن علاقة **مساعدة** تربط بين س و ص) تكون

موجوده **بمعطيات السؤال** او **من خلال الرسم** او من الاثنين معا .

من **الرسم** نستطيع أن نجد احد **العلاقات المساعدة**

* نظرية فيثاغورس * التشابه * نسبة مثلثية * قاعدة جيب التمام

(٥) نفس الخطوات ايجاد القيم القصوى مع اهمال بحث الاتصال وإهمال قيم المتغير التي عندها المشتقة غير موجودة .

متطلبات حل هذا السؤال:

(١) **طريقة الحل** المشار اليها بالخطوات **السابقة** .

(٢) **مهارتك** بقوانين المساحات والحجوم والمسافة بين نقطتين وكل العلاقات الهندسية التي سبق لك دراستها .

(٣) **المهارة** في حل المعادلات (خطية ، تربيعية ، تكعيبية ، كسرية ، مثلثية) .



المعدلات المرتبطة بالزمن

د. خالد جلال

٠٧٩٩٩٤٨١٩٨

يتميز هذا النوع من الاسئلة **بالكلمات الاتية** :

- (١) **معدل**
وكل منهما تعني **المشتقة** بالنسبة للزمن
- (٢) **سرعة**

لحل هذا النوع من الاسئلة نتبع الخطوات الاتية :

- (١) **رسم** شكل يوضح معطيات السؤال عند اي لحظة t .
- (٢) **فرض** الرموز على الرسم {س، ص، ف، ل، م، ح، ه،}.
- (٣) **كتابة** (المعدل) المعدلات المعطاة والمعدل المطلوب مع تحديد اشارة (المعدل) المعدلات المعطاة.
- (٤) **تحديد** العلاقة التي تربط بين الرموز المفروضة.
- (٥) **نشتق** العلاقة السابقة ضمناً بالنسبة للزمن فينتج المطلوب.

ملاحظات :

- (١) اي جسم متحرك لم تعط ابعاده نعتبره نقطة متحركة.
- (٢) اذا ذكر في السؤال تناقص فان المعدل يكون سالب.
- (٣) اذا ذكر في السؤال تزايد فان المعدل يكون موجب.
- (٤) اذا **لم يذكر** شيء نعتمد على الرمز المفروض **فمثلاً**: اذا كانت المسافة **تزداد** بازدياد الزمن فان المعدل يكون موجب ، اذا كانت المسافة **تقل** بازدياد الزمن فان المعدل يكون سالب وهكذا بالنسبة لبقية الرموز.
- (٥) قد نحتاج في بعض الاسئلة ان نجعل العلاقة بدلالة متغير **واحد**.



دار العلوم الدولية للتدريب
Dar Al-Ilm International For Training
Member Of Al-Qadiri Group

تعلم أكاديمية دار العلوم للتدريب من فتح باب التسجيل لدورات الفصل الثاني 2020/2019

د. خالد جلال

لمادة الرياضيات للأستاذ القدير



طلاب وطالبات التوجيهي الفرع العلمي
(سجل المستوى الرابع)
واحصل على **دورة مجانية** في الوحدة الثالثة
(تطبيقات التفاضل)

عمان - شارع المدينة المنورة - مقابل ملاحم أبو حنيفة - عمارة رقم 114 - الطابق الرابع
0782277984



المعدلات المرتبطة بالزمن

د. خالد جلال

٠٧٩٩٩٤٨١٩٨

يتميز هذا النوع من الاسئلة **بالكلمات الاتية** :

- (١) **معدل**
وكل منهما تعني **المشتقة** بالنسبة للزمن
- (٢) **سرعة**

لحل هذا النوع من الاسئلة نتبع الخطوات الاتية :

- (١) **رسم** شكل يوضح معطيات السؤال عند اي لحظة t .
- (٢) **فرض** الرموز على الرسم {س، ص، ف، ل، م، ح، ه،}.
- (٣) **كتابة** (المعدل) المعدلات المعطاة والمعدل المطلوب مع تحديد اشارة (المعدل) المعدلات المعطاة.
- (٤) **تحديد** العلاقة التي تربط بين الرموز المفروضة.
- (٥) **نشتق** العلاقة السابقة ضمناً بالنسبة للزمن فينتج المطلوب.

ملاحظات :

- (١) اي جسم متحرك لم تعط ابعاده نعتبره نقطة متحركة.
- (٢) اذا ذكر في السؤال تناقص فان المعدل يكون سالب.
- (٣) اذا ذكر في السؤال تزايد فان المعدل يكون موجب.
- (٤) اذا **لم يذكر** شيء نعتمد على الرمز المفروض **فمثلاً**: اذا كانت المسافة **س** **تزداد** بازدياد الزمن فان المعدل يكون موجب ، اذا كانت المسافة **ل** **تقل** بازدياد الزمن فان المعدل يكون سالب وهكذا بالنسبة لبقية الرموز.
- (٥) قد نحتاج في بعض الاسئلة ان نجعل العلاقة بدلالة متغير **واحد**.



دار العلوم الدولية للتدريب
Dar Al-Ilm International For Training
Member Of Al-Qadiri Group

تعلم أكاديمية دار العلوم للتدريب من فتح باب التسجيل لدورات الفصل الثاني 2020/2019

د. خالد جلال

لمادة الرياضيات للأستاذ القدير



طلاب وطالبات التوجيهي الفرع العلمي
(سجل المستوى الرابع)
واحصل على **دورة مجانية** في الوحدة الثالثة
(تطبيقات التفاضل)

عمان - شارع المدينة المنورة - مقابل ملاحم أبو حنيفة - عمارة رقم 114 - الطابق الرابع
0782277984