


نماذج اختبارات
الفصل الثاني



الاختبار الأول

السؤال الأول (٨ علامات)

أضع دائرة حول رمز الإجابة الصحيحة فيما يأتي:

١- ما العنصر الذي وفرته السهول لسكان القرية؟

- أ- الحماية ب- سهولة المواصلات. ج- توفر المعادن د- توفر الصناعة.

٢- ما التحدي الرئيسي الذي تواجهه الثروة السمكية في فلسطين؟

- أ- سياسة الاحتلال الصهيوني. ب- قلة كمية الأسماك. ج- عدم وجود بحار. د- عدم وجود صيادين.

٣- أين تقع قرية جرمو؟

- أ- الأردن ب- مصر ج- فلسطين د- العراق.

٤- ما الذي جعل العلاقات الاجتماعية في القرى قوية؟

- أ- زيادة عدد السكان. ب- كثرة الاعمال التي يقومون بها. ج- معرفتهم وحاجتهم لبعضهم. د- وجود الكثير من الغرباء بينهم.

السؤال الثاني (٨ علامات)

أكمل الفراغات في الجمل الآتية بما يناسبها:

١- من العوامل التي أسهمت في نشأة المدن: و.....

٢- ظهرت الدول والحضارات منذ القدم مثل الحضارة الكنعانية في: والحضارة البابلية في

٣- من المظاهر الثقافية التي تعرض في المهرجانات الدولية: و

٤- تؤدي الحروب إلى: و.....

السؤال الثالث: (١٠ علامات)

أ: عدد المهن التي يعمل بها سكان القرية في الوقت الحاضر. (٤ علامات)

ب: أستنتج حاجة الإنسان إلى تطوير أدواته. (٤ علامات)

ج: اذكر أربعة قرى هجر سكانها بفعل العصابات الصهيونية. (علامتان)

السؤال الرابع (١٠ علامات)

أ: عدد وسائل الاتصال الحديثة. (٤ علامات)

ب: بين العوامل التي أدت إلى نشوء القرى الزراعية. (٤ علامات)

ج: استنتج واجبك تجاه الحيوانات البرية. (علامتان)

السؤال الخامس: (١٠ علامات)

أ: ما المقصود بالعلاقات السياسية؟ (علامتان)

ب: بين مقومات الدولة وأركانها. (٤ علامات)

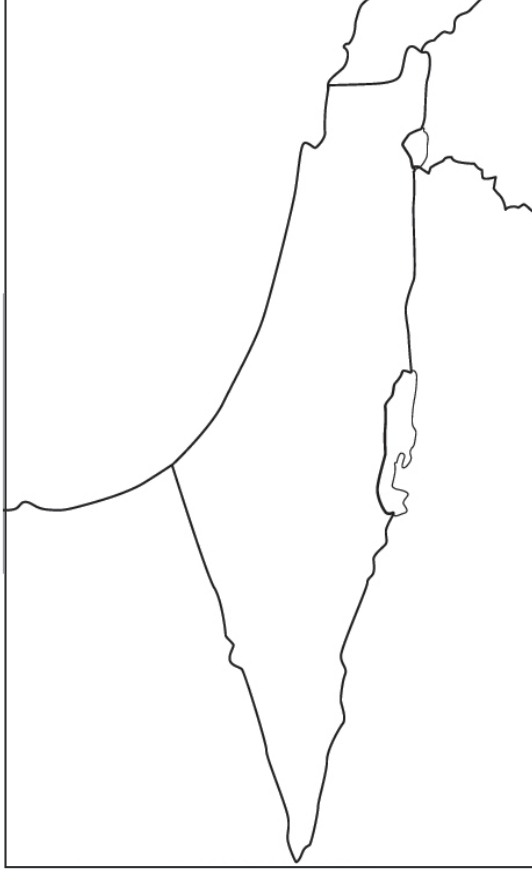
ج: ذكر الآثار المترتبة على الحروب. (٤ علامات)

السؤال السادس: (١٤ علامة)

(٦ علامات)

أ- عيّن على خريطة فلسطين الصّماء المدن الآتية:

- ١- حيفا ٢- القدس ٣- صفد ٤- بئر السبع ٥- لبنان ٦- مصر



(٤ علامات)

ب- استنتج أهمية الإنتاج الزراعي في الريف الفلسطيني.

(٤ علامات)

ج- قدّم مثلاً على كل من العلاقات الآتية من خلال الجدول:

نوع العلاقة الاجتماعية	مثال على العلاقة الاجتماعية
علاقة المجتمع	
علاقة العمل	
علاقة الحي	
علاقة الأسرة	

انتهت الأسئلة

إجابة الاختبار الأول

◀ إجابة السؤال الأول: (٨ علامات)

أضع دائرة حول رمز الإجابة الصحيحة فيما يأتي:

- ١- ب ٢- أ ٣- د ٤- ج

◀ إجابة السؤال الثاني: (٨ علامات)

أكمل الفراغات في الجمل الآتية بما يناسبها:

- ١- تطور القرى والحرف والصناعات والموقع الاستراتيجي.
- ٢- الكنعانية في فلسطين، والحضارة البابلية في العراق.
- ٣- الملابس والدبكات والأكلات الشعبية والصناعات التراثية.
- ٤- إلى الخراب والدمار وقتل أعداد كبيرة من الناس وتدمير البيئة وتلوثها.

◀ إجابة السؤال الثالث: (١٠ علامات)

أ- أعدد المهن التي يعمل بها سكان القرية في الوقت الحاضر.

(٤ علامات)

- الزراعة - تربية الحيوانات - التجارة - الحرف - الوظائف .

(٤ علامات)

ب- استنتج حاجة الإنسان إلى تطوير أدواته.

السؤال استدلالي يعتمد على اجابة الطلبة.

- لزيادة أعداد السكان وزيادة احتياجاتهم.

- لتنوع احتياجات الناس من السلع.

- لتوفير المواد الغذائية والصناعية.

- توفير الوقت والجهد.

- توفير الأموال من خلال استخدام الآلات مكان لإنسان في الزراعة والصناعة وغيرها.

(علامتان)

ج- أذكر أربعة قرى هجر سكانها بفعل العصابات الصهيونية.

- عراق المنشية - عين كارم - القسطل - لفتا - هربيا - بيت عفا

◀ إجابة السؤال الرابع: (١٠ علامات)

أ- أعدد وسائل الاتصال الحديثة.

(٤ علامات)

- وسائل الاتصال المقروءة مثل الصحف والمجلات .

- وسائل اتصال مسموعة ومرئية من خلال القنوات الفضائية التلفازية والإذاعية.

- الأجهزة الذكية، مثل الحاسوب والهاتف النقال.

- الشبكة العنكبوتية (الإنترنت) من خلال وسائل التواصل الاجتماعي.

(٤علامات)

ب- أبين العوامل التي أدت إلى نشوء القرى الزراعية.

■ ممارسة الزراعة.

■ الحاجة إلى توفير الأمن والحماية والتعاون، والدفاع عن النفس.

■ التعاون في المجالات الاقتصادية والاجتماعية.

(علامتان)

ج- أستنتج واجبي اتجاه الحيوانات البرية.

واجبي اتجاه الحيوانات البرية هو المحافظة عليها، وعدم صيدها، وعدم الاعتداء على صغارها أو بيوضها.

◀ إجابة السؤال الخامس: (١٠ علامة)

(علامتان)

أ- ما المقصود بالعلاقات السياسية؟

هي أشكال التفاعل جميعها بين الدول من أجل تحقيق مصالح مشتركة، مثل الأمن والاستقرار ومنع الحروب.

(٤علامات)

ب- أبين مقومات الدولة وأركانها.

- الإقليم - الشعب - السُلطة السياسية - السيادة - الاعتراف الدولي.

(٤علامات)

ج- أذكر الآثار المترتبة على الحروب.

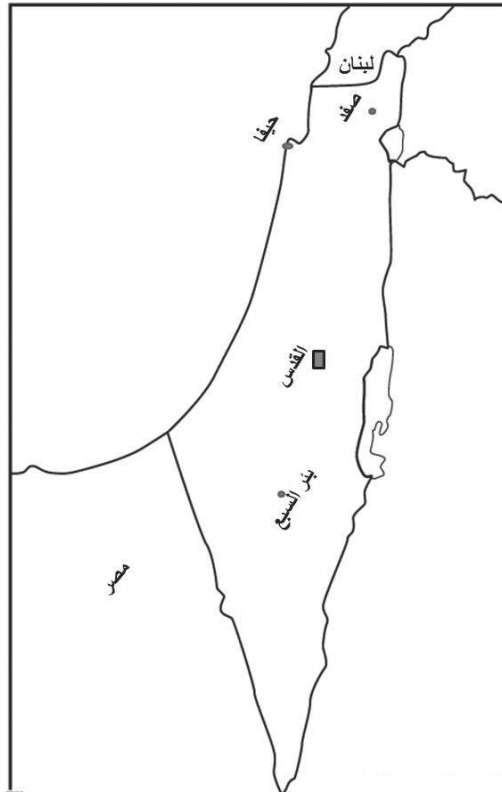
- الخراب - الدمار - قتل اعداد كبيرة من الناس - تدمير البيئة وتلويثها

◀ إجابة السؤال السادس: (١٤ علامة)

(٦ علامات)

أ- أعيّن على خريطة فلسطين الصّماء المدن الآتية:

١- حيفا ٢- القدس ٣- صفد ٤- بئر السبع ٥- لبنان ٦- مصر



(٤ علامات)

ب- أستنتج أهمية الإنتاج الزراعي في الريف الفلسطيني؟

السؤال استدلالي يعتمد على إجابات الطلبة.

■ الإسهام في تحقيق الاكتفاء الذاتي من المواد الغذائية.

■ التقليل من البطالة من خلال الأعمال الزراعية.

■ زيادة الدخل من خلال المنتجات الزراعية.

■ الإسهام في الصناعات الغذائية.

(٤ علامات)

ج- أقدم مثالا على كل من العلاقات الآتية من خلال الجدول:

نوع العلاقة الاجتماعية	مثال على العلاقة الاجتماعية
علاقة المجتمع.	الإسهام في الأعمال التطوعية.
علاقة العمل.	العمل بروح الفريق.
علاقة الحي.	التعاون في نظافة الحي.
علاقة الأسرة.	التعاون بين أفراد الأسرة في الأعمال المنزلية.

انتهت الإجابة

الاختبار الثاني

السؤال الأول: (١٠ علامات)

- أضع إشارة (٧) مقابل العبارة الصحيحة، وإشارة (x) مقابل العبارة غير الصحيحة فيما يأتي:
- ١- استخدم الإنسان قديماً أدوات زراعية بسيطة صنعها من الحجارة والعظام والأخشاب.
 - ٢- بنى أجدادنا بيوتهم من الإسمنت والحجارة في المناطق الجبلية.
 - ٣- أدى اكتشاف الإنسان للزراعة إلى استقراره بجانب الأراضي والحقول التي قام بزراعتها.
 - ٤- زيارتنا لزميل مريض من المدرسة هي علاقة اجتماعية أسرية.
 - ٥- يقوم الاقتصاد في معظم القرى الفلسطينية على الصناعات المختلفة.

السؤال الثاني: (١٠ علامات)

أكمل الفراغات في الجمل الآتية بما يناسبها:

- ١- تواجه الثروة الحيوانية في فلسطين تحديات ومشاكل، منها و
- ٢- نشأت بعض المدن نتيجة وقوعها على خطوط التجارة كمدن و
- ٣- من الموضوعات التي يبحث فيها الدستور الفلسطيني الحقوق، مثل و
- ٤- تبادل شعوب العالم المعارف والثقافات مع بعضها بعضاً من خلال: و
- ٥- من مجالات التعاون في العلاقات السياسية بين الدول: و

السؤال الثالث: (١٠ علامات)

أ- أصنف المحاصيل الآتية إلى محاصيل بعلية ومحاصيل مروية. (٦ علامات)

القمح، البامية، الفستق، التين، الأزهار، القطن

وجه المقارنة	المحصول
محاصيل بعلية	
محاصيل مروية	

ب- أفسر سبب قيام الاحتلال الصهيوني بتدمير ٥٠٠ قرية فلسطينية وتهجير سكانها الأصليين عام ١٩٤٨ م. (٤ علامات)

السؤال الرابع: (١٠ علامات)

- أ- أعدد خصائص المدينة.
- ب- أبين خصائص بيوت القرى الزراعية القديمة.
- ج- أعلل: تسعى بعض الدول إلى التعاون مع بعضها بعضاً.

السؤال الخامس: (١٢ علامات)

- أ- أبين أهمية الكتابة للإنسان.
- ب- أوضّح مجالات التعاون في العلاقات السياسية بين الدول.

(٤ علامات)

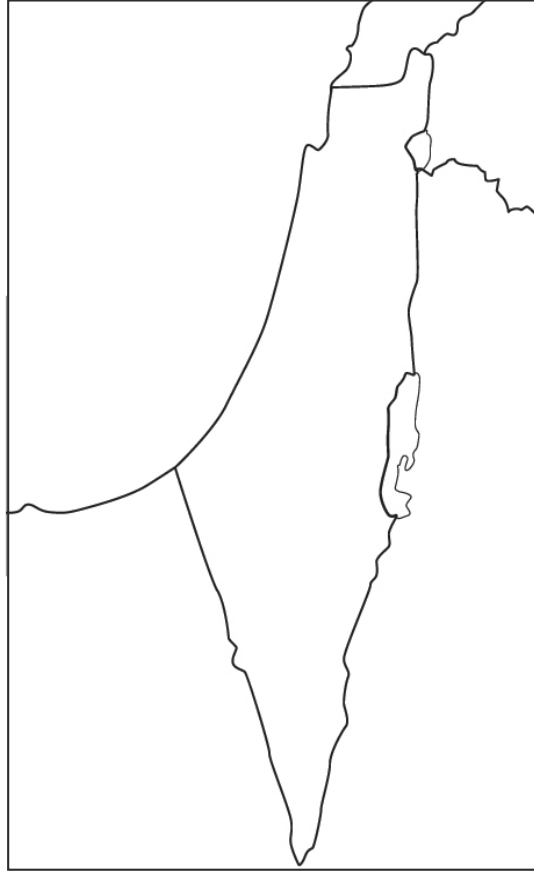
ج- أناقش العبارة الآتية: لم يقم الإنسان بتدجين الحيوانات جميعها واكتفى ببعضها.

السؤال السادس: (٨ علامات)

(٤ علامات)

أ- أعيّن على خريطة فلسطين الصّماء المعابر والموانئ الفلسطينية الآتية:

١- ميناء حيفا. ٢- مطار غزة. ٣- معبر الكرامة. ٤- معبر رفح.



(٤ علامات)

ب- أقدم رأيي بشكل العلاقات الاجتماعية قديماً واليوم.

انتهت الأسئلة

إجابة الاختبار الثاني

إجابة السؤال الأول: (١٠ علامات)

أضع إشارة (v) مقابل العبارة الصحيحة، وإشارة (x) مقابل العبارة غير الصحيحة فيما يأتي:

- ١- -١ ٢- x ٣- ٤- x ٥- x

إجابة السؤال الثاني: (١٠ علامات)

أكمل الفراغات في الجمل الآتية بما يناسبها:

- ١- ضيق مساحة المراعي، ومصادرة الاحتلال مساحات واسعة من الأراضي، والزحف العمراني عليها، وارتفاع أسعار الأعلاف والأدوية اللازمة لها.
- ٢- صور وصيدا وغزة.
- ٣- الحق في التعبير عن الرأي، وحق اللعب للأطفال، وحق التعليم وحق المساواة.
- ٤- المهرجانات الثقافية ومعارض الكتب والزيارات السياحية.
- ٥- الدفاع والحماية وتبادل السفارات.

إجابة السؤال الثالث: (١٠ علامات)

(٦ علامات)

أ- أصنّف المحاصيل الآتية محاصيل بعلية ومحاصيل مروية.

القمح، البامية، الفستق، التين، الأزهار، القطن

المحصول	وجه المقارنة
القمح، التين، البامية	محاصيل بعلية
الفستق، الأزهار، القطن	محاصيل مروية

ب- أفسّر سبب قيام الاحتلال الصهيونيّ بتدمير ٥٠٠ قرية فلسطينية، وتهجير سكّانها الأصليين عام ١٩٤٨م. (٤ علامات)

السؤال استدلالي يعتمد على إجابة الطالب.

لتفريغ المنطقة الفلسطينية من السكّان.

لإقامة دولة صهيونية.

لاستغلال الأراضي الفلسطينية.

لترويع السكّان الفلسطينيين.

إجابة السؤال الرابع: (١٠ علامات)

(٤ علامات)

أ- أعدد خصائص المدينة.

■ كثرة عدد سكانها.

■ اتساع مساحتها .

■ يعمل سكانها بالتجارة والصناعة والوظائف .

■ تشكل مركزاً للنشاط التجاري والصناعي، وتوفر الخدمات بشكل كبير .

(٤ علامات)

ب- أيبين خصائص بيوت القرى الزراعية القديمة.

■ كانت بيوت القرى الزراعية القيمة تُبنى من الطين .

■ كانت البيوت تتخذ الشكل الدائري او الشكل المستطيل .

■ كانت قريبة ومتلاصقة تربط بينها طرق وممرات ضيقة .

■ احتوت البيوت على أماكن لخرن الحبوب ولتربية الحيوانات .

(علامتان)

ج- أعلل: تسعى بعض الدول إلى التعاون مع بعضها بعضاً.

من أجل تحقيق الأمن والاستقرار .

◀ إجابة السؤال الخامس: (١٢ علامات)

(٤ علامات)

أ- أيبين أهمية الكتابة للإنسان .

■ نقل المعرفة والعلوم المختلفة بين الناس والشعوب .

■ تعدّ الكتابة وسيلة للاتصال والتواصل .

■ التعبير بين البشر .

■ تدوين تاريخ وثقافة الأمم والشعوب .

■ حفظ حقوق الناس من الضياع .

■ وسيلة للتعليم والتعلم .

(٤ علامات)

ب- أوضّح مجالات التعاون في العلاقات السياسية بين الدول .

■ الدفاع والحماية: تعقد بعض الدول اتفاقيات مع دول أخرى، من أجل حمايتها من الأخطار المحيطة بها، حيث تتطلب الدول

الضعيفة الحماية من الدول القوية، وتسعى بعض الدول إلى التعاون مع بعضها بعضاً من أجل تحقيق الأمن والاستقرار .

■ تبادل السفارات بين الدول لتحقيق التعاون بينها في مختلف المجالات .

(٤ علامات)

ج- أناقش العبارة الآتية: «لم يقم الإنسان جميع الحيوانات جميعها واكتفى ببعضها» .

السؤال استدلالي يعتمد على إجابات الطلبة .

■ بسبب حاجته إلى بعض الحيوانات وليس جميعها .

■ بسبب عدم قدرته على تطويعها جميعاً .

■ لأن بعضها كان مفترساً، ويشكل خطراً على حياته .

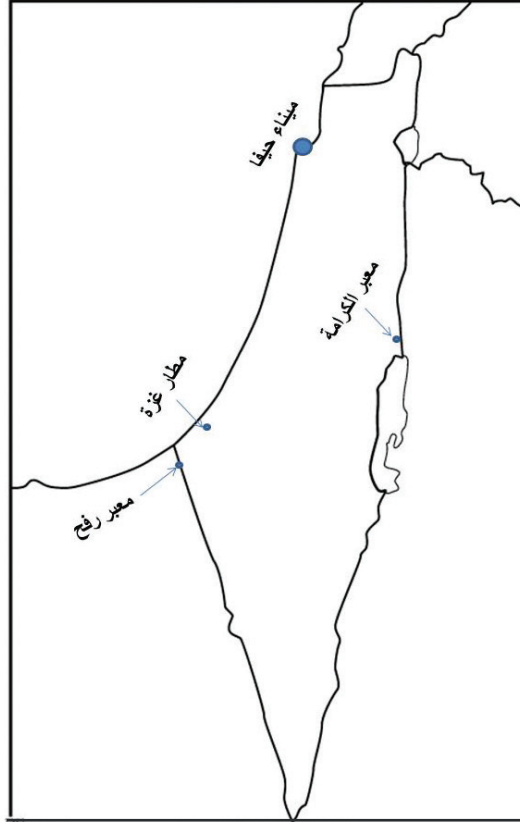
■ لأن بعضها آلف العيش بالقرب من الإنسان لأكل بقايا طعامه .

◀ إجابة السؤال السادس: (٨ علامات)

(٤ علامات)

أ- أعيّن على خريطة فلسطين الصماء المعابر والموانئ الفلسطينية الآتية:

١- ميناء حيفا . ٢- مطار غزة . ٣- معبر الكرامة . ٤- معبر رفح .



(٤ علامات)

ب- أقدم رأيي بشكل العلاقات الاجتماعية قديماً واليوم.

- تتأثر شكل العلاقات الاجتماعية بين الناس من فترة إلى أخرى، فكانت العلاقات الاجتماعية قوية بين الناس بسبب معرفتهم لحاجات بعضهم بعضاً، وأخذت هذه العلاقات تقلّ بسبب زيادة السكّان وكثرة أعمالهم، وتطور وسائل الاتّصالات، ووسائل التّواصل الاجتماعيّ.

انتهت الاجابة