

طريق التفوق

في

الرياضيات

للتوجيهي العلمي

منهاجي
منعة التعليم القادف



الفصل الأول

الأسئلة المتوقعة

٢٠٢٠



د. إياد الحمد

٠٧٩٥٦٠٤٥٦٣

د. خالد جلال

٠٧٩٩٩٤٨١٩٨

منهاجي
متعّة التعليم الهادف



أسئلة الدوائر

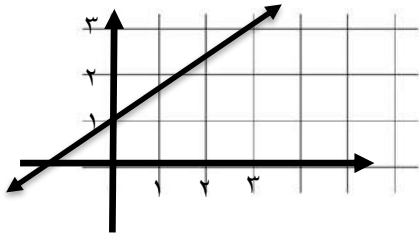
الوحدة الاولى النهايات والاتصال

فيما يلي (١٠٦) فقرة من نوع الاختيار من متعدد لكل فقرة (٤) بدائل ، واحد فقط منها صحيح ، ضع دائرة حول رمز البديل الصحيح

(١) إذا اقتربت s من العدد ٣ فإن s يقترب من ٤ ، الرمز الدال على ذلك هو :

- (أ) **نهيا** $s \leftarrow 3 = 4$ (س) $s \leftarrow 3 = 3$
 (ب) **نهيا** $s \leftarrow 3 = 3$ (س) $s \leftarrow 3 = 4$
 (ج) **نهيا** $s \leftarrow 4 = 3$ (س) $s \leftarrow 4 = 4$
 (د) **نهيا** $s \leftarrow 3 = 3$ (س) $s \leftarrow 4 = 3$

(٢) الشكل المجاور يمثل منحنى الاقتران s . فإن التعبير الصحيح بالرموز لنهاية s عندما تتوَل s إلى ٢ من اليسار هو :



- (أ) **نهيا** $s \leftarrow 2 = 3$ (س) $s \leftarrow 2 = 2$
 (ب) **نهيا** $s \leftarrow 3 = 3$ (س) $s \leftarrow 3 = 2$
 (ج) **نهيا** $s \leftarrow 2 = 3$ (س) $s \leftarrow 2 = 2$
 (د) **نهيا** $s \leftarrow 2 = 3$ (س) $s \leftarrow 2 = 2$

(٣) بالإعتماد على الجدول المجاور فإن **نهيا** $s \leftarrow 3$ (س) تساوي :

٢,٩	٢,٩٨	٢,٩٩	٣,٠٠١	٣,٠١	٣,١	س
٦,٩	٦,٩٦	٦,٩٨	٥,٠٢	٥,٠٣	٥,٠٦	ص

(أ) ٥

(ب) ٧

(ج) ٦

(د) غير موجودة

(٤) إذا كان $s \leftarrow 3 = 5$ ، فإن **نهيا** $s \leftarrow 3$ (س) تساوي :

- (أ) ٥ (ب) ١ (ج) ٤ (د) غير موجودة

(٥) إذا كان $|s - 8| = 2$ ، فإن **نهيا** $s \leftarrow 4$ (س) تساوي :

- (أ) ٨ (ب) ٤ (ج) ٠ (د) ٤ -

(٦) **نهيا** $\frac{2s-4}{s-2} \leftarrow 2 = 4$ (س) تساوي :

- (أ) ١ - (ب) ٠ (ج) ٣ - (د) ٣

(٧) **نهيا** $\frac{s-8}{s-2} \leftarrow 2 = 3$ (س) تساوي :

- (أ) ٤ - (ب) ٤ (ج) ٨ (د) ١٢

٨) نـهـا $\frac{\text{جا}^2 \text{س}}{1 - \text{جتا} \text{س}}$ تساوي :

- (پ) ١ - (ب) ٢ (ج) ١ (د) ٠

٩) إذا كان $\frac{2\text{س} + \text{ب}^2}{\text{س} + 1} = (\text{س})$ ، نـهـا $\frac{2\text{س} + \text{ب}^2}{\text{س} + 1}$ ، فإن قيمة الثابت ب تساوي :

- (پ) $5\sqrt{2} \pm$ (ب) $5\sqrt{2} -$ (ج) $5\sqrt{2}$ (د) ٥

١٠) إذا كان $\frac{4 - \text{س}}{|\text{س} - 4|} = (\text{س})$ ، نـهـا $\frac{4 - \text{س}}{|\text{س} - 4|}$ ، موجودة فإن قيمة الثابت م تساوي :

- (پ) ٢ - (ب) ٢ (ج) $\frac{1}{2} -$ (د) $\frac{1}{2}$

١١) إذا كان $\frac{1 - 2\text{س}}{|\text{س} + 1|} = (\text{س})$ ، فإن نـهـا $\frac{1 - 2\text{س}}{|\text{س} + 1|}$ ، تساوي :

- (پ) ٢ - (ب) ٢ (ج) ١ (د) غير موجودة

١٢) نـهـا $\frac{\sqrt{2\text{س}^2 - 3\text{س} + 2} + \text{س}}{1 - \text{س}}$ تساوي :

- (پ) ١ - (ب) ٠ (ج) ١ (د) غير موجودة

١٣) نـهـا $\frac{\sqrt{2\text{س} + 3\text{س}}}{\text{س}}$ تساوي :

- (پ) ١ - (ب) ٠ (ج) ١ (د) غير موجودة

١٤) نـهـا $\left(\frac{\text{س}^4}{\text{س}^3 - 16} - \frac{\text{س}}{2\text{س} - 16}\right)$ تساوي :

- (پ) $\frac{1}{8} -$ (ب) ٢٠ (ج) $\frac{1}{8}$ (د) غير موجودة

١٥) نـهـا $\frac{\text{جا} \text{س}}{\sqrt{1 + \text{جتا} \text{س}}} + \pi$ تساوي :

- (پ) $2\sqrt{2} -$ (ب) $2\sqrt{2}$ (ج) $\frac{2\sqrt{2}}{2} -$ (د) $\frac{2\sqrt{2}}{2}$

١٦) إذا كان $\frac{3 - \text{س}}{\text{س}} = (\text{س})$ ، اقترانا متصلا عند $\text{س} = 7$ ، فإن نـهـا $\frac{3 - \text{س}}{\text{س}}$ ، تساوي :

- (پ) ٤ (ب) ٣ - (ج) ٨ (د) ٧

١٧) إذا كان $\frac{9 - 2\text{س}}{3 - \text{س}} = (\text{س})$ ، اقترانا متصلا عند $\text{س} = 3$ ، فإن قيمة الثابت ب تساوي :

- (پ) ٣ (ب) ٤ (ج) ٥ (د) ٦

(١٨) إذا كان $u(s) = \left. \begin{array}{l} s+2, |s| < 2 \\ s^2, |s| \geq 2 \end{array} \right\}$ فإن قيم s التي يكون عندها الاقتران u غير متصل هي :

- (P) {1} (ب) {2} (ج) {-2} (د) {0}

(١٩) إذا كان $u(s) = \frac{s^2 + 3s}{s^2 + 2s + 1}$ ، متصلا على E ، فإن مجموعة J هي :

- (P) $[-2, \infty)$ (ب) $(-2, 2)$ (ج) $(2, 0)$ (د) $(\infty, 2]$

(٢٠) إذا كانت $u(s) = \frac{2}{s-2}$ ، $v(s) = \frac{5}{s-3}$ ، $w(s) = \frac{6}{s-6}$ ، إذا علمت أن

$u(s) + v(s) - w(s) = 12$ ، فإن قيمة الثابت b تساوي :

- (P) $\frac{24}{5}$ (ب) $\frac{11}{5}$ (ج) $\frac{12}{5}$ (د) 0

(٢١) إذا كانت $u(s) = \frac{\cos(s-p)}{\frac{\pi}{2} - s}$ ، حيث p ، b ، حيث p ، b ثوابت ، $p \in [\frac{\pi^3}{4}, 0]$ فإن (قيمة / قيم) p تساوي :

- (P) 0 (ب) π (ج) $\pi, 0$ (د) $\frac{\pi^3}{4}, \pi, 0$

(٢٢) إذا كان $u(s) = \frac{1 - \cos^2 s}{s^2 + 2s + 3}$ متصل على E ، فإن (قيمة / قيم) p تساوي :

- (P) $[-2, \infty)$ (ب) $(-2, 6)$ (ج) $-2, 6$ (د) $(\infty, 6]$

(٢٣) إذا كان $u(s) = \frac{2s^2 - 2s - 4}{s-1}$ ، $v(s) = \frac{8 - 2s - 3s^2}{s+3}$ ، فإن $u(s) + v(s) = 3$ ، $s \in [1, \infty)$ ، فإن (قيمة / قيم) p تساوي :

- (P) 2 (ب) 3 (ج) 6 (د) 8

(٢٤) $u(s) = \frac{25 - 2(1+s^2)}{s-2}$ ، فإن (قيمة / قيم) p تساوي :

- (P) 20 (ب) 14 (ج) 4 (د) صفر

(٢٥) إذا كانت $u(s) = \frac{5}{s-3}$ ، $v(s) = \frac{5}{s-3}$ ، فإن (قيمة / قيم) الثابت p تساوي :

- (P) $4, 5$ (ب) $[4, 5, 4]$ (ج) 4 (د) $(4, 5, 4)$

(٢٦) إذا كانت $u(s) = \frac{1}{s+5}$ ، $v(s) = \frac{2s^2 - 2s}{s-p}$ ، فإن قيمة الثابت p تساوي :

- (P) 6 (ب) 5 (ج) $-2, 5$ (د) $2, 5$

(٢٧) إذا كانت $u(s) = \frac{s^5}{s^3 - 27}$ موجودة ، فإن قيمة الثابت p تساوي :

- (P) 6 (ب) 3 (ج) 9 (د) $\{3\} - E$

الوحدة الثانية التفاضل

(١) إذا كان $و(س) = ٢س - ١$ ، فإن ميل القاطع لمنحنى $و$ المار بالنقطتين $(٢، و(٢))$ ، $(١، و(١))$ هو :

(٢ - (٢) (ب) ٦ (ج) ٢ (د) ٣

(٢) إذا تحرك جسم على مساره في المستوى البياني من النقطة $٢(٣، ٢)$ إلى النقطة $ب(س، ص)$ بحيث كان

ميل القاطع الواصل بين النقطتين ٢ ، $ب$ يساوي -٣ ، فإن احداثي النقطة هو :

(٢ - (٣، ٥) (ب) (٣، ١) (ج) (١، ٦) (د) (١، ٦)

(٣) إذا علمت أن معدل تغير الاقتران $و(س)$ في الفترة $[٢، ٤]$ هو ٣ ، $و(٢) = ١١$ ، فإن $و(٤)$ يساوي :

(١٧ - (٢) (ب) ٥ - (ج) ٥ (د) ١٧

(٤) إذا كان $و(٢+هـ) = ٣هـ + ٥هـ - ٦هـ + ٧$ ، لجميع قيم $هـ$ ، $و(٢) = ٧$ ، فإن $و(٢)$ تساوي :

(٢ - (٢) (ب) صفر (ج) ٦ (د) ٧

(٥) **نهـا** $\frac{\text{جتا ع} - \text{جتا س}}{\text{ع} - \text{س}}$ تساوي :

(٢) جتا س (ب) جا س (ج) - جا س (د) - جتا س

(٦) إذا كان $و(س) = |٤ - ٣س|$ ، فإن **نهـا** $\frac{و(٣) - و(٣+هـ)}{هـ}$ تساوي :

(٣) (٢) (ب) ٥ (ج) -٣ (د) غير موجودة

(٧) إذا كان $و(٥) = ١$ ، $و(٥) = ٧$ ، فإن **نهـا** $\frac{و(٥) - و(٥)}{٥}$ تساوي :

(٧) (٢) (ب) ١ (ج) ٥ (د) غير موجودة

(٨) إذا كان $و(س) = \left. \begin{array}{l} ٢س + ٨س ، ٢ \leq س \\ ٣س + ٢ب ، س > ٢ \end{array} \right\}$ قابلاً للاشتقاق عند $س = ٢$ ، فإن قيمتي ٢ ، $ب$ على الترتيب :

(٢، ١) (٢) (ب) ١، ٨ (ج) ٢، ٤ (د) ٢، ١٢

(٩) إذا كان $و(س) = \left. \begin{array}{l} ٢س + ٢س ، ١ \leq س \\ ٣س + ب - س - ١ ، س > ١ \end{array} \right\}$ وكانت $و(١)$ موجودة ، فإن $٢ + ب$ تساوي :

(٢) (٢) (ب) ٤ (ج) -٢ (د) -٤

١٠) إذا كان $W(s) = \left. \begin{array}{l} s^3 - 2s^2 + s + 5 \\ s^3 \end{array} \right\}$ ، فإن $W(1)$ تساوي :

(P) ٣ (ب) ٥ (ج) ١ (د) غير موجودة

١١) إذا كان $W(s) = |s + 1|$ ، فإن $W(\pi)$ تساوي :

(P) ١ - (ب) ١ (ج) صفر (د) غير موجودة

١٢) إذا كان معدل تغير الاقتران $W(s)$ عندما تتغير s من ٥ إلى ٥ + h هو $\frac{1}{(h+2)^2}$ ، فإن $W(5)$ تساوي :

(P) ١ - (ب) $\frac{1}{4}$ (ج) $-\frac{1}{4}$ (د) ٢

١٣) إذا كان معدل التغير في الاقتران $W(s) = \frac{1}{s}$ عندما تتغير s من s إلى $s + h$ هو $\frac{1}{(s+h)^2}$ (ظاهراً h - ظاهراً h)

حيث h التغير في s ، فإن $W(\frac{\pi}{4})$ تساوي :

(P) $2\sqrt{2}$ - (ب) $2\sqrt{2}$ (ج) $-\frac{1}{2\sqrt{2}}$ (د) ٢

١٤) إذا كان $W(s) = \pi$ ظاهراً s ، فإن $W(\pi)$ تساوي :

(P) ١ (ب) ١ - (ج) π (د) غير موجودة

١٥) إذا كان $W(s) = (s) + (s) + s^2$ ، $h(2) = 6$ ، $h(2) = 3$ ، $h(2) = 5$ ، $W(2) = 4$ فإن $W(2)$ تساوي :

(P) ١٦ (ب) ٤٢ (ج) ٤٣ (د) ٣٩

١٦) إذا كان $W(s) = |s^3 - s^2|$ ، فإن $W(0)$ تساوي :

(P) صفر (ب) ١ - (ج) ١ (د) غير موجودة

١٧) إذا كان $W(s) = \sqrt[3]{s^3}$ ، فإن $W(8)$ تساوي :

(P) $\frac{1}{3}$ (ب) $-\frac{1}{3}$ (ج) ٢ (د) $\frac{4}{3}$

١٨) إذا كان $W(s) = (s^2 + 1) + (s) + 12 = 4s^3$ ، فإن $W(-1)$ تساوي :

(P) ١٤ (ب) ٢ - (ج) ٦ - (د) صفر

١٩) إذا كان $W(s) = \frac{d^2}{ds^2} | \frac{d}{ds} |$ ، فإن $W(1) = 2s + 1$ ، $W(1) = 3$ ، $W(1) = 1$ تساوي :

(P) ٢٧ (ب) ٦ (ج) ٥٤ (د) ٨١

(٢٠) إذا كان $\sqrt{s} + \sqrt{s-1} = (s)$ ، فإن قيمة s التي عندها $\sqrt{s} = (s)$ = صفر هي :
 (P) $\frac{1}{4}$ (ب) ١ (ج) ٢ (د) صفر

(٢١) إذا كان $\frac{1}{3+s} = (s)$ ، وكان $\sqrt{s} = (1)$ ، فإن قيمة الثابت p الصحيحة تساوي :
 (P) ٢ (ب) ٢- (ج) ١ (د) ϕ

(٢٢) إذا كان $\frac{s^2}{(s)} + 2 = (s)$ ، فإن $\sqrt{s} = (3)$ ، $\sqrt{s} = (3)$ ، $\sqrt{s} = (3)$ ، فإن $\sqrt{s} = (3)$:
 (P) ٥ (ب) ١٦ (ج) ٤ (د) ٨-

(٢٣) إذا كان $\sqrt{s} = (10)$ ، $\sqrt{s} = (10)$ ، $\sqrt{s} = (10)$ ، $\sqrt{s} = (10)$ ، فإن $\sqrt{s} = (10)$:
 (P) ٣٠- (ب) ١٢- (ج) ١٥ (د) ٢٤

(٢٤) إذا كان $\frac{1}{s} = (s)$ ، فإن $\sqrt{s} = (8)$ تساوي :
 (P) $\frac{1}{48}$ (ب) $\frac{1}{4}$ (ج) $\frac{1}{12}$ (د) $\frac{1}{24}$

(٢٥) إذا كان $s^2 + 3s = (s)$ ، $\sqrt{s} = (s)$ ، $\sqrt{s} = (s)$ ، فإن $\sqrt{s} = (1-)$ تساوي :
 (P) ٢٠- (ب) ٥- (ج) ٢٠ (د) ٤

(٢٦) إذا كان $\frac{d}{s} = (s)$ ، فإن $\frac{d}{s} = (s)$ ، $\frac{d}{s} = (s)$ ، $\frac{d}{s} = (s)$:
 (P) ٢٠ (ب) ٥ (ج) ١٠ (د) $\sqrt{10}$

(٢٧) مشتقة $\frac{d}{s} = (s)$ ، $\frac{d}{s} = (s)$ ، $\frac{d}{s} = (s)$:
 (P) ١ (ب) $\sqrt{2}$ - (ج) $\sqrt{2}$ (د) $\sqrt{3}$

(٢٨) مكعب معدني يتمدد بانتظام محافظا على شكله ، فإن معدل تغير حجمه بالنسبة إلى طول ضلعه عندما يكون طول ضلعه وحدتي طول يساوي :

(P) ١٢ (ب) ٦ (ج) ٤ (د) ٣

(٢٩) إذا كان $s^2 + 2s = (s)$ ، فإن $\frac{d}{s} = (s)$ ، $\frac{d}{s} = (s)$:
 (P) ٢- (ب) ١- (ج) ٣- (د) ٤-

(٣٠) إذا كان $s = 9$ ، فإن قيم s التي عندها $\frac{d}{s} = 1-$ هي :
 (P) ١- (ب) ٩ (ج) $3 \pm$ (د) ٩، ١-

(٣١) إذا كان $و (ص + ١) = س^٣$ ، $و (٥) = ٤$ ، $و (٥) = ٨$ ، فإن $\frac{دص}{دس}$ عند $ص = ٤$ تساوي :
 (٢) ٤ (ب) ٣ (ج) ١٢ (د) ٤٨

(٣٢) إذا كان $و (١) = ٤$ ، $و (١) = ٢ -$ ، $و (١) = ٦$ ، فإن قيمة $و (٠) و (١)$ تساوي :
 (٢) ١٢ - (ب) ٢٠ (ج) ٢٤ (د) ٢٨

(٣٣) إذا كان $و (س) = ٣س - ٣س + ١$ ، وكانت $و (١ -) = ٨$ ، فإن قيمة الثابت ٢ تساوي :
 (٢) ٢ - (ب) ٢ (ج) $\frac{٧}{٣} -$ (د) $\frac{٤}{٣}$

(٣٤) إذا كان $و (س) = س^٧$ ، $و$ عدد طبيعي ، وكانت $و (٣) (س) = ٢١٠$ ، فإن قيمة الثابت $و$ تساوي :
 (٢) ١٢ (ب) ١٠ (ج) ٧ (د) ٥

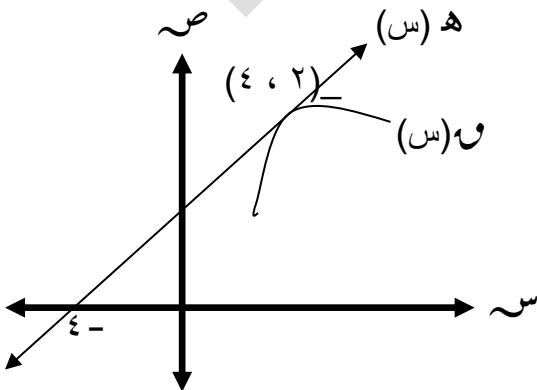
(٣٥) إذا كان $و (س) = |٢ - ٤س|$ وكان $و (٢)$ غير موجوده فإن ٢ تساوي :
 (٢) ٢ (ب) صفر (ج) ٢ - (د) ٤

(٣٦) إذا كان $و (س) = \sqrt[٢]{٢س + ٣٦}$ ، فإن $و (٠, ٨)$ تساوي :
 (٢) ١, ٦ (ب) صفر (ج) ١, ٦ - (د) غير موجودة

(٣٧) إذا كان $ص = ٢و - ٤و$ ، $س = ٢و - ٥$ ، فإن $\frac{دص}{دس}$ عند $س = ٧$ تساوي :
 (٢) $\frac{١}{٢} -$ (ب) ٥ (ج) ١ - (د) $\frac{١}{٢}$

(٣٨) إذا كان $و (٢) = ٦$ ، فإن $نهـا$ $\frac{و (٢) - و (٣ + ٢) - و (٢)}{هـ - هـ}$ تساوي :
 (٢) ٢ - (ب) ٦ - (ج) ١٨ - (د) ١٨

(٣٩) إذا كان $هـ (س)$ يمس منحنى $و (س)$ عند النقطة $(٢ ، ٤)$ كما بالشكل المجاور ، فإن $و (هـ ٠) و (٢)$ تساوي :



(٢) ١

(ب) $\frac{٩}{٤} -$

(ج) $\frac{٢}{٣}$

(د) $\frac{٤}{٩}$

منهاجي
 متعة التعليم الهادف

٤٠) إذا كانت $\overline{ق} = (٣)٨$ ، $\overline{ق} = (٣)٥$ ، و (س) يمر بالنقطة (٣ ، ٤) ، فإن قيمة الثابت ل تساوي :

(أ) ٣ (ب) ٤ (ج) ٨ (د) صفر

٤١) إذا كان و (س) = ٢س ٢س ٢س فإن و (س) تساوي :

(أ) ١ (ب) صفر (ج) ٢ ٢ ٢س (د) ٢ ٢ ٢س

٤٢) إذا كان و (س) = $س^٢ [٧ - ٢س]$ فإن و (٥) تساوي :

(أ) صفر (ب) -٣٠ (ج) -٤٠ (د) غير موجودة

٤٣) إذا علمت ان $ص = (٥٠هـ)٢(س)$ ، $\frac{دص}{دس} = ٦٠$ عند $س = ١$ ، و $(هـ) = (١)٥$ ، و $(٥هـ) = (١)٣$ فإن هـ (١) تساوي :

(أ) ٢ (ب) ٤ (ج) ١٠ (د) ٦

٤٣) إذا كان و (س) = $\frac{١}{س^٢ - ١٠س + ٢٥}$ فإن و (س) يساوي :

(أ) ١ (ب) ٦ (ج) ١ - (د) ٦ -

٤٤) إذا كان و (س) = $(س - ١)٢(س + ٢)٣$ فإن عدد قيم س الصحيحة الموجبة التي عندها و (س) = ٠ هو :

(أ) ١ (ب) ٢ (ج) ٣ (د) ٤

٤٥) إذا كان و (س) = $س + هـ٣(س)$ وكان معدل تغير الاقتران هـ (س) في الفترة [١ ، ٣] هو ٤ حيث

$(هـ) = (١) + (٣)٢ = ١١$ ، $هـ(١) \times هـ(٣) = ٥$ فإن معدل تغير الاقتران و (س) في نفس الفترة يساوي :

(أ) ٢٥ (ب) ٢٤ (ج) ٣٠ (د) ٤٤

٤٦) إذا كان $ص = ٥$ جتا $٢س + ٣$ جا $٢س$ فإن $ص(٢)$ عند $ص = ٧$ تساوي :

(أ) ٢٨ (ب) -٢٨ (ج) -٤ (د) -٧

٤٧) إذا كان س = جاره ، ص = قتانه ، فإن $\frac{دص}{دس}$ تساوي :

(أ) س ص (ب) $-\frac{س}{ص}$ (ج) $-\frac{ص}{س}$ (د) $\frac{س}{ص}$

٤٨) إذا كان و (س) = $س + ٣$ ، و $(٥٠هـ) = (س)$ ، و $(٥٠هـ) = (س)$ فإن هـ (٢) تساوي :

(أ) $-\frac{٦}{٥}$ (ب) $\frac{٦}{٥}$ (ج) $\frac{٦}{٥}$ (د) $\frac{٣}{٥}$

الوحدة الثالثة تطبيقات التفاضل

(١) إذا كانت $v = 3s - 5$ ، هي معادلة العمودي على المماس لمنحنى v عند النقطة $(2, 1)$ فإن v تساوي (٢) :

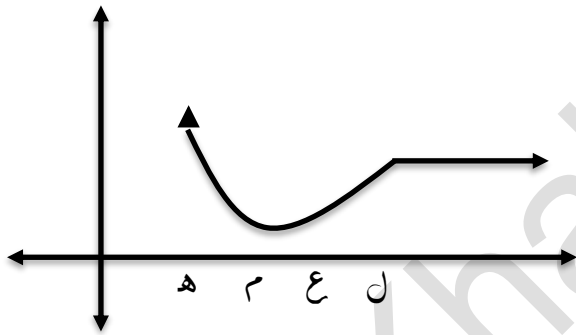
- (أ) ٣ (ب) -٣ (ج) $\frac{1}{3}$ (د) $-\frac{1}{3}$

(٢) إذا كان للاقتران v و s $\frac{ps}{s^2 + b} = (s)$ ، حيث $0 < p$ ، $0 < b$ فإن قيمة الثابت p هي :

- (أ) ٨ (ب) ٢ (ج) ٤ (د) ١

(٣) يتحرك جسم وفق العلاقة $v = 2\sqrt{7}f$ حيث f ، هما السرعة والإزاحة على الترتيب فإن التسارع يساوي :

- (أ) ١٤ (ب) ٧ (ج) ١ (د) ٤٩



(٤) الشكل يمثل منحنى الاقتران v و s المعروف على e فإن قيمة s التي تكون عندها المشتقة الاولى والمشتقة الثانية للاقتران v و s لهما نفس الاشارة هي :

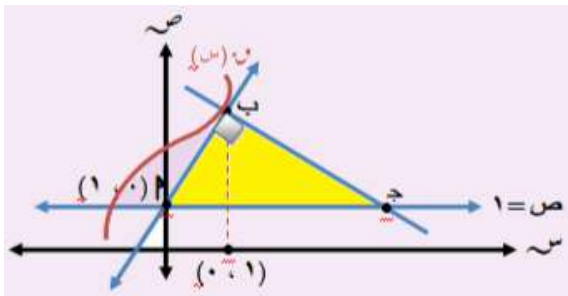
- (أ) h (ب) m (ج) e (د) l

(٥) اكبر قيمة للمقدار $4s - s^2$ حيث $s \geq 0$ هي :

- (أ) ٤ (ب) ٨ (ج) ١٦ (د) ٣٢

(٦) إذا كانت $v = s + p$ حيث $0 < v$ ، $0 < s$ ، فإن s ص قيمة عظمى عندما :

- (أ) $v = p$ (ب) $v = p + s$ (ج) $v = s$ (د) $s = v = 1$



(٧) معتمدا على الشكل المجاور :

إذا كان

$v = (1) + v(1) = 7$ ، فإن $v(1)$ تساوي :

- (أ) ١ (ب) ٤ (ج) ٢ (د) ٣

٨) إذا كان $v = (s) = \frac{h(s)}{1+s^2}$ وكانت معادلة العمودي على المماس لمنحنى $h(s)$ عند $s = 2$ هي $3x - s - 13 = 0$ ، فإن $v(2)$ تساوي :

(أ) $\frac{7}{5}$ (ب) $\frac{5}{7}$ (ج) $\frac{5}{7} -$ (د) $\frac{7}{5}$

٩) منحنى الاقتران $v = \frac{5-s}{2-s}$ مقعر للأسفل اذا كانت :

(أ) $s < 2$ (ب) $s > 2$ (ج) $s > 5$ (د) $s < 0$

١٠) منحنى الاقتران $v = (s) = \sqrt{2-s}$ له نقطة حرجة عندما s تساوي :

(أ) صفر (ب) ١ (ج) صفر ، ١ (د) ١ ، -١

١١) إذا كانت $v = (s) = 3s^2 - 8s + 4$ ، ب ثابت وكان لمنحنى الاقتران $v = (s)$ نقطة عظمى محلية هي $(2, 5)$ ، فإن $4 \times 3 \dots \dots$

(أ) $(\infty, 8)$ (ب) $(\infty, 0)$ (ج) $(0, \infty -)$ (د) $(\infty, 8)$

١٢) إذا كان $v = (s) + w = (s) = 3s^2 + 11s + 9$ ، فإن $w(1)$ تساوي :

(أ) ١١ (ب) ٦ (ج) ١٢ (د) ٢٣

١٣) إذا كان للاقتران $v = (s)$ قيمة عظمى محلية عند النقطة $(2, 3)$ ، وكان $h = (s) = (v - 1)$ ، فإن :

(أ) $h(2) < 0$ (ب) $h(2) > 0$ (ج) $h(2) = 0$ (د) $h(2)$ غير موجودة

١٤) إذا كان $v = (s) = 12s + 6(2-s)^2$ ، فإن قيم h التي تجعل منحنى الاقتران مقعر للأسفل هي :

(أ) $(-\infty, 2]$ (ب) $(-\infty, 2)$ (ج) $(2, 2-)$ (د) $(\infty, 2)$

١٥) يتحرك جسيم حسب العلاقة $f = 5t^2 + 3t^2$ ، حيث f المسافة بالأمتار ، t الزمن بالثواني

ت التسارع ، فإن قيمة المقدار $\frac{dv}{dt}$ عند $f = 6$ تساوي :

(أ) $-\frac{2}{3}$ (ب) $24 -$ (ج) ٦ (د) $\frac{2}{3}$

١٦) إذا كان المستقيم $v = s$ مماساً لمنحنى $v = 3s^2 + 4$ ، فإن قيمة h تساوي :

(أ) ٢ (ب) $\frac{1}{4}$ (ج) $\frac{1}{4}$ (د) صفر

١٧) إذا كانت معادلة العمودي على المماس لمنحنى الاقتران $v = (s)$ عند النقطة $(1, 3)$ هي $v = \frac{1}{3}s$

فإن $w(1)$ تساوي :

(أ) ٣ (ب) $3 -$ (ج) $\frac{1}{3}$ (د) $\frac{1}{3} -$

١٨) إذا كانت معادلة العمودي على المماس لمنحنى الاقتران W و (S) عند النقطة $(1, 3)$ هي $4x - 3y = 9$ فإن قيمة $W(1) + W'(1)$ تساوي :

(P) 3 (ب) $\frac{3}{4}$ (ج) $-\frac{3}{4}$ (د) $\frac{15}{4}$

١٩) إذا كان W و (S) ، هـ (S) معرفان على E وكان W و (S) متزايد على E ، و W و (S) $\neq 0$ بحيث أن W و (S) هـ $(S) = 7$ ، فإن إحدى العبارات الآتية صحيحة دائما :

(P) هـ (S) متناقص على E (ب) هـ (S) متزايد على E
 (ج) هـ (S) ثابت على E (د) و $(S) > W$ على E

٢٠) إذا كان W و (S) كثير حدود من الدرجة الثانية ، فإن الاقتران W و (S)

(P) لا توجد له نقطة انعطاف (ب) توجد له نقطة انعطاف واحدة
 (ج) توجد له نقطتان انعطاف (د) توجد له نقطة انعطاف واحدة على الاقل

٢١) إذا كانت النقطة نقطة انعطاف لمنحنى الاقتران W و (S) وكانت W و $(S) = 4x^3 - 3x^2$ حيث W ثابت ، فإن قيمة W تساوي :

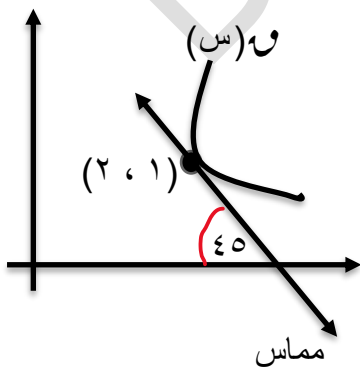
(P) 4 (ب) 24 (ج) 6 (د) 12

٢٢) إذا كان W و $(S) = [2 - x, 4 - x]$ ، $S \in [0, 2]$ ، فإن جميع قيم S التي يكون عندها نقط حرجة ل W و (S) هي :

(P) $\{2, 0\}$ (ب) $[2, 0]$ (ج) $(2, 0)$ (د) $\{2, 1, 0\}$

٢٣) إذا كان W و $(S) = |x - 2| - 5$ ، $S \in [-2, 2]$ ، فإن القيمة العظمى المطلقة للاقتران W و (S) في مجاله هي :

(P) 1 (ب) -1 (ج) -5 (د) -9



٢٤) إذا كان W و (S) ، هـ (S) اقترانين قابلين للاشتقاق

بحيث أن W و (S) هـ $(S) = 20$ ، بالاعتماد على الشكل المعطى فإن $W'(1)$ تساوي :

(P) 1 (ب) $\frac{1}{4}$
 (ج) $-\frac{1}{4}$ (د) -1



٢٥) تتحرك نقطة على منحنى الاقتران $v(s) = s^3$ بحيث أن $\frac{ds}{dt} = 2$ سم/ث ، فإن المعدل الزمني لتغير ميل المماس لمنحنى الاقتران $v(s)$ عند $s = 1$ يساوي :

- (أ) ٣ (ب) ٦ (ج) ٢٤ (د) ١٢

٢٦) قذف جسيم رأسياً للأعلى من قمة برج ارتفاعه ١١٢ قدم عن سطح الأرض ، فإذا كانت المسافة التي يقطعها الجسيم بعد t ثانية معطاة بالعلاقة $f = 16t^2 - 96t$. فإن سرعة الجسيم لحظة اصطدامه الأرض هي

- (أ) ١١٢ قدم/ث (ب) ١٢٨ قدم/ث (ج) ٦٤ قدم/ث (د) ٩٦ قدم/ث

٢٧) قذف جسيم رأسياً للأعلى عن سطح الأرض ، فإذا كانت المسافة التي يقطعها الجسيم بعد t ثانية معطاة بالعلاقة $f = 16t^2 - 80t$. وكان أقصى ارتفاع وصل إليه الجسيم هو ٨٠ متر ، فإن قيمة الثابت k تساوي :

- (أ) ٨٠ (ب) ٤٠ (ج) ٢٠ (د) ٤

٢٨) مكعب من الثلج يتناقص طول ضلعه بمعدل ٠,٠٠١ سم / ث ، فإن معدل تناقص حجم المكعب عندما يكون طول ضلعه ١٠ سم يساوي :

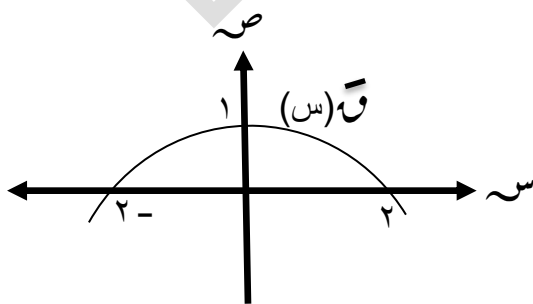
- (أ) ٠,٠٣ (ب) ٠,٣ (ج) ٣ (د) ٣٠٠

٢٩) مربع تتمدد أضلاعه بمعدل ٤ سم / د ، رسمت دائرة داخل المربع واخذت تتمدد مع المربع بحيث تبقى ملامسة لأضلاعه ، فإن معدل التغير في مساحة المنطقة المحصورة بين المربع والدائرة عندما يكون طول ضلع المربع ٢٠ يساوي :

- (أ) $\pi 40 + 160$ (ب) $\pi 80 + 160$ (ج) $\pi 80 - 160$ (د) $\pi 40 - 160$

٣٠) تتحرك نقطة مادية على منحنى العلاقة $s^2 + v^2 = 117$ ، إذا كان معدل تغير الإحداثي السيني لها في لحظة معينة هو ٢ سم / د ، فإن معدل تغير الإحداثي الصادي عند النقطة $(-9, 6)$ يساوي :

- (أ) ٣ (ب) -٣ (ج) ١٢٠ (د) ١١٤



٣١) اعتماداً على الشكل المجاور والذي يمثل

منحنى المشتقة الأولى للاقتران $v(s)$

فإن منحنى $v(s)$ يكون متزايداً

في الفترة :

- (أ) $(-\infty, 0)$ (ب) $(0, \infty)$ (ج) $[-2, 2]$ (د) $(0, \infty)$



الكتاب المدرسي

(اسئلة الدوائر)

الوحدة الاولى ، الوحدة الثانية ، الوحدة الثالثة
النهايات والاتصال ، التفاضل ، تطبيقات التفاضل

يتكون هذا السؤال من (١٠) فقرات، كل فقرة لها أربعة بدائل مختلفة، واحد منها فقط صحيح، ضع دائرة حول رمز البديل الصحيح في ما يأتي:

(١) إذا كانت نهياً $ق(س) = ٤$ ، $ق(٣) = ٦$ ، فما قيمة نهياً $ق(٢س + ١) - (٧ + س)$ ؟

- (أ) ١٧ (ب) ١٣ (ج) ٢٠ (د) ٣٧

(٢) إذا كان $ق$ اقتراناً متصلًا عند $س = ٤$ ، وكان $ق(٤) = ٦$ ، وكانت نهياً $ق(س) = ٤$ ب،

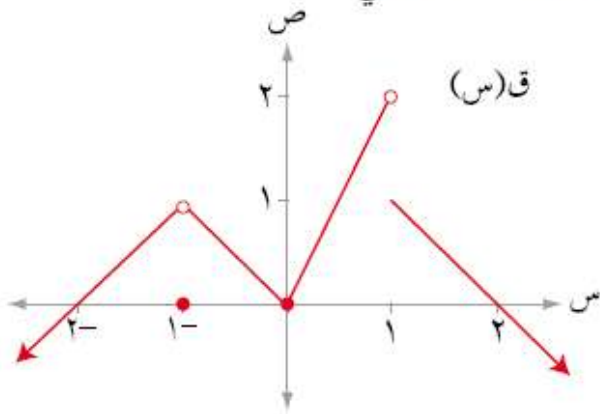
فإن قيمة الثابت $ب$ تساوي:

- (أ) $\frac{١}{٣}$ (ب) ٢ (ج) $\frac{١}{٢}$ (د) ٢-

(٣) إذا كان $ق$ اقتراناً كثير حدود ، وكانت نهياً $ق(س) = ٣$ ، فإن نهياً $ق(س) = \frac{٣س}{س٢}$ تساوي:

- (أ) ٩ (ب) ١٨ (ج) ٦ (د) ٣٦

(٤) معتمداً الشكل (١-٣١) الذي يمثل منحنى الاقتران $ق$ المعروف على مجموعة الأعداد الحقيقية ح، فإن مجموعة قيم $ق(س)$ حيث نهياً $ق(س) = ٠$ صفراً هي:



الشكل (١-٣١)

- (أ) $\{٠, ٢-\}$
 (ب) $\{٠\}$
 (ج) $\{٢, ٠\}$
 (د) $\{٢, ٠, ٢-\}$

(٥) نهياً $ق(س) = \frac{٤س - ٤}{س - ٢}$ تساوي:

- (أ) ١- (ب) صفر (ج) ٣- (د) ٣

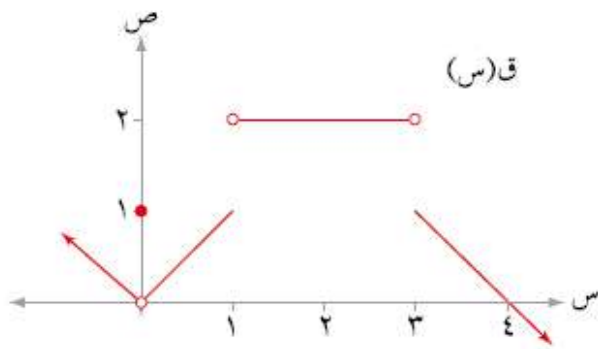
(٦) نهيا $\frac{6س^٤ + ١٨س^٢}{٢س^٢ - ٣س}$ تساوي:

- أ (٦- ب) ٢- ج) ٣ د) ٩

(٧) إذا كان ق اقتراناً متصلًا عند $س = ١$ ، وكان ق(١) = ٤ ، فإن

نهيا $\left(\frac{|١-س|}{١-س} + ق(س) \right)$ تساوي:

- أ (٣ ب) ١ ج) ٥ د) غير موجودة



(٨) معتمداً الشكل (١-٣٢) الذي يمثل

منحنى الاقتران ق المعروف على ح ،

ما مجموعة قيم أ التي تجعل

نهيا ق(س) غير موجودة؟

- أ) {٣، ١، ٠} ب) {٤، ٣، ١} ج) {٤، ٣، ١، ٠} د) {٣، ١}

(٩) إذا كان ل(س) = $\left. \begin{array}{l} ٢ \text{ جتا } س \\ \text{أس} + ٢\pi \end{array} \right\}$ ، $\frac{\pi}{٢} > س$ ، $\frac{\pi}{٢} \leq س$ ، $٢\pi + ٢$

فإن قيمة أ التي تجعل الاقتران ل متصلًا عند $س = \frac{\pi}{٢}$ هي:

- أ (٢- ب) صفر ج) ٤- د) ٤

(١٠) إذا كان ق(س) = $\left. \begin{array}{l} ٣ \\ ٥ + [س] \\ ٤ \end{array} \right\}$ ، $١ < س < ٢$ ، $س = ١$ ، $س = ٢$

فإن الاقتران ق متصل على الفترة:

- أ) [٢، ١] ب) (٢، ١) ج) [٢، ١] د) (٢، ١)

(١) إذا كان منحنى الاقتران ق يمر بالنقطة (٢، ٣)، وكان المماس المرسوم لمنحنى ق عند هذه النقطة يصنع زاوية قياسها ٤٥° مع الاتجاه الموجب لمحور السينات، فإن:

$$\text{نهاية} \frac{ق(س) - ٣}{٣ - ٦} \text{ تساوي:}$$

١ (أ) (ب) $\frac{١}{٣}$ (ج) $-\frac{١}{٣}$ (د) ٣ -

$$(٢) \text{ نهاية} \frac{١ - ٢س}{\frac{\pi}{٤} - س} \text{ تساوي:}$$

١ (أ) (ب) صفر (ج) $\frac{١}{٢}$ (د) $\sqrt{٢}$

$$(٣) \text{ نهاية} \frac{١ - \frac{\pi}{٣}جتا(هـ + \frac{\pi}{٣})}{هـ} \text{ تساوي:}$$

١ (أ) (ب) $\frac{١}{٢}$ (ج) $\frac{\sqrt{٣}}{٢}$ (د) $\sqrt{\frac{٣}{٢}}$

$$(٤) \text{ إذا كان ق} (٢) = ٦ \text{، فإن نهاية} \frac{ق(٢+٣هـ) - ق(٢)}{هـ} \text{ تساوي:}$$

١٨ - (أ) (ب) ١٨ (ج) ٦ - (د) ٢ -

(٥) إذا كان معدّل التغير في الاقتران ق(س) في الفترة [٢-، م] يساوي



$$\frac{٤ - ٢م}{٢ + م} \text{ فإن ق} (٢) \text{ تساوي:}$$

٢ (أ) (ب) صفر (ج) ٤ - (د) ٤

(٦) إذا كان معدّل التغير في الاقتران ق(س) عندما تتغير س من س إلى س + هـ يساوي

$$س^٢هـ - ٤س هـ^٢ \text{، فإن ق} (٣) \text{ تساوي:}$$

٩ (أ) (ب) ٩ - (ج) صفر (د) ٣ -

(٧) إذا كان ق(س) = |٤ - ٢س| فإن ق(٢):

أ (٢) ب - ٢ ج) صفر د) غير موجودة

(٨) إذا كان ق(٤) = ٥ ، ق(٤) = - ١ ، ق(٤) = ٢ فإن $\left(\frac{ق}{ق}\right)$ (٤) تساوي:

أ (١١) ب - ٩ ج) - ٦ د) ٦

(١) تتحرك نقطة على خط مستقيم بحيث إن المسافة (ف) بالأمتار التي تقطعها في زمن قدره (ن) ثانية هي: ف(ن) = $٦ن^٢ - ٣ن + ١٣$ ، المسافة ف عندما يصبح التسارع صفرًا هي:

أ (١٤) م ب) ١٨ م

ج) ٢٩ م د) ٣٤ م

(٢) معدل تغير حجم كرة بالنسبة إلى طول نصف قطرها عندما يكون طول نصف قطرها ٥ سم يساوي:

أ (١٠٠) $\frac{سم}{سم^٣}$ ب) $٤\pi \frac{سم}{سم^٣}$

ج) $٢٠\pi \frac{سم}{سم^٣}$ د) $١٠٠\pi \frac{سم}{سم^٣}$

(٣) وعاء على شكل مخروط دائري قائم رأسه إلى أسفل، ارتفاعه ١٦ سم، وطول نصف قطر قاعدته ٤ سم، صُبَّ الماء فيه بمعدل $٢\pi \frac{سم}{ث}$ ، فإن معدل تغير ارتفاع الماء فيه في اللحظة التي يكون ارتفاع الماء ٨ سم يساوي:

أ) $\frac{١}{٢} \frac{سم}{ث}$ ب) $٢ \frac{سم}{ث}$

ج) $\frac{١}{٨} \frac{سم}{ث}$ د) $\frac{١}{\pi ٢} \frac{سم}{ث}$

(٤) إذا كان ق(س) = $١٢س + ٦(٢-م)$ س فإن قيم م التي تجعل منحنى الاقتران ق مقعرًا للأسفل:

أ) (٢، ٢-) ب) (٢-، ∞-)

ج) (∞، ٢) د) (٢، ∞-)



(٥) إذا كان لمنحنى الاقتران ق(س) = جا ٤ س نقطة انعطاف عند $s = \frac{\pi}{4}$ فإن ميل المماس عندها يساوي:

أ - (٤)

ب - (٤)

ج - (٢)

(٦) إذا كان ق(س) = $\frac{s^2 - 2s + 1}{s^2}$ فإن منحنى الاقتران ق متناقص على الفترة:

أ - (٠ ، ∞)

ب - (١ ، ∞)

ج - [١ ، ٠]

د - [١ ، ٠)

(٧) الشكل (٣-٣٣) يمثل منحنى ق(س) للاقتران ق المعروف على ح،


إذا كان للاقتران ق نقطة حرجة عند (١ ، ق(١))، فإن ق(١) هي قيمة:

أ - عظمى محلية

ب - عظمى مطلقة

ج - صغرى مطلقة

د - صغرى محلية



(٨) إذا كان ق(س) = $\sqrt[3]{2s}$: س ∈ [١ ، -١] ، فإن إحداثيي النقطة الحرجة للاقتران ق هي:

أ - (١ ، -١)

ب - (١ ، ١)

ج - (٠ ، ٠)

د - (١ ، ٠)

(٩) يُراد صنع علبة مفتوحة من الأعلى من قطعة كرتون مستطيلة الشكل أبعادها ٦ سم، ٣٠ سم

وذلك بقص مربعات متساوية من زواياها الأربع طول كل منها (س) وحدة ، ثم طيّ

الجوانب للأعلى، ما قيمة س التي تجعل حجم العلبة أكبر ما يمكن؟

أ - ١٢ سم

ب - $\frac{10}{3}$ سم

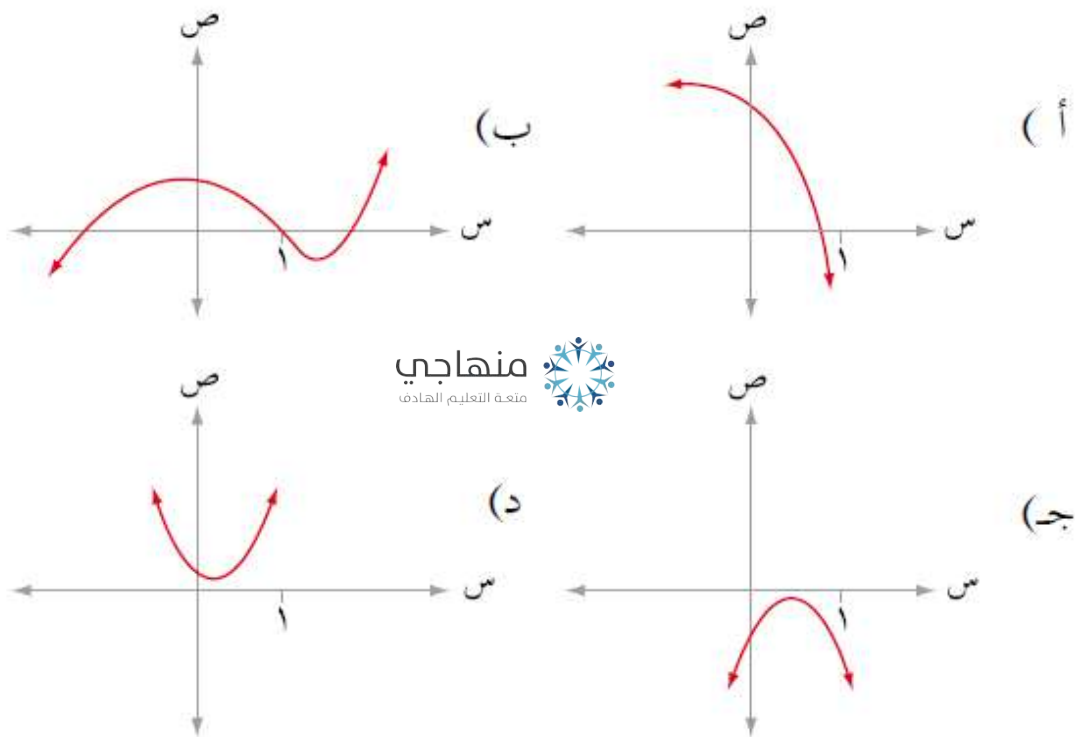
ج - ١٠ سم

د - ٨ سم

(١٠) إذا كان $q(s) = \text{جتاس} - \text{جاس}$: $s \in [\pi, 0]$ فإن قيمة s التي يكون للاقتران عندها قيمة صغرى مطلقة هي:

- (أ) ٠
 (ب) $\frac{\pi}{4}$
 (ج) $\frac{\pi}{2}$
 (د) $\frac{\pi^3}{4}$

* (١١) أي المنحنيات في الشكل (٣-٣٤) يمثل رسم الاقتران q الذي فيه $q(0) < 0$ ، $q(1) > 0$ ، $q'(s)$ سالبة دائماً:



الشكل (٣-٣٤)



طريق التفوق

في

الرياضيات

للتوجيه العلمي

الفصل الثاني

منهجي
منحة التعليم الهادف



الاسئلة المتوقعة

٢٠٢٠



د. إياد الحمد

٠٧٩٥٦٠٤٥٦٣

د. خالد جلال

٠٧٩٩٩٤٨١٩٨

التكامل

منهاجي
متعة التعليم الهادف



اسئلة الدوائر

فيما يلي (١٠٠) فقرة من نوع الاختيار من متعدد لكل فقرة (٤) بدائل ، واحد فقط منها صحيح ، ضع دائرة حول رمز البديل الصحيح :

(١) $\left[\frac{د}{دس} \right]$ (جتا٢س - ٢جتا٢س) دس يساوي :

(١) - (١) (ب) صفر (ج) ١ (د) ٢

(٢) $\left[\frac{جتا٢س}{جتا٢س جا٢س} \right]$ دس يساوي :

(١) - (١) - ظتاس - ظاس + ج (ب) ظتاس + ظاس + ج
(ج) قاس + قتاس + ج (د) - قاس - قتاس + ج

(٣) إذا كان $\left[\frac{١}{٢} \right]$ جتا٢س دس = ١ جا٢س + ج فإن قيمة الثابت ١ تساوي :

(١) - (١) (ب) - $\frac{١}{٨}$ (ج) $\frac{١}{٨}$ (د) ٢

(٤) إذا كان م (س) ، ل (س) معكوسين لمشتقة الاقتران و (س) فإن (٣ - ل - م) (س) تساوي :

(١) و (س) (ب) ٢ و (س) (ج) و (س) (د) ٣ و (س)

(٥) $\left[\text{ظاس (ظاس + ظتاس)} \right]$ دس يساوي :

(١) قاس (ب) ظاس + ج (ج) - ظاس + ج (د) ظاس - س + ج

(٦) إذا كان ميل المماس لمنحنى العلاقة ص عند اي نقطة عليه يعطى بالعلاقة و (س) = ٦س - ٤ فإن قاعدة الاقتران و (س) الذي يمر منحناه بالنقطة (١ ، ٤) هي :

(١) ٣س - ٤ (ب) ٣س - ٤ + ٥
(ج) ٣س - ٤ - ٥ (د) ٣س - ٤ + ٥

(٧) $\left[\text{جاس جتاس دس} \right]$ يساوي :

(١) $\frac{١}{٢}$ جا٢س + ج (ب) $\frac{١}{٢}$ جتا٢س + ج
(ج) $\frac{١}{٤}$ جا٢س + ج (د) $\frac{١}{٤}$ جتا٢س + ج

(٨) إذا كان و (٢) = ٣ ، و (س) = ٢س ، فإن و (٣) يساوي :

(١) ٦ (ب) ٨ (ج) ٩ (د) ١٠

(٩) يتحرك جسيم بتسارع ت = ١٢ - ٢ م / ث^٢ ، فإذا كانت سرعتها الابتدائية ٤ م / ث فإن سرعة الجسيم عند ت = ٣ ثانية هي :

(١) ٥٢ م / ث (ب) ٥٢ م / ث (ج) ٤٨ م / ث (د) ٤٨ م / ث

$$(10) \left[\frac{\text{قاس}}{\text{قتاس}} \text{ دس يساوي} : \right.$$

$$(P) - \text{لوا جتاس} | + \text{ج} \quad (ب) \text{لوا جتاس} | + \text{ج}$$

$$(ج) \text{ظاس} + \text{ج} \quad (د) - \text{لوا قتاس} | + \text{ج}$$

$$(11) \left[\text{ظتاس دس يساوي} : \right.$$

$$(P) - \text{لوا جاس} | + \text{ج} \quad (ب) \text{لوا جتاس} | + \text{ج}$$

$$(ج) - \text{لوا جتاس} | + \text{ج} \quad (د) - \text{لوا قتاس} | + \text{ج}$$

$$(12) \text{ إذا كان } \frac{\text{دص}}{\text{دس}} = \text{ص جتاس} , \text{ } P \neq 0 \text{ فإن ص هي} :$$

$$(P) \text{ ص} = P \text{ ه جاس} \quad (ب) \text{ ص} = P \text{ ه جاس} \quad (ج) \text{ ص} = P \text{ ه جتاس} \quad (د) \text{ ص} = P \text{ ه جتاس}$$

$$(13) \left[\frac{2}{\text{جتاس}^2 + 1} \text{ دس يساوي} : \right.$$

$$(P) \text{ ظاس} + \text{ج} \quad (ب) \text{ قاس} + \text{ج} \quad (ج) - \text{ظتاس} + \text{ج} \quad (د) - \text{قتاس} + \text{ج}$$

$$(14) \left[\frac{\text{دس}}{\text{جتاس}^2 - 1} \text{ دس يساوي} : \right.$$

$$(P) \text{ ظتاس} + \text{ج} \quad (ب) \text{ ظاس} + \text{ج} \quad (ج) - \text{ظتاس} + \text{ج} \quad (د) - \text{طاس} + \text{ج}$$

$$(15) \left[\frac{\text{ظاس}}{\text{جتاس}} \text{ دس يساوي} : \right.$$

$$(P) \text{ قتاس} + \text{ج} \quad (ب) \text{ قاس} + \text{ج} \quad (ج) - \text{قتاس} + \text{ج} \quad (د) - \text{قاس} + \text{ج}$$

$$(16) \left[\left(\frac{1}{\text{س}} + \frac{\text{قاس}}{\text{جتاس}} \right) \text{ دس يساوي} : \right.$$

$$(P) \text{ ظاس} - \text{ه} - \text{س} + \text{ج} \quad (ب) \text{ ظاس} - \text{ه} - \text{س} + \text{ج}$$

$$(ج) \text{ ظاس} + \text{ه} + \text{س} + \text{ج} \quad (د) \text{ س} - \text{ه} - \text{س} + \text{ج}$$

$$(17) \text{ إذا كان } \text{و} , \text{ل} , \text{ه} \text{ ثلاثة اقترانات متصلة بحيث } \text{ل}(\text{س}) = \text{و}(\text{س}) , \text{ و}(\text{س}) = \text{ه}(\text{س}) \text{ فإن العبارة الصحيحة فيما يلي هي} :$$

$$(P) \left[\text{ل}(\text{س}) \text{ دس} = \text{ه}(\text{س}) + \text{ج} \right. \quad (ب) \left[\text{ه}(\text{س}) \text{ دس} = \text{ل}(\text{س}) + \text{ج} \right.$$

$$(ج) \left[\text{ل}(\text{س}) \text{ دس} = \text{و}(\text{س}) + \text{ج} \right. \quad (د) \left[\text{ل}(\text{س}) - \text{ه}(\text{س}) = \text{ج} \right.$$

$$(18) \text{ إذا كان } \text{م}(\text{س}) , \text{ل}(\text{س}) \text{ معكوسين لمشتقة الاقتران } \text{و}(\text{س}) \text{ فإن } (\text{ل} - \text{م})(\text{س}) \text{ تساوي} :$$

$$(P) \text{ و}(\text{س}) \quad (ب) \text{ و}(\text{س}) \quad (ج) 0 \quad (د) \text{ ثابت}$$

١٩) اذا كان m (س) معكوسا لمشتقة الاقتران w (س). $m \neq 0$ ، $\exists c$ ، $m \neq 0$ فإن $\int w$ (س) دس يساوي :

(P) $m(س) + c$ (ب) $m(س) + c$ (ج) $\frac{1}{m}m(س) + c$ (د) $\frac{1}{m}m(س) + c$

٢٠) اذا كان m (س) معكوسا لمشتقة الاقتران w (س)، وكان $m(س) = ظتاس + ١$ فإن $\int w$ (س) يساوي :

(P) $2 -$ (ب) $4 -$ (ج) 2 (د) 4

٢١) اذا كان $\int w(س) دس = س^٢ + ٤س - ٤$ فإن $w(س)$ تساوي :

(P) $2 -$ (ب) $4 -$ (ج) 2 (د) 4

٢٢) $\int \frac{1}{س} دس$ يساوي :

(P) $\frac{1}{٢} (لوس)^٢ + c$ (ب) $(لوس)^٢ + c$

(ج) $(\frac{1}{س} لوس)^٢ + c$ (د) $\frac{1}{٢} + c$

٢٣) $\int (٥ظا٢س - ١) دس$ يساوي :

(P) $٥ظاس - ٦س + c$ (ب) $٥ظاس - س + c$ (ج) $ظاس - ٤س + c$ (د) $- ظاس - ٦س + c$

٢٤) $\int \frac{جا٢س}{جا٢س} دس$ يساوي :

(P) $٢ - لو | جاس | + c$ (ب) $٢ - لو | قتاس | + c$

(ج) $٢ لو | جا٢س | + c$ (د) $٢ - لو | جا٢س | + c$



٢٥) $\int \frac{سقا٢س - سظا٢س}{س^٣} دس$ يساوي :

(P) $\frac{س^٢}{س^٣} + c$ (ب) $\frac{٢}{س} + c$ (ج) $\frac{٣}{٥}س + c$ (د) $\frac{س^٣}{٢س} + c$

٢٦) $\int س^٣ \sqrt{س^٢ + ١} دس$ يساوي :

(P) $\frac{٣}{٨} (س^٢ + ١)^{\frac{١}{٣}} + c$ (ب) $\frac{٣}{٨} س^{\frac{٣}{٨}} + c$ (ج) $\frac{٣}{٨} (س^٢ + ١)^{\frac{٣}{٨}} + c$ (د) $\frac{١}{٢} (س^٢ + ١)^{\frac{٤}{٣}} + c$

٢٧) $\int (قتا٢س - قتا٢س ظتا٢س) دس$ يساوي :

(P) $\frac{١}{٥} قتا٢س - \frac{١}{٣} ظتا٢س + c$ (ب) $\frac{١}{٣} قتا٢س + c$ (ج) $ظتاس + c$ (د) $- ظتاس + c$

٢٨) $\int ٤س ه^٢ دس$ يساوي :

(P) $٢ ه^٢ + c$ (ب) $\frac{١}{٢} ه^٢ + c$ (ج) $٢ ه^٢ + c$ (د) $٤ ه^٢ + c$

$$(29) \left[\frac{\text{دس}}{\text{س لو س}^3} \text{ دس يساوي} : \right]$$

$$(P) \text{ لو}^3 | \text{لو س} | + \text{ج} \quad (B) \frac{1}{3} | \text{لو} | | \text{لو س} | + \text{ج}$$

$$(J) \frac{1}{3} | \text{لو} | | \text{لو س} |^3 + \text{ج} \quad (D) \text{ب} + \text{ج}$$

$$(30) \left[\text{جتا}^2 \text{س} - \text{جا}^2 \text{س} \right] \text{ دس يساوي} :$$

$$(P) \text{ جاس جتاس} + \text{ج} \quad (B) \text{ حا}^2 \text{س} + \text{ج} \quad (J) \text{ حتا}^2 \text{س} + \text{ج} \quad (D) \frac{1}{5} (\text{جتا}^2 \text{س} - \text{جا}^2 \text{س}) + \text{ج}$$

$$(31) \left[\text{ه}^4 \text{ دس} \right] \text{ (حيث ه العدد النيبيري) يساوي} :$$

$$(P) \text{ ه}^4 \text{س} + \text{ج} \quad (B) \frac{1}{5} \text{ه}^5 + \text{ج} \quad (J) \text{ه}^4 + \text{ج} \quad (D) \text{ صفر}$$

$$(32) \text{ اذا كانت } \frac{\text{دص}}{\text{دس}} = \frac{\text{س}}{\text{ص}} \text{ ، وكانت ص} = 3 \text{ عند س} = 2 \text{ فإن العلاقة بين س ، ص هي} :$$

$$(P) \text{ س}^2 + \text{ص}^2 = 5 \quad (B) \text{ س}^2 - \text{ص}^2 = 5 \quad (J) \text{ س}^2 - \text{ص}^2 = 5 \quad (D) \text{ س}^2 + \text{ص}^2 = 13$$

$$(33) \left[\frac{\text{ظاس ظتاس}}{\text{س}} \text{ دس يساوي} : \right]$$

$$(P) \text{ لو} | \text{س} | + \text{ج} \quad (B) \frac{1}{2} \text{س} + \text{ج} \quad (J) \text{ ظاس ظتاس} + \text{ج} \quad (D) \frac{1}{2} \text{س} + \text{ج}$$

$$(34) \left[\frac{1}{\text{قاس} (1 - \text{جاس})} \text{ دس يساوي} : \right]$$

$$(P) - \text{لو} | 1 - \text{جاس} | + \text{ج} \quad (B) \text{ لو} | 1 - \text{جاس} | + \text{ج} \quad (J) - \text{لو} | 1 + \text{جاس} | + \text{ج} \quad (D) \text{ لو} | 1 + \text{جاس} | + \text{ج}$$

$$(35) \left[\text{قاس}^2 \text{ظاس دس يساوي} : \right]$$

$$(P) \frac{1}{4} \text{قاس}^2 + \text{ج} \quad (B) \frac{1}{4} \text{قاس}^2 + \text{ج} \quad (J) \frac{1}{2} \text{ظاس}^2 + \text{ج} \quad (D) \frac{1}{19} \text{قاس}^2 + \text{ج}$$

$$(36) \left[\text{جتا}^2 \text{س} (\text{جاس} + \text{جتاس})^{18} \text{ دس يساوي} : \right]$$

$$(P) \frac{1}{4} \text{جا}^2 \text{س} + \text{ج} \quad (B) \frac{1}{4} (\text{جتاس} + \text{جاس})^{20} + \text{ج}$$

$$(J) \frac{1}{21} (\text{جتاس} + \text{جاس})^{21} + \text{ج} \quad (D) \frac{1}{19} (\text{جتاس} + \text{جاس})^{19} + \text{ج}$$

$$(37) \left[\text{و} (\text{ه} (\text{س})) \text{ ه} (\text{س}) \text{ دس يساوي} : \right]$$

$$(P) \text{ و} (\text{ه} (\text{س})) + \text{ج} \quad (B) \text{ و} (\text{ه} (\text{س})) + \text{ج}$$

$$(J) \text{ ه} (\text{و} (\text{س})) + \text{ج} \quad (D) \text{ ه} (\text{و} (\text{س})) + \text{ج}$$

$$(38) \text{ اذا كان } \left[\text{و} (\text{س}) \text{ دس} = \text{جتا}^2 \text{س} - \text{جا}^2 \text{س} + 1 \text{ ، كان } \text{و} (\frac{\pi}{4}) = \text{صفر} \text{ ، فإن قيمة الثابت } P \text{ هي} :$$

$$(P) \sqrt{2} \quad (B) -\sqrt{2} \quad (J) 2 \quad (D) \sqrt{3}$$

٣٩) إذا كان $\lfloor s \rfloor = 3$ و $\lfloor s \rfloor - \lfloor 6s \rfloor = 1$ فإن $\lfloor s \rfloor$ تساوي :

(أ) 3 (ب) 3- (ج) $\frac{1}{3}$ - (د) $\frac{1}{3}$

٤٠) إذا كان $\lfloor s \rfloor + \lfloor 2s \rfloor = 1$ ، حيث $s \in \mathbb{R}^+$ ، فإن $\lfloor s \rfloor$ تساوي :

(أ) $\frac{1}{2}$ (ب) $\frac{1}{2}$ - (ج) $\frac{1}{2}$ - (د) $\frac{1}{2}$

٤١) إذا كان $\lfloor s^2 + 6s \rfloor = 0$ ، فإن عدد قيم P الصحيحة هي :

(أ) قيمة واحدة (ب) قيمتان (ج) ثلاث قيم (د) غير ذلك

٤٢) إذا كان $\lfloor s \rfloor = \lfloor 2s + 5 \rfloor$ ، $0 < s < 3$ ، فإن $\lfloor s \rfloor$ تساوي :

(أ) 51 (ب) 99 (ج) 75 (د) 41

٤٣) إذا كان $\lfloor s \rfloor = \lfloor \frac{P}{1-s} \rfloor$ ، $0 < P < 1$ و كان $\lfloor s \rfloor = \frac{1}{8}$ حيث $P > 0$ ، فإن قيمة الثابت P هي :

(أ) 1 (ب) $\frac{1}{8}$ (ج) $\frac{1}{6}$ (د) $\frac{1}{4}$

٤٤) إذا كان $\lfloor |s-1| \rfloor = \frac{5}{4}$ حيث $0 < s < 1$ فإن قيمة الثابت J هي :

(أ) 3 (ب) $\frac{5}{4}$ (ج) $\frac{3}{2}$ (د) 2

٤٥) إذا كان $\lfloor \frac{P}{s} \rfloor = \frac{9}{8}$ ، $\frac{1-s}{3} = \frac{9}{8}$ حيث $0 < P < 1$ فإن قيمة الثابت P هي :

(أ) 2- (ب) 2 (ج) $\frac{1}{2}$ (د) $\frac{5}{4}$

٤٦) إذا كان $s^2 - s + 1 = 0$ فإن قيمة $\lfloor s^2 + 9s + 4 \rfloor$ تساوي :

(أ) 15 (ب) 15- (ج) 25 (د) 25-

٤٧) إذا علمت ان $\lfloor \frac{s^2 + 27}{s + 3} \rfloor = 2P$ ، فإن قيمة $\lfloor (s^2 - 3s + 11) \rfloor$ تساوي :

(أ) 2P (ب) 2B (ج) P (د) B

٤٨) إذا كان $\sin \frac{\pi}{4} + \cos \frac{\pi}{4} = 1$ فإن قيمة $\lfloor \sin \frac{\pi}{4} \rfloor$ تساوي :

(أ) $\frac{\pi}{4}$ (ب) $\pi -$ (ج) صفر (د) $\frac{\pi}{4}$

(٤٩) إذا كان $\int_{\frac{\pi}{4}}^{\frac{\pi}{2}} \sqrt{\cos x} dx = 10$ ، $\int_{\frac{\pi}{4}}^{\frac{\pi}{2}} \sqrt{\sin x} dx = 4$ فإن قيمة $\int_{\frac{\pi}{4}}^{\frac{\pi}{2}} \sqrt{\tan x} dx$ تساوي :

(أ) ١٤ (ب) ٢٤ - (ج) صفر (د) ٧

(٥٠) إذا كان $\int_0^1 (x^2 + 6x + 5) dx = 12$ ، $\int_0^1 (x^2 + 6x + 5) dx = 5$ فإن $\int_0^1 \sqrt{x} dx$ تساوي :

(أ) ٥ (ب) ٧ (ج) ٩ (د) ١٩

(٥١) $\int_0^1 (x^3 + 3x^2 + 6x + 7) dx$ تساوي :

(أ) $\frac{1}{32} \int_0^1 x^3 dx - \frac{1}{4} \int_0^1 x dx + \int_0^1 x dx$ (ب) $\frac{1}{8} \int_0^1 x^3 dx - \frac{1}{8} \int_0^1 x dx + \int_0^1 x dx$

(ج) $\int_0^1 x^3 dx - \int_0^1 x dx + \int_0^1 x dx$ (د) $\int_0^1 x^3 dx - \int_0^1 x dx + \int_0^1 x dx$

(٥٢) إذا كان $\int_0^1 \frac{\pi}{2} dx = 2$ ، $\int_0^1 \frac{\pi}{2} dx = 2$ فإن $\int_0^1 \frac{\pi}{2} dx$ تساوي :

(أ) $\frac{3}{2}$ (ب) $\frac{1}{2}$ (ج) $\frac{2}{3}$ (د) $\frac{1}{2}$

(٥٣) إذا كان $\int_0^1 \sqrt{x} dx = 2$ ، $\int_0^1 \sqrt{x} dx = 2$ فإن $\int_0^1 \sqrt{x} dx$ تساوي :

(أ) $\frac{\pi}{4}$ (ب) $\frac{\pi}{2}$ (ج) $\frac{1}{2}$ (د) $\frac{1}{2}$

(٥٤) إذا كان $\int_0^1 (x^2 + 6x + 5) dx = 12$ ، $\int_0^1 (x^2 + 6x + 5) dx = 5$ فإن $\int_0^1 \sqrt{x} dx$ تساوي :

(أ) ١١ (ب) ٤٤ (ج) ١٣ (د) ٥٢

(٥٥) إذا كان $\int_0^1 (x^2 + 6x + 5) dx = 12$ ، $\int_0^1 (x^2 + 6x + 5) dx = 5$ فإن $\int_0^1 \sqrt{x} dx$ تساوي :

(أ) ١٠ (ب) ١٤ (ج) ١٤ - (د) ١٠ -

(٥٦) إذا كان $\int_0^1 (x^2 + 6x + 5) dx = 12$ ، $\int_0^1 (x^2 + 6x + 5) dx = 5$ فإن $\int_0^1 \sqrt{x} dx$ تساوي :

(أ) ١٨ (ب) ١٤ (ج) ١٢ (د) ١٦

(٥٧) إذا كان $\int_0^1 (x^2 + 6x + 5) dx = 12$ ، $\int_0^1 (x^2 + 6x + 5) dx = 5$ فإن قيمة $\int_0^1 \sqrt{x} dx$ هي :

(أ) ١٢ (ب) ٣ (ج) ٤ (د) ٢ -

٥٨) إذا كان $\sqrt[3]{p}$ و $(س) دس = ٨$ فإن $\sqrt[2]{p-س}$ و $(س) دس$ يساوي :

- (٨) (ب) ١ (ج) ٤ (د) ٨-

٥٩) إذا كان $ل (س) = ٤س - ٢س$ معكوس المشتقة للاقتران و $(س) و كان و (٢) = ٦$ فإن قيمة ٢ هي :


- (٢) (ب) $\frac{1}{٢}$ (ج) $\frac{1}{٢} -$ (د) ٢-

٦٠) إذا كان $٣ (س) = ٢س + ٣س$ معكوس المشتقة للاقتران و $(س) و كان و (١) = ٦$ ، فإن قيمة $٢٠ = دس$ فإن قيمتي كل من على الترتيب هما :

- (٥، ١) (ب) ٣، ٤- (ج) ٣، ٤- (د) ٢٠، ٦

٦١) إذا كان $\sqrt[3]{١٠(س+١)}$ و $١٥ = دس$ فإن قيمة ١٠ هي :

- (٨) (ب) ٢ (ج) ٤ (د) ٦

٦٢) $\sqrt[3]{٥(٥ دس + ٥ دس)}$ يساوي : 

- (٢٠) (ب) ١٠- (ج) ١٠- (د) ٠

٦٣) إذا كان $\sqrt[٢]{١٠(س)}$ و $١ = دس$ حيث ٢ ثابت فإن قيمة $\frac{٢س}{١٠(س)}$ دس يساوي :

- (٢) (ب) ٠ (ج) ٣ (د) ٤

٦٤) قيمة المقدار $\sqrt[٢]{١٠(س)}$ و $٢(س) دس + \sqrt[٢]{١٠(س)}$ و $(س) دس$ يساوي :

- (٦) (ب) ٦- (ج) ٣- (د) ٤

٦٥) إذا كان $(س) قابل للتكامل على الفترة [١، ٢]$ وكان $(١) = ١$ ، و $(٢) = ٤$ ، فإن قيمة

$\int_1^2 \sqrt[3]{(س)} دس$ يساوي :

- (١٤) (ب) ٧ (ج) $\frac{٦٣}{٢}$ (د) ١٤

٦٦) $\int \frac{١}{١+هـ} دس$ يساوي :

- (١) (ب) $\ln\left(\frac{١+هـ}{٢}\right)$ (ج) $\ln(٢+هـ)$ (د) $\ln(١+هـ)$

٦٧) $\int \sqrt[٢]{١٠(س)} دس$ يساوي :

- (٨) (ب) ٨- (ج) ٤ (د) ٤-

(٦٨) إذا كان $\left[\begin{matrix} 2 \\ 2 \end{matrix} \right]_{\text{دس}} = 30 - \text{حيث } \exists \text{ ع}$ فإن مجموعة قيم ج هي :

(پ) $\{ 5, 3 \}$ (ب) $\{ 5, 3 \}$ (ج) $\{ 5 \}$ (د) $\{ 3 \}$

(٦٩) $\left[\begin{matrix} 2 \\ 2 \end{matrix} \right]_{\text{دس}} + \text{لوس}$ يساوي :

(پ) $\text{س} + \text{ه}$ (ب) 2ه (ج) ه (د) $\frac{1}{4} \text{ه}$

(٧٠) $\left[\begin{matrix} 4 \\ 1-2 \end{matrix} \right]_{\text{دس}}$ يساوي :

(پ) $4 \text{ لو} + |1-2|$ (ب) $4 \text{ لو} + \left| \frac{1-\text{س}}{1+\text{س}} \right|$ (ج) $2 \text{ لو} + \left| \frac{1-\text{س}}{1+\text{س}} \right|$ (د) $2 \text{ لو} + |1-2|$

(٧١) $\left[\begin{matrix} 5+\text{س}^3 \\ 2+\text{س} \end{matrix} \right]_{\text{دس}}$ يساوي :

(پ) $3 \text{ لو} + |2+\text{س}|$ (ب) $5 \text{ لو} + |2+\text{س}|$ (ج) $3 \text{ لو} - |2+\text{س}|$ (د) $3 \text{ لو} + |2+\text{س}|$

(٧٢) حل المعادلة التفاضلية $3 \text{ دص} + \text{دس} = \text{جتاس دس هو}$:

(پ) $\text{ص} = \frac{1}{3} \text{ جاس} - \frac{1}{3} \text{ س} + \text{ج}$ (ب) $\text{ص} = \text{جاس} - \text{س} + \text{ج}$ (ج) $\text{ص} = (\text{جاس} - \text{س}) + 3$ (د) $\text{ص} = \text{جاس} - \frac{1}{3} \text{ س} + \frac{1}{3} \text{ ج}$

(٧٣) إذا كان $\left[\begin{matrix} 1-\text{س}^2 \\ 3+\text{س}^2 \end{matrix} \right]_{\text{دس}} = \text{ص ع} - \left[\begin{matrix} \text{ع دص} \\ \text{ع دص} \end{matrix} \right]_{\text{فان}}$ فإن $\left[\begin{matrix} \text{ع دص} \\ \text{ع دص} \end{matrix} \right]_{\text{يساوي}}$:

(پ) $\text{ه}^3 + \text{س}^2 + \text{ج}$ (ب) $-\text{ه}^3 + \text{س}^2 + \text{ج}$ (ج) $\frac{1}{4} \text{ه}^3 + \text{س}^2 + \text{ج}$ (د) $-\frac{1}{4} \text{ه}^3 + \text{س}^2 + \text{ج}$

(٧٤) إذا كان $\left[\begin{matrix} 3+\text{س}^2 \\ 3+\text{س}^2 \end{matrix} \right]_{\text{لوس دس}} = \text{ص ع} - \left[\begin{matrix} \text{ع دص} \\ \text{ع دص} \end{matrix} \right]_{\text{فان}}$ فإن $\left[\begin{matrix} \text{ص ع} \\ \text{ص ع} \end{matrix} \right]_{\text{يساوي}}$:

(پ) 2 لوس (ب) $(3+\text{س}^2) \text{ لوس}$ (ج) $\frac{1}{4} (3+\text{س}^2) \text{ لوس}$ (د) $\text{س} (3+\text{س}^2) \text{ لوس}$



(٧٥) $\left[\begin{matrix} 2 \\ 2 \end{matrix} \right]_{\text{دس}}$ يساوي :

(پ) 0 (ب) 1 (ج) 2 (د) 4

(٧٦) إذا كان $\left[\begin{matrix} 2 \\ 1- \end{matrix} \right]_{\text{دس}} = \text{ك}$ فإن $\left[\begin{matrix} 2 \\ 1- \end{matrix} \right]_{\text{دس}}$ يساوي :

(پ) ك (ب) 2ك (ج) $\frac{1}{4} \text{ك}$ (د) $-\frac{1}{4} \text{ك}$

$$(77) \int_{\pi}^{\pi} \frac{4s + \text{جتاس}}{s^2 + \text{جاس}} \text{ دس يساوي :}$$

(پ) π (ب) π^2 (ج) $\pi -$ (د) 0

(78) إذا استخدمنا التعويض $v = 2s$ فإن $\int \frac{s^2}{1+s} \text{ دس يساوي :}$

(پ) $\int \frac{v}{v+2} \text{ دص}$ (ب) $\int \frac{v}{v+2} \text{ دص}$ (ج) $\int \frac{v}{1+v} \text{ دص}$

(د) $\int \frac{v}{1+v} \text{ دص}$

(79) إذا كان ميل منحنى y عند أي نقطة عليه هو $\frac{1}{s-2}$ وكان المنحنى يمر بالنقطة $(3, 0)$ فإن $y(2+2) =$

(پ) 2 (ب) 3 (ج) 2 (د) 3

(80) إذا كان L (س) معكوس المشتقة للاقتزان $y(س) = \frac{1}{\sqrt{s^2 - 4}}$ ، $L(2) = 0$ ، $L(1) = \frac{\sqrt{3}}{4}$

فإن $\int \frac{2s^2 + 1}{\sqrt{s^2 - 4}} \text{ دس يساوي :}$

(پ) $\frac{\sqrt{3}}{2}$ (ب) $\frac{\sqrt{3}}{4}$ (ج) $\frac{\sqrt{3}}{4}$ (د) $\frac{\sqrt{3}}{4}$

(81) إذا كان $y(س) = \frac{s^2}{(س)}$ ، $y(س) \neq 0$ ، $y(0) = 2$ فإن $y(4)$ تساوي :

(پ) 4 (ب) 6 (ج) 8 (د) 10

(82) إذا كان $M(س) = \text{قاس} - \text{ظاس}$ معكوسا لمشتقة الاقتزان $y(س) = \frac{1+k}{1+\text{جاس}}$ ، $s \in [\frac{\pi}{4}, 0]$

فإن قيمة الثابت k هي :

(پ) 2 (ب) 1 (ج) 2- (د) 1-

(83) إذا كان $h(س) = \int \frac{s^2}{s^2 + \text{ظاس}} \text{ دس}$ فإن $\int \frac{\text{ظاس}}{s^2 + \text{ظاس}} \text{ دس يساوي :}$

(پ) $s + h(س) + \text{ج}$ (ب) $s - h(س) + \text{ج}$ (ج) $\frac{h(س)}{s} + \text{ج}$

(د) $\frac{s^2}{h(س)} + \text{ج}$

(84) إذا كان $\int \frac{y(س)}{جتاس^3} \text{ دس} = \frac{1}{3} \text{ قاس} + \text{ج}$ فإن $\int \frac{1}{y(س)} \text{ دس يساوي :}$

(پ) $\int \frac{1}{جتاس} + \text{ج}$ (ب) $\int \frac{1}{جاس} + \text{ج}$ (ج) $\int \frac{1}{قاس} + \text{ج}$ (د) $\int \frac{1}{ظاس} + \text{ج}$

(85) إذا كان $M(س)$ معكوسا لمشتقة الاقتزان $y(س) = \int \frac{y(س)}{M(س)} \text{ دس يساوي :}$

(پ) $\int \frac{1}{M(س)} + \text{ج}$ (ب) $\int \frac{1}{y(س)} + \text{ج}$ (ج) $\int \frac{1}{M(س)} + \text{ج}$ (د) $\int \frac{1}{y(س)} - \text{ج}$

٨٦) إذا كان $\int_1^2 (س) دس = \int_2^4 (س) دس + \int_4^6 (س) دس$ فإن $\int_1^6 (س) دس$ يساوي :

(أ) ٢٢ (ب) ٢ (ج) ٢٣ (د) ٢٤

٨٧) إذا كان $9 \leq (س) \leq 3$ لكل $س \in [2, 6]$ فإن أكبر و أصغر قيمة للمقدار $\int_2^6 (س) دس$ على الترتيب هما :

(أ) ١٦، صفر (ب) ٢، ٥ (ج) -١٢، -٦ (د) ١٢، ٦

٨٨) مساحة المنطقة المحددة بالمنحنى $ص = س^3$ والمسقيمين $س = ٠$ ، $س = ٢$ تساوي :

(أ) ٢ (ب) ١ (ج) ٨ (د) ٤

٨٩) مساحة المنطقة المحددة بالمنحنى $ص = \sqrt{٤ - س^2}$ و محور السينات تساوي :

(أ) ٢ (ب) $\pi ٢$ (ج) $\pi ٤$ (د) ٤

٩٠) مساحة المنطقة المحصورة بين المنحنيين $ص = س^4 + ١$ ، $ص = ٢س^٢$ تساوي :

(أ) $\frac{٨}{١٥}$ (ب) $\frac{١٦}{٢٥}$ (ج) $\frac{٨}{٣٠}$ (د) $\frac{١٦}{١٥}$

٩١) مساحة المنطقة المحصورة بين المنحنيات $ص = ٠$ ، $ص = ٨ - ٢س$ ، $س = ٢$ تساوي :

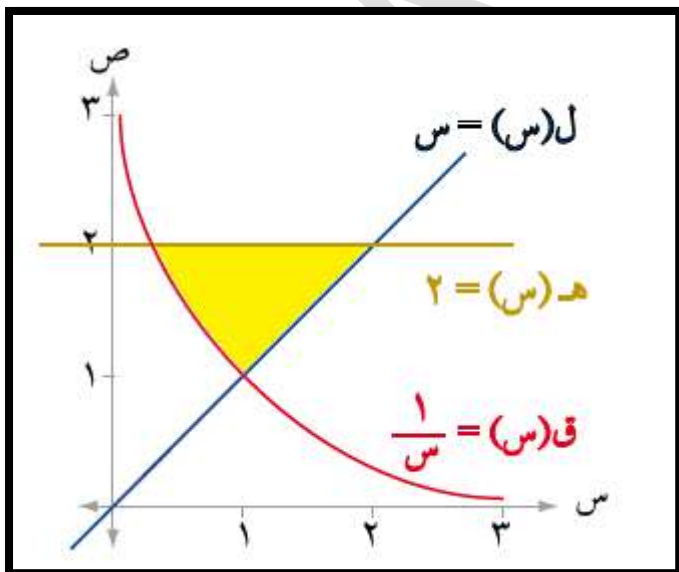
(أ) ٣٦ (ب) $\frac{٢٠}{٣}$ (ج) ٤ (د) $\frac{٨}{٣}$

٩٢) إذا كانت المساحة المحصورة بين منحنى $س = \sqrt{٢س}$ ، $س = ١$ ، $ص = ٠$ تساوي ١٢ وحدة

مساحة حيث $٠ < ٢$ فإن قيمة ٢ تساوي :

(أ) ٦ (ب) ١٨ (ج) ٤ (د) ١٢

٩٣) التكامل المحدود الذي يعبر عن مساحة المنطقة المظللة هو :



(أ) $\int_1^2 (س - 2) دس + \int_2^1 (2 - \frac{1}{س}) دس$

(ب) $\int_1^2 (س - 2) دس$

(ج) $\int_1^2 (2 - \frac{1}{س}) دس$

(د) $\int_1^2 (\frac{1}{س} - س) دس$



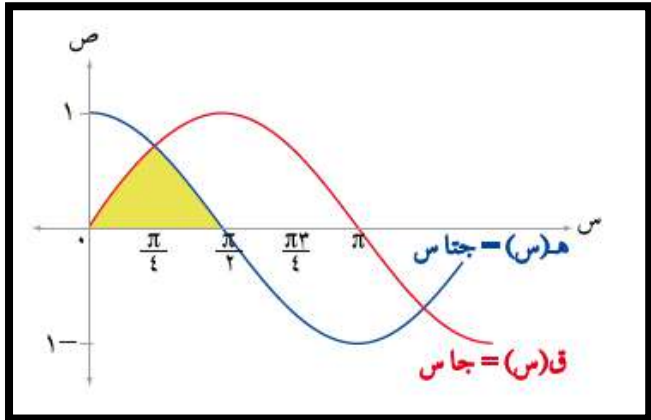
٩٤) التكامل المحدود الذي يعبر عن مساحة المنطقة المظللة هو :

(أ) $\int_0^{\frac{\pi}{2}} (\sin x - \cos x) dx$

(ب) $\int_0^{\frac{\pi}{2}} \cos x dx$

(ج) $\int_0^{\frac{\pi}{2}} \sin x dx + \int_{\frac{\pi}{2}}^{\pi} \cos x dx$

(د) $\int_0^{\frac{\pi}{2}} (\sin x + \cos x) dx$



٩٥) الشكل المجاور يمثل الواجهة الامامية

لاحد المباني ، مدخل هذا المبني على

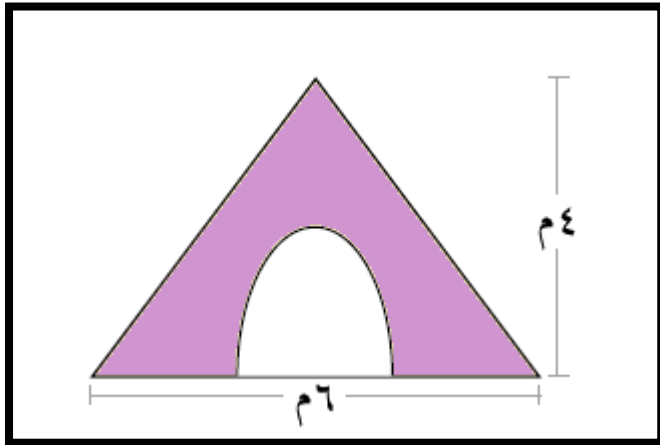
شكل منحنى الاقتران $y = 2 - \frac{1}{3}x^2$

اذا أن سعر دهان الوحدة المربعة نصف دينار

فإن التكلفة الكلية لدهان المنطقة المظللة هي :

(أ) $\frac{20}{3}$ دينار (ب) $\frac{10}{3}$ دينار

(ج) $\frac{16}{3}$ دينار (د) $\frac{40}{3}$ دينار

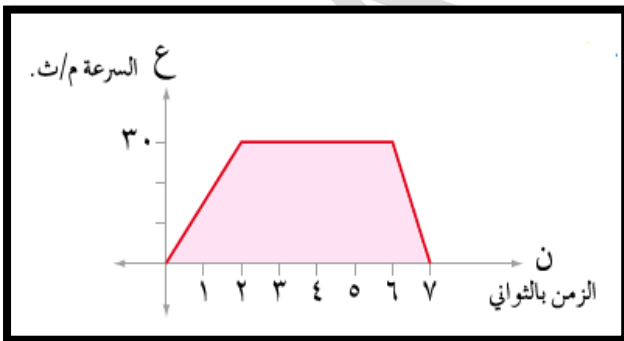


٩٦) الشكل المجاور يمثل العلاقة بين السرعة

والزمن لجسم يتحرك على خط مستقيم .

فإن المسافة المقطوعة في الفترة الزمنية

[٧ ، ٠] هي :



(أ) ١٣٥ متر

(ب) ١٦٥ متر

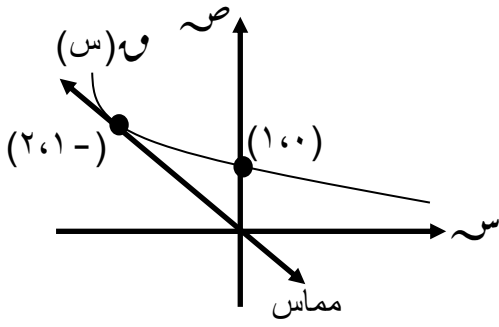
(ج) ١٥٠ متر

(د) ١٢٠ متر

٩٧) الشكل المجاور يمثل منحنى الاقتران $و(س)$

رسم مماس له عند النقطة $(١, ٠)$ فإن

١- $\int_{١}^٢ و(س) دس$ يساوي :



١- (د)

٤ (ج)

١ (ب)

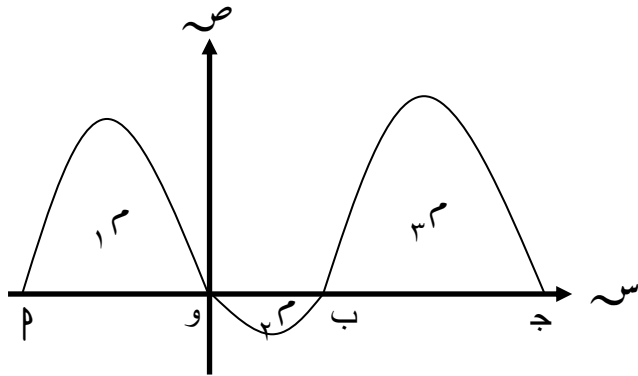
٣ (پ)

٩٨) في الشكل المجاور اذا كان :

$$\int_{١}^٨ و(س) دس = \int_{١}^٨ و(س) دس$$

وكان $٣٠ = ١م + ٢م + ٣م$ وحدة مربعة

فإن $٢م$ تساوي :



٢ (د)

٤ (ج)

١ (ب)

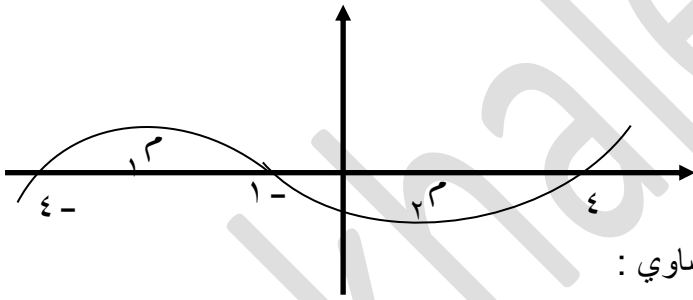
٣ (پ)

٩٩) اذا كان الشكل المجاور يمثل منحنى

الاقتران $و(س)$ وكانت $١م, ٢م$

عددان موجبان يمثلان المنطقتين المظلتين

فإن $\int_{١}^٤ و(س) دس - \int_{١}^٢ و(س) دس$ يساوي :



٢م + ١م (د)

٢م - ١م (ج)

٢م - ١م (ب)

٢م + ١م (پ)

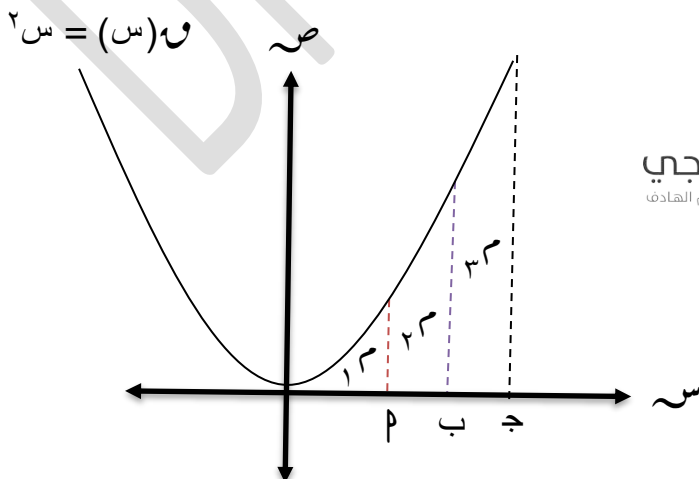
١٠٠) في الشكل المجاور اذا كان :

$$٢ = ١م$$

$$٢٧ = ٢م$$

$$٣١٩ = ٣م$$

فإن $\frac{ب + ج}{پ}$ يساوي :



٦ (د)

٤ (ج)

٥ (ب)

٣ (پ)



ان لم تستطع قول الحق فلا تصفق للباطل

**الكتاب المدرسي
(اسئلة الدوائر)
الوحدة الرابعة
التكامل**



يتكون هذا السؤال من (١١) فقرة من نوع الاختيار من متعدد، لكل فقرة (٤) بدائل، واحد فقط منها صحيح، ضع دائرة حول رمز البديل الصحيح:

(١) إذا كان $ق$ اقتراناً متصلًا على مجاله ، وكان $ق(س) = ٥س - ٢$ ، لو $جتاس = ١$ ، فإن $ق(٥)$ تساوي:

أ (١) ب (٥) ج (٢٥) د (٢)

(٢) إذا كان $ق(س) = ٥س + ٣$ ، فإن $ق(س)$ يساوي:

أ (٥س + ٣) ب ($\frac{١}{٥}س + ٣$)
ج (٥س - ٣) د ($\frac{١}{٥}س - ٣$)

(٣) إذا كان $ق$ اقتراناً معرفاً على الفترة $[-١ ، ٢]$ وكان $١ \leq ق(س) \leq ٤$ فما أكبر قيمة للمقدار $ق(٢)$ ؟

أ (٦) ب (٢٤) ج (٣) د (١٢)

(٤) إذا كان $ق(س) = ١٠$ ، فإن $ق(٢)$ يساوي:

أ (٥) ب (١٤) ج (٨) د (٢٤)

منهاجي
منعة التعليم الهادف

(٥) $ق(٥) \times ق(٥)$ يساوي:

أ ($ق(٥) - ق(٥)$) ب ($ق(٥) - ق(٥)$)
ج ($ق(٥) - ق(٥)$) د ($ق(٥) - ق(٥)$)

(٦) إذا كان $م(س)$ ، $هـ(س)$ معكوسين لمشتقة الاقتران المتصل $ق$ وكان

$١٢ = م(س) - هـ(س)$ ، فما قيمة $ق(١٢)$ ؟

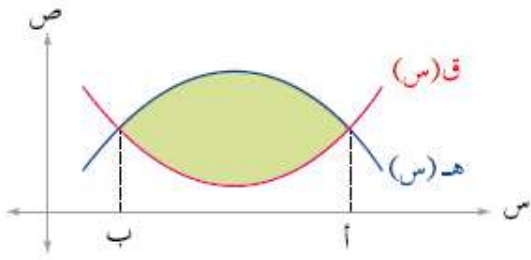
أ (٣) ب (٤,٥) ج (١٢) د (١٨)

(٧) إذا كان $\int_0^1 (س) ق(س) دس = ٤$ ، فما قيمة $\int_0^1 (س) ق(س) دس$ ؟

- (أ) ١ (ب) ٨ (ج) ٢ (د) ٤

(٨) إذا كان $\int_0^1 (س) ق(س) دس = ٢$ لسو جاس فإن $\int_0^1 (س) ق(س) دس$ تساوي:

- (أ) ظتاس (ب) - ظتاس (ج) ٢هـ + ظتاس (د) ٢هـ + ظتاس



الشكل (٤-٣٨)

- (د) ٤ -

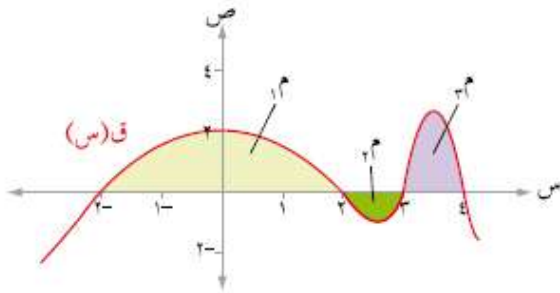
(٩) معتمداً الشكل (٤-٣٨)، إذا علمت أن مساحة

المنطقة المحصورة بين منحنىي الاقترانين ق ، هـ

تساوي (٦) وحدات مربعة وكان

$\int_0^1 (س) ق(س) دس = ١٠$ ، فإن قيمة $\int_0^1 (س) هـ(س) دس =$

- (أ) ١٠ (ب) ٦ (ج) ١



الشكل (٤-٣٩)

- (د) ٦, ٧

(١٠) معتمداً الشكل (٤-٣٩) الذي يبين المساحة بين

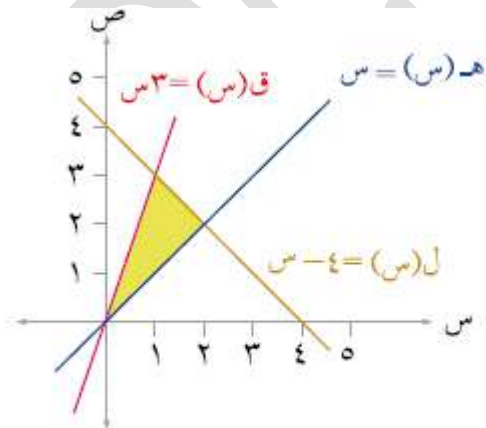
منحنى ق(س) ومحور السينات، إذا علمت أن

$\int_0^4 ق(س) دس = ٤,٨$ وحدة مربعة، $\int_2^4 ق(س) دس = ٠,٨$ وحدة مربعة،

$\int_0^2 ق(س) دس = ٢$ وحدة مربعة، فإن $\int_0^4 (س) ق(س) دس$ تساوي:

- (أ) ٥, ٦ (ب) ٦ (ج) ٦, ٨

(١١) معتمداً الشكل (٤-٤٠) ما مساحة المنطقة المظللة؟



الشكل (٤-٤٠)

منهاجي
منعة التعليم الهادف

(أ) $\int_0^3 (س - س) دس$

(ب) $\int_0^2 س دس + \int_2^4 (س - ٤) دس$

(ج) $\int_0^2 س دس + \int_2^4 (س - ٤) دس$

(د) $\int_0^3 (س - س) دس$

طريق التفوق

في

الرياضيات

للتوجيه العلمي

منهاجي
متعة التعليم الهادف

القطوع المخروطية

الأسئلة المتوقعة

٢٠٢٠



ا.إياد الحمد

٠٧٩٥٦٠٤٥٦٣

د. خالد جلال

٠٧٩٩٩٤٨١٩٨

منهاجي

منعة التعليم الهادف



القطوع المخروطية

أسئلة الاختيار من متعدد

فيما يلي (٨٤) فقرة من نوع الاختيار من متعدد لكل فقرة (٤) بدائل ، واحد فقط منها صحيح ، ضع دائرة

حول رمز البديل الصحيح :

(١) المعادلة $٤س^٢ - ص^٢ - ١٦س + ١٠ص = ٠$ تمثل :

(P) دائرة (ب) قطع مكافئ (ج) قطع ناقص (د) قطع زائد

(٢) المحل الهندسي للنقطة $٠(س، ص)$ التي تتحرك في المستوى الديكارتي بحيث يكون مجموع بعديها عن نقطتين ثابتين يساوي مقدارا ثابتا هو :

(P) خط مستقيم (ب) قطع مكافئ (ج) قطع ناقص (د) قطع زائد

(٣) اذا كانت النقطة $٠(س، ص)$ تقع على منحنى $٩س^٢ - ٢٥ص + ٢٢٥ = ٠$ ، فان الفرق المطلق بين بعدي ٠ عن بؤرتي هذا القطع يساوي :

(P) ٦ (ب) ١٠ (ج) ١٦ (د) $٢\sqrt{٣٤}$

(٤) معادلة محور التماثل للقطع المخروطي $٢(س+١) = ص - ١$ هي :

(P) $س = ١$ (ب) $س = -١$ (ج) $ص = ١$ (د) $ص = -١$

(٥) الفرق المطلق بين بعدي $٠(٣، ٢\sqrt{٤})$ عن بؤرتي القطع المخروطي الذي معادلته $٩س^٢ - ١٦ص + ١٤٤ = ٠$ يساوي :

(P) ٦ (ب) ٤ (ج) ٨ (د) ٣

(٦) معادلة الدليل للقطع الذي معادلته $ص^٢ - ٤س - ٤ = ٠$ هي :

(P) $س = ٢$ (ب) $س = -٢$ (ج) $ص = ٢$ (د) $ص = -٢$

(٧) معادلة الدليل للقطع الذي معادلته $(س-١)^٢ - ٨ = ٤ص$ هي :

(P) $س = ٣$ (ب) $س = -٣$ (ج) $ص = ٣$ (د) $ص = -٣$

(٨) معادلة المحور للقطع المخروطي الذي معادلته $ص^٢ - ٢ص + ٥ = س$ هي :

(P) $س = ٤$ (ب) $س = ١$ (ج) $ص = ٤$ (د) $ص = ١$

(٩) احداثيات رأس القطع $ص = س^٢ - ٢س - ٤$ هو :

(P) $(٠، ٢)$ (ب) $(٢، ٠)$ (ج) $(١، ٣)$ (د) $(٣، ١)$

(١٠) طول المحور القاطع للقطع $\frac{س^٢}{٢٥} - \frac{ص^٢}{٩} = ١$ يساوي :

(P) ٦ (ب) ٥ (ج) ١٠ (د) ٣

(١١) طول المحور الاكبر للقطع الناقص $٩(ص-١) + ١٦(س-٢) = ١٤٤$ هو :

(P) ٦ (ب) ٤ (ج) ٩ (د) ٨

(١٢) قطع مخروطي معادلته $\frac{س^٢}{٩} + \frac{ص^٢}{٢٥} = ١$ فان مجموع طولي محوريه يساوي :

(P) ١٦ (ب) ٣٤ (ج) ٢٥ (د) ٨

(١٣) القطع الذي معادلته $٤ص^٢ + ٥س^٢ = ٢٠$ اختلافه المركزي يساوي :

(أ) $\frac{١}{٥\sqrt{٣}}$ (ب) $\frac{٣}{٤}$ (ج) $\frac{١}{٤}$ (د) $\frac{٣}{٥\sqrt{٣}}$

(١٤) إذا كان المحور المرافق للقطع $س^٢ - \frac{ص^٢}{٤} = ١$ أطول بوحدتين من المحور الأصغر للقطع $\frac{ص^٢}{١٦} + \frac{س^٢}{٤٩} = ١$ فإن قيمة ٤ تساوي :

(أ) ١٠٠ (ب) ٣٦ (ج) ٢٥ (د) ١٢

(١٥) إذا كانت المعادلة $٢س^٢ + ٤ل = ٨$ تمثل قطع مكافئ صادي سالب فإن $٤ \in \dots$

(أ) ٤ (ب) -٤ (ج) ٤^+ (د) $٤ - \{٠\}$

(١٦) قطع زائد معادلته $٢س^٢ - ٣ص^٢ + ١٨ = ٤ل$ ، فإن قيم ٤ التي تجعل محوره القاطع موازيا لمحور الصادات هي :

(أ) $٤ > ٢٧$ (ب) $٤ < ٢٧$ (ج) $٤ < ٢٧$ (د) $٤ < ٢٧$

(١٧) المعادلة $٢س^٢ + ٤ل = ٨$ تمثل قطعاً ناقصاً فإن $٤ \in \dots$

(أ) $\{٢-\}$ (ب) $\{٠\}$ (ج) $(٠, \infty)$ (د) $(٠, ٢)$

(١٨) المعادلة $٢س^٢ + (٤ + ل) = ٨$ تمثل قطعاً زائداً فإن $٤ \in \dots$

(أ) $\{١-\}$ (ب) $\{٠\}$ (ج) $(٠, ١-)$ (د) $(١-, \infty-)$

(١٩) إذا قُطِعَ مخروط مزدوج بمستوى عمودي على محوره ولا يمر برأسه فإن المنحنى الناتج :

(أ) دائرة (ب) قطع مكافئ (ج) قطع ناقص (د) قطع زائد

(٢٠) إحداثيات نهايتي المحور المرافق للقطع $(ص + ٦)^٢ - (س - ٢)^٢ = ١$ هي :

(أ) $(٦, ٢)$ ، $(٦-, ٢)$ (ب) $(٦, ٢)$ ، $(٦-, ٢)$

(ج) $(٦, ٣)$ ، $(٦-, ٣)$ (د) $(٥, ٣)$ ، $(٥-, ٣)$

(٢١) معادلة القطع المكافئ الذي رأسه $(د, هـ)$ وبؤرته $(د + ج, هـ)$ حيث $٠ < ج$ ، هي :

(أ) $(ص - هـ) = ٤(د - س)$ (ب) $(ص - هـ) = ٤(د - س)$

(ج) $(ص - هـ) = ٤(د - س)$ (د) $(ص - هـ) = ٤(د - س)$

(٢٢) معادلة القطع المكافئ الذي رأسه نقطة الأصل ودليله المستقيم $س = ٢$ هي :

(أ) $٢ص - ٤س = ٨$ (ب) $٢ص - ٤س = ٨$ (ج) $٢ص = ٤س - ٨$ (د) $٢ص - ٤س = ٨$

(٢٣) معادلة القطع المكافئ الذي بؤرته $(٣, ٢)$ ودليله المستقيم $س = ١$ هي :

(أ) $(٢ - ص) = ٨(س - ١)$ (ب) $(٢ - ص) = ٨(س + ١)$

(ج) $(٢ + ص) = ٨(س - ١)$ (د) $(٢ - ص) = ٨(س + ١)$

٢٤) معادلة القطع المكافئ الذي رأسه (١، ٢) و بؤرته (١، ٢) هي :

- (أ) $(ص + ٢)١٦ - = ٢(١ - س)$ (ب) $(١ - س)١٦ - = ٢(٢ + ص)$
 (ج) $(٢ + ص)١٦ = ٢(١ - س)$ (د) $(١ - س)١٦ = ٢(٢ + ص)$

٢٥) معادلة القطع المكافئ الذي رأسه (٣، ٠) ودليله المستقيم $ص = ٢ - ٢$ هي :

- (أ) $(٣ - ص)٢٠ - = ٢س$ (ب) $س٢٠ = ٢(٣ - ص)$
 (ج) $س٢٠ = ٢(٣ - ص)$ (د) $(٣ - ص)٨ - = ٢س$

٢٦) معادلة القطع الزائد الذي بؤرته (٢، ± ٤) وطول محوره القاطع ٦ وحدات هي :

- (أ) $٧(٢ - س)٢ - ٩ص٢ = ٦٣$ (ب) $٩(٢ - س)٢ - ٧ص٢ = ٦٣$
 (ج) $٩ص٢ - ٧(٢ - س)٢ = ٦٣$ (د) $٧ص٢ - ٩(٢ - س)٢ = ٦٣$

٢٧) معادلة القطع الناقص الذي بؤرته (± ٣ ، ٠) وطول محوره الاصغر ٦ وحدات هي :

- (أ) $٥٢ = ٢ص١٣ + ٢س٤$ (ب) $٥٢ = ٢ص٤ + ٢س١٣$
 (ج) $٢٠ = ٢ص٤ + ٢س٥$ (د) $٢٠ = ٢ص٥ + ٢س٤$

٢٨) إذا كان البعد البؤري لقطع زائد يساوي ثلاثة أمثال طول محوره المرافق ، فإن الاختلاف المركزي يساوي :

- (أ) $\frac{٣}{٨}$ (ب) $\frac{٣}{٢}$ (ج) $\frac{٤}{٣}$ (د) $\frac{٦}{٣٥}$

٢٩) طول المحور القاطع للقطع الزائد $١٦س - ٩ص = ٣٦$ يساوي :

- (أ) ٨ (ب) ٦ (ج) ٤ (د) ٣

٣٠) رأس القطع المكافئ الذي معادلته $ص = \frac{١}{٨}س + ٣$ هو :

- (أ) (٠، ٣-) (ب) (٣، ٠) (ج) (٥، ٠) (د) (٨، ٣-)

٣١) بؤرتا القطع الزائد الذي معادلته $\frac{٢ص}{٩} - \frac{٢س}{١٦} = ١$ هما النقطتان :

- (أ) $(٠، ٤ \pm)$ (ب) $(٠، \sqrt{٧} \pm)$ (ج) $(٠، ٣ \pm)$ (د) $(٠، ٥ \pm)$

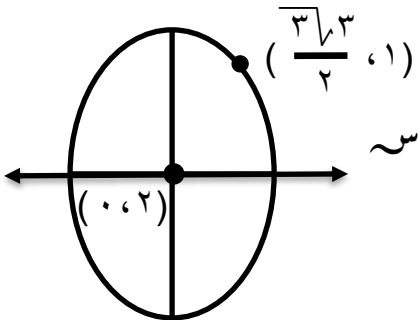
٣٢) إذا كانت بؤرة القطع المكافئ الذي معادلته $(ص + ١)٢ - (س + ٣)٢ = ١$ فإن د تساوي :

- (أ) ٥ (ب) ٥- (ج) ٣- (د) ٣

٣٣) طول المحور الأكبر للقطع الناقص

في الشكل المجاور يساوي :

- (أ) ٨ (ب) ٦ (ج) ٤ (د) $\sqrt[٣]{٣}$



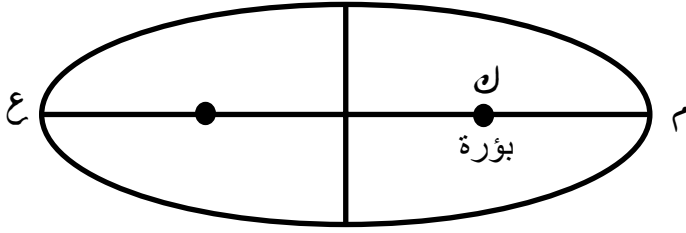
منهاجي
منعة التعليم العادف

٣٤) في الشكل المجاور إذا كانت

النسبة $م : ن : ع$ تساوي $١ : ٣$

فإن الاختلاف المركزي لهذا

القطع يساوي :



(د) $\frac{1}{3}$

(ج) $\frac{3}{4}$

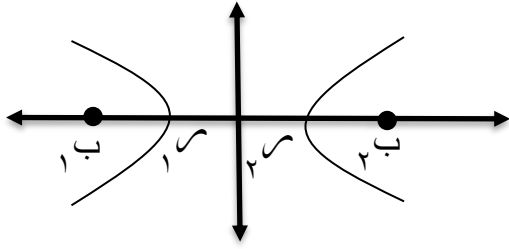
(ب) $\frac{1}{2}$

(هـ) $\frac{1}{4}$

٣٥) يمثل الشكل المجاور المنحنى البياني لقطع

مخروطي ، إذا كانت $\frac{1}{5} = \frac{ب_١ م_١}{ب_٢ م_٢}$

فإن الاختلاف المركزي لهذا القطع يساوي :



(د) $\frac{7}{3}$

(ج) $\frac{4}{3}$

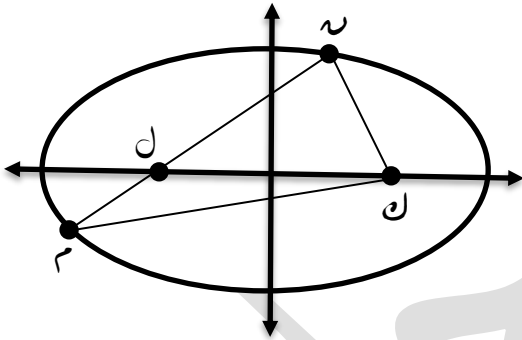
(ب) $\frac{3}{2}$

(هـ) $\frac{5}{3}$

٣٦) ل ، ن هما بؤرتا القطع المخروطي الممثل بالشكل

المجاور الذي معادلته $١ = \frac{ص^2}{٦٤} + \frac{س^2}{١٠٠}$

فإن محيط المثلث $ن م ل$



(د) ٣٦

(ج) ٣٢

(ب) ٢٤

(هـ) ٤٠

٣٧) معادلة المحل الهندسي لنقطة تتحرك في المستوى بحيث تبقى على بعد ثابت عن النقطة $(٢، -٣)$ وتمر اثناء

حركتها بالنقطة $(٠، ٢-)$ هي :

(ب) $٢٥ = ٢(٣-ص) + ٢(٢+س)$

(هـ) $٩ = ٢(٣-ص) + ٢(٢+س)$

(د) $٩ = ٢(٣+ص) + ٢(٢-س)$

(ج) $٢٥ = ٢(٣+ص) + ٢(٢-س)$

٣٨) معادلة المحل الهندسي لنقطة تتحرك في المستوى بحيث تبقى على بعدين متساويين عن المستقيمين :

$٩ = ص + ٢س$ ، $١- = ص + ٢س$ هي :

(هـ) $٨ = ص + ٢س$ (ب) $٤ = ص + ٢س$ (ج) $٨ = ص - ٢س$ (د) $٤ = ص - ٢س$

٣٩) معادلة الدائرة التي تمس المحورين الاحداثيين الموجبين وطول نصف قطرها ٣ وحدات هي :

(ب) $٩ = ٢(٣+ص) + ٢(٣+س)$

(هـ) $٩ = ٢(٣-ص) + ٢(٣-س)$

(د) $٩ = ٢ص + ٢(٣-س)$

(ج) $٩ = ٢(٣-ص) + ٢(٣-س)$

٤٠) معادلة الدائرة التي يقع مركزها على المستقيم $ص = ٢س + ٤$ وتمس محور السينات عند $(١, ٠)$ هي :

(ب) $٤ = ٢(٢ - ص) + ٢(١ - س)$ (پ) $١٦ = ٢(٤ - ص) + ٢(١ - س)$

(د) $١٦ = ٢(٢ + ص) + ٢(١ + س)$ (ج) $٤ = ٢(٢ - ص) + ٢(١ + س)$

٤١) إحداثيات بؤرة القطع المكافئ الذي رأسه $(١, ٢)$ ومعادلة دليله $ص = ٥$ هي :

(پ) $(١, -١)$ (ب) $(٢, -٣)$ (ج) $(١, ٩)$ (د) $(٩, ٢)$

٤٢) تتحرك نقطة على منحنى $٢(٦ + س) = ١٦ - ص - ٣٢$ ، فإن إحداثيات النقطة الواقعة على المنحنى والتي تكون أقرب ما يمكن من دليل القطع المكافئ هي :

(پ) $(٢, ٦)$ (ب) $(٢, ٣)$ (ج) $(٢, -٣)$ (د) $(٢, -٣)$

٤٣) إذا كان رأس القطع المكافئ الذي معادلته $ص - ١٢س + ٢ص + ب = ٠$ هو النقطة $(٢, -١)$ فإن ب تساوي :

(پ) $٢٥ -$ (ب) $٢١ -$ (ج) ٢٥ (د) ٢١

٤٤) معادلة القطع المكافئ الذي رأسه $(٠, ٠)$ وبؤرته رأس القطع المكافئ $(٢س - ٨) = ٨ص$ هي :

(پ) $ص = ١٦س$ (ب) $س = ١٦ص$ (ج) $ص = ٣٢س$ (د) $س = ٣٢ص$

٤٥) دائرة معادلتها $ص - ٢س + ٢ص - ٦ = ٠$ ، ومركزها $(١, -٣)$ ، فإن قيمة الثابت ل تساوي :

(پ) $٣ -$ (ب) $٦ -$ (ج) ٦ (د) $\frac{٣}{٢}$

٤٦) إذا كانت معادلة دليل القطع المكافئ $(س + ٢) = ١٦ - (ص - ل)$ هي $ص = ٧$ ، فإن قيمة الثابت ل تساوي :

(پ) ٣ (ب) ٢ (ج) ٤ (د) ١

٤٧) قطع مخروطي رأساه $(٤, ٠)$ ، فإذا كانت النسبة بين بعد المركز عن البؤرة إلى بعد المركز عن الرأس

تساوي $\frac{٢}{٣}$ فإن معادلته هي

(ب) $١ = \frac{٢ص}{٨١} + \frac{٢س}{٤٥}$ (پ) $١ = \frac{٢ص}{٢٠} - \frac{٢س}{١٦}$

(د) $١ = \frac{٢ص}{٤٥} + \frac{٢س}{٨١}$ (ج) $١ = \frac{٢ص}{٢٠} - \frac{٢س}{١٦}$

٤٨) عدد ا لقطع المكافئة التي يمكن رسمها في المستوى الديكارتي بحيث يكون رأسها النقطة $(٢, ١)$ وتمر بالنقطة $(٥, ٥)$ هو :

(پ) ٣ (ب) ٢ (ج) ١ (د) عدد لانهائي

٤٩) قيمة الاختلاف المركزي للقطع الناقص المتساوي المحورين يساوي :

(پ) صفر (ب) ٢ (ج) $\sqrt{٢}$ (د) غير ذلك

٥٠. قيمة الثابت م التي تجعل المعادلة $1 = \frac{ص^2}{م-٤} + \frac{س^2}{م-٧}$ تمثل قطع زائد هي :

- (أ) (٤، ٧) (ب) (٧، ٤) (ج) (٧، ٤-) (د) (٤، ٧-) ، (٧، ٤)

٥١. إذا كانت معادلة دليل القطع المكافئ هي $س = ١ -$ ، ومعادلة محوره $ص = ٢ -$ ويمر منحناه بالنقطة (٤ ، ٥) فإن منحناه يتجه نحو :

- (أ) اليمين (ب) اليسار (ج) الأعلى (د) الأسفل

٥٢. تتحرك النقطة م(س ، ص) بحيث أن بعدها عن النقطة (٢- ، ٨) يساوي دائما بعدها عن المستقيم $ص = ٢$ فإن معادلة المحل الهندسي للنقطة م هي :

- (أ) $(ص - ٥)^2 = ١٢(س - ٥)$ (ب) $(س - ٢)^2 = ١٢(ص - ٥)$
 (ج) $(س + ٢)^2 = ١٢(ص - ٥)$ (د) $(ص - ٢)^2 = ١٢(س - ٥)$

٥٣. معادلة الدائرة التي تقع في الربع الأول وتمس المستقيمتان $س = ٣$ ، $ص = ٢$ ، $س = ٩$ هي :

- (أ) $(س - ٦)^2 + (ص - ٥)^2 = ٩$ (ب) $(س - ٦)^2 + (ص - ٥)^2 = ٣٦$
 (ج) $(س - ٦)^2 + (ص - ١)^2 = ٩$ (د) $(س - ٦)^2 + (ص + ٨)^2 = ٣٦$

٥٤. القطع المخروطي $١ = \frac{ص^2}{٢م٣} + \frac{س^2}{٢م}$ يمر بالنقطة (٣ ، ٠) فإن البعد البؤري له يساوي :

- (أ) $\sqrt{٦}$ (ب) $\sqrt{٦}$ (ج) $\sqrt{٦}$ (د) $\sqrt{٦}$

٥٥. قطع ناقص مساحته ٢٠π وطول محوره الأصغر $= ٨$ وكانت ب_١ ، ب_٢ هما بؤرتي القطع والنقطة ل تقع على منحناه فإن محيط المثلث ل ب_١ ب_٢ يساوي :

- (أ) ١٠ (ب) ١٢ (ج) ١٤ (د) ١٦

٥٦. إذا كان طول المحور الأكبر لقطع ناقص يساوي ثلاثة أمثال طول المحور الأصغر، فإن الاختلاف المركزي لهذا القطع يساوي :

- (أ) $\frac{١}{٣}$ (ب) $\frac{٢}{٣}$ (ج) $\frac{٣}{٨\sqrt{١}}$ (د) $\frac{\sqrt{٨}}{٣}$

٥٧. معادلة القطع الناقص الذي بؤرتاه (٤ ، ٣) ، (١٢ ، ٣) و طول محوره الأكبر ١٠ وحدات هي :

- (أ) $١ = \frac{(س - ٨)^2}{٩} + \frac{(ص - ٣)^2}{٢٥}$ (ب) $١ = \frac{(س - ٣)^2}{٩} + \frac{(ص - ٨)^2}{٢٥}$
 (ج) $١ = \frac{(س + ٣)^2}{٩} + \frac{(ص - ٨)^2}{٢٥}$ (د) $١ = \frac{ص^2}{٩} + \frac{س^2}{٢٥}$

٥٨. قطع ناقص طول محوره الأكبر ٢٢ واختلافه المركزي ه ، فإذا كانت ل المسافة بين إحدى بؤرتي القطع والرأس البعيد عنها ، فإن ل تساوي :

- (أ) $٢(ه - ١)$ (ب) $ه(٢ + ١)$ (ج) $٢(ه + ١)$ (د) $ه + ٢$

٥٩) معادلة القطع الناقص الذي محوره الأكبر ص = ١ ، ومعادلة محوره الأصغر س = ٢ ، والبعد البؤري $\sqrt{٢}$

والمسافة بين طرفي محوريه الأكبر والأصغر تساوي ٥ وحدات هي :

$$١ = \frac{٢(٢ - س)}{١٦} + \frac{٢(١ - ص)}{٩} \quad (ب) \quad ١ = \frac{٢(١ - س)}{٩} + \frac{٢(٢ - ص)}{١٦} \quad (پ)$$

$$١ = \frac{٢(٢ - ص)}{٢٥} + \frac{٢(١ - س)}{٩} \quad (د) \quad ١ = \frac{٢(١ - ص)}{٢٥} + \frac{٢(٢ - ص)}{٩} \quad (ج)$$

٦٠) إذا كان المحور المرافق للقطع الزائد $س^٢ - \frac{ص^٢}{م} = ١$ ، أطول بوحدتين عن المحور الأصغر للقطع

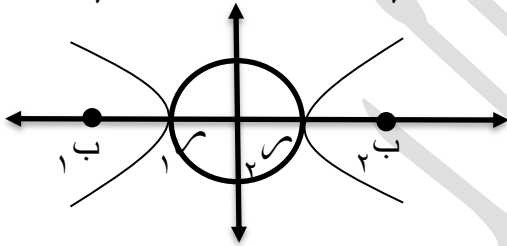
الناقص $\frac{ص^٢}{٤٩} + \frac{س^٢}{١٦} = ١$ ، فإن قيمة م تساوي :

$$(پ) ١٠٠ \quad (ب) ٣٦ \quad (ج) ٢٥ \quad (د) ١٢$$

٦١) الاختلاف المركزي للقطع الناقص الذي فيه قياس الزاوية المحصورة بين القطعة المستقيمة الواصلة بين

طرف المحور الأصغر والرأس ، ومحوره الأكبر ٣٠ يساوي :

$$(پ) \frac{\sqrt{٢}}{٣} \quad (ب) \frac{٢}{٣} \quad (ج) \frac{٢}{٣\sqrt{٢}} \quad (د) \frac{\sqrt{٢}}{٣\sqrt{٢}}$$



٦٢) في الشكل المجاور إذا علمت أن الدائرة

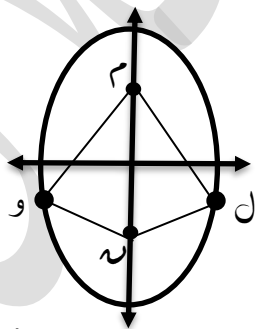
تمر بنهايتي المحور القاطع والمرافق فإن

قيمة الاختلاف المركزي للقطع يساوي :

$$(پ) ٢ \quad (ب) \sqrt{٢} \quad (ج) صفر \quad (د) غير ذلك$$

٦٣) قيمة الاختلاف المركزي للقطع الزائد المتساوي المحورين يساوي :

$$(پ) ٢ \quad (ب) \sqrt{٢} \quad (ج) صفر \quad (د) غير ذلك$$



٦٤) م ، ن بؤرتا القطع الذي معادلته

$$١ = \frac{ص^٢}{٦٤} + \frac{س^٢}{٣٦} \quad \text{هي}$$

فإن محيط الشكل الرباعي م ل ن و

يساوي :

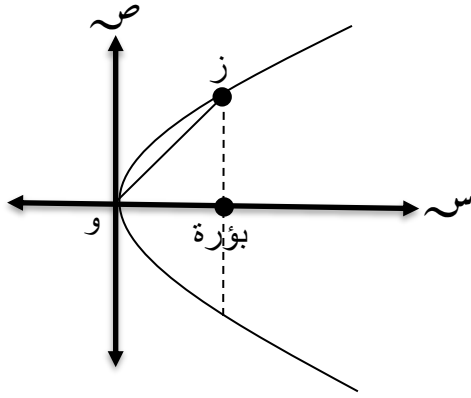
$$(پ) ٢٤ \quad (ب) ١٦ \quad (ج) ٣٢ \quad (د) ٦٤$$

٦٥) الدائرة $٣س^٢ + ٣ص^٢ - ٣٠س + ١٨ص + ٧٥ = ٠$ تمس :

(پ) محور السينات (ب) محور الصادات (ج) المحورين معا (د) لا تمس ايا من المحورين

٦٦) بؤرة القطع المكافئ الذي معادلته $(٢ - س)^٢ = ١٢(٢ - ص)$ هي :

$$(پ) (١, \frac{٢٥}{٢٤}) \quad (ب) (١, \frac{٢٤}{٢٥}) \quad (ج) (١, \frac{٩٥}{٩٦}) \quad (د) (١, \frac{٩٧}{٩٦})$$



(٦٧) في الشكل المجاور :

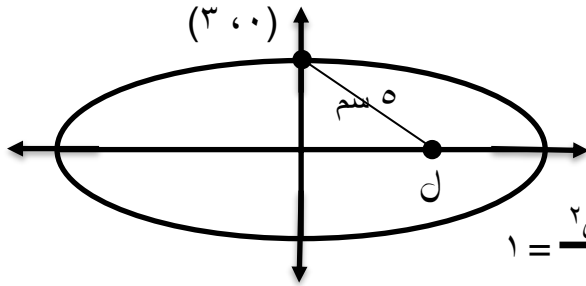
إذا كان وز $5\sqrt{2}$
فإن معادلة القطع المكافئ
هي :

(ب) $ص^2 = 8س$

(٢) $ص^2 = 16س$

(د) $ص^2 = 8س$

(ج) $ص^2 = 4س$



(٦٨) الشكل المجاور يمثل قطع ناقص

مركزه نقطة الأصل، واحدى بؤرتيه

النقطة ل فإن معادلته هي :

(٢) $1 = \frac{ص^2}{9} + \frac{س^2}{16}$ (ب)

(٢) $1 = \frac{ص^2}{9} + \frac{س^2}{25}$

(د) $1 = \frac{ص^2}{16} + \frac{س^2}{9}$

(ج) $1 = \frac{ص^2}{25} + \frac{س^2}{9}$

(٦٩) إذا كان القطع الناقص $1 = \frac{ص^2}{2م٦} + \frac{س^2}{2م٣}$ يتقاطع مع المستقيم $ص = 2س + 1$ عند $س = ٠$
فإن مربع البعد بين طرفي محوريه الأكبر و الأصغر يساوي :

(د) $\frac{٢}{٢}$

(ج) $2\sqrt{2}$

(ب) ٢

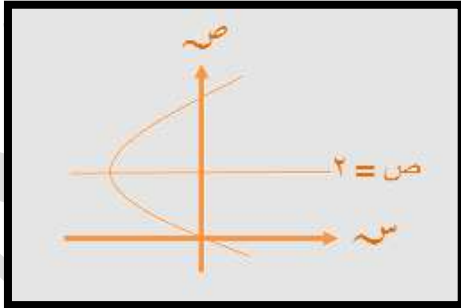
(٢) $2\sqrt{2}$

(٧٠) في الشكل المجاور :

قطع مكافئ بؤرته تقع

على محور الصادات .

فإن معادلته هي :



(ب) $٤(٢ - ص) = (١ + ص)^2$

(٢) $٤(٢ - ص) = (١ + ص)^2$

(د) $٢(٢ + ص) = (١ + ص)^2$

(ج) $٤(٢ + ص) = (١ - ص)^2$

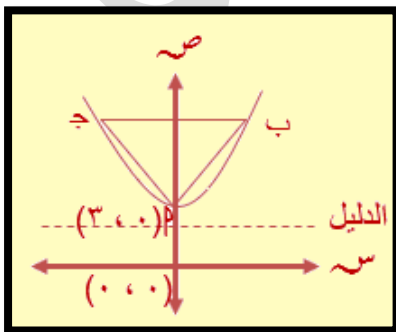
(٧١) في الشكل المجاور : قطع مكافئ

المثلث ب ج متساوي الاضلاع

مساحته $(3\sqrt{16})$ وحدة مربعة فيه

فيه الضلع ب ج يوازي دليل القطع

فإن معادلته هي :



(٢) $٤ص = 3\sqrt{16}س + ١٢$ (ب) $ص = 3\sqrt{16}س + ١٢$ (ج) $ص = ١٢ + ٢س$ (د) $ص = ٢س$

الكتاب المدرسي (اسئلة الدوائر)



يتكون هذا السؤال من ٣ فقرات من نوع الاختيار من متعدد، لكل منها ٤ بدائل واحد منها فقط صحيح، ضع دائرة حول رمز البديل الصحيح:

(١) طول نصف قطر الدائرة التي معادلتها $(٢س + ٤) + (٢ص - ١٠) = ٣٦$ يساوي:
أ) ٣ وحدات ب) ٦ وحدات ج) ٧ وحدات د) ٩ وحدات

(٢) معادلة دليل القطع المكافئ الذي معادلته $ص + ٤س - ٨ = ٠$ هي:

أ) $س = ١$ ب) $س = ٣$ ج) $ص = ١$ د) $ص = ٣$

(٣) نوع القطع المخروطي الذي معادلته $ص = ٣س + ٢س^٢$ هو:

أ) دائرة ب) مكافئ ج) ناقص د) زائد

(٤) إذا كانت بؤرة القطع المكافئ الذي معادلته $(١ + ص)^٢ = ٨(س + د)$ هي النقطة

(٣، -١)، فإن د تساوي:

أ) -٥ ب) -٣ ج) ٣ د) ٥

(٥) إحداثيات نهايتي المحور المرافق للقطع الزائد الذي معادلته $(٢ + س)^٢ - (٣ - ص)^٢ = ١$ هي:

أ) $(٢ - ١, ٣)$ ب) $(٢ - ١, ٣)$

ج) $(٢ + ١, ٣ -)$ د) $(٢, ٣ - ١)$

(٦) طول المحور الأصغر للقطع الناقص الذي يمر كلاً من المستقيمتين $س = ١$ ، $س = ٩$ ،

$ص = -١$ ، $ص = ٥$ ، يساوي:

أ) ٣ وحدات ب) ٤ وحدات ج) ٦ وحدات د) ٨ وحدات.

(٧) تتحرك النقطة ن(س ، ص) في المستوى بحيث يتحدد موقعها بالمعادلة

$$1 = \frac{ص^2}{16 - ل^2} + \frac{س^2}{ل}$$

حيث ل عدد ثابت، إذا كانت $ل > ٠$ ، فإن المحل الهندسي لحركة النقطة ن يمثل:

(أ) قطعاً مكافئاً (ب) قطعاً ناقصاً (ج) قطعاً زائداً (د) دائرة

(٨) تتحرك النقطة ن(س ، ص) في الربعين الأول والثالث من المستوى الإحداثي، حيث تبقى

على بُعدين متساويين من المحورين الإحداثيين. إنَّ معادلة المحل الهندسي للنقطة ن هي:

(أ) $ص = س^3$ (ب) $ص = س^2$ (ج) $ص = -س$ (د) $ص = س$

(٩) قطع مخروطي معادلته $٩(س + ١)^2 - ١٦(ص - ٢)^2 = ١٤٤$ ، فإنَّ اختلافه المركزي يساوي:

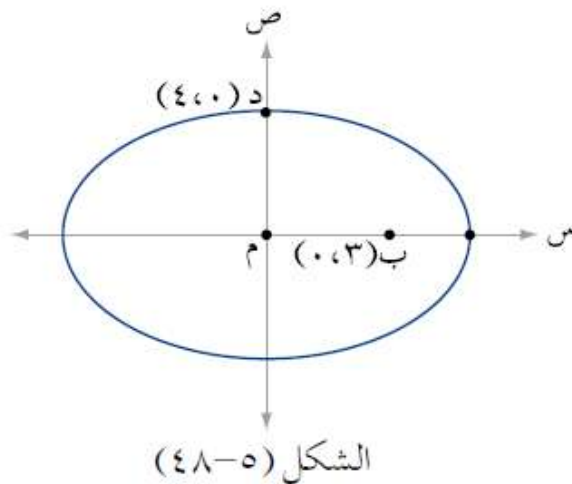
(أ) $\frac{3}{5}$ (ب) $\frac{5}{3}$ (ج) $\frac{4}{5}$ (د) $\frac{5}{4}$

(١٠) الشكل (٥-٤٨) يمثل منحنى قطع ناقص مركزه نقطة الأصل، وإحدى بؤرتيه النقطة

ب(٣ ، ٠)، وإحدى نهايتي محوره الأصغر النقطة د(٠ ، ٤). فإنَّ طول محوره الأكبر

يساوي:

(أ) ١٢ (ب) ١٠ (ج) ٧ (د) ٥



(١١) مساحة القطع الناقص الذي معادلته $٤س^2 + ٩ص^2 = ٣٦$ بالوحدات المربعة يساوي:

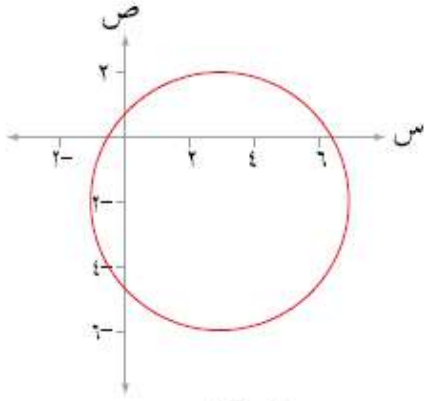
(أ) ٥π (ب) ٦π (ج) ١٣π (د) ٣٦π

(١٢) قطع مكافئ يقع رأسه على مركز القطع الزائد الذي معادلته

$$\frac{9}{2}(s-1)^2 - 8(s-2)^2 = 72, \text{ وبؤرتيه } (1, 3), \text{ فإن معادلة محور تماثل}$$

القطع المكافئ هي:

$$(أ) s=1 \quad (ب) s=1 \quad (ج) s=2 \quad (د) s=2$$



الشكل (٥-٤٩)

(١٣) معادلة الدائرة الممثلة بالشكل (٥-٤٩) هي:

$$(أ) s^2 + 2s - 2v + 9 = 0$$

$$(ب) s^2 + 2s + 2v + 9 = 0$$

$$(ج) s^2 + 2s - 2v - 3 = 0$$

$$(د) s^2 + 2s + 2v - 3 = 0$$

