

شبكة منهاجي التعليمية

الموضوع: الزوايا المتبادلة والمتناظرة والمتحالفة.

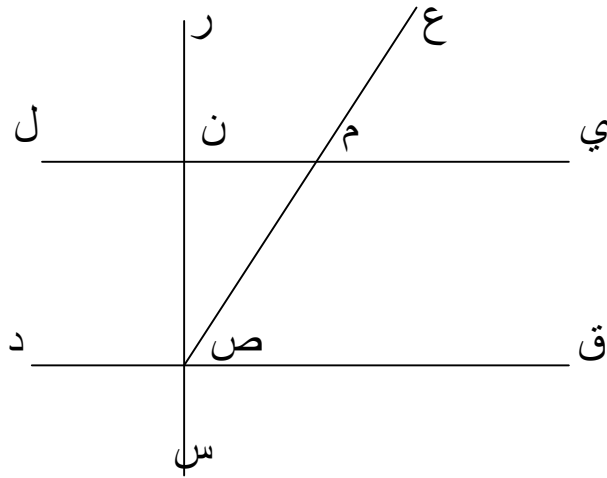
الصف: السابع

المبحث: الرياضيات

إعداد المعلمة: مها شرف

السؤال الأول:

اعتمد على الرسم المجاور في الإجابة عمّا يلي:



(أ) سمّ مستقيمين متوازيين.

(ب) سمّ مستقيمين متعامدين.

(ج) سمّ مستقيمين متقاطعين.

(د) سمّ زوجاً من الزوايا المتناظرة.

(هـ) سمّ زوجاً من الزوايا المتحالفة.

(و) أعط زوجاً من الزوايا المتكاملة.

(ز) أعط زوجاً من الزوايا المتتامة.

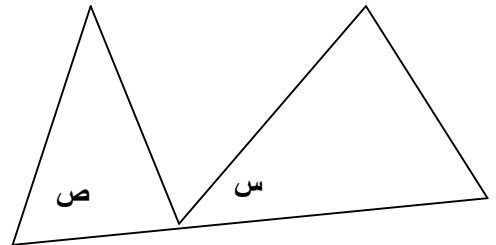
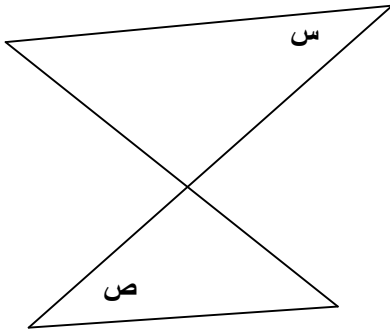
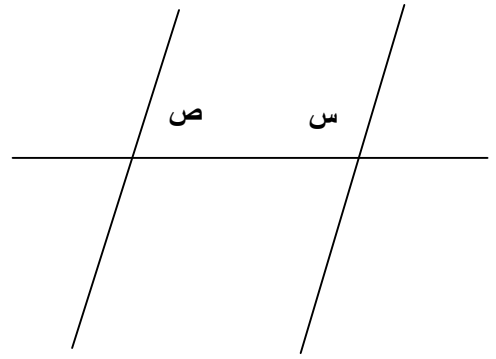
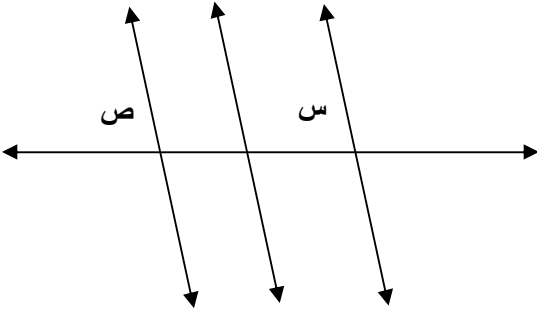
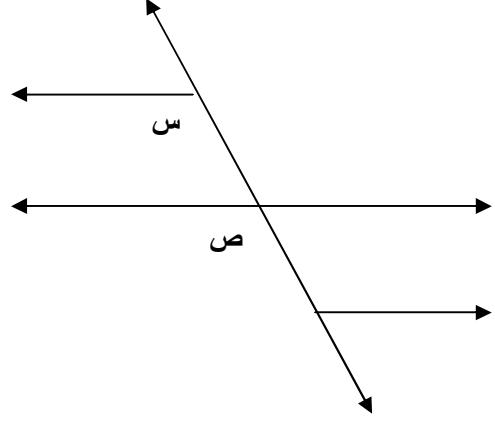
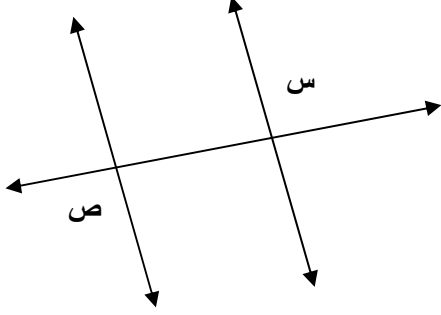
(ح) أعط زوجاً من الزوايا المتقابلة بالرأس.

(ط) أعط زوجاً من الزوايا المتجاورة.

(ي) أعط زوجاً من الزوايا المتبادلة.

السؤال الثاني:

اذكر وضع كل زوج من الزوايا التالية من حيث التبادل أو التناظر أو التحالف:



تمنياتنا لكم بالتوفيق