

## تدريبات اثرائية لمنهاج الرياضيات

الوحدة الاولى : الجمع والطرح ضمن العدد ٩٩٩

الصف الثاني - الفصل الدراسي الثاني



فكرة واعداد:

الاستاذة نهاد حسن

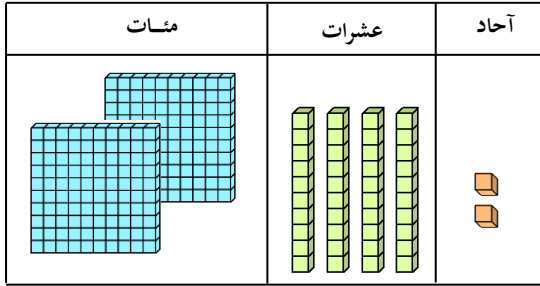
مشرفة مركز مصادر التعلم

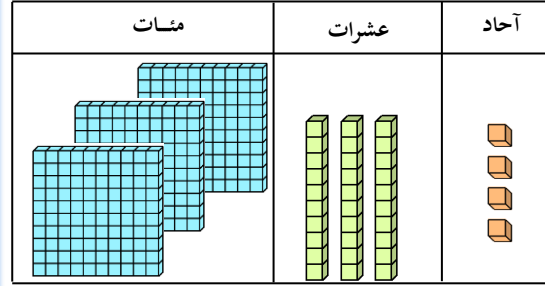


تدريبات على وحدة الجمع والطرح ضمن العدد ٩٩٩  
المهارة: الجمع باستخدام الحساب الذهني



١- أكتب العدد الممثل بالأشكال التالية:







فلر جديدا

٢- أوجد حاصل الجمع في الأعداد التالية :

$$\boxed{\phantom{000}} = 30 + 443$$

$$\boxed{\phantom{000}} = 605 + 60$$

$$\boxed{\phantom{000}} = 400 + 248$$

$$393 = 333 + \boxed{\phantom{000}}$$

$$880 = 200 + \boxed{\phantom{000}}$$

$$\boxed{\phantom{000}} = 5 + 434$$

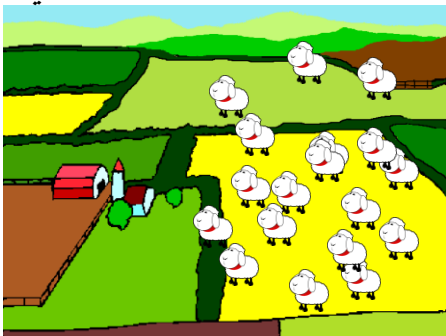
$$549 = \boxed{\phantom{000}} + 542$$

$$825 = 625 + \boxed{\phantom{000}}$$

$$598 = 538 + \boxed{\phantom{000}}$$

$$635 = 625 + \boxed{\phantom{000}}$$

٣- في المزرعة ٢٣٠ خروفا، اشترى الراعي ٢٠ خروفا، احسب ذهنيا عدد الخراف في المزرعة.





١- جد ناتج جمع ما يلي:

$$\begin{array}{r} ٦٢٤ \\ ٢١٤ + \\ \hline \end{array}$$

$$\begin{array}{r} ٣٨٧ \\ ٢٠٢ + \\ \hline \end{array}$$

$$\begin{array}{r} ١٢٥ \\ ١٥٤ + \\ \hline \end{array}$$

$$\begin{array}{r} ٢٢٣ \\ ٣٦٦ + \\ \hline \end{array}$$

$$\begin{array}{r} ١٤٣ \\ ٥٥٠ + \\ \hline \end{array}$$

$$\begin{array}{r} ٥٧٥ \\ ١٢٤ + \\ \hline \end{array}$$

$$= ١٢١ + ٤٣٤ + ٣٥٣$$

٢- أضع العدد المناسب في  $\square\square$ :

$$\begin{array}{r} ٣٥٧ \\ \square\square + \\ \hline ٨٧٨ \end{array}$$

$$\begin{array}{r} ٤١٥ \\ ١\square\square + \\ \hline ٥٤٩ \end{array}$$

$$\begin{array}{r} \square\square\square \\ ٣٣٩ + \\ \hline ٦٥٩ \end{array}$$

$$\begin{array}{r} \square\square\square \\ ٦١٤ + \\ \hline ٨٧٦ \end{array}$$

$$\begin{array}{r} ٥٧٣ \\ \square\square١ + \\ \hline ٨٩٤ \end{array}$$

$$\begin{array}{r} ٤٢٥ \\ \square\square\square + \\ \hline ٧٦٦ \end{array}$$

٣- اكتب العدد المناسب في  :

$$= \text{  } + ٥٥٢$$


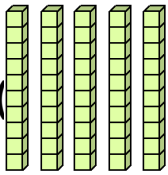
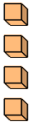
$$\text{  } = ٣٥٠ + ٤٠٨$$


$$٩٩٩ = \text{  } + ٢٢٧$$

$$٧٨٩ = ٢٣٤ + \text{  }$$

$$٨٧٨ = \text{  } + ٢٢٧$$

$$٧٨٩ = ٦٥٢ + \text{  }$$


٤- مع هبة ٤ مئات (  ) و ٥ عشرات (  ) و ٤ احاد (  )، اكتب الرقم الذي يعبر عن مجموع ما معها.



٥- في مكتبة المدرسة ٥٧٦ كتابا، واشترى مدير المكتبة ٤٢٢ كتابا جديدا، فكم أصبح عدد الكتب في المكتبة؟




٦- في محل الألعاب ٢٣٠ دمية، و ٤٦٨ سيارة للأطفال، فكم عدد الألعاب في المحل؟



٧- يملك الراعي ٣٨٢ خروفا، و ٢١٧ بقرة، فكم عدد الحيوانات التي لديه في المرعى؟



١- أجد ناتج طرح ما يلي:



$$\begin{array}{r} 798 \\ - 474 \\ \hline \end{array}$$

$$\begin{array}{r} 587 \\ - 283 \\ \hline \end{array}$$

$$\begin{array}{r} 709 \\ - 504 \\ \hline \end{array}$$

التحقق: ..... + ..... =

$$= 201 - 488$$

التحقق: ..... + ..... =

$$= 704 - 876$$

التحقق: ..... + ..... =

$$= 325 - 406$$

التحقق: ..... + ..... =

$$= 645 - 706$$

٢- أضع العدد المناسب في   :

$$\begin{array}{r} 997 \\ - \square\square \\ \hline 878 \end{array}$$

$$\begin{array}{r} 475 \\ - \square\square\square \\ \hline 223 \end{array}$$

$$\begin{array}{r} \square\square\square \\ - 265 \\ \hline 420 \end{array}$$

٣- اكتب العدد المناسب في  :

$$232 = \square - 552$$

$$353 = \square - 468$$

$$121 = \square - 436$$

$$153 = 234 - \square$$

$$202 = \square - 565$$

$$343 = 652 - \square$$

$$403 = \square - 789$$

$$121 = 652 - \square$$

٥- في محل الملابس ٨٥٦ قطعة ملابس، باع منها ٤٥٠ فستاناً، فكم قطعة بقي لديه؟



.....

٦- مع هبة ٨٨٨ ديناراً، اشترت هاتفاً ذكياً، وبقي معها ٤٥٠ ديناراً، فكم ثمن الهاتف؟



.....

٧- باع المزارع محصول الحمضيات بمبلغ ٢٣٢ ديناراً، و باع محصول التفاح بمبلغ ٦٥٤، فكم

يزيد ثمن التفاح على ثمن القمح؟



.....

٨- أكتب عددين ناتج طرحهما ٣٤٣ :

الحل: .....

٩- أكتب عددين ناتج طرحهما ٢١٥ :

الحل: .....



١- أجد ناتج طرح ما يلي:



$$\begin{array}{r} 628 \\ - 479 \\ \hline \end{array}$$

$$\begin{array}{r} 520 \\ - 285 \\ \hline \end{array}$$

$$\begin{array}{r} 843 \\ - 554 \\ \hline \end{array}$$

التحقق: ..... + ..... =

$$= 163 - 371$$

التحقق: ..... + ..... =

$$= 688 - 876$$

التحقق: ..... + ..... =

$$= 367 - 756$$

٢- أضع العدد المناسب في □□ :

$$\begin{array}{r} 997 \\ \square\square - \\ \hline 272 \end{array}$$

$$\begin{array}{r} 574 \\ \square\square - \\ \hline 282 \end{array}$$

$$\begin{array}{r} \square\square\square \\ 265 - \\ \hline 447 \end{array}$$

٣- اكتب العدد المناسب في □ :

$$234 = \square - 552$$

$$438 = \square - 863$$

$$161 = \square - 436$$

$$155 = 634 - \square$$

$$262 = \square - 555$$

$$383 = 556 - \square$$

$$289 = \square - 789$$

$$161 = 655 - \square$$

٥- مجموع عدد الاطباء في المستشفى ٦٥٥ طبيباً وطبيبةً، فاذا كان عدد الاطباء ٤٢٦ ، فكم عدد الطبيبات ؟



الحل: .....

٦- راتب المعلم في مدرستي ٧٨٥ ديناراً، فاذا صرف منه ٥٨٧ ديناراً، فكم ديناراً يتبقى معه؟



الحل: .....

س١٨: ذهب علاء وأحمد للسوق لشراء بعض المستلزمات والمثبت عليها سعرها، أجب عن المسائل التالية.



١- مع علاء ٣٤٥ قرشاً، فكم قرشاً يحتاج ليتمكن من شراء الكرسي؟

الحل: .....

٢- مع أحمد ٩٧٥ قرشاً، اشترى الطاولة ودفع ثمنها كاملاً، فكم بقي معه؟

الحل: .....

٣- اذا كان مع علاء ٢٨٨ قرشاً، فكم قرشاً سيحتاج لشراء المظلة ؟

الحل: .....