

الولاء في العلوم

الصف : العاشر

20

22

الفصل الدراسي الثاني
العام الدراسي
(2021/2022)



إعداد المعلمة :

ولاء شعواطة

الوحدة الثالثة

تصنيف الكائنات الحية (النباتات)



منهاجي

منعة التعليم القادف



الوحدة الثالثة : تصنيف الكائنات الحية

الدرس الخامس :

النباتات اللاوعائية و النباتات الوعائية اللابذرية



المفاهيم & المصطلحات	
Moss	الحزازيات
Haploid	أحادي المجموعة الكروموسومية
Diploid	ثنائي المجموعة الكروموسومية
Alternation of Generation	تبادل الأجيال
Gametophyte	الطور الجاميتي
Sporophyte	الطور البوغي
Ferns	السرخسيات

- عدد بعض الخصائص العامة للنباتات ؟

- 1- كائنات حية عديدة الخلايا
- 2- حقيقية النوى
- 3- تمتاز خلاياها بوجود جدار خلوي يتكون من السيليلوز
- 4- ذاتية التغذية
- 5- متكيفة للعيش على اليابسة
- 6- ذات قمم نامية تمكنها من النمو
- 7- تحتوي أنسجة متخصصة
- 8- ظاهرة تبادل (تعاقب) الأجيال في النباتات

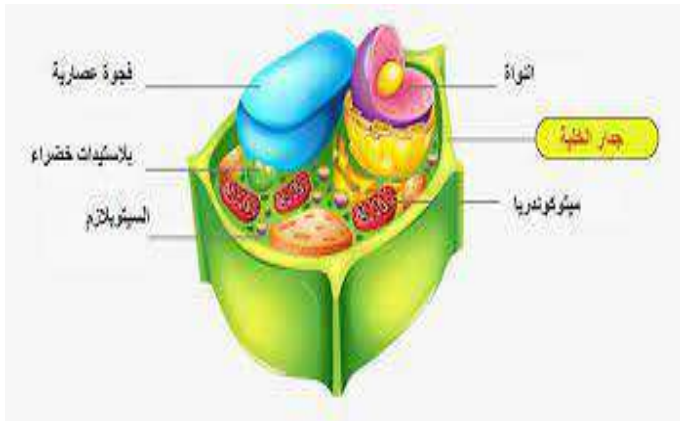
- علل تعد النباتات ذاتية التغذية ؟

لأنها تصنع غذاءها بذاتها من المواد الأولية غير العضوية مكونة مواد عضوية



- ماذا تحتوي خلايا النبات ؟

تحتوي صبغة الكلوروفيل في البلاستيدات الخضراء اللازمة لعملية البناء الضوئي



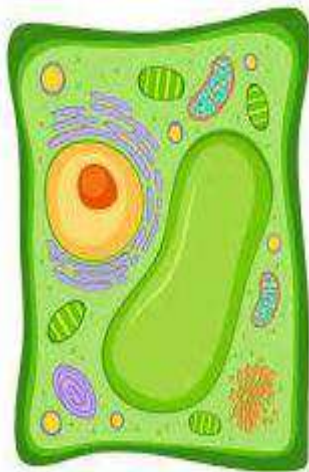
- ما أهمية الجدار الخلوي المحيط بخلايا النباتات ؟

- 1- يدعم الخلية
- 2- يحافظ على شكل الخلية
- 3- يفصل الخلايا بعضها عن بعض

- عرف النسيج النباتي ؟ هو مجموعة من الخلايا النباتية التي تنتظم مع بعضها مشكلة الأنسجة النباتية



- بماذا تمتاز الفجوات الموجودة في الخلايا النباتية ؟



تمتاز بأنها كبيرة الحجم

- عدد وظائف الفجوات ؟

- 1- خزن الغذاء
- 2- المحافظة على الضغط الأسموزي.
- 3- خزن الفضلات والمواد السامة.

- عرف الأنسجة الوعائية ؟

هي أنسجة متخصصة

في عمليات نقل الماء والأملاح

والغذاء بين أجزاء النبات المختلفة



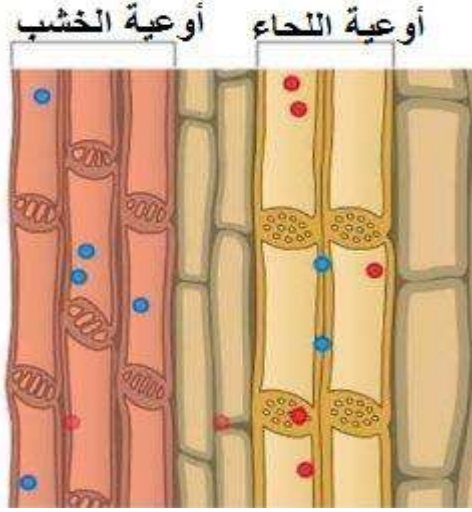
الأنسجة الوعائية (الخشب واللحاء)



م تتكون الأنسجة الوعائية ؟

1- الخشب : هو عبارة عن أنابيب مجوفة ، تنقل الماء والأملاح من الجذر إلى الساق ثم الأوراق

2- اللحاء : ينقل الغذاء الجاهز من الأوراق إلى أجزاء النبات جميعها



أنواع النباتات اعتماداً على احتوائها على الأنسجة الوعائية

نباتات
وعائية



نباتات
لا وعائية

هي النباتات التي تحتوي
على أنسجة وعائية

هي النباتات التي لا تحتوي
على أنسجة وعائية

الزيتون

الفيوناريا



محفظة أبواغ

أشباه أوراق

أشباه سيقان

أشباه جذور



بماذا تتميز النباتات الوعائية عن النباتات اللاوعائية؟

- 1- الحجم الكبير
- 2- التركيب المعقد
- 3- القدرة على العيش في مختلف البيئات

- علل يكون حجم نبات الخنشار أكبر من حجم نبات الفيوناريا؟

لأن نبات الخنشار من النباتات الوعائية التي تتكون من أنسجة وعائية متخصصة لنقل الماء و الغذاء ، أما نبات الفيوناريا من النباتات اللاوعائية التي تعتمد على نقل الغذاء من خلية إلى أخرى مما يحول دون زيادة حجمه

مجموعات النباتات الوعائية

النباتات
اللابذرية

هي النباتات التي
تتكاثر بالأبواغ

السرخسيات
(الخنشار)



النباتات
البذرية

هي النباتات التي
تتكاثر بالبذور

فلفل أحمر



الحمضيات



الصنوبريات



- ما أوجه التشابه والاختلاف بين النباتات البذرية ؟

**** أوجه التشابه :**

القدرة على تكوين تراكيب يحتوي كل منها على الجنين وغذائه ويحاط بغلاف وتسمى **البذور**

**** أوجه الاختلاف :** المكان الذي تتكون فيه البذور

- عرف البذور ؟

هي تراكيب في النباتات البذرية تحتوي على الجنين وغذائه وتحاط بغلاف



مجموعات النباتات البذرية

مغطاة البذور
أو
النباتات الزهرية

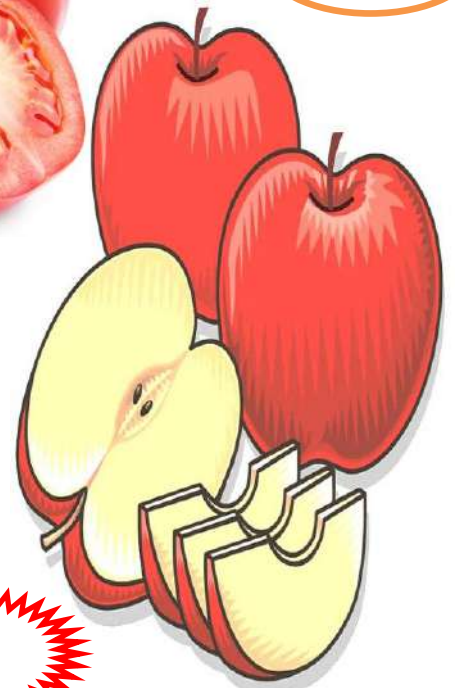
معرفة البذور
أو
النباتات اللازهرية

البندورة

التفاح

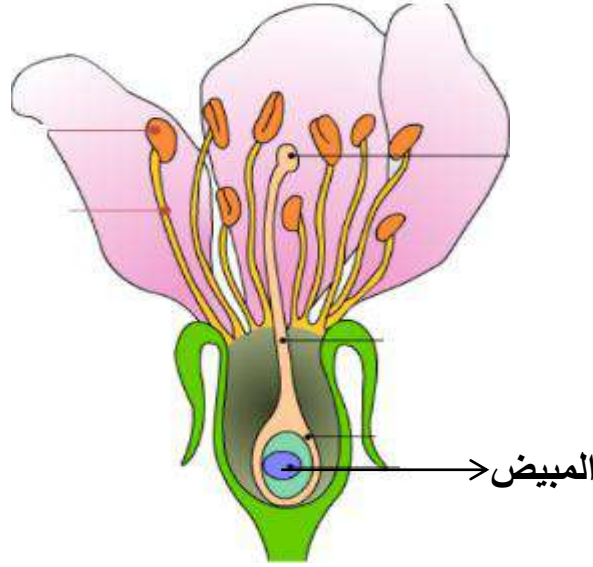
السرو

الصنوبر



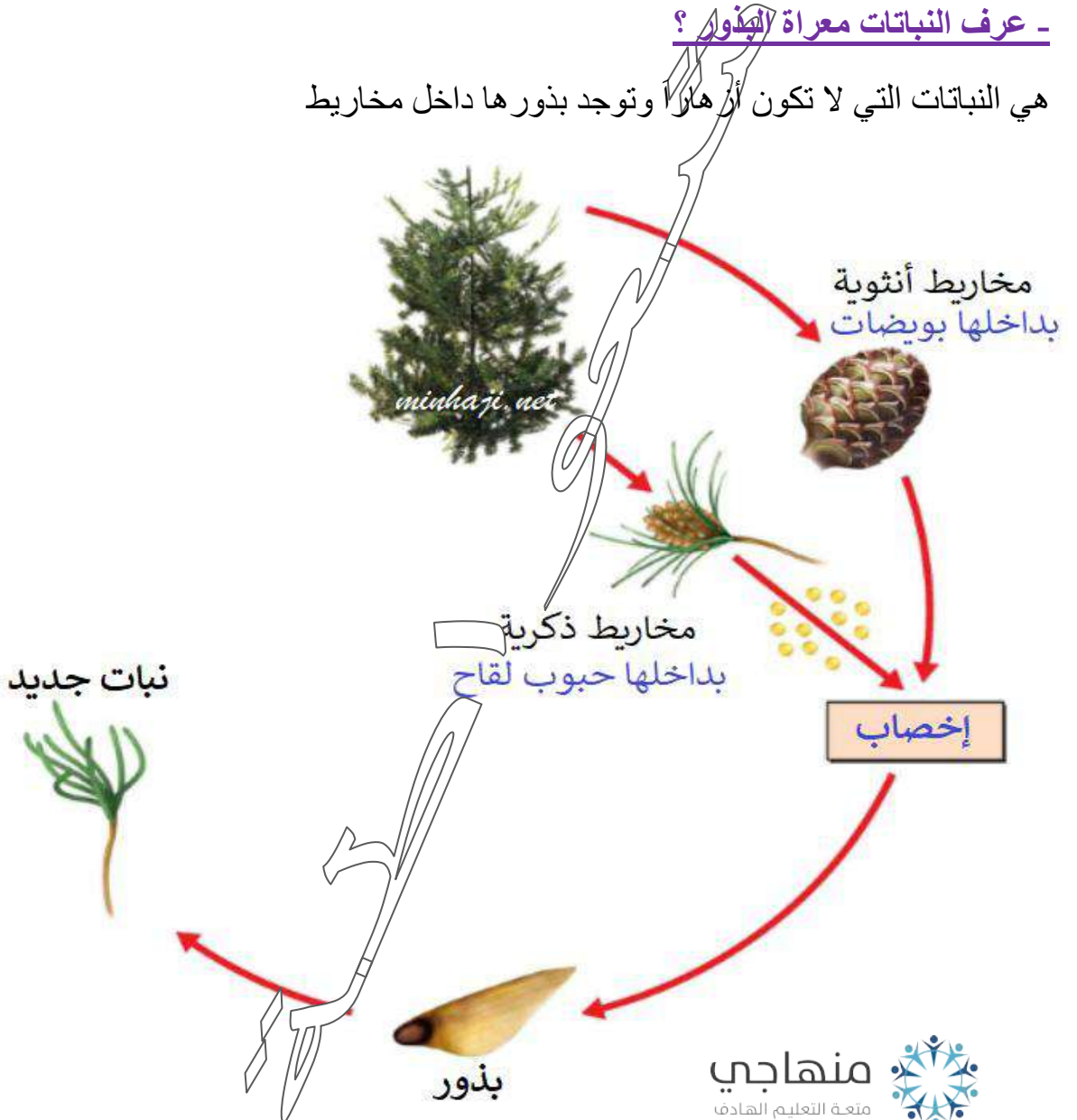
- عرف النباتات مغطاة البذور (النباتات الزهرية)؟

هي النباتات التي تكون بذورها في مبيض الزهرة الذي سيتحول إلى ثمرة



- عرف النباتات معراة البذور؟

هي النباتات التي لا تكون أزهاراً وتوجد بذورها داخل مخاريط



مجموعات النباتات مغطاة البذور

نباتات ذات الفلقتين

نباتات ذات الفلقة

بذور الفول



بذور الذرة



- عرف النباتات ذات الفلقة؟ هي النباتات التي تتكون بذورها من جزء واحد

- عرف النباتات ذات الفلقتين؟ هي النباتات التي تتكون بذورها من جزأين متماثلين



- اذكر مثال على كل مما يلي؟

1- نباتات ذات فلقة : مثل (القمح - الذرة - النخيل - أرز)

2- نباتات ذات فلقتين : مثل

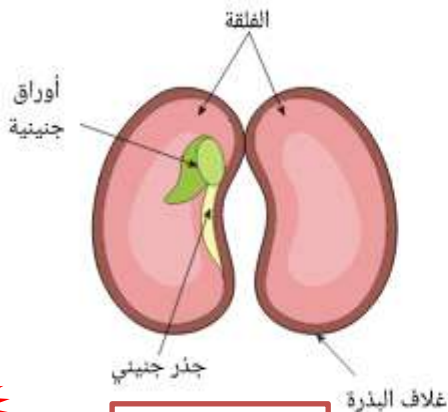
(الفول - الفستق - الحمص - العدس - التفاح - الدراق - الخوخ - الزيتون - البلوط - اللوز)



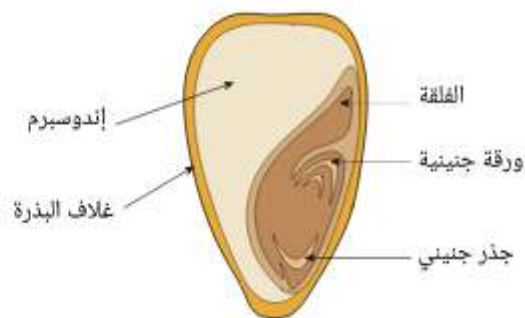
ثنائية الفلقة



أحادية الفلقة



ثنائي الفلقة



أحادي الفلقة

- ميز بين النباتات ذات الفلقة والنباتات ذات الفلقتين من حيث :

نباتات ذات فلقتين	نباتات ذات فلقة	من حيث
فلقتين	فلقة واحدة	عدد الفلقات الجينية
عروقها متشابكة (شبكة)	عروقها متوازية	شكل العروق
أربع أو خمس أوراق أو مضاعفاتها	ثلاث أوراق أو مضاعفاتها	عدد المجموعات الزهرية
		



- عدد الخصائص العامة لنبات الليمون ؟

- 1- وعائي
- 2- بذري
- 3- مغطاة البذور
- 4- ذات الفلقتين

- ما الطوران الرئيسان اللذان يتعاقبان لإتمام دورة حياة النبات ؟

- 1- طور جاميتي : أحادي المجموعة الكروموسومية ($1n$)
- 2- طور بوغي : ثنائي المجموعة الكروموسومية ($2n$)

- ماذا ينتج النبات الجاميتي الذكري ؟ ينتج جاميتات ذكورية ($1n$)

- ماذا ينتج النبات الجاميتي الأنثوي ؟ ينتج بويضات ($1n$)

- ماذا ينتج عن إخصاب الجاميت الذكري للجاميت الأنثوي ؟

جاميت ذكري + جاميت أنثوي → بويضة مخصبة (زيجوت) ($2n$)

- ما نوع الانقسام في خلايا طور النبات الجاميتي ؟ وماذا يكون ؟

نوع الانقسام : انقسام متساوٍ
يكون الطور البوغي

- ما نوع الانقسام في خلايا طور النبات البوغي ؟ وماذا ينتج عنه ؟

نوع الانقسام : انقسام منصف
ينتج عنه الأبواغ (1n)

- ما الخصائص التي تمتلكها الأبواغ وتمكن النبات من استيطان مختلف بيئات اليابسة ؟



1- صغر حجمها

2- خفة وزنها

3- مجهرية

4- محاطة بغلاف سميك لحمايتها من الجفاف

- في أي النباتات يسود الطور الجاميتي ؟ يسود في مجموعة النباتات الدنيا مثل الحزازيات

- في أي النباتات يسود الطور البوغي ؟ يسود في النباتات الراقية مثل النباتات مغطاة البذور

- علل لا تكتمل دورة حياة النبات بدون ظاهرة تبادل (تعاقب) الأجيال ؟

لأن كل طور من الطورين الجاميتي والبوغي يكملان بعضهما بعضاً ويعتمد كل منهما على الآخر

النباتات اللاوعائية : Nonvascular Plants

- عدد الخصائص العامة للنباتات اللاوعائية ؟

1- نباتات صغيرة الحجم

2- تخلو من الأنسجة الوعائية

3- يعيش بعضها في المناطق الرطبة الظليلة

4- يستطيع بعض أنواعها العيش في بيئات قاسية جداً مثل (التنجر الرقم الجبال - الصحارى)

● مثال : الحزازيات ؛ مثل نبات الفيوناريا

- علل يستطيع بعض أنواع النباتات اللاوعائية العيش في بيئات قاسية جداً؟

لقدرتها على تحمل فقد الماء من أجسامها واسترجاعه عند توفر الرطوبة

- تدعى أجزاء النبات الحزازي أشباه جذور ، وشبه ساق ، وأشباه أوراق؛

ما سبب عدم تسميتها بجذور ، وساق ، وأوراق حقيقية؟

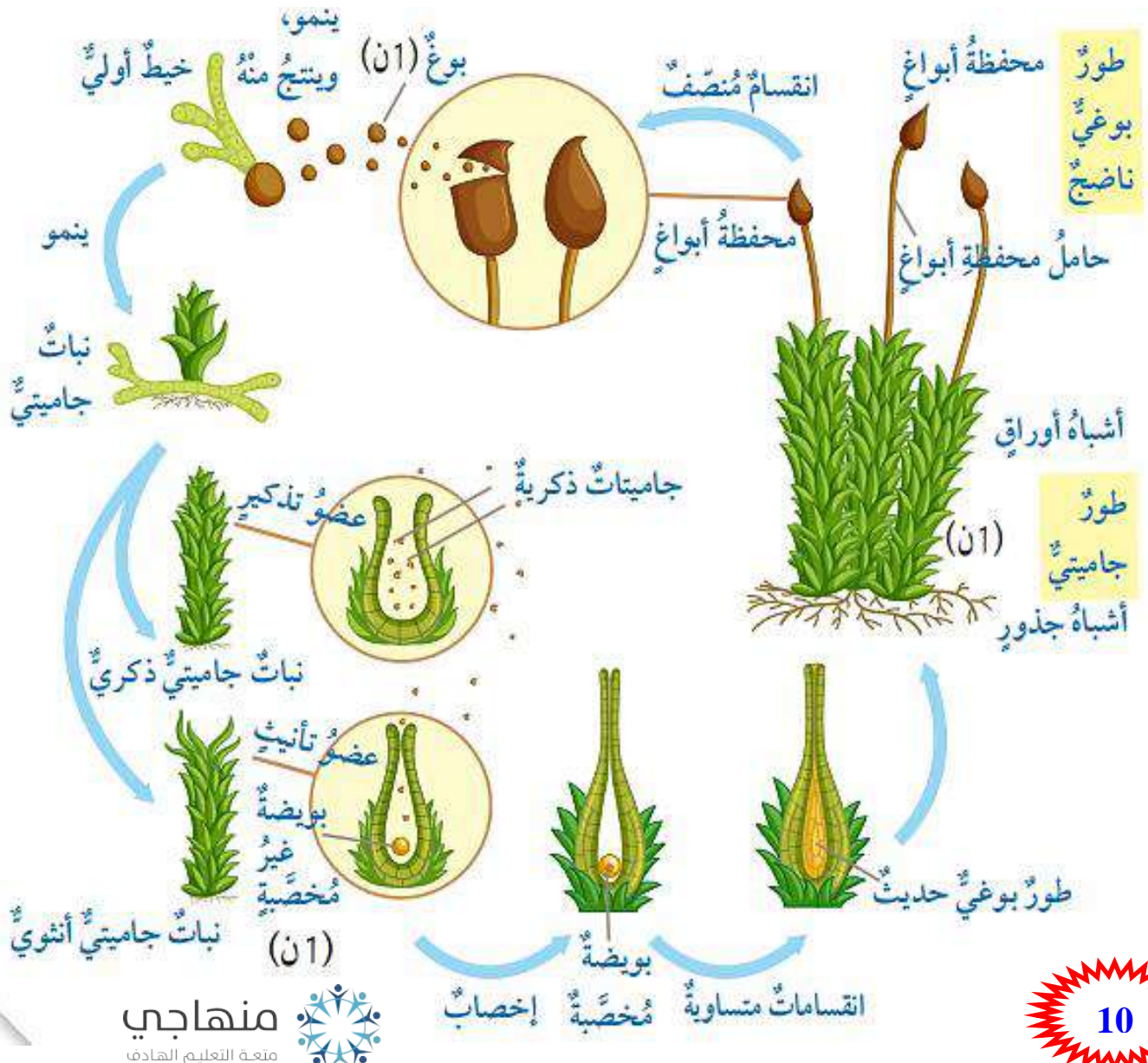
لعدم وجود أنسجة وعائية (خشب ولحاء)

- وضح ظاهرة تبادل (تعاقب) الأجيال في نبات الفيناريا ؟

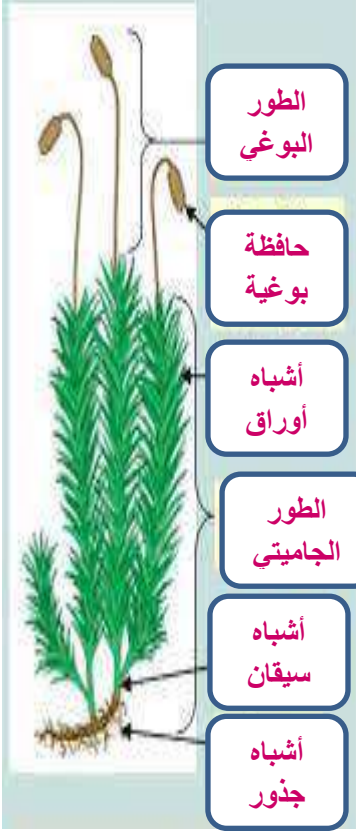
له طوران :

1- طور جاميتي أحادي المجموعة الكروموسومية (1n)

2- طور بوغي ثنائي المجموعة الكروموسومية (2n)



مِم يتكون الطور الجاميتي في النباتات اللاوعائية (نبات الفيوناريا) ؟



1- أشباه جذور

2- أشباه أوراق

3- أشباه سيقان

- ماذا يحوي كلاً من الطور الجاميتي الذكري و الأنثوي في نبات الفيوناريا ؟

* يحوي الطور الجاميتي الأنثوي : عضو تأنيث

تتكون فيه البويضات

* يحوي الطور الجاميتي الذكري : عضو تذكير

تتكون فيه الجاميتات الذكرية

- مِم يتكون الطور البوغي في النباتات اللاوعائية (نبات الفيوناريا) ؟

1- محفظة الأبواغ

2- حامل محفظة الأبواغ

- علل يعد الطور السائد في دورة حياة نبات الفيوناريا الطور الجاميتي ؟

لأن : 1- نبات الفيوناريا يقضي معظم دورة حياته في الطور الجاميتي

2- يعتمد الطور البوغي في تغذيته على الطور الجاميتي

- حدد الخطأ في كل مما يأتي :

* تنمو البويضة المخصبة لتكوين الطور الجاميتي :

تنمو البويضة المخصبة لتكوين الطور البوغي

* تنتج الجاميتات في الفيوناريا من الانقسام المنصف :

تنتج الأبواغ في الفيوناريا من الانقسام المنصف

قارن بين الطور الجاميتي و الطور البوغي في نبات الفيوناريا من حيث :

الطور البوغي	الطور الجاميتي	من حيث التركيب
يتكون من : 1- محفظة أبواغ 2- حامل المحفظة	يحتوي الطور الجاميتي الأنثوي عضو تأنيث تتكون فيه البويضات يحتوي الطور الجاميتي الذكري عضو تذكير تتكون فيه الجامينات الذكورية	
ثنائي المجموعة الكروموسومية (2n)	أحادي المجموعة الكروموسومية (1n)	عدد المجموعات الكروموسومية

النباتات الوعائية اللابذرية : Vascular Seedless Plants

- عدد مميزات نبات السرخسيات Ferns ؟

- 1- يعد نبات وعائي لابذري
 - 2- تتكاثر بالأبواغ
 - 3- تحوي أنسجة وعائية تتكون من خشب و لحاء
- مثال :** نبات الخنشار



- مم يتكون الطور البوغي ثنائي المجموعة الكروموسومية في الخنشار ؟

- 1- ساق ريزومية تنمو تحت سطح التربة
- 2- جذور
- 3- أوراق

4- يوجد على السطح السفلي من أوراق الطور البوغي الناضج محفظة داخلها أبواغ



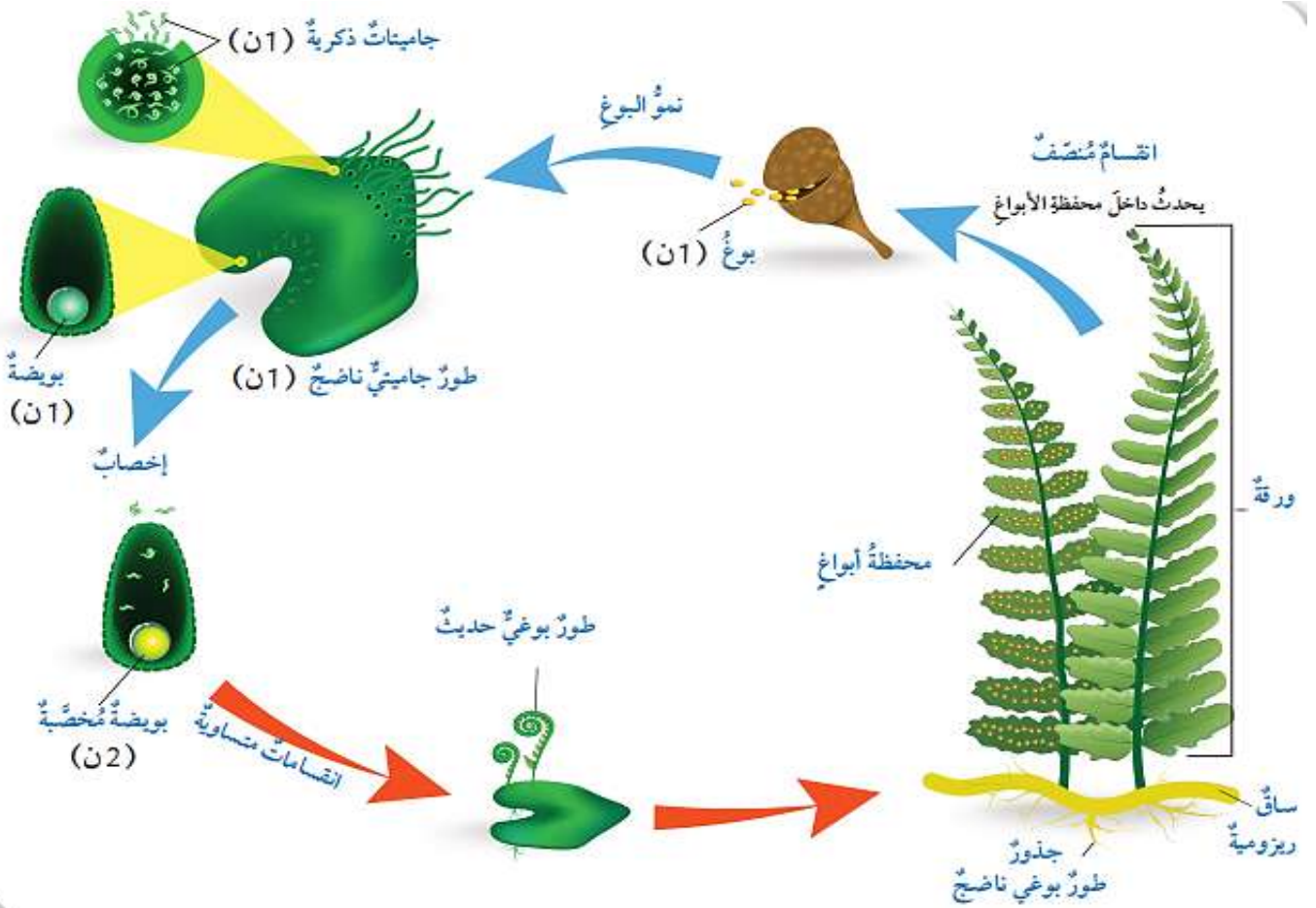
- م يتكون الطور الجاميتي أحادي المجموعة الكروموسومية في الخنشار؟

1- العضو الجاميتي المذكر

2- العضو الجاميتي المؤنث

- علل يعد الطور السائد في دورة حياة نبات الخنشار الطور البوعي؟

لأن نبات الخنشار يقضي معظم دورة حياته في الطور البوعي



- ما العمليات التي تنتج منها أبواغ (1n) و بويضة مخصبة (2n) و طور بوعي حديث (2n)؟

* العمليات التي تنتج منها أبواغ (1n) : 1- الانقسام المنصف

2- نمو البوغ

* العمليات التي تنتج منها بويضة مخصبة (2n) : الإخصاب

* العمليات التي تنتج منها طور بوعي حديث (2n) : الانقسامات المتساوية

مقارن بين الطور الجاميتي و الطور البوغي في نبات الخنشار من حيث :

الطور البوغي	الطور الجاميتي	من حيث التركيب
يتكون من : 1- ساق ريزومية تنمو تحت سطح التربة 2- جذور 3- أوراق 4- يوجد على السطح السفلي من أوراق الطور البوغي الناضج محفظة داخلها أبواغ	العضو الجاميتي الأنثوي العضو الجاميتي المذكر	
ثنائي المجموعة الكروموسومية (2n)	أحادي المجموعة الكروموسومية (1n)	عدد المجموعات الكروموسومية

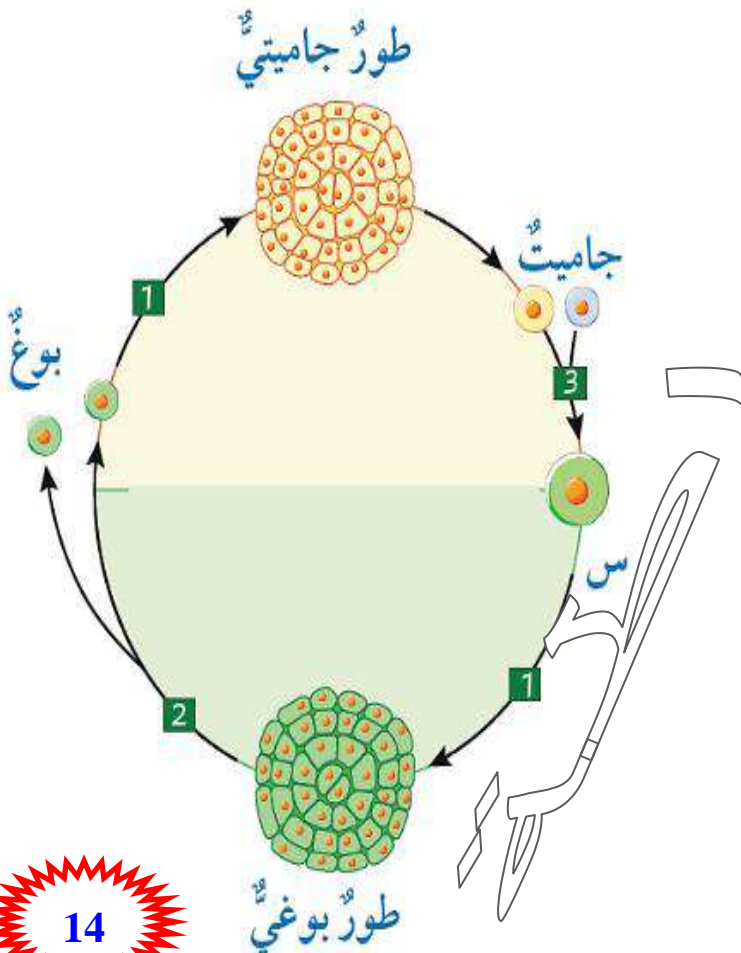
مراجعة الدرس

النباتات اللاوعائية و النباتات الوعائية اللابذرية

السؤال الأول:

يمثل الشكل المجاور مخططاً لظاهرة تبادل الأجيال:

- أ- أكتب أسماء العمليات المشار إليها بالأرقام.
الرقم (1): الانقسام المتساوي.
الرقم (2): الانقسام المنصف.
الرقم (3): الإخصاب.
(س): البويضة المخصبة.



ب- أصنف التراكيب في الشكل إلى أحادية المجموعة الكروموسومية، وثنائية المجموعة الكروموسومية.

أحادية المجموعة الكروموسومية: الأبواغ، الجاميتات.

ثنائية المجموعة الكروموسومية: البويضة المخصبة.

السؤال الثاني:

أوضح الخصائص العامة للنباتات.

1- كائنات حية عديدة الخلايا

2- حقيقية النوى

3- تمتاز خلاياها بوجود جدار خلوي يتكون من السيليلوز

4- ذاتية التغذية

5- متكيفة للعيش على اليابسة

6- ذات قمم نامية تمكنها من النمو

7- تحتوي أنسجة متخصصة

8- ظاهرة تبادل (تعاقب) الأجيال في النباتات

السؤال الثالث:

أصف تركيب الطور الجاميتي في كل من الفيوناريا، والخنشار.

تركيب الطور الجاميتي في الفيوناريا:

- يحوي الطور الجاميتي الأنثوي عضو تأنيث تتكون فيه البويضات
- يحوي الطور الجاميتي الذكري عضو تذكير تتكون فيه الجاميتات الذكرية

أحادي المجموعة الكروموسومية (1n)



تركيب الطور الجاميتي في الخنشار:

• العضو الجاميتي الأنثوي

• العضو الجاميتي المذكر

أحادي المجموعة الكروموسومية (1n)



السؤال الرابع:

أقارن بين الطور البوغي في الفيوناريا والخنشار من حيث:
التركيب، وعدد المجموعات الكروموسومية.

الطور البوغي في الفيوناريا:

يتكون من : 1- محفظة أبواغ
2- حامل المحفظة

ثنائي المجموعة الكروموسومية (2n)

الطور البوغي في الخنشار:

يتكون من : 1- ساق ريزومية تنمو تحت سطح التربة

2- جذور

3- أوراق

4- يوجد على السطح السفلي من أوراق الطور البوغي الناضج محفظة داخلها أبواغ

ثنائي المجموعة الكروموسومية (2n)

- قارن بين الحزازيات والسرخسيات من حيث :

من حيث	الحزازيات	السرخسيات
وجود الخشب واللحاء	لا يوجد	يوجد
البيئة الملائمة للنمو	الظل والرطوبة	الظل والرطوبة
الطور السائد	الجاميتي	البوغي

النباتات الوعائية البذرية Vascular Seed Plants

المفاهيم & المصطلحات

Coniferophyta	المخروطيات
Ginkgophyta	الجنكيات
Gnetophyta	الجنتيات
Cycadophyta	السايكاديات
Parenchyma	الخلايا البرنشيمية
Collenchyma	الخلايا الكولنشيمية
Sclerenchyma	الخلايا الإسكلرنشيمية
Epidermis	البشرة

- عدد خصائص النباتات الوعائية البذرية ؟ 1- تمثل النسبة الكبرى من النباتات

2- تحوي أنسجة وعائية

3- اختزال الطور الجامي

4- تكاثر البذور

مثل : السرو - التفاح - الأرز - القطن - النعنع - الزيتون

- ما سبب اختزال الطور الجامي في النباتات الوعائية البذرية ؟

بسبب التغير البيئي نحو الجفاف

- علل تحتفظ البذور في النباتات الوعائية البذرية بحيويتها فترة من الزمن تصل إلى عدة سنوات ؟

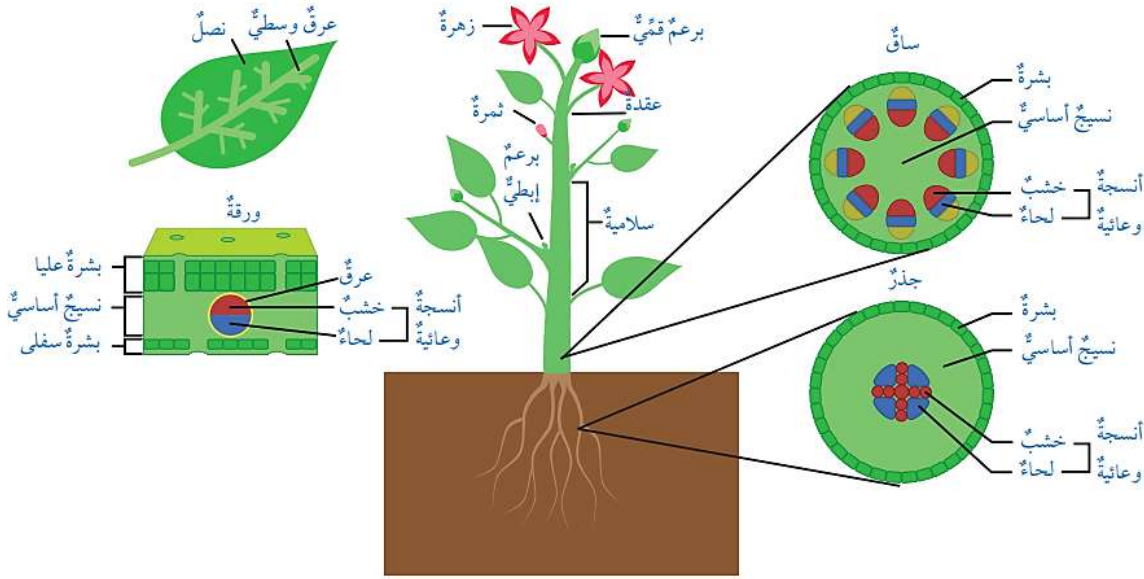
بسبب قدرتها على مقاومة الجفاف وارتفاع درجات الحرارة

- علل تكيف النباتات الوعائية البذرية للعيش على اليابسة ؟

لأنها تحوي أنسجة وعائية في جذورها وسيقانها وأوراقها ؛

فتنتقل هذه الأنسجة المواد اللازمة إلى كل خلية من الخلايا

الأنسجة النباتية Plants tissues



- عدد أنواع الأنسجة النباتية التي تتكون منها أجزاء النبات ؟

1- النسيج المولد Meristematic Tissue

2- نسيج البشرة Epidermis

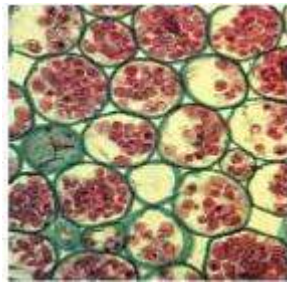
3- الأنسجة الوعائية Vascular Tissue

4- النسيج الأساسي Ground Tissue

- أين يوجد النسيج المولد ؟

يوجد في : 1- القمم النامية للجذر و الساق

2- البراعم



- ما أهمية النسيج المولد ؟ 1- قدرة خلاياه على الانقسام

2- ينتج خلايا جديدة


- عدد خصائص نسيج البشرة ؟

1- يمثل الطبقة الخارجية في كل من الساق و الجذر و الورقة

2- تنشأ عنه في الجذور تراكيب تسمى الشعيرات الجذرية

- مم تتكون الأنسجة الوعائية ؟ 1- الخشب

2- اللحاء



• مهم :

• يختلف الخشب و اللحاء عن بعضهما البعض من حيث التركيب و الوظيفة

قارن بين الخشب و اللحاء من حيث :

اللحاء	الخشب	من حيث
1- جذر النبات 2- الساق 3- الأوراق	1- جذر النبات 2- الساق 3- الأوراق	تتواجد في
1- أنابيب غربالية 2- خلايا مرافقة 3- صفائح غربالية	1- الأوعية الخشبية 2- القصبيات	التركيب
ينقل الغذاء الجاهز من مكان إنتاجه إلى جميع أجزاء النبات ؛ بغية استهلاكه أو تخزينه	1- دعامة للنبات 2- ينقل الماء و الأملاح المعدنية التي امتصها الجذر إلى الساق فالأوراق للقيام بعملية البناء الضوئي	الوظيفة



عدد مكونات الخشب ؟

1* الأوعية الخشبية : هي خلايا أنبوبية مفتوحة الطرفين ؛ أكثر كفاءة من القصبيات

2* القصبيات : هي خلايا أسطوانية أطرافها مثقبة



- عدد مكونات اللحاء ؟

1* الأنابيب الغربالية

2* الخلايا المرافقة : تمد الأنابيب الغربالية بالطاقة

3* الصفائح الغربالية : تحزن الغذاء

- عدد مكونات النسيج الأساسي ؟

1- خلايا برنشيمية Parenchyma

2- خلايا كولنشيمية Collenchyma

3- خلايا إسكلرنشيمية Sclerenchyma

نسيج برنشيمي



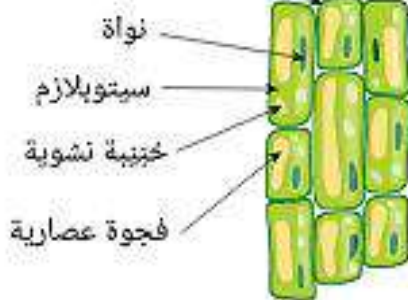
نسيج كولنشيمي



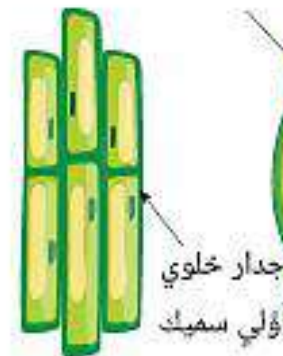
نسيج إسكلرنشيمي



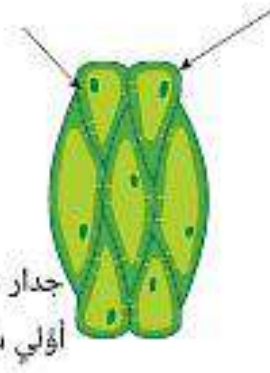
جدار خلوي أولي رقيق



منظر طولي



منظر طولي



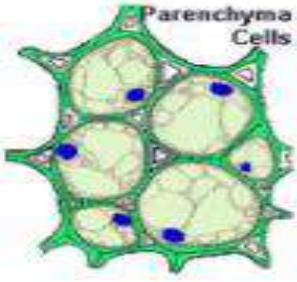
منظر طولي

- ما أهمية النسيج الأساسي للنبات ؟

3- تسهيل مرور المواد بين الخلايا

2- تخزين المواد

1- دعم أجزاء النبات



- **عده مميزات الخلايا التي يتكون منها النسيج الأساسي للنبات ؟**

**** الخلايا البرنشيمية :**

تحتوي فراغات أكبر بين الخلايا ، بالتالي فهي تسهل مرور المواد بين خلاياها

**** الخلايا الكولنشيمية :**

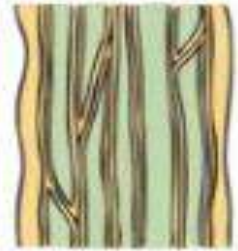
تمتاز بوجود تغليظات غير منتظمة في الجدار الخلوي ؛ بالتالي فهي :

- (1) تخزن المواد
- (2) توفر الدعم و الإسناد



**** الخلايا الإسكلرنشيمية :**

جدارها الخلوي أكثر سمكاً ؛ بالتالي فهي تدعم أجزاء النبات



- **قارن بين خلايا النسيج الأساسي من حيث :**

من حيث	الخلايا البرنشيمية	الخلايا الكولنشيمية	الخلايا الإسكلرنشيمية
سمك الجدار الخلوي	رقيق	وجود تغليظات غير منتظمة فيه	أكثر سمكاً من جدر الخلايا البرنشيمية و الكولنشيمية
وجود النواة	موجودة	موجودة	غير موجودة
وجود الفراغات بين الخلايا	موجودة	موجودة	غير موجودة
	فراغ بين خلوي فجوة نواة جدار خلوي	جدار خلوي نواة	تجويف جدار خلوي

تصنيف النباتات البذرية Seed Plants Classification

** تصنف النباتات البذرية حسب مكان تشكل البذرة إلى :

1- نباتات معراة للبذور

2- نباتات مغطاة البذور

- عدد خصائص النباتات معراة البذور ؟

1- لا تكون أزهاراً أو ثماراً

2- تستقر البذور عارية فوق أسطح حراشف المخاريط

- عدد خصائص النباتات مغطاة البذور (النباتات الزهرية) ؟

1- تكون أزهاراً وثماراً

2- تتكون البذور داخل مبيض الزهرة

أنواع النباتات معراة البذور Gymnosperms

السايكاديات
Cycadophyta



المخروطيات
Coniferophyta



الجنيتيات
Ginetgophyta



الجنكيات
Ginkgophyta





- عدد مميزات المخروطيات ؟

- 1- تمتاز بشكلها المخروطي
 - 2- أحادية المسكن
 - 3- توجد أعضاء التكاثر فيها على الشجرة نفسها
 - 4- أعضاء التكاثر فيها ؛
المخاريط الذكورية و المخاريط الأنثوية
- مثال : الصنوبريات

- قارن بين المخروط الذكري والمخروط الأنثوي من حيث :

المخروط الأنثوي	المخروط الذكري	من حيث
كبير الحجم	صغير الحجم	الحجم
يوجد به بذرة	لا يوجد به بذرة	وجود البذرة
ينتج البويضات	ينتج حبوب اللقاح	الوظيفة
		



- ما الفائدة من الشكل المخروطي للمخروطيات ؟

- 1- التكيف مع ظروف البيئة المحيطة
- 2- حماية حبوب اللقاح داخلها

- عدد مميزات الجنكيات ؟

- 1- تعد أشجار متساقطة الأوراق
- 2- ذات جذوع سميكة
- 3- ذات جذور عميقة

● مثال : الجنكة بيلوبا Ginkgo biloba
الموجودة في الصين





- عدد مميزات الجنتيات ؟

- 1- تعد أشجار أو شجيرات
- 2- تحوي مخاريط
- 3- يعيش بعضها في الصحراء و بعضها الآخر في الغابات الاستوائية

- مثال : نبات الفلبيشيا ميرابيليس *Welwitschia mirabilis*
- يمتاز ب : أ- ساق ملتصقة بالأرض
- ب- أوراق يصل طولها إلى نحو 9 أمتار



- عدد مميزات السايكاديات ؟

- 1- تمتاز بجنوعها الخشبية السميقة
- 2- ذات أوراق ريشية الشكل
- 3- ذات مخاريط كبيرة الحجم
- 4- توجد في الغابات الاستوائية و المناطق شبه الاستوائية
- 5- تعد أشجار دائمة الخضرة
- 6- تعد ثنائية المسكن

- علل تعد السايكاديات ثنائية المسكن ؟

لأن الشجرة الواحدة تحمل مخاريط ذكرية تنتج حبوب اللقاح و مخاريط أنثوية تنتج البويضات



مخروط أنثوي



مخروطان ذكريان

- **علل تسمى النباتات مغطاة البذور بالنباتات الزهرية Flowering Plants ؟**

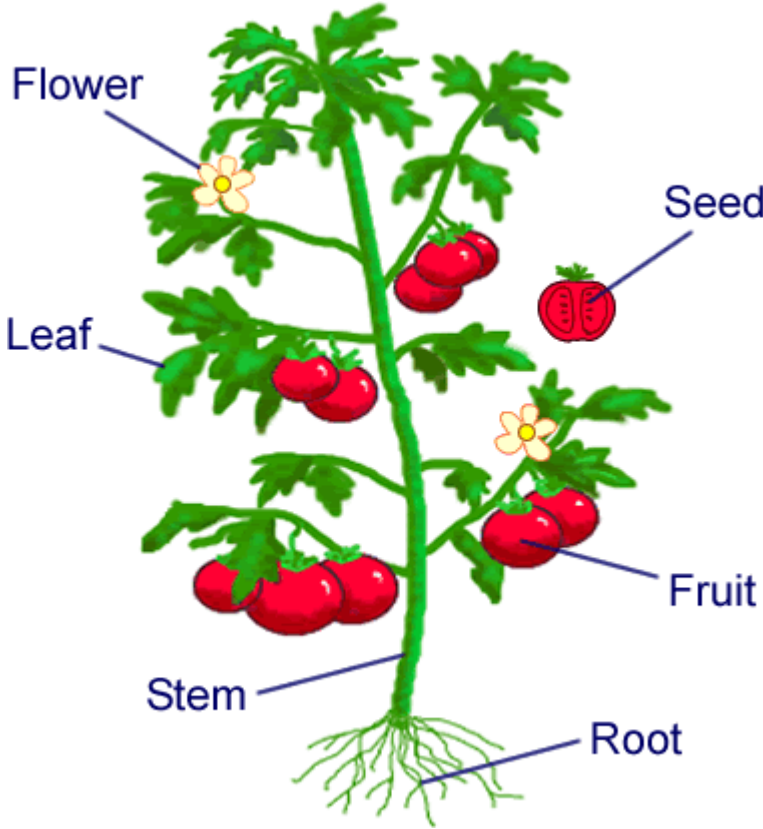
لأن عضو التكاثر فيها هو الزهرة

- **عدد أنواع النباتات مغطاة البذور (النباتات الزهرية) ؟**

1- نباتات ذات الفلقة

2- نباتات ذات الفلقتين

- **عدد أجزاء النبات الزهري Flowering Plants Parts ؟**



1- الجذر Root

2- الساق Stem

3- الورقة Leaf

4- الزهرة Flower

5- البذرة Seed

6- الثمرة Fruit

- **عدد خصائص الجذر ؟**

1- يعد جزء من النبات

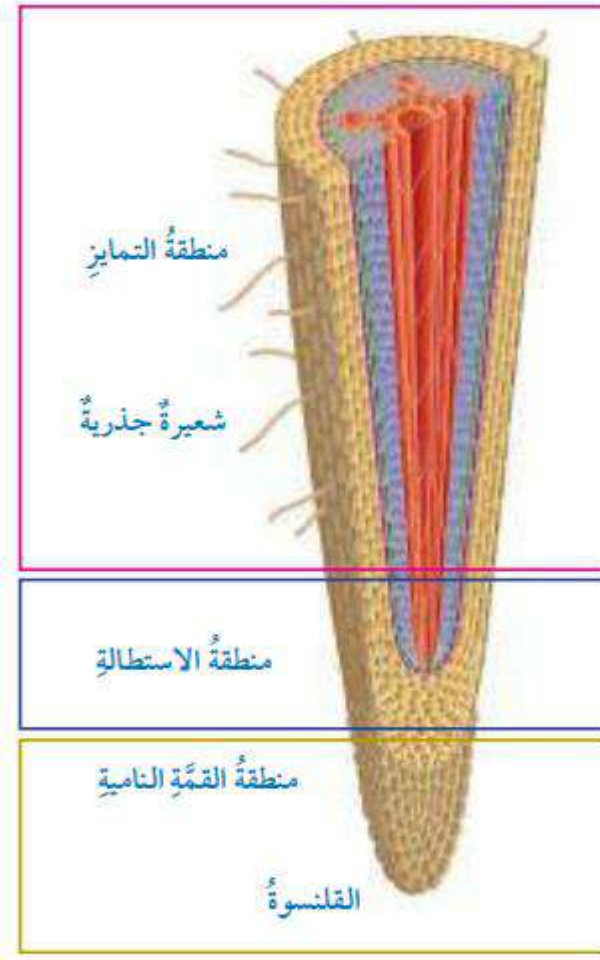
2- ينمو غالباً تحت التربة

3- يُثبت النبات في التربة

4- يمتص الماء و الأملاح من التربة

5- بعض الجذور تُخزن الغذاء ؛ مثل جذور نبات الفجل





- عدد مناطق الجذر الخارجية ؟

- 1- مناطق الانقسام (القمّة النامية)
- 2- منطقة الاستطالة
- 3- منطقة التمايز

- ماذا تحتوي منطقة القمّة النامية Apical Meristem ؟ و ماذا يغطيها ؟

- * تحتوي على خلايا مولدة تنقسم انقسامات متساوية
- * يغطيها تركيب يسمى القنسوة

- عرف القنسوة Root Cap ؟

هي تركيب يغطي منطقة القمّة النامية للجذر و يحميها أثناء اختراق الجذر للتربة

- عدد مميزات منطقة الاستطالة Elongation Zone ؟

- 1- تنمو فيها الخلايا الناتجة من الانقسام
- 2- تستطيل الخلايا

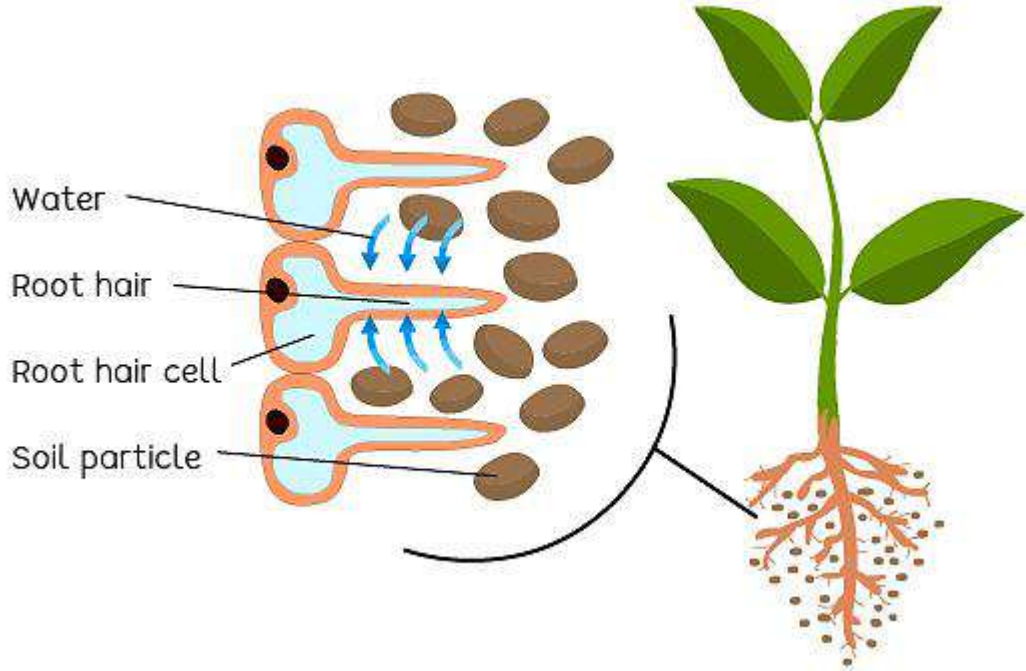
- عدد مميزات منطقة التمايز Differentiation Zone ؟

- 1- تتمايز فيها الخلايا
- 2- تتكون فيها الأنسجة المختلفة



أعرف الشعيرات الدقيقة ؟ Root Hair

هي امتدادات دقيقة تنشأ عن طبقة البشرة ؛ حيث تزيد من مساحة السطح المعرض لامتصاص الماء و الأملاح من التربة



- علل الجدار الخلوي للشعيرة الجذرية رقيق ؟ لتسهيل عملية امتصاص الماء و الأملاح من التربة

التركيب الداخلي للجذر

- قارن بين التركيب الداخلي لجذر النبات ذي الفلقتين و النبات ذي الفلقة من حيث :

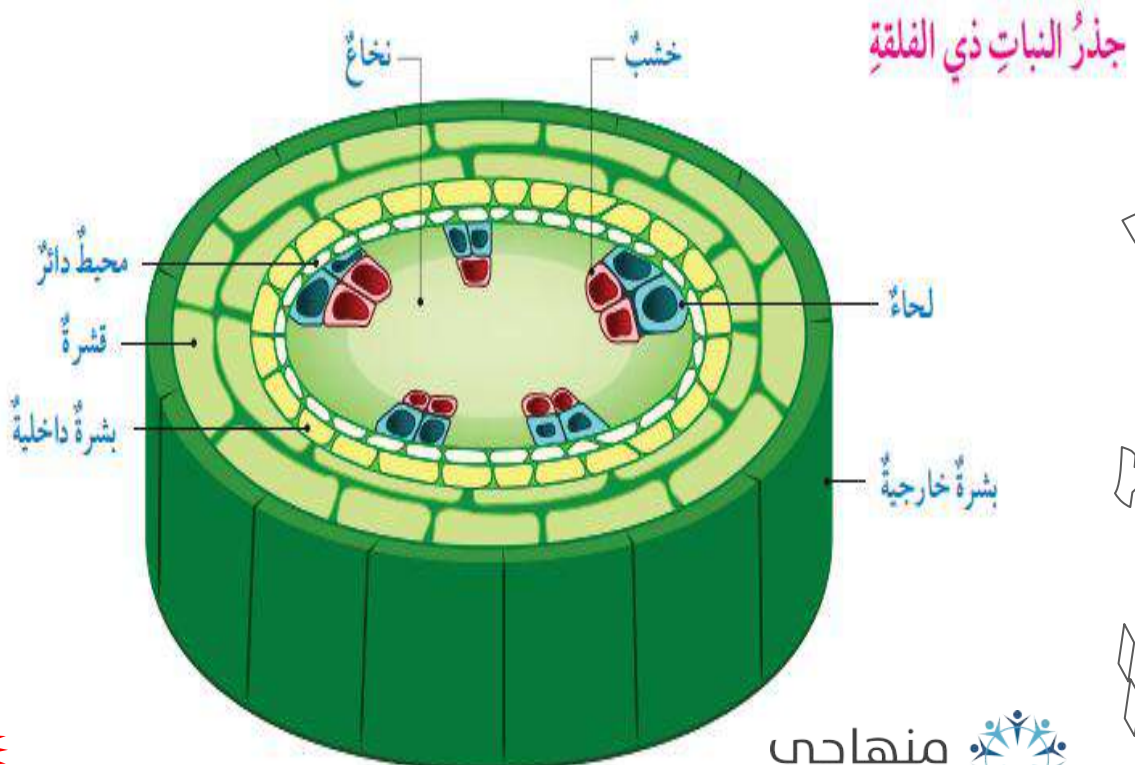
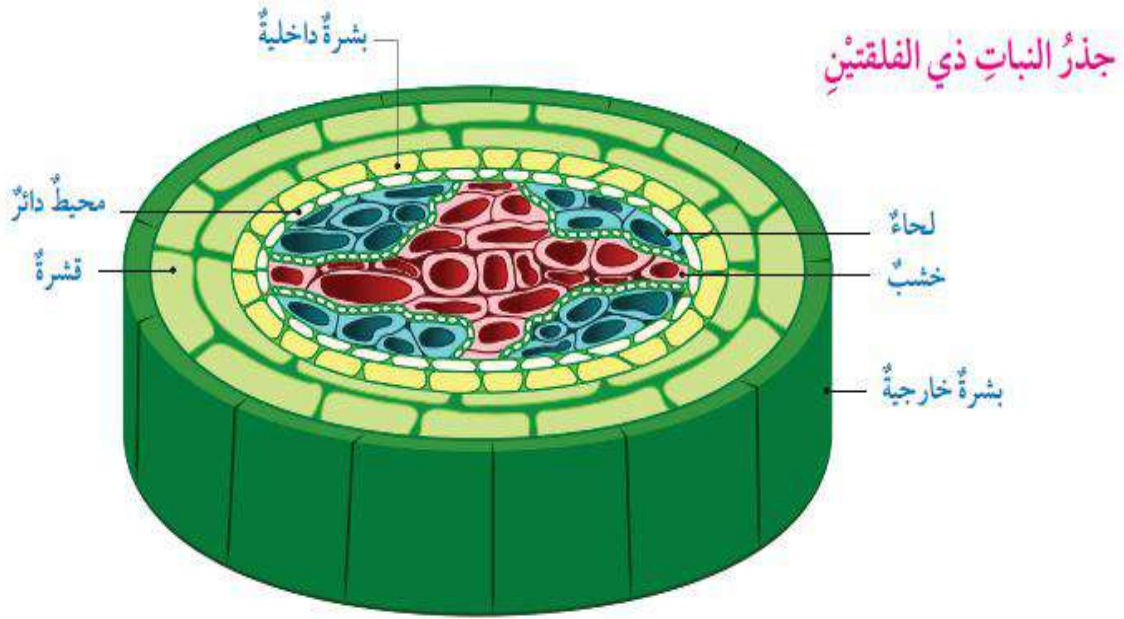
من حيث التركيب	جذر النبات ذي الفلقتين	جذر النبات ذي الفلقة
	1- طبقة البشرة الخارجية 2- طبقة القشرة 3- طبقة البشرة الداخلية 4- المحيط الدائر 5- الأنسجة الوعائية	1- طبقة البشرة الخارجية 2- طبقة القشرة 3- طبقة البشرة الداخلية 4- المحيط الدائر 5- الأنسجة الوعائية
أوجه التشابه	التركيب	التركيب
أوجه الاختلاف	تنشأ الجذور الجانبية Lateral Root عن طبقة المحيط الدائر و يمتد الخشب ليصل مركز الجذر	تشغل الخلايا البرنشيمية مركز الجذر مشكلة النخاع Pith

مم تتكون طبقة البشرة الخارجية في التركيب الداخلي للجذر؟

تتكون من صف واحد من الخلايا ؛ و تنشأ عنها الشعيرات الجذرية

مم تتكون طبقة القشرة في التركيب الداخلي للجذر؟

تتكون من صفوف عدة من خلايا النسيج الأساسي



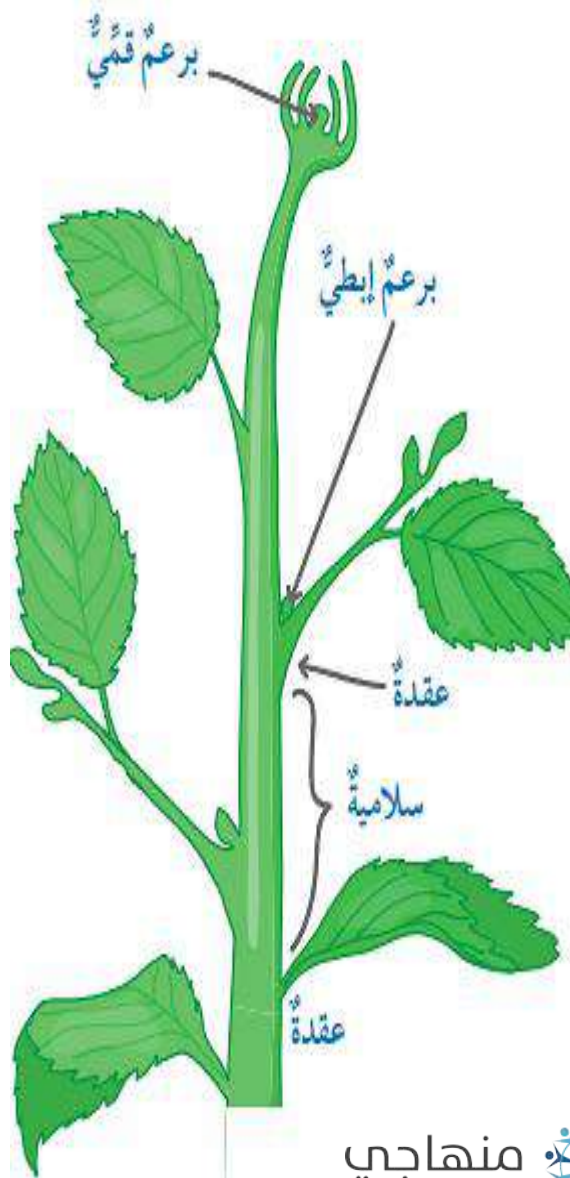
عدد مميزات الساق؟

- 1- يعد جزء من النبات
- 2- ينمو غالباً فوق سطح التربة
- 3- يعد دعامة للنبات
- 4- ينقل المواد من الجذور إلى الأوراق و بالعكس
- 5- تُخزن بعض السيقان المواد

● مثل : نبات البطاطا – نبات الصبار

- عدد الأجزاء الخارجية للساق؟

- 1- عقد
- 2- سلاميات
- 3- براعم إبطية
- 5- براعم قمية



- قارن بين التركيب الداخلي لساق النبات ذي الفلقتين و النبات ذي الفلقة من حيث :

من حيث	ساق النبات ذي الفلقتين	ساق النبات ذي الفلقة
التركيب	1- طبقة البشرة الخارجية 2- طبقة القشرة 3- الحزم الوعائية	1- طبقة البشرة الخارجية 2- الحزم الوعائية 3- النسيج الأساسي
أوجه التشابه	1- طبقة البشرة الخارجية 2- الحزم الوعائية	1- طبقة البشرة الخارجية 2- الحزم الوعائية
أوجه الاختلاف	1- الحزم الوعائية مرتبة على شكل محيط دائرة 2- تحوي الحزم الوعائية الخشب و اللحاء و بينهما الكامبيوم ثم الأشعة النخاعية	1- النسيج الأساسي الذي يملأ الحيز بين البشرة و الحزم الوعائية لا يتجزأ إلى طبقات 2- الحزم الوعائية مبعثرة في النسيج الأساسي و هي تملأ من الكامبيوم

- عدد مميزات البشرة الخارجية للساق ؟

- 1- تغطيها طبقة شمعية تسمى الكيوتكل
- 2- تتكون من صف واحد من الخلايا

- مم تتكون القشرة **Crotex** في التركيب الداخلي لساق النبات ذي الفلقتين ؟

تتكون من خلايا النسيج الأساسي

- بماذا تمتاز الحزم الوعائية في التركيب الداخلي لساق النباتات ذي الفلقتين ؟

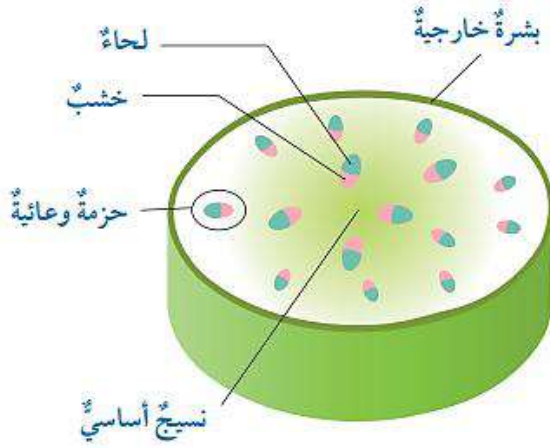
- 1- الحزم الوعائية مرتبة على شكل محيط دائرة
- 2- تحوي الحزم الوعائية الخشب و اللحاء و بينهما الكامبيوم **Cambium** ثم الأشعة النخاعية
- 3- يفصل بين الحزم الوعائية أشعة نخاعية **Pith Ray**

- مم تتكون أشعة نخاعية **Pith Ray** ؟

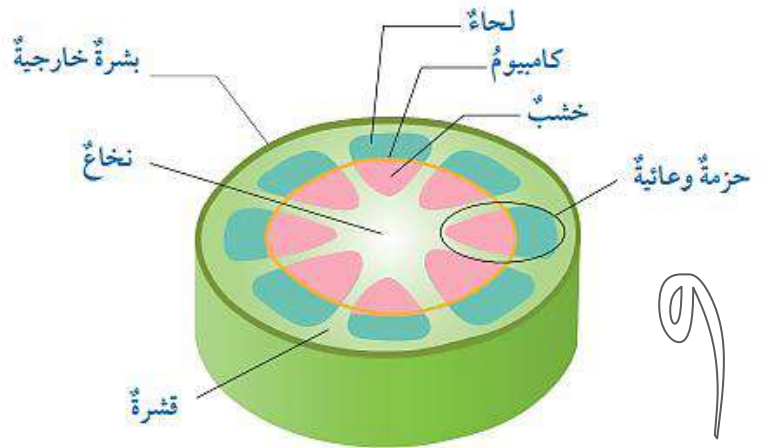
تتكون من خلايا برنشيمية تؤدي وظائف عدة ؛ مثل نقل المواد من القشرة إلى النخاع



ساقُ النباتِ ذي الفلقةِ

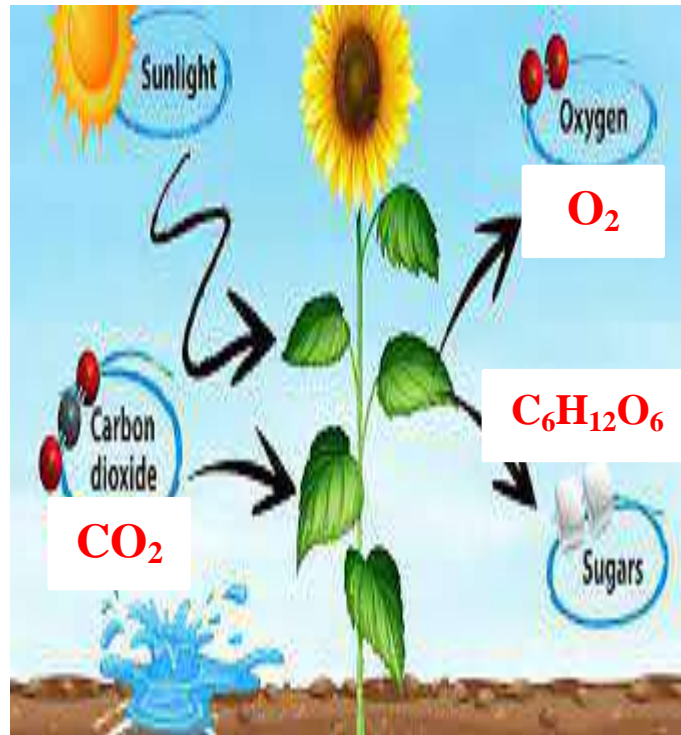


ساقُ النباتِ ذي الفلقتينِ



- عدد بعض العمليات التي تؤديها الأوراق للنبات ؟

- 1- تبادل الغازات **Gas Exchange** ؛ أهمها (غاز الأوكسجين و غاز ثاني أكسيد الكربون)
- 2- عملية النتح **Transpiration** ؛ هو فقدان الماء من النبات في صورة بخار الماء
- 3- عملية البناء الضوئي



الشكل العام للورقة

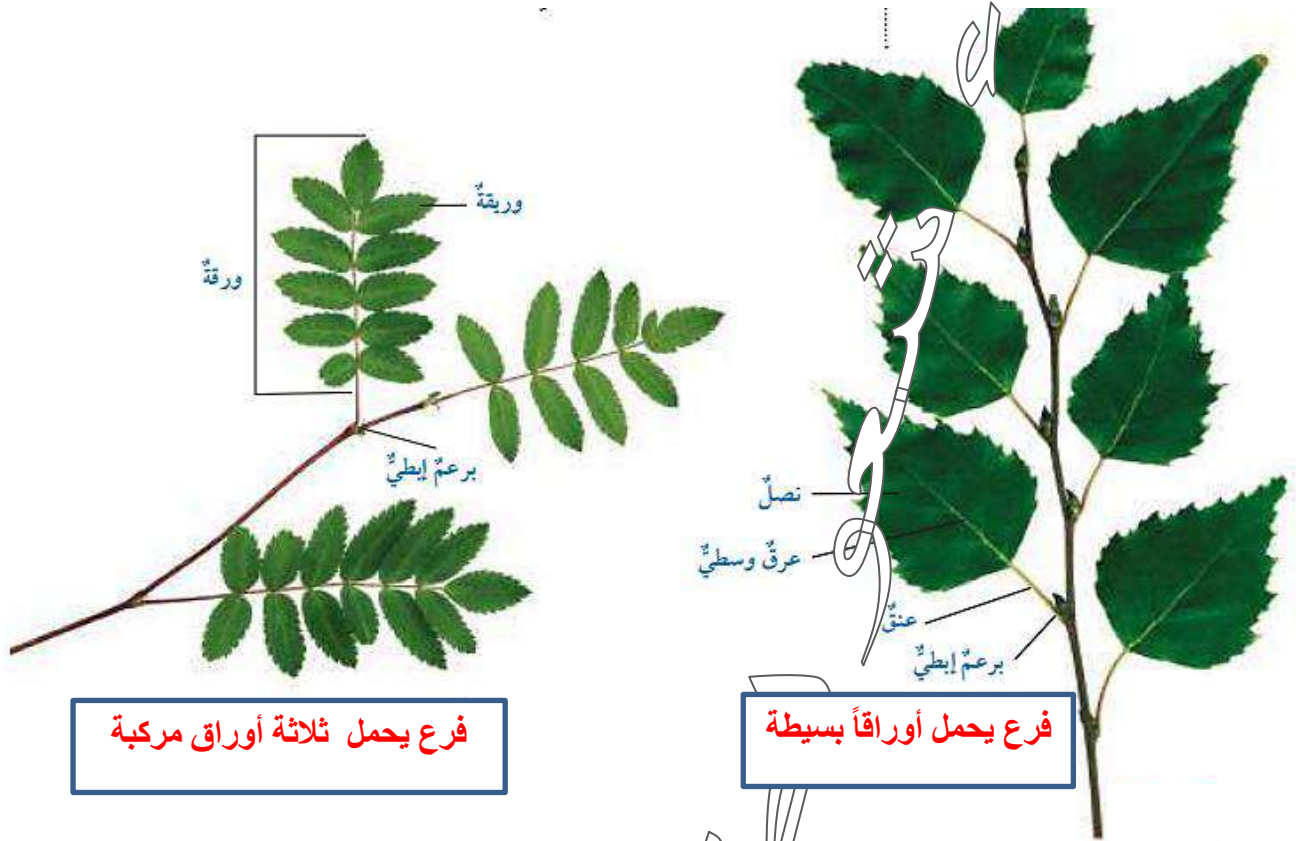


- عدد بعض مكونات الورقة ؟

- 1- نصل : هو الجزء المنبسط من الورقة
- 2- بعضها لها عنق
- 4- برعم ابطي

- قارن بين الورقة البسيطة و الورقة المركبة من حيث التركيب ؟

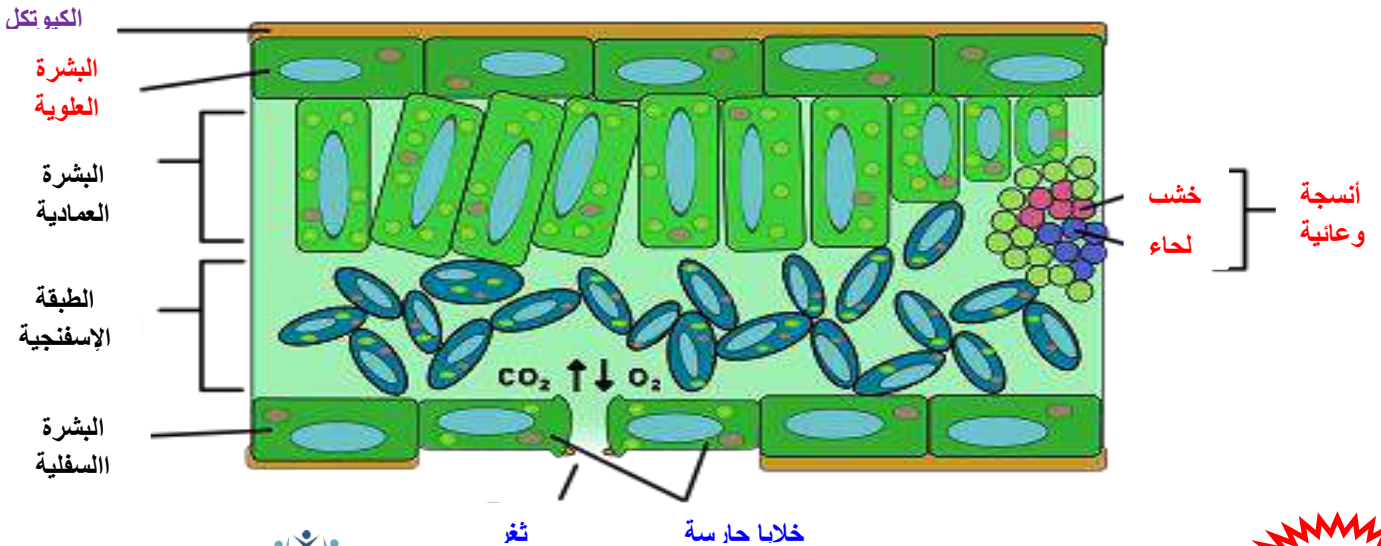
الورقة المركبة Compound Leaf	الورقة البسيطة Simple Leaf	من حيث التركيب
يتكون نصلها من وريقات عدة تشترك جميعها في برعم إبطي واحد	يتكون نصلها من جزء واحد ، ولتنتج من برعم إبطي	

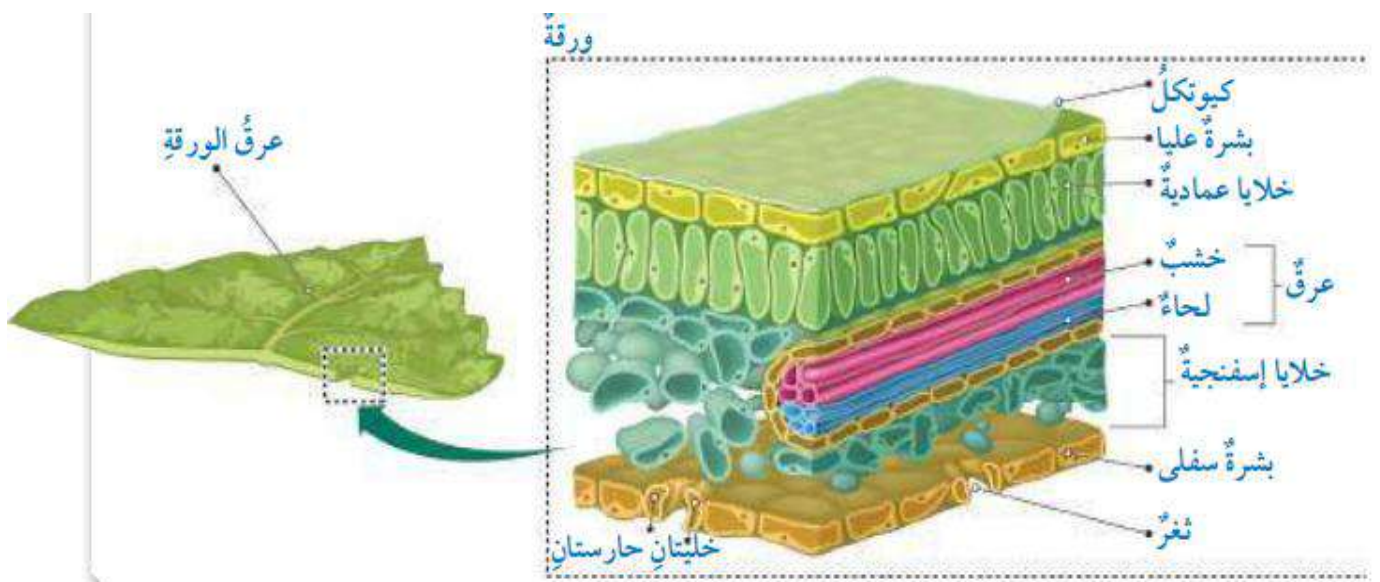


فرع يحمل ثلاثة أوراق مركبة

فرع يحمل أوراقاً بسيطة

التركيب الداخلي للورقة





- عدد بعض أجزاء التركيب الداخلي للورقة ؛ مع ذكر مميزات كل منها ؟

1- الكيوتكل : * طبقة شمعية

* سمكها في البشرة العليا أكبر منه في البشرة السفلى

* يقلل فقدان الماء من خلايا البشرة

2- طبقة البشرة : * شفافة

* تسمح بنفاذ الضوء إلى الخلايا المسؤولة عن عملية البناء الضوئي

3- الخلايا العمادية : * خلايا متراسة

* قريبة من البشرة

* تمتص أكبر كمية ممكنة من الضوء اللازم لحدوث البناء الضوئي فيها

4- الخلايا المكونة للطبقة الإسفنجية :

* تحدث فيها عملية البناء الضوئي على نحو أقل منه في الخلايا العمادية

* توجد بينها فراغات هوائية كبيرة

* توفر مساحة سطح واسعة لتبادل الغازات بين الخلايا و الهواء في الورقة

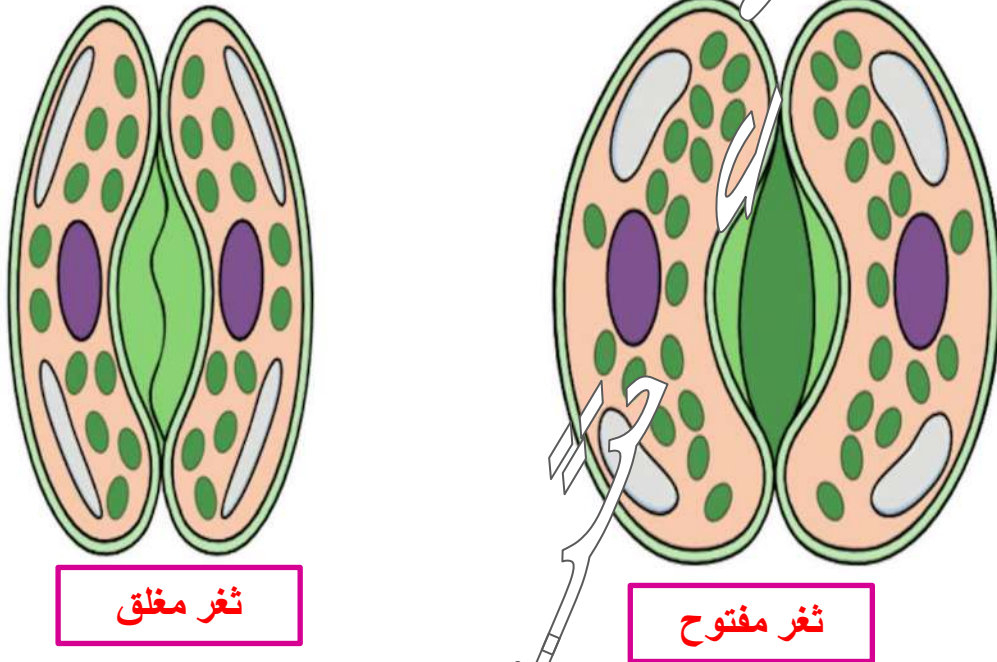
5- اللحاء :

* ينقل السكريات الناتجة من عملية البناء الضوئي من مكان تصنيعه إلى بقية أجزاء النبات



6- **الخشب** : * ينقل الماء و الأملاح المعدنية من الجذر إلى الساق فالأوراق

7- **الثغور** : * تسمح بالنتح
* تسمح بتبادل الغازات بين الورقة و الهواء الجوي



8- **البلاستيدات الخضراء** : * تحوي الكلوروفيل
* تتركز بصورة أكبر في الخلايا العمادية

- **علل طبقة البشرة مهمة في عملية البناء الضوئي ؟**

لأنها طبقة شفافة ؛ تسمح بنفاذ الضوء إلى الخلايا المسؤولة عن عملية البناء الضوئي

- **علل لا تجف أجزاء النبات مع أنها ثابتة في مكانها ولا تتأثر سطوحها بأشعة الشمس ؟**

بسبب وجود طبقة شمعية تدعى **الكيوتكل** تعكس أشعة الشمس ؛
وتعمل على تقليل فقدان الماء من خلايا البشرة في عملية النتح

- **علل تمتص الخلايا العمادية أكبر كمية ممكنة من الضوء اللازم لحدوث عملية البناء الضوئي ؟**

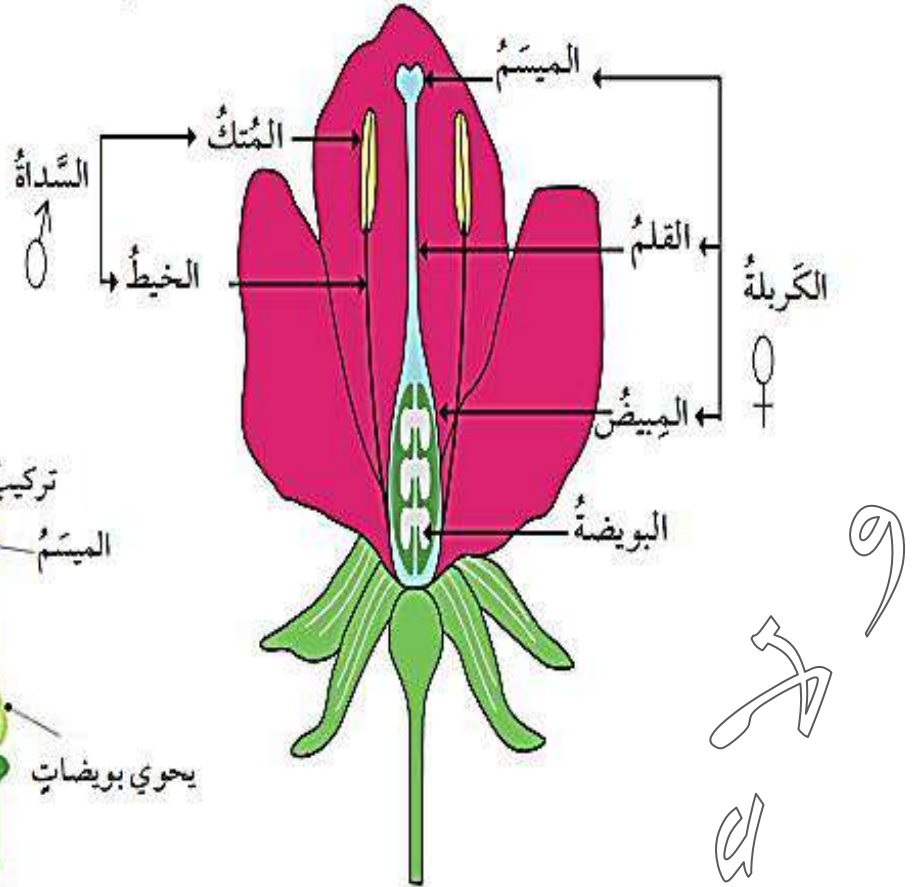
لأن خلاياها متراسة و قريبة من البشرة

- ما هو عضو التكاثر الجنسي في النباتات مغطاة البذور (الزهريّة) ؟ الزهرة

- كيف تنشأ الزهرة ؟ تنشأ عن البرعم



يبين الشكل التالي أجزاء الزهرة :



- ما البتلة في الزهرة ؟ وما وظيفتها ؟

** البتلة هي الجزء الملون من الزهرة

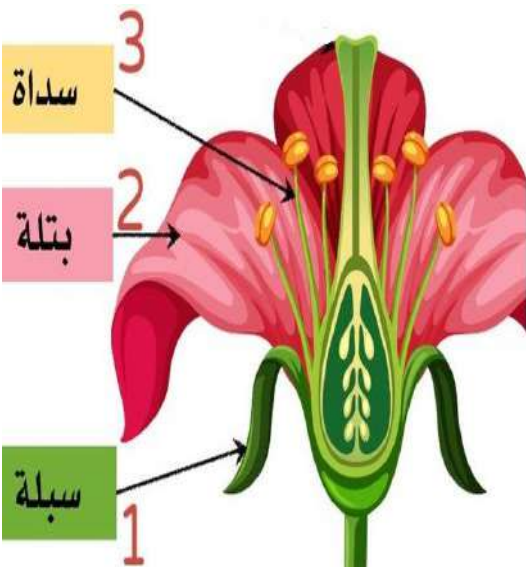
** وظيفتها : 1- جذب الحشرات للمساعدة في عملية التلقيح

2- حماية الأعضاء التكاثرية الداخلية في الزهرة

- ما هي السبلة في الزهرة ؟ وما وظيفتها ؟

** السبلة : هي الجزء الخارجي من الزهرة

** وظيفتها : حماية أجزاء الزهرة



- أين تتكون الجاميتات؟ وما أنواعها؟

تتكون الجاميتات في الزهرة

• أنواع الجاميتات: 1- جاميتات ذكورية 2- جاميتات أنثوية

- ما هو عضو التذكير في النباتات مغطاة البذور؟ هو السداة

- ما هو عضو التانيث في النباتات مغطاة البذور؟ هو الكربة

- مم تتكون السداة؟

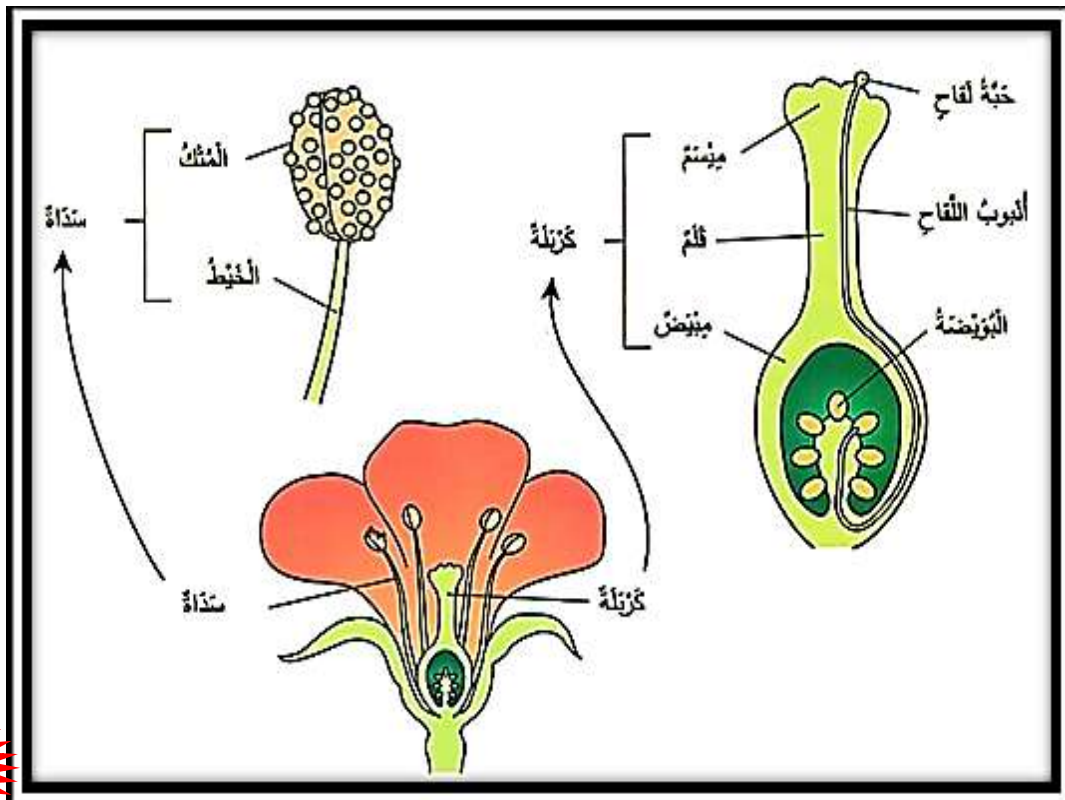
تتكون من: 1- متك 2- خيط

- مم تتكون الكربة؟

تتكون من: 1- الميسم 2- القلم 3- المبيض

- أين تتكون حبوب اللقاح في النباتات مغطاة البذور؟ تتكون في المتك

- أين تتكون البويضات في النباتات مغطاة البذور؟ تتكون في المبيض



- ما أوجه التشابه و الاختلاف بين الأزهار ؟

* أوجه التشابه : 1- عضو التكاثر الجنسي (الزهرة)

2- حدوث الإخصاب داخلها

3- الحجم

2- اللون

* أوجه الاختلاف : 1- الشكل

- وضح كيف يتكون الجنين داخل غلاف البذرة ؟

تنقسم البويضة المخصبة انقسامات متساوية لتكوين الجنين داخل غلاف البذرة

- قارن بين بذور النباتات ذات الفلقة و بذور النباتات ذات الفلقتين ؟

بذور النباتات ذات الفلقتين	بذور النباتات ذات الفلقة	من حيث
1- فلقتان 2- غلاف بذرة 3- وريقات أولى 4- سويقة 5- جذير	1- فلقة 2- ريشة 3- جذير 4- غلاف بذرة 5- إندوسبيرم	التركيب
تخزن الغذاء في الفلقات	تخزن الغذاء في نسيج يسمى الإندوسبيرم Endosperm	تخزين الغذاء
<p>بذرة الفاصولياء (ذات الفلقتين).</p>	<p>بذرة الذرة (ذات الفلقة).</p>	

- وضح كيف تتكون الثمرة ؟

1- تحدث انقسامات متساوية للبويضة المخصبة داخل مبيض الزهرة بعد حدوث الإخصاب

2- ينضج المبيض لتكوين الثمرة



- ما أوجه التشابه و الاختلاف بين الثمار ؟

* أوجه التشابه : التركيب العام

* أوجه الاختلاف : 1- الشكل 2- اللون

3- الحجم 4- الطعم

5- عدد البذور الموجودة داخلها



ثمار الدراق
و الخوخ
تحتوي بذرة
واحدة



ثمار البندورة و الفلفل و الباميا
تحتوي بذوراً عدة

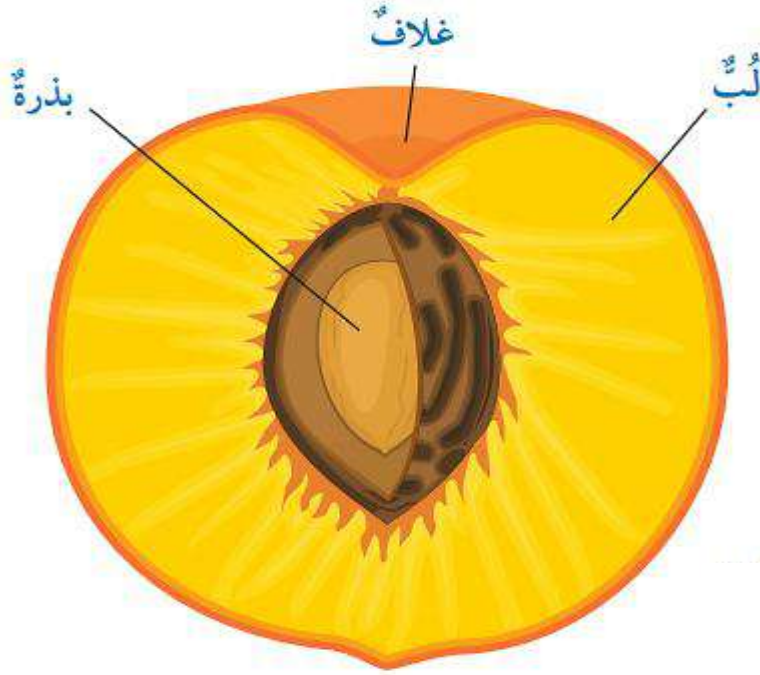


ما التركيب العام للثمرة ؟

3- بذرة

2- لب

1- غلاف



- ماذا يحدث إذا اختفت النباتات الزهرية عن سطح الأرض ؟

- 1- تضرر بالإنسان و البيئة
- 2- تُسبب نقص في الغذاء
- 3- تُسبب تآكل التربة
- 4- تُسبب نمو أنواع غير مرغوبة من النباتات
- 5- تُسبب انتشار الآفات
- 6- تُسبب فقدان الكائنات الحية
- 7- تُؤثر سلباً على الاستدامة الاقتصادية
- 8- تُحدث خللاً في التوازن البيئي
- 9- تُسبب إطلاق الكربون الذي يزيد من ظاهرة الاحتباس الحراري

- علل إزالة النباتات الزهرية تضر بالإنسان و البيئة ؟

لأن النباتات الزهرية تعد المزود الرئيس للغذاء في العالم ؛ مثل :

(القمح ، الأرز ، الذرة ، الشعير ، الشوفان ، قصبه السكر)



- كيف تتكيف نباتات الصحراء على العيش فيها ؟


- 1- تتحمل جذورها وسيقانها و أوراقها شح الماء
- 2- تتحمل جذورها و سيقانها و أوراقها ارتفاع درجات الحرارة نهاراً و انخفاضها ليلاً
- 3- تتحمل جذورها و سيقانها و أوراقها شدة الضوء العالية
- 4- تركيب الأوراق و شكلها يقلل من عملية النتح

- علل تخترق جذور نباتات الصحراء مساحات كبيرة من التربة أفقياً و عمودياً ؟

لامتصاص أكبر كمية ممكنة من الماء ؛ حيث تخزن الماء في أوراقها و سيقانها

- وضح إنَّ تركيب الأوراق و شكلها يقلل من عملية النتح ؟

* بعض النباتات تتحور الأوراق إلى أشواك ؛ يُستعاض عنها بالسيقان الخضراء للبناء الضوئي



* بعض النباتات : 1- تكون الأوراق صغيرة الحجم

2- تغطي البشرة في كل من الساق و الأوراق طبقة سميكة من الكيوتكل

- اذكر مثال على نباتات البيئة المائية و نباتات البيئات الحارة الجافة ؟

* نباتات البيئة المائية : نبات زنبق الماء



* نباتات البيئات الحارة الجافة

نبات الصبار



مراجعة الدرس
النباتات الوعائية البذرية

السؤال الأول:

أقارن بين النباتات ذات الفلقة والنباتات ذات الفلقتين كما في الجدول المجاور.

وجه المقارنة	ذات الفلقة	ذات الفلقتين
عدد فلقات البذرة.	فلقة واحدة.	فلقتان.
عدد الأوراق في الزهرة.	ثلاث ورقات، أو من مضاعفاتها.	أربع ورقات، أو خمس ورقات، أو من مضاعفاتها.
شكل العروق في الورقة.	متوازية.	شبيكية.
ترتيب الحزم الوعائية في الساق.	مبعثرة في النسيج الأساسي.	مُرتَّبة على شكل محيط.
وجود النخاع في الساق.	لا يوجد نخاع.	يوجد نخاع.

السؤال الثاني:

أصنف النباتات معراة البذور إلى مجموعاتها الأربع.

المخروطيات، الجنكيات، الجنتيات، السايكاديات.

السؤال الثالث: أصف تركيب الزهرة.

السبلات

البتلات

أعضاء التذكير (الجاميتات الذكرية، حبوب اللقاح)
عضو التأنيث (البويضات).

السؤال الرابع:

أتوقع بعض خصائص نبات الشيح *Artemisia jordanica* الذي ينمو في مناطق عدة من الأردن، مثل الصحراء الشرقية.



نبات زهري ذو فلقتين (مغطاة البذور)،
عشبي بري

يحتوي على زيوت طيارة،

رائحته قوية نفاذة،

طعم مرّ،

له فوائد صحية عدّة.

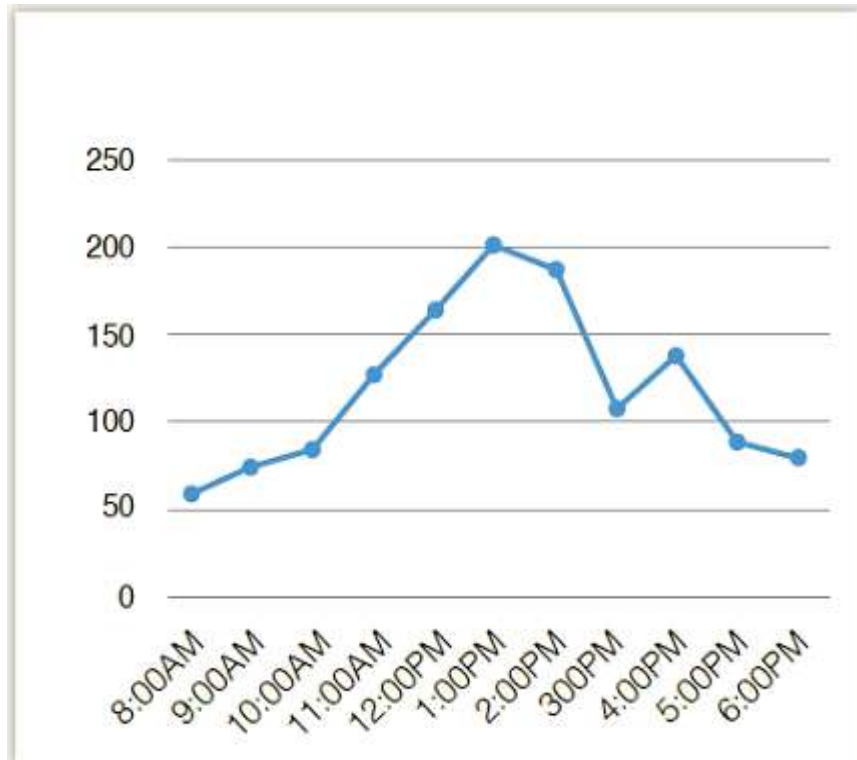
السؤال الخامس:

تحليل البيانات: أدرس الجدول المجاور الذي يمثل نتائج تجربة لدراسة بعض العوامل المؤثرة في عملية النتج، ثم أجب عن
السؤالين الآتيين:



الساعة	درجة الحرارة	نسبة الرطوبة	معدل النتج لكل ساعة
(AM)8	14	88	57
9	14	82	72
10	21	86	83
11	26	87	125
(PM)12	27	87	161
1	33	65	199
2	31	61	186
3	30	70	107

أ- أرسم بيانياً العلاقة بين الوقت في أثناء اليوم ومعدل النتج.



ب- أفسر سبب انخفاض قيمة معدل النتج عند الساعة 3.

ارتفاع درجة الحرارة.

منهاجي
منعة التعليم الهادف

