





أسئلة الدرس


- ١ ما المقصودُ بالمفتاحِ الكهربائيّ؟
- ٢ ما نوعُ المفتاحِ الكهربائيّ الممكنِ استعماله في إنارةٍ كلِّ ممّا يأتي:
 - أ - ثريّاً مكونةً من مجموعتين من المصابيح، وكلُّ مجموعةٍ مُفصّلةُ الإنارةِ عن الأخرى.
 - ب - مجموعةً من المصابيحِ دفعةً واحدةً.
- ٣ علّلْ كلاً ممّا يأتي:
 - أ - يُنصحُ بارتداءِ حذاءٍ معزولٍ، أو الوقوفُ على سُلّمٍ خشبيٍّ عندَ التعاملِ معَ الكهرباءِ.
 - ب - فكُّ برغيّ التثبيتِ لنقاطِ التوصيلِ في المفتاحِ بشكلٍ جزئيٍّ.
- ٤ تأمّلِ الصورَ أدناه، مُبيّناً الخطأ والصواب، في كلِّ ممّا يأتي:




(ب)



(أ)



(د)



(ج)