

موعد الامتحان : الثلاثاء ٢٠١٩/١٢/١٠

مدة الامتحان : ٤٥ دقيقة فقط

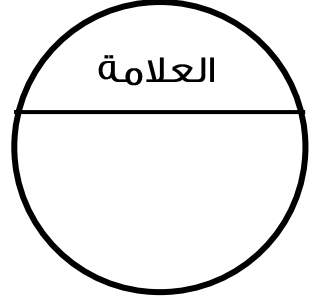



المملكة الأردنية الهاشمية

وزارة التربية والتعليم

مدرسة زيد بن حارثة الأساسية للبنين
الامتحان الثاني في مادة الرياضيات للصف الرابع

العلامة



الشعبة : ب ، هـ

منهاجي
منعة التعليم الهادف

الاسم :

ملحوظة : أجب عن الأسئلة الآتية جميعها وعددها (٤) أسئلة ، علماً بأن عدد صفحات الامتحان (٢).

السؤال الأول : انظر خط الأعداد الآتي ثم أجب عن الأسئلة التي تليه :



(١) ما هو الكسر العادي المكافئ للعدد العشري (0.5) ؟

(٢) اكتب العدد العشري (0.545) على الصورة التحليلية ؟

(٣) أيهما أكبر العدد (0.1) أم العدد (0.3) ؟

(٤) رتب الأعداد الآتية تصاعدياً (0.2) (0.35) (0.9) (0.95) ؟

(٦) ما هو مجموع الأعداد الآتية (0.25) و (0.2) و (0.4) ؟

السؤال الثاني : اكتب الكسر العشري المكافئ لكل كسر فيما يأتي :

(١) $\frac{342}{1000}$

(٢) $\frac{1}{100}$

(٣) $\frac{9}{10}$



السؤال الثالث : أجب عن الأسئلة الآتية بوضع أشاره صح أو خطأ بين القوسين :

- (أ) العدد الذي يقع في منتصف المسافة بين العددين (1.8) و (1.2) هو (1.5) ()
- (ب) العدد العشري (0.75) يكافئ الكسر $\frac{3}{4}$ أو $\frac{75}{100}$ ()
- (ج) العدد الكسري واحد وسبعة أثمان يُكتب : $10\frac{7}{8}$ ()
- (د) يُعتبر الكسر $\frac{123}{4}$ كسر فعلي ()

السؤال الرابع : أجب عن الأسئلة مع تفصيل خطوات الحل :

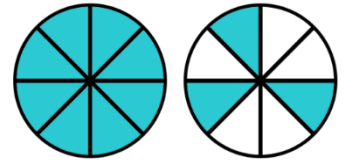
(١) اكتب 3 كسور مكافئة للكسر $\frac{2}{5}$ ؟

(٢) عبر عن الكسر العشري الآتي بالكلمات ؟

← 0,9

(٣) اكتب العدد الكسري $1\frac{1}{2}$ على صورة كسر ؟

(٤) ما الكسر الذي يمثل الجزء المظلل في الأشكال الآتية ؟



ما هو مدى رضاك عن مستوى الامتحان ؟



معلش



أحببته



أضحكني



Error 404



أحزنتني



أغضبني

وفقكم الله وسدد خطاكم ونفع الله بعلمكم وعملكم
الأستاذ معاذ أمجد أبو يحيى