



اسْمُ الطَّالِبِ:

الصَّف:

التَّارِيخُ:


عَزِيزِي الطَّالِبِ، لَا تَفْتَحْ كُتَيْبَكَ قَبْلَ أَنْ يُخْبِرَكَ مُعَلِّمُكَ بِذَلِكَ.

تَذَكَّرُ:

- زَمَنُ الْاِخْتِبَارِ 30 دَقِيقَةً.
- الْأَلَةُ الْحَاسِبَةُ غَيْرُ مَسْمُوحَةٍ.
- لَا تَسْتَخْدِمُ أَيَّ وَرَقٍ خَارِجِيٍّ.
- أَجِبْ عَنِ الْأَسْئَلَةِ جَمِيعَهَا.
- اقْرَأِ السُّؤَالَ بِعِنَايَةٍ وَفَكَّرْ فِيهِ جَيِّدًا قَبْلَ الْبَدْءِ بِالْإِجَابَةِ.
- إِذَا أَنْهَيْتَ بَاكِرًا، تَحَقَّقْ مِنْ إِجَابَاتِكَ.

يُمْكِنُكَ الْكِتَابَةُ فِي أَيِّ مَكَانٍ فِي صَفْحَاتِ الْكُتَيْبِ لَكِنْ ضَعْ إِجَابَتَكَ
النَّهَائِيَّةَ فِي الْمَكَانِ الْمَخْصُصِ لِلْإِجَابَةِ.

هَذَا الرَّمُزُ يَعْنِي أَنَّ عَلَيْنَكَ إِظْهَارَ طَرِيقَةِ حَلِّكَ.



1

أَكْتُبِ العَدَدَ المَفْقُودَ:

① 257 , 258 , 259 ,

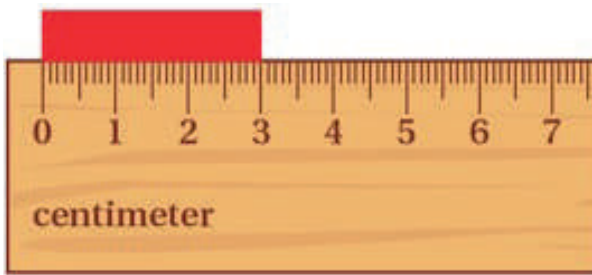
1 علامة

② , 476 , 477 , 478

1 علامة

2

أَسْتَعْمِلُ المِسْطَرَةَ لِقِيَاسِ طُولِ المُسْتَطِيلِ الأَحْمَرِ:



1 علامة

طُولُ المُسْتَطِيلِ الأَحْمَرِ سم

3

أَكْتُبِ العَدَدَ المَفْقُودَ:

632 = 600 + + 2

1 علامة

4


أَحْوَطُ الْعَدَدَ الزَّوْجِيَّ مِنْ بَيْنِ الْأَعْدَادِ الْآتِيَةِ:

573 465 871 534 217

1 علامة

5

لَدَى نَدَى هَذِهِ الْبُرْتُقَالَاتِ



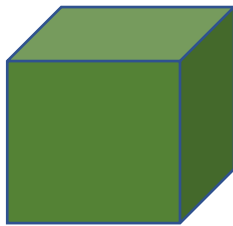
قَسَمْتَهَا إِلَى مَجْمُوعَاتٍ مُتَسَاوِيَةٍ فِي كُلِّ مِنْهَا 3.

كَمْ عَدَدُ الْمَجْمُوعَاتِ؟

مَجْمُوعَاتٍ

1 علامة

6



أَوْجُهُ

عَدَدُ أَوْجِهِ الْمَكْعَبِ هِيَ

1 علامة

7

أَعِدُّ بِالْعَشْرَاتِ ثُمَّ أَكْتُبُ الْعَدَدَ التَّالِي فِي الْفَرَاغِ:

79 , 89 , 99 ,

1 علامة


8

كَمْ شَهْرًا فِي السَّنَةِ الْوَاحِدَةِ؟

شهرًا

1 علامة

9




مُسْتَخْدِمًا الشَّكْلَ، أَكْتُبُ جُمْلَةَ الضَّرْبِ الَّتِي تُمَثِّلُ عَدَدَ النُّجُومِ:

$$\square \times \square = \square$$

1 علامة

أُكْمِلُ لَوْحَةَ الْمَنَازِلِ.

①



مِائَاتٌ

3


عَشْرَاتٌ

آحَادٌ

4

1 علامة

②


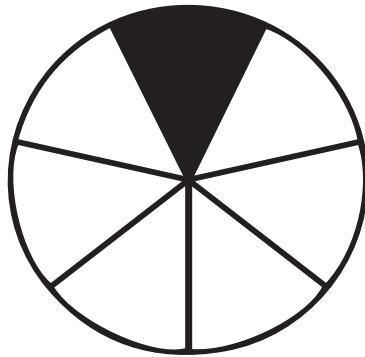


مِائَاتٌ

عَشْرَاتٌ

آحَادٌ

1 علامة



مَا الْكَسْرُ الدَّالُّ عَلَى الْجُزْءِ الْمُلَوَّنِ بِالْأَسْوَدِ؟

1 علامة

لَدَى حَمْرَةَ هَذِهِ الْقِطْعَ النَّقْدِيَّةُ مِنْ فِئَةِ الرَّبْعِ دِينَارٍ.




دِينَارٍ

الْمَبْلُغُ الَّذِي يَمْلِكُهُ حَمْرَةَ هُوَ

1 علامة

مُسْتَخْدِمًا الشَّكْلَ:



أَجِدْ نَاتِجَ الْقِسْمَةِ فِيمَا يَلِي:

① $12 \div 4 =$

1 علامة

② $12 \div 3 =$

1 علامة



لدى سلمى 20 سورةً.

وضعت كل 5 سور في صفحة اليوم.

كم صفحة تحتاج سلمى لوضع السور؟

صفحات

1 علامة

اكتب الوقت في الساعة الرقمية كما هو ظاهر في الساعة ذات العقارب.



1 علامة

اكتب اسم الشهر الأول من السنة الميلادية.

1 علامة

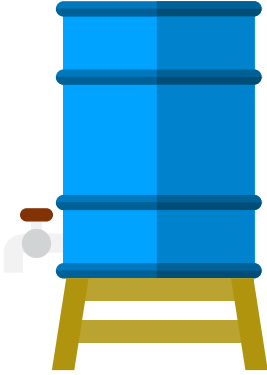
① أَحَوِّطُ الْوَحْدَةَ الْمُنَاسِبَةَ لِقِيَاسِ كُتْلَةِ الْفِيلِ.



الْكِيلُوغِرَامُ

الْغِرَامُ

② أَحَوِّطُ الْوَحْدَةَ الْمُنَاسِبَةَ لِقِيَاسِ سِعَةِ الْمَاءِ فِي هَذَا الْخَزَانِ الْمُمْتَلِئِ.



الْمِيلِيْتَرُ

الْلِتْرُ

1 علامة


قَرَأَ أَحْمَدُ يَوْمَ الْإِثْنَيْنِ 151 صَفْحَةً.

وَقَرَأَ يَوْمَ الثَّلَاثَاءِ 153 صَفْحَةً.

كَمْ صَفْحَةً قَرَأَ فِي هَذَيْنِ الْيَوْمَيْنِ مَعًا؟

صَفْحَةً

1 علامة



لدى فاطمة 5 مزهرياتٍ.

تضع 5 أزهارٍ في كلِّ مزهريّةٍ.

ما هو المجموع الكلي لعدد الأزهار؟

زهرة

1 علامة

ارتب الأعداد تصاعدياً.

105 99 200 142

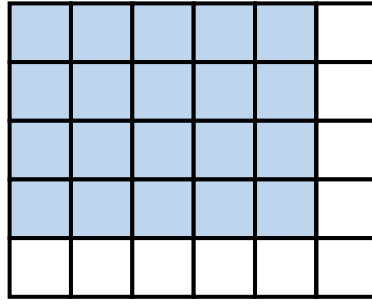
العدد الأصغر

العدد الأكبر

1 علامة



اَكْتُبْ جُمْلَةَ الضَّرْبِ الَّتِي تُمَثِّلُ الْجُزْءَ الْمَلَوَّنَ بِالْأَزْرَقِ.



$$\square \times \square = \square$$

1 علامة

اشْتَرَى عُمَرُ عُلْبَةَ عَصِيرٍ وَاحِدَةً وَكَعْكَةً وَاحِدَةً.



55 قِرْشًا



30 قِرْشًا


دَفَعَ 1 دِينَارًا.

مَا مِقْدَارُ الْبَاقِي الَّذِي حَصَلَ عَلَيْهِ؟



قِرْشًا

2 علامة



يَقِفُ الرَّبُوتُ عَلَى 3 قِطَعٍ تَرْكِيبٍ مُتَمَاثِلَةٍ.

كُلُّ قِطْعَةٍ ارْتِفَاعُهَا 3 سَم.

كَمْ طُولُ الرَّبُوتِ وَحْدَهُ؟



سَم

2 علامة

كَانَ لَدَى مُحَمَّدٍ 563 دِينَارًا.

أَعْطَى أَخَاهُ 249 دِينَارًا وَأُخْتَهُ 249 دِينَارًا.

كَمْ دِينَارًا بَقِيَ لَدَى مُحَمَّدٍ الْآنَ؟



دِينَارًا

2 علامة

