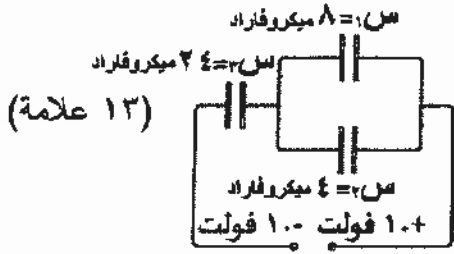


الصفحة الثانية

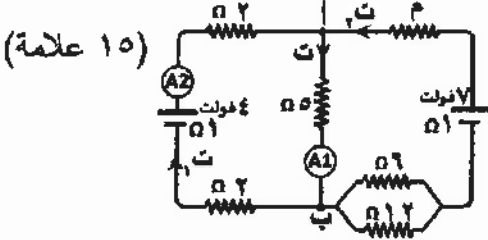
السؤال الثاني: (٤٠ علامة)



(١٣ علامة)

أ) معتمداً على الشكل المجاور أجب عما يأتي:

- ١- احسب المواسعة المكافئة لمجموعة المواسعات.
- ٢- جد فرق جهد المصدر.
- ٣- أي المواسعين (س١، س٢) يخترن شحنة أكبر؟ وضح إجابتك.



(١٥ علامة)

ب) معتمداً على المعلومات المثبتة في الدارة المجاورة،


وإذا علمت أن (ج ب = ٣ فولت)، احسب:

- ١- قراءة كل من الأميتر (A١) والأميتر (A٢).
- ٢- المقاومة الكهربائية (م).

(١٢ علامة)

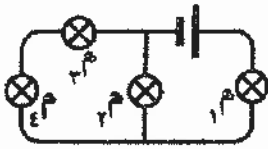
ج) انتقل إلى دفتر إجابتك رقم الفقرة ورمز الإجابة الصحيحة لها:

- ١- في الشكل المجاور يكون الشغل المبذول من القوة الخارجية لنقل شحنة موجبة من النقطة (أ) إلى النقطة (ب) بسرعة ثابتة يساوي الشغل المبذول لنقل الشحنة نفسها بسرعة ثابتة:
 - أ) من النقطة (ب) إلى النقطة (هـ)
 - ب) من النقطة (هـ) إلى النقطة (د)
 - ج) من النقطة (د) إلى النقطة (هـ)
 - د) من النقطة (أ) إلى النقطة (د)



- ٢- موصل مقاومته (م)، وطوله (ل)، قُطع الموصل إلى جزأين متساويين، ثم وُصل الجزآن معاً على التوازي، فإن المقاومة المكافئة لهما تصبح:

أ) ٤م ب) ٢م ج) $\frac{م}{٢}$ د) $\frac{م}{٤}$



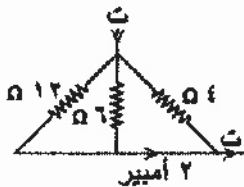
- ٣- أربعة مصابيح موصولة في دارة كهربائية كما في الشكل المجاور.

إذا احترق المصباح (م)، فكم مصباحاً يبقى مضاءً؟

أ) (صفر) ب) (١) ج) (٢) د) (٣)

- ٤- في الشكل المجاور مقدار التيار (ت) بوحدة الأمبير:

أ) (٢) ب) (٤) ج) (٦) د) (١٢)



السؤال الثالث: (٤٠ علامة)

أ) تتحرك إلكترونات عددها $(١٠ \times ٧,٥)$ إلكترون في موصل مستقيم خلال (٣) ثوانٍ فيتولد فيه تيار.

إذا وُضع الموصل على بُعد (٨) سم من موصل مستقيم آخر مواز له، ويمر فيه تيار كهربائي (٤٠) أمبير،

والتياران في الموصلين في اتجاهين متعاكسين، وإذا علمت أن شحنة الإلكترون $(١,٦ \times ١٠^{-١٩})$ كولوم،

جد مقدار المجال المغناطيسي المحصل عند نقطة تقع في منتصف المسافة بين الموصلين. (١٢ علامة)

ب) ملف دائري قطره (١٢) سم، يمر فيه تيار كهربائي (ت)، يولد مجالاً مغناطيسياً عند مركزه، أبعدت لقاته عن

بعضها بانتظام في اتجاه محوره ليصبح ملفاً لولبياً يمر فيه التيار الكهربائي نفسه، فأصبح المجال المغناطيسي

عند نقطة تقع داخل الملف اللولبي على محوره يساوي نصف مقدار المجال المغناطيسي عند مركز الملف

(٧ علامات)

الدائري. احسب طول الملف اللولبي.

الصفحة الثالثة

ج) دخل جسيم مشحون شحنته (2×10^{-19}) كولوم، وكتلته (1.6×10^{-26}) كغ، بشكل عمودي على مجال مغناطيسي منتظم (0.4) تسلا وبسرعة ثابتة (2×10^6) م/ث. احسب: (٩ علامات)

- ١- نصف قطر المسار الدائري الذي يسلكه الجسيم.
- ٢- القوة المغناطيسية التي يؤثر بها المجال المغناطيسي في الجسيم أثناء حركته.
- ٣- إذا أدخل نيوترون بالسرعة نفسها وبشكل عمودي على المجال المغناطيسي، فاحسب مقدار القوة المغناطيسية المؤثرة في النيوترون.

د) انقل إلى دفتر إجابتك رقم الفقرة ورمز الإجابة الصحيحة لها: (١٢ علامة)

١- يستهلك مصباح كهربائي طاقة كهربائية مقدارها (25×10^2) كيلو واط. ساعة، خلال (١٥) دقيقة، فإن قدرة المصباح بوحدة الواط:

أ) (١) ب) (٠,٠١) ج) (1×10^2) د) (1.66×10^{-1})



٢- في الشكل المجاور، عند تحريك الموصل (ص) مبتعدًا عن الموصل (س)، فإن المجال المغناطيسي المحصل عند النقطة (هـ):

أ) يقل ب) يزداد ج) ينعدم د) لا يتغير

٣- الشكل الذي يمثل الملف الذي ينعدم في مركزه المجال المغناطيسي هو:



أ) الشكل (١) ب) الشكل (٢) ج) الشكل (٣) د) الشكل (٤)

٤- جسيم مشحون بشحنة سالبة، يتحرك في مجال مغناطيسي منتظم باتجاه يوازي اتجاه المجال، فإذا أصبح المجال المغناطيسي مثلي ما كان عليه، فإن مقدار القوة المغناطيسية المؤثرة في هذا الجسيم:

أ) يقل إلى النصف ب) يتضاعف أربع مرات ج) يتضاعف مرتين د) صفرًا

السؤال الرابع: (٤٠ علامة)

أ) محث عدد لفاته (٢٠٠) لفة، يمر فيه تيار كهربائي (٢) أمبير،

فيتولد مجال مغناطيسي تدفقه (5×10^{-4}) ويبير. أجب عما يأتي:

١- احسب القوة الدافعة الكهربائية الحثية المتولدة في المحث إذا انعدم مرور التيار الكهربائي في المحث خلال (٠,٢) ثانية.

٢- احسب معامل الحث الذاتي للمحث. ٣- ما تفسير الإشارة السالبة في قانون فارادي؟

ب) سقط ضوء طوله الموجي (4.4×10^{-7}) م على سطح فلز فانبعثت منه إلكترونات سرعتها (3×10^6) م/ث.

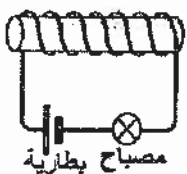
إذا سقط ضوء طوله الموجي (5.5×10^{-7}) م، فهل ستنبعث إلكترونات من سطح الفلز؟ فسر إجابتك رياضياً.

(١٥ علامة)

(١٢ علامة)

ج) انقل إلى دفتر إجابتك رقم الفقرة ورمز الإجابة الصحيحة لها:

١- عند تحريك المغناطيس بالاتجاه الموضح في الشكل المجاور فإن التيار الكهربائي الحثي يكون:



أ) باتجاه التيار الأصلي فتزداد شدة إضاءة المصباح.

ب) باتجاه التيار الأصلي فتقل شدة إضاءة المصباح.

ج) عكس اتجاه التيار الأصلي فتزداد شدة إضاءة المصباح.

د) عكس اتجاه التيار الأصلي فتقل شدة إضاءة المصباح.

منهاجي
متعة التعليم الهادف



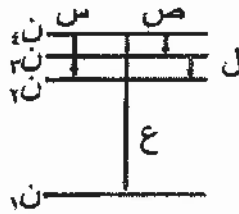
يتبع الصفحة الرابعة

الصفحة الرابعة

- ٢- موصل مستقيم طوله (٠,٤) م ومقاومته (٠,٢) Ω، يتحرك عمودياً على مجال مغناطيسي منتظم (٠,٥) تسلا، ينزلق على مجرى فليزوني دون احتكاك، فيتولد تيار حثي (٤) أمبير، فإن الموصل يتحرك بسرعة مقدارها:
- (أ) ٢ م/ث (ب) ٤ م/ث (ج) ٦ م/ث (د) ٨ م/ث
- ٣- ملف لولبي مادة قلبه من الحديد، ومحاطه (ح)، إذا أزيل القلب الحديدي من داخله فإن محاطته:
- (أ) تصبح صفراً (ب) تقل (ج) تزداد (د) لا تتغير
- ٤- تسمى الطاقة اللازم إعطاؤها لإلكترون ذرة الهيدروجين لكي يغادر مداره نهائياً دون إكسابه طاقة حركية:
- (أ) طاقة التأين (ب) طاقة الإثارة (ج) طاقة المدار (د) اقتران الشغل

السؤال الخامس: (٤٠ علامة)

- (أ) يبين الشكل المجاور أربعة انتقالات (س، ص، ع، ل) لإلكترون ذرة الهيدروجين بين مستويات الطاقة. أولاً: أي الانتقالات يُعطي خطاً طيفياً:



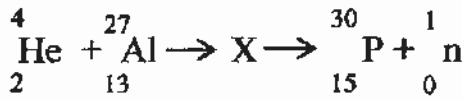
(٧ علامات)

- ١- يقع في متسلسلة باثن.
٢- يقع في منطقة الضوء المرئي.
٣- له أقصر طول موجي.

ثانياً: أثبت أن أقصر طول موجي لفوتون ينبعث في أي متسلسلة يُعطي بالعلاقة: $\frac{1}{R_H} = \lambda$

(١٥ علامة)

- (ب) تأمل معادلة التفاعل النووي المجاورة ثم أجب عما يأتي:



- ١- حدد رمز العنصر الذي يمثل القذيفة.
٢- أي النواتج يمتلك طاقة حركية أكبر؟
٣- ماذا يمثل الرمز (X) في المعادلة؟
٤- احسب ما يأتي:

- طاقة الربط النووية لكل نيوكليون لنواة (${}^4_2\text{He}$) إذا علمت أن $\Delta K = 0,0303$ و.ك.ذ.
▪ نصف قطر نواة (${}^{27}_{13}\text{Al}$).

(٦ علامات)

- (ج) تمثل المعادلة النووية (${}^A_Z X \rightarrow {}^{A-4}_{Z-2} Y + {}^4_2\text{He}$) اضمحلال ألفا، أجب عما يأتي:

- ١- قارن بين النواة الناتجة والنواة الأم من حيث: حجم النواة، ودرجة الاستقرار.
٢- علّل: يكون مجموع كتل النواتج أقل من كتلة النواة الأم (المشعة).

(١٢ علامة)

- (د) انقل إلى دفتر إجابتك رقم الفقرة ورمز الإجابة الصحيحة لها:

- ١- يُصاحب الأجسام المتحركة جميعها موجات وفقاً لفرضية دي بروي تسمى موجات:
- (أ) المادة (ب) كهرومغناطيسية (ج) ميكانيكية (د) الضوء
- ٢- كتلة نواة العنصر تكون:

- (أ) مساوية لمجموع كتل مكوناتها
(ب) مساوية لمجموع الأعداد الذرية لمكوناتها
(ج) أكبر من مجموع كتل مكوناتها
(د) أصغر من مجموع كتل مكوناتها
- ٣- تتشابه نظائر العنصر الواحد في:

- (أ) عدد البروتونات (ب) عدد النيوترونات (ج) عدد النيوكليونات (د) العدد الكتلي
- ٤- رمز العنصر الذي تمتلك ذراته أكبر طاقة ربط نووية من العناصر الآتية هو:
- (أ) ${}^4_2\text{He}$ (ب) ${}^{12}_6\text{C}$ (ج) ${}^{56}_{26}\text{Fe}$ (د) ${}^{235}_{92}\text{U}$

(انتهت الأسئلة)



الإجابة النموذجية :

رقم الصفحة
في الكتاب

السؤال الأول : (٤. علامة)

١١٠ (١) - ١ - م = أسيدي = ٤ (٢) $9 \times 2 \times 9 \times 9 = 9 \times 36 = 324$ فوتون / كولوم (١) (س +)

١١١ م = أسيدي = ٤ (٢) $9 \times 9 \times 9 \times 9 = 9^4 = 6561$ فوتون / كولوم (١) (س +)

١٤ م = أسيدي = ٤ (١) $2 \times 60 = 120$ فوتون / كولوم (١) (س +)

٣٩ - ٣ - م = أسيدي = ٤ (١) $9 \times 9 = 81$ فوتون / كولوم (١) (س +)

٣٥ إشارة = - ٧٣ - (ج - ج - ج) (١) $9 \times 9 = 81$ فوتون / كولوم (١) (س +)

٣٥ إشارة = - ٧٣ - (ج - ج - ج) (١) $9 \times 9 = 81$ فوتون / كولوم (١) (س +)

٤٣ (ب) - ١ - م = أسيدي = ٤ (١) $9 \times 9 = 81$ فوتون / كولوم (١) (س +)

١٩ م = أسيدي = ٤ (١) $9 \times 9 = 81$ فوتون / كولوم (١) (س +)

٦١ - ٢ - م = أسيدي = ٤ (١) $9 \times 9 = 81$ فوتون / كولوم (١) (س +)

٢٠ (٣) - ١ - م = أسيدي = ٤ (١) $9 \times 9 = 81$ فوتون / كولوم (١) (س +)

٥١ (٣) - ٢ - م = أسيدي = ٤ (١) $9 \times 9 = 81$ فوتون / كولوم (١) (س +)

٣٥ (٣) - ٣ - م = أسيدي = ٤ (١) $9 \times 9 = 81$ فوتون / كولوم (١) (س +)

٦٣ (٣) - ٤ - م = أسيدي = ٤ (١) $9 \times 9 = 81$ فوتون / كولوم (١) (س +)

رقم الصفحة
في الكتاب

السؤال الثاني: (٤٠ علامة)

(٢) ١ - (س، س) توازي

٦٩

س توازي = س + س (١)

١٣ ميكرو فاراد = ٨ + ٥ = (١)



(س، س) ، س توازي .

٧٠

$\frac{1}{س} + \frac{1}{س} = \frac{1}{س}$ (١)

$\frac{3}{٤٤} = \frac{1}{١٢} + \frac{1}{٤٤} =$ (١)

٨ ميكرو فاراد = س (١)

٥٧

٣ - ج = ١٠ - ا = ١٠ - ١ = ٩ فولت (١)

٦١

٣ - س < س (١) ، ج = ١ ، ج = ١ (١) موصلان على التوازي

بما ان س = $\frac{١}{١} + \frac{١}{١} = ٠.٥$ س < س (١)

١١٣

(٥) ١ - قراءة (A) : ج - ن (٥) - ج = ص = ص = $\frac{٣}{٥}$ أمبير (١)

قراءة (A) : ج + ن (٥) = ٤ - ج = ٠

١ = $\frac{١}{٥}$ أمبير (١)



١١١

$\frac{1}{١٤} + \frac{1}{١٤} = \frac{1}{٧}$ (١)

٢ - ن = ن = ن = ١ (١)

٩٣

$\frac{٣}{١٤} =$ (١) توازي

$\frac{٥}{٥} = \frac{٣}{٥} =$ (١)

ج + ن (٥) = ٧ - (٤ + ١ + ٣) = ٧ - ٨ = -١ ج = ٠

٢ = ٥ = ٥ (١)

٥١

١ - من النقطة (د) إلى النقطة (هـ) (٣)



٨٨

(٣) $\frac{٣}{٤} (٢ - ٢)$

٩٣

(٣) $\frac{٣}{٤} (٢ - ٣)$

٩٤

(٣) $\frac{٣}{٤} (٥ - ٤)$

رقم الصفحة في الكتاب	السؤال الثالث (ب) : (٤ علامات)
١٤٤-١٤٣	(٢) $\frac{19 - 1}{1 \times 1,7 \times 1 \times 1,7} = e^{1,7} = 5,47$ $\frac{1}{2} = 0,5$ $\frac{1}{2} = 0,5$ $\frac{1}{2} = 0,5$
١٤٦	(١٣) $\frac{1}{2} = 0,5$ $\frac{1}{2} = 0,5$ $\frac{1}{2} = 0,5$
١٤٩	(١٤) $\frac{1}{2} = 0,5$ $\frac{1}{2} = 0,5$ $\frac{1}{2} = 0,5$
١٥٢	(١٥) $\frac{1}{2} = 0,5$ $\frac{1}{2} = 0,5$ $\frac{1}{2} = 0,5$
١٣٢	(١٦) $\frac{1}{2} = 0,5$ $\frac{1}{2} = 0,5$ $\frac{1}{2} = 0,5$
١٣٥	(١٧) $\frac{1}{2} = 0,5$ $\frac{1}{2} = 0,5$ $\frac{1}{2} = 0,5$
١٣١	(١٨) $\frac{1}{2} = 0,5$ $\frac{1}{2} = 0,5$ $\frac{1}{2} = 0,5$
١٤٣	(١٩) $\frac{1}{2} = 0,5$ $\frac{1}{2} = 0,5$ $\frac{1}{2} = 0,5$
١٤٦	(٢٠) $\frac{1}{2} = 0,5$ $\frac{1}{2} = 0,5$ $\frac{1}{2} = 0,5$
١٤٩	(٢١) $\frac{1}{2} = 0,5$ $\frac{1}{2} = 0,5$ $\frac{1}{2} = 0,5$
١٤٨	(٢٢) $\frac{1}{2} = 0,5$ $\frac{1}{2} = 0,5$ $\frac{1}{2} = 0,5$

رقم الصفحة
في الكتاب

السؤال الخامس: (٤ علامة)

٢١٧

(١) أولاً: ١- ص (١) ٢- س (١) ٣- س (١) ٤- س (١)

ثانياً: $R_H = \frac{1}{2}$ (١) $\left(\frac{1}{2^2} - \frac{1}{\infty} \right)$ (١) $n = \infty$ (١)

$R_H = \frac{1}{2}$ (١) $\left(\frac{1}{2^2} - \frac{1}{\infty} \right)$ (١)

$\frac{1}{R_H} = 2$ (١)

٢٦٠

(١) ${}^4_2\text{He}$ (١) ٢- ${}^1_0\text{n}$ (١) ٣- النواة المركبة (١)

٢٤٧

$\frac{1}{2} \times 10^{10} \times 4 = 2 \times 10^{10}$ (١) $\frac{1}{4} \times 10^{10} \times 4 = 10^{10}$ (١)

$\frac{1}{2} \times 10^{10} \times 4 = 2 \times 10^{10}$ (١) $\frac{1}{4} \times 10^{10} \times 4 = 10^{10}$ (١)

٢٤١

٤- نصف قطر نواة $({}^{27}_{13}\text{Al})$:

$r = r_0 A^{1/3}$ (١)

$1.7 \times 10^{-15} \times 27 = 4.59 \times 10^{-15}$ (١)

$1.7 \times 10^{-15} \times 3 = 5.1 \times 10^{-16}$ (١)

٢٤٢

١- حجم النواة الناتجة (Y) أقل من حجم النواة (X) الأم (١)

٢٥١

استقرار النواة الناتجة (Y) أكبر من استقرار النواة الأم (X) (١)

٢٥١

٣- الفرق في الكتلة يتحول إلى طاقة حركية للنواتج (١)

٢٢٨

١- المادة (٣)

٢٤٧

٢- أخيراً مجموع كتل مكوناتها (٣)

٢٤٠

٣- عدد البروتونات (٣)

٢٤٨

٤- ${}^{235}_{92}\text{U}$ (٣)