

أتحقق من فهمي

الربيعيات

أتحقق من فهمي: صفحة 146



عددُ النقاطِ				
64	61	67	59	60
58	57	71	56	62

يبيّن الجدولُ المجاورُ عددَ النقاطِ التي سجّلها فريقُ كرة سلةٍ في أحدِ المواسمِ:



5 أجدُ المدى الربيعيَّ.

4 أجدُ المدى.

6 أستعملُ المدى وال المدى الربيعيَّ لوصفِ البياناتِ.

4 15

5 6

6 أجدُ المدى الربيعيَّ للبياناتِ: 58، 61، 67، 59، 60، 58، 57، 71، 56، 62. أجدُ المدى الربيعيَّ للبياناتِ: 64، 58، 57، 71، 56، 62. أجدُ المدى الربيعيَّ للبياناتِ: 64، 58، 57، 71، 56، 62.

أتحقق من فهمي: صفحة 147



الساقُ	الورقةُ
5	3 6 8
6	5 8
7	0 3 7 7 9
8	1 4 8 8 9
9	9

المفتاحُ: $5|3 = 53$

أجدُ القِيمَ المتطرفةَ (إن وُجدت) للبياناتِ الممثلةِ بمخططِ

الساقِ والورقةِ المجاورِ.



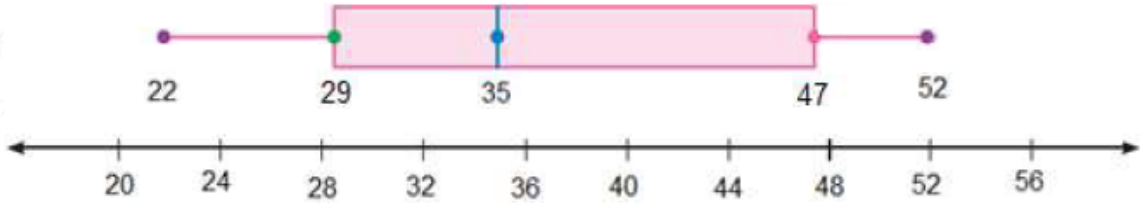
$Q_1 = 66.5$, $Q_3 = 86$

أجدُ المدى الربيعيَّ للبياناتِ: 37.25، 66.5، 86، 115.25. أجدُ المدى الربيعيَّ للبياناتِ: 37.25، 66.5، 86، 115.25.

أتحقق من فهمي: ✓

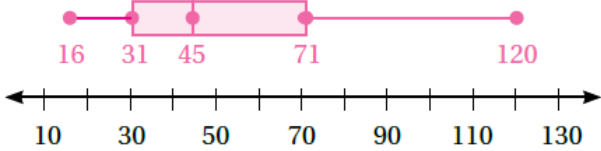
أستعمل الصندوق ذا العارضتين لتمثيل البيانات الآتية التي تمثل أعمار المعلمين في إحدى المدارس:

30, 52, 26, 35, 45, 22, 49, 32, 28, 50, 42, 35



أتحقق من فهمي: صفحة 149 ✓

ساعات: يبين تمثيل الصندوق ذي العارضتين المجاور أسعار الساعات في أحد المحال.



4 أصف توزيع البيانات.

5 أجد المدى الربيعي للبيانات.

6 هل البيانات أكثر تشتتاً أسفل الربع الأدنى أم فوق الربع الأعلى؟ أبرر إجابتي.

4 أصف توزيع البيانات. 104

31 31 71

120 71

5 أجد المدى الربيعي للبيانات. 40

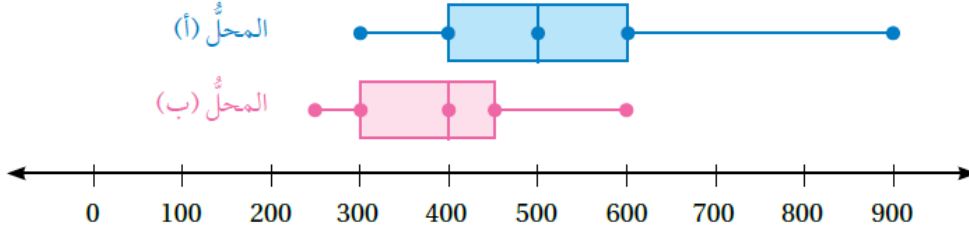
40

6 هل البيانات أكثر تشتتاً أسفل الربع الأدنى أم فوق الربع الأعلى؟ أبرر إجابتي.

أتحقق من فهمي:



هواتف: يبين تمثيل الصندوق ذي العارضتين المزدوج أدناه أسعار الهواتف النقالة في المحلّين (أ) و (ب):



3 أيّ المحلّين أسعار الهواتف فيه أكثر تشتتاً؟ أبرر إجابتي.

4 أيّ المحلّين أسعار الهواتف فيه أعلى؟ أبرر إجابتي.

3 أيّ المحلّين أسعار الهواتف فيه أكثر تشتتاً؟ أبرر إجابتي. ()

4 أيّ المحلّين أسعار الهواتف فيه أعلى؟ أبرر إجابتي. ()