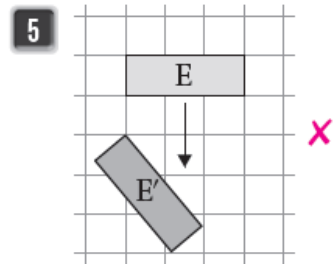
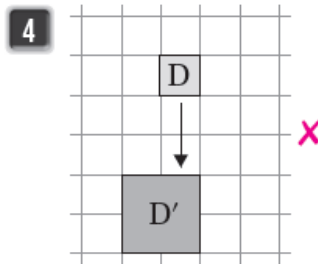
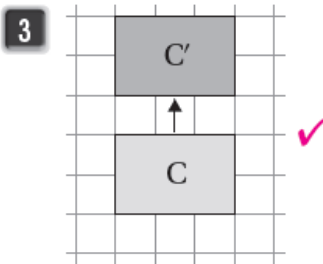
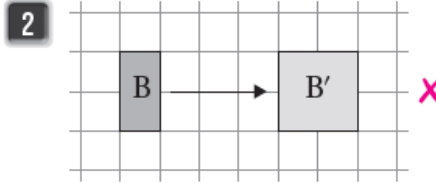
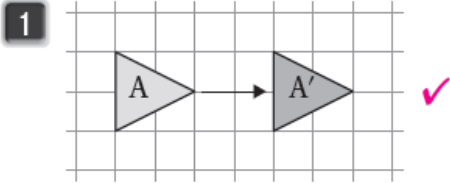


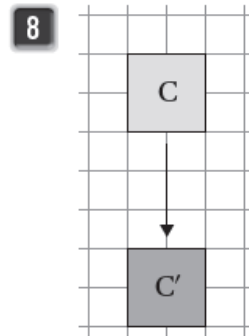
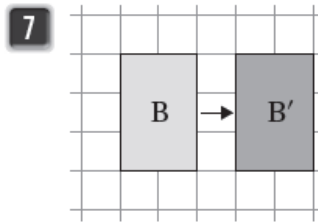
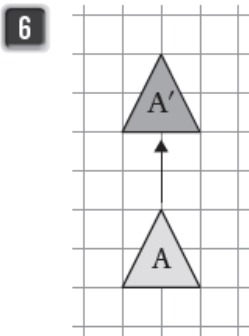
إجابات كتاب التمارين

الانسحاب

أختار الشكل أو الأشكال التي تُمثلُ انسحابًا:



أكمل الجمل التي تحت كل شكل:



4 انسحب المثلث

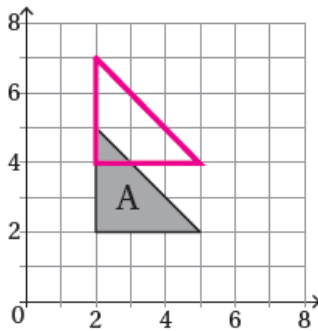
وحدات إلى الأعلى

3 انسحب المستطيل

وحدات إلى اليمين

5 انسحب المربع

وحدات إلى الأسفل



بناءً على الشكل المجاور، أجب عن الأسئلة الآتية:

9 أرسم الشكل الناتج عن انسحاب المثلث وحدتين إلى الأعلى، وأكتب إحداثيات الرؤوس قبل الانسحاب وبعده.

10 أقيس أطوال الأضلاع في الشكلين. وأقارن بين أطوال الأضلاع المتناظرة. متساوية.