

أسئلة كتاب التمارين

الضرب في 3

اكتب جملة الضرب المناسبة:



$$\underline{2} \times \underline{3} = \underline{6}$$



$$\underline{4} \times \underline{3} = \underline{12}$$

أضع العدد المناسب في لإكمال جملة الضرب:



$$\boxed{4} \times 3 = \boxed{12}$$

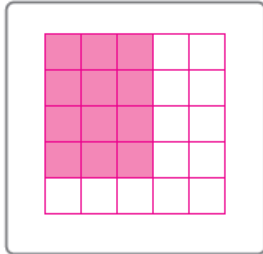


$$\boxed{3} \times 3 = \boxed{9}$$

ارسم شبكة لأجد ناتج الضرب:

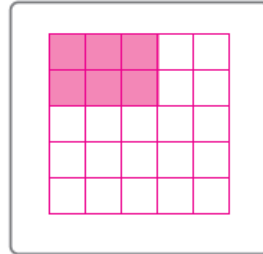
5

$$4 \times 3 = \boxed{12}$$



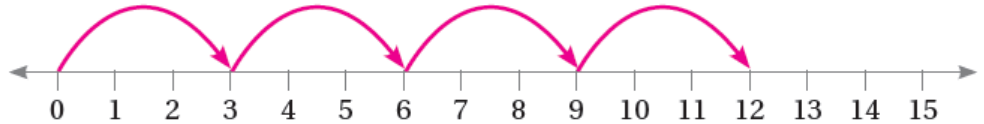
6

$$2 \times 3 = \boxed{6}$$



7 ارسم عدد القفزات المناسب على خط الأعداد التي تناسب جملة الضرب، ثم أجد ناتج الضرب:

$$4 \times 3 = \boxed{12}$$



8 لدى حسان 5 أصص، زرع في كل منها 3 بذرات. كم بذرة زرع حسان؟

15 بذرة