

أسئلة كتاب التمارين

الضرب في 4

اكتب جملة الضرب المناسبة:



$$2 \times 4 = 8$$




$$4 \times 4 = 16$$

أضع العدد المناسب في لإكمال جملة الضرب:



$$3 \times 4 = 12$$

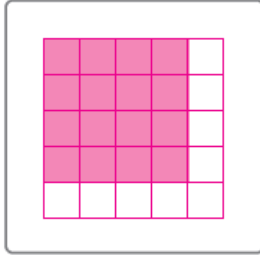


$$5 \times 4 = 20$$

أرسم شبكة لأجد ناتج الضرب:


5

$$4 \times 4 = 16$$



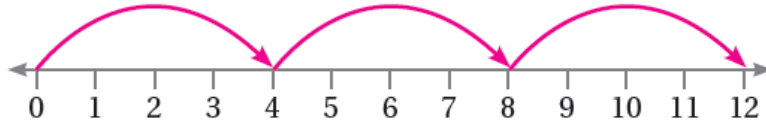
6

$$1 \times 4 = 4$$



7 أرسم عدد القفزات المناسب على خط الأعداد التي تناسب جملة الضرب، ثم أجد ناتج الضرب:

$$3 \times 4 = 12$$



8 إذا كان للسلاحفة 4 أرجل، فكم رجلاً لـ 5 سلاحف؟

20 رجلاً