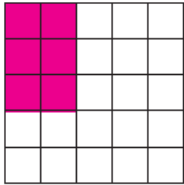


أسئلة كتاب التمارين

الشبكات والضرب

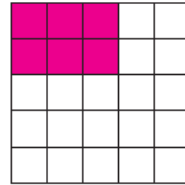
ألون الشبكة، ثم أجد ناتج الضرب:

1



3 صفوف في كل منها 2


$$3 \times 2 = \underline{6}$$



3 صفان في كل منهما 3

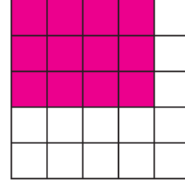
$$2 \times 3 = \underline{6}$$

2



4 صفوف في كل منها 3

$$4 \times 3 = \underline{12}$$

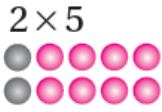


3 صفوف في كل منها 4

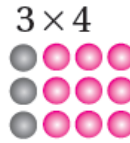
$$3 \times 4 = \underline{12}$$

أكمل الصفوف برسم ● بما يناسب جملة الضرب:

3



4



اكتب جملة الضرب المناسبة في □ :

5




$$3 \times 5 = 15$$

6



$$2 \times 3 = 6$$

7 أصل الشبكة بجملة الضرب المناسبة لها، ثم أجد ناتج الضرب:



● $5 \times 5 = \square$

● $3 \times 4 = \square$

● $2 \times 4 = \square$