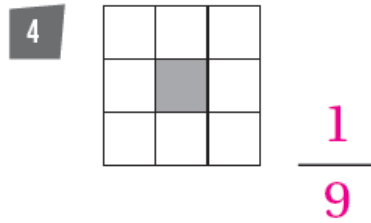
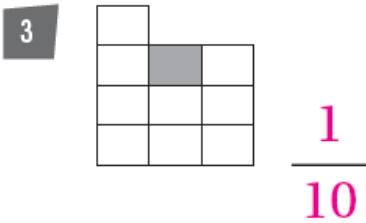
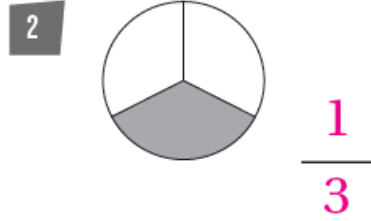


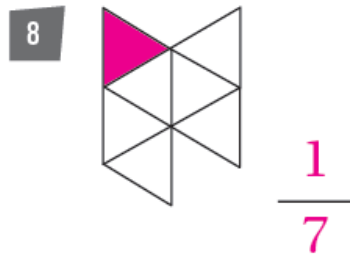
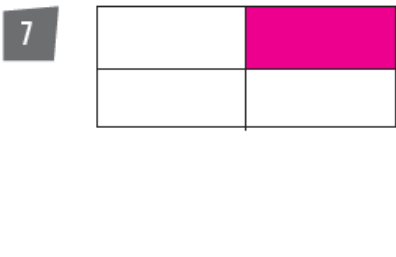
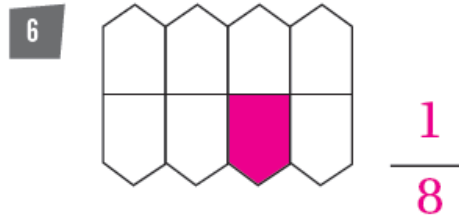
## أسئلة كتاب التمارين

### كسر الوحدة

اكتب الكسر الذي يمثّل الجزء الملوّن، ثمّ أقرؤه:



ألون جزءًا واحدًا من كلّ مجموعة، ثمّ اكتب الكسر الذي يُعبّر عن عنه:



9 أكل سليم جزءًا من 8 أجزاء متطابقة من فطيرة، ما الكسر الذي

يدلّ على الجزء الذي أكله؟  $\frac{1}{8}$

