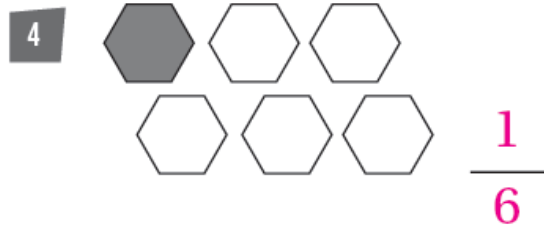

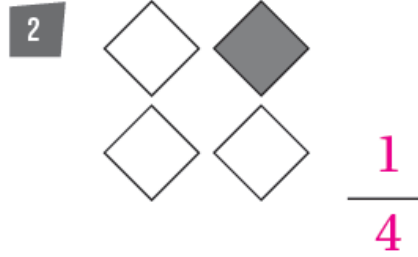
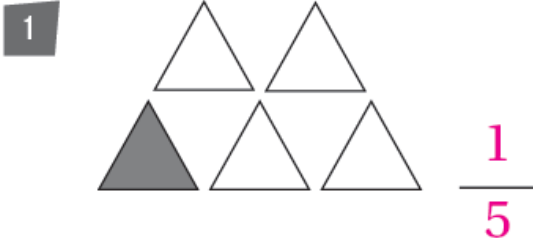



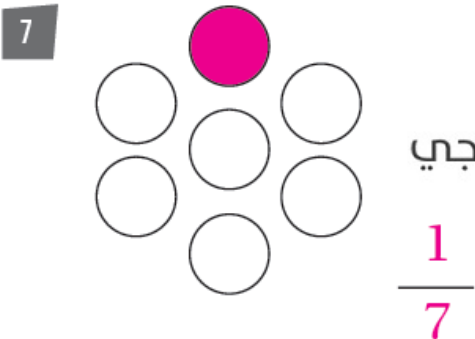
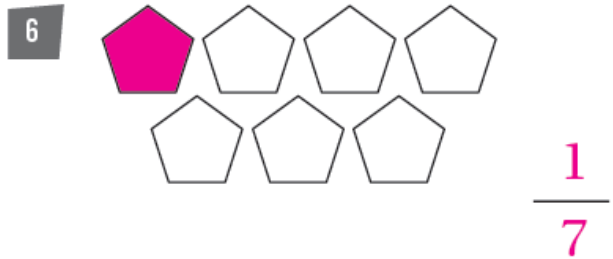

## أسئلة كتاب التمارين

### كسر الوحدة كجزء من مجموعة

أكتب الكسر الدال على الشيء المملون، ثم أقرؤه:



ألون جزءًا واحدًا من كل مجموعة، ثم أكتب الكسر الذي يعبر عن الجزء المملون:



9 استعملت فرح مكعبات متماثلة لبناء برج 9 لونها أحمر ومكعب واحد لونه أصفر. أكتب الكسر

الدال على المكعب الأصفر.  $\frac{1}{10}$