

أتحقق من فهمي

تمثيل الأعداد ضمن منزلتين

أَتَحَقَّقُ مِنْ فَهْمِي



1 أمثل العدد بالتماذج، ثم أكتب الأحاد والعشرات:



عشرات 5
أحاد 2




أرسم العدد، ثم أكتب الأحاد والعشرات:


2




عشرات 3
أحاد 1



3



عشرات 4
أحاد 4



أحل المسألة



4 أكتشف الخطأ: مثلت سلمى العدد 32 بالتماذج كما في الشكل المجاور.

أكتشف الخطأ في حل سلمى، ثم أصححه.

الخطأ أن التمثيل للعدد 23 وليس 32

