

## اختبار نهاية الوحدة التمهيدية

الأعداد حتى 20

أَعِدُّ الْأَشْيَاءَ، وَأَقْرَأُ الْعَدَدَ، ثُمَّ أَكْتُبُهُ:


1  5

2  منهاجي  2





3  7

4  6

5  منهاجي  4

6  13

7 أرسم بحسب العدد:

5	3	1	8
			

8 أكتب العدد المفقود:

2	3	4	5	6	7	8	9
---	---	---	---	---	---	---	---

9 أحوط العدد المناسب:

