

أسئلة مراجعة الوحدة الثالثة

المفاهيم والمصطلحات

السؤال الأول:

أصل الكلمة بالصورة المناسبة في ما يأتي:



Soil تربة

Sun شمس

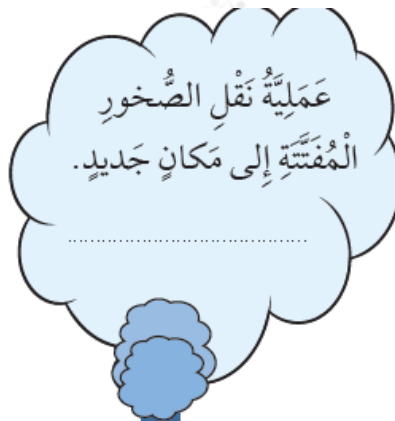
Rock صخر

Water ماء



السؤال الثاني:

أختار من قطار الحروف الآتي حروفاً مناسبة لتكوين المفهوم الصحيح، ثم أكتبه داخل الغيمة:




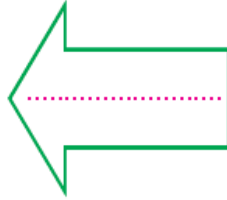
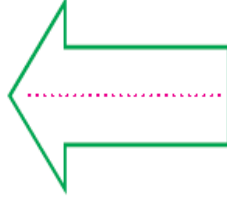
المهارات والأفكار العلمية

السؤال الثالث:

أكتب العامل المناسب (ماء، رياح) داخل السهم:

بَعْدَ (التَّيْجَةِ)

قَبْلَ (السَّبَبِ)



السؤال الرابع:

أصف: كيف يؤثر كل من الماء والرياح في الصخور؟

السؤال الخامس:

أقارن بين التجوية والتعرية.

السؤال السادس:



أفسر: لماذا تبدو بعض الشمعات مضيئة وكبيرة الحجم، وبعضها نقاطاً صغيرة لامعة؟

أختار الإجابة الصحيحة

السؤال السابع:

من مكونات منزلي التي صنعت من الصخور:

أ- إطار النافذة.

ب- أنابيب المياه.

ج- ديكور الجدران.

د- أوعية المطبخ.

السؤال الثامن:

سبب وجود الكثبان الرملية في وادي رمّ، وعدم وجودها في العقبة:

أ- الرمال والرياح.

ب- الرمال والمياه.

ج- الرمال والجبال.

د- الصحراء.