

أسئلة كتاب التمارين

حل المتباينات بالضرب والقسمة

أكتب $>$ أو $<$ أو \leq أو \geq في لتكون عبارة صحيحة في ما يأتي:

① إذا كان $b > 7$ فإن $3b > 21$ منهاجي

② إذا كان $u < 0$ فإن $-u > 0$

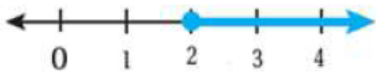
③ إذا كان $\frac{1}{2}y \geq -5$ فإن $y \geq -10$

④ إذا كان $-3t \leq 18$ فإن $t \geq -6$

أحل المتباينات الآتية، وأمثلها بيانياً، وأتحقق من صحة الحل.

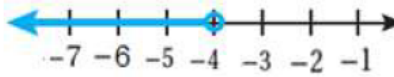
⑤ $0.5 \leq \frac{1}{4}y$

$y \geq 2$



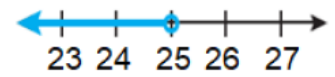
⑥ $-12 > 3x$

$x < -4$



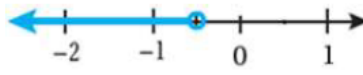
⑦ $\frac{2}{5}h < 10$

$h < 25$



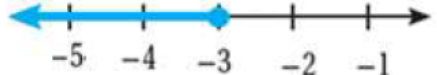
⑧ $-3.5 > 7b$

$b < -\frac{1}{2}$



⑨ $-\frac{3}{5} \geq \frac{w}{5}$

$w \leq -3$



⑩ $-\frac{9}{4} < -\frac{3}{8}b$

$b < 6$



⑪ صناعات غذائية: يبلغ معدل إنتاج مصنع من الألبان 120 علبة في الساعة، ويخطط قسم

الإنتاج في المصنع لإنتاج ما لا يقل عن 600 علبة يومياً. أكتب متباينة وأحلها لأجد الحد

الأدنى من الساعات اليومية التي يجب أن يعمل بها المصنع لإنتاج الكمية المطلوبة.

$120y \geq 600$, $y \geq 5$

منهاجي

⑫ هندسة: مستطيل مساحته أقل من 85 cm^2 وطوله 20 cm . أكتب متباينة تمثل العرض الممكن للمستطيل ثم أحلها.

$20h < 85$, $h < 4.25$

أبين ما إذا كانت كلٌّ من العبارات الآتية صحيحةً دائماً أم صحيحةً أحياناً أم غير صحيحةٍ أبداً، موضّحاً ذلك بأمثلة مناسبة:

13 إذا كان $x > 4$ ، $a < 1$ ، فإن $ax > 0$



صحيحة أحياناً، $a = \frac{1}{4}$ يحقق المتباينة، $a = -1$ لا يحقق المتباينة.

14 إذا كان $x < 0$ ، $b < 0$ ، فإن $bx > 0$

صحيحة دائماً لأن سالب \times سالب دائماً موجب والأعداد الموجبة أكبر من الصفر.

15 إذا كان $x \geq 0$ ، $c > 1$ ، فإن $cx > 0$



صحيحة أحياناً $x = 10$ يحقق المتباينة، $x = 0$ لا يحقق المتباينة.

16 إذا كان $x > 0$ ، $d \geq 1$ ، فإن $dx > 0$

صحيحة دائماً لأن إشارة x موجبة، إشارة d موجبة فيكون ناتج الضرب موجب دائماً.

٥٩٦٠

٥٩٦٠

٥٩٦٠

٥٩٦٠

٥٩٦٠