

أسئلة كتاب التمارين

تقريب الأعداد

أُمثِّل العَدَدَ عَلَى خَطِّ الأَعْدَادِ، ثُمَّ أَرَسِّمْ سَهْمًا يُبَيِّنُ اتِّجَاهَ التَّقْرِيبِ إِلَى الأَعْلَى أَوْ إِلَى الأَسْفَلِ عِنْدَ تَقْرِيْبِهِ إِلَى أَقْرَبِ 10:

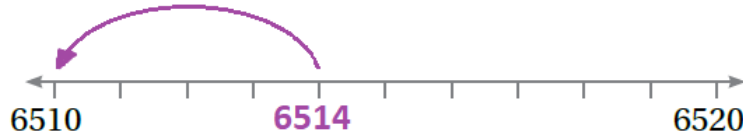
1 3782



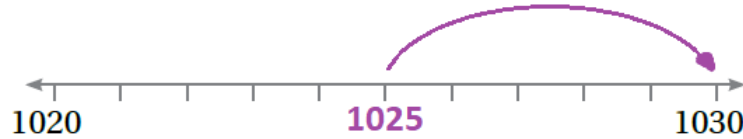
2 4297



3 6514



4 1025

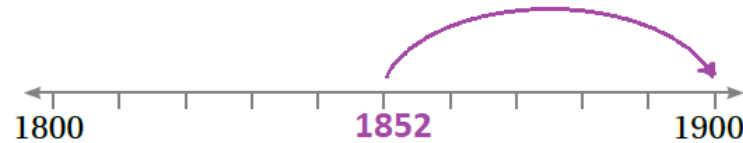


أُمثِّل العَدَدَ عَلَى خَطِّ الأَعْدَادِ، ثُمَّ أَرَسِّمْ سَهْمًا يُبَيِّنُ اتِّجَاهَ التَّقْرِيبِ إِلَى الأَعْلَى أَوْ إِلَى الأَسْفَلِ عِنْدَ تَقْرِيْبِهِ إِلَى أَقْرَبِ 100:

5 5294



6 1852



7 4407



أقرب كل عدد إلى أقرب 1000، ثم اكتب ناتج التقريب في المُناسب:

8 2000 2107

9 4649 5000

10 6737 7000

11 8551 9000

12 7000 7499

13 6000 6051

14 5500 6000

15 8701 9000

16 8000 8099

17 2500 3000

منهاجي

18 ما هو عدد كريم السري؟ 8962

ناتج جمع أرقام عددي السري المكون من 4 منازل
يساوي 25
وإذا قربته إلى أقرب مئة، فإن ناتج التقريب يساوي
9000

