

أسئلة مراجعة الوحدة الثالثة

ميكانيكا الموائع

السؤال الأول:

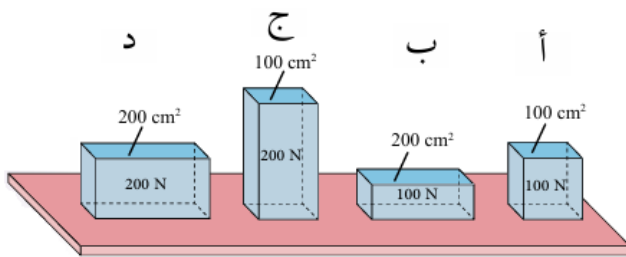
أكتب المفهوم المناسب لكل جملة من الجمل الآتية:

- 1- () القوة المؤثرة عمودياً لكل وحدة مساحة.
- 2- () وحدة لقياس الضغط تكافئ (N/m^2) .
- 3- () الكتلة لكل وحدة حجم من المادة.
- 4- () الأجسام المغمورة كلياً أو جزئياً في مائع تتأثر بقوة طفو تساوي وزن المائع المزاح.

السؤال الثاني:

أختار رمز الإجابة الصحيحة فيما يأتي:

- 1- يبين الشكل أربعة أجسام وضعت على طاولة. رمز الجسم الذي ينشأ عنه أقل ضغط:



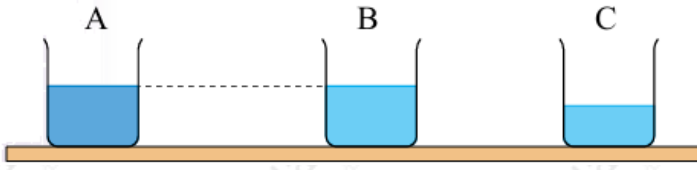
أ- الجسم (أ).

ب- الجسم (ب).

ج- الجسم (ج).

د- الجسم (د).

- 2- يبين الشكل ثلاثة أوعية (A, B, C). يحتوي الوعاء (A) على ماء مالح، والوعاءان (B, C) على ماء نقي. الترتيب الصحيح للأوعية الثلاثة وفقاً للضغط الناتج عن أوزان هذه السوائل على قاعدة كل منها:



$$-أ A = B > C$$

$$-ب A > B > C$$

$$-ج A > B = C$$

$$-د A = B = C$$

3- الغوص لأعماق كبيرة تحت سطح الماء يشكل خطورة على الغواص، لأن:

أ- كثافة الماء تقل بزيادة العمق.

ب- وزن الغواص يزداد بزيادة العمق.

ج- درجة الحرارة تزداد بزيادة العمق.

د- ضغط الماء يزداد بزيادة العمق.

4- عندما تطفو سفينة على سطح الماء، فإن السائل المزاج:

أ- حجمه يساوي حجم السفينة.

ب- وزنه أكبر من وزن السفينة.

ج- وزنه يساوي من وزن السفينة.

د- حجمه أكبر من حجم السفينة.

5- "سرعة الهواء فوق جناح الطائرة من سرعته أسفل الجناح، وضغط الهواء أسفل الجناح من ضغط الهواء أعلى الجناح". الكلمات المناسبة لإكمال الفراغات في العبارة على الترتيب، هي:

أ- أكبر، أكبر.

ب- أكبر، أقل.

ج- أقل، أكبر.

د- أقل، أقل.

6- جسمان (س، ص) وضعا في السائل نفسه، وعند إفلاتهما استقر الجسم (س) في القاع، في حين طفا الجسم (ص) على السطح. أختار من الجدول الآتي الصف الذي يعبر عن مقادير الكثافة المناسبة لكل من الجسمين (س، ص) وللسائل. علماً أن وحدة قياس الكثافة (g/cm^3) :

رمزُ الإجابة	الجسمُ (س)	الجسمُ (ص)	السائلُ
أ	1.5	0.9	0.6
ب	0.9	0.6	1.5
ج	1.5	0.6	0.9
د	0.6	1.5	0.9

المهارات العلمية

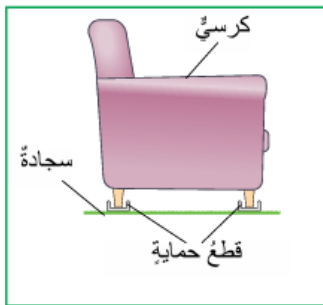
السؤال الأول:

أفسّر: لماذا تكون القوة الناتجة عن المكبس الكبير في الرافعة الهيدروليكية، أكبر من القوة المؤثرة في المكبس الصغير؟

السؤال الثاني:

أذكر خاصية يمتاز بها الزيت سهلت على المختصين التخلص من بقع الزيت المتسربة من السفن.

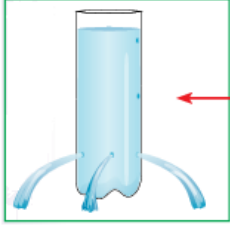
السؤال الثالث:



اشترت عائشة كرسيّاً لغرفة الجلوس. ونصحتها البائع بشراء قطع حماية مثل المبينة في الشكل توضع تحت أرجل الكرسي.

أستنتج: كيف تحمي هذه القطع السجادة من التلف؟

السؤال الرابع:



أُتأمل الشكل الذي يبين اندفاع الماء من قنينة تحتوي على ثلاثة ثقوب، واجيب عن الأسئلة الآتية:

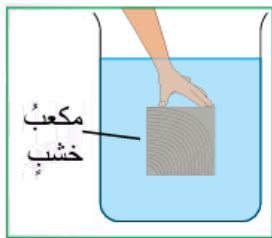
أ- **أفسر:** اندفاع الماء إلى المسافة نفسها.

ب- **أقارن** اندفاع الماء من ثقب في المكان المشار إليه بالسهم باندفاعه من الثقوب الثلاثة، **وأفسر** إجابتي.

السؤال الخامس:

التفكير الناقد: **أتوقع** ماذا يمكن أن يحدث للغواص غوصه إلى أعماق كبيرة لو لم يكن مرتدياً بذلة الغوص؟

السؤال السادس:



cm (مكعب من الخشب طول ضلعه (10، وكتلته (0.5) kg).

أ- **أحسب** كلاً من:

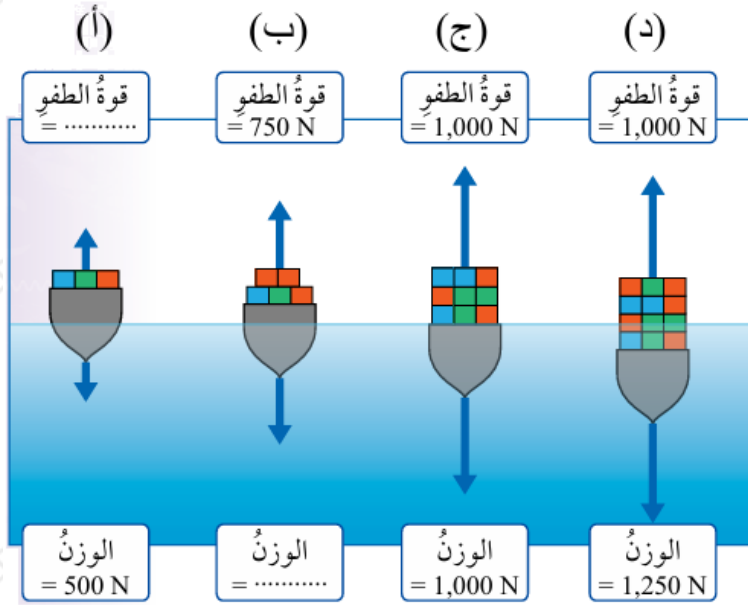
cm³ حجم المكعب بوحدة ().

g/cm³ كثافة المكعب بوحدة ().

ب- إذا غمر المكعب في الماء على نحو ما هو مبين في الشكل، **أتوقع** هل يطفو المكعب على السطح عند تركه حراً أم ينغمر في القاع، موضحاً إجابتي.

السؤال السابع:

يبين الشكل أثر زيادة حمولة قارب صغير في حجم الجزء المغمور منه في الماء. اعتماداً على البيانات المثبتة على الشكل، أجب عن الأسئلة الآتية:



أ- أكمل الفراغات في الأشكال (أ، ب) بكتابة الرقم المناسب.

ب- ماذا **أستنتج** من الشكل (ج)؟

ج- التفكير الناقد: مستعيناً بالشكل (د)، **أفسر** لماذا يتعرض القارب للغرق إذا زادت حمولته عن القيمة القصوى.